



T.C.
MİLLÎ EĞİTİM BAKANLIĞI
ÖLÇME, DEĞERLENDİRME VE
SINAV HİZMETLERİ GENEL MÜDÜRLÜĞÜ

AÇIK ÖĞRETİM ORTAOKULU
2024 - 2025 ÖĞRETİM YILI
2. DÖNEM SINAVI

0

22 MART 2025 Saat: 10.00

1.
OTURUM

<u>DERSLER</u>	<u>SAYFA</u>	<u>DERSLER</u>	<u>SAYFA</u>
(550) TÜRKÇE – 5	2	(730) TÜRKÇE – 7	12
(551) MATEMATİK – 5	3	(731) MATEMATİK – 7	14
(552) FEN BİLİMLERİ – 5	4	(732) FEN BİLİMLERİ – 7	15
(633) SOSYAL BİLGİLER – 6	6	(834) T.C. İNKILAP TARİHİ VE ATATÜRKÇÜLÜK – 8	16
(634) İNGİLİZCE – 6	8	(835) İNGİLİZCE – 8	18
(634) ALMANCA – 6	9	(835) ALMANCA – 8	19
(634) FRANSIZCA – 6	10	(835) FRANSIZCA – 8	20
(635) DİN KÜL. VE AHLAK BİLGİSİ – 6	11	(836) DİN KÜL. VE AHLAK BİLGİSİ – 8	21

ADAYLARIN DİKKATİNE!

- Her ders için 10 soru bulunmaktadır. Bu oturumda **100** dakikalık cevaplama süreniz vardır. Sınavın ilk **30** dakikası tamamlanmadan ve sınav bitimine **15** dakika kala salon dışına çıkmayınız.
- Kullanımı doktor raporu ile belirlenen hasta veya engellilere ait cihazlar ve ilaçlar, anahtarlıksız basit anahtar, ulaşım kartları, para, alyans, şeffaf pet şişe içerisinde bandajı çıkarılmış su ve şeffaf numaralı gözlük hariç; her türlü kesici ve delici alet, ateşli silah, çanta, cüzdan, cep telefonu, her türlü saat, anahtarlık, elektronik anahtar, kablosuz iletişim sağlayan cihaz, kulaklık, kolye, küpe, bilezik, yüzük, broş ve diğer takılar, her türlü plastik, metal ve cam eşya, banka kredi kartları, her türlü elektronik ve mekanik cihaz, her türlü müsvedde kâğıt, defter, ders notu, kitap, sözlük, dergi, gazete ve benzeri yayınlar, cetvel, pergel, açölçer ve benzeri araçlar, yiyecek, içecek ve diğer tüketim maddeleri yanınızda bulundurmuyunuz. Bu araçları/maddeleri yanınızda bulundurmanız ve kopya çekmeye teşebbüs etmeniz hâlinde sınavınız geçersiz sayılacaktır.
- Başvuru şartlarını taşımadığınız hâlde sınava girmeniz, kopya çekmeniz, başka adayın sınav evrakını kullanmanız ve geçerli kimlik belgenizi ibraz edemediğiniz durumlarda sınavınız geçersiz sayılacaktır.
- Sınavın değerlendirilmesi aşamasında, bilgisayar ortamında yapılan kopya analizinde sistemin ikili ve/veya toplu kopya tespiti hâlinde sınavınız geçersiz sayılacaktır.
- Adaylar, sınav kurallarına ve salon görevlilerinin tüm uyarılarına uymak zorundadır. Kurallara ve uyarılara uymayan adayların sınavları geçersiz sayılacaktır.**
- Sınav başladıktan sonra adayların salon görevlileri ve birbirleri ile konuşmaları; kalem, silgi vb. şeyleri istemeleri yasaktır.
- Adaylar sınav süresince, sınav giriş belgesi ile geçerli kimlik belgelerinden birini masalarının üzerinde bulundurmamak zorundadır.
- Sınav evraklarını teslim etmeyen, soru kitapçıklarının sayfalarından bir kısmını eksik teslim edenlerin sınavları geçersiz sayılacaktır.**
- Sınav başlamadan önce kitapçığın arkasındaki açıklamaları okuyunuz.

BAŞLAYINIZ DENMEDEN SORU KİTAPÇIKLARINI AÇMAYINIZ.



1. OTURUM

(550) TÜRKÇE – 5

1. “Boş” sözcüğü aşağıdakilerin hangisinde “bir işe yaramayan, bir yararı olmayan” anlamında kullanılmıştır?

- A) Masalardaki boş bardakları toplayıp mutfağa götürdü.
- B) Bulduğu her yazıyı okuyor, boş bilgiler ediniyordu.
- C) Binadaki boş evlerin biri kiralık, biri de satılıktı.
- D) Melike hafta sonu boşmuş, birlikte sinemaya gidebiliriz.

2. Aşağıdaki cümlelerin hangisinde olumlu bir durum veya davranışı yansıtan bir deyim kullanılmıştır?

- A) Olayın sosyal medyada duyulmasıyla şirket dibe vurmuştu.
- B) İşler birden sarpa sardı, kimse böyle olacağını düşünmemişti.
- C) Ben o adamı tanıyorum, çevresindeki herkesi hor görür o.
- D) Okulun tiyatro topluluğu ilk oyunuyla göz doldürmüştü.

3. “Ek tohumun hasını, çekme yiyecek yasını.” atasözünün anlamı aşağıdakilerden hangisidir?

- A) Bir girişimden iyi sonuç almak isteyen, o işin temelini sağlam kurmalıdır.
- B) Verimin çok olması, kullanılan malzemenin bol olmasına bağlıdır.
- C) Emek vermeden, beklenen bir sonuca erişilmez.
- D) Bir kimsenin acı ve sıkıntısı başkasına dert gibi görünmez.

4. Aşağıdaki cümlelerin hangisinde koşul anlamı vardır?

- A) Her gün, yaşlı komşusu için iki kap yemek yapardı.
- B) Yağmurlar başlamadan önce çatıyı tamir etmeliyiz.
- C) Yabancı bir dil öğrense hemen iş bulabilir.
- D) Köyün yolları bozuk olduğundan araçlar zor ilerliyor.

5. (1) Yaban hayatı biyologları, hayvanların davranışlarını inceleyen bilim insanlarıdır. (2) Hayvanların yaşam alanındaki rolünü ve insanlarla etkileşimini araştırırlar. (3) Yaban hayatı biyologları, çalışmalarını yaban hayvanlarının doğal ortamlarında yaparlar. (4) Ormanlar, dağlar ve sulak bölgeler çalışmalarını yaptıkları doğal alanlardır. (5) Biyologlar, bu alanlarda hayvanları gözlemledikleri için buralarda uzun süre kalmak zorundadırlar.

Bu parça iki paragrafa bölünmek istense ikinci paragraf numaralanmış cümlelerin hangisiyle başlar?

- A) 2 B) 3 C) 4 D) 5

6. Büyük (iri) evin karanlık odasında oturuyoruz.
1

Birkaç saat (zaman) geçti sanırım. Odanın,
2

ihtiyar (yaşlı) ağaçlarla dolu bahçeye bakan
3

tek penceresi (cam) var.
4

Bu parçadaki numaralanmış sözcüklerden hangisinin eş anlamlısı yay ayrıç içinde doğru verilmiştir?

- A) 1 B) 2 C) 3 D) 4

7. Aşağıdaki cümlelerin hangisinde ay ve gün adlarının yazımıyla ilgili bir yanlışlık vardır?

- A) Çok iyi hatırlıyorum; aylardan temmuz, günlerden perşembeydi.
- B) Şirket yeni fabrikasını Kasım 2025'te hizmete açacak.
- C) Konferans, 20 Haziran 2020'de Antalya'da yapıldı.
- D) 19 Mart salı günü iki astronot uzay yürüyüşü yapacak.

1. OTURUM

8. Northwestern Üniversitesinden araştırmacılar, yetişkin bir insan boyutundaki nesnelere bile birkaç saat içinde basabilen bir 3B yazıcı geliştirdi. HARP adı verilen bu yazıcı, sıvı plastiği katı nesnelere dönüştürüyor. Dikey olarak baskı yapan HARP, sıvı reçineyi sert plastiğe dönüştürmek için morötesi ışık kullanıyor. Tıbbi cihazlardan inşaat malzemelerine, otomobillerden uçaklara pek çok alanda parça üretiminde kullanılması umuluyor.

Bu parçada "HARP" ile ilgili aşağıdaki sorulardan hangisinin yanıtı yoktur?

- A) Boyutları ne kadardır?
B) Nesnelere basımında hangi malzemeyi kullanmaktadır?
C) Ürettiği parçalar hangi alanlarda kullanılabilir?
D) Nasıl çalışmaktadır?

9. (1) Namib Çölü'ne özgü bir bitki olan welwitschia; kök, gövde ve yapraklardan oluşur. (2) Altı metreye kadar ulaşabilen yaprakları zemin üzerinde devamlı büyür. (3) Bu bitkinin yaşam süresi 300 ila 1500 yıldır. (4) Yaprakları, bitkinin 65 dereceden yüksek sıcaklıklarda bile hayatta kalmasını sağlayacak yapıdadır. (5) Kalınlıkları 1-2 cm civarındadır.

Bu parçadaki numaralanmış cümlelerden hangisi düşüncenin akışını bozmaktadır?


- A) 2 B) 3 C) 4 D) 5

10. Aşağıdaki cümlelerin hangisinde noktalama yanlışı vardır?

- A) Bugün ben, Sıla ve Yalçın birlikte pikniğe gidecektik ama...
B) Sakın elimi bırakma! diye kardeşini sürekli uyarıyordu.
C) Mahalleme, arkadaşlarımı, evimi bir daha ne zaman görecektim?
D) Yazar, son kitabına ilginç bir isim koymuştu: Karanlığın Işığı.

(551) MATEMATİK – 5

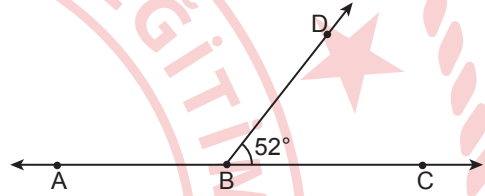
1.



Kareli zemin üzerinde verilen geometrik şeklin sembolle gösterimi aşağıdakilerden hangisidir?

- A) [TS] B) TS C) |TS| D) [TS]

2.



Şekilde \widehat{DBC} ve \widehat{DBA} komşu bütünler açılarıdır. $m(\widehat{DBC}) = 52^\circ$ olduğuna göre, $m(\widehat{DBA})$ kaç derecedir?

- A) 108 B) 118 C) 128 D) 138

3. Okunuşu "yedi milyon dört yüz bin üç yüz beş" olarak verilen doğal sayının rakamlarla yazılışı aşağıdakilerden hangisidir?

- A) 7 400 350
B) 7 400 305
C) 7 040 305
D) 7 004 350

4. Günde 75 litre süt satan bir çiftçi 1725 litre sütü kaç günde satar?

- A) 19 B) 21 C) 23 D) 25

1. OTURUM

5. Alanı 15 m^2 olan bir dikdörtgenin kenar uzunlukları metre cinsinden doğal sayıdır.

Buna göre, bu dikdörtgenin çevre uzunluğu metre cinsinden aşağıdakilerden hangisi olabilir?

- A) 26 B) 28 C) 30 D) 32

6. $\frac{43}{20}$ kesrinin ondalık gösterimi aşağıdakilerden hangisidir?

- A) 2,015 B) 2,05
C) 2,105 D) 2,15

7. $9,58 < 9, \blacksquare 6$ sıralamasının doğru olması için \blacksquare yerine aşağıdaki rakamlardan hangisi yazılmalıdır?

- A) 6 B) 5 C) 4 D) 3

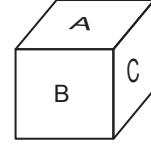
8. $2^3 + (42 \div 3)$ işleminin sonucu kaçtır?

- A) 16 B) 20 C) 22 D) 24


9. 7, 11, 15, 19, ... sayı örüntüsünün 21. adımındaki sayı kaçtır?

- A) 83 B) 87 C) 91 D) 95

10. Bir harf küpünün 2 yüzünde A, 3 yüzünde B ve 1 yüzünde C harfi bulunmaktadır.



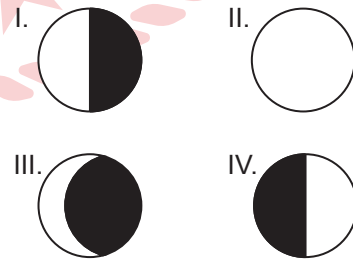
Buna göre, bu küpün havaya atılması deneyinde üst yüzünde görünen harfin B harfi olması olasılığına yönelik tahmin, aşağıdaki olasılık spektrumlarının hangisinde doğru işaretlenmiştir?



ÖLÇME, DEĞERLENDİRME VE SINAV HİZMETLERİ GENEL MÜDÜRLÜĞÜ

(552) FEN BİLİMLERİ – 5

1. Beyaz kısımların aydınlığı, siyah kısımların karanlığı temsil ettiği Ay'ın evrelerinin görselleri numaralanarak verilmiştir.

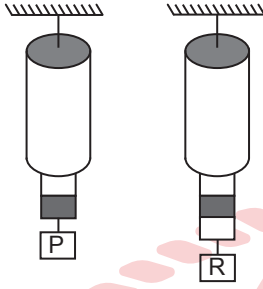


Buna göre, verilenlerden hangisi Ay'ın son dördün evresine aittir?

- A) I B) II C) III D) IV

1. OTURUM

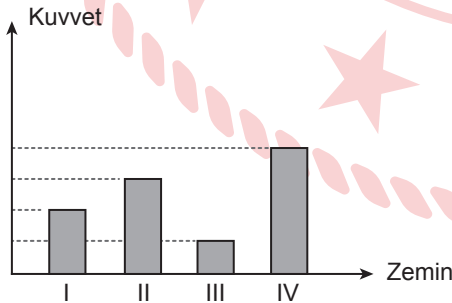
2. Özdeş dinamometrelere P ve R cisimleri asıldı-
ğında dinamometrelerin görünüşleri şekildeki
gibi oluyor.



P cisminin ağırlığı 6N olarak ölçüldüğüne
göre, R cisminin ağırlığı kaç N'dır?

- A) 3 B) 6 C) 9 D) 12

3. Bir cisim, numaralanmış zeminlerde yatay
doğrultuda hareket ettirilmek isteniyor. Bu
zeminlerde cismi hareket ettirebilmek için yatay
doğrultuda uygulanan kuvvetlerin büyüklükleri-
nin birbirine göre kıyaslanması grafikte gösteril-
miştir.



Buna göre, bu zeminlerin hangisinde cisme
etki eden sürtünme kuvveti diğerlerine göre
daha azdır?

- A) I B) II C) III D) IV

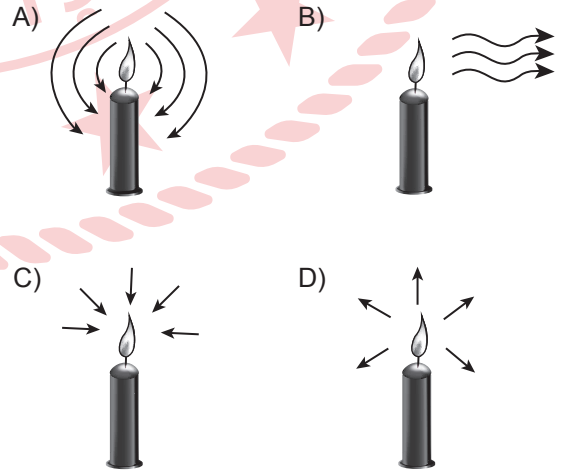
4. Bazı cisimlerin ışığı geçirip geçirmeme durumla-
rına göre saydam, yarı saydam veya opak (say-
dam olmayan) madde olmaları tabloda "✓" ile
işaretlenmiştir. Ancak işaretlemelerde bir yanlışlık
yapılmıştır.

Cisim	Saydam	Yarı Saydam	Opak (Saydam Olmayan)
Kitap			✓
Yağlı kâğıt		✓	
Tahta kaşık	✓		
Akvaryum camı	✓		

Buna göre, hangi cismin saydam, yarı say-
dam veya opak (saydam olmayan) madde
olması yanlış işaretlenmiştir?

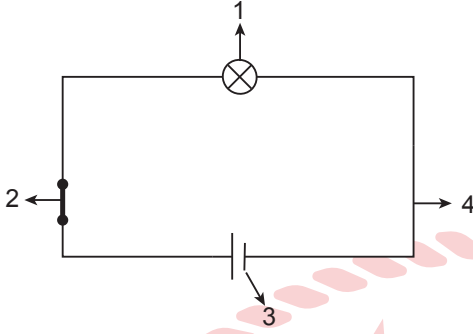
- A) Yağlı kâğıt B) Tahta kaşık
C) Kitap D) Akvaryum camı

5. Aşağıdakilerin hangisinde ışık kaynağından
çıkan ışık ışınlarının izlediği yolların oklarla
gösterimi doğru verilmiştir?



1. OTURUM

6. Basit bir elektrik devresindeki devre elemanları numaralanarak şekilde gösterilmiştir.



Buna göre, bu devre elemanlarıyla ilgili aşağıdakilerden hangisi yanlıştır?

- A) 1 numaralı devre elemanı ampuldür.
B) 2 numaralı devre elemanı kapalı anahtardır.
C) 3 numaralı devre elemanı açık anahtardır.
D) 4 numaralı devre elemanı bağlantı kablosudur.

7. Bir cam kap içinde bulunan katı bir madde sabit ısı veren bir ısıtıcıyla 10 dakika boyunca düzenli olarak ısıtılıyor. Bu maddenin belli zaman aralıklarında ölçülen sıcaklıkları tabloya kaydediliyor. Isı alışverişinin sadece ısıtıcı ve katı madde arasında olduğu bilinmektedir.

Zaman (dakika)	0	2	4	6	8	10
Sıcaklık (°C)	-5	0	0	5	10	15

Buna göre, bu katı maddeyle ilgili aşağıdakilerden hangisi doğrudur?

- A) 2. ve 4. dakika aralığında erimektedir.
B) 2 kez hâl değiştirmiştir.
C) 10. dakikada katı hâldedir.
D) 2. ve 4. dakika aralığında ısı almamıştır.

8. Kaynama ve buharlaşmayla ilgili,

- I. Kaynama sıvının sadece yüzeyinde gerçekleşir.
II. Buharlaşma her sıcaklıkta gerçekleşebilir.
III. Buharlaşma sıvının her yerinde gerçekleşir.

ifadelerinden hangileri doğrudur?

- A) Yalnız I
B) Yalnız II
C) I ve III
D) II ve III

9. Aşağıdakilerden hangisi uzun kemiğe örnektir?

- A) El bilek kemikleri
B) Pazu kemiği
C) Kafatası kemikleri
D) Kürek kemiği

10. Hücre zarı ile ilgili aşağıdakilerden hangisi yanlıştır?

- A) Seçici geçirgendir.
B) Esnek yapıya sahiptir.
C) Hücreye madde girişi çıkışını sağlar.
D) Hücrede gerçekleşen olayları yönetir.

(633) SOSYAL BİLGİLER – 6

1. “Dini bayramlarda akrabaların ve komşuların birbirlerini ziyaret etmesi” aşağıdaki kavramlardan hangisine örnek oluşturur?

- A) Empati
B) Hoşgörü
C) Vatan sevgisi
D) Birlik ve beraberlik

2. İlk Türk topluluklarının yaşadıkları bölgelerde yapılan arkeolojik kazılarda; sulama kanallarına, tahıl ambarlarına ve ziraat aletlerine rastlanmıştır.

Bu durum, ilk Türk topluluklarıyla ilgili aşağıdakilerden hangisine kanıt oluşturur?

- A) Boylar hâlinde yaşadıklarına
B) Tarımsal faaliyetlerde bulduklarına
C) Farklı milletleri hâkimiyet altına aldıklarına
D) İpek Yolu sayesinde ekonomilerini geliştirdiklerine

1. OTURUM

3. Türklerin, demirden bir dağı eriterek açtıkları geçitten bütün dünyaya yayılmalarını anlatan destan aşağıdakilerden hangisidir?

- A) Göç
B) Türeyiş
C) Ergenekon
D) Oğuz Kağan

4. Türkiye’de yıllık sıcaklık farkı en fazla olan bölge aşağıdakilerden hangisidir?

- A) Doğu Anadolu
B) İç Anadolu
C) Karadeniz
D) Akdeniz

5. Madenlerin işletilmesinde çok sayıda işçiye ihtiyaç olduğundan madenlerin çıkarıldığı bazı şehirlerde nüfus yoğunluğu artmıştır.

Bu bilgide, nüfusun dağılışını etkileyen faktörlerin hangisinden bahsedilmiştir?

- A) İklim özellikleri
B) Yer şekilleri
C) Toprak özellikleri
D) Yer altı kaynakları

6. Kültür ve Turizm Bakanlığı, Türkiye genelinde kitap, film ve müzik eserlerinin yasa dışı çoğaltılmasını önlemeye yönelik denetimler yapmaktadır.

Bu bilgide, sözü edilen denetimler aşağıdakilerden hangisini korumaya yöneliktir?

- A) Telif hakkı
B) Patent hakkı
C) Çalışma hakkı
D) Velayet hakkı

7. Projenin adı: Defne Yağı Fabrikası

Projenin amacı: Defne ağaçlarının yapraklarından defne yağı çıkarmak için fabrika kurmak. Böylece hem insanlara iş imkânı sağlamak hem de ülke kalkınmasına katkıda bulunmak

Projenin gerçekleştirileceği yer: Hatay

Projenin Hatay’da gerçekleştirilme sebebi: Türkiye’de bulunan defne ağaçlarının neredeyse yarısına yakınının Hatay’da bulunması

Bu yatırım ve pazarlama projesi hazırlanırken aşağıdakilerden hangisine dikkat edilmiştir?

- A) Enerji kaynaklarına yakınlık
B) Ham maddeye yakınlık
C) Pazarlama alanlarına yakınlık
D) Ulaşım yollarına yakınlık

8. “Demokrasilerde herkese, sadece insan olması nedeniyle aynı değer verilmektedir. Kimse doğuştan bir ünvan ya da ayrıcalığa sahip değildir.” diyen bir sosyal bilgiler öğretmeni demokrasinin aşağıdaki temel ilkelerinden hangisini vurgulamıştır?

- A) Eşitlik
B) Çoğunluk
C) Millî egemenlik
D) Kuvvetler ayrılığı

9. Kişilerin bir istek ya da şikâyeti bildirmek amacıyla resmî kuruluşlara yazılı olarak başvurabilmesine - - - - hakkı denir.

Bu cümlede boş bırakılan yere aşağıdakilerden hangisi getirilmelidir?

- A) seçme
B) eğitim
C) dilekçe
D) çalışma

10. Amerika’da başlayan ve daha sonra diğer ülkelere yayılan “Black Friday” adı verilen tüketim alışkanlığı, Türkiye’de de görülmeye başladı.

Bu durum aşağıdaki kavramlardan hangisine örnektir?

- A) Dış ticaret
B) Nanoteknoloji
C) Sanal bağımlılık
D) Popüler kültür

1. OTURUM

(634) İNGİLİZCE – 6

1 - 9. sorularda boş bırakılan yere/yerlere uygun gelen kelime ya da ifadeyi işaretleyiniz.

1. **Alice** : What's the date today?
Maria : It's - - - - .

- A) in the morning
- B) the 21st of July
- C) on Wednesdays
- D) half past nine

2. **Davis** : - - - - - ?
Jones : Eggs, butter, and olive.

- A) Why do you eat junk food
- B) Which drinks are healthier
- C) Where do you have lunch
- D) What do you like for breakfast

3. **There are a lot of people and cars in cities, so a city is - - - - than a village.**

- A) more crowded
- B) more peaceful
- C) quieter
- D) smaller

4. **Some people feel - - - - in summer because they like hot weather.**

- A) scared
- B) moody
- C) happy
- D) anxious

5. **Jane** : I think bumper cars are fantastic.
Mila : I agree. They are - - - - .

- A) frightening
- B) dull
- C) fun
- D) boring

6. **Harper** : - - - - - ?
Stella : Last week.

- A) Who went to the library with you
- B) When did you finish a novel
- C) How many books did you read
- D) Why did you go to the library

7. **Sally and her friend Julia were on the mountain last winter. It was cold and snowy. They - - - - .**

- A) enjoyed the sun and sea
- B) went scuba diving
- C) learned skiing
- D) tried sailing

8. **Teacher** : What should we do to be environmentally friendly?

Michael : We should - - - - .

- A) throw our rubbish away
- B) walk or cycle whenever possible
- C) damage the animals' habitat
- D) waste energy

9. **Alex** : What did you do after the election was over?

Bobby : We - - - - .

- A) counted the votes
- B) voted for our own candidate
- C) wrote the name on a paper and fold it
- D) prepared an election campaign poster

1. OTURUM

10.



The cat is sitting - - - - the chair.

Buna göre, cümlede boş bırakılan yere aşağıdakilerden hangisi getirilmelidir?

- A) under B) between
C) next to D) on

(634) ALMANCA – 6

1 - 4. sorularda boş bırakılan yere/yerlere uygun gelen kelime ya da ifadeyi işaretleyiniz.

1. Semih hat mir gesagt, - - - - das Fußballspiel ihm nicht gefallen hat.

- A) damit B) ob
C) denn D) dass

2. In der Schule von Hasan brauchen die Schüler ihre Haare nicht - - - - zu schneiden, denn lange Haare sind erlaubt.

- A) lange B) langes
C) kurzes D) kurz

3. - - - - Herr Aydın krank ist, geht er zum Arzt.

- A) Ob B) Denn
C) Wenn D) Wann

**4. - - - - Krankenschwester
- - - - Polizist
- - - - Spiel**

- A) der / die / das B) das / die / der
C) die / der / das D) das / der / die

5. Welches ist nicht zählbar?

- A) das Geld B) das Alter
C) die Buntstifte D) das Gefühl

6. Aşağıdaki sözcüklerin hangisi "der" Artikeli ile kullanılmaz?

- A) Lehrer B) Metzger
C) Sportlerin D) Architekt

7. Was gehört zur gebauten Umwelt?

- A) die Wolken B) die Brücken
C) die Wälder D) das Meer

8. Ein Einzelkind hat keine - - - - .

Bu cümlede boş bırakılan yere aşağıdakilerden hangisi getirilemez?

- A) Brüder B) Vater
C) Geschwister D) Schwester

9. Welches ist eine Schulart in Deutschland?

- A) Realschule
B) Schulbushaltestelle
C) Klassenzimmer
D) Schulhof

10. Aşağıdakilerin hangisi olumlu bir duygu ifade eder?

- A) wunderbar B) schrecklich
C) schlecht D) furchtbar

1. OTURUM

(634) FRANSIZCA – 6

1 - 5. sorularda boş bırakılan yere/yerlere uygun gelen kelime ya da ifadeyi işaretleyiniz.

1. Patrick : Que fais-tu Ayşe ?
Ayşe : - - - - .

- A) Je préfère manger un croissant
- B) Je peux boire du lait
- C) Je fais des crêpes
- D) Je veux le pain au chocolat

2. Je suis - - - - . J'habite - - - - New-York, - - - -
Etats-Unis.

- A) canadien / au / aux
- B) américain / à / aux
- C) américaine / à / en
- D) canadienne / en / au

3. La forêt c'est pour - - - - .

- A) nager
- B) profiter du soleil
- C) pêcher
- D) voir les arbres

4. Je veux devenir un vétérinaire. Parce que
j'aime bien - - - - .

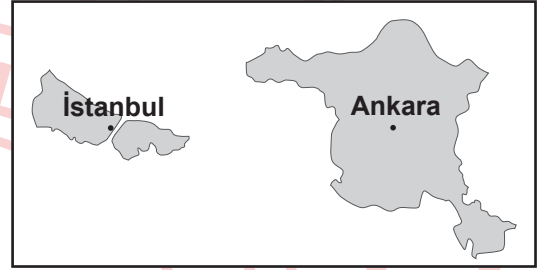
- A) les enfants
- B) les animaux
- C) les clients
- D) les malades

5. Juan : Qu'est-ce que tu as fait hier après
l'école ?

Marc : - - - - .

- A) Je joue au volley-ball
- B) Je vais rester à la maison
- C) J'ai fait une promenade
- D) Je rencontre avec les amis

6.



Bu haritaya göre, aşağıdakilerden hangisi
söylenbilir?

- A) Ankara est plus polluée qu'İstanbul.
- B) İstanbul est plus belle qu'Ankara.
- C) Ankara est plus propre qu'İstanbul.
- D) Ankara est plus grande qu'İstanbul.

7.







Bu görsele göre, "Qu'est-ce qu'elle fait
pour protéger la Terre ?" sorusunun cevabı
aşağıdakilerden hangisidir?

- A) Elle économise l'énergie.
- B) Elle nettoie les sols.
- C) Elle ne gaspille pas l'eau.
- D) Elle recycle les déchets.

1. OTURUM

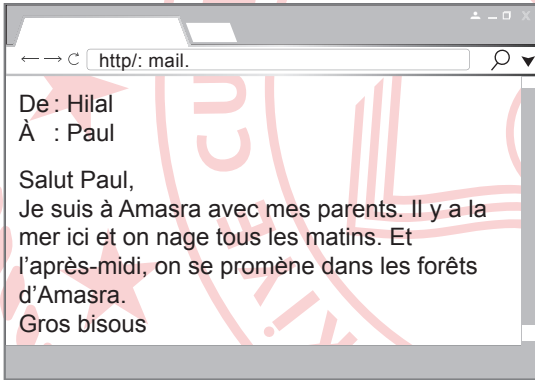
8. Tableau : La météo de quatre villes différentes

Ankara	 9 °C
Samsun	 13 °C
Adana	 20 °C
Erzurum	 -6 °C

Bu tabloya göre, aşağıdakilerden hangisi yanlıştır?

- A) Le temps est pluvieux à Samsun.
- B) Il fait froid à Adana.
- C) Il y a des nuages à Ankara.
- D) Il neige à Erzurum.

9.



Bu mesaja göre, "Qu'est-ce qu'ils font dans la forêt?" sorusunun cevabı aşağıdakilerden hangisidir?

- A) Ils se promènent.
- B) Ils nagent.
- C) Ils habitent.
- D) Ils visitent.

10. C'est un spectacle. Là, il y a des clowns et des acrobates. Il y a aussi les animaux. C'est amusant et excitant.

Bu parçada sözü edilen yer aşağıdakilerden hangisidir?

- A) Un cirque
- B) Une piscine
- C) Un zoo
- D) Un théâtre

(635) DİN KÜL. VE AHLAK BİLGİSİ – 6

1. "Haberci" anlamına gelen Farsça kökenli kelime aşağıdakilerden hangisidir?
A) Peygamber
B) Nebi
C) Resul
D) Elçi
2. "Emrolunduğun gibi dosdoğru ol..."
(Hud suresi, 112. ayet)

Bu ayet, peygamberlerin aşağıdaki sıfatlarından hangisi ile doğrudan ilgili değildir?

- A) Sıdk
- B) İsmet
- C) Fetanet
- D) Emanet

3. Aşağıdakilerden hangisi namazı bozan durumlardan biridir?

- A) Dua okumak
- B) Konuşmak
- C) Ahireti hatırlamak
- D) Okunan ayetleri düşünmek

4. Namaza "Allahüekber" diyerek başlamak aşağıdakilerden hangisiyle ifade edilir?

- A) İftitah tekbiri
- B) Kadeiahire
- C) Kıraat
- D) Kıyam

5. Aşağıdakilerden hangisi "kul hakkı ihlali" kapsamında değerlendirilemez?

- A) Ailesi ile nitelikli vakit geçirmek
- B) Ürün satarken kusurunu gizlemek
- C) İnsanları haksızlık yapmaya zorlamak
- D) Başkasının malına zarar vermek

6. Hz. İsa ile aynı dönemde yaşayan peygamber aşağıdakilerden hangisidir?

- A) Hz. Süleyman
- B) Hz. Davud
- C) Hz. Harun
- D) Hz. Yahya

1. OTURUM

(730) TÜRKÇE – 7

7. Müşriklerin işkencelerine maruz kalan Müslümanların, dinlerini özgürce yaşayabilmek için Mekke'den Medine'ye 622 yılında yapmış oldukları göçe Hicret denir.

Bu tanımda Hicret ile ilgili aşağıdakilerden hangisine değinilmemiştir?

- A) Amacına
B) Zamanına
C) Sonuçlarına
D) Sebeplerine

8. Aşağıdaki olaylardan hangisi diğerlerinden önce meydana gelmiştir?

- A) Uhud Savaşı
B) Akabe Biatları
C) Mekke'nin Fethi
D) Hudeybiye Antlaşması

9. Peygamberler ve kutsal kitaplar öncelikle hangi değerlerin oluşmasında etkili olmuştur?

- A) Kültürel
B) Tarihî
C) Millî
D) Dinî

10. Üç ayların ilki olan recep ayının ilk cuma gecesi kutlanır.
Hz. Muhammed'in (sav) dünyaya geldiği günün anısına kutlanan kandildir.
Hz. Muhammed'in (sav) Mekke'den Kudüs'e götürüldüğü ve göğe yükseltildiği geceyi anmak için kutlanır.

Aşağıdaki kandillerden hangisi bu açıklamalardan herhangi biriyle eşleştiremez?

- A) Regaip
B) Miraç
C) Berat
D) Mevlit

1. Uluslararası bir yayın kuruluşu, Dostoyevski'nin klasik romanı "Suç ve Ceza"yı mini dizi olarak uyarladığını duyurdu. Vladimir Mirzayev yönetimindeki sekiz bölümlük drama dizisi, kitabın kahramanı Rodion Raskolnikov'un yanı sıra kız kardeşi Dünya'yı da anlatacak. Dizi, modern bir aktarımla eseri günümüz dünyasına uyarlayarak hikâyeye yeni bir bakış açısı ve yorum getirecek.

Bu parça aşağıdaki metin türlerinden hangisine örnektir?

- A) Otobiyografi
B) Söyleşi
C) Biyografi
D) Haber yazısı

2. Yaz bitti birdenbire
Ağustos çekildi kırlardan
Dağlar gökyüzüne
Kırlar kuşlara emanet

Bu dizelerdeki söz sanatı aşağıdakilerden hangisidir?

- A) Karşıtlık
B) Abartma
C) Kişileştirme
D) Benzetme

3. "Üniversitede gazetecilik okurken (öğrenim görmek)

1

bir kitapçıda çalışıyordum (işler duruma getirmek)

2

aynı zamanda." diye başladı anlatmaya. "İşi çok kısa sürede kapmıştım (iştirir işitmez veya görür

3

görmez öğrenmek). Aldığım maaş ve bağlanan burslar geçinmeme (yaşamak için gerekeni

4

sağlamak) ancak yetiyordu."

Bu parçadaki numaralanmış sözcüklerden hangisinin anlamı yay ayraç içinde yanlış verilmiştir?

- A) 1
B) 2
C) 3
D) 4

1. OTURUM

4. Aşağıdaki cümlelerin hangisinde eylemin durumunu bildiren bir zarf vardır?

- A) Adamdan kurtulmak için kapıyı sertçe kapattım.
- B) Akşamüstü eve dönerken Suzan bana bir hediye verdi.
- C) Büyük çınarın altında, yemekten önce biraz sohbet ettik.
- D) Bu kadar eşyayı iki saatte kamyonu nasıl yükleyecekler ki?

5. Aşağıdaki cümlelerin hangisinde ek-fiil vardır?

- A) Mezun olunca kendisini geliştirmek için yurt dışına çıktı.
- B) Konser salonu kaldığımız otele çok yakınmış.
- C) Ninem akşamları terasta bize masal anlatıyor.
- D) Kuruttuğu kayısıları paketleyip kuru yemiştirilere satacak.

6. Bu kadar zor muydu böyle bir işi yapmak ()
Bir saatte () bilemedin iki saatte biterdi sıkı bir çalışmayla () Gel de deli olma şimdi ()

Bu parçada yay ayraçla gösterilen yerlere gelmesi gereken noktalama işaretleri aşağıdakilerin hangisinde sırasıyla verilmiştir?

- A) (.) (,) (.) (.)
- B) (?) (-) (...) (.)
- C) (.) (-) (...) (!)
- D) (?) (,) (.) (!)

7. Aşağıdaki cümlelerin hangisinde karşılaştırma yapılmıştır?

- A) Yeni telefonumun fotoğraf kalitesi daha iyi.
- B) Bu yoldan her geçtiğimde eski günlerim aklıma geliyor.
- C) Doğa yürüyüşü yaparken hem spor yapıyor hem de eğleniyoruz.
- D) Elindeki antika satranç takımını müzeye bağışlamış.

8. Aşağıdaki cümlelerin hangisinde büyük harflerin yazımıyla ilgili bir yanlışlık vardır?

- A) Kaleye gelen tüm şutları panter Nazmi yakalıyordu.
- B) Oraya kadar gitmişken Hasanpaşa köftesi yemeden gelmeyin.
- C) Edebiyat dünyasının saygın ödülllerinden biri de Haldun Taner Öykü Ödülü'dür.
- D) Tatbikattan önce Yüzbaşı Fikri'yle toplantı yaptık.

9. 1. Üstelik elektrikli otomobiller sayesinde ulaşım daha düşük maliyetlerle sağlanabiliyor.
2. Ancak bizim için sağladıkları bu kolaylıklara karşın doğaya zararları olduğunu da unutmamak gerek!
3. Bir yerden başka bir yere rahat ve güvenli bir biçimde ulaşmak onlar sayesinde çok kolay.
4. İşte bu olumsuz etkilerini biraz olsun azaltabilmek için bilim insanları elektrik teknolojisiyle çalışan otomobiller geliştiriyor.
5. Otomobiller yaşamımızda ne kadar önemli bir yere sahip değil mi?

Numaralanmış cümlelerle anlamlı bir metin oluşturulduğunda hangisi baştan üçüncü olur?

- A) 1
- B) 2
- C) 3
- D) 4

10. Gazete, dergi, radyo ve televizyon insanlara haber alma imkânı sağlayan medya organlarıdır. Radyo, sesli; televizyon ise hem sesli hem görüntülü bir haber organıdır ama radyo haberlerine ulaşmak televizyona göre daha kolaydır. Gazete ve dergi yazılıdır ve radyo-televizyona göre haberleri ayrıntılarıyla, derinlemesine verir. Genel ağ haberciliği ise diğerlerinin tüm özelliklerini taşır. Ayrıca gelişmeleri anlık verebiliyor olması habercilikte onu bir adım daha öne geçirir. Üstelik genel ağ haberciliği, cep telefonları sayesinde ulaşımı en kolay medya organı olmuştur.

Bu parça aşağıdaki sorulardan hangisini cevaplamak amacıyla yazılmıştır?

- A) Habercilikte kullanılan medya organlarının önemi nedir?
- B) Medya organlarının kullanım alanları nelerdir?
- C) Habercilikte kullanılan medya organlarının farklılıkları nelerdir?
- D) Haberlere ulaşmak için hangi araçlara ihtiyaç vardır?

1. OTURUM

(731) MATEMATİK – 7

1. $(-15) - (+12) - (-9)$ işleminin sonucu kaçtır?

- A) -18 B) -12 C) 12 D) 18

2. Efe, bir işin $\frac{1}{6}$ 'ini yaptıktan sonra hiç ara vermeden aynı hızla 15 gün daha çalışarak kalan işin $\frac{3}{5}$ 'ünü tamamlamıştır.

Buna göre, Efe hiç ara vermeden aynı hızla çalışırsa işin tamamını kaç günde bitirir?

- A) 25 B) 30 C) 35 D) 40

3. $\frac{3}{5} + \frac{2}{5} \div \left(-\frac{1}{2}\right)^2$ işleminin sonucu kaçtır?

- A) $\frac{11}{5}$ B) $\frac{7}{10}$ C) $\frac{1}{2}$ D) $\frac{1}{4}$

4. a sayısı ile b sayısı ters orantılı ve a = 24 iken b = 36 olduğuna göre, a = 18 iken b kaçtır?

- A) 12 B) 27 C) 30 D) 48

5. %24'ü 36 olan sayının %18'i kaçtır?

- A) 30 B) 27 C) 24 D) 18

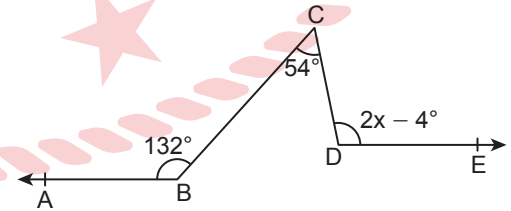
6. Kenar uzunlukları $(2x - 1)$ birim ve $(x + 4)$ birim olan bir dikdörtgenin çevresinin uzunluğunu birim cinsinden belirten cebirsel ifade aşağıdakilerden hangisidir?

- A) $3x + 3$ B) $3x + 6$
C) $6x + 6$ D) $6x + 10$

7. $3 \cdot (x - 7) = 5 \cdot (x - 5)$ olduğuna göre, x kaçtır?

- A) 9 B) 2 C) -1 D) -8

8.



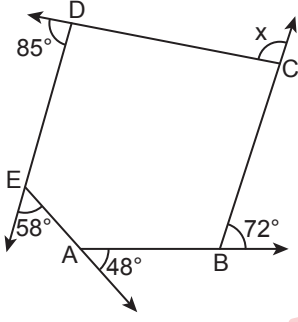
Şekilde $[BA \parallel [DE$, $m(\widehat{ABC}) = 132^\circ$, $m(\widehat{BCD}) = 54^\circ$ ve $m(\widehat{CDE}) = 2x - 4^\circ$ dir.

Buna göre, x kaç derecedir?

- A) 41 B) 46 C) 53 D) 58

1. OTURUM

9.



Şekildeki ABCDE beşgeninde x kaç derecedir?

- A) 83 B) 87 C) 93 D) 97

(732) FEN BİLİMLERİ – 7

1. Aşağıdakilerden hangisi takımyıldız değildir?

- A) Yılan B) Kartal
C) Küçükayı D) Beyaz cüce

2. Ağırlıkla ilgili,

- I. Eşit kollu terazi ile ölçülür.
II. Birimi kilogramdır.
III. Cismin kütlesine ve cisme etki eden kütle çekim kuvvetine bağlıdır.

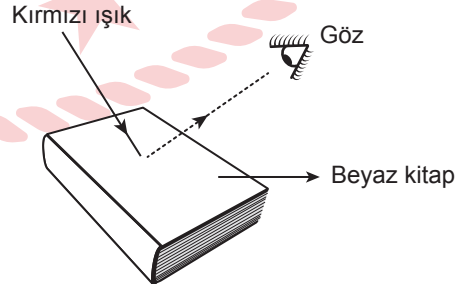
ifadelerinden hangileri doğrudur?

- A) Yalnız I B) Yalnız III
C) I ve II D) II ve III

3. Aşağıdakilerden hangisi çukur aynaların kullanım alanlarına örnek değildir?

- A) Otopark kavşak aynası
B) Aynalı teleskop
C) El feneri
D) Araba farı

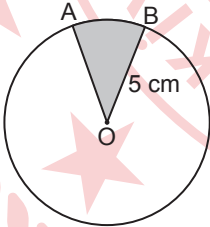
4. Beyaz renkli bir kitap, kırmızı ışık ile şekildeki gibi aydınlatılıyor.



Buna göre, bu kitap hangi renkte görünür?

- A) Kırmızı B) Beyaz
C) Mavi D) Yeşil

10.



Şekildeki O merkezli dairenin yarıçapı 5 cm ve boyalı daire diliminin alanı 10 cm^2 dir.

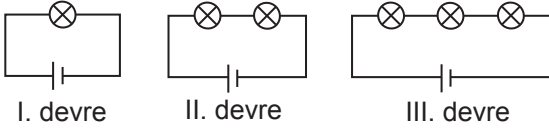
Buna göre, $m(\widehat{AOB})$ kaç derecedir?

(π değerini 3 alınız.)

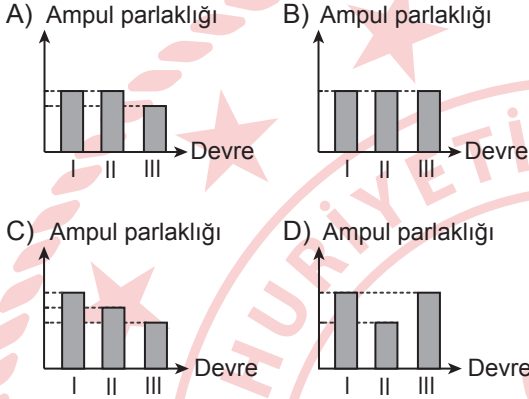
- A) 32 B) 36 C) 42 D) 48

1. OTURUM

5. Özdeş ampul, pil ve kablo kullanılarak kurulan elektrik devreleri şekillerde numaralanarak verilmiştir.



Buna göre, bu devrelerdeki ampullerin parlaklıkları arasındaki ilişki aşağıdaki grafiklerin hangisinde doğru verilmiştir?



6. Bazı elementlerin adları ve sembolleri tabloda verilmiştir. Ancak bazı elementlerin sembollerinin yazımında yanlışlık yapılmıştır.

Elementin Adı	Elementin Sembölü
Azot	Al
Sodyum	Si
Argon	Ar
Kükürt	S
Berilyum	Be

Buna göre, bu elementlerden hangilerinin sembolleri yanlış yazılmıştır?

- A) Kükürt ve berilyum
B) Azot ve sodyum
C) Argon ve berilyum
D) Sodyum ve kükürt

7. Aşağıdakilerden hangisi çözeltiliye örnek değildir?

- A) Parfüm B) Tuzlu su
C) Çorba D) Şekerli su

8. Aşağıdaki karışımlardan hangisi yoğunluk farkı yöntemiyle birbirinden ayrılır?

- A) Şeker-su B) Tuz-su
C) Alkol-su D) Zeytinyağı-su

9. Hücrede bulunan, hücrenin yönetim ve denetim merkezi olan yapı aşağıdakilerden hangisidir?

- A) Hücre zarı B) Çekirdek
C) Sitoplazma D) Hücre duvarı

10. Aşağıdakilerden hangisi bölünerek üreyen bir canlıya örnektir?

- A) Denizanası B) Mercan
C) Paramesyum D) Hidra

(834) T.C. İNKILAP TARİHİ VE ATATÜRKÇÜLÜK – 8

1. Osmanlı Devleti, İtalya ile Trablusgarp'ta mücadele ederken 1912 yılında Bulgaristan, Yunanistan, Sırbistan ve Karadağ ittifakından oluşan devletler, Balkanlardan Osmanlıya saldırıya geçti. Bu dönemde Osmanlı ordusunda subayların büyük bir kısmı politik görüşlerine göre İttihatçılar ve İtilafçılar olmak üzere iki gruba ayrılmıştı. Particilik yapan bu subaylar arasında irtibat ve iş birliği zayıftı. Ordunun ikmal ve ulaşım hatları da yeterli değildi. Bu sorunlar neticesinde Osmanlı ordusu hızlı bir şekilde geri çekilmek zorunda kaldı. Edirne dâhil Balkan toprakları elden çıktı.

Buna göre, Balkan Savaşları ile ilgili aşağıdakilerden hangisine ulaşamaz?

- A) Osmanlı Devleti'nin sınırları değişmiştir.
B) Osmanlı Devleti resmî olarak sona ermiştir.
C) Osmanlı ordusundaki siyasi ayrılıklar orduyu zayıflatmıştır.
D) Osmanlı ordusu birçok devletle aynı anda mücadele etmiştir.

1. OTURUM

2. İstanbul'da kurulan ve Damat Ferit Paşa Hükümeti tarafından desteklenen millî varlığa düşman cemiyet aşağıdakilerden hangisidir?

- A) Kilikyalılar Cemiyeti
- B) Pontus Cemiyeti
- C) Hınçak ve Taşnak Cemiyeti
- D) İngiliz Muhipler Cemiyeti

3. Aşağıdakilerden hangisiyle Millî Mücadele'nin askerî safhası son bularak diplomasi safhası başlamıştır?

- A) Sevr Barış Antlaşması
- B) Mudanya Ateşkes Antlaşması
- C) Lozan Barış Antlaşması
- D) Mondros Ateşkes Antlaşması

4. Aşağıdakilerden hangisi Mustafa Kemal tarafından 16-21 Temmuz 1921 tarihlerinde Ankara'da toplanan Maarif Kongresi'nin gündemindeki konulardan değildir?

- A) Ziraat ve sanayi okullarının durumu
- B) Öğrenci ve öğretmenlerin istatistiki bilgileri
- C) Yerli malı kullanımının yaygınlaştırılması
- D) İlköğretim modelinin değiştirilmesi

5. Atatürk "Artık duramayız. Behemehâl ileri gideceğiz. Geriye ise hiç gidemeyiz çünkü ileri gitmeye mecburuz. Millet açıkça bilmelidir; medeniyet öyle bir kuvvetli ateştir ki ona kayıtsız olanları yakar, mahveder." sözü ile aşağıdaki ilkelerden hangisinin önemini vurgulamıştır?

- A) İnkılapçılık
- B) Milliyetçilik
- C) Halkçılık
- D) Devletçilik

6. Atatürk Dönemi'nde açılan Millet Mekteplerinin temel amacı aşağıdakilerden hangisidir?

- A) Türklerin dünya medeniyetine katkılarını araştırmak
- B) Üretimi artırmak için çiftçiye eğitim vermek
- C) Okul çağı geçmiş kişilere okuma yazma öğretmek
- D) Resim ve heykel gibi güzel sanatları geliştirmek

7. Aşağıdakilerden hangisi Türkiye'de millî iradeyi hâkim kılma ve demokratikleşme yolunda atılan adımlardandır?

- A) Ankara'nın başkent olması
- B) Cumhuriyet'in ilan edilmesi
- C) İstanbul Üniversitesinin açılması
- D) Aşar vergisinin kaldırılması

8. Atatürk, "Kırk asırlık Türk yurdu yabancı elinde kalmaz." sözüyle aşağıdaki yerlerden hangisinin Türkiye'ye katılması için gereken çabayı göstereceğini vurgulamıştır?

- A) Sofya
- B) Batum
- C) Selanik
- D) Hatay

9. İkinci Dünya Savaşı yıllarında Türkiye Cumhuriyeti'nin cumhurbaşkanı aşağıdakilerden hangisidir?

- A) Şükrü Saraçoğlu
- B) Celal Bayar
- C) İsmet İnönü
- D) Tefik Rüştü Aras

10. Aşağıdakilerden hangisi II. Dünya Savaşı'nın Türkiye'ye "siyasi" alandaki etkilerindendir?

- A) Çok partili hayata geçiş için adımlar atılması
- B) Temel gıda maddelerin temininde sıkıntılar yaşanması
- C) Ülke genelinde genç nüfus sayısının azalması
- D) Bütçenin büyük kısmının savunmaya ayrılması

1. OTURUM

(835) İNGİLİZCE – 8

1 - 8. sorularda boş bırakılan yere/yerlere uygun gelen kelime ya da ifadeyi işaretleyiniz.

1. John is an honest boy because he - - - - .

- A) shares my secrets with others
- B) always argues with me
- C) cheers everybody up
- D) never tells lies

2. Elizabeth can't stand watching the news on TV. She thinks that it is - - - - .

- A) terrific
- B) unbearable
- C) entertaining
- D) relaxing

3. Mike : What are the ingredients of frozen chocolate bananas?

Chef : - - - - .

- A) First, peel the bananas, place popsicle sticks in half-bananas and freeze them
- B) 6 bananas, some bitter chocolate, 2 teaspoons of oil, a tiny pinch of salt
- C) I love making and eating frozen chocolate bananas
- D) If you like frozen chocolate bananas, try to make it

4. Daisy : - - - - ?

Bobby : I send them e-mails.

- A) How do you communicate with your teachers
- B) Can you hold on a moment, please
- C) Big International Company, how can I help you
- D) May I have your name, please

5. David : Why don't we play an online game at two o'clock?

Simon : I'm sorry, but I can't. - - - - .

- A) It sounds good
- B) Sure, I'd love to
- C) That would be great
- D) My Internet is broken

6. My parents prefer safer sports, so they usually go - - - - in the park.

- A) jogging
- B) paragliding
- C) motor-racing
- D) bungee-jumping

7. Teacher : When did Aziz Sancar get the Nobel Prize?

Mehmet : - - - - .

- A) Under the microscope
- B) On cancer
- C) In 2015
- D) In Mardin

8. We should protect the environment by - - - - .

- A) using toxic cleaning materials
- B) planting more trees
- C) polluting the air
- D) wasting water

9. Frank went to Ankara, Türkiye for a business trip last month. He stayed in a five-star hotel in Ankara. Frank thinks that Türkiye is a charming country.

Bu metinde aşağıdaki sorulardan hangisinin cevabı yoktur?

- A) Why did Frank go to Türkiye?
- B) Where did Frank stay in Ankara?
- C) What did Frank eat in Ankara?
- D) When did Frank go to Türkiye?

1. OTURUM

10.



Anthony must - - - - at weekends.

Buna göre, cümlede boş bırakılan yere aşağıdakilerden hangisi getirilmelidir?

- A) take out the garbage
- B) do the ironing
- C) make the bed
- D) vacuum the floor

(835) ALMANCA – 8

1 - 6. sorularda boş bırakılan yere/yerlere uygun gelen kelime ya da ifadeyi işaretleyiniz.

1. Wegen dem Klimawandel wird sich in den nächsten Jahren das Klima weiter erwärmen. - - - - verschieben sich die Jahreszeiten.

- A) Deshalb
- B) Weil
- C) Wegen
- D) Damit

2. Wir werden dieses Wochenende in die Stadt einkaufen - - - - .

- A) waren
- B) sein
- C) fahren
- D) werden

3. Hüseyin kann eine gute Arbeit finden, - - - - er sehr gut Englisch lernt.

- A) wenn
- B) denn
- C) wer
- D) dass

4. Frau Dağdelen - - - - zur Praxis von Dr. Otten - - - - , weil sie krank ist.

- A) ist / vermieten
- B) ist / gegangen
- C) hat / geöffnet
- D) hat / öffnen

5. Wenn ich am Wochenende Zeit hätte, - - - - ich ans Meer fahren.

- A) wird
- B) wirst
- C) würde
- D) würden

6. Die Kinder helfen - - - - alten Frau im Supermarkt.

- A) den
- B) dem
- C) die
- D) der

7. Herr Taşkın repariert sein Auto.

Bu cümlelerin "Perfekt" hâli aşağıdakilerin hangisinde verilmiştir?

- A) Herr Taşkın reparierte sein Auto.
- B) Herr Taşkın kann sein Auto reparieren.
- C) Herr Taşkın hat sein Auto repariert.
- D) Hat Herr Taşkın sein Auto repariert?

8. Metin geht ins Restaurant. Er hat Hunger.

Bu cümleler "wenn" bağlacı ile aşağıdakilerin hangisinde doğru bağlanmıştır?

- A) Metin hat Hunger, wenn er ins Restaurant geht.
- B) Wenn er Hunger hat, Metin ins Restaurant gehen.
- C) Wenn Metin ins Restaurant geht, hat er Hunger.
- D) Metin geht ins Restaurant, wenn er Hunger hat.

1. OTURUM

9. "altmodisch" fiilinin zıt anlamlısı aşağıdakilerin hangisinde verilmiştir?

- A) modern B) traditionell
C) langweilig D) flüssig

10. Wo kann man einkaufen?

- A) Im Schwimmbad
B) Beim Metzger
C) In der Sporthalle
D) In der Bibliothek

(835) FRANSIZCA – 8

1 - 3. sorularda boş bırakılan yere/yerlere uygun gelen kelime ya da ifadeyi işaretleyiniz.

1. Dans le métro il faut - - - -.

- A) céder la place aux personnes âgés
B) bavarder avec le chauffeur
C) parler à haute voix
D) bousculer aux autres

2. Una avalanche est la cause de l'ouragan et - - - -.

- A) de la pluie B) du feu
C) du volcan D) de la neige

3. Roland Moreno, autodidacte passionné d'électronique, est très connu parce qu'il a - - - - la carte à puce en 1974.

- A) inventé B) créé
C) obtenu D) découvert

4.

Coucou !
J'ai réussi mon examen. J'aimerais vous voir pour la petite fête à cette occasion.
Venez, cela me fera très plaisir.
Aurélié

Bu kartın yazılış amacı aşağıdakilerden hangisidir?

- A) Remercier B) Inviter
C) Féliciter D) S'informer

5.



Bu görselde bahsedilen etkinlik aşağıdakilerden hangisidir?

- A) Cinéma B) Sport
C) Exposition D) Musique

6. Un Passant : Pardon Monsieur l'agent, est-ce qu'il y a une poste près ici ?

Monsieur l'agent : C'est au bout du parc, vous voyez ?

Bu diyaloga göre, "Où est la poste ?" sorusunun cevabı aşağıdakilerden hangisidir?

- A) Parc B) Parc
C) Parc D) Parc

1. OTURUM

7.



Bu görselde aşağıdakilerden hangisi anlatılmaktadır?

- A) Tondre la pelouse
- B) Arroser les plantes
- C) Prendre la poussière
- D) Balayer les feuilles

8. Nous allons au Brésil. Là, quelques jours pour visiter un peu et ensuite nous allons voyager en Argentine et en Colombie. Après on va passer au Pérou. Le Mexique c'est la prochaine fois.

Bu parçaya göre, "Combien de pays vont-ils voir ?" sorusunun cevabı aşağıdakilerden hangisidir?

- A) Deux
- B) Trois
- C) Quatre
- D) Cinq

9. Alain Delon est une grande vedette du cinéma français. Il est très célèbre en France avec de nombreux film.

Bu parçaya göre Alain Delon kimdir?

- A) Une star du sport
- B) Un grand champion
- C) Un acteur connu
- D) Un grand jouer

10. I. Appareil qui permet de transmettre les sons à distance.
II. La presse écrite est le plus ancien média d'information.
III. La média de publicité extraordinaire avec des images et du son.

Aşağıdaki kavramlardan hangisi numaralanmış açıklamalardan herhangi birinin karşılığı değildir?

- A) Le télégraphe
- B) Le journal
- C) Le téléphone
- D) La télévision

(836) DİN KÜL. VE AHLAK BİLGİSİ – 8

1. Galaksiler, yıldızlar, gezegenler Allah'ın belirlemiş olduğu yörüngelerde bir düzen içinde varlıklarını sürdürmektedir.

Bu ifade aşağıdaki evrensel yasalardan hangisiyle ilgilidir?

- A) Biyolojik
- B) Fiziksel
- C) Toplumsal
- D) Ahlakî

2. Hz. Musa'yı Firavun'un zulmünden korumak için ailesinin aldığı tedbir aşağıdakilerden hangisidir?

- A) Tüccarlara köle olarak satması
- B) Mısırlı bir aileye evlatlık vermesi
- C) Sandığa koyarak nehre bırakması
- D) Soylu bir ailenin kızı ile değiştirmesi

3. Aşağıdakilerden hangisi zekât verecek kişide aranan şartlardan biri değildir?

- A) Bedenen sağlıklı olmak
- B) Nisap miktarı malı olmak
- C) Ergenlik çağına girmiş olmak
- D) Malı kullanma hakkına sahip olmak

1. OTURUM

4. Fıtır sadakası ramazan ayına özgü ibadetlerden biridir ve en son - - - - kadar verilebilir.

Bu cümlede boş bırakılan yere aşağıdakilerden hangisi getirilmelidir?

- A) Kadir Gecesi sabahına
B) bayram namazı vaktine
C) ramazan ayının son gününe
D) Ramazan Bayramı'nın sonuna

5. Din, insanın hayatına her yönüyle anlam katar. Hayatında zorluk, hastalık ve musibetlerle karşılaşan insan, inancı sayesinde bu olumsuzluklara karşı mücadele etme ve dayanma gücü kazanır.

Bu metinde "din" ile ilgili aşağıdakilerden hangisi vurgulanmaktadır?

- A) İlahi kaynaklı olduğu
B) Evrensel mesajlarının olduğu
C) Birlik ve beraberliğe yönlendirdiği
D) İnsanın sabırlı olmasını sağladığı

6. İslam, aileye büyük önem verir. Çünkü aile, bireyin ilk eğitimini aldığı yerdir. Birey; sevgi, şefkat, merhamet, adalet ve toplum içindeki davranış kuralları gibi ahlaki değerleri aile ortamında öğrenmeye başlar. Bu değerleri içselleştiren bireylerin oluşturduğu toplumlar geleceğe güvenle bakar.

Bu metin aşağıdaki temel değerlerden hangisinin korunması ile ilgilidir?

- A) Canın
B) Neslin
C) Malın
D) Aklın

7. Hz. Muhammed (sav), emanete riayet konusunda çok hassas davranırdı. Örneğin, Medine'ye hicret ederken yanındaki emanetleri Hz. Ali'ye vermiş ve sahiplerine ulaştırmasını istemişti.

Bu metinden Hz. Muhammed'in (sav) aşağıdaki özelliklerinin hangisine ulaşılabilir?

- A) Akrabalarını gözetmesine
B) İstişareye önem vermesine
C) Dürüst ve güvenilir olmasına
D) Merhametli ve affedici olmasına

8. "Bu, gerçekliğinden şüphe duyulmayan bir kitaptır..."

(Bakara suresi, 2. ayet)

Bu ayet Kur'an'ın ana konularından hangisiyle ilgilidir?

- A) İnanç
B) İbadet
C) Ahlak
D) Kıssa

9. Peygamberlerin ortak özelliklerinden biri de doğru sözlü, özü sözü bir anlamına gelen "sıdk"tır.

Buna göre, aşağıdaki sözlerden hangisi "sıdk" kavramı ile doğrudan ilgilidir?

- A) Komşu komşunun külüne muhtaçtır.
B) Bir elin nesi var, iki elin sesi var.
C) Danışan dağı aşmış, danışmayan düz yolda şaşmış.
D) Ya olduğun gibi görün ya da görüldüğün gibi ol.

10. I. Miraç hadisesinde nazil olmaya başlamıştır.
II. Önce Alak suresinin ilk beş ayeti nazil olmuştur.

- III. Yirmi üç yılda parça parça indirilmiştir.
IV. İlk suresi Bakara, son suresi Kevser'dir.

Kur'an ile ilgili numaralanmış bilgilerden hangileri doğrudur?

- A) I ve II
B) I ve IV
C) II ve III
D) III ve IV

CEVAP KÂĞIDI VE SORU KİTAPÇIĞI İLE İLGİLİ AÇIKLAMALAR

1. Cevap kâğıdınızdaki bilgilerin doğruluğunu kontrol ediniz ve cevap kâğıdınızı imzalayınız.
2. Cevap kâğıdı üzerinde kodlamalarınızı siyah kurşun kalemle yapınız.
3. Değiştirmek istediğiniz bir cevabı, yumuşak silgiyle cevap kâğıdını yıpratmadan temizce siliniz ve yeni cevabınızı kodlayınız.
4. Soru kitapçığının sayfalarını görevlilerin uyarıları doğrultusunda kontrol ediniz, baskı hatası var ise değiştirilmesini sağlayınız.
5. Soruların çözümü için size ayrıca boş kâğıt verilmeyecektir. Soru kitapçığının içindeki boş alanları soru çözümleri için kullanabilirsiniz.
6. Her sorunun dört seçeneğinden sadece biri doğrudur. Doğru seçeneği, cevap kâğıdınızın ilgili sütununa soru numarasını dikkate alarak yuvarlağın dışına taşırmadan kodlayınız. Soru kitapçığı üzerinde yapılan cevaplandırmalar dikkate alınmayacaktır.
7. Cevaplamaya istediğiniz dersin sorusundan başlayabilirsiniz. Cevabını bilmediğiniz sorular üzerinde fazla zaman kaybetmeden diğer sorulara geçiniz. Zamanınız kalırsa bu sorulara daha sonra dönebilirsiniz.
8. Yanlış cevaplarınız dikkate alınmadan sadece doğru cevaplarınız üzerinden puanlama yapılacaktır.
9. Soruları ve sorulara verdiğiniz cevapları, yanınızda götürmek amacıyla kaydetmeyiniz; hiçbir şekilde dışarı çıkarmayınız.
10. Sınav bitiminde soru kitapçığı ve cevap kâğıdını salon görevlilerine teslim ediniz.
11. Aday tarafından cevap kâğıdına yazılması veya işaretlenmesi gereken bilgilerde eksiklik ya da yanlışlık olması durumunda sorumluluk adaya ait olacaktır.

SALON GÖREVLİLERİNCE SINAV BAŞLAMADAN ÖNCE ADAYLARA YAPILACAK SON UYARILAR

- Soracağınız bir şey varsa şimdi sorunuz, sınav başladıktan sonra sorularınıza cevap verilmeyecektir.
- Başlama zilini bekleyiniz.

Hepinize başarılar dileriz.

(Salon başkanı başlama ve bitiş saatini tahtaya yazacaktır.)

Bu kitapçığın her hakkı saklıdır. Hangi amaçla olursa olsun, kitapçığın tamamının veya bir kısmının Millî Eğitim Bakanlığı Ölçme, Değerlendirme ve Sınav Hizmetleri Genel Müdürlüğünün yazılı izni olmadan kopya edilmesi, fotoğraflarının çekilmesi, bilgisayar ortamına alınması, herhangi bir yolla çoğaltılması, yayımlanması veya başka bir amaçla kullanılması yasaktır. Bu yasağa uymayanlar, doğabilecek cezai sorumluluğu ve kitapçığın hazırlanmasındaki mali külfeti peşinen kabullenmiş sayılır.

22 MART 2025 TARİHİNDE YAPILAN
AÇIK ÖĞRETİM ORTAOKULU 2024-2025 ÖĞRETİM YILI
2. DÖNEM SINAVI 1. OTURUM CEVAP ANAHTARI

(550) TÜRKÇE – 5

1. B
2. D
3. A
4. C
5. B
6. C
7. D
8. A
9. B
10. B

(552) FEN BİLİMLERİ – 5

1. A
2. C
3. C
4. B
5. D
6. C
7. A
8. B
9. B
10. D

(634) İNGİLİZCE – 6

1. B
2. D
3. A
4. C
5. C
6. B
7. C
8. B
9. A
10. D

(634) FRANSIZCA – 6

1. C
2. B
3. D
4. B
5. C
6. D
7. D
8. B
9. A
10. A

(551) MATEMATİK – 5

1. D
2. C
3. B
4. C
5. D
6. D
7. A
8. C
9. B
10. A

(633) SOSYAL BİLGİLER – 6

1. D
2. B
3. C
4. A
5. D
6. A
7. B
8. A
9. C
10. D

(634) ALMANCA – 6

1. D
2. D
3. C
4. C
5. D
6. C
7. B
8. B
9. A
10. A

(635) DİN KÜLTÜRÜ VE
AHLAK BİLGİSİ – 6

1. A
2. C
3. B
4. A
5. A
6. D
7. C
8. B
9. D
10. C

22 MART 2025 TARİHİNDE YAPILAN
AÇIK ÖĞRETİM ORTAOKULU 2024-2025 ÖĞRETİM YILI
2. DÖNEM SINAVI 1. OTURUM CEVAP ANAHTARI

(730) TÜRKÇE – 7

1. D
2. C
3. B
4. A
5. B
6. D
7. A
8. A
9. B
10. C

(732) FEN BİLİMLERİ – 7

1. D
2. B
3. A
4. A
5. C
6. B
7. C
8. D
9. B
10. C

(835) İNGİLİZCE – 8

1. D
2. B
3. B
4. A
5. D
6. A
7. C
8. B
9. C
10. D

(835) FRANSIZCA – 8

1. A
2. D
3. A
4. B
5. C
6. B
7. B
8. C
9. C
10. A

(731) MATEMATİK – 7

1. A
2. B
3. A
4. D
5. B
6. C
7. B
8. C
9. D
10. D

(834) T.C. İNKILAP TARİHİ
VE ATATÜRKÇÜLÜK – 8

1. B
2. D
3. B
4. C
5. A
6. C
7. B
8. D
9. C
10. A

(835) ALMANCA – 8

1. A
2. C
3. A
4. B
5. C
6. D
7. C
8. D
9. A
10. B

(836) DİN KÜLTÜRÜ VE
AHLAK BİLGİSİ – 8

1. B
2. C
3. A
4. B
5. D
6. B
7. C
8. A
9. D
10. C