

3.
SINIF



A
KİTAPÇIK TÜRÜ

T.C.
MİLLÎ EĞİTİM BAKANLIĞI
ÖLÇME, DEĞERLENDİRME VE SINAV HİZMETLERİ
GENEL MÜDÜRLÜĞÜ

VEHBİ KOÇ VAKFI KOÇ ÖZEL İLKOKULU VE ORTAOKULU SEVİYE TESPİT SINAVI
(2. Sınıftan 3. Sınıfa Geçenler)
09 HAZİRAN 2024 Saat: 10.00


Adayın Adı ve Soyadı :

Aday Numarası (T.C. No) :

DERS ADI	SORU SAYISI	TOPLAM SORU SAYISI	SINAV SÜRESİ (DAKİKA)
TÜRKÇE	20	60	80
MATEMATİK	20		
HAYAT BİLGİSİ	20		

ÖĞRENCİLERİN DİKKATİNE!

1. Sınıf öğrenci yoklama listesinde belirtilen sınıfta ve sıra numarasında oturunuz.
2. Cevap kâğıdındaki kimlik bilgilerinin doğruluğunu kontrol ediniz.
3. Kitapçık türünü cevap kâğıdındaki ilgili alana kodlayınız.
4. Cevap kâğıdı üzerindeki kodlamaları kurşun kalemle yapınız.



SINAV BAŞLAMADAN ÖNCE KİTAPÇIĞIN ARKA KAPAĞINDAKİ UYARILARI MUTLAKA OKUYUNUZ.

1. Aşağıdaki kelimelerden hangisinin heceleri doğru ayrılmıştır?

A) Dö-küm-e-vi

B) De-niz-al-tı

C) Li-mo-na-ta

D) İh-tiy-ar-lık

2. 1. parkına
2. içindeki
3. her zaman
4. çocuk

Sitemizin - - - - - giderim.

Anlamli bir cümle oluşturmak için, numaralanmış kelimeler boş bırakılan yerlere hangi sırayla yerleştirilmelidir?

- A) 1 - 2 - 4 - 3
B) 1 - 3 - 4 - 2
C) 2 - 3 - 4 - 1
D) 2 - 4 - 1 - 3

3.

Kadayf	Karavan	- - - -	Kereste
1	2	3	4

3 numaralı kutucuğa sözlük sırasına göre aşağıdaki kelimelerden hangisi getirilebilir?

A) Kaydırak

B) Karanfil

C) Kestane

D) Kervan

4. Bu küçük kasabada, evlerin rengârenk boyanmış pencereleri ziyaretçilere
1 2
görsel bir şölen sunardı.

Bu cümledeki numaralanmış sözcükler, aşağıdaki soruların hangisine cevap vermektedir?

- | | 1 | 2 |
|----|-----------|------|
| A) | Ne zaman? | Ne? |
| B) | Nerede? | Kim? |
| C) | Ne zaman? | Kim? |
| D) | Nerede? | Ne? |

5. 1. Salonun ortasında duran eski ve tozlu piyano dikkatini çekti.
2. Piyanoya doğru yürüdü ve tuşların üzerinde parmaklarını gezdirdi.
3. Anneannesinden kalma taş evin ahşap kapısını heyecanla araladı.
4. Kapı, yüksek tavanlı ve oldukça geniş bir salona açıldı.

Numaralanmış cümleler oluş sırasına göre nasıl sıralanmalıdır?

- A) 3 - 2 - 4 - 1
B) 3 - 4 - 1 - 2
C) 4 - 1 - 2 - 3
D) 4 - 3 - 1 - 2

6. (1) Kandilli Mahallesi'ndeki dükkânımızda her bayram öncesi yoğunluk yaşanırdı. (2) Bu Ramazan Bayramı'ndan önce de dükkânda çok iş birikti. (3) Elbiselerin ince dikişini ve ütüsünü yapmak Cemil'in işiydi. (4) Ben de Cuma günü okul çıkışı ona yardıma gittim.

Bu metindeki numaralanmış cümlelerin hangisinde büyük harflerin yazımıyla ilgili bir yanlışlık yapılmıştır?

- A) 1 B) 2 C) 3 D) 4

7. Yağmur:
— Ekmeğin hamurunu kabartan şey nedir ()
Ezgi:
— Mayadır ()
Yağmur:
— Harika () Peki, mayanın gözle göremediğimiz bir mantar türü olduğunu biliyor musun ()

Bu konuşmada yay ayrıçla () gösterilen yerlere sırasıyla gelmesi gereken noktalama işaretleri aşağıdakilerin hangisinde verilmiştir?

- A) (?) (,) (,) (?)
B) (!) (.) (,) (.)
C) (?) (.) (!) (?)
D) (!) (?) (!) (.)

8. Mikroptan sakın kendini
Sporla aç nefesini
Beslenirken ol dengeli
Bozulmasın sıhhatin

Fırçala her gün dişlerini
Kirlenince yıka elini
Kaçırma uyku saatini
Bozulmasın sıhhatin

Bu şiire getirilebilecek en uygun başlık aşağıdakilerden hangisidir?

- A) Sağlıklı Beslen
- B) Temizliği Sev
- C) Sağlığını Korum
- D) Bedenini Tanı

9. Aşağıdaki cümlelerin hangisinde altı çizili kelime, karşısında verilen anlamına uygun kullanılmamıştır?

	Cümle	Anlam
A)	Sanatçı, tüm filmlerinde farklı insan tiplerini <u>canlandırmıştı</u> .	Bir karakteri oynamak, ona kişilik vermek
B)	Boyu kısa olduğu için kapının ziline kolu zor <u>ulaştı</u> .	Belli bir noktaya ermek, uzanmak, yetişmek
C)	Tam beş sene bu küçücük evde <u>kaldılar</u> .	Oturmak, yaşamak
D)	Masada duran kalemi ona uzatmamı <u>istedi</u> .	Sipariş etmek

10. Sabahın ilk ışıkları otobüsün camlarına vuruyor, hepimizin gözünden uyku akıyordu. İki sıra önündeki bebek gece boyu ağlamıştı. Annesi de hepimizden teker teker özür dilemiş ve her birimize küçük lokumlar ikram etmişti.

Bu metindeki altı çizili kelimeler aşağıdaki hikâye unsurlarından hangisidir?

- A) Şahıs kadrosu
B) Zaman
C) Olay
D) Mekân

11. “Açık” kelimesi aşağıdaki cümlelerin hangisinde “çalışır durumda olan” anlamında kullanılmıştır?

- A) Kavanozun ağzı açık kalmasına rağmen kurabiyeler bayatlamamış.
B) Giydiği açık renkli elbise sayesinde onu tanıdım.
C) Kasabada gecenin bu saatinde açık bir bakkal bulamaz.
D) Pencereyi açık bırakınca odanın içi buz gibi olmuş.

12. Tavşan yarışı geleneksel sokak oyunlarımızdan biridir. Bu oyunda ilk olarak hakem seçilir. Daha sonra oyuncular iki gruba ayrılır. Gruplar, belirlenen başlangıç çizgilerinin ardında sıraya girer. Hakem, başlangıç çizgilerinin üç metre uzağına bir taş koyar. Hakemin “Başla!” komutuyla iki grubun ilk oyuncuları hafifçe çömelir ve bacaklarını tutarak tavşan gibi yürür. Oyunun amacı, her oyuncunun taşın etrafından dolanarak başlangıç çizgisine ulaşmasıdır. Bunu en kısa sürede yapan grup yarışmayı kazanır.

Bu metinde anlatılan tavşan yarışı oyununa ait görsel aşağıdakilerden hangisidir?

A)



B)



C)



D)



13. Kanat çırpın göklere
Uçun özgürce her yere
Uzak diyarlara gitmeden
Konun sokaktaki tellere

Bu şiirde şair aşağıdaki varlıklardan hangisine seslenmiştir?

- A) Uçak B) Kuş C) Bulut D) Uçurtma

14. Hasan, tek kanatlı kapıyı minik elleriyle açtı. Dışarıya adımını atar atmaz bahçede bir güvercin gördü. Güvercinin kendisinden kaçmamasına çok şaşırıldı. Ona yaklaştı, avuçlarının arasına alınca yaralı olduğunu fark etti. Kucağındaki güvercinle hemen eve koştu. Evdeki dolaptan tavukların kanatlarına dedesinin sürdüğü merhemi aldı. Güvercinin yaralı kanadına sürdü. Onu boş bir tavuk kümesine koyup her gün kanadına merhem sürmeye devam etti. Hasan yine bir gün merhem sürmek için kümise gittiğinde güvercini göremedi.

Bu metinde aşağıdaki olaylardan hangisinin nedenine yer verilmemiştir?

- A) Bahçedeki güvercinin Hasan'dan kaçmamasının
B) Hasan'ın, güvercini kümeste görememesinin
C) Hasan'ın, kucağındaki güvercinle eve koşmasının
D) Hasan'ın dolaptan merhem almasının

15. Aşağıdaki altı çizili kelimelerden hangisinin zıt (karşıt) anlamlısı yay araç () içinde yanlış verilmiştir?

- A) Bahçenin ortasına uzun (büyük) bir kilim sermişlerdi.
B) Masanın üzerinde birikmiş tozları kuru (yaş) bir bezle aldı.
C) Bu konu hakkındaki görüşlerinizi yazılı (sözlü) olarak iletmelisiniz.
D) Tüm evi tek başına temizlemek çok zor (kolay) oluyor.

16. Kedim Duman, sokaktaki ağaca tırmanmış ama bir türlü inememişti. Duman'ı ağaçta gören mahalleli yardıma koştu. Seda Abla ağaca çıktı, dala uzanamayıp indi. Sonra bir adam tüm engellemelere rağmen ağacı salladı, neyse ki Duman dala sıkıca tutunduğu için düşmedi. Ardından Safiye Teyze'nin getirdiği örtüyü ağacın altında hep beraber gerip Duman'ın atlamasını dakikalarca bekledik. O esnada biri itfaiyeyi aramış, geldiler. Duman'ın tırmanma macerası dala uzatılan itfaiye merdiveniyle son buldu.

Bu metne göre, Duman'ı ağaçtan indirmek için kullanılan yöntemlerden hangisi başarılı olmuştur?

- A) Seda Abla'nın ağaca çıkması
B) Bir adamın ağacı sallaması
C) Ağacın altında mahallelinin örtü germesi
D) Ağacın dalına itfaiyenin merdiven uzatması

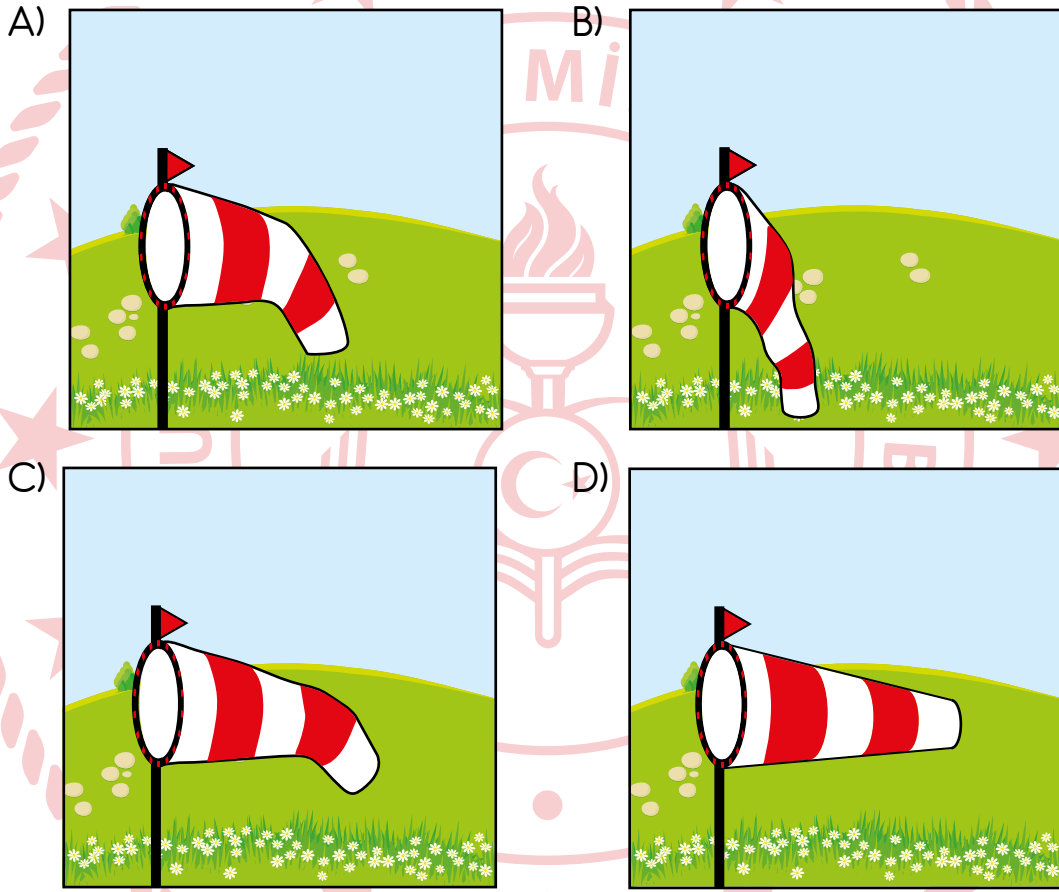
17. Murat'ın bindiği trendeki yolcuların çoğu Arifiye İstasyonu'nda inmişti. Yanında kumral, kısa boylu, bir hayli zayıf yol arkadaşı vardı. Vagon da onlar dışında kimse kalmamıştı. O da iki saattir uyuduğu için Murat epeyce sıkılmıştı. Üstelik ineceği durağa da çok vardı.

Bu metinde aşağıdakilerden hangisine değinilmemiştir?

- A) Murat'ın ineceği durağın adına
B) Yol arkadaşının fiziksel özelliklerine
C) Murat'ın sıkılma nedenine
D) Trenin durduğu istasyona

18. Rüzgâr tulumu, rüzgârın hızını belirlemeye yarayan bir araçtır. Bu tulum, ucunda halka bulunan bir direğe kumaş geçirilerek yapılır. Kumaşın geniş olan ucu halkaya sabitlenir, dar olan ucu serbest bırakılır. Rüzgâr, tulumun geniş ucundan girip dar ucundan çıkar. Rüzgârın şiddeti arttıkça tulumun dar ucu yukarı yönde hareket eder.

Buna göre, aşağıdaki rüzgâr tulumu görsellerinden hangisi rüzgârın şiddetinin en az olduğu zamana aittir?



19. Aşağıdaki altı çizili kelimelerden hangisinin eş anlamlısı yay araç () içinde yanlış verilmiştir?

- A) Mutfak dolaplarının tamiri (onarım) için iyi bir usta bulmalıyız.
 B) Kardeşinin hasretine (özlem) daha fazla dayanamayıp ilk otobüsle yanına gitti.
 C) Genç adam tuhaf (acayip) tavırlarıyla salondaki herkesin dikkatini çekti.
 D) Süt, peynir ve yumurta gibi gıdaları (ihtiyaç) tüketmek bağımsızlık sistemini güçlendirir.

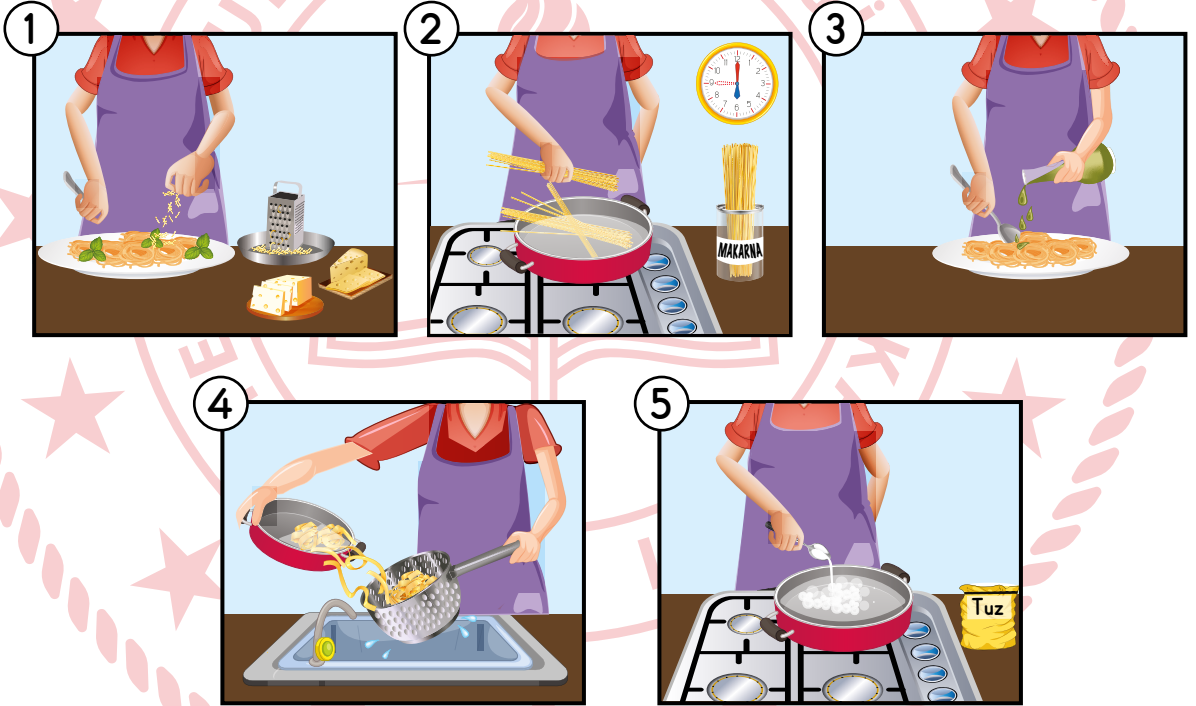
20. “Üç peynirli makarna” tarifi aşağıda verilmiştir.

ÜÇ PEYNİRLİ MAKARNA

- İlk olarak bir tencerede suyu kaynatın ve suya bir tatlı kaşığı tuz atın.
- Ardından makarnayı kaynayan suya atın ve sekiz dakika haşlayın.
- Haşladığınız makarnayı bir süzgeç yardımıyla süzün.
- Süzdüğünüz makarnayı servis tabağına alın, zeytinyağı ekleyip karıştırın.
- Son olarak makarnaya üç çeşit peynir ve fesleğen ekleyerek servis edin.

Afiyet olsun!

Üç peynirli makarna tarifine ait görseller karışık hâlde sıralanmıştır.



Karışık hâlde verilen görsellerin tarife göre sıralanışı aşağıdakilerden hangisidir?


A) 2 - 3 - 4 - 1 - 5

B) 2 - 5 - 1 - 3 - 4

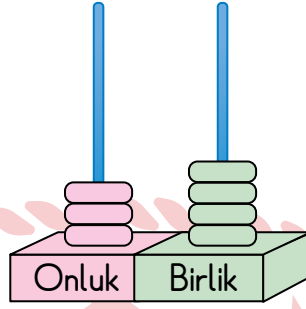
C) 5 - 2 - 4 - 3 - 1

D) 5 - 4 - 2 - 1 - 3

TÜRKÇE TESTİ BİTTİ.
MATEMATİK TESTİNE GEÇİNİZ.



1. Görseldeki abaküste iki basamaklı bir doğal sayı modellenmiştir.



Bu abaküsün her iki çubuğuna en az birer adet boncuk takmak şartıyla 6 adet daha boncuk takılarak farklı doğal sayılar elde edilecektir.

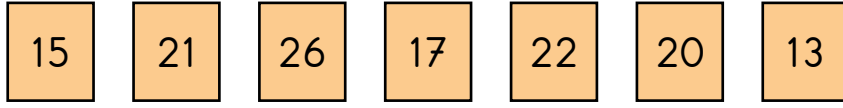
Buna göre, elde edilen doğal sayıların kaç adedi 80'den küçüktür?

- A) 2 B) 3 C) 4 D) 5

2. Aşağıdakilerden hangisi yanlıştır?

- A) 38 sayısı, 49 sayısından büyüktür.
B) 19 sayısı, 24 sayısından küçüktür.
C) 32 sayısı, 24 ile 41 sayıları arasındadır.
D) 73 sayısı, 58 ile 85 sayıları arasındadır.

3. Görselde her birinin üzerinde bir doğal sayı yazılı olan yedi adet kart verilmiştir.

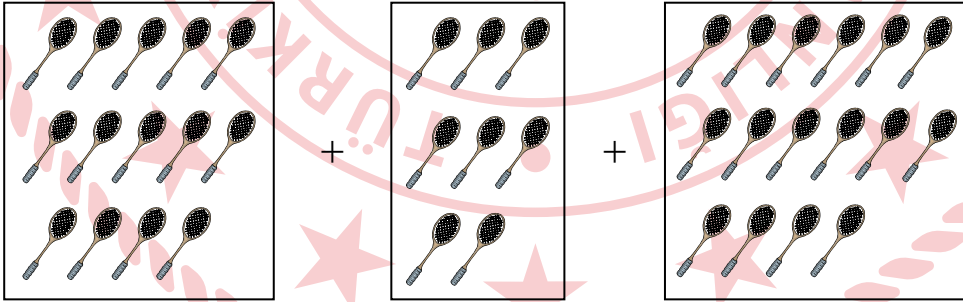


Simge 16'dan başlayarak ileriye doğru ikişer ritmik, Burak ise 27'den başlayarak geriye doğru üçer ritmik saymıştır. Burak ve Simge'nin saydıkları sayılar kartlarda yazılı ise bu kartları almışlardır.

Buna göre, alınmayan kaç adet kart kalmıştır?

- A) 1 B) 2 C) 3 D) 4

4. Aşağıda bir toplama işlemi modellenmiştir.



Buna göre, modellenen işlemin sonucu kaçtır?

- A) 40 B) 38 C) 30 D) 28

5. Talha, $72 + 16$ işleminin sonucunu doğru tahmin etmiştir.

Buna göre, Talha'nın tahmini aşağıdakilerden hangisi olabilir?

A) 70'ten azdır.

B) 80'den azdır.

C) 80'den çoktur.

D) 100'den çoktur.

6. Aslı'nın 12 adet sarı, 24 adet pembe, 17 adet ise mavi balonu vardır.

Buna göre, Aslı'nın sarı, pembe ve mavi balonlarının sayılarının toplamı kaçtır?

A) 33

B) 43

C) 53

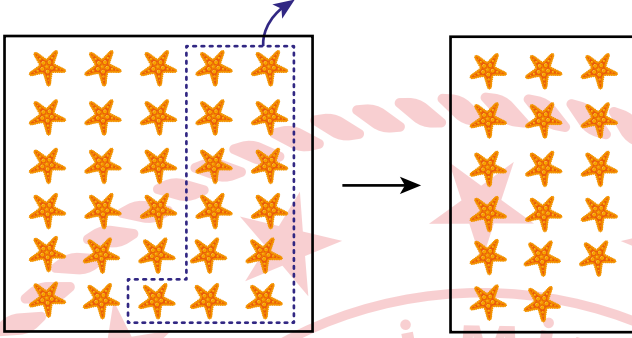
D) 63

7.

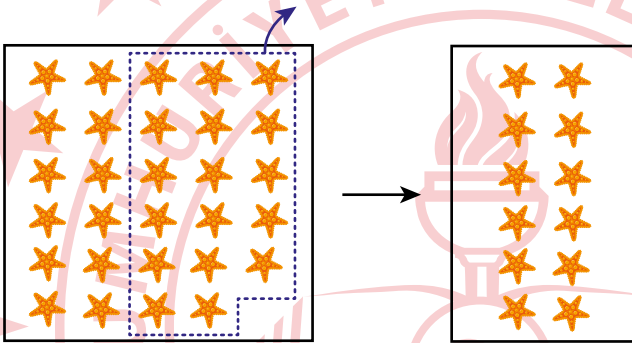
$$30 - 17 = 13$$

Verilen çıkarma işlemi aşağıdakilerden hangisi ile modellenebilir?

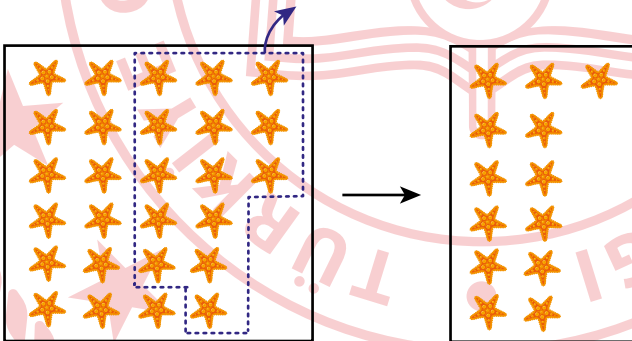
A)



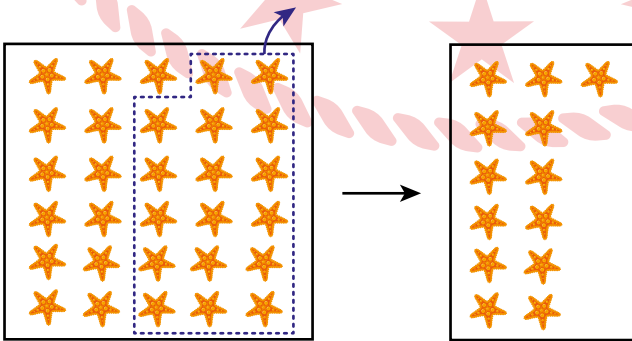
B)



C)



D)



8. Görselde dört adet kapağı olan bir dolap verilmiştir. Bu kapakların her birinde yazan çıkarma işlemlerindeki eksilen ve çıkan sayılar en yakın onluğa yuvarlanarak çıkarma işleminin tahminî sonucu bulunacaktır.

$42 - 13$	$49 - 26$	$74 - 42$	$61 - 38$
-----------	-----------	-----------	-----------

Çıkarma işleminin tahminî sonucu 30 olan kapaklar maviye boyanacaktır.

Buna göre, boyama işlemi tamamlandıktan sonra dolabın son hâli aşağıdakilerden hangisi olur?

A)

$42 - 13$	$49 - 26$	$74 - 42$	$61 - 38$
-----------	-----------	-----------	-----------

B)

$42 - 13$	$49 - 26$	$74 - 42$	$61 - 38$
-----------	-----------	-----------	-----------

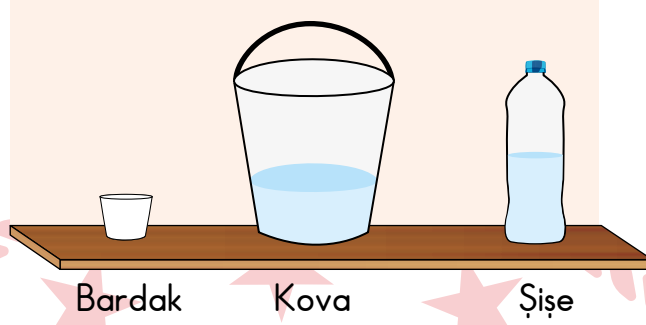
C)

$42 - 13$	$49 - 26$	$74 - 42$	$61 - 38$
-----------	-----------	-----------	-----------

D)

$42 - 13$	$49 - 26$	$74 - 42$	$61 - 38$
-----------	-----------	-----------	-----------

9. Görselde boş bir bardak ile her birinin içinde 4 bardak su bulunan kova ve şişe verilmiştir.

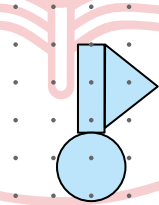


Bu kovaya tam dolu 14 bardak su, şişeye ise tam dolu 2 bardak su daha eklendiğinde kova ve şişe taşma olmadan tamamen dolmuştur.

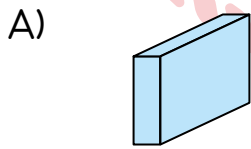
Buna göre, son durumda bu kovadaki suyun tamamı ile kaç boş şişe taşırılmadan tamamen doldurulur?

- A) 3 B) 4 C) 5 D) 6

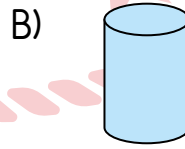
10. Birbirinden farklı geometrik cisimlerin birer yüzeyleri noktalı kâğıt üzerine konularak görseldeki yapı oluşturulmuştur.



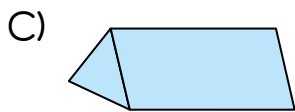
Buna göre, bu geometrik cisimlerden biri aşağıdakilerden hangisi olamaz?



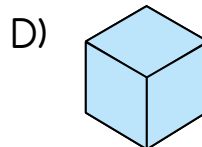
Dikdörtgen prizma



Silindir

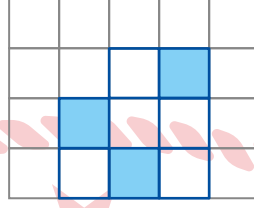


Üçgen prizma

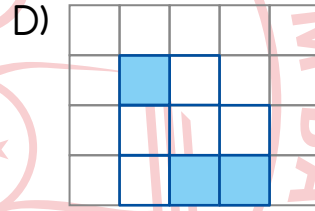
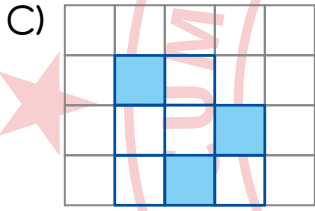
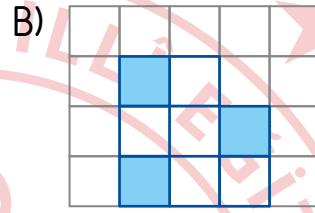
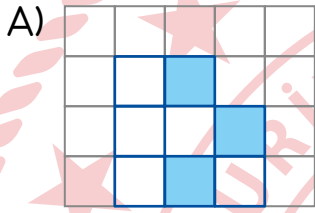


Küp

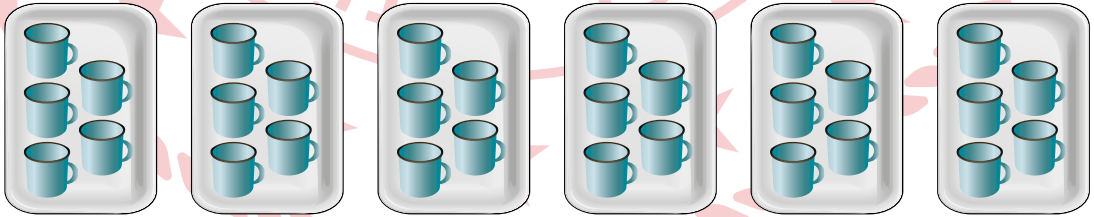
11. Bir kâğıdın bir kez uygun şekilde katlanmasıyla elde edilen iki eş parçadan biri görselde verilmiştir.



Buna göre, bu şeklin eş parçalarından diğeri aşağıdakilerden hangisi olabilir?



12. Görseldeki tepsilerin her birinde eşit sayıda bardak vardır.



Buna göre, bu tepsilerdeki toplam bardak sayısını bulmak için aşağıdakilerden hangisi kullanılabilir?

A) 6×5

B) 5×5

C) 6×4

D) 5×4


13. Belirli bir ilişkiye göre oluşturulan bir geometrik örüntü aşağıda verilmiştir.



Bu örüntüdeki ilişki ile aynı ilişkiye sahip olan geometrik örüntü aşağıdakilerden hangisidir?

- A)
- B)
- C)
- D)


14. Görseldeki rafların her birinde eşit sayıda reçel kavanozu vardır.



Buna göre, bu raflardaki toplam kavanoz sayısını bulmak için aşağıdakilerden hangisi kullanılabilir?

- A) $6 + 6 + 6 + 6$
 B) $7 + 7 + 7 + 7$
 C) $6 + 6 + 6 + 6 + 6$
 D) $7 + 7 + 7 + 7 + 7$

15. Görseldeki havuçların tamamı, her çocukta eşit sayıda havuç olacak biçimde bir grup çocuğa paylaştırılmıştır.



Buna göre, bu gruptaki çocukların sayısı aşağıdakilerden hangisi olamaz?

- A) 5 B) 4 C) 3 D) 2

16. 9 adet ceviz, her bir kişide eşit sayıda ceviz olacak biçimde 3 kişiye paylaştırılmıştır.

Buna göre, bir kişinin aldığı ceviz sayısını bulmak için aşağıdakilerden hangisi kullanılabilir?

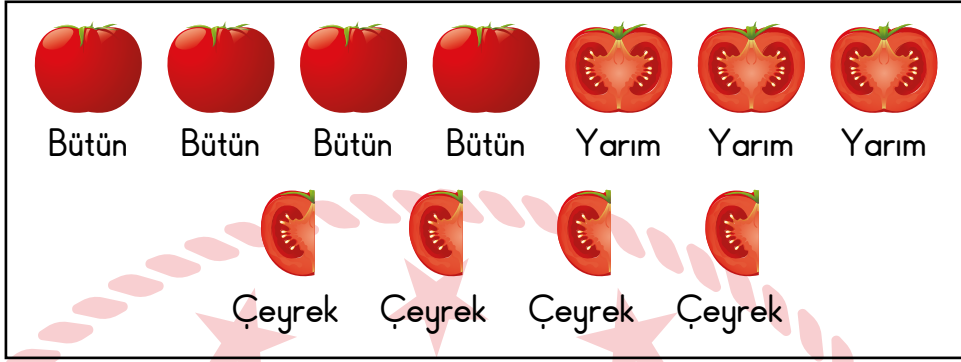
- A) $9 - 3$ B) $9 + 3$
C) 9×3 D) $9 \div 3$

17. İstanbul'daki tren garından 16.30'da hareket eden bir tren, 4 saat sonra Ankara'daki tren garına varmıştır.

Buna göre, bu tren saat kaçta Ankara'daki tren garına varmıştır?

- A) 21.30 B) 21.00 C) 20.30 D) 20.00

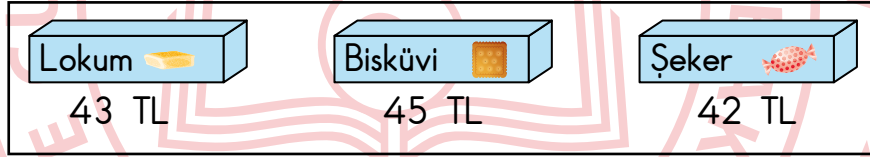
18. Görselde bir miktar bütün, yarım ve çeyrek domates verilmiştir.



Buna göre, bu domateslerin tamamı kaç çeyrek domatese eşittir?

- A) 7 B) 12 C) 13 D) 26

19. Bir marketteki ürünlerin birer paketinin satış fiyatları görselde verilmiştir.



Tuğba, 50 TL parası ile bu marketten bir paket ürün satın almıştır.

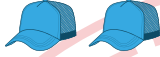


Buna göre, Tuğba'nın kalan parası aşağıdakilerden hangisi olamaz?

- A)
- B)
- C)
- D)

20. Bir mağazada bir günde 6 adet şapka, 18 adet atkı ve 12 adet gözlük satılmıştır.




Buna göre, satılan bu ürünlerin çeşitlerine göre sayılarını gösteren nesne grafiği aşağıdakilerden hangisi olabilir?

A) Grafik: Satılan Ürünlerin Çeşitlerine Göre Sayıları

Ürün Çeşidi	Ürün Sayısı
Şapka	
Atkı	
Gözlük	


Not: Her nesne 3 adet ürünü temsil etmektedir.

B) Grafik: Satılan Ürünlerin Çeşitlerine Göre Sayıları

Ürün Çeşidi	Ürün Sayısı
Şapka	
Atkı	
Gözlük	




Not: Her nesne 3 adet ürünü temsil etmektedir.

C) Grafik: Satılan Ürünlerin Çeşitlerine Göre Sayıları

Ürün Çeşidi	Ürün Sayısı
Şapka	
Atkı	
Gözlük	


Not: Her nesne 6 adet ürünü temsil etmektedir.

D) Grafik: Satılan Ürünlerin Çeşitlerine Göre Sayıları

Ürün Çeşidi	Ürün Sayısı
Şapka	
Atkı	
Gözlük	

Not: Her nesne 6 adet ürünü temsil etmektedir.

MATEMATİK TESTİ BİTTİ.
HAYAT BİLGİSİ TESTİNE GEÇİNİZ.



1. Hakan'ın, cuma gününe ait ders programı aşağıda verilmiştir.

CUMA	
1. Ders	Hayat Bilgisi
2. Ders	Türkçe
3. Ders	Türkçe
4. Ders	Matematik
5. Ders	Matematik
6. Ders	Görsel Sanatlar

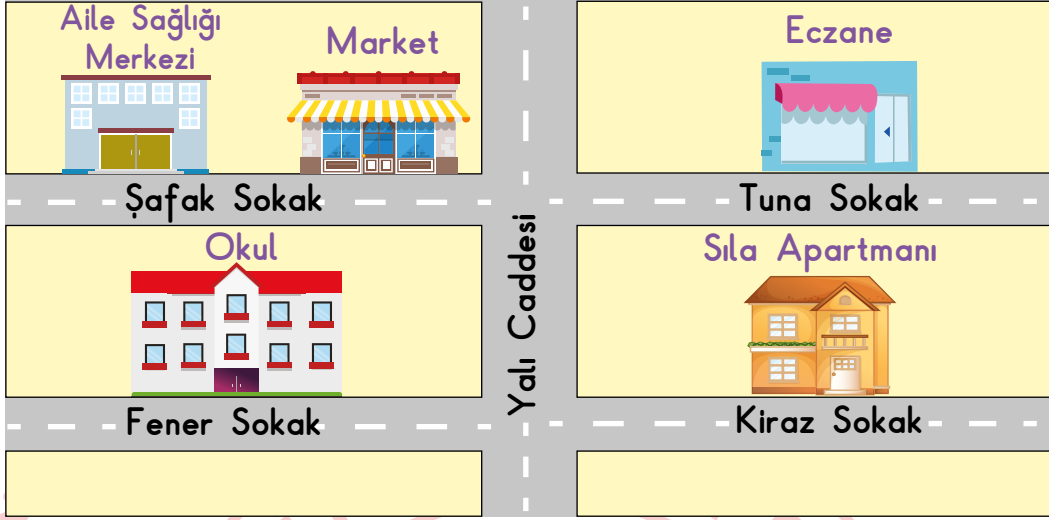
Bu ders programına göre, Hakan'ın cuma günü için aşağıdakilerden hangisini çantasına koyması gerekir?

- A) Flüt
B) Resim defteri
C) Spor ayakkabı
D) Eşofman

2. Sınıfımızla ilgili konularda karar alınırken aşağıdaki davranışlardan hangisini yapmak yanlıştır?

- A) Yüksek sesle konuşanın isteklerini kabul etmek
B) Karşımızdaki kişinin kalbini kırmadan konuşmak
C) Farklı fikirlere saygı göstermek
D) Kararları birlikte almak

3. Yasin'in okulunun yakın çevresine ait görsel aşağıda verilmiştir.



Buna göre, aşağıdaki bilgilerden hangisi doğrudur?

- A) Aile sağlığı merkezi, Tuna Sokak'tadır.
- B) Market, okulun önündeki Fener Sokak'tadır.
- C) Eczane okulun hemen yanındadır.
- D) Okul ile Sıla Apartmanı arasında Yalı Caddesi vardır.

4. Aşağıdakilerden hangisi okul kaynaklarını özenli kullanan bir öğrenciden beklenen davranışlardandır?

- A) Ellerini sabunlarken musluğu açık bırakması
- B) Kışın sınıfı havalandırmak için pencereleri gün boyu açık tutması
- C) Gereksiz yanan lambaları söndürmesi
- D) Tuvalet kâğıdını ihtiyacından fazla kullanması

5. Aşağıdakilerin hangisinde nezaket kurallarına uygun bir ifade kullanılmıştır?



6. Aşağıdakilerden hangisi sağlıklı büyüüp gelişmek için yapılması gerekenlerden biridir?

- A) Gece geç saatlere kadar uyanık kalmak
- B) Yağlı ve şekerli gıdaları tercih etmek
- C) Terliken soğuk su içmek
- D) Günde en az iki defa dişlerini fırçalamak


7. Aşağıdakilerden hangisi okul harçlığının bilinçli bir şekilde kullanılmasına örnektir?

A)



Annemin yaptığı ve çantama koyduğu kek yerine, kantinden aldığım keki yedim.

B)



Kalemim bittiği için kantinden yeni bir kalem aldım.

C)



Bugün, her teneffüste dondurma alıp yedim ve tüm paramı bitirdim.

D)




Beslenme çantamı evde unuttuğum için okulda aç kaldım. Yine de harçlığımı harcamayıp kumbarama attım.

8. Aşağıdaki ifadelerden hangisi ortak kullanım alanlarının temizliği ile ilgilidir?

- A) Oyun parkında güvenlik kurallarına uyarım.
- B) Okuldan gelince kıyafetlerimi değiştiririm.
- C) Kardeşimin eşyalarını izin alarak kullanırım.
- D) Tuvaleti kullandıktan sonra sifonu çekerim.

9. Bir aileye ait soyağacı bilgileri şu şekildedir:



Bu soyağacında ① ve ② numaralı yerlere sırasıyla aşağıdakilerden hangileri yazılmalıdır?

- | | |
|--------------|-----------|
| ① | ② |
| _____ | _____ |
| A) Teyzem | Babaannem |
| B) Ablam | Halam |
| C) Babaannem | Teyzem |
| D) Halam | Ablam |

10.



Ayşe

Okuldan sonraki zamanımı arkadaşlarımla oyun oynayarak geçiriyorum. Çok yorulduğum için de erkenden uyuyorum. Bu yüzden ödevlerimi yapacak zaman bulamıyorum. Derslerimde de başarısız olmaya başladım.

Buna göre, Ayşe'nin yaşadığı sorunu çözmesi için aşağıdakilerden hangisini yapması gerekir?

- A) Ödevlerini yaparken arkadaşlarından yardım alması
- B) Gün içinde yapacaklarını planlaması
- C) Kişisel bakımını düzenli yapması
- D) Temel ihtiyaçlarına öncelik vermesi

11. Sağlık alanında çalışan aşağıdaki görevlilerden hangisi yaptığı işi yanlış ifade etmiştir?

A)



Eczacı

Trafik kazalarında olay yerine giderek yaralılara ilk tedaviyi yaparım.

B)



Doktor

Hastaları muayene ederim. Hastaların iyileşmesi için gerekli ilaçları reçeteye yazarım.

C)



Hemşire

Hastaların tedavisinde doktora yardımcı olurum. Aşı yapar, tansiyon ölçerim.

D)



Diş hekimi

Ağız ve diş sağlığını kontrol ederim. İhtiyaç olduğunda gerekli tedaviyi uygularım.

12. Genel ağdan hava durumuna bakan Defne, havanın çok sıcak ve yağışsız olacağını öğrendi.

Buna göre Defne, hava durumuna uygun giyinmek için aşağıdakilerden hangisini seçmelidir?

- A)
- Tişört
 - Şort
 - Güneş gözlüğü

- B)
- Mont
 - Eldiven
 - Atkı

- C)
- Kaban
 - Bot
 - Şapka

- D)
- Yağmurluk
 - Kazak
 - Bere

13. İş seyahatine çıkan Suat Bey'in gittiği şehirler ve kullandığı ulaşım araçları aşağıdaki haritada gösterilmiştir.



Buna göre Suat Bey, seyahati sırasında hangi ulaşım türünü kullanmamıştır?

- A) Kara yolu
B) Deniz yolu
C) Demir yolu
D) Hava yolu

14. Aşağıdakilerden hangisi güvenlik kurallarına uygun yapılan bir yolculuğa örnektir?



15. Mustafa bir gün zor bir soruyu herkesten önce çözünce matematik öğretmeni onu ödüllendirmek istedi. En iyi not bile Mustafa için güzel bir ödül olmazdı. Çünkü her zaman pekiyi alıyordu. Öğretmeni, "Mustafa! Senin adın da Mustafa, benim adım da. Bu durum karışıklığa sebep oluyor. Bundan sonra senin adın 'Mustafa Kemal' olsun." dedi. İşte tarih boyunca unutulmayacak "Mustafa Kemal" adı böyle doğdu.

Bu metinde, Mustafa Kemal Atatürk'ün çocukluğu ile ilgili aşağıdakilerin hangisinden bahsedilmiştir?

- A) Ailesine olan düşkünlüğünden
- B) Asker olma isteğinden
- C) Başarılı bir öğrenci olduğundan
- D) Arkadaşlarına olan bağlılığından

16.



Acil yardım görevlilerinin görseldeki durumu yaşamaması için aşağıdakilerden hangisi yapılmalıdır?

- A) Acil çağrı merkezine doğru bilgi verilmelidir.
- B) Yaralı kişiler ambulans beklenmeden başka araçlarla taşınmalıdır.
- C) Kaza durumunda yaralıyı, çevresindeki kişiler tedavi etmelidir.
- D) Acil çağrı merkezi her gün sık sık aranmalıdır.

17. Acil durumlar için kendisine güvenlik kartı hazırlayan Beren, ev adresi bölümüne aşağıdaki bilgileri yazmıştır.

Ev Adresim	Yurtbey Mahallesi Özgün Sokak Sefa Apartmanı Daire: 3 ANKARA
---------------	--

Beren'in yazdığı bu adreste aşağıdaki bilgilerden hangisi eksiktir?

- A) Mahalle adı
- B) İlçe adı
- C) Şehir adı
- D) Bina adı

18. Ayyıldız ailesi evdeki kaynakları kullanırken mart ayında şubat ayına göre daha tasarruflu davrandı. Ailenin şubat ve mart aylarındaki fatura giderleri aşağıdaki tablolarda verilmiştir.

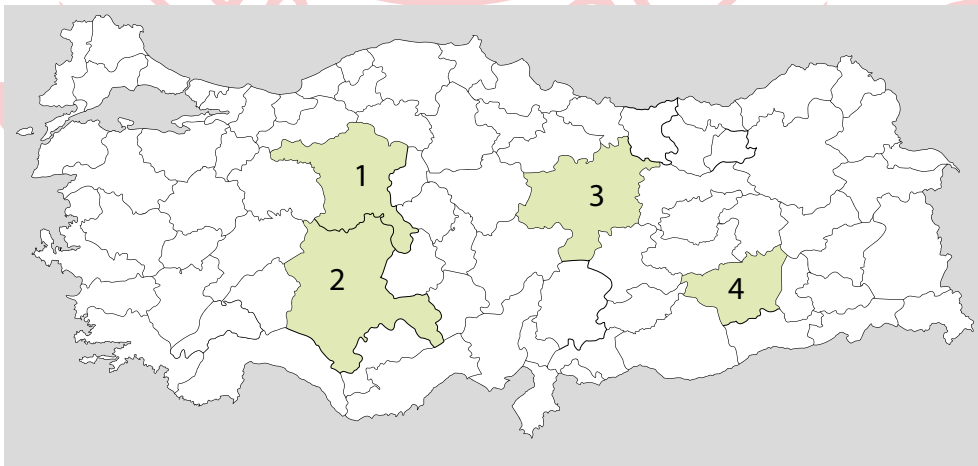
Şubat Ayı Fatura Giderleri		Mart Ayı Fatura Giderleri	
Elektrik	● ● ● ● ● ● ● ●	Elektrik	● ● ●
Su	● ● ●	Su	● ●
Doğal gaz	● ● ● ● ● ●	Doğal gaz	● ● ● ● ●
Temizlik malzemesi	● ●	Temizlik malzemesi	● ●

Not: Her "●" şekli 20 lirayı göstermektedir.

Buna göre, aşağıdakilerden hangisi doğrudur?

- A) Her iki ayda da en az harcamayı su faturasına yapmışlardır.
 B) Mart ayında temizlik malzemesi giderleri azalmıştır.
 C) En fazla tasarrufu doğal gaz giderlerinde yapmışlardır.
 D) Mart ayındaki elektrik giderleri şubat ayındaki elektrik giderlerinin yarısı kadar olmuştur.

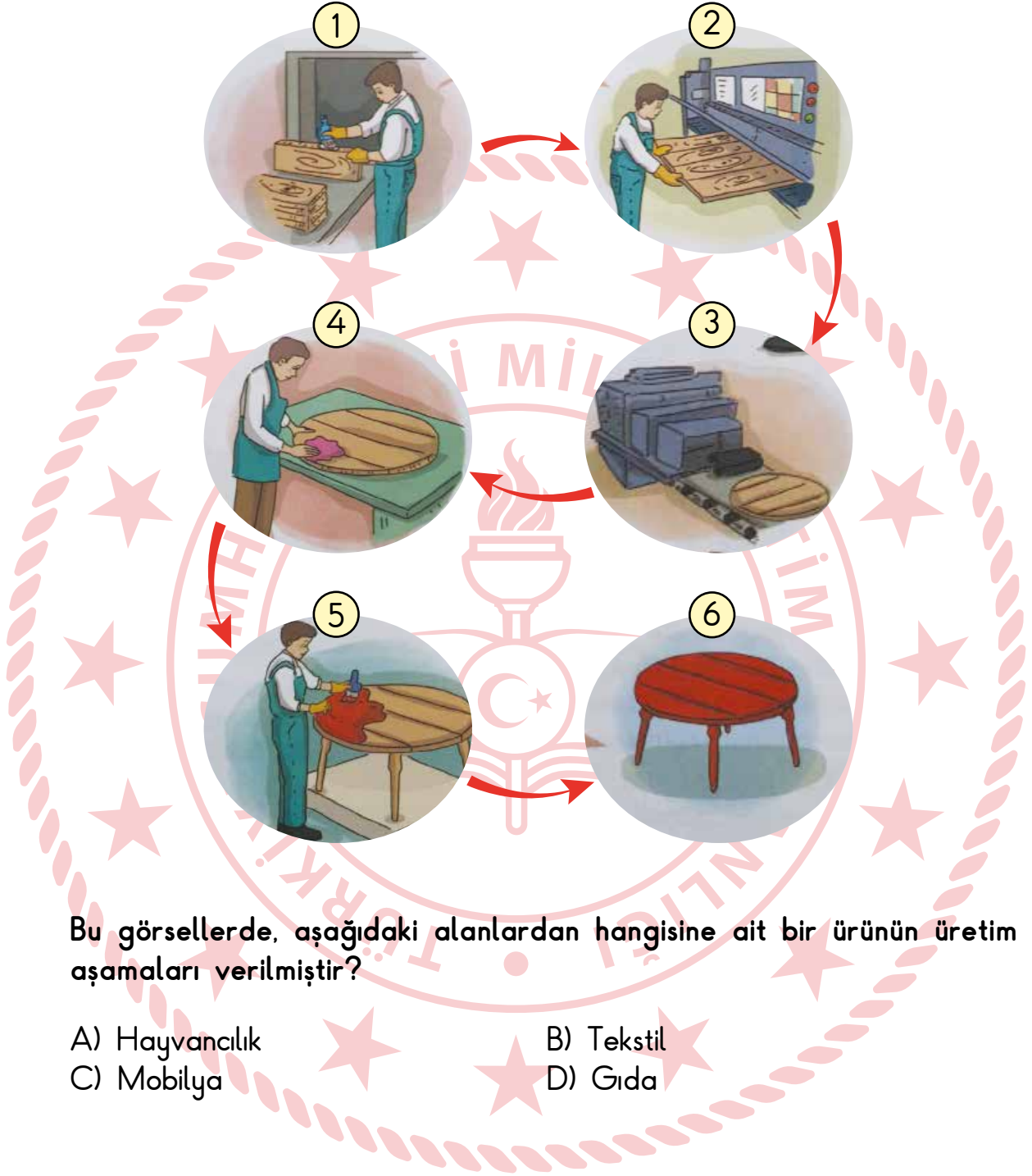
19. Aşağıdaki Türkiye haritasında bazı şehirler numaralanmıştır.



Buna göre, Türkiye haritası üzerinde numaralanmış şehirlerden hangisi ülkemizin başkentidir?

- A) 1 B) 2 C) 3 D) 4


20. Bir ürüne ait üretim aşamaları görsellerdeki gibidir.



Bu görsellerde, aşağıdaki alanlardan hangisine ait bir ürünün üretim aşamaları verilmiştir?

- A) Hayvancılık
C) Mobilya

- B) Tekstil
D) Gıda



TEST BİTTİ.
CEVAPLARINIZI KONTROL EDİNİZ.

SINAV BAŞLAMADAN AŞAĞIDAKİ UYARILARI MUTLAKA OKUYUNUZ!

1. Öğrenciler, sınav kurallarına ve salon görevlilerinin tüm uyarılarına uymak zorundadırlar.
2. Cevap kâğıdındaki kimlik bilgilerinin doğruluğunu kontrol ediniz. Bilgiler size ait değilse veya cevap kâğıdı kullanılmayacak durumdaysa sınav görevlilerine bildirin.
3. Sınav başladıktan sonra öğrencilerin salon görevlileri ve birbirleri ile konuşmaları, kalem, silgi vb. şeyleri istemeleri yasaktır.
4. Değiştirmek istediğiniz bir cevabı, yumuşak silgiyle cevap kâğıdını yıpratmadan temizce siliniz ve yeni cevabınızı kodlayınız.
5. Cevap kâğıdınızı imzalayınız.
6. Cevaplarınızı, cevap kâğıdındaki ilgili soru numarasını dikkate alarak yuvarlağın dışına taşırmadan kodlayınız.
7. Soru kitapçığının sayfalarını kontrol ediniz, baskı hatası var ise değiştirilmesini sağlayınız.
8. Soru kitapçığı üzerinde yapıp cevap kâğıdına işaretlenmeyen cevaplar değerlendirmeye alınmayacaktır.
9. Soru kitapçığının içindeki boş alanları çözümlerinizi için kullanabilirsiniz.
10. Cevaplamaya istediğiniz sorudan başlayabilirsiniz.
11. Cevabını bilmediğiniz sorular üzerinde fazla zaman kaybetmeden diğer sorulara geçiniz. Zamanınız kalırsa bu sorulara daha sonra dönebilirsiniz.
12. Sınav puanınızın hesaplanmasında 3 yanlış 1 doğru cevabınızı götürecektir. Alt testler bu şekilde hesaplanarak net puanlarının toplamı toplam net puanınızı verecektir.
13. Sınav bitiminde, soru kitapçığı ve cevap kâğıdını salon görevlilerine teslim ediniz.
14. Sınav sırasında çanta, cep telefonu, saat, kablosuz iletişim sağlayan cihazlar ve kulaklık, kolye, küpe, bilezik, yüzük, broş ve benzeri eşyalar ile her türlü elektronik ve/veya mekanik cihazları yanınızda bulundurmuyunuz. Bu araçları yanınızda bulundurmanız ve kopya çekmeye teşebbüs etmeniz hâlinde sınavınız geçersiz sayılacaktır.
15. Cevap kâğıdınızı sınav süresince hiçbir öğrencinin göremeyeceği şekilde önünüzde bulundurunuz.
16. Sınavınızın değerlendirilmesi aşamasında, toplu kopya tespiti veya başka adayın sınav evrakını kullanmanız durumunda sınavınız geçersiz sayılacaktır.
17. Soruları ve sorulara verdiğiniz cevapları kaydetmeyiniz, hiçbir şekilde dışarı çıkarmayınız.
18. Sınav evraklarını teslim etmeyenlerin sınavı geçersiz sayılacaktır.

SINAV GÖREVLİLERİNCE SINAV BAŞLAMADAN ÖNCE ÖĞRENCİLERE YAPILACAK SON UYARI!

- Soracağınız bir şey var mı? Varsa, şimdi sorunuz.
- Sınav başladıktan sonra sorularınıza cevap verilmeyecektir.
- Başlama zilini bekleyiniz.

Hepinize başarılar dileriz.

(Sınav görevlisi başlama ve bitiş saatini tahtaya yazacaktır.)

Bu kitapçığın her hakkı saklıdır. Hangi amaçla olursa olsun, kitapçığın tamamının veya bir kısmının Millî Eğitim Bakanlığı Ölçme, Değerlendirme ve Sınav Hizmetleri Genel Müdürlüğünün yazılı izni olmadan kopya edilmesi, fotoğraflarının çekilmesi, bilgisayar ortamına alınması, herhangi bir yolla çoğaltılması, yayımlanması veya başka bir amaçla kullanılması yasaktır. Bu yasağa uymayanlar, doğabilecek cezai sorumluluğu ve kitapçığın hazırlanmasındaki mali külfeti peşinen kabullenmiş sayılır.

09 HAZİRAN 2024 TARİHİNDE YAPILAN VEHBİ KOÇ VAKFI
KOÇ ÖZEL İLKOKULU VE ORTAOKULU SEVİYE TESPİT SINAVI
3. SINIF "A" KİTAPÇIĞI CEVAP ANAHTARI

TÜRKÇE

1. C
2. D
3. A
4. D
5. B
6. D
7. C
8. C
9. D
10. A
11. C
12. A
13. B
14. B
15. A
16. D
17. A
18. B
19. D
20. C

MATEMATİK

1. C
2. A
3. B
4. B
5. C
6. C
7. D
8. A
9. A
10. D
11. C
12. A
13. B
14. B
15. A
16. D
17. C
18. D
19. D
20. A

HAYAT BİLGİSİ

1. B
2. A
3. D
4. C
5. C
6. D
7. B
8. D
9. A
10. B
11. A
12. A
13. C
14. D
15. C
16. A
17. B
18. D
19. A
20. C

