

T.C.
Millî Eğitim Bakanlığı
Personel Genel Müdürlüğü
Unvan Değişikliği Sınavı 21. Grup Mobilya ve Dekorasyon Teknisyeni

79468: Meydana gelen iş kazasını işverenin, SGK'ye kaç gün içerisinde bildirmesi gerekir?

- A) 2
- B) 3
- C) 5
- D) 7
- E) 10

79469: Hangisinde bir cismin yan görünüşünün çizilebileceği düzlem doğru olarak verilmiştir?

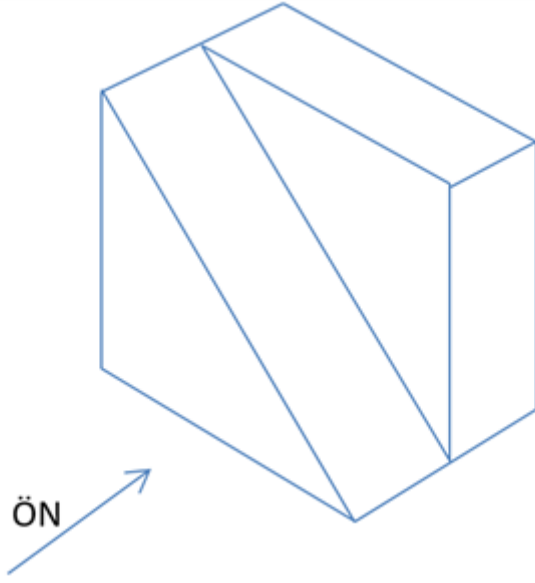
- A) Profil düzleminde
- B) Yatay düzlemde
- C) Alın düzleminde
- D) Profil ve yatay düzlemlerinde
- E) Alın ve yatay düzlemlerinde

79475: "Cisimlerin izdüşüm düzleminde oluşan üç boyutlu görüntüsüne - - - - denir."

Verilen tanımda boş bırakılan yere hangi ifade getirilmelidir?

- A) İzdüşüm
- B) Nokta
- C) Işın
- D) Profil
- E) Perspektif

79477:



Perspektifi verilen objenin ön görünüşü hangisidir?

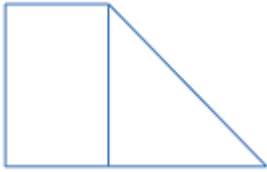
A)



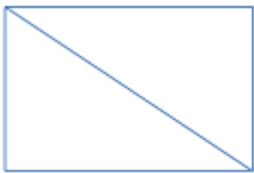
B)



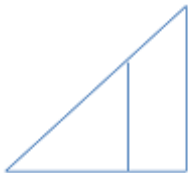
C)



D)



E)



79484: Hangisi doğrusal ölçülendirme komutudur?

- A) Dimangular
- B) Dimordinate
- C) Dimradius
- D) Dimlinear
- E) Dimscale

79486: Komut satırına komut yazıldıktan sonra klavyeden basılan tuş hangisidir?

- A) Ctrl
- B) Delete
- C) Esc
- D) Enter
- E) Alt+Ctrl

79487: Hangisi yapılan çizimi kaydetmek için kullanılır?

- A) Open
- B) New
- C) Exit
- D) Close
- E) Save

79488: Arc komutunun kullanılış amacı hangisidir?

- A) Yay çizmek
- B) Düz çizgi çizmek
- C) Daire çizmek
- D) Elips çizmek
- E) Eğri çizgi çizmek

79490: Bilgisayardaki kayıtlı bir dosyayı açmak için kullanılan komut hangisidir?

- A) Exit
- B) Open
- C) New
- D) Save
- E) Save As

79491: “Adını kesici lamasından alır. Kavisli iş parçası kesimi, kertme, zivana kesme, kaba şekillendirmede; iş parçalarının kaba en, boy ve kalınlık kesimlerinde kullanılan temel işlem makinesidir.” **şeklinde hangisi tanımlanmıştır?**

- A) Planya
- B) Kalınlık
- C) Daire testere
- D) Şerit testere
- E) El dekapaj

79493: Şerit testere makinesinde hangi işlem yapılamaz?

- A) Parça kenarına profil açma
- B) Boy kesme
- C) Zivana açma
- D) Genişlik çıkarma
- E) Dairesel kesme

79495: Hangisi daire testere makinesinin kısımlarından biri değildir?

- A) Tabla
- B) Klavuz düzeni
- C) Siper
- D) Gövde
- E) Arabalı tabla

79496: Şerit testere makinesinde çalışma güvenliği ile ilgili hangisi yanlıştır?

- A) Çalışırken eller testere lamasına 10 cm’den fazla yaklaştırılmaz.
- B) Kısa ve dar parçalar daima itme çubuğu yardımıyla kesilir.
- C) Daima yapılacak işe uygun özellikte bilenmiş ve çaprazlı testere kullanılmalıdır.
- D) Uzun ve ağır iş parçaları kesmek için uygun sehpa ya da yardımcı personel ile çalışılmalıdır.
- E) Kesme işlemi yaparken testere sıkışması durumunda parça geri çekilmelidir.

79498: Baş kesme makinesinde hangi işlem yapılır?

- A) Boy kesme
- B) Delik delme
- C) Zivana açma
- D) Kordon açma
- E) Eğmeçli kesim yapma

79502: Hangisi freze makinesinde kullanılan kesicilerden biri değildir?

- A) Top bıçaklar
- B) Yıldız bıçaklar
- C) Yaprak bıçaklar
- D) Grup bıçaklar
- E) Şerit testere

79504: Rulmanlı profil bıçağı takılabilen mil hangisidir?

- A) Kısa
- B) Düz
- C) Uzun
- D) Tek
- E) Vidalı

79505: Freze makinesinde otomatik sürücü ile çalışma hangisinde azalmaya yol açar?

- A) İş kazaları
- B) Kalite
- C) Üretim
- D) Fire oranı
- E) İşlem süresi

79507: Hangisi yüzey şekillendirme işlemlerinde kullanılan bir makine değildir?

- A) Yatay delik
- B) Dikey freze
- C) Yatay freze
- D) El freze
- E) CNC

79508: Hangi makine ile kapak yüzeyinde şekillendirme yapılabilir?

- A) Planya
- B) Dikey delik
- C) Kalınlık
- D) Dikey freze
- E) Şerit testere

79510: Hangisi en birleştirme tekniklerinden biri değildir?

- A) Düz
- B) Lambalı
- C) Kınışlı
- D) Kavelalı
- E) Boy

79511: "Tutkal sürülen yüzey ne kadar çok olursa yapışma da o kadar sağlam olur."

Buna göre birleştirme tekniklerinden hangisinde yapışma daha zayıf olur?

- A) Kınışlı en birleştirme
- B) Kavelalı en birleştirme
- C) Yabancı çıtalı en birleştirme
- D) Düz en birleştirme
- E) Lambalı en birleştirme

79512: Birleştirme tekniklerinden hangisi boy birleştirme tekniği değildir?

- A) Çivili
- B) Zıvanalı
- C) Yabancı zıvanalı
- D) Kavelalı
- E) Kırılmaçkuyruğu

79514: Merdiven küpeştelere boy eklemesinde en çok kullanılan boy birleştirme tekniği hangisidir?

- A) Zıvanalı
- B) Kavelalı
- C) Kırılmaçkuyruğu
- D) Geçmeli
- E) Lambalı

79516: Minifix bağlantısı için hangisi söylenemez?

- A) Yıldız ve düz tornavida ile sıkılır.
- B) Plastik tapaya ihtiyaç duyulur.
- C) İç ve dış tırnaklar sağlamlığı artırır.
- D) Mobilya köşelerinin kayma olasılığı yoktur.
- E) Sabit mobilya yapımında kullanılır.

79517: Hangisi köşe bağlantı elemanlarından biri değildir?

- A) Minifix
- B) Çektirme
- C) Montebent
- D) Gövde (Trapez) bağlantı
- E) Ay bağlantı elemanı

79519: “ - - - en az iki mobilya ünitesini veya mobilya parçasını ya da bunlardan başka bir eşyayı mekanik bir işlem sonucu birbirlerine çektirerek bağlama yeteneği olan elemanlar veya mekanizmalardır.”

Verilen tanımda boş bırakılan yere hangisi getirilmelidir?

- A) Kavela
- B) Bağlantı elamanları
- C) Tutkal
- D) Karyola menteşesi
- E) Rafix

79520:



Görseldeki köşe bağlantı gerecinin adı hangisidir?

- A) Karyola menteşesi
- B) Rafix
- C) Çektirme
- D) Ay bağlantı
- E) Minifix

79523: Hangisi çekmece elemanlarından biri değildir?

- A) Ayak
- B) Ön kayıt
- C) Yan kayıt
- D) Altlık
- E) Arka kayıt

79524: “Masa, dolap, büfe ve etajer gibi mobilyalarda dışarı doğru çekilip içeri doğru sürülebilen üstü açık kutu biçimindeki gözlere - - - - denir.”

Verilen tanımda boş bırakılan yere hangisi getirilmelidir?

- A) Kapak
- B) Dolap
- C) Çekmece
- D) Baza
- E) Taç

79525: Hangisi çekmecelerin kullanım amaçlarından biri değildir?

- A) Eşyaları toz ve kirden korumak
- B) Maliyeti artırmak
- C) Eşyaları düzenli bir yerde toplamak
- D) Mobilyanın görünümüne zenginlik katmak
- E) Eşyalara erişimi kolaylaştırmak

79527: Hangisi çekmecelerde kullanılan aksesuarlardan biri değildir?

- A) Kilit
- B) Çekmece rayı
- C) Kulp
- D) Menteşe
- E) Minifix

79528: Raylı çekmecenin rahat bir şekilde çalışması için çekmece genişliğinin, dolap iç boşluğundan kaç mm küçük yapılması gerekir?

- A) 2
- B) 5
- C) 18
- D) 25
- E) 50

79529: "Genellikle mobilyaların önünü kapatan, gerektiği zaman açılıp kapanabilen, herhangi bir eşyanın saklanıp görünmemesini sağlayan mobilya elemanlarına - - - - denir."

Verilen tanımda boş bırakılan yere hangisi getirilmelidir?

- A) Masa
- B) Çekmece
- C) Raf
- D) Baza
- E) Kapak

79530: Hangisi, yapımında kullanılan malzemeye göre taç çeşitlerinden biri değildir?

- A) Masif ağaçtan yapılan taçlar
- B) Mdf den yapılan taçlar
- C) Poliüretandan yapılan taçlar
- D) Pvc türevlerinden yapılan taçlar
- E) Kartondan yapılan taçlar

79532: " - - - - , dolapların alt tablasıyla yer arasında kalan bölümüdür. Dolapların alt açıklıklarını kapamaya yarar. Ayrıca mobilyanın zemine iyi oturmasını sağlayan gereçlerden biridir."

Verilen tanımda boş bırakılan yere hangisi getirilmelidir?

- A) Baza
- B) Taç
- C) Çekmece
- D) Kapak
- E) Dolap

79533: Hangisi cumba kaplama nedenlerinden biri değildir?

- A) Cumbaların kötü görüntüsünü gidermek
- B) Tabla kenarlarının sağlamlığını artırmak
- C) Tablaları nemin olumsuz etkilerinden korumak
- D) Tabla kenarlarına değerli bir masif yapıştırarak değerini artırmak
- E) Maliyetini artırmak

79534: Hangisi günümüzde mobilya ve iç mekân tasarımı alanında kullanılan başlıca tutkal çeşitlerinden biri değildir?

- A) Plastik tutkal
- B) Üre-formaldehit tutkalı
- C) Kontak tutkalı
- D) Hot-melt tutkalı
- E) Alçı

79536:

1. Yapıştırma işlemine öncelikle işin bitiminden sonra görünmeyecek kenardan başlanır.
2. Masif fazlalıkları perdah yapılarak yüzeyle aynı seviyeye getirilir.
3. Parçanın diğer kenarlarına masif yapıştırılır.
4. Sıkılan masiflerin fazlalıkları perdah edilir.

Verilen tabla cumbasına masif yapıştırma işlem basamakları hangisinde doğru sıralanmıştır?

- A) 4,2,3,1
- B) 1,2,3,4
- C) 2,3,4,1
- D) 4,3,2,1
- E) 1,4,2,3

79538: Hangisi suni plaka yüzeylerine daha kaliteli bir görünüm kazandırılması için yapıştırılan kaplama çeşitlerinden biri değildir?

- A) PVC
- B) Laminant
- C) Melamin
- D) Ağaç
- E) Boya

79539: Hangisi şartnamede bulunması gereken maddelerden biri değildir?

- A) Yapım teknikleri
- B) Üst yüzey işlemleri
- C) İşin yapım süresi
- D) Ürünü hangi ustanın yapacağı
- E) Kullanılan malzeme özelliği

79541: “Düşünülen veya mevcut bir cismin (eşya, makine, mekân vb.) teknik çizim aletleri kullanmadan, serbest elle çizilen resimdir.” **şeklinde hangisi tanımlanmıştır?**

- A) Kroki
- B) Proje
- C) Serbest çizim
- D) Kara kalem çizimi
- E) Plan

79543: 150x100 cm ölçülerindeki tabla parçasının toplam metrekare ölçüsü hangisidir?

- A) 0,015
- B) 0,15
- C) 1,5
- D) 15
- E) 150

79545: Hangisi malzeme listesini oluşturan başlıklardan biri değildir?

- A) Malzeme adı ve özelliği
- B) Birim
- C) Miktar
- D) Birim fiyatı
- E) İşçilik

79546: Hangisi tek mobilyalardan biri değildir?

- A) Komodin
- B) Genç odası
- C) Orta sehpa
- D) Ayna çerçevesi
- E) Fiskos sehpa

79548: Çalışma masası grup mobilyalarından hangisine aittir?

- A) Salon
- B) Yatak odası
- C) Yemek odası
- D) Genç odası
- E) Oturma odası

79549: Yatak odası mobilyalarında mobilya parçalarından hangisi bulunmaz?

- A) Komodin
- B) Karyola
- C) Kardolabı (Gardırop)
- D) Şifonyer
- E) Yemek masası

79551: “Renk vermek veya dış etkilerden korumak için eşyanın üzerine sürülen renkli veya renksiz maddeye - - - - denir.”

Verilen tanımda boş bırakılan yere hangisi getirilmelidir?

- A) Boya
- B) Selülozik tiner
- C) Sertleştirici
- D) Sentetik tiner
- E) Gamlak cilası

79553: Hangisi vernik uygulama yöntemlerinden biri değildir?

- A) Üstüğü ile uygulama
- B) Fırça ile uygulama
- C) Rulo ile uygulama
- D) Tabanca ile uygulama
- E) Daldırma yöntemi ile uygulama

79555: Hangisi ürün tasarımında ekonomiyi etkileyen faktörlerden biri değildir?

- A) Maliyetler
- B) Malzeme
- C) İşçilik
- D) Kâr
- E) Renk

79556: Hangisi temel tasarımı etkileyen faktörlerden biri değildir?

- A) Estetik
- B) Fonksiyon
- C) Ekonomi
- D) Mevsim
- E) Eylem analizi

T.C.
Millî Eğitim Bakanlığı
Personel Genel Müdürlüğü
Unvan Değişikliği Sınavı 21. Grup Mobilya ve Dekorasyon Teknisyeni
Cevap Anahtarı

ID NO	CEVAP
79468	B
79469	A
79475	E
79477	D
79484	D
79486	D
79487	E
79488	A
79490	B
79491	D
79493	A
79495	B
79496	E
79498	A
79502	E
79504	A
79505	A
79507	A
79508	D
79510	E
79511	D
79512	A
79514	C
79516	E
79517	C

ID NO	CEVAP
79519	B
79520	D
79523	A
79524	C
79525	B
79527	D
79528	D
79529	E
79530	E
79532	A
79533	E
79534	E
79536	B
79538	E
79539	D
79541	A
79543	C
79545	E
79546	B
79548	D
79549	E
79551	A
79553	A
79555	E
79556	D