

KİTAPÇIK TÜRÜ

A



12. GRUP:
TEKNİKER

T.C.
MİLLÎ EĞİTİM BAKANLIĞI
ÖLÇME, DEĞERLENDİRME VE SINAV
HİZMETLERİ GENEL MÜDÜRLÜĞÜ

İÇİŞLERİ BAKANLIĞI PERSONEL GENEL MÜDÜRLÜĞÜ
UNVAN DEĞİŞİKLİĞİ SINAVI
14 KASIM 2021

Adayın Adı ve Soyadı :

Aday Numarası (T.C. Kimlik No) :


ALANLAR	TOPLAM SORU SAYISI	SINAV SÜRESİ (DAKİKA)
Görevin niteliği ile ilgili konular	70	80

ADAYLARIN DİKKATİNE!

1. Sınav saat **10.00**'da başlayacaktır. Sınav başladıktan sonra ilk **30** dakika tamamlanmadan dışarı çıkmayınız.
2. Sınav sırasında çanta, cep telefonu, saat, kablosuz iletişim sağlayan cihazlar ve kulaklık, kolye, küpe, bilezik, yüzük, broş ve benzeri eşyalar ile her türlü elektronik ve/veya mekanik cihazları yanınızda bulundurmuyunuz. Bu araçları yanınızda bulundurmanız ve kopya çekmeye teşebbüs etmeniz hâlinde sınavınız geçersiz sayılacaktır.
3. Başvuru şartlarını taşımadığınız hâlde sınava girmeniz, kopya çekmeniz, başka adayın sınav evrakını kullanmanız, geçerli kimlik belgenizi ve sınav giriş belgenizi ibraz edemediğiniz durumlarda sınavınız geçersiz sayılacaktır.
4. Sınavın değerlendirilmesi aşamasında, bilgisayar ortamında yapılan kopya analizinde sistemin ikili ve/veya toplu kopya tespiti hâlinde sınavınız geçersiz sayılacaktır.

CEVAP KÂĞIDI VE SORU KİTAPÇIĞI İLE İLGİLİ AÇIKLAMALAR

1. Cevap kâğıdınızdaki bilgilerin doğruluğunu kontrol ediniz ve cevap kâğıdınızı siyah kurşun kalemle imzalayınız.
2. Kitapçık türünüzü cevap kâğıdınızdaki ilgili alana kodlayınız. Değerlendirme işlemleri cevap kâğıdındaki kodlamalara göre yapıldığından eksik ya da hatalı kodlamalarda sorumluluk size ait olacaktır.
3. Cevap kâğıdı üzerinde kodlamalarınızı siyah kurşun kalemle yapınız.
4. Değiştirmek istediğiniz bir cevabı, yumuşak silgiyle cevap kâğıdını örselemeden temizce siliniz ve yeni cevabınızı kodlayınız.
5. Soru kitapçığının sayfalarını kontrol ediniz, baskı hatası var ise değiştirilmesini sağlayınız.
6. Soru kitapçığının ön yüzündeki ilgili yerlere ad, soyad ve T.C. kimlik numaranızı yazınız.
7. Her sorunun **DÖRT** seçeneğinden sadece biri doğrudur. Doğru seçeneği, cevap kâğıdınızın ilgili sütununa soru numarasını dikkate alarak yuvarlağın dışına taşırmadan kodlayınız. **Soru kitapçığı üzerinde yapılan cevaplandırmalar dikkate alınmayacaktır.**
8. **Yanlış cevaplarınız dikkate alınmadan sadece doğru cevaplarınız üzerinden puanlama yapılacaktır.**
9. Soruları ve sorulara verdiğiniz cevapları, yanınızda götürmek amacıyla kaydetmeyiniz; hiçbir şekilde dışarı çıkarmayınız.
10. Sınav bitiminde, soru kitapçığı ve cevap kâğıdını salon görevlilerine teslim ediniz.



BAŞLAYINIZ DENMEDEN SORU KİTAPÇIĞINI AÇMAYINIZ.

1. Toplumun allayıp pullayıp bize sunduğu tercihler birden bizim önceliklerimiz hâline gelebilir. Bu durumla sadece yetişkinlik döneminde değil, çocukluktan itibaren karşı karşıya kalabiliriz. İçine doğduğumuz aile kendi doğruları ile bizi inşa etmeye çalışır, ardından okul çağı ile birlikte aileler der ki: "Dur, şimdi sırası değil; önce engelleri aş, sonra bir ara kendini keşfedersin!" Böylelikle yaşımız ilerler, hayatta roller kazanırız fakat bir türlü kendimiz olamayız, olmadıkça da derin bir mutsuzluğun içinde hapsolürüz.

Bu parçada yazarın asıl yakındığı durum aşağıdakilerden hangisidir?

- A) Aile bireylerinin, çocuklarını yanlış yönlendirmelerinden
- B) Yetiştirilme tarzımızın toplumsal farkındalığımızı ortadan kaldırmasından
- C) Yanlış tercihlerimizin hayatımızı olumsuz yönde etkilemesinden
- D) Yaşamımızın, bizim seçimlerimizle değil, bize dayatılanlarla şekillenmesinden

2. Her geçen gün yeni buluntulara ulaşıyor Göbeklitepe'de. Ancak bir iş birliğiyle taşınabilecek yaklaşık beş ton ağırlığında dikili taşlar, üzerindeki yabancı hayvan kabartmaları, simit şeklindeki taş halkalar, maskeler üslup ve ustalık açısından titizlikle bir bir inceleniyor. Tarımı henüz keşfetmemiş olan bu avcı-toplayıcıların nasıl böylesi gelişmiş bir ustalığa ulaştıkları henüz anlaşılabilmiş değil. Kaldı ki onu özel yapan sadece mimarisi, dağın tepesinde kurulmuş olması da değil. Uzmanlara göre Göbeklitepe'yi asıl önemli kılan yalnızca tapınmak veya ritüel etkinlikler için oluşturulmuş olması.

Bu parçada "Göbeklitepe" ile ilgili aşağıdakilerden hangisine ulaşılamaz?

- A) Bölgede yaşayanların sanatta oldukça ileri bir düzeye erişmiş olduklarına
- B) Avcı-toplayıcıların küçük topluluklar hâlinde bir hayat sürdürdüklerine
- C) Anma, kutsama, cenaze gibi önemli törenlerde buluştukları bir yer olma özelliği taşıdığına
- D) Dikili taşların o bölgeye yerleştirilmesinin bir sosyal organizasyonun varlığını gösterdiğine

3. Yazarları, hayatı ve eserleriyle çerçeveleyerek anlatmayı hiç sevmem. Bence yazarlar öldükten sonra da yaşamaya devam eden insanlardır. Yaşadıkları sürece bugün bana, yarın bir başkasına aynı kılıkta görünmezler. Yeryüzündeki hayatlarının en renksiz, en günlük maceraları bile başka başka anlamlar içerir. Hani ışığa tutulunca merceğinde türlü renklerin oluştuğu türlü biçimlerde dürbüne benzer oyuncaklar vardır ya. İşte hepimiz yazarları böyle bir dürbünden seyrederez ve elimizin her titreyişinde de başka bir manzara ile karşılaşmaktan hayrete düşeriz.

Bu parçadaki gibi düşünen birinin aşağıdakilerden hangisini söylemesi beklenir?

- A) Yazarlar, yüzyıllar geçse de okurlarının gözünde hep aynı kalır.
- B) Yazarlara ait eserlerin, yaşadıkları çağ içerisinde değerlendirilmesi gerekir.
- C) Yazarlar, farklı dönemler içerisinde canlılıklarını devam ettirip herkesçe değişik algılanır.
- D) Yazarların, eserlerindeki düşünceler zaman içerisinde önemini yitirir.

4. Sanatçının yeni kitabında - - - - bir anlatım hâkim olmuş. Bu durum eserin okurdaki etkisini azaltmıştır. Sanatçı kullandığı sözcükleri - - - - seçtiği için sözcükler âdetâ kitabın içerisinde kendilerine anlam bulmak için çabalamaktadırlar.

Bu parçada boş bırakılan yerlere anlam akışına göre sırasıyla aşağıdakilerden hangileri getirilmelidir?

- A) cansız – gelişigüzel
- B) özgün – kılı kırk yararcasına
- C) eleştirel – süzgeçten geçirerek
- D) sıradan – özenle

5. Bir insan, mutluluğu kendinde değil de kendi dünyası dışında bulmaya çalışırsa ona asla ulaşamaz.

Bu cümleye anlamca aşağıdakilerden hangisi en yakındır?

- A) İnsan, küçük mutluluklarla yetinmemeli, hep yeni mutlulukların peşinde olmalıdır.
 B) Gerçek mutluluk, hayallerindeki çiçeklerden bir demet yapabilme sanatıdır.
 C) Mutluluğu elde etmenin çaresi onu çevreyle paylaşmaktır çünkü mutluluk ikiz doğar.
 D) İnsanın mutlu olmasını sağlayan dış dünya değil, iç dünyasıdır.

6. Aşağıdaki cümlelerin hangisinde “için” sözcüğü “- den dolayı, - den ötürü” anlamında kullanılmıştır?

- A) Çevre bilincini artırmak için eserlerinde plastik ve metal atıklar kullanan sanatçılarımız var.
 B) Yabani hayvanların güvenli geçişi için bu üst geçit yapılmıştı.
 C) Bu şehirde onunla ilk konuşan insan olduğu için ona yüreğini açmıştı.
 D) Aziz Sancar, Nobel Ödülü kapsamında aldığı parayı öğrenim gören öğrenciler için harcıyor.

7. Aşağıdaki cümlelerin hangisinde büyük harflerin kullanımıyla ilgili yazım yanlışı vardır?

- A) Dünyanın en önemli müzelerinden biri olan Zeugma Mozaik müzesi Gaziantep'te bulunuyor.
 B) Cengiz Dağcı'nın, Yurdunu Kaybeden Adam adlı eserinde yazarın hayatından pek çok ize rastlayabilirsiniz.
 C) Zeytin ve zeytinyağı üreticileri, Milas Zeytin Hasat Şenliği'ne bu yıl da çok büyük ilgi gösteriyor.
 D) Türkiye'nin kuzeydoğu bölgelerinde görülen yağış miktarı, İç Anadolu'ya göre oldukça fazladır.

8. Dünya nüfusu her geçen yıl artmaktayken () kullandığımız doğal kaynaklar da sınırlı sayıda-yken bize düşen görev ne () Peki () söyleyeyim () Elimizdeki var olan kaynakları korumak ve atıkları geri dönüşüme kazandırmak.

Bu parçada ayrıca gösterilen yerlere sırasıyla aşağıdaki noktalama işaretlerinden hangileri getirilmelidir?

- A) (;) (!) (,) (;)
 B) (,) (?) (,) (:)
 C) (;) (?) (:) (.)
 D) (,) (,) (;) (:)

9. Hayatımda kimseye haksızlık ve fenalık etmemeye çalıştım. Ben başkalarına yapılan haksızlığa bile kendimeymiş gibi üzölmüş bir insanım.

Bu parçadaki sözcük türlerinden hangisi sayıca diğerlerinden fazladır?

- A) Zamir
B) Edat
C) Bağlaç
D) Fiil

10. Masamda Fazıl Hüsnü Dağlarca'nın Almancaya çevrilmiş şiirleri duruyor. "Yaşarım / Bir daha / Okusa beni / Biri daha" diye yazmış bana ithaf yazısında. Ne kadar güzel özetliyor sanatçıların okundukları, seyredildikleri, dinlenildikleri sürece birçok kez var olmanın sevincini.

Bu parçada aşağıdaki ses olaylarından hangisinin tek örneği vardır?

- A) Ünlü düşmesi
B) Ünlü daralması
C) Ünsüz benzeşmesi
D) Ünsüz yumuşaması

11. Mustafa Kemal, Vatan ve Hürriyet Cemiyetini aşağıdaki şehirlerin hangisinde kurmuştur?

- A) Sofya
B) Şam
C) İstanbul
D) Erzurum

12. Rusya'da Çarlık Rejiminin yıkılmasına ve Rusya'nın I. Dünya Savaşı'ndan çekilmesine sebep olan gelişme aşağıdakilerden hangisidir?

- A) Bolşevik İhtilali
B) Trablusgarp Savaşı
C) Wilson İlkelerinin yayımlanması
D) Versay Antlaşması'nın imzalanması

13. Anadolu'daki işgallere karşı Türk halkı tarafından kurulan silahlı direniş birliklerine verilen ad aşağıdakilerden hangisidir?

- A) Etniki Eteryä
B) Felah-ı Vatan
C) Misak-ı Millî
D) Kuvay-ı Millîye

14. Aşağıdakilerden hangisi Büyük Millet Meclisinin ayaklanmalara karşı aldığı önlemlerden biri değildir?

- A) Hıyanet-i Vataniye Kanunu'nun çıkarılması
B) İstiklal Mahkemelerinin kurulması
C) Amasya Genelgesi'nin yayımlanması
D) Halkı doğru bilgilendirmek amacıyla Anadolu Ajansının kurulması

15. Tekâlif-i Millîye Emirlerinin çıkarılma amacı aşağıdakilerden hangisidir?

- A) Büyük Millet Meclisinin açılmasını sağlamak
- B) Türk ordusunun ihtiyaçlarını karşılamak
- C) İstanbul Hükûmeti'nin desteğini kazanmak
- D) Millî cemiyetleri birleştirmek

16. Lozan Barış Antlaşması ile savaş tazminatı olarak Karaağaç kasabasını Türkiye'ye bırakan devlet aşağıdakilerden hangisidir?

- A) Sovyet Rusya
- B) İran
- C) Bulgaristan
- D) Yunanistan

17. "Din ve mezhep herkesin vicdanına kalmış bir iştir. Hiçbir kimse hiçbir kimseyi ne bir din, ne de mezhep kabulüne zorlayabilir."

Atatürk'ün bu sözü aşağıdaki ilkelerden hangisi ile ilişkilendirilebilir?

- A) Laiklik
- B) Cumhuriyetçilik
- C) Milliyetçilik
- D) Devletçilik

18. Aşağıdaki kanunlardan hangisi sağlık ile ilgilidir?

- A) Kabotaj Kanunu
- B) Tevhid-i Tedrisat Kanunu
- C) Umumi Hıfzıssıha Kanunu
- D) Takrir-i Sükûn Kanunu

19. Aşağıdakilerden hangisi Serbest Cumhuriyet Fırkasının kurucusudur?

- A) Kazım Karabekir
- B) Fethi Okyar
- C) İsmet İnönü
- D) Adnan Adıvar

20. Musul sorunu aşağıdakilerden hangisi ile çözümlenmiştir?

- A) 1920 Sevr Antlaşması
- B) 1921 Moskova Antlaşması
- C) 1922 Mudanya Ateşkes Antlaşması
- D) 1926 Ankara Antlaşması

21. T.C. Anayasası'na göre kişisel verilerin korunmasına ilişkin esas ve usuller aşağıdakilerden hangisi ile düzenlenir?

- A) Kanun
- B) Tüzük
- C) Genelge
- D) Yönetmelik

22. T.C. Anayasası'na göre düzeltme ve cevap yayımlanmazsa, yayımlanmasının gerekip gerekmediğine hâkim tarafından ilgilinin müracaat tarihinden itibaren en geç kaç gün içerisinde karar verilir?

- A) Üç
- B) Beş
- C) Yedi
- D) On

23. T.C. Anayasası'na göre "suç ve cezalara ilişkin esaslar" ile ilgili aşağıdakilerden hangisi yanlıştır?

- A) Ceza sorumluluğu şahsidir.
- B) Genel müsadere cezası verilebilir.
- C) Suçluluğu hükmen sabit oluncaya kadar, kimse suçlu sayılamaz.
- D) Hiç kimse, yalnızca sözleşmeden doğan bir yükümlülüğü yerine getirememesinden dolayı özgürlüğünden alıkonulamaz.

24. T.C. Anayasası'na göre aşağıdaki hükümlerden hangisi siyasi haklar ve ödevler ile ilgilidir?

- A) Devlet, başarılı sporcuyla korur.
- B) Çalışma, herkesin hakkı ve ödevidir.
- C) Özel teşebbüsler kurmak serbesttir.
- D) Vatan hizmeti, her Türk'ün hakkı ve ödevidir.

25. T.C. Anayasası'na göre "seçimlerin geriye bırakılması ve ara seçimler" ile ilgili aşağıdakilerden hangisi yanlıştır?

- A) Ara seçim, her seçim döneminde bir defa yapılır.
- B) Genel seçimlere bir yıl kala, ara seçimi yapılamaz.
- C) Genel seçimden otuz altı ay geçmedikçe ara seçime gidilemez.
- D) Türkiye Büyük Millet Meclisi üyeliklerinde boşalma olması hâlinde, ara seçime gidilir.

26. T.C. Anayasası'na göre Yüksek Seçim Kurulu kaç asıl ve kaç yedek üyeden oluşur?

- A) Yedi asıl, dört yedek
- B) Beş asıl, üç yedek
- C) Dört asıl, yedi yedek
- D) Üç asıl, beş yedek

27. T.C. Anayasası'na göre meclis çalışmalarına özürsüz veya izinsiz olarak bir ay içerisinde toplam kaç birleşim günü katılmayan milletvekilinin milletvekilliğinin düşmesine karar verilebilir?

- A) İki
- B) Üç
- C) Dört
- D) Beş

28. T.C. Anayasası'na göre ödenek ve yollukların en çok kaç aylığı önceden ödenebilir?

- A) Üç
- B) Dört
- C) Beş
- D) Altı

29. T.C. Anayasası'na göre kanun tekliflerinin Türkiye Büyük Millet Meclisinde görüşülme usul ve esasları aşağıdakilerden hangisi ile düzenlenir?

- A) Kanun
- B) İhtüzük
- C) Genelge
- D) Cumhurbaşkanlığı Kararnamesi

30. T.C. Anayasası'na göre Anayasa Mahkemesinde doğrudan doğruya iptal davası açma hakkı, iptali istenen kanun, Cumhurbaşkanlığı kararnamesi veya içtüzüğün Resmî Gazete'de yayımlanmasından başlayarak kaç gün sonra düşer?

- A) On beş
- B) Otuz
- C) Kırk beş
- D) Altmış

31. Aşağıdaki sayılardan hangisi bir irrasyonel sayıdır?

- A) $\sqrt{\frac{7}{28}}$
- B) $\sqrt{1,69}$
- C) π
- D) $5,2\bar{6}$

32. Aşağıdakilerden hangisi 2^2 ifadesi ile çarpılırsa sonuç 2^{-3} olur?

- A) 2^5
- B) 2^{-5}
- C) $(-2)^{-1}$
- D) 2^{-1}

33. $\frac{\sqrt{48} \cdot \sqrt{54}}{\sqrt{18}}$ işleminin sonucu aşağıdakilerden hangisidir?

- A) 7
- B) $6\sqrt{2}$
- C) 12
- D) $8\sqrt{3}$

34. $\frac{\left(\frac{3}{4} + \frac{2}{7} + \frac{7}{8}\right) - \left(\frac{3}{4} + \frac{2}{7} - \frac{1}{8}\right)}{\frac{36}{20} + \frac{2}{10}}$ işleminin sonucu

aşağıdakilerden hangisidir?

- A) $\frac{1}{2}$ B) 1 C) $\frac{3}{2}$ D) 2

35. $x = 0,0\bar{3}$
 $y = 0,\bar{4}$

olduğuna göre $\frac{8x}{3y}$ ifadesinin değeri aşağıdakilerden hangisidir?

- A) $0,\bar{2}$ B) 0,2 C) $0,0\bar{2}$ D) 0,02

36. Bir bilgisayar programının çalışma algoritması aşağıda verilen adımlardan oluşmaktadır.

1. adım : Sisteme iki sayı gir.
2. adım : Bu sayıları toplayıp 3. adıma geç.
3. adım : Bu toplamın karekökünü al. Sonuç; bir tam sayı ise 5. adıma, bir tam sayı değilse 4. adıma geç.
4. adım : Elde edilen sonucun en yakın olduğu tam sayıyı bulup 5. adıma geç.
5. adım : Elde edilen tam sayıyı ekrana yaz.

Bu programa; Aysun 23 ve 25 sayılarını, Berk ise 27 ve 54 sayılarını girmiştir.

Buna göre 5. adımda Aysun ve Berk'in girdiği sayılar için ekranda yazan sonuçlar aşağıdakilerden hangisidir?

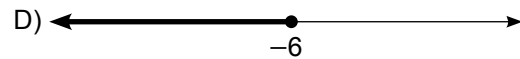
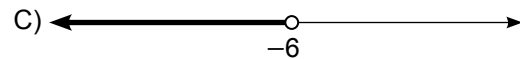
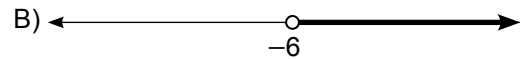
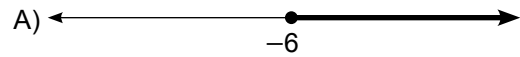
	Aysun	Berk
A)	6	8
B)	6	9
C)	7	8
D)	7	9

37. $\frac{x+2}{3} - \frac{x+1}{4} = 2$ denklemini sağlayan x değeri kaçtır?

- A) 13 B) 19 C) 23 D) 29

38. $-4x - 3 > 21$ eşitsizliği veriliyor.

Buna göre aşağıdaki sayı doğrularında gösterilen koyu çizgilerden hangisi verilen eşitsizliğin çözüm kümesidir?



39. "TERMOMETRE" kelimesinin harfleri ile A kümesi, "MERT" kelimesinin harfleri ile B kümesi oluşturulmuştur.





Buna göre aşağıdakilerden hangisi yanlıştır?

- A) $s(A \cup B) = 5$ B) $s(A \cap B) = 4$
C) $s(A \setminus B) = 1$ D) $s(A \times B) = 9$

40. n kenarlı bir çokgenin içine bir k doğal sayısı yazıldığında bu çokgen sembolünün değeri EKOK (n, k)'ya eşit olmaktadır.

Örneğin; $\square 6 = \text{EKOK}(4, 6) = 12$ 'dir.

Buna göre aşağıdaki sembollerden hangisinin değeri diğerlerinden daha büyüktür?

- A)  B)  C)  D) 

41. 550 kişilik bir okuldaki öğrencilerin $\frac{5}{11}$ 'i erkektir. Bu okuldaki kız öğrencilerin ise yarısından fazlası yüzme bilmemektedir.

Bu okulda yüzme bilmeyen toplam 270 öğrenci olduğuna göre yüzme bilen erkek öğrenci sayısı en az kaçtır?

- A) 119 B) 121 C) 131 D) 141

42. Alış fiyatı satış fiyatının %40'ı olan bir oyuncuğa satış fiyatı üzerinden %28 indirim uygulanmıştır.

Buna göre bu oyuncaktan son durumda alış fiyatı üzerinden yüzde kaç kâr elde edilmiştir?

- A) 48 B) 60 C) 75 D) 80

43. 150 gramlık şekerli su karışımından 10 gram su buharlaştırılıp aynı karışıma 5 gram şeker eklendiğinde oluşan yeni karışımın şeker oranı %20 oluyor.

Buna göre başlangıçtaki karışımın şeker oranı yüzde kaçtır?

- A) 10 B) 12 C) 15 D) 16

45. Renkleri dışında özdeş eşit sayıdaki sarı, kırmızı ve beyaz bilyeler boş bir torbaya atılıyor. Bu torbadan; geri atılmaksızın art arda yapılan rastgele bir çekilişte, çekilen iki bilyenin de aynı renkte olma olasılığı $\frac{11}{35}$ 'tir.

Buna göre başlangıçta bu torbaya atılan bilye sayısı kaçtır?

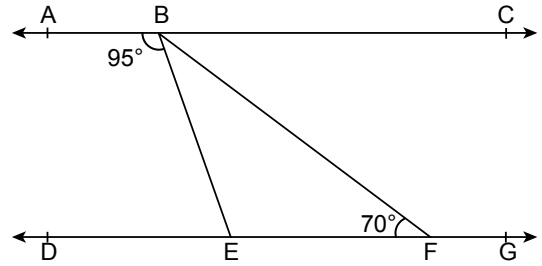
- A) 36 B) 39 C) 42 D) 45

44. Bir anne ile dört çocuğunun bugünkü yaşları toplamı $6x$ 'tir.

Anne bugün 3y yaşında olduğuna göre kaç yıl sonra annenin yaşı dört çocuğunun yaşları toplamına eşit olur?

- A) $2x - y$ B) $2y - x$
C) $2y - 2x$ D) $2y + 2x$

- 46.



Şekilde $AC \parallel DG$, $B \in AC$, $E \in DG$, $F \in DG$ ve $m(\widehat{ABE}) = 95^\circ$, $m(\widehat{BFD}) = 70^\circ$ dir.

Buna göre $m(\widehat{EBF})$ kaç derecedir?

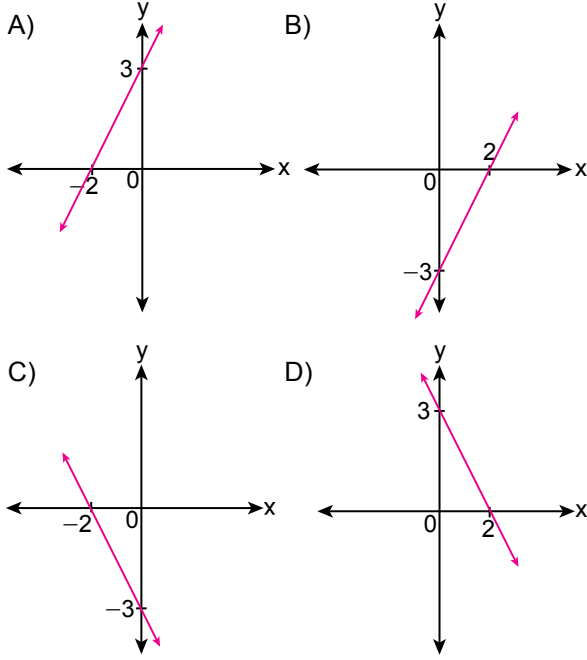
- A) 5 B) 10 C) 15 D) 20

TEKNİKER

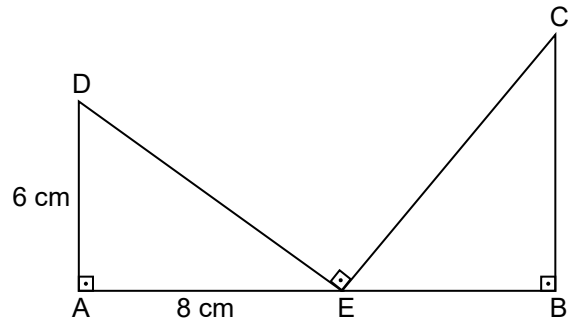
A

47. a, b, c birer reel sayı olmak üzere $a < 0$, $b > 0$ ve $c < 0$ 'dır.

Buna göre $ax + by = c$ doğrusunun grafiği aşağıdakilerden hangisi olabilir?



- 48.



Şekilde $E \in [AB]$,
 $m(\widehat{DAE}) = m(\widehat{DEC}) = m(\widehat{EBC}) = 90^\circ$ ve
 $|DA| = 6$ cm, $|AE| = 8$ cm,
 $|DE| + |EC| = 25$ cm'dir.

Buna göre $|CB|$ kaç santimetredir?

- A) 12 B) 10 C) 9 D) 8

ÖLÇME, DEĞERLENDİRME VE SINAV HİZMETLERİ GENEL MÜDÜRLÜĞÜ

49. 657 sayılı Devlet Memurları Kanunu'na göre Devlet memurlarının, görevlerini yerine getirirken hiçbir şekilde siyasi ve ideolojik amaçlı beyanda ve eylemde bulunamamaları aşağıdakilerden hangisi ile ilgilidir?

- A) Sadakat
 B) Davranış ve iş birliği
 C) Tarafsızlık ve Devlete bağlılık
 D) Kişisel sorumluluk ve zarar

50. 657 sayılı Devlet Memurları Kanunu'na göre müracaat ve şikâyetler ile ilgili esas ve usuller aşağıdakilerden hangisi ile düzenlenir?

- A) Kanun
- B) Tüzük
- C) Genelge
- D) Yönetmelik

51. 657 sayılı Devlet Memurları Kanunu'na göre sosyal hizmetler mütehasısı aşağıdaki sınıflardan hangisinin kapsamındadır?

- A) Teknik Hizmetler Sınıfı
- B) Sağlık Hizmetleri ve Yardımcı Sağlık Hizmetleri Sınıfı
- C) Eğitim ve Öğretim Hizmetleri Sınıfı
- D) Genel İdare Hizmetleri Sınıfı

52. 657 sayılı Devlet Memurları Kanunu'na göre 3 yıl süreli yükseköğrenimi bitirenlerin (istisnai durumlar hariç) memuriyete giriş derece ve kademeleri aşağıdakilerden hangisidir?

- A) 9/1
- B) 10/1
- C) 10/2
- D) 10/3

53. 657 sayılı Devlet Memurları Kanunu'na göre engelli açığı bulunan kamu kurum ve kuruluşları bir sonraki yıl için alım yapacakları engellilere ilişkin taleplerini her yılın hangi ayının sonuna kadar Devlet Personel Başkanlığına bildirmek zorundadır?

- A) Eylül
- B) Ekim
- C) Kasım
- D) Aralık

54. 657 sayılı Devlet Memurları Kanunu'na göre adaylık devresi içinde veya sonunda, ilgili madde hükümlerine göre ilişkileri kesilenler (sağlık nedenleri hariç) kaç yıl süre ile Devlet memurluğuna alınmazlar?

- A) 3
- B) 4
- C) 5
- D) 6

55. 657 sayılı Devlet Memurları Kanunu'na göre kamu görevlisi iken bakan müşavirliğine atanmış görevden alındıklarında, yönetici kadro, pozisyon ve görevleri hariç olmak üzere önceki kadro veya pozisyonlarına en geç kaç ay içinde atanırlar?

- A) Bir
- B) İki
- C) Üç
- D) Dört

56. 657 sayılı Devlet Memurları Kanunu'na göre "kademe ve kademe ilerlemesi" ile ilgili aşağıdakilerden hangisi yanlıştır?

- A) Yıllık izinde geçirilen süreler fiilen çalışılmış sayılır. İki yıldan az süreler dikkate alınmaz.
- B) Kademe ilerlemesine hak kazanamayan memurlar, kurumlarınca her ay alınacak toplu onaylarla belirlenir.
- C) Kademe ilerlemesi ile ilgili onay merci atamaya yetkili amirdir. Onay mercileri kademe ilerlemeleri ile ilgili yetkilerini devredemezler.
- D) Kademe ilerlemesi yapmış sayılanlardan ilerlemeye müstahak olmadıkları sonradan tespit edilenlerin kademe ilerlemeleri, ilerlemiş sayıldıkları tarihten geçerli olmak üzere iptal edilir.

58. 657 sayılı Devlet Memurları Kanunu'na göre mesleklerine ait öğrenimini bitirerek Devlet memurluğuna alınmış ve asli memur olarak atanmış olanlardan mesleklerine ait hizmetlerde yetiştirilmek, eğitilmek, bilgilerini artırmak veya staj yapmak üzere dış memleketlere, kurumlarınca açılacak seçme veya yarışma sınavlarında başarı gösterenlere istisnai durumlar hariç kaç yıla kadar ayrılma müsaadesi verilebilir?

- A) İki
- B) Üç
- C) Beş
- D) Altı

57. 657 sayılı Devlet Memurları Kanunu'na göre yabancı memleketlerin resmî kurumları veya uluslararası kuruluşlarda kurumlarının muvafakati ile görev alacak memurlara, ilgili Bakanın onayı ile (her üç yılda bir Bakan onayı yenilenmek kaydıyla) memuriyeti süresince yabancı memleketlerin resmî kurumlarında kaç yıla kadar aylıksız izin verilebilir?

- A) Yirmi bir
- B) On sekiz
- C) On beş
- D) On

59. 657 sayılı Devlet Memurları Kanunu'na göre Devlet memuru iken muvazzaf askerlik hizmetini yapmak üzere silahlı hizmetine alınanlardan askerlik görevini tamamlayıp memuriyete dönmek isteyenler, terhis tarihinden itibaren en fazla kaç gün içinde kurumlarına başvurmak zorundadırlar?

- A) 15
- B) 30
- C) 45
- D) 60

60. 657 sayılı Devlet Memurları Kanunu'na göre "vekâlet görevi ve aylık verilmesinin şartları" ile ilgili aşağıdakilerden hangisi yanlıştır?

- A) Bir görevin memurlar eliyle vekâleten yürütülmesi hâlinde aylıksız vekâlet asıldır.
- B) Açıktan vekil olarak atanana, bir yılda otuz günü geçmemek üzere çalıştıkları her ay için üç gün yıllık izin verilir.
- C) Köy ve beldelerdeki ebelik ve hemşireliğe ait boş kadrolara Hazine ve Maliye Bakanlığının izni (mahallî idarelerde izin şartı aranmaz) ile açıktan vekil atanabilir.
- D) Bu Kanun'a tabi kurumlarda, mali, nakdi ve aynı sorumluluğu bulunan saymanlık kadrolarının boşalması hâlinde bu kadrolara işe başladıkları tarihten itibaren vekâlet aylığı verilmek suretiyle memurlar arasından atama yapılabilir.

61. 657 sayılı Devlet Memurları Kanunu'na göre ücretle okutulacak ders saatlerinin sayısı, ders görevi alacakların nitelikleri ve diğer hususlar aşağıdakilerden hangisinin kararı ile tespit olunur?

- A) Cumhurbaşkanı
- B) İçişleri Bakanlığı
- C) Millî Eğitim Bakanlığı
- D) Hazine ve Maliye Bakanlığı

62. 657 sayılı Devlet Memurları Kanunu'na göre kadrosu kaldırılan memurlar, en geç kaç ay içinde kendi kurumlarında niteliklerine uygun bir kadroya atanırlar?

- A) Üç
- B) Dört
- C) Beş
- D) Altı

63. 657 sayılı Devlet Memurları Kanunu'na göre Devlet memurlarının yıllık izin süresi, hizmeti 1 yıldan on yıla kadar (On yıl dâhil) olanlar için kaç gündür?

- A) On
- B) Yirmi
- C) Yirmi beş
- D) Otuz

64. 657 sayılı Devlet Memurları Kanunu'na göre memura, aylık ve özlük hakları korunarak, verilecek raporda gösterilecek lüzum üzerine, kanser, verem ve akıl hastalığı gibi uzun süreli bir tedaviye ihtiyaç gösteren hastalığı hâlinde en fazla kaç aya kadar izin verilir?

- A) Otuz altı
- B) Yirmi dört
- C) On sekiz
- D) On iki

65. 657 sayılı Devlet Memurları Kanunu'na göre hastalık raporlarının hangi hâllerde, hangi hekimler veya sağlık kurulları tarafından verileceği ve süreleri ile bu konuya ilişkin diğer hususlar belirlenirken aşağıdakilerden hangisinin görüşü alınmaz?

- A) Sağlık Bakanlığı
- B) İçişleri Bakanlığı
- C) Dışişleri Bakanlığı
- D) Hazine ve Maliye Bakanlığı

66. 657 sayılı Devlet Memurları Kanunu'na göre "eşlerinin, reşit olmayan veya mahcur olan çocuklarının kazanç getiren sürekli faaliyetlerini belirleyen sürede kurumuna bildirmemek" fiili aşağıdaki disiplin cezalarından hangisini gerektirir?

- A) Uyarma
- B) Kademe ilerlemesinin durdurulması
- C) Aylıktan kesme
- D) Kınama

67. 7315 sayılı Güvenlik Soruşturması ve Arşiv Araştırması Kanunu'na göre Değerlendirme Komisyonu en az kaç kişiden oluşur?

- A) Beş
- B) Altı
- C) Yedi
- D) Sekiz

68. 7315 sayılı Güvenlik Soruşturması ve Arşiv Araştırması Kanunu'na göre güvenlik soruşturması ve arşiv araştırması sırasında elde edilen kişisel veriler, işleme amacının ortadan kalkması hâlinde en az kaç yılın sonunda değerlendirme komisyonlarınca silinir ve yok edilir?

- A) İki
- B) Üç
- C) Dört
- D) Beş

69. 7315 sayılı Güvenlik Soruşturması ve Arşiv Araştırması Kanunu'na göre "Değerlendirme Komisyonu" ile ilgili aşağıdakilerden hangisi yanlıştır?

- A) Millî güvenlik açısından stratejik önemi haiz birim, proje, tesis ve hizmetlerde istihdam edilecekler hakkındaki değerlendirme, ilgili bakanlık ya da kamu kurumları bünyesindeki Değerlendirme Komisyonunca yapılır.
- B) Yaptırılan güvenlik soruşturması ve arşiv araştırması sonucunda elde edilen verilerin değerlendirilmesi amacıyla Değerlendirme Komisyonu kurulur.
- C) Değerlendirme Komisyonu kendisine iletilen verilere ilişkin subjektif değerlendirmelerini yazılı olarak İdari İşler Başkanına sunar.
- D) Memuriyet veya kamu görevlerine uygunluğunun değerlendirilmesini sağlayacak yorum içermeyen olgusal veriler, güvenlik soruşturması ve arşiv araştırması yapmakla görevli birimlerce ilgili kurum ve kuruluş bünyesinde kurulan Değerlendirme Komisyonuna iletilir.

70. I. Güvenlik soruşturması ve arşiv araştırması işlemlerinin her evresinde gizliliğe uyulur.
II. Bu Kanun kapsamında elde edilen kişisel veriler amacı dışında işlenemez ve aktarılamaz.
III. İlgili bilgi ve belgeler yasal olarak bilmesi gerekenlerden başkasına verilmez ve açıklanmaz.

7315 sayılı Güvenlik Soruşturması ve Arşiv Araştırması Kanunu'na göre "kişisel veri güvenliği ve gizlilik" ile ilgili verilenler doğru (D) - yanlış (Y) olarak değerlendirildiğinde sıralama hangisi olur?

	I.	II.	III.
A)	D	Y	D
B)	D	D	Y
C)	Y	D	Y
D)	D	D	D

TEST BİTTİ.
CEVAPLARINIZI KONTROL EDİNİZ.

SINAV SÜRESİNCE UYULACAK KURALLAR

- 1. Adaylar, sınav kurallarına ve salon görevlilerinin tüm uyarılarına uymak zorundadırlar. Kurallara ve uyarılara uymayan adayların sınavları geçersiz sayılacaktır.**
2. Sınav başladıktan sonra adayların salon görevlileri ve birbirleri ile konuşmaları, kalem, silgi vb. şeyleri istemeleri yasaktır.
3. Adaylar sınav süresince, sınav giriş belgesi ile birlikte geçerli kimlik belgelerinden birini (fotoğraflı nüfus cüzdanı, pasaport veya sürücü belgesini) masalarının üzerinde bulundurmamak zorundadırlar.
- 4. Sınav evraklarını teslim etmeyen, soru kitapçıklarının sayfalarından bir kısmını eksik teslim edenlerin sınavları geçersiz sayılacaktır.**

SALON GÖREVLİLERİNCE SINAV BAŞLAMADAN ÖNCE ADAYLARA YAPILACAK SON UYARILAR

- Soracağınız bir şey varsa şimdi sorunuz, sınav başladıktan sonra sorularınıza cevap verilmeyecektir.
- Başlama zilini bekleyiniz.

Hepinize başarılar dileriz.

(Salon başkanı başlama ve bitiş saatini tahtaya yazacaktır.)

Bu kitapçığın her hakkı saklıdır. Hangi amaçla olursa olsun, kitapçığın tamamının veya bir kısmının Millî Eğitim Bakanlığı Ölçme, Değerlendirme ve Sınav Hizmetleri Genel Müdürlüğünün yazılı izni olmadan kopya edilmesi, fotoğraflarının çekilmesi, bilgisayar ortamına alınması, herhangi bir yolla çoğaltılması, yayımlanması veya başka bir amaçla kullanılması yasaktır. Bu yasağa uymayanlar, doğabilecek cezai sorumluluğu ve kitapçığın hazırlanmasındaki mali külfeti peşinen kabullenmiş sayılır.

**14 KASIM 2021 TARİHİNDE YAPILAN
İÇİŞLERİ BAKANLIĞI
UNVAN DEĞİŞİKLİĞİ SINAVI
12. GRUP: TEKNİKER A SORU KİTAPÇIĞI CEVAP ANAHTARI**

1. D
2. B
3. C
4. A
5. D
6. C
7. A
8. B
9. A
10. C
11. B
12. A
13. D
14. C
15. B
16. D
17. A
18. C

19. B
20. D
21. A
22. C
23. B
24. D
25. C
26. A
27. D
28. A
29. B
30. D
31. C
32. B
33. C
34. A
35. B
36. D

37. B
38. C
39. D
40. A
41. C
42. D
43. D
44. C
45. A
46. C
47. B
48. A
49. C
50. D
51. B
52. D
53. B
54. A

55. A
56. C
57. D
58. A
59. B
60. B
61. A
62. D
63. B
64. A
65. B
66. D
67. A
68. A
69. C
70. D