



5.
SINIF



A
KİTAPÇIK TÜRÜ

T.C.
MİLLÎ EĞİTİM BAKANLIĞI
ÖLÇME, DEĞERLENDİRME VE SINAV HİZMETLERİ
GENEL MÜDÜRLÜĞÜ

VEHBİ KOÇ VAKFI, KOÇ ÖZEL İLKOKULU VE ORTAOKULU SEVİYE TESPİT SINAVI
(4. Sınıftan 5. Sınıfa Geçenler)
13 HAZİRAN 2021 Saat: 10.00

Adayın Adı ve Soyadı :

Aday Numarası (T.C. No) :

DERS ADI	SORU SAYISI	TOPLAM SORU SAYISI	SINAV SÜRESİ (DAKİKA)
TÜRKÇE	20	100	120
MATEMATİK	20		
FEN BİLİMLERİ	20		
SOSYAL BİLGİLER	20		
İNGİLİZCE	20		

ÖĞRENCİLERİN DİKKATİNE!

1. Sınıf öğrenci yoklama listesinde belirtilen sınıfta ve sıra numarasında oturunuz.
2. Cevap kâğıdındaki kimlik bilgilerinin doğruluğunu kontrol ediniz.
3. Kitapçık türünü cevap kâğıdındaki ilgili alana kodlayınız.
4. Cevap kâğıdı üzerindeki kodlamaları kurşun kalemle yapınız.



SINAV BAŞLAMADAN ÖNCE KİTAPÇIĞIN ARKA KAPAĞINDAKİ UYARILARI MUTLAKA OKUYUNUZ.

1. Çok güzel yerlerden, anlatılamayacak kadar güzel bahçelerden, altın, gümüş ve elmas dolu odalardan geçtiler.

Bu cümlede altı çizili sözcüklerden birinin zıt anlamlısı aşağıdakilerin hangisinde kullanılmamıştır?

- A) Diğer günlere göre daha az yemek yedi.
B) Bugün bize bütün gerçekleri söyledi.
C) Masaldaki devin çirkin görüntüsü zihinimde canlandı.
D) Bardağın yarısının boş olduğunu görünce şüphelendi.

2. Bu yıl okulumuzda öğrenciler arası öykü yarışması düzenlenecek.

Bu metindeki altı çizili sözcüklerin eş anlamlılarının bir arada kullanıldığı cümle aşağıdakilerden hangisidir?

- A) Talebeler okulda roman okumaya başladı.
B) Hikâye yazma becerisine sahip muallimler vardı.
C) Muallim mektepteki becerikli talebeleri çağırıyor.
D) Hikâye talebelerin mektepteki günlerini anlatıyor.

3. Aşağıdakilerin hangisinde altı çizili sözcük terim anlamıyla kullanılmıştır?

- A) Yeryüzünde yaşam çok uzun yıllar önce başladı.
B) Bu bilgisayarın işlemcisi oldukça hızlıdır.
C) Kargalar yiyecek sakladığı yerleri kolayca bulabilir.
D) Müzik dinlemeyi ve kaval çalmayı çok seviyorum.

4. Ayşe: Sıcak bir gülümseme her insana iyi gelir.

Mert: Arkadaşlarımıza karşı ince düşünceli olmak gerekir.

Fatma: Dürüst kişiler ne olursa olsun doğruyu söyler.

Ahmet: Birbirine gönülden bağlı kişiler arasında güven çok önemlidir.

Yukarıdaki öğrencilerden hangisinin cümlesinde mecaz anlamlı bir sözcük yoktur?

- A) Ayşe
B) Mert
C) Fatma
D) Ahmet

5. Bazen karşımızdaki kişiye sevinç, korku veya şaşkınlık nedeniyle birdenbire söz söyleyemez hâle geliriz.

Aşağıdakilerin hangisinde bu durumu anlamca karşılayan bir deyim kullanılmıştır?

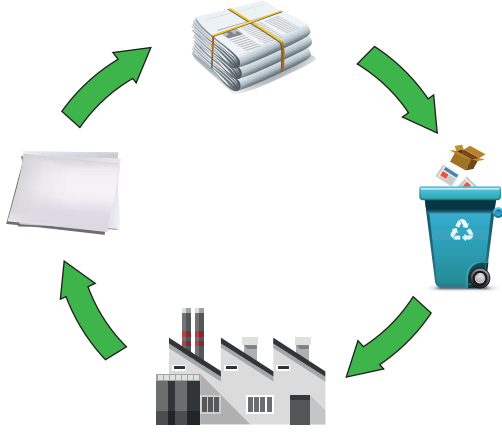
- A) Onu inandırabilmek için defalarca dil döktü.
B) Köşede sessizce otururken aniden dili açıldı.
C) Toplantıda tüm düşüncelerini dile getirdi.
D) Hiç beklemediği anda onu görünce dili tutuldu.

6. 1. Arkadaşlarımızla birlik hâlinde bu işi başardık.
2. Birlik duygusuyla hareket edersek güçleniriz.
3. Çanakkale’de milletimizin birlik içerisinde olduğunu gördük.
4. Bugün müzik dersinde birlik notayı öğrendik.

“Birlik” sözcüğü numaralanmış cümlelerin hangisinde farklı anlamda kullanılmıştır?

- A) 1
B) 2
C) 3
D) 4

7.



Bu görsel aşağıdakilerden hangisine dikkat çekmek amacıyla hazırlanmıştır?

- A) Kâğıt fabrikalarının ülkemizdeki önemine
- B) Atık kâğıtların geri dönüşüm sürecine
- C) Gazete okumanın insanlar için yararına
- D) Metal atıkların çevreye zarar verdiğine

8. 1. Atatürk, Sabiha'nın isteğini gerçekleştirmek için ağabeyinden izin alarak onun eğitimini üstlenmiş.
2. Sabiha, Atatürk'ün Bursa'ya geldiğini duyunca büyük bir heyecanla onunla konuşmaya gitmiş.
3. Bir gün Atatürk, Bursa'yı ziyarete gitmiş.
4. Sabiha bu konuşmada Atatürk'e "Okula gitmek istiyorum." deyince Atatürk, bu durumdan etkilenmiş.

Numaralanmış cümleler olayların oluş sırasına göre nasıl sıralanmalıdır?

- A) 2 - 3 - 1 - 4
- B) 2 - 4 - 3 - 1
- C) 3 - 1 - 2 - 4
- D) 3 - 2 - 4 - 1

9. Bir mağaradan çıkarılan buluntular arasında büyük bir deniz salyangozu kabuğu vardı. Müzeye alınan bu deniz kabuğunda sesi ayarlamaya yaradığı düşünülen delik ve kesikler olduğu keşfedildi. Araştırmacılar, 18 bin yıl öncesine ait olduğu tahmin edilen bu deniz kabuğunun o dönemde müzik aleti olarak kullanıldığını düşünüyor.

Bu metnin konusu aşağıdakilerden hangisidir?

- A) Müzik aletlerine önem verilmesi
- B) Tarihî eserin müzede sergilenmesi
- C) Tarihî bir müzik aletinin keşfedilmesi
- D) Tarihî nesnelere yaşının hesaplanması

10. Uçun kuşlar uçun doğduğum yere
Şimdi dağlarında mor sümbül vardır
Ormanlar koynunda bir serin dere
Dikenler içinde sarı gül vardır

Bu dördünlüğün ana duygusu aşağıdakilerden hangisidir?

- A) Yaz heyecanı
- B) Memleket hasreti
- C) Deniz özlemi
- D) Yaşama sevinci

11. Yapı oyuncakları; küçük parçalardan büyük bir yapı, nesne veya alan oluşturmak için kullanılır. Bu oyuncakların parçaları; üst üste koymak, yan yana dizmek veya iç içe geçirmek üzere tasarlanır. Küçük yaştan itibaren çocukların bu oyuncaklarla oynamaları kas gelişimleri için oldukça önemlidir. Ayrıca bu oyuncaklar çocukların üç boyutlu düşünebilmelerine ve matematiksel becerilerini geliştirmelerine katkı sağlar.

Bu metinde “yapı oyuncakları” ile ilgili aşağıdakilerin hangisine değinilmemiştir?

- A) Kullanım amaçlarına
- B) Parçalarının tasarımlarına
- C) Üretildiği malzemelere
- D) Çocuklar için yararlarına

12. Orkestra şefleri elinde tuttıkları çubukla müziği yönetirken diğer yandan orkestraya bazı işaretler verir. Örneğin şef, işaret parmağı ile sesin azalması veya artması gerektiğini gösterir. Orkestra şefleri müzikteki duyguları yansıtarak parçanın kusursuz çalınmasını sağlar.

Bu metin aşağıdaki sorulardan hangisini cevaplamak amacıyla yazılmıştır?

- A) Orkestra şefinin görevleri nelerdir?
- B) Şeflerin elindeki çubuk nasıldır?
- C) Orkestrada ne tür çalgılar vardır?
- D) Çalgıların çalınma süresi ne kadardır?

13. Osman ve ağabeyi ceviz toplamak için bahçeye gittiler. Birlikte ceviz topladılar. Osman, ağabeyinin bazı cevizleri kenara ayırdığını gördü. Sebebini merak edip sorunca ağabeyi şu cevabı verdi:
– Bunlar daha hafif. İçleri boş ve çürük olabilir. Sağlam olanlarla karışmasın. Osman buna dikkat ederek bütün cevizleri ayıkladı. İşlerini bitirdiler ve evin yolunu tuttular.

Bu metinde aşağıdaki hikâye unsurlarından hangisi yoktur?

- A) Yer
- B) Kişi
- C) Zaman
- D) Olay

14. Teknolojik gelişmelerle dünyamızın atmosferi kirlendi. Koca fabrikaların bacalarından çıkan zehirli gazlar, yaşadığımız ortamı sağlıklı hâle getirdi. Sonra hayvanların yaşam alanları kısıtlandı. İnsanlar doğadan koparak tüm vakitlerini makineler ve bilgisayarlarla geçirmeye başladı.

Bu metne en uygun başlık aşağıdakilerden hangisidir?

- A) Teknolojiyle Gelen Sıkıntılar
- B) Son Teknolojik Gelişmeler
- C) Teknolojinin Hayvanlara Etkisi
- D) Teknolojinin Üstün Gücü

15. Aşağıdakilerin hangisinde hayal ürünü olan bir ifadeye yer verilmiştir?

- A) Camgöz Ağa komşu balıkçıdan iki balık almış, balıkları Keloğlan'a vermiş.
- B) Keloğlan sözlerini bitirince "hop" demiş, bir tazı oluvermiş.
- C) Keloğlan ter içinde gelip eşyalarını kapının önüne koymuş.
- D) Keloğlan'a "Haydi, gel seninle birlikte bir çörek pişirelim." demiş.

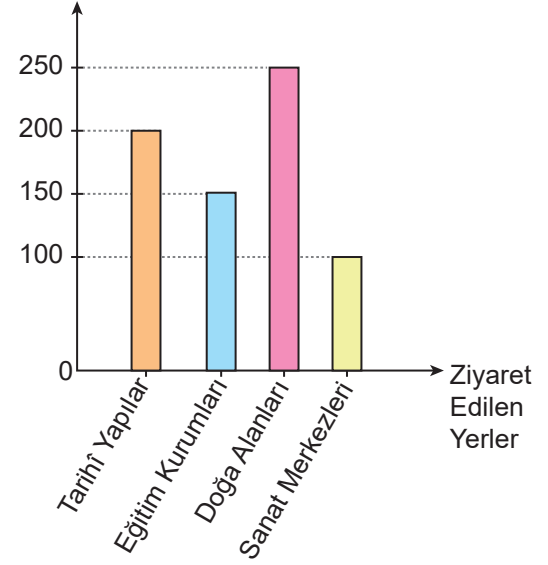
16. Hiçbir gemi bizi bir kitap kadar uzaklara götürmez.

Aşağıdakilerden hangisi bu cümleye anlamca en yakındır?

- A) Kitap, cepte taşınan bir çiçek bahçesidir.
- B) Her okunan kitap yeni bir kapı açar.
- C) Bir insanın değeri okuduğu kitaplarla ölçülür.
- D) Okumadan geçen bir gün, yitirilmiş bir gündür.

17. Bir şehirdeki ziyaret edilen yerler ve bu yerlerin ziyaretçi sayıları aşağıdaki grafikte verilmiştir.

Ziyaretçi Sayıları



Grafiğe göre "ziyaretçi sayıları" ile ilgili aşağıdakilerden hangisi doğrudur?

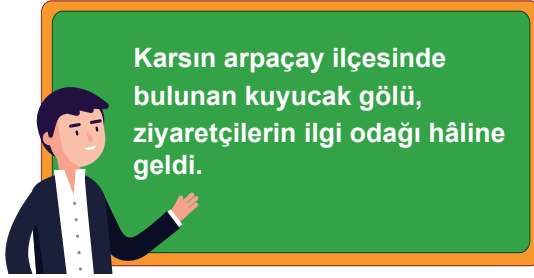
- A) Tarihî yapıları ziyaret edenler, eğitim kurumlarını ziyaret edenlerden azdır.
- B) Eğitim kurumlarını ziyaret edenler, doğa alanlarını ziyaret edenlerden fazladır.
- C) Sanat merkezlerini ziyaret edenler ile eğitim kurumlarını ziyaret edenlerin sayısı aynıdır.
- D) Doğa alanlarını ziyaret edenler, tarihî yapıları ziyaret edenlerden fazladır.

18. Sıralanan eş görevli sözcük veya sözcük gruplarının arasına virgül (,) getirilir.

Aşağıdakilerin hangisinde virgülün bu kuralına uygun bir kullanım vardır?

- A) Merak etmekten, hayal kurmaktan, soru sormaktan hiç korkmayın.
 B) Hayal, isteklerimizin zihnimize canlandırılmasıdır.
 C) Genç, dinleyicilere sunum yapmak için hazırlanıyordu.
 D) Öfkelenince kaşlarımız çatılır, şaşırınca gözlerimiz açılır.

19.



Ezgi, öğretmenin yazdığı bu cümledeki yazım yanlışlarını düzeltmek istiyor.

Bu durumda Ezgi aşağıdakilerden hangisini yazarsa cümledeki yazım yanlışlarını düzeltmiş olur?

- A) Kars'ın Arpaçay ilçesinde bulunan Kuyucak Gölü, ziyaretçilerin ilgi odağı hâline geldi.
 B) Kars'ın Arpaçay İlçesinde bulunan Kuyucak gölü, ziyaretçilerin ilgi odağı hâline geldi.
 C) Kars'ın arpaçay ilçesinde bulunan Kuyucak Gölü, ziyaretçilerin ilgi odağı hâline geldi.
 D) Kars'ın Arpaçay İlçesinde bulunan Kuyucak gölü, ziyaretçilerin ilgi odağı hâline geldi.

20.

DEVİMLERLE ÖYKÜ YARIŞMASI

ÖDÜLLER:
 Birincilik Ödülü : Bilgisayar
 İkincilik Ödülü : Tablet
 Üçüncülük Ödülü: Kitap

Başvuru Tarihi:
 20 ŞUBAT - 1 MART 2021

Başvuru Şartları:
 ★ Yarışmaya 7-11 yaşları arasındaki öğrenciler katılabilir.
 ★ Yarışmaya katılacak öğrenciler, öykülerinde en az iki deyim kullanmalıdır.

Bu afişte “yarışma” ile ilgili aşağıdakilerin hangisine değinilmemiştir?

- A) Hangi yaş grubunun başvuracağına
 B) Başvurunun hangi tarihte başladığına
 C) Sonucunun ne zaman açıklanacağına
 D) Dereceye girenlere ne tür ödüllerin verileceğine



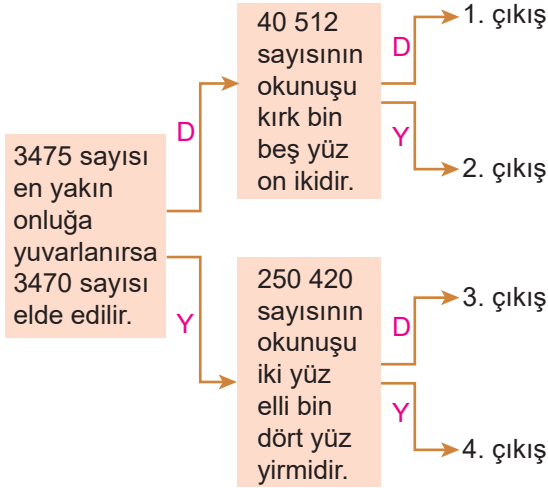
1. Tuna görseldeki abaküse boncuklar yerleştirerek altı basamaklı rakamları farklı en büyük tek sayıyı oluşturacaktır.



Elinde yeterli sayıda boncuğu olan Tuna, bu sayıyı oluşturmak için kaç tane boncuk kullanır?

- A) 39 B) 38 C) 37 D) 36

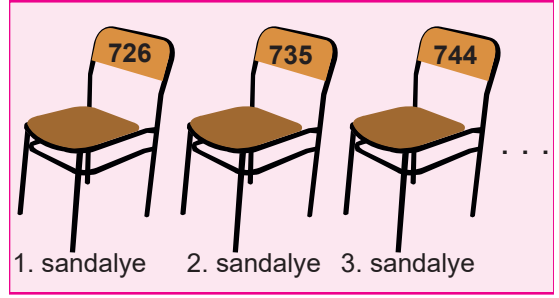
2. Tanılayıcı dallandırılmış ağaç diyagramında verilen ifade doğru ise D yönündeki ok, yanlış ise Y yönündeki ok takip edilir.



Verilen tanılayıcı dallandırılmış ağaç diyagramı ifadelerin doğru ve yanlışlığına göre takip edildiğinde hangi çıkışa ulaşılır?

- A) 1. çıkış B) 2. çıkış
C) 3. çıkış D) 4. çıkış

3. Bir salondaki sandalyelerin üzerinde yazan sayılar görseldeki gibi artan bir sayı örüntüsü oluşturmaktadır.



Buna göre 5 ve 6. sandalyelerin üzerinde yazan sayıların toplamı kaçtır?

- A) 1533 B) 1524
C) 1433 D) 1424

4. 3, 0, 5 ve 6 rakamlarının her biri birer kez kullanılarak dört basamaklı sayılar yazılmıştır.

Bu sayılardan herhangi ikisi arasındaki fark en çok kaçtır?

- A) 3464 B) 3474
C) 3475 D) 3484

5. On bir eş bölmeye ayrılarak bu bölmelerin her birine birer rakam yazılan şerit görselde verilmiştir.

2	7	3	1	9	0	6	4	3	8	5
---	---	---	---	---	---	---	---	---	---	---

Bu şerit bir tanesi üç basamaklı, iki tanesi dört basamaklı sayılar oluşturacak biçimde iki ayrı bölme çizgisinden kesilerek üç parçaya ayrılmıştır.

Buna göre oluşan parçalar üzerinde yazan sayıların toplamı en az kaçtır?

- A) 6384 B) 6564
C) 7584 D) 9021

6. Bir mağazada bulunan dört ürün ve bu ürünlerden üçünün fiyatı görselde verilmiştir.

Buzdolabı Televizyon
Çamaşır makinesi Ütü

Bu mağazadan üç farklı ürün satın alan bir kişi 9500 TL ödemiştir.

Bu mağazada başka ürün bulunmadığına göre ütünün fiyatı kaç TL'dir?

- A) 750 B) 751
C) 752 D) 753

7. Bir film için bilet alan kişilerin aldıkları bilet çeşidine ve bilet fiyatına göre sayıları tabloda verilmiştir.

Tablo: Alınan Bilet Çeşidine ve Fiyatına Göre Kişi Sayısı

Bilet Çeşitleri	Fiyat (TL)	Kişi Sayısı
İndirimli Bilet	18	160
Tam Bilet	24	320

Tabloya göre bu biletlerden elde edilen gelir kaç TL'dir?

- A) 9600 B) 10 160
C) 10 560 D) 10 572

- 8.

$$\begin{array}{r}
 \begin{array}{r}
 \star \bullet \star \\
 \times \quad 1 \star \\
 \hline
 1029 \\
 + \quad \star \bullet \star \\
 \hline
 4 \bullet \triangle 9
 \end{array}
 \end{array}$$

Verilen çarpma işleminde \star , \bullet ve \triangle birer rakamdır.

Buna göre $\star + \bullet + \triangle$ işleminin sonucu kaçtır?

- A) 12 B) 11 C) 10 D) 9

9. Dört günde gelen ziyaretçi sayısı 7000 olan bir kütüphaneye günlük gelen ziyaretçi sayısı bir önceki güne göre artmıştır. 1. gün gelen ziyaretçi sayısı rakamları farklı dört basamaklı en küçük çift doğal sayıdır. 4. gün gelen ziyaretçi sayısı ise 3500'dür.

Buna göre 2. gün gelen ziyaretçi sayısı en fazla kaçtır?

- A) 1238 B) 1237
C) 1148 D) 1147

10. $24 \div 3 = \star + 2$

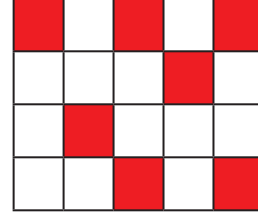
$\star + 14 = \blacksquare \times 5$

Verilen işlemlerde \star ve \blacksquare birer doğal sayıdır.

Buna göre $\star - \blacksquare$ işleminin sonucu kaçtır?

- A) 4 B) 3 C) 2 D) 1

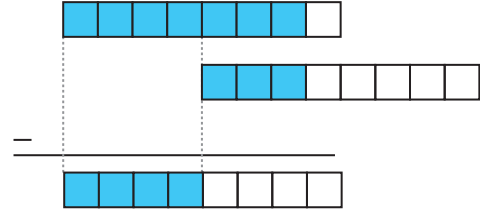
11. Aşağıdaki şekil 20 eş parçaya ayrılmış ve bu parçalardan bazıları kırmızıya boyanmıştır.



Bu şekilde kırmızıya boyalı parçalara karşılık gelen kesrin $\frac{15}{20}$ olması için kaç parça daha boyanmalıdır?

- A) 7 B) 8 C) 10 D) 15

- 12.



Eş parçalara ayrılmış şekillerde maviye boyalı parçalarla modellenen çıkarma işlemi aşağıdakilerden hangisidir?

- A) $\frac{7}{8} - \frac{2}{8} = \frac{5}{8}$ B) $\frac{7}{8} - \frac{5}{8} = \frac{2}{8}$
C) $\frac{7}{8} - \frac{4}{8} = \frac{3}{8}$ D) $\frac{7}{8} - \frac{3}{8} = \frac{4}{8}$

13. Elif 6 saatlik bir zaman diliminde yaptıklarına ayırdığı süreyi görseldeki gibi eş parçalara ayırarak modellemiştir.

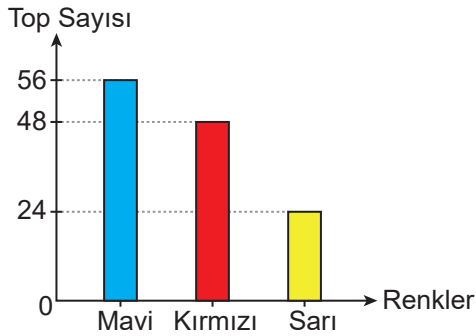


Buna göre Elif'in ders çalışmaya ayırdığı toplam süre aşağıdakilerden hangisidir?

- A) 1 saat 35 dakika B) 1 saat 45 dakika
C) 2 saat 15 dakika D) 2 saat 45 dakika

14. Bir torbadaki mavi, kırmızı ve sarı renkli topların renklerine göre sayıları grafikte verilmiştir.

Grafik: Renklerine Göre Top Sayısı

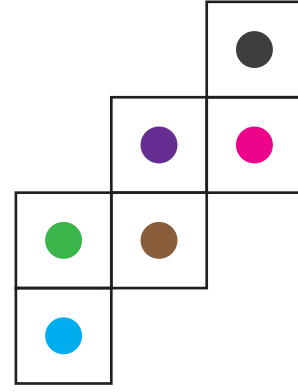


Bu torbaya bir miktar daha sarı top eklenmiştir. Bu durumda torbadaki sarı topların sayısı, mavi ve kırmızı topların toplam sayısının yarısı olmuştur.


Buna göre bu torbaya sonradan eklenen sarı top sayısı kaçtır?

- A) 64 B) 52 C) 30 D) 28

- 15.



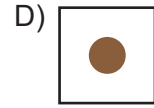
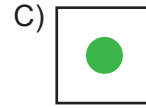
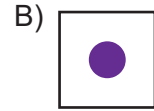
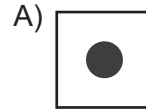
Açınımı verilen küp oluşturulduğunda



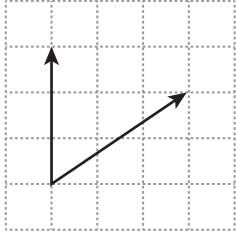
yüzü ile ortak kenarları olan yüz-

ler belirlenmiştir.

Buna göre aşağıdakilerden hangisi bu yüzlerden biri değildir?



16. Aynı ölçüye sahip açıların duruşlarındaki farklılık, açının ölçüsünü değiştirmez.



Kareli kâğıtta verilen açının ölçüsü aşağıdakilerden hangisinin ölçüsüne eşittir?

- A) B)
- C) D)

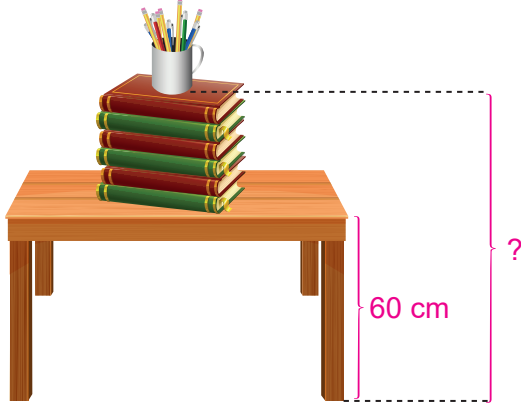
- 17.

ALYA

“ALYA” kelimesinin verilen doğruya göre simetriği aşağıdakilerden hangisidir?

- A)
- B)
- C)
- D)

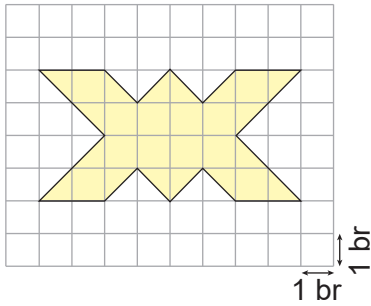
18. Görseldeki masanın üstüne her birinin kalınlığı 15 mm olan 6 kitap üst üste konmuş ve bu kitapların üzerine bir kalemlik yerleştirilmiştir.



Masanın yerden yüksekliği 60 cm olduğuna göre kalemlerin tabanının yerden yüksekliği kaç santimetredir?

- A) 69 B) 75 C) 120 D) 150

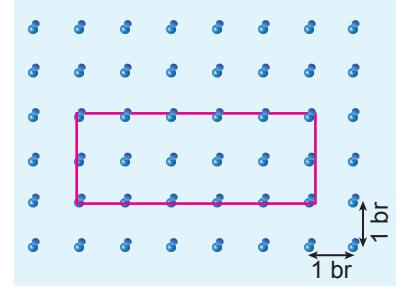
- 19.



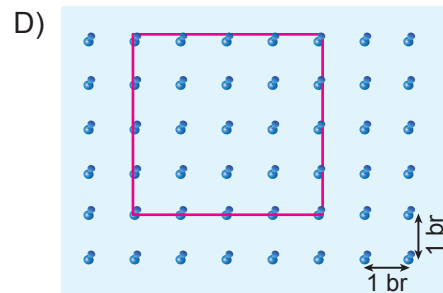
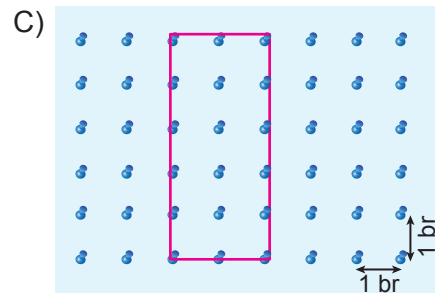

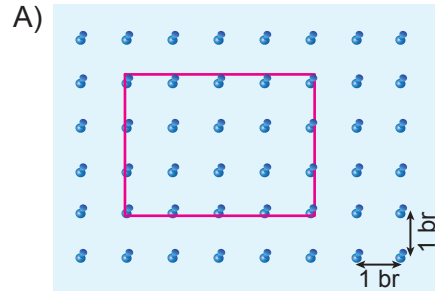
Kareli kâğıt üzerinde verilen şeklin alanı kaç birimkaredir?

- A) 16 B) 18 C) 20 D) 22

20. Eş bölmelendirilmiş bir geometri tahtasında esnek olmayan bir ip ile görseldeki dikdörtgen oluşturulmuştur.



Buna göre bu ip ile geometri tahtasında aşağıdakilerden hangisi oluşturulamaz?



MATEMATİK TESTİ BİTTİ.
FEN BİLİMLERİ TESTİNE GEÇİNİZ.



1. Kayaçlarla ilgili;

- I. Yer kabuğunun kara tabakası kayaçlardan oluşur.
- II. Kayaçlar farklılık göstermez, tek tiptirler.
- III. Kayaçlar hem yer kabuğunun üstünde hem de içinde bulunurlar.

Yargılarından hangileri doğrudur?

- A) Yalnız I B) Yalnız II
C) I ve III D) II ve III

2. Dünya'nın Güneş etrafında dolanması aşağıdakilerden hangisine sebep olmaktadır?

- A) Gece ve gündüzün oluşmasına
B) Mevsimlerin oluşmasına
C) Bir günün oluşmasına
D) Güneş'in Dünya'dan büyük olmasına

3. Yeryüzündeki bir noktadan, bir günün belli saatlerinde Güneş'e bakıldığında Güneş'in konumu şekildeki gibi oluyor.



Yeryüzüne göre Güneş'in konumunun değişmesi aşağıdakilerden hangisi ile açıklanır?

- A) Dünya'nın Güneş etrafında dolanması
B) Dünya'nın kendi eksenini etrafında dönmesi
C) Dünya'nın Güneş etrafında dolanımını bir yılda tamamlaması
D) Bir yılın yaklaşık 365 gün olması

4. Şekildeki iki mıknatıs birbirlerine yaklaşıyor.



Mıknatısların birbirlerini çekme ya da itme durumlarına göre K ve L kutupları aşağıdakilerin hangisinde doğru verilmiştir?

- | | | K | L |
|--------------|---|---|---|
| A) Çekiyorsa | → | N | S |
| B) Çekiyorsa | → | N | N |
| C) İtiyorsa | → | S | N |
| D) İtiyorsa | → | N | S |

5. Kuvvetin cisimler üzerindeki etkisi ile ilgili örnekler aşağıda veriliyor.

- I. örnek:** Duran topa vurularak top uzaklaştırılıyor.
II. örnek: Havadan gelen topu kaleci kucağında durduruyor.
III. örnek: Oyun hamurundan oyuncak araba yapılıyor.
IV. örnek: Kırmızı ışığı gören otomobil sürücüsü frene basarak otomobili durduruyor.
V. örnek: Çöpte yer kaplayan plastik şişe sıkıştırılarak çöpe atılıyor.

Bu örneklerin hangilerinde kuvvetin şekil değiştirici etkisi vardır?

- A) I ve II
 B) II ve III
 C) I ve IV
 D) III ve V

6. Geçmişte ve günümüzde kullanılan bazı aydınlatma araçları resimleriyle birlikte verilmiştir.



Meşale



Kandil



Mum



Led ampul

Bu araçlardan hangisi günümüzde binaların aydınlatılmasında sıkça kullanılmaktadır?

- A) Meşale
 B) Kandil
 C) Led ampul
 D) Mum

7. Aydınlatma araçlarının kullanımı ile ilgili bazı görüşler aşağıda verilmiştir.

- I.** Merdiven boşluklarında harekete duyarlı lambalar kullanılmalıdır.
II. Masada oturup sağ elimizle yazı yazarken masa lambası sol taraftan aydınlatacak şekilde ayarlanmalıdır.
III. Akkor ampul yerine tasarruflu ampul kullanılmalıdır.

Bu görüşlerden hangileri ülke ekonomisi bakımından tasarruf sağlar?

- A) Yalnız II
 B) Yalnız III
 C) I ve II
 D) I ve III

8. Bazı uyarıcı bilgiler K, L, M ve N panolarında verilmiştir.

Sokak aydınlatmasında kullanılan ışığı aydınlatılacak bölgeye yönlendir.

K panosu

Zaman ayarlı reklam tabelaları kullan.

L panosu

Sokak, cadde gibi yerlerde gecenin belirli bir saatinden sonra aydınlatma seviyesini düşür.

M panosu

Gözlemevlerini şehir dışında, okyanusların içindeki adalara ya da tepe üzerine kur.

N panosu

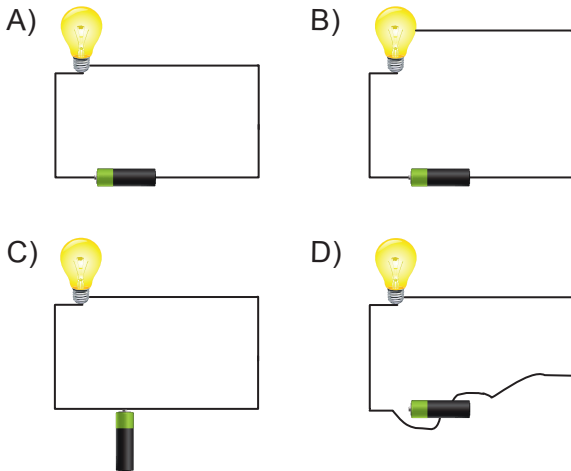
Bu panoların hangilerindeki bilgi, ışık kirliliğini azaltmaya yöneliktir?

- A) Yalnız N
 B) M ve N
 C) K, L ve M
 D) K, L, M ve N

9. Aşağıdakilerden hangisi ses teknolojilerinin olumsuz etkisidir?

- A) Binalardaki alarm sistemlerinin tehlike durumlarında uyarıcı olması
- B) Geçici ve kalıcı işitme kayıplarına yol açması
- C) Sesimizin mikrofon aracılığıyla herkes tarafından duyulmasının sağlanması
- D) Ambulans, itfaiye ve polis araçlarının siren seslerinin uyarıcı olması

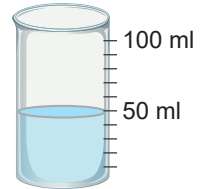

10. Ampul, pil ve iletken telden oluşan aşağıdaki elektrik devrelerinin hangisindeki ampul ışık verir?



11. Aşağıdaki devre elemanlarından hangisinin temel görevi elektrik enerjisini devrenin diğer elemanlarına taşımaktır?

- A) Ampul
- B) Pil
- C) Anahtar
- D) Kablo

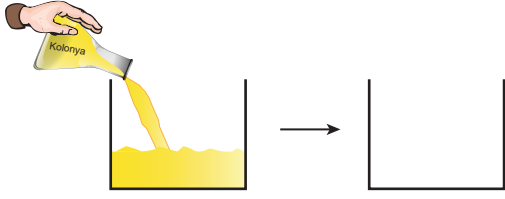
12. Bir taş ustasından doğal taşlarla zemin döşemesi yapması istenmiştir. Ustanın kullandığı taşların hacminin 10 mL'den küçük 30 mL'den büyük olmaması gerekmektedir. Usta bu kurala uygun şekilde taş seçmek için 50 mL su doldurduğu dereceli silindire sırayla taşları atarak hacimlerini ölçmüştür.



Buna göre ustanın hacmini ölçtüğü taşlardan hangisi bu kurala uymaz?

- A) 100 ml
50 ml
- B) 100 ml
50 ml
- C) 100 ml
50 ml
- D) 100 ml
50 ml

13. Ali, bir kabın içine bir miktar kolonya döküyor. Bir süre sonra kap içerisinde kolonya kalmadığını gözlemliyor.



Buna göre kolonya ile ilgili aşağıdaki-lerden hangisi söylenebilir?

- A) Donmuştur.
- B) Ortama ısı vermiştir.
- C) Sıvı hâlden gaz hâle geçmiştir.
- D) Katı hâlden sıvı hâle geçmiştir.

14. Zeynep, maddelerin ısınıp soğumasıyla ilgili aşağıdaki deneyi gerçekleştiriyor.
- Ocağa ısıttığı demir bilyeyi bir maşa yardımıyla alıp buzdolabından çıkardığı soğuk su dolu bardağın içine atıyor.
 - Bir süre sonra bardağa dokunduğunda suyun ılık olduğunu gözlemliyor.

Buna göre, Zeynep'in deneyle ilgili aşağıdaki yorumlarından hangisi yanlıştır?

- A) Su, ısı almıştır.
- B) Bilye, ısı vermiştir.
- C) Suyun sıcaklığı artmıştır.
- D) Sudan bilyeye ısı akışı olmuştur.

15. Bir öğretmen derse üç farklı karışım getirerek "Bu karışımları hangi yöntemleri kullanarak ayırabiliriz?" diye sormuştur. Öğrencilerin vermiş olduğu cevaplar aşağıdaki gibidir.

Mehmet : Pirinç - su karışımını eleme yöntemi ile ayırabiliriz.

Ayşe : Kum - çakıl taşı karışımını süzme yöntemi ile ayırabiliriz.

Kerem : Demir tozu - odun talaşı karışımını mıknatısla ayırma yöntemi ile ayırabiliriz.

Buna göre hangi öğrencilerin ifadeleri doğrudur?

- A) Yalnız Ayşe
- B) Yalnız Kerem
- C) Mehmet ve Ayşe
- D) Ayşe ve Kerem

16. Uygun koşullarda kurutulan gıdalar küçülür ve ağırlıkları azalır.

Bu bilgiye göre kurutulan gıdalarda ağırlığın azalmasına neden olan temel madde aşağıdakilerden hangisidir?

- A) Su
- B) Protein
- C) Yağ
- D) Karbonhidrat


17. Canlıların deri altında depo edilerek vücutlarını sıcak tutmalarını sağlayan besin içeriği aşağıdakilerden hangisidir?

- A) Karbonhidrat
C) Mineral
- B) Protein
D) Yağ

18. Aşağıdakilerden hangisi gıda israfını önlemeye yönelik bir davranış değildir?

- A) Alışverişe çıkmadan önce ihtiyaç duyulan besinlerin listesini hazırlamak
B) Çabuk bozulan gıdalardan tüketeceğimiz kadar satın almak
C) Yemekte sadece en sevdiğimiz yemeği tüketmek
D) Yemek servisi sırasında yiyebileceğimiz kadar yemek almak

19. Bir okulun bazı bölgelerine yerleştirilen geri dönüşüm kutuları aşağıdaki gibidir.



Bu kutular hangi amaçla yerleştirilmiştir?

- A) Atık miktarının artırılması
B) Atıkların üretime tekrar dâhil edilmesi
C) Enerji tasarrufu sağlanması
D) Doğal kaynakların tüketiminin azaltılması

20. Aşağıdakilerden hangisi suyun yeniden kullanımına örnektir?

- A) Su damlatan muslukların tamir edilmesi
B) Mutfakta meyvelerin yıkandığı sularla çiçeklerin sulanması
C) Bulaşıkların bulaşık makinesinde yıkanması
D) Diş fırçalarken suyun açık bırakılmaması



1. Levent, 05.09.2020 tarihinde yapılan bir sınava görseli verilen kimlik kartıyla girmek istediğinde görevliler bu kimlik kartının geçersiz olduğunu söylemiştir.



Bu durumun yaşanmasının sebebi aşağıdakilerden hangisi olabilir?

- A) Levent'in Türkiye Cumhuriyeti vatandaşı olmaması
 B) Kimlik kartının kullanım süresinin dolmuş olması
 C) Doğum tarihinin olmaması
 D) Kimlik kartının fotoğrafsız olması

2. Büşra, yaşamındaki önemli olaylarla ilgili bir zaman şeridi hazırlamıştır. Ancak zaman şeridinin kronolojik sıralamasında bir hata yapmıştır.



Bu zaman şeridindeki kronolojik sıralamanın doğru olması için kaç numaralı olaylar yer değiştirmelidir?

- A) 1 ve 6
 B) 2 ve 3
 C) 4 ve 5
 D) 5 ve 6

3. Merhaba. Benim adım Pelin. 12 yaşındayım. Çizim tekniği konusunda çok iyi olmasam da 4 yaşından beri boyama ve resim yapmaya devam ediyorum. İlkokula ilk başladığım sene yüzme kursuna gittim ve yüzmeyi çok sevdim. Halen iyi yüze mesem de suyu ve havuzu çok seviyorum. Dördüncü sınıfa geçtiğimizde okulumdaki Fotoğrafçılık Kulübüne katıldım. Öğretmenim, ilk defa fotoğraf makinesi kullanmama rağmen kısa sürede çok hızlı yol kat ettiğimi söyledi. Sene sonunda çektiğimiz fotoğrafları EBA'nın düzenlediği fotoğraf yarışmasına gönderdik ve ben çocuklar kategorisinde Türkiye ikincisi oldum. Şimdilerde ise gitar kursuna başladım ve yeni bir enstrüman çalmayı öğrenecek olmanın heyecanını yaşıyorum.

Buna göre Pelin aşağıdakilerin hangisinde daha yeteneklidir?

- A) Fotoğraf çekmede
- B) Gitar çalmada
- C) Resim yapmada
- D) Yüzmede

4. Misafirlere kahve ikram etmek, bayramlarda büyüklerin ellerini öpmek, hastaları ziyaret etmek millî kültürümüzü yansıtan öğelerdendir.

Verilen örnekler hangi kültürel unsuruza aittir?

- A) El sanatları
- B) Gelenek ve görenekler
- C) Mimarî yapılar
- D) Halk oyunları

5. **Osmanlı Devleti'nin "bağımsızlığını ve kendini savunma hakkını" kaybettiği antlaşma aşağıdakilerden hangisidir?**

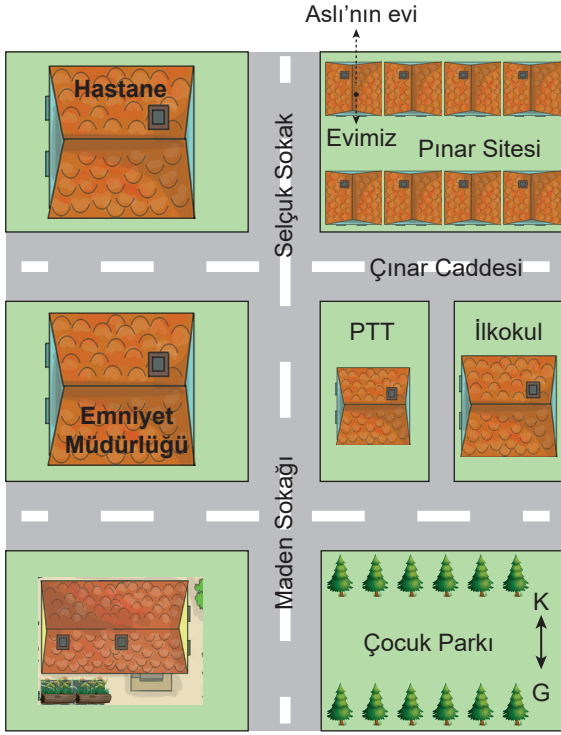
- A) Mudanya Ateşkes Antlaşması
- B) Ankara Antlaşması
- C) Gümrü Antlaşması
- D) Mondros Ateşkes Antlaşması

6. • Büyük Taarruz'un planlarının hazırlanması ve başarıyla uygulanmasında rol oynamıştır.
• Mustafa Kemal'in teklifiyle rütbesi mareşalliğe yükseltilmiştir.

Hakkında bilgi verilen kişi aşağıdakilerden hangisidir?

- A) İsmet Paşa
- B) Fevzi Paşa
- C) Kazım Karabekir
- D) Hasan Tahsin

7. Aslı, arkadaşlarına evinin yerini tarif etmek için aşağıdaki krokiyi çizmiştir.

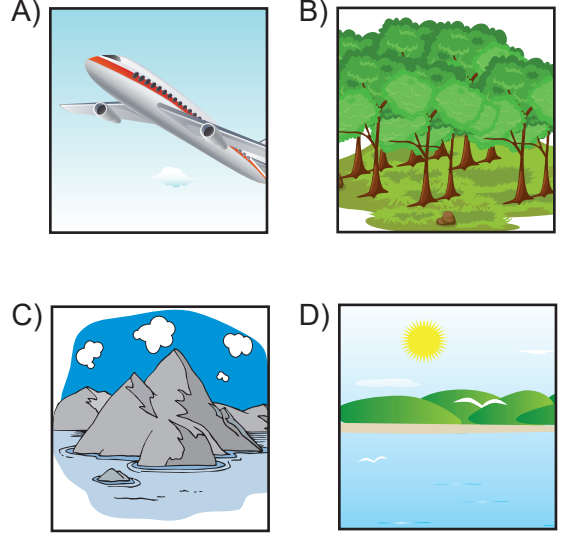


Buna göre krokiyle ilgili aşağıdaki bilgilerden hangisi yanlıştır?

- A) Kuşbakışı çizimlerdir.
B) Ölçek kullanılarak çizilirler.
C) Herkes tarafından bilinen önemli yerler gösterilir.
D) İstenirse yön oku eklenebilir.

8. Dünya'daki beşeri unsurların ortak özelliği insan aklının, becerisinin ve emeğinin sonucunda ortaya çıkmasıdır.

Buna göre, aşağıdakilerden hangisi beşeri unsurlardan biridir?



9. 26 Ocak Pazar günü hava durumunu televizyondan öğrenen Hüseyin Bey "Yarın memlekete arabamla gitmeyi düşünüyordum. Önümüzdeki dört gün boyunca Anadolu'da aralıksız yoğun kar yağışı olacakmış. Bu durumda seyahatimi bir hafta ertelemem gerekecek, oysa hava bugün günlük güneşlik!" demiştir.

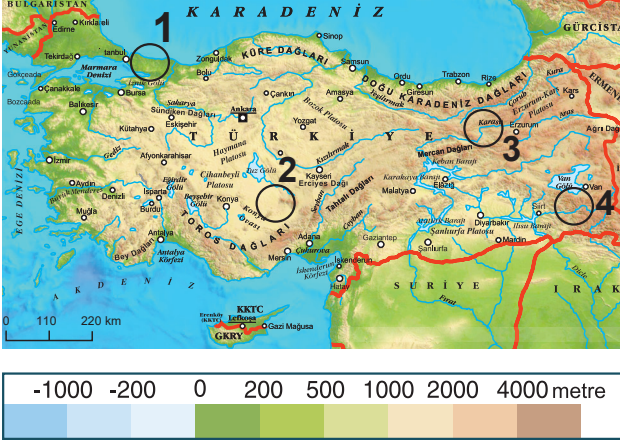
Buna göre tablodaki kaç numaralı yer Hüseyin Bey'in bahsettiği 5 günlük hava durumunu göstermektedir?

	26 Ocak	27 Ocak	28 Ocak	29 Ocak	30 Ocak
	Pazar	Pazartesi	Salı	Çarşamba	Perşembe
1					
2					
3					
4					

	Yağmurlu		Karlı
	Parçalı bulutlu		Güneşli

- A) 1 B) 2 C) 3 D) 4

10. Türkiye’de yükseltinin azaldığı yerlerde nüfus yoğunlukları fazla, yükseltinin arttığı yerlerde ise azdır. Haritada farklı yükselti basamaklarındaki yerler numaralarla gösterilmiştir.



Buna göre Türkiye fiziki haritasında numaralanmış yerlerin hangisinde nüfus yoğunluğunun diğerlerine göre yüksek olduğu söylenebilir?

- A) 1 B) 2 C) 3 D) 4

11. “Deprem öldürmez, bina öldürür.” sözünde deprem afetine karşı aşağıdakilerden hangisinin önemi vurgulanmaktadır?

- A) Büyük ve yüksek binalar yapılmasının
B) İlk yardım çantasının hazır bulundurulmasının
C) Evlerde lüks ve pahalı eşyalar kullanılmasının
D) Sağlam binalar yapılmasının

12. • Bulaşık makinesi
• Çamaşır makinesi
• Elektrik süpürgesi

Yukarıda verilen teknolojik ürünler hangi alanda kullanılmaktadır?

- A) Beslenme
B) Temizlik
C) Haberleşme
D) Sağlık

13. Aşağıdakilerden hangisi uçma çalışması yapan bilim insanlarından biri değildir?

- A) Claude Chappe
B) Hezarfen Ahmet Çelebi
C) Lagari Hasan Çelebi
D) Henri Giffard

14. Teknolojinin kullanımı ile ilgili olarak aşağıdakilerden hangisi yanlıştır?

- A) Yeni bir teknolojik ürün alındığında kullanım kılavuzu incelenmelidir.
B) Görüşmeler kulaklıkla yapılarak cep telefonunun yaydığı radyasyondan korunulmalıdır.
C) Gece çalışırken ışık, masanın üzerine vuracak şekilde sol çaprazdan gelmelidir.
D) Televizyon uzun süre yakından izlenmelidir.

15. Aşağıdakilerden hangisi insanların temel ihtiyaçlarından biri değildir?

- A) Beslenme
- B) Barınma
- C) Seyahate çıkma
- D) Giyinme

16. Aşağıda bazı ekonomik faaliyetler ve bu faaliyetlerin yapıldığı yerler eşleştirilmiştir.

Bu eşleştirmelerden hangisi yanlıştır?

- A) İzmit - Sanayi
- B) Zonguldak - Madencilik
- C) Kars - Fındık tarımı
- D) Antalya - Turizm

17. Aşağıdakilerden hangisi ambalajlı gıda maddesi alırken yapılması gerekenlerden biri değildir?

- A) Pahalı ürünleri tercih etmek
- B) Son kullanma tarihini kontrol etmek
- C) İçindekiler bölümünü incelemek
- D) TSE damgasına bakmak

18. Birleşmiş Milletler Çocuk Hakları Sözleşmesi'ne göre her çocuğa doğumundan hemen sonra bir isim verilerek, kimlik kaydetme işlemi başlatılmalıdır.

Bu durum aşağıdaki çocuk haklarından hangisine yöneliktir?

- A) Beslenme
- B) Barınma
- C) Vatandaşlık
- D) İfade özgürlüğü

19. Aşağıdakilerden hangisi bir çocuğun ev ortamındaki sorumluluklarından değildir?

- A) Üyesi olunan eğitsel kulüp toplantılarına düzenli olarak katılmak
- B) Oyun oynadıktan sonra tüm oyuncakları toplayıp yerine kaldırmak
- C) Elektronik cihazları kullanmadığında kapatarak enerji tasarrufu sağlamak
- D) Yemek masasının hazırlanmasına ve toplanmasına yardım etmek

20.



Verilen görsel aşağıdakilerden hangisine örnek oluşturmaz?

- A) Milli birlik ve beraberliğe
- B) Adaletli olmaya
- C) Vatanseverliğe
- D) Fedakarlığa

SOSYAL BİLGİLER TESTİ BİTTİ.
İNGİLİZCE TESTİNE GEÇİNİZ.



1 - 10. sorularda boş bırakılan yere uygun gelen kelime ya da ifadeyi işaretleyiniz.

1.



My father works at a clinic. He likes helping animals. He is a - - - -.

- A) waiter B) vet
C) fireman D) singer

2.




He is Tom. This is - - - - bike.

- A) his B) her C) my D) your

3.

Mary's Likes and Dislikes



Mary likes - - - - but she dislikes - - - -.

- A) drawing / flying a kite
B) playing chess / swimming
C) riding a bike / playing tennis
D) flying a kite / playing chess

4.



I - - - - at nine o'clock.

- A) go to school B) meet friends
C) do homework D) go to bed

5. Emily : - - - -?

Sam : Salad.


- A) Are you thirsty
B) Where is the lemonade
C) Do you have salad for breakfast
D) What is your favourite food

6. Sam : Do you want a cupcake?

Mia : No, thanks. - - - -

- A) Sure! B) Yummy!
C) I can eat some. D) I am full.

7.



- A) do an experiment
B) ride a bike
C) play basketball
D) draw pictures

8. Andrew : Where does your father work?
Amy : - - - - .

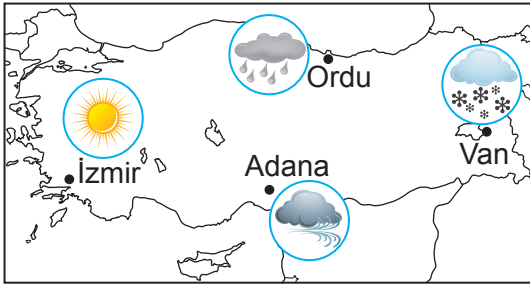
- A) At 3 o'clock
- B) On Wednesday
- C) At a restaurant
- D) In the afternoon

9. Andrew : - - - - ?

Ashley : An egg, some olives and cheese.

- A) What do you want for breakfast
- B) What time do you have breakfast
- C) What about fish and chips
- D) What is your favourite drink

10.



The weather in - - - - is rainy.

- A) Adana
- B) İzmir
- C) Ordu
- D) Van

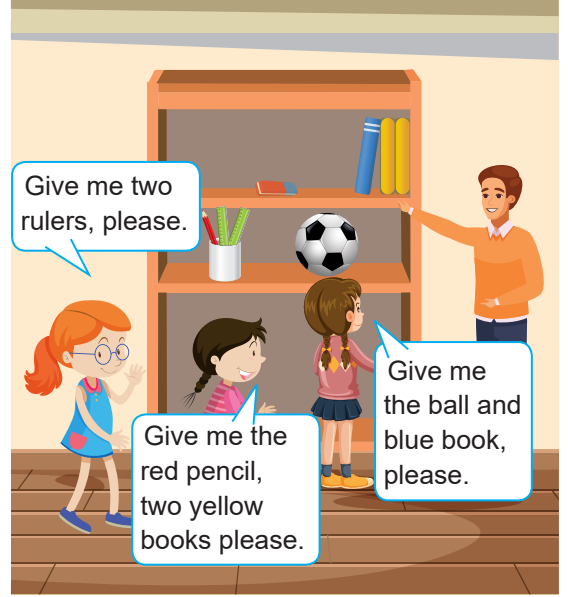
11.

27 → Twenty- seven
39 → Thirty - eight
43 → Forty - three
56 → Fifty - six





Hangi sayının İngilizce karşılığı yanlış verilmiştir?

- A) 27
- B) 39
- C) 43
- D) 56

12.



Görselde verilen cümlelere göre hangi nesne istenmemiştir?





- A) 
- B) 
- C) 
- D) 

13. Hello ! My name is Tony. I am from Britain. I am British. I am a chef. I work at a restaurant.

Bu parçada aşağıdaki sorulardan hangisinin cevabı yoktur?

- A) What is his name?
- B) Where is he from?
- C) What is his job?
- D) Where is his restaurant?

14. Aşağıdaki görsel ve cümle eşleştirmelerinden hangisi yanlıştır?

- A)  → Open the window.
- B)  → Turn on the lights.
- C)  → Be quiet.
- D)  → Stand up.

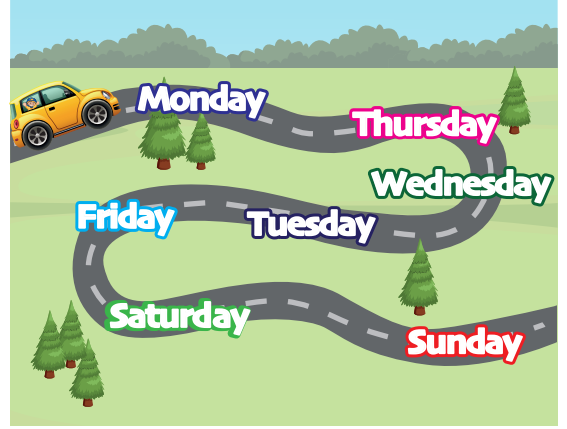
15.



Görsele göre "I am flying a kite now." cümlesini söyleyen çocuk kimdir?

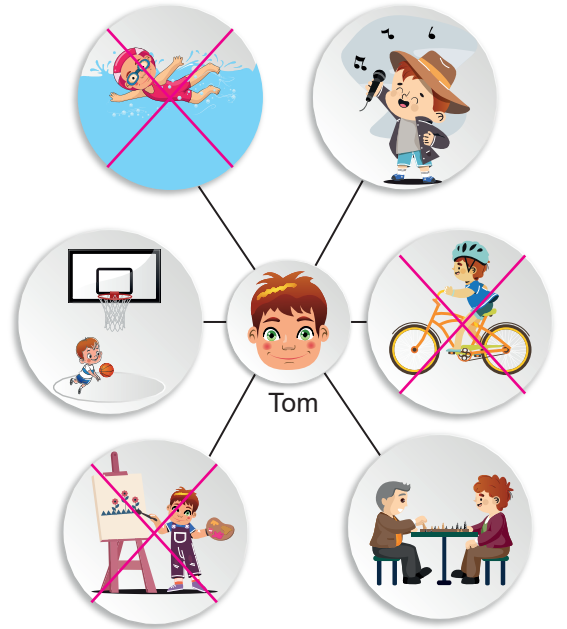
- A) Mary
B) Jane
C) Sally
D) Paula

16. Görsele arabanın gidiş yönüne göre günlerin İngilizce isimlerinin sıralanışı yanlış verilmiştir. Bu durumu düzeltmek için hangi gün isimleri yer değiştirilmelidir?



- A) Monday - Saturday
B) Friday - Wednesday
C) Thursday - Tuesday
D) Sunday - Tuesday

17. Tom'un yapamadığı aktiviteler görsellerde üstüne çarpı işareti konularak gösterilmiştir.



Buna göre aşağıdakilerden hangisi yanlıştır?

- A) He can play basketball.
B) He can play chess.
C) He can't draw.
D) He can't sing.

18.



Bu görsele göre aşağıdakilerden hangisi yanlıştır?

- A) Students are in the classroom.
- B) The teacher is near the table.
- C) The pencil case is under the table.
- D) The map is behind the students.

19 - 20. soruları aşağıdaki parçaya göre cevaplayınız.

Hi, I'm Tina.
I'm short. My hair is blonde and curly.
This is my family. My father is tall and slim.
His hair and beard are dark brown. My
mother is beautiful. She is tall and slim.
She has short straight blonde hair. My
grandmother is old. She wears glasses. She
has wavy brown hair.
I love my family.

19. Bu parçaya göre aşağıdakilerden hangisi doğrudur?

- A) Tina has straight hair.
- B) Her father is tall and slim.
- C) Her mother has long blonde hair.
- D) Her grandfather wears glasses.

20. Tina'nın anlattıklarına göre, aşağıdakilerden hangisi Tina'nın ailesi olabilir?

A)



B)



C)



D)



TEST BİTTİ.
CEVAPLARINIZI KONTROL EDİNİZ.

SINAV BAŞLAMADAN AŞAĞIDAKİ UYARILARI MUTLAKA OKUYUNUZ!

1. Öğrenciler, sınav kurallarına ve salon görevlilerinin tüm uyarılarına uymak zorundadırlar.
2. Cevap kâğıdındaki kimlik bilgilerinin doğruluğunu kontrol ediniz. Bilgiler size ait değilse veya cevap kâğıdı kullanılmayacak durumdaysa sınav görevlilerine bildirin.
3. Sınav başladıktan sonra öğrencilerin salon görevlileri ve birbirleri ile konuşmaları, kalem, silgi vb. şeyleri istemeleri yasaktır.
4. Değiştirmek istediğiniz bir cevabı, yumuşak silgiyle cevap kâğıdını yıpratmadan temizce siliniz ve yeni cevabınızı kodlayınız.
5. Cevap kâğıdınızı siyah kurşun kalemle imzalayınız.
6. Cevaplarınızı, cevap kâğıdındaki ilgili soru numarasını dikkate alarak yuvarlağın dışına taşırmadan kodlayınız.
7. Soru kitapçığının sayfalarını kontrol ediniz, baskı hatası var ise değiştirilmesini sağlayınız.
8. Soru kitapçığı üzerinde yapılp cevap kâğıdına işaretlenmeyen cevaplar değerlendirmeye alınmayacaktır.
9. Soru kitapçığının içindeki boş alanları çözümlerinizi için kullanabilirsiniz.
10. Cevaplamaya istediğiniz sorudan başlayabilirsiniz.
11. Cevabını bilmediğiniz sorular üzerinde fazla zaman kaybetmeden diğer sorulara geçiniz. Zamanınız kalırsa bu sorulara daha sonra dönebilirsiniz.
12. Sınav puanınızın hesaplanmasında 3 yanlış 1 doğru cevabınızı götürecektir. Alt testler bu şekilde hesaplanarak net puanlarının toplamı toplam net puanınızı verecektir.
13. Sınav bitiminde, soru kitapçığı ve cevap kâğıdını salon görevlilerine teslim ediniz.
14. Sınav sırasında çanta, cep telefonu, saat, kablosuz iletişim sağlayan cihazlar ve kulaklık, kolye, küpe, bilezik, yüzük, broş ve benzeri eşyalar ile her türlü elektronik ve/veya mekanik cihazları yanınızda bulundurmuyunuz. Bu araçları yanınızda bulundurmanız ve kopya çekmeye teşebbüs etmeniz hâlinde sınavınız geçersiz sayılacaktır.
15. Cevap kâğıdınızı sınav süresince hiçbir öğrencinin göremeyeceği şekilde önünüzde bulundurunuz.
16. Sınavınızın değerlendirilmesi aşamasında, toplu kopya tespiti veya başka adayın sınav evrakını kullanmanız durumunda sınavınız geçersiz sayılacaktır.
17. Soruları ve sorulara verdiğiniz cevapları kaydetmeyiniz, hiçbir şekilde dışarı çıkarmayınız.
18. İlk 15 dakika dışarı çıkılmayacaktır.
19. Sınav evraklarını teslim etmeyenlerin sınavı geçersiz sayılacaktır.

SINAV GÖREVLİLERİNCE SINAV BAŞLAMADAN ÖNCE ÖĞRENCİLERE YAPILACAK SON UYARI!

- Soracağınız bir şey var mı? Varsa, şimdi sorunuz.
- Sınav başladıktan sonra sorularınıza cevap verilmeyecektir.
- Başlama zilini bekleyiniz.

Hepinize başarılar dileriz.

(Sınav görevlisi başlama ve bitiş saatini tahtaya yazacaktır.)

Bu kitapçığın her hakkı saklıdır. Hangi amaçla olursa olsun, kitapçığın tamamının veya bir kısmının Millî Eğitim Bakanlığı Ölçme, Değerlendirme ve Sınav Hizmetleri Genel Müdürlüğü'nün yazılı izni olmadan kopya edilmesi, fotoğraflarının çekilmesi, bilgisayar ortamına alınması, herhangi bir yolla çoğaltılması, yayımlanması veya başka bir amaçla kullanılması yasaktır. Bu yasağa uymayanlar, doğabilecek cezai sorumluluğu ve kitapçığın hazırlanmasındaki mali külfeti peşinen kabullenmiş sayılır.

**13 HAZİRAN 2021 TARİHİNDE YAPILAN VEHBİ KOÇ VAKFI,
KOÇ ÖZEL İLKOKULU VE ORTAOKULU SEVİYE TESPİT SINAVI
5. SINIF "A" KİTAPÇIĞI CEVAP ANAHTARI**

TÜRKÇE	MATEMATİK	FEN BİLİMLERİ	SOSYAL BİLGİLER
1. B	1. B	1. C	1. D
2. D	2. C	2. B	2. C
3. B	3. A	3. B	3. A
4. C	4. B	4. A	4. B
5. D	5. B	5. D	5. D
6. D	6. C	6. C	6. B
7. B	7. C	7. D	7. B
8. D	8. A	8. C	8. A
9. C	9. B	9. B	9. C
10. B	10. C	10. A	10. A
11. C	11. B	11. D	11. D
12. A	12. D	12. D	12. B
13. C	13. C	13. C	13. A
14. A	14. D	14. D	14. D
15. B	15. B	15. B	15. C
16. B	16. A	16. A	16. C
17. D	17. D	17. D	17. A
18. A	18. A	18. C	18. C
19. A	19. C	19. A	19. A
20. C	20. D	20. B	20. B

İNGİLİZCE

1. B
2. A
3. B
4. D
5. D
6. D
7. A
8. C
9. A
10. C
11. B
12. B
13. D
14. B
15. A
16. C
17. D
18. C
19. B
20. C