



3.
SINIF



B
KİTAPÇIK TÜRÜ

T.C.
MİLLÎ EĞİTİM BAKANLIĞI
ÖLÇME, DEĞERLENDİRME VE SINAV HİZMETLERİ
GENEL MÜDÜRLÜĞÜ

VEHBİ KOÇ VAKFI, KOÇ ÖZEL İLKOKULU VE ORTAOKULU SEVİYE TESPİT SINAVI
(2. Sınıftan 3. Sınıfa Geçenler)
5 TEMMUZ 2020 Saat: 10.00

Adayın Adı ve Soyadı :

Aday Numarası (T.C. No) :

DERS ADI	SORU SAYISI	TOPLAM SORU SAYISI	SINAV SÜRESİ (DAKİKA)
TÜRKÇE	20	60	80
MATEMATİK	20		
HAYAT BİLGİSİ	20		

ÖĞRENCİLERİN DİKKATİNE!

1. Sınıf öğrenci yoklama listesinde belirtilen sınıfta ve sıra numarasında oturunuz.
2. Cevap kâğıdındaki kimlik bilgilerinin doğruluğunu kontrol ediniz.
3. Kitapçık türünü cevap kâğıdındaki ilgili alana kodlayınız.
4. Cevap kâğıdı üzerindeki kodlamaları kurşun kalemle yapınız.



SINAV BAŞLAMADAN ÖNCE KİTAPÇIĞIN ARKA KAPAĞINDAKİ UYARILARI MUTLAKA OKUYUNUZ.

1. Şehrin en kirli sokaklarında yürümek zorunda kaldık.

Bu cümledeki altı çizili sözcüğün eş anlamlısı aşağıdakilerin hangisinde vardır?

- A) Evimizin önünden geçen dere pis görünüyordu.
B) İşe gidecekti ama temiz bir elbisesi kalmamıştı.
C) Araba yıkandığı için tüm izler kaybolmuştu.
D) Okulumuz boyandıktan sonra pırıl pırıl oldu.

2. 1. basketbolun
2. değiştirecek
3. Türkiye’de
4. geleceğini
5. onlar

----- kararlar
imza atıyorlardı.

Anlamlı bir cümle oluşturmak için numaralanmış sözcükler, yukarıdaki boşluklara hangi sırayla yerleştirilmelidir?

- A) 3 - 5 - 2 - 1 - 4
B) 3 - 5 - 1 - 2 - 4
C) 5 - 1 - 2 - 4 - 3
D) 5 - 3 - 1 - 4 - 2

3. Aşağıdaki cümlelerin hangisinde özenme anlamı vardır?

- A) Öğretmeninin onunla ilgilenmesi hoşuna gidiyordu.
B) Beğendiği futbolcuya benzemek için çok çalışıyordu.
C) Çocuklar taşındıkları yeni evlerini çok beğenmişti.
D) Doğum günü pastası arkadaşının pastasından güzeldi.

4. Aşağıdaki sözcükler alfabetik sıraya göre dizildiğinde hangisi baştan üçüncü sırada yer alır?

- A) Bütün B) Bulut C) Boğaz D) Boncuk

5. “Kaplamak” sözcüğü aşağıdakilerin hangisinde “çepeçevre sarmak” anlamında kullanılmıştır?

- A) Köydeki evimizin etrafını ormanlar kaplamıştı.
B) Şehir dışına çıktığımızda etrafı bir sessizlik kaplamıştı.
C) Okula başlamadan önce defterlerini kaplamıştı.
D) Evimize gelen dedemi görünce içimi sevinç kapladı.

6. Aşağıdaki cümlelerin hangisinde zıt anlamlı sözcükler bir arada kullanılmamıştır?

- A) Ağacın üst dallarındaki meyveleri topladıktan sonra alt dallara geçmiştik.
B) Tuttuğum ev iş yerime uzak ama anneme yakın bir semtteydi.
C) Bizim mahalleye gidebilmek için yokuş yukarı çıkmamız gerekiyordu.
D) Aldığım lambaların kimisi bozuk kimisi sağlamdı.

7. Kayra çok heyecanlıydı. Evde içi içine sığmıyordu. Muğla'ya gidecekleri için valizlerini hazırladı. Gidecekleri tatil yerini görmek ve denizde yüzmek için sabırsızlanıyordu. Bu tatili hak ettiğini düşünüyordu. Çünkü okulu birincilikle bitirmişti.

Bu metinde aşağıdaki hikâye unsurlarından hangisi yoktur?

- A) Zaman B) Yer C) Olay D) Kişi

8. Okulumuz tarihî, eski bir taş binaydı. Bu eski okulun taş koridorlarında sadece öğrencilerin sesleri yankılanıyordu. Uzun koridor, yarı aydınlıktı.

Bu metinde aşağıdaki duyulardan hangisine yer verilmiştir?

- A) Tatma B) Dokunma C) İşitme D) Koklama

9. Kara kaplumbağası çoğunlukla bitkilerle beslenir. Kaplumbağanın sert, kemikli ve desenli kabuğu vardır. Ayaklarında beşer parmak bulunur. Parmak uçlarındaki tırnaklar kıvrık ve serttir. Kaplumbağa hava soğumaya başlayınca bol güneşli bir yerde bir oyuk açıp içinde uyumaya başlar. Bu uyku ilkbahara kadar sürer.

Bu metin “kara kaplumbağası” ile ilgili aşağıdaki sorulardan hangisine cevap vermez?

- A) Kabuklarının yapısı nasıldır?
B) Ne kadar uyurlar?
C) Neyle beslenirler?
D) Tırnaklarını niçin kullanırlar?

10. Ağaçlar ürettikleri oksijen ile dünyamız için çok önemlidir. Bunun dışında canlılar için besin kaynağı ve yaşam alanıdır. - - - - bu kadar yararlı olduklarını pek kimse bilmez.

Bu metindeki boşluğa aşağıdakilerden hangisi getirilmelidir?

- A) Sanki B) Ancak C) Böylece D) Veya

11. Atlar genellikle taze ve kuru ot, saman ve tahıl yerler. Çok yorulduklarında genellikle ayakta dinlenir ve uyurlar. Bacaklarındaki bir yapı sayesinde uyurken bacaklarını kilitleyerek düşmeden ayakta uyuyabilirler. İri ve yuvarlak gözleri sayesinde her yeri görebilirler. İyi koku aldıkları ve işittikleri için de tehlikeyi kolayca fark ederler.

Bu metinde “atlar” ile ilgili aşağıdakilerden hangisine değinilmemiştir?

- A) Bacaklarının özelliğine
B) Boylarının uzunluğuna
C) Nasıl uyduklarına
D) Gözlerinin şekillerine

12. 1. Doğranmış incirler kaynamakta olan şerbetin içerisinde pişirilir.
2. İncir reçeli için yörenin olgunlaşan incirleri toplanarak kurutulur.
3. Bir süre sonra ocaktan indirilerek içine kavrulmuş susam, ceviz konur.
4. Kurutulmuş incirler üst üste konur ve bıçakla ince ince doğranır.

Numaralanmış cümleler olayların oluş sırasına göre nasıl sıralanmalıdır?

- A) 1 - 4 - 2 - 3 B) 1 - 2 - 4 - 3
C) 2 - 1 - 4 - 3 D) 2 - 4 - 1 - 3

13. Aşağıdaki cümlelerin hangisinde büyük harflerin kullanımıyla ilgili bir yanlışlık yapılmıştır?

- A) Köpeğim çalgın, sorun çıkarmadığı için rahatça gezebiliyordu.
- B) 13 Kasım Perşembe günü çıkan gazeteler ondan söz ediyordu.
- C) Bu yıl Ramazan Bayramı'ndan sonra geleceğini söyledi.
- D) Yaz tatilinde, ailemle beraber Bursa'nın eski köylerini gezeceğiz.

14. Düşüncelerimizi, isteklerimizi ve duygularımızı anlatabilmek için konuşma becerilerimizi kullanırız. Ancak konuşmamıza, genellikle duygularımızı daha kolay ifade edebilmek için kimi el kol hareketleri eşlik eder. Kimi zaman konuşmamıza bile gerek kalmaz. Söylemek istediklerimizi bu hareketler yardımıyla anlatabiliriz. Konuşulan dil gibi bu hareketler de ülkeden ülkeye değişebilir. Hatta kimi zaman aynı hareketin anlamı bile ülkeden ülkeye değişebilir.

Bu metinde aşağıdakilerden hangisine değinilmemiştir?

- A) Ellerimizi kullanarak iletişim kurulabileceğine
- B) El kol hareketlerinin anlamlarının ülkelere göre değişebildiğine
- C) Konuşma becerilerimizin el kol hareketleriyle gelişebileceğine
- D) El kol hareketlerinin, duyguların anlatımını kolaylaştırdığına

15. Sen de - - - - olursan - - - - kaçırmazsın.

Anlamalı bir cümle oluşturulmak için boş bırakılan yerlere aşağıdakilerden hangileri getirilebilir?

- A) ilgisiz - sohbeti
- B) dikkatli - ayrıntıları
- C) tembel - sporu
- D) bilgisiz - yemeği

16. Annem evden çıkarken “Dikkatli olun () sakın üstünüzü başınızı kirletmeyin ()” diye söylemişti. Kardeşimi bu çamurlu tahterevalliye nasıl bindirecektim () Bindirmesem, eve götürsem ağlardı.

Bu metinde ayraçlarla gösterilen yerlere sırasıyla aşağıdaki noktalama işaretlerinden hangileri getirilmelidir?

- A) (!) (.) (?) B) (!) (,) (!)
C) (,) (!) (!) D) (,) (!) (?)


17. Bugün uzanıyorsam
Bir ağaç gölgesinde,
Oltamı atıyorsam denize
Yaşamak güzel demektir.
Gökyüzüne uzanıyorsa ellerim,
Yıldızları tutmak için.
Her şey bizler için kardeşlerim,
Her şey insanca yaşamak için.

Bu şiirin ana duygusu aşağıdakilerden hangisidir?

- A) Gelecek endişesi B) Deniz sevgisi
C) Yaşama sevinci D) Geçmişe özlem

18.

KOALALAR



Sıcak yaz günlerinde serinlemek için ağaca sarılırlar.

Günün yaklaşık 20 saatini uyuyarak geçirirler.

Yavrularını kangurular gibi keselerinde taşırlar.

Mükemmel birer yüzücülerdir.

Yanaklarında daha sonra yemek için yaprak biriktirirler.

Bu görseldeki bilgilere göre "koalalar" ile ilgili aşağıdakilerden hangisi söylenebilir?

- A) Günün büyük çoğunluğunu beslenerek geçirirler.
- B) Derin sularda yüzmeyi tercih ederler.
- C) Yavrularını kollarında taşırlar.
- D) Vücut ısılarını düşürmek için ağaçlara tutunurlar.

19.



Bu görsel ile ilgili aşağıdakilerden hangisi söylenebilir?

- A) Doğada en uzun sürede yok olan ürün pet şişedir.
- B) Teneke kutular plastik poşetlerden daha uzun sürede doğada yok olurlar.
- C) Sakızlar pillerden daha uzun sürede yok olur.
- D) Kâğıtlar doğada en kısa sürede yok olan üründür.

20. Ali — Ben olsam hafıza algılayıcı makine icat ederdim. Aklımdan geçirdiğim şeyleri yerimden kalkmadan yapmak isterdim. Bu sayede arkadaşlarımı yanıma getirir, onlarla oynardım.


Mehmet — Söylediğim sözleri müziğe çeviren bir müzik aleti icat etmek isterdim. Kafamda bir şarkı uydurduğumda bunu hemen kayda alıp notalara döksün. Ben de o müzik eşliğinde şarkımı söyleyeyim.

Hasan — İcat edeceğim dolap bütün hava durumlarını incelemeli ve o gün hangi kıyafeti giyeceğimizi hatırlatmalı. Ayrıca odanızı toplamalı. Dolabı açtığınızda oyuncak, kıyafet bölümleri olmalı.

Aşağıdaki görsellerden hangisi bu diyalogda sözü edilen buluşlardan birine ait olamaz?



TÜRKÇE TESTİ BİTTİ.
MATEMATİK TESTİNE GEÇİNİZ.



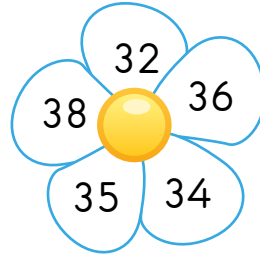
1. Balonların üzerinde yazan sayılar bir sayı örüntüsü oluşturmaktadır.



Buna göre boş bırakılan balona aşağıdakilerden hangisi yazılmalıdır?

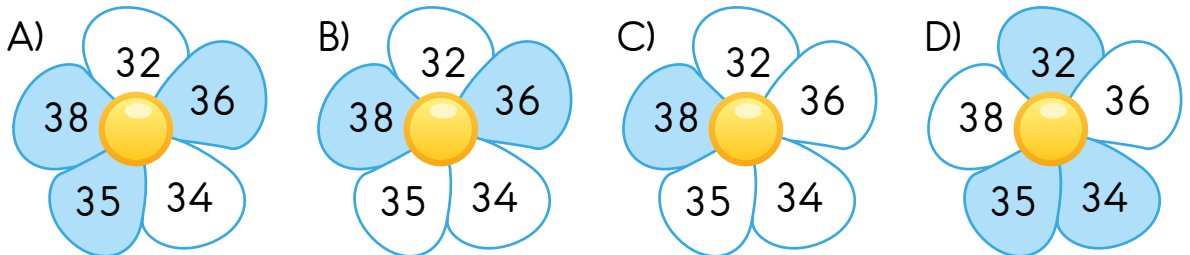
- A) 12 B) 13 C) 14 D) 15

2. Görseldeki çiçeğin yapraklarındaki sayılar en yakın onluğa yuvarlanacaktır.

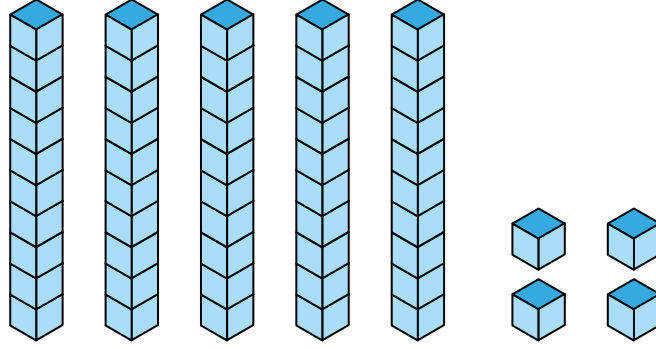


Yuvarlama sonucu 40 olan yapraklar maviye boyanacaktır.

Buna göre bu çiçeğin boyandıktan sonraki görüntüsü aşağıdakilerden hangisidir?



3.



Bloklarla modellenen sayı aşağıdaki tablolardan hangisi ile gösterilebilir?

A)

Basamak Adı	Onlar Basamağı	Birler Basamağı
Basamak Değeri	40	4

B)

Basamak Adı	Onlar Basamağı	Birler Basamağı
Basamak Değeri	40	5


C)

Basamak Adı	Onlar Basamağı	Birler Basamağı
Basamak Değeri	50	4

D)

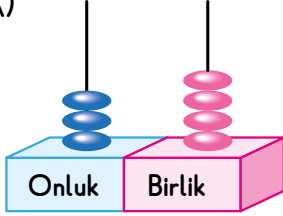
Basamak Adı	Onlar Basamağı	Birler Basamağı
Basamak Değeri	50	5

4.

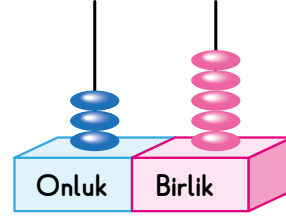


Görseldeki ördek sayısı aşağıdaki abaküslerden hangisi ile gösterilir?

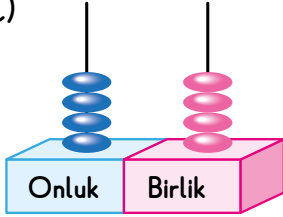
A)



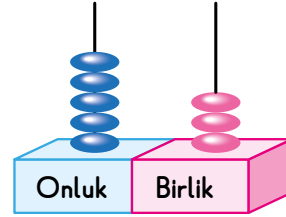
B)




C)



D)



5.



Emre
1. 2. 3. 4. 5.

Görselde verilen yemekhane sırasındaki Ömer, Merve'den sonra Murat'tan öncedir. Ayşe ise Emre'den sonra Merve'den öncedir.

Buna göre Ömer kaçınıcı sıradadır?

- A) 2 B) 3 C) 4 D) 5

6.



Görselde toplam kaç bardak portakal suyu vardır?

- A) 35 B) 36 C) 45 D) 46

7. Nazlı'nın bir düzine kalemi vardır. Çağatay'ın kalemlerinin sayısı, Nazlı'nın kalemlerinin sayısından 3 fazladır.

Buna göre Çağatay ve Nazlı'nın kalemlerinin toplam sayısı kaçtır?

- A) 29 B) 27 C) 24 D) 21

8.



Görseldeki ağaçların yanına kaç tane daha ağaç çizilirse 2 deste ağaç olur?

A) 4

B) 5

C) 6

D) 7

9. Bir pastanede öğleden önce 46 tane, öğleden sonra 35 tane poğaçaya satılmıştır.

Buna göre bu pastanede toplam kaç poğaçaya satılmıştır?

A) 61

B) 71

C) 81

D) 91

10.

$$27 - 12 = 15$$

Verilen işlem aşağıdaki problemlerden hangisinin çözümü olabilir?

A) Elif kalemlerinin 12 tanesini kardeşine verince 27 kalemi kaldı. Elif'in kaç kalemi vardı?

B) 12 fazlası 15 olan sayı kaçtır?

C) Onur'un 27 bilyesi vardı. 12 bilyesini arkadaşına verdi. Onur'un geriye kaç bilyesi kaldı?

D) Bir çiftçinin 27 koyunu vardı. 15 koyun daha aldı. Çiftçinin kaç koyunu oldu?

11.



Görselde modellenen çıkarma işleminin sonucu kaçtır?

A) 16

B) 15

C) 14

D) 13

12. 2 onluk 5 birlik + 2 onluk + ★ = 6 onluk 3 birlik

Verilen eşitlikte ★ yerine aşağıdakilerden hangisi yazılmalıdır?

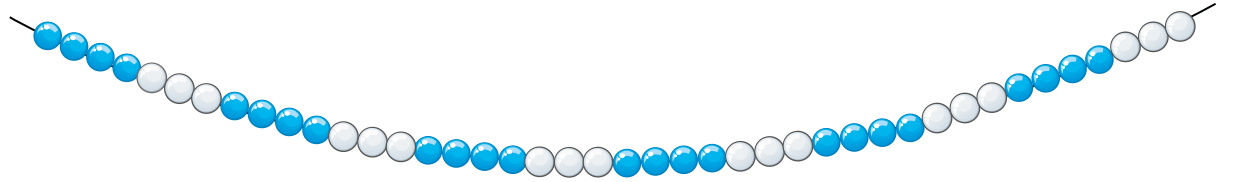
A) 1 onluk 8 birlik

B) 1 onluk 3 birlik

C) 12 birlik

D) 8 birlik

13.



Görseldeki ipe dizilmiş olan; mavi boncuk (●) sayısı, beyaz boncuk (○) sayısından kaç fazladır?

A) 12

B) 10

C) 8

D) 6

14. $89 - \blacktriangle = 59 + 12$

Verilen eşitlikte \blacktriangle kaçtır?

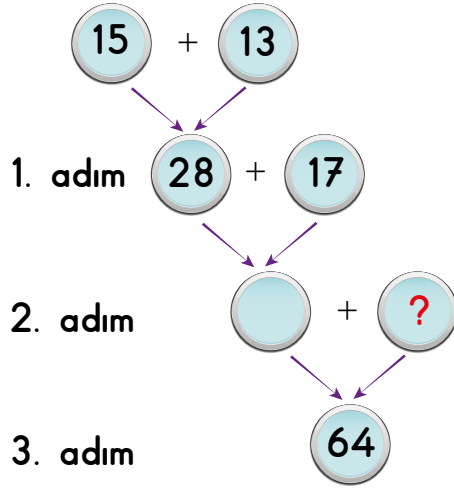
A) 8

B) 18

C) 28

D) 38

15.



Verilen işlemler 1. adımdaki gibi devam ettiriliyor.

Buna göre ? yerine yazılması gereken sayı kaçtır?

A) 17

B) 18

C) 19

D) 20

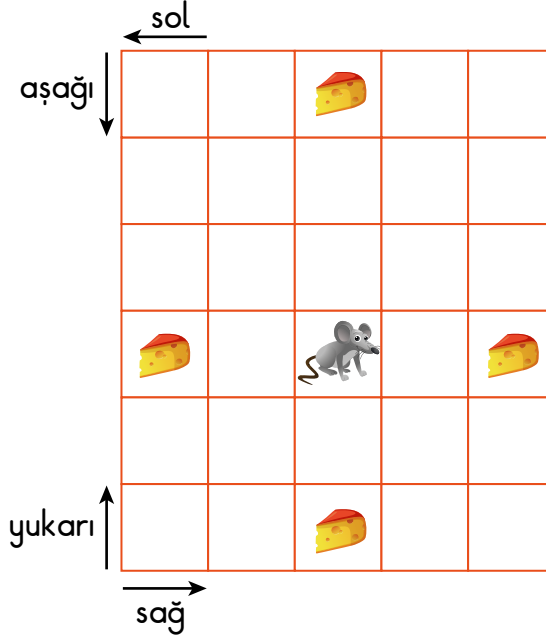
16.



Verilen örüntüde boş bırakılan yerlere sırasıyla aşağıdakilerden hangisi gelmelidir?



17. Aşağıdaki tablo kare kutucuklardan oluşmuştur.



Tabloya göre fare aşağıdaki hareketlerden hangisini yaparsa peynire ulaşamaz?

- A) 3 kutu yukarıya B) 1 kutu aşağıya
C) 2 kutu sola D) 2 kutu sağa


18. Görseldeki sürahi 3 şişe su ile, şişe ise 4 bardak su ile dolmaktadır.



Su ile dolu sürahiden Tolga 2 bardak, Berk 3 bardak su içmiştir. Tolga ve Berk su içtikten sonra Merve 1 şişe suyu sürahiye dökmüştür. Buna göre son durumda sürahide kaç bardak su vardır?

- A) 11 B) 10 C) 9 D) 8

19.



Görselde aşağıdaki geometrik şekillerden hangisi kullanılmamıştır?


A) Çember

B) Üçgen

C) Dikdörtgen

D) Kare

20.



Görseldeki nesnelere aynı geometrik cisme benzer olanlar eşleştiriliyor. Buna göre eşleştirme tamamlandığında aşağıdakilerden hangisi açıkta kalır?

A)



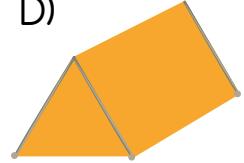
B)




C)







D)



MATEMATİK TESTİ BİTTİ.
HAYAT BİLGİSİ TESTİNE GEÇİNİZ.



1. Aşağıdakilerden hangisi "ihtiyaç ve isteklerimiz" ile ilgili doğru bir ifadedir?

- A)  Önce ihtiyaçlar sonra istekler alınmalıdır.
- B)  Zorunluluğu olmadığı hâlde aldıklarımız ihtiyaçlarımızdır.
- C)  Herkesin istekleri aynıdır.
- D)  Barınma önemsiz bir ihtiyaçtır.

2. Evdeki kaynakların kullanımına ilişkin iki aylık gider tabloları aşağıda verilmiştir.

2020 Ocak Ayı Giderleri

Elektrik faturası	
Su faturası	
Doğal gaz faturası	
Gıda harcamaları	

2020 Şubat Ayı Giderleri

Elektrik faturası	
Su faturası	
Doğal gaz faturası	
Gıda harcamaları	

Ocak ve Şubat ayı gider tabloları karşılaştırıldığında hangi kaynağa harcanan paradan tasarruf sağlandığı söylenebilir?

- A) Elektrik
B) Doğal gaz
C) Su
D) Gıda
3. Emel, ailece ortak kararlar almanın doğru olduğunu düşünüyor.

Emel bu fikrini savunmak için aşağıdakilerden hangisini söylemiş olamaz?

- A) Ailede bütün bireyler söz sahibi olmalıdır.
B) Tüm kararları babalar almalıdır.
C) Söylenen fikirler ailece değerlendirilmelidir.
D) Değişik fikirlere saygı duyulmalıdır.

4. Elif ve ailesi evdeki sorumluluklarını tablodaki gibi paylaşmışlardır.

	Çöp atma	Yemek yapma	Ev temizliği	Tamir işleri	Masayı toplama
Annem		✓	✓		✓
Babam		✓	✓	✓	
Elif	✓		✓		✓
Kardeşim	✓				✓

Tabloya göre aşağıdakilerden hangisi söylenebilir?

- A) Evin tüm işlerini Elif'in annesi yapmaktadır.
- B) Masayı toplama sadece Elif'in görevidir.
- C) Babasının görevi yalnızca tamir işleridir.
- D) Çöp atma görevi Elif ve kardeşine aittir.

5. Aşağıdaki çocuklardan hangisi evinin adresini tam olarak söylemiştir?

- A)  Atatürk Mahallesi
Fatih Sultan Mehmet Caddesi
Çankaya
- B)  Kaya Sokak Çınar Apartmanı No: 1
ANKARA
- C)  Mimar Sinan Mahallesi
Gaziler Sok. No: 38 Daire: 3
Çankaya/ANKARA
- D)  Kardelen Sitesi B Blok No: 7
Çankaya

6. Aşağıdakilerden hangisi yardıma ihtiyaç duyan öncelikli kişilerden değildir?

A)



Yaşlılar

B)



Hamileler

C)



Özel gereksinimli bireyler

D)



Güvenlik görevlileri

7. Zeynep, okul kaynaklarını ve eşyalarını özenli kullanan bir öğrencidir.


Buna göre Zeynep'in aşağıdaki davranışlardan hangisini yapması beklenmez?

- A) Temizlik malzemelerini yeterli miktarda tüketmesi
- B) Lavabo ve tuvaletleri temiz tutması
- C) Sınıftaki lambaları gereksiz yere yakması
- D) Sınıftaki araç ve gereçleri dikkatli kullanması

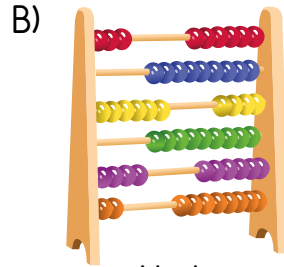
8. Arif'in, pazartesi gününe ait ders programı tabloda verilmiştir.

PAZARTESİ	
1. DERS	Hayat Bilgisi
2. DERS	Türkçe
3. DERS	Türkçe
4. DERS	Matematik
5. DERS	Matematik
6. DERS	Müzik

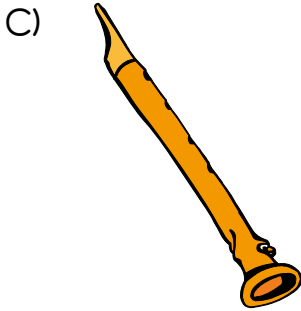
Ders programına göre Arif'in aşağıdakilerden hangisini çantasına koymasına gerek yoktur?




Sulu boya



Abaküs



Flüt



Türkçe Sözlük

9.



Kenan

Teneffüslerde satranç oynamaktan hoşlanırım.
Benimle satranç oynamak ister misin?



Ayça

Satranç yerine voleybol oynamak bana
daha eğlenceli geliyor.

Kenan ve Ayça bu konuşmanın sonunda ortak bir karar almışlardır.

Buna göre Kenan ve Ayça'nın aşağıdakilerden hangisine saygı duydukları söylenebilir?

- A) Bireysel farklılıklarına
- B) Ders başarılarına
- C) Fiziksel özelliklerine
- D) Okul kurallarına

10. Sude : Resim yapmayı çok severim.

Ahmet : Uzun, kahverengi saçlarım var.

Beren : Basketbol oynamak keyifli.

Ezgi : Kitap okumaktan zevk alıyorum.

Buna göre hangi çocuk fiziksel özelliğinden bahsetmiştir?

- A) Sude
- B) Ahmet
- C) Beren
- D) Ezgi

11.



Merve

Bugün okula geldiğimde evde hazırladığım beslenme çantamı unuttuğumu fark ettim.

Buna göre Merve'nin aşağıdakilerden hangisine ihtiyacı olabilir?


A) Defter

B) Kalem

C) Silgi

D) Simit

12. Okul bahçesinde oynarken Eren yanlışlıkla Gökhan'ı düşürmüştür.



Eren

Gökhan

Bu durumda nezaket kurallarına göre Eren'in aşağıdakilerden hangisini söylemesi gerekir?

A) Hep önüme çıkıyorsun!

B) Özür dilerim.

C) Hadi ayağa kalk!


D) Dikkat etsene!

13. Bir grup arkadaş, sınıf kitaplığı oluşturmak için grup çalışması yapmaya karar vermişlerdir.

Buna göre grup görevleri paylaştırılırken aşağıdakilerden hangisine dikkat edilmelidir?

- A) Görevlerin, almak istemeyenlere dağıtılmasına
B) En zor görevleri tek kişinin yapmasına
C) Görev dağılımının yeteneklere göre yapılmasına
D) Yakın arkadaşlara daha çok görev verilmesine

14.



Fatih

Benim iki dedem, anneannem ve babaannem var. Bir halam, bir amcam bir de teyzem var. Nuri amcamın iki çocuğu, Fatma teyzemin de bir çocuğu var. Sibel halamın henüz çocuğu yok. Yani benim üç kuzenim var. Sınıf arkadaşım Onur'un da benim gibi bir halası var.

Bu metne göre aşağıdakilerden hangisi Fatih'in akrabası değildir?

- A) Sibel B) Onur C) Fatma D) Nuri

15. Sağlığımız için meyve ve sebzeleri mevsiminde tüketmeliyiz.

Buna göre aşağıdaki meyvelerden hangisini kış mevsiminde tüketmeliyiz?




Portakal



İncir



Çilek



Kayısı

16. Öğretmen derste sağlıklı büyüme ve gelişme için aşağıdaki görselleri kullanıyor.



Buna göre öğretmenin sağlıklı büyüme ve gelişme için aşağıdakilerden hangisini söylemesi beklenir?

- A) Sağlığımız için kişisel bakımımıza dikkat etmeliyiz.
B) Yeterli ve dengeli beslenmeliyiz.
C) Dinlenmek için yeterince uyumalıyız.
D) Sağlıklı büyüme ve gelişme için spor yapmalıyız.
17. Doktorların reçeteye yazdıkları ilaçları hazırlar. Bu ilaçları, doktorların belirlediği gibi kullanmamız için gerekli açıklamaları yapar.

Yukarıda belirtilen işleri yapan sağlık görevlisi aşağıdakilerden hangisidir?

- A) Hemşire B) Eczacı C) Diş hekimi D) Ebe

18. Yeterli ve dengeli beslenme için aşağıdakilerden hangisinin yapılması uygun değildir?

- A) Ana ve ara öğünlerimizi aksatmamalıyız.
B) Her öğünde hem hayvansal hem de bitkisel besinler tüketmeliyiz.
C) Vücudumuzun ihtiyacı oranında su tüketmeliyiz.
D) Sadece protein ağırlıklı yiyecekler yemeliyiz.

19. Aşağıdaki çocuklardan hangisinin davranışı sağlıklı büyüüp gelişmesi için uygun değildir?

A)



Diş fırçalamak

B)



Egzersiz yapmak

C)



Düzensiz uyumak


D)



El yıkamak

20. Aşağıdakilerden hangisi kişisel bakım için yanlış davranışlardandır?

- A) Düzenli aralıklarla tırnak kesmek
- B) Yemekten önce ve sonra elleri yıkamak
- C) Başkasının havlusunu ve tarağını kullanmak
- D) Düzenli duş almak



TEST BİTTİ.
CEVAPLARINIZI KONTROL EDİNİZ.

SINAV BAŞLAMADAN AŞAĞIDAKİ UYARILARI MUTLAKA OKUYUNUZ!

1. Öğrenciler, sınav kurallarına ve salon görevlilerinin tüm uyarılarına uymak zorundadırlar.
2. Cevap kâğıdındaki kimlik bilgilerinin doğruluğunu kontrol ediniz. Bilgiler size ait değilse veya cevap kâğıdı kullanılmayacak durumdaysa sınav görevlilerine bildirin.
3. Sınav başladıktan sonra öğrencilerin salon görevlileri ve birbirleri ile konuşmaları, kalem, silgi vb. şeyleri istemeleri yasaktır.
4. Değiştirmek istediğiniz bir cevabı, yumuşak silgiyle cevap kâğıdını yıpratmadan temizce siliniz ve yeni cevabınızı kodlayınız.
5. Cevap kâğıdınızı siyah kurşun kalemle imzalayınız.
6. Cevaplarınızı, cevap kâğıdındaki ilgili soru numarasını dikkate alarak yuvarlağın dışına taşırmadan kodlayınız.
7. Soru kitapçığının sayfalarını kontrol ediniz, baskı hatası var ise değiştirilmesini sağlayınız.
8. Soru kitapçığı üzerinde yapılp cevap kâğıdına işaretlenmeyen cevaplar değerlendirmeye alınmayacaktır.
9. Soru kitapçığının içindeki boş alanları çözümlerinizi için kullanabilirsiniz.
10. Cevaplamaya istediğiniz sorudan başlayabilirsiniz.
11. Cevabını bilmediğiniz sorular üzerinde fazla zaman kaybetmeden diğer sorulara geçiniz. Zamanınız kalırsa bu sorulara daha sonra dönebilirsiniz.
12. Sınav puanınızın hesaplanmasında 3 yanlış 1 doğru cevabınızı götürecektir. Alt testler bu şekilde hesaplanarak net puanlarının toplamı toplam net puanınızı verecektir.
13. Sınav bitiminde, soru kitapçığı ve cevap kâğıdını salon görevlilerine teslim ediniz.
14. Sınav sırasında çanta, cep telefonu, saat, kablosuz iletişim sağlayan cihazlar ve kulaklık, kolye, küpe, bilezik, yüzük, broş ve benzeri eşyalar ile her türlü elektronik ve/veya mekanik cihazları yanınızda bulundurmuyunuz. Bu araçları yanınızda bulundurmanız ve kopya çekmeye teşebbüs etmeniz hâlinde sınavınız geçersiz sayılacaktır.
15. Cevap kâğıdınızı sınav süresince hiçbir öğrencinin göremeyeceği şekilde önünüzde bulundurunuz.
16. Sınavınızın değerlendirilmesi aşamasında, toplu kopya tespiti veya başka adayın sınav evrakını kullanmanız durumunda sınavınız geçersiz sayılacaktır.
17. Soruları ve sorulara verdiğiniz cevapları kaydetmeyiniz, hiçbir şekilde dışarı çıkarmayınız.
18. İlk 15 dakika dışarı çıkılmayacaktır.
19. Sınav evraklarını teslim etmeyenlerin sınavı geçersiz sayılacaktır.

SINAV GÖREVLİLERİNCE SINAV BAŞLAMADAN ÖNCE ÖĞRENCİLERE YAPILACAK SON UYARI!

- Soracağınız bir şey var mı? Varsa, şimdi sorunuz.
- Sınav başladıktan sonra sorularınıza cevap verilmeyecektir.
- Başlama zilini bekleyiniz.

Hepinize başarılar dileriz.

(Sınav görevlisi başlama ve bitiş saatini tahtaya yazacaktır.)

Bu kitapçığın her hakkı saklıdır. Hangi amaçla olursa olsun, kitapçığın tamamının veya bir kısmının Millî Eğitim Bakanlığı Ölçme, Değerlendirme ve Sınav Hizmetleri Genel Müdürlüğü'nün yazılı izni olmadan kopya edilmesi, fotoğraflarının çekilmesi, bilgisayar ortamına alınması, herhangi bir yolla çoğaltılması, yayımlanması veya başka bir amaçla kullanılması yasaktır. Bu yasağa uymayanlar, doğabilecek cezai sorumluluğu ve kitapçığın hazırlanmasındaki mali külfeti peşinen kabullenmiş sayılır.

**5 TEMMUZ 2020 TARİHİNDE YAPILAN VEHBİ KOÇ VAKFI,
ÖZEL KOÇ İLKOKULU VE ORTAOKULU SEVİYE TESPİT SINAVI
3. SINIF "B" KİTAPÇIĞI CEVAP ANAHTARI**

TÜRKÇE	MATEMATİK	HAYAT BİLGİSİ
1. A	1. B	1. A
2. D	2. A	2. D
3. B	3. C	3. B
4. B	4. B	4. D
5. A	5. C	5. C
6. C	6. C	6. D
7. A	7. B	7. C
8. C	8. D	8. A
9. D	9. C	9. A
10. B	10. C	10. B
11. B	11. B	11. D
12. D	12. A	12. B
13. A	13. D	13. C
14. C	14. B	14. B
15. B	15. C	15. A
16. D	16. D	16. D
17. C	17. B	17. B
18. D	18. A	18. D
19. D	19. D	19. C
20. C	20. A	20. C