

3.
SINIF



B
KİTAPÇIK TÜRÜ

T.C.
MİLLÎ EĞİTİM BAKANLIĞI
ÖLÇME, DEĞERLENDİRME VE SINAV HİZMETLERİ
GENEL MÜDÜRLÜĞÜ

VEHBİ KOÇ VAKFI, KOÇ ÖZEL İLKOKULU VE ORTAOKULU SEVİYE TESPİT SINAVI
(2. Sınıftan 3. Sınıfa Geçenler)
4 HAZİRAN 2017 Saat: 10.00

Adayın Adı ve Soyadı :

Aday Numarası (T.C. No) :

DERS ADI	SORU SAYISI	TOPLAM SORU SAYISI	SINAV SÜRESİ (DAKİKA)
TÜRKÇE	20	60	80
MATEMATİK	20		
HAYAT BİLGİSİ	20		

ÖĞRENCİLERİN DİKKATİNE!

1. Sınıf öğrenci yoklama listesinde belirtilen sınıfta ve sıra numarasında oturunuz.
2. Cevap kâğıdındaki kimlik bilgilerinin doğruluğunu kontrol ediniz.
3. Kitapçık türünü cevap kâğıdındaki ilgili alana kodlayınız.
4. Cevap kâğıdı üzerindeki kodlamaları kurşun kalemle yapınız.

SINAV BAŞLAMADAN ÖNCE KİTAPÇIĞIN ARKA KAPAĞINDAKİ UYARILARI MUTLAKA OKUYUNUZ.

1. “Kaçırmaq” sözcüğü aşağıdakilerin hangisinde “zamanında yetişememek, bir işi belirlenen bir zamanda yapmamak” anlamında kullanılmıştır?

- A) Bindığım taksi bozulunca uçağı kaçırdım.
- B) Çocuk, akşam yemeğini biraz fazla kaçırmış.
- C) Depoda duran eşyaları dün gece kaçırmışlar.
- D) Bu ütü birkaç gündür su kaçııyor.

2. 1. aldı
2. kendisine
3. spor
4. araba
5. yeni

Numaralanmış sözcüklerle anlamlı ve kurallı bir cümle oluşturulduğunda sıralama aşağıdakilerden hangisi olur?

- A) 2-4-1-3-5
- B) 2-5-3-4-1
- C) 4-1-3-2-5
- D) 4-5-3-2-1

3. Aşağıdaki sözcüklerden hangisi sözlükte diğerlerinden önce yer alır?

- A) Mercek
- B) Merdiven
- C) Mercan
- D) Mercimek

7. Yaşlı karı koca, köydeki evlerinde bir başlarına mutlu mesut yaşıyorlardı. İki ihtiyar, tarlalarını tek başlarına ekip biçiyordu. Yine hasat zamanı gelmişti. Fakat ikisi de hastaydı. Komşuları bu durumun farkındaydı. Köylüler, zor zamanlarda birbirlerine destek olurdu. Kendi işlerini bitirdikten sonra el ele verip onların tarlasındaki ürünü de kaldırdılar. Yaşlı karı kocanın mutluluklarına diyecek yoktu.

Bu metnin konusu aşağıdakilerden hangisidir?

- A) Yalnız kalmanın verdiği üzüntü
- B) Toprakla uğraşmanın verdiği mutluluk
- C) Dayanışmanın önemi
- D) Yaşlanmanın getirdiği sorunlar

8. Birkaç kuruş artırıp
Kumbaraya atalım.
Yalnız bugünü değil
Yarını düşünelim.

Bu şiirin konusu aşağıdakilerden hangisidir?

- A) Zengin olma hayali
- B) Tutumlu olmak
- C) Zamanı iyi kullanmak
- D) Alışveriş yapmak

9. Aşağıdakilerin hangisinde altı çizili sözcüğün eş anlamlısı doğru verilmiştir?

A) Sizinle yarım saat sonra kumsalda buluşalım.
konuşalım

B) Çok küçük olduğu için kardeşimi ılık suyla yıkıyorlar.
sıcak

C) Ben ilk okuduğum kitabın yazarını hatırlıyorum.
anımsıyorum

D) Yol dar olduğu için arabalar geçmekte zorlanıyor.
geniş

10. 1. Gizlice yaklaştım ve çadırın ucunu kaldırdım.
2. Artık kayığımı bulmuştum ya keyfime diyecek yoktu.
3. Çadırın içine baktığımda kaybettiğim kayığımı gördüm.
4. Kayanın arkasında büyük bir çadır vardı.

Numaralanmış cümlelerle anlamlı bir metin oluşturulduğunda sıralama aşağıdakilerden hangisi olur?

- A) 1-3-4-2
B) 1-4-2-3
C) 4-2-1-3
D) 4-1-3-2

11. Eşyaların kötü kullanılması kolay bozulmasına ve kırılmasına yol açar. Bazı insanlar bozulan veya kırılan eşyalarını hemen atmayı tercih ediyor. Oysa atmadan önce onları tamir etme yollarını aramalıyız. Çünkü pek çok eşya tamir edilebilir. Üstelik, tamir edilebilecek eşyaların atılması ailemizin ve ülkemizin ekonomisine zarar verir.

Bu metinden aşağıdakilerin hangisi çıkarılamaz?

- A) Tamir edilen eşyalar ihtiyaç sahiplerine verilmelidir.
B) Özenli kullanılmayan eşyalar çabuk yıpranır.
C) Tamir edilmesi mümkün eşyaların atılması israfa yol açar.
D) Bozulan veya kırılan eşyalar onarılıp tekrar kullanılabilir.

12. Bir zamanlar bir padişahın bir oğlu varmış. Padişah, oğlunun bir dediğini iki etmezmiş. Şehzade büyüüp de genç bir delikanlı olunca canı sıkılmaya başlamış. Çünkü her istediğine, hiçbir çaba göstermeden hemen sahip oluyormuş. Bir gün dolaşırken tarlada çalışan ihtiyar bir çiftçi görmüş. Biraz sohbet etmek için yanına gitmiş. Derdini ona anlatmış. İhtiyar, "Delikanlı, ben senin derdinin çaresini biliyorum. Fakat önce şu tarlayı ekip biçmemde bana yardım etmen gerekir." demiş. Akşama kadar tarlada çalışmış şehzade. Şehzade şimdiye kadar kendisini hiç bu kadar iyi hissetmemiş. İhtiyar da "İşte, seni mutsuz eden tembellikti yavrum!" demiş.

Bu metnin vermek istediği öğüt aşağıdakilerden hangisidir?

- A) İnsanların yaşı arttıkça dertleri de büyür.
B) Vaktini çalışarak değerlendirenler mutlu olurlar.
C) Her zaman yaşlıların sözünü dinlemeliyiz.
D) Ne kadar çok bilsek de başkalarına akıl danışmalıyız.

13. Ağaçlar arasında tahtadan yapılmış küçük bir kulübe vardı. Kulübenin etrafı yeşillikti. Tek katlı bu kulübenin giriş kapısına tahtadan merdivenlerle çıkılıyordu. Merdivenin yanlarında yine tahtadan yapılmış korkuluklar vardı.

Bu parçada tanıtılan evin görseli aşağıdakilerden hangisidir?

A)



B)



C)



D)



14.



Yukarıdaki trafik işaret levhasının anlamı nedir?

- A) Yaya geçidi
C) Üst geçit

- B) Okul geçidi
D) Kontrollü demir yolu geçidi

15. Kâğıt, iki bin yıl önce Çin'de Tusay Lun tarafından icat edilmiş bir maddedir. Kâğıtlar, köknar ve ladin gibi yumuşak ağaçlardan yapılır. Önce ağaç kütükleri doğranır ve kabukları soyulur. Sonra kazanlarda yüksek ısıda kaynatılarak kâğıt hamuru meydana getirilir.

Bu metinde "kâğıt" ile ilgili aşağıdakilerden hangisine değinilmemiştir?

- A) Nasıl üretildiğine
- B) Kim tarafından bulunduğu
- C) Hangi ağaçlardan yapıldığına
- D) Nerelerde kullanıldığına

16. Kitabın ilk bölümünü severek okudum.

Bu cümleden "kitap" ile ilgili aşağıdaki sonuçlardan hangisi kesin olarak çıkarılır?

- A) Sonuna kadar okunmuştur.
- B) Son bölümü seilmemiştir.
- C) Birden fazla bölümü vardır.
- D) Hızlı okunmuştur.

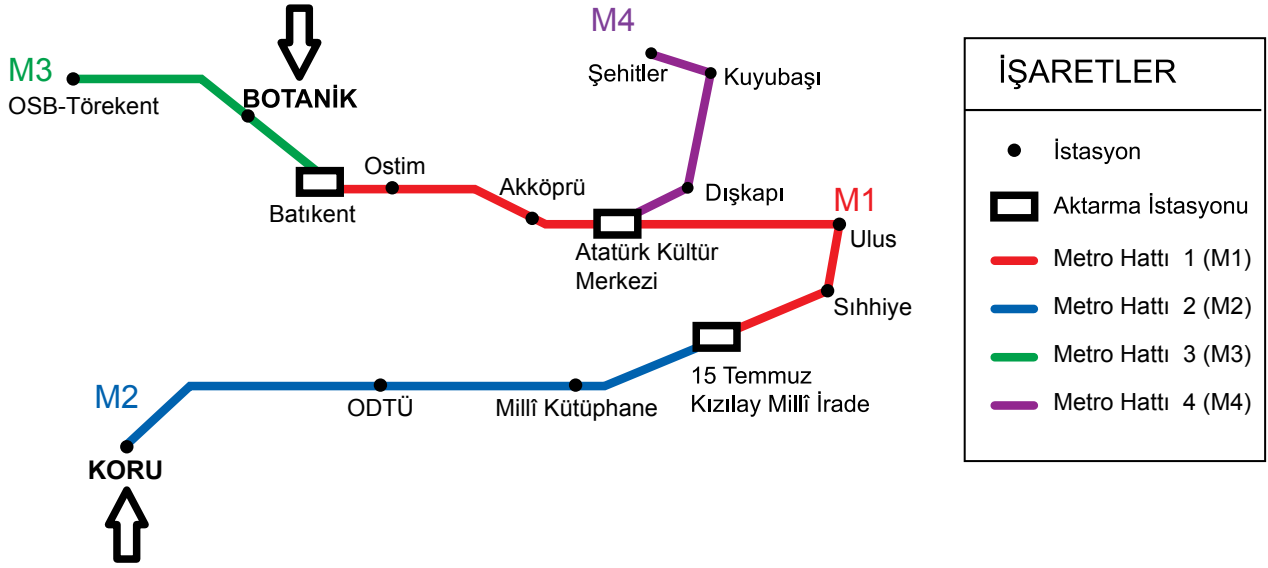
17. Bu sene 19 mayıs Gençlik ve Spor bayramı, Vatan caddesinde kutlanacak.

Bu nedenle pazar günü bazı yollar kapalı olacak.

Bu metindeki numaralanmış sözcüklerden hangisinin yazımı doğrudur?

- A) 1.
- B) 2.
- C) 3.
- D) 4.

18. Aşağıda, Ankara metro hatları ve istasyonları verilmiştir.



Buna göre Botanik istasyonundan Koru istasyonuna gitmek isteyen Bora, aşağıdaki metro hatlarından hangisini kullanmaz?

- A) M1 B) M2 C) M3 D) M4


19. Aşağıdaki cümlelerden hangisi bir metnin giriş cümlesi olamaz?

- A) Her insan birbirinden farklı özelliklere sahiptir.
 B) Çiftlikteki bu durum beni rahatsız etmişti.
 C) Mustafa, bir dağın yamacındaki köyde doğmuştu.
 D) Teknoloji, takip edilemeyecek bir hızla geliyor.

20. Aşağıdakilerin hangisinde noktalama yanlışı yapılmıştır?

- A) Çocuklar, ailece burada olmaktan çok mutluydu.
 B) Akrabalarını ziyaret etmek için tatilde Elazığ'a gitti.
 C) Barajda dün akşam çıkan arızayı nasıl düzeltmişler.
 D) Havaalanına iki yıl içinde yeni bir pist yapılacakmış.

TÜRKÇE TESTİ BİTTİ.
 MATEMATİK TESTİNE GEÇİNİZ.



1.
$$\begin{array}{r} 49 \\ + \square \\ \hline 84 \end{array}$$

Yukarıdaki toplama işleminde \square kaçtır?

A) 45

B) 43

C) 37

D) 35

2.
$$\begin{array}{l} 20 - 5 = 15 \\ 15 - 5 = 10 \\ 10 - 5 = 5 \\ 5 - 5 = 0 \end{array}$$

Yukarıda ardışık çıkarma işlemleri verilmiştir.

Bu işlemlerin bölme işlemi biçiminde gösterilişi aşağıdakilerden hangisidir?

A) $20 \overline{)5}$

B) $20 \overline{)4}$

C) $20 \overline{)10}$

D) $15 \overline{)5}$

3.



Dört bütün ekmeğin 3 yarım ve 5 çeyreği tüketiliyor.

Geriye kaç çeyrek ekmek kalmıştır?

A) 3

B) 5

C) 8

D) 9

4. Aşağıdaki çarpma işlemlerinden hangisi doğrudur?

A) $1 \times 1 = 0$

B) $3 \times 0 = 3$

C) $6 \times 0 = 0$

D) $7 \times 1 = 1$

5. Onur sınıf listesinde baştan 8, sondan 10. sıradadır.

Sınıf mevcudu kaçtır?


A) 16

B) 17

C) 18

D) 19

6.



Yukarıdaki saat modelinde Ayla'nın uyanma saati verilmiştir. Uyandıktan bir buçuk saat sonra evden çıkmıştır.

Ayla evden çıktığında saat kaçtır?

A) 07.00

B) 07.30

C) 08.00

D) 08.30

7. Ömer doğum günü için 30 bardak limonata hazırlamıştır. Doğum gününe gelen 9 arkadaşı üçer bardak limonata içmiştir.

Buna göre kaç bardak limonata kalmıştır?

- A) 1 B) 3 C) 12 D) 13

8. Sevda 36'dan başlayıp 8'e kadar geriye doğru dörder ritmik sayıyor. Aylin ise 9'dan başlayıp 30'a kadar ileriye doğru üçer ritmik sayıyor.

Buna göre hangi sayıları her ikisi de söylemiştir?

- A) 16 ve 20 B) 21 ve 28
C) 18 ve 30 D) 12 ve 24

9. Leyla'nın parası kardeşinin parasından 17 lira fazla, ablasının parasından 12 lira eksiktir.

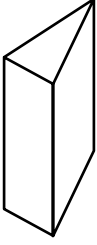
Kardeşinin 60 lirası olduğuna göre ablasının kaç lirası vardır?

- A) 55 B) 65 C) 79 D) 89

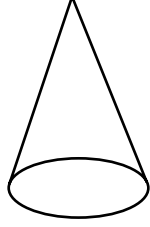
10. Aşağıdaki geometrik cisimlerin yüzeylerinden biri tamamen boyanarak baskı yapılacaktır.

Üçgensel bölge elde etmek için hangisi kullanılmalıdır?

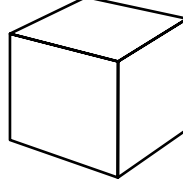
A)



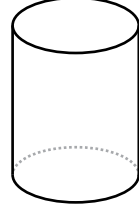
B)



C)



D)



11. $\triangle 8$ iki basamaklı bir doğal sayıdır. \triangle 'in basamak değeri, 8'in basamak değerinin yarısının 5 katına eşittir.

Buna göre \triangle kaçtır?

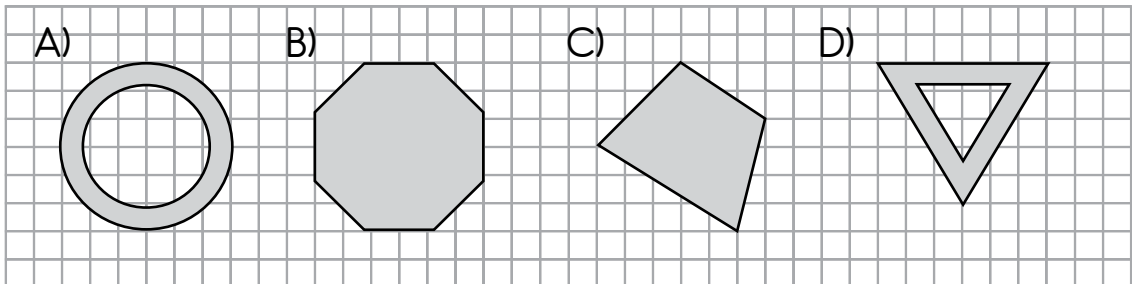
A) 8

B) 5

C) 4

D) 2

12. Aşağıdakilerden hangisi iki eş parçaya ayrılmaz?



13. Yelda'nın 47 lira 50 kuruşu vardı. Parasının 25 lirasını harcadı.

Yelda'nın geriye kalan parası aşağıdakilerden hangisi olabilir?

A)



B)



C)



D)



14. $31 - \square = 16$

$\triangle - 5 = 23$

Yukarıdaki çıkarma işlemlerinde \square ve \triangle birer doğal sayıdır.

Buna göre $\square + \triangle$ kaçtır?

A) 33

B) 43

C) 55

D) 75

15. Bir otobüste 43 yolcu vardır. Durakta 19 kişi iniyor, 4 kişi biniyor.

Otobüste kaç yolcu kalmıştır?

A) 18

B) 19

C) 27

D) 28

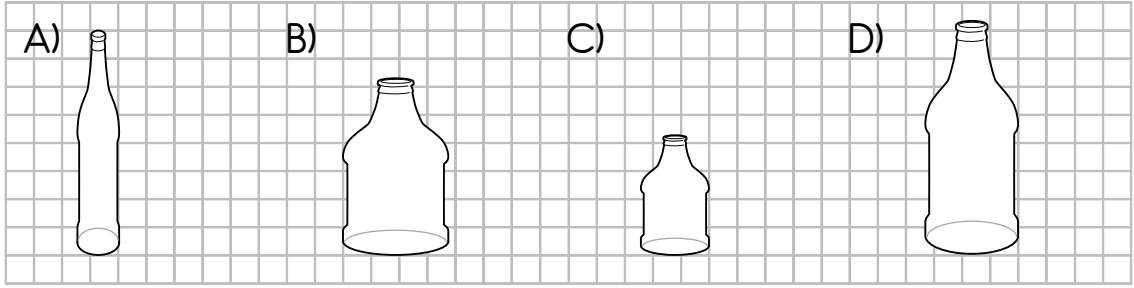
16. Hülya'nın iki kaleminin uzunlukları toplamı 32 santimetredir. Kalemlerden biri diğerinden 4 santimetre kısadır.

Uzun olan kalemin boyu kaç santimetredir?

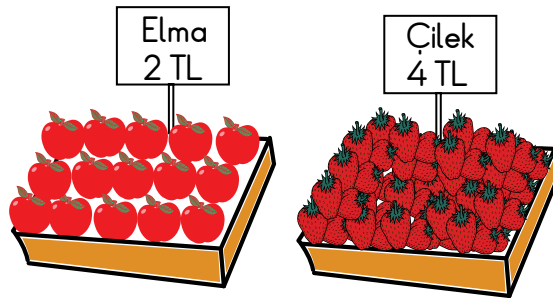
- A) 12 B) 16 C) 18 D) 20

17. Aşağıdaki kapların her birine eşit miktarlarda su konacaktır.

Kaplara konan su hiçbirinde taşmadığına göre hangisindeki su seviyesi daha yüksek olur?



- 18.



Sevgi 4 kilogram çilek, Seher ise bir miktar elma alıyor. Manava ikisi de eşit miktarda para ödüyor.

Buna göre Seher kaç kilogram elma almıştır?

- A) 2 B) 4 C) 6 D) 8

19. Kaya, 20 adet çiçeği dörderli buketler yapıyor. Her buketi 10 liradan satıyor.

Bu satıştan kaç lira elde eder?

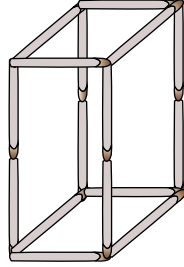
A) 50

B) 40

C) 30

D) 20

20.




Kibrit
çöpü

Kibrit çöpleri uç uca yapıştırılarak yukarıdaki kare prizma oluşturulmuştur.

Bu kare prizmadan kaç kibrit çöpü çıkarılarak küp elde edilir?

A) 2

B) 4

C) 6

D) 8

MATEMATİK TESTİ BİTTİ.
HAYAT BİLGİSİ TESTİNE GEÇİNİZ.



1. - - - - günü, Atatürk'ü Anma, Gençlik ve Spor Bayramı olarak kutlanır.

Bu cümlede boş bırakılan yere aşağıdakilerden hangisi yazılmalıdır?

A) 23 Nisan

B) 19 Mayıs

C) 29 Ekim

D) 30 Ağustos

2. Atatürk ile ilgili aşağıdaki bilgilerden hangisi yanlıştır?

A) Annesi Zübeyde Hanım'dır.

B) Selanik'te doğmuştur.

C) Cumhuriyetimizin kurucusudur.

D) İkinci cumhurbaşkanımızdır.

3. Konya'da yaşayan Ayşe, Ankara'daki dedesini ziyarete giderse hangi hak ve hürriyetini kullanmış olur?

A) Eğitim

B) Seyahat

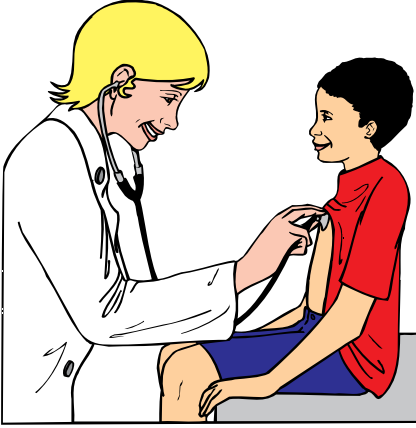
C) Seçme ve seçilme

D) Dilekçe

4. Her yıl 29 Ekim'de kutladığımız bayram hangisidir?

- A) Cumhuriyet Bayramı
- B) Ramazan Bayramı
- C) Ulusal Egemenlik ve Çocuk Bayramı
- D) Bahar Bayramı

5.



Yukarıdaki görsel Çocuk Haklarına Dair Sözleşme ile çocuklara verilen haklardan hangisiyle ilgilidir?

- A) Barınma
- B) Eğitim
- C) Sağlık
- D) Beslenme

6. Sağanak yağmurlara bağlı olarak oluşan doğal afet aşağıdakilerden hangisidir?

- A) Deprem
- B) Yangın
- C) Çığ
- D) Sel




7. İstiklal Marşımızın şairi aşağıdakilerden hangisidir?

- A) Mehmet Akif Ersoy
B) Hasan Ali Yücel
C) Behçet Kemal Çağlar
D) Hamdullah Suphi Tanrıöver

8. Aşağıdakilerden hangisi Dünya'nın kendi etrafında dönüşünün sonucudur?

- A) Depremlerin oluşması
B) Gece ve gündüzün oluşması
C) Mevsimlerin meydana gelmesi
D) Gece gündüz sürelerinin değişmesi

9. Aşağıdakilerden hangisi doğal çevreye örnektir?





10. • Havalar soğumaya başlar.
• Ağaçların yaprakları sararır.
• Göçmen kuşlar sıcak yerlere göç eder.

Yukarıda hangi mevsimin özellikleri verilmiştir?

- A) İlkbahar B) Yaz C) Sonbahar D) Kış

11.



Görsellerde aşağıdaki mesleklerden hangisine yer verilmemiştir?

- A) İtfaiyeci B) Çiftçi C) Hakim D) Veteriner

12. Aşağıdakilerden hangisi duygu, düşünce ve isteklerimizi karşımızdaki kişiye konuşarak ilettiğimiz araçlardandır?

- A) Mektup B) Gazete C) Telefon D) Kitap

13. Akşam yemeğinde masada tavuk, yoğurt, su, pilav ve salata vardır. Ahmet ile annesi konuşurlar.

Ahmet: Ben sadece tavuk yiyeceğim.

Anne : Vücudunun sağlıklı olması için tüm besinlerden yeteri kadar yemelisin.

Ahmet'in annesi neyin önemini anlatmak istemiştir?

- A) Günde üç öğün yemek yenmesinin
- B) Hayvansal besinlerin
- C) Akşam yemeğinin
- D) Dengeli beslenmenin

14. Aşağıdaki davranışlardan hangisi vücudumuza zarar vermez?

- A) Sınıfta ve tenefüslerde sürekli koşarak hareket etmek
- B) Kesici ve delici araçlarla oynamak
- C) Kimseyi itmeden okula girip çıkmak
- D) Islak merdivenlerden koşarak inmek

15. Bir bölgede ağaçlandırma çalışmaları yapılmasının amacı hangisidir?

- A) Depremleri önlemek
- B) Çok fazla yağmur yağmasını önlemek
- C) O bölgede yaşayan hayvanları azaltmak
- D) Erozyonun zararlarını azaltmak

16. Aşağıdakilerden hangisi kaynakları bilinçli kullanan bir kişinin davranışlarındandır?

- A) Damlatan musluğu tamir ettirmez.
- B) Hava güneşli ve sıcak iken kaloriferi yakar.
- C) Odası yeterince güneş ışığı alırken lamba yakmaz.
- D) Yağmur yağarken musluktan aldığı suyla bahçedeki çiçekleri sular.

17.




- Her sabah uyandıktan sonra elimi yüzümü sabunla yıkarım.
- Dişlerimi yemeklerden sonra fırçalarım.
- Annemin ütülediği kıyafetleri giyerek okula giderim.

Ahmet'in kişisel bakımı ile ilgili verdiği bu bilgilere göre aşağıdakilerden hangisi doğrudur?

- A) Kişisel bakımını her sabah okulda yapar.
- B) Kişisel bakımında çeşitli malzemeler kullanır.
- C) Her faaliyetinde büyüklerinden yardım alır.
- D) Haftada bir kez sabun kullanarak banyo yapar.

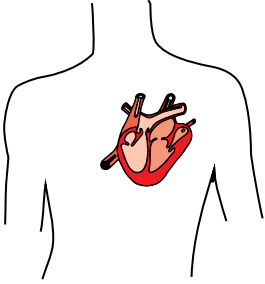
18.



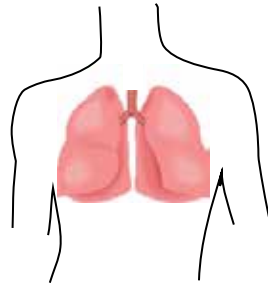
Yukarıdaki şekilde aşağıdakilerden hangisi gözlenemez?

- A) Besinleri sindirme ve depolamada görevli organlar
- B) Dokunma ve koku almada görevli organlar
- C) İşitme ve görmede görevli organlar
- D) Vücudun bölümleri

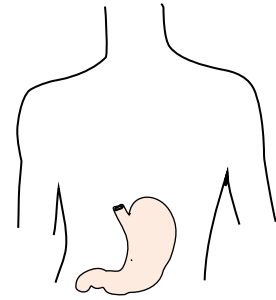
19. Ayşe, organlar ve görevlerini eşleştiriyor.



1. Kanı vücuda pompalar.



2. Nefes alıp vermeyi sağlar.




3. Yediğimiz besinlerin geçici olarak depolandığı yerdir.

Bu eşleştirmeler için aşağıdakilerden hangisi söylenebilir?

- A) Eşleştirmelerin hepsi doğrudur.
- B) Eşleştirmelerin hepsi yanlıştır.
- C) 1. ve 2. görevler birbiriyle yer değiştirmelidir.
- D) 2. ve 3. görevler birbiriyle yer değiştirmelidir.

20. Aşağıdakilerin hangisinde yalnızca dokunma duyusu ile ilgili bir durum ifade edilmiştir?
- A) Kedisinin tüyleri siyah ve yumuşaktı.
 - B) Havanın sıcak olduğunu hissettim.
 - C) Eline alıp yediği elmanın sert ve ekşi olduğunu söyledi.
 - D) Okul bahçesinde kokladığım çiçeklerin renkleri de çok güzeldi.



TEST BİTTİ.
CEVAPLARINIZI KONTROL EDİNİZ.

SINAV BAŞLAMADAN AŞAĞIDAKİ UYARILARI MUTLAKA OKUYUNUZ!

1. Öğrenciler, sınav kurallarına ve salon görevlilerinin tüm uyarılarına uymak zorundadırlar.
2. Cevap kâğıdındaki kimlik bilgilerinin doğruluğunu kontrol ediniz. Bilgiler size ait değilse veya cevap kâğıdı kullanılmayacak durumdaysa sınav görevlilerine bildirin.
3. Sınav başladıktan sonra öğrencilerin salon görevlileri ve birbirleri ile konuşmaları, kalem, silgi vb. şeyleri istemeleri yasaktır.
4. Değiştirmek istediğiniz bir cevabı, yumuşak silgiyle cevap kâğıdını yıpratmadan temizce siliniz ve yeni cevabınızı kodlayınız.
5. Cevap kâğıdınızı silinmeyen bir kalemle imzalayınız.
6. Cevaplarınızı, cevap kâğıdındaki ilgili soru numarasını dikkate alarak yuvarlağın dışına taşırmadan kodlayınız.
7. Soru kitapçığının sayfalarını kontrol ediniz, baskı hatası var ise değiştirilmesini sağlayınız.
8. Soru kitapçığı üzerinde yapıp cevap kâğıdına işaretlenmeyen cevaplar değerlendirmeye alınmayacaktır.
9. Soru kitapçığının içindeki boş alanları çözümlerinizi için kullanabilirsiniz.
10. Cevaplamaya istediğiniz sorudan başlayabilirsiniz.
11. Cevabını bilmediğiniz sorular üzerinde fazla zaman kaybetmeden diğer sorulara geçiniz. Zamanınız kalırsa bu sorulara daha sonra dönebilirsiniz.
12. Sınav puanınızın hesaplanmasında 3 yanlış 1 doğru cevabınızı götürecektir. Alt testler bu şekilde hesaplanarak net puanlarının toplamı toplam net puanınızı verecektir.
13. Sınav bitiminde, soru kitapçığı ve cevap kâğıdını salon görevlilerine teslim ediniz.
14. Sınav sırasında çanta, cep telefonu, saat, kablosuz iletişim sağlayan cihazlar ve kulaklık, kolye, küpe, bilezik, yüzük, broş ve benzeri eşyalar ile her türlü elektronik ve/veya mekanik cihazları yanınızda bulundurmuyunuz. Bu araçları yanınızda bulundurmanız ve kopya çekmeye teşebbüs etmeniz hâlinde sınavınız geçersiz sayılacaktır.
15. Cevap kâğıdınızı sınav süresince hiçbir öğrencinin göremeyeceği şekilde önünüzde bulundurunuz.
16. Sınavınızın değerlendirilmesi aşamasında, toplu kopya tespiti veya başka adayın sınav evrakını kullanmanız durumunda sınavınız geçersiz sayılacaktır.
17. Soruları ve sorulara verdiğiniz cevapları kaydetmeyiniz, hiçbir şekilde dışarı çıkarmayınız.
18. İlk 15 dakika dışarı çıkılmayacaktır.
19. Sınav evraklarını teslim etmeyenlerin sınavı geçersiz sayılacaktır.

SINAV GÖREVLİLERİNCE SINAV BAŞLAMADAN ÖNCE ÖĞRENCİLERE YAPILACAK SON UYARI!

- Soracağınız bir şey var mı? Varsa, şimdi sorunuz.
- Sınav başladıktan sonra sorularınıza cevap verilmeyecektir.
- Başlama zilini bekleyiniz.

Hepinize başarılar dileriz.

(Sınav görevlisi başlama ve bitiş saatini tahtaya yazacaktır.)

Bu kitapçığın her hakkı saklıdır. Hangi amaçla olursa olsun, kitapçığın tamamının veya bir kısmının Millî Eğitim Bakanlığı Ölçme, Değerlendirme ve Sınav Hizmetleri Genel Müdürlüğünün yazılı izni olmadan kopya edilmesi, fotoğraflarının çekilmesi, bilgisayar ortamına alınması, herhangi bir yolla çoğaltılması, yayımlanması veya başka bir amaçla kullanılması yasaktır. Bu yasağa uymayanlar, doğabilecek cezai sorumluluğu ve kitapçığın hazırlanmasındaki mali külfeti peşinen kabullenmiş sayılır.

**4 HAZİRAN 2017 TARİHİNDE YAPILAN VEHBİ KOÇ VAKFI,
ÖZEL KOÇ İLKOKULU VE ORTAOKULU SEVİYE TESPİT SINAVI
3. SINIFLAR "B" KİTAPÇIĞI CEVAP ANAHTARI**

TÜRKÇE	MATEMATİK	HAYAT BİLGİSİ
1. A	1. D	1. B
2. B	2. A	2. D
3. C	3. B	3. B
4. B	4. C	4. A
5. A	5. B	5. C
6. B	6. C	6. D
7. C	7. B	7. A
8. B	8. D	8. B
9. C	9. D	9. A
10. D	10. A	10. C
11. A	11. D	11. D
12. B	12. C	12. C
13. A	13. A	13. D
14. C	14. B	14. C
15. D	15. D	15. D
16. C	16. C	16. C
17. D	17. A	17. B
18. D	18. D	18. A
19. B	19. A	19. A
20. C	20. B	20. B