

3.
SINIF



B
KİTAPÇIK TÜRÜ

T.C.
MİLLÎ EĞİTİM BAKANLIĞI
ÖLÇME, DEĞERLENDİRME VE SINAV HİZMETLERİ
GENEL MÜDÜRLÜĞÜ

TED ANKARA KOLEJİ VAKFI ÖZEL İLKOKULU VE ORTAOKULU SEÇME SINAVI
(2. Sınıftan 3. Sınıfa Geçenler)
4 HAZİRAN 2017 Saat: 14.00

Adayın Adı ve Soyadı :

Aday Numarası (T.C. No) :

DERS ADI	SORU SAYISI	TOPLAM SORU SAYISI	SINAV SÜRESİ (DAKİKA)
TÜRKÇE	20	60	60
MATEMATİK	20		
HAYAT BİLGİSİ	20		

ÖĞRENCİLERİN DİKKATİNE!

1. Sınıf öğrenci yoklama listesinde belirtilen sınıfta ve sıra numarasında oturunuz.
2. Cevap kâğıdındaki kimlik bilgilerinin doğruluğunu kontrol ediniz.
3. Kitapçık türünü cevap kâğıdındaki ilgili alana kodlayınız.
4. Cevap kâğıdı üzerindeki kodlamaları kurşun kalemle yapınız.

3. SINIF 2017

SINAV BAŞLAMADAN ÖNCE KİTAPÇIĞIN ARKA KAPAĞINDAKİ UYARILARI MUTLAKA OKUYUNUZ.

1. Zaman, birçok şeyi değiştirir ama eski dostları değiştirmez.
Her vakit bahane bulur işini yapmayan.

Altı çizili kelimeler arasındaki anlam ilişkisi aşağıdakilerin hangisinde vardır?

- A) Bardak-Cam
B) Fakir-Yoksul
C) Tarla-Toprak
D) Güzel-Çirkin

2. Aşağıdaki kelimeler alfabetik sıraya göre dizildiğinde hangisi ilk sırada yer alır?

- A) Doğru
B) Doğrama
C) Doğal
D) Doğum

3. 1. Çocuk, sesi duyunca gözlerini açmaya çalıştı.
2. Hemen kalkıp giyindi ve güzel bir kahvaltı yaptı.
3. Saatin sesi odanın duvarlarına çarpıp yankılandı.
4. Gözlerini açınca karşısında guguklu saatini gördü.

Olayların oluş sırasına göre, numaralanmış cümlelerin sıralanışı aşağıdakilerden hangisidir?

- A) 1-2-4-3
B) 2-3-1-4
C) 3-1-4-2
D) 4-2-1-3

4. Gökyüzünü bir anda kara kara yağmur bulutları kapladı.
Bu cümleye göre aşağıdakilerden hangisi kesinlikle doğrudur?

A) Hava kapalıdır.
B) Yağmur yağmaktadır.
C) Soğuk bir gündür.
D) Sonbahar mevsimidir.

5. Hava soğuktu - - - - biz hiç üşümüyorduk.
Bu cümlede boş bırakılan yere aşağıdakilerden hangisi getirilmelidir?

A) çünkü
B) fakat
C) için
D) veya

6. Aşağıdaki cümlelerin hangisinde karşılaştırma yapılmıştır?

A) Annem, masanın üstündeki bu çiçeği teyzemden getirdi.
B) Yazın oturmak için bahçeye yeni sandalyeler aldık.
C) Denizden çıkan taşlar herkesi çok şaşırttı.
D) Muhabbet kuşu, doğan kadar hızlı uçamıyor.

7. Hayatımızın vazgeçilmezi teknoloji her geçen gün hızla ilerliyor. Teknoloji sayesinde, kullandığımız eşyaların da özellikleri durmadan yenileniyor. Bu sayede bankalar, devlet kuruluşları daha iyi hizmet veriyor. Hayat kolaylaşıyor. Bu nedenle birçok kuruluş ve bilim insanı, araştırma geliştirme çalışmaları yürütüyor.

Bu metnin konusu aşağıdakilerden hangisidir?

- A) Yaşamda karşılaşılan güçlükler
- B) Eşyaların kullanım alanları
- C) Teknolojinin etkileri
- D) Bilimsel çalışmaların zorlukları

8. Faruk() dalgın bir şekilde ve yavaş adımlarla eve doğru gidiyordu. Dalgın olmasının sebebi, arkadaşı Doruk()la yaşadığı tartışmaydı. "Acaba bana niye böyle davranıyor()" diye kendi kendine söylendi.

Bu metinde ayrıca gösterilen yerlere sırasıyla aşağıdaki noktalama işaretlerinden hangileri getirilmelidir?

- A) (,) (') (?)
- B) (,) (') (.)
- C) (,) (,) (?)
- D) (,) (,) (.)

9. Önümüzdeki Mayıs ayı içinde ankarada yapılacak olan kitap fuarı
1 2 3
Söğütözü mahallesindeymiş.
4

Bu cümledeki numaralanmış kelimelerden hangisinin yazımı doğrudur?

- A) 1.
- B) 2.
- C) 3.
- D) 4.

10.



1



2



3



4

Olayların oluş sırasına göre, bu görsellerin dizilişi aşağıdakilerden hangisidir?

- A) 2-1-4-3
C) 4-2-3-1

- B) 2-4-3-1
D) 4-1-3-2

11.



Bu trafik işaret levhasının anlamı aşağıdakilerden hangisidir?

- A) Dikkat
C) Park etmek yasaktır.
- B) Yaya geçidi
D) Bisiklet giremez.

12. Neler olmaz ki yaz geldiğinde! Yumuşak çimenler okşar ayaklarımızı. Kozalaklar büyür, genişler, çıtır çıtır çatlar. Çağla yeşili yaprakların damarları belirginleşir. Sıcak rüzgâr dolaşır yapraklar arasında. Kuşlar cıvıldaşır. Güneş deniz üstünde pırl pırl yanar. Bir şölen yeri gibidir doğa.

Bu parçanın anlatımında aşağıdaki duyuların hangisinden yararlanılmamıştır?

- A) Koklama
C) Dokunma
- B) Duyma
D) Görme

13. İnsanlar için en iyi dinlenme yöntemi uykudur. Uykusuz insan o kadar yorgun olur ki parmağını uzatıp kendi burnuna dokunacak hâli bile olmaz. Uykusuzluk bedenin zayıf düşmesine, çabuk yorulmasına, hafızanın zayıflamasına ve sağlığın bozulmasına neden olur.

Bu metinden aşağıdakilerin hangisi çıkarılamaz?

- A) Uykusuzluk hastalıklara yol açar.
B) Uyku insanlara dinçlik verir.
C) Uyku insanların mutlu olmasını sağlar.
D) Uykusuzluk unutkanlığa yol açabilir.

14. Aşağıdakilerden hangisi bir metnin giriş cümlesi olamaz?

- A) Keşke bir süre daha tutsalardı hastanede.
- B) İnsanlar doğayla iç içe yaşamayı bilmeli.
- C) Toplu taşımacılık trafik sıkışıklığını önler.
- D) Ali, köy yaşamına düşkün bir çocuktur.

15. Salih : Çocukları biraz gezdireceğim.

Rıfat : - - - -

Salih : Göl manzaralı köprüye gideceğiz.

Rıfat : Çok güzel! Gölün bütün güzelliklerini tam anlamıyla göreceksiniz demek.

Salih : Evet!

Bu konuşmada boş bırakılan yere aşağıdakilerden hangisi getirilmelidir?

- A) Nereye götüreceksin?
- B) Neden gezdireceksin?
- C) Kiminle gideceksiniz?
- D) Ne zaman gezeceksiniz?

16. Aşağıdaki cümlelerin hangisinde bir olay, nedeniyle birlikte verilmiştir?

- A) Piyano çalmaya çok küçük yaşlarda başlamış.
- B) Hafta sonları doğa yürüyüşü yapmayı seviyorum.
- C) Hayvanların yuvalarını bozmamalıyız.
- D) İyi mücadele ettiği için uzun süre alkışlandı.

17. Tarık Bey, harıl harıl resmini bitirmeye çalışıyordu. Bugün çok çalışmıştı. Bir yandan fırçasıyla ince dokunuşlar yapıyor, bir yandan da arkadaşının sorularına cevap vermeye çalışıyordu. O kadar yoğundu ki yemek yemeye dahi fırsat bulamıyordu. Çünkü iki gün sonra, katılmayı çok istediği resim yarışması vardı.

Bu metinde aşağıdaki hikâye unsurlarından hangisi yoktur?

- A) Ana karakter
B) Yer
C) Olay
D) Zaman

18. Bir elin nesi var, iki elin sesi var.

Bu sözle vurgulanmak istenen kavram aşağıdakilerden hangisidir?

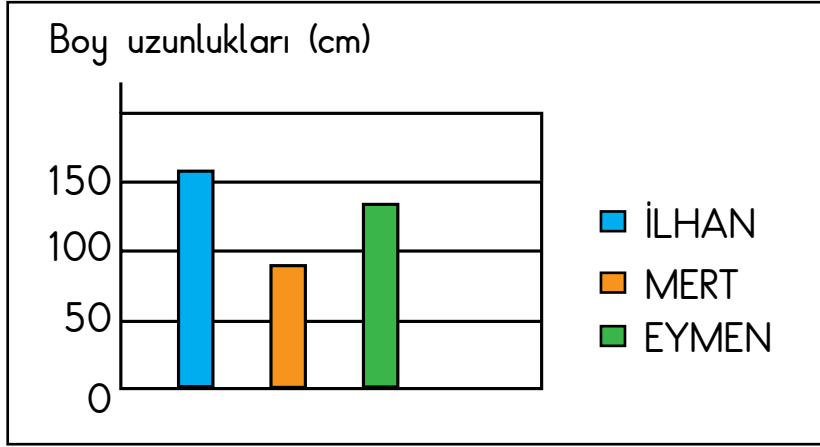
- A) Anlaşmazlık
B) Birliktelik
C) Övgü
D) Gürültü

19. 1. hiç
2. adam
3. bulunan
4. sevinmedi
5. cüzdanı

Numaralanmış kelimelerle anlamlı ve kurallı bir cümle oluşturulduğunda sıralama aşağıdakilerden hangisi olur?

- A) 2-3-5-1-4
B) 2-5-4-1-3
C) 5-1-2-4-3
D) 5-3-2-1-4

20.



Bu grafiğe göre aşağıdakilerden hangisi doğrudur?


- A) Mert'in boyu İlhan'dan kısa, Eymen'den uzundur.
- B) Boyu en kısa olan Eymen'dir.
- C) Eymen'in boyu Mert'ten uzun, İlhan'dan kısadır.
- D) Boyu en uzun olan Mert'tir.

TÜRKÇE TESTİ BİTTİ.
MATEMATİK TESTİNE GEÇİNİZ.



1. Aşağıdaki şekillerden hangisi, iki eş parçaya ayrılmaz?

A)



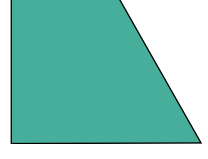
B)



C)



D)



2. $\triangle + 23 = 45$
 $\triangle + 19 = \square$

Verilenlere göre \square kaçtır?

A) 31

B) 41

C) 77

D) 87

3. Cansu'nun bir düzineden 3 fazla, Helin'in ise iki deste kalemı vardır.
Cansu'nun kalem sayısı, Helin'in kalem sayısından kaç eksiktir?

A) 5

B) 7

C) 8

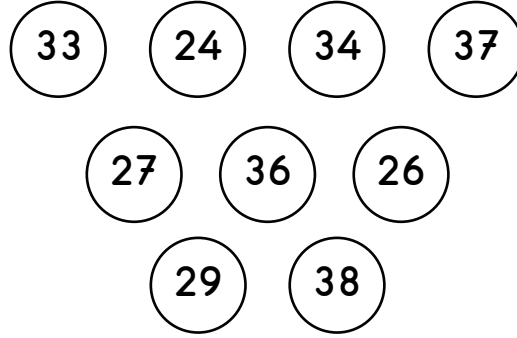
D) 11

4. Ayşe iki basamaklı bir doğal sayı yazıyor. Bu sayının basamaklarındaki rakamların basamak değerleri farkı 51'dir.

Bu sayı kaçtır?

- A) 59 B) 65 C) 69 D) 71

5.



Verilen toplardan, üzerindeki sayı 30'a yakın olanlar boyanıyor. Buna göre, boyanmayan kaç top kalır?

- A) 3 B) 4 C) 5 D) 6

6.

$$\begin{array}{r} 75 \\ - \overset{\cdot}{\cdot} \overset{\cdot}{\cdot} \\ \hline 57 \end{array}$$

Yukarıdaki işlemde çıkan kaçtır?

- A) 18 B) 22 C) 28 D) 29

7. 13 kişilik bir sınıf listesinde Ayşe baştan dördüncü sıradadır. Ayşe ile Ali arasında 3 kişi vardır.

Buna göre Ali listede sondan kaçınıcı sıradadır?

- A) 5. B) 6. C) 7. D) 8.

8.

Kalemıraş	7 TL
Kalem	8 TL
Silgi	6 TL
Defter	9 TL

Mehmet, yukarıdaki listede verilen malzemelerden 2 tane alıyor. Toplam 16 lira ödüyor.

Aynı malzemedan birden fazla alabileceğine göre hangi malzemeyi almış olamaz?

- A) Kalemıraş B) Kalem C) Silgi D) Defter

9.

×	3	1	5
2	6	▲	10
0	0	0	■
4	★	4	20

Verilen çarpım tablosuna göre ▲ + ■ + ★ kaçtır?

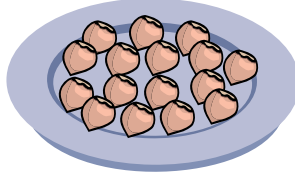
- A) 19 B) 16 C) 15 D) 14

10. Dört arkadaş yirmişer dilim keki önlerindeki tabaklara paylaşıyor. Tabaklara Nevin dörder, Leyla birer, Arda beşer, Hakan ikişer dilim kek koyuyor.

Hangisi daha fazla tabak kullanmıştır?

- A) Nevin B) Leyla C) Arda D) Hakan

11.



Tabağa bir miktar fındık eklendiğinde fındıklar üç kişi tarafından eşit paylaşılabilir.

Buna göre tabağa en az kaç fındık eklenmiştir?

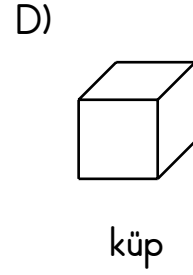
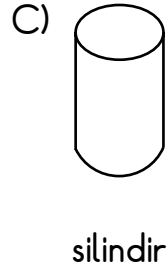
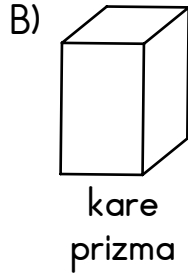
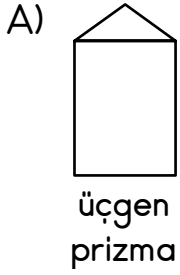
- A) 1 B) 2 C) 3 D) 4

12. Sınıf kitaplığı için 10 öğrenci ikişer kitap, öğretmen de 15 kitap getirmiştir.

Buna göre kitaplığa kaç kitap getirilmiştir?

- A) 25 B) 27 C) 35 D) 40


13. Aşağıdaki geometrik cisimlerden hangisinin bütün yüzeyleri karesel bölgedir?



14. Demet 54 sayfalık bir kitabın ilk gün 15 sayfasını okumuştur. Sonraki her gün, sayfa sayısını 3 artırarak okumaya devam etmiştir.

Buna göre, Demet bu kitabı kaç günde bitirmiştir?

- A) 3 B) 4 C) 5 D) 6

15. 

Verilen örüntüyle aynı ilişkiye sahip örüntü aşağıdakilerden hangisidir?



16. Elif saat 08.00'de evden çıkıyor. Yarım saat sonra okula varıyor. Okulda altı buçuk saat kaldıktan sonra okuldan çıkıyor.

Buna göre Elif okuldan saat kaçta çıkmıştır?

- A) 14.30 B) 15.00 C) 15.30 D) 16.00

17. Bir lokantaya pirinç, bulgur ve nohut alınıyor. Alınan pirinç 25 kilogramdır. Bulgur pirinçten 6 kilogram eksik, nohut bulgurdan 3 kilogram fazladır.

Buna göre lokantaya kaç kilogram nohut alınmıştır?

- A) 16 B) 19 C) 20 D) 22

18. Dört arkadaş sınıftaki yazı tahtasının boyunu ölçüyorlar.

Serkan: "Ben 10 karış ölçtüm."

Merve: "Ben 14 karış, 2 parmak ölçtüm."

Seda: "Ben 13 karış, 4 parmak ölçtüm."

Kemal: "Ben de 11 karış, 1 parmak ölçtüm." diyor.

Buna göre hangisinin karış boyu en kısadır?

- A) Merve B) Seda C) Serkan D) Kemal

19.



3 bütün elma ve 5 yarım elmayı bir grup arkadaş yemiştir.
Her biri çeyrek elma yediğine göre grupta kaç kişi vardır?


A) 11

B) 17

C) 22

D) 24

20.



Sürahinin yarısı su doludur. Bu suyun tamamı ile, aynı büyüklükte 6 bardak tam olarak doldurulmaktadır.

Tamamı dolu olan bu sürahilerden üçüyle, bu bardaklardan en çok kaç tanesi tamamen doldurulur?

A) 18

B) 24

C) 30

D) 36

MATEMATİK TESTİ BİTTİ.
HAYAT BİLGİSİ TESTİNE GEÇİNİZ.



1. • Çiçekler açar.
• Havalarda ısınmaya başlar.
• Göçmen kuşlar geri döner.



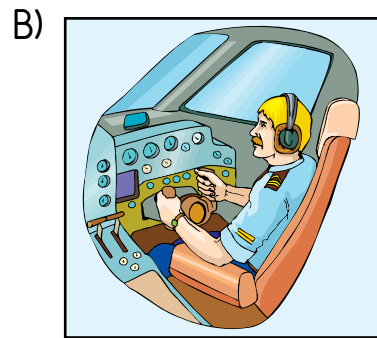

Yukarıda hangi mevsimin özellikleri verilmiştir?

- A) Sonbahar B) Kış C) İlkbahar D) Yaz

2. Aşağıdaki davranışların hangisinde tasarrufa önem verildiği söylenir?

- A) Defter sayfalarını koparıp atmak
B) Parayı daima oyuncak için harcamak
C) Kumbarada para biriktirmek
D) Beğendiği kazağın bütün renklerinden satın almak

3. Aşağıda görsellerde tanıtılan mesleklerden hangisi diğerlerinden daha sonra ortaya çıkmıştır?



4.



Görseldeki çocuk hangi ülkenin yerel kıyafetini giymiştir?

- A) İngiltere
C) Brezilya

- B) Suudi Arabistan
D) Japonya

5.



Güneşin batmasına yakın zamanı gösteren resimde çeşmenin doğusunda aşağıdakilerden hangisi yer almaktadır?

- A) Bahçe

- B) Ev

- C) Traktör

- D) Cami

6. Aşağıdakilerden hangisi dinî bayramlarla ilgili değildir?
- A) Stadyumlarda kutlanır.
B) Muhtaçlara yardım edilir.
C) Büyükler ziyaret edilir.
D) Bayram namazına gidilir.
7. Aşağıdakilerden hangisinin kirlenmesi çevre kirliliği sayılmaz?
- A) Toprak B) Su C) Hava D) Giysi
8. Atatürk'ün, Türk gençlerine armağan ettiği bayram aşağıdakilerden hangisidir?
- A) 29 Ekim Cumhuriyet Bayramı
B) 19 Mayıs Atatürk'ü Anma, Gençlik ve Spor Bayramı
C) 23 Nisan Ulusal Egemenlik ve Çocuk Bayramı
D) 30 Ağustos Zafer Bayramı
9. Atatürk, ortaokul öğrenimini hangi okulda yapmıştır?
- A) İstanbul Harp Okulu B) Şemsi Efendi İlkokulu
C) Selanik Askerî Rüştiyesi D) İstanbul Harp Akademisi

10. Atatürk kaç yılında, nerede doğmuştur?

- A) 1881 - Selanik
C) 1938 - İstanbul

- B) 1923 - Ankara
D) 1919 - İzmir

11. Her yıl 23 Nisan'da dünya çocuklarıyla birlikte kutladığımız bayram, aşağıdakilerden hangisidir?

- A) Cumhuriyet Bayramı
B) Zafer Bayramı
C) Atatürk'ü Anma, Gençlik ve Spor Bayramı
D) Ulusal Egemenlik ve Çocuk Bayramı





12. Toplum yaşantısında iz bırakan, fikirleri ile toplumu yönlendiren kişilere - - - - denir.

Verilen bilgiye göre cümlede boş bırakılan yere aşağıdakilerden hangisi getirilmelidir?

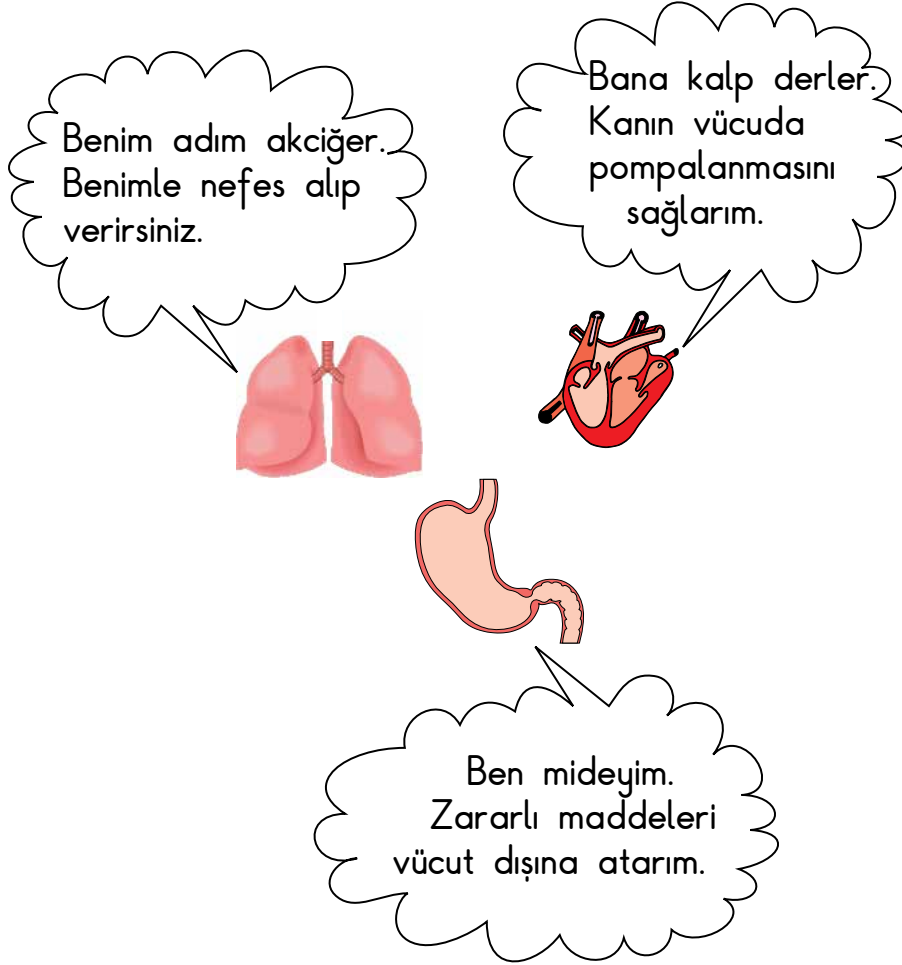
- A) anne B) baba C) lider D) izci

13. Mehmet, her hafta sonu dedesinin çiftliğine gider. Oradaki hayvanların ürettiği yumurta, süt ve baldan getirir.

Bu besinleri üreten hayvanlar aşağıdakilerin hangisinde birlikte verilmiştir?



14. Fatma, organlarımızla ilgili aşağıdaki posteri hazırlamıştır.



Fatma, bu organlardan hangisinin görevini yanlış yazmıştır?

- A) Midenin
- C) Akciğerin

- B) Kalbin
- D) Akciğer ve kalbin

15. Gönül, bir besinin özelliğini anlatıyor.



Gönül

Bardaktan tabağa boşalttığımda tabağın şeklini aldı.

Bu besin aşağıdakilerden hangisidir?

- A) Elma dilimleri
C) Kızartılmış patates

- B) Çikolata parçaları
D) Portakal suyu

16. Şekilde iş yerinde çalışmakta olan bir insan verilmiştir.



Bu insanın görevi aşağıdakilerden hangisidir?

- A) Yapılacak binaların çizimlerini yapmak
B) Maden ocağında çalışmak
C) İnsanları tedavi etmek
D) Adaleti sağlamak

17. 10 yaşındaki Ayşe'nin üç günlük öğle yemeği listesi aşağıda verilmiştir.

Pazartesi

Mercimek çorbası
Balık
Salata

Salı

Makarna
Patates cipsi
Ekmek

Çarşamba

Kuru fasulye
Pilav
Elma

Buna göre Ayşe hangi günlerde dengeli beslenmiştir?

- A) Yalnızca salı
B) Pazartesi ve çarşamba
C) Salı ve çarşamba
D) Pazartesi, salı ve çarşamba

18. Cansu, kendisi çocukken ailesiyle birlikte çekilen bir fotoğrafa bakıyor. Cansu'nun bu fotoğrafla ilgili aşağıdaki yorumlarından hangisi büyüme ve gelişmeyle ilgilidir?

- A) O zamanki ayakkabılarım şu an ayağıma dar gelir.
B) Annem o zamanki çantasını şimdi kullanmıyor.
C) Babam şimdi o zamankinden daha zayıf.
D) Saçlarımın rengi o zaman da sarıymış.

19. • Bu olayın olmasını engelleyemeyiz.
• Bu olayın zararlarını azaltmak için binaları uygun zeminlere dayanıklı ve sağlam yapmalıyız.

Hakkında bilgi verilen bu olay aşağıdakilerden hangisidir?

- A) Sel
B) Erozyon
C) Deprem
D) Orman yangınları

20. Aşağıdakilerden hangisi kaynakların doğru kullanımına uygun davranışlardandır?
- A) Diş fırçalarken musluğu açık bırakmak
 - B) Su damlatan musluğu tamir ettirmek
 - C) Uyumadan önce her odadaki lambayı açık bırakmak
 - D) Elektrikli soba çalışırken pencereyi açıp evi havalandırmak

TEST BİTTİ.
CEVAPLARINIZI KONTROL EDİNİZ.



SINAV BAŞLAMADAN AŞAĞIDAKİ UYARILARI MUTLAKA OKUYUNUZ!

1. Öğrenciler, sınav kurallarına ve salon görevlilerinin tüm uyarılarına uymak zorundadırlar.
2. Cevap kâğıdındaki kimlik bilgilerinin doğruluğunu kontrol ediniz. Bilgiler size ait değilse veya cevap kâğıdı kullanılmayacak durumdaysa sınav görevlilerine bildirin.
3. Sınav başladıktan sonra öğrencilerin salon görevlileri ve birbirleri ile konuşmaları, kalem, silgi vb. şeyleri istemeleri yasaktır.
4. Değiştirmek istediğiniz bir cevabı, yumuşak silgiyle cevap kâğıdını yıpratmadan temizce siliniz ve yeni cevabınızı kodlayınız.
5. Cevap kâğıdınızı silinmeyen bir kalemle imzalayınız.
6. Cevaplarınızı, cevap kâğıdındaki ilgili soru numarasını dikkate alarak yuvarlağın dışına taşırmadan kodlayınız.
7. Soru kitapçığının sayfalarını kontrol ediniz, baskı hatası var ise değiştirilmesini sağlayınız.
8. Soru kitapçığı üzerinde yapıp cevap kâğıdına işaretlenmeyen cevaplar değerlendirmeye alınmayacaktır.
9. Soru kitapçığının içindeki boş alanları çözümlerinizi için kullanabilirsiniz.
10. Cevaplamaya istediğiniz sorudan başlayabilirsiniz.
11. Cevabını bilmediğiniz sorular üzerinde fazla zaman kaybetmeden diğer sorulara geçiniz. Zamanınız kalırsa bu sorulara daha sonra dönebilirsiniz.
12. Sınav puanınızın hesaplanmasında 3 yanlış 1 doğru cevabınızı götürecektir. Alt testler bu şekilde hesaplanarak net puanlarının toplamı toplam net puanınızı verecektir.
13. Sınav bitiminde, soru kitapçığı ve cevap kâğıdını salon görevlilerine teslim ediniz.
14. Sınav sırasında çanta, cep telefonu, saat, kablosuz iletişim sağlayan cihazlar ve kulaklık, kolye, küpe, bilezik, yüzük, broş ve benzeri eşyalar ile her türlü elektronik ve/veya mekanik cihazları yanınızda bulundurmuyunuz. Bu araçları yanınızda bulundurmanız ve kopya çekmeye teşebbüs etmeniz hâlinde sınavınız geçersiz sayılacaktır.
15. Cevap kâğıdınızı sınav süresince hiçbir öğrencinin göremeyeceği şekilde önünüzde bulundurunuz.
16. Sınavınızın değerlendirilmesi aşamasında, toplu kopya tespiti veya başka adayın sınav evrakını kullanmanız durumunda sınavınız geçersiz sayılacaktır.
17. Soruları ve sorulara verdiğiniz cevapları kaydetmeyiniz, hiçbir şekilde dışarı çıkarmayınız.
18. İlk 15 dakika dışarı çıkılmayacaktır.
19. Sınav evraklarını teslim etmeyenlerin sınavı geçersiz sayılacaktır.

SINAV GÖREVLİLERİNCE SINAV BAŞLAMADAN ÖNCE ÖĞRENCİLERE YAPILACAK SON UYARI!

- Soracağınız bir şey var mı? Varsa, şimdi sorunuz.
- Sınav başladıktan sonra sorularınıza cevap verilmeyecektir.
- Başlama zilini bekleyiniz.

Hepinize başarılar dileriz.

(Sınav görevlisi başlama ve bitiş saatini tahtaya yazacaktır.)

Bu kitapçığın her hakkı saklıdır. Hangi amaçla olursa olsun, kitapçığın tamamının veya bir kısmının Millî Eğitim Bakanlığı Ölçme, Değerlendirme ve Sınav Hizmetleri Genel Müdürlüğünün yazılı izni olmadan kopya edilmesi, fotoğraflarının çekilmesi, bilgisayar ortamına alınması, herhangi bir yolla çoğaltılması, yayımlanması veya başka bir amaçla kullanılması yasaktır. Bu yasağa uymayanlar, doğabilecek cezai sorumluluğu ve kitapçığın hazırlanmasındaki mali külfeti peşinen kabullenmiş sayılır.

**04 HAZİRAN 2017 TARİHİNDE YAPILAN TED ANKARA KOLEJİ VAKFI
ÖZEL İLKOKULU VE ORTAOKULU SEÇME SINAVI
3. SINIFLAR "B" KİTAPÇIĞI CEVAP ANAHTARI**

TÜRKÇE	MATEMATİK	HAYAT BİLGİSİ
1. B	1. D	1. C
2. C	2. B	2. C
3. C	3. A	3. B
4. A	4. C	4. D
5. B	5. B	5. A
6. D	6. A	6. A
7. C	7. B	7. D
8. A	8. C	8. B
9. C	9. D	9. C
10. D	10. B	10. A
11. B	11. B	11. D
12. A	12. C	12. C
13. C	13. D	13. B
14. A	14. A	14. A
15. A	15. C	15. D
16. D	16. B	16. C
17. B	17. D	17. B
18. B	18. A	18. A
19. D	19. C	19. C
20. C	20. D	20. B