



T.C.

MİLLÎ EĞİTİM BAKANLIĞI
ÖLÇME, DEĞERLENDİRME VE SINAV HİZMETLERİ
GENEL MÜDÜRLÜĞÜ

B

KİTAPÇIK TÜRÜ

HAYAT BOYU ÖĞRENME GENEL MÜDÜRLÜĞÜ MESLEKİ VE TEKNİK AÇIK ÖĞRETİM OKULU
ELGİNKAN VAKFI BİLGİSAYAR DESTEKLİ 2 BOYUTLU ÇİZİM AUTOCAD (2017/BDPÇ-1) SINAVI
18/03/2017

Adayın Adı ve Soyadı :

Aday Numarası (T.C. Kimlik No) :

ALAN	SORU SAYISI	SINAV SÜRESİ (DAKİKA)
AUTOCAD	100	120

ADAYLARIN DİKKATİNE!

1. Sınav saat **14.00**'te başlayacaktır. Sınav başladıktan sonra ilk **30** dakika tamamlanmadan dışarı çıkmayınız.
2. Sınav sırasında çanta, cep telefonu, saat, kablosuz iletişim sağlayan cihazlar ve kulaklık, kolye, küpe, bilezik, yüzük, broş ve benzeri eşyalar ile her türlü elektronik ve/veya mekanik cihazları yanınızda bulundurmayınız. Bu araçları yanınızda bulundurmanız ve kopya çekmeye teşebbüs etmeniz hâlinde sınavınız geçersiz sayılacaktır.
3. Başvuru şartlarını taşımadığınız hâlde sınava girmeniz, kopya çekmeniz, başka adayın sınav evrakını kullanmanız, geçerli kimlik belgenizi ve sınav giriş belgenizi ibraz edemediğiniz durumlarda sınavınız geçersiz sayılacaktır.
4. Sınavın değerlendirilmesi aşamasında, bilgisayar ortamında yapılan kopya analizinde sistemin ikili ve/veya toplu kopya tespiti hâlinde sınavınız geçersiz sayılacaktır.

CEVAP KÂĞIDI VE SORU KİTAPÇIĞI İLE İLGİLİ AÇIKLAMALAR

1. Cevap kâğıdınızdaki bilgilerin doğruluğunu kontrol ediniz ve cevap kâğıdınızı mürekkepli kalemle imzalayınız.
2. Kitapçık türünüzü cevap kâğıdınızdaki ilgili alana kodlayınız. Değerlendirme işlemleri cevap kâğıdındaki kodlamalara göre yapıldığından eksik ya da hatalı kodlamalarda sorumluluk size ait olacaktır.
3. Cevap kâğıdı üzerinde kodlamalarınızı siyah kurşun kalemle yapınız.
4. Değiştirmek istediğiniz bir cevabı, yumuşak silgiyle cevap kâğıdını örselemeden temizce siliniz ve yeni cevabınızı kodlayınız.
5. Soru kitapçığının sayfalarını kontrol ediniz, baskı hatası var ise değiştirilmesini sağlayınız.
6. Soru kitapçığının ön yüzündeki ilgili yerlere ad, soyad ve T.C. kimlik numaranızı yazınız.
7. Her sorunun **BEŞ** seçeneğinden sadece biri doğrudur. Doğru seçeneği, cevap kâğıdınızın ilgili sütununa soru numarasını dikkate alarak yuvarlağın dışına taşırmadan kodlayınız. **Soru kitapçığı üzerinde yapılan cevaplandırmalar dikkate alınmayacaktır.**
8. Yanlış cevaplarınızın dikkate alınmadan sadece doğru cevaplarınız üzerinden puanlama yapılacaktır.
9. Soruları ve sorulara verdiğiniz cevapları, yanınızda götürmek amacıyla kaydetmeyiniz; hiçbir şekilde dışarı çıkarmayınız.
10. Sınav bitiminde, soru kitapçığı ve cevap kâğıdını salon görevlilerine teslim ediniz.

BAŞLAYINIZ DENMEDEN SORU KİTAPÇIĞINI AÇMAYINIZ.

1. Bir nesnenin seçilen kısmını sündürerek düzenleme yapılmasını sağlayan komut aşağıdakilerden hangisidir?

- A) Move
B) Extend
C) Spline
D) Stretch
E) Scale

2. Aşağıdakilerden hangisi Modify panelindeki komutlardan biri değildir?

- A) Erase
B) Mirror
C) Offset
D) Trim
E) Block Editor

3. Çizgileri belirtilen bir nesneye kadar uzatmayı sağlayan komut aşağıdakilerden hangisidir?

- A) Extend
B) Move
C) Spline
D) Trim
E) Break

4. Block, polyline veya ölçülendirme gibi nesnelere patlatan komut aşağıdakilerden hangisidir?

- A) Region
B) Explode
C) Extend
D) Extrude
E) Stretch

5. Çizilmiş bir nesneyi belli bir eksen etrafında döndürerek çoğaltan komut aşağıdakilerden hangisidir?

- A) Move
B) Mirror
C) Path Array
D) Rectangular Array
E) Polar Array

6. Chamfer komutunun görevi aşağıdakilerden hangisidir?

- A) Nesnelere taşır.
B) Köşeleri yuvarlatır.
C) Köşelere pah kırar.
D) Nesnelere döndürür.
E) Nesnelere yeniden boyutlandırır.

7. Trim komutu aşağıdakilerden hangisine uygulanamaz?

- A) Line
B) Arc
C) Polyline
D) Circle
E) Face

8. Line, polyline, circle, arc gibi çizgileri istenilen uzunluktaki aralıklarda nokta veya blok kullanarak işaretlemeyi sağlayan komut aşağıdakilerden hangisidir?

- A) Divide
B) Measure
C) Polyline
D) Multiline
E) Move

9. AutoCAD programında çizilen bir nesnenin simetrisini almak için hangi komut kullanılır?

- A) Mirror
B) Array
C) Rotate
D) Extend
E) Offset

10. Aşağıdakilerden hangisiyle Lengthen komutunda çizgi uzatılamaz?

- A) Delta
B) Dynamic
C) Percent
D) Total
E) Extend

11. Trim komutunun alt parametresi olan "Fence" ile ilgili aşağıdakilerden hangisi doğrudur?

- A) Çizgileri uzatır.
- B) Çizim komutudur.
- C) Ölçülendirme aracıdır.
- D) Bir nesne seçim aracıdır.
- E) Üç boyutta budama yapar.

12. Text Style diyalog kutusunda açılı yazı yazmak için hangi başlık altına açılı değeri girilir?

- A) Width Factor
- B) Oblique Angle
- C) Height
- D) Font Style
- E) Font Name




13. Change komutunda nesnelerin çizgi tipini değiştirmek için aşağıdakilerden hangisi kullanılır?

- A) Color
- B) Elev
- C) Ltype
- D) Lweight
- E) Ltsscale

14. Çizgileri uç uca birleştirmek için Pedit komutunun hangi alt parametresi kullanılır?


- A) Width
- B) Join
- C) Fit
- D) Spline
- E) Decurve

15. Trim komutunun simgesi aşağıdakilerden hangisidir?

- A) 
- B) 
- C) 
- D) 
- E) 

16.  Modify panelinde yer alan yan taraftaki simge hangi komutu çalıştırır?

- A) Measure
- B) Polyline
- C) Break
- D) Divide
- E) Break at point






17.  Modify panelinde yer alan yan taraftaki simgenin işlevi aşağıdakilerden hangisidir?

- A) Öteleme
- B) Kopyalama
- C) Çoğaltma
- D) Taşıma
- E) Silme

18.  Modify panelinde yer alan yan taraftaki simge hangi komutu çalıştırır?

- A) Break
- B) Join
- C) Break at point
- D) Hatch
- E) Node

19. Chamfer komutunun simgesi aşağıdakilerden hangisidir?

- A) 
- B) 
- C) 
- D) 
- E) 

20. AutoCAD'de nesne kenetleme komutlarını aktif hâle getiren fonksiyon tuşu aşağıdakilerden hangisidir?

- A) F9
- B) F8
- C) F7
- D) F5
- E) F3

21. Ortho çizim yardımcısı ile ilgili aşağıdakilerden hangisi yanlıştır?

- A) F3 tuşu ile açılır / kapanır.
- B) Çizgilerin düz çizilmesini sağlar.
- C) F8 fonksiyon tuşu ile açılır / kapanır.
- D) Çizim alanının x ve y eksenlerine paralel çizim yapılmasını sağlar.
- E) Transparan bir komuttur (bir komut içindeyken, komuttan çıkmadan açılıp / kapanabilir).

22. Çizim alanında bir nesne seçildiğinde o nesneyle ilgili bilgileri bir pencerede gösteren çizim yardımcısı aşağıdakilerden hangisidir?

- A) Dynamic Input
- B) Selection Cycling
- C) Quick Properties
- D) Transparency
- E) Object Snap Tracking

23. % 80 geçirgen olarak ayarlanmış bir katmanda çizilen nesnelerin ekranda geçirgen görünüp görünmeyeceğini belirleyen çizim yardımcısı aşağıdakilerden hangisidir?

- A) Dynamic Input
- B) Quick Properties
- C) Selection Cycling
- D) Transparency
- E) Object Snap Tracking

24. Aşağıdaki çizim yardımcısı - fonksiyon tuşu eşleştirmelerinden hangisi yanlıştır?

- A) OSnap - F3
- B) Ortho - F8
- C) Snap - F5
- D) 3D OSnap - F4
- E) Otrack - F11

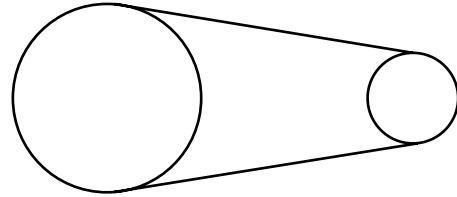
25. OSnap komutlarından hangisi orta noktaya kenetlenir?

- A) Node
- B) Endpoint
- C) Tangent
- D) Midpoint
- E) Perpendicular

26. Referans alınan bir otomatik nesne kenetleme noktasının izinde herhangi bir yere kenetlenen OSnap komutu aşağıdakilerden hangisidir?

- A) Nearest
- B) Tangent
- C) Extension
- D) Intersection
- E) Apparent

27.



Yukarıdaki şeklin çizilebilmesi için hangi OSnap komutu kullanılır?

- A) Quadrant
- B) Midpoint
- C) Tangent
- D) Nearest
- E) Endpoint

28.  Yan tarafta verilen simge hangi OSnap komutunu çalıştırır?

- A) Quadrant
- B) Intersection
- C) Midpoint
- D) Perpendicular
- E) Apparent Intersection






29.  Yan tarafta verilen simge hangi OSnap komutunu çalıştırır?

- A) Insertion
- B) Parallel
- C) Extension
- D) Nearest
- E) Endpoint

30.  Yan tarafta verilen simge hangi OSnap komutunu çalıştırır?

- A) Quadrant
- B) Center
- C) Tangent
- D) 2p
- E) Tan, Tan, Tan

31. Fillet komutunun simgesi aşağıdakilerden hangisidir?

- A)  B) 
 C)  D) 
 E) 

32. Herhangi bir komut çalışırken imlecin hareketlerini sadece yatay veya dikey hareket edecek şekilde kısıtlayan çizim yardımcısı aşağıdakilerden hangisidir?

- A) Ortho B) Grid
 C) Snap D) Endpoint
 E) Save

33. OSnap komutları hangi araç çubuğunda bulunur?

- A) Modify B) Draw
 C) Object Snap D) View
 E) Standard

34. Çizilmiş nesnelere veri tabanına göre yeniden oluşturan komut aşağıdakilerden hangisidir?

- A) Redraw B) Regen
 C) Regenauto D) Regenall
 E) Blipmode

35. Herhangi bir layerde aşağıdakilerden hangisi bulunmaz?

- A) Çizgi tipi B) Kilitleme
 C) Çizgi kalınlığı D) Render
 E) Plot

36. Layerlerin çizgi kalınlıklarını değiştirmek için hangi düğme kullanılır?

- A) Linetype B) Plot
 C) Name D) Color
 E) Lineweight

37.  Yan tarafta simgesi verilen Dimensions aracı hangi komutu çalıştırır?

- A) Dimlinear B) Dimaligned
 C) Dimcontinue D) Dimangular
 E) Inspection

38.  Yan tarafta simgesi verilen Dimensions aracı hangi komutu çalıştırır?

- A) Dimarc B) Dimradius
 C) Dimjogged D) Dimcenter
 E) Dimdiameter

39.  Yan tarafta simgesi verilen Dimensions aracı hangi komutu çalıştırır?

- A) Dimarc B) Dimradius
 C) Dimcenter D) Dimjogged
 E) Dimdiameter


40.  Yan tarafta simgesi verilen Dimensions aracı hangi komutu çalıştırır?

- A) Dimbreak B) Dimaligned
 C) Dimspace D) Tolerance
 E) Dimedit






41.  Yan tarafta simgesi verilen Dimensions aracı hangi komutu çalıştırır?

- A) Dimedit B) Dimtedit
 C) Dimcontinue D) Dimstyle
 E) Inspection

42. Mirror komutunun simgesi aşağıdakilerden hangisidir?

- A)  B) 
 C)  D) 
 E) 

43. Aşağıdaki komutlardan hangisi ile sürekli ölçülendirme yapılır?

- A)  B) 
 C)  D) 
 E) 

44. Komut satırına hangi harf yazıldığında "Dimension Style Manager" penceresi açılır?

- A) h B) e
 C) t D) st
 E) d

45. Ölçeği 2 kat küçültülmüş bir parçayı ölçülendirme yaparken 1:1 ölçü yazması için aşağıdakilerden hangisi yapılır?

- A) Fit sayfa sekmesinden Scale 2 yapılır.
 B) Fit sayfa sekmesinden Scale 0.5 yapılır.
 C) Alternate Units sayfa sekmesinden 2 yazılır.
 D) Primary units sayfa sekmesinden Scale factor 2 yapılır.
 E) Primary units sayfa sekmesinden Scale factor 0.5 yapılır.

46. Ölçülendirmede hedef noktaya doğru uzanan çizgilerin adı nedir?

- A) Extension Line B) Arrow
 C) Leader D) Extend Beyond
 E) Dimension Line

47. Birbiriyle açı yapan iki nesnenin arasındaki açığı ölçülendiren komut aşağıdakilerden hangisidir?

- A) Dimangular B) Dimaligned
 C) Dimcontinue D) Dimlinear
 E) Inspection

48. Baseline ve Continue komutları uygulanmadan önce hangi komut uygulanmalıdır?

- A) Inspection B) Dimaligned
 C) Dimcontinue D) Dimlinear
 E) Quick Dimension

49. Ölçülendirme yapıldıktan sonra ölçünün eğik olması için aşağıdakilerden hangisi kullanılır?

- A) Home B) Oblique
 C) Rotate D) Right
 E) New

50. Nesnelerin alanlarını hesaplamak için kullanılan komut aşağıdakilerden hangisidir?

- A) Distance B) Inquiry
 C) Area D) Region
 E) List

51. Komut satırına yeni bir komut yazıldığında bu komutun çalışması için hangi tuşa basılmalıdır?

- A) Home B) End
 C) Enter D) Del
 E) Mouse sol tuş

52. Aşağıdakilerden hangisi AutoCAD'in şablon dosya uzantısıdır?

- A) bmp B) dwg
 C) drv D) dwt
 E) dxf

53. AutoCAD'de çalıştırdığımız komutun iptalini yapan tuş aşağıdakilerden hangisidir?

- A) Space Bar B) Tab
C) Esc D) Enter
E) Fare sağ tuş

54. Aşağıdakilerden hangisi geçerli anlamına gelir?

- A) Volume B) Next
C) First D) Mode
E) Current

55. Aşağıdaki komut - kısaltma birlikteliklerinden hangisi yanlış verilmiştir?

- A) Zoom - z B) View - w
C) Linetype - lt D) Line - l
E) Mirror - mi

56. Aşağıdaki komut - kısaltma birlikteliklerinden hangisi yanlış verilmiştir?

- A) Chamfer - ch B) List - li
C) Lenghten - len D) Insert - i
E) Join - j

57. Aşağıdakilerden hangisi Drafting Settings (Çizim Ayarları) penceresini açan kısayoldur?

- A) Sl B) Sn
C) Sc D) Se
E) Sha

58. Aşağıdakilerin hangisinde verilen komutun işlevi yanlış yazılmıştır?

- A) Ray - Başlangıcı bilinen sonsuz ışınsal çizgi
B) Design Center - Merkezi bilinen çember
C) Limits - Çizim sınırlarını ayarlama
D) Properties - Özellik tanımlama
E) Table - Tablo oluşturma

59. Aşağıda verilen AutoCAD ile ilgili terimlerin hangisinin Türkçe karşılığı yanlıştır?

- A) Import - Dosya alışı
B) Export - Dosya veriş
C) Thickness - Kalınlaştırma
D) OLE Object - Nesne yakalama
E) External References - Çizime dış referans ekleme

60. AutoCAD'de ekran görüntüsü, imleç büyüklüğü ve otomatik kaydetme süresi gibi kullanıcı ile ilgili ayarlar aşağıdakilerin hangisinde yapılır?

- A) Edit B) Options
C) Tools D) Modify
E) Format

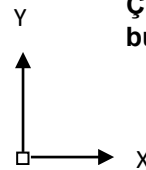
61. AutoCAD'in çalışma arayüzünü özelleştirebildiğimiz komut aşağıdakilerden hangisidir?

- A) Edit B) Properties
C) Ribbon D) Toolbars
E) Cui

62. AutoCAD'de çizilmiş bir projede çizgiler, ölçülendirmeler, taramalar ve yazılar üst üste gelebilir. Bu durumda yazıların en önde, taramaların en arkada olması gibi ayarlamaların yapıldığı komut aşağıdakilerden hangisidir?

- A) Draworder B) Select
C) Edit Hatch D) Edit
E) Utilities

63. Çizim ekranının sol alt köşesinde bulunan yandaki şekil nedir?



- A) Komut satırı
B) Durum çubuğu
C) Koordinat sistemi
D) Yatay kaydırma çubuğu
E) Düşey kaydırma çubuğu

- 64. AutoCAD'de açık olan birden çok dosya arasında geçiş yapmak için aşağıdaki klavye kısa yollarından hangisi kullanılır?**
- A) Ctrl + Tab B) Ctrl + Alt
C) Ctrl + Shift D) Ctrl + 9
E) Shift + Tab
- 65. AutoCAD programı açıkken ekrandaki şerit menü ve araç çubuklarını gizleyerek çizim alanını genişleten komut aşağıdakilerden hangisidir?**
- A) Restore B) Clean Screen
C) Isolate Objects D) Quick View
E) Workspace Switching
- 66. Komut satırında en son kullanılan komuttan başlayarak geriye doğru kullanılan komutları sırası ile görülmesini sağlayan klavye tuşları aşağıdakilerden hangisidir?**
- A) Enter/Esc B) Alt/Shift
C) Shift/Alt D) Tab/Ctrl
E) Yukarı/Aşağı ok tuşları
- 67. AutoCAD programını kapatıp çıkmak için kullanılan klavye kısa yolu aşağıdakilerden hangisidir?**
- A) Ctrl + W B) Ctrl + Q
C) Ctrl + N D) Ctrl + O
E) Ctrl + S
- 68. Eklemeli (Relative) koordinatlarla çizim yaparken nokta koordinatlarının klavyeden yazılımı aşağıdakilerden hangisidir?**
- A) @X, Y B) X, Y
C) @L <Açı D) L@X, Y
E) X@Y
- 69. AutoCAD'de çizgi tipi ölçek hangi komutla ayarlanır?**
- A) Linetype B) Viewress
C) Ltsscale D) Regenall
E) Isoplane
- 70. Açık olan çizim dosyasından bir başka dosyaya herhangi bir nesneyi taşımak için hangi komut kullanılır?**
- A) Pasteclip B) Move
C) Copy D) Copyclip
E) Cutclip
- 71. AutoCAD programı içinde var olan hazır bloklara aşağıdakilerden hangisiyle ulaşılır?**
- A) Cameras B) Materials
C) Hatch D) 3D Make
E) Design Center
- 72. AutoCAD'de var olan tarama desenlerinin haricinde yeni desenler eklemek istendiğinde tarama desenleri AutoCAD'in hangi sistem klasörüne eklenir?**
- A) Support B) Setup
C) Template D) Sample
E) En-Us
- 73. AutoCAD'de açık olan bir dosyadaki kullanılmayan style, block ve layer gibi nesnelere bu- larak silinen komut aşağıdakilerden hangisidir?**
- A) Recover B) Audit
C) Purge D) Layers
E) Erase

74. AutoCAD'de, çizim sınırı (kâğıt boyutu) belirleme komutu aşağıdakilerden hangisidir?

- A) Units
B) Grid
C) Clockwise
D) Limits
E) Layer

75. AutoCAD'de ölçülendirme stilleri aşağıdakilerden hangisi ile düzenlenir ve yönetilir?

- A) Text Style
B) Multiline Style
C) Point Style
D) Table Style
E) Dimension Style

76. Properties komutunun klavye kısa yolu aşağıdakilerden hangisidir?

- A) Ctrl + 0
B) Ctrl + 1
C) Ctrl + Shift
D) Ctrl + 2
E) Ctrl + p

77. Çıktı alma komutu olan "Plot" hangi araç çubuğundadır?

- A) Layers
B) Properties
C) Draw
D) Modify
E) Quick Access Toolbar

78. AutoCAD ortamında oluşturulan çizim dosyalarını başka bir programa ihraç etmek için kullanılan komut aşağıdakilerden hangisidir?

- A) Open
B) Save as
C) Export
D) Save
E) File

79. AutoCAD'de Design Center penceresini açan klavye kısa yolu aşağıdakilerden hangisidir?

- A) Ctrl + 0
B) Ctrl + 1
C) Ctrl + Shift
D) Ctrl + 2
E) Shift + Fare sağ tuş

80.  Yan taraftaki simge zoom komutlarından hangisini çalıştırır?

- A) Zoom Realtime
B) Zoom Dynamic
C) Zoom Previous
D) Zoom Scale
E) Zoom Extent

81.  Yan taraftaki simge hangi komutu çalıştırır?

- A) Preview
B) Send
C) Move
D) Pan Realtime
E) Copy

82. Sayıların sonuna derece işareti konulmak istenildiğinde klavyeden aşağıdakilerden hangisiyle giriş yapılır?


- A) %%C
B) %%D
C) %%P
D) %%uU
E) %%O

83. Farenin orta tekerleğine tepeden çift tıklandığında çalışan zoom komutu aşağıdakilerden hangisidir?

- A) Realtime
B) Dynamic
C) Previous
D) Scale
E) Extents

84. Merkezle büyüklüğü kontrol edilebilen bir dörtgenle yaklaşma yapabilen zoom komutu aşağıdakilerden hangisidir?

- A) Extends
B) Window
C) Dynamic
D) Scale
E) All


85.  Yan tarafta yer alan simge zoom komutlarından hangisini çalıştırır?
- A) Window B) Center
C) Previous D) Object
E) Scale
86. Aşağıdakilerden hangisi Draw çekme menüsüne ait komuttur?
- A) Leader B) Zoom
C) Arc D) Mirror
E) Divide
87. Plot penceresinden yazdırılacak alan aşağıdaki bölümlerden hangisiyle belirlenir?
- A) Paper size B) Plot scale
C) Page setup D) Plot area
E) Plot style table
88. AutoCAD'de çizilen bir nesneyi diğer çizimlerde de kullanmak üzere blok yapan komut aşağıdakilerden hangisidir?
- A) Wblock B) Block
C) Dynamic Block D) Insert
E) Group
89. Rectangle komutunun işlevi aşağıdakilerden hangisidir?
- A) Çizgi B) Yay
C) Dikdörtgen D) Çokgen
E) Çember
90. Herhangi bir kapalı alanı taramak için kullanılan komut aşağıdakilerden hangisidir?
- A) Region B) Solid
C) Wipeout D) Hatch
E) Layer
91. AutoCAD'de serbest elle çizgi çizmek için aşağıdaki komutlardan hangisi kullanılır?
- A) Circle B) Sketch
C) Edge D) Inscribed
E) Mline
92. Aşağıdaki komutlardan hangisiyle yeni bir nesne çizilemez?
- A) Regen B) Line
C) Polygon D) Ellipse
E) Circle
93. Aşağıdakilerden hangisi bloklarla ilgili bir kavram değildir?
- A) Insert B) Design Center
C) Wblock D) Dynamic Block
E) Object
94. Aşağıdakilerden hangisi AutoCAD'in çıkış verdiği dosya biçimlerinden değildir?
- A) *.dwg B) *.dxf
C) *.jpeg D) *.mpeg
E) *.bmp

95. Multiline, solid, donut ve genişlik verilmiş polyline gibi nesnelere içlerinin boş veya dolu olmasını ayarlayan sistem değişken komutu aşağıdakilerden hangisidir?

- A) Line
C) Angle
E) Donut
B) Fillmode
D) Point






96.  Draw panelinde yer alan yan taraftaki simge hangi komutu çalıştırır?

- A) Fillet
C) Arc
E) Revision Cloud
B) Blend
D) Spline

97.  Block panelinde yer alan yan taraftaki simge hangi komutu çalıştırır?

- A) Insert Block
C) Gradient
E) Break
B) Make Block
D) Hatch

98. Arc komutunun simgesi aşağıdakilerden hangisidir?

- A)  B) 
C)  D) 
E) 

99. Hatch komutunun simgesi aşağıdakilerden hangisidir?

- A)  B) 
C)  D) 
E) 

100. Belirli bir mesafe girerek çizgileri ötelemeye yarayan komut aşağıdakilerden hangisidir?

- A) Copy
C) Offset
E) Fillet
B) Mirror
D) Array

**TEST BİTTİ.
CEVAPLARINIZI KONTROL EDİNİZ.**

SINAV SÜRESİNCE UYULACAK KURALLAR

- 1. Adaylar, sınav kurallarına ve salon görevlilerinin tüm uyarılarına uymak zorundadırlar. Kurallara ve uyarılara uymayan adayların sınavları geçersiz sayılacaktır.**
- 2. Sınav başladıktan sonra adayların salon görevlileri ve birbirleri ile konuşmaları, kalem, silgi vb. şeyleri istemeleri yasaktır.**
- 3. Adaylar sınav süresince, sınav giriş belgesi ile birlikte geçerli kimlik belgelerinden birini (fotoğraflı nüfus cüzdanı, pasaport) masalarının üzerinde bulundurmamak zorundadırlar.**
- 4. Sınav evraklarını teslim etmeyen, soru kitapçıklarının sayfalarından bir kısmını eksik teslim edenlerin sınavları geçersiz sayılacaktır.**

SALON GÖREVLİLERİNCE SINAV BAŞLAMADAN ÖNCE ADAYLARA YAPILACAK SON UYARILAR

- Soracağınız bir şey varsa şimdi sorunuz, sınav başladıktan sonra sorularınıza cevap verilmeyecektir.
- Başlama zilini bekleyiniz.

Hepinize başarılar dileriz.

(Salon başkanı başlama ve bitiş saatini tahtaya yazacaktır.)

Bu kitapçığın her hakkı saklıdır. Hangi amaçla olursa olsun, kitapçığın tamamının veya bir kısmının Millî Eğitim Bakanlığı Ölçme, Değerlendirme ve Sınav Hizmetleri Genel Müdürlüğünün yazılı izni olmadan kopya edilmesi, fotoğraflarının çekilmesi, bilgisayar ortamına alınması, herhangi bir yolla çoğaltılması, yayımlanması veya başka bir amaçla kullanılması yasaktır. Bu yasağa uymayanlar, doğabilecek cezai sorumluluğu ve kitapçığın hazırlanmasındaki mali külfeti peşinen kabullenmiş sayılır.

18 MART 2017 TARİHİNDE YAPILAN
HAYAT BOYU ÖĞRENME GENEL MÜDÜRLÜĞÜ MESLEKİ VE TEKNİK AÇIK ÖĞRETİM OKULU
ELGİNKAN VAKFI BİLGİSAYAR DESTEKLİ 2 BOYUTLU ÇİZİM AUTOCAD (2017/BDPÇ-1) SINAVI
B SORU KİTAPÇIĞI CEVAP ANAHTARI

1. D
2. E
3. A
4. B
5. E
6. C
7. E
8. B
9. A
10. E
11. D
12. B
13. C
14. B
15. A
16. C
17. D
18. C
19. B
20. E
21. A
22. C
23. D
24. C
25. D

26. C
27. C
28. B
29. D
30. B
31. E
32. A
33. C
34. B
35. D
36. E
37. A
38. A
39. C
40. D
41. B
42. E
43. D
44. E
45. D
46. A
47. A
48. D
49. B
50. C

51. C
52. D
53. C
54. E
55. B
56. A
57. D
58. B
59. D
60. B
61. E
62. A
63. C
64. A
65. B
66. E
67. B
68. A
69. C
70. E
71. E
72. A
73. C
74. D
75. E

76. B
77. E
78. C
79. D
80. A
81. D
82. B
83. E
84. C
85. B
86. C
87. D
88. A
89. C
90. D
91. B
92. A
93. E
94. D
95. B
96. E
97. A
98. E
99. A
100. C