

**B****KİTAPÇIK TÜRÜ**

T.C.
MİLLÎ EĞİTİM BAKANLIĞI
ÖLÇME, DEĞERLENDİRME VE SINAV HİZMETLERİ
GENEL MÜDÜRLÜĞÜ

**8. GRUP:
TEKNİKER**

EKONOMİ BAKANLIĞI PERSONEL DAİRESİ BAŞKANLIĞI
UNVAN DEĞİŞİKLİĞİ SINAVI
10/12/2016

Adayın Adı ve Soyadı :

Aday Numarası (T.C. Kimlik No) :

ALANLAR	TOPLAM SORU SAYISI	SINAV SÜRESİ (DAKİKA)
Görevin niteliği ile ilgili konular	50	60

ADAYLARIN DİKKATİNE!

1. Sınav saat **10.00**'da başlayacaktır. Sınav başladıktan sonra ilk **30** dakika tamamlanmadan dışarı çıkmayınız.
2. Sınav sırasında çanta, cep telefonu, saat, kablosuz iletişim sağlayan cihazlar ve kulaklık, kolye, küpe, bilezik, yüzük, broş ve benzeri eşyalar ile her türlü elektronik ve/veya mekanik cihazları yanınızda bulundurmuyunuz. Bu araçları yanınızda bulundurmanız ve kopya çekmeye teşebbüs etmeniz hâlinde sınavınız geçersiz sayılacaktır.
3. Başvuru şartlarını taşımadığınız hâlde sınava girmeniz, kopya çekmeniz, başka adayın sınav evrakını kullanmanız, geçerli kimlik belgenizi ve sınav giriş belgenizi ibraz edemediğiniz durumlarda sınavınız geçersiz sayılacaktır.
4. Sınavın değerlendirilmesi aşamasında, bilgisayar ortamında yapılan kopya analizinde sistemin ikili ve/veya toplu kopya tespiti hâlinde sınavınız geçersiz sayılacaktır.

CEVAP KÂĞIDI VE SORU KİTAPÇIĞI İLE İLGİLİ AÇIKLAMALAR

1. Cevap kâğıdınızdaki bilgilerin doğruluğunu kontrol ediniz ve cevap kâğıdınızı mürekkepli kalemle imzalayınız.
2. Kitapçık türünüzü cevap kâğıdınızdaki ilgili alana kodlayınız. Değerlendirme işlemleri cevap kâğıdındaki kodlamalara göre yapıldığından eksik ya da hatalı kodlamalarda sorumluluk size ait olacaktır.
3. Cevap kâğıdı üzerinde kodlamalarınızı siyah kurşun kalemle yapınız.
4. Değiştirmek istediğiniz bir cevabı, yumuşak silgiyle cevap kâğıdını örselemeden temizce siliniz ve yeni cevabınızı kodlayınız.
5. Soru kitapçığının sayfalarını kontrol ediniz, baskı hatası var ise değiştirilmesini sağlayınız.
6. Soru kitapçığının ön yüzündeki ilgili yerlere ad, soyad ve T.C. kimlik numaranızı yazınız.
7. Her sorunun **DÖRT** seçeneğinden sadece biri doğrudur. Doğru seçeneği, cevap kâğıdınızın ilgili sütununa soru numarasını dikkate alarak yuvarlağın dışına taşırmadan kodlayınız. **Soru kitapçığı üzerinde yapılan cevaplandırmalar dikkate alınmayacaktır.**
8. Yanlış cevaplarınız dikkate alınmadan sadece doğru cevaplarınız üzerinden puanlama yapılacaktır.
9. Soruları ve sorulara verdiğiniz cevapları, yanınızda götürmek amacıyla kaydetmeyiniz; hiçbir şekilde dışarı çıkarmayınız.
10. **Sınav bitiminde, soru kitapçığı ve cevap kâğıdını salon görevlilerine teslim ediniz.**

BAŞLAYINIZ DENMEDEN SORU KİTAPÇIĞINI AÇMAYINIZ.

1. 657 sayılı Devlet Memurları Kanunu'na göre aday olarak atanmış Devlet memurunun adaylık süresi aşağıdakilerden hangisini geçemez?

- A) İki yıl
B) On sekiz ay
C) Bir yıl
D) Altı ay

2. 657 sayılı Devlet Memurları Kanunu'nun;

- I. Atanma
II. Sınavlar
III. Disiplin cezaları

ile ilgili hükümlerinden hangileri, istisnai memurluklar hakkında uygulanmaz?

- A) Yalnız II
B) Yalnız III
C) I ve II
D) I ve III

3. 657 sayılı Devlet Memurları Kanunu'na göre yer değiştirme suretiyle atanmaya tabi memurun kalkınmada 1'inci derecede öncelikli yörelerden birine atanması ve bu yerde eşinin atanacağı teşkilatın bulunmaması durumunda eşine görev süresiyle sınırlı olmak üzere aylık ve diğer ödemelerine karşılık olarak, aylık (taban ve kıdem aylığı dâhil), ek gösterge, zam ve tazminatlarının kanuni kesintiler düşüldükten sonraki net miktarının yüzde kaçını ödenmek suretiyle izin verilir?

- A) 25
B) 50
C) 60
D) 75

4. 657 sayılı Devlet Memurları Kanunu'na göre uluslararası kuruluşlarda görev alacak memurlara kurumlarının muvafakati ve ilgili Bakanın onayı ile memuriyeti süresince en fazla kaç yıla kadar aylıksız izin verilebilir?

- A) On
B) On dört
C) Yirmi bir
D) Yirmi beş

5. 657 sayılı Devlet Memurları Kanunu'na göre mezuniyetsiz veya kurumlarınca kabul edilen mazereti olmaksızın görevin terk edilmesi ve bu terkin kesintisiz 10 gün devam etmesi durumu aşağıdakilerden hangisini yazılı müracaat şartı aranmaksızın istemiş olma sonucunu doğurur?

- A) Çekilme
B) Emeklilik
C) Aylıksız izin
D) Görev yeri değişikliği

6. 657 sayılı Devlet Memurları Kanunu'na göre memura, aylık ve özlük hakları korunarak, verilecek raporda gösterilecek lüzum üzerine, kanser, verem ve akıl hastalığı gibi uzun süreli bir tedaviye ihtiyaç gösteren hastalığı hâlinde (ek izin talebi hariç) en çok kaç aya kadar "hastalık izni" verilir?

- A) On sekiz
B) On beş
C) On iki
D) Altı

7. I. Kamu kaynağında önemli ölçüde tasarruf sağlanmasında
II. Kamu zararının oluşmasının önlenmesinde ve önlenemez kamu zararlarının önemli ölçüde azaltılmasında
III. Kamusal fayda ve gelirlerin beklenenin üzerinde artırılmasında veya sunulan hizmetlerin etkinlik ve kalitesinin yükseltilmesinde

657 sayılı Devlet Memurları Kanunu'na göre görevli oldukları kurumlarda olağanüstü gayret ve çalışmaları ile emsallerine göre başarılı görev yapmak suretiyle; somut olaylara ve verilere dayalı olmak koşuluyla yukarıdakilerden hangilerine bağlı olarak katkı sağladıkları tespit edilen memurlara başarı belgesi verilebilir?

- A) Yalnız I
B) I ve II
C) II ve III
D) I, II ve III

8. 657 sayılı Devlet Memurları Kanunu'na göre aşağıdakilerden hangisi uyarma cezasını gerektiren fiil ve hâllerdendir?

- A) Verilen emirlere itiraz etmek
- B) Devlet memuru vakarına yakışmayan tutum ve davranışta bulunmak
- C) Görev sırasında amire hâl ve hareketi ile saygısız davranmak
- D) Devlete ait resmî araç, gereç ve benzeri eşyayı özel işlerinde kullanmak

9. 657 sayılı Devlet Memurları Kanunu'na göre memurluktan çıkarma cezası için bu cezayı gerektiren fiil ve hâllerin işlendiğinin öğrenildiği tarihten itibaren kaç ay içinde disiplin kovuşturmasına başlanmadığı takdirde disiplin cezası verme yetkisi zaman aşımına uğrar?

- A) İki
- B) Üç
- C) Dört
- D) Altı

10. Hangi kurumun çalışanları 657 sayılı Devlet Memurları Kanunu kapsamında bulunmayıp kendi özel kanunlarına tabidir?

- A) İl Özel İdareleri
- B) Emniyet Teşkilatı
- C) Kefalet Sandıkları
- D) Genel ve Katma Bütçeli Kurumlar

11. Aşağıdakilerden hangisi 657 sayılı Devlet Memurları Kanunu'nun temel ilkelerinden biri değildir?

- A) Kariyer
- B) Liyakat
- C) Sınıflandırma
- D) Sadakat

12. Aşağıdakilerden hangisi 657 sayılı Devlet Memurları Kanunu'nda belirtilen istihdam şekillerinden biri değildir?

- A) İşçiler
- B) Memur
- C) Geçici memur
- D) Sözleşmeli personel

13. Aşağıdakilerden hangisi 657 sayılı Devlet Memurları Kanunu'nda belirtilen genel haklardan değildir?

- A) Grev
- B) Güvenlik
- C) Sendika kurma
- D) Kovuşturma ve yargılama

14. Aşağıdakilerden hangisi 657 sayılı Devlet Memurları Kanunu'nda sayılan hizmet sınıflarından biri değildir?

- A) Avukatlık Hizmetleri Sınıfı
- B) Jandarma Hizmetleri Sınıfı
- C) Yükseköğretim Hizmetleri Sınıfı
- D) Mülki İdare Amirliği Hizmetleri Sınıfı

15. 657 sayılı Devlet Memurları Kanunu'na göre 5 yıl süreli yükseköğrenimi bitirenlerin memuriyete giriş derece ve kademeleri hangisinde doğru olarak verilmiştir?

- A) 8/1
- B) 8/2
- C) 9/1
- D) 9/2

16. Sivas Kongresi'nin yapılması kararı, aşağıdakilerden hangisinde alınmıştır?

- A) Misakımillî'de
- B) Erzurum Kongresi'nde
- C) Amasya Genelgesi'nde
- D) Amasya Görüşmelerinde

17. Aşağıdakilerden hangisi Kurtuluş Savaşı sürecinde gerçekleşmemiştir?

- A) Başkomutanlık Meydan Savaşı
- B) Sakarya Meydan Savaşı
- C) Trablusgarp Savaşı
- D) II. İnönü Savaşı

18. İstanbul'un İtilaf Devletleri tarafından resmen işgal edilmesine, aşağıdakilerden hangisi neden olmuştur?

- A) Misakımillî'nin ilan edilmesi
- B) Erzurum Kongresi'nin toplanması
- C) Amasya Görüşmelerinin yapılması
- D) Amasya Genelgesi'nin yayımlanması

19. Türk ve yabancı araştırmacılarının bir ihtilal beyannamesi olma özelliğini taşıdığına hem fikir oldukları belge, aşağıdakilerden hangisidir?

- A) Havza Genelgesi
- B) Amasya Genelgesi
- C) Misakımillî Kararları
- D) Amasya Görüşmeleri

20. Aşağıdakilerden hangisi Mudanya Ateşkes Antlaşması'nı imzalayan devletlerden biridir?

- A) ABD
- B) İtalya
- C) Sovyet Rusya
- D) Almanya

21. Aşağıdakilerden hangisi toplumsal yaşayışı düzenlemek amacıyla yapılmamıştır?

- A) Aşar vergisinin kaldırılması
- B) Soyadı Kanunu'nun çıkarılması
- C) Kıyafet değişikliğinin gerçekleştirilmesi
- D) Tekke, zaviye ve türbelerin kapatılması

22. Türkiye, aşağıdaki sorunlardan hangisini kendi iç meselesi sayarak çözümünde yalnız hareket etmiştir?

- A) Irak sınırını
- B) Hatay meselesini
- C) Boğazlar konusunu
- D) Yabancı okullar sorununu

23. "Atatürk'ün - - - ilkesi, Türkiye'nin en kısa zamanda kalkınması için özellikle ekonomik alanda fertlerin yapamayacağı büyük yatırımları devletin yapmasıdır."

Cümlede boş bırakılan yere aşağıdaki ilkelerden hangisi yazılmalıdır?

- A) Cumhuriyetçilik
- B) Milliyetçilik
- C) Devletçilik
- D) Halkçılık

24. Sadabat Paketi'nin kurulmasına hangi devletin izlediği yayımlı politikalar sebep olmuştur?

- A) Almanya
- B) Fransa
- C) İtalya
- D) Sovyet Rusya

25. Mustafa Kemal Atatürk'ün, 1 Kasım 1938'de Türkiye Büyük Millet Meclisinin yeni yasama yılı töreni için hazırladığı ve rahatsızlığı nedeniyle okuyamadığı açılış konuşmasını, onun yerine, aşağıdakilerden hangisi okumuştur?

- A) Başbakan Celal Bayar
- B) Başbakan İsmet İnönü
- C) TBMM Başkanı Fethi Okyar
- D) Genelkurmay Başkanı Fevzi Çakmak

26. Göç zamanı geldiğinde taygada hayat birden hızlanır (I) Çadırın içindeki eşyalar önce ortaya serilir (II) kumaşı soyulur (III) toplanır (IV) sonra çadırın sırtları yere koyularak obada bırakılır.

Bu parçada numaralanmış yerlerin hangisine noktalı virgül (;) getirilmelidir?

- A) I.
- B) II.
- C) III.
- D) IV.

27. (I) Adana, Mersin, Tarsus gibi yerleri kapsayan Kilikya'nın tarihi, 9 bin yıl geriye kadar gidiyor. (II) Kilikya'nın tarihî yerleşkelerinden Sirkeli, Adana'nın Ceyhan İlçesi'ne bağlı. (III) Köy sınırları içinde, hemen Ceyhan'ın kıyısında Hitit yerleşimi bir höyük bulunuyor. (IV) Sirkeli sakinleri yüzlerce yıldır olduğu gibi bu höyüğün bulunduğu tarlaları ekip biçmeye devam ediyor.

Bu parçada numaralanmış cümlelerin hangisinde yazım yanlış yapılmıştır?

- A) I. B) II. C) III. D) IV.

28. Hükümdarların tarih boyunca birbirlerine ve muzafer komutanlarına şeref sembolü olarak kılıç hediye etmeleri önemli bir gelenektir.

Bu cümlelerin öge dizilişi aşağıdakilerin hangisidir?

- A) Özne – Yüklem
B) Özne – Nesne – Yüklem
C) Özne – Zarf tümleci – Nesne – Yüklem
D) Özne – Dolaylı tümleç – Zarf tümleci – Yüklem

29. Uzak nedir?

I
Kendinin bile ücretinde yaşayan benim için

II
Gidecek yer ne kadar uzak olabilir?

Başım açık, saçlarımı ikiye

III
Ortadan ayırdım

IV

Yukarıdaki dizelerde numaralanmış sözcüklerden hangisi yapıca diğerlerinden farklıdır?

- A) I. B) II. C) III. D) IV.

30. Yasama meclisleri, mahkemeler, kongreler vb. yerlerde yapılan toplantılarla herhangi bir olayın nasıl, ne zaman, nerede ve ne şekilde meydana geldiğini, nasıl sonuçlandığını tespit eden kısa yazılara - - - - denir.

Bu cümlede boş bırakılan yere aşağıdakilerden hangisi getirilmelidir?

- A) dilekçe B) resmî yazı
C) tutanak D) öz geçmiş

31. **Aşağıdakilerden hangisi kamu yönetiminde etik dışı faaliyetlerin sonuçları arasında yer almaz?**

- A) Saygınlık kaybı
B) İş ortamında kabul görme
C) Güven duygusunun zedelenmesi
D) Daha az ve kalitesiz bir hizmet sunumu

32. • Faydacılık olarak da bilinir.
• Haz arama ve acıdan kaçma üzerine kurulmuştur.
• Machiavelli ve Mill bu etik anlayışının en önemli savunucularındandır.

Hakkında bilgi verilen etik sistem aşağıdakilerden hangisidir?

- A) Kural Etiği
B) Kişisel Etik
C) Sosyal Yaşam Etiği
D) Amaçlanan Sonuç Etiği

33. **Aşağıdakilerden hangisi kamu yönetiminde etik davranış ilkeleri ile varılmak istenen amaçlardan biri değildir?**

- A) Kamu hizmetlerinde dürüstlüğü hâkim kılmak
B) Devletin tüm birimlerinde yozlaşmayı engellemek
C) Çalışanların üstlerine karşı koşulsuz itaatini sağlamak
D) Kamu hizmeti alanların kamu görevlilerine güvenini artırmak

34. Aşağıdakilerden hangisi Kamu Görevlileri Etik Kurulunun işlevlerinden biri değildir?

- A) Hediye alma yasağına aykırı eylemlerde bulunan kamu görevlilerinin disiplin soruşturmalarını yürütmek
- B) Kamu görevlilerinin görevlerini yerine getirirken uymaları gereken etik davranış ilkelerini belirlemek
- C) Kurum ve kuruluşların, etik davranış ilkeleri konusunda uygulamada karşılaştıkları sorunlara yönelik olarak görüş bildirmek
- D) Etik davranış ilkelerinin ihlal edildiği iddiasıyla resen veya yapılacak başvurular üzerine gerekli inceleme ve araştırmayı yapmak

35. Emekli hastane müdürü, muayene olmak üzere eskiden görev yaptığı hastaneye gelmiştir. Randevu veya sıra numarası almak yerine, mevcut hastane müdüründen öncelikli olarak muayene olması için yardım istemiştir.

Verilen örnek olayda etik davranış ilkelerine göre mevcut hastane müdürü aşağıdaki davranışlardan hangisini tercih etmelidir?

- A) Vefa duygusu gereği eski meslektaşına öncelik tanınmalıdır.
- B) Emekli meslektaşını kırmadan durumu anlatmalı, ayrıcalık talebini yerine getirmemelidir.
- C) Doğrudan kendisi müdahil olmak yerine bir çalışanını meslektaşına kolaylık sağlamak üzere görevlendirmelidir.
- D) Mevcut hastane müdürü olarak bizzat kendisi sırada bekleyenlerden izin almak koşuluyla öncelik tanınmalıdır.

36. Rakamları farklı üç basamaklı en büyük çift doğal sayı ile rakamları farklı üç basamaklı en küçük tek doğal sayının toplamı kaçtır?

- A) 1085 B) 1087 C) 1089 D) 1099

37. Birbirinden farklı iki basamaklı 4 doğal sayının toplamı 90 olduğuna göre en büyük sayı en fazla kaçtır?

- A) 56 B) 57 C) 58 D) 59

38. $1 < 3x - 8 \leq 10$ eşitsizliğini sağlayan x tam sayılarının toplamı kaçtır?

- A) 7 B) 10 C) 12 D) 15

39. Ali'nin kütlesi, 80 kg'dan fazla 87 kg'dan azdır. Veli'nin kütlesi ise 90 kg'dan fazla 110 kg'dan azdır.

Buna göre Ali ile Veli'nin kütlelerinin farkının en büyük tam sayı değeri kaçtır?

- A) 27 B) 28 C) 29 D) 30

40. $x > 4$ olduğuna göre $|x - 3| + |x + 5| = 16$ eşitliğini sağlayan x değeri kaçtır?

- A) 6 B) 7 C) 8 D) 9

41. $\left| \frac{4-x}{4} \right| = 6$ eşitliğinde x 'in alabileceği değerlerin toplamı kaçtır?

- A) 8 B) 16 C) 18 D) 24

42. $\frac{8 \cdot 2^4 \cdot 25 \cdot 5^3}{125 \cdot 4^3}$ işleminin sonucu kaçtır?

- A) 2 B) 5 C) 25 D) 50

43. $(0,2)^4 \cdot \left(-\frac{1}{2}\right)^3$ işleminin sonucu kaçtır?

- A) $-\frac{1}{100}$ B) $-\frac{1}{5000}$
C) $\frac{1}{128}$ D) $\frac{1}{8}$

44. $\sqrt[3]{2^4 \cdot 4^2 \cdot 2} = 2^m$ olduğuna göre m kaçtır?

- A) $\frac{8}{9}$ B) $\frac{8}{3}$ C) 3 D) 8

45. $2\sqrt{5}$, $5\sqrt{2}$ ve $4\sqrt{3}$ sayılarının büyükten küçüğe doğru sıralanışı aşağıdakilerden hangisidir?

- A) $5\sqrt{2} > 4\sqrt{3} > 2\sqrt{5}$
 B) $4\sqrt{3} > 5\sqrt{2} > 2\sqrt{5}$
 C) $4\sqrt{3} > 2\sqrt{5} > 5\sqrt{2}$
 D) $2\sqrt{5} > 5\sqrt{2} > 4\sqrt{3}$

46. Sevgi'nin bugünkü yaşı, Mehmet'in bugünkü yaşının 2 katından 5 fazladır.

2 yıl sonra Sevgi'nin yaşı, Mehmet'in yaşının 3 katı olacağına göre Sevgi'nin bugünkü yaşı kaçtır?

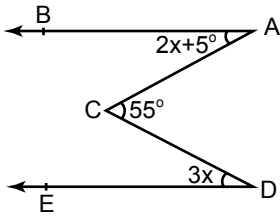
- A) 7 B) 8 C) 9 D) 10

47. Bugünkü yaşlarının toplamı 23 olan iki kardeşten küçük olan büyük olan yaşına geldiğinde yaşlarının toplamı 29 olacaktır.

Buna göre küçük kardeşin bugünkü yaşı kaçtır?

- A) 8 B) 10 C) 12 D) 14

48.



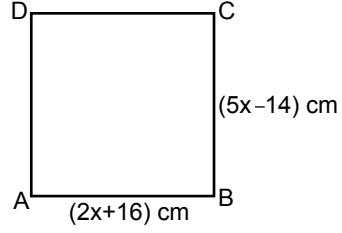
Şekilde

$[AB \parallel [DE$, $m(\widehat{BAC}) = 2x + 5^\circ$,
 $m(\widehat{ACD}) = 55^\circ$ ve $m(\widehat{CDE}) = 3x^\circ$ tir.

Buna göre $m(\widehat{CDE})$ kaç derecedir?

- A) 40 B) 35 C) 30 D) 25

49.

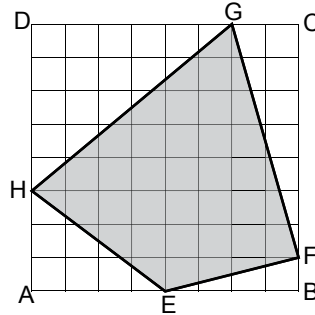


Şekildeki ABCD karesinde $|AB| = (2x + 16)$ cm ve $|BC| = (5x - 14)$ cm'dir.

Buna göre ABCD karesinin çevresi kaç santimetredir?

- A) 40 B) 64 C) 96 D) 144

50.



Şekildeki ABCD karesinin alanı 64 birimkaredir.

Buna göre A(EFGH) kaç birimkaredir?

- A) 34 B) 33 C) 32 D) 31

TEST BİTTİ.

CEVAPLARINIZI KONTROL EDİNİZ.

SINAV SÜRESİNCE UYULACAK KURALLAR

- 1. Adaylar, sınav kurallarına ve salon görevlilerinin tüm uyarılarına uymak zorundadırlar. Kurallara ve uyarılara uymayan adayların sınavları geçersiz sayılacaktır.**
- 2. Sınav başladıktan sonra adayların salon görevlileri ve birbirleri ile konuşmaları, kalem, silgi vb. şeyleri istemeleri yasaktır.**
- 3. Adaylar sınav süresince, sınav giriş belgesi ile birlikte geçerli kimlik belgelerinden birini (fotoğraflı nüfus cüzdanı, pasaport veya sürücü belgesini) masalarının üzerinde bulundurmamak zorundadırlar.**
- 4. Sınav evraklarını teslim etmeyen, soru kitapçıklarının sayfalarından bir kısmını eksik teslim edenlerin sınavları geçersiz sayılacaktır.**

SALON GÖREVLİLERİNCE SINAV BAŞLAMADAN ÖNCE ADAYLARA YAPILACAK SON UYARILAR

- Soracağınız bir şey varsa şimdi sorunuz, sınav başladıktan sonra sorularınıza cevap verilmeyecektir.
- Başlama zilini bekleyiniz.

Hepinize başarılar dileriz.

(Salon başkanı başlama ve bitiş saatini tahtaya yazacaktır.)

Bu kitapçığın her hakkı saklıdır. Hangi amaçla olursa olsun, kitapçığın tamamının veya bir kısmının Millî Eğitim Bakanlığı Ölçme, Değerlendirme ve Sınav Hizmetleri Genel Müdürlüğü'nün yazılı izni olmadan kopya edilmesi, fotoğraflarının çekilmesi, bilgisayar ortamına alınması, herhangi bir yolla çoğaltılması, yayımlanması veya başka bir amaçla kullanılması yasaktır. Bu yasağa uymayanlar, doğabilecek cezai sorumluluğu ve kitapçığın hazırlanmasındaki mali külfeti peşinen kabullenmiş sayılır.

**10 ARALIK 2016 TARİHİNDE YAPILAN
EKONOMİ BAKANLIĞI PERSONEL DAİRESİ BAŞKANLIĞI
UNVAN DEĞİŞİKLİĞİ SINAVI**

8. GRUP: TEKNİK B SORU KİTAPÇIĞI CEVAP ANAHTARI

- | | |
|-------|-------|
| 1. A | 26. D |
| 2. C | 27. B |
| 3. B | 28. A |
| 4. C | 29. D |
| 5. A | 30. C |
| 6. A | 31. B |
| 7. D | 32. D |
| 8. B | 33. C |
| 9. D | 34. A |
| 10. B | 35. B |
| 11. D | 36. C |
| 12. C | 37. B |
| 13. A | 38. D |
| 14. C | 39. C |
| 15. D | 40. B |
| 16. C | 41. A |
| 17. C | 42. D |
| 18. A | 43. B |
| 19. B | 44. C |
| 20. B | 45. A |
| 21. A | 46. A |
| 22. D | 47. B |
| 23. C | 48. C |
| 24. C | 49. D |
| 25. A | 50. A |