

O-1



T

T.C.
MİLLÎ EĞİTİM BAKANLIĞI
ÖLÇME, DEĞERLENDİRME VE SINAV HİZMETLERİ
GENEL MÜDÜRLÜĞÜ

AÇIK ÖĞRETİM ORTAOKULU
2015-2016 ÖĞRETİM YILI 3. DÖNEM SINAVI
1. OTURUM: 12 HAZİRAN 2016 Saat: 10.00

<u>DERSLER</u>	<u>SAYFA</u>	<u>DERSLER</u>	<u>SAYFA</u>
(501) TÜRKÇE – 5	2	(701) TÜRKÇE – 7	16
(502) MATEMATİK – 5	4	(702) MATEMATİK – 7	19
(503) FEN BİLİMLERİ – 5	6	(703) FEN VE TEKNOLOJİ – 7.....	22
(604) SOSYAL BİLGİLER – 6	8	(806) T.C. İNK. TAR. VE ATATÜRK. – 8	24
(607) İNGİLİZCE – 6	9	(807) İNGİLİZCE – 8	26
(607) ALMANCA – 6	11	(807) ALMANCA – 8	27
(607) FRANSIZCA – 6	13	(807) FRANSIZCA – 8	28
(608) DİN KÜL. VE AHLAK BİLGİSİ – 6	14	(808) DİN KÜL. VE AHLAK BİLGİSİ – 8	30

ADAYLARIN DİKKATİNE!

- Her ders için **20** soru bulunmaktadır. Bu oturumda **150** dakikalık cevaplama süreniz vardır. Sınav başladıktan sonra ilk **30** dakika dolmadan dışarı çıkmayınız.
- Sınav sırasında sözlük, hesap cetveli veya makinesi, çağrı cihazı, cep telefonu, telsiz, radyo gibi elektronik iletişim araçlarını yanınızda bulundurmuyunuz. Bu araçları kullanmanız ve kopya çekmeye teşebbüs etmeniz hâlinde sınavınız geçersiz sayılacaktır.
- Başvuru şartlarını taşımadığınız hâlde sınava girmeniz, kopya çekmeniz, başka adayın sınav evrakını kullanmanız, geçerli kimlik belgenizi ve sınav giriş belgenizi ibraz edemediğiniz durumlarda sınavınız geçersiz sayılacaktır.
- Sınavın değerlendirilmesi aşamasında, bilgisayar ortamında yapılan kopya analizinde ikili veya toplu kopya tespiti hâlinde sınavınız geçersiz sayılacaktır.

CEVAP KÂĞIDI VE SORU KİTAPÇIĞI İLE İLGİLİ AÇIKLAMALAR

- Cevap kâğıdınızdaki bilgilerin doğruluğunu kontrol ediniz ve cevap kâğıdınızı mürekkepli kalemle imzalayınız.
- Cevap kâğıdı üzerinde kodlamalarınızı kurşun kalemle yapınız.
- Değiştirmek istediğiniz bir cevabı, yumuşak silgiyle cevap kâğıdını örselemeden temizce siliniz ve yeni cevabınızı kodlayınız.
- Soru kitapçığının sayfalarını kontrol ediniz, baskı hatası var ise değiştirilmesini sağlayınız.
- Soruların çözümü için size ayrıca boş kâğıt verilmeyecektir. Soru kitapçığının içindeki boş alanları soru çözümleri için kullanabilirsiniz.
- Her sorunun dört seçeneğinden sadece biri doğrudur. Doğru seçeneği, cevap kâğıdınızın ilgili sütununa soru numarasını dikkate alarak yuvarlağın dışına taşırmadan kodlayınız. **Soru kitapçığı üzerinde yapılan cevaplandırmalar dikkate alınmayacaktır.**
- Cevaplamaya istediğiniz dersin sorusundan başlayabilirsiniz. Cevabını bilmediğiniz sorular üzerinde fazla zaman kaybetmeden diğer sorulara geçiniz. Zamanınız kalırsa bu sorulara daha sonra dönebilirsiniz.
- Yanlış cevaplarınız dikkate alınmadan sadece doğru cevaplarınız üzerinden puanlama yapılacaktır.
- Soruları ve sorulara verdiğiniz cevapları, yanınızda götürmek amacıyla kaydetmeyiniz; hiçbir şekilde dışarı çıkarmayınız.
- Sınav bitiminde, soru kitapçığı ve cevap kâğıdını salon görevlilerine teslim ediniz.**

BAŞLAYINIZ DENİLMEYEN SORU KİTAPÇIĞINI AÇMAYINIZ.

1. OTURUM

(501) TÜRKÇE – 5

1. Aşağıdaki kelimelerden hangisi hecelerine yanlış ayrılmıştır?

- A) top-lu-m B) öz-gür-lük
C) so-rum-lu-luk D) yö-ne-tim

2. Aşağıdaki cümlelerin hangisinde “ateş” kelimesi mecaz anlamda kullanılmıştır?

- A) Gece boyunca ateşi kırktan aşağı düşmedi.
B) Böyle davranarak kendinizi ateşe atıyorsunuz.
C) Yemeği ateşten indirip hızlıca sofraya getirdi.
D) İftar vaktindeki top ateşi şehrin her yerinden duyuldu.

3. “Kol” kelimesi aşağıdaki cümlelerin hangisinde gerçek anlamda kullanılmıştır?

- A) Torbayı kapının koluna asmış.
B) Dikiş makinesinin kolu bozulmuş.
C) Pencerenin kolu takılmış.
D) Sağ koluna aşı yaptırmış.

4. Arkadaşlarına çok katı davrandığı için çevresindekiler tarafından eleştiriliyordu.

Altı çizili kelimenin bu cümleye kattığı anlam aşağıdakilerin hangisinde vardır?

- A) Sabahtan beri, bahçedeki yumuşacık minderde oturuyordu.
B) Bugünlerde onunla daha sıkı bir temas kurmam gerekiyordu.
C) Acımasız bir insan değildi ama onu tanımayanlar öyle sanıyordu.
D) Son günlerde olaylara aşırı duyarlı yaklaşıyordu.

5. Aşağıdaki cümlelerin hangisinde sebep-sonuç ilişkisi yoktur?

- A) Sis olduğu için yollarına devam edemeyen birkaç köylü kahveye gelmişti.
B) Kendilerini oyuna kaptıran çocuklar, dışarıya çıktıklarında gece olmuştu.
C) Müzikten anlamadığı için bu sazın sesinden pek etkilenmemiş.
D) Memur, şiddetli yağmur sebebiyle bir köylünün kulübesine sığınmış.

6. Aşağıdaki kelimelerden hangisi eş anlamlıdır?

- A) Boş-dolu B) İnce-kalın
C) Büyük-küçük D) Doktor-hekim

7. (1) Güneş batmış, gündüzün aydınlığı gitmiş, hava kararmıştı. (2) Ay dede başucundaki lambayı usulca yakmış, böylece ev birdenbire aydınlanıvermiş. (3) Sonra da kitabını alıp okumaya başlamış. (4) Yanındaki küçük yıldız ise bembeyaz bu luttan yastığını ve yorganını çevirip duruyormuş.

Bu metinde numaralanmış cümlelerden hangisi hayalî öge içermemektedir?

- A) 1. B) 2. C) 3. D) 4.

8. Levent'in sevip ilgilendiği hayvanlar arasında kuşlar da vardır.

Bu cümleden Levent ile ilgili kesin olarak çıkarılabilecek yargı aşağıdakilerden hangisidir?

- A) Tüm hayvanları çok sevmektedir.
B) Evinde birden fazla hayvan beslemektedir.
C) Kuş dışında başka hayvanlar da sevmektedir.
D) Hayvan sevgisiyle yetiştirilmiştir.

9. (1) Deniz kıyısındaki ağaçlarla kaplı parka gitmişlerdi. (2) Kol kola parkın ağaçları altında yürümüşlerdi. (3) Kar bazı yerlerde diz boyu idi. (4) Şehrin sesleri bu temiz beyazlığın altında yok olmuştu.

Bu metindeki numaralanmış cümlelerden hangisi öznel yargı içermektedir?

- A) 1. B) 2. C) 3. D) 4.

10. Kuşlar haber verdi bana kuşlar
Gelecekte bir şeyler olacak
Gün dilediğimiz gibi doğar
İnsan yüzümüz güler olacak.

Bu şiire getirilebilecek en uygun başlık aşağıdakilerden hangisidir?

- A) Bahar Sevinci B) Tohum
C) Hayranlık D) Umut

1. OTURUM

11. Aslı eve gidince ödevini internette uzun uzun araştırdı.

Bu cümlede aşağıdaki soruların hangisinin cevabı yoktur?

- A) Kim? B) Ne zaman?
C) Niçin? D) Nasıl?

12. Meyve, bal, kuru yemiş gibi doğal şekerleri fazlaya kaçmadan almak iyidir enerji verir. Ancak beyaz un ve şekerin fazlasından kaçın. Fazla mayalı gıdalar, yağlı et, kızartma, kabuklu deniz ürünleri, ağır yağlı ve hazmı zor gıdalardan kaçın. Çiğ gıdalara, tam tahıllara, derin deniz balıklarına, yeşil mercimeğe ağırlık verin.

Bu metnin konusu aşağıdakilerden hangisidir?

- A) Vitaminler B) Doğru beslenme
C) Deniz ürünleri D) Proteinler

13. İlk zamanlarda şemsiye yapımında ahşap ya da balina kemiği kullanılmış. 1852 yılından sonra çelik iskeletli şemsiyeler üretilmeye başlanmış. Sonra da teknolojiye gelişmelerle birlikte daha hafif, daha dayanıklı, cebe bile sığabilen şemsiyeler üretilmiş.

Bu metinde şemsiyelerle ilgili aşağıdakilerden hangisine değinilmemiştir?

- A) Nerelerde kullanıldıklarına
B) Çelik iskeletli şemsiyelerin üretim yılına
C) Hangi özelliklere sahip olduğuna
D) İlk zamanlarda hangi maddeden yapıldığına

14. 1. Kafasını dinleyebileceği sakin bir yer hayaliyle Kafdağı'nın ardına varmış.
2. Olmayan ırmaktaki balığı almış, adı kayalık olan mercanların arasına dalmış.
3. Zamanlardan bir zamanda mini minnacık bir dalgacık yaşarmış.
4. Bir de bakmış karşısında akmaz, coşmaz bir ırmak.
5. Gün gelmiş, köpüklere bölünüp sonra yeniden dalgacık hâline gelmekten yorulmuş.

Numaralanmış cümleler olayların oluş sırasına göre nasıl sıralanmalıdır?

- A) 3-1-2-5-4 B) 3-5-1-4-2
C) 4-2-5-1-3 D) 4-3-5-2-1

15. Aşağıdaki kelimelerden hangisi aldığı ek nedeniyle yeni bir anlam kazanmamıştır?

- A) Çocukluk B) Bahçeli
C) Babamda D) Dişçi

16. Aşağıdaki altı çizili kelimelerden hangisi bir varlığı nitelemiştir?

- A) Buralarda güneş bir başka doğup batıyor.
B) Apartmandaki en güzel daireler satılık.
C) Yolculuk için yanına kek ve süt aldı.
D) Burası bir cennet bahçesi gibi olmuştur.

17. Aşağıdaki altı çizili kelimelerden hangisi biten bir eylemi ifade eder?

- A) Odasının her yeri pırl pırl olacak.
B) Toplantıya tüm memurlar katılıyor.
C) Kitabın sonuna bilgilendirme notu yazacak.
D) Çocuklar bahçedeki ağacın dalını kırmışlar.

18. "Amcam bizi öğle yemeği için evine çağırmişti." cümlesinde yer alan kelimelerden hangisi bir ismin yerine kullanılmıştır?

- A) amcam B) bizi
C) öğle D) evine

19. Aşağıdaki cümlelerin hangisinde büyük harflerin kullanımıyla ilgili bir hata yapılmıştır?

- A) Her gün Dünya kadar yol giderdi.
B) Açılışa Vali Sezai Bey de geldiler.
C) Arkadaşları ona hep Baba Kemal diye seslenirdi.
D) Köpeğimiz Fındık beni görünce çok sevindi.

20. Aşağıdaki cümlelerin hangisinde virgülün kullanımıyla ilgili bir yanlışlık yoktur?

- A) Bu kurallar bugün de, yarın da geçerli olacaktır.
B) Köyde kim çaresiz kalırsa, İstanbul yolunu tutar.
C) O eski, defterleri çoktan kapatmış.
D) Bu anahtar köşkü de açar, dedi.

1. OTURUM

(502) MATEMATİK – 5

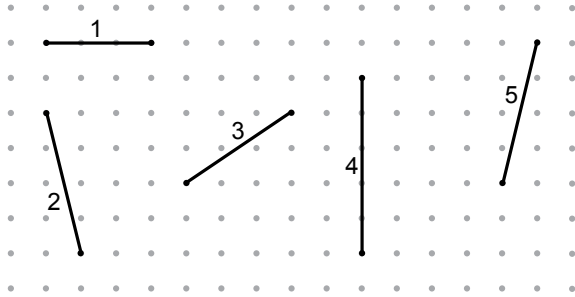
1. 807 010 035 sayısının okunuşu aşağıdakilerden hangisidir?

- A) Seksen milyon yedi yüz bir bin otuz beş
- B) Sekiz yüz yedi milyon yüz bin otuz beş
- C) Sekiz yüz yedi milyon on bin otuz beş
- D) Sekiz yüz yedi milyon yüz otuz beş

2. $2,17 + 5,03 + 2,8$ işleminin sonucu kaçtır?

- A) 9,28
- B) 10
- C) 10,20
- D) 11

3.



Yukarıdaki doğru parçaları noktalı zeminde çizilerek numaralandırılmıştır.

Bu doğru parçalarından hangilerinin uzunlukları birbirine eşittir?

- A) 2 ve 5
- B) 3 ve 5
- C) 1 ve 2
- D) 1 ve 4

4. Doğru, doğru parçası ve ışın ile ilgili aşağıda verilen hangi ifade yanlıştır?

- A) Doğrunun uzunluğu ölçülemez.
- B) Doğru parçasının uzunluğu ölçülebilir.
- C) Işın, doğrunun bir ucu sınırlı parçasıdır.
- D) Doğru iki boyutludur.

5. A şehriden saat 21.30'da yola çıkan Mehmet 210 dakika sonra B şehrine varmıştır.

Buna göre Mehmet B şehrine vardığında saat kaçtır?

- A) 00.00
- B) 00.30
- C) 01.00
- D) 01.30

6. Efe şekerlerinin yarısını birinci gün, $\frac{1}{4}$ 'ini ikinci gün yemiştir.

Kalan şekerlerini kardeşine verdiği göre Efe tüm şekerlerinin kaçta kaçını kardeşine vermiştir?

- A) $\frac{1}{8}$
- B) $\frac{1}{4}$
- C) $\frac{1}{3}$
- D) $\frac{1}{2}$

7. Aşağıdakilerden hangisi eşkenar dörtgenin özelliklerinden biri değildir?

- A) İç açıların ölçüleri birbirine eşittir.
- B) Kenar uzunlukları birbirine eşittir.
- C) Karşılıklı açların ölçüleri eşittir.
- D) Karşılıklı kenarları paraleldir.

8. 12,034 ondalık gösteriminin okunuşu aşağıdakilerden hangisidir?

- A) On iki tam binde üç yüz kırk
- B) On iki tam yüzde üç yüz kırk
- C) On iki tam binde otuz dört
- D) On iki tam yüzde otuz dört

9. $\frac{2}{3}$, $\frac{5}{6}$, $\frac{7}{18}$ kesirlerinin küçükten büyüğe doğru sıralanışı aşağıdakilerden hangisidir?

- A) $\frac{7}{18} < \frac{5}{6} < \frac{2}{3}$
- B) $\frac{7}{18} < \frac{2}{3} < \frac{5}{6}$
- C) $\frac{2}{3} < \frac{5}{6} < \frac{7}{18}$
- D) $\frac{2}{3} < \frac{7}{18} < \frac{5}{6}$

10. Üç kenarından ikisinin uzunlukları altışar santimetre olan bir üçgenin çeşidi aşağıdakilerden hangisi olamaz?

- A) İkizkenar dar açılı
- B) İkizkenar dik açılı
- C) Eşkenar
- D) Çeşitkenar

11. 645 sayısı iki basamaklı bir doğal sayıya bölündüğünde bölüm 15, kalan 0'dır.

Bu bölme işleminde bölen kaçtır?

- A) 23
- B) 27
- C) 36
- D) 43

1. OTURUM

12. Uzun kenarının uzunluğu 272 mm, kısa kenarının uzunluğu 195 mm olan dikdörtgen şeklindeki kitabın çevresinin uzunluğu kaç santimetredir?

- A) 93,4 B) 46,7 C) 9,34 D) 4,67

13. Boyutları 6 cm, 8 cm ve 10 cm olan dikdörtgenler prizmasının yüzey alanı kaç santimetredir?

- A) 288 B) 376 C) 432 D) 480

14. Bir evin kirasına yıllık %10 zam yapılmaktadır. Buna göre ayda 400 lira kira ödeyen bir kişi bir sonraki yıl ayda kaç lira kira öder?

- A) 420 B) 430 C) 440 D) 450

15. 1, 2, 3, 4, 5, 3, 3, 3, 3, 5, 5, 5, 5, 4, 4, 3, 2, 1, 2, 2, 3, 3, 1, 4, 4, 2, 3, 4, 5, 4

Yukarıda 5-A sınıfı öğrencilerinin matematik sınavından aldıkları notlar verilmiştir.

Bu notların dağılımını gösteren çetele tablosu aşağıdakilerden hangisidir ?

A) Alınan Not	Öğrenci Sayısı	B) Alınan Not	Öğrenci Sayısı
1	///	1	////
2	////	2	//// /
3	//// ////	3	//// //
4	//// //	4	//// ///
5	//// /	5	////

C) Alınan Not	Öğrenci Sayısı	D) Alınan Not	Öğrenci Sayısı
1	///	1	////
2	////	2	//// //
3	//// ///	3	//// //
4	//// ///	4	////
5	//// /	5	//// //

16. Can'ın parasının $\frac{3}{5}$ 'ü 45 liradır.

Buna göre Can'ın kaç lirası vardır?

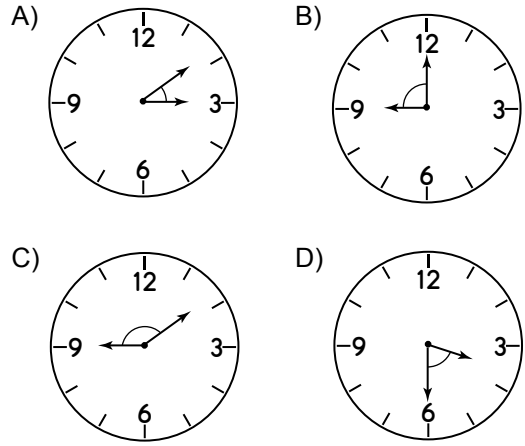
- A) 50 B) 60 C) 65 D) 75

17. Bir pastanede çikolatalı pastanın fiyatı 30 lira, limonlu pastanın fiyatı 24 liradır.

Bu pastaları altışar eş dilime böldürüp, çikolatalı pastadan 5 dilim, limonlu pastadan 4 dilim alan bir kişi toplam kaç lira öder?

- A) 40 B) 41 C) 42 D) 43

18. Aşağıdakilerin hangisinde akrep ile yelkovan arasındaki açı geniş açıdır?

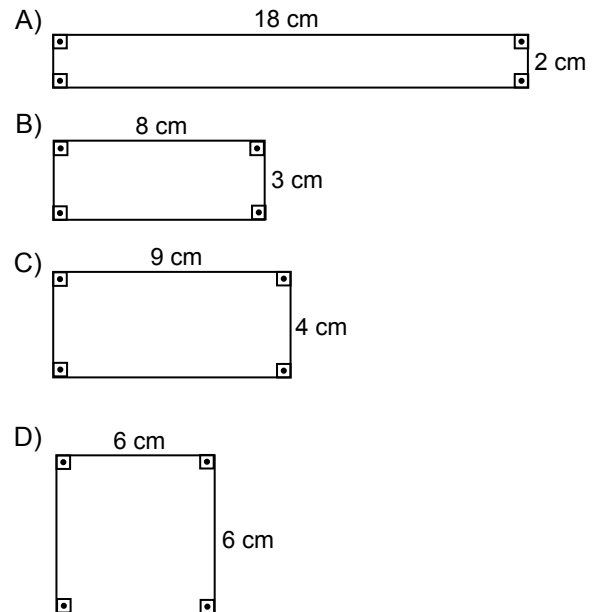


19. Elif, bir kitabı günde 138 sayfa okuyarak 23 günde bitirmiştir.

Buna göre bu kitap kaç sayfadır?

- A) 3174 B) 3014 C) 2174 D) 690

20. Aşağıdakilerden hangisinin alanı diğerlerinden farklıdır?



1. OTURUM

(503) FEN BİLİMLERİ – 5

1. Dinamometreyle ilgili aşağıda verilen açıklamalardan hangileri doğrudur?

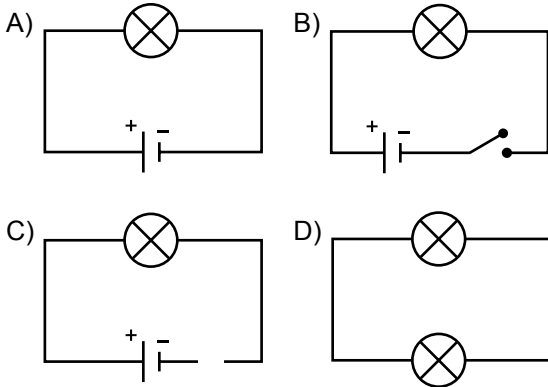
- I. Yapısında esnek yay bulunur.
- II. Kuvvetin büyüklüğünü ölçmek için kullanılır.
- III. Ölçülen değer kg birimiyle ifade edilir.

- A) Yalnız I. B) I ve II.
C) II ve III. D) I, II ve III.

2. Aşağıdaki durumlardan hangisi sürtünme kuvvetinin etkisinin artırılması için yapılmıştır?

- A) Sürtünen makine yüzeylerinin yağlanması
B) Hareketli parçaların arasına bilyeli yatakların konulması
C) Kar ve buzlanmada araçlarda kış lastiğinin kullanılması
D) Toprak yolun asfaltlanması

3. Aşağıdaki verilen basit elektrik devrelerinin hangisindeki ampul ışık verir?



4. Özdeş iki pil, ampul ve anahtarın bulunduğu basit bir elektrik devresinde aşağıdakilerden hangisi yapılırsa ampulün parlaklığı artar?

- A) Devreye bir pil daha eklenirse
B) Devreden bir pil çıkarılırsa
C) Devreden anahtar çıkarılırsa
D) Devreye bir ampul daha eklenirse

5. I. Dünya, Güneş ile Ay arasında bulunur.
II. Ay, Güneş'ten ışık alamaz.
III. Dünya'nın belirli yerlerinden gözlemlenir.

Ay tutulması olayı ile ilgili olarak yukarıda verilenlerden hangileri doğrudur?

- A) Yalnız I. B) I ve III.
C) II ve III. D) I, II ve III.

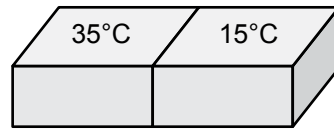
6. Aşağıdakilerden hangisi yapay ışık kaynağı değildir?

- A) Mum B) Yıldız
C) El feneri D) Gaz lambası

7. Ses ile ilgili aşağıda verilen ifadelerden hangisi yanlıştır?

- A) Bir enerji türüdür.
B) Titreşimler sonucu oluşur.
C) Doğrular hâlinde yayılır.
D) Katı, sıvı ve gaz ortamlarda yayılır.

8. Sıcaklıkları farklı kütleleri eşit, aynı cins iki madde şeklindeki gibi birbiriyle temas ettirilip bir süre bekletiliyor.



Bu maddeler arasındaki ısı alış verişini tamamladıktan sonra maddelerin sıcaklıkları ölçüldüğünde termometrede okunan değer kaç °C olur?

- A) 20 B) 25 C) 30 D) 35

9. Termometreler yapılırken içine konulan maddenin hangi ayırt edici özellikleri dikkate alınmıştır?

- A) Erime – Süblimleşme
B) Genleşme – Büzülme
C) Buharlaşma – Yoğuşma
D) Süblimleşme – Kırışılma

1. OTURUM

10. Buharlařma ile ilgili verilen bilgilerden hangisi yanlıřtır?

- A) Her sıcaklıkta gerekleřir.
- B) Kaynama esnasında buharlařma en fazladır.
- C) Sıvının sıcaklıęı arttıa buharlařma hızı artar.
- D) Sıvının her yerinde gerekleřir.

11. Besinlerin en kk yapı birimine ayrıldıęı ve kana karıřtıęı organ ařaęıdakilerden hangisidir?

- A) Aęız
- B) Mide
- C) İnce baęırsak
- D) Kalın baęırsak

12. Ařaęıda verilen maddelerden hangisi vcutta sindirim iřlemine uęrar?

- A) Protein
- B) Mineral
- C) Vitamin
- D) Su

13. Aęız ve diř saęlıęının korunması iin ařaęıdakilerden hangisi yapılmalıdır?

- A) Asitli iecekleri ve řekeri fazla tetmek
- B) St ve st rnlerini yeteri kadar tetmek
- C) Sivri cisimlerle diř aralarındaki yiyecek kalıntılarını temizlemek
- D) ok soęuk ve ok sıcak besinleri art arda tetmek

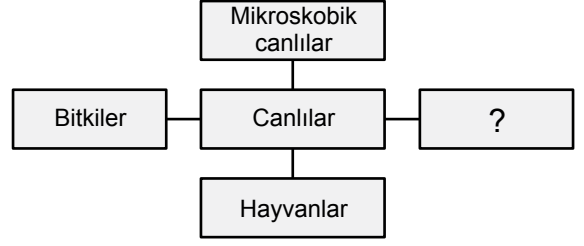
14. Ařaęıda verilenlerden hangisi vcutta oluřan atık maddeleri uzaklařtıran organlardan biri deęildir?

- A) Akcięerler
- B) Bbrekler
- C) Mide
- D) Kalın baęırsak

15. Ařaęıdaki omurgalı hayvanlardan hangisinin reme řekli dięerlerinden farklıdır?

- A) Kaplumbaęa
- B) Fil
- C) Yılan
- D) Timsah

16. Ařaęıda canlıların sınıflandırılmasını gsteren bir řema verilmiřtir.



Buna gre soru iřareti (?) yerine ařaęıdakilerden hangisi yazılmalıdır?

- A) iekli bitkiler
- B) Omurgalılar
- C) Bakteriler
- D) Mantarlar

17. Ařaęıdaki olayların hangilerinde mikroskopik canlılar etkilidir?

- I. len bitki ve hayvan kalıntılarının rtlp topraęa karıřmasında
- II. Stn yoęurt ve peynire dnřmesinde
- III. Yiyeceklerin bozulmasında

- A) Yalnız I.
- B) I ve II.
- C) II ve III.
- D) I, II ve III.

18. Ařaęıdakilerden hangisi yer st su kaynaklarından biri deęildir?

- A) Kaplıca
- B) Okyanus
- C) Deniz
- D) Irmak

19. Ařaęıdakilerden hangisi evre kirlilięinin azalmasında etkilidir?

- A) Evlerde doęalgaz yerine kmr kullanılması
- B) Arabalarda kurřunlu benzin kullanılması
- C) zel aralar yerine toplu tařıma aralarının kullanılması
- D) Tarımda yapay gbre kullanımının yaygınlařması

20. Topraęı erozyonun olumsuz etkilerinden korumak iin ařaęıdakilerden hangisi yapılmamalıdır?

- A) Eęimli araziler dikey olarak srlmeli
- B) Ařırđ otlatma azaltılmalı
- C) Eęimli araziler aęalandırılmalı
- D) Aęa tahribatđ nlenmeli

1. OTURUM

(604) SOSYAL BİLGİLER – 6

1. Atatürk'ün;

- Türk Dil Kurumunu,
- Türk Tarih Kurumunu,
- Dil ve Tarih-Coğrafya Fakültesini

açmasının temel amacı aşağıdakilerden hangisidir?

- A) Cumhuriyeti ilan etmek
- B) Avrupa'daki yenilikleri takip etmek
- C) Anadolu'ya yükseköğrenimi yaymak
- D) Sosyal bilimlerin gelişmesini sağlamak

2. Sorumluluk; kişilerin kendi yetki alanına giren kendi iş ve eylemlerinin, davranışlarının sonucunu üstlenmesidir.

Bu tanıma göre aşağıdakilerden hangisi sorumluluğumuz değildir?

- A) Konut dokunulmazlığı hakkı
- B) Kanun ve yasalara uymak
- C) Askerlik yapmak
- D) Vergi vermek

3. Panama Kanalı, aşağıdaki hangi kıtalar arasındadır?

- A) Asya ile Afrika
- B) Asya ile Avrupa
- C) Kuzey Amerika ile Asya
- D) Kuzey Amerika ile Güney Amerika

4. İyonya'da özgür düşünceye büyük önem verilirdi.

Bu durumun aşağıdakilerden hangisine bir katkısı olamaz?

- A) Fen bilimlerine
- B) Görsel sanatlara
- C) Felsefi akımlara
- D) Tek tanrılı dinlere

5. Yurdumuzun Avrupa'da kalan topraklarına ne ad verilir?

- A) Anadolu
- B) Trakya
- C) Balkanlar
- D) Kafkaslar

6. Aşağıdaki haritalardan hangisi illerin ilçe ve köy sınırlarını da gösterir?

- A) Siyasi haritalar
- B) Fiziki haritalar
- C) Beşeri haritalar
- D) Tarihî haritalar

7. Ülkemizde genel olarak hangi yönden esen rüzgârlar sıcaklığı artırır?

- A) Doğu
- B) Batı
- C) Kuzey
- D) Güney

8. Aşağıdakilerden hangisi Kadeş Antlaşması'nın özelliklerinden biri değildir?

- A) MÖ 1280 yılında imzalanmıştır.
- B) Tarihte bilinen ilk yazılı antlaşmadır.
- C) Friglerle Urartular arasında yapılmıştır.
- D) İlk Çağ'ın önemli siyasi olaylarından.

9. Tüccar bir toplum olan - - - - , Efes'ten başlayıp Mezopotamya'nın Ninova şehrine giden Kral Yolu'nun açılmasında etkili olmuşlardır.

Verilen bilgi cümlesinin doğru olabilmesi için boş bırakılan yere aşağıdakilerden hangisi yazılmalıdır?

- A) Urartular
- B) Lidyalılar
- C) Sümerler
- D) Hititler

10. Jandarma Genel Komutanlığı, barış zamanlarında ülke genelinde emniyet ve asayiş sağlama görevi açısından, aşağıdaki bakanlıklardan hangisine bağlı olarak çalışır?

- A) İçişleri Bakanlığına
- B) Adalet Bakanlığına
- C) Millî Savunma Bakanlığına
- D) Çalışma ve Sosyal Güvenlik Bakanlığına

11. Aşağıdakilerden hangisi Kavimler Göçü'nün sonuçlarından değildir?

- A) Avrupa'da feodalite rejiminin ortaya çıkması
- B) Roma İmparatorluğu'nun ikiye ayrılması
- C) Uygurların yerleşik hayata geçmesi
- D) Orta Çağ'ın başlaması

1. OTURUM

12. İslam orduları Cebeli Tarık Boğazı'nı, aşağıdaki hangi komutanın yönetiminde geçerek İspanya'nın fethini gerçekleştirmişlerdir?

- A) Ebul Abbas Abdullah
- B) Tarık bin Ziyad
- C) Harun Reşid
- D) Ebu Cafer

13. • Orta Asya'da kurulmuş ilk Türk – İslam devletidir.
• Devletin ana kitlesi Karluk, Yağma, Çiğil ve Tuhsi Türk boylarından oluşmaktadır.
• Türk – İslam kültür ve medeniyetinin temellerini atmışlardır.
• Eski Türk kültürü ile İslam kültürü arasında köprü olmuşlardır.

Hakkında kısa bilgi verilen Türk – İslam devleti aşağıdakilerden hangisidir?

- A) Büyük Selçuklular
- B) Osmanlılar
- C) Gazneliler
- D) Karahanlılar

14. "Yörük Bayramı" olarak bilinen bayramımız aşağıdakilerden hangisidir?

- A) Hıdırellez
- B) Kurban
- C) Nevruz
- D) İşçi

15. Lastik, deterjan, boya ve ilaç üretimi gibi ürünler aşağıdaki hangi sanayi koluna örnektir?

- A) Kimya
- B) Maden
- C) Tekstil
- D) Gıda

16. Aşağıdakilerden hangisi su kirliliğine neden olmaz?

- A) Evsel atıklar
- B) Kaynak suları
- C) Sanayi atıkları
- D) Kanalizasyon suları

17. Ülkemizde vergi vermenin bir vatandaşlık borcu olmasının yasal dayanağı aşağıdakilerden hangisidir?

- A) Avrupa İnsan Hakları Sözleşmesi
- B) Dinî inançlarımız
- C) Geleneklerimiz
- D) Anayasamız

18. Aşağıdakilerden hangisi nüfusun yeryüzüne dağılışında etkili olan doğal faktörlerden biri değildir?

- A) Yeryüzü şekilleri
- B) Akarsu havzaları
- C) Sanayi
- D) İklim

19. Türkiye'nin en çok dış ticarete bulunduğu ülke aşağıdakilerden hangisidir?

- A) Meksika
- B) Almanya
- C) İspanya
- D) İsviçre

20. Aşağıdaki devlet yönetim şekillerinden hangisine günümüzde rastlanmaz?

- A) Monarşi
- B) Teokrasi
- C) Oligarşi
- D) Cumhuriyet

(607) İNGİLİZCE – 6

1 - 20. sorularda boş bırakılan yere uygun gelen kelime ya da ifadeyi işaretleyiniz.

1. I'm going to visit you - - - - .

- A) at the moment
- B) tomorrow
- C) always
- D) now

2. My birthday is - - - - 3rd of March.

- A) at
- B) in
- C) on
- D) for

3. I - - - - three dogs.

- A) am
- B) are
- C) has got
- D) have got

4. Is Jack listening to the radio - - - - ?

- A) now
- B) never
- C) next week
- D) tomorrow

1. OTURUM

5. $13 + 8 = \dots$

- A) Thirty-two B) Twenty-two
C) Thirty-one D) Twenty-one

6. **A: I am Ufuk. ?**

B: Betty.

- A) How are you
B) What is your name
C) Where are you from
D) What is your phone number

7. **A: ?**

B: I am a teacher.

- A) What is your address
B) What is your job
C) What colour is it
D) What time is it

8. **A: ?**

B: I'm Turkish.

- A) What nationality are you
B) What is your occupation
C) Where are you from
D) How old are you

9. **A: ?**

B: Fine, thank you.

- A) Where are you from
B) Where is the book
C) How old are you
D) How are you

10. **A: ?**

B: White.

- A) What is your occupation
B) What colour is your shirt
C) What nationality are you
D) What is your phone number

11. **A: pencils have you got?**

B: Five.

- A) How many B) Where
C) What D) Who

12. **A: ?**

B: It is Mary's book.

- A) How many books have you got
B) What colour is the book
C) Whose book is that
D) What is its name

13. **A: Where is İzmir?**

B: It is in the of Turkey.

- A) west B) over
C) under D) between

14.



It is a

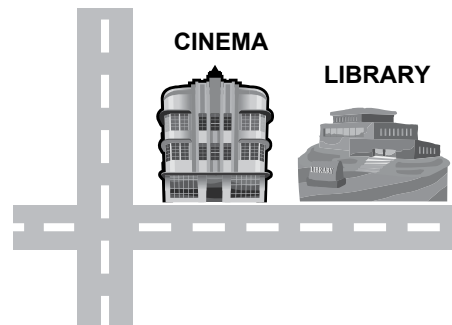
- A) suitcase B) spoon
C) bottle D) fork

15. **A: go to the cinema.**

B: That is a good idea.

- A) Are B) Can C) Must D) Let's

16.



A: Where is the library?

B: It is the cinema.

- A) behind B) next to
C) between D) under

1. OTURUM


17.



It is - - - - .

- A) seven o'clock
- B) ten past seven
- C) half past seven
- D) quarter to seven

18.



A: What is the weather like today?

B: It is - - - - .

- A) sunny
- B) foggy
- C) snowy
- D) cloudy

19.



You mustn't - - - - .

- A) enter this way
- B) smoke here
- C) park here
- D) turn right

20.

tall	X	short
hot	X	cold
old	X	- - - -

- A) long
- B) weak
- C) strong
- D) young

(607) ALMANCA – 6

1-14. sorularda boş bırakılan yere uygun gelen kelime ya da ifadeyi işaretleyiniz.

1. **A: - - - - Sie Lehrer?**

B: Nein, ich bin Arzt.

- A) Sind
- B) Bist
- C) Ist
- D) Sei

2. **Donnerstag, - - - -, Samstag**

- A) Mittwoch
- B) Sonntag
- C) Freitag
- D) Montag

3. **A: Wie alt ist dein Vater ?**

B: - - - - ist 50.

- A) Wir
- B) Du
- C) Sie
- D) Er

4. **Er ist - - - - .**

- A) dick
- B) blaue
- C) dünne
- D) kurze

5.



Das ist ein Hund. Das ist - - - - Hund - - - - Thomas.


- A) sein / die
- B) der / von
- C) von / der
- D) die / sein

6. **Ali - - - - am Samstag seinen Hund - - - - .**

- A) bringe / bei
- B) bringt / mit
- C) bringst / zu
- D) bringen / um

1. OTURUM

7.



Was ist das?

- A) Fahrrad B) Bus
C) Flugzeug D) Zug

8. A: - - - - Sibel ?

B: Sie ist 14.

- A) Wie geht es B) Wie alt ist
C) Wo wohnt D) Wer bist du

9. A: - - - - du Markus?

B: Nein, ich - - - - nicht Markus.

- A) Bist / bin B) Ist / bist
C) Sind / ist D) Bist / sind

10. A: Was - - - - dein Bruder?

B: Er mit dem Computer.

- A) ist / spielen B) macht / spielt
C) spielt / macht D) spielen / machen

11. A: Hallo Ayla, - - - -?

B: Ich komme aus Istanbul.

- A) wie alt bist du B) wo wohnst du
C) woher kommst du D) wie heißt du

12. A: Wie - - - - ist das Buch?

B: 15 Lira

- A) teuer B) kostet C) nehmen D) spiele

13.



A: Ist das eine Hose?

B: Nein, das ist - - - - Hose.

- A) kein B) eine C) ein D) keine

14. Ist das - - - - Jacke - - - - Hülya?

- A) der / um B) die / von
C) von / der D) das / dem

15. Aşağıdakilerden hangisi sıfattır?

- A) kurz B) Baum
C) lesen D) Bleistift

16. Aşağıdaki kelimeler ile anlamlı bir cümle oluşturunuz.

Türkisch / Klaus / in der Schule / lernt
1 2 3 4

- A) 1 / 2 / 3 / 4 B) 2 / 1 / 3 / 4
C) 2 / 4 / 3 / 1 D) 1 / 3 / 4 / 2

17. "neunundzwanzig" in sayı şekli aşağıdakilerden hangisidir?

- A) 20 B) 26 C) 29 D) 19

18.



Was macht der Junge ?

- A) laufen B) schlafen
C) trinken D) essen

19. Aşağıdakilerden hangisi fiildir?

- A) lang B) grün
C) teuer D) lernen

20. Aşağıdakilerden hangisi sıfattır?

- A) schwimmen B) singen
C) krank D) schlafen

1. OTURUM

(607) FRANSIZCA – 6

1-13. sorularda boş bırakılan yere uygun gelen kelime ya da ifadeyi işaretleyiniz.

1. Il est - - - - .

- A) française B) italienne
C) allemande D) suisse

2. A: - - - - a la sœur d'Annie?

B: Elle a vingt ans.

- A) Quelle B) Comment
C) Quel âge D) Pourquoi

3. A: - - - - allez-vous?

B: Très bien, merci. Et vous?

- A) Pourquoi B) Comment
C) Quel D) Parce que

4. A: Cédric est marié?

B: Non, il est - - - - depuis six mois.

- A) divorcé B) médecin
C) jeune D) marié

5. - - - - est la Grande Muraille de Chine?

- A) Où B) Combien
C) Quand D) Ou

6. Dans les crémeries, on vend - - - - .

- A) du beurre et du lait
B) des légumes et des fruits
C) des bonbons et des gâteaux
D) des bottes et des chaussures

7. A: Saniye aime le chocolat blanc?

B: Non, elle - - - - le chocolat blanc.

- A) aimer B) n'aime pas
C) a aimé D) ne pas aimer

8. Marcel : - - - - est-ce que tu préfères le train?
Alain : Parce que j'ai peur de l'avion.

- A) Où B) Quelle
C) Comment D) Pourquoi

9. A: Mesut mange du sandwich au thon?

B: Non, il ne mange jamais - - - - sandwich au thon.

- A) des B) les C) de D) du

10. Onur étudie - - - - Lisbonne - - - - Portugal.

- A) à / en B) à/ au
C) aux / à D) en / aux

11. A: Qui est-ce?

B: C'est - - - - .

- A) un théâtre B) un chapeau
C) un drapeau D) une actrice

12. Elle va acheter un collier d'or - - - - .

- A) à la bijouterie B) au restaurant
C) à l'épicerie D) à la boulangerie

13. A: - - - - ?

B: Non merci, je viens de boire du jus d'orange.

- A) Un parc B) Un chanteur
C) Un cinéma D) Un café

14. Aşağıdakilerden hangisi "75" sayısının doğru yazılışdır?

- A) Soixante-cinq B) Soixante-quinze
C) Quatre-vingt-treize D) Soixante-seize

1. OTURUM

15 ve 16. soruları aşağıdaki resmi dikkate alarak cevaplayınız.

CAFÉ



PARKING HÔPITAL PHARMACIE



FLEURISTE



POSTE BANQUE LIBRAIRIE



15. L'hôpital est - - - - .


- A) en face du café
- B) derrière le fleuriste
- C) à côté de la pharmacie
- D) entre la banque et la poste

16. Le fleuriste est - - - - .

- A) entre le café et l'hôpital
- B) à côté de la banque
- C) en face du café
- D) devant la pharmacie

17 - 20. soruları görselleri dikkate alarak cevaplayınız.

17.



- A) Il est neuf heures moins vingt.
- B) Il est neuf heures et demie.
- C) Il est neuf heures.
- D) Il est neuf heures vingt.

18.



Elle est - - - - et elle a - - - - .

- A) sérieuse / une veste
- B) mince / un grand sac
- C) brune / un manteau
- D) nerveuse / un pantolon

19.



Elle est - - - - .

- A) chanteuse
- B) infirmier
- C) vendeuse
- D) serveur

20.



Il est - - - - .

- A) sept heures et demie
- B) sept heures moins vingt-cinq
- C) sept heures vingt-cinq
- D) sept heures et quart

(608) DİN KÜL. VE AHLAK BİLGİSİ – 6

1. • Müslümanlar müşriklerle on yıl süreyle savaşmayacaklar, birbirlerine saldırmayacaklar.
• Müslümanlar bu yıl Kâbe'yi ziyaretten vazgeçerek geri dönecekler, ancak gelecek yıl umre yapabilecekler.
• Mekke'den birisi Müslüman olarak Medine'ye sığındığı zaman iade edilecek; fakat Medine'den Mekke'ye sığınanlar iade edilmeyecekti.

Bu maddeler aşağıdakilerin hangisinde yer alır?

- A) Akabe biatı
- B) Boykot kararları
- C) Medine Sözleşmesi
- D) Hudeybiye Antlaşması

2. Hz. Muhammed'in (sav.) mezarına verilen isim aşağıdakilerden hangisidir?

- A) Ravza-i mutahhara
- B) Cennet-ül baki
- C) Cennet-ül mualla
- D) Cennet-i âlâ

1. OTURUM

3. Veda Hutbesi ile ilgili aşağıda verilen bilgilerden hangisi yanlıştır?

- A) Arafat'ta okunmuştur.
- B) Kan davası yasaklanmıştır.
- C) Medine'de okunmuştur.
- D) Kadın haklarına değinilmiştir.

4. I. Namazda elleri, dizleri, ayak uçlarını, alnı ve burnu yere koymak
II. Namazın sona erdiğini gösterir.
III. Namazda ezberden bir ya da birkaç ayet okumak

Aşağıdaki kavramlardan hangisi numaralanmış tanımlardan birini karşılıamaz ?

- A) Kıraat B) Secde C) Selam D) Rukü

5. Aşağıdakilerin hangisi Kur'an-ı Kerim'in ana konularından biri değildir?

- A) İbadet B) Ticaret C) Ahlak D) İnanç

6. • Müslümanlar, müşriklerin zulüm ve baskılarından kurtulmuşlardır.
• İslam dininin daha hızlı ve daha kolay yayılması sağlanmıştır.
• Mekke dönemi bitmiş Medine dönemi başlamıştır.

Bu bilgiler aşağıdakilerden hangisinin sonuçlarıdır?

- A) Uhut Savaşı B) Bedir Savaşı
- C) Medine'ye Hicret D) Mekke'nin Fethi

7. "Onlar (peygamberler) büyük günahlardan ve hayâsızlıktan kaçınırlar; kızdıkları zaman da kurları bağışlarlar." (Şura suresi,37.ayet)

Bu ayetle peygamberlerin sıfatlarından hangisine değinilmiştir?

- A) Sıdk B) Fetanet C) Tebliğ D) İsmet

8. Peygamberlerin davalarını ispat ve insanları ikna edebilmek için göstermiş oldukları olağanüstü hadiseler ne denir?

- A) Mucize B) Hadis
- C) Sihir D) Keramet

9. Aşağıdaki davranışlardan hangisi namazı bozamaz?

- A) Gülmek
- B) Düşünmek
- C) Farzlardan birini terk etmek
- D) Kibleden başka bir yöne yönelmek

10. Namaz kılan erkek ve kadının örtünmesi gereken yerlerini örtmesidir.

Bu tanım aşağıdaki kavramlardan hangisi ile ifade edilir?

- A) Niyet B) Vakit
- C) Setr-i avret D) İstikbal-i kible

11. Bir namazın vaktinin girdiği Müslümanlara nasıl duyurulur?

- A) Sala verilmesiyle
- B) Ezan okunmasıyla
- C) Kamet getirilmesiyle
- D) Kur'an okunmasıyla

12. • Hz. Musa – Zebur
• Hz. Davut - Tevrat
• Hz. İsa – İncil
• Hz. Muhammed- Kur'an-ı Kerim

Verilen peygamber kitap eşleştirmelerinin doğru olabilmesi için hangi peygamberlerin yer değiştirmesi gerekir?

- A) Hz. Musa – Hz. Davut
- B) Hz. İsa – Hz. Muhammed
- C) Hz. Musa – Hz. İsa
- D) Hz. Davut – Hz. Muhammed

13. Ölen kişi için dua niyetiyle kılınan namaz aşağıdakilerden hangisidir?

- A) Vitir B) Cenaze C) Teravih D) Teheccüd

1. OTURUM

14. Aşağıdakilerden hangisi kıskançlığın sonuçlarından değildir?

- A) Kin ve nefrete yol açar.
- B) Sağlıklı iletişim kurmayı engeller.
- C) Paylaşma ve yardımlaşmayı artırır.
- D) Toplumda güvensizlik doğurur.

15. Kur'an-ı Kerim'de geçmişte yaşamış topluluklar ve peygamberler hakkında anlatılan ibret verici hikâye ve tarihi olaylara ne ad verilir?

- A) Kissa B) İbadet C) Gelenek D) Ahlak

16. Aşağıdaki ayetlerden hangisi Hz. Muhammed (sav.) ile peygamberliğin tamamlandığını ve başka peygamber gönderilmeyeceğini gösterir?

- A) "Her ümmetin, toplumun bir peygamberi vardır..." (Yunus suresi 47. ayet)
- B) "...O Allah'ın resulü ve nebilerin sonuncusudur..." (Ahzap suresi 40. ayet)
- C) "...Onlardan hiçbirini diğerinden ayırt etmeyiz..." (Bakara suresi 136. ayet)
- D) "De ki: Ben de ancak sizin gibi bir insanım..." (Fussilet suresi 6. ayet)

17. "Allah tevazu edeni yükseltir, kibirleneni zelil kılar."

Bu hadiste kaçınılması istenen kötü davranış aşağıdakilerden hangisidir?

- A) Yalancılık B) İftira atmak
- C) Gıybet etmek D) Büyüklenmek

18. Kişinin yüzüne söylendiğinde hoşlanmayacağı şeyleri arkasından söylemek aşağıdakilerden hangisiyle adlandırılır?

- A) Kötü zan B) Kibir
- C) Gıybet D) İftira

19. Hz. Muhammed'e (sav.) peygamberlik geldiğinde Mekkeliler ona hakaret ettiler. Büyücü dediler. İftira attılar fakat hiçbir zaman şahsını yalancılıkla suçlayamadılar. Hatta bir defasında Mekkelilerin önderlerinden Nadir adında biri, Peygamberimize bu şekilde ifade kullananlara, "Siz akılsız mısınız? Küçüklüğünde aranızda en sevilen, en güvenilen ve en dürüst olan idi. Şimdi o daha olgun iken bunları nasıl söylersiniz?" cevabını vermiştir.

Bu metinden Hz. Muhammed'in (sav.) aşağıdaki sıfatlardan hangisine peygamber olmadan önce de sahip olduğuna ulaşılabilir?

- A) Tebliğ - İsmet B) Sıdk - Emanet
- C) Fetanet - İsmet D) Tebliğ - Emanet

20. Kur'an-ı Kerim'de Hz. Peygamber'e hitaben: "Senden önce gönderdiğimiz her peygambere 'Benden başka ilah yoktur, Bana kulluk edin.' diye vahyetmişizdir." (Enbiya suresi 25.ayet)

Buna göre bütün peygamberlerin verdikleri ilk mesaj aşağıdakilerden hangisidir?

- A) Allah'tan başka ilah yoktur.
- B) Haramlardan uzak durun.
- C) Anaya babaya iyi davranın.
- D) Haksız yere cana kıymayın.

(701) TÜRKÇE – 7

1. Aşağıdaki cümlelerin hangisinde "çökmek" kelimesi "İstanbul Boğazı'na bu sabah koyu bir sis çökmüştü." cümlesindeki anlamıyla kullanılmıştır?

- A) Kadının yanakları çökmüş, beli bükülmüştü.
- B) Mustafa Kemal'in içine ilk defa bu lisede vatan kaygısı çöktü.
- C) Eve doğru yola çıkarken karanlık çöküyordu.
- D) Depremın şiddetiyle pek çok bina çökmüştü.

2. - - - - aynı şeyi düşünüyorsa - - - - fazla bir şey düşünmüyor demektir.

Bu cümlede boş bırakılan yerlere sırasıyla aşağıdaki kelimelerden hangileri getirilir?

- A) Küçükler - büyükler
- B) Herkes - hiç kimse
- C) Çocuklar - insanlar
- D) İki kişi - bazıları

1. OTURUM

3. Her büyük sanatçı, insan yüreğinin değişik katmanlarını açmaya, anlatmaya çalışır. Gerçek sanatçılar, insanoğlunun yüreğini okumaya, yansıtmaya yönelmiş; bunu yazmanın temel nedeni saymışlardır. İnsanın tam insan olmasının, duygusal dünyasının kurulup oluşmasının bu yolla gerçekleşeceğine inanmışlardır.

Bu metindeki altı çizili sözle anlatılmak istenen aşağıdakilerden hangisidir?

- A) Üzüntü ve sevinçleri paylaşmak
- B) Duygulara seslenmek
- C) Korkusuz olmayı öğrenmek
- D) İnsanın ruhsal yönünü kavramak

4. **Aşağıdakilerin hangisinde deyimın anlamı yay araç içinde yanlış verilmiştir?**

- A) Kazan kaldırmak (Bir kimseye zor işlerinde yardımcı olmak)
- B) Kılı kıpırdamamak (Durum ve davranışlarını değiştirmemek, aldırış etmemek)
- C) Sünger çekmek (Bir şeyi hiç olmamış saymak, silmek)
- D) Göz yummak (Görmezlikten gelmek, hoş görmek, bağışlamak)

5. **Amacı** "Belirli bir konuyu olumlu ve olumsuz yanılarıyla ve tarafsız bakış açısıyla değerlendirerek yorum yapma, fikir ve çözüm üretme becerilerini geliştirmek" **olan konuşma yöntem ve tekniği aşağıdakilerden hangisidir?**

- A) Gündümlü konuşma
- B) Eleştirel konuşma
- C) Hafızada tutma
- D) Empati yapma

6. **Aşağıdakilerden hangisi dinlemede güçlük yaratan nedenlerden değildir?**

- A) Duyuma özürlü olmak
- B) Ön hazırlık yapmamak
- C) Konuya ilgi duymamak
- D) Konuşana önem vermemek

7. **Amacı** "Dinleyicinin kendisini konuşmacının yerine koyarak onun neler hissettiğini, sözlerinin hangi deneyimleri yansıttığını, kendini ve dünyayı nasıl algıladığını anlamak" **olan dinleme yöntem ve tekniği aşağıdakilerden hangisidir?**

- A) Yaratıcı dinleme
- B) Katılımlı dinleme
- C) Not alarak dinleme
- D) Empati kurma

8. "Siz değerli okuyuculardan beklentimiz uygulama çalışmalarını sırasındaki gözlemlerinizi, deneyimlerinizi, karşılaştığınız sorunları, uygulamaların sonuçlarını bizimle paylaşmanızdır." **diyeni biri okuyuculardan ne istemektedir?**

- A) Eleştiride bulunmalarını
- B) Verimli çalışmalarını
- C) Geri bildirimde bulunmalarını
- D) Ortak bir çalışma sunmalarını

9. 1. Bir yandan da öğdüğü parçaları kumsala çıkarıyor; dipleri isli, kazan kadar büyük tencereler ise suyun içinde duruyordu.
2. Küçük kız evlerinin biraz ilerisindeki dere kıyısında çömelmiş, yanına yığıldığı kap kacağı oğup parlatıyorken tatlı sesiyle şarkı söylüyordu.
3. Sağ elindeki keseye benzeyen yün örgü bu laşık bezini kuma batırarak yarısı su içinde gömülü tencereleri birer birer elden geçirerek oğuyordu.

Numaralanmış cümlelerle mantık akışına göre anlamlı bir metin oluşturulduğunda sıralama aşağıdakilerden hangisi olur?

- A) 1 - 2 - 3
- B) 1 - 3 - 2
- C) 2 - 1 - 3
- D) 2 - 3 - 1

10. Ülkemizde ekmeğe dayalı yemek kültürü nedeniyle 44 milyar ekmek üretiliyor, bunun 4 milyarı israf ediliyor. Bu israfın günlük maliyeti 2.6 milyon liradır. Ülkemizde israf edilen ekmeklerle 500 km bölünmüş yol, 60 hastane, 180 okul inşa ettirebileceğimizi biliyor muydunuz? Ayrıca ortalama 8 milyon çuval un çöpe gitmekte, günde 26 un fabrikası boşa çıkmakta, 600 bin ton buğday üreticisi boşa ter akıtmaktadır.

Bu metinde aşağıdaki düşüncelerden hangisine değinilmemiştir?

- A) İsraf edilen ekmeklerin nasıl değerlendirilebileceğine
- B) Ekmek israfını önlemek için alınacak tedbirlerin ne olduğuna
- C) İsrafın önlenmesiyle elde edilecek gelirlerle neler yapılabileceğine
- D) İsrafın ekonomi ve tarımda ne gibi olumsuzluklara yol açtığına

1. OTURUM

11. 6 Ağustos 1958, Uşak doğumlu. Uşak Cumhuriyet İlkokulu, Kütahya Lisesi, İ.Ü. Edebiyat Fakültesi Türk Dili ve Edebiyatı Bölümü mezunu. Yüksek lisansını İ.Ü. Sosyal Bilimler Enstitüsü ve ABD’de tamamladı. Doktorasını İstanbul’da verdi. 1993’te doçentliğe yükseldi. 1997’den bu yana İstanbul Kültür Üniversitesi öğretim üyesidir.

Bu metnin türü aşağıdakilerden hangisidir?

- A) Biyografi
B) Otobiyografi
C) Anı
D) Söyleşi

12. Aşağıdaki ifadelerden hangisi bir paragrafın giriş cümlesi olabilir?

- A) Öyle sanıyorum ki bu işin en sağlam yolu, öyküyü yazmaya başlamaktır.
B) Görülüyor ki anlatılacak çok şey var ve hiç yoktan bir öyküye ulaşmanın bin bir yolu var.
C) Gelgelelim sanat matematik olmadığına göre sanat eserinin kalıplar içinde düşünülmesi ne kadar doğrudur, bunu kestirmek güç.
D) Hikâyeye ilk kaynak olarak efsane ve destanları gösterebiliriz.

13. Şafak söküyordu. Gökyüzü gittikçe beyazlaşan bir renk içinde genişliyordu. Eşya henüz ağarmaya başlayan çizgilerle koyu, kocaman gölgelere benziyordu. Sanki bütün cadde ve bu gölge hâlindeki evler kalın, yuvarlak ve camdan bir kürenin içindeydi.

Bu metnin anlatımında aşağıdakilerden hangileri kullanılmıştır?

- A) Karşılaştırma – Benzetme
B) Benzetme – Betimleme
C) Tanımlama – Örnekleme
D) Tanımlama – Tanık gösterme

14. Aşağıdakilerin hangisinde azlık-çokluk zarfı kullanılmıştır?

- A) Bugün çok az uyudum.
B) Yanımızdan koşarak uzaklaştı.
C) En son dün akşam konuştuk.
D) Yukarı kata taşındılar.

15. (1) Osmanlı saraylarında papağanlar şekerle beslenir ve konuşma alıştırmaları için ayna kullanılmıştır. (2) Odanın ortasına büyükçe bir ayna konulup papağanın kafesi hemen karşısına asılır, sonra da aynanın arkasına geçilip öğretilmesi gereken kelimeler tekrar edilmeye başlanmıştır. (3) Papağanın tatlı dilli oluşu şekerle beslenmesinden kaynaklanmıştır. (4) Aynada kendi yansımasını gören papağan bu sesi, kendisi gibi bir kuş çıkarıyor sanıp onu taklide başlar ve böylelikle konuşmayı öğrenmiştir.

Bu metinde numaralanmış cümlelerden hangisi düşüncenin akışını bozmaktadır?

- A) 1. B) 2. C) 3. D) 4.

16. Aşağıdakilerin hangisinde fiil, olumlu soru şeklinde çekimlenmiştir?

- A) Gelmezler mi? B) Okumayacak mı?
C) Bakarlar mı? D) Gelmiyor mu?

17. Divanın karşısındaki duvar boyunca, masa ile soba arasında gidip geliyordum. Konuşulanları gülümseyerek dinliyordum. Onlar olmadan da vakit geçireceğimi göstermek için bütün gücümü kullanmak niyetindeydim. Ayakkabılarıma basarak gürültü çıkarıyordum. Ama bütün bunlar boşunaydı. Onlar bir kez olsun başını çevirip bana bakmamışlardı. Böyle, masa ile sobanın arasında saatin sekizinden on birine kadar, bıkmadan usanmadan gezinebilirdim.

Bu metnin dil ve anlatımıyla ilgili olarak aşağıdakilerden hangisi söylenemez?

- A) Deyime yer verilmiştir.
B) Anlatım birinci kişi ağzından yapılmıştır.
C) İki cümlede yer verilmiştir.
D) Devrik cümleler kullanılmıştır.

18. (1) Bazen kontrolümü kaybediyorum. (2) Saçma sapan bir neşeyle doluyor içim ve gülmeye başlıyorum. (3) Böyle garip huylarım vardır. (4) Aslında insan kendini kontrol etmeyi bilmeli.

Bu metinde numaralanmış cümlelerin hangisinde isim soylu bir kelime “ek fiil” olarak yüklem olmuştur?

- A) 1. B) 2. C) 3. D) 4.

1. OTURUM

19. Saatlerce gelip geçenleri seyrediyorum ()
Sıkılmıyor muyum () Aksine () müthiş eğleniyorum ()

Yukarıdaki paragrafta parantezle gösterilen yerlere, aşağıdaki noktalama işaretlerinden hangileri getirilmelidir?

- A) (!) (.) (,) (!) B) (:) (?) (,) (!)
C) (,) (!) (.) (.) D) (.) (?) (,) (.)

20. Aşağıdaki cümlelerin hangisinde yazım yanlışı vardır?

- A) Anadolu Toprakları bolluk ve bereketin merkezidir.
B) Yaptığınız bu iyiliği hiçbir zaman unutmayacağım.
C) Okuldaki her sınıfta yirmişer öğrenci var.
D) Biraz dikkatli bakınca bana el salladığını fark ettim.

(702) MATEMATİK – 7

1. $(-7) - (-9) + (-2)$ işleminin sonucu kaçtır?

- A) -18 B) -4 C) 0 D) 14

2. Aşağıdaki rasyonel sayılardan hangisi diğerlerinden büyüktür?

- A) $\frac{5}{6}$ B) $\frac{1}{2}$ C) $\frac{7}{15}$ D) $\frac{1}{20}$

3. 3, 4, 7, 6, 3, 2, 1, 5, 2, 4, 6, 3, 2, 7, 2

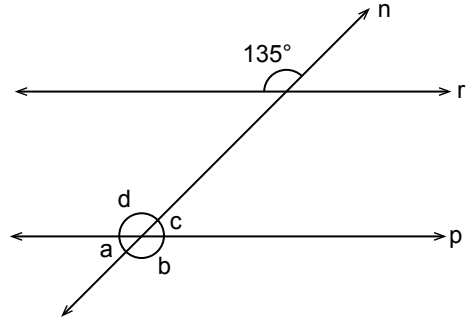
Yukarıdaki veri grubunun ortanca değeri kaçtır?

- A) 3 B) 4 C) 5 D) 6

4. Etiket fiyatı üzerinden %20 indirimle 96 liraya satılan bir pantolonun etiket fiyatı kaç liradır?

- A) 100 B) 110 C) 120 D) 130

- 5.

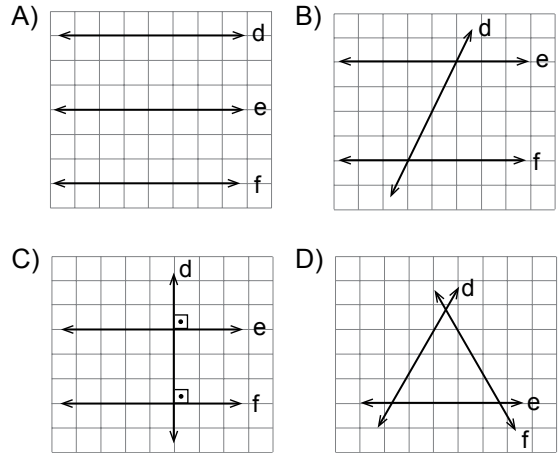


Yukarıdaki şekilde $r \parallel p$ ve n bir kesendir.

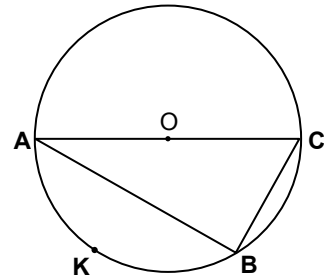
Şekilde verilenlere göre aşağıdakilerden hangisi doğrudur?

- A) $a = 135^\circ$ B) $b = 45^\circ$
C) $c = 45^\circ$ D) $d = 45^\circ$

6. Aşağıdaki düzlemlerden hangisindeki doğrular ikişer ikişer kesilmektedir?



- 7.



Şekilde $[AC]$, O merkezli çemberin çapıdır. AKB yayının ölçüsü 106° olduğuna göre, BAC açısının ölçüsü kaç derecedir?

- A) 16 B) 37 C) 53 D) 74

1. OTURUM

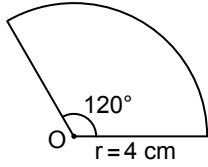
8. $10x - 3 = 3x + 60$ denklemini sağlayan x değeri kaçtır?

- A) 6 B) 7 C) 9 D) 10

9. Ardışık iki kenarından biri $(x + 15)$ birim, diğeri $2x$ birim olan bir dikdörtgenin alanı kaç birim-karedir?

- A) $2x + 15$ B) $2x^2 + 30x$
C) $x^2 - 30x$ D) $2x^2 + 15x$

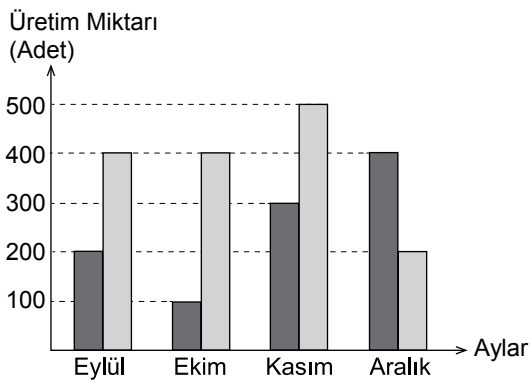
10.



Yukarıda verilen O merkezli ve 4 cm yarıçapındaki çember yayının uzunluğu kaç santimetredir? (π yerine 3 alınız.)

- A) 8 B) 9 C) 10 D) 12

11. Grafik: İki Otomobil Fabrikasının Dört Aylık Üretim Miktarları

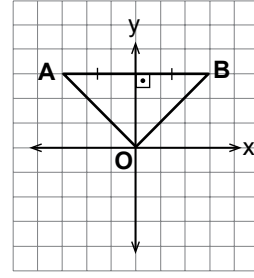


Yukarıdaki grafikte iki otomobil fabrikasının üretim miktarları karşılaştırılmaktadır.

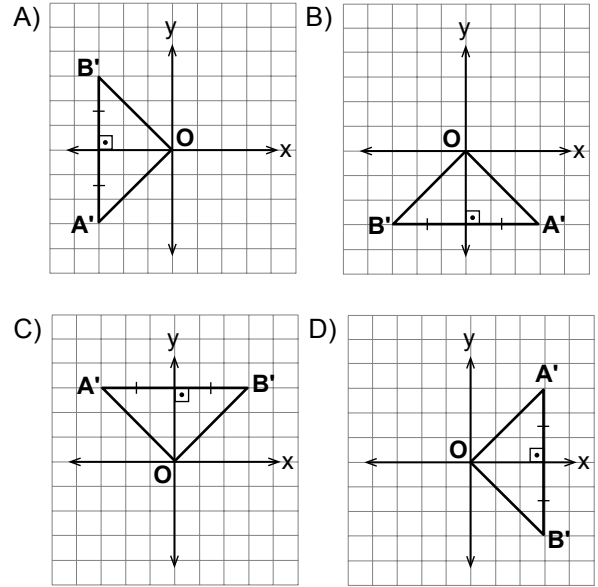
Grafiğe göre fabrikaların üretim miktarları arasındaki fark hangi ayda en fazladır?

- A) Eylül B) Ekim
C) Kasım D) Aralık

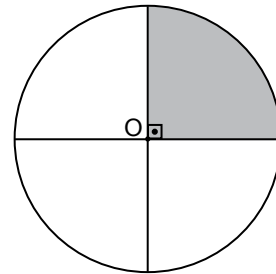
12.



Şekildeki koordinat sisteminde verilen AOB ikizkenar üçgeninin O noktası etrafında saatin tersi yönde 270° döndürülmesi sonucu oluşan görüntüsü aşağıdakilerden hangisidir?



13.



Yarıçapının uzunluğu 6 cm olan bir daire, şekildeki gibi dört eş parçaya ayrılıyor.

Buna göre bu eş parçalardan birinin alanı kaç santimetrekaredir? (π yerine 3 alınız.)

- A) 27 B) 54 C) 72 D) 108

1. OTURUM

14. Ali parasının $\frac{3}{8}$ 'ü ile kitap, $\frac{1}{4}$ 'i ile defter alıyor.

Geride 24 lirası kalan Ali'nin başlangıçta kaç lirası vardı?

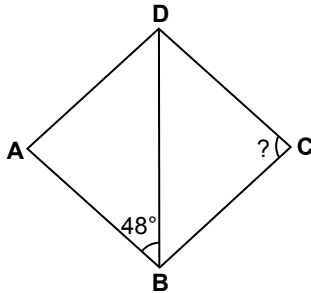
- A) 40 B) 48 C) 56 D) 64

15. Bir markette 1 kilogram zeytin 15 lira, 1 kilogram peynir 16 liradır.

Bu marketten 200 gram zeytin ve 250 gram peynir alan bir kişi kaç lira öder?

- A) 5 B) 7 C) 9 D) 12

- 16.



Şekildeki ABCD eşkenar dörtgeninde [DB] köşegen ve $m(\widehat{ABD}) = 48^\circ$ olduğuna göre $m(\widehat{BCD})$ kaç derecedir?

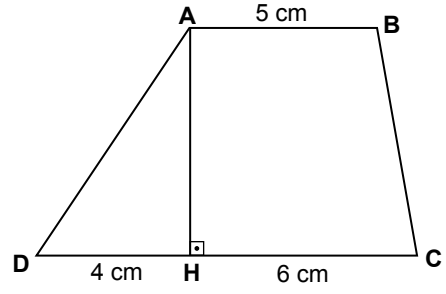
- A) 52 B) 64 C) 72 D) 84

17. Bir kavanozda 1'den 20'ye kadar numaralandırılmış 20 adet özdeş top vardır.

Bu kavanozdan rastgele bir top çekildiğinde topun üzerindeki numaranın çift veya asal sayı olma olasılığı kaçtır?

- A) $\frac{13}{20}$ B) $\frac{15}{20}$ C) $\frac{17}{20}$ D) $\frac{19}{20}$

- 18.



Şekildeki ABCD yamuğunda $[AB] \parallel [DC]$ ve $[AH] \perp [DC]$ 'tir.

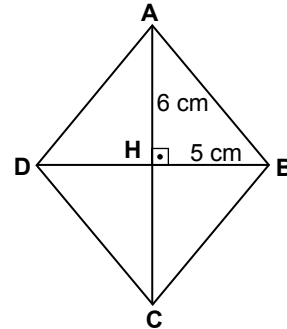
$|AB| = 5$ cm, $|DH| = 4$ cm, $|HC| = 6$ cm ve ABCD yamuğunun alanı 45 cm^2 olduğuna göre $|AH|$ kaç santimetredir?

- A) 3 B) 4 C) 5 D) 6

19. $1 + \frac{1}{1 + \frac{1}{2}}$ işleminin sonucu kaçtır?

- A) $\frac{5}{2}$ B) $\frac{5}{3}$ C) $\frac{13}{5}$ D) $\frac{12}{5}$

- 20.



Şekildeki ABCD eşkenar dörtgeninde $[AC] \perp [DB]$, $|AH| = 6$ cm ve $|BH| = 5$ cm'dir.

Buna göre eşkenar dörtgenin alanı kaç santimetrekaredir?

- A) 30 B) 48 C) 60 D) 120

1. OTURUM

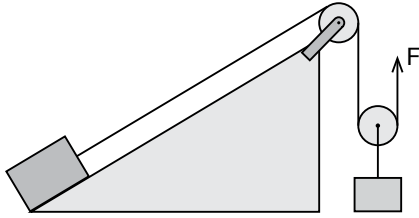
(703) FEN VE TEKNOLOJİ – 7

1. Bir cisme etki eden kuvvet, cismi kendi doğrultusunda hareket ettirdiğinde iş yapmış olur.

Buna göre aşağıdaki kişilerden hangisi fiziksel anlamda iş yapmaz?

- A) Yerdeki sandığı kaldırıp masaya koyan Fırat
B) Düz yolda elindeki çantayı taşıyan Elif
C) Market arabasını iten Ayşe
D) Dağa tırmanan Nevin

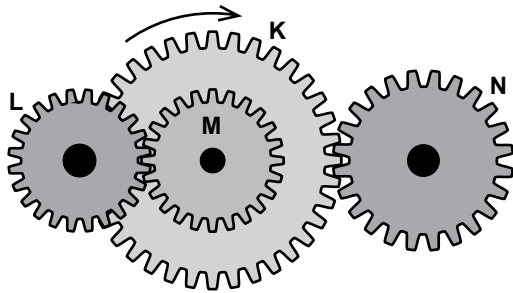
2.



Şekildeki bileşik makine örneğinde hangi basit makineler kullanılmıştır?

- A) Tekerlek – Sabit makara – Eğik düzlem
B) Eğik düzlem – Sabit makara – Palanga
C) Çıkrık – Eğik düzlem – Palanga
D) Eğik düzlem – Sabit makara – Hareketli makara

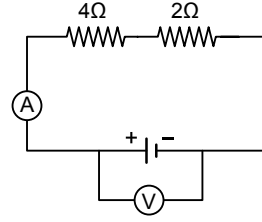
3.



Dişlilerden oluşmuş sistemde K dişlisi ok yönünde döndüğünde L, M ve N dişlileri hangi yönde döner?

- A) B) C) D)

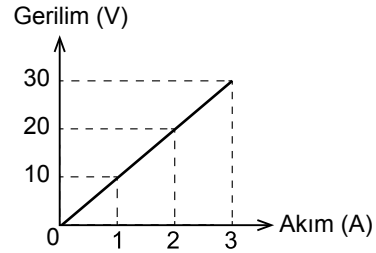
4.



Şekildeki elektrik devresinde ampermetre 2A'ı gösterdiğine göre voltmetre kaç V'ü gösterir?

- A) 4 B) 6 C) 8 D) 12

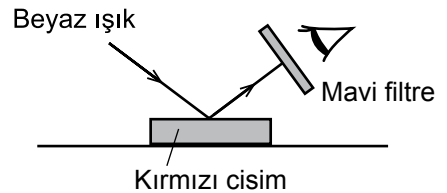
5.



Basit bir elektrik devresine ait verilen gerilim – akım grafiği için, aşağıdakilerden hangisi söylenemez?

- A) Gerilim/Akım oranı sabittir.
B) Devrenin eşdeğer direnci 20 ohm'dur.
C) Gerilim/Akım oranı devrenin direncini verir.
D) Artan gerilim değerine göre akım değeri de aynı oranda artmıştır.

6.



Beyaz ışık altında aydınlatılan kırmızı cisme mavi filtre arkasından bakan bir öğrenci cismi hangi renkte görür?

- A) Siyah B) Mavi C) Kırmızı D) Beyaz

7. Yıldızlarla ilgili bazı bilgiler verilmiştir.

- I. Hepsinin sıcaklığı aynıdır.
II. Hepsi sarı ve kırmızı renktedir.
III. Canlılar gibi doğar, yaşar ve ölürler.
IV. Dünya'ya en yakın yıldız Güneş'tir.

Bu bilgilerden hangileri doğrudur?

- A) I ve II. B) III ve IV.
C) I, II ve III. D) II, III ve IV.

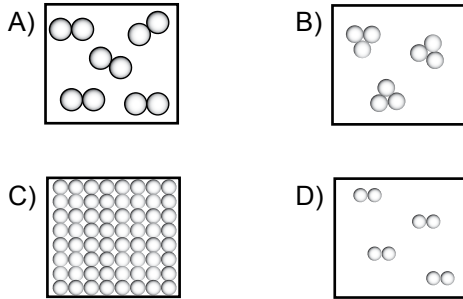
1. OTURUM

8. Zeynep : Gök adaların hareketi yavaştır.
Arda : Gök adalar sarmal, eliptik ya da düzensiz şekillerde olabilirler.
Cemre : Dünyamız Andromeda gök adası içinde yer alır.

Gök adalarla ilgili konuşan öğrencilerden hangilerinin verdiği bilgi doğrudur?

- A) Zeynep ve Arda
B) Zeynep ve Cemre
C) Arda ve Cemre
D) Zeynep, Arda ve Cemre

9. Aşağıda tanecik modelleri verilen elementlerden hangisi moleküler yapıya değildir?



10. Aşağıda verilen bilgilerden hangisi nötr bir atom için her zaman doğrudur?

- A) Proton sayısı elektron sayısından fazladır.
B) Proton sayısı elektron sayısına eşittir.
C) Nötron sayısı elektron sayısından eksiktir.
D) Nötron sayısı elektron sayısından fazladır.

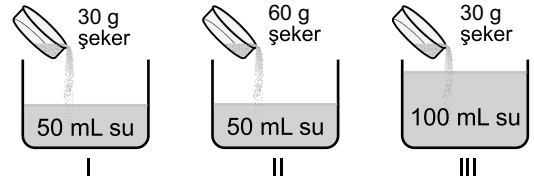
11. Aşağıdaki iyonlardan hangisinin element sayısı diğerlerinden farklıdır?

- A) Cl^- B) Mg^{2+}
C) OH^- D) Ca^{2+}

12. Aşağıdakilerden hangisi heterojen karışımlara örnek olarak verilebilir?

- A) Tuzlu su B) Çamurlu su
C) Şekerli su D) Mürekkepli su

13. Şekilde gösterilen miktarlarda şeker ve su kullanılarak çözeltiler oluşturuluyor.



Bu çözeltilerin seyreltikten derişige doğru sıralanışı nasıl olmalıdır?

- A) $I > III > II$ B) $III > II > I$
C) $II > I > III$ D) $III > I > II$

14. Göz kusurları Görüntüde oluşturdukları durum

- I. Miyop a) Yakını net görememe
II. Hipermetrop b) Cisimleri bulanık görme
III. Astigmatizm c) Uzağı net görememe

Göz kusurları ve görüntüde oluşturdukları durumlarla ilgili eşleştirme aşağıdakilerden hangisinde doğru olarak verilmiştir?

- A) I – a B) I – b C) I – c D) I – a
II – b II – c II – a II – c
III – c III – a III – b III – b

15. • Besinler en küçük moleküllerine kadar ayrılır.
• Yağların sindiriminin yapıldığı yerdir.
• Sindirim sisteminin en uzun bölümüdür.
• İç yüzeyi villus adı verilen çıkıntılarla kaplıdır.

Verilen bilgiler aşağıdaki hangi organa aittir?

- A) Yemek borusu B) Mide
C) İnce bağırsak D) Kalın bağırsak

16. Bir uyarının sinir hücresinde oluşturduğu değişikliğe ne ad verilir?

- A) Uyarı mesajı B) Tepki mesajı
C) Refleks D) Mesaj iletimi

17. Boşaltım sistemi ile ilgili olarak aşağıda verilen bilgilerden hangisi yanlıştır?

- A) Kan, böbrek atardamarı ile böbreklere gelir.
B) Nefronlar atık maddeleri kandan süzer.
C) İdrar, idrar kesesinde toplanır.
D) İdrar, üreter ile vücuttan dışarı atılır.

1. OTURUM

18. I. Bilgisayarlı tomografi
II. Manyetik rezonans
III. Endoskopi

Yukarıda verilen araçlardan hangileri hastalıkların teşhisinde kullanılan teknolojik araçlardır?

- A) I ve II
B) II ve III
C) I ve III
D) I, II ve III

19. - - - - → Çekirge → Kurbağa → Yılan → Atmaca

Verilen besin zincirinin ilk basamağına aşağıdaki canlılardan hangisi yazılamaz?

- A) Ot B) Mantar C) Buğday D) Yonca

20.



Resimdeki canlı topluluğu aşağıdaki kavramlardan hangisine örnek oluşturabilir?

- A) Habitat B) Ekosistem
C) Popülasyon D) Besin zinciri

(806) T.C. İNK. TAR. VE ATATÜRK. – 8

1. **Mustafa Kemal'in kız kardeşleri, aşağıdakilerin hangisinde birlikte verilmiştir?**

- A) Latife ve Naciye
B) Makbule ve Latife
C) Makbule ve Naciye
D) Zübeyde ve Makbule

2. **Mustafa Kemal, askerlik hayatı sırasında aşağıdaki isyanların hangisinin bastırılmasında görev almıştır?**

- A) Patrona Halil B) Menemen
C) Şeyh Sait D) 31 Mart

3. **Mustafa Kemal, hangi şehirde görevde iken "Vatan ve Hürriyet Cemiyeti"ni kurmuştur?**

- A) Şam B) Sofya
C) Samsun D) Erzurum

4. **Mustafa Kemal, Balkan Savaşı başlayınca aşağıdaki hangi göreve atanmıştır?**

- A) 9. Ordu Müfettişliğine
B) Sofya Ataşemiliterliğine
C) Yıldırım Orduları Grubu Komutanlığına
D) Bahr-i Sefid Boğazı Kuvay-ı Mürettebesi Komutanlığı Harekât Şubesi Müdürlüğüne

5. **28 Temmuz 1914 tarihinde, aşağıdaki hangi iki devletin birbirine savaş ilan etmesiyle I. Dünya Savaşı başlamıştır?**

- A) Sırbistan'ın Avusturya – Macaristan İmparatorluğu'na
B) Avusturya – Macaristan İmparatorluğu'nun Sırbistan'a
C) Sovyet Rusya'nın Osmanlı Devleti'ne
D) Almanya'nın Sovyet Rusya'ya

6. "İzmir ve çevresi I. Dünya Savaşı sırasında yapılan gizli antlaşmalarla - - I - - devletine vadedilse de savaş sonrasında yapılan Paris Barış Konferansı'nda işgal hakkı - - II - - devletine bırakılmıştır."

Verilen bilgi cümlesinin doğru olabilmesi için numaralandırılarak boş bırakılan yerlere, aşağıdakilerden hangisi yazılmalıdır?

	I	II
A)	Yunanistan	İtalya
B)	Fransa	İngiltere
C)	İtalya	Yunanistan
D)	Sovyet Rusya	Ermenistan

7. **Osmanlı Devleti'nin kurtuluşunun dinî esaslara uymakla mümkün olabileceğini savunan millî varlığa düşman cemiyet, aşağıdakilerden hangisidir?**

- A) Kürt Teali Cemiyeti
B) Teali İslam Cemiyeti
C) Hürriyet ve İtilaf Fırkası
D) Sulh ve Selameti Osmaniyeye Fırkası

8. **Ulusal bilincin uyandırılması için yapılan ilk çağrı, aşağıdakilerden hangisidir?**

- A) Havza Genelgesi
B) Amasya Genelgesi
C) Misakımillî kararları
D) Amasya Görüşmeleri

1. OTURUM

9. Amasya Genelgesi'nin "Her ilden milletin güvenini kazanmış üç delegenin hemen yola çıkarılması ve her ihtimale karşı da durumun millî bir sır hâlinde tutulması gereklidir." maddesinde "sır" olarak saklanması istenildiği olay, aşağıdakilerden hangisidir?

- A) Cumhuriyetin ilan edileceği
- B) Misakımillî'nin ilan edileceği
- C) Büyük Millet Meclisinin açılacağı
- D) Sivas'ta millî bir kongrenin toplanacağı

10. Misakımillî kararları, aşağıdakilerin hangisinde alınmıştır?

- A) Amasya Görüşmelerinde
- B) Erzurum Kongresi'nde
- C) Mebusan Meclisinde
- D) Sivas Kongresi'nde

11. Misakımillî'de "Kars, Ardahan, Batum ve Batı Trakya'da halk oylamasına gidilmelidir." kararının alınmasındaki en büyük etken, aşağıdakilerden hangisidir?

- A) Bu bölgede yaşayan azınlıkların zararsız olması
- B) Bölgenin Türk nüfusunun fazla olması
- C) Halifenin bu bölgede etkili olması
- D) Sınır şehirleri olmaları

12. Kuvayimillîye birliklerinin;

- I. Fransız
- II. İtalyan
- III. Yunan

işgal güçlerinden hangileriyle silahlı mücadeleye giriştiği söylenebilir?

- A) Yalnız I
- B) I ve II
- C) I ve III
- D) II ve III

13. Ermeniler, aşağıdaki hangi antlaşmayla Doğu Anadolu'daki her türlü isteklerinden vazgeçmişlerdir?

- A) Uşi
- B) Sevr
- C) Ankara
- D) Gümrü

14. Millî Mücadele Dönemi'nin yerel kahramanlarından olan Sütçü İmam, aşağıdaki hangi ilimizin savunmasında gösterdiği başarılı görevlerle ismi tarihe geçmiştir?

- A) Maraş
- B) Antep
- C) İzmir
- D) Urfa

15. Osman Zeki Üngör, İstiklal Marşı'nı hangi yıl bestelemiştir?

- A) 1921
- B) 1923
- C) 1930
- D) 1934

16. Türkiye Cumhuriyeti'nin ilk hükûmetini, aşağıdakilerden hangisi kurmuştur?

- A) Refet Bele
- B) İsmet İnönü
- C) Ali Fethi Okyar
- D) Mustafa Kemal Atatürk

17. Aşağıdakilerden hangisi sosyal alanda yapılan inkıaplardan değildir?

- A) Harf İnkılabı
- B) Soyadı Kanunu
- C) Miladi Takvimin kabulü
- D) Tekke ve zaviyelerin kapatılması

18. Atatürk'ün "Devletçilik" ilkesi, aşağıdaki alanlardan hangisiyle ilgili politikaların oluşumunda etkili olmuştur?

- A) İnanç
- B) Hukuk
- C) Yönetim
- D) Ekonomik

19. Atatürk Dönemi'nde, aşağıdaki devletlerden hangisiyle bir politik ilişki kurulması beklenemez?

- A) İran
- B) Fransa
- C) Özbekistan
- D) Afganistan

20. Avrupa Birliği (AB) Bakanlar Konseyi, Türkiye'nin Katılım Ortaklığı Belgesi'ni hangi yıl kabul etmiştir?


- A) 1971
- B) 1986
- C) 2001
- D) 2005

1. OTURUM

(807) İNGİLİZCE – 8

1 - 20. sorularda boş bırakılan yere uygun gelen kelime ya da ifadeyi işaretleyiniz.

1. Nobody has climbed that mountain - - - - .
A) just B) ever C) never D) before
2. Haven't you done your homework - - - - ?
A) yet B) for C) since D) already
3. I - - - - a new car last week.
A) buy B) bought
C) will buy D) have bought
4. My son has lived in Ankara for - - - - .
A) 2004 B) April
C) last year D) two years
5. The Kızılırmak is the - - - - river in Turkey.
A) cleverest B) highest
C) longest D) fattest
6. She - - - - in the class yesterday because she was ill.
A) weren't B) wasn't
C) were D) was
7. I - - - - tennis yesterday afternoon.
A) playing B) has played
C) have played D) was playing
8. Resul always tells the truth and never gossips. He is a - - - - student.
A) generous B) reliable
C) funny D) lazy
9. Arthur always gets up early and goes to work on time. He is a - - - - man.
A) supportive B) handsome
C) punctual D) thankful

10. Esra isn't here now. She has - - - - to İzmir.
A) went B) gone
C) goes D) go
11. There are seven - - - - in a week.
A) days B) years
C) months D) seasons
12. There is a - - - - of bread on the table.
A) jar B) cup C) loaf D) bottle
13. - - - - I were rich, I would buy an expensive car.
A) Because B) While
C) As D) If
14. The pen - - - - I bought yesterday was expensive.
A) who B) which C) where D) whose
15. The book is written - - - - Wilbur Smith.
A) at B) on C) in D) by
16.

It is a - - - - .
A) giraffe B) spider
C) shark D) wolf
17. A: - - - - do you like dogs?
B: Because they are friendly.
A) Where B) What
C) How D) Why

1. OTURUM

18. A: - - - - can I get to the airport?

B: By bus.

- A) How B) Why
C) What D) How much

19. A: - - - - is it made of?

B: It is made of leather.

- A) What size B) How far
C) What D) How

20. A: I have got a toothache.

B: You should - - - - .

- A) study hard
B) go to the dentist
C) shout in the class
D) stop at the red light

6. Das blau- - - - - Hochhaus ist sehr alt.

- A) -es B) -en C) -e D) -er

7. Die Haare - - - - Frau sind lang.

- A) das B) der C) dem D) des

8.



Das Mädchen ist - - - - . Die Frau ist - - - - .

- A) dick / alt B) jung / alt
C) alt / jung D) alt / dick

(807) ALMANCA – 8

1-19. sorularda boş bırakılan yere uygun gelen kelime ya da ifadeyi işaretleyiniz.

1. A: Hallo Mehmet. Was machst - - - - ?

B: Ich - - - - für die Prüfung.

- A) du / lerne B) er / lernt
C) sie / lernen D) ich / lerne

2. Diese Bücher sind für - - - - . Ihr müsst sie lesen.

- A) ich B) dich C) euch D) deine

3. Letztes Jahr ist Mehmet nach Deutschland gefahren. Aber dieses Jahr werde - - - - nach Deutschland fahren.

- A) er B) sie C) du D) ich

4. Du - - - - kein Kaffee trinken.

- A) darf B) darfst C) dürfen D) dürft

5. A: - - - - hast du die Tasche gegeben?

B: Ich habe sie Frau Baumann gegeben.

- A) Was B) Wo C) Wie D) Wem

9. Der Mann, - - - - das Haus gehört, ist ein Künstler.

- A) der B) die C) den D) dem

10. A: Kennst du die Frau mit - - - - gelben Kleid?

B: Nein, ich kenne - - - - nicht.

- A) dem / sie B) der / es
C) sie / der D) es / den

11. Sabine - - - - gestern zu ihrer Tante - - - - .

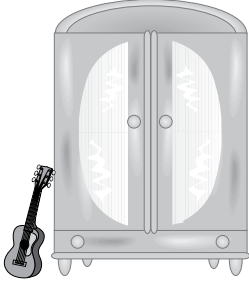
- A) bin / gehen B) seit / gegessen
C) ist / gefahren D) sind / geschlafen

12. - - - - du möchtest, kannst du mit uns Fußball spielen.

- A) Warum B) Wenn C) Denn D) Damit

1. OTURUM

13.



A: Wo ist die Gitarre?

B: Sie ist - - - - dem Schrank.

- A) auf B) in C) unter D) neben


14. Alle Schüler freuen - - - - jetzt schon auf die Sommerferien.

- A) sich B) mich C) dich D) uns

15. Arzu arbeitet in den Sommerferien, - - - - sie sich ein Computer kaufen möchte.

- A) um B) weil C) ob D) aber

16.



A: Wie spät ist es?

B: Es ist - - - - .

- A) halb eins B) halb zwei
C) halb drei D) halb vier

17. A: Hallo Susanne ! Wie geht es deiner Mutter?
B: Es geht - - - - gut.

- A) ihm B) sie C) uns D) ihr

18. Die klein- - - - - Tische.(Plural)

- A) -en B) -es C) -er D) -e

19. lang, - - - - , am längsten

- A) lange B) lang C) länger D) längste

20.



Was macht er?

- A) fahren B) laufen
C) fliegen D) schlafen

(807) FRANSIZCA – 8

1-15. sorularda boş bırakılan yere uygun gelen kelime ya da ifadeyi işaretleyiniz.

1. - - - - sont allés au concert de Stromae à Paris.

- A) Vous B) Tu C) Ils D) Nous

2. Sibel et moi - - - - des informations à l'office de tourisme.

- A) a demandé B) ont demandé
C) suis demandé D) avons demandé

3. Paul tourne un film d'action - - - - Tokyo- - - - Japon.

- A) à / au B) en / à
C) au / aux D) en / au

4. Pour acheter du fromage et du lait je vais chez - - - - .

- A) le dentiste B) le crémier
C) le poissonnier D) le bijoutier

5. Les pays africains sont - - - - que les pays européens.

- A) plus chauds B) aussi froid
C) moins chaudes D) plus froid

1. OTURUM

6. Pendant les grandes vacances, Paul a écrit quatre cartes postales et deux lettres.

Alors, il a écrit - - - - de lettres que de cartes postales.

- A) tant B) autant
C) plus D) moins

7. Comme dessert, - - - - de la crème brûlée!

- A) déjeune B) mange
C) dîne D) bois

8. Le lait coûte deux euros - - - -.

- A) le mètre B) le mètre carré
C) le litre D) le kilo

9. A: C'est - - - - la bibliothèque nationale ?
B: Elle est juste en face de l'Hôtel de ville.

- A) ou B) où C) quand D) combien

10. Pour voir les monuments historiques à Paris, les touristes - - - - le bus à double étages.

- A) devient B) voient
C) prennent D) visitent

11. L'hôtel - - - - tu as vu est très luxueux.

- A) dont B) qui C) où D) que

12. Ce professeur - - - - enseigne le français parle quatre langues.

- A) qui B) pourquoi
C) que D) où

13. Mme Thibaut a vingt-sept ans, c'est - - - -.

- A) un homme brun B) une vieille dame
C) un vieux monsieur D) une jeune femme

14. Si elle mange beaucoup de sucreries, elle - - - - ses dents.

- A) perdrez B) sommes perdus
C) perdra D) perdrons

15. A: - - - - vous avez fait à Nevşehir?
B: Nous avons visité la ville souterraine de Derinkuyu.

- A) Qu'est-ce que B) Quand
C) Combien D) Comment

16-20. soruları resimleri dikkate alarak cevaplayınız.

16.



Le dimanche matin, elle fait - - - -.

- A) du judo B) du cheval
C) du bateau D) de l'escalade

17.



Albert ne peut pas écrire parce qu'il a - - - -.

- A) la jambe cassée B) mal aux dents
C) le bras cassé D) mal à l'estomac

18.



Quand il est fatigué, il - - - - tôt.

- A) se peigne B) se couche
C) se promène D) s'habille

1. OTURUM

19.



Il - - - - son manteau en courant.

- A) danse B) pleure
C) cherches D) met

20.



Il a mal - - - -.

- A) au ventre B) au dos
C) aux jambes D) aux yeux

(808) DİN KÜL. VE AHLAK BİLGİSİ – 8

1. "Sizden herhangi birinizin sırtına bir bağ odun yüklenip satması dilenmesinden hayırlıdır."

Hız. Muhammed'in (sav.) bu sözü aşağıdakilerden hangisini engellemeye yöneliktir?

- A) Ortaklık kurarak çalışmayı
B) Geçimini ticaretle sağlamayı
C) Emek ve alın teri ile kazanmayı
D) Başkalarının sırtından geçinmeyi

2. Aşağıdakilerden hangisi biyolojik yasalar ile ilgili değildir?

- A) Gemilerin denizlerde suya batmadan yüzebilmesi
B) Develerin sıcak iklimlerde uzun süre susuz yaşayabilmesi
C) Et ve otlarla beslenen hayvanların çene yapılarının farklı olması
D) Balıkların suda solunum yapabilmesi için solungaçlarının olması

3. • İnsanlar gibi toplumların da bir ömrü vardır.
• Adaletin olmadığı toplumlarda barış ve huzur olmaz.
• Gelir dağılımının adil olduğu toplumlarda yoksulluk azalır.

Bu verilenler aşağıdaki yasalardan hangisiyle ilgilidir?

- A) Biyolojik B) Duygusal
C) Toplumsal D) Fiziksel

4. Aşağıdaki davranışlardan hangisinin sadaka olduğu söylenemez?

- A) Güzel söz söylemek
B) Dargınları barıştırmak
C) Başkalarını çekiştirmek
D) İnsanlara tebessüm etmek

5. Bir iş hakkında diğer insanlarla fikir alışverişinde bulunmak, İslam kültüründe aşağıdakilerden hangisiyle isimlendirilir?

- A) İnfak B) İstişare
C) İstihare D) Mukabele

6. Bir Müslümanın bir iş için elinden gelen tüm gayreti gösterdikten sonra sonucunu Allah'a bırakması aşağıdakilerden hangisiyle isimlendirilir?

- A) Tevekkül B) İhsan
C) Sadaka D) Liyakat

7. Aşağıdaki davranışlardan hangisi merhamet kavramı ile bağdaşmaz?

- A) İyiliğe çağırmak
B) Hataları yüze vurmak
C) Hayvanlara su vermek
D) Otobüste yaşlılara yer vermek

1. OTURUM

8. "Müslüman, elinden ve dilinden başkalarının emin olduğu kimsedir."

Bu hadis aşağıdaki kavramlardan hangisinin önemine işaret etmektedir?

- A) Eşitlik B) Güven
C) Cömertlik D) Çalışkanlık

9. **Aşağıdakilerden hangisi ilahi dinlerden biri değildir?**

- A) Hinduizm B) Hristiyanlık
C) Yahudilik D) İslamiyet

10. • İsrailoğullarına gönderilmiştir.
• Kendisine Tevrat indirilmiştir.

Hakkında bilgi verilen peygamber aşağıdakilerden hangisidir?

- A) Hz. Davut (as.) B) Hz. İsa (as.)
C) Hz. Yusuf (as.) D) Hz. Musa (as.)

11. **Aşağıdakilerden hangisinde sadece manevi temizlikten söz edilebilir?**

- A) Banyo yapmak B) Abdest almak
C) Helallik dilemek D) Gusül abdesti almak

12. **Yahudilerin Tanrı'ya verdikleri isim aşağıdakilerden hangisidir?**

- A) Yehova B) Rahip
C) Haham D) Havari

13. **Aşağıdakilerden hangisi Hristiyanlıktaki mezheplerden biri değildir?**

- A) Katoliklik B) Havarilik
C) Ortodoksluk D) Protestanlık

14. **İslam dini ile ilgili aşağıda verilen bilgilerden hangisi yanlıştır?**

- A) Evrenseldir.
B) Bireysel ve toplu ibadet edilebilir.
C) Dayanışma ve paylaşmaya önem verilir.
D) Ahiret için dünyadan el etek çekilir.

15. **Aşağıdakilerden hangisi taassupla ilişkilendirilemez?**

- A) Hoşgörü B) Taklit
C) Ön yargı D) Bilgisizlik

16. **Aşağıdakilerden hangisi kumar oynamanın zararlarından biri değildir?**

- A) Ailenin dağılmasına yol açması
B) Kin ve düşmanlığa sevk etmesi
C) Tembelliğe ve hileye teşvik etmesi
D) Ağız ve boğaz kanserine yol açması

17. **Hristiyanlıkta yeni doğan çocukların kilisede papaz tarafından kutsal su ile yıkanmasına ne denir?**

- A) Noel B) Yortu C) Vaftiz D) Paskalya

18. **Aşağıdakilerden hangisi sadece İslam dini ile ilişkilendirilebilir?**

- A) İyilik yapmak B) Temiz giyinmek
C) Doğru olmak D) Namaz kılmak

19. **Hac ve umre ibadetleri düşünüldüğünde aşağıdakilerden hangisi sadece hacda yapılabilir?**

- A) İhrama girmek B) Vakfe Yapmak
C) Tavaf yapmak D) Sa'y yapmak

20. **Aşağıdakilerden hangisi bilgi edinme yollarından biri değildir?**

- A) Vahiy B) Akıl
C) Rüya D) Duyu organları

SINAV SÜRESİNCE UYULACAK KURALLAR

1. Adaylar, sınav kurallarına ve salon görevlilerinin tüm uyarılarına uymak zorundadırlar. Kurallara ve uyarılara uymayan adayların sınavları geçersiz sayılacaktır.
2. Sınav başladıktan sonra adayların salon görevlileri ve birbirleri ile konuşmaları, kalem, silgi vb. şeyleri istemeleri yasaktır.
3. Adaylar sınav süresince, sınav giriş belgesi ile birlikte kimlik belgelerinden birini (nüfus cüzdanı, pasaport veya sürücü belgesi) masalarının üzerinde bulundurmamak zorundadırlar.
4. Sınav evraklarını teslim etmeyen, soru kitapçıklarının sayfalarından bir kısmını eksik teslim edenlerin sınavları geçersiz sayılacaktır.

SALON GÖREVLİLERİNCE SINAV BAŞLAMADAN ÖNCE ADAYLARA YAPILACAK SON UYARI

- Soracağınız bir şey var mı? Varsa, şimdi sorunuz.
- Sınav başladıktan sonra sorularınıza cevap verilmeyecektir.
- Başlama zilini bekleyiniz.
- Hepinize başarılar dileriz.

(Salon başkanı başlama ve bitiş saatini tahtaya yazacaktır.)

Bu kitapçığın her hakkı saklıdır. Hangi amaçla olursa olsun, kitapçığın tamamının veya bir kısmının Millî Eğitim Bakanlığı Ölçme, Değerlendirme ve Sınav Hizmetleri Genel Müdürlüğünün yazılı izni olmadan kopya edilmesi, fotoğraflarının çekilmesi, bilgisayar ortamına alınması, herhangi bir yolla çoğaltılması, yayımlanması veya başka bir amaçla kullanılması yasaktır. Bu yasağa uymayanlar, doğabilecek cezai sorumluluğu ve kitapçığın hazırlanmasındaki mali külfeti peşinen kabullenmiş sayılır.

**12 HAZİRAN 2016 TARİHİNDE YAPILAN
AÇIK ÖĞRETİM ORTAOKULU 2015-2016 ÖĞRETİM YILI 3. DÖNEM SINAVI
1. OTURUM CEVAP ANAHTARI**

TÜRKÇE – 7

1. C
2. B
3. D
4. A
5. B
6. B
7. D
8. C
9. D
10. B
11. A
12. D
13. B
14. A
15. C
16. C
17. D
18. C
19. D
20. A

FEN ve TEKNOLOJİ – 7

1. B
2. D
3. A
4. D
5. B
6. A
7. B
8. A
9. C
10. B
11. C
12. B
13. D
14. C
15. C
16. A
17. D
18. D
19. B
20. C

İNGİLİZCE – 8

1. D
2. A
3. B
4. D
5. C
6. B
7. D
8. B
9. C
10. B
11. A
12. C
13. D
14. B
15. D
16. A
17. D
18. A
19. C
20. B

FRANSIZCA – 8

1. C
2. D
3. A
4. B
5. A
6. D
7. B
8. C
9. B
10. C
11. D
12. A
13. D
14. C
15. A
16. B
17. C
18. B
19. D
20. A

MATEMATİK – 7

1. C
2. A
3. A
4. C
5. C
6. D
7. B
8. C
9. B
10. A
11. B
12. D
13. A
14. D
15. B
16. D
17. C
18. D
19. B
20. C

TC İNK. TAR. VE ATA. – 8

1. C
2. D
3. A
4. D
5. B
6. C
7. B
8. A
9. D
10. C
11. B
12. C
13. D
14. A
15. C
16. B
17. A
18. D
19. C
20. C

ALMANCA – 8

1. A
2. C
3. D
4. B
5. D
6. C
7. B
8. B
9. D
10. A
11. C
12. B
13. D
14. A
15. B
16. C
17. D
18. A
19. C
20. A

**DİN KÜLTÜRÜ ve AHLAK
BİLGİSİ – 8**

1. D
2. A
3. C
4. C
5. B
6. A
7. B
8. B
9. A
10. D
11. C
12. A
13. B
14. D
15. A
16. D
17. C
18. D
19. B
20. C

**12 HAZİRAN 2016 TARİHİNDE YAPILAN
AÇIK ÖĞRETİM ORTAOKULU 2015-2016 ÖĞRETİM YILI 3. DÖNEM SINAVI
1. OTURUM CEVAP ANAHTARI**

TÜRKÇE – 5

1. A
2. B
3. D
4. C
5. B
6. D
7. A
8. C
9. D
10. D
11. C
12. B
13. A
14. B
15. C
16. B
17. D
18. B
19. A
20. D

FEN BİLİMLERİ – 5

1. B
2. C
3. A
4. A
5. D
6. B
7. C
8. B
9. B
10. D
11. C
12. A
13. B
14. C
15. B
16. D
17. D
18. A
19. C
20. A

İNGİLİZCE – 6

1. B
2. C
3. D
4. A
5. D
6. B
7. B
8. A
9. D
10. B
11. A
12. C
13. A
14. A
15. D
16. B
17. C
18. A
19. C
20. D

FRANSIZCA – 6

1. D
2. C
3. B
4. A
5. A
6. A
7. B
8. D
9. C
10. B
11. D
12. A
13. D
14. B
15. C
16. C
17. D
18. B
19. C
20. B

MATEMATİK – 5

1. C
2. B
3. A
4. D
5. C
6. B
7. A
8. C
9. B
10. D
11. D
12. A
13. B
14. C
15. A
16. D
17. B
18. C
19. A
20. B

SOSYAL BİLGİLER – 6

1. D
2. A
3. D
4. D
5. B
6. A
7. D
8. C
9. B
10. A
11. C
12. B
13. D
14. C
15. A
16. B
17. D
18. C
19. B
20. C

ALMANCA – 6

1. A
2. C
3. D
4. A
5. B
6. B
7. D
8. B
9. A
10. B
11. C
12. A
13. D
14. B
15. A
16. C
17. C
18. D
19. D
20. C

**DİN KÜLTÜRÜ ve AHLAK
BİLGİSİ – 6**

1. D
2. A
3. C
4. D
5. B
6. C
7. D
8. A
9. B
10. C
11. B
12. A
13. B
14. C
15. A
16. B
17. D
18. C
19. B
20. A