

4.
SINIF



B
KİTAPÇIK TÜRÜ

T.C.
MİLLÎ EĞİTİM BAKANLIĞI
ÖLÇME, DEĞERLENDİRME VE SINAV HİZMETLERİ
GENEL MÜDÜRLÜĞÜ

TED ANKARA KOLEJİ VAKFI ÖZEL İLKOKULU VE ORTAOKULU SEÇME SINAVI
(3. Sınıftan 4. Sınıfa Geçenler)
5 HAZİRAN 2016 Saat: 10.00

Adayın Adı ve Soyadı :

Aday Numarası (T.C. No) :

DERS ADI	SORU SAYISI	TOPLAM SORU SAYISI	SINAV SÜRESİ (DAKİKA)
TÜRKÇE	20	80	80
MATEMATİK	20		
HAYAT BİLGİSİ	20		
FEN BİLİMLERİ	20		

ÖĞRENCİLERİN DİKKATİNE!

1. Sınıf öğrenci yoklama listesinde belirtilen sınıfta ve sıra numarasında oturunuz.
2. Cevap kâğıdındaki kimlik bilgilerinin doğruluğunu kontrol ediniz.
3. Kitapçık türünü cevap kâğıdındaki ilgili alana kodlayınız.
4. Cevap kâğıdı üzerindeki kodlamaları kurşun kalemle yapınız.

SINAV BAŞLAMADAN ÖNCE KİTAPÇIĞIN ARKA KAPAĞINDAKİ UYARILARI MUTLAKA OKUYUNUZ.

1. "Yaş" kelimesi aşağıdakilerin hangisinde diğerlerinden farklı bir anlamda kullanılmıştır?
- A) Bu takımda aynı yaş grubundan çocuklar var.
B) Oturduğu koltuk yaş olduğu için pantolonu ıslandı.
C) Kardeşiyle arasında çok fazla yaş farkı var.
D) Yaş ilerledikçe insan hayata daha başka bakıyor.
2. "Bozulan saatini tek başına tamir etti." cümlesindeki "tamir etti" kelimesiyle aşağıdaki altı çizili kelimelerden hangisi aynı anlamda kullanılmıştır?
- A) Annemle ablam evdeki eşyaların yerini değiştirdi.
B) Halası, ona güzel bir etek dikti.
C) Dolabının içini bir güzel temizledi.
D) Evdeki kırık dökük eşyaları babam onardı.
3. Aşağıdaki cümlelerde altı çizili kelimelerden hangisinin eş seslisi vardır?
- A) Kurumuş bir yaprak vardı defterinin arasında.
B) Kimliğini çantanın iç cebinde taşırdı.
C) Bu bahar, ağaçlar erken çiçek açtı.
D) Canım sıcak bir bardak çay çekti.
4. Aşağıdakilerin hangisinde zıt anlamlı kelimeler bir arada kullanılmamıştır?
- A) Bu dar sokağın sonunda dik bir yokuş vardı.
B) Sorduğu sorulara bir türlü cevap alamıyordu.
C) Geceleri kitap okur, gündüzleri işe giderdi.
D) Erken yatmasına rağmen hep geç kalkardı.

5. Aşağıdaki kelimeler alfabetik sıraya göre dizildiğinde hangisi en son-
da yer alır?

- A) Yazış B) Yazıt C) Yazın D) Yazlık

6. 1. oynamayı
2. hiç
3. eski
4. sevmezdi
5. kardeşim
6. oyuncaklarla

Bu kelimelerle anlamlı ve kurallı bir cümle oluşturulduğunda sıralama
aşağıdakilerden hangisi olur?

- A) 3-6-1-5-2-4
B) 5-3-6-1-2-4
C) 6-3-5-1-4-2
D) 6-5-3-1-2-4

7. Aşağıdaki cümlelerin hangisinde karşılaştırma vardır?

- A) Bu yıl daha başarılı olduğumu dile getirdi.
B) Çocuklar bahçenin dört bir yanına dağılmışlardı.
C) Uzun bir aramadan sonra kaybolan tokasını bulmuştu.
D) Dışarıya çıkıp arkadaşlarıyla biraz oynayacaktı.

8. Aşağıdaki cümlelerin hangisinde sebep-sonuç ilişkisi vardır?

- A) Kaptanın kim olduğunu anlamaya çalışıyordu.
B) Düğün hazırlıklarını bir türlü bitiremiyordu.
C) Annesinin elini öperek uzun bir süreliğine evden ayrıldı.
D) Çok küçük oldukları için yıldızları görmekte zorlanıyoruz.

9. Dün okul takımındaki yerimi aldım - - - - istediğim gibi başarılı olamadım. Bu cümlede boş bırakılan yere düşüncenin akışına göre aşağıdakilerden hangisi getirilemez?

A) ama B) veya C) ancak D) fakat

10. Yaz tatilinde ya gitar ya da yüzme kursuna gideceğim. Aşağıdakilerden hangisi bu cümleyle aynı anlamı taşımaktadır?

A) Yaz tatilinde gitar ve yüzme kursuna gideceğim.
B) Yaz tatilinde ne yüzme ne de gitar kursuna gideceğim.
C) Yaz tatilinde gitar veya yüzme kursuna gideceğim.
D) Yaz tatilinde hem gitar hem yüzme kursuna gideceğim.

11. Bu - - - - yapı, gören herkeste hayranlık uyandırıyor. Bu cümlede boş bırakılan yere aşağıdakilerden hangisi getirilirse cümle farklı bir anlam kazanır?

A) görkemli B) muhteşem C) gösterişli D) modern

12. Hayatın başı sağlık, sağlığın başı da beslenmedir. Sağlıklı beslenme ileriki yaşlarda kazanılması güç bir alışkanlıktır. Bu sebeple çocukluktan itibaren dengeli beslenmeyi öğrenmeliyiz. Bu, bizim beyin ve beden gelişimimiz için şarttır. Bunun için annemizin hazırladığı tüm yemekleri yemeliyiz. Aşağıdakilerden hangileri bu metnin anahtar kelimeleridir?

A) Kahvaltı - yemek
B) Yemek - alışkanlık
C) Beslenme - sağlık
D) Çocuk - anne

13. 1. Bunlar, çam ormanının bitimindeki köyde otururlarmış.
2. Ancak onlar dönene kadar gece bastırmış.
3. Çok eski zamanlarda yoksul iki oduncu varmış.
4. Bir kış günü ormandan odun kesmiş, köyün yolunu tutmuşlar.
5. Gece karanlığında güçlüklerle ilerleyebilmişler.

Numaralanmış cümlelerle anlam bütünlüğü olan bir metin oluşturulduğunda sıralama nasıl olur?

- A) 3-1-4-2-5
B) 3-2-4-1-5
C) 4-2-3-5-1
D) 4-5-3-2-1

14. Bir gün kucağına ulaşısam,
Gözlerimden döksem sevinç yaşını,
Sancağının gölgesinde dolaşısam,
Öpsem toprağını, taşını.

Bu dördünlüğün ana duygusu aşağıdakilerden hangisidir?

- A) Vatan özlemi
B) Özgürlük
C) Yalnızlık
D) Yaşama sevinci

15. Çağımızda büyük bir hızla gelişen taşıtlar, insanları birbirine yaklaştırıyor. Bu durum farklı ülkelerden insanların tanışıp anlaşmalarında önemli etken oluyor. Böylece turizm, milletler arasında kültürel ve ekonomik etkileşimi sağlıyor. Aynı zamanda turist çeken bir ülke zenginleşiyor.

Bu metinde aşağıdakilerden hangisine değinilmemiştir?

- A) Ulaşım teknolojisinin gelişmesiyle insanların yakınlaştığına
B) Farklı milletlerden insanların turizm yoluyla tanıştıklarına
C) Turist çeken bir ülkenin zenginleştiğine
D) Doğal ve tarihî güzellikleri korumak gerektiğine

1. 13 sayısından başlayarak dokuzar dokuzar ileriye doğru sayan bir öğrenci, saydığı sayıları bir kâğıda yazacaktır.

Buna göre bu öğrenci aşağıdaki sayılardan hangisini yazamaz?

- A) 22 B) 40 C) 57 D) 76

2. Gül'ün 48 tane bilyesi vardır. Bilyelerin $\frac{1}{6}$ 'ini kardeşine verirse geriye kaç bilyesi kalır?

- A) 40 B) 32 C) 24 D) 16

3. 2, 4, 8 rakamları birer kez kullanılarak yazılabilecek üç basamaklı en büyük ve en küçük doğal sayının toplamı kaçtır?

- A) 1060 B) 1070 C) 1080 D) 1090

4. 357 sayısına kaç eklersek "8 yüzlük 5 onluk 3 birlik" elde ederiz?

- A) 446 B) 496 C) 506 D) 551

5. Buket her seferinde, son yazdığı sayının 3 katının 1 fazlasını yazarak bir örüntü oluşturuyor. Buket'in ilk yazdığı sayı 1 olduğuna göre yazacağı altıncı sayı kaç olur?

- A) 40 B) 121 C) 364 D) 1093

6.
$$\begin{array}{r} 8A3 \\ -4B1 \\ \hline 342 \end{array}$$

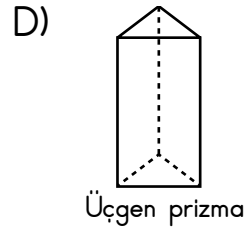
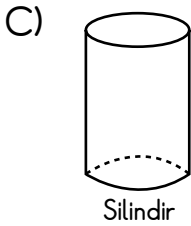
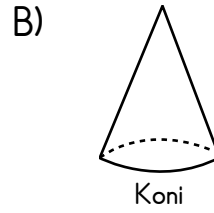
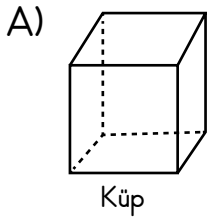
Yukarıdaki çıkarma işlemine göre B-A kaçtır?

- A) 6 B) 5 C) 4 D) 3

7. 215, 105, 261, 162, 210 sayıları küçükten büyüğe doğru sıralandığında ikinci ve dördüncü sayılar hangileri olur?

- A) 105 ve 215
B) 162 ve 215
C) 162 ve 210
D) 210 ve 261

8. Aşağıdaki geometrik cisimlerden hangisinin açılımında iki daire vardır?



9.
$$\begin{array}{r} AB \\ \times C3 \\ \hline 63 \\ + 84 \\ \hline 147 \end{array}$$
 Yandaki çarpma işleminde AB ve C3 iki basamaklı sayılardır. Bu çarpma işleminde 84 sayısı bir basamak sola kaydırılmadığı için sonuç 147 bulunmuştur. Buna göre A+B+C kaçtır?

A) 8 B) 7 C) 6 D) 5

10. Tuna'nın elinde 28 tane kalem ve 5 tane kalem kutusu vardır. Tuna, kalem kutularının her birine 6 tane kalem koymak istediğine göre kaç kaleme daha ihtiyacı vardır?

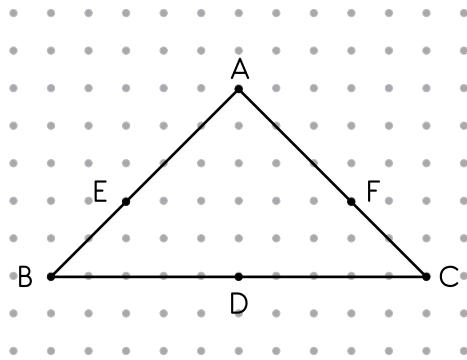
A) 2 B) 4 C) 6 D) 8

11. 47 sayısını 8'e bölen bir öğrenci işlemde hata yaptığı için kalanı 2 eksik bulmuştur.

Buna göre öğrencinin bulduğu kalan aşağıdakilerden hangisidir?

A) 2 B) 3 C) 4 D) 5

- 12.



Şekildeki üçgenin simetri doğrusu hangi iki noktadan geçer?

A) B ve F B) A ve D C) C ve E D) E ve F

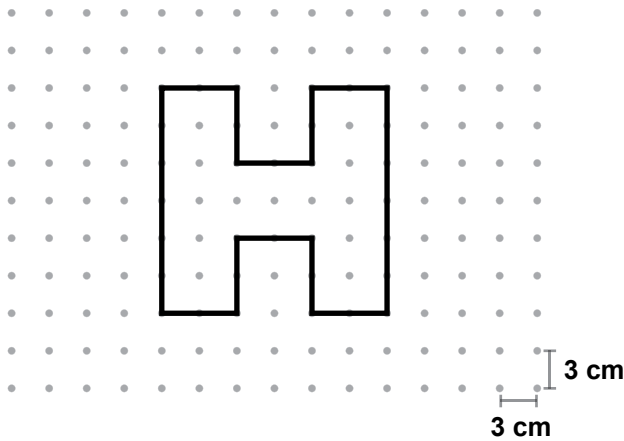
13. Bir dilim tost ekmeđi 100 gramdır. İki dilim tost ekmeđi ve 100 gram peynir ile bir tane tost yapılmaktadır. Buna göre 10 tane tostun toplam kütlesi kaç kilogramdır?

- A) 5 B) 4 C) 3 D) 2

14. 2 saat 15 dakika süren bir gösteri saat 18.05'te bittiđine göre bu gösterinin başlama saati kaçtır?

- A) 15.50 B) 15.55 C) 16.05 D) 16.10

15.



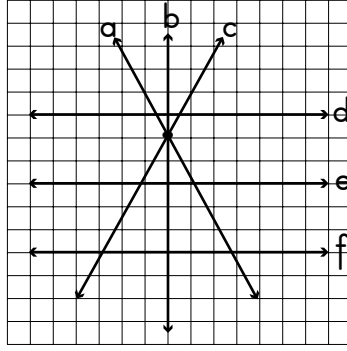
Noktalı zeminde verilen Őeklin çevresi kaç santimetredir?

- A) 78 B) 84 C) 90 D) 96

16. Mert 2 metre boya sahip olacađını hayal ediyor. Őimdi 160 santimetre boyunda olduđuna göre kaç santimetre uzarsa hayal ettiđi boya ulařır?

- A) 4 B) 8 C) 40 D) 80

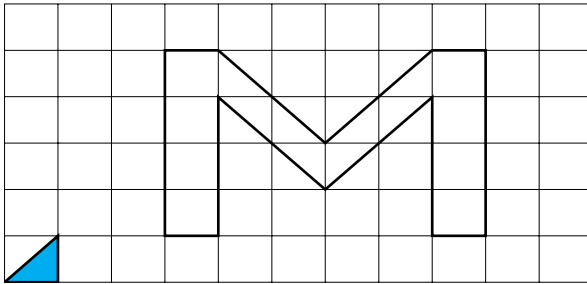
17.



Yukarıda verilen a, b, c, d, e ve f doğrularıyla ilgili olarak aşağıdakilerden hangisi yanlıştır?

- A) d doğrusu, üç farklı doğru ile kesişmektedir.
- B) b doğrusu, dört farklı doğru ile kesişmektedir.
- C) e ve f doğruları paraleldir.
- D) a doğrusu, beş farklı doğru ile kesişmektedir.

18.



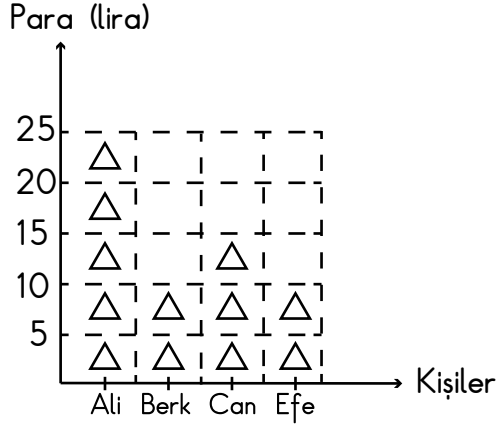
Şekildeki kareli zeminde verilen M harfinin içi en az kaç mavi boyalı üçgenle kaplanabilir?

- A) 8
- B) 12
- C) 16
- D) 24

19. 200 litre süt alabilen bir kazanın $\frac{1}{5}$ 'i doludur. Bu kazandaki sütün tamamı yarım litrelik şişelere doldurulacaktır. Bunun için kullanılacak şişe sayısı en az kaçtır?

- A) 80
- B) 60
- C) 40
- D) 20

20. Grafik: 4 Kişinin Ceplerindeki Paraların Miktarı



Not: Her \triangle şekli 5 lirayı göstermektedir.

Yukarıdaki grafik, dört kişinin ceplerindeki paraların miktarını göstermektedir. Grafığe göre bu dört kişinin paralarının eşit miktarda olması için aşağıdakilerden hangisi yapılmalıdır?

- A) Ali, Berk'e 5 lira ve Efe'ye 10 lira vermelidir.
- B) Ali, Berk'e 5 lira ve Can, Efe'ye 5 lira vermelidir.
- C) Ali, Berk'e 5 lira ve Efe'ye 5 lira vermelidir.
- D) Ali, Berk'e 10 lira ve Can'a 5 lira vermelidir.

MATEMATİK TESTİ BİTTİ.
HAYAT BİLGİSİ TESTİNE GEÇİNİZ.

1. • Atatürk ile bütünleşmiş bir kenttir.
• Türkiye Cumhuriyeti Devleti'nin hem simgesi hem de yönetim merkezidir.

Yukarıda hangi şehirden söz edilmektedir?

- A) İstanbul
B) Erzurum
C) Samsun
D) Ankara

2. Tarihi mekânları aşağıdaki hangi amaç için ziyaret ederiz?

- A) Yemek ve içmek
B) Gezmek ve eğlenmek
C) Geleceğimizi görmek
D) Geçmişimizi öğrenmek

3. Aşağıdaki aylardan hangisinde kutladığımız bir millî bayramımız yoktur?

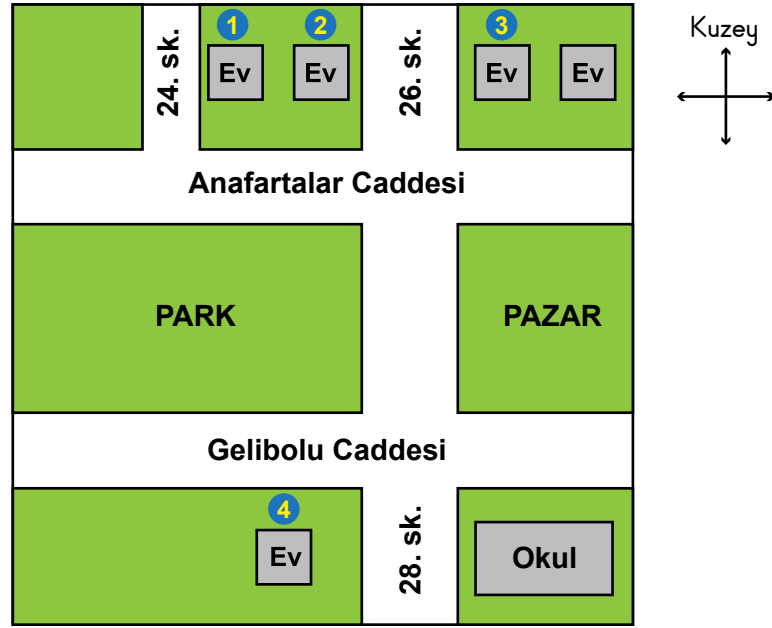
- A) Nisan
B) Eylül
C) Mayıs
D) Ağustos

4. Aşağıdakilerden hangisinde halk kendisini yönetecek kişileri oy vererek seçer?
- A) Cumhuriyet yönetiminde
B) İmparatorluklarda
C) Padişahlıklarda
D) Krallıklarda
5. Ajda: "Kömür gibi olan saçlarım kıvrıktır. Bu yüzden saçlarımı tararken canım yanar. Gözlerim kahverengi, tenim ise esmerdir. Zayıf ve uzun boylu olduğum için annem mutfak dolaplarının üst raflarını bana temizletir. Otuz altı numara ayakkabı giyerim."
- Nihal: "Düz ve sarı saçlıyım. Tenim açık renklidir. Kahverengi gözlerimi güneşten korumak için güneş gözlüğü kullanırım. Uzun boylu olduğum için basketbol oynamayı çok severim fakat kiloluyum. Onun için oyun oynarken çabuk yoruluyorum. Otuz altı numara ayaklarıma her mağazada ayakkabı bulamıyorum."
- Ajda ve Nihal'in yaptıkları bu açıklamalara göre hangi fiziksel özellikleri ortaktır?
- A) Saç ve ten renkleri
B) Boy uzunlukları ve kiloları
C) Ayak ölçüleri, saç tipleri ve kiloları
D) Göz renkleri, boy uzunlukları ve ayak ölçüleri
6. Atatürk'ün önderliğinde yapılan hangi savaşla yurdumuz düşman işgalinden kurtarılmıştır?
- A) 1. İnönü
B) 2. İnönü
C) Sakarya
D) Dumlupınar

7. Aşağıdakilerden hangisinde iyi bir arkadaşın özellikleri bir arada verilmiştir?
- A) Sorumluluk sahibi, neşeli, bencil, düzensiz, yalancı
 - B) Somurtkan, nazik, anlayışlı, oyunbozan, yanlı
 - C) Cesur, kararsız, saldırgan, kavgacı, kötümser
 - D) Dürüst, iyimser, uyumlu, duyarlı, planlı
8. Aşağıdakilerden hangisi Atatürk'ün insan haklarına önem verdiğini gösterir?
- A) Takvimde değişiklik yapması
 - B) Medenî Kanun'u çıkarması
 - C) Askerlik mesleğini seçmesi
 - D) Cumhurbaşkanı olması
9. Mustafa Kemal'in, "Kurmay Yüzbaşı" olarak mezun olduğu okul aşağıdakilerden hangisidir?
- A) İstanbul Harp Okulu
 - B) Manastır Askerî Lisesi
 - C) İstanbul Harp Akademisi
 - D) Selanik Askerî Rüştiyesi

10. Aşağıdakilerden hangisi, Mustafa Kemal'in yurdumuzu düşman işgalinden kurtarmak için yaptığı çalışmalardan biri değildir?
- A) Cumhuriyeti ilan etmesi
 - B) Kurtuluş Savaşı'nı başlatması
 - C) Bandırma vapuru ile Samsun'a gitmesi
 - D) Erzurum ve Sivas'ta toplantılar yapması
11. Aşağıdakilerden hangisi okul başarısını olumsuz etkiler?
- A) Planlı olmak
 - B) Gününü oyunla geçirmek
 - C) Uyku ve dinlenmeye dikkat etmek
 - D) Yeterli ve dengeli beslenmek
12. Dünyayı insanlığın ortak malı ve mirası olarak gören biri, çevreyi korumak için öncelikle aşağıdakilerden hangisini yapar?
- A) Düzenli olarak seyahat eder.
 - B) Sevdiği meslek alanında çalışır.
 - C) Doğal kaynakları bilinçli tüketir.
 - D) Teknolojideki gelişmeleri takip eder.

13 ve 14. soruları aşağıdaki krokiye göre cevaplayınız.



13. Anafartalar Caddesi 24. sokak adresindeki ev krokide kaç numara ile gösterilmektedir?
- A) 1 B) 2 C) 3 D) 4

14. Krokiye göre park, pazarın hangi yönünde yer almaktadır?
- A) Doğu
B) Batı
C) Kuzey
D) Güney

15. Evdeyken depreme yakalanırsak ilk önce aşağıdakilerden hangisini yapmalıyız?

- A) Evi ve apartmanı hızlıca terk etmeliyiz.
- B) Merdivenlere koşarak orada beklemeliyiz.
- C) Sarsıntı geçene kadar pencere kenarında durmalıyız.
- D) Buzdolabı, çamaşır makinesi gibi eşyaların kenarına çökerek kapanmalıyız.

16. Aşağıda, öğrenciler karşıdan karşıya geçerken yaptıkları davranışları birbirlerine anlatmaktadır.

Gülay: Karşıdan karşıya geçerken alt ve üst geçitleri kullanırım.

Ercan: Karşıya geçerken önce yola adım atarım. Bir taraftan yürür, yürürken sağıma soluma bakarım. Böylece zaman kaybetmem!

Ece: Yaya geçitlerini kullanıyorum. Buradaki trafik lambalarına uyar, kırmızıda asla geçmem.

Tarık: Yaya geçitlerinde her zaman trafik polisi olur. Onun işaretlerine göre hareket ederim.

Öğrencilerden hangisinin yaptığı yanlış bir davranıştır?

- A) Gülay
- B) Ercan
- C) Ece
- D) Tarık

17. Ceyhun'un babası bir hafta önce eve yeni bir buzdolabı aldı. Ancak buzdolabı iki üç gün sonra iyi soğutmamaya başladı. Buzdolabındaki yiyecekler kısa sürede bozulup tüketilemez hâle geliyordu.

Ceyhun'un babasının aşağıdakilerden hangisini yapması bilinçli bir tüketici olduğunu gösterir?

- A) Buzdolabını ihtiyacı olan başka bir aileye vermesi
- B) Buzdolabına ödediği parayı, aldığı mağazadan geri istemesi
- C) Eve daha büyük ve daha pahalı yeni bir buzdolabı alması
- D) Buzdolabına ait fatura ve garanti belgesiyle ürünün değiştirilmesini istemesi

18. Aşağıda verilen hava durumlarından hangisi araç kullanımı açısından daha uygundur?

- A) Güneşli, açık hava
- B) Kar yağışlı hava
- C) Sisli hava
- D) Yağmurlu hava

19. Evde tek başımıza iken
- Çakmak, kibrit gibi yanıcı maddelerle oynamamalıyız,
 - Büyüklerin bilgisi olmadan ilaç içmemeliyiz,
 - Bıçak ve makas gibi kesici aletleri kullanmamalıyız,
 - Elektrik prizleri ve temizlik maddelerinden uzak durmalıyız.

Bu kurallara uymamızın öncelikli amacı aşağıdakilerden hangisidir?

- A) Büyüklerimizi üzmemek
B) Öğretmenlerimizin sözünü tutmak
C) Arkadaşlarımızın övgüsünü kazanmak
D) Evde meydana gelebilecek tehlikeleri önlemek

20. Evimiz bizi kötü hava koşullarından, tehlikeli hayvan ve insanlardan korur. Dinlenip güven içinde uyuduğumuz yerdir.

Metne göre evimiz hangi temel ihtiyacımızı karşılamaktadır?

- A) Barınma
B) Seyahat etme
C) Seçme seçilme
D) Beslenme

HAYAT BİLGİSİ TESTİ BİTTİ.
FEN BİLİMLERİ TESTİNE GEÇİNİZ.

1. Göz sağlığının korunması ile ilgili olarak aşağıda verilenlerden hangisi doğrudur?

- A) Güneşe güneş gözlüğü olmadan uzun süre bakılması
- B) Okuma ve yazma sırasında odanın çok ışıklı olması
- C) Televizyon ve bilgisayar ekranına sürekli yakından bakılması
- D) Okuma sırasında kitap ile göz arasında uzaklığın 25-30 cm olması

2. Aşağıdakilerden hangisini dişlerimizin sağlığını korumak için yapmalıyız?

- A) Düzenli olarak fırçalayıp temiz tutmalıyız.
- B) İçecekleri sürekli çok soğuk olarak içmeliyiz.
- C) Fındık ve cevizi ağızımızda kırarak yemeliyiz.
- D) Asitli ve gazlı içecekleri daha fazla tüketmeliyiz.

3. Ayşe, kırmızı ve yeşil renkli elmaların bulunduğu meyve tabağından yeşil renkli ve yumuşak bir elmayı seçerek alıp yiyor.

Ayşe bu seçiminde hangi duyu organlarını kullanmıştır?

- A) Göz ve deri
- B) Sadece göz
- C) Dil ve deri
- D) Dil, göz, burun

4.

Mutfaktaki çöp kutusu dolunca bahçeye dökerim.



Umut

Kullanılmış pilleri kalem kutumda saklıyorum. Çevre temiz kalıyor.



Ayşe

Kullandığım kağıt mendilleri çöp kutusuna atarım.



Serkan

Yukarıdaki öğrencilerden hangilerinin söyledikleri davranışlar çevre sağlığı için uygundur?

- A) Yalnızca Ayşe
C) Umut ve Ayşe

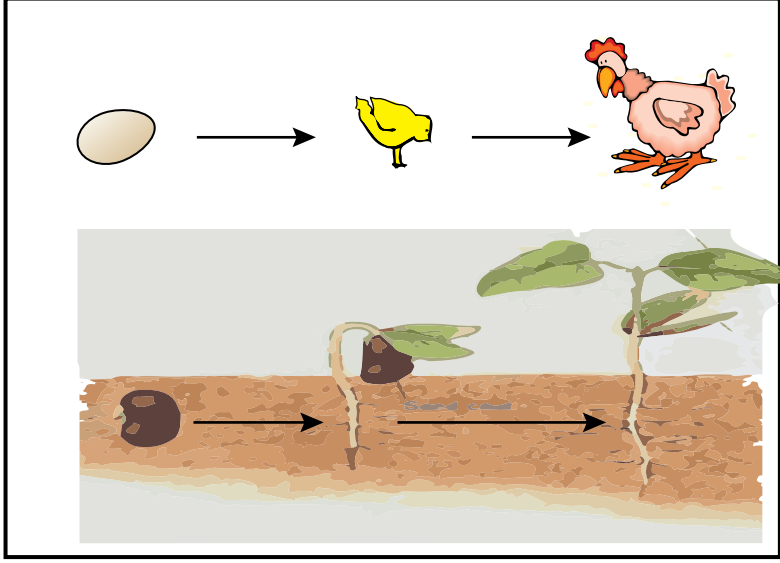
- B) Yalnızca Serkan
D) Umut ve Serkan

5. Çevremizde bazı yerler doğal, bazı yerler ise yapay çevre olarak adlandırılabilir.

Aşağıdakilerden hangisi doğal çevreye örnek verilebilir?

- A) Çeşitli hayvanların bulunduğu hayvanat bahçesi
B) İçinde balıkların ve bitkilerin bulunduğu akvaryum
C) Çeşitli bitkilerin ve hayvanların bulunduğu orman
D) Oyun ve dinlenme parklarının bulunduğu şehir

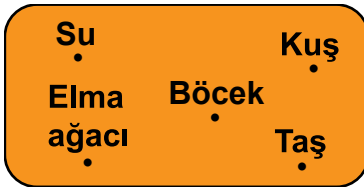
6.



Şekilde verilen canlılarla ilgili hangi durum anlatılmıştır?

- A) Beslenmeleri
B) Yaşadıkları yer
C) Yer değiştirmeleri
D) Büyümeleri


7. Kartta verilen varlıklar iki gruba ayrılacaktır.



Bu gruplama aşağıdakilerden hangisi gibi olur?

- A) Bitkiler ve hayvanlar
B) Canlı varlıklar ve cansız varlıklar
C) Büyük vücutlu canlılar ve cansız varlıklar
D) Yer değiştiren ve yer değiştirmeyen canlı varlıklar

8. Bir okulda Fen Bilimleri dersinde kullanılacak araç-gereç kutularından bazılarının üzerinde şekildeki uyarı vardır.



Bu şekille anlatılmak istenen uyarı aşağıdakilerden hangisidir?

- A) Temizlik maddelerinin tadına bakmayınız, sadece dokunabilirsiniz.
- B) Keskin ve sivri uçlu aletlerle çalışırken dikkatli olunuz.
- C) Ellerinizi işiniz bittikten sonra mutlaka yıkayınız.
- D) Bilmediğiniz maddelerle çalışırken eldiven giyiniz.

9. • Kahve kokulu, limon ekşidir.
• Portakal suyu turuncu, süt beyaz renklidir.
• Taş sert, sünger yumuşaktır.

Verilen bu bilgilerden maddelerle ilgili hangi sonuç çıkarılabilir?

- A) Hepsinin kokusu vardır.
- B) Farklı özelliklere sahip olabilirler.
- C) Hepsinin renkleri birbirinin aynısıdır.
- D) Şekilleri birbirine benzer.

10.

Dolabıma bir şey sakladım. Özelliklerini de tabloya işaretledim. Bilin bakalım bu nedir?



Hülya

Sert	Esnek	Kırılgan	Kokusuz
√		√	√

Buna göre Hülya'nın dolaba sakladığı eşya aşağıdakilerden hangisi olabilir?

- A) Paket lastiği
C) Su bardağı

- B) Basketbol topu
D) Karton kutu

11.

- Fişi prize takarken elimiz kuru olmalıdır.
 Çalışan ütünün fişi kablosundan çekilerek prizden çıkartılır.
 Bozulan bütün elektrikli araç-gereçleri kendimiz tamir etmeliyiz.

Verilen ifadelerdeki kutucuklara yukarıdan aşağıya D (Doğru), Y (Yanlış) yazıldığında doğru sıralama aşağıdakilerden hangisi olur?

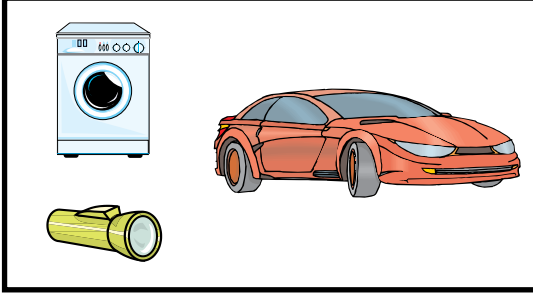
- A) D
 Y
 Y

- B) D
 D
 Y

- C) Y
 Y
 D

- D) D
 Y
 D


12. Elektrikli araç-gereçlerden bazıları şekilde verilmiştir.



Bunların yaygın olarak kullanılan elektrik kaynağına göre sınıflandırılması aşağıdakilerin hangisinde doğru verilmiştir?

- | | <u>Çamaşır makinesi</u> | <u>El lambası</u> | <u>Otomobil</u> |
|----|-------------------------|-------------------|-----------------|
| A) | Pil | Akü | Şehir elektriği |
| B) | Şehir elektriği | Şehir elektriği | Akü |
| C) | Pil | Şehir elektriği | Batarya |
| D) | Şehir elektriği | Pil | Akü |
13. Hakan'ın oturduğu mahallede akşam elektrikler kesilmişti. Hakan perdeyi açınca yıldızları gördü. Yoldan geçen arabaların lambaları yolu aydınlatıyordu. Hakan daha sonra odasındaki mumu yaktı.
- Hakan'ın o akşam gördüğü ışık kaynakları için aşağıdakilerden hangisi doğrudur?
- A) Hepsi yapay ışık kaynağıdır.
 B) Hepsi doğal ışık kaynağıdır.
 C) Yıldızlar doğal, araba lambası ve mum yapay ışık kaynağıdır.
 D) Yıldızlar ve mum doğal, araba lambası yapay ışık kaynağıdır.

14. Öğretmen sınıfta öğrencilerine "Hangi resimde masadaki meyveleri daha net görebiliriz?" sorusunu soruyor.



Öğretmenin bu sorusu aşağıdakilerden hangisiyle ilgilidir?

- A) Işığın görmemizdeki etkisi
B) Işığı tasarruflu kullanma
C) Yapay ışık kaynakları
D) Eskiden evlerde kullanılan ışık kaynakları
15. Ahmet'in kardeşi elinde tuttuğu radyoyu dinlemektedir. Ahmet kendisinden biraz uzakta bulunan kardeşinin dinlediği radyodan çıkan sestən rahatsız oluyor.

Aşağıdaki durumlardan hangisi yapılırsa Ahmet gürültüden rahatsız olmaz?

- A) Ahmet radyoya yaklaşırsa
B) Kardeşi radyonun sesini açarsa
C) Ahmet kardeşinden uzaklaşırsa
D) Kardeşi Ahmet'e doğru gelirse


16. Tabloda bazı ses kaynakları numaralanarak verilmiştir.

Deniz dalgası ①	Çalışan radyo ②	Rüzgârın ağaç dalını sallaması ③
Çamaşır makinesi ④	Çatıdaki güvercinler ⑤	Otomobil kornası ⑥

Hangi numarayla gösterilen kaynakların tamamı yapay ses üretir?

- A) 1, 3, 5 B) 2, 4, 6 C) 3, 4, 5 D) 4, 5, 6

17. İçinde su kaynayan bir kaba, buz parçaları şekildeki gibi konularak sürekli ısıtılıyor.




Bu durumda kullanılan maddenin hangi hâlleri gözlemlenir?


- A) Katı, sıvı, gaz
B) Yalnızca katı ve gaz
C) Yalnızca katı ve sıvı
D) Önce sıvı sonra katı

18. Aşağıdakilerin hangisinde çekme kuvveti uygulanmıştır?

A)




B)



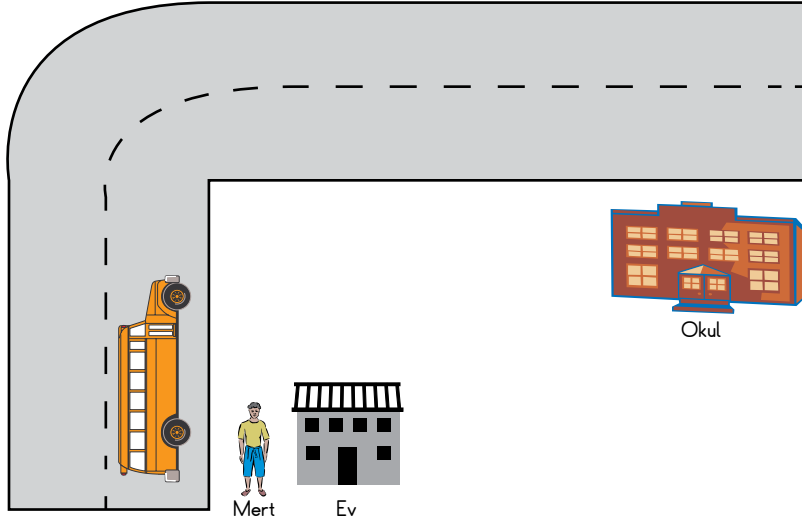
C)



D)



19. Okul servisi Mert'i evinden alarak şekildeki yolu kullanıp okula götürmektedir.



Buna göre servisin hareketi, kuvvetin hangi etkisine örnek verilebilir?

- A) Dönme
- B) Sadece hızlanma
- C) Yön değiştirme
- D) Sadece yavaşlama

20. Aşağıdaki durumların hangisinde varlığın hareketi için dışardan bir kuvvet uygulanması gerekmez?

- A) Kelebeğin uçuşması
- B) Bisikletin yolda gitmesi
- C) Ayakla vurulan topun yuvarlanması
- D) Ağaç dallarının rüzgâr eserken sallanması

TEST BİTTİ.
CEVAPLARINIZI KONTROL EDİNİZ.

SINAV BAŞLAMADAN AŞAĞIDAKİ UYARILARI MUTLAKA OKUYUNUZ!

1. Öğrenciler, sınav kurallarına ve salon görevlilerinin tüm uyarılarına uymak zorundadırlar.
2. Cevap kâğıdındaki kimlik bilgilerinin doğruluğunu kontrol ediniz. Bilgiler size ait değilse veya cevap kâğıdı kullanılmayacak durumdaysa sınav görevlilerine bildirin.
3. Sınav başladıktan sonra öğrencilerin salon görevlileri ve birbirleri ile konuşmaları, kalem, silgi vb. şeyleri istemeleri yasaktır.
4. Değiştirmek istediğiniz bir cevabı, yumuşak silgiyle cevap kâğıdını yıpratmadan temizce siliniz ve yeni cevabınızı kodlayınız.
5. Cevap kâğıdınızı silinmeyen bir kalemle imzalayınız.
6. Cevaplarınızı, cevap kâğıdındaki ilgili soru numarasını dikkate alarak yuvarlağın dışına taşırmadan kodlayınız.
7. Soru kitapçığının sayfalarını kontrol ediniz, baskı hatası var ise değiştirilmesini sağlayınız.
8. Soru kitapçığı üzerinde yapılp cevap kâğıdına işaretlenmeyen cevaplar değerlendirmeye alınmayacaktır.
9. Soru kitapçığının içindeki boş alanları çözümlerinizi için kullanabilirsiniz.
10. Cevaplamaya istediğiniz sorudan başlayabilirsiniz.
11. Cevabını bilmediğiniz sorular üzerinde fazla zaman kaybetmeden diğer sorulara geçiniz. Zamanınız kalırsa bu sorulara daha sonra dönebilirsiniz.
12. Sınav puanınızın hesaplanmasında 3 yanlış 1 doğru cevabınızı götürcektir. Alt testler bu şekilde hesaplanarak net puanlarının toplamı toplam net puanınızı verecektir.
13. Sınav bitiminde, soru kitapçığı ve cevap kâğıdını salon görevlilerine teslim ediniz.
14. Sınav sırasında sözlük, hesap makinesi, saat fonksiyonu dışında özellikleri bulunan saat veya çağrı cihazı, cep telefonu, telsiz, radyo ve bilgisayar özelliği bulunan elektronik cihazları yanınızda bulundurmanız hâlinde sınavınız geçersiz sayılacaktır.
15. Cevap kâğıdınızı sınav süresince hiçbir öğrencinin göremeyeceği şekilde önünüzde bulundurunuz.
16. Sınavınızın değerlendirilmesi aşamasında, toplu kopya tespiti veya başka adayın sınav evrakını kullanmanız durumunda sınavınız geçersiz sayılacaktır.
17. Soruları ve sorulara verdiğiniz cevapları kaydetmeyiniz, hiçbir şekilde dışarı çıkarmayınız.
18. İlk 15 dakika dışarı çıkılmayacaktır.
19. Sınav evraklarını teslim etmeyenlerin sınavı geçersiz sayılacaktır.

SINAV GÖREVLİLERİNCE SINAV BAŞLAMADAN ÖNCE ÖĞRENCİLERE YAPILACAK SON UYARI!

- Soracağınız bir şey var mı? Varsa, şimdi sorunuz.
- Sınav başladıktan sonra sorularınıza cevap verilmeyecektir.
- Başlama zilini bekleyiniz.

Hepinize başarılar dileriz.

(Sınav görevlisi başlama ve bitiş saatini tahtaya yazacaktır.)

Bu kitapçığın her hakkı saklıdır. Hangi amaçla olursa olsun, kitapçığın tamamının veya bir kısmının Millî Eğitim Bakanlığı Ölçme, Değerlendirme ve Sınav Hizmetleri Genel Müdürlüğünün yazılı izni olmadan kopya edilmesi, fotoğraflarının çekilmesi, bilgisayar ortamına alınması, herhangi bir yolla çoğaltılması, yayımlanması veya başka bir amaçla kullanılması yasaktır. Bu yasağa uymayanlar, doğabilecek cezai sorumluluğu ve kitapçığın hazırlanmasındaki mali külfeti peşinen kabullenmiş sayılır.

**5 HAZİRAN 2016 TARİHİNDE YAPILAN TED ANKARA KOLEJİ VAKFI
ÖZEL İLKOKULU VE ORTAOKULU SEÇME SINAVI
4. SINIFLAR "B" KİTAPÇIĞI CEVAP ANAHTARI**

TÜRKÇE	MATEMATİK	HAYAT BİLGİSİ	FEN BİLİMLERİ
1. B	1. C	1. D	1. D
2. D	2. A	2. D	2. A
3. B	3. D	3. B	3. A
4. A	4. B	4. A	4. B
5. D	5. C	5. D	5. C
6. B	6. A	6. D	6. D
7. A	7. B	7. D	7. B
8. D	8. C	8. B	8. D
9. B	9. B	9. C	9. B
10. C	10. A	10. A	10. C
11. D	11. D	11. B	11. A
12. C	12. B	12. C	12. D
13. A	13. C	13. A	13. C
14. A	14. A	14. B	14. A
15. D	15. D	15. D	15. C
16. B	16. C	16. B	16. B
17. C	17. B	17. D	17. A
18. A	18. D	18. A	18. B
19. C	19. A	19. D	19. C
20. A	20. C	20. A	20. A