

3.
SINIF



A
KİTAPÇIK TÜRÜ

T.C.
MİLLÎ EĞİTİM BAKANLIĞI
ÖLÇME, DEĞERLENDİRME VE SINAV HİZMETLERİ
GENEL MÜDÜRLÜĞÜ

ÖZEL EĞİTİM VE REHBERLİK HİZMETLERİ GENEL MÜDÜRLÜĞÜ
BİLİM VE SANAT MERKEZLERİ ÖĞRENCİ SEÇME SINAVI
22 MART 2015 Saat: 10.00

Adı ve Soyadı :
Sınıfı :
Öğrenci Numarası :

DERS ADI	SORU SAYISI	TOPLAM SORU SAYISI	SINAV SÜRESİ (DAKİKA)
TÜRKÇE	14	40	75
MATEMATİK	14		
GENEL YETENEK	12		

ÖĞRENCİLERİN DİKKATİNE!

1. Sınıf öğrenci yoklama listesinde belirtilen sınıfta ve sıra numarasında oturunuz.
2. Cevap kâğıdındaki kimlik bilgilerinin doğruluğunu kontrol ediniz.
3. Kitapçık türünü cevap kâğıdındaki ilgili alana kodlayınız.
4. Cevap kâğıdı üzerindeki kodlamaları kurşun kalemle yapınız.

SINAV BAŞLAMADAN ÖNCE KİTAPÇIĞIN ARKA KAPAĞINDAKİ UYARILARI MUTLAKA OKUYUNUZ.



3. SINIF TÜRKÇE

Bu bölümde 14 soru vardır.
Cevaplarınızı cevap kağıdının Türkçe bölümüne işaretleyiniz.

1. Çok sözünü az söyle, az sözünü öz söyle.

Aşağıdakilerden hangisi bu atasözündeki gibi düşünen birinin özelliğidir?

- A) Gururlu B) Kararlı C) Saygılı D) Ölçülü

2. **Aşağıdakilerin hangisinde “ateş-kül” arasındaki anlam ilişkisinin benzeri vardır?**

- A) Eser-yapıt B) Dinozor-fosil C) Su-dalga D) Rüzgar-fırtına

3. Bekleyerek geçirdiği onca zamandan sonra artık elini taşın altına koymasına gerektiğini düşünüyordu.

Bu cümledeki “elini taşın altına koymak” deyimıyla anlatılmak istenen aşağıdakilerden hangisidir?

- A) Ağır yükleri kaldırmaya çalışmak
B) Tehlike karşısında umursamaz davranmak
C) Bir konuda sorumluluk üstlenmek
D) Sabırlı olmak

4.

Her yanı ormanlarla kaplı olan Abant Gölü'nün çevresindeki ağaçlar, hoş kokularıyla buraya başka bir güzellik katıyor. Gölün konukları, gölün çevresindeki yolda kiralık atlarla nal sesleri eşliğinde gezilere çıkabiliyorlar. Çevrede dolaştıktan sonra toprağa basarak açık havada piknik yapmanın tadına ise doyum olmuyor.

Bu metindeki duyular aşağıdaki tabloların hangisinde verilmiştir?

A)

Koku	X
İşitme	X
Görme	X
Dokunma	
Tatma	

B)

Koku	X
İşitme	
Görme	
Dokunma	X
Tatma	X

C)

Koku	
İşitme	X
Görme	X
Dokunma	
Tatma	X

D)

Koku	X
İşitme	X
Görme	
Dokunma	
Tatma	X

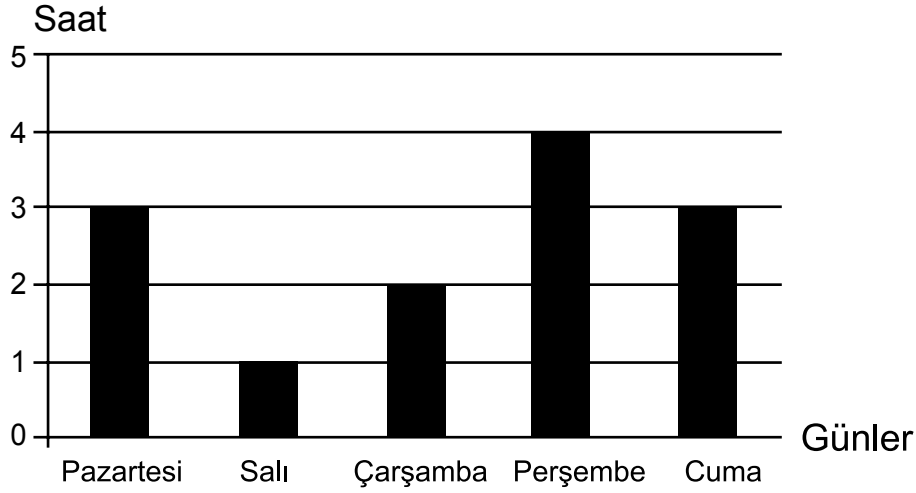
5. Sanatçı her yüzyılda topluma ışık tutan eserleriyle hatırlanacak.

Bu cümledeki altı çizili sözle anlatılmak istenen aşağıdakilerden hangisidir?

- A) Bilgilendirmek
C) Yetiştirmek

- B) Yol göstermek
D) Akıl vermek

6.



Grafikte, Elif'in beş günlük ders çalışma süresi gösterilmiştir.

Buna göre grafikte ilgili aşağıdakilerden hangisi söylenemez?

- A) En çok perşembe günü çalışmıştır.
 B) Pazartesi ve cuma günlerinde çalıştığı süreler birbirine eşittir.
 C) Perşembe günü, pazartesi ve çarşamba günlerinin toplamından daha çok çalışmıştır.
 D) Salı ve çarşamba günleri çalıştığı toplam süre, pazartesi günü çalıştığı süreye eşittir.

7. ★ Zeytinyağı geçmişte öncelikli olarak beslenme amacıyla kullanılmamış, bir güzellik malzemesi olmuştur.

□ Günümüzde ise zeytinyağı daha çok beslenme amacıyla kullanılmaktadır.

♥ Ayrıca yakacak olarak kandillerde de kullanılmıştır.

☾ İnsanlar vücutlarını onunla ovarak parlatmış ve yumuşatmışlardır.

Şekillerle gösterilmiş cümlelerle anlamlı bir metin oluşturulması için hangi iki şeklin yer değiştirmesi gerekir?

A) ☾ - □

B) ♥ - ★

C) □ - ♥

D) ★ - ☾



8. (1) Körfez üç yandan kara ile çevriliydi ve ağaçlar deniz kıyısına kadar iniyordu. (2) İki küçük derecik bu bölgeye dökülüyordu. (3) Oradaki bitkilerin yeşilinin başka bir canlılığı vardı. (4) Bu güzelliği doyasıya seyretmek için sabah erken saatlerde kıyıya inerdim.

Numaralanmış cümlelerin hangisinde amaç-sonuç ilişkisi vardır?

A) 1

B) 2

C) 3

D) 4

9. Sevgili Yavrum,

Senin hızlı okuyamadığını bildiğim için bu mektubu yavaş yavaş yazıyorum. Artık senin büyük şehre gittiğin sırada yaşadığımız evde yaşamıyoruz. Baban bir gazetede, insanların başına genellikle evlerinin yakınında kaza geldiğini okumuş. O yüzden uzağa taşındık. Sana yeni adresi veremiyorum çünkü yeni evimizde bizden önce oturan hemşehrilerimiz taşınınca adresleri değişmesin diye kapı numarasını söküp götürmüşler.

Bu mektupta mantığa uymayan kaç durum vardır?

A) 1

B) 2

C) 3

D) 4

10. Uykulu araç kullanmayınız.

Otoyoldaki levhada yazan bu uyarı cümlesi yanlış anlaşılmaya sebep olmaktadır. Bu durum aşağıdakilerden hangisi ile düzeltilemez?

- A) Aracınızı uykulu kullanmayınız.
- B) Uykuluyken araç kullanmayınız.
- C) Uykusuz araç kullanabilirsiniz.
- D) Uykuluysanız araç kullanmayınız.

11.



- (1) Şu daldaki sevimli sincaba da bakınız, ömrümde böylesine güzel bir hayvan görmedim!
- (2) Elindeki fıncığı yiyor.
- (3) Sincaplar ormanlık ve ağaçlık bölgeler ile parklarda yaşar.
- (4) Boyları 18-25 cm, kuyukları ise 14-20 cm kadardır.

Bu metinde numaralanmış cümlelerin hangisinde yorum vardır?

- A) 1
- B) 2
- C) 3
- D) 4

12. 1. Burada kitap, gazete satan dükkanlar var.
2. Demek bu küçük yerde bunların hepsi okunuyor.
3. Baktığım her yer her dilden okunacak kitaplarla dolu.
4. Temiz, geniş bir tren istasyonundan geçtik.

Numaralanmış cümlelerle anlamlı bir metin oluşturulmak istenirse sıralama nasıl olur?

- A) 1 - 2 - 4 - 3
- B) 1 - 3 - 4 - 2
- C) 4 - 3 - 2 - 1
- D) 4 - 1 - 3 - 2



3. SINIF MATEMATİK

Bu bölümde 14 soru vardır.

Cevaplarınızı cevap kağıdının Matematik bölümüne işaretleyiniz.

1. Bir kolide düzine ve desteler halinde paketlenmiş kalemler bulunmaktadır. Toplam 86 kalem bulunduğu kolide 8 paket olduğuna göre bu paketlerden kaç tanesi destelenmiş pakettir?

A) 3 B) 4 C) 5 D) 6


2. Beş arkadaş gittikleri müzede bilet sırasına girmişlerdir:

- Burçin, Ali ile Can'ın arasındadır.
- Deniz sıranın en sonundadır.
- Ali ile Elif arka arkaya değildir.

Sırada bu beş kişiden başka kimse olmadığına göre, sıranın en başında kim olabilir?

A) Elif B) Can C) Burçin D) Deniz

3.



Yukarıdaki noktalı kâğıt üzerine, köşeleri noktalara gelecek şekilde en çok, kaç tane kare çizilebilir?

A) 6 B) 8 C) 10 D) 11



4.

$$\begin{array}{r} K K K \\ + K K K \\ \hline L L L \end{array}$$

$$\begin{array}{r} L L L \\ + L L L \\ \hline M M M \end{array}$$

$$\begin{array}{r} M M M \\ + M M M \\ \hline N N N \end{array}$$

Yukarıda verilen üç basamaklı sayılarla yapılan toplama işlemlerine göre, N kaç tane K'ye eşittir?

A) 4

B) 8

C) 16

D) 24

5. Derya'nın bugünkü yaşı ablasının yaşının çeyreği kadardır. Ablası bugün 20 yaşında olduğuna göre, kaç yıl sonra yaşları toplamı Derya'nın bugünkü yaşının 9 katı olur?

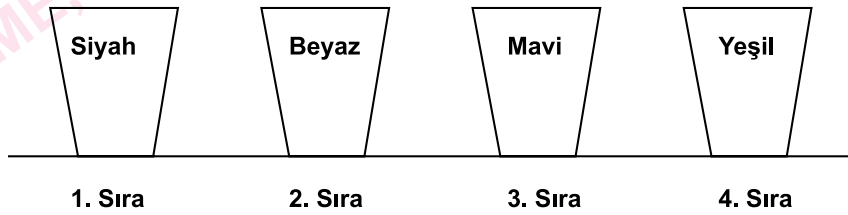
A) 25

B) 20

C) 15

D) 10

6.



Farklı renklerdeki bardakların sıralanışı yukarıda gösterilmiştir. Önce 2. sıradaki ile 3. sıradaki bardağın, sonra 2. sıradaki ile 4. sıradaki bardağın, daha sonra da 1. sıradaki ile 4. sıradaki bardağın yeri değiştirilmiştir. Son durumda 1. sıradaki bardağın rengi nedir?

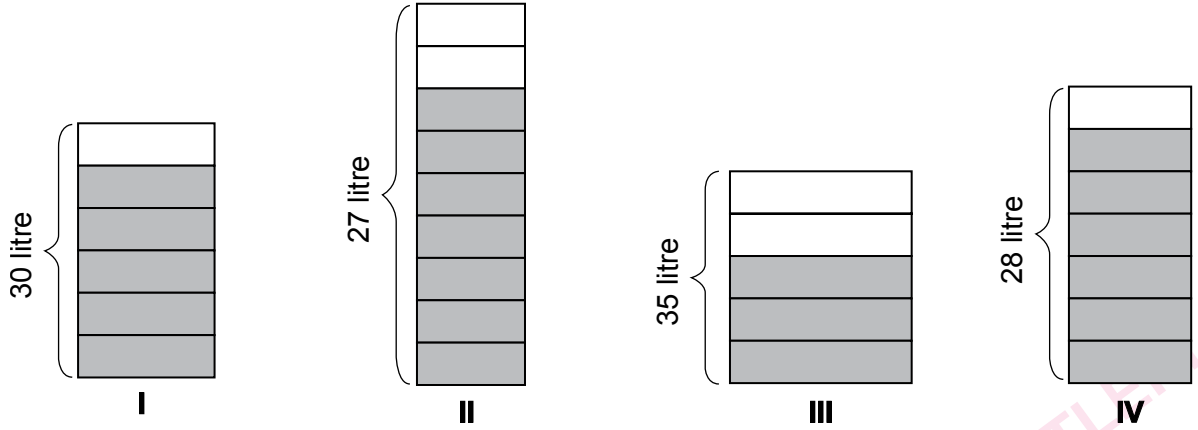
A) Siyah

B) Beyaz

C) Yeşil

D) Mavi

7.



Yukarıdaki kapların en fazla alabilecekleri su ve içlerindeki su miktarı gösterilmiştir. Hangi kaptaki su hiç artmayacak şekilde 2 litrelik sürahileri tam doldurabilir?

A) IV.

B) III.

C) II.

D) I.

8.

$$\begin{array}{r}
 \text{D E} \\
 \times 4 \text{ F} \\
 \hline
 - - \\
 + 9 6 \\
 \hline
 - - 4
 \end{array}$$

Yukarıdaki çarpma işleminde her harf farklı bir rakamı gösterdiğine göre, $D + E + F$ toplamı kaçtır?

A) 4

B) 5

C) 6

D) 7

9.

0,1,2,4,6,8,9

Yukarıdaki dijital rakamlardan simetriye sahip olanlarla yazılabilecek, rakamları farklı üç basamaklı en büyük doğal sayı ile rakamları farklı üç basamaklı en küçük doğal sayının toplamı kaçtır?

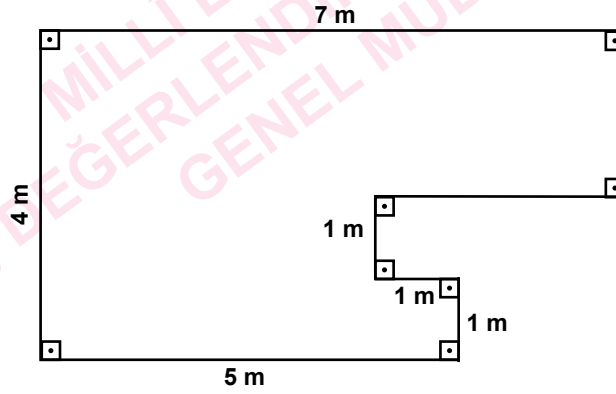
A) 828

B) 918

C) 922

D) 990

10.



Yukarıdaki şekilde verilen arazinin çevresini dikenli tellerle çevirmek isteyen bir kişinin, 1'er metre aralıklarla telleri bağlayacağı direklerden kaç tane dikmesi gerekir?

A) 22

B) 24

C) 25

D) 26



11. Bir kırtasiyede, aynı üründen tek sayıda alındığında ürün başına 3 TL, cift sayıda alındığında ürün başına 2 TL indirim uygulanmaktadır. Bu kırtasiyeden etiket fiyatına göre, tanesi 9 TL olan 30 adet defter ve tanesi 8 TL olan 35 adet kalem alınırsa kaç TL ödenmesi gerekir?

A) 445

B) 390

C) 385

D) 315

12. Demet, yeni evlerine taşınırken kitaplarını küçük kutulara yerleştirecektir. Kutulara kitapları dörder dörder yerleştirirse 1 kitap artıyor, beşer beşer yerleştirirse 2 kutu boş kalıyor. Demet'in kaç kitabı vardır?

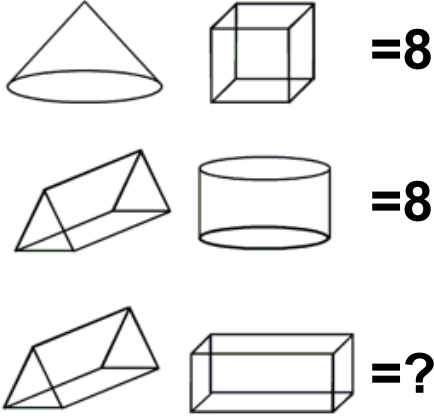
A) 41

B) 45

C) 49

D) 53

13.



Yukarıdaki geometrik cisimler ile sayılar arasında aynı ilişki olduğuna göre, soru işareti yerine hangi sayı gelmelidir?

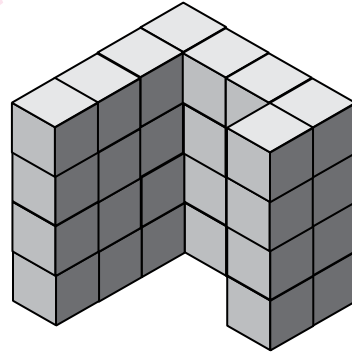
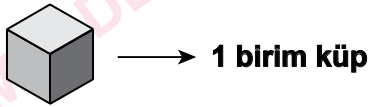
A) 36

B) 30

C) 11

D) 8

14.



Birbirinden bağımsız birim küplerden oluşan, yukarıdaki şekilde en az kaç tane birim küp vardır?

A) 32

B) 29

C) 26

D) 20

MATEMATİK TESTİNİZ BİTTİ.
GENEL YETENEK TESTİNE GEÇİNİZ.

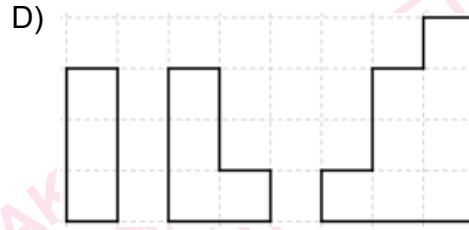
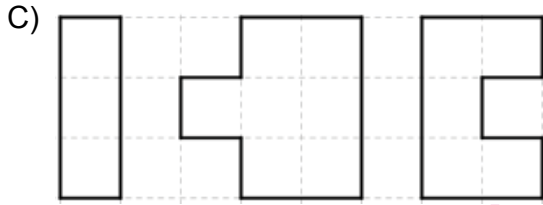
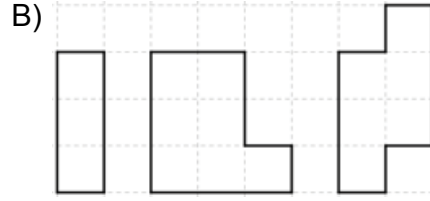
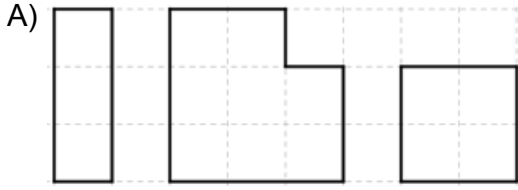


3. SINIF GENEL YETENEK

Bu bölümde 12 soru vardır.

Cevaplarınızı cevap kağıdının Genel Yetenek bölümüne işaretleyiniz.

1. Aşağıdakilerin hangisinde kareli kağıt üzerine çizilmiş şekillerin tamamı kullanılarak bir dikdörtgen oluşturulamaz? (Şekiller döndürülebilir.)



T.C. MİLLÎ EĞİTİM BAKANLIĞI
MİLLÎ EĞİTİM BAKANLIĞI
ÖLÇME, DEĞERLENDİRME VE SINAV HİZMETLERİ GENEL MÜDÜRLÜĞÜ

2.



Bu şekil döndürüldüğünde aşağıdakilerden hangisi elde edilemez?

A)



B)



C)



D)




3.



Bu şekildeki boşluğu aşağıdakilerden hangisi tamamlar?



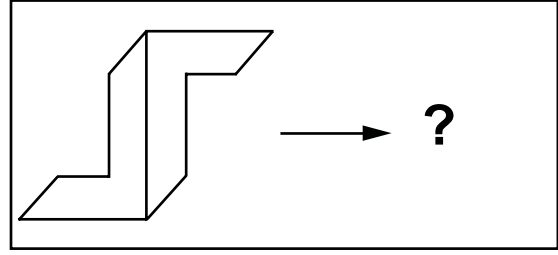
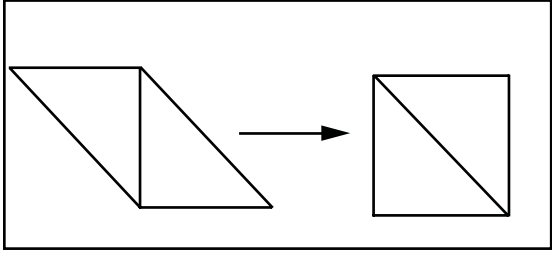
4.



Soru işaretlerinin bulunduğu sıra aşağıdakilerden hangisi olmalıdır?

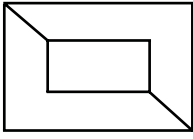


5.

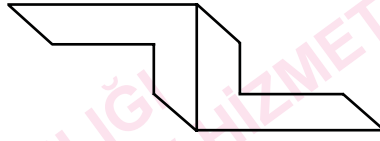


Soru işareti yerine aşağıdakilerden hangisi gelmelidir?

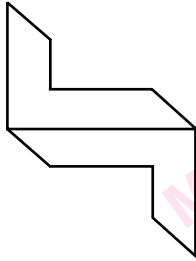
A)



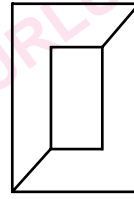
B)



C)



D)





Aşağıdaki soruda, her harf ile bir sayının eşleştiği sözcükler bulunmaktadır. Bu sözcüklerden birinin sayısal eşleştirmesini bulmanız istenecektir.

Örneğin R harfi 3, A harfi 4, K harfi 7 ile gösterildiğinde RAK 347, KAR 743, ARK 437 olarak eşleştirilmiştir.

6.

Sözcükler	Sayısal eşleştirme (karışık şekilde)
E Ş M E	
Ş E M E	5484, 8454, 4584, 4848
M E Ş E	
E M E M	

M E Ş E hangi sayıdır?


A) 5484

B) 8454

C) 4584

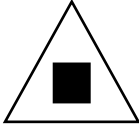
D) 4848

7.



Soru işareti yerine, aşağıdaki şekillerden hangisi gelmelidir?

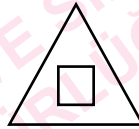
A)



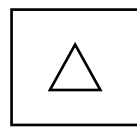
B)



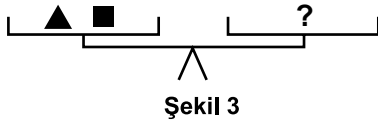
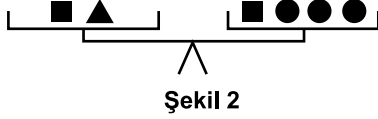
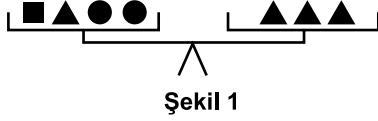
C)



D)



8.



Şekil 1 ve Şekil 2'deki eşit kollu teraziler, kefelelerindeki ■ , ▲ , ● cisimleriyle şekil-
deki gibi dengededir. Şekil 3' teki eşit kollu terazinin de dengede olabilmesi için
boş olan kefeye kaç tane ● şekli gelmelidir?

A) 13

B) 11

C) 9

D) 7

9. Bir postacı K, L, M ve N semtlerine mektup dağıtacaktır. Postacının otobüs, metro
ve vapur ile ulaşabildiği semtler arası seferler şu şekildedir:

- K ve L semtleri arasında metro ve vapur
- L ve M semtleri arasında otobüs ve metro
- K ve M semtleri arasında sadece otobüs
- M ve N semtleri arasında sadece vapur

çalışmaktadır. Yağmurlu günlerde vapur çalışmadığına göre K semtinden yola çıkan
bir postacı yağmurlu bir günde hangi semte ulaşamaz?

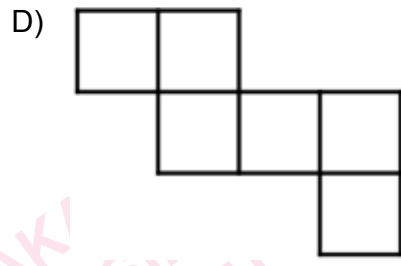
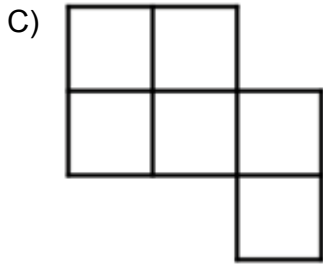
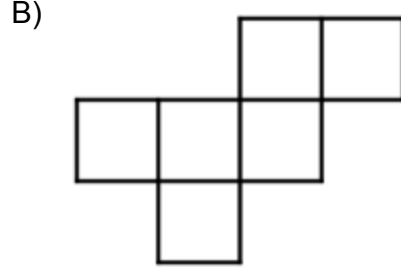
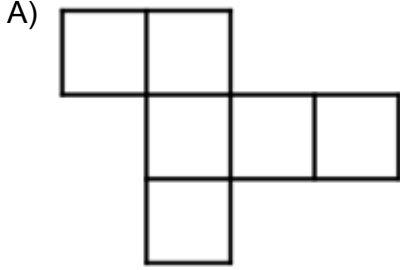
A) N

B) L

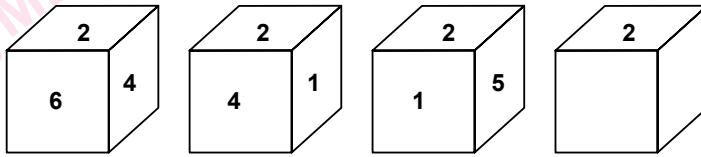
C) M

D) K

10. Aşağıdakilerden hangisi küpün açılımı değildir?



11.



Yüzeylerine 1'den 6'ya kadar sayılar verilen küpün farklı yönlerden görünüşleri yukarıda verilmiştir. Son şekildeki küpün alt yüzeyindeki sayı kaçtır?

A) 1

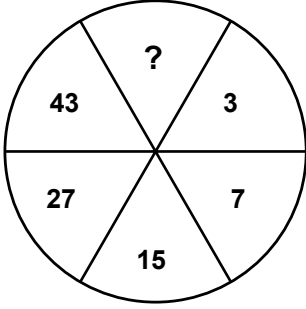
B) 3

C) 4

D) 6



12.



Yukarıdaki şekilde soru işareti yerine hangi sayı gelmelidir?

A) 70

B) 64

C) 63

D) 49

T.C. MİLLÎ EĞİTİM BAKANLIĞI
ÖLÇME, DEĞERLENDİRME VE SINAV HİZMETLERİ GENEL MÜDÜRLÜĞÜ

TEST BİTTİ
CEVAPLARINIZI KONTROL EDİNİZ.

SINAV BAŞLAMADAN AŞAĞIDAKİ UYARILARI MUTLAKA OKUYUNUZ!

1. Öğrenciler, sınav kurallarına ve salon görevlilerinin tüm uyarılarına uymak zorundadırlar.
2. Cevap kâğıdındaki kimlik bilgilerinin doğruluğunu kontrol ediniz. Bilgiler size ait değilse veya cevap kâğıdı kullanılmayacak durumdaysa sınav görevlilerine bildirin.
3. Sınav başladıktan sonra öğrencilerin salon görevlileri ve birbirleri ile konuşmaları, kalem, silgi vb. şeyleri istemeleri yasaktır.
4. Değiştirmek istediğiniz bir cevabı, yumuşak silgiyle cevap kâğıdını yıpratmadan temizce siliniz ve yeni cevabınızı kodlayınız.
5. Cevap kâğıdınızı silinmeyen bir kalemle imzalayınız.
6. Cevaplarınızı, cevap kâğıdındaki ilgili soru numarasını dikkate alarak yuvarlağın dışına taşırmadan kodlayınız.
7. Soru kitapçığının sayfalarını kontrol ediniz, baskı hatası var ise değiştirilmesini sağlayınız.
8. Soru kitapçığı üzerinde yapıp cevap kâğıdına işaretlenmeyen cevaplar değerlendirmeye alınmayacaktır.
9. Soru kitapçığının içindeki boş alanları çözümlerinizi için kullanabilirsiniz.
10. Cevaplamaya istediğiniz sorudan başlayabilirsiniz.
11. Cevabını bilmediğiniz sorular üzerinde fazla zaman kaybetmeden diğer sorulara geçiniz. Zamanınız kalırsa bu sorulara daha sonra dönebilirsiniz.
12. Sınav puanınızın hesaplanmasında sadece doğru cevaplarınız dikkate alınacaktır.
13. Sınav bitiminde, soru kitapçığı ve cevap kâğıdını salon görevlilerine teslim ediniz.
14. Sınav sırasında sözlük, hesap makinesi, saat fonksiyonu dışında özellikleri bulunan saat veya çağrı cihazı, cep telefonu, telsiz, radyo ve bilgisayar özelliği bulunan elektronik cihazları yanınızda bulundurmanız hâlinde sınavınız geçersiz sayılacaktır.
15. Cevap kâğıdınızı sınav süresince hiçbir öğrencinin göremeyeceği şekilde önünüzde bulundurunuz.
16. Sınavınızın değerlendirilmesi aşamasında, toplu kopya tespiti veya başka adayın sınav evrakını kullanmanız durumunda sınavınız geçersiz sayılacaktır.
17. Soruları ve sorulara verdiğiniz cevapları kaydetmeyiniz, hiçbir şekilde dışarı çıkarmayınız.
18. İlk 15 dakika dışarı çıkılmayacaktır.
19. Sınav evraklarını teslim etmeyenlerin sınavı geçersiz sayılacaktır.

SINAV GÖREVLİLERİNCE SINAV BAŞLAMADAN ÖNCE ÖĞRENCİLERE YAPILACAK SON UYARI!

- Soracağınız bir şey var mı? Varsa, şimdi sorunuz.
- Sınav başladıktan sonra sorularınıza cevap verilmeyecektir.
- Başlama zilini bekleyiniz.

Hepinize başarılar dileriz.

(Sınav görevlisi başlama ve bitiş saatini tahtaya yazacaktır.)

Bu kitapçığın her hakkı saklıdır. Hangi amaçla olursa olsun, kitapçığın tamamının veya bir kısmının Millî Eğitim Bakanlığı Ölçme, Değerlendirme ve Sınav Hizmetleri Genel Müdürlüğünün yazılı izni olmadan kopya edilmesi, fotoğraflarının çekilmesi, bilgisayar ortamına alınması, herhangi bir yolla çoğaltılması, yayımlanması veya başka bir amaçla kullanılması yasaktır. Bu yasağa uymayanlar, doğabilecek cezai sorumluluğu ve kitapçığın hazırlanmasındaki mali külfeti peşinen kabullenmiş sayılır.

**22 MART 2015 TARİHİNDE YAPILAN ÖZEL EĞİTİM VE REHBERLİK HİZMETLERİ
GENEL MÜDÜRLÜĞÜ BİLİM VE SANAT MERKEZLERİ ÖĞRENCİ SEÇME SINAVI
3. SINIFLAR "A" KİTAPÇIĞI CEVAP ANAHTARI**

TÜRKÇE	MATEMATİK	GENEL YETENEK
1. D	1. C	1. B
2. B	2. A	2. C
3. C	3. C	3. D
4. A	4. B	4. A
5. B	5. D	5. D
6. C	6. D	6. B
7. A	7. A	7. A
8. D	8. D	8. D
9. C	9. B	9. A
10. C	10. B	10. C
11. A	11. C	11. B
12. D	12. B	12. C
13. A	13. C	
14. B	14. A	