



T.C.  
MİLLÎ EĞİTİM BAKANLIĞI  
ÖLÇME, DEĞERLENDİRME VE SINAV HİZMETLERİ GENEL MÜDÜRLÜĞÜ

2015 - 2016  
8.SINIF DEĞERLENDİRME SINAVI - 3

# TÜRKÇE

Adı ve Soyadı : .....  
Sınıfı : .....  
Öğrenci Numarası : .....

**SORU SAYISI** : 20  
**SINAV SÜRESİ** : 40 Dakika

- Bu sınav, 2015 - 2016 Eğitim - Öğretim yılı "Destekleme ve Yetiştirme Kursları"ndaki öğrencilerin kavrama düzeylerini ölçmek amacıyla hazırlanan "Değerlendirme Sınavı"dır.
- Sorular, 8.sınıf Merkezi Ortak Sınav kazanımları dikkate alınarak oluşturulmuştur.

**SINAV BAŞLAMADAN ÖNCE  
KİTAPÇIĞIN ARKA KAPAĞINDAKİ UYARILARI MUTLAKA OKUYUNUZ.**



## TÜRKÇE

1.

Biz, kurum olarak klasik ve geleneksel sanat akımlarını takip ediyoruz. Böylece yurt içindeki sanat faaliyetlerinin millî kültüre uygun yürütülmesini ve insanların sanat konusunda bilgi sahibi olmasını sağlamaya çalışıyoruz.

**Bu parçadaki bazı sözcüklerin anlamı aşağıda verilmiştir. Bu sözcükler parçadan bulunup bulmacanın satırlarına yazılacak ve bulmacanın boş kalan kutuları karalanacaktır.**

### ANLAMLAR (Soldan Sağa)

- Sanatta, siyasette, düşünce hayatında ortaya çıkan yeni bir görüş, yöntem.
- Bir halkın üzerinde yaşadığı, kendi kültürünü oluşturduğu toprak parçası.
- Öğrenme, araştırma veya gözlem yolu ile elde edilen gerçek.

1					
2					
3					

**Buna göre bulmacanın karalanan kısımları aşağıdakilerin hangisinde doğru verilmiştir?**

A)	<table border="1"><tr><td></td><td></td><td></td><td></td><td></td><td></td></tr><tr><td></td><td></td><td></td><td></td><td></td><td></td></tr><tr><td></td><td></td><td></td><td></td><td></td><td></td></tr></table>																			B)	<table border="1"><tr><td></td><td></td><td></td><td></td><td></td><td></td></tr><tr><td></td><td></td><td></td><td></td><td></td><td></td></tr><tr><td></td><td></td><td></td><td></td><td></td><td></td></tr></table>																		
C)	<table border="1"><tr><td></td><td></td><td></td><td></td><td></td><td></td></tr><tr><td></td><td></td><td></td><td></td><td></td><td></td></tr><tr><td></td><td></td><td></td><td></td><td></td><td></td></tr></table>																			D)	<table border="1"><tr><td></td><td></td><td></td><td></td><td></td><td></td></tr><tr><td></td><td></td><td></td><td></td><td></td><td></td></tr><tr><td></td><td></td><td></td><td></td><td></td><td></td></tr></table>																		

2. İnsan, iç dünyasında çıkılmaz sokaklar olduğunu düşünür. Dertlerinin dermansız, sorularının cevapsız olduğuna inanır. Hâlbuki insan, yol mühendisi gibi olmalıdır. Mühendis, karşısına bataklık çıkarsa etrafını dolaşır, dağ çıkarsa tünel açar, nehir çıkarsa köprü kurar.

**Bu parçadaki altı çizili söz grubuyla anlatılmak istenen aşağıdakilerden hangisidir?**

- Gerçekleştirilemeyen hayaller
- Unutulmak istenen acı olaylar
- Çözülmemeyen, içinden çıkılamayan durumlar
- Üzerinden çok zaman geçmiş, hatırlanmayan anılar

3. Aşağıdaki dizelerin hangisinde yay ayraç içinde verilen söz sanatı **yoktur**?

- Elim değse akan sular tutuşur  
İki gözüm pınar oldu gel gayrı.  
(Abartma)
- Yalnız bir taze kadın yaşlılığı arıyor  
Yaşlılığım, yaşlılığım, diye yalvarıyor.  
(Konuşurma)
- Gözlerin kararan yollarda üzgün  
Ve bir zambak kadar beyazdı yüzün.  
(Benzetme)
- Hatırlarım küçük kirli bir bulut  
Durmuş, olup bitenleri seyrediyordu.  
(Kişileştirme)

4. Bir insanı - - - - istiyorsanız öncelikle onu - - - - öğrenmelisiniz.

**Bu cümledeki boşlukları anlam bakımından en iyi tamamlayan sözcükler aşağıdakilerin hangisinde sırasıyla verilmiştir?**

- eğitmek - anlatmayı
- anlamak - dinlemeyi
- sevmek - bulmayı
- tanımak - hobilerini

5. (1) Biyoçeşitlilik, belirli bir ekosisteme, iklim yapısı benzerlikler gösteren alanlara ya da tüm yerküreye yayılan canlıların gösterdiği çeşitliliğe verilen addır. (2) Belirli bir bölgedeki biyoçeşitlilik ne kadar zenginse yani orada yaşayan canlı türü sayısı ne kadar çoksa bölgedeki canlılar o kadar sağlıklı olur. (3) Soyu tükenen her canlı, bu çeşitliliğin biraz daha azalmasına yol açıyor. (4) Birleşmiş Milletler, yaşamsal önemi olan bu konuya dikkat çekmek için küresel ısınmadan iklim değişikliğine, organik besinlerden genetiği değiştirilmiş ürünlere kadar birçok konuda etkinlikler gerçekleştiriyor.

**Bu parçada numaralanmış cümlelerle ilgili aşağıdakilerden hangisi yanlıştır?**

1. cümle, tanımlama cümlesidir.
2. cümlede, biri diğerine bağlı olarak değişen bir durum söz konusudur.
3. cümlede, varsayım anlamı vardır.
4. cümlede, amaç-sonuç ilişkisi vardır.

6. Eski zamanlarda kuşların da kış uykusuna yattığı sanılıyordu ancak yaklaşık yüz yıl önce başlayan çalışmalarla kuşların kışın sıcak diyarlara göç ettiği anlaşıldı.

**Bu cümleden kesin olarak çıkarılabilecek yargı aşağıdakilerden hangisidir?**

- A) Son yıllarda yapılan araştırmalar, göç eden kuşların kış uykusuna yattığını ortaya çıkardı.  
B) 20. yy.dan önce de kuşlarla ilgili bilimsel çalışmalar yapıyordu.  
C) Kış uykusuna yatan hayvan türlerinden biri de kuşlardır.  
D) İnsanlar eski dönemlerde kuşların kış mevsiminde göç ettiğini bilmiyorlardı.

7. Sanatın özü, güzel bir şeyi anlatmak değil, bir şeyi güzel anlatmaktır.

**Aşağıdakilerden hangisi anlamca bu cümleye en yakındır?**

- A) Sanatın temeli, var olanı en güzel şekilde ortaya koymaktır.  
B) Sanat eserinde konunun güzelliği, ifadenin güzelliğinden önemlidir.  
C) Sanatın asıl amacı, tabiattaki güzellikleri anlatmaktır.  
D) Hem içeriği hem de anlatım tarzı kusursuz olan eserler sanat eseri olabilir.

8. Ufaklık, denizaltının cam kapağını kaldırdı. Kapağın üzerindeki suların denize düşerken çıkardığı ses büyüleyiciydi. Çevresinde tuhaf kokulu ama solunabilir bir hava vardı. Denizaltıyı, iskele özelliği kazandırılmış bir kıyıya yanaştırdı. Bir süre, oturduğu yerden çevreyi araştırıp dinledi. Bir tehlike bulunmadığına karar verdi. Çevik bir hareketle karaya sıçradı. Uzaktan kumandayla denizaltının kapağını kapattıktan sonra onu suyun birkaç metre derinliğinde beklemeye aldı.

**Bu parçanın dil ve anlatımıyla ilgili aşağıdakilerden hangisi söylenemez?**

- A) Betimlemeden yararlanılmıştır.  
B) Olay üçüncü kişi ağzından anlatılmıştır.  
C) Farklı duyularla ilgili ayrıntılara yer verilmiştir.  
D) İkileme kullanılmıştır.

9. • Söyleşi türünde yazılmıştır.  
• Deyimlere yer verilmiştir.  
• Bütün cümleler kurallıdır.

**Bu özelliklerin bir arada kullanıldığı metin aşağıdakilerden hangisidir?**

- A) Ece Ayhan'ın şiiri, gelişmiş bir şiirdir. İncelik, güçlük, emekle ve çabayla anlaşılabilirlik onun şiirinin en önemli özellikleridir. Onun şiirini yücelten de orta seviyeli okuyucuları ondan uzaklaştıran da bu özelliklerdir.  
B) Tiyatroya gidiyor musunuz? Gidiyorsanız oyunculuğun ne kadar zor olduğunu düşündüğümüz zamanlar olmuştur. İki saat sürecek bir oyunun sözlerini ezberlemek elbette ki çok zordur. Oyuncu sadece maaş almak için mi bu zahmete katlanıyor dersiniz? Hayır, bence insanların takdirini kazanmak için katlanıyor.  
C) Çok sevdiğim yazarlardan biri merak etmiş ve "Acaba dünyada normal insan kime derler?" sorusuna cevap vermeye kalkmış. Şimdi siz, dünyada cevap verilecek soru mu kalmamış diye düşünebilirsiniz. Ama yazarlar böyledir işte. Soru sormaya mecbur olurlar düşünmek için.  
D) Aklına geleni yapan, aklına geleni söyleyen, daha ne hissettiğini bile anlamadan hayret, tiksinti ve beğenme hislerini ifade eden insan nezaketsiz bir insandır. Böyle biri, daima özür dilemek zorunda kalır. Nazik insan ise neler söyleyeceğini ve neler söylememesi gerektiğini önceden düşünür.

10. Yıldızlar çok değişik büyüklüklerde olur ve birbirine benzemez. Bir yıldız ne kadar büyük olursa yakıtını yani içerdiği maddeleri o kadar hızlı tüketir ve kısa ömürlü olur. Bizim yıldızımız Güneş, orta büyüklükte hatta küçük sayılabilecek bir yıldızdır. Şu anda yaklaşık 5 milyar yaşında olan Güneş'in 5 milyar yıl daha yaşayacağı tahmin ediliyor. Akyıldız adı verilen yıldız ise Güneş'in 21 katı büyüklüğündedir. Akyıldız'ın 1 milyar yıllık ömrünün kaldığı tahmin ediliyor.

**Bu parçadan aşağıdakilerden hangisi çıkarılamaz?**

- A) Akyıldız, Güneş'e göre daha kısa ömürlü bir yıldızdır.  
B) Güneş'in, ömrünün yarısını tamamlamış bir yıldız olduğu düşünülmektedir.  
C) Akyıldız, Güneş'ten büyük olduğu için sıcaklığı da daha fazladır.  
D) Güneş, kendinden büyük yıldızlara göre daha uzun ömürlüdür.

11. Sanatçının tabiata ilave ettiği şey yeni bir düzendir. Sanatçı; sesleri, taşları, kelimeleri ve fikirleri belli bir düzen içinde bir araya getirirse sanat eseri oluşturmuş olur. Örneğin dünyada bir yığın çalgı aleti ve ses çeşidi vardır. Bunları gelişigüzel şekilde bir araya getirirseniz sadece gürültü çıkarmış olursunuz. Müzik, çeşitli sesler arasında güzel bir düzen kurmaktır; müzisyen bu düzeni kurar. Şiir için de durum aynıdır. Güzel bir mısradaki kelimelerin yerlerini değiştirdiniz mi mısranın büyüsü derhal bozulur. Şiir, kelimelerin anlam ve ses ahengi oluşturacak şekilde bir araya getirilmesidir çünkü. Şair, bu ahengi oluşturur.

**Bu parçada asıl anlatılmak istenen aşağıdakilerden hangisidir?**

- A) Şiir ve müzik, ses açısından birbirine benzeyen sanat dallarıdır.  
B) Sanatçı, sanatıyla ilgili unsurları belli bir uyum içinde bir araya getirir.  
C) Seslerin gürültüye dönüşmesini engelleyen müzisyen, gerçek müzisyendir.  
D) Tabiattaki düzensizlikleri ortaya koymak sanatçının işi değildir.





12. (K) Fil kuşlarının, nesli tükenen diğer hayvanlar gibi acıklı bir öyküsü var. (L) İki bin yıl öncesine kadar Madagaskar'da yaşamını büyük bir keyifle sürdürüyordu bu kuşlar. (M) Bugün fil kuşlarını yalnızca resimlerden tanıyoruz. (N) Bu resimler, fil kuşlarından geriye kalan kemiklerin bir araya getirilmesiyle oluşturulan iskeletlerden hareketle yapılmıştır.

**Bu parçada K, L, M, N harfleriyle gösterilen yerlerden hangisine düşüncenin akışına göre "Ne var ki Madagaskar'a gelen avcılar, fil kuşlarını avlayarak ve yumurtalarını yok ederek onların soyunu tükettiler." cümlesi getirilmelidir?**

- A) K      B) L      C) M      D) N

13. Senet oyunu, Antik Mısır döneminde oynanan ve geçmiş MÖ 3500 yılına dayanan en eski kutu oyunudur. İki kişiyle oynanan bu oyunda 5 makaraya benzeyen, 5 de koniye benzeyen taş bulunur. Taşlar, otuz eş kareye bölünmüş oyun tahtasının üzerine yerleştirilir. Oyun tahtasında taşların içine konduğu bir çekmece bulunur. Bu oyunla ilgili günümüze kalan eserler, Mısırlı III. Amenhotep, Kraliçe Nefertiti ve Kral Tuthankamon zamanına aittir. III. Kral Amenhotep'e (MÖ 1391-1350) ait bir senet oyunu tahtası ve taşları, Amerika'daki Brooklyn Müzesinde sergilenmektedir.

**Bu parçaya göre senet oyununa ait malzemeler aşağıdakilerden hangisidir?**

- A) 
- B) 
- C) 
- D) 

14. Eşref Armağan, doğuştan görme engelli bir ressam. O, yaşamı boyunca hiç görmediği nesnelerin maket modellerine parmak uçlarıyla dokunarak onları başarıyla resmedebiliyor. Bu yeteneği nedeniyle Harvard Üniversitesi Nöroloji profesörleri tarafından beyin fonksiyonları incelenmiştir. Bu inceleme sonucunda, Eşref Armağan'ın bir nesneye dokunduğunda beyindeki görülen cisimlerin algılanması ile ilgili bölümün harekete geçtiği tespit edilmiştir. Bilim dünyasını şaşırtan ressam, ödüllü bir belgeye konu olmuş, ayrıca İngiliz bilim dergisi "New Scientist"te ressam hakkında bir makale yayımlanmıştır.

**Bu parçada Eşref Armağan'la ilgili aşağıdakilerden hangisine değinilmemiştir?**

- A) Ressamlığı ve yazarlığıyla tanındığına  
B) Onunla ilgili yapılan çalışmalara  
C) Yeteneğinden dolayı beyinin incelendiğine  
D) Görmediği hâlde resimlerini nasıl yaptığına

15. Yüzleri var türlü biçim  
Belli değil gerçek dost kim  
Vefa diye şu yüreğim  
Paralanır, paralanır.

**Bu şiirde şair aşağıdakilerin hangisinden yakınmaktadır?**

- A) Vefasızlıktan  
B) Yoksulluktan  
C) Yalnızlıktan  
D) Gurbetten

16. Antarktika, sineksiz bir ortamda yaşamak isteyenlerin çok seveceği bir yer olabilir. Ancak Antarktika'nın soğunda yaşamış sinekler de var. Araştırmacılar Güney Kutbu'ndan 500 km uzaklıkta ki bir bölgede küçük bir sinek türüne ait fosil buldular.

**Bu parçada numaralanmış bölümlerin hangisinde yazım yanlışı vardır?**

- A) 1. B) 2. C) 3. D) 4.

17. Haberi okur okumaz çalışma odasına koştu<sub>1</sub> haritadan Bandırma'yı buldu. Kasabanın yerini<sub>2</sub> konumunu ve çevresini dikkatle incelemek istiyordu. Kitaplardan Bandırma'yla ilgili bütün bilgileri okudu<sub>3</sub> geçmişte o yörede bulunan uygarlıkları öğrendi. Daha sonra bilgisayarın başına geçti<sub>4</sub>. İnternet'e girerek yöreye ilgili bilgilerini geliştirdi.

**Bu parçada numaralanmış virgüllerden hangisi farklı görevde kullanılmıştır?**

- A) 1. B) 2. C) 3. D) 4.

18. Her nerede tarih sesi duyarsam  
Özlediğim zaman düşer aklıma...

**Aşağıdakilerin hangisinde, bu dizelerdeki fiilimsiyle aynı türde bir fiilimsi kullanılmıştır?**

- A) Kafesli evlerde ağlar çocuklar,  
Odalarda akşam olurken henüz.  
B) Uyan yârim, uyan, söndü yıldızlar,  
Gün, karşı tepeden doğmak üzredir.  
C) Gittim... Gelir diye beklemediler  
Kaybolan gölgemi yollara sordum.  
D) Sokaktayım, kimsesiz bir sokak ortasında  
Yürüyorum, arkama bakmadan yürüyorum.

19. "Bir gün ormanın yakınındaki köye kamyonlarla kum ve çimento getirdiler." **cümlesinde vurgulanan ifadenin cümledeki görevi aşağıdakilerden hangisidir?**

- A) Özne  
B) Yer tamlayıcısı  
C) Zarf tamlayıcısı  
D) Belirtisiz nesne

20. (1) Vücudumuzda yaklaşık altı yüz elli tane kas bulunur. (2) Kaslarımız, ağırlığımızın yaklaşık yarısını oluşturur ve koşmamıza, konuşmamıza, soluk alıp vermemize, yemek yememize yardımcı olur. (3) Vücudumuzdaki en küçük kas, kulaklarımızın içindedir. (4) Aşağı yukarı 1,2 mm uzunluğundaki bu kas, ses titreşimlerini iç kulağa iletir.

**Bu parçada numaralanmış cümlelerle ilgili aşağıdakilerden hangisi söylenemez?**

- A) 1. cümlede, yüklem geçişli bir fiildir.  
B) 2. cümlede özne, ortak öge olarak kullanılmıştır.  
C) 3. cümle, isim cümlesidir.  
D) 4. cümlede, yüklem etken bir fiildir.

**TEST BİTTİ.**

**CEVAPLARINIZI KONTROL EDİNİZ.**



**SINAV BAŞLAMADAN ÖNCE AŞAĞIDAKİ UYARILARI MUTLAKA OKUYUNUZ.**

1. Sınav kimlik bilgilerinizin doğruluğundan emin olunuz.
2. Sınav başladıktan sonra çevrenizdekilerle konuşmayınız.
3. Soruları cevaplamaya istediğiniz sorudan başlayabilirsiniz.
4. Cevaplarınızı cevap anahtarındaki ilgili soru numarasını dikkate alarak uygun bölüme kodlayınız.
5. Değiştirmek istediğiniz cevabı cevap anahtarına kodladığınızdan emin olunuz.
6. Cevabını bilmediğiniz sorular üzerinde fazla zaman kaybetmeden diğer sorulara geçiniz. Zaman kalırsa bu sorulara daha sonra dönebilirsiniz.
7. Sınav puanınızın hesaplanmasında sadece doğru cevaplarınız dikkate alınacaktır.
8. Cevap anahtarınızı sınav süresince başkalarının göremeyeceği şekilde önünüzde bulundurunuz.
9. Sınav sırasında sözlük, hesap makinası, cep telefonu ve bilgisayarınızın bu özelliklerini kullanmayınız.
10. Sınav süresince yerinizden ayrılmayınız.

**Bu kitapçığın her hakkı saklıdır. Hangi amaçla olursa olsun, kitapçığın tamamının veya bir kısmının Millî Eğitim Bakanlığı Ölçme, Değerlendirme ve Sınav Hizmetleri Genel Müdürlüğünün yazılı izni olmadan kopya edilmesi, fotoğraflarının çekilmesi, bilgisayar ortamına alınması, herhangi bir yolla çoğaltılması, yayımlanması ve başka bir amaçla kullanılması yasaktır. Bu yasağa uymayanlar, doğabilecek hukukî sorumluluğu ve sınavın hazırlanmasındaki malî yükümlülüğü peşinen kabullenmiş sayılır.**