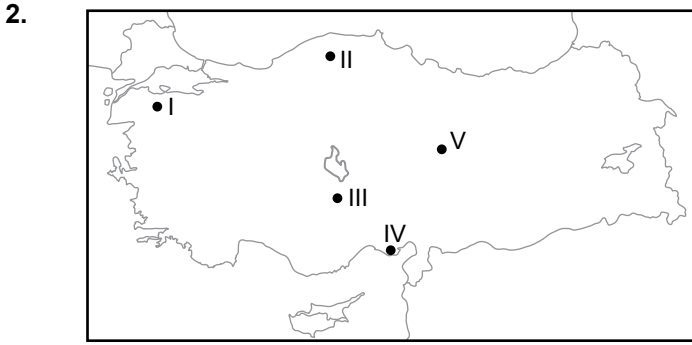


Türkiye'de Tarım ve Hayvancılık

1. Aşağıdaki tarım ürünlerinden hangisi yetiştirme dönemi boyunca diğerlerine göre daha fazla suya ihtiyaç duymaktadır?

- A) Buğday B) Çavdar C) Ayçiçeği
D) Pirinç E) Haşhaş



Harita üzerinde numaralandırılarak verilen yerlerin hangisinde;

- Mısır,
- Pamuk,
- Soya fasulyesi
- Yer fıstığı

verilen ürünlerin hepsi yetiştirilmektedir?

- A) I B) II C) III D) IV E) V

3. Adana ve çevresi tarım ürünü çeşitliliği bakımından Kars ve çevresine göre daha zengindir.

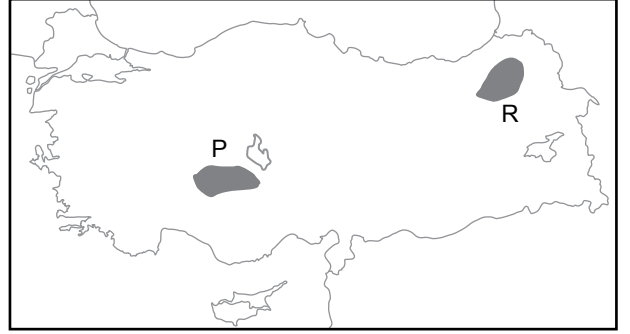
Bu durum;

- I. sıcaklık,
- II. yağış,
- III. tüketim

verilenlerden hangisiyle açıklanabilir?

- A) Yalnız I. B) Yalnız II. C) Yalnız III.
D) I ve II. E) I, II ve III.

4.



Harita üzerinde numaralandırılarak gösterilen P alanında küçükbaş hayvancılık faaliyetleri yaygın iken R alanında ise büyükbaş hayvancılık faaliyetleri yaygındır.

Bu durum üzerinde;

- I. İklim özellikleri
- II. Yer şekilleri özellikleri
- III. Bitki örtüsü özellikleri

verilenlerden hangileri etkili olmuştur?

- A) Yalnız I B) Yalnız II C) I ve II
D) I ve III E) I, II ve III

5.

Türkiye'de sulama imkanlarının gelişmesi bazı tarım ürünlerinin yetiştirme alanını genişletmiştir.

Bu duruma örnek olarak aşağıdaki tarım ürünlerinden hangisi gösterilir?

- A) Çay B) Haşhaş C) Kenevir
D) Pamuk E) Zeytin

6.

- I. Kümes hayvancılığı
- II. İpek böcekçiliği
- III. Besi hayvancılığı
- IV. Balıkçılık

Yukarıda verilen hayvancılık faaliyetlerinden hangilerinin dağılışında doğal çevre koşullarının etkisi diğerlerine göre daha azdır?

- A) I ve II. B) I ve III. C) II ve III.
D) II ve IV. E) III ve IV.

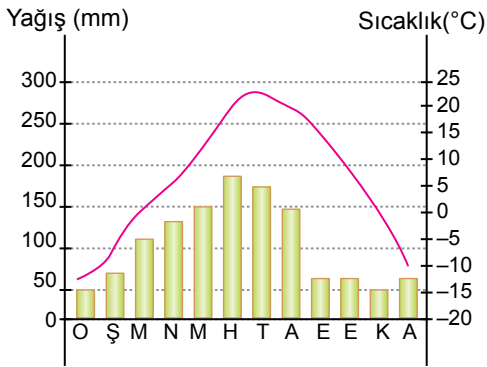
Türkiye’de Tarım ve Hayvancılık

7. • Yükseltinin fazla olması
• Yaz yağışlarının fazla olması
• Çayır bitki örtüsünün bulunması

Ülkemizde yukarıda verilen özelliklerin görüldüğü alanlarda aşağıdaki hayvancılık faaliyetlerinden hangisinin yaygın olması beklenir?

- A) Büyükbaş hayvancılık
B) Küçükbaş hayvancılık
C) Kümes hayvancılığı
D) İpekböcekçiliği
E) Arıcılık

8. Aşağıda ülkemizde bir yere ait yıllık sıcaklık ve yağış grafiği verilmiştir.



Grafikteki bilgiler dikkate alındığında bu yerde;

- I. turunçgil,
II. elma,
III. üzüm,
IV. zeytin

verilen tarım ürünlerinden hangilerinin yetişmesi diğerlerine göre daha güçtür?

- A) I ve II B) I ve III C) II ve III
D) I ve IV E) III ve IV

9. Ülkemizde doğal bitki örtüsünün çeşitlilik göstermesi arıcılık faaliyetlerini olumlu etkilemiştir.

Buna göre;

- I. Muğla ve çevresi
II. Hakkari ve çevresi
III. Konya ve çevresi
IV. Edirne ve çevresi

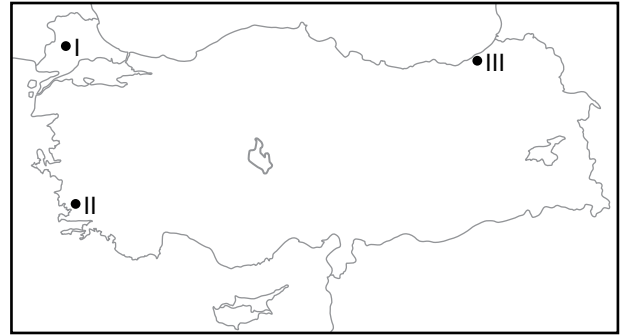
verilen yerlerin hangi ikisi arıcılık faaliyetleri için diğerlerine göre daha uygundur?

- A) I ve II. B) I ve III. C) II ve III.
D) I ve IV. E) III ve IV.

10. Doğal bitki örtüsü bozkır olan bir alanda aşağıda verilen hayvan türlerinden hangisinin diğerlerine göre daha yaygın olması beklenir?

- A) Sığır B) Koyun C) Manda
D) Kıl keçisi E) İpekböceği

11.



Harita üzerinde numaralandırılarak verilen alanlarda yoğun olarak yetiştirilen tarım ürünü aşağıdakilerden hangisinde doğru olarak verilmiştir?

- | I | II | III |
|-------------|--------|--------|
| A) Ayçiçeği | İncir | Çay |
| B) Pirinç | Fındık | Çay |
| C) Fındık | İncir | Pirinç |
| D) Ayçiçeği | Fındık | Pamuk |
| E) Pamuk | İncir | Fındık |

