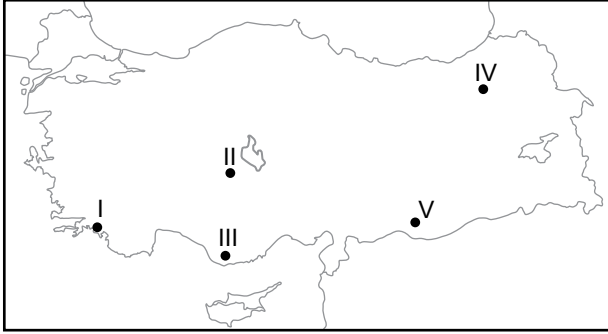


Türkiye'de Arazi Kullanımı

1. I. Hayvancılık faaliyetleri  
II. Madencilik faaliyetleri  
III. Hidroelektrik enerji üretimi  
**Ülkemizde dağlık alanlarda yukarıda verilen ekonomik faaliyetlerden hangileri yapılabilmektedir?**

- A) Yalnız I. B) Yalnız II. C) I ve II.  
D) I ve III. E) I, II ve III.

2. Büyükbaş hayvancılık faaliyetleri genel olarak;
- Yaz yağışlarının görüldüğü,
  - Yüksek düzlüklerin bulunduğu,
  - Çayır bitki örtüsünün bulunduğu alanlarda yaygın olarak yapılmaktadır.



**Buna göre harita üzerinde verilen yerlerin hangisinde büyükbaş hayvancılık faaliyetlerinin yaygın olması beklenir?**

- A) I B) II C) III D) IV E) V

3. Ülkemizde kar kalınlığının fazla ve yer şekillerinin uygun olduğu bazı dağlık alanlar kış sporu amacıyla kullanılmaktadır.

**Aşağıda verilen yerlerden hangisi bu alanlara örnek olarak gösterilemez?**

- A) Uludağ B) Kartalkaya C) Palandöken  
D) Ilgaz E) Menteşe

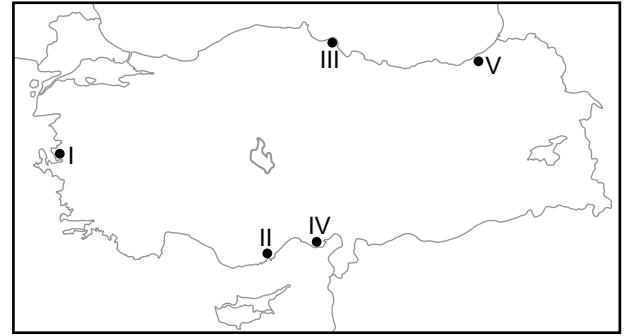
4. Aşağıdaki tabloda Türkiye arazisinin eğim dereceleri ve toplam arazimiz içindeki oranı verilmiştir.

Arazi yapısı	Eğim değeri %	Kapladığı alan km <sup>2</sup>	Ülke topraklarında oranı %
Düz ve hafif eğimli	0-5	65.846	8,5
Orta eğimli ve hafif dalgalı	5-10	100.386	12,8
Çok eğimli	10-15	125.909	16,2
Sarp	15'ten fazla	487.864	62,5

**Tablodaki bilgilere bakılarak aşağıdakilerden hangisine ulaşılamaz?**

- A) Türkiye'deki arazilerin, hidroelektrik enerji potansiyeli fazladır.  
B) Düz ve hafif eğimli arazilerin ülke topraklarındaki oranı diğerlerine göre daha azdır.  
C) Türkiye arazilerinin yarısından fazlası sarp arazilerden oluşur.  
D) Düz ve hafif eğimli arazilerin yarısından fazlası ülkemizin iç kesimlerinde yer alır.  
E) Türkiye arazilerinin yarısından fazlasının eğimi % 10'dan fazladır.

5. Akarsuların taşıdığı alüvyal toprakların sığ kıyılarda birikmesi sonucu delta ovaları oluşmaktadır. Bu ovalar tarımsal faaliyetler için uygun alanlar arasında yer almaktadır.



**Harita üzerinde verilen alanların hangisinde bu şekilde oluşmuş ova görülmez?**

- A) I B) II C) III D) IV E) V

Türkiye'de Arazi Kullanımı

6. Erzurum-Kars ve Ardahan platolarında yükseltinin fazla olması aşağıdaki ekonomik faaliyetlerden hangisinin yaygınlaşmasını sağlamıştır?

- A) Ticaret B) Ulaşım C) Sanayi  
D) Turizm E) Hayvancılık

7. Türkiye'deki ovalar üzerinde;

- I. tarımsal faaliyetler  
II. küçükbaş hayvancılık  
III. sanayi faaliyetleri

verilen ekonomik faaliyetlerden hangileri yapılmaktadır?

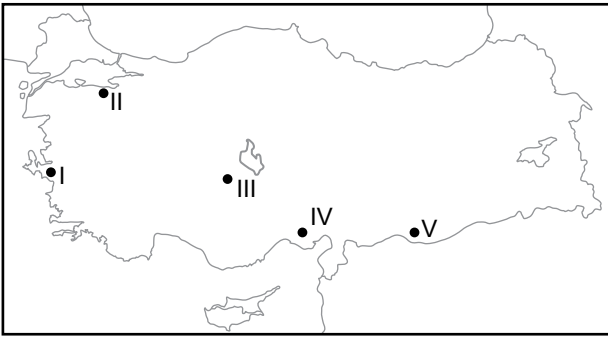
- A) Yalnız I. B) Yalnız II. C) I ve II.  
D) I ve III. E) I, II ve III.

8. Volkanik alanlardaki arazilerde verimli toprakların etkisiyle tarım ve yerleşme faaliyetleri gelişmiştir.

Aşağıda verilen şehirlerden hangisinin çevresi bu duruma örnek olarak gösterilebilir?

- A) Ankara B) Ardahan C) Nevşehir  
D) Adana E) Edirne

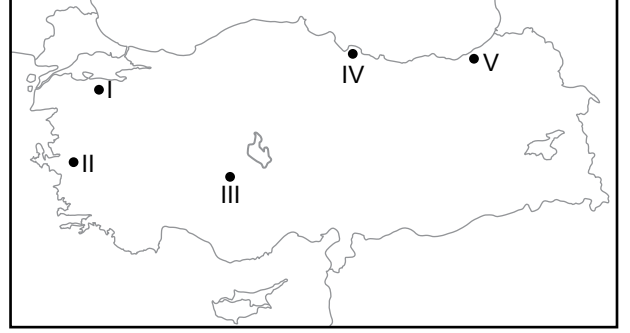
9. Türkiye'de arazinin yüksek ve kar kalınlığının fazla olduğu alanlar kış sporları amacıyla kullanılmaktadır.



İklim koşulları ve arazi durumu göz önüne alındığında, haritada numaralandırılarak verilen yerlerin hangisinde kış sporları için uygun alanlar olduğu söylenir?

- A) I B) II C) III D) IV E) V

10. Türkiye'de arazinin engebeli olduğu bazı alanlarda tarımsal faaliyetler için tarımsal faaliyetler yapılmaktadır.



Harita üzerinde numaralandırılarak verilen yerlerin hangisinde tarımsal faaliyetlerde bu yöntem kullanılmaktadır?

- A) I B) II C) III D) IV E) V

11. Kalker ve jips gibi sular tarafından kolayca çözünebilen kayaların bulunduğu yerlerde karstik şekiller oluşmuştur. Aşağıdaki illerin hangisinde karstik şekillerin varlığı turizm faaliyetlerinin gelişmesinde etkili olmuştur?

- A) Antalya B) Mardin C) Van  
D) İstanbul E) Trabzon

12. Türkiye'de alçak platolar genellikle tahıl tarımı, yüksek platolar ise hayvancılık faaliyetleri için kullanılmaktadır. Bu durum öncelikle aşağıdakilerden hangisiyle açıklanabilir?

- A) Su kaynakları B) Toprak özellikleri  
C) İklim D) Bakı  
E) Enlem etkisi

