

Dış Kuvvetler ve Türkiye'deki Yer Şekillerinin Oluşum Sürecine Etkileri - II

1. Buzulların oluşturduğu yer şekillerine Ekvator ve çevresinde yüksek yerlerde rastlanırken; kutuplara doğru gidildikçe deniz seviyesine daha yakın yerlerde rastlanmaktadır.

Bu durumun nedeni olarak:

- I. enlem etkisi,
II. yer çekimi,
III. Dünya'nın günlük hareketi

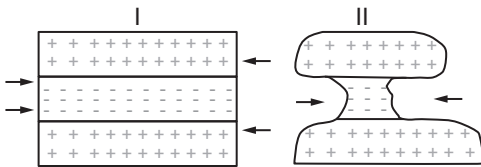
verilenlerden hangileri gösterilir?

- A) Yalnız I. B) Yalnız II. C) I ve II.
D) I ve III. E) II ve III.

2. Buzul aşındırma ve biriktirme şekillerinin yaygın olarak görüldüğü bölgelerin sınırları ile aşağıda verilen bölge türlerinden hangisi arasında benzerlik görülmesi beklenir?

- A) Savan İklim Bölgesi
B) Kutup İklimi Bölgesi
C) Tahıl Tarımı Bölgesi
D) Step Bitki Örtüsü Bölgesi
E) Küçükbaş Hayvancılık Bölgesi

3. Aşağıda rüzgâr aşındırma faaliyetleri sonucunda oluşmuş bir yeryüzü şeklinin oluşum aşamaları gösterilmiştir.



Bu yeryüzü şeklinin oluştuğu bölge ile ilgili olarak aşağıdakilerden hangisi söylenemez?

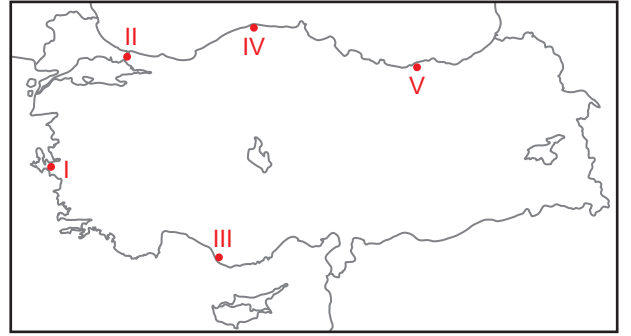
- A) Yıllık yağış miktarı düşüktür.
B) Biyoçeşitlilik yönünden fakirdir.
C) Doğal bitki örtüsü zayıftır.
D) Nem oranı yüksektir.
E) Farklı dirençteki kayalar bir arada bulunmaktadır.

4. Buzul vadilerine deniz sularının dolması sonucunda oluşan girintili çıkıntılı kıyı tiplerine fiyort adı verilmektedir.

Aşağıdaki ülkelerin hangisinde fiyortlu kıyılar yaygın olarak görülmektedir?

- A) İsviçre B) İngiltere
C) Avustralya D) Norveç
E) Hindistan

5. Ria tipi kıyılar, akarsu vadilerinin deniz suları altında kalmasıyla oluşur.



Bu kıyı tipi harita üzerinde numaralanmış yerlerin hangisinde görülmektedir?

- A) I. B) II. C) III. D) IV. E) V.

6. Kıyıya yakın bir adanın kıyı oku tarafından kara kütesine bağlandığı yer şekillerine tombolo adı verilmektedir.

Bu yer şeklinin bulunduğu kıyılarının ortak özelliği olarak:

- I. Kıyı derinliği azdır.
II. Dalga biriktirmesi fazladır.
III. Kıyıda dik kayalar yaygındır.

ifadelerinden hangileri gösterilir?

- A) Yalnız I. B) Yalnız II. C) I ve II.
D) I ve III. E) II ve III.

Dış Kuvvetler ve Türkiye'deki Yer Şekillerinin Oluşum Sürecine Etkileri - II

7. I. Falez
II. Kıyı oku
III. Delta ovası

Dalgaların oluşturduğu yer şekillerini aşınım ve birikim şekilleri olarak sınıflandırabiliriz.

Buna göre yukarıda verilen yer şekillerinden hangileri dalga aşındırma şekline örnektir?

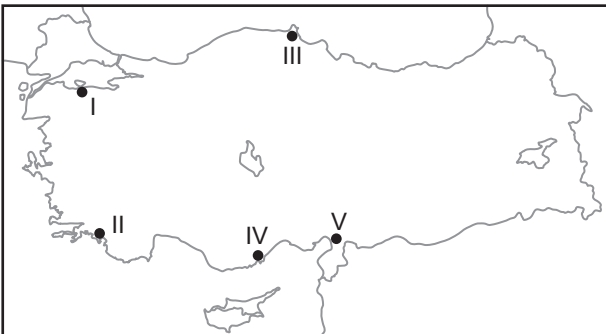
- A) Yalnız I. B) Yalnız II. C) I ve II.
D) I ve III. E) II ve III.

8. I. Falez
II. Tombolo
III. Haliç

Gelgit hareketlerinin fazla olduğu bir kıyıda yukarıda verilen yüzey şekillerinden hangilerinin oluşması beklenmez?

- A) Yalnız I. B) Yalnız II. C) I ve II.
D) I ve III. E) II ve III.

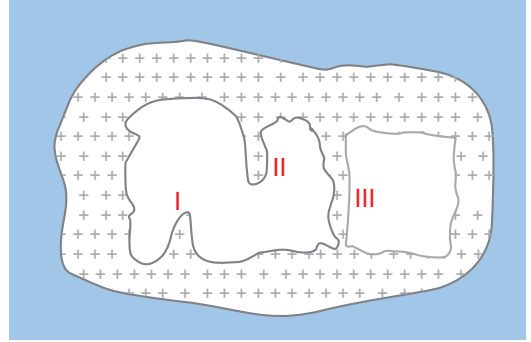
9. Aşağıda Türkiye Haritası üzerinde deniz kıyısında bulunan beş farklı yer işaretlenmiştir.



Bu yerlerden hangisinde dalmaçya tipi kıyı oluşumu görülür?

- A) I. B) II. C) III. D) IV. E) V.

10. Aşağıdaki görselde kimyasal tortul kayaların çözünmesi sonucunda oluşmuş bir mağaranın taban ve tavan kısmında oluşan şekiller numaralarla gösterilmiştir.



Görselde verilen yer şekilleri aşağıdakilerden hangisinde doğru eşleştirilmiştir?

- | | <u>I</u> | <u>II</u> | <u>III</u> |
|--------------|----------|-----------|------------|
| A) Sarkıt | Dolin | Lapyta | |
| B) Düden | Galeri | Polye | |
| C) Dikit | Sarkıt | Sütun | |
| D) Traverten | Dikit | Sütun | |
| E) Düden | Sarkıt | Obruk | |

11. Kutuplara yakın yerlerde geniş örtü buzullarına rastlamak mümkündür.

Buna göre aşağıdaki ülkelerin hangisinde örtü buzullarının görülmesi beklenir?

- A) Finlandiya B) Fransa C) İtalya
D) Türkiye E) İran

12. Karstik arazilerin yer altı suları bakımından zengin olduğunu söyleyebiliriz.

Bu durum üzerinde aşağıdakilerin hangisi daha fazla etkili olmuştur?

- A) Erimeler sonucunda çukurlukların oluşması
B) Geçirimli kayaların yaygın olması
C) Mağara oluşumlarının görülmesi
D) Kayaların çözünmeye uğraması
E) Tabakaların genellikle yatay uzanış göstermesi

