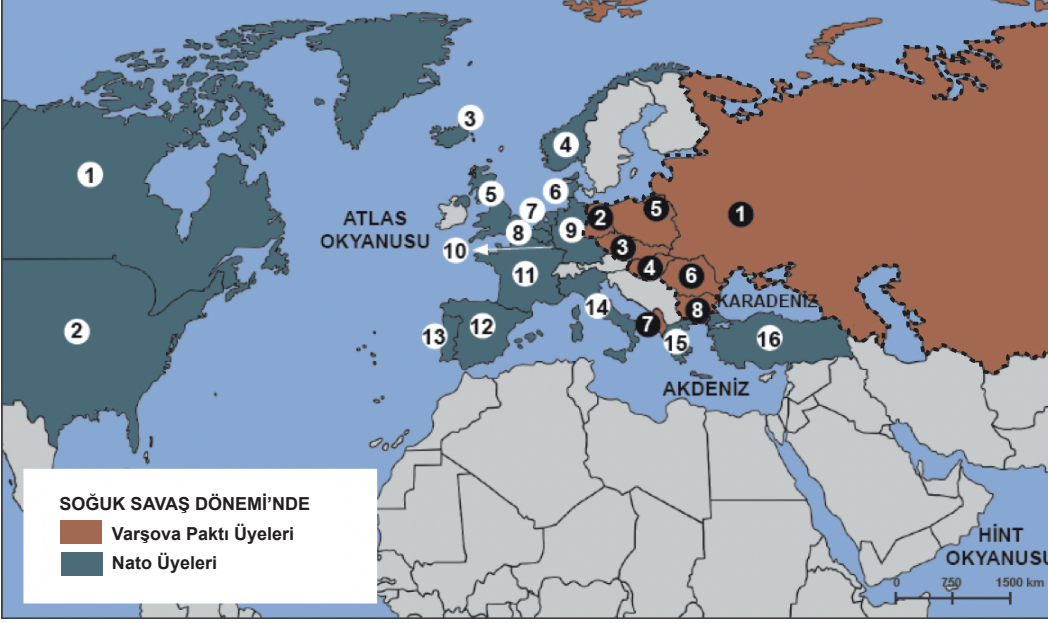


7. Tekrar Testi

1. Harita: 1990'a kadar NATO ve Varşova Paktı ülkeleri



Harita dikkate alındığında aşağıdaki devletlerden hangisinin 1990'a kadar NATO'ya üye devletlerden biri olduğu söylenemez?

- A) Bulgaristan B) Türkiye C) Yunanistan D) İtalya E) Portekiz

2. ABD Başkanı Harry S. Truman 12 Mart 1947'de Truman Doktrini'ni ilan etti. Amerikan Kongresinde; SSCB tehdidine karşılık Yunanistan'a 300 milyon, Türkiye'ye de 100 milyon dolarlık yardımın yapılması kabul edildi.

ABD'nin, Truman Doktrini ile;

- I. komünizmin yayılmasını engellemek,
- II. ekonomik ve siyasal hâkimiyetinin genişlemesini sağlamak,
- III. Doğu Bloku ile iş birliği sağlamak

amaçlarından hangilerini gerçekleştirmek istediği söylenebilir?

- A) Yalnız I B) Yalnız II C) I ve II D) II ve III E) I, II ve III

3. Aşağıdakilerden hangisi Batı Bloku'ndaki siyasi, ekonomik veya askerî gelişmelerden biri değildir?

- A) Marshall Planı
- B) Molotof Planı
- C) Avrupa Ekonomik Topluluğu
- D) Kuzey Atlantik Antlaşması Örgütü
- E) Truman Doktrini

7. Tekrar Testi

4. Türkiye ve Truman Doktrini

Truman Doktrini ile SSCB'nin yayılmacılık politikasının tehdidi altında kalan Yunanistan ve Türkiye'ye askerî ve ekonomik yardımlar yapıldı. ABD'nin yapacağı yardım açıklaması Türk siyasetçileri tarafından olumlu karşılandı. Türkiye'nin Truman Doktrini ile ABD yardımlarını kabul etmesinin başlıca sebebi, SSCB'nin istekleri ve tehdidi karşısında ABD'nin desteğini almaktı.

Buna göre Truman Doktri'nin Türkiye'de aşağıdaki gelişmelerden hangisine zemin hazırladığı söylenebilir?

- A) Türkiye'nin Batı Bloku yanlısı bir dış politika izlemeye başlamasına
- B) Ekonomi alanındaki ihtiyacın son bulmasına
- C) Millî savunma sanayisinin gelişmesine
- D) ABD ile ilişkilerin sekteye uğramasına
- E) Komünizmin yayılmasına

5. Türkiye'nin NATO'ya Katılması

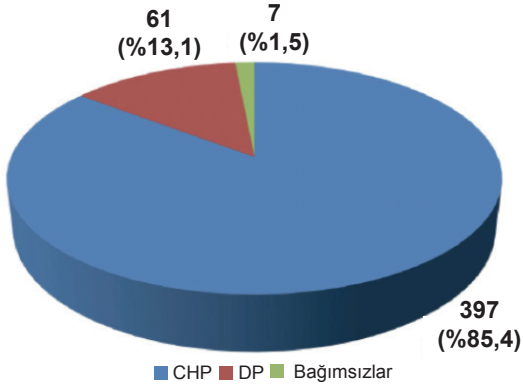
NATO, 4 Nisan 1949'da 12 devletin katılımıyla kuruldu. Kore Savaşı'nın başlaması ile Türkiye'nin Birleşmiş Milletler Komutanlığı emrine 4.500 kişilik kuvvet göndermesi Türkiye'nin NATO'ya üyeliğe kabulünde olumlu bir etki yaptı. Türkiye'nin NATO'ya kabul edilmesini sağlayan bir başka gelişme ise SSCB'nin nükleer silah edinmesi oldu. 1949'da SSCB, atom silahına sahip olduğunu resmen açıkladı. ABD, SSCB'nin olası bir nükleer saldırısına karşılık verebilmek için SSCB'ye yakın bölgelerde askerî üslere ihtiyacı olduğunu düşünüyordu. Bunun için de Türkiye'nin NATO'ya alınmasını istedi. 22 Ekim 1951'de Türkiye ile Yunanistan'ın NATO'ya katılımını sağlayan protokol imzalandı. TBMM, 18 Şubat 1952'de Kuzey Atlantik Antlaşması ve Protokolü'nü onaylayınca Türkiye NATO'ya resmen katıldı.

Buna göre aşağıdaki yargılardan hangisine ulaşamaz?

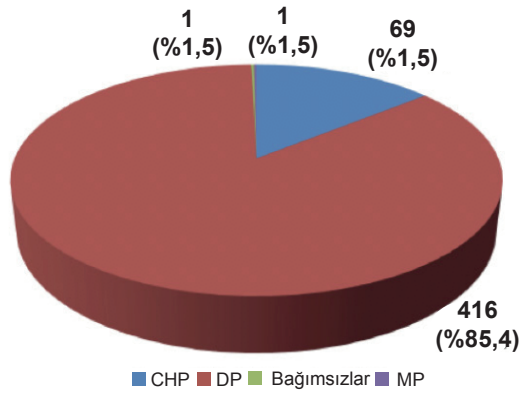
- A) Türkiye, NATO'nun kurucu üyelerinden biridir.
- B) ABD'nin, Türkiye'de üs ihtiyacı ortaya çıkmıştır.
- C) ABD, SSCB'yi güvenliği için tehdit olarak görmüştür.
- D) Türkiye, Kore Savaşı'na katılmıştır.
- E) Türkiye, ABD ile iş birliği gerçekleştirmiştir.

7. Tekrar Testi

6.



Grafik 1: 1946 milletvekili genel seçim sonuçları



Grafik 2: 1950 milletvekili genel seçim sonuçları

Verilen grafiklere göre,

- I. Tek dereceli seçim sistemine geçilmiştir.
- II. 1950 seçimleri Demokrat Partiyi (DP) iktidara taşımıştır.
- III. 1946 seçimlerinde iki parti meclise girmiştir.

yargılarından hangilerine ulaşılabilir?

- A) Yalnız I B) Yalnız II C) I ve II D) II ve III E) I, II ve III

7. Tablo: 2 Mayıs 1954 Genel Seçim Sonuçları

Partiler	Aldıkları Oy	Oran%	Milletvekili
Demokrat Parti	5.313.659	58.42	503
Cumhuriyet Halk Partisi	3.193.471	35.11	31
Cumhuriyetçi Millet Partisi	480.249	5.28	5
Köylü Partisi	50.935	0.56	-
İşçi Partisi	910	0.01	-
Bağımsızlar	56.393	0.62	2
Toplam	9.095.563	100	541

Tabloda verilen 1954 yılı seçim sonuçlarına göre,

- I. Koalisyonlar dönemi başlamıştır.
- II. CHP ana muhalefet partisidir.
- III. Demokrat Parti ilk kez iktidar partisi olmuştur.

yargılarından hangilerine ulaşamaz?

- A) Yalnız I B) Yalnız II C) Yalnız III D) I ve III E) II ve III

7. Tekrar Testi

8.

Yom Kippur Savaşı

1973'te meydana gelen ve Yom Kippur Savaşı olarak adlandırılan Arap-İsrail Savaşı, 1967 savaşının bir devamı niteliğindedir. Bu savaşta Mısır öncülüğünde Arap devletlerinin oluşturduğu askerî ittifak, İsrail'e sürpriz bir saldırı başlattı. Taraflar, BM Güvenlik Konseyinin çatışmayı durdurma çağrısını dikkate alarak savaşı sonlandırdılar. 1974'te kesin ateşkes sağlandı. İsrail'in Mısır ve Suriye sınırına BM Barış Gücü askerlerinin yerleştirilmesi kabul edildi. 1973 Arap-İsrail Savaşı sonunda Arap ülkeleri, İsrail'i destekleyen Batı ülkelerine karşı petrol fiyatlarını bir siyasi güç olarak kullanma kararı aldı. Petrol krizinin başlangıcında endişelenen Batı ülkeleri, yükselen petrol fiyatlarını sanayi ve teknoloji ürünlerine yansıtarak kısa sürede bu ekonomik durumu dengelediler.

Verilen bilgiler dikkate alındığında Yom Kippur Savaşı ile ilgili aşağıdaki yorumlardan hangisine ulaşılabılır?

- A) İlk Arap-İsrail savaşı olduğu
- B) İsrail'in kaybettiği toprakları geri almak istediği
- C) İsrail Devleti'nin temelini atıldığı
- D) Batılı ülkelerin Arapları desteklediği
- E) Petrol fiyatlarını yükseltme girişiminin amacına ulaşamadığı

9. Tablo: II. Dünya Savaşı sonrası Doğu ve Batı Bloku tarafından kurulan kuruluşlar

Blok	Kuruluşun Adı
Doğu Bloku	Varşova Paktı
Doğu Bloku	COMECON
Doğu Bloku	COMINFORM
Batı Bloku	NATO
Batı Bloku	Avrupa Konseyi
Batı Bloku	Avrupa Kömür ve Çelik Topluluğu

II. Dünya Savaşı sonrası Doğu Bloku ve Batı Bloku tarafından kurulan yukarıdaki kuruluşlardan hangilerinin etkinlik sahası askerî alandadır?

- A) COMECON - NATO
- B) COMINFORM - Avrupa Konseyi
- C) COMECON - Avrupa Kömür ve Çelik Topluluğu
- D) Varşova Paktı - NATO
- E) NATO - Avrupa Konseyi

7. Tekrar Testi

10.

Bağlantısızlar Bloku

1955 Bandung Konferansı ile başlayan, uluslararası ilişkilerde Batı Bloku ve Doğu Bloku dışında kalan devletler grubuna verilen isimdir. Bu blok "Üçüncü Dünya" olarak adlandırıldı. Bandung Konferansı'nda bağlantısızlığın ortaya çıkmasını sağlayan en önemli neden, bağımsızlığını yeni kazanan devletlerin zayıflığı ve güçsüzlüğü olmuştur. Bu devletler kurulduğunda dünya iki bloka ayrılmıştı ve bu blokların her ikisi de nükleer güce sahipti. Yeni kurulan devletlerin bu nükleer güçlere tek başlarına karşı koyma gücü bulunmuyordu. Bu bloklardan herhangi birine girmekse bir sömürgecilikten kurtulup diğer bir sömürgeciliğe girmek anlamına gelmekteydi.

Buna göre aşağıdakilerden hangisinin Bağlantısızlar Bloku'nun benimsediği ilkelerden biri olduğu söylenemez?

- A) Siyasi bağımsızlığı sağlama
- B) Askerî ittifaklara katılma
- C) İç işlerine yabancıların müdahalesini reddetme
- D) Nükleer silahların yasaklanmasını savunma
- E) Halkların kendi kendilerini yönetme hakkını savunma

11. Yumuşama Dönemi'nde Orta Doğu'da meydana gelen önemli çatışmalardan biri de Irak ve İran arasında çıkan savaştı. Irak'ın devlet başkanı Saddam Hüseyin, İran'ı, ülkesindeki Şii Müslümanları isyana teşvik ettiği gerekçesiyle suçladı. Saddam Hüseyin'in asıl amacı İran'da gerçekleşen devrim sonrası zayıflayan İran ordusunun durumundan yararlanarak saldırıya geçip İran ve Irak'ı güneyde ayıran su yolu olan Şattülrap su yolunun denetimini ele geçirmektir.

Buna göre İran - Irak Savaşı'nın ortaya çıkmasında;

- I. İran'ın büyük devletlerle arasının açılması,
- II. sınır sorunu,
- III. mezhep çekişmeleri

durumlarından hangilerinin etkili olduğu söylenebilir?

- A) Yalnız I
- B) Yalnız II
- C) I ve II
- D) II ve III
- E) I, II ve III

7. Tekrar Testi

12. Kıbrıs Barış Harekâtı “Ayşe Tatile Çıktı”

15 Temmuz 1974'te Kıbrıs'ta Yunanistan'a bağlı subaylar askerî bir darbe yaparak Cumhurbaşkanı Makarios'u devirdiler. Yerine EOKA'ya bağlı Nikos Samson'u geçirdiler ve Kıbrıs Elen Cumhuriyeti'ni ilan ettiler. Kıbrıs Anayasası'na aykırı olarak yapılan ve Ada'yı Yunanistan'a bağlamak demek olan harekete Türkiye sert tepki gösterdi. Türk Silahlı Kuvvetleri, 20 Temmuz 1974'te Kıbrıs'ta barışı ve anayasal düzeni yeniden sağlamak için Kıbrıs Barış Harekâtı'nı gerçekleştirdi. Durumun Türkiye ve Yunanistan arasında bir savaşa dönüşmesi tehlikesi karşısında Birleşmiş Milletler taraflara ateşkes çağrısında bulundu. 25 Temmuz 1974'te taraflar Cenevre Konferansı'nda toplandı. Konferansın sonuçsuz kalması üzerine Türkiye 14 Ağustos 1974'te İkinci Barış Harekâtı'na başladı. İkinci Barış Harekâtı ile Lefke-Lefkoşa-Magusa hattı çizildi ve Ada'nın üçte biri Türk kontrolüne geçince harekât sona erdi. Kıbrıs Barış Harekâtı sonunda Ada'daki Türk toplumu 13 Şubat 1975'te Kıbrıs Türk Federe Devleti'ni kurdu.

Kıbrıs Barış Harekâtı'nın gerçekleşmesinde;

- I. Ada'da gayriresmî bir idarenin kurulması,
- II. Türkiye'nin Ada'daki Türk varlığını korumak istemesi,
- III. Türkiye'ye silah ambargosunun uygulanması

durumlarından hangilerinin etkili olduğu söylenebilir?

- A) Yalnız I B) Yalnız II C) I ve II D) II ve III E) I, II ve III

13. I. Kıta sahanlığı
II. Ege Adaları
III. Batı Trakya Türk azınlıkları

Yukarıda verilen sorunlardan hangilerinin Türkiye ve Yunanistan arasında yaşandığı söylenebilir?

- A) Yalnız I B) Yalnız II C) I ve II D) II ve III E) I, II ve III

14. 12 Mart 1971'de Genel Kurmay Başkanı ve dört kuvvet komutanının imzaladıkları bir muhtıra ile ortaya çıkan darbe, Türk siyasi tarihinde 12 Mart Muhtırası olarak adlandırıldı. 27 Mayıs Askerî Darbesi'nden farklı olarak bu sefer yönetime el konulmadı. Fakat askerî komuta heyeti, antidemokratik bir yöntemle, hükûmeti ve Meclis'i muhtıradaki şartları yerine getirmede TBMM'yi kapatacaklarını söyleyerek tehdit etti. Muhtıradaki ilk istek, görevdeki hükûmetin istifa etmesiydi. Seçimle göreve gelmiş olan Adalet Partisi Hükûmeti ve Başbakan Süleyman Demirel bu isteğe boyun eğmek zorunda kalarak istifa etti.

Buna göre 12 Mart Muhtırası ile ilgili olarak;

- I. Hükûmete yürütme görevinden el çektirilmiştir.
- II. Anayasa tamamen yürürlükten kaldırılmıştır.
- III. Demokratik yaşama aykırı bir müdahale gerçekleşmiştir.

yargılarından hangilerine ulaşamaz?

- A) Yalnız I B) Yalnız II C) Yalnız III D) I ve II E) II ve III

7. Tekrar Testi

15.

Millî İradeye Darbeler

Türkiye’de 27 Mayıs 1960 Askerî Darbesi, 12 Mart 1971 Muhtırası, 12 Eylül 1980 Askerî Darbelerinden sonra da demokrasiye karşı hukuk dışı müdahaleler yapılmıştır. 28 Şubat 1997, 27 Nisan 2007 ve 15 Temmuz 2016 tarihlerinde yapılan müdahaleler Türk demokrasisinin gelişimine zarar vermiştir. 28 Şubat 1997’de seçilmiş hükûmete karşı diğer askerî darbelerden daha farklı bir darbe gerçekleştirildi. 27 Mayıs ve 12 Eylül Darbelerinin aksine askerler 28 Şubat’ta yönetime bizzat el koymadılar. Bunun yerine medya üzerinden hükûmete karşı bir savaş verildi. Silahlı kuvvetlerin hükûmeti görevden zorla almaması nedeniyle 28 Şubat’da gerçekleştirilen darbe, “post-modern” darbe olarak adlandırılmıştır.

Buna göre aşağıdakilerden hangisi millî iradeye yapılan darbelerin ortak bir özelliğidir?

- A) Aynı yöntemlerle yapılması
- B) Ekonomik nedenlerle düzenlenmeleri
- C) Antidemokratik olmaları
- D) Halk tarafından desteklenmeleri
- E) Hükûmet değişikliğine neden olmaları

16. 1950’de iktidar olan Demokrat Parti Dönemi’nde dışa kapalı ve korumacı iktisat politikaları hızla terk edildi. Ekonomik ve siyasi alanda liberalizmi savunan Demokrat Partinin amacı hızlı büyüme oldu.

Buna göre aşağıdakilerden hangisi Demokrat Partinin ekonomi politikası ile ilişkilendirilemez?

- A) Yabancı sermaye girişinin yasaklanması
- B) İthalat yasağının kaldırılması
- C) Dış pazarlara yönelik bir kalkınma anlayışının izlenmesi
- D) Özelleştirmeye dayalı sanayileşmeye öncelik verilmesi
- E) Kredi faizlerinin düşürülmesi

17. II. Dünya Savaşı’nın sona ermesinin ardından tek partili yönetim sistemleri değer kaybetmiştir. Hızla çok partili demokratik sistemler kurulmaya başlamıştır. 7 Haziran 1945 tarihinde Celal Bayar, Adnan Menderes, Fuad Köprülü ve Refik Koraltan meclis grubu başkanlığına bir önerge vermişlerdir. Önergede demokratik usullerin daha geniş bir şekilde uygulanması isteniyordu. Bu önergenin altında dört milletvekilinin imzası olduğu için tarihe “Dörtlü Takrir” olarak geçmiştir.

Buna göre;

- I. çok partili siyasi hayata geçilmesi,
- II. çift dereceli seçim sisteminin uygulanması,
- III. üniversitelere özerklik verilmesi

durumlarından hangileri Dörtlü Takrir ile savunulan düşüncelerden biri olamaz?

- A) Yalnız I
- B) Yalnız II
- C) I ve II
- D) II ve III
- E) I, II ve III

7. Tekrar Testi

18. Şubat 2001'de gerçekleştirilen Millî Güvenlik Kurulu toplantısında dönemin Cumhurbaşkanı ile dönemin Başbakanı arasında yaşanan sert tartışma siyasi krize yol açtı. Yaşanan bu siyasi gerginliğin ardından ülkede faiz oranları gecelik % 7.500'e kadar çıkarken borsada %15 oranında düşüş yaşandı. Kamu bankaları büyük açıklar verdi. Böylece piyasalar kontrol edilemez bir hâle geldi.

Buna göre aşağıdaki yorumlardan hangisine ulaşılabilir?

- A) Siyasi kriz ekonomik krizi de beraberinde getirmiştir.
B) İç politikada yaşanan gelişmeler dış politikayı etkilemiştir.
C) 2001 yılında Türk Lirası değer kazanmıştır.
D) Yeni ekonomi programı uygulamaya konulmuştur.
E) Hükûmet değişikliği yaşanmıştır.
19. • Türkiye'yi, Türk dilini, tarihini, kültürünü ve sanatını dünyaya tanıtmak
• Bununla ilgili bilgi ve belgeleri dünyanın istifadesine sunmak
• Türk dili, kültürü ve sanatı alanlarında eğitim almak isteyenlere yurt dışında hizmet vermek

Görevleri hakkında bilgi verilen kuruluş aşağıdakilerden hangisidir?

- A) Yunus Emre Enstitüsü
B) Türk Dünyası Araştırmaları Vakfı
C) Uluslararası Türk Kültürü Teşkilatı
D) Türk İşbirliği ve Koordinasyon Ajansı Başkanlığı
E) Yurtdışı Türkler ve Akraba Topluluklar Başkanlığı

20.

Bosna Savaşı (1992-1995)

"Ben Avrupa'ya giderken kafam önümde eğik gitmiyorum çünkü çocuk, kadın ve ihtiyar öldürmedik. Hiçbir kutsal yere saldırmadık. Oysa onlar bunların tamamını yaptılar. Hem de Batı'nın gözleri önünde."

Aliya İzzetbegoviç

Bosna-Hersek'in ilk cumhurbaşkanı Aliya İzzetbegoviç'in bu sözleri dikkate alındığında Bosna Savaşı ile ilgili olarak;

- I. Batı'nın yapılan katliamlara seyirci kaldığı,
II. kültürel mirasa zarar verildiği,
III. tarafların eski sınırlarına çekildiği

yorumlarından hangilerine ulaşılabilir?

- A) Yalnız I B) Yalnız II C) I ve II D) II ve III E) I, II ve III



Cevap anahtarına ulaşmak için karekodu okutunuz.