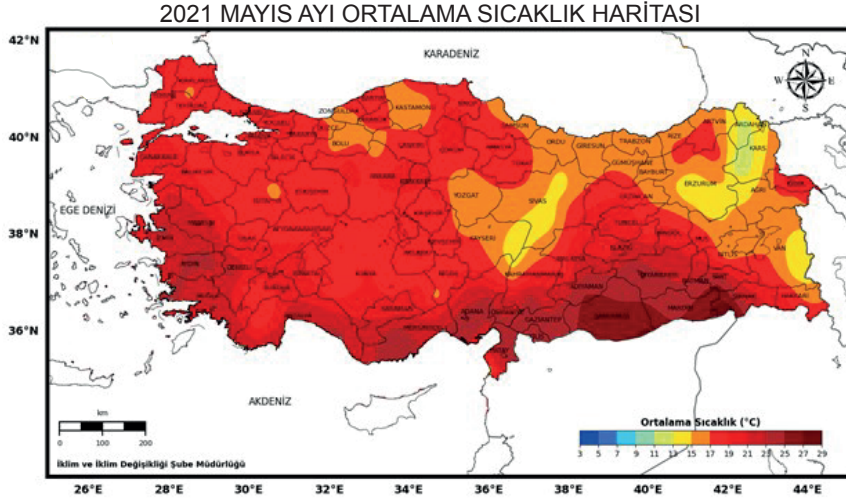


### 8. Tekrar Testi

1. Meteoroloji Genel Müdürlüğü'nün yağış ve sıcaklık analizi raporlarına göre, 2021 yılı mayıs ayı son 50 yılın en sıcak mayıs ayı oldu. Yağışlar normaline göre yüzde 56, geçen yılın mayıs ayı yağışlarına göre yüzde 66 azaldı. Haritalarda, Türkiye'nin büyük bir bölümü 'olağanüstü kurak', 'çok şiddetli kurak', 'şiddetli kurak' olarak gösterildi.



**Bu bilgilerden hareketle;**

- Yaşanan durum ekstrem bir olay olarak değerlendirilebilir.
- Yaşanan durum ülkenin kuzey doğu kesimlerini diğer yerlere göre daha olumsuz etkilemiştir.
- Bu olayın devam etmesi sonucunda tarımsal verimlilikte azalma, böcek istilası ve salgın hastalıklar görülme riski artacaktır.

**verilenlerden hangileri söylenebilir?**

- A) Yalnız I      B) I ve II      C) I ve III      D) II ve III      E) I, II ve III

2. Yeryüzünde her gün binlerce deprem meydana gelmektedir. Ancak bu depremlerin büyük çoğunluğu sadece hassas aletlerle ölçülebilecek derecede olup insanların hissedemeyeceği kadar küçük çaptadır. Bazı depremler ise büyük oranda can ve mal kayıplarına neden olacak şiddetli bir etki yapmaktadır. Örneğin 2010 yılında Haiti'de meydana gelen depremde resmi rakamlara göre 316 bin kişi hayatını kaybetmiş 300 bin kişi yaralanmıştır.

**Depremlerin etkisinin bu şekilde farklılık göstermesi üzerinde aşağıdakilerden hangisinin etkisi yoktur?**

- Odak derinliği
- Oluşum nedeni
- Yapıların depreme karşı direnci
- Hangi iklim bölgesi içerisinde olduğu
- Merkez üssünün jeolojik yapısı

## 8. Tekrar Testi

3. Ülkemizin de içerisinde yer aldığı Akdeniz Havzası, küresel iklim değişikliğine karşı yerkürenin en hassas bölgelerinden biridir. Akdeniz Havzası'nda gerçekleşecek 2°C'lik bir sıcaklık artışı, beklenmeyen hava olayları, sıcak hava dalgaları, orman yangınlarının sayısında ve etkisinde artış, kuraklık ve bunlar dolayısıyla biyolojik çeşitlilik kaybı, tarımsal verim kaybı olarak etkilerini hissettirecektir.

### Metinde bahsedilen olumsuzlukları önlemek veya azaltmak için

- I. işletmelerin ekolojik ayak izlerinin takip edilmesi,
- II. enerji verimliliği önlemlerinin alınması,
- III. işletmelerin kendi enerjilerini istedikleri türden üretmelerine imkân tanınması

### verilenlerden hangileri yapılabilir?

- A) Yalnız I                      B) I ve II                      C) I ve III                      D) II ve III                      E) I, II ve III

4. Polatlı şehri, Ankara İli'ne bağlı bir ilçe merkezidir. Karasal İklimin hakim olduğu şehir alüvyal topraklı hafif engebeli plato üzerinde gelişmiştir. İlk yerleşme izlerine Antik çağlarda rastlanılmıştır. Özellikle 1892'de inşa edilen Polatlı Tren Garı ve şehir merkezinden geçen Ankara - Eskişehir Karayolu şehrin gelişimini hızlandırmıştır. Şehrin gelişmesinde bu iki fonksiyonun yanında askeri ve sanayi fonksiyonu da etkilidir. 1927 yılında Polatlı şehrinde 420 kişi yaşarken, 2015 yılında 102430 kişi yaşamaktadır. Bu artış sadece doğal nüfus artışı ile yaşanmamıştır.

### Metinde yer alan bilgilere bakılarak bu şehir hakkında;

- I. Büyük uygarlıklara ev sahipliği yapmıştır.
- II. Şehrin gelişmesinde daha çok tarım ve turizm faaliyetleri önemli rol oynamıştır.
- III. Son yıllarda göç alan şehirler içerisinde yer almıştır.

### verilenlerden hangileri söylenir?

- A) Yalnız I                      B) I ve II                      C) I ve III                      D) II ve III                      E) I, II ve III

5. Sanayileşme şehirleşme ve göç olguları birbirleriyle sürekli etkileşim halindedir. Örneğin sanayileşme, şehirleşmeyi ve göçü artıran bir olgu olarak karşımıza çıkar. Bu şekilde gelişen şehirlerde ekonomik, sosyal ve kültürel hayatı iyileştiren birçok değişim yaşanır. Buna karşın bazı olumsuzluklardan da söz etmek mümkündür.

### Bu olumsuzluklar arasında hangisi gösterilmez?

- A) Üretim çeşitliliği
- B) İşsiz nüfus artışı
- C) Gürültü kirliliği
- D) Plansız kentleşme
- E) Tarım alanlarının daralması

## 8. Tekrar Testi

6.



Tekirdağ Kiraz Festivali her yıl geleneksel olarak Haziran ayında yapılan bir etkinliktir. Kortejler, sergiler, gösteriler, fener alayları, gece konserleri, kiraz yarışmaları, yelken yarışmaları, piknikler yapılmakta ve kapanış konserleri ile bitmektedir. Hafta boyunca özellikle şehirde iç turizm açısından büyük hareketlenme yaşanmaktadır. Kiraz Festivalinde dünyanın birçok ülkesinden ziyaretçiler gelmekte ve burada birçok firma da açtığı reyondarda ürünlerini tanıtmaya fırsatı bulmaktadır. Görünümü, lezzeti ve adına düzenlenen festivaliyle kirazın Tekirdağ için ayrı bir yeri vardır.

**Metinde yer alan bilgiler doğrultusunda bu tür etkinlikler hakkında aşağıdakilerden hangisi söylenemez?**

- A) Tarım ürünlerinin kalitesini artırıcı etki yapmaktadır.  
B) Bölgenin turizm gelirini artırmaktadır.  
C) Tarımsal kaynakların sürdürülebilir kullanımını desteklemektedir.  
D) Halkın kültürel açıdan gelişimini sağlamaktadır.  
E) Bölge dışına göçlerin yaşanmasına neden olmaktadır.
7. Dünyanın nüfuslanma sürecinde teknolojinin gelişmesiyle insan ömrü uzamış ve bebek ölümleri azalmıştır. Bunlar nüfus artışını da beraberinde getirmiştir. Dünya nüfusu, yaklaşık 10 - 13 bin yıl önce 80 milyon iken 1800'lü yıllarda 1 milyarı geçmiş, 2017 yılı itibarıyla yaklaşık 7,6 milyara ulaşmıştır. Bu nüfusa yeni doğumlarla yılda ortalama 80 milyon insan katılmaktadır. Uzmanlar 2075 yılında dünya nüfusunun 10 milyar civarında olacağını tahmin etmektedir. Nüfusun bu derecede artması mevcut olan bazı olumsuzlukların artmasına veya yeni olumsuzluklara neden olacaktır.

**Buna göre gelecekte yaşanacak olgular arasında**

- I. Geleneksel ziraat teknikleri yaygınlaşacaktır.  
II. Şehirler dikey düzlemde genişleyecektir.  
III. Göç hareketlerinde artış yaşanacaktır.

**verilenlerden hangileri gösterilmez?**

- A) Yalnız I      B) I ve II      C) I ve III      D) II ve III      E) I, II ve III

## 8. Tekrar Testi

8. Bilim ve teknoloji alanında özellikle de ulařtırma alanında yařanan geliřmeler mevcut ekonomik yapıları etkilemektedir. Bunu gemiřte var olan ekonomik yapı ile gnmzdeki yapıyı kıyaslayarak anlayabiliriz. rneđin gemiřte tarımsal retim bir ailenin fertlerinin gc kadar yapılabilirken tarım makinelerinin geliřmesi ile bunun birok kat fazlası kadar retim yapılabilmiřtir. Bu geliřmelerin gn getike hızlanması gnmzde yapılan retim, tketim, dađıtım ve ticaret gibi faaliyetlerin daha da deđiřimine neden olacaktır.

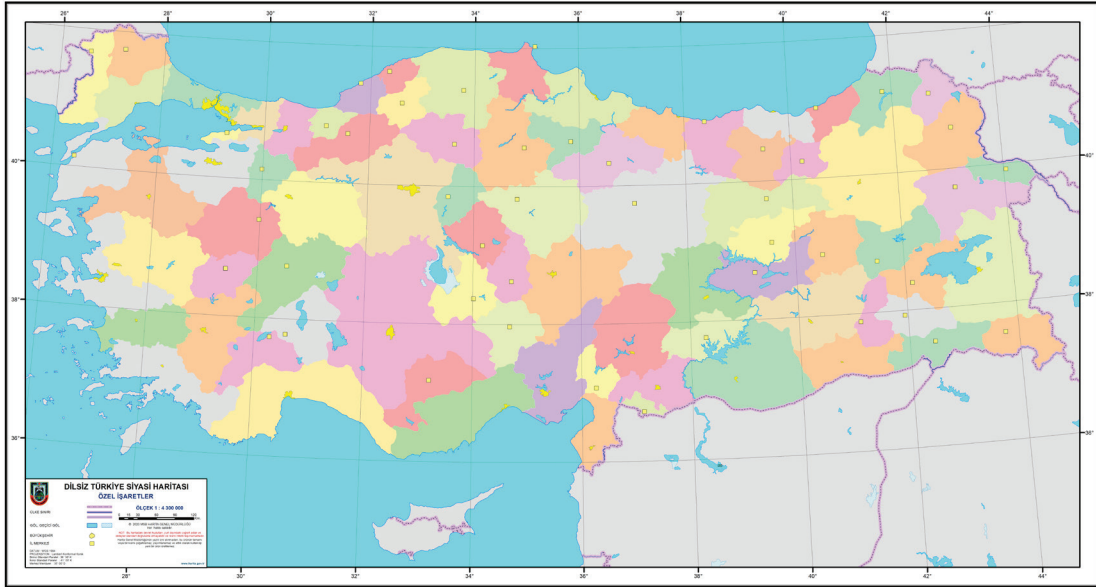
**Bu bilgiler dođrultusunda gelecekteki ekonomik yapı ile ilgili olarak;**

- I. dijital alandaki alıřveriř imknlarının artıř gstereceđi,
- II. yenilik ve deđiřime aık firmaların devamlılıđı sađlayabileceđi,
- III. iři gcne bugnknden daha fazla ihtiya duyulacađı

**verilenlerden hangileri sylenir?**

- A) Yalnız I                      B) I ve II                      C) I ve III                      D) II ve III                      E) I, II ve III

9. Ařađıda Trkiye'de il sınırlarını gsteren bir harita verilmiřtir.



**Bu haritada bulunan blgeler ařađıdaki blge trlerinden hangisine rnek olarak gsterilebilir?**

- A) Dođal řekilsel blgeler
- B) iřlevsel hizmet blgeleri
- C) iřlevsel ynetim blgeleri
- D) iřlevsel proje blgeleri
- E) Beřeri řekilsel blgeler

## 8. Tekrar Testi

10. Yerküre üzerindeki doğal kaynakların hızlıca tüketilmesi insanları yeni kaynaklar arama çalışmalarına yönlendirmiştir.

**Aşağıdaki teknolojik gelişmelerden hangisi bahsedilen çalışmalara yöneliktir?**

- A) Yapay zekâ
- B) Uzay madenciliği
- C) Büyük veri
- D) Arttırılmış gerçeklik
- E) Blok zinciri

11. Aşağıdakilerden hangisi Doğu Karadeniz Projesi'nin amaçları arasında yoktur?

- A) Bölgenin sosyokültürel gelişimini sağlamak
- B) Yayıncılık faaliyetlerini geliştirmek
- C) Doğal kaynakların verimli kullanımını sağlamak
- D) Kıyı kesimde ürün çeşitliliğini artırmak
- E) Erozyon ile mücadele etmek

12. Aşağıda'daki haritada bir alan işaretlenmiştir.



**İşaretli olan alanın doğal ve beşeri özellikleri düşünüldüğünde aşağıdaki hizmet alanlarından hangisinin daha fazla gelişmesi beklenir?**

- A) Haberleşme hizmetleri
- B) Turizm-seyahat hizmetleri
- C) Çevre hizmetleri
- D) Dağıtım hizmetleri
- E) Mali hizmetler

## 8. Tekrar Testi

13. Türkiye'nin ortalama yükseltisi 1132 metredir. Bazı yerlerde dağ sıraları kıyı çizgisine paralel biçimde uzanırken bazı yerlerde ise kıyı çizgisine dik biçimde uzanış göstermektedir. Aynı zamanda bazı bölgelerde engebeli alan fazla yer kaplarken bazı yerler de ise ova ve plato gibi engebeyesiz yer şekilleri bulunmaktadır.

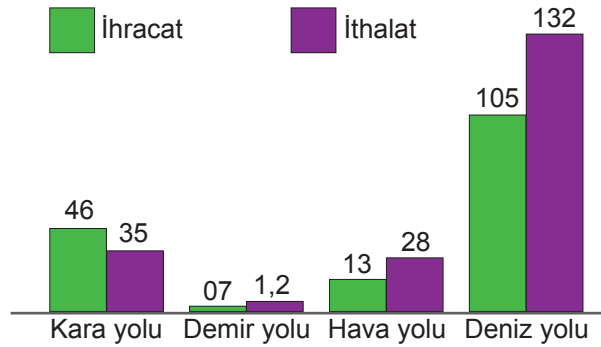
**Yalnızca metinde verilen bilgiler kullanılarak;**

- I. Ülkemizde ulaşımın güçlükle sağlandığı alanlar mevcuttur.
- II. Türkiye'de tarihi turizm mekânlarına sıklıkla rastlanabilir.
- III. Türkiye'de kaplıca, ılıca gibi sağlık turizmüne yönelik kaynaklar bulunmaktadır.

**verilenlerden hangileri çıkarılamaz?**

- A) Yalnız I      B) I ve II      C) I ve III      D) II ve III      E) I, II ve III

14. Aşağıda 2019 yılında Türkiye'de dış ticaretin ulaşım sistemlerine göre dağılımını gösteren bir grafik verilmiştir.



**Yalnızca grafikteki bilgilere bakıldığında**

- I. Türkiye'de hava yolu ile yapılan ithalat kara yolu ile yapılanaya göre her geçen gün yaklaşmaktadır.
- II. Türkiye'den satılan ürünlerin büyük çoğunluğu deniz yolu ile ulaştırılmaktadır.
- III. Türkiye'de mevcut demiryollarının hepsi iç ticarete yönelik kurulmuştur.

**verilenlerden hangileri çıkarılamaz?**

- A) Yalnız I      B) I ve II      C) I ve III      D) II ve III      E) I, II ve III



## 8. Tekrar Testi

15. Türkiye’de petrol rafinerileri incelendiğinde genellikle deniz ulaşımının kolay olduğu liman bölgelerinde kurulduğu söylenebilir. Bunun içerisinde istisnalar da bulunmaktadır. Örneğin Batman Rafinerisi aynı ilde bulunan Raman Dağı’ndan çıkan petrolü işlemek amacıyla bu bölgede kurulmuştur. Bunun haricinde bir de Kırıkkale’de kurulan Orta Anadolu Rafinerisi bulunmaktadır.

**Buna göre Orta Anadolu Rafinerisi ve kuruluş yeri ile ilgili olarak;**

- I. Kırıkkale çevresinde petrol çıkarılmaktadır.
- II. Ceyhan terminalinde toplanan petroler Kırıkkale’ye boru hattı ile taşınmaktadır.
- III. Petrol ürünlerinin ülkenin iç kesimlerine daha ekonomik şekilde ulaşımını sağlamaktadır.

**verilenlerden hangileri söylenir?**

- A) Yalnız I                      B) I ve II                      C) I ve III                      D) II ve III                      E) I, II ve III

16. Dünya’da ticaret faaliyetlerinin yoğun olduğu bazı bölgeler bulunmaktadır. Bu bölgeler arasındaki ticari faaliyetler dünyanın ticaret ağını ortaya çıkarmaktadır. Bu ticari faaliyetler üzerinde söz sahibi olan belli bölgesel örgütler veya bölgelerden söz etmek mümkündür.

**Bu bölgeler veya örgütler arasında aşağıdakilerden hangisi gösterilmez?**

- A) Birleşmiş Milletler
- B) Kuzey Amerika Serbest Ticaret Bölgesi
- C) Avrupa Birliği
- D) Uzak Doğu Ticaret Bölgesi
- E) Güney Ortak Pazarı

17. Türkiye’de iç ticaretin oluşmasını ve gelişmesini destekleyen faktörler arasında hangisi gösterilemez?

- A) Ülke içerisinde iklim özellikleri bakımından farklı bölgelerin bulunması
- B) Sanayi üretim tesislerinin belirli yerlerde toplanması
- C) Madenlerin çıkarıldığı yerler ile işlendiği yerlerin farklı olması
- D) Bazı büyük şehirlerde geniş çaplı fuarların düzenlenmesi
- E) Bazı yerlerde ulaşımın güçlüğüyle sağlanabilmesi

18. Türkiye’de Unesco tarafından Dünya Miras Listesi’ne alınan mekânları arasında hangisi yoktur?

- A) Bursa ve Cumalıkızık Köyü
- B) Truva Arkeolojik Alanı
- C) Çatalhöyük Neolitik Alanı
- D) Harput Tarihi Kenti
- E) İstanbul’un Tarihi Alanları

## 8. Tekrar Testi

19. Ülkelerin gelişmişlik seviyesini belirleyen bazı göstergeler bulunmaktadır. Bunlara bakarak bir ülkenin gelişmişliği hakkında çıkarım yapılabilir. Örneğin gelişmiş ülkelerde okuryazarlık oranı diğer ülkelere göre daha yüksektir.

**Aynı şekilde gelişmiş ülkelerde;**

- I. ortalama yaşam süresi,
- II. bebek ölüm oranı,
- III. enerji kullanım oranı

**hangilerinin yüksek olduğu söylenir?**

- A) Yalnız I                      B) I ve II                      C) I ve III                      D) II ve III                      E) I, II ve III

20. Günümüze bazı ülkeler arasında veya ülkelerin bir araya geliştirdikleri bloklar arasında sürmekte olan savaşlardan bahsetmek mümkündür. Bu savaşlar farklı nedenlerden kaynaklanabilmektedir.

**Bu nedenler arasında;**

- I. su kaynaklarının paylaşılabilmesi,
- II. sınır anlaşmazlıkları,
- III. bazı devletlerin emperyalist tavır sergilemeleri

**verilenlerden hangileri bulunur?**

- A) Yalnız I                      B) I ve II                      C) I ve III                      D) II ve III                      E) I, II ve III



Cevap anahtarına ulaşmak için karekodu okutunuz.