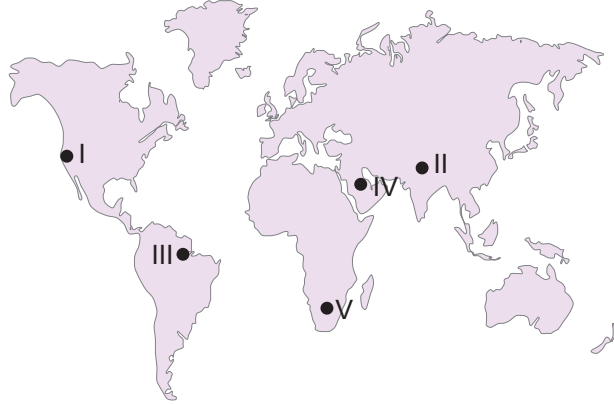




7. Tekrar Testi

1.



Bir yerdeki stratejik doğal kaynaklar ve ticaret olanakları o yerin jeopolitik önemini artırmaktadır.

Buna göre haritada verilen yerlerin hangisi günümüzün stratejik öneme sahip bölgeleri arasında gösterilir?

- A) I B) II C) III D) IV E) V

2.

- Kuzeyinde Akdeniz, doğusunda Kızıldeniz bulunur.
- Nil Nehri bu ülke topraklarını boydan boya katederek verimli delta ovası oluşturarak denize dökülür.
- Orta Çağ'da ipek ve baharat bu ülkenin limanından Avrupa'ya taşınmıştır.

Bazı stratejik özellikleri verilen ülke aşağıdakilerden hangisidir?

- A) Mısır B) Suriye C) Irak D) Libya E) Filistin

3.

- Orta kuşakta yer alması
- Komşu ülkelere göre zengin su kaynaklarına sahip olması
- Genç ve dinamik nüfusa sahip olması
- Üç tarafının denizlerle çevrili olması
- Yeryüzü şekillerinin kısa mesafelerde değişmesi
- Askerî alanda güçlü ülkeler arasında yer alması,

Yukarıda verilenlerden hangileri Türkiye' nin jeopolitik konumu üzerinde etkili olan değişen unsurlar arasında yer alır?

- A) I ve III B) II ve IV C) III ve VI D) III, V ve VI E) IV, V ve VI

7. Tekrar Testi

4. Türkiye’de son dönemde gerek bölgesel gerekse de küresel ölçekte yapılan ulaşım ile ilgili atılımlar Türkiye’nin jeopolitik önemini daha da artırmıştır.

Türkiye’de bu kapsamdaki projelerden hangisinin yapımına henüz başlanmamıştır?

- A) Karadeniz ile Akdeniz arasındaki bağlantıyı sağlayan İstanbul Boğazı’na alternatif olup uluslararası ticari hacmi artıracak ve deniz trafiğini rahatlatacak olan “Kanal İstanbul Projesi”
- B) İstanbul’un stratejik önemini artıracak olup Çin, Afrika ve Avrupa arasında hava trafiğinin önemli bir kısmını sağlaması beklenen “3. Hava Limanı Projesi”
- C) Dünyanın en büyük asma köprülerinden biri olacak ve Avrupa’dan ülkemize gelen ve Ege’ye, Batı Akdeniz’e hatta Batı İç Anadolu’ya inen bütün yük hareketinin Çanakkale üzerinden yapılmasıyla ekonomik anlamda önemli gelişmeler sağlayacak olan “1915 Çanakkale Köprüsü Projesi”
- D) Bölgesel ve küresel ölçekte öneme sahip İstanbul ve İzmir şehirlerinin arasındaki yolu 3,5 saate indirecek olan “Osman Gazi Köprüsü” ve “Gebze – Orhangazi – İzmir Otoyolu Projesi”
- E) Tarihî İpek Yolu’nu demir yoluyla hayata geçirecek; Çin’den Avrupa’ya kadar uzanan, önemli bir bölümünün de Türkiye’den geçtiği demir yolu bağlantısını kuran “Demir İpek Yolu Projesi”

5. Aşağıdakilerden hangisi Türkiye’nin jeopolitik önemini artıran özellikleri arasında yer almaz?

- A) Dünya’nın önemli petrol ve doğalgaz rezervlerinin olduğu Orta Doğu ve Hazar Havzası ile komşu olup bu enerji kaynaklarının Avrupa’ya taşınmasını sağlar.
- B) Karadeniz Havzası, Balkanlar, Kafkasya, Orta Doğu ve Orta Asya’nın oluşturduğu coğrafyanın merkezinde yer alır.
- C) Tarihin ilk çağlarından bu yana ulaşım açısından yakın coğrafyanın can damarı olan İstanbul ve Çanakkale Boğazlarına sahiptir.
- D) BM, NATO, Avrupa Konseyi, Ekonomik İş Birliği ve Kalkınma Teşkilatı, Karadeniz Ekonomik İş Birliği Örgütü, G-20, İslam İş Birliği Teşkilatı gibi kuruluşlara üye olarak küresel ve bölgesel barışa katkı sağlamaktadır.
- E) Ülke içerisindeki gelişmişlik farkını azaltmak için kalkınma projelerini hayata geçirmiştir.

6. Aşağıdakilerden hangisi E-ticaretin avantajları arasında yer almaz?

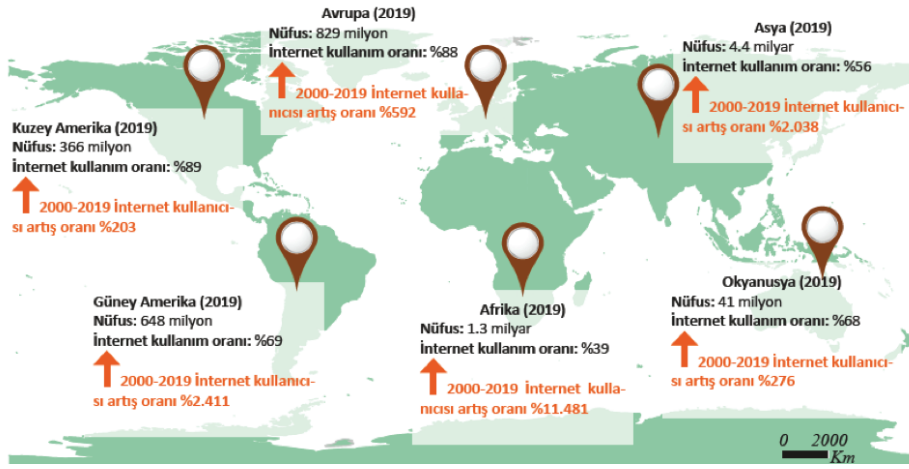
- A) Ürünlerin farklı pazarlarda satılabilmesi
- B) Kira giderlerinden tasarruf sağlaması
- C) İade ve iptal işlemlerinin daha fazla olması
- D) Alışverişte zaman kısıtlamasının olmaması
- E) Tezgahtar, kasiyer gibi elemanlara ihtiyaç duyulmaması

7. Tekrar Testi

7. Ekonomik ve sosyal hareketlerin belirlediği yaş aralıklarına **kuşak** denir. 1965 doğumlular ve sonrasını kapsayan yaş aralıkları X, Y ve Z kuşakları olarak sınıflandırılmıştır.

Buna göre aşağıda verilenlerden hangisi X kuşağına ait özelliklerden biridir?

- A) Kullanma kılavuzu olmadan teknolojik aletleri kullanabilirler.
B) Gerçek arkadaşlıkları tercih ederler.
C) Konuşmaktan çok cep telefonu ile mesajlaşmayı tercih ederler.
D) Genel Ağ yoluyla bilgiyi kısa sürede geniş kitlelere ulaştırırlar.
E) Teknolojik yeniliklere kolay adapte olurlar.
8. Aşağıdaki haritada kıtalara göre 2019 yılı İnternet erişimine sahip olma oranı verilmiştir.



Buna göre aşağıda verilen bilgilerden hangisine ulaşamaz?

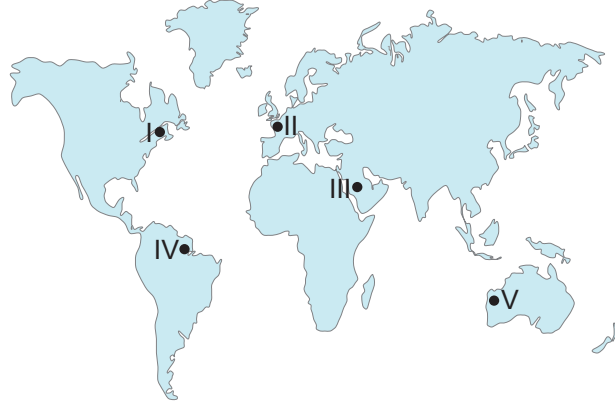
- A) İnternet kullanım oranının en az olduğu yer Afrika'dır.
B) İnternet kullanım oranının en fazla olduğu yer Kuzey Amerika'dır.
C) İnternet kullanımında 2000 - 2019 yılları arasında en fazla oransal artış Avrupa'dır.
D) İnternet kullanımında 2000 - 2019 yılları arasında en az artış Kuzey Amerika'dır.
E) İnternet kullanım oranı Güney Amerika'da Asya'dan daha fazladır.
9. Orta Afrika'nın batısında yer alan Nijerya, zengin petrol ve doğal gaz rezervlerine sahip olmasına rağmen petrol dış satımı yeterli düzeye ulaşamamaktadır.

Aşağıdakilerden hangisi bu durum üzerinde etkili değildir?

- A) Petrol üretim tesislerine yönelik sabotajlar
B) Ülkede güvenlik ortamının oluşmaması
C) Küresel petrol şirketlerinin ülkeyi bir çatışma bölgesi hâline getirmesi
D) Ülkede tarım sektöründe çalışanların sayısının diğer sektörlerden fazla olması
E) Ham madde kaynaklarının bölge halkı, hükümet tarafından paylaşılabilmesi

7. Tekrar Testi

10.



Ülkelerin farklı gelişmişlik özelliklerine sahip olmasında; doğal kaynakların kullanımı, sermaye, eğitim, teknoloji ve nitelikli iş gücünün varlığı gibi beşerî unsurlar önemli bir yere sahiptir.

Buna göre haritada gösterilen ülkelerden hangileri bu şekilde gelişmişlik özellikleri gösterir?

- A) I ve II B) II ve III C) III ve V D) I ve IV E) IV ve V

11.



Haritada verilen doğalgaz boru hattı aşağıdakilerden hangisidir?

- A) Mavi Akım Gaz Boru Hattı
B) Bakü – Tiflis – Erzurum Doğal Gaz Boru Hattı
C) Türk Akım Gaz Boru Hattı
D) Trans – Anadolu Doğal Gaz Boru Hattı
E) Doğu Anadolu Doğal Gaz Ana İletim Hattı

7. Tekrar Testi

12. Aşağıda Azerbaycan ile Ermenistan arasındaki sıcak çatışma bölgelerini gösteren harita verilmiştir.



Sovyetler Birliğinin dağılmasından sonra Azerbaycan ve Ermenistan arasında sıcak çatışmalar yaşanmıştır.

Bu çatışmaların nedeni aşağıdakilerin hangisidir?

- A) Kuraklık
- B) Su sorunu
- C) Sınır anlaşmazlıkları
- D) Küresel iklim değişikliği
- E) Yeraltı kaynakları

13. Sınır aşan sular iki ya da daha fazla ülkenin topraklarını katederek akan sulardır. Bu sular bazı ülkeler arasında anlaşmazlıklara neden olmaktadır.

Bu sulara örnek olarak hangileri gösterilir?

- A) Manavgat – Sakarya
- B) Fırat – Dicle
- C) Kızılırmak – Yeşilirmak
- D) Gediz – Bakırçay
- E) Büyük Menderes – Küçük Menderes

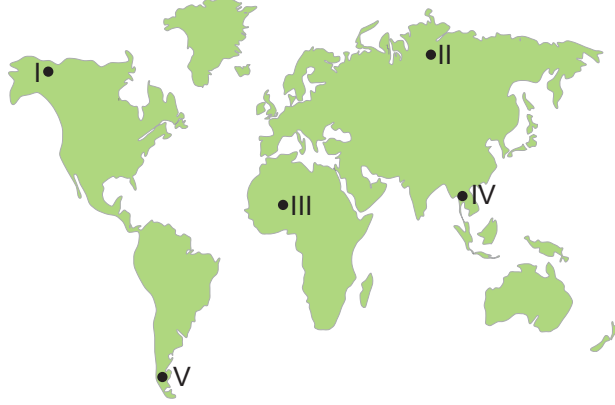
14. Amacı; dünyada yaşamın devamını sağlayan ekolojik ortamı desteklemektir. Bu amaçla biyolojik çeşitliliği korumak; su, toprak ve hava kirliliğini önlemek ve barışı desteklemek için çalışmalar yapar.

Yukarıda bilgisi verilen çevresel örgüt aşağıdakilerden hangisidir?

- A) Greenpeace
- B) Avrupa Çevre Ajansı (APA)
- C) Doğal Hayatı Koruma Vakfı (WWF)
- D) Uluslararası Doğayı Koruma Birliği (IUCN)
- E) Birleşmiş Milletler Çevre Programı (UNEP)

7. Tekrar Testi

15.



Ekolojik ayak izi; birey, şehir, ülke veya tüm dünya için hesaplanabilir. Hesaplama, yenilenebilir kaynakların ne kadar tüketildiği ve atıkların bertarafı için kullanılan kaynağın ve alanın ölçülmesiyle yapılır.

Buna göre haritada verilen ülkelerin sanayi üretimleri düşünüldüğünde hangisinin ekolojik ayak izinin daha büyük olması beklenir?

- A) I B) II C) III D) IV E) V

16. Birleşmiş Milletler Eğitim, Bilim ve Kültür Örgütü (UNESCO) tarafından “üstün evrensel değere” sahip bütün kültürel ve doğal varlıklara **dünya mirası**, bu varlıkların yer aldığı listeye ise **Dünya Miras Listesi** adı verilir.

Aşağıdakilerden hangisi Dünya Mirasını tehdit eden olaylardan biri değildir?

- A) Deprem sel gibi doğal afetler
B) Tarihî eser kaçakçılığı
C) Baraj yapımı ve madencilik faaliyetleri
D) Savaşlarda dünya miraslarına yönelik saldırılar
E) Yerel yönetimler tarafından koruma altına alınması

17.



Türkiye’de ayı popülasyonunun genellikle nemli ormanların yüksek kesimlerinde yoğun olduğu bilinmektedir. Bu türün ekosistemdeki diğer türlerin dengede kalması ve tohum dağıtması gibi önemli ekolojik faydaları bulunmaktadır.

Bu türün faydalarının haritada verilen yerlerin hangisinde daha belirgin görülmesi beklenir?

- A) I B) II C) III D) IV E) V

7. Tekrar Testi

18. Aşağıdakilerden hangisi ormanların tahribi sonucu ortaya çıkacak sorunlardan değildir?

- A) Ekosistemin bozulması
- B) Toprak erozyonunun oluşması
- C) Yağış rejiminin bozulması
- D) Yeraltı kaynaklarının azalması
- E) Vahşi yaşam hayatının tehlikeye girmesi

19. Çevre sorunların önlenmesinde hükümetlerin yanında bireylerin de görevleri bulunmaktadır.

Aşağıdakilerden hangisi bireylere düşen görevler arasında yer almaz?

- A) Su ve enerji tasarrufu yapmak
- B) Çevre dostu araç gereçler kullanmak
- C) Atıkların geri dönüşümü için ayrıştırma yapmak
- D) Temiz enerji üretimini ülkede yaygınlaştırmak
- E) Aşırı ve gereksiz tüketimden kaçınmak

20. Yeşil Başkent Ödülü, kentlerdeki yaşam alanlarını ve genel olarak çevreyi iyileştirmek amacıyla Avrupa Komisyonu tarafından her yıl bir kente verilecek şekilde planlanmıştır. İlk Avrupa Yeşil Başkent Ödülü 2010 yılında İsveç'in başkenti Stockholm kentine verilmiştir. Çevre bilinci ve atık yönetimi konusunda dünyanın önde gelen ülkelerinden biri olan İsveç'te neredeyse atıkların yarısı geri dönüştürülüyor ve bu şekilde elektrik ve ısı enerjisi üretiliyor. Bu ısı, hanelerin merkezi sistemle ısıtılmasını sağlıyor. Bu da fosil yakıtlarının kullanımını en aza indiriyor. Bu sayede çevre ve hava kirliliği en aza indirilmiştir. Dünyada hava kirliliğinden dolayı en az insan ölümü de İsveç'te görülmektedir.

Verilen metinde aşağıdakilerden hangisine değilmemiştir?

- A) Stockholm 2010 Yeşil Başkent ödülünü almıştır .
- B) İsveç'te atıkların neredeyse yarısı geri dönüştürülmektedir .
- C) Atıkların dönüştürülmesi sonucunda ülkede ısı ve elektrik enerjisi üretilmektedir.
- D) İsveç'te fosil yakıtlar sadece otomobillerde kullanılmaktadır.
- E) Dünyada hava kirliliğinden dolayı en az insan ölümü İsveç'te yaşanmaktadır.



Cevap anahtarına ulaşmak için karekodu okutunuz.