



3. Tekrar Testi

1. Uzun yıllar tarım yerleşmesiyle nüfusu ve yaşam standartları belirli bir seviyede olan şehirler, 1750'deki Sanayi Devrimi'yle başta Batı Avrupa olmak üzere önüne geçilemez bir değişim yaşamıştır. Önce maden kömürü, daha sonra petrolden gücünü alan makineler ham maddeleri mamul maddelere dönüştürmüş, yeni sanayi kolları ortaya çıkmış ve üretilen maddeler çeşitlenmiştir. Gelişen ticaretle birlikte dünyanın uzak kesimleri birbirine bağlanmıştır. Şehirler, yeni ekonomik sistemin verimliliği ve bilimsel gelişmeler sayesinde daha çok insanın evi hâline gelmiştir.

Metine göre şehirlerin nüfusunun artmasında aşağıdakilerden hangisinin etkisi daha azdır?

- A) Yeni iş kollarının ortaya çıkması
B) Sanayileşme hareketinin başlaması
C) Tarımsal faaliyetlerin yapılması
D) Teknolojik gelişmelerin yaşanması
E) Küresel ticaretin yapılması
2. Aşağıda Türkiye ekonomisi ile ilgili iki örnek verilmiştir.
- Türkiye'de transit kara ve deniz taşımacılığı, petrol ve doğalgaz boru hatlarının varlığı hem istihdam sağlamakta hem de gelir oluşturmaktadır.
 - Anadolu coğrafyası sahip olduğu doğal ve kültürel zenginlik alanları sayesinde her yıl önemli sayıda turisti çekmektedir. Turizmin ülkeye doğrudan döviz girdisi sağlaması milli gelirin artmasına da etki etmektedir.

Bu iki örnekten çıkarılabilecek ortak sonuç aşağıdakilerden hangisidir?

- A) Yarımada olması nedeniyle Türkiye'de deniz turizmi gelişmiştir.
B) Hizmet sektörünün Türkiye'nin ekonomisine önemli katkısı vardır.
C) Türkiye'nin çevresinde önemli enerji üretim bölgeleri bulunmaktadır.
D) Türkiye toprakları konumu itibarıyla medeniyetlerin buluşma noktasındadır.
E) İstanbul ve Çanakkale Boğazları Türkiye'de transit taşımacılığın gelişmesini sağlamıştır.
3. Türkiye'de bölgeler arası ekonomik ve sosyal farklılıkları gidermek için bölgesel kalkınma çalışmaları başlatılmıştır. Bu çalışmalardan bir tanesi de Güneydoğu Anadolu Projesidir.

Bu projenin hedefleri arasında;

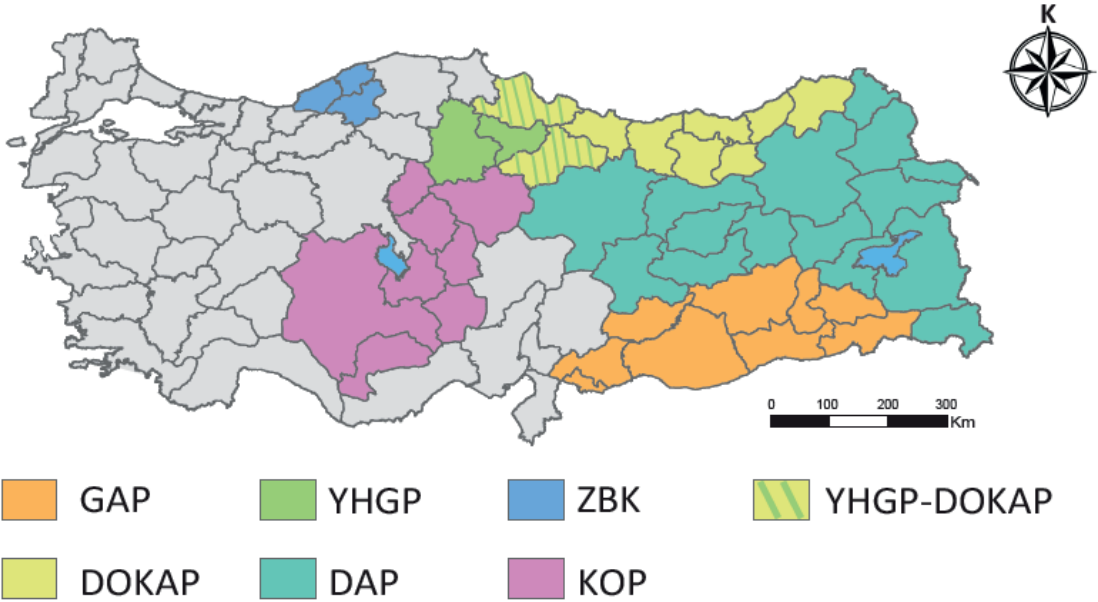
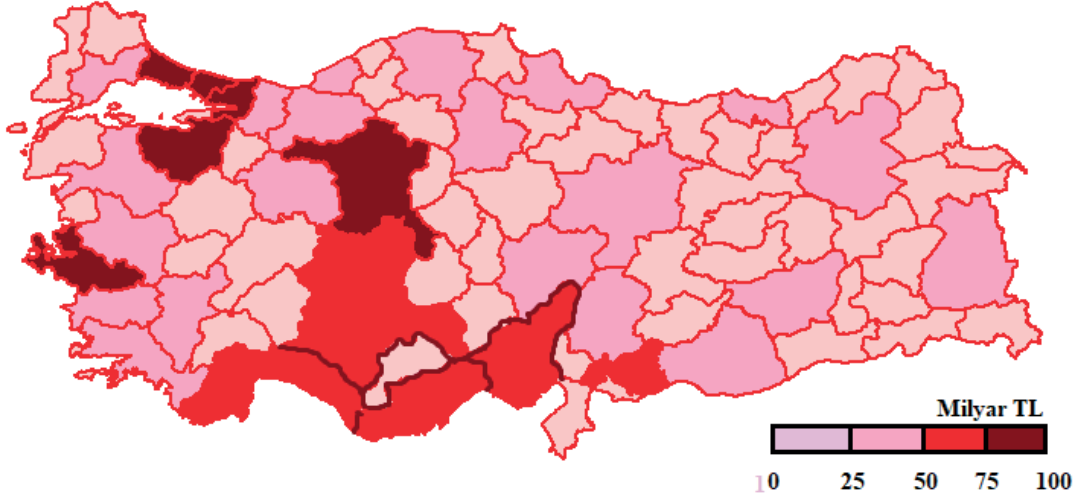
- sulama olanaklarını geliştirmek,
- dağcılık ve kış turizmini geliştirmek,
- hidroelektrik enerji üretimi sağlamak

faaliyetlerden hangileri bulunmaz?

- A) Yalnız I. B) Yalnız II. C) Yalnız III. D) I ve II. E) II ve III.

3. Tekrar Testi

4. Aşağıda verilen birinci harita gayri safi yurtiçi hasılanın illere göre dağılımını, ikinci harita ise Türkiye’de yürütülen bölgesel kalkınma projelerinin kapsadığı illeri göstermektedir.



Bu haritalar dikkate alındığında aşağıdakilerden hangisinin bölgesel kalkınma projelerinin amacına daha uygun olduğu söylenebilir?

- A) Ülke içindeki göç yönünü batıdan doğuya doğru kaydırmak
- B) Tarımsal üretim miktarını artırarak ekonomide dışa bağımlılığı azaltmak
- C) Ekonomik seviyesi düşük illerin gelişmesi için hayvancılığı teşvik etmek
- D) Kırsal alanlarının altyapısını geliştirerek kırdan kente yapılan göçleri durdurmak
- E) Ekonomik ve sosyal farklılıkları gidererek bölgeler arası gelişmişlik farklarını azaltmak

3. Tekrar Testi

5. Afyon kaymağı manda sütünden elde edilir. Afyon'un rakımı, iklim şartları, doğal kaynak suları, sahip olduğu mera ve otlaklar manda sütüne ayrı bir lezzet vermektedir. Bu süttten yapılan kaymak ayrı bir lezzet ve dayanıklılığa sahiptir. Kaymağın yerelliğini koruyabilmek için coğrafi işaret tescil belgesi verilmiştir. Böylece sahip olduğu alanın adıyla anılan ürünün markalaşması kolaylaşır.

Coğrafi işaretleme sayesinde ürün ve üretici korunarak, millî değerleri temsil eden sembol ürünler gelecek nesillere aktarılır. Ayrıca kırsal kesimin kalkınması sağlanarak maddi ve manevi katma değer artar.

Buna göre aşağıdakilerden hangisi coğrafi işaret uygulamasının amaçlarından biri olamaz?

- A) Üretici haklarının korunması
B) İhracat gelirlerinin artırılması
C) Taklit ürünlerin engellenmesi
D) UNESCO 'Yaratıcı Şehirler Ağına' girilmesi
E) Tarihsel ve kültürel değerlerin korunup dünyaya tanıtılması
6. Türkiye'nin bölgesel kalkınma projeleri ile ilgili bilgi yarışması yapan Sedat Öğretmen iki grup oluşturup grupların yöneltilen sorulara verdikleri cevaplardan bazılarını aşağıdaki tabloda göstermiştir.

Sıra	Bilgiler
1	Türkiye'nin ilk bölgesel kalkınma projesi GAP'tır.
2	DOKAP'ta kıyı kesimde ürün çeşitliliğini artırmak amaçlanmıştır.
3	Bu bölgede yer alan projelerden biri de Yeşilirmak Havzası Gelişim Projesidir.
4	Doğu Anadolu Projesi'nin hedeflerinden biri de hayvancılığın gelişmesini sağlamaktır.
5	UNESCO 'Dünya Miras Kenti' kapsamında yer alan Safranbolu ZBK bölgesindedir.

Buna göre aşağıdakilerden hangisi gruplara yöneltilen sorulardan biri olamaz?

- A) DOKAP ın amaçları nelerdir?
B) Karadeniz bölgesinde kaç tane gelişim projesi vardır?
C) Doğu Anadolu Projesi ile ulaşılacak istenen hedefler nelerdir?
D) UNESCO Dünya Mirası listesinde yer alan kaç tane şehrimiz vardır?
E) Türkiye'de bölgesel kalkınma için yapılan ilk proje hangisidir?

3. Tekrar Testi

7. Aşağıda geleceğin şehirleri ile ilgili öngörülen iki çalışma verilmiştir.

- Dünya nüfusunun sürekli artması, yaşam alanlarının sıkışması ve doğal kaynakların azalış göstermesi gibi sorunlardan dolayı gelecek yıllarda evlerin kapsül dairelere dönüşmesi olasıdır.
- Dikey çiftçilik denen tarım yöntemi, şehirlerde mimarisi özel olarak tasarlanmış binalarda şehrin içerisinde tarım yapılması esasına dayanır.

Bu iki çalışmanın ortak başlığı aşağıdakilerden hangisi olabilir?

- A) Konut sorununa çözüm arayışları
- B) Hava kirliliğine çözüm arayışları
- C) Şehirlerde sürdürülebilir bir yaşam arayışları
- D) Tarımsal ürün ihtiyaçlarına çözüm arayışları
- E) Oluşturulmak istenen yeni mimari anlayışları

8. Hizmet sektörü içinde yer alan yönetim bölgeleri işlevsel bölgelerdir.

Buna göre aşağıdakilerden hangisi işlevsel bölge kapsamına girer?

- A) Ulaştırma hizmetleri
- B) İstatistik kurumu verileri
- C) Günlük hava tahmini raporları
- D) Köy Hizmetleri Genel Müdürlüğü
- E) Nüfus yoğunluğunun fazla olduğu iller

9. Anadolu'da Selçuklu ve Osmanlı devletleri döneminde ulaşım yolları güzergâhında belirli mesafeler arasında kervansaraylar ve hanlar yapılmış, ulaşım yollarının güvenliği sağlanmıştır.

Selçuklu ve Osmanlıların bu çalışmalarının öncelikli amacı aşağıdakilerden hangisi olduğu söylenebilir?

- A) Tarımsal üretimi artırmak
- B) Tüccarların güvenliğini sağlamak
- C) Eğitim hizmetlerini geliştirmek
- D) Seyyahlar için konaklama yerleri oluşturmak
- E) Anadolu'ya göçlerin yapılmasını kolaylaştırmak

3. Tekrar Testi

10. Aşağıdaki haritada 1856 dan 2016 ya kadar Türkiye’de demir yolları ağı gösterilmiştir.



Haritadaki bilgiler göz önüne alındığında aşağıdakilerden hangisi söylenemez?

- A) Türkiye'nin önemli limanlarının demir yolu bağlantısı vardır.
- B) Doğudan batıya doğru genel anlamda demiryolu ağı sıklaşmaktadır.
- C) Türkiye’de 1950’li yılların başında demir yolu ağı 7000 km’ nin üzerindedir.
- D) Karadeniz’in doğusundan Antalya kıyılarına demir yolu ile ulaşma imkânı vardır.
- E) Ankara, İstanbul ve İzmir illeri arasında demir yolu bağlantısı vardır.

11. E-ticaret, hayatı kolaylaştırmasının yanında birtakım riskleri de beraberinde getirir. Bunlardan en önemlisi, siber güvenliğin ihlali ile ortaya çıkan siber suçlardır. Sanal ortamda kanunlara aykırı olarak gerçekleşen ve suç olarak tanımlanabilen her türlü eyleme siber suç denir.

E-ticaret yaparken siber saldırılara maruz kalmamak için;

- I. alışverişlerde sanal kart kullanılmalı,
- II. adres çubuğunda “https://” yazmasına dikkat edilmeli,
- III. alışveriş sitesinin, güvenlik sertifikasına (SSL) sahip olmasına dikkat edilmeli

hangileri yapılmalıdır?

- A) Yalnız I.
- B) Yalnız II.
- C) I ve II.
- D) I ve III.
- E) I, II ve III.

3. Tekrar Testi

12. Hizmet sektörü içinde yer alan yönetim bölgeleri; sağlık, eğitim, pazarlama-ticaret, güvenlik, barınma-eğlence, ulaştırma-iletişim, rekreasyon-turizm faaliyetleriyle ilgili olarak belirlenen işlevsel bölgelerdir.

Aşağıda ülkemizde Meteoroloji Genel Müdürlüğü işlevsel hizmet bölge müdürlükleri haritası verilmiştir.



1. Bölge Müdürlüğü
İstanbul

4. Bölge Müdürlüğü
Antalya

7. Bölge Müdürlüğü
Kayseri

10. Bölge Müdürlüğü
Samsun

13. Bölge Müdürlüğü
Elazığ

2. Bölge Müdürlüğü
İzmir

5. Bölge Müdürlüğü
Afyonkarahisar

8. Bölge Müdürlüğü
Konya

11. Bölge Müdürlüğü
Trabzon

14. Bölge Müdürlüğü
Van

3. Bölge Müdürlüğü
Eskişehir

6. Bölge Müdürlüğü
Adana

9. Bölge Müdürlüğü
Ankara

12. Bölge Müdürlüğü
Erzurum

15. Bölge Müdürlüğü
Diyarbakır

Harita incelendiğinde Meteoroloji Genel Müdürlüğü'nün bünyesinde ülke genelinde 15 tane işlevsel bölge müdürlüğü olduğu görülmektedir.

Genel müdürlüklerin bu şekilde hizmet sunmasının nedenleri arasında aşağıdakilerden hangisi yoktur?

- A) Hizmetlerin yurt geneline yayılmasını sağlamak
- B) Hizmetlerin daha hızlı gerçekleşmesini sağlamak
- C) Denetimlerin düzenli ve planlı yapılmasını sağlamak
- D) Ülke genelindeki hizmetlerin tek merkezde toplanmasını sağlamak
- E) Hizmet bölgelerindeki sorunları işlevsel bölge merkezinden yönetmek

3. Tekrar Testi

13. Aşağıda Batman ili ile ilgili bilgiler verilmiştir.

Batman 1948 yılında İluh adında bir demiryolu istasyonu ve çevresinden ibaret, tarım ve hayvancılıkla geçinen küçük bir kasaba konumunda olan yerleşim yeri idi.

Günümüzde Batman 600 bin nüfuslu büyük bir şehirdir. Kurulu bulunan petrol rafinerisi, bölgenin sosyo ekonomik yapısını değiştirmiş göç alan bir yerleşim yerine dönüştürmüştür.

Buna göre, Batman ilinin büyüüp gelişmesinde öncelikle hangi ekonomik faaliyetin etkili olduğu söylenebilir?

- A) Güneydoğu Anadolu projesinin
- B) Enerji kaynak üretiminin
- C) Ticari faaliyetlerin
- D) Tarımsal etkinliklerin
- E) Ulaşım koşullarının

14.



Tarımın Geleceği: Dikey çiftçilik

Birleşmiş Milletler yaptığı tahminlere göre 2050 yılında dünya nüfusunun 9 milyar, 2100 yılında ise 11,2 milyar olması beklenmektedir. Bu da küresel gıda ihtiyacını karşılamak için daha fazla üretim yapmayı gerektirecektir. Bu yüzden bilim insanları, çözüm olarak görsellerde verilen dikey çiftçilik modelini geliştirmektedir. Bu çiftliklerin şehirlerin içinde ya da çok yakınında olması planlanmaktadır.

Bu tarım modeli ile ilgili aşağıdakilerden hangisi söylenemez?

- A) Dikey çiftlikler için mimarisi özel olarak tasarlanmış binalara ihtiyaç vardır.
- B) Her ailenin kendine ait dikey çiftliğinin olması tarımda çalışanların oranını artıracaktır.
- C) Üretim doğal koşullardan en az etkileyecek şekilde modern yöntemlerle yapılır.
- D) Bu yöntemle amaçlanan, birim alandan yıl boyu en yüksek verimi ve ürünü elde etmektir.
- E) Bu yöntemle çiftçilerin ürettiği tarım ürünlerinin şehirlere taşınması yerine tarımsal üretim şehirlere yapılır.

3. Tekrar Testi

15. Aşağıda Güneydoğu Anadolu Projesi kapsamında sulama kanalları üzerinde gerçekleştirilen bir uygulamanın fotoğrafı gösterilmiştir.



Bu uygulama ile ilgili;

- I. Güneş enerjisinden yararlanılmıştır.
- II. Buharlaşmayı azaltıp su tasarrufu sağlanmıştır.
- III. Boğulma riskine karşı güvenlik önlemleri alınmıştır.

hangilerinin yapıldığı söylenebilir?

- A) Yalnız I. B) Yalnız II. C) I ve III. D) II ve III. E) I, II ve III.

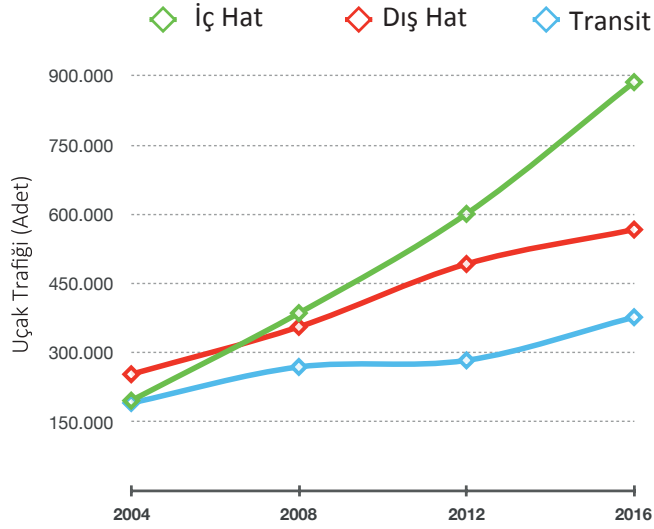
16. Türkiye’de bölgeler arası ekonomik ve sosyal farklılıkları gidermek için bölgesel kalkınma çalışmaları başlatılmıştır. Ekonomik ve sosyal kalkınma için gerekli her türlü kaynağın, nüfus ve ekonomik faaliyetlerin ülkenin her yerinde dengeli dağılması hedeflenmiştir.

Aşağıdakilerden hangisi bu amaçla yapılan çalışmalardan biri değildir?

- A) Güneydoğu Anadolu Projesi
- B) Türk Akım Gaz Boru Hattı Projesi
- C) Yeşilirmak Havzası Gelişim Projesi
- D) Zonguldak, Bartın, Karabük Projesi
- E) Doğu Karadeniz Bölgesel Gelişim Projesi

3. Tekrar Testi

17. Aşağıda Türkiye’de 2004-2016 yılları arası uçak trafik yoğunluğu grafiği gösterilmiştir.



Yalnızca grafikteki bilgilere göre aşağıdakilerden hangisine ulaşılabılır?

- A) İç hatlarda trafik yoğunluğu en fazla olan il İstanbul'dur.
- B) İç hatların ekonomiye katkısı dış hatlardan daha fazladır.
- C) Dış hat trafik yoğunluğunda verilen yıllar arasında çok fazla dalgalanma olmuştur.
- D) Yeni hava alanlarının yapılması transit seferlerin artmasını sağlamıştır.
- E) Verilen yıllar arasında genel olarak hava trafiği yoğunluğu artmıştır.

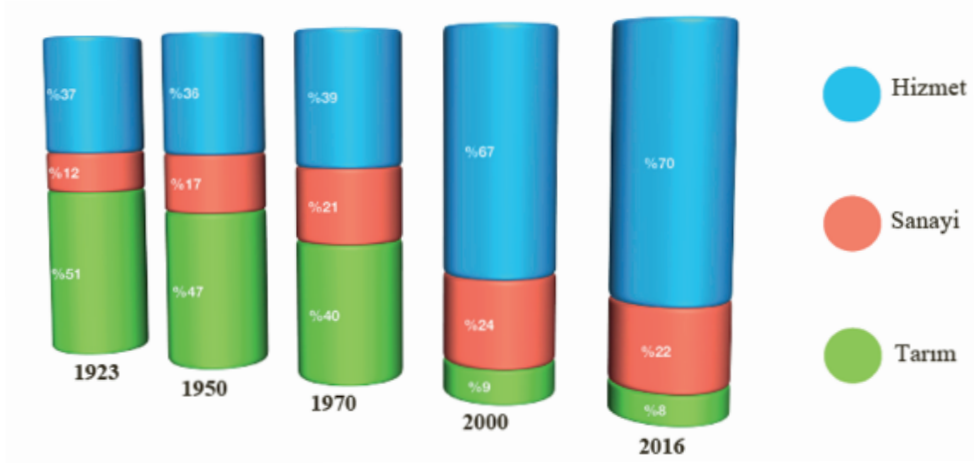
18. Günümüzün hızla gelişen bölgelerinden biri Uzakdoğu Ticaret bölgesidir. Asya kaplanları' olarak bilinen Tayvan, Singapur, Hong Kong ve Güney Kore Doğu Asya ticaretindeki hızlı yükselişe ciddi bir ivme kazandırmıştır. Bu ülkeler dışında, son yirmi yılda ekonomik anlamda büyük atılım yapan ülke Çin'dir. Çin, ekonomi politikasındaki reformla dışa açılmış ve son dönemlerde ciddi bir büyüme kat etmiştir. Sahip olduğu insan kaynakları yabancı yatırımcılar için oldukça cazip gelmiş, Büyük firmalar, üretim sahalarını Çine kaydırmışlardır. Günümüzde Çin ekonomisi ABD den sonra ikinci büyük ekonomiye ulaşmış, Almanya ve Japonya'yı geride bırakmıştır.

Açıklamaya göre, Çin'in küresel ekonomideki yeri üzerinde aşağıdakilerden hangisinin etkisi daha fazladır?

- A) İş gücünün ucuz olması
- B) Doğu Asya ülkesi olması
- C) Topraklarının verimli olması
- D) Yüzölçümünün büyük olması
- E) Yer altı kaynaklarının zengin olması

3. Tekrar Testi

19. Aşağıda Türkiye’de çalışanların sektörlere göre gayrisafi yurt içi hasıla (GSYH) içindeki payları verilmiştir.



Hizmet sektörü günümüzde hayatın her alanına girmiş ve gayrisafi yurt içi hasılanın (GSYH) önemli bir bölümünü oluşturmuştur. Tarım sektörünün 80 yılda GSYH'nin %50'si seviyesinden ortalama %8 düzeyine gerilemesi, Türkiye’de ekonomik dinamiklerin değiştiğini göstermiştir. Türkiye’de tarımda çalışanların GSYH içindeki payı 1923'te %51 iken 2016'da %8'e gerilemiştir. Aynı dönemde hizmet sektöründe çalışanların GSYH içindeki payı %37'den %70'e ulaşmıştır.

Türkiye’de hizmet sektöründe çalışanların GSYH içindeki payının artmasında aşağıdakilerden hangisinin etkisi daha azdır?

- A) Ulaşım ve iletişim sistemlerindeki teknolojilerin gelişmesi
- B) Nüfusun artmasına bağlı olarak temel tüketim maddelerinde artış olması
- C) Sanayi ve tarımda ihtiyaç fazlası ürün miktarının artması ile ticaret hacminin artması
- D) Ekonomik gelişme ile birlikte eğitim seviyesinin yükselmesi ve eğitime ayrılan sürelerin uzaması
- E) İnsanların dinlenme eğlenme ve farklı yerler görme isteğine bağlı olarak turizm faaliyetlerinin gelişmesi

20. Brezilya'nın Sao Paulo kenti, 1700'lerde küçük bir kasaba iken verimli topraklarında yetişen kahve üretimi sayesinde hızla büyümüştür. Kısa bir sürede sanayi, ticaret ve bankacılık merkezi hâline gelmiştir. Kentin son yıllarda sürekli büyümesi, hava kirliliğini ve gecekondulaşmayı da beraberinde getirmiştir.

Yukarıdaki açıklamaya göre, Sao Paulo kentinin büyümesinde;

- I. tarımsal üretim,
- II. turizm faaliyetleri,
- III. endüstriyel gelişim

hangilerinin etkisinden söz edilebilir?

- A) Yalnız I.
- B) Yalnız II.
- C) I ve III.
- D) II ve III.
- E) I, II ve III.



Cevap anahtarına ulaşmak için karekodu okutunuz.