



8. Tekrar Testi

1.



Marmara Denizi'nde giderek yayılan, deniz suyuna giren ışığı azaltan, balıkçılık faaliyetlerini durduran ve halkta tedirginliğe neden olan mülaj ya da deniz salyası Çevre ve Şehircilik Bakanlığını harekete geçirdi. Bakanlık deniz salyasına yol açan üç nedenin öne çıktığını belirterek, bu nedenleri şu şekilde sıraladı:

- küresel ısınma sonucu deniz suyu sıcaklığındaki yükselme
- denizdeki durağanlık
- kirlilik

Yukarıda verilen bilgiler doğrultusunda yaşanan mülaj olayı ile ilgili olarak

- I. Denizdeki biyoçeşitliliği olumsuz etkileyebilir.
- II. Beşeri etkenler dışında da nedenleri bulunmaktadır.
- III. Denizdeki canlı popülasyonuna etkisi yoktur.

verilenlerden hangileri söylenir?

- A) Yalnız I B) Yalnız II C) I ve II D) I ve III E) II ve III

8. Tekrar Testi

2.



Çin hükümeti tarafından yayımlanan veriler, nüfusu yaklaşık 1 milyar 410 milyona ulaşan ülkede, doğum oranının son dönemin en düşük düzeyine indiğini gösteriyor. Ülkede son 10 senede yıllık ortalama doğum oranı yüzde 0,53 oldu. Oysa bu oran 2000-2010 arasında yüzde 0,57 idi. 10 yılda bir yapılan nüfus sayımının sonuçları, Çin hükümetinin daha fazla çocuk sahibi olmayı teşvik edecek önlemler almasını gerektiriyor.

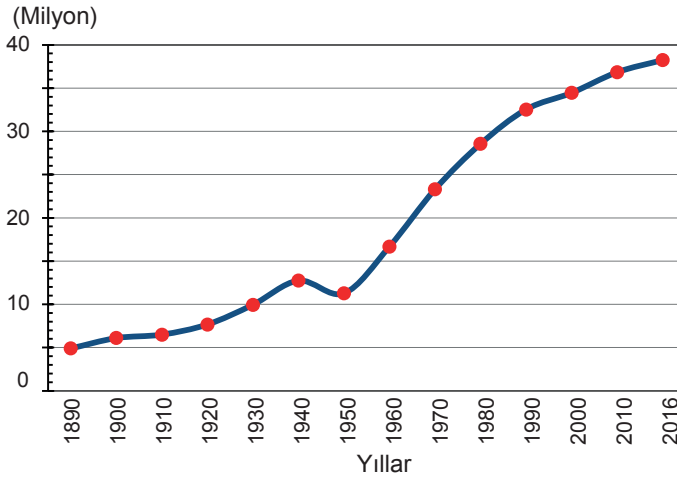
Bu metne göre Çin hükümetinin uyguladığı nüfus politikasının hedefleri arasında

- I. genç nüfus oranını azaltmak,
- II. toplumun demografik yapısını korumak,
- III. iş gücünü korumak

verilenlerden hangileri gösterilemez?

- A) Yalnız I B) Yalnız II C) I ve II D) I ve III E) II ve III

3. Aşağıda Tokyo'da nüfusun yıllara göre değişimini gösteren bir grafik verilmiştir.



Bir yerde nüfus artışı ve azalışı üzerinde etkili olan faktörler düşünüldüğünde grafikte verilen bilgiler ile

- I. 1940 yılına kadar Tokyo'da özellikle demir yolu ve hızlı tren alanlarında önemli gelişmeler kaydedilmiştir. Bu sayede şehir çevresine göre cazibe merkezi haline dönüşmüştür.
- II. 1950'lerden sonra Tokyo, teknolojik gelişmelerle yeni sanayi faaliyetlerinin merkezi haline dönüşmüştür.
- III. 1940 yılına gelindiğinde ABD tarafından atılan bombalarla Tokyo, yerle bir olmuştur.

hangileri arasında uyum olduğu savunulur?

- A) Yalnız I B) I ve II C) I ve III D) II ve III E) I, II ve III

8. Tekrar Testi

4. Uluslararası ticaret, borsa, bankacılık, sigortacılık, ulaşım gibi sektörlerin merkezlerinin bulunduğu şehirlerin küresel ortamdaki etki alanları daha fazladır.

Bu şehirlere örnek olarak aşağıdakilerden hangisi gösterilmez?

- A) New York B) Şanghai C) Paris D) Bombay E) Londra

5. • Arazinin engebeli olduğu yerler
• Su kaynaklarının fazla olduğu yerler
• Tarım alanlarının parçalı olduğu yerler

Verilen özelliklere sahip yerlerde aşağıdakilerden hangisinin bulunması beklenir?

- A) Bölgesel etki alanına sahip şehir
B) Dağınık kır yerleşmesi
C) Maden şehri
D) Toplu yerleşme
E) Çiftlik yerleşmeleri

6. Üretim, dağıtım ve tüketim faaliyetleri doğal unsurlardan büyük ölçüde etkilenmektedir.

Bu bilgiye örnek olarak aşağıdakilerden hangisi gösterilmez?

- A) Nüfus yoğunluğunun fazla olduğu yerlerde tüketim faaliyetleri daha fazladır.
B) Verimli ovalar üzerinde tarımsal faaliyetler daha yoğundur.
C) Sıcak ve nemli iklim bölgeleri ormancılık faaliyetleri için uygun alanlardır.
D) Hayvansal gıda üretimi yapan sanayi tesisleri hayvancılığa uygun iklim bölgelerinde yoğunlaşmıştır.
E) Yükselti ve engebenin fazla olduğu yerlerde tarımsal üretim sınırlıdır.

7. I. Bazı ülkeler sınırlı doğal kaynaklara sahip olmasının yanı sıra bilim ve teknoloji alanlarında da gelişme gösteremediği için yeterince kalkınamamışlardır.
II. Bazı ülkeler zengin doğal kaynaklarını ihraç ederek kalkınmalarını sağlamaktadır.
III. Bazı ülkeler bilim ve teknoloji alanında gösterdiği gelişmeler ile sınırlı doğal kaynaklarını kullanarak veya doğal kaynak ithal ederek kalkınmalarını sağlamışlardır.

Öncüllerde verilen bilgiler ile aşağıda verilen ülke örneği eşleştirmelerinden hangileri doğrudur?

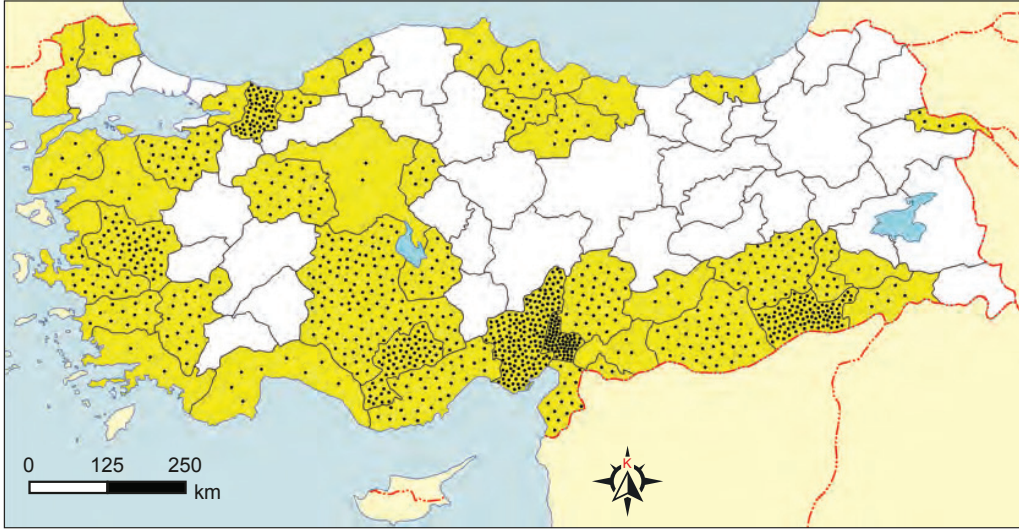
I	II	III
A) Bahreyn	Çin	ABD
B) Kuveyt	Paraguay	Almanya
C) Moğolistan	Katar	Japonya
D) Nijer	Sudan	Rusya
E) Kanada	İsveç	İspanya

8. Tekrar Testi

8. Türkiye'nin ekonomi politikaları ile ilgili olarak verilen bilgilerden hangisi yanlıştır?

- A) 1923-1929 döneminde tarım ve hayvancılığın geliştirilmesi için aşar vergisi kaldırılmıştır.
- B) 1923-1929 döneminde genel olarak milli bir ekonomik yapının kurulması amaçlanmıştır.
- C) 1930-1950 döneminde sanayi üretimini desteklemek amacıyla üreticiye kredi sağlayacak bankalar kurulmuştur.
- D) 1950-1960 döneminde büyük sermayeli üretim tesislerinin gelişmesi engellenmiştir.
- E) 1960-1980 döneminde Devlet Planlama Teşkilatı kurularak kalkınma planları hazırlanmıştır.

9. Aşağıda Türkiye'de yetişen bir tarım ürününün yetiştirme alanları gösterilmiştir.



Yetiştirme alanları dikkate alındığında bu tarım ürünü aşağıdakilerden hangisidir?

- A) Mısır
- B) Arpa
- C) Zeytin
- D) Kivi
- E) Pamuk

10. Eti ve yumurtası için beslenen tavuk, hindi, kaz ve ördek gibi kanatlı hayvanlara genel olarak kümes hayvanları denilmektedir. Türkiye ekonomisine önemli katkı sağlayan kümes hayvancılığı günümüzde ticari amaçlı modern çiftliklerde yapılmaktadır. Bu çiftlikler genellikle tüketim merkezlerine yakın yerlerde kurulmaktadır.

Buna göre bahsedilen çiftliklerin aşağıdakilerden hangisinde daha az bulunması beklenir?

- A) Konya
- B) Bolu
- C) Manisa
- D) Eskişehir
- E) Muş

8. Tekrar Testi

11. Tarım sektörü Türkiye ekonomisinde oldukça önemli bir yere sahiptir. Bu kapsamda tarımsal faaliyetlerin gıda ihtiyacını karşılaması, sanayi sektörüne ham madde sağlaması, ihracat ürünleri sağlaması, istihdam oluşturmaları gibi ekonomik katkıları bulunmaktadır. Bu sektörün önemini ve konumunu belirten bazı istatistiksel göstergeler bulunmaktadır. Bu göstergelere bakarak tarımın ülke ekonomisindeki yeri hakkında çıkarımda bulunabiliriz.

Bu göstergeler arasında aşağıdakilerden hangisi yoktur?

- A) Tarımla uğraşan nüfusun toplam nüfus içerisindeki oranı
- B) Toplam iş gücü içerisindeki tarımsal iş gücünün oranı
- C) Tarımın ülke gayrisafi milli hasılasındaki oranı
- D) Ülkedeki bitkisel üretim gelirlerinin hayvancılık gelirlerine oranı
- E) Dış ticaret gelirleri içerisindeki tarımsal gelirlerin oranı

12. • Genellikle eski göl tabanlarında oluşmuş tortul alanlar içerisinde bulunur.
• Kullanım alanı oldukça fazla olup uçak ve jet yakıtı olarak da kullanılabilir.
• Türkiye, dünyadaki toplam rezervlerin %72'sine sahiptir.

Yukarıda tarif edilen maden hangisidir?

- A) Antimon
- B) Bor
- C) Cıva
- D) Demir
- E) Asbest

13. Türkiye arazisinin oluşumu ve şekillenmesi üzerinde volkanizma ve dağ oluşum hareketleri büyük oranda etkili olmuştur. Volkanizma ve dağ oluşum hareketleri aynı zamanda ülkemizdeki maden ve enerji kaynaklarına da etki etmiştir.

Bu durumun etkileri arasında;

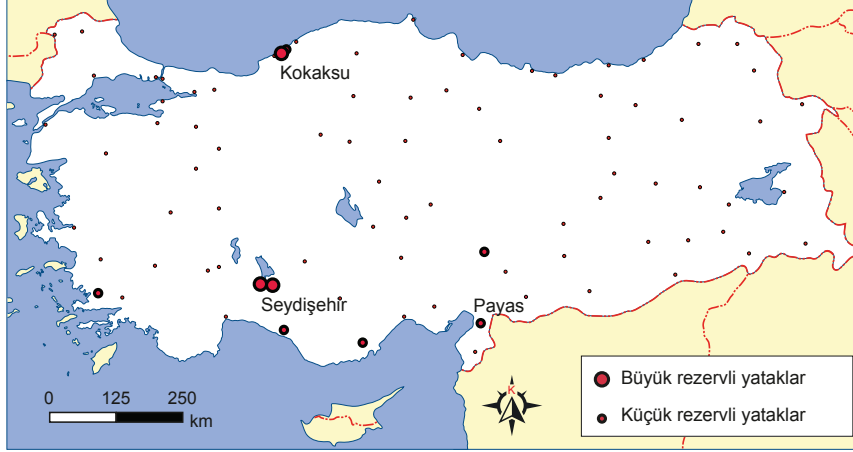
- I. maden çeşitliliği bakımından zengin olması,
- II. her türden işletilebilir maden yataklarına sahip olması,
- III. maden ithalatına gerek duymaması

verilenlerden hangileri gösterilir?

- A) Yalnız I
- B) I ve II
- C) I ve III
- D) II ve III
- E) I, II ve III

8. Tekrar Testi

14. Aşağıdaki haritada Türkiye’de çıkarılan bir maden türünün başlıca yatakları gösterilmiştir.



Bu maden türünün kullanım alanları ile ilgili;

- I. Alüminyumun ham maddesidir.
- II. İzolasyon malzemelerinin yapımında kullanılır.
- III. Akü imalatında kullanılır.

verilenlerden hangileri doğrudur?

- A) Yalnız I B) Yalnız II C) I ve II D) I ve III E) II ve III

15.



Küresel yenilenebilir enerji kapasitesinin 2019’da yaklaşık yüzde 25,3’ünü oluşturan rüzgâr enerjisinin payı 2020 sonu itibarıyla yüzde 27’ye yükseldi. Rüzgâr enerjisi geçen yılki kapasite artışıyla dünyada hidroelektrikten sonra en yüksek kapasiteye sahip ikinci temiz enerji kaynağı olarak yerini korudu. Küresel Rüzgâr Enerjisi Birliği verilerine göre, rüzgâr enerjisi kapasitesinin 2025’ten önce 1000 gigavata ulaşacağı ve 2050’de net sıfır emisyon hedeflerine ulaşmada rüzgâr enerjisinin rolünün artmaya devam edeceği öngörülmüyor.

Metindeki bilgilere göre;

- I. temiz enerji kaynaklarının kullanım oranının gün geçtikçe artış göstereceği,
- II. atmosfere salınan sera gazlarının gün geçtikçe azaltılmak istendiği,
- III. fosil yakıtların rezervlerinin 2050 yılına gelindiğinde tükeneceği

verilenlerden hangilerine ulaşılır?

- A) Yalnız I B) I ve II C) I ve III D) II ve III E) I, II ve III

8. Tekrar Testi

16. Doğadaki madenlerin çıkarılması, işlenmesi vb. süreçlerde meydana gelen kazalara maden kazası denir.

Bu kazaların önlenmesi ve kazalarda meydana gelebilecek kayıpların azaltılması için yapılacaklar arasında aşağıdakilerden hangisi gösterilemez?

- A) İş sağlığı ve Güvenliği Yasası'na uygun tedbirler ve denetimler ciddi bir şekilde yapılmalıdır.
- B) Maden ocağının ve bölgesinin özelliklerine göre acil eylem planları ve tatbikatları yapılmalıdır.
- C) Madenlerde her işçi için olağanüstü durumlarda haberleşmeyi sağlayacak teçhizatlar kurulmalıdır.
- D) Maden ocaklarının ÇED (Çevresel Etki Değerlendirmesi) raporlarının hazırlanması ve bu rapora uygun bir şekilde işletilmesinin sağlanması.
- E) Maden ocağı girişlerinin yangın, su baskını ve duman gibi dış etkenlerden korunaklı olmasının sağlanması.

17. Aşağıda Türkiye'de sanayi sektörünün bazı yıllarda gayrisafi milli hasıla içerisindeki payını gösteren bir tablo verilmiştir.

Yıl	GSMH İçinde Sanayinin Oranı (%)
1925	9,6
1950	13
1980	21
2018	29,4

Yalnızca bu tablodaki bilgilere bakılarak;

- I. Tarım sektörünün GSMH içerisindeki payı gün geçtikçe azalmaktadır.
- II. Sanayi sektörü sürekli bir gelişme göstermektedir.
- III. Hizmet sektörünün GSMH içerisindeki payı değişme göstermemektedir.

verilenlerden hangilerine ulaşılır?

- A) Yalnız I
- B) Yalnız II
- C) I ve II
- D) I ve III
- E) II ve III

18. • İnşa ettikleri etkileyici tapınaklar, saraylar ve piramitlerden anlaşılacağı üzere mimari ve sanatta gelişmişlerdir.
• Tarımda sulama, bataklık kurutma gibi yöntemlerde oldukça gelişmişlerdir.
• Kendilerine özgü alfabe, din ve takvimleri vardır.

Özellikleri verilen medeniyet hangisidir?

- A) Aztek
- B) İnka
- C) Hint
- D) Çin
- E) Mezopotamya

8. Tekrar Testi

19. Türk kültürünün ortaya çıktığı ve bu bölgenin doğal şartlarına göre şekillendiği kültür ocağı neresidir?

- A) Orta Asya
- B) Kafkasya
- C) Anadolu
- D) Orta Doğu
- E) Doğu Asya

20. Aşağıda ekonomik ve bölgesel alanda hizmet eden bir örgütün üye ülkeleri gösterilmiştir.



Bu örgütün özellikleri arasında

- I. Türkiye'nin öncülüğünde kurulmuştur.
- II. Üye ülkeler arasında ekonomik, teknolojik ve sosyal ilişkilerin gelişmesini amaçlamıştır.
- III. Merkezi İstanbul'dadır.

verilenlerden hangileri yer alır?

- A) Yalnız I
- B) I ve II
- C) I ve III
- D) II ve III
- E) I, II ve III



Cevap anahtarına ulaşmak için karekodu okutunuz.