



7. Tekrar Testi

1. Geçmişten günümüze dünyanın farklı bölgelerinde coğrafi, siyasi, ekonomik ve sosyal faktörlerin etkisiyle medeniyetler kurulmuş ve bu medeniyetler birbirlerini etkilemiştir. İlk medeniyetlerin kurulmasında elverişli iklim şartları, su kaynakları, verimli tarım toprakları gibi coğrafi faktörlerin etkili olduğunu söylemek mümkündür.

Bu faktörler düşünüldüğünde aşağıdakilerden hangisi diğerlerine göre daha dezavantajlı bir bölgede kurulmuştur?

- A) Mısır Medeniyeti
B) Akdeniz Medeniyeti
C) Hint Medeniyeti
D) İnkâ Medeniyeti
E) Mezopotamya Medeniyeti
2. • İndus ve Ganj nehirleri çevresinde kurulmuştur.
• Baharat Yolu'nun başlangıcında bulunmaktadır.
• Birçok dine ev sahipliği yapan bu medeniyette halk, "kast sistemi" adı verilen sınıflara ayrılmıştır.



Verilen bilgiler haritada numaralandırılarak gösterilen yerlerden hangisinde ortaya çıkmıştır?

- A) I B) II C) III D) IV E) V
3. I. Yatağan Termik Santrali
II. Sarayköy Jeotermal Santrali
III. Çayırhan Termik Santrali
IV. Sarıyar Hidrolik Santrali
V. Karapınar Güneş Enerji Santrali

Yukarıdaki santrallerden hangilerinin bulunduğu yerde hava kirliliğinin fazla olması beklenir?

- A) I ve III B) I ve V C) II ve IV D) II ve V E) III ve IV

7. Tekrar Testi

4. Aşağıdaki görsellerde yer alanlardan hangisi Türk kültürüne ait unsurlardan biri değildir?



5. I. Ulaşım sistemlerinin gelişmesi
II. Bölgede ekonominin canlanması
III. Tarım alanlarının turizme açılması
IV. Toplumlar arasında hoşgörü ortamı oluşmasına katkı sağlaması

Verilenlerden hangileri bir bölgede turizmin gelişmesinin olumlu sonuçları arasında gösterilir?

- A) I ve II B) II ve III C) I, II ve IV D) I, III ve IV E) II, III ve IV

6. Aşağıdaki tabloda Somali ve Fransa ile ilgili 2015 yılına ait bazı bilgiler verilmiştir.

Ülkeler	Kırsal Nüfus (%)	Tarımda Çalışan Nüfus (%)	GSYİH (Milyar Dolar)	Tarımdan Elde Edilen Gelir (Milyar Dolar)	Tarımın GSYİH Oranı (%)
Somali	60,4	65	6,2	3,7	60,2
Fransa	20,4	2,7	2400	38,4	1,6

Tabloya göre aşağıdaki yargılardan hangisi söylenemez?

- A) Somali ekonomisindeki en büyük pay tarımdan elde edilmektedir.
B) Fransa'da entansif (modern) tarım yöntemleri uygulanmaktadır.
C) Somali'de ekstansif (geleneksel) tarım yöntemleri uygulanmaktadır.
D) Fransa'nın tarımdan elde ettiği gelir Somali'den daha yüksektir.
E) Somali'nin tarım alanlarının oranı Fransa'dan daha fazladır.

7. Tekrar Testi

7. I. Birleşmiş Milletler
II. Avrupa Birliği
III. İslam İşbirliği Teşkilatı
IV. Bağımsız Devletler Topluluğu
V. Ekonomik İşbirliği ve Kalkınma Örgütü

Yukarıda verilen uluslararası örgütlerden hangileri bölgesel örgüt olma özelliği taşımaktadır?

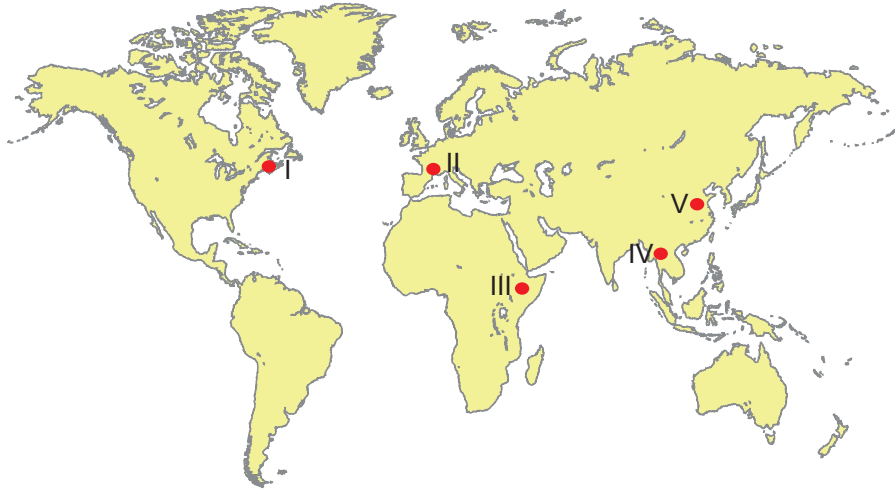
- A) I ve III B) II ve III C) II ve IV D) II, III ve IV E) III, IV ve V

8. • Kurumun amacı; barışı tehlikeye sokacak durumlara karşı önlem almak, ülkeler arasında dostça ilişkiler geliştirmek, uluslararası anlamda ekonomik ve sosyal iş birliğini sağlamaktır.
• Güvenlik Konseyi; ABD, Çin, İngiltere, Fransa ve Rusya'dan oluşan 5 daimi üye ile dönüşümlü olarak her iki yılda bir değişen 10 geçici üyeden oluşur.
• Uluslararası Çalışma Örgütü (ILO), Uluslararası Para Fonu (IMF), Dünya Ticaret Örgütü (WTO) gibi uzman kuruluşlara sahiptir.

Yukarıda özellikleri verilen uluslararası örgüt aşağıdakilerden hangisidir?

- A) Birleşmiş Milletler
B) Ekonomik İşbirliği ve Kalkınma Örgütü
C) Petrol İhraç Eden Ülkeler Örgütü
D) Kuzey Atlantik Antlaşması Örgütü
E) Karadeniz Ekonomik İşbirliği Teşkilatı

9.



Dünya ticaretinde ham madde ve üretimden sonraki aşama tüketim bölgesi olan pazardır. Günümüzde en geniş pazar alanları; nüfusun yoğun, gelişmişliğin de normalin üzerinde olduğu yerlerdir.

Harita üzerinde verilen yerlerden hangisi bu duruma örnek değildir?

- A) I B) II C) III D) IV E) V

7. Tekrar Testi

10. Aşağıda görselleri verilen medeniyetlerden hangisi Anadolu topraklarında kurulmamıştır?

A)



Selçuklu Kümbeti

C)



Göbeklitepe

B)




Perge Antik Kenti

D)



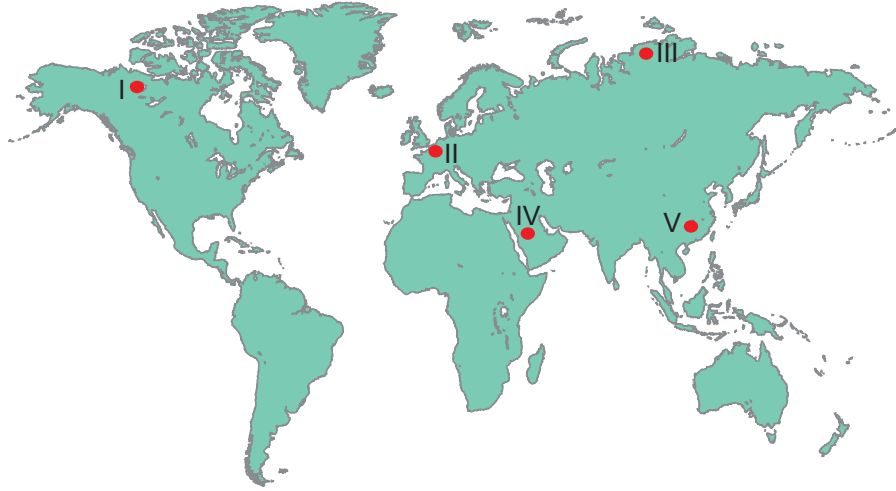
Efes Antik Kenti

E)



Mostar Köprüsü

11.



Yukarıdaki harita üzerinde bazı üretim bölgeleri gösterilmiştir.

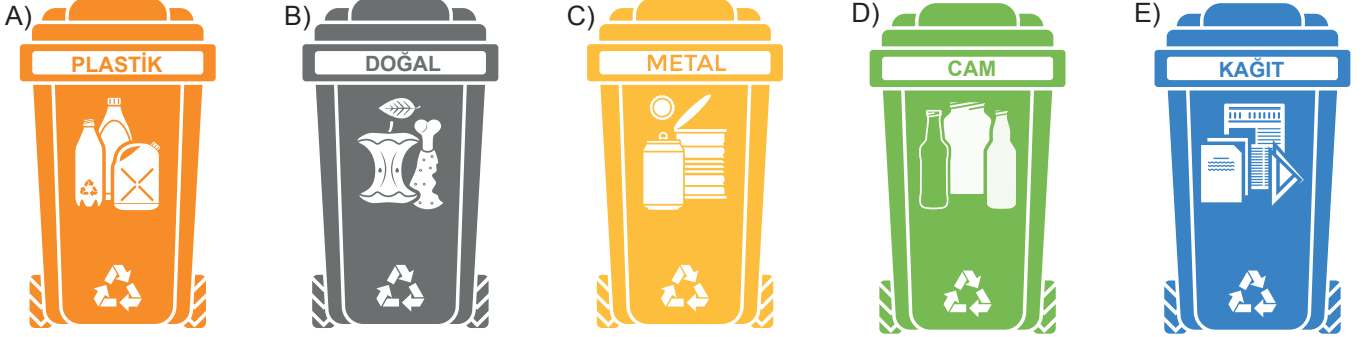
Bu bölgelerle üretilen ürün eşleşmelerinden hangisi yanlıştır?

- A) I – Orman ürünleri
- B) II – Hizmet ürünleri
- C) III – Hayvancılık
- D) IV – Yer altı kaynakları
- E) V – Sanayi ürünleri

7. Tekrar Testi

12. Geri dönüşüm, atıkların birtakım işlemlerden geçirildikten sonra ikinci bir ham madde özelliği kazanmasını sağlamaktır. Geri dönüşüm sayesinde doğadaki kaynaklar korunmakta, enerji tasarrufu sağlanmakta, atık miktarı azalmakta, çöp alanlarının ömrü uzamakta ve ekonomiye katkı sağlanmaktadır.

Doğaya en az zarar veren geri dönüşüm ürünü aşağıdakilerden hangisidir?



13. Çevre sorunları, oluşumuna göre küresel, bölgesel ve yerel olarak gruplandırılabilir.

Buna göre aşağıdakilerden hangisi yerel bir çevre sorunu olarak gösterilir?

- A) İspanya 19 Kasım 2002 Prestige (Pirestij) isimli tanker, yakalandığı bir fırtına sonucu ağır hasar göyerek İspanya açıklarında batmış ve bu kaza sonucu 77 bin ton petrol Atlas Okyanusu'na karışmıştır.
- B) 2011 Tōhoku depremi sonucu oluşan tsunami sonrası Fukuşima Nükleer Elektrik Santralinde kazalarda nükleer sızıntı meydana gelmiştir.
- C) Kuzey Pasifik Okyanusu'nda, 135° B ve 155° B ile 35° K ve 42° K meridyenleri arasında bulunan yoğun çöp kütleleri çöp adası oluşturmuştur.
- D) Çin'in Honkeiko kömür madeninde 26 Nisan 1942'de gaz ve kömür tozu karışımının neden olduğu patlamada bin 549 kişi hayatını kaybetmiştir.
- E) Pamuk rekoltesini artırabilmek için Sovyetler Birliği döneminde yapılan plansız sulama projeleri, dünyanın en büyük dördüncü gölü olan Aral'ın yüzde 90'ını kurutup çöle çevirmiştir.

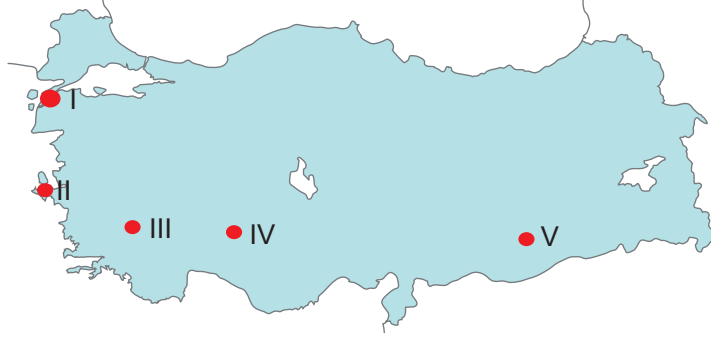
14. Dünyadaki enerji kaynaklarının hızla tükenmesine rağmen insanların büyük bölümü üzerine düşen görevin farkında değildir. Halbuki belli kurallara uyulduğu takdirde enerji tüketimi en az düzeye indirilebilir.

Aşağıda verilen olaylardan hangisi bu duruma örnek sayılmaz?

- A) Elektrik tüketimi az olan ampuller seçmek
- B) Kısa mesafelerde ulaşım için araç kullanmak
- C) Kullanılmayan elektrikli eşyaların fişini prizden çekmek
- D) Çamaşır ve bulaşıkları düşük ısıda ve kısa programlarda yıkamaya özen göstermek
- E) Kapı altı, pencere kenarları gibi soğuk hava giren yerleri tespit edip, çeşitli yalıtım sistemleri ile kapatmak

7. Tekrar Testi

15.



Haritada gösterilen yerler ile bu yerlerde üretilen enerji türü aşağıdakilerin hangisinde yanlış eşleştirilmiştir?

- A) I – Rüzgar Enerjisi
- B) II – Kömür Enerjisi
- C) III – Jeotermal Enerji
- D) IV – Güneş Enerjisi
- E) V – Hidrolik Enerji

16. Aşağıdakilerden hangisi doğaya diğerlerinden daha az zarar vermektedir?

- A) Termik santrallerde fosil yakıtların kullanılması
- B) Şehirlerin genişlemesi sonucu sokak aydınlatmalarının artış göstermesi
- C) Tarımda bilinçsiz ilaç kullanımı
- D) Sanayi atıkların deniz ve akarsulara bırakılması
- E) Nükleer denemeler ile nükleer santral kazaları sonucu çevreye gazların yayılması

17. Dünya'nın ortalama sıcaklığı fosil yakıtların kullanımı sonucu atmosfere daha fazla sera gazı karışmasıyla son yüzyılda ciddi anlamda artmıştır. Küresel iklim değişikliğinin tarım, orman ve bitki örtüsü, tatlı su kaynakları, deniz seviyesi, insan sağlığı ve biyoçeşitlilik üzerinde önemli etkileri vardır.

Aşağıdakilerden hangisi küresel iklim değişikiminin doğrudan etkileri arasında gösterilmez?

- A) Kutup bölgeleri ile dağların yüksek kesimlerindeki buzulların erimesi hızlanmıştır.
- B) Kutup bölgelerindeki donmuş topraklar, sıcaklığın artması sonucu çözülmeye başlayarak binlerce yıldır bünyesinde bulunan metan gazını atmosfere bırakmaktadır.
- C) Küresel iklim değişikliğine bağlı olarak sel, kasırga, fırtına, orman yangınları gibi afetler daha sık yaşanır.
- D) Buzların erimesine bağlı olarak yetmiş yıl içerisinde deniz seviyesinin ortalama 0,48 metre yükselmesi beklenmektedir.
- E) Tarımda yaşanan aksamalar dolayısıyla temel gıda fiyatlarının yükselmesi

7. Tekrar Testi

- 18.
- Endonezya, son yıllarda uyguladığı politikalar sonucu sahip olduğu orman varlığının büyük bölümünü kaybetmiştir. Çıkarıcı ve bilinçsiz tutum nedeniyle ülkede sadece 2012'de 8400 km²'lik ormanlık alan yok edilmiştir. Yok olan bu alanlar, ağırlıklı olarak palm yağı üretilen tarlalara dönüştürülmektedir. Endonezya dünya genelindeki memeli hayvanların yaklaşık %12'sine bitkilerin de %10'una ev sahipliği yapmaktadır. Bu hayvan ve bitkilerin önemli bir kısmını ya endemik ya da nesli tükenmekte olan türler oluşturmaktadır. Ormanların tahrip edilmesi sonucunda biyoçeşitliliğin azaldığı görülmektedir.
 - İsrail, Ölü Deniz'in güneyinde Ürdün sınırı boyunca su kaynaklarının oldukça sınırlı olduğu Arava Çölü'nde kurduğu modern tarım çiftlikleriyle bölgeyi adeta bir vahaya çevirmiş durumdadır. 30 bin dönümlük alana kurulu 7 çiftlikte İsrail'in toplam sebze meyve ihracatının yaklaşık %66'sı gerçekleştirilmektedir. Tarım faaliyetlerine uygun olmayan toprak ve iklim koşullarına rağmen geliştirilen yöntemlerle toprağın sadece üst kısmındaki 30 santimetrelik alanda ekim yapılabilir. Bununla birlikte kurulan güneş panelleri sayesinde üretilen elektrik enerjisi ile tuzlu sular arıtılarak tarımda kullanılmaktadır.
 - İsveç toplam yüz ölçümünün %52'si ormanlarla kaplıdır. Özellikle kereste, kâğıt hamuru ve kâğıt sanayi sektöründe dünyada önemli bir konuma sahip olan İsveç'in toplam ihracatının %12'si ormancılık sektörüne aittir. Dünya orman ürünleri ihracatının %10'unu gerçekleştirmektedir. Ormancılık politikalarının iki ana unsurunu sürdürülebilir üretim ile biyoçeşitliliğin korunması oluşturmaktadır. Bu bakımdan kesim yapılmış yerlerin tekrar ağaçlandırılmasının yanı sıra meşe, kayın, gürgen vb. geniş yapraklı değerli ağaçların korunmasına dair maddeler İsveç Ormancılık Kanunu'nda oldukça önemli bir yere sahiptir.
 - Türkiye'nin önemli doğal kaynaklarından biri olan Konya Ovası, doğal faktörlerin yanı sıra arazinin yanlış kullanımı ile karşı karşıyadır. Örneğin bölgedeki yer altı sularının aşırı kullanımı sonucunda tarım alanları çoraklaşmakta ve yer altındaki boşlukların üstünde bulunan toprağın çökmesiyle obruklar oluşmaktadır.

Buna göre verilen ülkelerden hangilerinin doğal kaynak kullanımında sürdürülebilir politika uyguladığı söylenebilir?

- A) Endonezya – Türkiye
- B) Türkiye – İsrail
- C) Endonezya – İsveç
- D) İsveç – İsrail
- E) Endonezya – İsrail

19. Enerji kaynakları, yenilenebilir ve yenilenemeyen enerji kaynakları olmak üzere ikiye ayrılır.

Buna göre aşağıdakilerden hangisi yenilenebilir enerji kaynaklarından değildir?

- A) Rüzgar enerjisi
- B) Jeotermal enerji
- C) Güneş enerjisi
- D) Hidrolik enerji
- E) Nükleer enerji

20. Ülkelerin gelişmişlik düzeylerinin farklılığı mevcut kaynakların kullanımı üzerinde önemli bir etkiye sahiptir. Gelişmiş ülkelerin sahip olduğu teknoloji, çevreye yönelik yasal düzenlemeler ve toplumda oluşan çevre algısı bu ülkelerde kaynak kullanımına yönelik çevreye ne denli önem verildiğinin açık bir göstergesidir.

Buna göre aşağıdaki ülkelerden hangisinin çevre planlamasına yönelik tutumunun diğerlerinden farklı olması beklenir?

- A) Macaristan
- B) Türkiye
- C) Kenya
- D) İspanya
- E) Portekiz



Cevap anahtarına ulaşmak için karekodu okutunuz.