



8. Tekrar Testi

1. Levha tektoniği teorisine göre karalar, günümüzden yaklaşık 250 milyon yıl önce Pangea adı verilen tek parça halindeydi.

Bu teoriye kanıt olarak;

- I. Benzer sürüngen türlerinin fosillerinin farklı kıtalarda bulunması
- II. Atlas Okyanusu'nun doğu ve batı kıyılarının jeolojik yapılarının birbiri ile uyumlu olması
- III. Benzer yaşlı kayaların bugün farklı konumlarda olan kıtalarda bir bütünün parçaları şeklinde yer alması

durumlarından hangileri gösterilmektedir?

- A) Yalnız I B) Yalnız II C) Yalnız III D) I ve II E) I, II ve III

2. Türkiye'de yer alan göllerin özellikleri ile ilgili aşağıdaki ifadelerden hangisi doğrudur?

- A) Tamamı açık havzaya sahiptir.
- B) Yüksekte yer alanların suları tuzludur.
- C) Bazıları üzerinde taşımacılık faaliyeti yapılır.
- D) Deniz seviyesine göre aynı yükseltide yer alırlar.
- E) Tamamı tektonik hareketlere bağlı olarak oluşmuştur.

3. Aşağıdaki haritada bir bitki formasyonunun yeryüzündeki dağılışı gösterilmiştir.



Bu bitki formasyonu ile ilgili aşağıdakilerden hangisi doğrudur?

- A) Uzun boylu yüksek otlardan oluşur.
- B) Yaz kuraklığına dayanıklı bodur ağaçlar vardır.
- C) Yaz yağışlarıyla yeşeren çayırlar yaygın görülür.
- D) Geniş yapraklı ve uzun boylu ağaç topluluklarından oluşur.
- E) Düşük sıcaklığa dayanıklı uzun boylu ağaçlar yaygın görülür.

8. Tekrar Testi

4. Toprak örtüsü ile birlikte tabakaların eğim doğrultusunda kayması olayı kütle hareketi olarak ifade edilir.

Buna göre aşağıdakilerden hangisi kütle hareketlerine yol açan faktörler arasında gösterilebilir?

- A) Dış kuvvetler tarafından taşınan alüvyonların deniz kıyısında birikmesi
- B) Dağlık bölgelerde ulaşım faaliyeti için yol yapılması
- C) Fosil yakıt kullanımının artmasıyla oluşan hava kirliliği
- D) Sıcaklık artışı sebebiyle kuraklık oluşması
- E) Eğimli yamaçların ağaçlandırılması

5. Aşağıdaki tabloda M ve N ülkelerinin kırsal ve kentsel nüfus oranları verilmiştir.

Ülkeler	Kentsel nüfus (%)	Kırsal nüfus (%)
M	47	53
N	77	23

Yalnızca grafikteki bilgiler dikkate alındığında;

- I. M ülkesinde kentlerde yaşayan nüfus miktarı N ülkesine göre daha azdır.
- II. N ülkesinin kırsal alanında nüfus yoğunluğu M ülkesine göre daha fazladır.
- III. M ülkesinin kırsal ve kentsel nüfus dağılımı N ülkesine göre daha dengelidir.

İfadelerinden hangilerine ulaşamaz?

- A) Yalnız I
- B) Yalnız II
- C) Yalnız III
- D) I ve II
- E) II ve III

6. Orman yangınlarına neden olan etmenleri doğal ve beşeri etmenler olarak sınıflandırmak mümkündür.

Buna göre aşağıdakilerden hangisi diğerlerinden farklı bir etmendir?

- A) Anız yakılması
- B) Yıldırım düşmesi
- C) Enerji nakil hatlarında kazalar olması
- D) Orman alanına izmarit ve cam atılması
- E) Mangal ateşinin söndürülmeden bırakılması

7. Yeryüzünde kara yolundan sonra kullanılan ulaşım ağı deniz yoludur. Bu ulaşım türü uzun bir süre kıyılarda gerçekleşmiştir. Ancak 15. yüzyıldan sonra açık denizlerde ulaşım başlamıştır.

Açık denizlerde ulaşımın başlamasında;

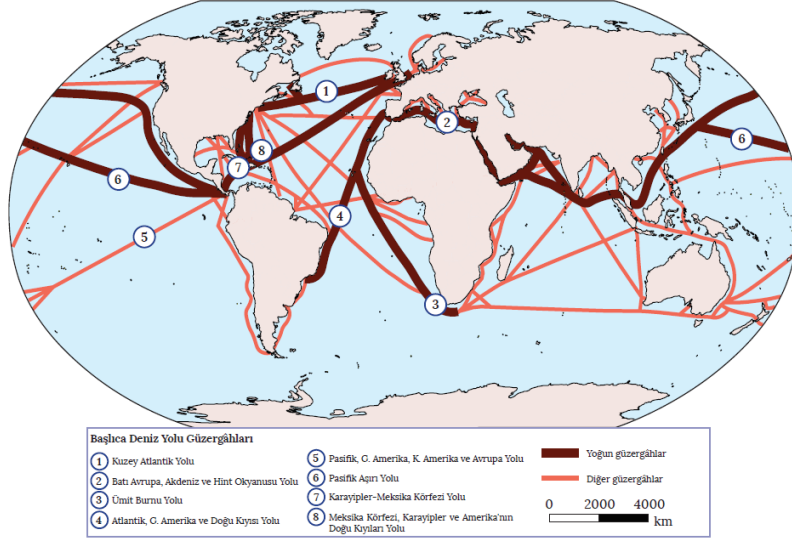
- I. pusulanın keşfi,
- II. gemicilik faaliyetlerinin gelişmesi,
- III. astronomi ve haritacılıktaki çalışmalar

gelişmelerden hangilerinin etkisi olmuştur?

- A) Yalnız I
- B) Yalnız II
- C) I ve II
- D) I ve III
- E) I, II ve III

8. Tekrar Testi

8. Aşağıdaki harita üzerinde deniz yolu taşımacılığının yoğun olduğu bazı yollar gösterilmiştir.



Harita incelendiğinde deniz yolu taşımacılığının büyük bir kısmının Kuzey Yarımküre'nin orta kuşağında yoğunlaştığı görülmektedir.

Bu durum temel nedeni aşağıdakilerden hangisidir?

- A) Tarihteki ilk yerleşim yerlerinin bu alanda bulunması
- B) Bu bölgelerde doğal liman sayısının fazla olması
- C) Bu alanın iklim koşullarının yıl boyu deniz ulaşımı için elverişli olması
- D) Önemli sanayi ve ticaret merkezleri ile yoğun nüfuslu yerleşim birimlerinin bu alanlarda bulunması
- E) Bu alandaki okyanuslar üzerinde sürekli rüzgârların gemilerin daha hızlı yol almalarını sağlaması

9. Akarsular, üzerinde aktığı zemini aşındırarak birtakım aşındırma şekilleri meydana getirir.

Aşağıdakilerden hangisi bu şekildeki oluşumlara örnek gösterilebilir?

- A) Kapıdağ Yarımadası
- B) Çarşamba Deltası
- C) Ardahan Platosu
- D) Karacadağ Volkanı
- E) Gökova Körfezi

10. Bu ekonomik faaliyet kolunda çalışanlar, karar verme yetkisine sahip olan yöneticilerdir. Bu yöneticiler, elde edilen verileri değerlendirerek gelecekle ilgili sağlıklı çıkarımlarda bulunur, o yönde uygulamalara geçilmesini sağlarlar.

Yukarıda söz edilen ekonomik faaliyet türü hangisidir?

- A) Birincil ekonomik faaliyet
- B) İkincil ekonomik faaliyet
- C) Üçüncül ekonomik faaliyet
- D) Dördüncül ekonomik faaliyet
- E) Beşincil ekonomik faaliyet

8. Tekrar Testi

11. Bir ülkede son 50 yıl içerisinde çalışmayan nüfus oranında artış gerçekleşmiştir.

Ülkedeki bu durum aşağıdakilerden hangisi ile açıklanamaz?

- A) Nüfus artış hızı yükselmiştir.
- B) Sanayi alanına yapılan yatırımlar artmıştır.
- C) İstihdam olanakları nüfus artışına paralellik göstermemiştir.
- D) Tarımda makineleşmeye bağlı olarak iş gücü fazlalığı olmuştur.
- E) Çalışma çağına olduğu hâlde emekli olan nüfus bulunmaktadır.

12. Türkiye’de nüfus artış hızının en yüksek olduğu dönem, İkinci Dünya Savaşı’ndan sonraki yıllar olan 1955 ile 1960 yılları arasındadır.

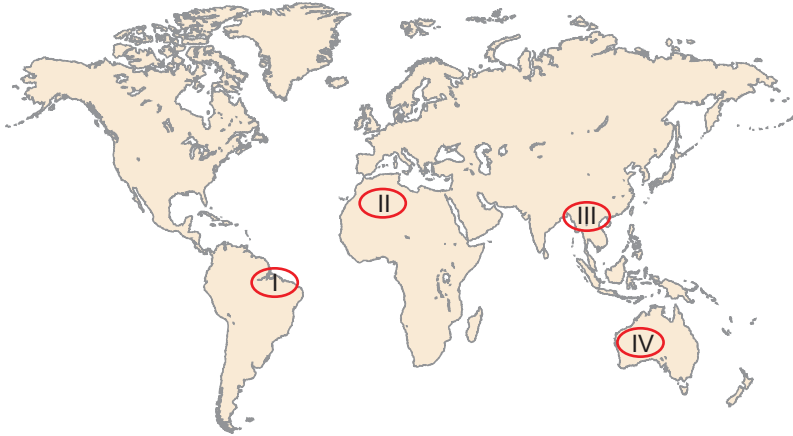
Bu durum üzerinde;

- I. yaşam koşullarının iyileşmesi,
- II. sağlık alanındaki ilerlemeler,
- III. savaşın sona ermesi

durumlardan hangilerinin etkisinden söz edilebilir?

- A) Yalnız I
- B) Yalnız II
- C) I ve II
- D) I ve III
- E) I, II ve III

13. Rüzgârlar, yarı kurak ve özellikle de kurak bölgelerde etkili olan dış kuvvetlerden biridir. Bu bölgelerde rüzgârlar; seyrek bitki örtüsü, şiddetli fiziksel çözülme ve diğer dış kuvvetlerin etkisiyle çeşitli aşınım ve birikim şekilleri oluşturur.



Buna göre harita üzerinde numaralanmış yerlerin hangilerinde rüzgârların yeryüzünü şekillendirici etkisi diğerlerine göre daha fazladır?

- A) I ve II
- B) I ve III
- C) II ve III
- D) II ve IV
- E) III ve IV

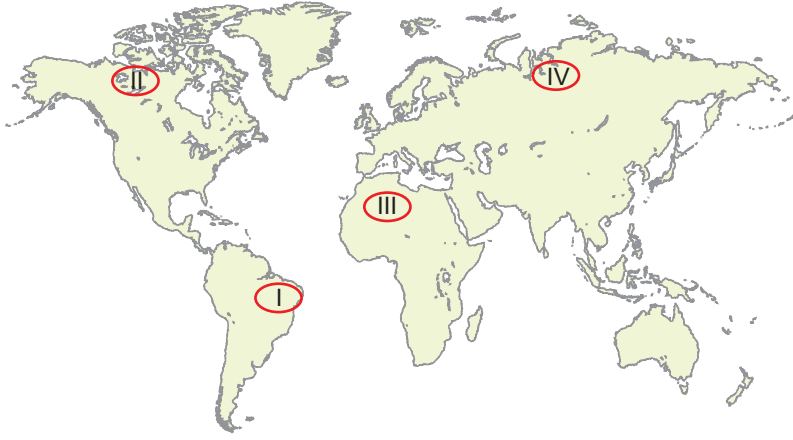
8. Tekrar Testi

14. Yer kabuğunun üst katmanı olan kıtasal kabuk (sial) kalınlığı her yerde aynı değildir. Bu katmanın karalarda okyanuslara göre kalınlığı daha fazladır.

Buna göre aşağıdaki yeryüzü şekillerinden hangisinde sial katmanının kalınlığı daha fazladır?

- A) Çukurova Deltası
- B) Haymana Platosu
- C) Erciyes Dağı
- D) Gediz Grabeni
- E) Konya Ovası

15. Aşağıdaki harita üzerinde nüfusun seyrek olduğu bazı alanlar numaralandırılarak gösterilmiştir.



Bu alanların hangilerinin seyrek nüfuslu olmasında düşük sıcaklık etkili olmuştur?

- A) I ve II
- B) I ve III
- C) II ve III
- D) II ve IV
- E) III ve IV

16. Akarsu yatağının herhangi bir kesitinden bir saniyede geçen su miktarına akım (debi) denir. Bazı beşeri faaliyetler akarsuların debisini azaltabilmektedir.

Bu faaliyetlere aşağıdakilerden hangisi örnek gösterilebilir?

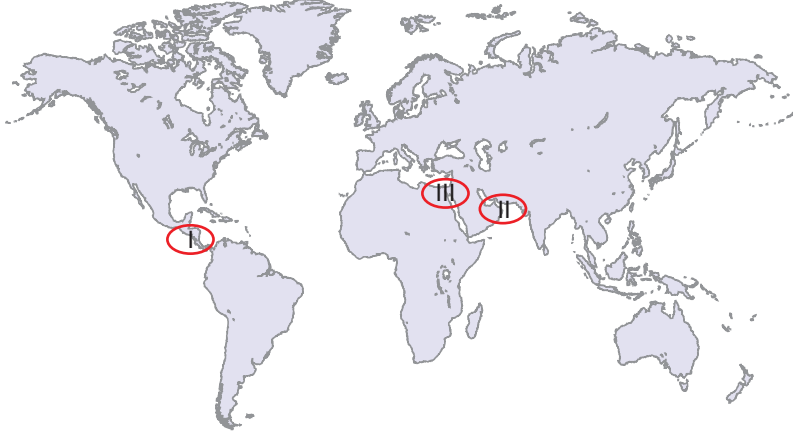
- A) Akarsu çevresini ağaçlandırmak
- B) Atık suları akarsulara boşaltmak
- C) Akarsular üzerinde taşımacılık yapmak
- D) Akarsular üzerine sulama kanalları oluşturmak
- E) Akarsulardan balıkçılık amacıyla yararlanmak

17. Aşağıdaki ülkelerin hangisinde tektonik deprem görülme ihtimali diğerlerine göre düşüktür?

- A) Japonya
- B) İtalya
- C) Malezya
- D) Finlandiya
- E) Meksika

8. Tekrar Testi

18. Aşağıdaki harita üzerinde bazı kanal ve boğazlar numaralandırılarak gösterilmiştir.



Bu kanal ve boğazlar aşağıdakilerin hangisinde doğru verilmiştir?

I	II	III
A) Panama Kanalı	Hürmüz Boğazı	Süveyş Kanalı
B) Macellan Boğazı	Dover Boğazı	Süveyş Kanalı
C) Cebeli Tarık Boğazı	Panama Kanalı	Hürmüz Boğazı
D) Bering Boğazı	Çanakkale Boğazı	Malakka Boğazı
E) Panama Kanalı	Babülmendep Boğazı	Hürmüz Boğazı

19. Yer altı sularının yeryüzüne çıktığı yerlere kaynak denir. Kaynaklar; sularının sıcaklığına, kimyasal bileşimlerine ve yeryüzüne çıkış tarzlarına göre farklılık gösterir.

Buna göre kaynaklar ile ilgili aşağıdaki ifadelerden hangisi doğrudur?

- A) Tüm kaynakların suları sıcaktır.
- B) Bütün kaynak suları içme amaçlı kullanılmaz.
- C) Vadi kaynaklarının suları genelde tuzludur.
- D) Karstik kaynakların debisi yıl boyunca aynıdır.
- E) Fay kaynaklarının suları eriyik madde bakımından zengindir.

20. Kimyasal çözünme toprak oluşumunda oldukça etkili olup, kayaçları oluşturan minerallerin suyun etkisiyle çözünmesi şeklinde gerçekleşir. Sıcak ve yağışlı alanlarda kimyasal çözünme kurak alanlara göre daha hızlı gerçekleşir.

Buna göre aşağıdaki yerlerin hangisinde toprak oluşumunun diğerlerine göre daha kolay gerçekleşmesi beklenir?

- A) Sahra Çölü
- B) Sibirya Platosu
- C) Amazon Havzası
- D) Grönland Adası
- E) Himalaya Dağları



Cevap anahtarına ulaşmak için karekodu okutunuz.