



10. Tekrar Testi

1. Jeolojik zamanlardan senozoyikte görülen olaylar arasında aşağıdakilerden hangisi yoktur?

- A) Alp - Himalaya kıvrım sistemi oluşmuştur.
- B) Linyit, bor, tuz yatakları oluşmuştur.
- C) Anadolu'da büyük fay kuşakları oluşmuştur.
- D) İstanbul ve Çanakkale boğazları oluşmuştur.
- E) Dinozorlar bu zamanda yaşamışlardır.

2. Aşağıdaki yer şekillerinden hangisinin oluşumunda iç kuvvetlerin etkili olduğu söylenemez?

- A) Çöküntü ovaları
- B) Kıvrım dağları
- C) Tektonik göller
- D) Karstik mağaralar
- E) Lav platoları

- 3.
- Tuz Gölü yer kabuğu hareketleri sonucu meydana gelen çanakta oluşmuştur.
  - Nemrut Gölü kaldera çukurunda oluşan göldür.
  - Kızören Gölü obruk içerisine suların birikmesi sonucu oluşmuştur.
  - Büyük Çekmece Gölü dalga biriktirmesi sonucu oluşmuştur.

Verilen göller içerisinde aşağıdaki göl çeşitlerinden hangisi yoktur?

- A) Tektonik göl
- B) Volkanik göl
- C) Karstik göl
- D) Kıyı set gölü
- E) Buzul gölü

4. Muğla'nın Milas ilçesinde kömür arama çalışmaları esnasında kayalar arasında 16 milyon yıl öncesine ait balık fosili bulundu. Fosilin bulunduğu arazinin tahminen 14 milyon yıl önce kuruyan bir göl olduğunu söyleyen uzmanlar balığın öldükten sonra sedimantasyon sonucu üstünün örtüldüğünü ve günümüze kadar korunduğunu belirtmişlerdir.

Buna göre belirtilen balık fosilinin aşağıdaki kayalardan hangisinin içinde bulunması beklenir?

- A) Granit
- B) Obsidyen
- C) Kum taşı
- D) Bazalt
- E) Andezit

## 10. Tekrar Testi

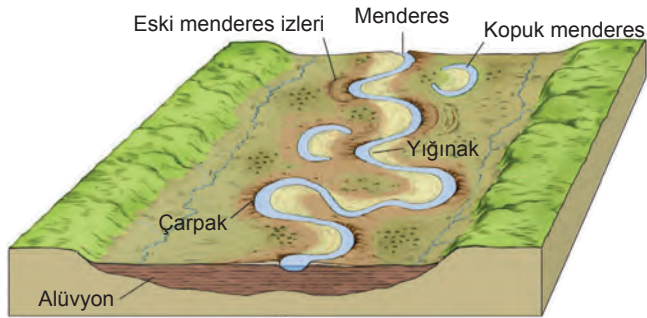
5.

Ülkemizde doğal olarak yetişen bitkilerin tamamı için “**Türkiye Florası**” ifadesi kullanılır. Türkiye’deki bitki türlerinin yaklaşık üçte birini endemik bitkiler oluşturuyor. Ülkemizde yaklaşık 9500 çiçekli bitki türü var ve bu özelliğiyle ülkemiz ılıman kuşağın en zengin biyolojik çeşitliliğe sahip ülkelerinden biridir. Avrupa kıtasında yaklaşık 11.000 bitki türü olduğunu düşünürsek Türkiye’nin bitki çeşitliliği bakımından bir kıta kadar zengin olduğunu söyleyebiliriz.

**Bu durumun oluşmasına neden olan temel faktör aşağıdakilerden hangisidir?**

- A) İklim çeşitliliği
- B) Yeryüzü şekilleri
- C) Denizlere göre konumu
- D) Beşeri etkenler
- E) Toprak çeşitliliği

6. Aşağıda akarsuların oluşturduğu bir yeryüzü şeklinin göreseli verilmiştir.



**Görselin bulunduğu yerle ilgili olarak aşağıdakilerden hangisine ulaşamaz?**

- A) Yatağını düşey doğrultuda derine doğru kazdığına
- B) Dışbükey kısmında daha çok aşındırma yaptığına
- C) Kıvrımlar yaptığı için akarsuyun boyunun uzadığına
- D) Yatak değiştirmesi sonucu kopuk menderes oluştuğuna
- E) Yatak eğimi, akış hızı ve taşıma gücünün azaldığına

## 10. Tekrar Testi

7.

### Büyük İskender'in Cenneti: Nemrut Kalderası

Nemrut Kaldera tabanının batı yarısı göl ile kaplıdır. Zirvede ikisi devamlı, üçü mevsimlik olmak üzere beş göl bulunmaktadır. Bu göllerin en büyük olanı yarım ay şeklindeki Nemrut Gölü'dür. Bu gölün ortalama derinliği 100 m civarındadır. Gölün kuzeybatı kenarındaki bir noktada 155 m derinlik ölçülmüştür. Alınan su örneklerinde suyun renksiz, kokusuz, içme suyu lezzetinde olduğu tespit edilmiştir. Gidegeni yoktur, ancak tabandan su kaçağı vardır. Kış aylarında donan Nemrut Gölü'nün aksine, sıcak su kaynaklarıyla beslenen Ilıca Gölü hiç donmaz ve çevresinde bir miktar sazlık görülür. Ilıca Gölü içindeki kaynaktan çıkan suyun sıcaklığı kış aylarında 40 dereceye, yaz aylarında 70 dereceye kadar çıkmaktadır. Ilıca Gölü'nün içinde yer alan mineral madde miktarı, sıcaklığın da etkisiyle oldukça yüksek olup, bu özelliği ile göl suları bazı hastalıkların tedavisinde kullanılmaktadır.

**Nemrut Kalderasıyla ilgili olarak aşağıdakilerden hangisine ulaşamaz?**

- A) Bir akarsuya kaynaklık ettiğine
  - B) Bazı bölgelerin kaplıca özelliği gösterdiğine
  - C) Bazı göllerinin yıl içinde kurduğuna
  - D) Bazı göl sularının içilebilir olduğuna
  - E) Su sıcaklığının değiştiğine
8. Türkiye'de iç göç hareketleri 1960'lı yıllara kadar oldukça düşük bir seviyede yaşanmışken bu yıllardan sonra büyük bir hız kazanmıştır. Bu durumun sonucunda kırsal nüfus oranı azalırken kentsel nüfus oranı hızla artmıştır. Kırsal nüfus oranı ilk kez 2000 yılı nüfus sayımında %50'nin altına düşmüştür. Günümüzde bu oran giderek azalmaktadır.

**Buna göre kırdan kente göçlerin hızlı yaşanmasında aşağıdakilerden hangisinin etkisi diğerlerine göre daha azdır?**

- A) 1950'lerden sonra başlayan tarımda makineleşme hareketi
- B) İstanbul ve Kocaeli şehirlerinde sanayi faaliyetlerinin gelişmesi
- C) Ege ve Akdeniz kıyılarında deniz turizminin gelişmesi
- D) Büyükşehirlerde eğitim faaliyetlerinin gelişmesi
- E) Karadeniz kıyılarında balıkçılık faaliyetlerinin gelişmesi

**9. Aşağıdakilerden hangisi kaya düşmesi veya heyelana karşı alınabilecek önlemlerden biri değildir?**

- A) Yol kenarlarındaki yamaçlara çelik tel örgüler çekmek
- B) Toprağın suya doymasını önleyecek drenaj kanalları açmak
- C) Eğimin fazla olduğu yamaçlarda istinat duvarları inşa etmek
- D) Bitki örtüsünün gür olduğu yerlerde geçiş yolları açmak
- E) Kontrollü patlamalarla kaya kütlelerini yamaçlardan düşürmek

## 10. Tekrar Testi

- 10.
- Akarsuların biriktirme yapmasıyla oluşmuş verimli topraklardır.
  - Taban su seviyesinin yüksek olduğu sazlık ve bataklık alanlarda oluşur.
  - Eğimin azaldığı yerlerde yamaçlardan sürüklenen malzemelerin birikmesiyle oluşur.
  - Volkanlardan çıkan kum boyutundaki malzeme ile akarsuların oluşturduğu kum depoları üzerinde oluşur.

Verilen özellikler aşağıdaki toprak tipleriyle eşleştirildiğinde hangisi dışarda kalır?

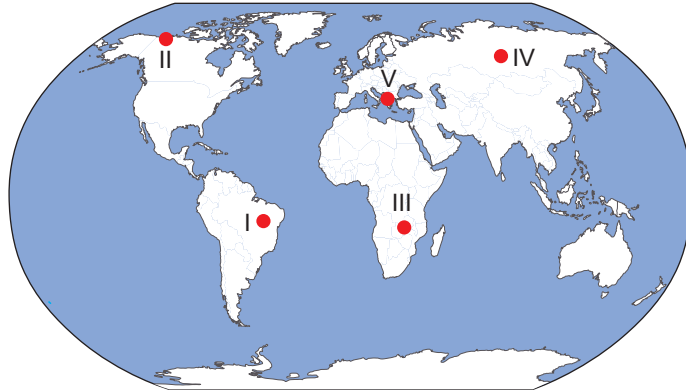
- A) Regoseller      B) Laterit      C) Hidromorfik      D) Alüvyal      E) Kolüvyal

11. Türkiye genç oluşumlu araziye sahip, dağlık ve engebeli bir ülkedir. Bu nedenle akarsular daha çok derine aşındırma yapar.

Aşağıdakilerden hangisi bu durumun sonuçlarından biri olabilir?

- A) Enerji potansiyellerinin düşük olması  
B) Akarsuların boyunun uzun olması  
C) Yatık yamaçlı vadilere rastlanması  
D) Dik yamaçlı vadilerin yaygın olması  
E) Akarsu vadilerinde mendereslere rastlanması

12.



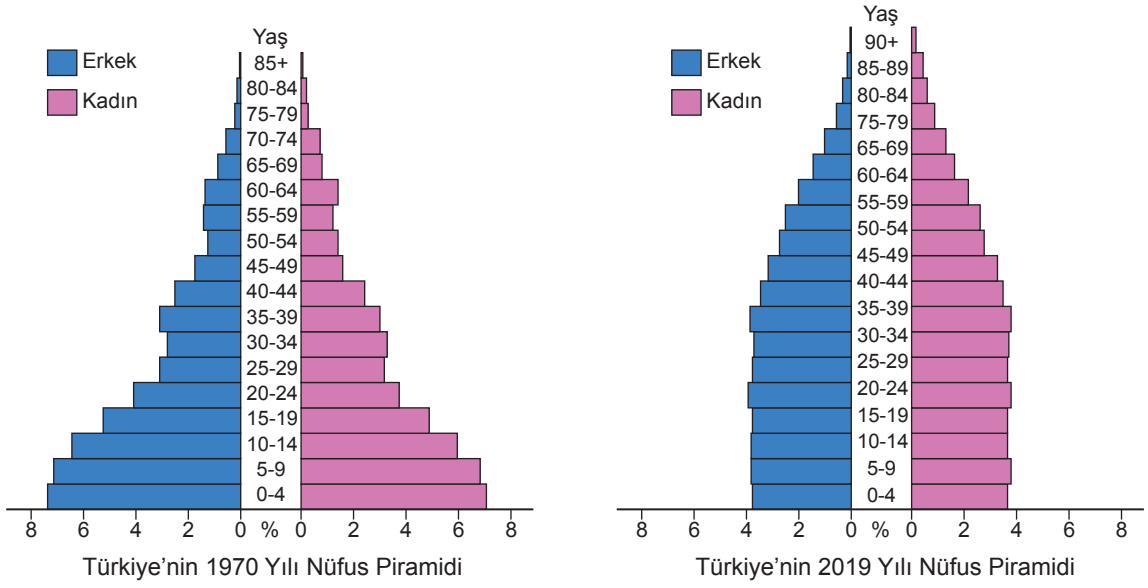
- Devamlı yeşil kalan geniş yapraklı bitkilerdir.
- Yaz yağışları ile yeşeren kış kuraklığı ile sararan uzun boylu otlardır.
- Yaz sıcaklığına karşı dayanıklı kısa boylu çalılardır.
- Kısa süren yaz döneminde ortaya çıkan yosunlardır.

Verilen bitki türlerinin yetişme alanları ile haritada numaralanmış yerler eşleştirildiğinde hangisi dışarda kalır?

- A) I      B) II      C) III      D) IV      E) V

## 10. Tekrar Testi

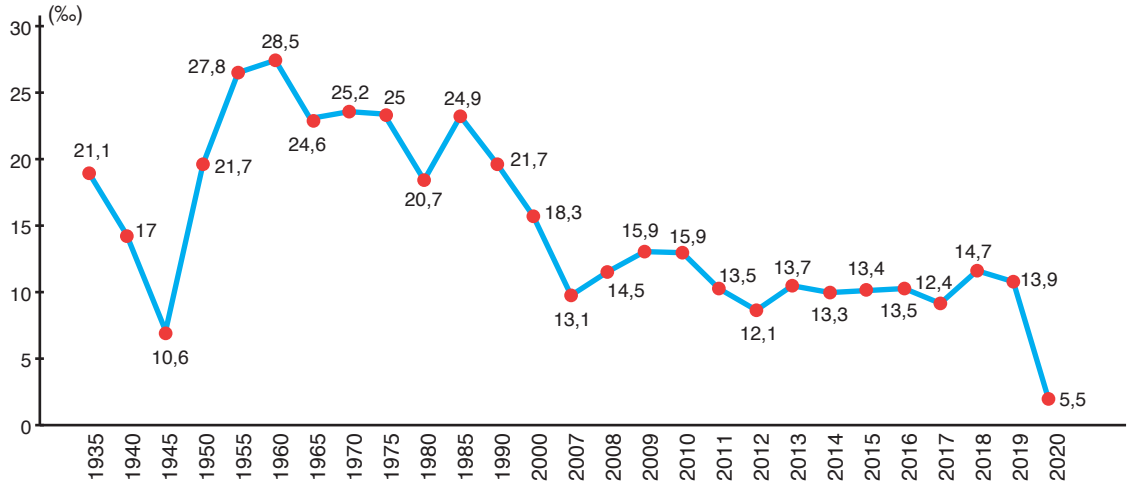
13. Aşağıda ülkemizin 1970 - 2019 yılı nüfus piramitleri verilmiştir.



Piramitlere bakılarak aşağıdakilerden hangisine ulaşamaz?

- A) 1970 - 2019 yılları arasında doğum oranlarının azaldığına
- B) 2019 yılında yaşlı nüfus oranının 1970 yılına göre daha fazla olduğuna
- C) 1970 - 2019 yılları arasında toplam nüfus miktarının azaldığına
- D) 1970 yılında çocuk nüfus oranının daha fazla olduğuna
- E) Verilen yıllar arasında ortalama ömrün arttığına

14. Aşağıdaki grafikte Türkiye nüfusunun yıllara göre artış oranları verilmiştir.



Grafikteki verilere bakılarak aşağıdakilerden hangisi çıkarılamaz?

- A) Cumhuriyetin ilk dönemlerinde nüfusu artırma politikaları uygulanmıştır.
- B) 1955 - 1960 yılları arasında nüfus artış hızı düşmüştür.
- C) Nüfus artış hızının en fazla olduğu yıl 1955'tir
- D) Nüfus artış hızının en düşük olduğu yıl 2020'dir.
- E) Nüfus artış hızlarında dalgalanmalar görülmektedir.

## 10. Tekrar Testi

15. Dünyada ilk yerleşim yerlerinin kurulduğu alanlar ve burada gelişen medeniyetler şunlardır:

- Nil Nehri çevresi - Mısır medeniyeti
- Fırat ve Dicle nehirleri çevresi - Mezopotamya medeniyeti
- Sarırmak ve Gökırmak nehirleri çevresi - Çin medeniyeti
- And Dağları etekleri - İnka medeniyeti

**Verilen medeniyetlerin bu yerlerde kurulmasında aşağıdakilerden hangisi daha az etkili olmuştur?**

- A) İklim şartlarının elverişli olması
- B) Yer şekillerinin elverişli olması
- C) Ticaret yollarına yakın olması
- D) Su kaynaklarının varlığı
- E) Verimli tarım arazilerinin bulunması

16. I. Haiti'nin başkenti Port-au-Prince'de meydana gelen 7 büyüklüğünde deprem sonrasında binlerce insan göç etmiştir.  
II. 1947 yılında Pakistan'ın Hindistan'dan ayrılması sonucunda 10 milyon Hintli Pakistan'dan Hindistan'a göç etmiştir.  
III. 2003 yılında 320 binden fazla Polonyalı Almanya'ya çalışmak için göç etmiştir.

**Yaşanan göçlerin nedenleri aşağıdakilerin hangisinde doğru sıralanmıştır?**

- | <u>I</u>    | <u>II</u> | <u>III</u> |
|-------------|-----------|------------|
| A) Doğal    | Ekonomik  | Sosyal     |
| B) Ekonomik | Siyasal   | Doğal      |
| C) Siyasal  | Doğal     | Ekonomik   |
| D) Ekonomik | Siyasal   | Sosyal     |
| E) Doğal    | Siyasal   | Ekonomik   |

17. ABD, Kanada ve Kuzeybatı Avrupa demiryolu ağları Dünya'da demiryolu ağının en sık olduğu bölgelerdir.

**Bu durum üzerinde aşağıdaki faktörlerden hangisi etkili olmamıştır?**

- A) Yer şekillerinin dağlık ve engebeli olması
- B) Sanayi faaliyetlerinin gelişmiş olması
- C) Nüfusun yoğun olması
- D) Teknolojinin gelişmiş olması
- E) Ticari faaliyetlerin gelişmiş olması

## 10. Tekrar Testi

18. Aşağıdaki haritada bazı alanlar koyu renk ile gösterilmiştir.



Bu alanlar aşağıdaki özelliklerden hangisi bakımından benzerdir?

- A) İklim özellikleri
- B) Yer altı kaynakları
- C) Nüfus yoğunluğu
- D) Bitki örtüsü özellikleri
- E) Tarım ürünü çeşitliliği

19. Aşağıdaki haritada Türkiye'nin göç veren illerinden bazıları renklendirilerek gösterilmiştir.



Aşağıdakilerden hangisi bu illerde göç olayına neden olan ortak bir neden değildir?

- A) İş olanaklarının yetersiz olması
- B) Doğal nüfus artış hızının yüksek olması
- C) Tarım arazilerinin miras yoluyla bölünmesi
- D) Tarım alanlarının baraj suları altında kalması
- E) Yeryüzü şekillerinin dağlık ve engebeli olması

20. Güney Kore'nin Busan Limanı'ndan yola çıkan bir gemi İngiltere'nin Liverpool Limanı'na varmıştır.

Bu geminin yolculuğu sırasında aşağıdaki su yollarından hangisini kullanması beklenmez?

- A) Malakka
- B) Hürmüz
- C) Süveyş
- D) Babülmendep
- E) Cebelitarık



Cevap anahtarına ulaşmak için karekodu okutunuz.