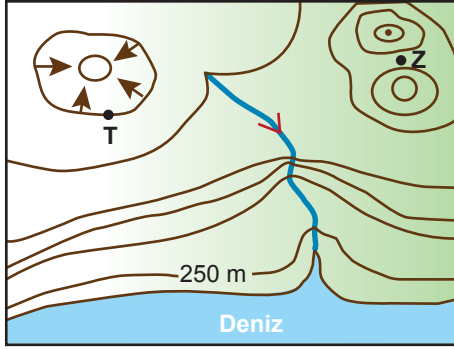


İzohipsler

1.



Verilen topografya haritasına bakıldığında aşağıdaki-lerden hangisi söylenemez?

- A) T noktasının yükseltisi 1000 m dir.
B) Z noktası boyun üzerinde bulunur.
C) Akarsu ağzında halîç oluşmuştur.
D) En yüksek noktanın yükseltisi 1750 m den fazladır.
E) Akarsuyun akış hızı yer yer değişiklik göstermektedir.

2. Bir topografya haritasında, X bölgesindeki izohipsler arası mesafe, Y bölgesine göre daha azdır.

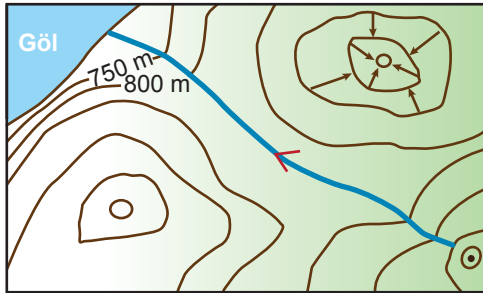
Buna göre X bölgesinde, Y bölgesine göre;

- I. akarsuların akış hızı,
II. akarsuların derine aşındırması,
III. gerçek alan ile izdüşüm alan arasındaki fark

verilenlerden hangilerinin fazla olması beklenir?

- A) Yalnız I. B) Yalnız II. C) I ve II.
D) I ve III. E) I, II ve III.

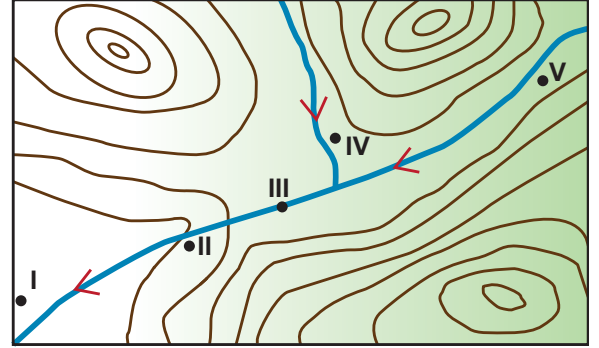
3.



Yukarıdaki izohips haritasında aşağıdaki yer şekillerinden hangisi yoktur?

- A) Vadi B) Tepe C) Delta
D) Çukur E) Boyun

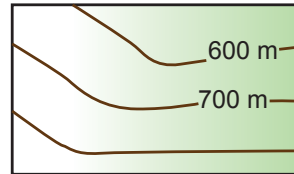
4. Akarsuyun yatak eğiminin arttığı yerlerde hidroelektrik potansiyeli artış göstermektedir.



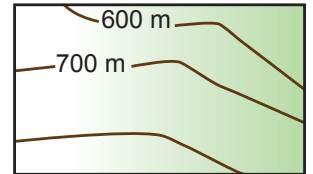
Buna göre yukarıdaki topoğrafya haritasında numaralandırılarak verilen yerlerin hangisi hidroelektrik santral kurulması için daha uygundur?

- A) I. B) II. C) III. D) IV. E) V.

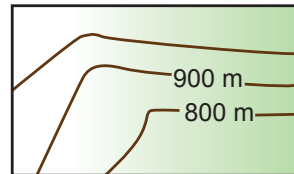
5. Aşağıda dört ayrı bölgeye ait izohips haritaları verilmiştir.



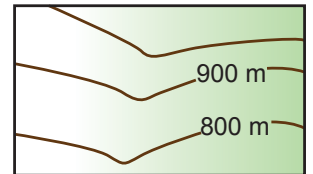
I. harita



II. harita



III. harita



IV. harita

Buna göre vadi ve sırt oluşumunun görüldüğü yerler aşağıdakilerden hangisinde doğru verilmiştir?

- | Vadi | Sırt |
|------------|---------|
| A) I, II | III, IV |
| B) I, III | II, IV |
| C) III, IV | I, II |
| D) II, IV | I, III |
| E) I, IV | II, III |

İzohipsler

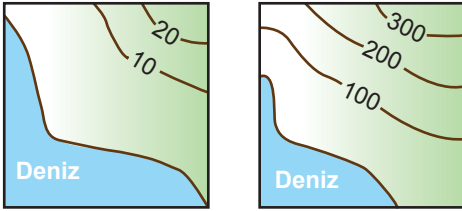
6. Aşağıda sert karasal iklim bölgesine ait bir yerin topoğrafya haritası verilmiştir.



Bu haritaya bakıldığında verilen noktaların hangisinde çığ oluşma ihtimali diğerlerine göre daha fazladır?

- A) I. B) II. C) III. D) IV. E) V.

7. Aşağıda verilen topoğrafya haritaları aynı bölgelere aittir.



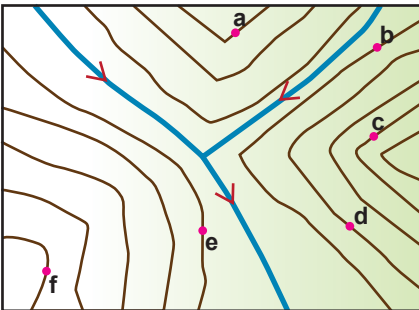
Buna rağmen bazı farklılıkların görülmesinin nedeni olarak;

- I. haritaların ölçeklerinin farklı olması,
- II. farklı yöntemlerle çizilmiş olmaları,
- III. farklı kişiler tarafından çizilmiş olmaları

verilenlerden hangileri gösterilir?

- A) Yalnız I. B) Yalnız II. C) Yalnız III.
D) I ve II. E) II ve III.

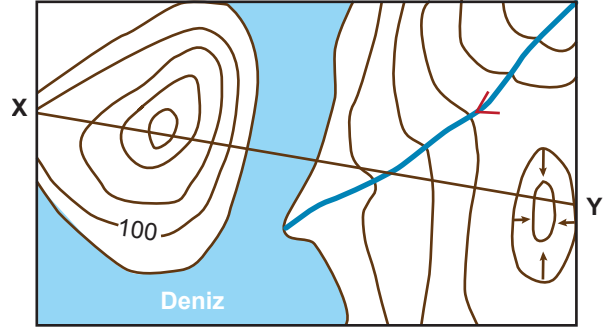
8. Aşağıda bir alana ait izohips haritası verilmiştir.



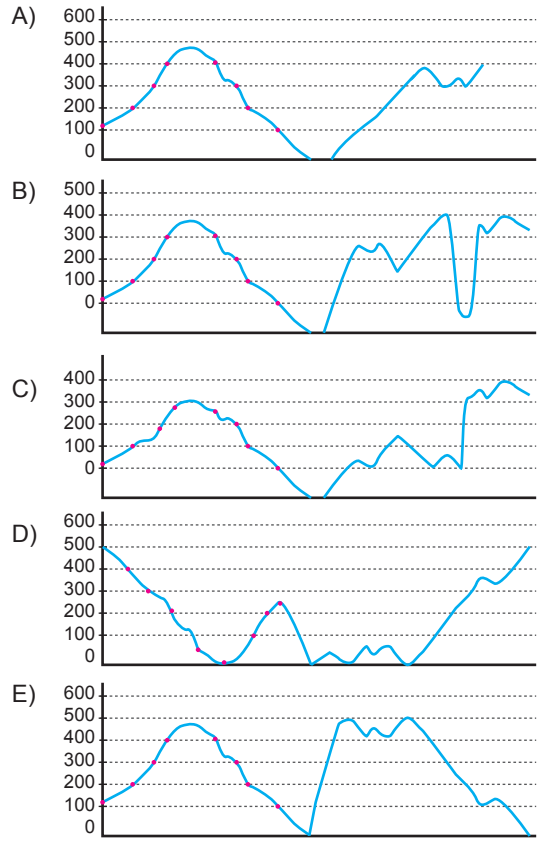
haritadaki noktalardan hangileri aynı yükseltiye sahiptir?

- A) a ve b B) b ve c C) d ve e
D) b ve e E) c ve d

9.



Verilen izohips haritasında X-Y doğrultusundan çıkarılacak olan profil aşağıdakilerden hangisidir?



10. I. Yükseltisi fazla olan eğri, az olan eğriyi çevreler.
II. Aynı izohips üzerinde bulunan tüm noktaların yükseltisi aynıdır.
III. Tüm göllerin yükseltisi 0 m dir.

Yukarıda izohipslerle ilgili olarak verilen bilgilerden hangileri doğrudur?

- A) Yalnız I. B) Yalnız II. C) I ve II.
D) I ve III E) II ve III.

