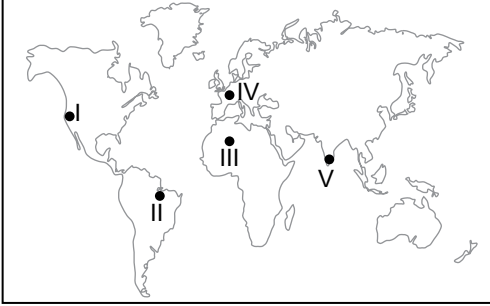


Dünya'nın Bölgeleri

1. Aşağıda Dünya haritası üzerinde beş farklı yer işaretlenmiştir.



Bu yerler ile ilgili olarak verilenlerden hangisi söylenemez?

- A) I numaralı yer Dağlık Bölge sınırları içinde yer alır.  
B) II numaralı yer Ekvatorial İklim Bölgesi sınırları içinde yer alır.  
C) III numaralı yer Çöl Bölgesi sınırları içinde yer alır.  
D) IV numaralı yer Sanayi Bölgesi sınırları içinde yer alır.  
E) V numaralı yer Maki Bitki Örtüsü Bölgesi sınırları içinde yer alır.

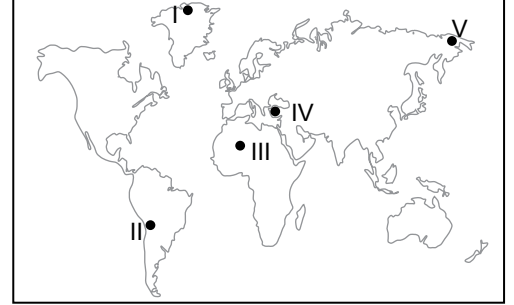
2. Aşağıda verilen bölge sınıflandırmalarından hangisinin sınırlarının diğerlerine göre daha kısa sürede değişmesi beklenir?

- A) Akdeniz İklim Bölgesi  
B) Himalaya Dağlık Bölgesi  
C) Amazon Ormanları Bölgesi  
D) Essen Sanayi Bölgesi  
E) Moğolistan Bozkır Bölgesi

3. Aşağıda verilenlerden hangisi fiziki özelliklerine göre oluşturulmuş bölgelerin sınırlarının değişmesine neden olmaz?

- A) Depremlerin yaşanması  
B) Yeni bir volkanik dağın oluşması  
C) İklim değişimlerinin yaşanması  
D) Orman alanlarının tahrip edilmesi  
E) Küresel ölçekte yeni bir örgütün kurulması

4. Aşağıda Dünya haritası üzerinde beş farklı yer işaretlenmiştir.



Bu yerlerden hangisi yerleşmeye elverişli bölgelerin sınırları içinde yer alır?

- A) I B) II C) III D) IV E) V

5. Yeryüzünde oluşturulan bölge türlerinden biri de işlevsel bölgelerdir.

**Bu bölgelerin amaçları dikkate alındığında;**

- I. Eğitim,  
II. güvenlik,  
III. tarım,  
IV. göçler

**alanların hangileri işlevsel hizmet bölgesi içerisinde yer alır?**

- A) I ve II. B) I ve III. C) I ve IV.  
D) II ve III. E) II ve IV.

6. Aşağıda verilen özelliklerden hangisine göre oluşturulmuş bölge sınıflandırmasında bölgeler arasında kesin bir sınır çizmek mümkün değildir?

- A) Turizm bölgesi B) İdari bölge  
C) Eğitim bölgesi D) İklim bölgesi  
E) Üretim bölgesi

Dünya'nın Bölgeleri

7. Aşağıda verilen bölge sınıflandırmalarından hangisi ekonomik özelliklerine göre belirlenmiş bölgeler arasında gösterilemez?

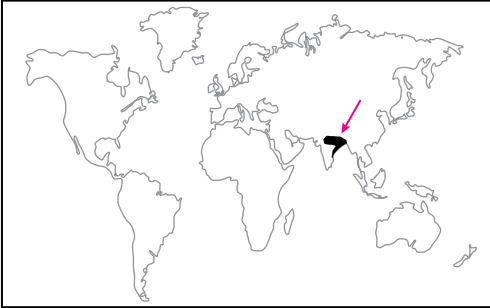
- A) Ulaşım bölgesi                      B) Ticaret bölgesi  
C) Dil bölgesi                              D) Üretim bölgesi  
E) Organize sanayi bölgesi

8. Ekonomik ve kültürel işleyişi daha iyi organize edebilmek amacıyla işlevsel bölgeler oluşturulur.

Aşağıdakilerden hangisi bu bölgelere örnek gösterilebilir?

- A) Yerleşim bölgeleri  
B) Sanayi bölgeleri  
C) Kalkınma projesi bölgeleri  
D) Nüfus bölgeleri  
E) Hammadde üretim bölgeleri

9.



Yukarıda Dünya haritası üzerinde işaretlenen yer, aşağıdaki bölge sınıflandırmalarından hangisinin sınırları içinde yer almaz?

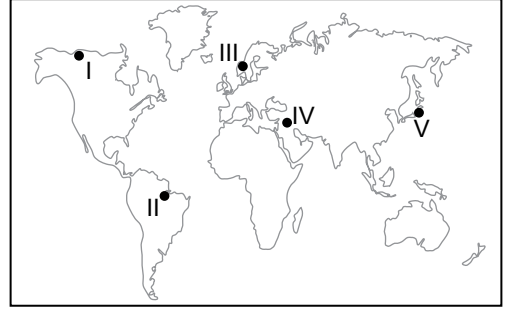
- A) Seyrek nüfuslu bölge  
B) Tarımsal üretim bölgesi  
C) Muson iklim bölgesi  
D) Delta ovaları bölgesi  
E) Orman bölgesi

10. I. Kutup iklimi bölgesi  
II. Delta ovaları bölgesi  
III. Tarımsal üretim bölgesi  
IV. Enerji üretim bölgesi

Yukarıda verilen bölge sınıflandırmalarından hangisinin sınırlarının benzerlik göstermesi beklenir?

- A) I ve II.                      B) I ve III.                      C) I ve IV.  
D) II ve III.                      E) II ve IV.

11. Aşağıda Dünya haritası üzerinde beş farklı yer işaretlenmiştir.



Bu yerlerden hangisi Tropikal Yağmur Ormanları Bölgesi sınırları içerisinde yer alır?

- A) I                      B) II                      C) III                      D) IV                      E) V

12. Yer yüzünün doğal ve beşeri unsurlar bakımından benzerlik gösteren parçalarına bölge denir. Yeryüzünde farklı ölçüt ve amaçlarla çok çeşitli bölge türleri oluşturulabilmektedir.

Okyanus, deniz, göl, akarsu gibi su kaynaklarının dağılışı dikkate alınarak aşağıdaki bölge türlerinden hangisi oluşturulabilir?

- A) Toprak Bölgeleri  
B) Hidrografik Bölgeleri  
C) Flora Bölgeleri  
D) Doğal Afet Bölgeleri  
E) Klimatolojik Bölgeleri

