

Yerleşmelerin Gelişimi, Yerleşme Doku ve Tipleri

1. İnsanların yerleşim alanları ve mesken tipleri tarih boyunca değişikliğe uğramıştır.

Bu değişikliklerin nedeni olarak;

- I. nüfus artışı,
- II. teknolojik gelişmeler,
- III. ekonomik faaliyetlerin değişikliğe uğraması

verilenlerden hangileri gösterilir?

- A) Yalnız I. B) Yalnız II. C) I ve II.
D) II ve III. E) I, II ve III.

2. İnsanların barınaklarının şekli ve hangi tür malzemeden yapıldığı beşeri coğrafyanın aşağıda verilen alt dallarından hangisinin inceleme alanı içindedir?

- A) Nüfus coğrafyası
- B) Ticaret coğrafyası
- C) Tarım coğrafyası
- D) Yerleşme coğrafyası
- E) Sanayi coğrafyası

3. I. Barınak olarak mağaraların ve ağaç kovuklarının seçilmesi
II. Bilgi ve iletişim alanındaki gelişmelerle bilişim kentlerinin kurulması
III. İhtiyaç fazlası üretim sonucunda ticaret şehirlerinin kurulması
IV. Tarımsal üretim sonucunda yerleşik hayata geçilmesi

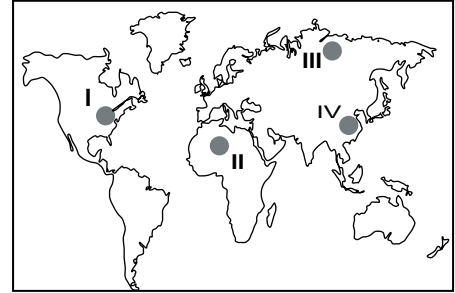
Verilen gelişmelerin geçmişten günümüze doğru sıralanışı aşağıdakilerin hangisinde verilmiştir?

- A) I, II, IV, III. B) I, IV, III, II. C) III, II, I, IV.
D) II, IV, III, I. E) IV, I, II ve III.

4. Aşağıdaki kırsal yerleşme sınıflandırmalarından hangisi ekonomik işlev göz önüne alınarak yapılmıştır?

- A) Yol boyu köyü
- B) Deniz kıyısı köyü
- C) Dokumacılık köyü
- D) Toplu doku köyü
- E) Vadi köyü

5. Dünya üzerinde buzullar, denizler, yükselti, sıcaklık, kuraklık ve aşırı yağış yerleşmelerin dağılışını etkiler.



Doğal şartlar dikkate alındığında haritada numaralandırılmış alanlardan hangilerinde yerleşmelerin daha seyrek olduğu söylenir?

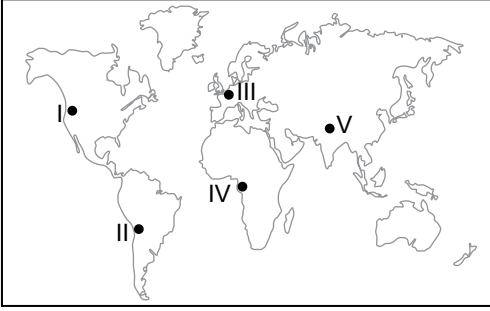
- A) I ve II. B) I ve III. C) II ve III.
D) II ve IV. E) III ve IV.

6. Aşağıda özellikleri verilen yerlerin hangisinde toplu dokulu yerleşmenin gelişmesi beklenir?

- A) Arazinin engebeli olduğu yerler
- B) Tarım alanlarının parçalı olduğu yerler
- C) Otlakların birbirine uzak olduğu yerler
- D) Eğimin fazla olduğu yerler
- E) Su kaynaklarının yetersiz olduğu yerler

Yerleşmelerin Gelişimi, Yerleşme Doku ve Tipleri

7. Aşağıda Dünya haritası üzerinde beş farklı yer işaretlenmiştir.



Bu yerlerin hangisinde yerleşme faaliyetleri daha yoğundur?

- A) I B) II C) III D) IV E) V

8. Yerleşmelerin dağınık doku özelliği göstermesinde;

- I. su kaynakları,
II. yer şekilleri,
III. ekonomik faaliyetler

unsurlarından hangileri etkili olmaktadır?

- A) Yalnız I. B) Yalnız II. C) I ve II.
D) II ve III. E) I, II ve III.

9. Aşağıda verilen iklim bölgelerinin hangisinde ahşap meskenlerin yaygın olması beklenir?

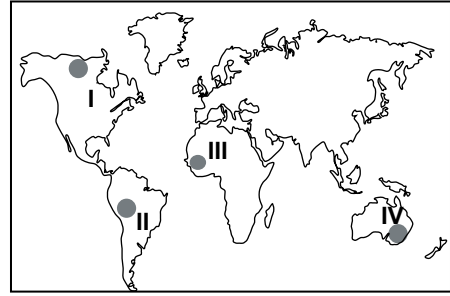
- A) Ekvatorial iklim
B) Karasal iklim
C) Tundra iklimi
D) Akdeniz iklimi
E) Kutup iklimi

10. Yerleşmelerin kır yerleşmesi ya da şehir yerleşmesi olduğunu belirtmede çeşitli kriterler kullanılır.

Aşağıdakilerden hangisi bu kriterlerden biri değildir?

- A) Ekonomik faaliyetlerin türü
B) Nüfusun eğitim düzeyi ve miktarı
C) Sosyal ve kültürel hizmetler
D) Çalışan nüfusun sektörel dağılımı
E) Çevresindeki yerleşim birimleri

11. Yerleşmelerin deniz seviyesinden yükseklikleri Ekvator'dan kutuplara doğru gidildikçe genellikle azalmaktadır.



Buna göre haritada numaralandırılarak verilen yerlerin hangi ikisinin yerleşme üst sınırının deniz seviyesinden diğerlerine göre daha yüksek olması beklenir?

- A) I ve II. B) I ve III. C) II ve III.
D) II ve IV. E) III ve IV.

12. İlk yerleşmelerin kurulduğu yerlerin genel özellikleri arasında aşağıdakilerden hangisi gösterilemez?

- A) Barınak yapımı için uygun malzemelerin bulunduğu yerlerdir.
B) Yer şekilleri tarımsal faaliyetlere uygun yerlerdir.
C) Ilıman iklim koşullarının görüldüğü yerlerdir.
D) Doğal bitki örtüsünün gür ormanlar olduğu yerlerdir.
E) Su kaynaklarına yakın yerlerdir.

