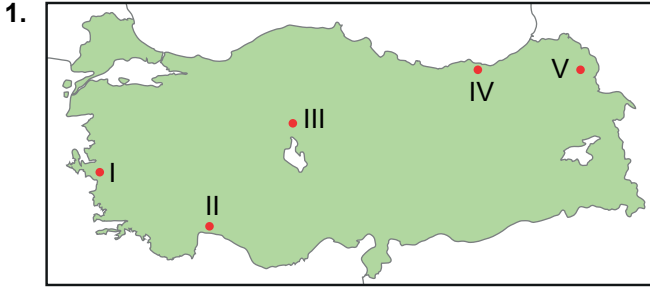


Türkiye'de Görülen İklim Tipleri



Haritada numaralandırılarak verilen yerlerin iklim özellikleri hakkında aşağıdakilerden hangisi söylenemez?

- A) I numaralı yerde oluşan yağışların tümü orografik oluşumludur.  
B) Yıllık ortalama sıcaklık değeri en yüksek olan yer II numaralı yerdir.  
C) Verilen yerlerden iki tanesi Akdeniz İklim Bölgesi'nde yer almaktadır.  
D) Kış sıcaklık ortalaması en düşük olan yer V numaralı yerdir.  
E) Yıllık yağış miktarı en fazla olan yer IV numaralı yerdir.

2. Karadeniz ikliminin genel özellikleri ile ilgili;

- I. Yağış rejimi düzenlidir.  
II. En yağışlı mevsimi sonbahardır.  
III. Yıl içinde güneşli gün sayısı Akdeniz iklimine göre daha fazladır.

verilen ifadelerden hangileri söylenemez?

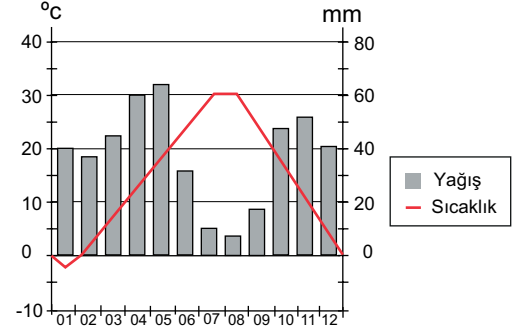
- A) Yalnız I. B) Yalnız II. C) Yalnız III.  
D) I ve II. E) I ve III.

3. I. Yazın yüksek sıcaklıklara, kışın ise düşük sıcaklıklara karşı dayanıksız bitkilerden oluşur.  
II. Yıllık ve günlük sıcaklık farklarının fazla olduğu iklim bölgelerinde yetişebilen ot topluluğudur.  
III. Yağışın mevsimlere düzenli bir şekilde dağıldığı iklim bölgelerinde gelişen ağaç topluluğudur.  
IV. Kış sıcaklıklarının 0°C'nin altına düşmediği ve yaz sıcaklıklarının fazla olduğu iklim bölgelerinde gelişen ağaç topluluğudur.

Yukarıda özellikleri verilen bitki topluluklarından hangi ikisinin, ülkemizde Karadeniz İklim Bölgesi sınırları içerisinde gelişme göstermesi beklenir?

- A) I ve II. B) I ve III. C) II ve III.  
D) II ve IV. E) III ve IV.

4. Aşağıda Erzincan iline ait yıllık ortalama yağış ve sıcaklık grafiği verilmiştir.



Grafiğe bakılarak Erzincan ilinin iklim özellikleri ile ilgili olarak aşağıdakilerden hangisi söylenemez?

- A) Yağış rejimi düzenlidir.  
B) Karasal bir iklime sahiptir.  
C) Yıllık sıcaklık farkı 25°C'nin üzerindedir.  
D) Mayıs ayında düşen yağış miktarı Eylül ayına göre daha fazladır.  
E) Yıllık ortalama yağış miktarı 250 mm'den fazladır.

5. Ülkemizin iklim özellikleri ile ilgili olarak aşağıda verilen ifadelerden hangisi yanlıştır?

- A) Ülkemizde Karasal iklimin yayılış alanı Karadeniz ikliminin yayılış alanından daha fazladır.  
B) Güney kıyılarımızda Akdeniz ikliminin özellikleri görülmektedir.  
C) Ülkemiz genel olarak Akdeniz iklim kuşağında yer almaktadır.  
D) Ege kıyılarımızda Akdeniz ikliminin yayılış alanı Akdeniz kıyılarına göre daha azdır.  
E) Ülkemizin iç kesimlerinde Karasal iklim özellikleri görülmektedir.

6. Karadeniz iklimi Türkiye'de görülen diğer iklim tipleri ile karşılaştırıldığında;

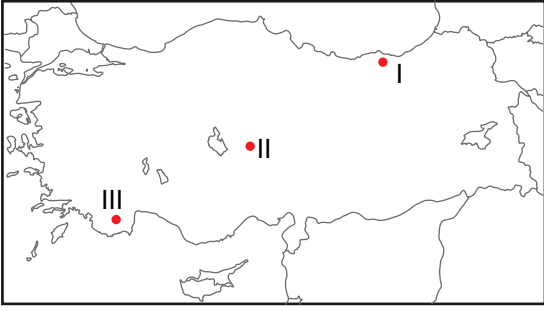
- I. yağış miktarı  
II. sıcaklık farkları  
III. bulutluluk oranı  
IV. güneşlenme süresi

verilenlerden hangileri bakımından ilk sırada yer alır?

- A) I ve II. B) I ve III. C) II ve III.  
D) II ve IV. E) III ve IV.

Türkiye’de Görülen İklim Tipleri

7. Aşağıda harita üzerinde üç farklı yer işaretlenmiştir.



Bu yerlerin iklim özellikleri ile ilgili aşağıdakilerden hangileri söylenemez?

- A) Yağış rejimi sadece I’de düzenlidir.
- B) Yıllık sıcaklık farkı II’de en fazladır.
- C) Kış sıcaklıkları III’de en yüksektir.
- D) III’ün I’den sıcak olmasında enlem etkisi vardır.
- E) II’de bitki örtüsü gür ormanlardır.

8. Akdeniz Bölgesi’nde tropikal bölge bitkilerinden olan muz’un yetiştirilmesinde;

- I. iklim özellikleri
- II. kıyıya paralel uzanan dağlar
- III. kalkerli arazi yapısı

verilenlerden hangileri etkilidir?

- A) Yalnız I.
- B) Yalnız II.
- C) Yalnız III.
- D) I ve II.
- E) I ve III.

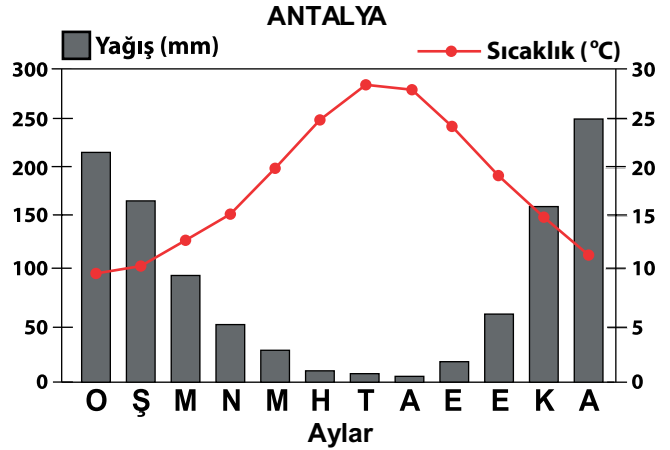
9. Türkiye’de görülen iklimler ile ilgili aşağıda verilen ifadelerden hangisi yanlıştır?

- A) Karasal iklim en yaygın iklimdir.
- B) En yüksek sıcaklık farkı karasal iklimdedir.
- C) Türkiye genel olarak Akdeniz İklim kuşağında yer alır.
- D) Karadeniz İklimi tüm Karadeniz Bölgesi’nde görülür.
- E) Kış sıcaklıkları en fazla Akdeniz İklimi’ndedir.

10. Aşağıdaki illerimizden hangisi diğerleriyle aynı iklim bölgesinin sınırları içerisinde yer almaz?

- A) Hatay
- B) Elazığ
- C) Sivas
- D) Şanlıurfa
- E) Kırıkkale

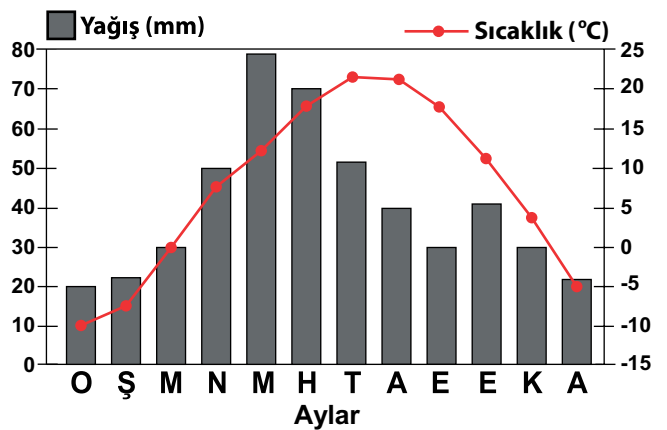
11. Aşağıda Antalya kentine ait yıllık ortalama sıcaklık ve yağış grafiği verilmiştir.



Grafikteki bilgilere bakılarak aşağıdaki çıkarımlardan hangisi yapılamaz?

- A) Yağış rejimi düzensizdir.
- B) En sıcak ay temmuz ayıdır.
- C) Yıllık sıcaklık farkı yaklaşık 20° C’dir.
- D) Yıllık yağış miktarı 300 mm’nin altındadır.
- E) Kış mevsiminde kar yağışları görülmez.

12. Aşağıda bir merkezin yıllık ortalama sıcaklık ve yağış dağılımını gösteren grafik verilmiştir.



Bu grafik ülkemizde aşağıdaki illerden hangisine ait olabilir?

- A) Mersin
- B) Rize
- C) Ankara
- D) İzmir
- E) Samsun

