

Büyük İklim Tipleri

1. • Yıllık ve günlük sıcaklık farkı oldukça fazladır.
• Yıllık yağış miktarı 100 mm'nin altındadır.
• Bağıl nem oranı yıl boyunca düşüktür.

Yukarıda bazı özellikleri verilen iklim tipi aşağıdakilerden hangisidir?

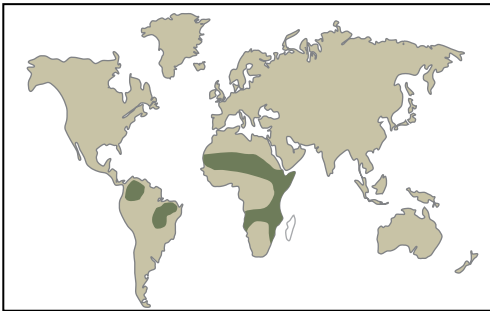
- A) Step iklimi
B) Çöl iklimi
C) Kutup iklimi
D) Akdeniz iklimi
E) Sert karasal iklim

2. I. Yağış rejimi düzenlidir.
II. Yazları sıcak ve kurak, kışları soğuk ve kar yağışlıdır.
III. Etkili olduğu yerlerde doğal bitki örtüsü karışık ormanlardır.

Yukarıda verilenlerden hangileri ılıman okyanus ikliminin karakteristik özellikleri arasında gösterilir?

- A) Yalnız I.
B) Yalnız II.
C) I ve II.
D) I ve III.
E) II ve III.

3.



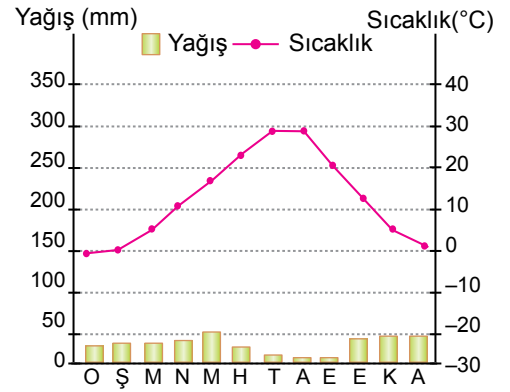
Yukarıdaki haritada dağılışı gösterilen iklim tipi hangisidir?

- A) Subtropikal iklim
B) Ekvatorial iklim
C) Muson iklimi
D) Karasal iklim
E) Çöl iklimi

4. Aşağıdakilerden hangisi soğuk kuşak iklimleri içerisinde yer alır?

- A) Savan iklimi
B) Step iklimi
C) Karasal iklim
D) Tundra iklimi
E) Muson İklimi

5. Aşağıda bir merkezin yıllık ortalama sıcaklık ve yağış dağılışı grafiği verilmiştir.



Grafiğe bakılarak bu merkezin bulunduğu yer ve çevresi hakkında aşağıdakilerden hangisi söylenemez?

- A) Karasallık şiddeti fazladır.
B) En yağışlı mevsim ilkbahardır.
C) Kış aylarında kar yağışları görülebilir.
D) Yıllık yağış miktarı 300 - 500 mm arasındadır.
E) Doğal bitki örtüsü geniş yapraklı ormanlardır.

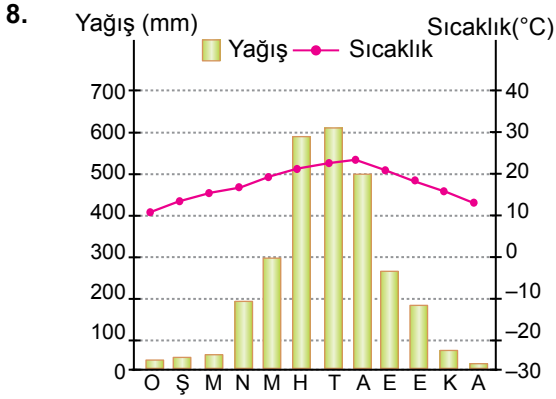
6. Aşağıdakilerden hangisi Dünya üzerinde farklı iklim tiplerinin oluşmasında etkili olmamıştır?

- A) Enlem etkisi
B) Sürekli basınç kuşakları
C) Sıcak ve soğuk su akıntıları
D) Boylam etkisi
E) Sürekli rüzgârlar

Büyük İklim Tipleri

7. Aşağıdaki iklim tiplerinden hangisinde yağışın yıl içindeki dağılımı daha düzenlidir?

- A) Muson B) Savan C) Tundra
D) Akdeniz E) Ekvatorial



Yukarıda yıllık sıcaklık ve yağış grafiği verilen yer ile ilgili olarak;

- I. Sıcak kuşakta yer alır.
II. Güney Yarım Küre'de yer alır.
III. Step iklimine göre daha nemli bir iklimdir.

bilgilerden hangileri doğrudur?

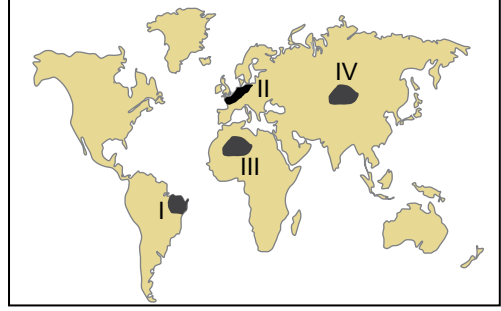
- A) Yalnız I. B) Yalnız II. C) I ve II.
D) I ve III. E) II ve III.

9. Aşağıda bazı iklim tipleri ile bu iklim tiplerinin etkili olduğu yerlerde gelişen doğal bitki örtüleri eşleştirilmiştir.

Bu eşleştirmelerden hangisi yanlıştır?

İklim	Bitki Örtüsü
A) Ekvatorial iklim	Geniş yapraklı ağaçlar
B) Akdeniz iklimi	Bodur ağaççıklar
C) Savan iklimi	Uzun boylu ot toplulukları
D) Muson iklimi	İğne yapraklı ağaçlar
E) Tundra iklimi	Cılız ve kısa ömürlü otlar

10. Sıcak ve nemli iklim bölgelerinde kayaçların fiziksel ayrışma hızı yüksektir.



Buna göre haritada işaretlenen yerlerden hangi ikisinde fiziksel ayrışma hızının daha yüksek olduğu söylenir?

- A) I ve II. B) I ve III. C) I ve IV.
D) II ve IV. E) III ve IV.

11. Çöl ikliminde günlük ve yıllık sıcaklık farkının fazla olması üzerinde;

- I. yıl boyunca yüksek basıncın etkili olması,
II. bağıl nemin yıl boyunca düşük olması,
III. denizel etkilerden uzak olması

verilenlerden hangileri etkili olmuştur?

- A) Yalnız I. B) Yalnız II. C) I ve II.
D) II ve III. E) I, II ve III.

12. • Toprak kış aylarında donmuş haldedir.
• Yaz aylarında toprak üzerinde bataklıklar oluşur.
• Yıllık yağış miktarı 250 mm civarındadır.

Yukarıda özellikleri verilen iklim tipi hangisidir?

- A) Tundra iklimi B) Savan iklimi
C) Karasal iklim D) Ekvatorial İklim
E) Muson iklimi

