

Gelişmişlik Seviyelerine Göre Ülkeler - 1

1. Ülkelerin gelişmişlik düzeyi ekonomik, siyasal, kültürel ve sosyal yapıları dikkate alınarak ölçülebilir.

Aşağıdakilerden hangisi ülkelerin gelişmişlik düzeyi hakkında bilgi vermez?

- A) Kişi başına düşen milli gelir
- B) Ortalama yaşam süresi
- C) Doğal nüfus artış hızı
- D) Nüfusun cinsiyet dağılımı
- E) Okuryazar nüfus oranı

2. İnsani gelişme indeksi bazı kriterler dikkate alınarak oluşturulmaktadır.

Aşağıdakilerden hangisi bu kriterler arasında gösterilmez?

- A) Yaşam süresi
- B) Eğitim düzeyi
- C) Nüfus miktarı
- D) Siyasi özgürlük
- E) İnsan hakları

3. I. Yer altı kaynakları bakımından fakirdir.
II. Doğal nüfus artış hızı yüksektir.
III. Aktif volkanik dağlara sahiptir.

Yukarıda verilen bilgilerden hangileri Japonya'ya ait değildir?

- A) Yalnız I .
- B) Yalnız II .
- C) Yalnız III.
- D) I ve III.
- E) II ve III.

4. I. Petrol ve doğalgaz ihraç eder.
II. Tropikal iklim bölgesinde toprakları vardır.
III. Pirinç üretiminde ve tüketiminde Dünya'da ilk sırada yer alır.
IV. Muson iklim bölgesinde toprakları vardır.

Nijerya ve Çin ile ilgili olarak verilen bilgiler aşağıdakilerden hangisinde doğru eşleştirilmiştir?

Çin	Nijerya
A) I ve II.	III ve IV.
B) II ve IV.	I ve III.
C) III ve IV.	I ve II.
D) II ve III.	I ve IV.
E) I ve III.	II ve IV.

5. **Aşağıdakilerden hangisi az gelişmiş ülkelerin genel özellikleri arasında gösterilemez?**

- A) Ekonomik faaliyetler üzerinde iklim koşullarının etkisi fazladır.
- B) Temel ihtiyaçların karşılanmasında güçlükler yaşanır.
- C) Teknolojik imkânlardan yararlanma fazladır.
- D) Kişi başına düşen milli gelir düşüktür.
- E) Doğal nüfus artış hızı yüksektir.

6. **Aşağıda verilen kıtalardan hangisinin gelişmişlik seviyesi diğerlerine göre daha fazladır?**

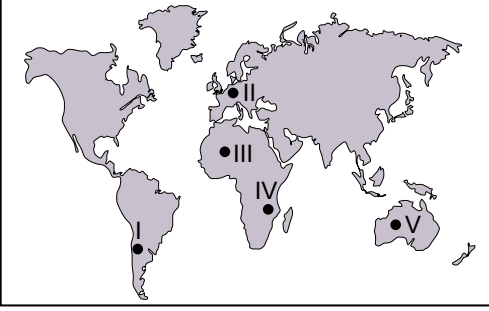
- A) Avrupa
- B) Afrika
- C) Asya
- D) Amerika
- E) Avustralya

Gelişmişlik Seviyelerine Göre Ülkeler - 1

7. Gelişmiş ülkelerin genel özellikleri arasında aşağıdakilerden hangisi gösterilemez?

- A) Doğal nüfus artış hızı düşüktür.
- B) Çalışan nüfusun yaş ortalaması yüksektir.
- C) Teknolojik imkânlardan yararlanma fazladır.
- D) İhracat ürünleri arasında hammadde oranı fazladır.
- E) Üretim faaliyetleri üzerinde doğal koşulların etkisi azdır.

8.

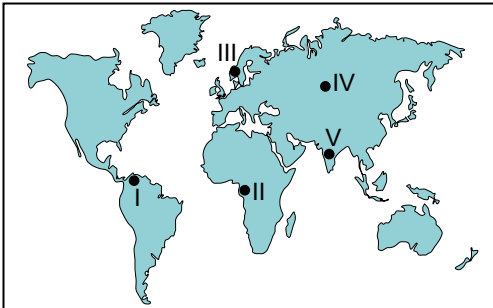


Teknolojik gelişmelerin yetersiz olduğu alanlarda ekonomik faaliyetler üzerinde doğal çevre koşullarının etkisinin fazla olduğunu söyleyebiliriz.

Dünya haritası üzerinde numaralandırılarak verilen yerlerin hangisinde doğal çevre koşullarının ekonomik faaliyetler üzerindeki etkisinin diğerlerine göre daha az olduğu söylenebilir?

- A) I
- B) II
- C) III
- D) IV
- E) V

9. • Ulaşım sistemleri gelişmiştir.
• İnsani gelişim indeksi yüksektir.
• Çalışan nüfusun eğitim düzeyi yüksektir.



Harita üzerinde numaralandırılarak gösterilen yerlerin hangisinin verilen özelliklere sahip olması beklenir?

- A) I
- B) II
- C) III
- D) IV
- E) V

10. • M ülkesinde aktif nüfusun yarısından fazlası geçimini tarımsal faaliyetlerden sağlamaktadır.
• N ülkesinde hizmet sektöründe çalışan nüfus oranı diğer sektörlerin toplamından fazladır.

M ve N ülkeleri karşılaştırıldığında;

- I. Gelişmişlik seviyeleri
- II. Dış ticaret hacimleri
- III. Ortalama yaşam süreleri

verilen özelliklerden hangileri bakımından farklı olması beklenir?

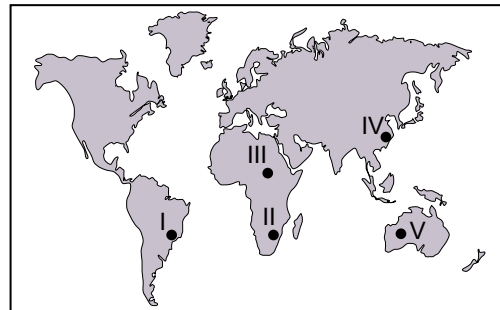
- A) Yalnız I.
- B) Yalnız III.
- C) I ve III.
- D) II ve III.
- E) I, II ve III.

11. • Tarımsal faaliyetlerle uğraşan nüfus oranı fazladır.
• Temel ihtiyaçların karşılanmasında zorluklar yaşanır.
• Dış ticaret kapasitesi düşüktür.

Aşağıda verilen ülkelerden hangisinin bu özelliklere sahip olması beklenir?

- A) Fransa
- B) Japonya
- C) Portekiz
- D) Norveç
- E) Somali

12. Sanayi faaliyetlerinin yoğun olduğu bölgelerde hava kirliliğinin fazla olduğunu söylenebilir.



Bu durumun harita üzerinde işaretlenen yerlerin hangisinde daha fazla olması beklenir?

- A) I
- B) II
- C) III
- D) IV
- E) V

