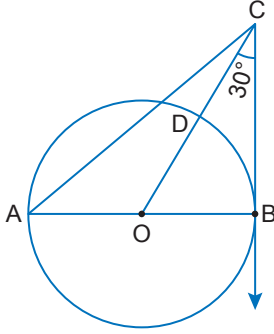


Çemberde Teğet

1.

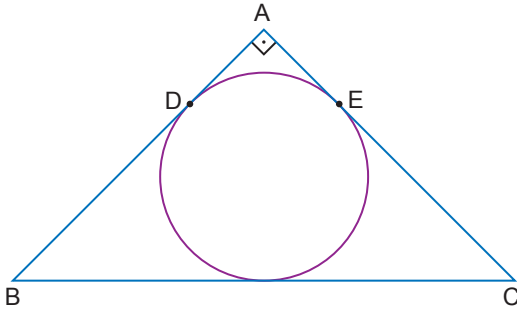


[CB, [AB] çaplı çembere B noktasında teğettir.  
|DC| = 6 cm,  $m(\widehat{BCO}) = 30^\circ$  tir.

Buna göre |AC| kaç santimetredir?

- A)  $6\sqrt{3}$  B) 12 C)  $6\sqrt{5}$  D)  $6\sqrt{7}$  E)  $12\sqrt{2}$

2.

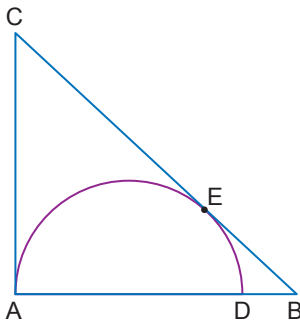


ABC üçgeninde,  $[AB] \perp [AC]$ ,  $|AB| = 36$  cm ve  $|BC| = 39$  cm'tir.

Buna göre ABC üçgeninin iç teğet çemberinin yarıçapının uzunluğu kaç santimetredir?

- A) 9 B)  $4\sqrt{3}$  C) 6 D) 4 E)  $2\sqrt{3}$

3.

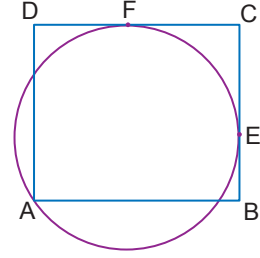


Yarıçapının uzunluğu 6 cm olan [AD] çaplı yarım çember, ABC üçgenine A ve E noktalarında teğettir.

|DB| = 3 cm olduğuna göre |EB| kaç santimetredir?

- A)  $3\sqrt{5}$  B)  $4\sqrt{3}$  C)  $3\sqrt{6}$  D) 8 E)  $6\sqrt{3}$

4.

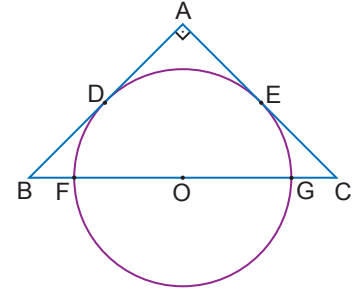


ABCD dikdörtgeninin [BC] ve [DC] kenarları çembere E ve F noktalarında teğettir.

|DC| = 32 cm ve |BC| = 25 cm olduğuna göre çemberin yarıçapının uzunluğu kaç santimetredir?

- A) 21 B) 20 C) 18 D) 17 E) 15

5.

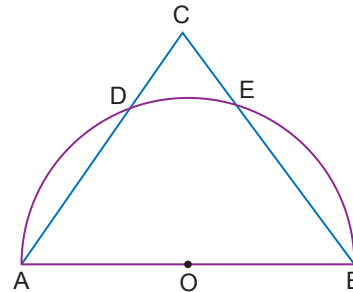


Yarıçapının uzunluğu 4 cm olan O merkezli çember [AB]'na D noktasında, [AC]'na E noktasında teğettir.

$[AB] \perp [AC]$  ve  $|AB| = 8$  cm olduğuna göre |BF| kaç santimetredir?

- A)  $4\sqrt{5} - 4$  B)  $4\sqrt{2} - 4$  C)  $3\sqrt{2} - 2$   
D) 2 E) 4

6.



ABC bir üçgen,  
 $|OB| = 3\sqrt{2}$  cm,  
 $|AD| = 6$  cm,  
 $|DC| = 3$  cm'tir.

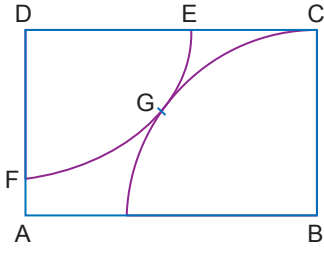
[AB] çaplı O merkezli yarım çember, [AC]'nı D noktasında, [BC]'nı E noktasında kesmektedir.

Buna göre |CE| kaç santimetredir?

- A)  $\frac{9}{\sqrt{5}}$  B)  $2\sqrt{5}$  C)  $\frac{12}{\sqrt{5}}$   
D)  $3\sqrt{5}$  E)  $4\sqrt{5}$

Çemberde Teğet

7.

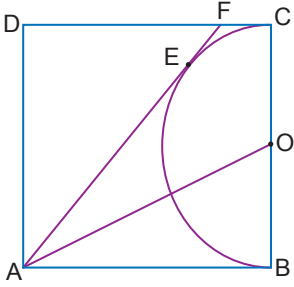


ABCD dikdörtgen, D merkezli çeyrek çemberin yarıçapının uzunluğu  $2\sqrt{3}$  cm, B merkezli çeyrek çemberin yarıçapının uzunluğu  $3\sqrt{3}$  cm dir.

**Bu çemberler G noktasında birbirine teğet olduğuna göre |EC| kaç santimetredir?**

- A)  $\sqrt{3}$  B) 3 C)  $2\sqrt{3}$  D)  $3\sqrt{3}$  E)  $4\sqrt{2}$

8.

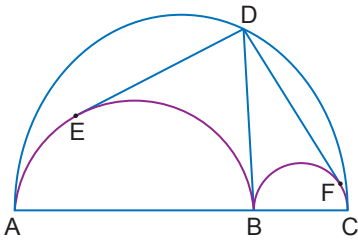


ABCD bir kare ve [AF], O merkezli çembere E noktasında teğettir.

**|AB| = 12 cm olduğuna göre |DF| kaç santimetredir?**

- A) 6 B)  $3\sqrt{5}$  C)  $4\sqrt{5}$  D)  $6\sqrt{5}$  E) 9

9.

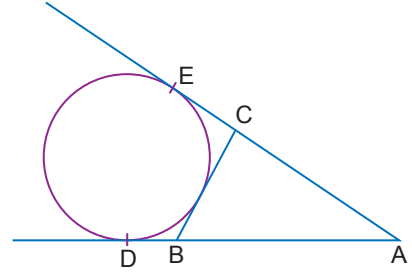


Merkezleri doğrusal olan [AB], [BC] ve [AC] çaplı yarım çemberler veriliyor. [DB], [AB] ve [BC] çaplı çemberlere B noktasında; [DE], [AB] çaplı çembere E noktasında ve [DF], [BC] çaplı çembere F noktasında teğettir.

**|AB| = 2|BC| = 2 cm olduğuna göre |DE| + |DF| kaç santimetredir?**

- A)  $\sqrt{2}$  B)  $2\sqrt{2}$  C) 4 D)  $4\sqrt{2}$  E) 6

10.

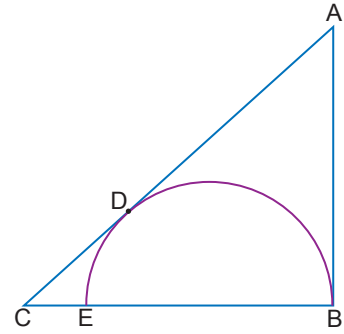


[AE], E noktasında; [AD], D noktasında çembere teğettir. A, C, E ve A, B, D doğrusaldır.

**ABC üçgeninin çevresi 42 cm olduğuna göre |EA| kaç santimetredir?**

- A) 18 B) 19 C) 20 D) 21 E) 22

11.

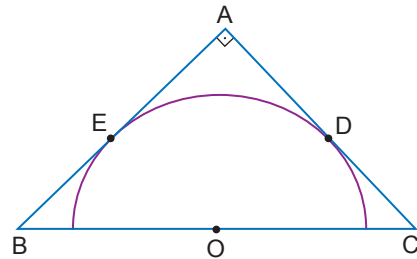


[AC], [BE] çaplı yarım çembere D noktasında teğettir.

**Çemberin yarıçapının uzunluğu 6 cm ve |AD| = 2|DC| olduğuna göre |AD| kaç santimetredir?**

- A)  $2\sqrt{5}$  B)  $3\sqrt{5}$  C)  $4\sqrt{5}$  D)  $6\sqrt{5}$  E)  $8\sqrt{5}$

12.



O merkezli yarım çember ABC dik üçgenine E ve D noktalarında teğettir.

**|AE| = 2|EB| olduğuna göre**

- I. |AD| = 2|EB|  
II. |BC| = 3|BO|  
III. |DC| = 4|EB|

**ifadelerinden hangileri doğrudur?**

- A) Yalnız I. B) Yalnız II. C) I ve II.  
D) II ve III. E) I, II ve III.

MEB 2018 - 2019 Ölçme, Değerlendirme ve Sınav Hizmetleri Genel Müdürlüğü

