



T.C.

MİLLÎ EĞİTİM BAKANLIĞI
ÖLÇME, DEĞERLENDİRME VE SINAV HİZMETLERİ
GENEL MÜDÜRLÜĞÜ

A

KİTAPÇIK TÜRÜ

HAYAT BOYU ÖĞRENME GENEL MÜDÜRLÜĞÜ MESLEKİ VE TEKNİK AÇIK ÖĞRETİM OKULU
ELGİNKAN VAKFI BİLGİSAYAR DESTEKLİ 2 BOYUTLU ÇİZİM AUTOCAD 15. GRUP SINAVI
08 ARALIK 2018

Adayın Adı ve Soyadı :

Aday Numarası (T.C. Kimlik No) :

ALAN	SORU SAYISI	SINAV SÜRESİ (DAKİKA)
AUTOCAD	100	100

ADAYLARIN DİKKATİNE!

1. Sınav saat **14.00**'te başlayacaktır. Sınav başladıktan sonra ilk **30** dakika tamamlanmadan dışarı çıkmayınız.
2. Sınav sırasında çanta, cep telefonu, saat, kablosuz iletişim sağlayan cihazlar ve kulaklık, kolye, küpe, bilezik, yüzük, broş ve benzeri eşyalar ile her türlü elektronik ve/veya mekanik cihazları yanınızda bulundurmayınız. Bu araçları yanınızda bulundurmanız ve kopya çekmeye teşebbüs etmeniz hâlinde sınavınız geçersiz sayılacaktır.
3. Başvuru şartlarını taşımadığınız hâlde sınava girmeniz, kopya çekmeniz, başka adayın sınav evrakını kullanmanız, geçerli kimlik belgenizi ve sınav giriş belgenizi ibraz edemediğiniz durumlarda sınavınız geçersiz sayılacaktır.
4. Sınavın değerlendirilmesi aşamasında, bilgisayar ortamında yapılan kopya analizinde sistemin ikili ve/veya toplu kopya tespiti hâlinde sınavınız geçersiz sayılacaktır.

CEVAP KÂĞIDI VE SORU KİTAPÇIĞI İLE İLGİLİ AÇIKLAMALAR

1. Cevap kâğıdınızdaki bilgilerin doğruluğunu kontrol ediniz ve cevap kâğıdınızı mürekkepli kalemle imzalayınız.
2. Kitapçık türünüzü cevap kâğıdınızdaki ilgili alana kodlayınız. Değerlendirme işlemleri cevap kâğıdındaki kodlamalara göre yapıldığından eksik ya da hatalı kodlamalarda sorumluluk size ait olacaktır.
3. Cevap kâğıdı üzerinde kodlamalarınızı siyah kurşun kalemle yapınız.
4. Değiştirmek istediğiniz bir cevabı, yumuşak silgiyle cevap kâğıdını örselemeden temizce siliniz ve yeni cevabınızı kodlayınız.
5. Soru kitapçığının sayfalarını kontrol ediniz, baskı hatası var ise değiştirilmesini sağlayınız.
6. Soru kitapçığının ön yüzündeki ilgili yerlere ad, soyad ve T.C. kimlik numaranızı yazınız.
7. Her sorunun **BEŞ** seçeneğinden sadece biri doğrudur. Doğru seçeneği, cevap kâğıdınızın ilgili sütununa soru numarasını dikkate alarak yuvarlağın dışına taşırmadan kodlayınız. **Soru kitapçığı üzerinde yapılan cevaplandırmalar dikkate alınmayacaktır.**
8. Yanlış cevaplarınızın dikkate alınmadan sadece doğru cevaplarınız üzerinden puanlama yapılacaktır.
9. Soruları ve sorulara verdiğiniz cevapları, yanınızda götürmek amacıyla kaydetmeyiniz; hiçbir şekilde dışarı çıkarmayınız.
10. Sınav bitiminde, soru kitapçığı ve cevap kâğıdını salon görevlilerine teslim ediniz.

BAŞLAYINIZ DENMEDEN SORU KİTAPÇIĞINI AÇMAYINIZ.

1. Yanda şekli verilen ikon hangi komuta aittir?



- A) Array
C) Offset
E) Move
B) Copy
D) Mirror






2. Autocad'de yay çizmeyi sağlayan komut aşağıdakilerden hangisidir?

- A) Circle
C) Arc
E) Polyline
B) Trim
D) Polygon

3. Autocad'de pah kırma işlemini gerçekleştiren komut aşağıdakilerden hangisidir?

- A) Circle
C) Line
E) Chamfer
B) Fillet
D) Polygon

4. Mirror komutunu çalıştırmak için kullanılan ikon aşağıdakilerden hangisidir?

- A)  B) 
C)  D) 
E) 

5. Yazı yazarken sayıların sonuna derece işareti koymak için aşağıdakilerden hangisinin yazılması gerekir?

- A) %% C
C) %% U
E) %% R
B) %% D
D) %% O

6. Line, circle, arc gibi çizgileri istenilen mesafelerde bölmeyi sağlayan komut aşağıdakilerden hangisidir?

- A) Break
C) Ray
E) Measure
B) Divide
D) Line

7. Seçilmiş olan objeyi bütün özelliğiyle aynı nitelikteki başka bir objeye aktararak değiştiren komut aşağıdakilerden hangisidir?

- A) Properties
B) Match properties
C) Edit text
D) Measure
E) Area

8. Alan ve çevre hesaplaması aşağıdaki komutlardan hangisi ile yapılmaktadır?

- A) Area
C) Region
E) Status
B) Distance
D) Boundary

9. Bilgisayar Destekli Çizim ve Tasarım kelimelerinin karşılığı aşağıdakilerden hangisidir?

- A) CAE
C) CAD
E) CATIA
B) CAM
D) CAP

10. Ara birimler hangi araç çubuğundan seçilir?

- A) Status Bar
C) Dimension
E) Properties
B) Modify
D) Workspace

11. Doğru ve yayların uç noktalarını (Endpoint) yakalamak için hangi işaret (mod) kullanılır?

- A) □ B) △
C) ○ D) ◇
E) ×

12. İki objenin kesim yerlerinin (Intersection) yakalanması için hangi işaret (mod) kullanılır?

- A) □ B) △
C) ⊗ D) ◇
E) ×

13. Daire ve yayların çeyrek noktalarının (Quadrant) yakalanması için hangi işaret (mod) kullanılır?

- A) □ B) △
C) ⊗ D) ◇
E) ×

14. Birbirine dik çizilmiş iki objenin dik noktalarının (Perpendicular) yakalanması için hangi işaret (mod) kullanılır?

- A) ⊗ B) ...
C) ⊥ D) △
E) ×

15. Osnap modlarının otomatik olarak kullanılması için klavyeden hangi tuşa basılır?

- A) F1 B) F2
C) F3 D) F4
E) F5

16. Osnap modlarının otomatik olarak kullanılması için ekranın en alt kısmında bulunan durum çubuğundaki hangi düğmeye basılır?

- A) Osnap B) Ortho
C) Otrack D) Grid
E) Dyn

17. Osnap modları hangi araç çubuğunda bulunur?

- A) Modify B) Draw
C) Standard D) View
E) Object Snap

18. Art arda düz doğrular çizmek için hangi komut kullanılır?

- A) Circle B) Line
C) Trace D) Polygon
E) Measure

19. Çokgen çizmek için hangi komut kullanılır?

- A) Circle B) Line
C) Trace D) Polygon
E) Rectangle

20. Elips çizmek için hangi komut kullanılır?

- A) Circle B) Line
C) Ellipse D) Polygon
E) Rectangle

21. Çizim komutları hangi panelde bulunur?

- A) Draw B) Modify
C) View D) Text
E) Render

22. Mutlak (Absolute) koordinatlarla çizim yaparken nokta koordinatlarının klavyeden yazılımı aşağıdakilerden hangisidir?

- A) @X, Y
- B) X, Y
- C) @L <Açı
- D) L@X, Y
- E) X@ Y

23. Üç objeye teğet daire çiziminde aşağıdakilerden hangisi kullanılır?

- A) Radius
- B) Diameter
- C) 3P
- D) TTT
- E) Ttr






24. Çap ölçüsü vererek daire çizmek için aşağıdakilerden hangisi kullanılır?

- A) Radius
- B) Ttr
- C) 2P
- D) TTT
- E) Diameter

25. Yay çizmek için kullanılan komut aşağıdakilerden hangisidir?

- A) Line
- B) Arc
- C) Circle
- D) Trace
- E) Revcloud

26. Daire çizmek için kullanılan komut düğmesi aşağıdakilerden hangisidir?

- A) 
- B) 
- C) 
- D) 
- E) 

27. Yay çizmede kullanılan başlangıç, merkez, son seçeneği aşağıdakilerden hangisidir?

- A) Center, Start, Angle
- B) Start, Center, Angle
- C) Start, End, Angle
- D) Start, Center, End
- E) Start, End, Radius

28. Elips çiziminde kullanılan ve ölçülerin yarısı alınan metot aşağıdakilerden hangisidir?

- A) Are
- B) Center
- C) Elliptical
- D) Rotation
- E) El

29. Ardışık birleşik çizgi çizmek için kullanılan komut aşağıdakilerden hangisidir?

- A) Arc
- B) Line
- C) Circle
- D) Rotation
- E) Pline

30. Pline komutunda çizgiye kalınlık vermek için aşağıdakilerden hangisi kullanılır?

- A) Close
- B) Lenght
- C) Width
- D) Line
- E) Halfwidth

31. İç içe iki daireden oluşan halka şekli çizdirmek için hangi komut kullanılır?

- A) Line
- B) Polygon
- C) Rectangle
- D) Pline
- E) Donut

32. Multilines, traces, solids, donut ve genişlik verilmiş polyline gibi objelerin içlerinin boş veya dolu olmasını ayarlayan sistem değişken komutu aşağıdakilerden hangisidir?

- A) Line
C) ReetAngle
E) Donut
- B) Fillmode
D) Point

33. Nokta stili ayarlama komutu aşağıdakilerden hangisidir?

- A) Pointstyle
C) Rectangle
E) Spline
- B) Fillmode
D) Point

34. Kapalı alanları bir desenle taramak için kullanılan komut aşağıdakilerden hangisidir?

- A) Pointstyle
C) Rectangle
E) Spline
- B) Hatch
D) Point

35. Objeleri iki veya üç renk taramak için hangi seçenek kullanılır?

- A) Predefined
B) Userdefined
C) Gradient
D) Custom
E) Swatch

36. Serbest el çizgisi çizmek için hangi komut kullanılır?

- A) Inscribed
C) Edge
E) Mline
- B) Circle
D) Sketch

37. Çoklu çizgi çizmek için hangi komut kullanılır?

- A) Sketch
C) Edge
E) Mline
- B) Circle
D) Inscribed

38. 2 boyutlu içi dolu obje çizmek için hangi komut kullanılır?

- A) Trace
C) Ray
E) Mline
- B) Solid
D) Xline

39. Kapalı veya açık objeleri eşit sayılara bölmek için hangi komut kullanılır?

- A) Revision
C) Divide
E) Multiline
- B) Solid
D) Measure

40. Bölüntü yerlerindeki noktaların görünmesi için hangi komutla ayarlama yapılır?

- A) Pointstyle
C) Divide
E) Multiline
- B) Solid
D) Measure






41. İki objenin uçlarını yarıçapı belirlenmiş bir yayla birleştiren komut aşağıdakilerden hangisidir?

- A) Join
C) Offset
E) Extend
- B) Fillet
D) Chamfer






42. Fillet komutundan çıkmadan ardı ardına köşeleri seçmek için aşağıdakilerden hangisi kullanılır?

- A) Undo
C) Radius
E) Trim
- B) Redo
D) Multiple

43. Fillet komut düğmesi aşağıdakilerden hangisidir?

- A)  B) 
- C)  D) 
- E) 

44. Bir sınıra göre objelerin fazlalıklarını budamak için kullanılan Trim komutunun komut düğmesi aşağıdakilerden hangisidir?

- A)  B) 
 C)  D) 
 E) 

45. Ekranda bulunan bir objeyi yine ekranın herhangi bir yerine taşımak için hangi komut kullanılır?

- A) Insert B) Move
 C) Copy D) Copyclip
 E) Cutclip

46. Dosyadan dosyaya obje kopyalamak için hangi komut kullanılır?

- A) Insert B) Move
 C) Copy D) Copyclip
 E) Cutclip






47. Copyclip ve Cutclip komutları tarafından panoya yerleştirilen objeleri ekrana yerleştirmek için hangi komut kullanılır?

- A) Pasteclip B) Move
 C) Copy D) Copyclip
 E) Cutclip






48. Seçilmiş objeleri dizi hâlinde kopyalamak için hangi komut kullanılır?

- A) Mirror B) Array
 C) Scale D) Rotate
 E) Extend

49. Array komutunun komut düğmesi aşağıdakilerden hangisidir?

- A)  B) 
 C)  D) 
 E) 

50. Copy komutunun komut düğmesi aşağıdakilerden hangisidir?

- A)  B) 
 C)  D) 
 E) 






51. Array komutunda objeleri dairesel kopyalamak için aşağıdakilerden hangisi kullanılır?

- A) Polar B) Rectangle
 C) Row D) Column
 E) Angle

52. Seçilmiş objeleri bir sınır objesine kadar uzatmak için hangi komut kullanılır?

- A) Mirror B) Array
 C) Extend D) Rotate
 E) Scale

53. Extend komutunun komut düğmesi aşağıdakilerden hangisidir?

- A)  B) 
 C)  D) 
 E) 

54. Doğru ve yayların uzunluklarını değiştirmek için hangi komut kullanılır?

- A) Lenghten
B) Array
C) Scale
D) Rotate
E) Extend

55. Change komutunda objelerin rengini değiştirmek için aşağıdakilerden hangisi kullanılır?

- A) Elev
B) Color
C) Ltype
D) Lweight
E) Ltscal

56. Change komutunda objelerin çizgi kalınlığını değiştirmek için aşağıdakilerden hangisi kullanılır?

- A) Color
B) Elev
C) Ltype
D) Lweight
E) Ltscal

57. Mevcut tarama üzerinde desen, tarama açısı, tarama aralığı gibi özellikleri değiştirmek için hangi komut kullanılır?

- A) Pedit
B) Splinedit
C) Mledit
D) Join
E) Hatchedit

58. Çoklu çizgilerin özelliklerini değiştirmek için hangi komut kullanılır?

- A) Pedit
B) Splinedit
C) Mledit
D) Join
E) Hatchedit

59. Birbirine benzer ve aynı hizada, aralarında boşluk olmayan yay ve doğruları birleştirip tek obje hâline getiren komut aşağıdakilerden hangisidir?

- A) Mleaderedit
B) Splinedit
C) Mledit
D) Join
E) Hatchedit

60. Çok sayıda objeden oluşan çizimlerin bir bütün hâline getirilmesine ne denir?

- A) Birleşik çizgi
B) Blok
C) Tarama
D) Slayt
E) Doğru






61. Oluşturulan blokları sabit diske (HD) dosya gibi kaydetmek için hangi komut kullanılır?

- A) Wblock
B) Block
C) Insert
D) Explode
E) Name

62. Oluşturulmuş blokları ekrana çağırıp yerleştirmek için hangi komut kullanılır?

- A) Wblock
B) Block
C) Insert
D) Explode
E) Name

63. Explode komutunun komut düğmesi aşağıdakilerden hangisidir?

- A)  B) 
C)  D) 
E) 

64. AutoCAD programı içinde hazır blok resimler hangi komut içinde bulunur?

- A) Cameras
B) Materials
C) Hatch
D) 3D Make
E) Design Center

65. Design Center komutunun komut düğmesi hangi panelde bulunur?

- A) Views
- B) Visual style
- C) Model viewports
- D) Palettes
- E) Coordinates

66. Hazır blok resimler AutoCAD programının hangi klasöründe bulunur?

- A) Support
- B) Setup
- C) Template
- D) Sample
- E) Drv






67. Yatay ve dikey ölçülendirme yapılmasını sağlayan ölçülendirme komutu aşağıdakilerden hangisidir?

- A) Arc Length
- B) Linear
- C) Angular
- D) Baseline
- E) Continue






68. Birbiriyle açı yapan iki objenin arasındaki açının ölçülendirilmesini sağlayan ölçülendirme komutu aşağıdakilerden hangisidir?

- A) Linear
- B) Aligned
- C) Angular
- D) Baseline
- E) Continue

69. Aligned ölçülendirme komutunun komut düğmesi aşağıdakilerden hangisidir?

- A) 
- B) 
- C) 
- D) 
- E) 

70. Daire ve yayın yarıçapını ölçülendiren komut düğmesi aşağıdakilerden hangisidir?

- A) 
- B) 
- C) 
- D) 
- E) 

71. Daire ve yayın yarıçapı hangi komutla ölçülendirilir?

- A) Diameter
- B) Radius
- C) Jogged
- D) Arc Length
- E) Centermark

72. Yayın uzunluğu hangi komutla ölçülendirilir?

- A) Diameter
- B) Radius
- C) Jogged
- D) Arc Length
- E) Centermark

73. Baseline ve Continue komutları uygulanmadan önce hangi komut uygulanmalıdır?

- A) Diameter
- B) Radius
- C) Jogged
- D) Arc Length
- E) Linear

74. Koordinatlı ölçülendirme yapmak için hangi komut uygulanmalıdır?

- A) Diameter
- B) Ordinate
- C) Jogged
- D) Arc Length
- E) Qdim

75. Ölçülendirme stili ayarları hangi komutla yapılır?

- A) Dimstyle
- B) Dimedit
- C) Dimtedit
- D) Tolerance
- E) Dimcenter

76. Ölçülendirme yapıldıktan sonra ölçü rakamının istenilen açıda olması için aşağıdakilerden hangisi kullanılır?

- A) Home
- B) Angle
- C) Left
- D) Right
- E) Center

77. Şekil ve konum toleransları hangi komutla yapılır?

- A) Dimstyle
- B) Dimedit
- C) Dimtedit
- D) Tolerance
- E) Dimcenter

78. Çizim alanında tek satırlı yazı yazmak için hangi komut kullanılır?

- A) Mtext
- B) EditText
- C) Text
- D) TextStyle
- E) Scaletext

79. Yazı stilleri ayarlamak için hangi komut kullanılır?

- A) Mtext
- B) EditText
- C) Text
- D) Style
- E) Scaletest

80. Yazıları yeniden düzenlemek için hangi komut kullanılır?

- A) Mtext
- B) Edit Text
- C) Text
- D) Style
- E) Scaletest

81. Mtext komutunda, yazı editöründe özel yazı ve sembollerin yazdırılması için hangi düğmeye tıklanır?

- A) Symbol
- B) Bold
- C) Italic
- D) Underline
- E) Overline

82. Text Style diyalog kutusunda açılı yazmak için nereye açılı değeri girilir?

- A) Width Factor
- B) Font Name
- C) Height
- D) Font Style
- E) Oblique Angle

83. Çizim özelliklerinin ayarlandığı katmanlar hangi komutla elde edilir?

- A) New
- B) Layer
- C) Modify
- D) Draw
- E) Open

84. Hiç katman ayarlanmazsa hangi katmanla çizimler yapılır?

- A) 0
- B) Eksen
- C) Çizim
- D) Yazı
- E) Tarama

85. Layerleri kilitlemek için hangi düğmeye tıklanır?

- A) Freeze
- B) New Layer
- C) On
- D) Lock
- E) Off

86. Layerlerin çizgi kalınlıklarını değiştirmek için hangi düğmeye tıklanır?

- A) Linetype
- B) Color
- C) Name
- D) Lineweight
- E) Plot

87. Layerdeki objelerin yazıcıdan çıktı alırken çizdirilmemesi için hangi düğmeye tıklanır?

- A) Linetype
- B) Color
- C) Name
- D) Lineweight
- E) Plot

88. Standart kâğıt ölçülerine göre çizim sınırlarının ayarlanması için hangi komut kullanılır?

- A) Limits
- B) Units
- C) Zoom
- D) Pan
- E) Lenghten

89. Çizimlerde kullanılacak birimlerin ayarlanması için hangi komut kullanılır?

- A) Limits
- B) Pan
- C) Zoom
- D) Units
- E) Regen

90. Zoom komutu girildikten sonra bir bölgenin pencere içine alınması için aşağıdakilerden hangisi kullanılır?

- A) Previous
- B) Window
- C) All
- D) Dynamic
- E) Center

91. Zoom komutu girildikten sonra görünen veya görünmeyen tüm resimlerin ekrana getirilmesi için aşağıdakilerden hangisi kullanılır?

- A) Previous
- B) Window
- C) Extens
- D) Dynamic
- E) Center

92. Ekranda belli aralıklarla kenetleme sağlayan komut aşağıdakilerden hangisidir?

- A) Pan
- B) Zoom
- C) Grid
- D) Ortho
- E) Snap

93. Ekranda çokgen şeklinde görünen daire ve yayların daha düzgün görünmesi için hangi komut kullanılır?

- A) Redraw
- B) Viewress
- C) Vports
- D) Regenall
- E) Isoplane

94. İzometrik snap moduna geçmek için komut satırına hangi komut yazılır?

- A) Redraw
- B) Viewress
- C) Vports
- D) Regenall
- E) Snapstyle

95. Dosyadaki tüm eksen çizgisi ve kesik çizgilerin ölçeği hangi komutla değiştirilir?

- A) Linetype
- B) Viewress
- C) Isoplane
- D) Regenall
- E) Ltyscale

96. Doğrusal çizimlerde noktalardan meydana gelen iz elde etmek için durum çubuğunda hangi düğmeye tıklanır?

- A) Otrack
- B) Polarmode
- C) Ortho
- D) Polar
- E) Snap

97. Ölçü rakamlarının başına Ø (çap) işareti konulmak istenildiğinde klavyeden giriş aşağıdakilerden hangisidir?

- A) %%D
- B) %%C
- C) %%P
- D) %%U
- E) %%O

98. Aşağıdakilerden hangisi kâğıt üzerine aktarılacak çizimlerin ölçeğini gösterir?

- A) Plot scale
- B) Change
- C) Properties
- D) Extents
- E) Limits

99. Aşağıdakilerden hangisi ekrandaki tüm çizimleri seçmeye yarayan tuş kombinasyonudur?

- A) Alt + A
- B) Ctrl + V
- C) Ctrl + A
- D) Alt + C
- E) Ctrl + P

100. Area komutu aşağıdaki işlemlerden hangisini yapar?

- A) Alan hesaplar.
- B) Dairenin çapına + işareti koyar.
- C) Hacim hesaplar.
- D) Çoklu kopyalama yapar.
- E) Çoklu silme yapar.

TEST BİTTİ.
CEVAPLARINIZI KONTROL EDİNİZ.

SINAV SÜRESİNCE UYULACAK KURALLAR

- 1. Adaylar, sınav kurallarına ve salon görevlilerinin tüm uyarılarına uymak zorundadırlar. Kurallara ve uyarılara uymayan adayların sınavları geçersiz sayılacaktır.**
- 2. Sınav başladıktan sonra adayların salon görevlileri ve birbirleri ile konuşmaları, kalem, silgi vb. şeyleri istemeleri yasaktır.**
- 3. Adaylar sınav süresince, sınav giriş belgesi ile birlikte geçerli kimlik belgelerinden birini (fotoğraflı nüfus cüzdanı, pasaport veya sürücü belgesini) masalarının üzerinde bulundurmamak zorundadırlar.**
- 4. Sınav evraklarını teslim etmeyen, soru kitapçıklarının sayfalarından bir kısmını eksik teslim edenlerin sınavları geçersiz sayılacaktır.**

SALON GÖREVLİLERİNCE SINAV BAŞLAMADAN ÖNCE ADAYLARA YAPILACAK SON UYARILAR

- Soracağınız bir şey varsa şimdi sorunuz, sınav başladıktan sonra sorularınıza cevap verilmeyecektir.
- Başlama zilini bekleyiniz.

Hepinize başarılar dileriz.

(Salon başkanı başlama ve bitiş saatini tahtaya yazacaktır.)

Bu kitapçığın her hakkı saklıdır. Hangi amaçla olursa olsun, kitapçığın tamamının veya bir kısmının Millî Eğitim Bakanlığı Ölçme, Değerlendirme ve Sınav Hizmetleri Genel Müdürlüğünün yazılı izni olmadan kopya edilmesi, fotoğraflarının çekilmesi, bilgisayar ortamına alınması, herhangi bir yolla çoğaltılması, yayımlanması veya başka bir amaçla kullanılması yasaktır. Bu yasağa uymayanlar, doğabilecek cezai sorumluluğu ve kitapçığın hazırlanmasındaki mali külfeti peşinen kabullenmiş sayılır.

08 ARALIK 2018 TARİHİNDE YAPILAN
HAYAT BOYU ÖĞRENME GENEL MÜDÜRLÜĞÜ MESLEKİ VE TEKNİK AÇIK ÖĞRETİM OKULU
ELGİNKAN VAKFI BİLGİSAYAR DESTEKLİ 2 BOYUTLU ÇİZİM AUTOCAD 15. GRUP SINAVI
A SORU KİTAPÇIĞI CEVAP ANAHTARI

1. A	26. A	51. A	76. B
2. C	27. D	52. C	77. D
3. E	28. E	53. E	78. C
4. D	29. E	54. A	79. D
5. B	30. C	55. B	80. B
6. E	31. E	56. D	81. A
7. B	32. B	57. E	82. E
8. A	33. A	58. C	83. B
9. C	34. B	59. D	84. A
10. D	35. C	60. B	85. D
11. A	36. D	61. A	86. D
12. E	37. E	62. C	87. E
13. D	38. B	63. A	88. A
14. C	39. C	64. E	89. D
15. C	40. A	65. D	90. B
16. A	41. B	66. D	91. C
17. E	42. D	67. B	92. E
18. B	43. C	68. C	93. B
19. D	44. E	69. A	94. E
20. C	45. B	70. E	95. E
21. A	46. D	71. B	96. D
22. B	47. A	72. D	97. B
23. D	48. B	73. E	98. A
24. E	49. C	74. B	99. C
25. B	50. A	75. A	100. A