

**B****KİTAPÇIK TÜRÜ**

T.C.
MİLLÎ EĞİTİM BAKANLIĞI
ÖLÇME, DEĞERLENDİRME VE SINAV HİZMETLERİ
GENEL MÜDÜRLÜĞÜ

**HAYAT BOYU ÖĞRENME GENEL MÜDÜRLÜĞÜ MESLEKİ VE TEKNİK AÇIK ÖĞRETİM OKULU
ELGİNKAN VAKFI BİLGİSAYAR DESTEKLİ 2 BOYUTLU ÇİZİM AUTOCAD 14. GRUP SINAVI
01/04/2018**

Adayın Adı ve Soyadı :

Aday Numarası (T.C. Kimlik No) :

| ALAN | SORU SAYISI | SINAV SÜRESİ (DAKİKA) |
|---------|-------------|-----------------------|
| AUTOCAD | 100 | 100 |

ADAYLARIN DİKKATİNE!

1. Sınav saat **15.00**'te başlayacaktır. Sınav başladıktan sonra ilk **30** dakika tamamlanmadan dışarı çıkmayınız.
2. Sınav sırasında çanta, cep telefonu, saat, kablosuz iletişim sağlayan cihazlar ve kulaklık, kolye, küpe, bilezik, yüzük, broş ve benzeri eşyalar ile her türlü elektronik ve/veya mekanik cihazları yanınızda bulundurmayınız. Bu araçları yanınızda bulundurmanız ve kopya çekmeye teşebbüs etmeniz hâlinde sınavınız geçersiz sayılacaktır.
3. Başvuru şartlarını taşımadığınız hâlde sınava girmeniz, kopya çekmeniz, başka adayın sınav evrakını kullanmanız, geçerli kimlik belgenizi ve sınav giriş belgenizi ibraz edemediğiniz durumlarda sınavınız geçersiz sayılacaktır.
4. Sınavın değerlendirilmesi aşamasında, bilgisayar ortamında yapılan kopya analizinde sistemin ikili ve/veya toplu kopya tespiti hâlinde sınavınız geçersiz sayılacaktır.

CEVAP KÂĞIDI VE SORU KİTAPÇIĞI İLE İLGİLİ AÇIKLAMALAR

1. Cevap kâğıdınızdaki bilgilerin doğruluğunu kontrol ediniz ve cevap kâğıdınızı mürekkepli kalemle imzalayınız.
2. Kitapçık türünüzü cevap kâğıdınızdaki ilgili alana kodlayınız. Değerlendirme işlemleri cevap kâğıdındaki kodlamalara göre yapıldığından eksik ya da hatalı kodlamalarda sorumluluk size ait olacaktır.
3. Cevap kâğıdı üzerinde kodlamalarınızı siyah kurşun kalemle yapınız.
4. Değiştirmek istediğiniz bir cevabı, yumuşak silgiyle cevap kâğıdını örselemeden temizce siliniz ve yeni cevabınızı kodlayınız.
5. Soru kitapçığının sayfalarını kontrol ediniz, baskı hatası var ise değiştirilmesini sağlayınız.
6. Soru kitapçığının ön yüzündeki ilgili yerlere ad, soyad ve T.C. kimlik numaranızı yazınız.
7. Her sorunun **BEŞ** seçeneğinden sadece biri doğrudur. Doğru seçeneği, cevap kâğıdınızın ilgili sütununa soru numarasını dikkate alarak yuvarlağın dışına taşırmadan kodlayınız. **Soru kitapçığı üzerinde yapılan cevaplandırmalar dikkate alınmayacaktır.**
8. Yanlış cevaplarınızın dikkate alınmadan sadece doğru cevaplarınız üzerinden puanlama yapılacaktır.
9. Soruları ve sorulara verdiğiniz cevapları, yanınızda götürmek amacıyla kaydetmeyiniz; hiçbir şekilde dışarı çıkarmayınız.
10. Sınav bitiminde, soru kitapçığı ve cevap kâğıdını salon görevlilerine teslim ediniz.

BAŞLAYINIZ DENMEDEN SORU KİTAPÇIĞINI AÇMAYINIZ.

1. "Select Objects" ne demektir?

- A) Tutma noktası belirle
- B) Hedef nokta belirle
- C) Nesneleri yakala
- D) Nesneleri seç
- E) Nesneleri taşı

2. Çap ölçüsü vererek daire çizmek için aşağıdakilerden hangisi kullanılır?

- A) Radius
- B) Diameter
- C) 2P
- D) TTT
- E) Ttr

3. Çizimde görünmesi istenmeyen bölgelerin dolu bir çokgen ile örtülmesini sağlayan komut aşağıdakilerden hangisidir?

- A) Extrim
- B) Viewres
- C) Wipeout
- D) Regenall
- E) Isoplane






4.  Annotation panelinde yer alan yan taraftaki simge hangi komutu çalıştırır?

- A) Boundary
- B) Table
- C) Quick Calc
- D) Gradient
- E) Properties

5.  Draw panelinde yer alan yan taraftaki simge hangi komutu çalıştırır?

- A) Region
- B) Rectangle
- C) Boundary
- D) Gradient
- E) Hatch

6. Circle komutunun simgesi aşağıdakilerden hangisidir?

- A) 
- B) 
- C) 
- D) 
- E) 

7. Edit Polyline, Edit Spline, Edit Hatch gibi komutların yer aldığı panel aşağıdakilerden hangisidir?

- A) Draw
- B) Modify
- C) Annotation
- D) Utilities
- E) View

8. Erase komutu aşağıdakilerden hangisini yapar?

- A) Daire çizer
- B) Radius çizer
- C) Nesne siler
- D) Çizgi çizer
- E) Pah kırar

9. AutoCAD'de çizilmiş nesnelere, çizim alanında taşıyarak yerini değiştiren komut aşağıdakilerden hangisidir?

- A) Pan
- B) Stretch
- C) Array
- D) Move
- E) Copy

10. Aşağıdakilerden hangisi Modify panelinde yer almaz?

- A) Offset
- B) Rotate
- C) Mirror
- D) Copy
- E) Block

11. Taşıma komutunun kısaltması aşağıdakilerden hangisidir?

- A) c
C) l
E) tr
B) m
D) e

12. AutoCAD'de istenilen mesafe kadar nesnelere öteleyerek çoğaltan komut aşağıdakilerden hangisidir?

- A) Mirror
C) Array
E) Offset
B) Move
D) Copy

13. Nesnelere çoğaltmak için kullanılan modify komutu aşağıdakilerden hangisidir?

- A) Mirror
C) Rotate
E) Erase
B) Move
D) Copy

14. Seçilen nesnenin belirlenen iki nokta arasında budanmasını sağlayan komut aşağıdakilerden hangisidir?

- A) Join
C) Extend
E) Trim
B) Divide
D) Chamfer

15. Polar array komutuyla çoğaltılacak nesne sayısı komutun hangi alt parametresi ile belirlenir?

- A) Associative
C) Items
E) Columns
B) Levels
D) Rows

16. Düzenleme komutları, Home şerit menüsünün hangi panelinde yer almaktadır?

- A) Draw
C) Utilities
E) Modify
B) Annotation
D) View

17. Tarama düzenleme komutu aşağıdakilerden hangisidir?

- A) Hatchedit
C) Pedit
E) Splinedit
B) Ddedit
D) Edit

18. Lenghten komutunun kısaltması aşağıdakilerden hangisidir?

- A) L
C) Len
E) Lt
B) Le
D) Leng

19. Boundary komutunun kısayolu aşağıdakilerden hangisidir?

- A) B
C) Bon
E) Br
B) Bo
D) Bond






20. Change komutunda nesnelere rengini değiştirmek için aşağıdakilerden hangisi kullanılır?

- A) Lweight
C) Ltype
E) Ltyscale
B) Elev
D) Color

21. Polyline düzenleme komutu aşağıdakilerden hangisidir?

- A) Pedit/Pe
C) Ltype
E) Properties
B) Break
D) Lweight

22. Rotate komutunun simgesi aşağıdakilerden hangisidir?

- A)  B) 
 C)  D) 
 E) 






23.  Modify panelinde yer alan yan taraftaki simge hangi komutu çalıştırır?

- A) Align B) Join
 C) Blend D) Explode
 E) Extend

24.  Modify panelinde yer alan yan taraftaki simge hangi komutu çalıştırır?

- A) Mirror B) Rectangular Array
 C) Gradient D) Hatch
 E) Polar Array

25. Offset komutunun simgesi aşağıdakilerden hangisidir?

- A)  B) 
 C)  D) 
 E) 

26.  Yan taraftaki simge hangi çizim yardımcısını çalıştırır?

- A) Polar Tracking B) Dynamic Input
 C) OSnap D) Transparency
 E) Object Snap Tracking

27. Sadece istenilen açı ve katlarında çizim yapmak için hangi çizim yardımcısı kullanılır?

- A) Polar Tracking B) Dynamic Input
 C) Ortho D) Snap
 E) Grid

28.  Status Bar (Durum Çubuğu) üzerinde yer alan yan taraftaki simge aşağıdaki çizim yardımcılarında hangisini çalıştırır?

- A) Ortho B) Object Snap Tracking
 C) OSnap D) Selection Cycling
 E) Dynamic Input

29. OSnap komutlarından hangisi orta noktaya kenetlenir?

- A) Midpoint B) Endpoint
 C) Tangent D) Node
 E) Perpendicular

30. Aşağıdakilerden hangisi OSnap Setting'de mevcuttur?

- A) Vertex B) Pivot
 C) Perpendicular D) Close
 E) Face

31.  Yan tarafta verilen simge hangi OSnap komutunu çalıştırır?

- A) Intersection B) Quadrant
 C) Perpendicular D) Apperent Intersection
 E) Midpoint






32.  Yan tarafta verilen simge hangi OSnap komutunu çalıştırır?

- A) Insertion B) Nearest
C) Extension D) Parallel
E) Endpoint






33.  Yan tarafta verilen simge hangi OSnap komutunu çalıştırır?

- A) Quadrant B) Center
C) Tangent D) 2p
E) Tan, Tan, Tan






34. Nesnelerin uç noktalarına kenetlenme işareti aşağıdakilerden hangisidir?

- A)  B) 
C)  D) 
E) 

35. İki nesnenin kesişim yerine kenetlenme işareti aşağıdakilerden hangisidir?

- A)  B) 
C)  D) 
E) 

36. Nesne üzerinde imlecin değdiği noktaya kenetlenme işareti aşağıdakilerden hangisidir?

- A)  B) 
C)  D) 
E) 

37. Katman oluşturma komutu aşağıdakilerden hangisidir?

- A) Linetype B) Layer
C) Properties D) Lineweight
E) Draw

38. Yeni bir layer oluşturmak için Layer Properties Manager diyalog kutusunda hangi düğmeye tıklanır?

- A) Freeze B) Lock
C) On D) New Layer
E) Status

39. Layerlerin ismini değiştirmek için hangi düğmeye tıklanır?

- A) Linetype B) Lineweight
C) Name D) Color
E) Plot

40.  Yan tarafta simgesi verilen Dimensions aracı hangi komutu çalıştırır?

- A) Dimarc B) Dimradius
C) Dimjogged D) Dimcenter
E) Dimdiameter

41.  Yan tarafta simgesi verilen Dimensions aracı hangi komutu çalıştırır?

- A) Dimlinear B) Dimbreak
C) Dimcontinue D) Dimbaseline
E) Dimedit

42.  Yan tarafta simgesi verilen Dimensions aracı hangi komutu çalıştırır?

- A) Dimarc
B) Dimradius
C) Dimjogged
D) Dimcenter
E) Dimdiameter






43.  Yan tarafta simgesi verilen Dimensions aracı hangi komutu çalıştırır?

- A) Dimradius
B) Dimangular
C) Tolerance
D) Dimedit
E) Dimspace






44.  Yan tarafta simgesi verilen Dimensions aracı hangi komutu çalıştırır?

- A) Inspection
B) Dimaligned
C) Dimstyle
D) Dimedit
E) Dimtedit

45. Aşağıdaki komutlardan hangisi ile açılı çizgilere hizalı ölçülendirme yapılır?

- A)  B) 
C)  D) 
E) 

46. Aşağıdaki komutlardan hangisi ile hızlı ölçülendirme yapılır?

- A)  B) 
C)  D) 
E) 

47. Dimension style menüsü ne işe yarar?

- A) Ölçülendirme yapılır.
B) Ölçülendirmeyi açar kapar.
C) Sadece ölçülendirme ayarı yapılır.
D) Dimension menüsünü açmaya yarar.
E) Ölçülendirme ayarı ve yeni ölçülendirme karakterleri oluşturulur.

48. Ölçülendirmede yazının altında kalan çizgiye ne ad verilir?

- A) Extension Line
B) Dimension Line
C) Baseline
D) Leader
E) Polyline

49. Aşağıdakilerden hangisi sürekli ölçülendirme yapan komuttur?

- A) Dimdiameter
B) Center Mark
C) Dimcenter
D) Dimedit
E) Dimcontinue

50. Aşağıdakilerden hangisinde verilen komutun işlevi yanlış yazılmıştır?

- A) Dimlinear - Doğrusal ölçülendirme
B) Dimradius - Yarıçap ölçülendirme
C) Dimangular - Açısal ölçülendirme
D) Dimaligned - Hizalı ölçülendirme
E) Dimordinate - Çap ölçülendirme

51. Yarıçapı çok büyük olan yayın ölçülendirilmesi hangi komutla yapılır?

- A) Dimarc
B) Dimradius
C) Dimjogged
D) Dimcenter
E) Dimdiameter

52. Şekil ve konum toleransları hangi komutla yapılır?

- A) Dimbreak B) Dimaligned
C) Dimspace D) Tolerance
E) Dimedit

53. Aşağıdakilerden hangisi AutoCAD'in çizim dosyası uzantısıdır?

- A) dwt B) ato
C) doc D) dwg
E) xls

54. Aşağıdakilerden hangisi yanlıştır?

- A) Donut (İç içe çift çember arasını boyayarak çizer.)
B) Endpoint (Bir doğru ya da yayın uç noktasından yakalar.)
C) Rotate (Seçilen nesnelere, bir noktanın etrafında döndürür.)
D) Edit (Düzenleme komutlarının yer aldığı çekme menüdür.)
E) Extend (Bir ya da daha fazla çizgiyi istenilen başka bir çizgiye kadar uzatır.)

55. Aşağıdakilerden hangisi açılı anlamına gelir?

- A) Scale B) Rotate
C) Base D) Edge
E) Angle

56. Aşağıdaki komut - kısaltma eşleştirmelerinden hangisi yanlış verilmiştir?

- A) Layer - la B) Single Line Text - t
C) Scale - sc D) Circle - c
E) Chamfer - cha

57. Aşağıdaki komut - kısaltma eşleştirmelerinden hangisi yanlış verilmiştir?

- A) Zoom - z B) Stretch - s
C) Ray - r D) Scale - sc
E) Circle - c

58. Aşağıdaki komut kısaltma eşleştirmelerinden hangisi yanlış verilmiştir?

- A) Distance - di B) View - v
C) Extend - ext D) Break - br
E) Arc - a

59. Aşağıdaki komut - kısaltma eşleştirmelerinden hangisi yanlış verilmiştir?

- A) Move - m B) Fillet - f
C) Rotate - ro D) Mirror - mi
E) Match Properties - mp

60. Menü çubuğunda aşağıdakilerden hangisi bulunmaz?

- A) File B) Edit
C) Dimension D) View
E) Line

61. AutoCAD'de dosya açma/kapama vb. dosya yönetimine yarayan komutlar hangi çekme menü altında toplanmıştır?

- A) Draw B) Window
C) File D) Dimension
E) Help

62. AutoCAD'de kullanıcı ile ilgili ayarlamaların yapıldığı komut aşağıdakilerden hangisidir?

- A) Options
B) Properties
C) Modify
D) Layers
E) Save

63. AutoCAD'de çizilen bir çizginin rengi, kalınlığı ve tipi home şerit menüsü altındaki hangi panelden değiştirilir?

- A) Draw
B) Modify
C) Utilities
D) Annotation
E) Properties

64. AutoCAD'de seçilmiş bir nesnenin çizim içerisindeki benzerlerini de seçime eklemek için aşağıdakilerden hangisi uygulanır?

- A) Edit menüsünden - Select all
B) Fare sağ tuş - Select Similar
C) Fare sağ tuş - Isolate
D) Select - w
E) Zoom - all

65. AutoCAD'de koordinat sayacı aşağıdakilerden hangisinin üzerinde yer almaktadır?

- A) Menu Bar
B) Status Bar
C) Navigation Bar
D) View Toolbar
E) Ribbon

66. Aşağıdaki klavye kısa yollarından hangisinin işlevi yanlış verilmiştir?

- A) Ctrl + X: İleri al
B) Ctrl + Z: Geri al
C) Ctrl + N: Yeni dosya aç
D) Ctrl + P: Plot penceresini açar.
E) Ctrl + W: Selection Cycling On / Off

67. AutoCAD'de en son kullandığımız komutu tekrar çalıştırmak için hangi tuşa basılır?

- A) Tab
B) Alt
C) Shift
D) Enter
E) Ctrl

68. DesignCenter komutunun klavye kısayolu aşağıdakilerden hangisidir?

- A) Ctrl+1
B) Ctrl+2
C) Ctrl+3
D) Shift+2
E) Alt+2

69. Kullanıcı arayüzü kelimelerinin karşılığı aşağıdakilerden hangisidir?

- A) Crosshair
B) Command line
C) User Interface
D) Menu Bar
E) Application

70. Bir çizimdeki tüm metinler üzerinde arama yaparak istenilen metni bulmaya ve değiştirmeye olanak tanıyan komut aşağıdakilerden hangisidir?

- A) Find
B) Edit
C) Ddedit
D) Dimedit
E) Center Mark

71. Açık olan çizim dosyasından bir başka dosyaya herhangi bir nesne kopyalamak için hangi komut kullanılır?

- A) Insert
B) Move
C) Copy
D) Copyclip
E) Cutclip

72. Hazır bloklar AutoCAD programının hangi klasöründe bulunur?

- A) Support B) Setup
C) Template D) Sample
E) Drv

73. AutoCAD'in mimarlıkla ilgili blokları hangi dosyada toplanmıştır?

- A) Welding B) Kitchen
C) 30 House D) Mechanical
E) Architectural

74. Herhangi bir nedenden dolayı bozulan dosyaları düzelterek kurtaran komut aşağıdakilerden hangisidir?

- A) Recover B) Audit
C) Purge D) Layers
E) Erase

75. Multiline komutu ile beş adet çizgiyi aynı anda çizmek için aşağıdakilerden hangisiyle bir düzenleme yapılır?

- A) Multiline B) Multiline Style
C) Text Style D) Multileader Style
E) Plot Style

76. Point komutu ile çizilen noktaların görünümü aşağıdakilerden hangisi ile değiştirilir?

- A) Point Style B) Multiple Point
C) Dimension Style D) Measure
E) Multiline Style

77. AutoCAD'de geri alma komutu aşağıdakilerden hangisidir?

- A) Redo B) Plot
C) Undo D) Clear
E) Paste

78. Aşağıdakilerden hangisi nesne özellikleri ile ilgili bir komuttur?

- A) Mirror B) Match Properties
C) Circle D) Dsetting
E) Publish

79. AutoCAD çizim programında çıktı almak için kullanılan komut aşağıdakilerden hangisidir?

- A) Polyline B) Publish
C) Print D) Pan
E) Plot

80. Aşağıdakilerden hangisi yaptığınız çizimleri kâğıda yazdırmadan önce ön izleme yapar?

- A) Layout B) Model
C) Plot Preview D) Page
E) Plot

81. Üzerinde çalışılan dosyayı kaydetmek için kullanılan komut aşağıdakilerden hangisidir?

- A) Save as B) Save
C) Export D) Plot
E) Import

82.  Quick Access Toolbar'da yer alan yan taraftaki simge hangi komutu çalıştırır?

- A) Open B) Paste
C) New D) Cut
E) Save

83.  Quick Access Toolbar'da yer alan yan taraftaki simge hangi komutu çalıştırır?

- A) Open
C) New
B) Paste
D) Cut
E) Save as

84. Çizilen tüm nesnelere ekranda görmeyi sağlayan zoom komutu klavyeden nasıl kullanılır?

- A) Zoom - a
C) Zoom - e
B) Zoom - v
D) Zoom - p
E) Zoom - c

85. Ekranı kaydırma komutu aşağıdakilerden hangisidir?

- A) Zoom
C) Array
B) Line
D) Offset
E) Pan

86. Zoom komutunun hangi alt parametresi ile oran belirtilerek büyütüp, küçültme yapılabilir?

- A) Pan
C) Dynamic
B) Window
D) Scale
E) Extents

87. Farenin orta tekerleğine basılı tutulduğunda hangi komut çalıştırılmış olur?

- A) Pan
C) Zoom Dynamic
B) Zoom Window
D) Zoom Scale
E) Zoom All

88. Aşağıdakilerden hangisi zoom komutunun alt parametresi değildir?

- A) Fence
C) Dynamic
B) Window
D) Scale
E) All

89.  Yan tarafta yer alan simge zoom komutlarından hangisini çalıştırır?

- A) Extends
C) Dynamic
B) Window
D) Scale
E) All

90.  Yan tarafta yer alan simge zoom komutlarından hangisini çalıştırır?

- A) Extends
C) Previous
B) Center
D) Object
E) All

91. AutoCAD programında çizgi çizmeyi sağlayan komut aşağıdakilerden hangisidir?

- A) Circle
C) Polygon
B) Trim
D) Extend
E) Line

92. Başlangıç noktası, merkezi ve giriş uzunluğu bilinen bir yay çizmek için hangi Arc komutu kullanılır?

- A) Start, Center, End
B) Start, Center, Angle
C) Center, Start, Length
D) Start, Center, Length
E) Start, Center, Direction

93. AutoCAD'de çift çizgi ya da daha fazla çizgi çizmeyi sağlayan komut aşağıdakilerden hangisidir?

- A) Line
C) Multiline
B) Polyline
D) Xline
E) Parallel

94. AutoCAD'de donut (çift çember arasını boyayarak çizen) komutu hangi panel içerisinde yer almaktadır?

- A) Format
C) Modify
E) Edit
- B) Draw
D) Dimension

95. Tarama bölgesini desen kullanmadan tek renk veya iki farklı rengin birbirlerine yaptığı geçişlerle dolduran komut aşağıdakilerden hangisidir?

- A) Gradient
C) Associative
E) Pattern
- B) Hatch
D) Inherid

96. Mtext komutu yazı editöründe, özel karakter ve sembollere hangi kısımdan ulaşılır?

- A) Overline
C) Italic
E) Symbol
- B) Bold
D) Underline

97. Circle komutunun kısa yolu aşağıdakilerden hangisidir?

- A) Cr
C) Ci
E) Cl
- B) Co
D) C

98. Herhangi bir üçgenin uç noktalarından geçen bir çember çizmek için Circle komutunun hangi alt parametresi kullanılır?

- A) 3 points
C) Tan, Tan, Radius
E) Radius
- B) 2 points
D) Tan, Tan, Tan

99. Herhangi bir üçgenin içinde, üç kenarına da teğet olacak şekilde bir çember çizmek için Circle komutunun hangi alt parametresi kullanılır?

- A) Tan, Tan, Radius
C) 2 points
E) Tan, Tan, Tan
- B) 3 points
D) Radius

100. AutoCAD 2015 ile kaç farklı şekilde çokgen çizilebilir?

- A) 2
C) 4
E) 6
- B) 3
D) 5

TEST BİTTİ.
CEVAPLARINIZI KONTROL EDİNİZ.

SINAV SÜRESİNCE UYULACAK KURALLAR

- 1. Adaylar, sınav kurallarına ve salon görevlilerinin tüm uyarılarına uymak zorundadırlar. Kurallara ve uyarılara uymayan adayların sınavları geçersiz sayılacaktır.**
- 2. Sınav başladıktan sonra adayların salon görevlileri ve birbirleri ile konuşmaları, kalem, silgi vb. şeyleri istemeleri yasaktır.**
- 3. Adaylar sınav süresince, sınav giriş belgesi ile birlikte geçerli kimlik belgelerinden birini (fotoğraflı nüfus cüzdanı, pasaport veya sürücü belgesini) masalarının üzerinde bulundurmamak zorundadırlar.**
- 4. Sınav evraklarını teslim etmeyen, soru kitapçıklarının sayfalarından bir kısmını eksik teslim edenlerin sınavları geçersiz sayılacaktır.**

SALON GÖREVLİLERİNCE SINAV BAŞLAMADAN ÖNCE ADAYLARA YAPILACAK SON UYARILAR

- Soracağınız bir şey varsa şimdi sorunuz, sınav başladıktan sonra sorularınıza cevap verilmeyecektir.
- Başlama zilini bekleyiniz.

Hepinize başarılar dileriz.

(Salon başkanı başlama ve bitiş saatini tahtaya yazacaktır.)

Bu kitapçığın her hakkı saklıdır. Hangi amaçla olursa olsun, kitapçığın tamamının veya bir kısmının Millî Eğitim Bakanlığı Ölçme, Değerlendirme ve Sınav Hizmetleri Genel Müdürlüğünün yazılı izni olmadan kopya edilmesi, fotoğraflarının çekilmesi, bilgisayar ortamına alınması, herhangi bir yolla çoğaltılması, yayımlanması veya başka bir amaçla kullanılması yasaktır. Bu yasağa uymayanlar, doğabilecek cezai sorumluluğu ve kitapçığın hazırlanmasındaki mali külfeti peşinen kabullenmiş sayılır.

01 NİSAN 2018 TARİHİNDE YAPILAN
HAYAT BOYU ÖĞRENME GENEL MÜDÜRLÜĞÜ MESLEKİ VE TEKNİK AÇIK ÖĞRETİM OKULU
ELGİNKAN VAKFI BİLGİSAYAR DESTEKLİ 2 BOYUTLU ÇİZİM AUTOCAD 14. GRUP SINAVI
B SORU KİTAPÇIĞI CEVAP ANAHTARI

1. D
2. B
3. C
4. B
5. A
6. D
7. B
8. C
9. D
10. E
11. B
12. E
13. D
14. E
15. C
16. E
17. A
18. C
19. B
20. D
21. A
22. C
23. D
24. B
25. A

26. E
27. A
28. D
29. A
30. C
31. B
32. A
33. C
34. A
35. E
36. A
37. B
38. D
39. C
40. B
41. D
42. C
43. E
44. D
45. B
46. A
47. E
48. B
49. E
50. E

51. C
52. D
53. D
54. D
55. E
56. B
57. C
58. C
59. E
60. E
61. C
62. A
63. E
64. B
65. B
66. A
67. D
68. B
69. C
70. A
71. D
72. D
73. E
74. A
75. B

76. A
77. C
78. B
79. E
80. C
81. B
82. A
83. C
84. C
85. E
86. D
87. A
88. A
89. C
90. D
91. E
92. D
93. C
94. B
95. A
96. E
97. D
98. A
99. E
100. B