



T.C.

MİLLÎ EĞİTİM BAKANLIĞI
ÖLÇME, DEĞERLENDİRME VE SINAV HİZMETLERİ
GENEL MÜDÜRLÜĞÜ

A

KİTAPÇIK TÜRÜ

HAYAT BOYU ÖĞRENME GENEL MÜDÜRLÜĞÜ MESLEKİ VE TEKNİK AÇIK ÖĞRETİM OKULU
ELGİNKAN VAKFI BİLGİSAYAR DESTEKLİ 2 BOYUTLU ÇİZİM AUTOCAD 14. GRUP SINAVI
01/04/2018

Adayın Adı ve Soyadı :

Aday Numarası (T.C. Kimlik No) :

ALAN	SORU SAYISI	SINAV SÜRESİ (DAKİKA)
AUTOCAD	100	100

ADAYLARIN DİKKATİNE!

1. Sınav saat **15.00**'te başlayacaktır. Sınav başladıktan sonra ilk **30** dakika tamamlanmadan dışarı çıkmayınız.
2. Sınav sırasında çanta, cep telefonu, saat, kablosuz iletişim sağlayan cihazlar ve kulaklık, kolye, küpe, bilezik, yüzük, broş ve benzeri eşyalar ile her türlü elektronik ve/veya mekanik cihazları yanınızda bulundurmayınız. Bu araçları yanınızda bulundurmanız ve kopya çekmeye teşebbüs etmeniz hâlinde sınavınız geçersiz sayılacaktır.
3. Başvuru şartlarını taşımadığınız hâlde sınava girmeniz, kopya çekmeniz, başka adayın sınav evrakını kullanmanız, geçerli kimlik belgenizi ve sınav giriş belgenizi ibraz edemediğiniz durumlarda sınavınız geçersiz sayılacaktır.
4. Sınavın değerlendirilmesi aşamasında, bilgisayar ortamında yapılan kopya analizinde sistemin ikili ve/veya toplu kopya tespiti hâlinde sınavınız geçersiz sayılacaktır.

CEVAP KÂĞIDI VE SORU KİTAPÇIĞI İLE İLGİLİ AÇIKLAMALAR

1. Cevap kâğıdınızdaki bilgilerin doğruluğunu kontrol ediniz ve cevap kâğıdınızı mürekkepli kalemle imzalayınız.
2. Kitapçık türünüzü cevap kâğıdınızdaki ilgili alana kodlayınız. Değerlendirme işlemleri cevap kâğıdındaki kodlamalara göre yapıldığından eksik ya da hatalı kodlamalarda sorumluluk size ait olacaktır.
3. Cevap kâğıdı üzerinde kodlamalarınızı siyah kurşun kalemle yapınız.
4. Değiştirmek istediğiniz bir cevabı, yumuşak silgiyle cevap kâğıdını örselemeden temizce siliniz ve yeni cevabınızı kodlayınız.
5. Soru kitapçığının sayfalarını kontrol ediniz, baskı hatası var ise değiştirilmesini sağlayınız.
6. Soru kitapçığının ön yüzündeki ilgili yerlere ad, soyad ve T.C. kimlik numaranızı yazınız.
7. Her sorunun **BES** seçeneğinden sadece biri doğrudur. Doğru seçeneği, cevap kâğıdınızın ilgili sütununa soru numarasını dikkate alarak yuvarlağın dışına taşırmadan kodlayınız. **Soru kitapçığı üzerinde yapılan cevaplandırmalar dikkate alınmayacaktır.**
8. Yanlış cevaplarınızın dikkate alınmadan sadece doğru cevaplarınız üzerinden puanlama yapılacaktır.
9. Soruları ve sorulara verdiğiniz cevapları, yanınızda götürmek amacıyla kaydetmeyiniz; hiçbir şekilde dışarı çıkarmayınız.
10. Sınav bitiminde, soru kitapçığı ve cevap kâğıdını salon görevlilerine teslim ediniz.

BAŞLAYINIZ DENMEDEN SORU KİTAPÇIĞINI AÇMAYINIZ.

1. Aşağıdakilerden hangisi AutoCAD'in çizim dosyası uzantısıdır?

- A) dwt
C) doc
B) ato
D) dwg
E) xls

2. Aşağıdakilerden hangisi yanlıştır?

- A) Donut (İç içe çift çember arasını boyayarak çizer.)
B) Endpoint (Bir doğru ya da yayın uç noktasından yakalar.)
C) Rotate (Seçilen nesnelere, bir noktanın etrafında döndürür.)
D) Edit (Düzenleme komutlarının yer aldığı çekme menüdür.)
E) Extend (Bir ya da daha fazla çizgiyi istenilen başka bir çizgiye kadar uzatır.)

3. Aşağıdakilerden hangisi açılı anlamına gelir?

- A) Scale
C) Base
B) Rotate
D) Edge
E) Angle

4. Aşağıdaki komut - kısaltma eşleştirmelerinden hangisi yanlış verilmiştir?

- A) Layer - la
C) Scale - sc
B) Single Line Text - t
D) Circle - c
E) Chamfer - cha

5. Aşağıdaki komut - kısaltma eşleştirmelerinden hangisi yanlış verilmiştir?

- A) Zoom - z
C) Ray - r
B) Stretch - s
D) Scale - sc
E) Circle - c

6. Aşağıdaki komut kısaltma eşleştirmelerinden hangisi yanlış verilmiştir?

- A) Distance - di
C) Extend - ext
B) View - v
D) Break - br
E) Arc - a

7. Aşağıdaki komut - kısaltma eşleştirmelerinden hangisi yanlış verilmiştir?

- A) Move - m
C) Rotate - ro
B) Fillet - f
D) Mirror - mi
E) Match Properties - mp

8. Menü çubuğunda aşağıdakilerden hangisi bulunmaz?

- A) File
C) Dimension
B) Edit
D) View
E) Line

9. AutoCAD'de dosya açma/kapama vb. dosya yönetimine yarayan komutlar hangi çekme menü altında toplanmıştır?

- A) Draw
C) File
B) Window
D) Dimension
E) Help

10. AutoCAD'de kullanıcı ile ilgili ayarlamaların yapıldığı komut aşağıdakilerden hangisidir?

- A) Options
C) Modify
B) Properties
D) Layers
E) Save

11. AutoCAD'de çizilen bir çizginin rengi, kalınlığı ve tipi home şerit menüsü altındaki hangi panelden değiştirilir?

- A) Draw
B) Modify
C) Utilities
D) Annotation
E) Properties

12. AutoCAD'de seçilmiş bir nesnenin çizim içerisindeki benzerlerini de seçime eklemek için aşağıdakilerden hangisi uygulanır?

- A) Edit menüsünden - Select all
B) Fare sağ tuş - Select Similar
C) Fare sağ tuş - Isolate
D) Select - w
E) Zoom - all

13. AutoCAD'de koordinat sayacı aşağıdakilerden hangisinin üzerinde yer almaktadır?

- A) Menu Bar
B) Status Bar
C) Navigation Bar
D) View Toolbar
E) Ribbon

14. Aşağıdaki klavye kısa yollarından hangisinin işlevi yanlış verilmiştir?

- A) Ctrl + X: İleri al
B) Ctrl + Z: Geri al
C) Ctrl + N: Yeni dosya aç
D) Ctrl + P: Plot penceresini açar.
E) Ctrl + W: Selection Cycling On / Off

15. AutoCAD'de en son kullandığımız komutu tekrar çalıştırmak için hangi tuşa basılır?

- A) Tab
B) Alt
C) Shift
D) Enter
E) Ctrl

16. DesignCenter komutunun klavye kısayolu aşağıdakilerden hangisidir?

- A) Ctrl+1
B) Ctrl+2
C) Ctrl+3
D) Shift+2
E) Alt+2

17. Kullanıcı arayüzü kelimelerinin karşılığı aşağıdakilerden hangisidir?

- A) Crosshair
B) Command line
C) User Interface
D) Menu Bar
E) Application

18. Bir çizimdeki tüm metinler üzerinde arama yaparak istenilen metni bulmaya ve değiştirmeye olanak tanıyan komut aşağıdakilerden hangisidir?

- A) Find
B) Edit
C) Ddedit
D) Dimedit
E) Center Mark

19. Açık olan çizim dosyasından bir başka dosya-ya herhangi bir nesne kopyalamak için hangi komut kullanılır?

- A) Insert
B) Move
C) Copy
D) Copyclip
E) Cutclip

20. Hazır bloklar AutoCAD programının hangi klasöründe bulunur?

- A) Support
B) Setup
C) Template
D) Sample
E) Drv

21. AutoCAD'in mimarlıkla ilgili blokları hangi dosyada toplanmıştır?

- A) Welding B) Kitchen
C) 30 House D) Mechanical
E) Architectural

22. Herhangi bir nedenden dolayı bozulan dosyaları düzelterek kurtaran komut aşağıdakilerden hangisidir?

- A) Recover B) Audit
C) Purge D) Layers
E) Erase

23. Multiline komutu ile beş adet çizgiyi aynı anda çizmek için aşağıdakilerden hangisiyle bir düzenleme yapılır?

- A) Multiline B) Multiline Style
C) Text Style D) Multileader Style
E) Plot Style

24. Point komutu ile çizilen noktaların görünümü aşağıdakilerden hangisi ile değiştirilir?

- A) Point Style B) Multiple Point
C) Dimension Style D) Measure
E) Multiline Style

25. AutoCAD'de geri alma komutu aşağıdakilerden hangisidir?

- A) Redo B) Plot
C) Undo D) Clear
E) Paste

26. Aşağıdakilerden hangisi nesne özellikleri ile ilgili bir komuttur?

- A) Mirror B) Match Properties
C) Circle D) Dsetting
E) Publish

27. AutoCAD çizim programında çıktı almak için kullanılan komut aşağıdakilerden hangisidir?

- A) Polyline B) Publish
C) Print D) Pan
E) Plot

28. Aşağıdakilerden hangisi yaptığınız çizimleri kâğıda yazdırmadan önce ön izleme yapar?

- A) Layout B) Model
C) Plot Preview D) Page
E) Plot

29. Üzerinde çalışılan dosyayı kaydetmek için kullanılan komut aşağıdakilerden hangisidir?

- A) Save as B) Save
C) Export D) Plot
E) Import

30.  Quick Access Toolbar'da yer alan yan taraftaki simge hangi komutu çalıştırır?

- A) Open B) Paste
C) New D) Cut
E) Save

31.  Quick Access Toolbar'da yer alan yan taraftaki simge hangi komutu çalıştırır?

- A) Open B) Paste
C) New D) Cut
E) Save as

32. Çizilen tüm nesnelere ekranda görmeyi sağlayan zoom komutu klavyeden nasıl kullanılır?

- A) Zoom - a B) Zoom - v
C) Zoom - e D) Zoom - p
E) Zoom - c

33. Ekranı kaydırma komutu aşağıdakilerden hangisidir?

- A) Zoom B) Line
C) Array D) Offset
E) Pan

34. Zoom komutunun hangi alt parametresi ile oran belirtilerek büyütüp, küçültme yapılabilir?

- A) Pan B) Window
C) Dynamic D) Scale
E) Extents

35. Farenin orta tekerleğine basılı tutulduğunda hangi komut çalıştırılmış olur?

- A) Pan B) Zoom Window
C) Zoom Dynamic D) Zoom Scale
E) Zoom All

36. Aşağıdakilerden hangisi zoom komutunun alt parametresi değildir?

- A) Fence B) Window
C) Dynamic D) Scale
E) All

37.  Yan tarafta yer alan simge zoom komutlarından hangisini çalıştırır?

- A) Extends B) Window
C) Dynamic D) Scale
E) All

38.  Yan tarafta yer alan simge zoom komutlarından hangisini çalıştırır?

- A) Extends B) Center
C) Previous D) Object
E) All

39. AutoCAD programında çizgi çizmeyi sağlayan komut aşağıdakilerden hangisidir?

- A) Circle B) Trim
C) Polygon D) Extend
E) Line

40. Başlangıç noktası, merkezi ve giriş uzunluğu bilinen bir yay çizmek için hangi Arc komutu kullanılır?

- A) Start, Center, End
B) Start, Center, Angle
C) Center, Start, Length
D) Start, Center, Length
E) Start, Center, Direction

41. AutoCAD'de çift çizgi ya da daha fazla çizgi çizmeyi sağlayan komut aşağıdakilerden hangisidir?

- A) Line B) Polyline
C) Multiline D) Xline
E) Parallel

42. AutoCAD'de donut (çift çember arasını boyayarak çizen) komutu hangi panel içerisinde yer almaktadır?

- A) Format B) Draw
C) Modify D) Dimension
E) Edit

43. Tarama bölgesini desen kullanmadan tek renk veya iki farklı rengin birbirlerine yaptığı geçişlerle dolduran komut aşağıdakilerden hangisidir?

- A) Gradient
B) Hatch
C) Associative
D) Inherid
E) Pattern

44. Mtext komutu yazı editöründe, özel karakter ve sembollere hangi kısımdan ulaşılır?

- A) Overline
B) Bold
C) Italic
D) Underline
E) Symbol

45. Circle komutunun kısa yolu aşağıdakilerden hangisidir?

- A) Cr
B) Co
C) Ci
D) C
E) Cl

46. Herhangi bir üçgenin uç noktalarından geçen bir çember çizmek için Circle komutunun hangi alt parametresi kullanılır?

- A) 3 points
B) 2 points
C) Tan, Tan, Radius
D) Tan, Tan, Tan
E) Radius

47. Herhangi bir üçgenin içinde, üç kenarına da teğet olacak şekilde bir çember çizmek için Circle komutunun hangi alt parametresi kullanılır?

- A) Tan, Tan, Radius
B) 3 points
C) 2 points
D) Radius
E) Tan, Tan, Tan

48. AutoCAD 2015 ile kaç farklı şekilde çokgen çizilebilir?

- A) 2
B) 3
C) 4
D) 5
E) 6

49. "Select Objects" ne demektir?

- A) Tutma noktası belirle
B) Hedef nokta belirle
C) Nesneleri yakala
D) Nesneleri seç
E) Nesneleri taşı

50. Çap ölçüsü vererek daire çizmek için aşağıdakilerden hangisi kullanılır?

- A) Radius
B) Diameter
C) 2P
D) TTT
E) Ttr

51. Çizimde görünmesi istenmeyen bölgelerin dolu bir çokgen ile örtülmesini sağlayan komut aşağıdakilerden hangisidir?

- A) Extrim
B) Viewres
C) Wipeout
D) Regenall
E) Isoplane






52.  Annotation panelinde yer alan yan taraftaki simge hangi komutu çalıştırır?

- A) Boundary
B) Table
C) Quick Calc
D) Gradient
E) Properties

53.  Draw panelinde yer alan yan taraftaki simge hangi komutu çalıştırır?

- A) Region
C) Boundary
E) Hatch
- B) Rectangle
D) Gradient

54. Circle komutunun simgesi aşağıdakilerden hangisidir?

- A)  B) 
- C)  D) 
- E) 

55. Edit Polyline, Edit Spline, Edit Hatch gibi komutların yer aldığı panel aşağıdakilerden hangisidir?

- A) Draw
C) Annotation
E) View
- B) Modify
D) Utilities

56. Erase komutu aşağıdakilerden hangisini yapar?

- A) Daire çizer
C) Nesne siler
E) Pah kırar
- B) Radius çizer
D) Çizgi çizer

57. AutoCAD'de çizilmiş nesnelere, çizim alanında taşıyarak yerini değiştiren komut aşağıdakilerden hangisidir?

- A) Pan
C) Array
E) Copy
- B) Stretch
D) Move

58. Aşağıdakilerden hangisi Modify panelinde yer almaz?

- A) Offset
C) Mirror
E) Block
- B) Rotate
D) Copy

59. Taşıma komutunun kısaltması aşağıdakilerden hangisidir?

- A) c
C) l
E) tr
- B) m
D) e

60. AutoCAD'de istenilen mesafe kadar nesnelere öteleyerek çoğaltan komut aşağıdakilerden hangisidir?

- A) Mirror
C) Array
E) Offset
- B) Move
D) Copy

61. Nesnelere çoğaltmak için kullanılan modify komutu aşağıdakilerden hangisidir?

- A) Mirror
C) Rotate
E) Erase
- B) Move
D) Copy

62. Seçilen nesnenin belirlenen iki nokta arasında budanmasını sağlayan komut aşağıdakilerden hangisidir?

- A) Join
C) Extend
E) Trim
- B) Divide
D) Chamfer

63. Polar array komutuyla çoğaltılacak nesne sayısı komutun hangi alt parametresi ile belirlenir?

- A) Associative B) Levels
C) Items D) Rows
E) Columns

64. Düzenleme komutları, Home şerit menüsünün hangi panelinde yer almaktadır?

- A) Draw B) Annotation
C) Utilities D) View
E) Modify

65. Tarama düzenleme komutu aşağıdakilerden hangisidir?

- A) Hatchedit B) Ddedit
C) Pedit D) Edit
E) Splinedit

66. Lenghten komutunun kısaltması aşağıdakilerden hangisidir?

- A) L B) Le
C) Len D) Leng
E) Lt

67. Boundary komutunun kısayolu aşağıdakilerden hangisidir?

- A) B B) Bo
C) Bon D) Bond
E) Br






68. Change komutunda nesnelerin rengini değiştirmek için aşağıdakilerden hangisi kullanılır?

- A) Lweight B) Elev
C) Ltype D) Color
E) Ltyscale

69. Polyline düzenleme komutu aşağıdakilerden hangisidir?

- A) Pedit/Pe B) Break
C) Ltype D) Lweight
E) Properties

70. Rotate komutunun simgesi aşağıdakilerden hangisidir?

- A)  B) 
C)  D) 
E) 






71.  Modify panelinde yer alan yan taraftaki simge hangi komutu çalıştırır?



- A) Align B) Join
C) Blend D) Explode
E) Extend














72.  Modify panelinde yer alan yan taraftaki simge hangi komutu çalıştırır?

- A) Mirror B) Rectangular Array
C) Gradient D) Hatch
E) Polar Array






73. Offset komutunun simgesi aşağıdakilerden hangisidir?

- A)  B) 
C)  D) 
E) 

74.  Yan taraftaki simge hangi çizim yardımcısını çalıştırır?
- A) Polar Tracking B) Dynamic Input
C) OSnap D) Transparency
E) Object Snap Tracking
75. Sadece istenilen açı ve katlarında çizim yapmak için hangi çizim yardımcısı kullanılır?
- A) Polar Tracking B) Dynamic Input
C) Ortho D) Snap
E) Grid
76.  Status Bar (Durum Çubuğu) üzerinde yer alan yan taraftaki simge aşağıdaki çizim yardımcılarında hangisini çalıştırır?
- A) Ortho B) Object Snap Tracking
C) OSnap D) Selection Cycling
E) Dynamic Input
77. OSnap komutlarından hangisi orta noktaya kenetlenir?
- A) Midpoint B) Endpoint
C) Tangent D) Node
E) Perpendicular
78. Aşağıdakilerden hangisi OSnap Setting'de mevcuttur?
- A) Vertex B) Pivot
C) Perpendicular D) Close
E) Face

79.  Yan tarafta verilen simge hangi OSnap komutunu çalıştırır?
- A) Intersection B) Quadrant
C) Perpendicular D) Apperent Intersection
E) Midpoint
80.  Yan tarafta verilen simge hangi OSnap komutunu çalıştırır?
- A) Insertion B) Nearest
C) Extension D) Parallel
E) Endpoint
81.  Yan tarafta verilen simge hangi OSnap komutunu çalıştırır?
- A) Quadrant B) Center
C) Tangent D) 2p
E) Tan, Tan, Tan
82. Nesnelerin uç noktalarına kenetlenme işareti aşağıdakilerden hangisidir?
- A)  B) 
C)  D) 
E) 
83. İki nesnenin kesişim yerine kenetlenme işareti aşağıdakilerden hangisidir?
- A)  B) 
C)  D) 
E) 

84. Nesne üzerinde imlecin değdiği noktaya kenetlenme işareti aşağıdakilerden hangisidir?

- A)  B) 
 C)  D) 
 E) 

85. Katman oluşturma komutu aşağıdakilerden hangisidir?

- A) Linetype B) Layer
 C) Properties D) Lineweigh
 E) Draw

86. Yeni bir layer oluşturmak için Layer Properties Manager diyalog kutusunda hangi düğmeye tıklanır?

- A) Freeze B) Lock
 C) On D) New Layer
 E) Status

87. Layerlerin ismini değiştirmek için hangi düğmeye tıklanır?

- A) Linetype B) Lineweight
 C) Name D) Color
 E) Plot

88. Yan tarafta simgesi verilen Dimensions aracı hangi komutu çalıştırır?

- A) Dimarc B) Dimradius
 C) Dimjogged D) Dimcenter
 E) Dimdiameter

89. Yan tarafta simgesi verilen Dimensions aracı hangi komutu çalıştırır?

- A) Dimlinear B) Dimbreak
 C) Dimcontinue D) Dimbaseline
 E) Dimedit

90. Yan tarafta simgesi verilen Dimensions aracı hangi komutu çalıştırır?

- A) Dimarc B) Dimradius
 C) Dimjogged D) Dimcenter
 E) Dimdiameter






91. Yan tarafta simgesi verilen Dimensions aracı hangi komutu çalıştırır?

- A) Dimradius B) Dimangular
 C) Tolerance D) Dimedit
 E) Dimspace

92. Yan tarafta simgesi verilen Dimensions aracı hangi komutu çalıştırır?

- A) Inspection B) Dimaligned
 C) Dimstyle D) Dimedit
 E) Dimtedit

93. Aşağıdaki komutlardan hangisi ile açılı çizgilere hizalı ölçülendirme yapılır?

- A)  B) 
 C)  D) 
 E) 

94. Aşağıdaki komutlardan hangisi ile hızlı ölçülendirme yapılır?



95. Dimension style menüsü ne işe yarar?

- A) Ölçülendirme yapılır.
- B) Ölçülendirmeyi açar kapar.
- C) Sadece ölçülendirme ayarı yapılır.
- D) Dimension menüsünü açmaya yarar.
- E) Ölçülendirme ayarı ve yeni ölçülendirme karakterleri oluşturulur.

96. Ölçülendirmede yazının altında kalan çizgiye ne ad verilir?

- A) Extension Line
- B) Dimension Line
- C) Baseline
- D) Leader
- E) Polyline

97. Aşağıdakilerden hangisi sürekli ölçülendirme yapan komuttur?

- A) Dimdiameter
- B) Center Mark
- C) Dimcenter
- D) Dimedit
- E) Dimcontinue

98. Aşağıdakilerden hangisinde verilen komutun işlevi yanlış yazılmıştır?

- A) Dimlinear - Doğrusal ölçülendirme
- B) Dimradius - Yarıçap ölçülendirme
- C) Dimangular - Açısal ölçülendirme
- D) Dimaligned - Hizalı ölçülendirme
- E) Dimordinate - Çap ölçülendirme

99. Yarıçapı çok büyük olan yayın ölçülendirilmesi hangi komutla yapılır?

- A) Dimarc
- B) Dimradius
- C) Dimjogged
- D) Dimcenter
- E) Dimdiameter

100. Şekil ve konum toleransları hangi komutla yapılır?

- A) Dimbreak
- B) Dimaligned
- C) Dimspace
- D) Tolerance
- E) Dimedit

TEST BİTTİ.

CEVAPLARINIZI KONTROL EDİNİZ.

SINAV SÜRESİNCE UYULACAK KURALLAR

- 1. Adaylar, sınav kurallarına ve salon görevlilerinin tüm uyarılarına uymak zorundadırlar. Kurallara ve uyarılara uymayan adayların sınavları geçersiz sayılacaktır.**
- 2. Sınav başladıktan sonra adayların salon görevlileri ve birbirleri ile konuşmaları, kalem, silgi vb. şeyleri istemeleri yasaktır.**
- 3. Adaylar sınav süresince, sınav giriş belgesi ile birlikte geçerli kimlik belgelerinden birini (fotoğraflı nüfus cüzdanı, pasaport veya sürücü belgesini) masalarının üzerinde bulundurmamak zorundadırlar.**
- 4. Sınav evraklarını teslim etmeyen, soru kitapçıklarının sayfalarından bir kısmını eksik teslim edenlerin sınavları geçersiz sayılacaktır.**

SALON GÖREVLİLERİNCE SINAV BAŞLAMADAN ÖNCE ADAYLARA YAPILACAK SON UYARILAR

- Soracağınız bir şey varsa şimdi sorunuz, sınav başladıktan sonra sorularınıza cevap verilmeyecektir.
- Başlama zilini bekleyiniz.

Hepinize başarılar dileriz.

(Salon başkanı başlama ve bitiş saatini tahtaya yazacaktır.)

Bu kitapçığın her hakkı saklıdır. Hangi amaçla olursa olsun, kitapçığın tamamının veya bir kısmının Millî Eğitim Bakanlığı Ölçme, Değerlendirme ve Sınav Hizmetleri Genel Müdürlüğünün yazılı izni olmadan kopya edilmesi, fotoğraflarının çekilmesi, bilgisayar ortamına alınması, herhangi bir yolla çoğaltılması, yayımlanması veya başka bir amaçla kullanılması yasaktır. Bu yasağa uymayanlar, doğabilecek cezai sorumluluğu ve kitapçığın hazırlanmasındaki mali külfeti peşinen kabullenmiş sayılır.

**01 NİSAN 2018 TARİHİNDE YAPILAN
HAYAT BOYU ÖĞRENME GENEL MÜDÜRLÜĞÜ MESLEKİ VE TEKNİK AÇIK ÖĞRETİM OKULU
ELGİNKAN VAKFI BİLGİSAYAR DESTEKLİ 2 BOYUTLU ÇİZİM AUTOCAD 14. GRUP SINAVI
A SORU KİTAPÇIĞI CEVAP ANAHTARI**

1. D
2. D
3. E
4. B
5. C
6. C
7. E
8. E
9. C
10. A
11. E
12. B
13. B
14. A
15. D
16. B
17. C
18. A
19. D
20. D
21. E
22. A
23. B
24. A
25. C

26. B
27. E
28. C
29. B
30. A
31. C
32. C
33. E
34. D
35. A
36. A
37. C
38. D
39. E
40. D
41. C
42. B
43. A
44. E
45. D
46. A
47. E
48. B
49. D
50. B

51. C
52. B
53. A
54. D
55. B
56. C
57. D
58. E
59. B
60. E
61. D
62. E
63. C
64. E
65. A
66. C
67. B
68. D
69. A
70. C
71. D
72. B
73. A
74. E
75. A

76. D
77. A
78. C
79. B
80. A
81. C
82. A
83. E
84. A
85. B
86. D
87. C
88. B
89. D
90. C
91. E
92. D
93. B
94. A
95. E
96. B
97. E
98. E
99. C
100. D