

KİTAPÇIK TÜRÜ

B



T.C.

MİLLÎ EĞİTİM BAKANLIĞI
ÖLÇME, DEĞERLENDİRME VE SINAV HİZMETLERİ
GENEL MÜDÜRLÜĞÜ

**33. GRUP:
PROGRAMCI**

**SAĞLIK BAKANLIĞI YÖNETİM HİZMETLERİ GENEL MÜDÜRLÜĞÜ
UNVAN DEĞİŞİKLİĞİ SINAVI
08/10/2017**

Adayın Adı ve Soyadı :

Aday Numarası (T.C. Kimlik No) :

ALANLAR	SORU SAYISI	SINAV SÜRESİ (DAKİKA)
Atama yapılacak görevin niteliği ile ilgili konular	50	60

ADAYLARIN DİKKATİNE!

1. Sınav saat **10.00**'da başlayacaktır. Sınav başladıktan sonra ilk **30** dakika tamamlanmadan dışarı çıkmayınız.
2. Sınav sırasında çanta, cep telefonu, saat, kablosuz iletişim sağlayan cihazlar ve kulaklık, kolye, küpe, bilezik, yüzük, broş ve benzeri eşyalar ile her türlü elektronik ve/veya mekanik cihazları yanınızda bulundurmayınız. Bu araçları yanınızda bulundurmanız ve kopya çekmeye teşebbüs etmeniz hâlinde sınavınız geçersiz sayılacaktır.
3. Başvuru şartlarını taşımadığınız hâlde sınava girmeniz, kopya çekmeniz, başka adayın sınav evrakını kullanmanız, geçerli kimlik belgenizi ve sınav giriş belgenizi ibraz edemediğiniz durumlarda sınavınız geçersiz sayılacaktır.
4. Sınavın değerlendirilmesi aşamasında, bilgisayar ortamında yapılan kopya analizinde sistemin ikili ve/veya toplu kopya tespiti hâlinde sınavınız geçersiz sayılacaktır.

CEVAP KÂĞIDI VE SORU KİTAPÇIĞI İLE İLGİLİ AÇIKLAMALAR

1. Cevap kâğıdınızdaki bilgilerin doğruluğunu kontrol ediniz ve cevap kâğıdınızı mürekkepli kalemle imzalayınız.
2. Kitapçık türünüzü cevap kâğıdınızdaki ilgili alana kodlayınız. Değerlendirme işlemleri cevap kâğıdındaki kodlamalara göre yapıldığından eksik ya da hatalı kodlamalarda sorumluluk size ait olacaktır.
3. Cevap kâğıdı üzerinde kodlamalarınızı siyah kurşun kalemle yapınız.
4. Değiştirmek istediğiniz bir cevabı, yumuşak silgiyle cevap kâğıdını örselemeden temizce siliniz ve yeni cevabınızı kodlayınız.
5. Soru kitapçığının sayfalarını kontrol ediniz, baskı hatası var ise değiştirilmesini sağlayınız.
6. Soru kitapçığının ön yüzündeki ilgili yerlere ad, soyad ve T.C. kimlik numaranızı yazınız.
7. Her sorunun **DÖRT** seçeneğinden sadece biri doğrudur. Doğru seçeneği, cevap kâğıdınızın ilgili sütununa soru numarasını dikkate alarak yuvarlağın dışına taşımadan kodlayınız. **Soru kitapçığı üzerinde yapılan cevaplandırmalar dikkate alınmayacaktır.**
8. Yanlış cevaplarınız dikkate alınmadan sadece doğru cevaplarınız üzerinden puanlama yapılacaktır.
9. Soruları ve sorulara verdiğiniz cevapları, yanınızda götürmek amacıyla kaydetmeyiniz; hiçbir şekilde dışarı çıkarmayınız.
10. Sınav bitiminde, soru kitapçığı ve cevap kâğıdını salon görevlilerine teslim ediniz.

BAŞLAYINIZ DENMEDEN SORU KİTAPÇIĞINI AÇMAYINIZ.

1. I. Devletin şekli
II. Devletin bütünlüğü
III. Cumhuriyetin nitelikleri
IV. Devletin temel amaç ve görevleri

T.C. Anayasası'na göre yukarıdakilerden hangileri değiştirilemeyecek hükümlerdendir?

- A) Yalnız I
B) II ve IV
C) I, II ve III
D) I, II, III ve IV

2. • Vergi ödevi
• Çalışma ve sözleşme hürriyeti
• Yerleşme ve seyahat hürriyeti
• Kamu hizmetlerine girme hakkı
• Eğitim ve öğrenim hakkı ve ödevi

T.C. Anayasası'na göre yukarıdakilerden kaç sosyal ve ekonomik haklar ve ödevlerdendir?

- A) İki B) Üç C) Dördü D) Beşi

3. **T.C. Anayasası'na göre Anayasa Mahkemesinin çalışma ve yargılama usulü ile ilgili aşağıdakilerden hangisi yanlıştır?**

- A) Anayasa Mahkemesi, iki bölüm ve Genel Kurul hâlinde çalışır.
B) Şekil bozukluğuna dayalı iptal davaları Anayasa Mahkemesince öncelikle incelenip karara bağlanır.
C) Genel Kurul, Mahkeme Başkanının veya Başkanın belirleyeceği başkanvekilinin başkanlığında en az on üye ile toplanır.
D) Siyasi partilere ilişkin dava ve başvurulara, iptal ve itiraz davaları ile Yüce Divan sıfatıyla yürütülecek yargılamalara ilgili bölümce bakılır.

4. **657 sayılı Devlet Memurları Kanunu'na göre Devlet memurları hakkındaki "yasaklar" ile ilgili aşağıdakilerden hangisi yanlıştır?**

- A) Greve karar vermeleri, grev tertiplenmeleri, ilan etmeleri, bu yolda propaganda yapmaları yasaktır.
B) Kamu hizmetleri ile ilgili gizli bilgileri görevlerinden ayrılmış bile olsalar hiçbir şekilde açıklamazlar.
C) Doğrudan doğruya veya aracı eliyle hediye istemeleri ve görevleri sırasında olmasa dahi menfaat sağlamak amacıyla hediye kabul etmeleri yasaktır.
D) Ticaret ve sanayi müesseselerinde görev alamaz, ticari mümessil veya ticari vekil veya kolektif şirketlerde ortak veya komandit şirket-te komandite ortak olamazlar.

5. I. Memurun kademe ilerlemesinin yapılabilmesi için bulunduğu kademedeki en az bir yıl çalışmış olması ve bulunduğu derecede ilerleyebileceği bir kademeden bulunması şartları aranır.
II. Son sekiz yıl içinde herhangi bir disiplin cezası almayan memurlara, aylık derecelerinin yükseltilmesinde dikkate alınmak üzere bir kademe ilerlemesi uygulanır.
III. Kademe ilerlemesi ile ilgili onay merci disiplin amirleridir. Onay mercileri kademe ilerlemeleri ile ilgili yetkilerini devredemezler.

657 sayılı Devlet Memurları Kanunu'na göre kademe ilerlemesi ile ilgili yukarıdakilerden hangileri doğrudur?

- A) Yalnız I
B) I ve II
C) II ve III
D) I, II ve III

6. **657 sayılı Devlet Memurları Kanunu'na göre aşağıdakilerden hangisinin görevden uzaklaştırmaya yetkisi yoktur?**

- A) Bakanlık ve genel müdürlük müfettişleri
B) Atamaya yetkili amirler
C) Disiplin amirleri
D) İllerde valiler

7. 663 sayılı Sağlık Bakanlığı ve Bağlı Kuruluşlarının Teşkilat ve Görevleri Hakkında Kanun Hükmünde Kararname'ye göre "sağlık hizmetlerinin ücret tarifelerini belirlemek veya tasdik etmek" görevi aşağıdaki hizmet birimlerinden hangisininindir?

- A) Sağlık Hizmetleri Genel Müdürlüğü
B) Sağlık Yatırımları Genel Müdürlüğü
C) Yönetim Hizmetleri Genel Müdürlüğü
D) Sağlıkın Geliştirilmesi Genel Müdürlüğü

8. 663 sayılı Sağlık Bakanlığı ve Bağlı Kuruluşlarının Teşkilat ve Görevleri Hakkında Kanun Hükmünde Kararname'ye göre Yüksek Sağlık Şûrası ile ilgili aşağıdakilerden hangisi yanlıştır?

- A) Şûra, en az sekiz üyenin katılımıyla toplanır ve oy çokluğu ile karar alır.
B) Şûra yılda en az dört kere toplanır. Başkan lüzum gördüğü hâllerde Şûrayı toplantıya çağırabilir.
C) Şûra üyelerinin on üçü Bakan tarafından ülkede sağlık hizmetleri veya eserleri ile tanınmış kişiler arasından seçilir.
D) Şûra üyelerinin görev süresi üç yıldır. Şûra toplantılarına üst üste üç kez mazeretsiz olarak katılmayanların üyeliği düşer.

9. Meslek icrası esnasında sonucunu öngörerek veya görevinin gereklerine aykırı hareket ederek veyahut görevinin gereklerini yapmakta ihmal veya gecikme göstererek bir kişinin ağır derecede olmayan engelliliğine sebebiyet verenlerin - - - - aydan - - - - yıla kadar meslekten geçici men edilmesine karar verilir.

663 sayılı Sağlık Bakanlığı ve Bağlı Kuruluşlarının Teşkilat ve Görevleri Hakkında Kanun Hükmünde Kararname'ye göre yukarıdaki hükümde boş bırakılan yerlere sırası ile hangisi getirilmelidir?

- A) altı - iki
B) altı - bir
C) üç - bir
D) bir - bir

10. "Oturmak" sözcüğü aşağıdaki cümlelerin hangisinde "benimsenmek, kökleşmek, yerleşmek" anlamında kullanılmıştır?

- A) Gemi, iki saat sonra karaya oturdu.
B) Gelenekler gün geçtikçe iyice oturdu.
C) Misafirler bugün çok fazla oturmadı.
D) Sabahtan akşama kadar boş boş oturdunuz.

11. Aşağıdaki cümlelerin hangisinde yazım yanlışı yapılmıştır?

- A) O, hem kıymetli bir entelektüel hem de değerli bir bilim insanıydı.
B) Onunla ayaküstü yaptığımız sohbetleri hiçbir zaman unutamam.
C) Yörede art arda çıkan orman yangınları ekiple-ri oldukça zorluyor.
D) Erciyes dağındaki modern tesisler kış için misafirlerini bekliyor.

12. Ah bu türküler köy türküleri

I II
Dilimizin tuzu biberi
III

Memleket ahvalini onlardan sor
IV

Kitaplarda değil türkülerde ara Yemen'i

Bu dizelerde numaralanmış tamlamalardan hangisi tür bakımından diğerlerinden farklıdır?

- A) I. B) II. C) III. D) IV.

13. Mustafa Kemal Paşa "Gazilik" unvanını hangi savaş sonunda almıştır?

- A) I. İnönü Savaşı
B) II. İnönü Savaşı
C) Sakarya Meydan Savaşı
D) Başkomutanlık Meydan Savaşı

14. Aşağıdakilerden hangisi 3 Mart 1924 tarihinde yapılan inkılaplardan biridir?

- A) Halifeliğin kaldırılması
B) Cumhuriyetin ilan edilmesi
C) Medeni Kanun'un çıkarılması
D) Millet Mekteplerinin açılması

15. • Din ve devlet işleri birbirinden ayrıdır.
• Siyasi, iktisadi ve hukuki düzende aklın egemenliği kabul edilir.
• Kişiler din, inanç ve ibadet hürriyetine sahiptirler.

Ülkemizde yukarıdaki durumların varlığı hangi Atatürk ilkesinin uygulandığının göstergesidir?

- A) Cumhuriyetçilik B) Milliyetçilik
C) Halkçılık D) Laiklik

16. C# programlama dilinde form uygulamalarında bir nesnenin çalışma esnasında görünür olup olmayacağı aşağıdaki özelliklerden hangisi kullanılarak sağlanır?

- A) Enable B) Window state
C) Padding D) Visible

17.

```
static void Main(string[] args){
    int x = 3, z = 2;
    float y = 1.2f;
    Console.WriteLine((float)x + y * z);
    Console.ReadKey(); }
```

Yukarıdaki C# ile yazılmış kodlar göz önüne alınca ekran çıktısı ne olur?

- A) 2.4 B) 5.4 C) 6.2 D) 7.2

18.

```
static void Main(string[] args){
    Console.WriteLine(1==1);
    Console.ReadKey(); }
```

Yukarıdaki C# ile yazılmış kodlar göz önüne alınca ekran çıktısı ne olur?

- A) True B) 1 C) 0 D) False

19. HTML dosyaları ile beraber çalışan ve Java kodları ile yazılan program parçası aşağıdakilerden hangisidir?

- A) Script B) Applet
C) Php D) Css

20. Java programlamada, program içinde açıklama koymak için kullanılan yapı aşağıdakilerden hangisidir?

- A) *? B) ? C) ** D) //

21.

```
public static void main(String []args){
    int i;
    int[] a=new int [5];
    for(i=0;i<5;i++) a[i]=i*2;
    System.out.println(a[2]); }
```

Yukarıda Java ile yazılmış kodlar göz önüne alınca ekran çıktısı ne olur?

- A) 0 B) 2 C) 4 D) 6

22.

```
public static void main(String []args){
    for (int i=100; i>30; i-=25)
    System.out.print(i + " "); }
```

Yukarıda Java ile yazılmış kodlar göz önüne alınca ekran çıktısı ne olur?

- A) 100 75 50 B) 100 75 50 25
C) 75 50 25 D) 75 50

23. Bir kişiye veya ürüne ait detaylı verilerin bir düzen çerçevesinde saklandığı ortam aşağıdakilerden hangisidir?

- A) Bellek B) Disk
C) Backup D) Veri tabanı

24. Veri tabanının temelini oluşturan ve bilgilerin tutulduğu yerin ismi aşağıdakilerden hangisidir?

- A) Form B) Sütun
C) Tablo D) Satır

25. Aşağıdakilerden hangisi SQL veri tiplerinden değildir?

- A) Int B) Boolean
C) Float D) Real

26. Var olan bir tabloya yeni bir alan eklemek için kullanılan SQL komutu aşağıdakilerden hangisidir?

- A) Insert
C) Gather
- B) Combine
D) Add

27. Hazırlanan bir web sayfasında belli bir kısım yazının altı çizili olarak görülmesi için kullanılan HTML Tag'i aşağıdakilerden hangisidir?

- A) <I>
C) <A>
- B) <U>
D) <__>

28. Bir HTML sayfasında harici bağlantılı bir stil dosyası (CSS) kullanılacak ise bu HTML'nin hangi kısmında tanımlanmalıdır?

- A) <title>.. </title>
C) <head>..</head>
- B) <src>.. </src>
D) <body>..</body>

29. CSS dosyalarında ID tanımlanırken kullanılan operatör (karakter) aşağıdakilerden hangisidir?

- A) +
C) //
- B) /*
D) #

30.

```
<script>
var d = new Date();
document.write(d.getMonth());
</script>
```

Yukarıda verilen Javascript ile yazılmış kodlar göz önüne alınınca ekran çıktısı ne olur?

- A) İçinde bulunulan yıl
B) İçinde bulunulan ayın adı
C) İçinde bulunulan aya göre 0-11 arası bir sayı
D) Aya bağlı olarak oluşturulan listedeki eleman

31. İnternet programcılığı için kullanılan ASP teriminin açılımı aşağıdakilerden hangisidir?

- A) Active Server Pages
B) Active Server Paper
C) Active Stil Pages
D) Active Stil Paper

32. <%Response.Write olarak yazılan ASP komutunun eşdeğeri aşağıdakilerden hangisidir?

- A) <%Equal
C) <%+=
- B) <%Write
D) <%=

33. Aşağıdakilerden hangisi HTML içinde PHP tanımlaması olarak kullanılmaz?

- A) <# Buraya PHP kodu yazılacak?>
B) <? Buraya PHP kodu yazılacak ?>
C) <?php Buraya PHP kodu yazılacak?>
D) <script language='php'> Buraya PHP kodu yazılacak </script>

34.

```
<?php
for ($i=1;$i<=5;$i++)
printf($i);
```

Yukarıda verilen PHP kodları çalıştırılırsa ekranda ne görülür?


- A) \$i\$i\$i\$i\$i
C) 2345
- B) 12345
D) 1234

35. Windows işletim sistemine kurulan Ofis Programında bulunan Word Programını Çalıştır'dan (Run) açmak için yazılacak komut aşağıdakilerden hangisidir ?


- A) Winword
C) Msword
- B) Word
D) Oword

36. Windows işletim sisteminde bulunan Windows Gezgin'i (Bilgisayarım) çalıştırmak için kullanılan tuş kombinasyonu aşağıdakilerden hangisidir ?

- A) Windows (Pencere) tuşu + R
B) Windows (Pencere) tuşu + E
C) Windows (Pencere) tuşu + D
D) Windows (Pencere) tuşu + M

37.  Yanda şekli görülen ve Microsoft Word 2013 programında yazı tipi sekmesinde bulunan ikonun görevi aşağıdakilerden hangisidir?

- A) Altı çizili yazım B) Tablo çiz
C) Metin vurgu rengi D) Yazı tipi rengi

38.  Yanda şekli görülen ve Microsoft Word 2013 programında Ekle şeridinde bulunan ikonun görevi aşağıdakilerden hangisidir?

- A) Seçili metni bloklar.
B) Seçili metnin stil bağlantısını oluşturur.
C) Seçili metne alıntı yapılan kitap not vb. bilgi kaynağını oluşturur.
D) Web sayfalarına veya dosyalara ulaşmak için seçili metne bağlantı ekler.

39.


	A	B	C
1	Adı	Soyadı	Harcamalar
2	Ercan	Yılmaz	1.200,00 TL
3	Zeynep	Yılmaz	800,00 TL
4	Mehmet	Yılmaz	400,00 TL
5	Begümsu	Yılmaz	1.600,00 TL
6			

Yukarıda görülen Excel 2013 tablosunda toplam harcamayı bulmak için C6 hücresine yazılması gereken formül hangisidir?

- A) =TOPLA(C2;C5) B) =TOPLAMA(C2;C5)
C) =TOPLA(C2:C5) D) =TOPLAMA(C2:C5)

40. Aşağıdakilerden hangisi Power Point 2013 programında gösteriyi başlatma yöntemlerinden değildir?

- A) F6
B) F5
C) Shift + F5
D) Slayt Gösterisi / Baştan basarak

41.  Yanda şekli görülen ve Power Point 2013 programında Slayt Gösterisi şeridi altında bulunan ikonun görevi nedir?

- A) Tarih ve saat ekle
B) Zamanlama provası
C) Slayt süresini göster
D) Slayt gösterisi kaydet

42. Programlama dilleri ile yazılan kodları makine diline çeviren programlara ne ad verilir?

- A) Yorumlayıcı (Interpreter)
B) Ayıklayıcı (Debugger)
C) Derleyici (Compiler)
D) Kodlayıcı

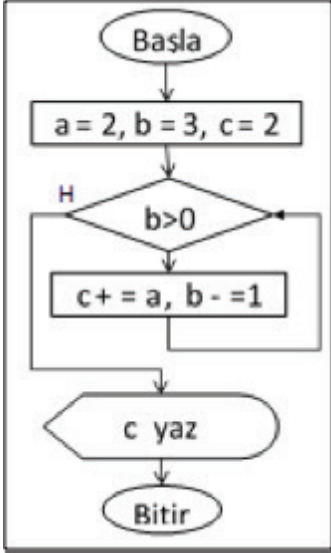
43. Aşağıdakilerden hangisi algoritma ve akış şemasının sağladığı kolaylıklardan değildir?

- A) Problemi aşama aşama çözmeyi sağlar.
B) Uygulama sırasını belirlemiş olur.
C) Görsel olarak problemi çözümler.
D) Maliyet analizi sağlar.

44.  Yanda görülen ve akış şemalarında kullanılan şeklin anlamı aşağıdakilerden hangisidir?

- A) Döngü B) İşlem
C) Karar D) Depolama

45.



Verilen akış şemasına göre çıkış değeri aşağıdakilerden hangisidir?

- A) 2 B) 6 C) 8 D) 10

46.

1. BAŞLA
2. S1=5
3. S2=8
4. Temp=S1
5. S1=S2
6. S2=Temp
7. Yaz S1, S2

Verilen algoritmaya göre ekranda aşağıdakilerden hangisi görülür?

- A) 5, 8 B) 8, 5
C) S1 D) S1, S2

47. Aşağıdakilerden hangisi sıralama algoritması türlerinden değildir?

- A) Azalan (Lower) sıralama algoritması
B) Balon (Bubble) sıralama algoritması
C) Kabuk (Shell) sıralama algoritması
D) Hızlı (Quick) sıralama algoritması

48. Aşağıdakilerden hangisi arama algoritması türlerinden değildir?

- A) İkilik arama (binary search)
B) Sıralı arama (sequential search)
C) Kıyım veya kıyım yöntemi (hashing search)
D) Karmaşık arama (complex search)

49. Aşağıdakilerden hangisi Ağaç Veri Modeli tanımlaması için doğru değildir?

- A) Ağaçlar yığınlardan ve kuyruklardan oluşur.
B) Her ağaç node'lar ve kenarlardan (edge) oluşur.
C) Ağaçlar hiyerarşik ilişkileri göstermek için kullanılır.
D) Her bir kenar (bağlantı) iki node arasındaki ilişkiyi gösterir.

50. $x[2][2][2]$ olarak boyutlandırılmış bir dizide eleman sayısı kaçtır?

- A) 4 B) 6 C) 8 D) 16

TEST BİTTİ.
CEVAPLARINIZI KONTROL EDİNİZ.

SINAV SÜRESİNCE UYULACAK KURALLAR

- 1. Adaylar, sınav kurallarına ve salon görevlilerinin tüm uyarılarına uymak zorundadırlar. Kurallara ve uyarılara uymayan adayların sınavları geçersiz sayılacaktır.**
2. Sınav başladıktan sonra adayların salon görevlileri ve birbirleri ile konuşmaları, kalem, silgi vb. şeyleri istemeleri yasaktır.
3. Adaylar sınav süresince, sınav giriş belgesi ile birlikte geçerli kimlik belgelerinden birini (fotoğraflı nüfus cüzdanı, pasaport veya sürücü belgesini) masalarının üzerinde bulundurmamak zorundadırlar.
- 4. Sınav evraklarını teslim etmeyen, soru kitapçıklarının sayfalarından bir kısmını eksik teslim edenlerin sınavları geçersiz sayılacaktır.**

SALON GÖREVLİLERİNCE SINAV BAŞLAMADAN ÖNCE ADAYLARA YAPILACAK SON UYARILAR

- Soracağınız bir şey varsa şimdi sorunuz, sınav başladıktan sonra sorularınıza cevap verilmeyecektir.
- Başlama zilini bekleyiniz.

Hepinize başarılar dileriz.

(Salon başkanı başlama ve bitiş saatini tahtaya yazacaktır.)

Bu kitapçığın her hakkı saklıdır. Hangi amaçla olursa olsun, kitapçığın tamamının veya bir kısmının Millî Eğitim Bakanlığı Ölçme, Değerlendirme ve Sınav Hizmetleri Genel Müdürlüğünün yazılı izni olmadan kopya edilmesi, fotoğraflarının çekilmesi, bilgisayar ortamına alınması, herhangi bir yolla çoğaltılması, yayımlanması veya başka bir amaçla kullanılması yasaktır. Bu yasağa uymayanlar, doğabilecek cezai sorumluluğu ve kitapçığın hazırlanmasındaki mali külfeti peşinen kabullenmiş sayılır.

**08 EKİM 2017 TARİHİNDE YAPILAN
SAĞLIK BAKANLIĞI YÖNETİM HİZMETLERİ GENEL MÜDÜRLÜĞÜ
UNVAN DEĞİŞİKLİĞİ SINAVI
33. GRUP: PROGRAMCI B SORU KİTAPÇIĞI CEVAP ANAHTARI**

- | | |
|-------|-------|
| 1. C | 26. D |
| 2. A | 27. B |
| 3. D | 28. C |
| 4. B | 29. D |
| 5. B | 30. C |
| 6. C | 31. A |
| 7. A | 32. D |
| 8. D | 33. A |
| 9. C | 34. B |
| 10. B | 35. A |
| 11. D | 36. B |
| 12. A | 37. C |
| 13. C | 38. D |
| 14. A | 39. C |
| 15. D | 40. A |
| 16. D | 41. B |
| 17. B | 42. C |
| 18. A | 43. D |
| 19. B | 44. A |
| 20. D | 45. C |
| 21. C | 46. B |
| 22. A | 47. A |
| 23. D | 48. D |
| 24. C | 49. A |
| 25. B | 50. C |