



T.C.

MİLLÎ EĞİTİM BAKANLIĞI
ÖLÇME, DEĞERLENDİRME VE SINAV HİZMETLERİ
GENEL MÜDÜRLÜĞÜ

B

KİTAPÇIK TÜRÜ

HAYAT BOYU ÖĞRENME GENEL MÜDÜRLÜĞÜ MESLEKİ VE TEKNİK AÇIK ÖĞRETİM OKULU
ELGİNKAN VAKFI BİLGİSAYAR DESTEKLİ 2 BOYUTLU ÇİZİM AUTOCAD 13. GRUP (2017/BDPÇ-2) SINAVI
07/10/2017

Adayın Adı ve Soyadı :

Aday Numarası (T.C. Kimlik No) :

ALAN	SORU SAYISI	SINAV SÜRESİ (DAKİKA)
AUTOCAD	100	100

ADAYLARIN DİKKATİNE!

1. Sınav saat **14.00**'te başlayacaktır. Sınav başladıktan sonra ilk **30** dakika tamamlanmadan dışarı çıkmayınız.
2. Sınav sırasında çanta, cep telefonu, saat, kablosuz iletişim sağlayan cihazlar ve kulaklık, kolye, küpe, bilezik, yüzük, broş ve benzeri eşyalar ile her türlü elektronik ve/veya mekanik cihazları yanınızda bulundurmayınız. Bu araçları yanınızda bulundurmanız ve kopya çekmeye teşebbüs etmeniz hâlinde sınavınız geçersiz sayılacaktır.
3. Başvuru şartlarını taşımadığınız hâlde sınava girmeniz, kopya çekmeniz, başka adayın sınav evrakını kullanmanız, geçerli kimlik belgenizi ve sınav giriş belgenizi ibraz edemediğiniz durumlarda sınavınız geçersiz sayılacaktır.
4. Sınavın değerlendirilmesi aşamasında, bilgisayar ortamında yapılan kopya analizinde sistemin ikili ve/veya toplu kopya tespiti hâlinde sınavınız geçersiz sayılacaktır.

CEVAP KÂĞIDI VE SORU KİTAPÇIĞI İLE İLGİLİ AÇIKLAMALAR

1. Cevap kâğıdınızdaki bilgilerin doğruluğunu kontrol ediniz ve cevap kâğıdınızı mürekkepli kalemle imzalayınız.
2. Kitapçık türünüzü cevap kâğıdınızdaki ilgili alana kodlayınız. Değerlendirme işlemleri cevap kâğıdındaki kodlamalara göre yapıldığından eksik ya da hatalı kodlamalarda sorumluluk size ait olacaktır.
3. Cevap kâğıdı üzerinde kodlamalarınızı siyah kurşun kalemle yapınız.
4. Değiştirmek istediğiniz bir cevabı, yumuşak silgiyle cevap kâğıdını örselemeden temizce siliniz ve yeni cevabınızı kodlayınız.
5. Soru kitapçığının sayfalarını kontrol ediniz, baskı hatası var ise değiştirilmesini sağlayınız.
6. Soru kitapçığının ön yüzündeki ilgili yerlere ad, soyad ve T.C. kimlik numaranızı yazınız.
7. Her sorunun **BEŞ** seçeneğinden sadece biri doğrudur. Doğru seçeneği, cevap kâğıdınızın ilgili sütununa soru numarasını dikkate alarak yuvarlağın dışına taşırmadan kodlayınız. **Soru kitapçığı üzerinde yapılan cevaplandırmalar dikkate alınmayacaktır.**
8. Yanlış cevaplarınızın dikkate alınmadan sadece doğru cevaplarınız üzerinden puanlama yapılacaktır.
9. Soruları ve sorulara verdiğiniz cevapları, yanınızda götürmek amacıyla kaydetmeyiniz; hiçbir şekilde dışarı çıkarmayınız.
10. Sınav bitiminde, soru kitapçığı ve cevap kâğıdını salon görevlilerine teslim ediniz.

BAŞLAYINIZ DENMEDEN SORU KİTAPÇIĞINI AÇMAYINIZ.

BİLGİSAYAR DESTEKLİ 2 BOYUTLU ÇİZİM AUTOCAD 13. GRUP (2017/BDPÇ-2) SINAVI B

1. AutoCAD'de çizilmiş nesnelere düzenlemeye yarayan komutlar hangi çekme menüsü altında toplanmıştır?

- A) Modify
C) Help
E) Draw
B) Dimension
D) File

2. Aşağıdakilerden hangisi Modify panelinde yer alan bir komuttur?

- A) Zoom
C) Regen
E) Arc
B) Radius
D) Rotate

3. Nesnelere döndürmeyi sağlayan komut aşağıdakilerden hangisidir?

- A) Align
C) Mirror
E) Chamfer
B) Rotate
D) Copy

4. Çizgileri herhangi bir nesneyle kesiştiği yerden budamaya yarayan komut aşağıdakilerden hangisidir?

- A) Explode
C) Extend
E) Trim
B) Cut
D) Copy

5. AutoCAD'de çizilmiş bir nesneyi başka bir nesneye göre hizalayan komut aşağıdakilerden hangisidir?

- A) Move
C) Offset
E) Align
B) Copy
D) Divide

6. AutoCAD'de çizilen nesnelere köşelerini yuvarlatmak için kullanılan komut aşağıdakilerden hangisidir?

- A) Circle
C) Fillet
E) Elipse Arc
B) Chamfer
D) Join

7. Aşağıdakilerden hangisiyle bir merkez etrafında çoklu kopyalama yapılır?

- A) Copy
C) Path Array
E) Rectangular Array
B) Polar Array
D) Align

8. Offset komutunun işlem sırası aşağıdakilerden hangisidir?

- A) Komut girilir - Nesne seçilir - Enter - Yön belirlenir - Ölçü girilir - Enter
B) Komut girilir - Ölçü girilir - Enter - Nesne seçilir - Yön belirlenir
C) Komut girilir - Ölçü girilir - Enter - Nesne seçilir - Enter - Yön belirlenir.
D) Komut girilir - Nesne seçilir - Enter - Ölçü girilir - Enter - Yön belirlenir.
E) Komut girilir - Nesne seçilir - Yön belirlenir - Ölçü girilir.

9. Array ile çoğaltılan nesnelere birbirleriyle ilişkisini kesmek için komutun hangi alt parametresiyle bir düzenleme yapılır?

- A) Associative
C) Levels
E) Columns
B) Items
D) Rows

10. AutoCAD'de nesnelere köşelerine radius oluşturma komutu aşağıdakilerden hangisidir?

- A) Edit text
C) Fillet
E) Rectangle
B) Chamfer
D) Circle

11. Aşağıdakilerden hangisi patlatılabilir?

- A) Line
B) Circle
C) Arc
D) Hatch
E) Ellipse

12. Lenghten komutu aşağıdakilerden hangisini yapamaz?

- A) Çizgileri döndürür.
B) Çizginin uzunluğunu gösterir.
C) Çizginin uzunluğunu belirtilen uzunluğa eşitler.
D) Çizginin uzunluğunu belirtilen miktarda uzatır veya kısaltır.
E) Çizginin uzunluğunu istediğimiz bir orana göre ölçeklendirir.

13. Boundary kelimesi aşağıdakilerden hangisine karşılık gelmektedir?

- A) Sınır
B) Uzatmak
C) Budamak
D) Patlatmak
E) Hizalamak

14. Çizgilerin üzerinde fare ile tıklanan iki nokta arasında kalan kısmını koparan komut aşağıdakilerden hangisidir?

- A) Lenghten
B) Stretch
C) Break at Point
D) Rotate
E) Break

15. Çoklu çizgi düzenleme komutu aşağıdakilerden hangisidir?

- A) Pedit
B) Splinedit
C) Mledit
D) Join
E) Hatchedit

16. Çizgileri belirtilen bir noktadan kırarak iki parçaya bölen komut aşağıdakilerden hangisidir?

- A) Lenghten
B) Matchprop
C) Break
D) Rotate
E) Break at Point






17.  Modify panelinde yer alan yan taraftaki simge hangi komutu çalıştırır?

- A) Break
B) Join
C) Blend
D) Explode
E) Boundary

18.  Modify çekme menüsünde yer alan yan taraftaki simge hangi komutu çalıştırır?

- A) Spline
B) Join
C) Blend Curves
D) Rotate
E) Revision Cloud

19. Rotate komutunun simgesi aşağıdakilerden hangisidir?

- A)  B) 
C)  D) 
E) 

20. AutoCAD'de verilen çizgi kalınlıklarının görünüp veya gizlenmesini kontrol eden çizim yardımcısı aşağıdakilerden hangisidir?

- A) OSnap
B) Transparency
C) Dynamic UCS
D) Selection Cycling
E) Show/Hide Lineweight

21. Çizim alanında nesnelere üst üste gelmişse, seçim yaparken üst üste olan nesnelere ayrı bir pencerede listelerek doğru seçim yapmayı sağlayan çizim yardımcısı aşağıdakilerden hangisidir?

- A) Transparency
- B) Dynamic Input
- C) Quick Properties
- D) Selection Cycling
- E) Object Snap Tracking

22.  Status Bar (Durum Çubuğu) üzerinde yer alan yan taraftaki simge aşağıdaki çizim yardımcılarında hangisini çalıştırır?

- A) Ortho
- B) Transparency
- C) Polar Tracking
- D) Dynamic Input
- E) Object Snap Tracking

23. Nesnelere otomatik kenetlenme noktalarının (OSnap) izlerini, noktalı ve yeşil bir çizgi ile görüntüleyen çizim yardımcısı aşağıdakilerden hangisidir?

- A) Transparency
- B) Dynamic Input
- C) Quick Properties
- D) Selection Cycling
- E) Object Snap Tracking

24. OSnap komutlarından "Node" aşağıdakilerden hangisini yapar?

- A) Merkeze kenetlenir.
- B) Noktaya kenetlenir.
- C) Paralel kenetlenir.
- D) Dikine kenetlenir.
- E) Teğet kenetlenir.

25. Aşağıdaki OSnap komutlarından hangisinin işlevi yanlış yazılmıştır?

- A) Tangent, teğet yakalar.
- B) Center, dairesel çizimlerde merkezi yakalar.
- C) End point, çizginin orta noktasından yakalar.
- D) Parallel, belirtilen bir çizgiye paralel açı yakalar.
- E) Apperant Intersect, iki çizginin uzantılarının kesişiminden yakalar.






26.  Yan tarafta verilen simge hangi OSnap komutunu çalıştırır?

- A) Insertion
- B) Nearest
- C) Extension
- D) Parallel
- E) Endpoint






27.  Yan tarafta verilen simge hangi OSnap komutunu çalıştırır?

- A) Endpoint
- B) Nearest
- C) Extension
- D) Parallel
- E) Insertion






28. Nesnelere orta noktalarına kenetlenme işareti aşağıdakilerden hangisidir?

- A) 
- B) 
- C) 
- D) 
- E) 

29. Daire ve yayların çeyrek noktalarına kenetlenme işareti aşağıdakilerden hangisidir?

- A) 
- B) 
- C) 
- D) 
- E) 

30. Bir çizgiye 90 derecelik açıyla kenetlenme işareti aşağıdakilerden hangisidir?

- A)  B) 
 C)  D) 
 E) 

31. Çizim alanında belirlenen iki noktanın ortası aşağıdakilerden hangisiyle bulunabilir?

- A) Quadrant B) Intersection
 C) Apperent D) Otrack
 E) Mid Between 2 Points

32. Hiç katman ayarlanmazsa hangi katmanla çizimler yapılır?

- A) Yazı B) Eksen
 C) Çizim D) 0
 E) Tarama

33. Layerlerin renkleri aşağıdakilerden hangisiyle değiştirilir?

- A) Linetype B) Lineweight
 C) Name D) Color
 E) Plot

34. Yan tarafta simgesi verilen Dimensions aracı aşağıdaki hangi komutu çalıştırır?

- A) Dimdiameter B) Dimradius
 C) Dimjogged D) Dimcenter
 E) Dimarc

35. Yan tarafta simgesi verilen Dimensions aracı aşağıdaki hangi komutu çalıştırır?

- A) Dimlinear B) Dimaligned
 C) Dimcontinue D) Dimangular
 E) Inspection

36. Yan tarafta simgesi verilen Dimensions aracı aşağıdaki hangi komutu çalıştırır?

- A) Dimlinear B) Dimbreak
 C) Dimordinate D) Dimbaseline
 E) Dimuptade






37. Yan tarafta simgesi verilen Dimensions aracı aşağıdaki hangi komutu çalıştırır?

- A) Dimbreak B) Dimaligned
 C) Dimspace D) Tolerance
 E) Dimedit






38. Yan tarafta simgesi verilen Dimensions aracı aşağıdaki hangi komutu çalıştırır?

- A) Dimatch B) Dimedit
 C) Dimtedit D) Dimlinear
 E) Dimstyle

39. Aşağıdaki komutlardan hangisi ile yayların uzunluğu ölçülür?

- A)  B) 
 C)  D) 
 E) 

40. Aşağıdaki komutlardan hangisi ile ölçü düzenlemesi yapılabilir?

- A)  B) 
C)  D) 
E) 

41. Açısal ölçülendirme yapan komut aşağıdakilerden hangisidir?

- A) Dimangular B) Dimradius
C) Open D) Donut
E) Angle

42. Quick dimension aşağıdakilerden hangisini yapar?

- A) Çember veya yayların merkezine hızlı bir şekilde mark işareti koyar.
B) Seçilen nesnelere X ve Y eksenine paralel hızlı ölçülendirme yapar.
C) Hızlı ölçülendirme stili oluşturulur.
D) Hizalı ölçülendirme yapar.
E) Açılırları ölçülendirir.

43. Aşağıdakilerden hangisi ölçülendirme menüsüdür?

- A) View B) Layer
C) Polyline D) Array
E) Dimension

44. Yatay ve dikey ölçülendirme yapılmasını sağlayan ölçülendirme komutu aşağıdakilerden hangisidir?

- A) Dimlinear B) Dimaligned
C) Dimcontinue D) Dimangular
E) Inspection

45. Eğik çizgilere paralel ölçülendirme yapılmasını sağlayan komut aşağıdakilerden hangisidir?

- A) Dimlinear B) Dimaligned
C) Dimcontinue D) Dimangular
E) Inspection

46. Ölçülendirme yapıldıktan sonra ölçü yazısının yerini ve açısını ayarlayan komut aşağıdakilerden hangisidir?

- A) Dimedit B) Dimstyle
C) Dimcontinue D) Dimtedit
E) Inspection

47. Aşağıdakilerden hangisi mesafe anlamına gelir?

- A) Area B) Inquiry
C) Distance D) Width
E) List

48. Aşağıdakilerden hangisi CAD (Computer Aided Design) kelimesinin karşılığıdır?

- A) Teknik resim
B) Metin düzenleme
C) Resim düzenleme
D) Bilgisayar destekli üretim
E) Bilgisayar destekli çizim ve tasarım

49. 150 mm uzunluğunda ve 15° lik bir çizgi çizilmek istendiğinde komut satırına aşağıdakilerden hangisi yazılmalıdır?

- A) @150<15° B) @15°<150
C) 150<15° D) @150,15
E) 150,15°

50. Aşağıdakilerden hangisi uzunluk anlamına gelir?

- A) Horizontal B) Length
C) Width D) Angular
E) Vertical

51. Aşağıdakilerden hangisi açıortay anlamına gelir?

- A) Horizontal B) Vertical
C) Bisect D) Angular
E) Chamfer

52. Aşağıdaki komut - kısaltma birlikteliklerinden hangisi yanlış verilmiştir?

- A) Move - m B) Layer - la
C) Scale - sc D) Offset - o
E) Rectangle - re

53. Aşağıdaki komut - kısaltma birlikteliklerinden hangisi yanlış verilmiştir?

- A) Boundary - bo B) Block - bc
C) Linetype - lt D) Copy - co
E) Dimstyle - d

54. Aşağıdakilerin hangisinde verilen komutun işlevi yanlış yazılmıştır?

- A) Match Properties - Özellik eşleme
B) Properties - Özellik tanımlama
C) Linetype - Çizgi tipi
D) Scale - Sündürme
E) Trim - Budama

55. Aşağıdaki AutoCAD ile ilgili terimlerden hangisinin Türkçe karşılığı yanlıştır?

- A) Workspaces - Çekme menü
B) Tool palettes - Araç paletleri
C) Line type scale - Çizgi tipi ölçeği
D) Construction line - Sonsuz çizgi çizer
E) Application menu - Uygulama menüsü

56. AutoCAD'de aşağıdakilerden hangisi enter tuşunun işlevini görür?

- A) Fare Sol Tuş B) Space Bar
C) Alt D) Ctrl
E) Alt Gr

57. AutoCAD'de çizim pencerelerinin yönetimini sağlayan komutlar hangi çekme menüsü altında toplanmıştır?

- A) Draw B) Dimension
C) Window D) Modify
E) File

58. AutoCAD'de araç çubukları aşağıdakilerden hangisi ile çalışma ekranına getirilir?

- A) Edit çekme menüsünden Find
B) Menü çubuğu üzerinde sağ tuş
C) Modify çekme menüsünden Properties
D) Tools çekme menüsünden Toolbars altından AutoCAD
E) Programın herhangi bir yerinde fare ile sağ klik yaparak

59. Aşağıdakilerden hangisiyle AutoCAD programına lisp eklenir?

- A) Edit çekme menüsünden Autolisp
B) Format çekme menüsünden Autolisp
C) Insert çekme menüsünden Load Application
D) Tools çekme menüsünden Autolisp ve Load Application
E) Modify çekme menüsünden Autolisp ve Load Application

60. AutoCAD'de herhangi bir resim çizim alanına aşağıdakilerden hangisiyle getirilir?

- A) Insert çekme menüsünden - Field komutuyla
- B) Insert çekme menüsünden - Jpeg komutuyla
- C) Insert çekme menüsünden - Block komutuyla
- D) Modify çekme menüsünden - Object komutuyla
- E) Insert çekme menüsünden - Raster image komutuyla

61. Aşağıdakilerden hangisi son yapılan işlem den itibaren geri alma komutudur?

- A) Redo
- B) Table
- C) Undo
- D) Clear
- E) Hatch

62. AutoCAD'de program arayüzleri arasında geçiş yapılmasını sağlayan komut aşağıdakilerden hangisidir?

- A) Workspace
- B) Clean Screen
- C) Annotation
- D) Quick View
- E) Layout

63. Aşağıdaki klavye kısa yollarından hangisinin işlevi yanlış verilmiştir?

- A) Ctrl + O: Kaydedilmiş dosya aç
- B) Ctrl + Q: Farklı kaydet
- C) Ctrl + C: Kopyala
- D) Ctrl + V: Yapıştır
- E) Ctrl + S: Kaydet

64. AutoCAD program penceresinde sol üst köşede yer alan araç çubuğunun adı nedir?

- A) Menu Bar
- B) Application Menü
- C) Quick Access Toolbar
- D) Workspace Switching
- E) Customize User Interface

65. AutoCAD'de araç paletlerini (Tool Palettes) açıp / kapatan klavye kısa yolu aşağıdakilerden hangisidir?

- A) Ctrl + 0
- B) Ctrl + 1
- C) Ctrl + 2
- D) Ctrl + 3
- E) Ctrl + 8

66. Mutlak (Absolute) koordinatlarla çizim yaparken nokta koordinatlarının klavyeden yazılımı aşağıdakilerden hangisidir?

- A) @X, Y
- B) X, Y
- C) @L <Açı
- D) L@X, Y
- E) X@ Y

67. Açık olan çizim dosyasından bir başka dosyaya herhangi bir nesneyi taşımak için hangi komut kullanılır?

- A) Pasteclip
- B) Move
- C) Copy
- D) Copyclip
- E) Cutclip

68. UCS'nin görünüp görünmemesini sağlayan komut aşağıdakilerden hangisidir?

- A) UCS
- B) WCS
- C) WORLD
- D) UCSICON
- E) DUCS

69. AutoCAD çizim dosyasında gerekli stilleri, katmanları, ölçü birimini vb. ayarladıktan sonra bu dosya şablon (template) olarak aşağıdakilerden hangisiyle saklanır?

- A) Save as/Dosya tipi/Drawing Template seçilir.
- B) Publish
- C) Save +
- D) Sheet
- E) New

70. AutoCAD'de açık olan bir projenin içindeki bozulmuş öge ve nesnelere bularak düzelten komut aşağıdakilerden hangisidir?

- A) Recover
C) Purge
E) Erase
- B) Audit
D) Layers

71. AutoCAD'de, plot penceresinde hazır kalem stillerinin seçildiği ve yeni kalem stili oluşturulabilen bölüm aşağıdakilerden hangisidir?

- A) Plot area
C) Page setup
E) Plot style table
- B) Plot scale
D) Paper size

72. Bloklar, stiller, katmanlar vb. yeniden adlandırma komut aşağıdakilerden hangisidir?

- A) Name
C) New
E) Redraw
- B) Replace
D) Rename

73. AutoCAD'de seçilen bir nesnenin biçimsel tüm özelliklerini aynı nitelikteki başka bir nesneye aktararak değiştiren komut aşağıdakilerden hangisidir?

- A) Copy
C) Layers
E) Match Properties
- B) Region
D) Measure

74. AutoCAD'de bir nesnenin bütün özelliklerini tanımlayan ve değiştirmeye olanak tanıyan komut aşağıdakilerden hangisidir?

- A) View
C) Properties
E) Insert
- B) Dimension style
D) Match properties

75. Utilities paneli üzerinde bulunan ve hesap makinesi görevini yapan komut aşağıdakilerden hangisidir?

- A) Properties
C) Design Center
E) Quick Calculator
- B) Send
D) Publish

76.  File çekme menüsünde yer alan yan taraftaki simge hangi komutu çalıştırır?

- A) Zoom Realtime
C) Kopyala
E) Plot Preview
- B) Zoom Dynamic
D) Hatch

77.  Yan taraftaki simge zoom komutlarından hangisini çalıştırır?

- A) Zoom Realtime
C) Zoom Previous
E) Zoom Extent
- B) Zoom Dynamic
D) Zoom Scale

78.  Clipboard paneli üzerinde yer alan yan taraftaki simge hangi komutu çalıştırır?

- A) Delete
C) Trim
E) Save
- B) Paste
D) Cut

79. Açık olan AutoCAD çizim dosyasında tanımlanmış sınırlar ile birlikte çizilen tüm nesnelerin görülmesini sağlayan zoom komutu klavyeden nasıl kullanılır?

- A) Zoom - a
C) Zoom - c
E) Zoom - e
- B) Zoom - v
D) Zoom - p

80. Aşağıdaki zoom komutlarından hangisi eşzamanlı büyültme / küçültme yapar?

- A) Pan
C) Previous
E) Object
- B) Realtime
D) Window

81. Pan komutu aşağıdakilerden hangisini yapar?

- A) Ekranı kaydırır.
- B) Çizilmiş nesnelere hareket ettirir.
- C) Görüntüyü yaklaştırır / uzaklaştırır.
- D) Nesnelere ölçekli olarak büyütüp / küçültür.
- E) Üç boyutlu olarak görüntünün çevresinde döner.

82. Çizimde tanımlanmış sınırlar ile birlikte tüm nesnelere ekrana sığdıran zoom komutu aşağıdakilerden hangisidir?

- A) Pan
- B) Window
- C) Dynamic
- D) Scale
- E) All

83.  Yan tarafta yer alan simge zoom komutlarından hangisini çalıştırır?

- A) Object
- B) Center
- C) Previous
- D) Extends
- E) All

84. AutoCAD'de yeni bir nesne üretmeye (çizmeye) yarayan komutlar hangi çekme menüsü altında toplanmıştır?

- A) Draw
- B) Dimension
- C) Help
- D) Format
- E) Modify

85. AutoCAD programında çokgen çizmek için kullanılan komut aşağıdakilerden hangisidir?

- A) Poliyline
- B) Region
- C) Polygon
- D) Multiline
- E) Circle

86. Polygon komutu ile aşağıdakilerden hangisi yapılmaz?

- A) Üçgen
- B) Beşgen
- C) Çember
- D) Altıgen
- E) Kare

87. Seçilen noktalara göre eğri çizen komut aşağıdakilerden hangisidir?


- A) Xline
- B) Pline
- C) Mline
- D) Line
- E) Spline

88. Çizilmiş iki çember arasına teğet ve yarıçapı bilinen başka bir çember çizmek için Circle komutu hangi alt parametresi ile birlikte kullanılır?

- A) 2P
- B) 3P
- C) Ttr
- D) Ttt
- E) D

89. AutoCAD'de tek satırlık yazı yazılmasını sağlayan komut aşağıdakilerden hangisidir?

- A) Text style
- B) Text
- C) Hatch
- D) Mtext
- E) Edit

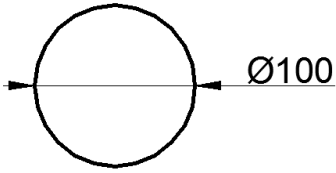
90.  Yandaki çizgi hangi komutla çizilebilir?

- A) Pline
- B) Spline
- C) Line
- D) Circle
- E) Donut

91. Çizim yaparken nesnelere bütün olarak çizilebilen, çizim esnasında çizgi kalınlığını değiştirebilen ayrıca çizime yaylarla devam edilebilmesine olanak sağlayan komut aşağıdakilerden hangisidir?

- A) Polyline
- B) Polygon
- C) Rectangle
- D) Line
- E) Arc

92.



Yukarıdaki çemberin çizim işlemi ekranda rastgele bir yere sırasıyla nasıl yapılır?

- A) 1. Circle komutu seçilir. 2. Çemberin merkezi tıklanır. 3. R=100 girilir.
- B) 1. Polygon komutu seçilir. 2. Çemberin merkezi tıklanır. 3. R=100 girilir.
- C) 1. Polygon komutu seçilir. 2. Çemberin merkezi tıklanır. 3. R=50 girilir.
- D) 1. Circle komutu seçilir. 2. Çemberin merkezi tıklanır. 3. R=50 girilir.
- E) 1. Circle komutu seçilir. 2. İki teğet noktası işaretlenir. 3. R=100 girilir.

93. AutoCAD'de çizilmiş kapalı nesneleri (çokgen, çember gibi) bölgeye dönüştüren aşağıdakilerden hangisidir?

- A) Stretch
- B) Command
- C) Union
- D) Region
- E) Regen

94. AutoCAD 2015 ile kaç farklı şekilde çokgen çizilebilir?

- A) 2
- B) 3
- C) 4
- D) 5
- E) 6

95. "Specify base point" kavramının anlamı aşağıdakilerden hangisidir?


- A) Nesneleri seç
- B) Nesneleri yakala
- C) Uzantısından yakala
- D) Kesişim noktasından yakala
- E) Yapılacak işlemin temel noktasını belirle

96. Ardışık birleşik çizgi çizmek için kullanılan komut aşağıdakilerden hangisidir?

- A) Are
- B) Center
- C) Polyline
- D) Rotation
- E) Ellipse






97.  Draw çekme menüsünde yer alan yan taraftaki simge hangi komutu çalıştırır?

- A) Multiline
- B) Parallel
- C) Hatch
- D) Spline
- E) Polyline






98.  Draw panelinde yer alan yan taraftaki simge hangi komutu çalıştırır?

- A) Circle
- B) Arc
- C) Ellipse
- D) Donut
- E) Ellipse arc

99. Polygon komutunun simgesi aşağıdakilerden hangisidir?

- A) 
- B) 
- C) 
- D) 
- E) 

100. Xline komutunun simgesi aşağıdakilerden hangisidir?

- A) 
- B) 
- C) 
- D) 
- E) 

TEST BİTTİ.
CEVAPLARINIZI KONTROL EDİNİZ.

SINAV SÜRESİNCE UYULACAK KURALLAR

- 1. Adaylar, sınav kurallarına ve salon görevlilerinin tüm uyarılarına uymak zorundadırlar. Kurallara ve uyarılara uymayan adayların sınavları geçersiz sayılacaktır.**
- 2. Sınav başladıktan sonra adayların salon görevlileri ve birbirleri ile konuşmaları, kalem, silgi vb. şeyleri istemeleri yasaktır.**
- 3. Adaylar sınav süresince, sınav giriş belgesi ile birlikte geçerli kimlik belgelerinden birini (fotoğraflı nüfus cüzdanı, pasaport veya sürücü belgesini) masalarının üzerinde bulundurmamak zorundadırlar.**
- 4. Sınav evraklarını teslim etmeyen, soru kitapçıklarının sayfalarından bir kısmını eksik teslim edenlerin sınavları geçersiz sayılacaktır.**

SALON GÖREVLİLERİNCE SINAV BAŞLAMADAN ÖNCE ADAYLARA YAPILACAK SON UYARILAR

- Soracağınız bir şey varsa şimdi sorunuz, sınav başladıktan sonra sorularınıza cevap verilmeyecektir.
- Başlama zilini bekleyiniz.

Hepinize başarılar dileriz.

(Salon başkanı başlama ve bitiş saatini tahtaya yazacaktır.)

Bu kitapçığın her hakkı saklıdır. Hangi amaçla olursa olsun, kitapçığın tamamının veya bir kısmının Millî Eğitim Bakanlığı Ölçme, Değerlendirme ve Sınav Hizmetleri Genel Müdürlüğünün yazılı izni olmadan kopya edilmesi, fotoğraflarının çekilmesi, bilgisayar ortamına alınması, herhangi bir yolla çoğaltılması, yayımlanması veya başka bir amaçla kullanılması yasaktır. Bu yasağa uymayanlar, doğabilecek cezai sorumluluğu ve kitapçığın hazırlanmasındaki mali külfeti peşinen kabullenmiş sayılır.

07 EKİM 2017 TARİHİNDE YAPILAN

HAYAT BOYU ÖĞRENME GENEL MÜDÜRLÜĞÜ MESLEKİ VE TEKNİK AÇIK ÖĞRETİM OKULU
ELGİNKAN VAKFI BİLGİSAYAR DESTEKLİ 2 BOYUTLU ÇİZİM AUTOCAD 13. GRUP (2017/BDPÇ-2) SINAVI

B SORU KİTAPÇIĞI CEVAP ANAHTARI

1. A	26. D	51. C	76. E
2. D	27. A	52. E	77. C
3. B	28. B	53. B	78. D
4. E	29. D	54. D	79. A
5. E	30. C	55. A	80. B
6. C	31. E	56. B	81. A
7. B	32. D	57. C	82. E
8. B	33. D	58. D	83. D
9. A	34. A	59. D	84. A
10. C	35. B	60. E	85. C
11. D	36. C	61. C	86. C
12. A	37. A	62. A	87. E
13. A	38. E	63. B	88. C
14. E	39. E	64. C	89. B
15. C	40. B	65. D	90. B
16. E	41. A	66. B	91. A
17. B	42. B	67. E	92. D
18. C	43. E	68. D	93. D
19. A	44. A	69. A	94. B
20. E	45. B	70. B	95. E
21. D	46. D	71. E	96. C
22. C	47. C	72. D	97. A
23. E	48. E	73. E	98. E
24. B	49. A	74. C	99. B
25. C	50. B	75. E	100. D