



















40. Bir dişli kutusunda karşılıklı çalışan sistemde A dişlisi saniyede 15 devirle dönmekte olup, diş sayısı 40'tır. B dişlisi ise saniyede 25 devirle döndüğüne göre, B dişlisinin diş sayısı kaçtır?

- A) 6  
B) 12  
C) 24  
D) 36  
E) 66

41. Torna tezgâhında otomatik ilerlemenin birimi aşağıdakilerden hangisidir?

- A) m  
B) m/dak  
C) devir/dak  
D) mm/devir  
E) mm/dakika

42. Torna tezgâhında yatak ne için kullanılır?

- A) Tornalamada  
B) Kısa parçalarda  
C) Vida çekmede  
D) Uzun parçalarda  
E) Konik tornalamada


43. Oksi asetilen kaynağında karpit kazanına alevin ulaşmasını engelleyen güvenlik sistemi aşağıdakilerden hangisidir?

- A) Sulu güvenlik  
B) Kilit sistemi  
C) Ateş frenleme sistemi  
D) Hortum sıkma sistemi  
E) Basınç düşürme sistemi

44. Testere dişi sıklığı neye göre seçilir?

- A) Tezgâh büyüklüğüne göre  
B) İşlenecek parça malzemesi ve şekline göre  
C) Atölye büyüklüğüne göre  
D) İstenilen talaş ebadına göre  
E) İşlenecek parça sayısına göre

45. Aşağıdaki takımlardan hangisi raybadır?



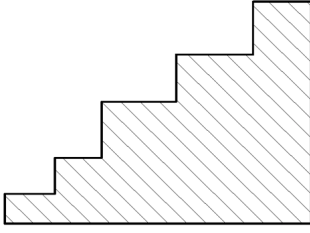
46. Çizimin tamamını ekrana sığdırmak için kullanılan komut aşağıdakilerden hangisidir?

- A) Zoom~In  
B) View  
C) Zoom~Window  
D) Pan  
E) Zoom~Extents

47. Aşağıdaki objelerden hangisi end pointe sahip değildir?

- A) Çizgi  
B) Yay parçası  
C) Daire  
D) Dikdörtgen  
E) Elips

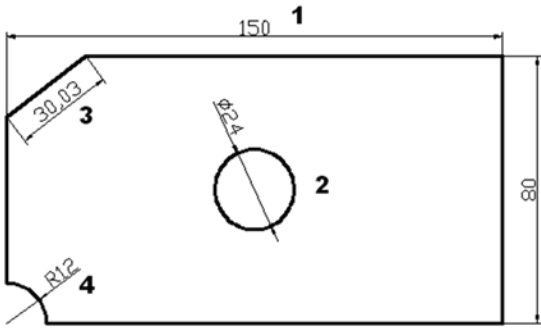
48.



Şekilde ANSİ31 tarama tipi kullanılarak yapılan taramanın açısı kaç derecedir?

- A) 0  
B) 30  
C) 60  
D) 90  
E) 120

49.



Şekildeki ölçülemelerin numaralara göre sıralanışı aşağıdakilerden hangisidir?

- A) Lineer-Diameter-Radius-Aligned  
B) Lineer-Diameter-Aligned-Radius  
C) Diameter-Lineer-Radius-Aligned  
D) Aligned-Diameter-Lineer-Radius  
E) Aligned-Diameter-Radius-Lineer

50. Yapılan tüm hareketlerin koordinatları program sıfır noktasına göre belirleniyorsa, kullanılan mod - - - - diye adlandırılır.

Verilen ifadede boş bırakılan yere aşağıdakilerden hangisi getirilmelidir?

- A) artışlı mod  
B) inç modu  
C) hız modu  
D) mutlak mod  
E) hareket mod

TEST BİTTİ.  
CEVAPLARINIZI KONTROL EDİNİZ.



### SINAV SÜRESİNCE UYULACAK KURALLAR

- 1. Adaylar, sınav kurallarına ve salon görevlilerinin tüm uyarılarına uymak zorundadırlar. Kurallara ve uyarılara uymayan adayların sınavları geçersiz sayılacaktır.**
2. Sınav başladıktan sonra adayların salon görevlileri ve birbirleri ile konuşmaları, kalem, silgi vb. şeyleri istemeleri yasaktır.
3. Adaylar sınav süresince, sınav giriş belgesi ile birlikte geçerli kimlik belgelerinden birini (fotoğraflı nüfus cüzdanı, pasaport veya sürücü belgesini) masalarının üzerinde bulundurmak zorundadırlar.
- 4. Sınav evraklarını teslim etmeyen, soru kitapçıklarının sayfalarından bir kısmını eksik teslim edenlerin sınavları geçersiz sayılacaktır.**

### SALON GÖREVLİLERİNCE SINAV BAŞLAMADAN ÖNCE ADAYLARA YAPILACAK SON UYARILAR

- Soracağınız bir şey varsa şimdi sorunuz, sınav başladıktan sonra sorularınıza cevap verilmeyecektir.
- Başlama zilini bekleyiniz.

*Hepinize başarılar dileriz.*

(Salon başkanı başlama ve bitiş saatini tahtaya yazacaktır.)

Bu kitapçığın her hakkı saklıdır. Hangi amaçla olursa olsun, kitapçığın tamamının veya bir kısmının Millî Eğitim Bakanlığı Ölçme, Değerlendirme ve Sınav Hizmetleri Genel Müdürlüğünün yazılı izni olmadan kopya edilmesi, fotoğraflarının çekilmesi, bilgisayar ortamına alınması, herhangi bir yolla çoğaltılması, yayımlanması veya başka bir amaçla kullanılması yasaktır. Bu yasağa uymayanlar, doğabilecek cezai sorumluluğu ve kitapçığın hazırlanmasındaki mali külfeti peşinen kabullenmiş sayılır.

**07 EKİM 2017 TARİHİNDE YAPILAN  
ADALET BAKANLIĞI  
UNVAN DEĞİŞİKLİĞİ SINAVI  
13. GRUP: TEKNİKER (MAKİNE) B SORU KİTAPÇIĞI CEVAP ANAHTARI**

- |       |       |
|-------|-------|
| 1. B  | 26. B |
| 2. E  | 27. E |
| 3. A  | 28. D |
| 4. C  | 29. D |
| 5. D  | 30. A |
| 6. E  | 31. E |
| 7. C  | 32. D |
| 8. E  | 33. C |
| 9. C  | 34. A |
| 10. C | 35. C |
| 11. A | 36. C |
| 12. B | 37. B |
| 13. D | 38. E |
| 14. A | 39. A |
| 15. E | 40. C |
| 16. D | 41. D |
| 17. B | 42. D |
| 18. A | 43. A |
| 19. A | 44. B |
| 20. B | 45. A |
| 21. E | 46. E |
| 22. A | 47. C |
| 23. C | 48. D |
| 24. B | 49. B |
| 25. A | 50. D |