



**AÇIK ÖĞRETİM ORTAOKULU
2016 - 2017 ÖĞRETİM YILI
3. DÖNEM SINAVI**

0

01 TEMMUZ 2017 Saat: 14.00

2.
OTURUM

DERSLER	SAYFA	DERSLER	SAYFA
(553) SOSYAL BİLGİLER – 5	2	(733) SOSYAL BİLGİLER – 7	17
(554) İNGİLİZCE – 5	3	(735) İNGİLİZCE – 7	19
(554) ALMANCA – 5	5	(735) ALMANCA – 7	20
(554) FRANSIZCA – 5	7	(735) FRANSIZCA – 7	21
(555) DİN KÜL. VE AHLAK BİLGİSİ – 5	8	(736) DİN KÜL. VE AHLAK BİLGİSİ – 7	23
(630) TÜRKÇE – 6	11	(830) TÜRKÇE – 8	25
(631) MATEMATİK – 6	13	(831) MATEMATİK – 8	27
(632) FEN VE TEKNOLOJİ – 6	15	(832) FEN VE TEKNOLOJİ – 8	30

ADAYLARIN DİKKATİNE!

1. Her ders için 20 soru bulunmaktadır. Bu oturumda **150** dakikalık cevaplama süreniz vardır. Sınav başladıktan sonra ilk **30** dakika tamamlanmadan dışarı çıkmayınız.
2. Sınav sırasında çanta, cep telefonu, saat, kablosuz iletişim sağlayan cihazlar ve kulaklık, kolye, küpe, bilezik, yüzük, broş ve benzeri eşyalar ile her türlü elektronik ve/veya mekanik cihazları yanınızda bulundurmuyunuz. Bu araçları yanınızda bulundurmanız ve kopya çekmeye teşebbüs etmeniz hâlinde sınavınız geçersiz sayılacaktır.
3. Başvuru şartlarını taşımadığınız hâlde sınava girmeniz, kopya çekmeniz, başka adayın sınav evrakını kullanmanız, geçerli kimlik belgenizi ve sınav giriş belgenizi ibraz edemediğiniz durumlarda sınavınız geçersiz sayılacaktır.
4. Sınavın değerlendirilmesi aşamasında, bilgisayar ortamında yapılan kopya analizinde sistemin ikili ve/veya toplu kopya tespiti hâlinde sınavınız geçersiz sayılacaktır.
5. **Adaylar, sınav kurallarına ve salon görevlilerinin tüm uyarılarına uymak zorundadır. Kurallara ve uyarılara uymayan adayların sınavları geçersiz sayılacaktır.**
6. Sınav başladıktan sonra adayların salon görevlileri ve birbirleri ile konuşmaları; kalem, silgi vb. şeyleri istemeleri yasaktır.
7. Adaylar sınav süresince, sınav giriş belgesi ile geçerli kimlik belgelerinden birinin aslını (fotoğraflı nüfus cüzdanı, pasaport) masalarının üzerinde bulundurmamak zorundadır.
8. **Sınav evraklarını teslim etmeyen, soru kitapçıklarının sayfalarından bir kısmını eksik teslim edenlerin sınavları geçersiz sayılacaktır.**
9. Sınav başlamadan önce kitapçığın arkasındaki açıklamaları okuyunuz.

BAŞLAYINIZ DENMEDEN SORU KİTAPÇIKLARINI AÇMAYINIZ.

2. OTURUM

(553) SOSYAL BİLGİLER – 5

1. Cumhuriyet kaç yılında, nerede ilan edilmiştir?

- A) Amasya - 1919 B) Ankara - 1920
C) Ankara - 1923 D) İstanbul - 1923

2. Amaçları ve çıkarları aynı olan kişiler bütününe ne ad verilir?

- A) Grup B) Kurum C) Birey D) Kısım

3. Aşağıdakilerden hangisi okuldaki sorumluluklarımızdan biridir?

- A) Derslere zamanında girmek
B) Kantinde vakit geçirmek
C) Teneffüse çıkmak
D) Oyun oynamak

4. "Sosyal hayatta herkesin uyması ve yerine getirmesi gereken bir takım görevleri vardır." cümlesi aşağıdaki hangi kavramın tanımı olabilir?

- A) Hak B) Grup
C) Kurum D) Sorumluluk

5. Aşağıdakilerden hangisi turist çeken doğal varlıklarımızdandır?

- A) Peribacaları B) Selimiye Camii
C) Alanya Kalesi D) Anadolu Hisarı

6. "Yaradılanı hoşgör / Yaradandan ötürü" sözü aşağıdakilerden hangisine aittir?

- A) Mevlana Celaleddin-i Rumi
B) Yunus Emre
C) Atatürk
D) Mehmet Akif Ersoy

7. 24 Kasım 1928 tarihinde aşağıdakilerden hangisi meydana gelmiştir?

- A) Saltanat kaldırılmıştır.
B) Sakarya Zaferi kazanılmıştır.
C) Türk Tarih Kurumu açılmıştır.
D) Atatürk'e "Başöğretmen" unvanı verilmiştir.

8. "Egemenlik, kayıtsız şartsız milletindir." sözü hangi ilkeyle öncelikle ilgilidir?

- A) Cumhuriyetçilik B) Milliyetçilik
C) Halkçılık D) Laiklik

9. Medeni Kanun aşağıdakilerden hangisini düzenler?

- A) Eğitimi B) Aile hayatını
C) Askerliği D) Ekonomiyi

10. Miladi takvim kaç yılında kabul edilmiştir?

- A) 1920 B) 1923 C) 1924 D) 1925

11. Kemeçe, hangi bölgemize ait bir müzik aletidir?

- A) Akdeniz B) Karadeniz
C) İç Anadolu D) Ege

12. Aşağıdakilerden hangisi orman ürünlerinden değildir?

- A) Kereste B) Selüloz
C) Reçine D) Arpa

13. Yükseltisi en fazla olan bölgemiz aşağıdakilerden hangisidir?

- A) Ege B) Akdeniz
C) Doğu Anadolu D) Güneydoğu Anadolu

2. OTURUM

14. Aşağıdaki illerimizden hangisi diğerlerinden **daha soğuk** bir iklime sahiptir?

- A) Hatay B) Sivas
C) Mersin D) Samsun

15. Aşağıdakilerden hangisi bir bilim insanında bulunması gereken bir özelliktir?

- A) Çıkarıcılık B) Acelecilik
C) Tarafçılık D) Merak

16. Teleskobu icad eden bilim insanı aşağıdakilerden hangisidir?

- A) Newton B) Edison
C) Galileo D) İbn-i Sina

17. Aşağıdakilerden hangisi coğrafi keşiflerin yapılmasında ve yeni ülkelerin bulunmasında etkili olmuştur?

- A) Pusula B) Kâğıt
C) Barut D) Mikroskop

18. Tarihi mirasımızın ortaya çıkarılması ve korunması için çalışmalar yapan bakanlık aşağıdakilerden hangisidir?

- A) Maliye Bakanlığı
B) Orman ve Su İşleri Bakanlığı
C) Kültür ve Turizm Bakanlığı
D) Millî Eğitim Bakanlığı

19. Aşağıdakilerden hangisi toplum hayatını düzenleyen yazılı kurallardan **değildir**?

- A) Gelenekler B) Yönetmelikler
C) Kanunlar D) Trafik kuralları


20. Orhun Yazıtları aşağıdaki ülkelerden hangisinde bulunmaktadır?

- A) Moğolistan B) Türkiye
C) Özbekistan D) Türkmenistan

(554) İNGİLİZCE – 5

1-20. sorularda boş bırakılan yere uygun gelen kelime ya da ifadeyi işaretleyiniz.

1.



Aylin : What time is it?

Brat : It is - - - - .

- A) nine past ten B) ten past nine
C) half past nine D) quarter past nine

2.



Every morning, **Yeşim** - - - - .

- A) has lunch with her family
B) brushes her teeth
C) reads books
D) goes to bed

3. **Tim** : - - - - ?

Kate : I go to the sports club.

- A) Why do you go the sports club
B) What do you do in the afternoons
C) When do you go to the sports club
D) How many sports clubs are there in the city

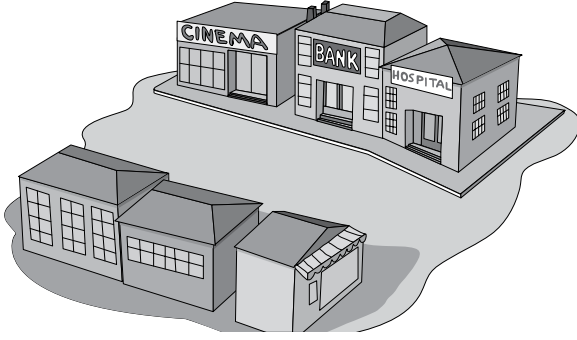
4. **Alex** : - - - - ?

Berry : The stationary is on the left of the fast food shop.

- A) Where is the stationary
B) Do you like eating fast food
C) How can I go to the fast food shop
D) Can you go to the stationary after school

2. OTURUM

5.



The cinema is - - - - the bank.

- A) behind B) between
C) next to D) in front of

6. Pierre : - - - - ?

Yuka : Japanese.

- A) What nationality are you
B) Can you speak Japanese
C) Where are you from
D) Is your name Yuka

7. My favorite class is - - - - .



- A) art B) music C) maths D) science

8. Ali : Can you play soccer?


Max : - - - - but I can play basketball.

- A) No, I can't B) No, I don't
C) Yes, I can D) Yes, I do

9. My favourite activity is - - - - . My favourite team is Real Madrid.

- A) taking photos B) playing football
C) doing origami D) drawing pictures

10.



I like playing - - - - .

- A) chess B) checkers
C) dodgeball D) tic-tac-toe

11.



I have a terrible - - - - .

- A) backache B) fever
C) cough D) toothache

12. Lucy : - - - - ?

Arda : "Monster House"

- A) Where is the cinema
B) Who likes going to the cinema
C) What is the name of the movie
D) What time does the movie start

13. Ege has a stomachache. - - - - .

- A) He should go to school
B) He should stay outside
C) He should study lessons
D) He should drink lemon and mint tea

2. OTURUM

14. Sue : When is your birthday?

Roy : It is ---- 15th January.

- A) on B) at
C) in D) about

15. Cem : ---- do you need for the party?

Ben : A big cake, lots of drinks and music CDs.


- A) When B) What
C) Where D) Who

16. May : How about jogging?

Eve : ----. I am ill.

- A) OK B) Great
C) Sounds good D) I am sorry

17.



The ---- are playing with a ball.

- A) puppies B) kittens
C) rabbits D) birds

18. Candy : ---- is the Ramadan feast?

Ayşe : It is a three-day feast.

- A) Who B) Where
C) How long D) How many

19. John is excited ---- the Easter.

- A) from B) about
C) in D) at

20. People in Turkey ---- the Children's Day every year.

- A) eat B) play
C) examine D) celebrate

(554) ALMANCA – 5

1-18. sorularda boş bırakılan yere uygun gelen ek, kelime ya da ifadeyi işaretleyiniz.

1. Guten Tag, Kinder! Ich ---- Frau Yılmaz.

- A) ist B) bist C) bin D) sind

2. A: Woher ---- du?

B: Ich ---- aus Malatya.

- A) komme / kommst B) kommst / komme
C) kommt / kommen D) kommen / kommt

3. Der ---- Mann ist ein Lehrer.

- A) lange B) dick C) kurz D) dünner

4.



A: Wie spät ist es?

B: Es ist ----.

- A) neun Uhr B) zehn Uhr
C) zwölf Uhr D) elf Uhr

5. A: Hallo Susanne! ---- kommst du?

B: Aus der Schule.

- A) Wohin B) Woher C) Wo D) Wann

6. Wir machen Sport im ----.

- A) Häuser B) Fußball
C) Tennis D) Garten


7. A: Wann ist Pause?

B: ---- 10 Uhr.

- A) Am B) Im C) Um D) Bei

2. OTURUM

8.



Was ist das?

- A) Auto B) Fahrrad
C) Motorrad D) Bus

9. Murat hat - - - - Augen.

- A) blaue B) lange
C) kurze D) billige

10. Hasan und Thomas - - - - Kaffee, aber Mustafa - - - - Tee.

- A) trinkt / trinken B) trinkst / trinke
C) trank / trinke D) trinken / trinkt

11. Juli, - - - - , September

- A) Juni B) Oktober
C) August D) November

12.



Der Ball ist - - - - dem Bett.

- A) unter B) auf
C) neben D) zwischen

13. Der alt- - - - - Mann und die alt- - - - - Frau sind meine Großeltern.

- A) -er / -e B) -en / -e
C) -en / -en D) -e / -e

14. Kannst du gut - - - - und - - - - ?

- A) lesen / schreiben B) lese / schreibe
C) liest / schreibt D) lesen / schreibst

15.



Es - - - - in Ankara.

- A) schneit B) ist sonnig
C) regnet D) ist bewölkt

16. - - - - Tisch, - - - - Fenster, - - - - Tür

- A) das / der / die B) der / das / die
C) die / der / das D) der / die / das

17. Das Auto ist sehr - - - - .

- A) schnell B) schnelle
C) schnellste D) schneller

18.



A: Was macht das Mädchen?


B: Sie - - - - Musik.

- A) läuft B) spielt C) schreibt D) hört

19. Aşağıdakilerden hangisi fiildir?

- A) morgen B) Sport
C) spielen D) blau

20.



Wie heißt der Ort?

- A) Flughafen B) Bahnhof
C) Autobahn D) Flugzeug

2. OTURUM

(554) FRANSIZCA – 5

1 - 13. sorularda boş bırakılan yere uygun gelen sözcük ya da ifadeyi işaretleyiniz.

1. ----- s'appellent Marie et Claire.
A) Vous B) Elle
C) Elles D) Il
2. Henri : Tu as quel âge ?
Victor : -----
A) Il est vieux B) J'habite à İstanbul
C) C'est ma cousine D) J'ai vingt ans
3. M. Leduc : ----- allez- vous ?
M. Dupont : Très bien, merci. Et vous ?
A) Parce que B) Quelle
C) Comment D) Pourquoi
4. Alp : -----?
Léa : Elle est marocaine.
A) Elle habite à Casablanca
B) Quelle est sa nationalité
C) Quelle est son adresse
D) Elle a quel âge
5. Enrico est espagnol, mais il ----- à Marseille.
A) a B) habite C) habites D) êtes
6. Elles ----- français et italien.
A) parlent B) parlons
C) parlez D) parler
7. Sandra et Philippe habitent ----- Tokyo.
A) au B) dans C) à D) en
8. Cliente : Avez-vous une salle climatisée?
Réceptionniste : Non, nous n'avons pas ----- salle climatisée.
A) les B) des C) la D) de

9. Alfred : ----- ?
Pablo : C'est un écrivain portugais.
A) C'est quoi B) Combien
C) C'est à toi D) Qui est-ce

10. Pour prendre soin de ses yeux, -----
A) il se regarde dans la glace
B) il ne regarde pas la télé de près
C) il se brosse les dents
D) il n'écoute pas de la musique à haute voix

11. L'oiseau a deux ailes. Il ----- dans le ciel.
A) lit B) écrit C) vole D) marches

12. Alice : -----?
Albert : C'est un billet d'avion.

- A) Qu'est-ce que c'est
B) À quelle heure
C) Qui est-ce
D) Quelle couleur

13. M. Yang est chef cuisinier. Il travaille -----
A) dans une bijouterie
B) dans un restaurant de luxe
C) dans une bibliothèque
D) dans un garage

14 - 20. soruları resimleri dikkate alarak cevaplayınız.

14.




----- à Paris.

- A) Il fait beau B) Il y a du soleil
C) Il fait chaud D) Il fait mauvais

2. OTURUM

15.



---- à Strasbourg.

- A) Il neige
B) Il y a du vent
C) Il y a du soleil
D) Il pleut

16.



---- il fait très froid.


- A) En hiver
B) En été
C) En automne
D) Au printemps

17.



- A) Il est neuf heures.
B) Il est six heures.
C) Il est deux heures.
D) Il est dix heures.

18.



Ils sont ----.

- A) dentistes
B) ingénieurs
C) pilotes
D) professeurs

19.



Il va au bureau ----.

- A) à vélo
B) à cheval
C) à moto
D) à pied

20.



Il est interdit de (d') ----.

- A) tourner à droite
B) stationner dans la rue
C) aller à gauche
D) aller tout droit

(555) DİN KÜL. VE AHLAK BİLGİSİ – 5

1. “Kul hüvellâhü ehad, Allâhus samed. Lem yelid ve lem yuled.
Ve lem yekün lehü küfüven ehad.”
(İhlas suresi, 1-4. ayetler)

Bu surede altı çizili bölümün anlamı aşağıdaki-lerden hangisidir?

- A) Her şey O'na muhtaçtır. O hiç bir şeye muhtaç değildir.
B) Doğurmamış ve doğmamıştır.
C) O'nun hiçbir dengi yoktur.
D) De ki: O Allah birdir.

2. Kim mü'min kardeşinin ihtiyacını karşılarsa, Allah da onun bir ihtiyacını karşılar.

Aşağıdaki davranışlardan hangisi bu hadisin mesajına uygundur?

- A) Engelli birine yardım etmek
B) Ödevlerini zamanında yapmak
C) Boş vakitlerde kitap okumak
D) Derste öğretmeni dikkatli dinlemek

2. OTURUM

3. İhlas suresindeki “Her şey ona muhtaçtır. O hiçbir şeye muhtaç değildir.” ayetini ifade eden Allah’ın sıfatı aşağıdakilerden hangisidir?

- A) Basar
B) Samet
C) Tekvin
D) Kudret

4. Aşağıdakilerden hangisi Kur’an’ın kötülüklerden sakındırma ile ilgili ayetlerinden biri değildir?

- A) “Yiyin için fakat israf etmeyin. Çünkü O, israf edenleri sevmez.”
(Araf suresi, 31. ayet)
- B) “Şüphesiz Alah, adaletli iyilik yapmayı, yakınlarla yardım etmeyi emreder; hayasızlığı, fenalığı ve azgınlığı da yasaklar.”
(Nahl suresi, 90. ayet)
- C) “Kim bir yanılığa düşer veya bir günah işlerde, sonra onu suçsuz birinin üzerine atarsa, apaçık bir iftira ve günah yüklenmiş olur.”
(Nisa suresi, 112. ayet)
- D) “Geceyi ve gündüzü, Güneş’i ve Ay’ı yaratan O’dur. Her biri bir yörüngede yüzer.”
(Enbiya suresi, 33. ayet)

5. “Yalnız sana ibadet ederiz ve yalnız senden yardım dileriz.”
(Fatiha suresi, 5. ayet)

Bu ayetle aşağıdakilerden hangisi vurgulanmıştır?

- A) Hiçbir ibadet başka bir ibadetin yerini tutamaz.
B) İbadet sadece Allah’a yapılmalıdır.
C) İbadetlerin zamanı ve şekli bellidir.
D) Dua etmek önemli ibadetlerdendir.

6. “Eğer yerde ve gökte Allah’tan başka tanrılar bulunsaydı, yer ve gök (bunların nizamı) kesinlikle bozulup gitmişti...”
(Enbiya suresi, 22. ayet)

Bu ayetle aşağıdakilerden hangisine vurgu yapılmıştır?

- A) Allah’ın varlığı ve birliğine
B) Allah’ın güzel isimlerine
C) Allah’ın kullarına merhametine
D) Allah’ın tövbeleri kabul etmesine

7. Aşağıdakilerden hangisi Hz. Peygamber’in ailesinin davranışlarına örnek gösterilemez?

- A) Misafire ikram ederlerdi.
B) Komşularla iyi geçinirlerdi.
C) İsrraftan kaçınırlardı.
D) Bütün işleri kadınlar yapardı.

8. Öğretmeni Seval’den namaz kılma sebebini, niçin sadaka verdiğini, ramazanda oruç tutma gerekçesini gösteren ayetleri ödev olarak yazmasını istemiştir.

Buna göre Seval’in ödevinde aşağıdaki ayetlerden hangisi yer almaz?

- A) “Ey insanlar! Sizi ve sizden öncekileri yaratan Rabbinize ibadet edin...”
(Bakara suresi, 21. ayet)
- B) “...Rabbinize kulluk edin ve hayır işleyin ki kurtuluşa eresiniz.”
(Hac suresi, 77. ayet)
- C) “Ben cinleri ve insanları, ancak bana kulluk etsinler diye yarattım.”
(Zariyat suresi, 56. ayet)
- D) “Şüphesiz o Zikr’i (Kur’an’ı) biz indirdik biz! Onun koruyucusu da elbette biziz.”
(Hicr suresi, 9. ayet)

9. Aşağıdakilerden hangisi ibadetle ilgili doğru bir bilgi değildir?

- A) Nimete şükür amacıyla yapılır.
B) Dünyevi işlerimizi aksatır.
C) Yaratana karşı sorumluluktur.
D) Davranışlarımızı güzelleştirir.

10. “... Kararını verdiğin zaman, Allah’a dayanıp ona güven. Çünkü Allah, kendisine dayanıp güvenenleri sever.”
(Al-i İmran suresi, 159. ayet)

Bu ayete göre hangi davranış yanlıştır?

- A) İlaç kullandıktan sonra şifa beklemek
B) Ürün almak için tarlanın bakımını yapmak
C) Arabanın bakımını yaptırıp sonra kullanmak
D) Çalışmadan başarı beklemek

2. OTURUM

11. Ergenlik çağına ulaşmış, akıllı ve sağlıklı her Müslümanın **öncelikle** yükümlü olduğu ibadetler aşağıdakilerden hangisidir?

- A) Namaz - Hac B) Oruç - Zekat
C) Namaz - Oruç D) Hac - Zekat

12. • İstekleri Allah'a iletmektir.
• Yardım istemek ve sığınmaktır.

Hakkında bilgi verilen kavram aşağıdakilerden hangisidir?

- A) Salih amel B) Dua
C) Tövbe D) Sabır

13. Aşağıdakilerden hangisi caminin dış bölümlerinden biri **değildir**?

- A) Minber B) Mahya
C) Şadırvan D) Minare

14. Hz. Muhammed'in (sav) aile içindeki örnek davranışlarından biri de kendisi ve ailesiyle ilgili önemli konularda aile bireylerine danışması ve onların görüşlerine değer vermesiydi.

Bu metne göre Hz. Muhammed (sav.) ve ailesinde aşağıdakilerden hangisine önem verilmektedir?

- A) Komşuluğa B) Eğitime
C) İstişareye D) Cömertliğe

15. Kur'an-ı Kerim'le ilgili aşağıdakilerden hangisi **söylenemez**?

- A) İslam dininin temel kaynağıdır.
B) Kıyametin vaktini bildirir.
C) İnsanlara yol gösterir.
D) İbadet etmeyi öğretir.

16. Aşağıdakilerden hangisi milli bayramlarımızdan biri **değildir**?

- A) Ramazan Bayramı
B) Ulusal Egemenlik ve Çocuk Bayramı
C) Atatürk'ü Anma Gençlik ve Spor Bayramı
D) Cumhuriyet Bayramı

17. Aşağıdakilerden hangisi bir milleti oluşturan unsurlar arasında **yer almaz**?

- A) Bayrak B) Tarih birliği
C) Vatan sevgisi D) Soy birliği

18. Aşağıdakilerden hangisi hac ibadeti ile ilgili **yanlış** bir bilgidir?

- A) Yılın belirli günlerinde yapılır.
B) İnsanların eşitliğinin ifadesidir.
C) Yoksullar sıkıntılarından kurtulmuş olur.
D) Tavaf, vakfe ve ihrama girmek farzlarıdır.

19. • Kur'an-ı Kerim indirilmeye başlanmıştır.
• Kur'an-ı Kerim'de "bin aydan daha hayırlı" olduğu bildirilmiştir.

Burada aşağıdakilerden hangisi hakkında bilgi verilmektedir?

- A) Muharrem Ayı B) Kadir Gecesi
C) Ramazan Bayramı D) Miraç Kandili

20. Aşağıdaki bilgilerden hangisi Hz. İbrahim ile ilgili **değildir**?

- A) Peygamberliğiyle birlikte hükümdarlık da yapmıştır.
B) Kur'an'da adını taşıyan bir sure vardır.
C) Nemrut tarafından ateşe atılmıştır.
D) Puta tapıcılıkla mücadele etmiştir.

2. OTURUM

(630) TÜRKÇE – 6

1. “Çatlamak” sözcüğü aşağıdakilerin hangisinde farklı bir anlamda kullanılmıştır?

- A) Çay doldururken birden çay bardağı çatladı.
- B) Yüzlerce yıllık binanın duvarları çatlamış.
- C) Öndeki araba taş fırlattı, arabamın camı çatladı.
- D) Soğuktan çocuğumun elleri hep çatlamış.

2. Aşağıdaki cümlelerin hangisinde altı çizili sözcük mecaz anlamda kullanılmamıştır?

- A) İnsan, öfkesini frenlemezse kötü sonuçlarla karşılaşabilir.
- B) Güzel sözler insanın içini ısıtır her zaman.
- C) Demirci ustası, kılıca vurdukça kıvılcımlar sacılıyordu.
- D) Bu çocuk çok kafalı, ileride iyi yerlere gelecek.

3. 1. Gün doğmadan neler doğar.
2. Üzüm üzümüne baka baka kararır.
3. Arabayla tavşan avlanmaz.

Aşağıdaki tutum ve davranışlardan hangisi numaralanmış atasözlerinden biriyle eşleşmez?

- A) Yol yöntem bilme
- B) Umudu kaybetmeme
- C) Başkalarından etkilenme
- D) Ölçülü davranma

4. Aşağıdaki cümlelerin hangisinde “çok büyük güçlülere, sıkıntılara katlanmak” anlamında bir deyim kullanılmıştır?

- A) Harman zamanı herkes dişini tırnağına takıyor.
- B) Benim söylediğim fikre arkadaşlar karşı çıktı.
- C) Çocuklar oyun bahçesini bir anda curcunaya çevirdi.
- D) Haberi duyunca soluğu kardeşinin yanında aldı.

5. “Kalmak” sözcüğü aşağıdakilerin hangisinde “varlığını korumak, sürdürmek” anlamında kullanılmıştır?

- A) Paris’te, şehrin merkezindeki bir evde kaldık.
- B) Biz geldik, onlar düşün salonunda kaldı.
- C) Bu cami ve kervansaray 16. yüzyıldan kalmış.
- D) Dedesinden yüklü miktarda bir miras kalmış.

6. Sen yarı düş yarı tütsü
1 2
Ben yarı kör yarı deli
3 4

Bu dizelerdeki numaralanmış sözcüklerden hangileri sestestir?

- A) 1 ve 3. B) 1 ve 4.
- C) 2 ve 3. D) 2 ve 4.

7. Okulda konuşmadan bir gün geçirmek nasıl olurdu? Bir ödev hazırlarken Elif’in aklına böyle bir şey takılır. Okulda konuşmadan bir gün geçirmeye ve iki üç arkadaşıyla bunu yarışma biçiminde düzenlemeye karar verir. Fakat öğretmenlerine cevap vermek zorunda oldukları için “sorulara en fazla üç kelime ile cevap verme” kuralını koyar. Bu yarışmaya okuldaki diğer öğrenciler de katılınca öğretmenler şaşkına döner. Çünkü hiç konuşmayan öğrenciler vardır okulda.

Bu metinde aşağıdaki sorulardan hangisinin cevabı yoktur?

- A) Yarışmanın kuralı nedir?
- B) Yarışmayı kim bulmuştur?
- C) Öğretmenler neden şaşmıştır?
- D) Yarışmanın ödülü nedir?

8. 1. Bu bilgilerle dünyadaki yaşamın eskiden nasıl olduğunu tahmin etmeye çalışırlar.
2. Fosil bilimciler, kazı yaparak doğanın içinde saklı fosilleri ararlar.
3. Sonuç olarak fosil bilimciler meraklı ve dikkatli doğa bilimcileridir.
4. Buldukları fosilleri inceleyerek bitkiler ve hayvanlar hakkında bilgilere ulaşırlar.

Numaralanmış cümlelerle anlamlı bir metin oluşturulmak istense sıralama aşağıdakilerden hangisi olur?

- A) 2-1-3-4 B) 2-4-1-3
- C) 4-1-2-3 D) 4-3-1-2

2. OTURUM

9. Haydi, taşlara biraz daha yakından bakalım! Hepsini birbirinden farklı. Kimisi yuvarlak, kimisi sivri uçlu, kimisi de yassıdır. Hiçbir taş birbirine benzemez. Çünkü bütün taşlar farklı minerallerden oluşur. Bu mineraller çoğu zaman bir taşın içinde karışık hâlde bulunur.

Bu parçada "taşlar" ile ilgili aşağıdakilerden hangisine değinilmemiştir?

- A) Hangi renklerde bulunduğu
B) Birbirlerine neden benzemediğine
C) Şekil özelliklerine
D) Yapılarının nasıl olduğuna

10. Masal deyip geçmeyelim. Masal anlatırken bütün aile bir arada olur. Dinlemeyi, konuşmayı, soru sorma adabını öğrenir çocuklar. İyiyle kötüyü ilk olarak masalarda ayırt ederler. Kısacası toplumda nasıl hareket edeceklerinin küçük alıştırmalarıdır masal âlemi.

Bu metnin konusu aşağıdakilerden hangisidir?

- A) Masal anlatıcısının üslubu
B) Masalların çocuğun kişiliğine kazandırdıkları
C) Masalarda en çok işlenen konular
D) Masalın diğer türlerden üstünlüğü

11. Güvercinler
Gökyüzünü öper öpmez
Büyür içimdeki aklık
Çocukları çiçekleri kuşları
Kucaklar kucaklamaz ben
Isıtır eski giysilerimi
Yeni bir sıcaklık

Bu dizelerin ana duygusu aşağıdakilerden hangisidir?

- A) Hayvan sevgisi B) Yaşama sevinci
C) Özlem D) Yalnızlık

12. Eskişehir Ticaret Lisesi mezunuyum. Çeşitli banka ve gazetelerde çalıştım. 1977'de Türkiye İş Bankası Halkla İlişkiler Müdür Yardımcısı iken emekli oldum. 1940 yılından itibaren aşk, özlem temalarını çokça işlediğim şiirler yazdım. Şiirlerimi otuzdan fazla kitapta topladım. Bazı şiirlerim bestelendi.

Bu parçanın türü aşağıdakilerden hangisidir?

- A) Deneme B) Hikâye
C) Otobiyografi D) Söyleşi

13. Aşağıdaki cümlelerde altı çizili sözcüklerden hangisi niteleme sıfatı **değildir**?

- A) Eşimle birlikte şirin bir adada ev tuttuk.
B) İhtiyar esir, rüyasında hep kurtarıldığını görüyordu.
C) Ayakkabının sert derisi canını acıtmıştı.
D) Bahçede kuyu açmak için tam üç gün uğraştık.

14. Aşağıdaki cümlelerin hangisinde kişi zamiri vardır?

- A) Arabayla Kuşadası'na, oradan da Bodrum'a gittik.
B) Sandalyelerin birçoğunu komşudan almıştık.
C) Havaalanında bizi iki görevli bekliyordu.
D) Ada sakinleri yazın güzel vakit geçiriyormuş.

15. Yaa () yine ben yokken gelmiş buraya () Onu bir türlü göremeyecek miyim () Nasıl biri olduğunu merak ediyorum ()

Bu parçada ayraçla gösterilen yerlere sırasıyla aşağıdaki noktalama işaretlerinden hangileri getirilmelidir?

- A) (!) (.) (?) (?) B) (,) (!) (?) (.)
C) (,) (.) (!) (?) D) (,) (.) (.) (.)

16. Aşağıdaki eylemlerden hangisi farklı bir kiple çekimlenmiştir?

- A) Kartallar, gökyüzünde güzel güzel süzülse.
B) Doğanın zorlu şartlarına güçlü vücuduyla dayanabilmiş.
C) Arada sırada ihtiyaçları için kasabaya iniyor.
D) İhtiyar adam, yıllarca ormandaki bir kulübede yaşamış.

17. (1) Bizim ekip, öğlen birde makinelerin bulunduğu depoya girdi. (2) Makineleri depodan zorlana zorlana çıkardık. (3) Gün batmadan önce bir kamyonuna yükledik. (4) Kamyon, bu makineleri bekleyen fabrikaya doğru yola çıktı.

Bu parçada numaralanmış cümlelerin hangisinde durum zarfı kullanılmıştır?

- A) 1. B) 2. C) 3. D) 4.

2. OTURUM

18. "İle" sözcüğü, "ve" anlamında kullanılırsa bağlaç olur.

Buna göre "ile" sözcüğü, aşağıdakilerin hangisinde bağlaçtır?

- A) Görgüsüz insanlar parası ile hava atarlar.
B) İki arkadaş bahçedeki kütükleri balta ile kırdı.
C) Akli ile hareket edenler mutlu olurlar.
D) Dondurma ile pastayı yemekten sonra yeriz.

19. Güvercin yuvalarda
Kapalı kirpikleri Leyla'nın

Bu dizelerde aşağıdakilerden hangisi yoktur?

- A) Soyut ad
C) Somut ad
B) Çoğul ad
D) Özel ad

20. Aşağıdaki dizelerin hangisinde ünlü daralması vardır?

- A) İnce bir hüzün saklıyor
Yıkık evler, taş avlular
B) Hangi hayaller sardı ufkunu
Hangi günlerin şafaklarında
C) Çok yokuşlar tırmandım, iniş olmadı;
Kim örüyor, görünmeyen duvarlar...
D) Yalnızlık bir tarihtir ikimiz
Dururuz odalarda bir giysi gibi

(631) MATEMATİK – 6

1. Aşağıdakilerden hangisi 120 doğal sayısının asal çarpanlarından biri değildir?

- A) 2
B) 3
C) 5
D) 7

2. Aşağıdakilerden hangisi yanlıştır?

- A) $|-3| < 4$
C) $|-3| < -7$
B) $4 < |-7|$
D) $|-4| < |-7|$

3. $a \cdot (150 + 75) = 10 \cdot 150 + 10 \cdot 75$

Yukarıdaki eşitliğe göre a kaçtır?

- A) 10
B) 25
C) 75
D) 150

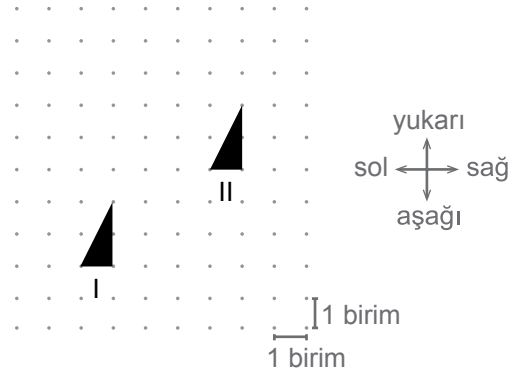
4. $3,08 + 5,75 + 2,25$ işleminin sonucu kaçtır?

- A) 11,8
B) 11,08
C) 10,8
D) 10,08

5. $\frac{3}{2}, \frac{3}{7}, \frac{3}{6}, \frac{3}{8}$ kesirlerinin küçükten büyüğe doğru sıralanışı aşağıdakilerden hangisidir?

- A) $\frac{3}{8} < \frac{3}{7} < \frac{3}{6} < \frac{3}{2}$
B) $\frac{3}{2} < \frac{3}{6} < \frac{3}{7} < \frac{3}{8}$
C) $\frac{3}{6} < \frac{3}{7} < \frac{3}{8} < \frac{3}{2}$
D) $\frac{3}{2} < \frac{3}{8} < \frac{3}{7} < \frac{3}{6}$

6.



I. konumdaki şekil ötelenerek II. konuma getirilmiştir.

Bunun için aşağıdaki hangi öteleme hareketi yapılmıştır?

- A) 4 birim aşağı, 3 birim sola
B) 3 birim aşağı, 4 birim sağa
C) 4 birim sağa, 3 birim yukarı
D) 4 birim sola, 4 birim yukarı

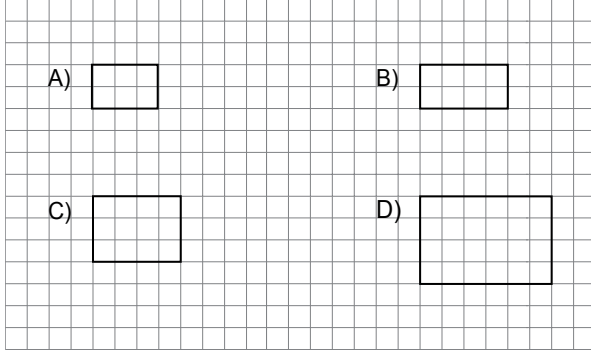
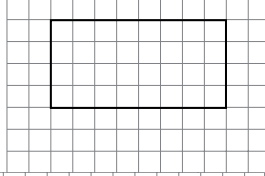
7. 40 kişilik bir turist kafilesinin %25'i erkektir.

Buna göre bu kafilede kaç kadın vardır?

- A) 10
B) 16
C) 24
D) 30

2. OTURUM

8. Aşağıdakilerden hangisi yandaki dikdörtgene benzerdir?



9. Ahmet 168 sayfalık bir kitabın 84 sayfasını okumuştur.

Buna göre Ahmet'in okuduğu sayfaların sayısının okumadığı sayfaların sayısına oranı kaçtır?

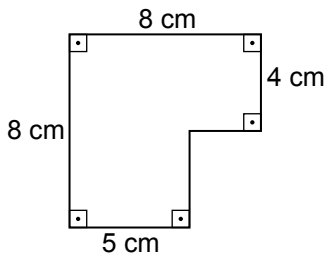
- A) $\frac{1}{4}$ B) $\frac{1}{3}$ C) $\frac{1}{2}$ D) 1

10. Bir tenekedeki 20 litre zeytinyağının tamamı 400 mililitrelik kavanozlara konulacaktır.

Bu işlem için en az kaç kavanoza ihtiyaç vardır?

- A) 500 B) 50 C) 40 D) 20

11.



Yukarıdaki şekilde verilenlere göre şeklin alanı kaç santimetrekaredir?

- A) 64 B) 56 C) 52 D) 48

12. 4'ten 20'ye kadar numaralandırılmış 17 özdeş kartın bulunduğu bir kutudan rastgele bir kart çekiliyor.

Buna göre çekilen kartın üzerinde çift sayı bulunma olasılığı kaçtır?

- A) $\frac{9}{16}$ B) $\frac{8}{16}$ C) $\frac{9}{17}$ D) $\frac{8}{17}$

13. Kesin olayın gerçekleşme olasılığı kaçtır?

- A) 0 B) $\frac{1}{2}$ C) $\frac{1}{3}$ D) 1

14. 5, 8, 11, 15, 16, 18, 21, 21, 24, 27, 31, 40, 42, 55

Yukarıdaki veri grubunun açıklığı kaçtır?

- A) 50 B) 37 C) 35 D) 30

15. $1 \times 1 \times 1 \times 1$ ifadesinin üslü gösterimi aşağıdakilerden hangisidir?

- A) 4^1 B) 1^4 C) 1^1 D) 1^0

16. $4k - 28 = 52$ olduğuna göre k kaçtır?

- A) 6 B) 12 C) 15 D) 20

17. Bir açının tümlerinin ölçüsü 18° dir.

Bu açının bütünlerinin ölçüsü kaç derecedir?

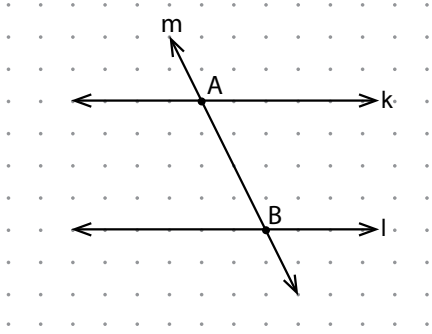
- A) 108 B) 112 C) 136 D) 162

18. Bir ayrıntının uzunluğu 4 cm olan küpün hacmi kaç santimetreküptür?

- A) 12 B) 20 C) 64 D) 96

2. OTURUM

19.



Verilen şekle göre aşağıdakilerden hangisi yanlıştır?

- A) l doğrusu ile m doğrusu B noktasında kesişir.
B) k doğrusu ile m doğrusu A noktasında kesişir.
C) l doğrusu m doğrusuna paraleldir.
D) k doğrusu l doğrusuna paraleldir.

20. Ahmet'in yaşının 2 katının 5 eksiği, Can'ın yaşına eşittir.

Ahmet'in yaşı x ile gösterildiğine göre, Can'ın yaşını gösteren cebirsel ifade aşağıdakilerden hangisidir?

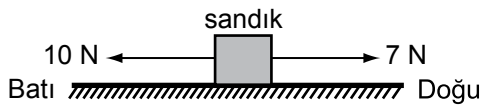
- A) $2x - 5$ B) $5x - 2$ C) $2(x - 5)$ D) $5(x - 2)$

(632) FEN VE TEKNOLOJİ – 6

1. Ağırlık ile ilgili aşağıda verilen bilgilerden hangisi yanlıştır?

- A) Cismin kütesine etki eden yer çekimi kuvvetidir.
B) Dünya üzerinde yükselere çıkıldıkça azalır.
C) Ölçülen değer litre birimi ile ifade edilir.
D) Dinamometre ile ölçülür.

2.



Yukarıdaki şekilde sandığa aynı doğrultuda zıt yönde 7 ve 10 N'luk iki kuvvet uygulanıyor.

Buna göre, aşağıdakilerden hangisi üçüncü kuvvet olarak uygulanırsa sandık hareket etmez?

- A) Doğu yönünde 10 N
B) Doğu yönünde 3 N
C) Batı yönünde 3 N
D) Batı yönünde 7 N

3. Aşağıda verilen maddelerin sıcaklıkları aynıdır.

- I. Hava
II. Duvar
III. Su

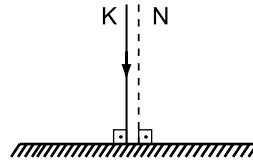
Bu maddelerin sesin yayılma hızına göre büyükten küçüğe doğru sıralanışı aşağıdakilerin hangisinde verilmiştir?

- A) I > III > II B) II > III > I
C) I > II > III D) II > I > III

4. Tümsek ayna önündeki bir cismin görüntüsünün özelliği aşağıdakilerden hangisidir?

- A) Cisimle aynı büyüklükte ve düzdür.
B) Düz ve cisimden büyüktür.
C) Ters ve cisimden küçüktür.
D) Düz ve cisimden küçüktür.

5. Şekildeki K ışını aynayla 90° 'lik açı yapacak şekilde gönderiliyor.



Bu ışının aynadan yansımaları hangi seçenekte doğru verilmiştir?

- A) B)
C) D)

6. • Seramik, tuğla ve kiremit yapımında kullanılır.
• İşlendiğinde sert bir yapıya sahiptir.
• Isıya dayanıklıdır.

Bazı özellikleri verilen toprak türü aşağıdakilerden hangisidir?

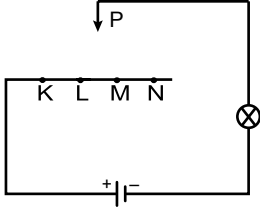
- A) Kumlu toprak B) Kireçli toprak
C) Killi toprak D) Humuslu toprak

2. OTURUM

7. Bazı mağaraların tavanındaki çatlaklar arasından suyun sızmasıyla oluşan yapı aşağıdakilerden hangisidir?

- A) Sarkıt B) Dikit
C) Traverten D) Kayaç

8. Şekilde bir elektrik devresi verilmiştir.



Devredeki ampulün yaydığı ışığın parlaklığının en fazla olması için P oku K, L, M ve N noktalarından hangisine temas ettirilmelidir?

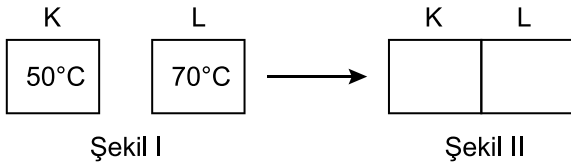
- A) K B) L C) M D) N

9. Bir kabın içindeki buz parçaları ısıtılıp su hâline getiriliyor.

Bu hâl değişiminde madde tanecikleri ile ilgili olarak aşağıdakilerden hangisi söylenemez?

- A) Aralarındaki uzaklık artmıştır.
B) Hareketli yapıya ulaşmıştır.
C) Düzensiz yapı oluşturmuştur.
D) Dışarıya ısı vermiştir.

10. Sıcaklıkları farklı olan özdeş K ve L blokları şekil II'deki gibi temas ettiriliyor.



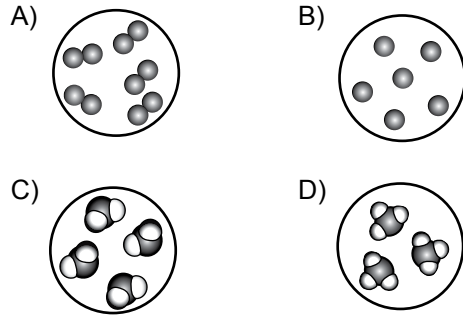
Buna göre K ve L blokları ile ilgili aşağıdakilerden hangisi söylenemez?

- A) Sıcaklıkları farklı olduğu için ısı alışverişi olmuştur.
B) Isı alışverişi K ve L bloklarının sıcaklıkları eşit olana kadar devam eder.
C) Isı akışının yönü L bloğundan K bloğuna doğrudur.
D) K ve L blokları arasında alınan ısı verilen ısıdan fazladır.

11. Aşağıdaki olaylardan hangisi fiziksel değişime örnek verilir?

- A) Sütün mayalandırılarak yoğurt hâline getirilmesi
B) Etin kıyma hâline getirilmesi
C) Yaprığın sararması
D) Demirin paslanması

12. Aşağıdaki modellerden hangisi element molekülünü temsil eder?



13. • Hücre için gerekli enerjiyi üretir.
• Kas ve karaciğer hücrelerinde sayıca daha fazladır.

Yukarıda özellikleri verilen hücre organeli hangisidir?

- A) Kloroplast B) Koful
C) Ribozom D) Mitokondri

14. Yumurta hücresi ile sperm hücresinin birleşmesiyle oluşan yapı aşağıdakilerden hangisidir?

- A) Zigot B) Embriyo
C) Fetüs D) Bebek

15. • Üreme hücrelerini suya bırakırlar.
• Yumurta ve sperm hücreleri vücut dışında birleşir.
• Embriyo gelişimini suda tamamlar.
• Yavru bakımı görülmez.

Üreme ve gelişme özellikleri verilen canlı aşağıdakilerden hangisi olabilir?

- A) Alabalık B) Yunus
C) Balina D) Kaplumbağa

2. OTURUM

16. I. Su
II. Oksijen
III. Güneş ışığı
IV. Uygun sıcaklık

Yukarıdakilerden hangileri fasulye tohumunun çimlenmesi için gereklidir?

- A) Yalnız I
B) II ve III.
C) I, II ve IV.
D) II, III ve IV.

17. Aşağıdakilerden hangisi ergenlik döneminde kız ve erkeklerde görülen ortak değişimlerden değildir?

- A) Vücudun bazı bölgelerinde kıllanmaların oluşması
B) Gırtlaktaki kemik çıkıntısının belirgin hâle gelmesi
C) Yağ bezlerinin faaliyetinin artması
D) Üreme organlarının gelişmesi

18. Düz kaslar yavaş, düzenli ve isteğimiz dışında çalışır.

Buna göre aşağıda verilen;

- I. Mide
II. Bağırsak
III. Göz kapağı

organlarından hangilerinde düz kas bulunur?

- A) Yalnız I
B) I ve II.
C) II ve III.
D) I, II ve III.

19. Aşağıdakilerden hangisi solunum sisteminde yer alan yapılardan değildir?

- A) Burun
B) Gırtlak
C) Akciğer
D) Karaciğer

20. Vücudumuzda büyük ve küçük kan dolaşımı hangi yapılar arasında olmaktadır?

Büyük kan dolaşımı **Küçük kan dolaşımı**

- A) Kalp - Akciğer Kalp - Vücut dokuları
B) Vücut dokuları - Beyin Kalp - Beyin
C) Kalp - Vücut dokuları Kalp - Akciğer
D) Vücut dokuları - Akciğer Kalp - Akciğer

(733) SOSYAL BİLGİLER – 7

1. Aşağıdakilerden hangisi iletişimde “Sen” dilinin özelliklerindedir?

- A) Karşı tarafı savunmaya itmez.
B) Kişiyi incitir, kırar.
C) Konuşan kişiyi rahatlatır.
D) Suçluluk hissettirmez.

2. Aşağıdaki illerimizin hangisinde görülen nüfus yoğunluğunun nedeni sanayisinin gelişmiş olmasıdır?

- A) İzmir B) Antalya
C) Erzurum D) Şanlıurfa

3. Aşağıdakilerden hangisi en fazla göç alan illerimizden biri değildir?

- A) Adana B) Bursa
C) Ankara D) Muş

4. Anadolu kapılarının Türklere açılmasını sağlayan savaş aşağıdakilerden hangisidir?

- A) Miryokefalon B) Malazgirt
C) Pasinler D) Köseadağ

5. Aşağıdakilerden hangisi I. Alaeddin Keykubat dönemi olaylarından değildir?

- A) Yassı Çimen Savaşı
B) Suğdak'ın fethi
C) Antalya'nın fethi
D) Kalanoros Kalesi'nin fethi

6. III. Haçlı Seferi'nin sebebi aşağıdakilerden hangisidir?

- A) Selahaddin Eyyubi'nin 1187'de Kudüs'ü Haçlılardan geri alması
B) Bizans imparatorunun papadan acil yardım istemesi
C) Avrupa'nın açlık ve sefalet içinde olması
D) II. Kılıçarslan'ın Haçlıları yenmesi

2. OTURUM

7. Aşağıdakilerden hangisi Osmanlıların Rumeli’de uyguladığı iskân politikasının özellikleri arasında yer almaz?

- A) Halkı din değiştirmeye zorlamışlardır.
- B) Adil bir vergi düzeni kurmuşlardır.
- C) Vakıflar aracılığı ile sosyal tesisler yapmışlardır.
- D) Fethedilen yerlere Türkmenleri yerleştirmişlerdir.

8. Osmanlılarda yaya ve müselleme adı verilen askerî birlikler kimin zamanında oluşturulmuştur?

- A) Osman Bey
- B) Orhan Bey
- C) I. Murat
- D) Yıldırım Bayezid

9. İstanbul kim tarafından, ne zaman fethedilmiştir?

- A) II. Murat - 1444
- B) Yıldırım Bayezid - 1402
- C) II. Mehmet - 1453
- D) Kanuni Sultan Süleyman - 1529

10. Osmanlı ordu bandosuna - - - - adı verilir.

Cümlede boş bırakılan yere aşağıdakilerden hangisinin yazılması uygun olur?

- A) Kös
- B) Mehter
- C) Senfoni
- D) Orkestra

11. Osmanlı Devleti’nde yayınlanan ilk resmî gazete aşağıdakilerden hangisidir?

- A) Volkan
- B) Tasvir-i Efkâr
- C) Takvim-i Vekayi
- D) Tercüman-ı Ahval

12. Osmanlı Devleti’nin İstanbul’dan önceki başkenti aşağıdakilerden hangisidir?

- A) Edirne
- B) Konya
- C) Bursa
- D) Manisa

13. Osmanlı Devleti ilk kez hangi dönemde Viyana, Paris gibi Avrupa başkentlerine elçiler göndermiştir?

- A) Tanzimat Dönemi
- B) I. Meşrutiyet Dönemi
- C) II. Meşrutiyet Dönemi
- D) Lale Devri

14. Aşağıdakilerden hangisi Osmanlı Devleti’nde 19 ve 20. yüzyıllarda eğitim alanında yaşanan yeniliklerden değildir?

- A) Rüştîye adı verilen okulların açılması
- B) Maarif-i Umumiye Nezareti’nin kurulması
- C) Kız ve erkek öğretmen okullarının açılması
- D) Bank-ı Dersaadet’in kurulması

15. Sanayi İnkılabı ilk kez aşağıdaki ülkelerden hangisinde başlamıştır?

- A) Amerika Birleşik Devletleri
- B) İngiltere
- C) Fransa
- D) Rusya

16. Aşağıdakilerden hangisi Ahilik teşkilatının ilkeleri arasında yer almaz?

- A) İyi ahlaklı olmak
- B) Cömertlik
- C) Bencillik
- D) Alçakgönüllülük

17. Aşağıda bazı bilim insanlarıyla yaptıkları çalışmalar eşleştirilmiştir. Bu eşleştirmelerden hangisi yanlıştır?

- A) İbni Sina - Kanun adlı tıp kitabını yazdı.
- B) Biruni - Dünyanın çapını 42.500 km olarak ölçtü.
- C) Kopernik - Yerçekimi Kanunu’nu buldu.
- D) Galile - Gezegenler ve Dünya’nın hareketlerini gözlemledi.

18. Osmanlılarda maliyeden sorumlu divan üyesi aşağıdakilerden hangisidir?

- A) Nişancı
- B) Defterdar
- C) Kazasker
- D) Kaptanıderya

2. OTURUM

19. Aşağıdakilerden hangisi devletin karar alma süreçlerini etkileyen unsurlardan biri değildir?

- A) Sivil toplum örgütleri
- B) Siyasi partiler
- C) Komşu ülkeler
- D) Medya

20. Birinci Dünya Savaşı'nda Mustafa Kemal'in askerî başarılarıyla tüm dünyada tanındığı cephe aşağıdakilerden hangisidir?

- A) Çanakkale
- B) Kafkas
- C) Filistin
- D) Irak

(735) İNGİLİZCE – 7

1-20. sorularda boş bırakılan yere uygun gelen kelime ya da ifadeyi işaretleyiniz.

1. My mother is cooking in the kitchen - - - -.

- A) now
- B) two hours ago
- C) yesterday
- D) last year

2. She doesn't - - - - early in the mornings.

- A) get up
- B) got up
- C) gets up
- D) getting up

3. My friends and I - - - - going to visit the city museum tomorrow.

- A) is
- B) was
- C) am
- D) are

4. You - - - - at the hospital last weekend.

- A) wasn't
- B) weren't
- C) didn't
- D) don't

5. There were ten students in the classroom - - - -.

- A) now
- B) usually
- C) five minutes ago
- D) at the moment

6. What - - - - you do yesterday?

- A) did
- B) was
- C) were
- D) do

7. My father - - - - home late last night.

- A) to come
- B) coming
- C) come
- D) came

8. She is doing her homework - - - -.

- A) itself
- B) myself
- C) herself
- D) himself

9. Did you - - - - study a lot when you were a student?

- A) use to
- B) has to
- C) may
- D) can

10. His handwriting is - - - -. He writes - - - -.

- A) neatly / neatly
- B) neat / neatly
- C) neatly / neat
- D) neat / neat

11. Erzurum is - - - - than Adana.

- A) the coldest
- B) so cold
- C) cold
- D) colder

12. Who is - - - - man in the world?

- A) rich
- B) richer
- C) as rich as
- D) the richest

13. Martha's hair style is different - - - - Susan's.

- A) at
- B) in
- C) from
- D) about

14. I have got the flu. I - - - - go to the hospital.

- A) must
- B) was
- C) wasn't
- D) mustn't

2. OTURUM

15. ----- you like to drink something?

- A) Had to B) Have to
C) Might D) Would

16. **Amy** : Where does your aunt live?
Burak : She lives ----- Turkey.

- A) at B) in
C) on D) to

17. He saw his friends ----- he was at the cinema.

- A) while B) which
C) after D) so

18. **Alex** : Why do you like dogs?
Bill : ----- they are friendly.

- A) After B) Before
C) When D) Because

19. Why don't you ----- her?

- A) helps B) help
C) helping D) helped

20. If I were rich, I ----- buy the most expensive car.

- A) can B) will
C) would D) should

(735) ALMANCA – 7

1-20. sorularda boş bırakılan yere uygun gelen ek, kelime ya da ifadeyi işaretleyiniz.

1. **A:** Hast du ----- Auto?

B: Nein, ich habe ----- Auto.

- A) ein / kein B) eine / keine
C) einen / keinen D) einen / keiner

2. **A:** Wie geht es --- Frau Müller?

B: Es geht ihr gut.

- A) das B) die C) der D) den

3. **A:** Für wen ist ----- Tee?

B: Für dich.

- A) dieses B) diese C) dies D) dieser

4. **Ali hat ----- 10. Februar Geburtstag.**

- A) um B) am C) im D) zur

5. **Ich gratuliere ----- zum Geburtstag, Herr Yılmaz.**

- A) Ihnen B) ihr C) ihm D) ihre

6. **Mehmet möchte Deutsch -----.**

- A) studiert B) studieren
C) studierte D) studierst

7. **Der Unterricht ----- um 9 Uhr.**

- A) beginnt B) beginnen
C) beginne D) beginnst

8. **Meine Mutter ----- immer im Supermarkt -----.**

- A) fahre / ab B) kauft / ein
C) kommt / aus D) ist / war

9. **Der Kühlschrank ist -----.**

- A) im Wohnzimmer B) im Schlafzimmer
C) in der Küche D) im Badezimmer

10. **Susanne und Petra ----- in Deutschland -----.**

- A) hat / gekommen B) will / sehen
C) wird / gegangen D) sind / geboren

11. **Kann ich ----- etwas fragen, Paul?**

- A) mich B) du C) dir D) dich

12. **A:** ----- geht sie?

B: Ins Kino.

- A) Wohin B) Wer
C) Wann D) Warum

2. OTURUM

13. Petra zieht - - - - schnell an.

- A) mein B) sich C) sein D) dein

14. Ich möchte ein- - - - - braun- - - - - Jacke.

- A) -e / -en B) -en / -e
C) -en / -en D) -e / -e

15. A: Was - - - - die Bananen?

B: Das Kilo - - - - 5,- Lira.

- A) kosten / kostet B) kosten / kosten
C) kostet / kostet D) kostet / kosten

16. Die Schule ist - - - - der Post.

- A) gegenüber B) zwischen
C) zu D) in

17. A: Vater, - - - - ich Computer spielen?

B: Nein, du - - - - nicht.

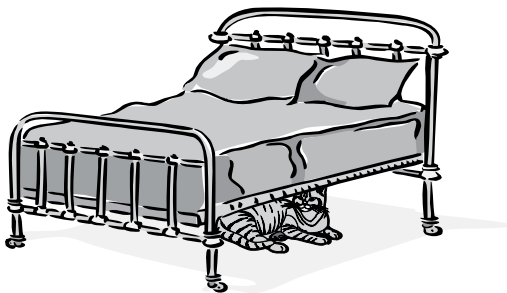
- A) kannst / kann B) muss / möchtest
C) darf / darfst D) will / mögest

18. A: Willst du - - - - Antalya fahren?

B: Ja, ich will.

- A) zum B) ins C) am D) nach

19.



Die Katze ist - - - - dem Bett.

- A) auf B) unter C) neben D) über

20. Das Buch liegt - - - - Schrank.

- A) im B) an C) ins D) ans

(735) FRANSIZCA – 7

1 - 15. sorularda boş bırakılan yere uygun gelen sözcük ya da ifadeyi işaretleyiniz.

1. - - - - portes souvent des costumes noirs.

- A) Vous B) Je
C) Tu D) Nous

2. - - - - tu te lèves dans la semaine ?

- A) Quelle
B) Combien
C) À quelle heure
D) Parce que

3. Mme Martin : Vous avez une brochure d'informations ?

Employé : Non madame, nous n'avons - - - - brochure d'informations.

- A) des B) de
C) les D) la

4. Mon fils veut être acteur ou avocat - - - - il aime bien parler.

- A) pourquoi
B) comment
C) quand
D) parce que (qu')

5. Il a faim ; il - - - - manger un sandwich au fromage.

- A) vas B) aller
C) vont D) va

6. L'ascenseur ne marche pas, ma mère doit monter chez elle - - - - .

- A) en bus B) à vélo
C) à pied D) en avion

2. OTURUM

7. Mon oncle vit - - - - Tokyo - - - - Japon.

- A) à / au B) à / en
C) en / à D) en / aux

8. Max : Tu vois le chat noir du voisin ?

Luc : Oui, je - - - - vois. Comme il est gros !

- A) la B) le
C) des D) les

9. Asya : Qu'est-ce qu'elle fait dans la vie ?

Eric : - - - -.

- A) Elle est à côté du tableau blanc
B) Elle est en avance
C) Elle est dans la salle d'attente
D) Elle est infirmière

10. Ce matin, nous sommes - - - - au marché.

- A) allées B) aller
C) allé D) allée

11. Nous avons fait - - - - en bateau sur la Mer Noire.

- A) un vélo B) un tour
C) une rue D) un carrefour

12. Colette : Thomas, je n'ai plus de poulet, tu peux aller - - - - ?

Thomas : D'accord, il faut autre chose ?

Colette : Oui, un kilo de viande hachée.

- A) au café
B) à la bijouterie
C) à la boucherie
D) à la mairie

13. Le fils de ma tante est - - - -.

- A) mon oncle B) ma sœur
C) mon cousin D) mon frère

14. Émilie : C'est la voiture de Jacques ?

Jeanne : Oui, c'est - - - - voiture.

- A) votre B) sa
C) ta D) son

15. Deux bouteilles d'eau, s'il vous plaît ! Je vous dois - - - - ?

- A) combien B) comme
C) rien D) personne

16 - 20. soruları resimleri dikkate alarak cevaplayınız.


16.



Il a - - - - et il porte - - - -.

- A) les cheveux longs / des lunettes de soleil
B) les cheveux courts / des baskets
C) les grands yeux / une cravate rayée
D) un gros nez / une casquette

17.



Il est - - - -.

- A) mécanicien B) avocat
C) médecin D) infirmier

18.




Cette année, Monique partira - - - - en janvier.

- A) faire de la plongée
B) faire du ski
C) faire du cheval
D) faire de la marche à pied

2. OTURUM

19.



Les élèves déjeunent - - - - à la cantine.

- A) à midi moins le quart
- B) à midi et demi
- C) à midi et quart
- D) à midi

20.



Selon la météo, il - - - - le week-end prochain à Istanbul.

- A) y aura de la neige
- B) y aura du vent
- C) fera chaud
- D) fera du soleil

(736) DİN KÜL. VE AHLAK BİLGİSİ – 7

1. • Manevi varlıklardır.
• Nurdan yaratılmışlardır.
• Günah işlemezler.
• Yeme, içme ve uyuma gibi şeylere ihtiyaç duymazlar.

Bazı özellikleri verilen varlık aşağıdakilerden hangisidir?

- A) İnsan B) Şeytan C) Cin D) Melek

2. Ölümünden sonra insanların tekrar dirilmesiyle başlayan ve sonsuz olarak devam edecek olan hayata denir.

Tanımlanan kavram aşağıdakilerden hangisidir?

- A) Berzah B) Mahşer C) Ahiret D) Kıyamet

3. Tabloda "Din" ve "Din Anlayışı" hakkında verilen bilgilerden hangisi yanlıştır?

	Din	Din Anlayışı
A)	Vahye dayanır	Vahyin yorumuna dayanır
B)	Tektir	Birden çok olabilir
C)	Değişmez	Değişebilir
D)	Yereldir	Evrenseldir

4. "De ki: İnsanların kalplerine vesvese soğan, pusuya çekilen cin ve insan şeytanın şerrinden insanların Rabb'ine, insanların Melikine, insanların İlahına sığınırım!"

Meali verilen sure aşağıdakilerden hangisidir?

- A) Felak B) Nâs C) Nasr D) Mâün

5. "Kim zerre miktarı hayır işlemişse onu görür. Kim de zerre miktarı kötülük işlemişse onu görür."
(Zilzal suresi, 7-8.ayetler)

Bu ayet aşağıdaki kavramlardan hangisi ile ilişkilidir?

- A) Adalet B) İlim
C) Yaratma D) Merhamet

6. Bir kişinin Allah'ın rızasını kazanmak için ramazanın son on gününde ibadet niyetiyle bir mescitte kalmasına, beklemesine denir.

Tanımlanan ibadet aşağıdakilerden hangisidir?

- A) Zikir B) İtikâf C) Oruç D) Riyazet

7. Kadir gecesi aşağıdaki hicri ayların hangisi içerisinde yer alır?

- A) Recep B) Şaban
C) Ramazan D) Şevval

8. • Vaciptir.
• Kişi başına verilir.
• Ramazan ayının sonuna yetişen yeterli miktarda mala sahip Müslüman verir.

Bazı özellikleri verilen ibadet aşağıdakilerden hangisidir?

- A) Zekât B) Fıtır sadakası
C) Fidyeye D) Sadaka-i Cârîye

2. OTURUM

9. Aşağıdakilerden hangisi orucu bozan durumlardandır?

- A) Göze ilaç damlatmak B) Banyo yapmak
C) İlaç yutmak D) Kan vermek

10. "Sayılı günlerde olmak üzere oruç size farz kılındı. Sizden kim hasta olur veya yolculuk halinde bulunursa tutamadığı gün sayısınca başka günlerde oruç tutar. Oruç tutmaya güçleri yetmeyenlere bir fakiri doyuracak fidye gerekir."

(Bakara suresi, 184.ayet)

Bu ayette aşağıdakilerden hangisine değinilmemiştir?

- A) Oruç tutmak için niyet edilmelidir.
B) Farz olan oruç belirli günlerde tutulur.
C) Yolculara tutup tutmama konusunda kolaylık vardır.
D) Çeşitli sebeplerle tutulamayan oruç başka günlerde kaza edilir.

11. Benim insanlarla durumum şuna benzer: Adamın biri ateş yakmış. Ateş etrafı aydınlatınca, pervaneler (gece kelekleri) ve böcekler ateşe atlamaya başlamışlar o adam onları kurtarmaya (engel olmaya) çalıştıkça başa çıkamamış. Kelebekler ve böcekler ateşe atlamaya devam etmişler. Ben de (tıpkı o adam gibi) sizi tutarak ateşe düşmekten korumaya çalışıyorum. Sizler ise ateşe atlıyorsunuz.

Bu hadiste Hz. Peygamber'in hangi yönü vurgulanmaktadır?

- A) Müjdeleyici olması
B) Son peygamber oluşu
C) İnsanlığa rahmet oluşu
D) Vahiy alması

12. I. İnsanlık için uyarıcı olması
II. Aldığı vahiyleri açıklaması
III. Ev işlerine yardım etmesi
IV. Ticaret yapması

Bunlardan hangileri Hz. Peygamber'in insani yönüyle ilgilidir?

- A) I ve II. B) I ve IV.
C) II ve III. D) III ve IV.

13. Aşağıdakilerden hangisi Hz. Peygamber'le ilgili yanlış bir bilgidir?

- A) Kur'an-ı açıklayıcıdır.
B) Peygamberlerin ilkidir.
C) İnsanlık için bir uyarıcıdır.
D) Güzel ahlakın tamamlayıcısıdır.

14. "(Ey Muhammed!) De ki: Ben de ancak sizin gibi bir insanım. Ancak bana ilahınızın tek bir ilah olduğu vahyolunuyor..."
(Kehf suresi, 110.ayet)

Bu ayete göre Hz. Peygamber'i diğer insanlardan ayıran en önemli özellik aşağıdakilerden hangisidir?

- A) İbadet etmesi B) Merhameti
C) Adaleti D) Vahiy alması

15. Hurafe gerçek olmadığı halde sonradan uydurulan, esaslı olmayan ve dinde varmış gibi kabul edilen inançlardır.

Buna göre aşağıdakilerden hangisi hurafe kapsamında değerlendirilemez?

- A) Ölülerin arkasından dua etmek
B) Türbelerden medet ummak
C) Falcılık yapmak
D) Ruh çağırma

16. Tabloda verilen eşleştirmelerden hangisi yanlıştır?

	Mezhepler	Mezhep Kurucuları
A)	Caferilik	Cafer-i Sadık
B)	Hanbelilik	Malik bin Enes
C)	Şafilik	İmam Şafii
D)	Hanefilik	Ebu Hanife

17. Allah'ın rızasını kazanmak amacıyla ihtiyaç sahiplerine ödünç para, mal vb. şeyler vermektir.

Tanımlanan kavram aşağıdakilerden hangisidir?

- A) İhsan B) İnfak
C) Karz-ı Hasen D) Sadaka-i Cariye

2. OTURUM

18. Türkçemizde dini anlam içeren kelimeler çoktur. Örneğin "alinyazısı", Türkçe bir kelime olup kaderi anlatır. Hasta ziyaretinde "Allah şifalar versin.", yolculuğa çıkarken "Allah'a ısmarladık.", ölen birinin hakkında konuşurken ise "Mekânı cennet olsun." deriz.

Bu metin aşağıdaki konu başlıklarından hangisiyle ilgilidir?

- A) Dildeki Dini Motifler
- B) Musikideki Dini Motifler
- C) Mimarideki Dini Motifler
- D) Pozitif bilimlerdeki Dini Motifler

19. "- - - sana darılan, seninle ilişkiyi kesen kimse ile barışmandır, sana vermeyene vermendir, sana eziyet edeni hoş görüp bağışlamandır."

Bu hadisteki tanıma göre boş bırakılan yere aşağıdaki kavramlardan hangisi getirilmelidir?

- A) İbadet
- B) Güzel ahlak
- C) İman
- D) Adalet

20. Alevilikte cemi yöneten kişi aşağıdakilerden hangisidir?

- A) Zâkir
- B) Dede
- C) Peyikçi
- D) Çerağcı

(830) TÜRKÇE – 8

1. İnsan en üzücü olayları bile unutuyor.

Bu cümledeki "üzücü" sözcüğünün anlamca karşısı aşağıdakilerin hangisinde vardır?

- A) Filmin son sahnesi çok acıklıydı.
- B) Çocuklarımıza iyi bir eğitim vermeliyiz.
- C) Yemekten sonra canım tatlı çektii.
- D) Öğle vakti sevinçli bir haber aldık.

2. Aşağıdaki cümlelerin hangisinde gereksiz sözcük kullanıldığı için anlatım bozukluğu vardır?

- A) En güzel, en dayanıklı masayı biz almıştık.
- B) Sırtındaki ağır yükü dikkatlice yere bıraktı.
- C) İnsan yanlışlarıyla ve hatalarıyla olgunlaşır.
- D) Ben, havuzda yüzmeyi daha çok seviyorum

3. Aşağıdakilerin hangisinde "dolaşmak" sözcüğünün cümlede kazandığı anlam ayrıç içinde yanlış verilmiştir?

- A) Gazeteci, özel izinle kazı alanını dolaştı. (Dönüp başka bir yönden gitmek)
- B) Göle attığımız oltalar dolaştı. (Saç, iplik vb. şeylerin birbirine karışarak çözülmesi güç duruma gelmek)
- C) Hepimizin damarlarında asil bir kan dolaşıyor. (Akmak)
- D) Bu yol biraz dolaşır, öbür yoldan gidin. (Doğru gitmeyip yolu uzatmak)

4. (1) Bir martı, mavi gökyüzünde tek başına uçuyordu. (2) Otuz metre yükseklikte kanat çırpıyordu. (3) Bazen de kendisini rüzgâra bırakıp tatlı tatlı süzülüyordu. (4) Sonra bir balıkçı teknesinin güvertesine kondu.

Bu parçada numaralanmış cümlelerden hangisi öznel bir yargı içermektedir?

- A) 1.
- B) 2.
- C) 3.
- D) 4.

5. Aynı pencereden aynı anda dışarı bakan iki insandan biri sokaktaki çamuru, diğeri ise gökteki yıldızları görür.

Aşağıdakilerden hangisi bu cümleye anlamca en yakındır?

- A) Çevremizi keşfetmek için iyi bir gözlemci olmayız.
- B) İnsanlar, hayatın çirkin taraflarını görmek istemez.
- C) İnsan, doğada aradığı her şeyi bulabilir.
- D) Hayatın farklı görünmesini sağlayan, insanların bakış açısidir.

6. Anlaşma aracımız olan dilin, çocukluk dönemlerinde daha çok geliştiği dikkate alınacak olursa çocuk edebiyatının önemi daha iyi anlaşılır. Sadece çocuğun kelime hazinesi gelişmekle kalmaz. Okuduğu her kitap, çocuğun doğru cümle kurmasını ve kendisini daha iyi ifade etmesini de sağlar.

Bu metnin konusu aşağıdakilerden hangisidir?

- A) Çocukların dil gelişimine çocuk edebiyatının katkısı
- B) Çocukluk çağındaki kişilik gelişimi
- C) Çocuk edebiyatının çocukların hayal dünyasına etkisi
- D) Çocuklara kitap seçmenin zorluğu

2. OTURUM

7. Deniz gerçekten harikaydı. Her tarafta çeşit çeşit, rengârenk canlılar vardı. Buradaki her şey küçük balık Meraklı'yı büyülemişti. Meraklı, evinin yolunu kaybetmiş olmanın hüznünü birazcık da olsa unutmuştu. İleride bir mağara gördü. Sanki bu mağarayı hatırlıyordu. Oynamak için arkadaşlarıyla geldiği mağaraya benziyordu. Hızla o yöne yüzmeye başladı.

Bu parçada, aşağıdaki hikâye unsurlarından hangisi yoktur?

- A) Yer B) Zaman C) Kişi D) Olay

8. Aşağıdakilerden hangisi deneme türünün özelliklerinden değildir?

- A) Düşünceler bir konuşma havası içinde anlatılır.
B) Her konuda yazılabilir.
C) Öğretici ve düşünsel yönler içerir.
D) İleri sürülen düşünceler kanıtlanır.

9. Yazar son kitabı olan "Yağmur Şarkısı"nda iki gencin üniversite sonrası hayat mücadelesini anlatıyor. Her ne kadar, yaşamın içinden bir konu olsa da hiç yaşanmamış veya yaşanması pek mümkün değilmiş gibi bir his uyandırıyor insanda. Oysaki yazarın dili kullanma becerisi iyi. Dilindeki pürüzleri ayıklayabilmiş. Ama bu yapaylığı ortaya çıkaran bir kurgu sorunu var.

Bu metin aşağıdaki yazı türlerinden hangisine aittir?

- A) Biyografi B) Hikâye
C) Makale D) Eleştiri

10. (1) İnsanların şehir hayatı içinde sürekli koşuşturması strese neden olur. (2) Stres, insanlar üzerinde ruhsal gerginliğe yol açar. (3) Stresten kurtulmak için önce bu gerginliğin farkında olmak gerekir. (4) Sonra da işimizle özel hayatımızı planlamaya çalışmalıyız. (5) Ayrıca hayattaki ufak tefek sorunları da kafaya takmamalıyız.

Bu metinde numaralanmış cümlelerin hangisinden başlanarak ele alınan soruna çözüm yolları önerilmiştir?

- A) 2. B) 3. C) 4. D) 5.

11. Rus çarlarından birine engebeli, dağlık, zorlu iki mesafe arasında bir demir yolu yapılacağını söylemişler ve fikrini sormuşlar. Çar, haritayı önüne çekmiş; bir cetvel almış ve iki nokta arasında düz bir çizgi çizmiş. "Böyle yapın!" demiş. Tabi ki bunu gerçekleştirememişler. Planlar yapmak, emirler vermek zor bir şey değildir. Bunu herkes yapabilir. Önemli olan - - - -

Bu parça aşağıdakilerden hangisiyle tamamlanırsa ana düşüncesi belirtilmiş olur?

- A) karşınızdakilerin fikirlerine saygı göstermektir.
B) yapılacak iş için doğru araçları seçmektir.
C) yapılan planların gerçeğe uygun olmasıdır.
D) insanın, işini ciddiye alarak çalışmasıdır.

12. Sabahattin Kudret Aksal 1920'de İstanbul'da doğdu. Üniversitede öğretim üyesi, konservatuvar ve opera müdürlüğü yaptı. İlk şiiri 1938'de Varlık dergisinde, ilk öyküsü 1940'ta Küllük dergisinde çıktı. Şiirlerinde gündelik yaşamın sevinç ve umutlarını dile getirdi. Öykü ve oyunlarında ise aile bireyleri arasındaki çatışmaları konu edindi.

Bu metinde Sabahattin Kudret Aksal'la ilgili aşağıdakilerden hangisine değinilmemiştir?

- A) Eğitim gördüğü okullara
B) Eserlerinde işlediği konulara
C) Meslek hayatına
D) Hangi türlerde eser verdiğine

13. Lokum, ilk zamanlar un, pekmez veya balla yapılırmış. 18. yüzyıl sonlarında Avrupa'da üretilen şekerin Türk mutfağına girmesi ve 1811'de Alman bir bilgin tarafından nişastanın bulunmasıyla lokumun hem tadında hem de yapılışında bazı değişiklikler olmuş. Günümüzde lokumlar; şeker, su, nişasta, sitrik asit, aroma ve renklendiricilerden oluşan bir karışımdan üretiliyor.

Bu parçanın anlatım biçimi aşağıdakilerden hangisidir?

- A) Betimleyici B) Açıklayıcı
C) Tartışmacı D) Öyküleyici

2. OTURUM

14. Aşağıdaki dizelerin hangisinde ünsüz yumuşaması vardır?

- A) Bebelere tek dileğim
Yaşını aşmak ninemin
- B) Hiç dinmiyor motorların gürültüsü
Köpekler havlıyor uzaktan
- C) Ne varsa gözlerindedir
Günüm güneşim
- D) Ufkum puslu karanlık
Tayfa çığlıklarıyla dolu

15. Aşağıdaki cümlelerin hangisinde birleşik zamanlı bir fiil vardır?

- A) İnsanlar bu şairin kıymetini sonunda anlayacak.
- B) Onu son gördüğümde durumu gayet iyiydi.
- C) Camın önündeki çiçeklerle sadece ben ilgileniyordum.
- D) Arkadaşım, yaz tatilinde okuyacağı kitapları listelemiş.

16. Aşağıdaki cümlelerin hangisinde noktalama yanlışı yapılmıştır?

- A) Ağaçları, çiçekleri, kuşları; herkes çok sevmeli.
- B) Çanakkale'ye yaptığımız geziden sonra tarihe bakışım değişti.
- C) Şimdi de bu zeki (!) arkadaşımızın fikirlerini dinleyelim.
- D) Çin-Rusya basketbol maçı gerçekten çok zevkli geçti.

17. Ramazanda, orta oyunu İstanbul'un her semtinde oynanırdı.

Bu cümlelerin öge dizilişi aşağıdakilerin hangisinde verilmiştir?

- A) Özne – Zarf tümleci – Yüklem
- B) Zarf tümleci – Özne – Dolaylı tümleç – Yüklem
- C) Dolaylı tümleç – Nesne – Zarf tümleci – Yüklem
- D) Zarf tümleci –Yüklem – Dolaylı tümleç

18. Aşağıdaki cümlelerin hangisinde eylem farklı bir kiple çekimlenmiştir?

- A) Misafirlik gündelik hayatımıza renk katar.
- B) Bayramı çocuklarla birlikte burada geçirelim.
- C) Kardeşim sahnede ustaca bir oyun sergiledi.
- D) Muhsin Çelebi, kaftanı sırtından çıkarıp tahtın önüne sermiş.

19. Aşağıdaki cümlelerin hangisinde eylem edilgendir?

- A) Kargoya verilmeden önce kutular tartıldı.
- B) Sıra bana gelince evrakları hemen uzattım.
- C) Kardeşim sokakta yine biriyle kapışmış.
- D) Doğum günümde bana kitap hediye etti.

20. Aşağıdakilerin hangisinde zarf-fiil cümleye farklı bir anlam katmıştır?

- A) Ben uyurken onlar işleri bitirmişler.
- B) Sana kitap getireceğimi seni görünce hatırladım.
- C) Evimiz yapıldığında buradan taşınacağız.
- D) İsmail, karşı kıyıya yüzerek gitmiş.

(831) MATEMATİK – 8

1. Aşağıdaki çarpma işlemlerinden hangisinin sonucu 2^{-5} sayısına eşittir?

- A) $\frac{1}{2} \cdot \frac{1}{8}$
- B) $\frac{1}{4} \cdot \frac{1}{16}$
- C) $\frac{1}{4} \cdot \frac{1}{8}$
- D) $\frac{1}{2} \cdot \frac{1}{5}$

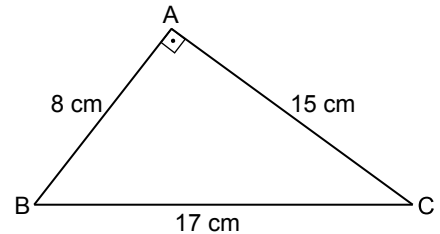
2. 4^{100} sayısının yarısı kaçtır?

- A) 2^{50}
- B) 4^{50}
- C) 4^{99}
- D) 2^{199}

3. $\sqrt{15}$ sayısı aşağıdaki hangi iki tam sayı arasındadır?

- A) 3 ve 4
- B) 4 ve 5
- C) 10 ve 12
- D) 14 ve 16

4.



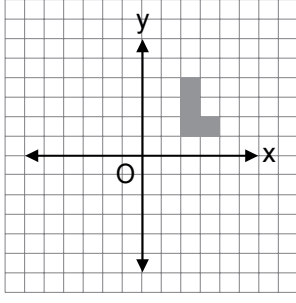
Şekildeki ABC üçgeninde $[AB] \perp [AC]$ 'tir.

$|AB| = 8 \text{ cm}$, $|AC| = 15 \text{ cm}$ ve $|BC| = 17 \text{ cm}$ olduğuna göre aşağıdakilerden hangisi yanlıştır?

- A) $\sin \widehat{B} = \frac{15}{17}$
- B) $\cos \widehat{B} = \frac{17}{15}$
- C) $\tan \widehat{C} = \frac{8}{15}$
- D) $\cot \widehat{C} = \frac{15}{8}$

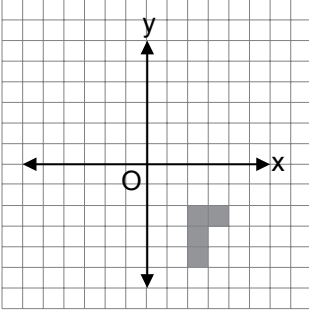
2. OTURUM

5.

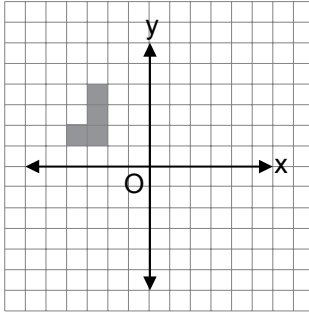


Yukarıdaki koordinat düzleminde verilen çokgenin x eksenine göre yansıması aşağıdakilerden hangisidir?

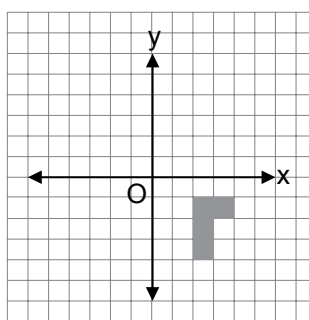
A)



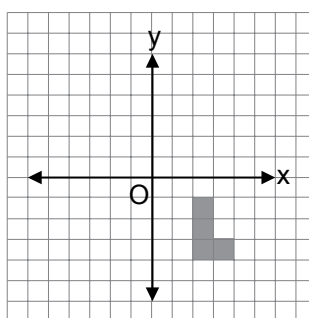
B)



C)



D)



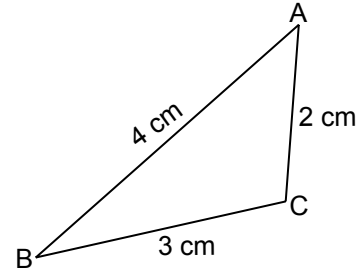
6. $\sqrt{180} - \sqrt{125}$ işleminin sonucu kaçtır?

- A) $\sqrt{5}$ B) $5\sqrt{5}$ C) $7\sqrt{5}$ D) $11\sqrt{5}$

7. Aşağıdakilerden hangisi rasyonel sayı değildir?

- A) $\sqrt{16}$ B) $\sqrt{0,01}$ C) $\sqrt{12}$ D) $\sqrt{\frac{1}{25}}$

8.



Şekilde verilenlere göre ABC üçgeninin açıları'nın ölçüleri aşağıdakilerden hangisinde doğru sıralanmıştır?

- A) $m(\widehat{B}) > m(\widehat{A}) > m(\widehat{C})$
 B) $m(\widehat{C}) > m(\widehat{A}) > m(\widehat{B})$
 C) $m(\widehat{A}) > m(\widehat{B}) > m(\widehat{C})$
 D) $m(\widehat{C}) > m(\widehat{B}) > m(\widehat{A})$

9. Taban alanı 36 cm^2 olan kare dik piramidin yüksekliği 7 santimetredir.

Bu piramidin hacmi kaç santimetreküptür?

- A) 84 B) 226 C) 242 D) 756

10. Aşağıdaki cisimlerden hangisinin bir düzlemle arakesiti daire olamaz?

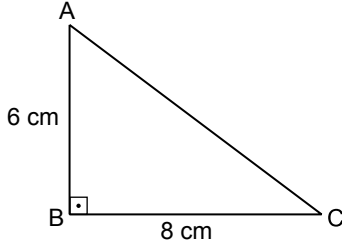
- A) Koni B) Küre
 C) Silindir D) Kare piramit

11. Her bir ayrıntının uzunluğu 4 cm olan bir üçgen dik piramidin yüzey alanı kaç santimetrekaredir?

- A) $8\sqrt{3}$ B) $12\sqrt{3}$ C) $16\sqrt{3}$ D) $20\sqrt{3}$

2. OTURUM

12.



Şekildeki ABC üçgeninde $[AB] \perp [BC]$ 'tir.

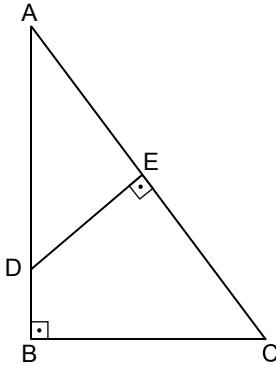
$|AB| = 6 \text{ cm}$ ve $|BC| = 8 \text{ cm}$ olduğuna göre $|AC|$ kaç santimetredir?

- A) 10 B) 12 C) 14 D) 16

13. 25 futbolcu arasından sahaya çıkacak 11 futbolcu kaç farklı şekilde seçilebilir?

- A) $\frac{25!}{11!}$ B) $\frac{25!}{14!}$
C) $\frac{25!}{14 \cdot 11}$ D) $\frac{25!}{14! \cdot 11!}$

14.



Şekildeki ABC ve AED üçgenlerinde $[AB] \perp [BC]$ ve $[DE] \perp [AC]$ 'tir.

$|AB| = 12 \text{ cm}$, $|BC| = 8 \text{ cm}$ ve $|DE| = 4 \text{ cm}$ olduğuna göre $|AE|$ kaç santimetredir?

- A) 4 B) 6 C) 8 D) 10

15. Bir torbada renkleri dışında özdeş 7 kırmızı 5 mavi top bulunmaktadır.

Torbadan art arda rastgele alınan 2 topun da kırmızı olma olasılığı kaçtır?

- A) $\frac{19}{144}$ B) $\frac{25}{144}$ C) $\frac{7}{22}$ D) $\frac{5}{22}$

16. $7x - 14y + 21 = 0$ denklemi ile belirtilen doğrunun eğimi kaçtır?

- A) -2 B) $-\frac{3}{2}$ C) $\frac{1}{2}$ D) 2

17. a, 8, b, 16 sayıları aritmetik bir dizinin ardışık dört terimi olduğuna göre $b - a$ kaçtır?

- A) 4 B) 8 C) 12 D) 16

18. Aşağıda verilen denklemlerden hangisi bir özdeşliktir?

- A) $\frac{x}{4} = 3$
B) $x + 3 = -x + 3$
C) $3(x + 2) = x$
D) $2(x - 3) = 2x - 6$

19. $\left. \begin{array}{l} x + y = 15 \\ x - y = 1 \end{array} \right\}$ denklem sistemini sağlayan x değeri kaçtır?

- A) 7 B) 8 C) 14 D) 15

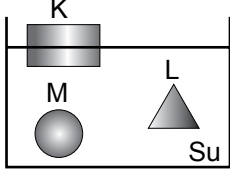
20. $2x - 6 \leq 0$ eşitsizliğinin çözümü aşağıdakilerden hangisinde koyu çizgi ile gösterilmiştir?

- A)
B)
C)
D)

2. OTURUM

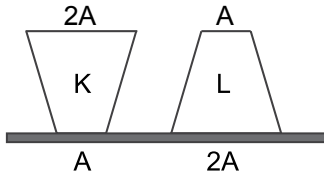
(832) FEN VE TEKNOLOJİ – 8

1. Şekilde K, L ve M cisimlerinin su içindeki denge konumları verilmiştir.



Bu cisimlerin yoğunluklarına göre sıralanması aşağıdakilerden hangisidir?

- A) $d_M > d_L > d_K$ B) $d_K > d_L > d_M$
C) $d_L = d_M = d_K$ D) $d_M = d_L > d_K$
2. Hava ortamına bırakılan içi helyum dolu uçan balona etki eden kaldırma kuvveti aşağıdakilerden hangilerine bağlıdır?
- I. Balonun hacmine
II. Havanın yoğunluğuna
III. Balona etki eden yer çekimi kuvvetine
- A) Yalnız I B) Yalnız III C) I ve II D) I, II ve III
3. Farklı ağırlıkta K ve L cisimleri şekildeki gibi yatay zemine bırakılıyor.



Cisimlerin yere uyguladıkları basınçlar eşit olduğuna göre aşağıdakilerden hangisi söylenemez?

- A) K'nın ağırlığı L'nin ağırlığından küçüktür.
B) K cismi ters çevrilerek yere konulursa basıncı azalır.
C) L cismi ters çevrilerek yere konulursa basıncı artar.
D) L'nin yere uyguladığı kuvvet K'ninkinden küçüktür.
4. Aşağıdakilerden hangisi yapay ses kaynağıdır?
- A) Rüzgâr B) Şimşek
C) Müzik aleti D) Hayvan

5. Frekans ile ilgili aşağıda verilen bilgilerden hangisi doğrudur?

- A) Sesin yüksekliği frekansına bağlıdır.
B) Salınım sayısı arttıkça frekans azalır.
C) Frekans azaldıkça ses inceler.
D) Frekans birimi desibeldir.

6. Elektromıknatıslar elektrik akımının hangi etkisinden yararlanarak yapılır?

- A) Hareket etkisi B) Manyetik etkisi
C) Isı etkisi D) Işık etkisi

7. 1200 W'lık elektrikli su ısıtıcı günde 2 saat çalıştırıldığında harcanan elektrik enerjisi kaç kWh'tir?

- A) 2,4 B) 24 C) 120 D) 240

8. Aşağıdakilerden hangisi deprem anında yapılabilecek uygulamalardandır?

- A) Yerleşim yerlerinin fay kuşakları üzerine kurulması
B) Merdiven veya apartman boşluklarından uzak durulması
C) Deprem konusunda halkın bilinçlendirilmesi
D) İlk yardım hakkında bilgi edinilmesi

9. Aşağıdakilerden hangisi yer kabuğunun şeklini değiştiren iç etmenlerdendir?

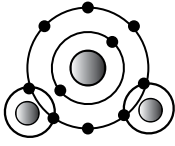
- A) Levhaların hareketi
B) Canlıların etkisi
C) Havanın etkisi
D) Suyun etkisi

10. Atom numarası 11 olan sodyum elementinin periyodik tablodaki yeri aşağıdakilerden hangisinde doğru verilmiştir?

- A) 1. periyot 3.grup
B) 2. periyot 3. grup
C) 3. periyot 1. grup
D) 3. periyot 2. grup

2. OTURUM

11. Şekilde suyun oluşum modeli verilmiştir.



Bu modele göre aşağıdakilerden hangisi yanlıştır?

- A) Oksijen ve hidrojen atomları elektronlarını ortaklaşa kullanmıştır.
B) Hidrojen ve oksijen atomları metal özelliği göstermiştir.
C) Oluşan bileşiğin formülü H_2O 'dur.
D) Hidrojen ve oksijen atomları arasında kovalent bağ oluşmuştur.

12. Kalsiyum oksit bileşiğinin formülü aşağıdakilerden hangisinde doğru verilmiştir?

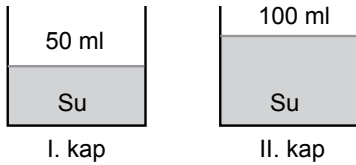
- A) $CaCl_2$ B) CaO C) $Ca(OH)_2$ D) CaC_2

13. $2Mg + O_2 \rightarrow 2MgO$

Verilen tepkime denklemleri ile ilgili olarak aşağıdakilerden hangisi doğrudur?

- A) Tepkimeye giren maddelerin toplam atom sayısı 2'dir.
B) Oluşan bileşiklerdeki toplam atom sayısı 3'tür.
C) Yanma tepkimesidir.
D) Nötrleşme tepkimesidir.

14. Bir deneyde şekildeki özdeş kaplarda sıcaklıkları $10^\circ C$ olan kütleleri farklı sular bulunmaktadır. Kaplardaki sular özdeş ısıtıcılarla eşit süre ısıtılıyor.



Bu deneyde aşağıdakilerden hangisi gözlemlenebilir?

- A) Her iki kaptaki suda sıcaklık artışının eşit olduğu
B) I. kaptaki suyun daha önce kaynamaya başladığı
C) II. kaptaki suyun daha yüksek sıcaklıkta kaynamaya başladığı
D) I. kaptaki su kaynamaya başladığında II. kaptaki suyun kaynatarak tamamen gaz hâle geçtiği

15. $0^\circ C$ 'ta 400 g buz $0^\circ C$ 'ta su hâline getirmek için gereken ısı miktarı kaç kaloridir? (Buzun erime ısısı = 80 cal / g)

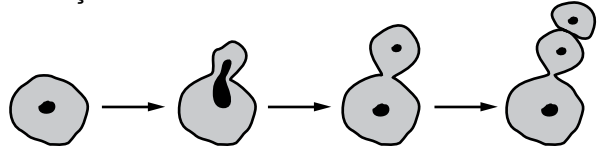
- A) 20 B) 50 C) 1200 D) 32000

16. Canlıların yaşama şanslarını artıran çevre şartlarına uygun kalıtsal özelliklere sahip olmasına adaptasyon denir.

Aşağıdakilerden hangisi bu duruma örnek olarak verilemez?

- A) Bir insanın yazın güneşte ten renginin koyulaşması
B) Kutup tilkisinin küçük kulaklı ve kısa bacaklı olması
C) Bitkilerde yaprakların güneş ışığı alacak şekilde dizilmesi
D) Bukalemunun bulunduğu ortama göre renk değiştirmesi

17. Şekilde bira mayasındaki üreme aşamaları gösterilmiştir.



Bu üreme biçimi aşağıdakilerden hangisidir?

- A) Bölünerek üreme
B) Vejetatif üreme
C) Yenilenmeyle üreme
D) Tomurcuklanarak üreme

18. Aşağıdakilerden hangisi insanda eşey üreme hücresindeki kromozom sayısını ifade eder?

- A) $n = 23$ B) $2n = 23$ C) $n = 46$ D) $2n = 46$

19. Fotosentez olayının gerçekleşmesi için aşağıdakilerden hangisi gerekli değildir?

- A) Işık B) Su
C) Oksijen D) Karbondioksit

20. Aşağıdakilerden hangisi biyokütle enerjisi kaynağı olarak kullanılır?

- A) Termal kaynaklar
B) Nükleer atıklar
C) Fosil yakacaklar
D) Bitkisel ve hayvansal atıklar

TEST BİTTİ.

CEVAPLARINIZI KONTROL EDİNİZ.

CEVAP KÂĞIDI VE SORU KİTAPÇIĞI İLE İLGİLİ AÇIKLAMALAR

1. Cevap kâğıdınızdaki bilgilerin doğruluğunu kontrol ediniz ve cevap kâğıdınızı mürekkepli kalemle imzalayınız.
2. Cevap kâğıdı üzerinde kodlamalarınızı siyah kurşun kalemle yapınız.
3. Değiştirmek istediğiniz bir cevabı, yumuşak silgiyle cevap kâğıdını örselemeden temizce siliniz ve yeni cevabınızı kodlayınız.
4. Soru kitapçığının sayfalarını görevlilerin uyarıları doğrultusunda kontrol ediniz, baskı hatası var ise değiştirilmesini sağlayınız.
5. Soruların çözümü için size ayrıca boş kâğıt verilmeyecektir. Soru kitapçığının içindeki boş alanları soru çözümleri için kullanabilirsiniz.
6. Her sorunun dört seçeneğinden sadece biri doğrudur. Doğru seçeneği, cevap kâğıdınızın ilgili sütununa soru numarasını dikkate alarak yuvarlağın dışına taşırmadan kodlayınız. Soru kitapçığı üzerinde yapılan cevaplandırmalar dikkate alınmayacaktır.
7. Cevaplamaya istediğiniz dersin sorusundan başlayabilirsiniz. Cevabını bilmediğiniz sorular üzerinde fazla zaman kaybetmeden diğer sorulara geçiniz. Zamanınız kalırsa bu sorulara daha sonra dönebilirsiniz.
8. Yanlış cevaplarınız dikkate alınmadan sadece doğru cevaplarınız üzerinden puanlama yapılacaktır.
9. Soruları ve sorulara verdiğiniz cevapları, yanınızda götürmek amacıyla kaydetmeyiniz; hiçbir şekilde dışarı çıkarmayınız.
10. Sınav bitiminde soru kitapçığı ve cevap kâğıdını salon görevlilerine teslim ediniz.

SALON GÖREVLİLERİNCE SINAV BAŞLAMADAN ÖNCE ADAYLARA YAPILACAK SON UYARILAR

- Soracağınız bir şey varsa şimdi sorunuz, sınav başladıktan sonra sorularınıza cevap verilmeyecektir.
- Başlama zilini bekleyiniz.

Hepinize başarılar dileriz.

(Salon başkanı başlama ve bitiş saatini tahtaya yazacaktır.)

Bu kitapçığın her hakkı saklıdır. Hangi amaçla olursa olsun, kitapçığın tamamının veya bir kısmının Millî Eğitim Bakanlığı Ölçme, Değerlendirme ve Sınav Hizmetleri Genel Müdürlüğünün yazılı izni olmadan kopya edilmesi, fotoğraflarının çekilmesi, bilgisayar ortamına alınması, herhangi bir yolla çoğaltılması, yayımlanması veya başka bir amaçla kullanılması yasaktır. Bu yasağa uymayanlar, doğabilecek cezai sorumluluğu ve kitapçığın hazırlanmasındaki mali külfeti peşinen kabullenmiş sayılır.

**01 TEMMUZ 2017 TARİHİNDE YAPILAN
AÇIK ÖĞRETİM ORTAOKULU 2016-2017 ÖĞRETİM YILI 3. DÖNEM SINAVI
2. OTURUM CEVAP ANAHTARI**

SOSYAL BİLGİLER – 5

1. C
2. A
3. A
4. D
5. A
6. B
7. D
8. A
9. B
10. D
11. B
12. D
13. C
14. B
15. D
16. C
17. A
18. C
19. A
20. A

ALMANCA – 5

1. C
2. B
3. A
4. D
5. B
6. D
7. C
8. B
9. A
10. D
11. C
12. B
13. D
14. A
15. C
16. B
17. A
18. D
19. C
20. A

**DİN KÜLTÜRÜ ve AHLAK
BİLGİSİ – 5**

1. C
2. A
3. B
4. D
5. B
6. A
7. D
8. D
9. B
10. D
11. C
12. B
13. A
14. C
15. B
16. A
17. D
18. C
19. B
20. A

MATEMATİK– 6

1. D
2. C
3. A
4. B
5. A
6. C
7. D
8. B
9. D
10. B
11. C
12. C
13. D
14. A
15. B
16. D
17. A
18. C
19. C
20. A

İNGİLİZCE – 5

1. C
2. B
3. B
4. A
5. C
6. A
7. B
8. A
9. B
10. D
11. D
12. C
13. D
14. A
15. B
16. D
17. A
18. C
19. B
20. D

FRANSIZCA – 5

1. C
2. D
3. C
4. B
5. B
6. A
7. C
8. D
9. D
10. B
11. C
12. A
13. B
14. D
15. C
16. A
17. D
18. B
19. C
20. A

TÜRKÇE – 6

1. D
2. C
3. D
4. A
5. C
6. C
7. D
8. B
9. A
10. B
11. B
12. C
13. D
14. C
15. B
16. A
17. B
18. D
19. A
20. A

FEN ve TEKNOLOJİ – 6

1. C
2. B
3. B
4. D
5. B
6. C
7. A
8. A
9. D
10. D
11. B
12. A
13. D
14. A
15. A
16. C
17. B
18. B
19. D
20. B

**01 TEMMUZ 2017 TARİHİNDE YAPILAN
AÇIK ÖĞRETİM ORTAOKULU 2016-2017 ÖĞRETİM YILI 3. DÖNEM SINAVI
2. OTURUM CEVAP ANAHTARI**

SOSYAL BİLGİLER – 7

1. B
2. A
3. D
4. B
5. C
6. A
7. A
8. B
9. C
10. B
11. C
12. A
13. D
14. D
15. B
16. C
17. C
18. B
19. C
20. A

ALMANCA –7

1. A
2. C
3. D
4. B
5. A
6. B
7. A
8. B
9. C
10. D
11. D
12. A
13. B
14. D
15. A
16. A
17. C
18. D
19. B
20. A

**DİN KÜLTÜRÜ ve AHLAK
BİLGİSİ. – 7**

1. D
2. C
3. D
4. B
5. A
6. B
7. C
8. B
9. C
10. A
11. C
12. D
13. B
14. D
15. A
16. B
17. C
18. A
19. B
20. B

MATEMATİK – 8

1. C
2. D
3. A
4. B
5. C
6. A
7. C
8. B
9. A
10. D
11. C
12. A
13. D
14. B
15. C
16. C
17. B
18. D
19. B
20. D

İNGİLİZCE – 7

1. A
2. A
3. D
4. B
5. C
6. A
7. D
8. C
9. A
10. B
11. D
12. D
13. C
14. A
15. D
16. B
17. A
18. D
19. B
20. C

FRANSIZCA– 7

1. C
2. C
3. B
4. D
5. D
6. C
7. A
8. B
9. D
10. A
11. B
12. C
13. C
14. B
15. A
16. D
17. A
18. B
19. C
20. A

TÜRKÇE – 8

1. D
2. C
3. A
4. C
5. D
6. A
7. B
8. D
9. D
10. B
11. C
12. A
13. B
14. A
15. C
16. A
17. B
18. B
19. A
20. D

FEN ve TEKNOLOJİ – 8

1. D
2. C
3. D
4. C
5. A
6. B
7. A
8. B
9. A
10. C
11. B
12. B
13. C
14. B
15. D
16. A
17. D
18. A
19. C
20. D