



**AÇIK ÖĞRETİM ORTAOKULU
2016 - 2017 ÖĞRETİM YILI
3. DÖNEM SINAVI**

0

01 TEMMUZ 2017

Saat: 09.30

1.
OTURUM

<u>DERSLER</u>	<u>SAYFA</u>	<u>DERSLER</u>	<u>SAYFA</u>
(550) TÜRKÇE – 5	2	(730) TÜRKÇE – 7	17
(551) MATEMATİK – 5	4	(731) MATEMATİK – 7	19
(552) FEN BİLİMLERİ – 5	6	(732) FEN VE TEKNOLOJİ – 7	22
(633) SOSYAL BİLGİLER – 6	9	(834) T.C. İNK. TAR. VE ATATÜRK. – 8	24
(634) İNGİLİZCE – 6	10	(835) İNGİLİZCE – 8	26
(634) ALMANCA – 6	12	(835) ALMANCA – 8	27
(634) FRANSIZCA – 6	13	(835) FRANSIZCA – 8	28
(635) DİN KÜL. VE AHLAK BİLGİSİ – 6	15	(836) DİN KÜL. VE AHLAK BİLGİSİ – 8	30

ADAYLARIN DİKKATİNE!

- Her ders için 20 soru bulunmaktadır. Bu oturumda **150** dakikalık cevaplama süreniz vardır. Sınav başladıktan sonra ilk **30** dakika tamamlanmadan dışarı çıkmayınız.
- Sınav sırasında çanta, cep telefonu, saat, kablosuz iletişim sağlayan cihazlar ve kulaklık, kolye, küpe, bilezik, yüzük, broş ve benzeri eşyalar ile her türlü elektronik ve/veya mekanik cihazları yanınızda bulundurmuyunuz. Bu araçları yanınızda bulundurmanız ve kopya çekmeye teşebbüs etmeniz hâlinde sınavınız geçersiz sayılacaktır.
- Başvuru şartlarını taşımadığınız hâlde sınava girmeniz, kopya çekmeniz, başka adayın sınav evrakını kullanmanız, geçerli kimlik belgenizi ve sınav giriş belgenizi ibraz edemediğiniz durumlarda sınavınız geçersiz sayılacaktır.
- Sınavın değerlendirilmesi aşamasında, bilgisayar ortamında yapılan kopya analizinde sistemin ikili ve/veya toplu kopya tespiti hâlinde sınavınız geçersiz sayılacaktır.
- Adaylar, sınav kurallarına ve salon görevlilerinin tüm uyarılarına uymak zorundadır. Kurallara ve uyarılara uymayan adayların sınavları geçersiz sayılacaktır.**
- Sınav başladıktan sonra adayların salon görevlileri ve birbirleri ile konuşmaları; kalem, silgi vb. şeyleri istemeleri yasaktır.
- Adaylar sınav süresince, sınav giriş belgesi ile geçerli kimlik belgelerinden birinin aslını (fotoğraflı nüfus cüzdanı, pasaport) masalarının üzerinde bulundurmamak zorundadır.
- Sınav evraklarını teslim etmeyen, soru kitapçıklarının sayfalarından bir kısmını eksik teslim edenlerin sınavları geçersiz sayılacaktır.**
- Sınav başlamadan önce kitapçığın arkasındaki açıklamaları okuyunuz.

BAŞLAYINIZ DENMEDEN SORU KİTAPÇIKLARINI AÇMAYINIZ.

1. OTURUM

(550) TÜRKÇE – 5

1. Evi bize kiralayacağını söylemişti ama nedense fikir değiştirdi.
- Altı çizili sözün bu cümleye kattığı anlam aşağıdakilerin hangisinde vardır?**
- A) Yaşadıklarını bana başka, sana başka anlatmış.
B) Köydeki bağ evini satmaktan son anda caydı.
C) Filmin gösterime gireceği günü ertelemişler.
D) İnsanlar artık birbirine yalan söylemekten çekinmiyor.
2. Bürodaki insanlar çabuk hareketlerle işlerini yetiştirmeye çalışıyorlardı.
- Altı çizili sözcüğün yerine aşağıdakilerden hangisi getirilirse cümlenin anlamında değişiklik olur?**
- A) seri
B) hızlı
C) hırslı
D) çevik
3. “Savurmak” sözcüğü aşağıdaki cümlelerin hangisinde mecaz anlamda kullanılmıştır?
- A) Üstü açık arabada rüzgâr saçlarını savuruyordu.
B) Çocuklar kutunun içindekileri sağa sola savurmuş.
C) Yeniçeri, elindeki kılıcı ustaca savurup düşmanını alt etti.
D) Ailesini düşünmedi, elindeki avucundaki her şeyi savurdu.
4. 1. Sıcakta kafamı yıkıyorum, dakika geçmeden saçlarım kuruyor.
2. İyi bakmadığı için bürodaki çiçeklerin hepsi kurudu.
3. Kuraklık nedeniyle Meke Gölü kurumuş.
4. Annemin astığı çamaşırlar akşama ancak kurur.
- “Kurumak” sözcüğü numaralanmış cümlelerin hangilerinde aynı anlamda kullanılmıştır?**
- A) 1 ve 3.
B) 1 ve 4.
C) 2 ve 3.
D) 2 ve 4.

5. Aşağıdaki cümlelerin hangisinde öznel bir anlatım vardır?

- A) Sonbahar geldiğinde bazı ağaçların yaprakları dökülüyor.
B) Fındık ve cevizin insan vücuduna birçok faydası var.
C) Tavuklar sevinç çıgıllıkları atarak ekmekleri kapşıyordu.
D) Sarı buğday başakları, rüzgâr estikçe dalgalanıyordu.

6. 1. o kadar fazla
2. ne kadar az
3. konuşurlar
4. insanlar
5. düşünürlerse

Numaralanmış sözlerle anlamlı ve kurallı bir cümle oluşturmak istense sıralama aşağıdakilerden hangisi olur?

- A) 4-3-1-2-5
B) 4-5-1-2-3
C) 4-2-3-1-5
D) 4-2-5-1-3

7. Artık çarşıya çıkmak, alışveriş merkezlerine girmek mutsuz ediyor beni. Mutsuzluğumun kaynağı dükkân isimleri. Bir yanda “Köfte Land, Pati Shop” diğer yanda “Eyfel Patissiera, Eagle Company, Chickken Haus” Kendi ülkemde yabancıyım. Ana dilimiz işgal altında. Hâlbuki “Tavuk Dünyası”nın, “Sultanahmet Köftecisi”nin nesi var. Dilimizde bıraktıkları tat bambaşka güzel.

Bu parçada ortaya konan sorun aşağıdakilerden hangisidir?

- A) Alışveriş isteğinin insanları mutsuz etmesi
B) Mağaza adlarının Türkçe olmaması
C) Yabancı dilde eğitim yapılması
D) Yemek kültürünün değişmesi

8. 1. Şu kız Aybike'dir, şiir de yazdım ona,
2. Şimdi sorsam hepsini unutmuştur.
3. Nasıl özetlesem şu dünya hâlini,
4. Vefa bir gölgedir, ömür bir kuştur.

Yukarıdaki numaralanmış dizelerin hangisinde hayal ürünü bir anlatım vardır?

- A)1. B) 2. C) 3. D) 4.

1. OTURUM

9. Aylardan şubatı. Kış tatilini geçirmek üzere eşimle birlikte Almanya'ya gitmiştik. Berlin'de, kent merkezinde bir otele yerleştik. Bu ülkenin kültürünü tanıyacak olmak bizi heyecanlandırıyordu.

Bu metin aşağıdaki sorulardan hangisine yanıt vermez?

- A) Kim? B) Ne zaman?
C) Nasıl? D) Nerede?

10. 1. Bir gündüz, bir gece sürdü bu yolculuk.
2. Otobüs gürültüyle hareket etti, bozuk taşlı yollarda sallanarak ilerledik.
3. Şoförün "Haydi hareket ediyoruz." uyarısını duyunca herkesle vedalaştım.
4. Ve nihayet yeni bir hayat sürdüreceğim Siirt'teyim artık.

Numaralanmış cümlelerle anlamlı bir metin oluşturulduğunda sıralama aşağıdakilerden hangisi olur?

- A) 1-2-4-3 B) 1-3-2-4
C) 3-2-1-4 D) 3-4-2-1

11. Aşağıdaki cümlelerin hangisinde karşılaştırma yapılmıştır?

- A) Roman yazarları çevrelerini iyi gözlemlemelidir.
B) Sitemizin her tarafında güvenlik kamerası bulunmaktadır.
C) Sanayileşmiş ülkelerde suç oranı daha yüksektir.
D) Uçak yolcuları verilen hizmetten memnun kalmadı.

12. Bir hareketin meydana gelebilmesi için enerjiye gerek vardır. İnsanı hareket ettiren enerjidir. Doğanın kendi işleyişinde de enerji temel ihtiyaçtır. Hiçbir hayvan ve bitki enerji olmadan yaşayamaz. Makineleri çalıştıran da enerjidir. Enerji olmadan yaşamın sürmesi olanaksızdır. Hem makinelerin hem de canlıların varlığı için bu gereklidir.

Bu metnin konusu aşağıdakilerden hangisidir?

- A) Doğadaki enerji kaynakları
B) Enerjinin önemi
C) Makinelerin insan hayatındaki yeri
D) Hareketli yaşamın faydaları

13. (1) Bizim insanımız genellikle duygularını ifade etmekte zorlanır. (2) Duygularını ifade edemediği için de karşısındakiyle ilk anda iyi bir iletişim kuramaz. (3) Fakat sıcakkanlı yapısı sayesinde bu sorunu çabuk aşar. (4) Özellikle başkalarına yardım etmesi gerektiğinde çekinmeden iletişim kurabilir.

Bu metinde numaralanmış cümlelerle ilgili aşağıdakilerden hangisi söylenemez?

- A) 1. cümlede tanımlama yapılmıştır.
B) 2. cümlede yargı, nedeniyle birlikte verilmiştir.
C) 3. cümlede, metindeki düşüncenin yönü değişmiştir.
D) 4. cümlede açıklayıcı bir ifade kullanılmıştır.

14. Aşağıdaki cümlelerin hangisinde ünlem işareti (!) yanlış kullanılmıştır?

- A) Avcılar, seslerini hiç çıkarmadan bekliyorlardı!
B) Daha önce hiç böyle davranmazdı, hayret!
C) Off! Şu arabanın güzelliğine bak.
D) Sinan, Sinan! Oradaki anahtarı buraya getir.

15. Aşağıdaki cümlelerin hangisinde "da/de"nin yazımıyla ilgili yanlışlık yapılmıştır?

- A) Bu sene lezzetli karpuz da yiyemedik.
B) Düşünlerde herkesi memnun etmek kolay değildir.
C) Bizi gördü de selam bile vermedi.
D) Maalesef tiyatro biletlerimizde unutmuşuz.

16. Evliya Çelebi ünlü "Seyahatname"sinde; gittiği, gördüğü yerlerin ahlak, görgü, örf ve âdetlerini, ünlü kişilerini, tarihî eserlerini ayrıntılı bir biçimde kaleme almıştır. Yalın, duru ve açık bir dil kullanan Evliya Çelebi; halk söyleyişlerinden, deyim ve atasözlerinden bolca yararlanmışır.

Bu metinde Evliya Çelebi'nin eseriyle ilgili aşağıdakilerden hangisine değinilmemiştir?

- A) Gezilen yerlerin geleneklerinin anlatıldığına
B) Anlaşılır bir dil kullanıldığına
C) Çok eski zamanlarda yazıldığına
D) Konuşma dilinden yararlandığına

1. OTURUM

17. İnsan, üzerinde yaşadığı gezegen sayesinde var olduğunu, bu gezegenle kader birliği yaptığını unutmuş. Sanki işi bitince başka bir gezegene taşınacak biri gibi yaşıyor. Dünyayı, üzerine inşaat yapacağı bir arsa olarak görüyor. Ormana kereste; ırmaklara, satılacak su şişeleri olarak bakıyor.

Bu metinde asıl yakınılan durum aşağıdakilerden hangisidir?

- A) Doğanın tüketim unsuru olarak görülmesi
B) Diğer gezegenlerle ilgili yeterli araştırma yapılmaması
C) Doğal yaşamdan gün geçtikçe uzaklaşılması
D) Tarım üretiminin yeterli olmaması

18. Aşağıdaki cümlelerin hangisinde altı çizili sözcük bir varlığı nitelemiştir?

- A) Kırtasiyeden kendime bir sürü kitap ayrıca aldım.
B) Beş günlük kampta hepimiz çok yorulduk.
C) Arkadaşlarım dün akşam bana sürpriz yaptılar.
D) Çevremde hep mutlu insanlar görüyorum.

19. Aşağıdaki cümlelerin hangisinde gelecekte yapılacak bir eylem vardır?

- A) Onca insan durakta otobüs bekliyor.
B) Bu filmin başrolünde Nusret Can oynayacak.
C) Annesi saksıları camın kenarına dizmiş.
D) Metro çalışması nedeniyle bazı yollar kapandı.

20. “-lı,-li,-lu,-lü” eki aşağıdakilerin hangisinde eklendiği sözcüğe farklı bir anlam katmıştır?

- A) Birkaç köylü de kapının önünde sebze meyve satıyordu.
B) Patlıcanlı gözlemeyi Burak da ben de çok severiz.
C) Tansiyonu düşünce tuzlu bir ayran içti.
D) Kardeşim benim için üzümlü kek yapacak bu akşam.

(551) MATEMATİK – 5

1. Rakamları birbirinden farklı beş basamaklı en büyük doğal sayının binler basamağındaki rakam aşağıdakilerden hangisidir?

- A) 5 B) 6 C) 8 D) 9

2. 228 sayısı iki basamaklı bir doğal sayıya bölüldüğünde bölüm 15, kalan 3'tür.

Bu bölme işleminde bölen kaçtır?

- A) 15 B) 18 C) 20 D) 25

3. 5^3 ifadesinin eşiti aşağıdakilerden hangisidir?

- A) $3 \times 3 \times 3 \times 3 \times 3$ B) 5×3
C) $5 \times 5 \times 5$ D) $3 \times 3 \times 3$

4. $36 \div (18 - 6)$ işleminin sonucu kaçtır?

- A) 6 B) 5 C) 4 D) 3

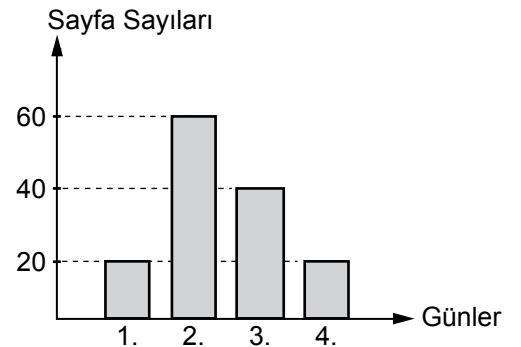
5. Bir ders saatinin 40 dakika olduğu bir okulda, saat 9.00'da ders başlamaktadır.

İlk ders sonunda 15 dakika ara verildiğine göre ikinci ders saat kaçta biter?

- A) 10.30 B) 10.35 C) 10.40 D) 10.45

6. Aşağıdaki grafik bir öğrencinin hikâye kitabından dört günde okuduğu sayfa sayılarını göstermektedir.

Grafik: Günlere Göre Kitaptan Okunan Sayfaların Sayısı



Grafığe göre bu öğrenci dört günde toplam kaç sayfa kitap okumuştur?

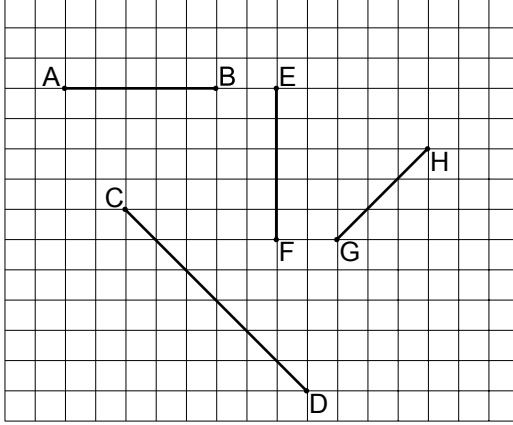
- A) 60 B) 100 C) 120 D) 140

1. OTURUM

7. 60 liranın $\frac{2}{5}$ 'si kaç lira eder?

- A) 12 B) 24 C) 36 D) 48

8.




Kareli zeminde çizilmiş olan yukarıdaki doğru parçalarından hangi ikisinin uzunlukları eşittir?

- A) [AB] ile [CD] B) [AB] ile [EF]
C) [CD] ile [EF] D) [EF] ile [GH]

9. $\frac{2}{3}, \frac{3}{6}, \frac{5}{6}, \frac{1}{3}$ kesirlerinin küçükten büyüğe doğru sıralanışı aşağıdakilerden hangisidir?

- A) $\frac{1}{3} < \frac{3}{6} < \frac{2}{3} < \frac{5}{6}$
B) $\frac{1}{3} < \frac{2}{3} < \frac{3}{6} < \frac{5}{6}$
C) $\frac{5}{6} < \frac{3}{6} < \frac{2}{3} < \frac{1}{3}$
D) $\frac{5}{6} < \frac{2}{3} < \frac{3}{6} < \frac{1}{3}$

10.



Şekildeki ışının sembolle gösterilişi aşağıdakilerden hangisidir?

- A) [AB] B) [AB C) AB] D) |AB|

11. $\frac{4}{5} - \frac{8}{15}$ işleminin sonucu kaçtır?

- A) $\frac{4}{15}$ B) $\frac{4}{10}$ C) $\frac{6}{10}$ D) $\frac{12}{15}$

12. $\frac{1}{5}$ kesrinin ondalık gösterimi aşağıdakilerden hangisidir?

- A) 0,15 B) 0,2 C) 0,5 D) 1,5

13. 3,131; 2,131; 3,031 ve 2,031 sayılarının küçükten büyüğe doğru sıralanışı aşağıdakilerden hangisidir?

- A) 2,131 < 2,031 < 3,131 < 3,031
B) 2,031 < 3,031 < 2,131 < 3,131
C) 2,031 < 3,131 < 3,031 < 2,131
D) 2,031 < 2,131 < 3,031 < 3,131

14. Etiket fiyatı 140 lira olan bir elbisede %40 indirim yapılıyor.

Buna göre elbisenin yeni fiyatı kaç liradır?

- A) 60 B) 72 C) 78 D) 84

15. Aşağıdaki eşitliklerden hangisi yanlıştır?

- A) %50 = 0,5 B) %65 = 0,65
C) %90 = 0,09 D) %40 = 0,40

16. Aşağıdakilerden hangisi bir ABC üçgeninin iç açılarının ölçüleri olamaz?

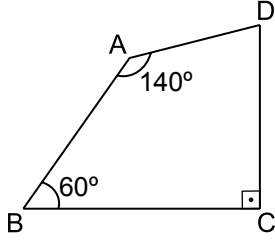
- A) $m(\hat{A}) = 45^\circ, m(\hat{B}) = 35^\circ, m(\hat{C}) = 100^\circ$
B) $m(\hat{A}) = 53^\circ, m(\hat{B}) = 48^\circ, m(\hat{C}) = 89^\circ$
C) $m(\hat{A}) = 77^\circ, m(\hat{B}) = 85^\circ, m(\hat{C}) = 18^\circ$
D) $m(\hat{A}) = 178^\circ, m(\hat{B}) = 1^\circ, m(\hat{C}) = 1^\circ$

17. Uzun kenarının uzunluğu 265 mm, kısa kenarının uzunluğu 188 mm olan dikdörtgen şeklindeki bir kağıdın çevresinin uzunluğu kaç santimetredir?

- A) 90,6 B) 45,3 C) 9,06 D) 4,53

1. OTURUM

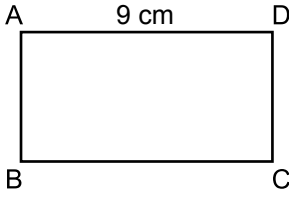
18.



Şekilde verilenlere göre ABCD dörtgeninde $m(\widehat{ADC})$ kaç derecedir?

- A) 40 B) 50 C) 60 D) 70

19.



Yukarıda verilen ABCD dikdörtgeninin alanı 36 cm^2 dir.

$|AD| = 9 \text{ cm}$ olduğuna göre $|CD|$ kaç santimetredir?

- A) 4 B) 6 C) 8 D) 9

20. Tüm ayrıtlarının uzunlukları toplamı 60 cm olan küpün yüzey alanı kaç santimetrekaredir?

- A) 100 B) 125 C) 150 D) 200

(552) FEN BİLİMLERİ – 5

1. Doğal anıtlarla ilgili verilen bilgilerden hangisi yanlıştır?

- A) İnsan etkisiyle oluşan yapıtlardır.
B) Yasalarla koruma altına alınmışlardır.
C) Uzun yıllar sonucunda oluşurlar.
D) İnsanlığın geçirdiği değişimler hakkında bilgi verebilirler.

2. Sıcak su kaynakları ile ilgili aşağıda verilenlerden hangisi yanlıştır?

- A) Yerin derinliklerinden gelir.
B) Mineral bakımından zengindir.
C) Çeşitli hastalıkların tedavisinde etkilidir.
D) İçme suyu kaynağı olarak kullanılır.

3. Bir tahta masaya aynı büyüklükteki metal, plastik ve tahta kaşıkla vurularak ses oluşturuluyor.

Bu deneyde oluşan seslerle ilgili aşağıdaki açıklamalardan hangisi doğrudur?

- A) Aynı ses kaynağından çıkan sesin yayıldığı ortam değişse de aynı ses oluşur.
B) Farklı ses kaynağından çıkan sesin yayıldığı ortam değişirse farklı ses oluşur.
C) Farklı cisimlerle aynı maddeye vurulduğunda farklı sesler oluşur.
D) Aynı cisimle farklı maddelere vurulduğunda farklı sesler oluşur.

4. I. Ampul
II. Pil
III. Duy

Basit bir elektrik devresinde ampulün parlaklığı yukarıdakilerden hangilerine bağlıdır?

- A) Yalnız I B) I ve II.
C) II ve III. D) I, II ve III.

5.

Ayran içilen pipet, ışık kaynağının önüne tutulduğunda ışık görülür. Pipet bükülerek ışık kaynağının önüne tutulursa ışık görülmez. Çünkü



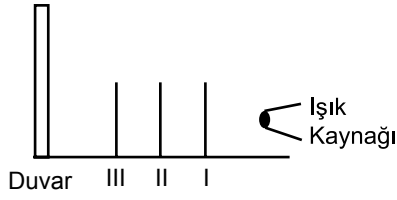
Gönül Öğretmen

Gönül öğretmenin yaptığı bu açıklamayı aşağıdakilerden hangisi doğru olarak tamamlar?

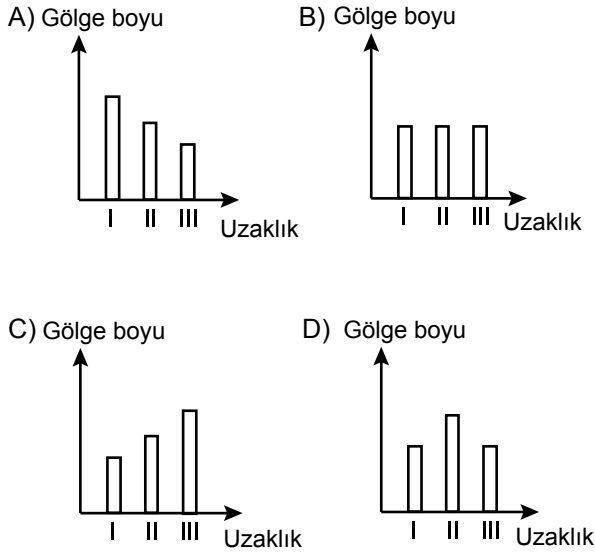
- A) Işık ışınları farklı ortamlarda farklı yayılır.
B) Işık ışınları doğrular hâlinde yayılır.
C) Işık ışınları birkaç yönde yayılır.
D) Işık ışınları her yönde yayılır.

1. OTURUM

6. Şekildeki gibi ışık kaynağı ile duvar arasındaki I, II ve III noktalarına opak bir cisim sırasıyla konulup gölge boyları uzunluğu duvarda işaretleniyor.



Buna göre cismin ışık kaynağından uzaklığı ile gölge boyu arasındaki ilişkiyi gösteren grafik aşağıdakilerden hangisidir?



7. Öğrenciler sürtünme kuvvetinin cismin yüzeyine bağlı olduğunu göstermek için deney yapıyorlar. Bunun için ipe bağlı tahta takozu bir yüzeyde çok kolay çekerken diğer yüzeyde daha zor çekiyorlar.

Buna göre öğrenciler:

- I. Cam levha
- II. Zımpara kağıdı
- III. Pürüzlü tahta
- IV. Buz

yüzeylerinden hangi ikisini birlikte kullanmamıştır?

- A) I ve II. B) II ve III.
C) II ve IV. D) III ve IV.

8. Dinametreler ile ilgili verilen bilgilerden hangisi yanlıştır?

- A) Yapısında esnek yay kullanılır.
B) Üzerinde ölçeklendirilmiş gösterge vardır.
C) Ölçülen değer metre birimi ile ifade edilir.
D) Yayın hassasiyeti cinsine, kalınlığına ve uzunluğuna bağlıdır.

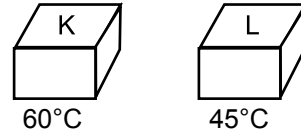
9. Tabloda bazı saf maddelerin erime sıcaklıkları verilmiştir.

Madde	Erime sıcaklığı (°C)
Kükürt	126
Kalay	232
Kurşun	327
Alüminyum	660

Buna göre 230 °C'de hangi madde sıvı hâlde bulunur?

- A) Kükürt B) Kalay
C) Kurşun D) Alüminyum

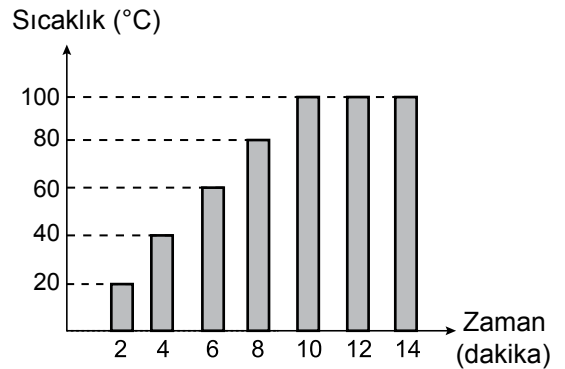
- 10.



Sıcaklıkları verilen K ve L maddeleri temas ettirildiğinde aşağıdakilerden hangisi gözlenmez?

- A) K maddesinin ısı vermesi
B) L maddesinin ısı alması
C) K maddesinin sıcaklığının artması
D) K ve L maddeleri arasında ısı alışverişinin olması

11. Aşağıda saf sıvıya ait sıcaklık-zaman grafiği verilmiştir.



Bu grafiğe göre saf sıvı ile ilgili aşağıdakilerden hangisi söylenemez?

- A) Kaynama süresince sıcaklık sabit kalmıştır.
B) Sıcaklık 10. dakikaya kadar artmıştır.
C) Kaynama sıcaklığı 100 °C'dir.
D) En fazla ısıyı 4. dakikada almıştır.

1. OTURUM

12. Aşağıdakilerin hangisinde hem genişleme hem de büzülme olayı vardır?

- A) Termometredeki civa seviyesinin düşmesinde
- B) Kalorifer peteklerinin ısınırken ve soğurken ses çıkarmasında
- C) Yaz aylarında elektrik tellerinin sarkmasında
- D) Güneşte bırakılan gözlükten camın düşmesinde

13. • Enerji ihtiyacını karşılamada ilk önce kullanılır.
• Hızlı bir şekilde enerjiye dönüşür.
• Ağırıklı olarak bitkisel kaynaklı besinlerde bulunur.

Yukarıda verilen bilgiler hangi besin grubuna aittir?

- A) Karbonhidratlar
- B) Proteinler
- C) Yağlar
- D) Vitaminler

14.

..... Vitamini

En çok balık yağı olmak üzere karaciğer, yumurta süt, peynir ve tereyağında bulunur. Kemiklerin sağlıklı gelişimini sağlar. Diş etlerinin çekilmesini ve kanamasını önler.

Yukarıdaki kartta verilen bilgilere göre boş bırakılan yere aşağıdakilerden hangisi yazılmalıdır?

- A) K
- B) D
- C) E
- D) B

15. ■, besin posaları içindeki suyu emer.
▲, kasılıp gevşeme hareketleri ile besinleri küçük parçalara ayırır.

Yukarıda özellikleri verilen ve şekillerle ifade edilen organlar aşağıdakilerden hangisidir?

- | | |
|-------------------|----------------|
| ■ | ▲ |
| A) Mide | İnce bağırsak |
| B) İnce bağırsak | Mide |
| C) Kalın bağırsak | Mide |
| D) İnce bağırsak | Kalın bağırsak |

16. Sağlıklı yetişkin bir insanda en fazla sayıda bulunan dişler aşağıdakilerden hangisidir?

- A) Kesici dişler
- B) Köpek dişleri
- C) Azı dişleri
- D) Yirmi yaş dişleri

17. Aşağıdakilerden hangisi sağlıklı yaşamaya özen gösteren bir kimsenin davranışı olamaz?

- A) Yaşa uygun düzenli spor yapmak.
- B) Zararlı alışkanlıklardan uzak durmak.
- C) Sürekli istediği ilaçları kullanmak.
- D) Dengeli ve yeterli beslenmek.

18. • Omurgalı hayvanlar grubundadır.
• Suda ve karada yaşayan türleri vardır.
• Yumurta ile ürerler.

Bazı özellikleri verilen canlı türü aşağıdakilerden hangisi olabilir?

- A) Kaplumbağa
- B) Alabalık
- C) Yengeç
- D) Salyangoz

19. Aşağıdaki olaylardan hangisinde bakteriler etkili değildir?

- A) Ölen bitki ve hayvan kalıntılarının çürüyüp toprağa karışmasında
- B) Üzüm suyundan sirke elde edilmesinde
- C) Sütün yoğurda dönüştürülmesinde
- D) Fotosentezle besin üretiminde

20. • Canlıların yaşaması için gerekli oksijen ve besin maddesini üretirler.
• Yeryüzünün geniş bir coğrafyasına yayılmışlardır.

Yukarıda verilen bilgiler hangi canlı grubuna aittir?

- A) Bakteriler
- B) Mantarlar
- C) Hayvanlar
- D) Bitkiler

1. OTURUM

(633) SOSYAL BİLGİLER – 6

1. "Olgu, herkes tarafından kabul edilen, doğruluğu kanıtlanabilir ifadelerdir."

Bu tanıma göre aşağıdaki cümlelerden hangisi bir olgu bildirmektedir?

- A) Dünyanın şekli yuvarlaktır.
B) Basketbol çok eğlencelidir.
C) Gül, en güzel çiçektir.
D) Elma en yararlı meyvedir.

2. **Aşağıdakilerden hangisi sosyal bilimlerin geliştirilmesi amacıyla yönelik değildir?**

- A) Türk Tarih Kurumunun açılması
B) Türk Dil Kurumunun kurulması
C) Modern tarımın desteklenmesi
D) Dil ve Tarih-Coğrafya Fakültesinin açılması

3. Dünyamızı tam ortadan ikiye ayıran paralele ---- denir.

Cümlede boş bırakılan yere aşağıdakilerden hangisi yazılmalıdır?

- A) Ekvator
B) Kutup
C) Meridyen
D) Geoit

4. **Aşağıdakilerden hangisi yeryüzündeki kıtalardan biri değildir?**

- A) Asya
B) Afrika
C) Alaska
D) Antarktika

5. **Aşağıdakilerden hangilerini fiziki haritalarda göremeyiz?**

- A) Nehirleri
B) Şehirleri
C) Dağları
D) Gölleri

6. **İç Anadolu Bölgemizde hangi iklim tipi görülür?**

- A) Karadeniz
B) Marmara
C) Akdeniz
D) Karasal

7. **Aşağıdakilerden hangisi İlk Çağ'da Mezopotamya'da kurulan uygarlıklardan biridir?**

- A) Sümerler
B) Urartular
C) Hititler
D) Frigler

8. Avrupa Hun Devleti'nin en ünlü hükümdarıdır. 447'de Bizans'a, 452'de ise Batı Roma'ya egemenliğini kabul ettirmiş, Avrupa tarihinde derin izler bırakmıştır.

Hakkında bilgi verilen hükümdar aşağıdakilerden hangisidir?

- A) Balamir
B) Attila
C) Uldız
D) Rua

9. **Aşağıdaki bilgilerden hangisi Uygurlarla ilgili değildir?**

- A) İlk kağanları Kutluk Bilge Kül Kağan'dır.
B) Böğü Kağan döneminde Manihaizm'i benimsemişlerdir.
C) Mete Han döneminde göçebe kavimleri bir bayrak altında toplamışlardır.
D) Moğolların Türkleşmesinde önemli rol oynamışlardır.

10. **Hz. Muhammed (sav.) İslam devletini aşağıdaki şehirlerden hangisinde kurmuştur?**

- A) Taif
B) Şam
C) Mekke
D) Medine

11. **Aşağıdaki devletlerden hangisinin Avrupa kültür ve medeniyetinin oluşumunda büyük katkısı olmuştur?**

- A) Emeviler
B) Abbasiler
C) Karahanlılar
D) Endülüs Emevileri

12. **İslamiyeti resmî din olarak kabul eden Karahanlı hükümdarı aşağıdakilerden hangisidir?**

- A) Alparslan
B) Gazneli Mahmut
C) Satuk Buğra Han
D) Bilge Kül Kadir Han

13. **Kutadgu Bilig adlı eserin yazarı aşağıdakilerden hangisidir?**

- A) Yusuf Has Hacip
B) Kaşgarlı Mahmut
C) Nizamülmülk
D) Melikşah

1. OTURUM

14. Aşağıdaki sektörlerden hangisi "Bacasız sanayi" olarak adlandırılır?

- A) Tarım B) Turizm
C) Otomotiv D) Bankacılık

15. Yurdumuzda buğday üretiminin en az olduğu bölge hangisidir?

- A) Akdeniz B) Karadeniz
C) İç Anadolu D) Güneydoğu Anadolu

16. En fazla Türk işçinin çalıştığı Avrupa ülkesi aşağıdakilerden hangisidir?

- A) İsveç B) İtalya
C) Norveç D) Almanya

17. I. Fındık
II. Petrol
III. Mobilya

Yukardakilerden hangileri Türkiye'nin ihraç ürünleri arasında yer alır?

- A) Yalnız I B) Yalnız II C) I ve II. D) I ve III.

18. Aşağıdakilerden hangisi Türk cumhuriyetlerinden biri değildir?

- A) Özbekistan B) Gürcistan
C) Kırgızistan D) Türkmenistan

19. Milletin egemenliğini kendi elinde tuttuğu ve bunu belirli süreler için seçtiği temsilcileri aracılığıyla kullandığı yönetim şeklidir.

Tanımı verilen yönetim sistemi aşağıdakilerden hangisidir?

- A) Oligarşi B) Cumhuriyet
C) Teokrasi D) Mutlakiyet

20. Sağlıklı bir kişi, bir defada ne kadar kan verebilir?

- A) 500 mililitre B) 300 mililitre
C) 200 mililitre D) 100 mililitre

(634) İNGİLİZCE – 6

1-20. sorularda boş bırakılan yere uygun gelen kelime ya da ifadeyi işaretleyiniz.

1. Amy : ----?

Iris : I am OK. Thank you.

- A) Where is your father
B) Where are you from
C) How old are you
D) How are you

2. Molly : ----?

Alan : She is a doctor.

- A) What is his surname
B) What is her job
C) What color is it
D) What is this

3. ---- phone is on the table.

- A) You are B) Yours
C) Your D) You

4. Clint : What ---- is the new student?

Frank : He is Spanish.

- A) language B) nationality
C) occupation D) country

5. The ---- are watching TV with their friends.

- A) man B) person
C) woman D) children


6. Jeff : ----?

Ella : It is grey.

- A) What color is your car
B) How much is your car
C) Where is your car
D) Who likes cars

1. OTURUM

7.



My father is short and - - - .

- A) thin B) slim
C) fat D) tall

8. - - - - has got a mobile phone?

- A) How many B) Where
C) How D) Who

9. There - - - - three cinemas in the city.

- A) does B) are
C) do D) is

10. They don't have - - - - money. They are poor.

- A) much B) many
C) little D) some

11. **Adam** : Are you happy?

Rose : Yes, I - - - - .

- A) are B) do
C) am D) is

12. - - - - students are there in the class?

- A) How many B) How much
C) When D) Who

13. There is a - - - - of bread on the table.

- A) jar B) cup
C) bottle D) loaf

14. **Ahmet** : - - - - ?

Carl : It is 10th April.

- A) What is this on the sofa
B) What is the date today
C) What month is it
D) What time is it

15. **Ned** : - - - - ?

Eve : He is helpful and kind.

- A) What is your teacher like
B) How old is your teacher
C) What does your teacher like
D) Where is your teacher

16. **Halil** : - - - - is this chocolate?

Sonia : 2₺.

- A) Whose B) How many
C) How much D) Which

17. Today is Sunday and tomorrow is - - - - .

- A) Monday B) Saturday
C) Thursday D) Wednesday

18. He always - - - - to work at nine.

- A) go B) goes C) going D) to go

19. Are you interested - - - - history?

- A) to B) on C) at D) in

20.



Murat : What is the weather like today?

Alex : It is - - - - .

- A) sunny B) rainy
C) foggy D) windy

1. OTURUM

(634) ALMANCA – 6

1-16. sorularda boş bırakılan yere uygun gelen ek, kelime ya da ifadeyi işaretleyiniz.

1. siebenunddreißig, ----, neununddreißig

- A) achtunddreißig B) sechsunddreißig
C) achtundzwanzig D) sechsundzwanzig

2. A: Wo ---- Sie?

B: In Stuttgart.

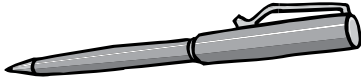
- A) kommst B) heißen
C) wohnen D) ist

3. A: Wie geht es Ihnen?

B: ----

- A) Danke, es geht uns gut.
B) Danke, es geht dir gut.
C) Danke, es geht ihm gut.
D) Danke, es geht mir gut.

4.



A: Was ist das?

B: Das ist ----.

- A) ein Lineal B) ein Kugelschreiber
C) eine Taschenlampe D) ein Buch

5. A: ----

B: Aus Mersin.

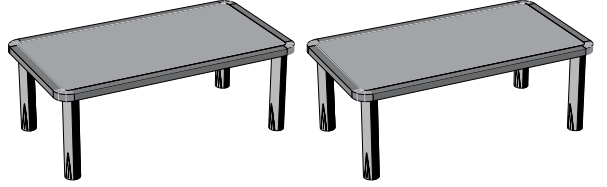
- A) Woher kommen Sie?
B) Wie heißt du?
C) Wer ist das?
D) Wie geht es Ihnen?

6. A: Ist das ---- Ball?

B: Nein, das ist ---- Ball.

- A) eine / keine B) einen / keinen
C) ein / kein D) eine / kein

7.



Das ist ---- Tisch.

Das sind zwei ----.

- A) eine / Tisch B) eins / Tische
C) einen / Tisch D) ein / Tische

8. A: ---- du Ayran?

B: Nein, ich ---- Milch.

- A) Isst / esse B) Trinke / trinkst
C) Trinkst / trinke D) Esse / isst

9. Zu Hause ---- er jeden Tag Musik.

- A) hört B) hörst C) hören D) gehört

10. A: Wer ---- sie?

B: Sie ---- Fatma.

- A) bin / bin B) ist / ist
C) ist / sind D) sind / ist

11. A: Ist sie ---- neue Lehrerin?

B: Ja.

- A) der B) die C) das D) den

12. A: ---- ?

B: Ich spiele mit dem Computer.

- A) Wo bist du B) Wer ist das
C) Wie geht es dir D) Was machst du

13.



A: Was ---- Peter?

B: Einen ----.

- A) isst / Fisch B) ist / Essen
C) esse / Fleisch D) essen / Schiff

1. OTURUM

14. Die Tasche - - - - rot.


- A) sein B) ist C) habt D) sind

15. A: - - - - du in der Schule?

B: Ja, ich - - - -.

- A) Bin / bist B) Ist / sein
C) Sind / ist D) Bist / bin

16.



A: Wie spät ist es?

B: Es ist - - - -.

- A) halb Drei B) Zehn vor Drei
C) Zwanzig vor Zwei D) Zwanzig nach Zwei

17. Aşağıdakilerden hangisi sıfattır?

- A) singen B) Auto
C) kurz D) und

18. "neunundzwanzig'in" sayı şekli aşağıdakilerden hangisidir?

- A) 9 B) 19 C) 29 D) 39

19. "Sie kostet 100 Lira" cümlesinin sorusu aşağıdakilerden hangisidir?

- A) Was kostet die Hose?
B) Was kostet der Pullover?
C) Was kostet das Haus?
D) Was kosten die Schuhe?

20. Aşağıdakilerden hangisinin çoğul eki yanlıs verilmiştir?

- A) der Topf x die Töpfe
B) das Bett x die Betten
C) die Frau x die Frauen
D) der Vater x die Vaters

(634) FRANSIZCA – 6

1-15. sorularda boş bırakılan yere uygun gelen kelime ya da ifadeyi işaretleyiniz.

1. - - - - êtes suisse.

- A) Nous B) Elles
C) Tu D) Vous

2. Marc : Tu as quel âge ?

Berk : - - - -.

- A) Je suis étudiant
B) J'ai dix-huit ans
C) J'habite à La Rochelle
D) Je parle trois langues

3. Marie : - - - - ?

Sabri : Elle est canadienne.

- A) Elle a quel âge
B) Quelle est son adresse
C) Quelle est sa nationalité
D) Où habite-t-elle?

4. Aline : - - - - va votre mari ?

Arzu : Il va très bien, merci.

- A) Comment B) Parce que
C) Pourquoi D) Quelle

5. Sabine et Sylvie sont belges, mais elles - - - - à Rome.

- A) habitent B) habitons
C) ont D) avez

6. Sophia - - - - très bien français et un peu espagnol.

- A) parlé B) parlez
C) parle D) parler

7. Ma fille étudie - - - - Los Angeles - - - - États-Unis.

- A) à / au B) en / au
C) en / à D) à / aux

1. OTURUM

8. Dans les pâtisseries, on vend - - - - .

- A) du poisson rouge
- B) des gâteaux
- C) des légumes
- D) des chaussures de sport

9. - - - - est le mont Fuji ?

- A) Combien
- B) Ou
- C) Quand
- D) Où

10. Chantal : Tu es marié ?

Pierre : Non, je suis - - - - .

- A) beau
- B) divorcé
- C) avocat
- D) un jeune homme

11. Koray : Tu montes sur la montgolfière ?

Camille : Non, je - - - - sur la montgolfière.

- A) ne pas monter
- B) est monté
- C) ne monte pas
- D) monter

12. Maman : Ta copine, - - - - elle s'appelle ?

André : Elle s'appelle Laura.

- A) où
- B) pourquoi
- C) comment
- D) quel

13. Alice : Pourquoi ta femme ne fait pas de sport ?

Patrick : - - - - elle n'aime pas ça.

- A) Combien
- B) Comment
- C) Quelle
- D) Parce que (qu')

14. Alpay : Tu ranges ta chambre ?

Laurent : Oui, je - - - - range souvent.

- A) les
- B) la
- C) lui
- D) le

15. Daniel : Est-ce qu'il y a des livres en latin dans la bibliothèque ?

Lucie : Non, il n'y a pas - - - - livres en latin dans la bibliothèque.

- A) le
- B) des
- C) de
- D) la

16 - 17. soruları planı dikkate alarak cevaplayınız.

PARKING		HÔTEL	CAFÉ	KIOSQUE À JOURNAUX
RUE DE LA FONTAINE				
POSTE	BOULANGERIE	CABINET MÉDICAL	PHARMACIE	BANQUE

16. - - - - est entre la boulangerie et la pharmacie.


- A) Le cabinet médical
- B) L'hôtel
- C) Le café
- D) Le parking

17. La poste est - - - - .

- A) en face du parking
- B) derrière le kiosque à journaux
- C) à côté du café
- D) devant l'hôtel

18 ve 20. soruları resimleri dikkate alarak cevaplayınız.

18.



- A) Il est huit heures et demie.
- B) Il est huit heures.
- C) Il est huit heures moins le quart.
- D) Il est huit heures et quart.

19.



Il est - - - - .

- A) boulanger
- B) cuisinier
- C) infirmier
- D) architecte

1. OTURUM

20.



Elle est - - - - et elle a les cheveux - - - -.

- A) souriante / courts et blonds
- B) sérieuse / longs et ondulés
- C) gaie / courts et frisés
- D) brune / courts et raides

(635) DİN KÜL. VE AHLAK BİLGİSİ – 6

1. Lakabı “Pir-i Türkistan” olan âlim aşağıdakilerden hangisidir?

- A) Ahi Evran
- B) Yunus Emre
- C) Ahmet Yesevi
- D) Hacı Bektaş Veli

2. Prensipleri Kur’an ve Sünnete dayanır. Dini, ahlaki kurallarla ekonomik kuralları birleştiren ve sosyal bir yapıya kavuşturan bir teşkilattir. Bu kurum, bir meslek kuruluşu olmanın yanında, iman ve ahlak eğitiminin yapıldığı, millî kültürün öğretilip benimsetildiği bir okul görevi de görmüştür.

Hakkında bilgi verilen kurum aşağıdakilerden hangisidir?

- A) Ahilik
- B) Hilfü'l-Fudul
- C) Hilal-i Ahmer
- D) Cemiyet-i İlmîye

3. Batı’da “Avicenna” adıyla tanınan Müslüman-Türk bilgin aşağıdakilerden hangisidir?

- A) Ali Kuşçu
- B) Birûnî
- C) Farabi
- D) İbn-i Sina

4. Felak ve Nas sureleri için kullanılan “iki koruyucu” anlamına gelen kavram aşağıdakilerden hangisidir?

- A) Sure-i tevhid
- B) Muavvizeteyn
- C) Ummul Kitab
- D) el-Furkan

5. İslam dininde birine haksız yere suç isnat etmeye ne denir?

- A) İftira
- B) Gıybet
- C) Zan
- D) Haset

6. “Ey iman edenler! Kendi evinizden başka evlere geldiğinizi fark ettirip ev halkına selam vermedikçe girmeyin. Bu, sizin için daha iyidir; herhâlde (bunu) düşünüp anlarsınız. Orada kimse bulamadınızsa, size izin verilinceye kadar oraya girmeyin. Eğer size “Gerî dönün!” derlerse hemen dönün. Çünkü bu, sizin için daha temiz bir davranıştır. Allah yaptığınızı bilir.”
(Nur suresi, 27-28.ayetler)

Bu ayetlerde aşağıdakilerden hangisinin korunması tavsiye edilmektedir?

- A) Adaletin hâkimiyeti
- B) Özel hayatın gizliliği
- C) Doğru sözlülük
- D) Yardımseverlik

7. Kur’an-ı Kerim’deki geçmiş peygamberlerle ilgili ibretli olaylara ne denir?

- A) Hikâye
- B) Meviza
- C) Haber
- D) Kıssa

8. “Ey iman edenler! Allah’tan sakının ve doğru söz söyleyin”
(Ahzâb suresi, 70.ayet)

“O müminler boş ve faydasız işlerden yüz çevirirler... Namuslarını korurlar.”
(Mü’minün suresi, 3-5. ayetler)

Bu ayetler Kur’an-ı Kerim’in ana konularından hangisiyle ilgilidir?

- A) İnanç
- B) İbadet
- C) Ahlak
- D) Ahiret

9. Kur’an’ın 106. suresidir. Surede Hz. Muhammed’in (sav.) kabilesine Allah’ın verdiği nimetlerden bahsedilir. Onlardan da bu nimetler sebebiyle Yüce Allah’a ibadet etmeleri istenir.

Hakkında bilgi verilen sure aşağıdakilerin hangisidir?

- A) Maûn
- B) Fil
- C) Kureyş
- D) Nasr

1. OTURUM

10. Hz. Peygamber'in kabri aşağıdaki kavramlardan hangisi ile isimlendirilir?

- A) Cennet - i Firdevs
- B) Ravza - i Mutahhara
- C) Mescid - i Nebi
- D) Mescid - i Haram

11. Hudeybiye Antlaşması aşağıdakilerden hangileri arasında yapılmıştır?

- A) Müslümanlar-Mekkeli müşrikler
- B) Müslümanlar-Yahudiler
- C) Yahudiler-Mekkeli müşrikler
- D) Müslümanlar-Bizanslılar

12. I. Habeşistan'a hicret
II. Medine Sözleşmesi
III. Hudeybiye Antlaşması
IV. Taif ziyareti

Bu olaylardan hangileri Mekke Döneminde gerçekleşmiştir?

- A) I ve II.
- B) I ve IV.
- C) II ve III.
- D) III ve IV.

13. "Yaratan Rabb'inin adıyla oku!
O, insanı alaktan yarattı.
Oku, Rabb'in kerem sahibidir.
O, insana kalemle yazmayı ve bilmediğini öğretendir"
(Alak suresi, 1-5.ayetler)

Bu ayetlerle ilgili aşağıdakilerden hangisi doğrudur?

- A) Kur'an-ı Kerim'in ilk inen ayetleridir.
- B) Kur'an-ı Kerim'in son inen ayetleridir.
- C) Kur'an'ın tam olarak ilk inen suresidir.
- D) Medine Döneminde ilk inen ayetlerdir.

14. Namazda ayakta durmayı ifade eden kavram aşağıdakilerden hangisidir?

- A) Kıraat
- B) Rükû
- C) Kıyam
- D) Ka'de

15. Kunut dualarının okunduğu namaz aşağıdakilerden hangisidir?

- A) Cuma
- B) Vitir
- C) Bayram
- D) Teravih

16. Necasetten taharet, hadesten taharet, setr-i avret, istikbal-i kible, vakit, niyet.

Bu kavramlarla ilgili aşağıdakilerden hangisi doğrudur?

- A) Namazın vacipleridir.
- B) Namazın rükunleridir.
- C) Namazın sünnetleridir.
- D) Namazın dışındaki şartlardır.

17. Allah gönderdiği vahiylerle insanları doğru yola çağırılmış, onların iyiyi kötüden ayırt etmeleri için ayetlerini göndermiştir. İnsanlar bu vahiyler sayesinde helali haramdan ayırt edebilmişler, doğru inancın nasıl olması gerektiğinin farkına varmışlardır. İnsanlar vahiyler sayesinde Yaradan'a nasıl ve niçin ibadet etmeleri gerektiğini öğrenmişler, sorumluluklarının farkına varmışlardır.

Bu metin aşağıdaki sorulardan hangisine cevap oluşturur?

- A) Niçin ibadet ederiz?
- B) Allah niçin vahiy göndermiştir?
- C) Niçin peygamber gönderilmiştir?
- D) Peygamberlere inanmak insana ne kazandırır?

18. Kur'an-ı Kerim'de peygamberler hakkında şöyle buyrulur: "Onlar büyük günahlardan ve hayasızlıktan kaçınırlar..."
(Şûrâ suresi, 37.ayet)

Bu ayette peygamberlerin hangi ortak özelliği vurgulanmaktadır?

- A) Fetanet
- B) Sıdk
- C) İsmet
- D) Emanet

19. Aşağıdaki peygamberlerden hangisine suhuf gönderilmiştir?

- A) Hz. Adem
- B) Hz. Zekeriyya
- C) Hz. Yahya
- D) Hz. Süleyman

20. Aşağıdakilerden hangisi Kur'an'da geçen peygamber isimlerinden biri değildir?

- A) Hz. İdris
- B) Hz. Harun
- C) Hz. Zülkifl
- D) Hz. Hızır

1. OTURUM

(730) TÜRKÇE – 7

1. Mahmut Bey, bu çarşıda kuyumculuk yapan hile hurda bilmez bir esnaftı.

Aşağıdakilerin hangisinde bu cümledeki altı çizili deyimın anlamını karşılayan bir söz kullanılmıştır?

- A) Sakin kişiliği sayesinde çevresindekilerce çok sevilirdi.
B) Her zaman akıllıca davranır, telaşa kapılmazdı.
C) Senin dürüst biri olduğunu daha ilk görüşte anlamıştım.
D) Çalışkan insanlar girdikleri her işte mutlaka başarılı olur.

2. “Kapalı” sözcüğü aşağıdakilerin hangisinde “çalışma süresi sona ermiş” anlamında kullanılmıştır?

- A) Hafta sonu buradaki bütün dükkânlar kapalı.
B) Heyelan nedeniyle ilçe yolu kapalıydı.
C) Bütün pencereler kapalı olduğu için bunaldım.
D) Basına kapalı bir toplantı yapıldı.

3. Onun bu ince davranışları beni hep mutlu etmiştir.

Bu cümledeki altı çizili sözcüğün anlamca karşıtı aşağıdakilerden hangisidir?

- A) Kalın
B) İri
C) Kaba
D) Nazik

4. Aşağıdakilerden hangisi karşılıklı konuşma çeşitlerinden değildir?

- A) Anı, olay anlatma
B) Özür dileme konuşması
C) Telefon konuşması
D) Tanışma ve tanıştırma konuşması

5. Aşağıdaki cümlelerin hangisinde yer kavramı vurgulanmıştır?

- A) Turistler, otelden sabah saat altıda ayrılmış.
B) Yolculuk sırasında bir göl kenarında dinlendik.
C) Kahvaltıdan sonra bir fincan kahve içtik.
D) Köyümüze okullar tatil olur olmaz gideceğiz.

6. Rehberimiz bizi, bir tepenin üzerine 15. yüzyılda kurulmuş olan bir şatoya getirdi. Diğer şatolardan farklı olarak sekiz kulesi var. Şatonun etrafında saldırıdan korunmak için çok derin kazılmış bir hendek bulunmakta. Şatonun kocaman demir kapısı kapatıldığında bu hendeği aşıp şatoya girmek neredeyse imkânsız. Kaleye yapılan son saldırıda duvarlarda açılan top delikleri ise hâlâ duruyor.

Bu parçanın türü aşağıdakilerden hangisidir?

- A) Roman
B) Hikâye
C) Gezi yazısı
D) Deneme

7. Nasıl, insanlar için her işin başı sağlıksa toplumlar için de her işin başı ahlaktır. Bir millet sporda başarısız olabilir. Ne bileyim doğayı terk edip hızlı bir betonlaşma içine girmiş olabilir. Belki biraz tembel, biraz ağırkanlı olabilir. Ama ahlaksız olamaz. Milletin temeli “ahlak”tır. Diğer unsurlar bunun yanında önemsiz bir ayrıntı olarak kalır. Milleti ayakta tutan ahlaktır. Ahlak elden giderse millet de ülke de elden gider.

Bu parçada anlatılan durumu aşağıdaki atasözlerinden hangisi özetler?

- A) Ağaç kökünden yıkılır.
B) İnsanın kıymetini insan bilir.
C) Can çıkmayınca huy çıkmaz.
D) İş, insanın aynasıdır.

8. Dil, insanlar arasında anlaşmayı sağlayan en iyi vasıta. Bunun dışında dilin pek çok işlevi bulunmaktadır. Dilin önemli işlevlerinden biri de bir ulusun kültürünün aynası olmasıdır. Bu açıdan bakıldığında millî kimlik oluşturmada önemli bir rol üstlenir.

Bu parçada dille ilgili aşağıdakilerden hangisine değinilmemiştir?

- A) Bir milletin kültürü hakkında bilgi verdiğine
B) En etkili anlaşma aracı olduğuna
C) Millî kimlik oluşturmada önemli bir işlevi bulunduğuna
D) Sürekli bir değişim içinde olduğuna

1. OTURUM

9. İşten o gün erken çıkmıştı. İş yerindeki on yıllık arkadaşının, müdürlük terfisi için kendisini kırmasına çok içerlemişti. Demek hırs insanı bu hâle getirebiliyordu. Bir simit alıp sahilde uçuşan martılara atmaya başladı. Onlar da bir lokmayı kapmak için nasıl birbirleriyle kıyasıya yarışlıyordu. İnsanlar böyle mi olmalıydı ya? İnsan olma onuru, saygınlığı kalmamıştı artık.

Bu metinde aşağıdaki unsurlardan hangisi yoktur?

- A) Olay
B) Hayal
C) Düşünce
D) Duygu

10. Atatürk, Türkçenin sadeleşmesini sağlamak için değişik çalışmalar yapmıştı. Bunun için öncelikle 1932'de Türk Dil Kurumunu kurdu. Dilimize Türkçe terimler kazandırmak amacıyla 1936'da geometri alanında çalışmaya başladı. 1937'de "Geometri" adlı bir kitap yayımladı. Bu kitapta Arapça ve Farsça kökenli birçok terimin Türkçe karşılıkları yer alıyordu.

Bu metnin konusu aşağıdakilerden hangisidir?

- A) Arapça ve Farsçanın Türkçeye etkileri
B) Atatürk'ün Türk diline verdiği önem
C) Türk Dil Kurumunun kurulma amacı
D) Türkçenin tarihteki yeri

11. Kastamonu'daki "Küre Dağları Millî Parkı"nın mutlak koruma bölgesi içindeki Armutlu Çayırı, denizden bin metre yükseklikte. Yaklaşık üç kilometre kadar uzanan bu açıklık alanın etrafı ormanlarla kaplı. Bu ormanların diğer ormanlara göre canlı çeşitliliği çok fazla. Parktaki ormanların zemini birçok türde çalılarla örtülü. Bu çalılar hem karacaların saklanmalarına yarıyor hem de onlara besin sağlıyor. Sonbaharda sarının binbir tonuyla bir renk cümbüşüne dönüşüyor ağaçlar.

Bu metinde aşağıdaki düşünceyi geliştirme yollarının hangisinden yararlanılmamıştır?

- A) Sayısal ifadelerden yararlanma
B) Betimleme
C) Tanımlama
D) Karşılaştırma

12. En etkili ve önemli okuma yöntemi - - - - okumadır. Okunanlar hakkında soru sorma alışkanlığı kazandırarak konu hakkında düşünülmesini, konunun olumlu ve olumsuz yanlarıyla değerlendirilmesini sağlar. Bu da insanı, doğruları bulmaya yönlendirir. Kişiyi aydın fikirli yaptığı için başkalarına tutsak olmaktan kurtarır.

Bu metinde boş bırakılan yere aşağıdaki kavramlardan hangisi getirilmelidir?

- A) işaretleyerek
B) eleştirel
C) özetleyerek
D) not olarak

13. (1) Mezopotomya'dan başlayıp Anadolu medeniyetlerine, Eski Yunan'dan Çin'e, oradan da Selçuklu ve Osmanlıya kadar uzanan zaman diliminde kapılar şehirlerin simgesi oldu. (2) Şehir kapıları, surlarla çevrilmiş kentlere girip çıkarken kullanılıyordu. (3) Böylece şehrin düşmandan korunması da sağlanıyordu. (4) Geleneksel Türk evlerinde kapılar, evin "hayat" adı verilen bölümüne açılırdı. (5) Evdeki yaşamın ilk belirtisi bu bölümdür ve evin en canlı yeridir. (6) Doğal olarak buraya açılan kapının yapımına da ayrı bir özen gösterilirdi.

Bu metin iki paragrafa bölünmek istense ikinci paragraf numaralanmış cümlelerin hangisiyle başlar?

- A) 2. B) 3. C) 4. D) 5.

14. 1. Aşılası dağlar vardı uzakta,
2. Dağlarda masallardan kopup gelmiş
3. Ateş yakan bin atlı düşünürdüm,
4. Ve sonra koşardım pencereye

Yukarıdaki numaralanmış dizelerin hangilerinde birleşik zamanlı fiil kullanılmıştır?

- A) 1 ve 2. B) 1 ve 3.
C) 2 ve 4. D) 3 ve 4.

15. Bu iş için bu kadar para yetmez ama üzerimde babanızın çok emeği var () Harika bir insandı, harika () Neyse, ben yarın gelir çatıyı aktarırım ()

Bu metinde ayrıçla gösterilen yerlere sırasıyla aşağıdaki noktalama işaretlerinden hangileri getirilmelidir?

- A) (!) (;) (...)
B) (.) (!) (.)
C) (.) (.) (.)
D) (!) (...) (...)

1. OTURUM

16. Aşağıdaki cümlelerin hangisinde sayıların yazımıyla ilgili bir yanlışlık yapılmıştır?

- A) Spor salonu ikibinbeşyüz kişilikti, biz dışarıda kaldık.
- B) İstanbul'daki kardeşim üç ayda bir babamları görmeye gelir.
- C) Film, saat 11.00'de başlayacak, daha zamanımız var.
- D) Antalya'ya 200 kilometre yolumuz kaldı.

17. Aşağıdaki cümlelerin hangisinde oluş fiili kullanılmıştır?

- A) Bahçıvan sabah erkenden bahçeyi suladı.
- B) Evimizin eşyalarını yerleştirirken hepimiz yorulduk.
- C) Otobüse yetişmek için durağa kadar koştum.
- D) Eskiden sebze meyveler hemen çürürdü.

18. Aşağıdaki cümlelerdeki altı çizili sözcüklerden hangisi yapıca basittir?

- A) Grup arkadaşlarımız sunum için gerekli hazırlıkları yapmıştı.
- B) Yatağında sağa sola dönüp tembellik ediyordu.
- C) İstanbul'un her sokağı, tarihten bir sayfa açıyor insanlara.
- D) İş yerinin aşçısı çok güzel yemekler ve tatlılar yapıyor.

19. Aşağıdakilerden hangisi bildirme yazılarından değildir?

- A) Makale
- B) Tutanak
- C) Rapor
- D) Mektup

20. Sonbaharda bu adaya göçmen kuşlar uğradı.

Her yerde cıvı cıvı öterlerdi. Onlar adamıza geldiğinde çok seviniyordim. Sıkıcı günlerimiz onlarla renklenirdi.

Bu metindeki numaralanmış sözlerden hangisi zarf değildir?

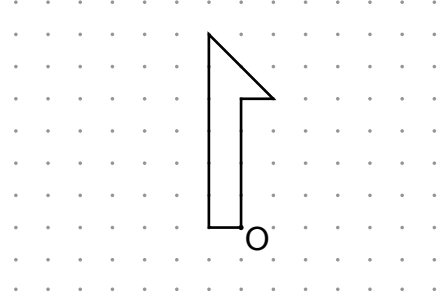
- A) 1.
- B) 2.
- C) 3.
- D) 4.

(731) MATEMATİK – 7

1. $(-8) + (-9) + (-2)$ işleminin sonucu kaçtır?

- A) -19
- B) -15
- C) 15
- D) 19

2.



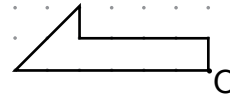
Yukarıda verilen şekil O noktası etrafında saat yönünde 90° döndürülüyor.

Buna göre şeklin döndürüldükten sonraki görünümünü aşağıdakilerden hangisi olur?

A)



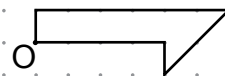
B)



C)



D)



1. OTURUM

3. Aşağıdaki rasyonel sayılardan hangisi en küçüktür?

- A) $\frac{11}{24}$ B) $\frac{4}{3}$ C) $\frac{7}{12}$ D) $\frac{5}{6}$

4. Ali'nin cebindeki paranın $\frac{2}{3}$ 'sini babası, geri kalanını annesi vermiştir.

Ali'nin cebinde 30 lira olduğuna göre annesinin verdiği para kaç liradır?

- A) 25 B) 20 C) 15 D) 10

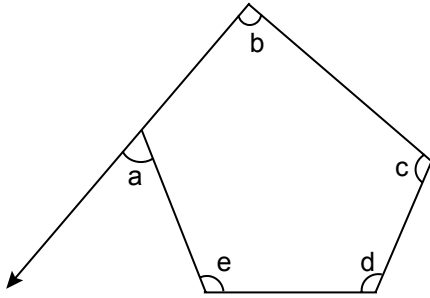
5. $\frac{\frac{1}{2} + \frac{1}{4}}{\frac{2}{4} + \frac{2}{8}}$ işleminin sonucu kaçtır?

- A) $\frac{1}{2}$ B) 1 C) $\frac{3}{2}$ D) 2

6. 2 saatte 1350 ekmek üretilen bir fırında 7 saatte kaç ekmek üretilir?

- A) 3350 B) 4215 C) 4725 D) 9450

7.



Aşağıdakilerden hangisi verilen çokgenin iç açılarından biri değildir?

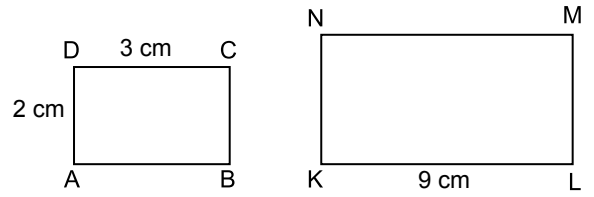
- A) a B) b C) c D) d

8. Bir ürünün etiket fiyatı üzerinden %52 indirim yapılıyor.

İndirimli fiyatı 84 lira olan bu ürünün etiket fiyatı kaç liradır?

- A) 160 B) 168 C) 175 D) 178

9.

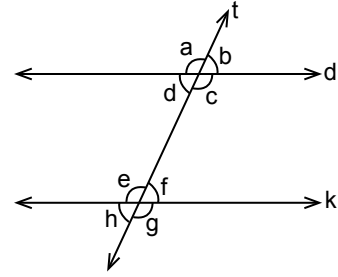


Şekildeki ABCD dikdörtgeni KLMN dikdörtgenine benzerdir.

Verilen kenar uzunluklarına göre ML kısa kenarının uzunluğu kaç santimetredir?

- A) 5 B) 6 C) 7 D) 8

10. Şekilde d//k ve t doğrusu kesendir.



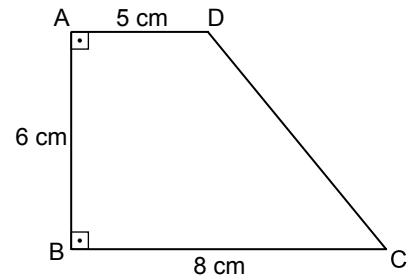
Verilenlere göre aşağıdaki hangi iki açı, iç ters açıdır?

- A) a ile f B) c ile f C) a ile g D) e ile c

11. Aşağıdakilerden hangisi 8 ile çarpılırsa çarpım 8! olur?

- A) 1! B) 7! C) 8! D) 9!

12.



Şekilde $[AD] \parallel [BC]$ ve $[AB] \perp [BC]$ 'dir.

Verilenlere göre ABCD yamuğunun alanı kaç santimetrekaredir?

- A) 30 B) 33 C) 36 D) 39

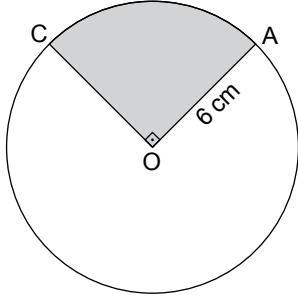
1. OTURUM

13. Küp şeklindeki bir tahtanın her bir yüzü 1'den 6'ya kadar farklı bir rakamla numaralandırılıyor.

Yere atılan bu tahtanın üste gelen yüzünde 4'ten küçük bir **tek sayı** yazılı olma olasılığı nedir?

- A) $\frac{1}{2}$ B) $\frac{1}{3}$ C) $\frac{1}{6}$ D) $\frac{2}{3}$

- 14.



Verilen O merkezli çemberde $m(\widehat{COA}) = 90^\circ$ dir.

Çemberin yarıçap uzunluğu 6 cm olduğuna göre boyalı bölgenin çevresinin uzunluğu kaç santimetredir? (π 'yi 3 alınız.)

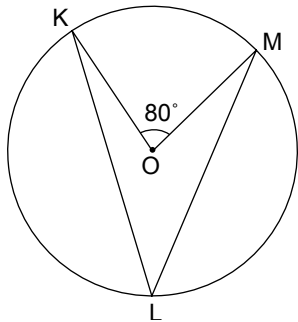
- A) 15 B) 21 C) 42 D) 48

15. Bir tarlanın % 50'sine buğday, % 20'sine arpa ve % 30'una mercimek ekiliyor.

Bu veriler bir daire grafiğinde gösterildiğinde, buğday ekili alanı gösteren daire diliminin merkez açısı kaç derece olur?

- A) 72 B) 108 C) 150 D) 180

- 16.



Verilen O merkezli çemberde KOM açısının ölçüsü 80° dir.

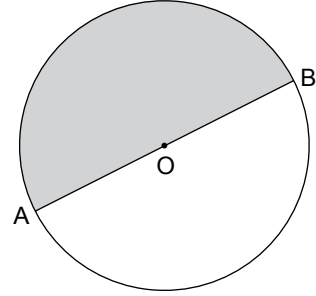
Buna göre KLM açısının ölçüsü kaç derecedir?

- A) 80 B) 60 C) 40 D) 20

17. $(-x) \cdot (-2x) \cdot (-3)$ işleminin sonucu aşağıdakilerden hangisidir?

- A) $-6x^2$ B) $6x^2$ C) $-3x^2$ D) $3x^2$

- 18.



Şekildeki O merkezli dairede $|AB| = 20$ cm'dir.

Buna göre boyalı bölgenin alanı kaç santimetrekaredir? (π 'yi 3 alınız.)

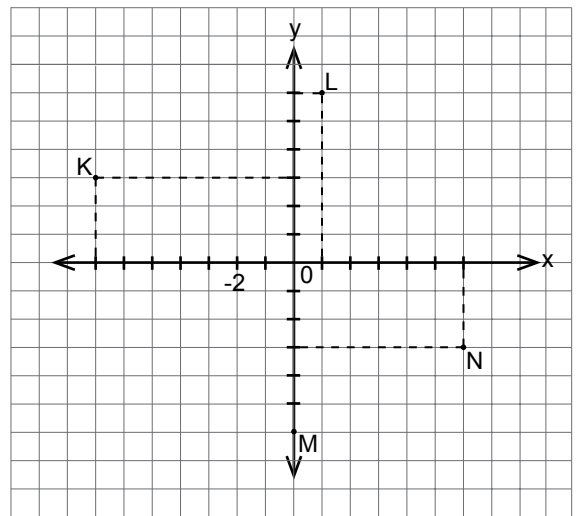
- A) 600 B) 300 C) 150 D) 75

19. Tabanının çevresi 6 cm olan silindirin yüksekliği 7cm'dir.

Bu silindirin hacmi kaç santimetreküptür? (π 'yi 3 alınız.)

- A) 12 B) 21 C) 24 D) 42

- 20.



Şekle göre aşağıdaki hangi noktanın koordinatları **yanlıştır**?

- A) K(-7,3) B) L(1,6)
C) M(-6,0) D) N(6,-3)

1. OTURUM

(732) FEN VE TEKNOLOJİ – 7

- I. Hareket hâlindeki araba → Kinetik enerji
II. Dalında duran elma → Çekim potansiyel enerjisi
III. Sıkıştırılmış yay → Kinetik enerji
IV. Rafta duran kitap → Çekim potansiyel enerjisi

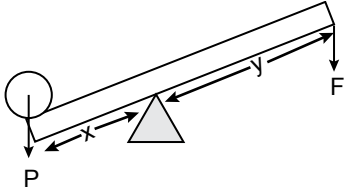
Yukarıda verilen cisimler ve sahip olduğu enerji eşleştirmelerinden hangileri doğrudur?

- A) Yalnız I
B) II ve III.
C) I, II ve IV.
D) II, III ve IV.

- Işık ışınlarını alan maddelerde sıcaklık artışına sebep olan olay aşağıdakilerden hangisidir?

- A) Yansıma
B) Soğurulma
C) Kırılma
D) Yayılma

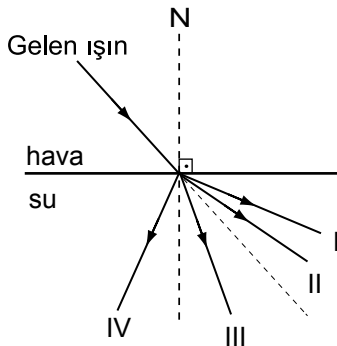
- Şekilde bir kaldıraç örneği gösterilmiştir.



Buna göre bu kaldıraçla ilgili aşağıdakilerden hangisi doğrudur?

- A) El arabası bu kaldıraça örnektir.
B) $x > y$ ise kuvvetten kazanç sağlanır.
C) Destek uçtadır.
D) Çift taraflı kaldıraçtır.

- Şekilde hava ortamından su ortamına gönderilen bir ışık ışını gösterilmiştir.



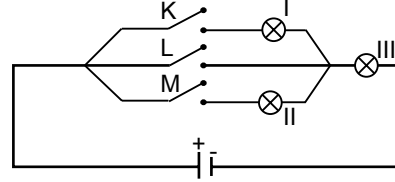
Buna göre gelen ışın su ortamına geçtiğinde kaç numaralı yolu izler?

- A) I
B) II
C) III
D) IV

- Voltmetre ile ilgili aşağıda verilen ifadelerden hangisi doğrudur?

- A) Devreye seri bağlanır.
B) İç direnci çok düşüktür.
C) Ölçülen değer ohm birimi ile ifade edilir.
D) Devrede iki uç arasındaki gerilimi ölçer.

- Şekilde bir elektrik devresi verilmiştir.



Buna göre yalnız III numaralı ampulün yanması için hangi anahtarlar kapatılmalıdır?

- A) Yalnız K
B) Yalnız L
C) K ve L
D) L ve M

- Uzaydan gelen katı bir cisim Dünya'nın çekim kuvveti etkisi ile atmosfere girer, hava ile sürtünerek ısınır parçalanır ve yer yüzüne ulaşır.

Yeryüzüne ulaşan bu gök cismi aşağıdakilerden hangisidir?

- A) Gök taşı
B) Yıldız
C) Kuyruklu yıldız
D) Asteroit

- Güneş sistemindeki bazı gezegenler aşağıda verilmiştir.

Bunlardan hangisi iç gezegendir?

- A) Neptün
B) Jüpiter
C) Uranüs
D) Merkür

- Aşağıdakilerden hangisi sıvı-gaz çözeltilerine örnek verilebilir?

- A) Gazoz
B) Çay
C) Şekerli su
D) Kolonya

1. OTURUM

10. Bir bardak soğuk suya iki yemek kaşığı tuz konuluyor.

Tuzun suda daha çabuk çözünmesi için,

- I. Suyun sıcaklığını artırma
- II. Bir kaşıkla karıştırma
- III. Suyun içine bir parça buz atma

işlemlerinden hangileri yapılmalıdır?

- A) Yalnız I B) I ve II.
C) II ve III. D) I, II ve III.

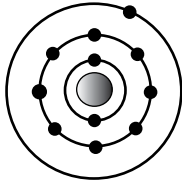
11. Sodyum ve klor iyonlarının elektron alışverişi sonucu oluşturdukları sodyum klorür (NaCl) bileşiğiyle ilgili aşağıda verilen bilgilerden hangisi yanlıştır?

- A) Kovalent bağ sonucunda oluşan bir bileşiktir.
B) Kristal görünümlü yapıya sahiptir.
C) Eşit sayıda Na⁺ ve Cl⁻ iyonları bulundurur.
D) Sofra tuzu olarak da adlandırılır.

12. Aşağıdakilerden hangisi çok atomlu iyon örneğidir?

- A) Ca⁺² B) Li⁺ C) OH⁻ D) Mg⁺²

13. Şekilde atom numarası 11 olan nötr sodyum elementinin elektron dizilimi verilmiştir.



Buna göre aşağıdakilerden hangisi doğrudur?

- A) 12 elektronu vardır.
B) Proton sayısı 11'dir.
C) 4 katmanı vardır.
D) Son katmanında 2 elektron bulunur.

14. • Bu göz kusuru olan gözlerde görüntü sarı lekenin arkasında oluşmaktadır.
• Bu göz kusurunda yakındaki cisimler net görülemez.

Özellikleri verilen göz kusuru ve tedavisinde kullanılacak mercek aşağıdakilerin hangisinde birlikte verilmiştir?

- A) Miyop - İnce kenarlı mercek
B) Miyop - Kalın kenarlı mercek
C) Hipermetrop - Kalın kenarlı mercek
D) Hipermetrop - İnce kenarlı mercek

15. Aşağıdakilerden hangisi deride vücut sıcaklığının sabit kalmasına yardımcı olan yapılardan değildir?

- A) Kıl kökleri B) Ter bezleri
C) Kan damarları D) Yağ bezleri

16. Aşağıdakilerden hangisi hipofiz bezinin görevlerinden değildir?

- A) Büyüme hormonu salgılamak.
B) Tüm salgı bezlerinin çalışmasını düzenlemek.
C) Kanla hücreler arasındaki şeker geçişini düzenlemek.
D) İç salgı bezleri ile sinir sistemi arasındaki uyumu sağlamak.

17. • Besinler burada uzun süre bekletilir.
• Proteinlerin kimyasal sindirimi burada başlar.
• Hem mekanik hem de kimyasal sindirim gerçekleşir.

Yukarıda bazı görevleri verilen organ hangisidir?

- A) İnce bağırsak B) Kalın bağırsak
C) Ağız D) Mide

18. Mısır → Çekirge → Kurbağa → Yılan → Baykuş
Yukarıda verilen besin zincirinin bulunduğu bir bölgede yapılan çalışmalarla çekirge sayısı azalıyor. Bunun sonucunda öncelikle hangi canlının sayısında azalma görülür?

- A) Mısır B) Kurbağa C) Yılan D) Baykuş

1. OTURUM

19. "Belirli bir bölgede yaşayan, aynı türe ait bireylerin oluşturduğu topluluğa popülasyon denir."
Buna göre aşağıdakilerden hangisi popülasyona örnek verilebilir?

A) Ankara'daki tüm kedi türleri
B) Afrika'daki bitki ve hayvanlar
C) Akdeniz bölgesi
D) Karadeniz hamsileri

20. Aşağıdakilerden hangisi ülkemizdeki biyolojik zenginliğin nedenlerinden değildir?

A) Coğrafi konum ve iklim farklılığının fazla olması
B) Bazı kuş türlerinin, göç yolları üzerinde bulunması
C) Erozyon olayının hızlı bir şekilde yaşanması
D) Bitki ve hayvan türlerinin fazla sayıda olması

(834) T.C. İNKILAP TARİHİ VE ATATÜRKÇÜLÜK – 8

1. Mustafa Kemal'in lise öğrenimini gördüğü okul aşağıdakilerden hangisidir?

A) Manastır Askerî İdadisi
B) Selanik Askerî Rüştiyesi
C) Selanik Mülkiye Rüştiyesi
D) İstanbul Harp Okulu

2. Aşağıdakilerden hangisi İttifak Devletlerinden biridir?

A) Rusya
B) Fransa
C) İngiltere
D) Osmanlı Devleti

3. Aşağıdakilerden hangisi Mustafa Kemal'in Çanakkale Cephesi'nde kazandığı savaşlardan biri değildir?

A) Anafartalar
B) Dumlupınar
C) Conkbayırı
D) Arıburnu

4. Amasya Genelgesi'nin aşağıdaki maddelerinden hangisi ile Kurtuluş Savaşı'nın gerekçesi belirtilmiştir?

A) Milletin haklarını savunmak için milli bir kurulun varlığı gereklidir.
B) Milletin istiklalini yine milletin azim ve kararı kurtaracaktır.
C) Vatanın bütünlüğü, milletin istiklali tehlikededir.
D) Vaziyet milli bir sır olarak tutulmalıdır.

5. "Manda ve himaye kabul edilemez." kararı ilk kez nerede alınmıştır?

A) Sivas Kongresi
B) Amasya Genelgesi
C) Havza Genelgesi
D) Erzurum Kongresi

6. Kurtuluş Savaşı'nda Doğu Cephesi Komutanı olarak görev yapan, Sarıkamış ve Kars'ı Ermeni işgalinden kurtaran komutan aşağıdakilerden hangisidir?

A) Kâzım Karabekir Paşa
B) Fevzi Paşa
C) İsmet Paşa
D) Mustafa Kemal Paşa

7. Kuvayimilliyeye birlikleri ile ilgili olarak aşağıdaki bilgilerden hangisi yanlıştır?

A) Düşmana karşı halkın tepkisi sonucu oluşan savunma birlikleridir.
B) Sakarya Zaferi Kuvayimilliyeciler tarafından kazanılmıştır.
C) Kadın-erkek eli silah tutan herkes bu birliklere katılmıştır.
D) Kuvayimilliyeye, Türk vatanseverliğinin ve direniş azminin simgesi olmuştur.

8. Mustafa Kemal, cephe komutanına çektiği telgrafta "Siz orada yalnız düşmanı değil, milletin malkus (kötü) talihini de yendiniz." diyerek aşağıdaki savaşlardan hangisinin önemini belirtmiştir?

A) Sakarya Savaşı
B) Kütahya - Eskişehir Savaşları
C) Çanakkale Savaşı
D) İkinci İnönü Savaşı

9. Mehmet Akif Ersoy tarafından yazılan İstiklal Marşı - - - tarihinde TBMM'de millî marş olarak kabul edilmiştir.

Bu cümlede boş bırakılan yer, aşağıdakilerden hangisi ile tamamlanmalıdır?

A) 12 Mart 1921
B) 23 Nisan 1920
C) 20 Ekim 1921
D) 26 Ağustos 1922

1. OTURUM

10. Tekâlif-i Milliye Emirleri'nin yayımlanmasının amacı aşağıdakilerden hangisidir?

- A) Yeni okulların açılması
- B) Ordunun ihtiyaçlarının halk tarafından karşılanması
- C) Misakımillinin halka duyurulması
- D) Doğu Anadolu'nun Ermeni işgalinden kurtarılması

11. Aşağıdaki antlaşmalardan hangisi ile Kurtuluş Savaşı'nın Güney Cephesi kapanmış, Hatay dışında bugünkü güney sınırimız çizilmiştir?

- A) Gümrü Antlaşması
- B) Moskova Antlaşması
- C) Ankara Antlaşması
- D) Kars Antlaşması

12. Lozan Barış Antlaşması ile ilgili olarak aşağıda verilen bilgilerden hangisi yanlıştır?

- A) Kapitülasyonlar kaldırılmıştır.
- B) Boğazlar Türk hâkimiyetine geçmiştir.
- C) Türkiye'deki gayrimüslimler Türk vatandaşı kabul edilecektir.
- D) Yunanistan Türkiye'ye savaş tazminatı olarak Karaağaç'ı verecektir.

13. "Misak-ı İktisadi" aşağıdaki alanlardan hangisi ile ilgilidir?

- A) Siyasi
- B) Ekonomik
- C) Kültürel
- D) Dinî

14. Aşağıdakilerden hangisi ile ülke genelinde faaliyet gösteren bütün eğitim kurumları Millî Eğitim Bakanlığına bağlanmıştır?

- A) Medeni Kanun'un kabulü ile
- B) Maarif Kongresi'nden sonra
- C) Halifeliğin kaldırılmasından sonra
- D) Tevhid-i Tedrisat Kanunu ile

15. Aşağıdakilerden hangisi güzel sanatları geliştirmeye yönelik değildir?

- A) Devlet Resim ve Heykel Müzesi'nin açılması
- B) Atatürk Orman Çiftliği'nin kurulması
- C) Güzel Sanatlar Akademisi'nin açılması
- D) Musiki Muallim Mektebi'nin kurulması

16. Aşağıdaki ilkelerden hangisinin amacı milleti devlet yönetiminde söz ve karar sahibi yapmaktır?

- A) Milliyetçilik
- B) Devletçilik
- C) İnkılapçılık
- D) Cumhuriyetçilik

17. Aşağıdakilerden hangisi milliyetçilik ilkesiyle doğrudan ilgili bir gelişmedir?

- A) Türk Tarih Kurumunun kurulması
- B) Medeni Kanunu'nun kabulü
- C) Aşar vergisinin kaldırılması
- D) Numune Hastanesi'nin açılması

18. Aşağıdaki ilkelerden hangisinin amacı, yeniliklerin ve çağdaşlaşmanın sürekliliğini sağlamaktır?

- A) İnkılapçılık
- B) Milliyetçilik
- C) Devletçilik
- D) Halkçılık

19. Aşağıdaki devletlerden hangisi Balkan Antantı'na üye değildir?

- A) Türkiye
- B) Bulgaristan
- C) Yunanistan
- D) Romanya

20. Aşağıdakilerden hangisi İkinci Dünya Savaşı'ndan sonra Türkiye'de ortaya çıkan sosyal ve ekonomik sorunlardan biri değildir?

- A) İşsizlik
- B) Konut sorunu
- C) Çok partili hayata geçiş
- D) Köyden kente göç

1. OTURUM

(835) İNGİLİZCE – 8

1-20. sorularda boş bırakılan yere uygun gelen kelime ya da ifadeyi işaretleyiniz.

1. The telephone has rung six times - - - - this morning.

- A) just B) for C) since D) yet

2. - - - - she ever been to Paris?

- A) Has B) Have C) Will D) Did

3. Istanbul is - - - - city I have ever visited.

- A) so beautiful B) as beautiful as
C) more beautiful D) the most beautiful

4. Did he - - - - until his friends came?

- A) sleeping B) sleep
C) slept D) to sleep

5. Mustafa Kemal Atatürk was born - - - - 1881.

- A) in B) at C) on D) to

6. What was she - - - - yesterday morning?

- A) do B) did C) does D) doing

7. When I saw her, she - - - -.

- A) will watch TV
B) was having lunch
C) has washed the dishes
D) is going to study English

8. Arthur always gets up early and goes to work on time. He is - - - -.

- A) sincere B) cheerful
C) punctual D) supportive

9. My students always tell the truth and never gossip. They are - - - - students.

- A) reliable B) funny
C) thankful D) hardworking

10. Mark : - - - - is Bursa from Ankara?
Celal : It is 390 km.

- A) How many B) Which
C) Where D) How far

11. Ivy : - - - - do you like cats?

Nora : Because they are friendly animals.

- A) When B) What
C) Who D) Why

12. There is a - - - - of chocolate on the table.

- A) cup B) bar
C) jar D) bottle

13. If you have a problem about your lesson, you - - - - talk to your teachers.

- A) used to B) wouldn't
C) should D) shouldn't

14. If I - - - - her phone number, I would call her.

- A) know B) knew
C) known D) knowing

15.



Becky : What is the weather like in Kars today?
Ziya : It is - - - -.

- A) snowy B) windy
C) sunny D) foggy

16. I would rather - - - - tea than coffee.

- A) had B) have
C) has D) having

1. OTURUM

17. The pen - - - - I bought yesterday was expensive.

- A) who B) whom
C) which D) where

18. The house - - - - I live is very old.

- A) who B) where
C) whose D) what

19. Where is coffee - - - -?

- A) grown B) grows
C) grow D) grew

20. My brother is - - - - short to play basketball.

- A) enough B) much
C) many D) too

(835) ALMANCA – 8

1-19. sorularda boş bırakılan yere uygun gelen ek, kelime ya da ifadeyi işaretleyiniz.

1. Die Tasche - - - - Frau ist schön.

- A) der B) die C) das D) den

2. Dieses Flugzeug - - - - nach Istanbul.

- A) fährt B) geht C) fliegt D) springt

3. Das blond- - - - Mädchen geht in die 8. Klasse.

- A) -en B) -e C) -er D) -es

4. Dieses Buch habe ich für - - - - Bruder zum Geburtstag gekauft.

- A) meine B) deinem C) ihrer D) meinen

5. Wir - - - - ein Haus kaufen. (istek)

- A) müssen B) wollen
C) können D) sollen

6.



Ayşe 1.80 m Ahmet 1.70 m

Ayşe ist - - - - Ahmet.

- A) länger als B) kürzer als
C) so lang wie D) fast so kurz

7. A: - - - - liest du?


B: Einen Roman.

- A) Woher B) Welches
C) Was D) Warum

8. laut, - - - - , am lautesten

- A) laute B) lautere C) lauten D) lauter

9.



Das ist ein - - - -.

- A) Katze B) Hund
C) Vogel D) Fisch

10. Die schön- - - - - Blumen.

- A) -e B) -er C) -en D) -es

11. Antalya ist so - - - - wie Izmir.

- A) schön B) schönste
C) schöner D) schon

12. A: Entschuldigung, - - - - komme ich zum Bahnhof?

B: Mit dem Bus.

- A) wo B) wann C) warum D) wie

1. OTURUM

13. - - - - machst du in den Ferien?

- A) Wo B) Was
C) Warum D) Wann

14. Meine Mutter ist - - - - als ihre ältere Schwester.

- A) alt B) jung
C) jünger D) älter

15. A: Dieses Geschenk ist für - - - - .
B: Vielen Dank.

- A) dich B) sie C) er D) du

16. Meine Frau träumt von ein- - - - - neu- - - - - Haus.

- A) - / -es B) -en / -en
C) -e / -e D) -em / -en

17. Hasan isst Döner - - - - Hamburger.

- A) mehr B) lieber als
C) so lieb D) kostet

18. Ein fleißig- - - - - Schüler bekommt immer gute Noten.

- A) -e B) -es C) -er D) -en

19. A: Wann gehst du ins Kino?
B: - - - - ich Zeit habe.

- A) Wenn B) Warum
C) Was D) Wie

20. Aşağıdakilerden hangisi fiil değildir?

- A) sitzen B) bauen
C) fahren D) neben

(835) FRANSIZCA – 8

1-15. sorularda boş bırakılan yere uygun gelen kelime ya da ifadeyi işaretleyiniz.

1. Samedi après-midi - - - - suis allée faire des courses.

- A) elle B) je C) ils D) tu

2. Nous - - - - notre cours de piano il y a quinze minutes.

- A) allez finir B) sommes fini
C) ont fini D) avons fini

3. Luisa est née le 18 mai 1990 - - - - Madrid - - - - Espagne.

- A) au / aux B) en / au
C) à / au D) à / en

4. Pour acheter des livres et des magazines Diane va chez - - - - .

- A) le libraire B) le fromager
C) le pâtissier D) le poissonnier

5. Aujourd'hui, il fait 25 degrés à Erzurum ; il fait 33 degrés à Mersin.

La ville d' Erzurum est - - - - - que la ville de Mersin.

- A) aussi chaude B) plus chaude
C) moins chaude D) aussi froid

6. J'ai mangé dix cerises ; Nicole a mangé quinze cerises.

Alors, Nicole a mangé - - - - de cerises que moi.

- A) tant B) autant C) moins D) plus

7. Comme dessert, - - - - une tarte au chocolat.

- A) mange B) bois C) déjeune D) dîne

8. La fraise coûte trois euros - - - - .

- A) le litre B) le kilo
C) le mètre carré D) le mètre

1. OTURUM

9. **Efe** : C'est ---- la médiathèque ?
Léa : Elle est en face de l'Hôtel de ville.

- A) ou B) combien
C) où D) quand

10. **Pour aller en Grèce, nous ---- en bateau.**

- A) voyageons B) devenons
C) voyons D) visitons

11. **Voilà le cadeau de mariage de ma fille ---- nous avons acheté samedi dernier.**

- A) où B) qui C) dont D) que

12. **Pour aller à l'école, Pierre préfère les chemins ---- sont dans la forêt.**

- A) pourquoi B) qui
C) où D) que

13. **Mme Bugeaud a 83 ans, c'est ----.**

- A) une jeune fille
B) une vieille dame
C) un vieux monsieur
D) une fille brune

14. **Si tu viens ce soir, nous ---- un film d'action.**

- A) regarderez B) avons regardé
C) regarderons D) regardent

15. **Stéphane ---- faire du vélo quand sa femme est rentrée.**

- A) allait B) sont allés
C) vas aller D) es allé

16 - 20. soruları resimleri dikkate alarak cevaplayınız.

16.



Il fait ----.

- A) du surf B) du camping
C) du théâtre D) de la cuisine

17.

Il ---- son manteau en courant.



- A) pleure B) cherche
C) met D) lit

18.



Quand il n'y a pas de cours dans la semaine, mon fils ---- tard.

- A) se brosse les dents
B) se promène
C) se coiffe
D) se réveille

19.

Elle a mal ----.



- A) au ventre B) à la tête
C) aux bras D) à l'estomac

20.

Il ne peut pas courir parce qu'il a ----.



- A) la jambe cassée B) mal au cou
C) mal à la gorge D) le doigt cassé

1. OTURUM

(836) DİN KÜL. VE AHLAK BİLGİSİ – 8

1. Aşağıdakilerden hangisi kaza ve kader konusyla ilişkili kavramlardan biri değildir?

- A) Tevekkül B) İrade
C) Doğruluk D) Rızık

2. Deniz ve göllerdeki tuz, suda yaşayan canlıların yaşamlarına uygun orandadır. Gezegen ve yıldızların büyüklükleri, aralarındaki mesafe, evrendeki dengeyi sarsmayacak şekilde Allah tarafından konulmuştur. Atmosfer, dünyamızın etrafını sarmakta ve yer çekiminin etkisiyle dünyanın çevresinde yer almaktadır.

Bu metinde, aşağıdakilerden hangisi vurgulanmaktadır?

- A) Allah deniz ve gölleri bazı canlıların yaşamasına uygun yaratmıştır.
B) Allah'ın yaratmasında, mükemmel bir planlama, ölçü ve düzen vardır.
C) Dünyamızın etrafını saran atmosfer yer çekimine göre planlanmıştır.
D) Gezegen ve yıldızların aralarındaki mesafe, evrendeki denge gözetilerek ayarlanmıştır.

3. "Allah'ın neyin, ne zaman, nerede olacağını belli bir ölçü, düzen ve plan içerisinde yaratması" anlamına gelen kavram aşağıdakilerden hangisidir?

- A) Kader B) Ecel C) Denge D) Ömür

4. "(Ey insanlar!) Biz sizi basit bir sudan yaratmadık mı? İşte o suyu, belli bir süreye kadar sağlam bir yere yerleştirdik, sonra da ona ölçülü bir biçim verdik..."

(Mürselât suresi, 20-23.ayetler)

Bu ayetlerde, evrendeki yasalardan hangisine işaret edilmektedir?

- A) Toplumsal B) Biyolojik
C) Fiziksel D) Kimyasal

5. İnsanın doğumundan ölümüne kadar geçen sınırlı zaman dilimine denir.

Tanımlanan kavram aşağıdakilerden hangisidir?

- A) Hayat B) Ecel C) Alem D) Ömür

6. Aşağıdakilerden hangisi zekât verecek kişide aranan şartlardan biri değildir?

- A) Akıllı olmak
B) Zengin olmak
C) Bedenen sağlıklı olmak
D) Ergenlik çağına girmiş olmak

7. Hac ve umre hakkında aşağıda verilen bilgilerden hangisi yanlıştır?

- A) Hacda da umrede de Kâbe tavaf edilir.
B) Hac da umre de ömürde bir kez yapılır.
C) Umrede vakfe yoktur, hacda ise vakfe yapılır.
D) Umrede şeytan taşlama yoktur, hacda ise vardır.

8. Kurban Bayramı arifesinde öğle vaktinde bayram sabahına kadar, bir süre Arafat'ta bulunmaktır. Haccın farzlarından biridir.

Tanımlanan kavram aşağıdakilerden hangisidir?

- A) Vakfe B) Tavaf
C) İtikâf D) Ziyaret

9. Hz. Peygamber, çevresindeki bilgi sahibi kişilerin görüşlerine başvururdu. Herhangi bir konuda karar vermeden önce işin uzmanı olan kişilerin görüşlerini alırdı. Bu görüş ve fikirler çerçevesinde çoğunluğun verdiği ortak karara uyardı.

Bu parçada, Hz. Muhammed'in (sav.) aşağıdaki özelliklerinden hangisi ön plana çıkmaktadır?

- A) Merhametli olması
B) Adalete değer vermesi
C) Danışarak iş yapması
D) Güvenilir olması

10. Hz. Muhammed (sav.), hayatı boyunca pek çok zorlukla karşılaşmıştır. Dünyaya gelmeden babasını, çok küçük yaşlarda iken annesini kaybetmiştir. Yetim ve öksüzlüğün beraberinde getirdiği sıkıntılara katlanmıştır. Peygamberlik görevini yerine getirirken de pek çok sıkıntıya göğüs germiştir. Ancak bütün bunlar karşısında asla yılgınlığa düşmemiştir.

Bu parçada, Hz. Muhammed'in (sav.), hangi özelliği vurgulanmaktadır?

- A) Yetim ve öksüz büyümesi
B) Yaşadıklarından ders çıkarması
C) Zorluklar karşısında sabırlı davranması
D) Karşılaştığı zorlukları dostları ile paylaşması

1. OTURUM

11. Hz. Muhammed'in (sav.), davet metotları arasında aşağıdakilerden hangisi yer almaz?

- A) Müjdeleme ve kolaylaştırma
- B) Korkutma ve sindirme
- C) Yumuşak ve tatlı dil
- D) Sevgi ve hoşgörü

12. Ey İnsanlar, geçmiş milletlerin ne yüzünden helak olduğunu biliyor musunuz? Onlar mevki-makam sahibi olan zengin bir kimse bir şey çalarsa onu affeder, zayıf güçsüz birisi hırsızlık yapınca ise onu cezalandırırlardı. Allah'a yemin ederim ki kızım Fatıma da suç işlemiş olsaydı cezalandırırdım.

Hz. Muhammed (sav.), bu hadisinde aşağıdakilerden hangisinin önemine işaret etmektedir?

- A) Hoşgörü
- B) Sabır
- C) Cesaret
- D) Adalet

13. "Ey inananlar, size fâsık (yoldan çıkmış) bir adam bir haber getirirse onun doğruluğunu araştırın. Yoksa bilmeyerek bir topluluğa karşı kötülük edersiniz de sonra yaptığınıza pişman olursunuz." (Hucurât suresi, 6.ayet)

Bu ayetten çıkarılabilecek en kapsamlı yargı aşağıdakilerden hangisidir?

- A) Fâsık kişinin getirdiği haberin doğruluğuna itibar edilmez.
- B) İnsan, bilmeyerek de başkalarına kötülük edebilir.
- C) İnsanın her duyduğuna inanmaması gerekir.
- D) Son pişmanlık fayda etmeyecektir.

14. Aşağıdakilerden hangisi Kur'an'a göre bilgi edinme yolları arasında yer almaz?

- A) Vahiy
- B) Akıl
- C) Rüya
- D) Duyu organları

15. Bir düşünceye, inanışa körü körüne aşırı derecede bağlanıp ondan başkasını düşünememe durumudur.

Tanımlanan kavram aşağıdakilerden hangisidir?

- A) Taassup
- B) Bilgi
- C) İman
- D) İnanç

16. Dinimiz haksız kazancı yasaklamakta, el emeği ve alın teri ortaya konarak elde edilen kazancı ise ibadet kabul etmektedir. Çünkü başkasının malını meşru olmayan yollarla almak ve yemek haramdır.

Bu metinde, aşağıdaki kötü alışkanlıklardan hangisinin yasaklanma sebebinden söz edilmektedir?

- A) İçki
- B) Kumar
- C) Sigara
- D) Uyuşturucu

17. Din duygusu yaratılıştan gelen bir duygudur. Tarihin her döneminde insanlar, çeşitli varlıkları kutsal kabul etmiş ve bunlara tapınmışlardır. Bazen ayı, güneşi, yıldızları, bazen ateşi, bir hayvanı veya kendi elleriyle yaptıkları putları kutsallaştırmışlardır.

Bu metinde aşağıdakilerden hangisine değinilmemiştir?

- A) İnanmak, insanın doğuştan getirdiği duygudur.
- B) Tarih boyunca inançsız bir toplumdaki söz edilemez.
- C) İnsanlar, daima kutsallaştırma eğilimine sahip olmuşlardır.
- D) İnanmak, varlıklar içerisinde sadece insana özgü bir niteliktir.

18. Bir kişinin "İnsan, geçmişte yaptıklarının karşılığını başka bir bedende dünyaya tekrar gelerek görecektir." şeklinde düşünmesi aşağıdakilerden hangisine inandığının göstergesidir?

- A) Tenâsüh
- B) Ahiret
- C) Ecel
- D) Ömür

19. Aşağıdakilerden hangisi Hristiyanlıkta yazarlarının adıyla anılan dört İncil'den biri değildir?

- A) Yuhanna
- B) Carlos
- C) Matta
- D) Luka

20. Hırsızlık, yalan, iftira ve öldürme gibi tutum ve davranışlar bütün dinler tarafından yasaklanmıştır.

Buna göre dinlerle ilgili aşağıdakilerden hangisinin evrensel olduğu söylenebilir?

- A) İnanç esaslarının
- B) İbadet şekillerinin
- C) Dua ve törenlerinin
- D) Ahlak ilkelerinin

TEST BİTTİ.
CEVAPLARINIZI KONTROL EDİNİZ.

CEVAP KÂĞIDI VE SORU KİTAPÇIĞI İLE İLGİLİ AÇIKLAMALAR

1. Cevap kâğıdınızdaki bilgilerin doğruluğunu kontrol ediniz ve cevap kâğıdınızı mürekkepli kalemle imzalayınız.
2. Cevap kâğıdı üzerinde kodlamalarınızı siyah kurşun kalemle yapınız.
3. Değiştirmek istediğiniz bir cevabı, yumuşak silgiyle cevap kâğıdını örselemeden temizce siliniz ve yeni cevabınızı kodlayınız.
4. Soru kitapçığının sayfalarını görevlilerin uyarıları doğrultusunda kontrol ediniz, baskı hatası var ise değiştirilmesini sağlayınız.
5. Soruların çözümü için size ayrıca boş kâğıt verilmeyecektir. Soru kitapçığının içindeki boş alanları soru çözümleri için kullanabilirsiniz.
6. Her sorunun dört seçeneğinden sadece biri doğrudur. Doğru seçeneği, cevap kâğıdınızın ilgili sütununa soru numarasını dikkate alarak yuvarlağın dışına taşırmadan kodlayınız. Soru kitapçığı üzerinde yapılan cevaplandırmalar dikkate alınmayacaktır.
7. Cevaplamaya istediğiniz dersin sorusundan başlayabilirsiniz. Cevabını bilmediğiniz sorular üzerinde fazla zaman kaybetmeden diğer sorulara geçiniz. Zamanınız kalırsa bu sorulara daha sonra dönebilirsiniz.
8. Yanlış cevaplarınız dikkate alınmadan sadece doğru cevaplarınız üzerinden puanlama yapılacaktır.
9. Soruları ve sorulara verdiğiniz cevapları, yanınızda götürmek amacıyla kaydetmeyiniz; hiçbir şekilde dışarı çıkarmayınız.
10. Sınav bitiminde soru kitapçığı ve cevap kâğıdını salon görevlilerine teslim ediniz.

SALON GÖREVLİLERİNCE SINAV BAŞLAMADAN ÖNCE ADAYLARA YAPILACAK SON UYARILAR

- Soracağınız bir şey varsa şimdi sorunuz, sınav başladıktan sonra sorularınıza cevap verilmeyecektir.
- Başlama zilini bekleyiniz.

Hepinize başarılar dileriz.

(Salon başkanı başlama ve bitiş saatini tahtaya yazacaktır.)

Bu kitapçığın her hakkı saklıdır. Hangi amaçla olursa olsun, kitapçığın tamamının veya bir kısmının Millî Eğitim Bakanlığı Ölçme, Değerlendirme ve Sınav Hizmetleri Genel Müdürlüğünün yazılı izni olmadan kopya edilmesi, fotoğraflarının çekilmesi, bilgisayar ortamına alınması, herhangi bir yolla çoğaltılması, yayımlanması veya başka bir amaçla kullanılması yasaktır. Bu yasağa uymayanlar, doğabilecek cezai sorumluluğu ve kitapçığın hazırlanmasındaki mali külfeti peşinen kabullenmiş sayılır.

**01 TEMMUZ 2017 TARİHİNDE YAPILAN
AÇIK ÖĞRETİM ORTAOKULU 2016-2017 ÖĞRETİM YILI 3. DÖNEM SINAVI
1. OTURUM CEVAP ANAHTARI**

TÜRKÇE – 5

1. B
2. C
3. D
4. B
5. C
6. D
7. B
8. D
9. C
10. C
11. C
12. B
13. A
14. A
15. D
16. C
17. A
18. D
19. B
20. A

FEN BİLİMLERİ – 5

1. A
2. D
3. C
4. B
5. B
6. A
7. B
8. C
9. A
10. C
11. D
12. B
13. A
14. B
15. C
16. C
17. C
18. A
19. D
20. D

İNGİLİZCE – 6

1. D
2. B
3. C
4. B
5. D
6. A
7. C
8. D
9. B
10. A
11. C
12. A
13. D
14. B
15. A
16. C
17. A
18. B
19. D
20. B

FRANSIZCA – 6

1. D
2. B
3. C
4. A
5. A
6. C
7. D
8. B
9. D
10. B
11. C
12. C
13. D
14. B
15. C
16. A
17. A
18. C
19. D
20. B

MATEMATİK – 5

1. C
2. A
3. C
4. D
5. B
6. D
7. B
8. B
9. A
10. B
11. A
12. B
13. D
14. D
15. C
16. B
17. A
18. D
19. A
20. B

SOSYAL BİLGİLER – 6

1. A
2. C
3. A
4. C
5. B
6. D
7. A
8. B
9. C
10. D
11. D
12. C
13. A
14. B
15. B
16. D
17. D
18. B
19. B
20. A

ALMANCA – 6

1. A
2. C
3. D
4. B
5. A
6. C
7. D
8. C
9. A
10. B
11. B
12. D
13. A
14. B
15. D
16. D
17. C
18. C
19. A
20. D

**DİN KÜLTÜRÜ ve AHLAK
BİLGİSİ – 6**

1. C
2. A
3. D
4. B
5. A
6. B
7. D
8. C
9. C
10. B
11. A
12. B
13. A
14. C
15. B
16. D
17. B
18. C
19. A
20. D

**01 TEMMUZ 2017 TARİHİNDE YAPILAN
AÇIK ÖĞRETİM ORTAOKULU 2016-2017 ÖĞRETİM YILI 3. DÖNEM SINAVI
1. OTURUM CEVAP ANAHTARI**

TÜRKÇE – 7

1. C
2. A
3. C
4. A
5. B
6. C
7. A
8. D
9. B
10. B
11. C
12. B
13. C
14. D
15. B
16. A
17. D
18. C
19. A
20. D

FEN ve TEKNOLOJİ – 7

1. C
2. B
3. D
4. C
5. D
6. B
7. A
8. D
9. A
10. B
11. A
12. C
13. B
14. D
15. A
16. C
17. D
18. B
19. D
20. C

İNGİLİZCE – 8

1. C
2. A
3. D
4. B
5. A
6. D
7. B
8. C
9. A
10. D
11. D
12. B
13. C
14. B
15. A
16. B
17. C
18. B
19. A
20. D

FRANSIZCA – 8

1. B
2. D
3. D
4. A
5. C
6. D
7. A
8. B
9. C
10. A
11. D
12. B
13. B
14. C
15. A
16. B
17. C
18. D
19. B
20. A

MATEMATİK – 7

1. A
2. D
3. A
4. D
5. B
6. C
7. A
8. C
9. B
10. D
11. B
12. D
13. B
14. B
15. D
16. C
17. A
18. C
19. B
20. C

**TC İNKILAP TARİHİ VE
ATATÜRKÇÜLÜK – 8**

1. A
2. D
3. B
4. C
5. D
6. A
7. B
8. D
9. A
10. B
11. C
12. B
13. B
14. D
15. B
16. D
17. A
18. A
19. B
20. C

ALMANCA – 8

1. A
2. C
3. B
4. D
5. B
6. A
7. C
8. D
9. B
10. C
11. A
12. D
13. B
14. C
15. A
16. D
17. B
18. C
19. A
20. D

**DİN KÜLTÜRÜ ve AHLAK
BİLGİSİ – 8**

1. C
2. B
3. A
4. B
5. D
6. C
7. B
8. A
9. C
10. C
11. B
12. D
13. C
14. C
15. A
16. B
17. D
18. A
19. B
20. D