



**AÇIK ÖĞRETİM ORTAOKULU  
2016 - 2017 ÖĞRETİM YILI  
2. DÖNEM SINAVI**

**0**

**18 MART 2017 Saat: 14.00**

**2.**  
**OTURUM**

| <b>DERSLER</b>                      | <b>SAYFA</b> | <b>DERSLER</b>                      | <b>SAYFA</b> |
|-------------------------------------|--------------|-------------------------------------|--------------|
| (553) SOSYAL BİLGİLER – 5           | 2            | (733) SOSYAL BİLGİLER – 7           | 17           |
| (554) İNGİLİZCE – 5                 | 3            | (735) İNGİLİZCE – 7                 | 19           |
| (554) ALMANCA – 5                   | 5            | (735) ALMANCA – 7                   | 20           |
| (554) FRANSIZCA – 5                 | 6            | (735) FRANSIZCA – 7                 | 21           |
| (555) DİN KÜL. VE AHLAK BİLGİSİ – 5 | 8            | (736) DİN KÜL. VE AHLAK BİLGİSİ – 7 | 23           |
| (630) TÜRKÇE – 6                    | 10           | (830) TÜRKÇE – 8                    | 25           |
| (631) MATEMATİK – 6                 | 12           | (831) MATEMATİK – 8                 | 27           |
| (632) FEN VE TEKNOLOJİ – 6          | 14           | (832) FEN VE TEKNOLOJİ – 8          | 29           |

**ADAYLARIN DİKKATİNE!**

- Her ders için 20 soru bulunmaktadır. Bu oturumda **150** dakikalık cevaplama süreniz vardır. Sınav başladıktan sonra ilk **30** dakika tamamlanmadan dışarı çıkmayınız.
- Sınav sırasında çanta, cep telefonu, saat, kablosuz iletişim sağlayan cihazlar ve kulaklık, kolye, küpe, bilezik, yüzük, broş ve benzeri eşyalar ile her türlü elektronik ve/veya mekanik cihazları yanınızda bulundurmuyunuz. Bu araçları yanınızda bulundurmanız ve kopya çekmeye teşebbüs etmeniz hâlinde sınavınız geçersiz sayılacaktır.
- Başvuru şartlarını taşımadığınız hâlde sınava girmeniz, kopya çekmeniz, başka adayın sınav evrakını kullanmanız, geçerli kimlik belgenizi ve sınav giriş belgenizi ibraz edemediğiniz durumlarda sınavınız geçersiz sayılacaktır.
- Sınavın değerlendirilmesi aşamasında, bilgisayar ortamında yapılan kopya analizinde sistemin ikili ve/veya toplu kopya tespiti hâlinde sınavınız geçersiz sayılacaktır.
- Adaylar, sınav kurallarına ve salon görevlilerinin tüm uyarılarına uymak zorundadır. Kurallara ve uyarılara uymayan adayların sınavları geçersiz sayılacaktır.**
- Sınav başladıktan sonra adayların salon görevlileri ve birbirleri ile konuşmaları; kalem, silgi vb. şeyleri istemeleri yasaktır.
- Adaylar sınav süresince, sınav giriş belgesi ile geçerli kimlik belgelerinden birinin aslını (fotoğraflı nüfus cüzdanı, pasaport veya sürücü belgesi) masalarının üzerinde bulundurmamak zorundadır.
- Sınav evraklarını teslim etmeyen, soru kitapçıklarının sayfalarından bir kısmını eksik teslim edenlerin sınavları geçersiz sayılacaktır.**
- Sınav başlamadan önce kitapçığın arkasındaki açıklamaları okuyunuz.

**BAŞLAYINIZ DENMEDEN SORU KİTAPÇIKLARINI AÇMAYINIZ.**

## 2. OTURUM

### (553) SOSYAL BİLGİLER – 5

1. Aşağıda, gruplar ve bu gruplara ait özellikler eşleştirilmiştir.

**Bu eşleştirmelerden hangisi yanlıştır?**

| Grup      | Rol      |
|-----------|----------|
| A) Aile   | Baba     |
| B) Okul   | Öğretmen |
| C) Adliye | Hâkim    |
| D) Hasta  | Doktor   |

2. Bir öğrenci eğitim hakkını kullanırken, aşağıdaki sorumluluktan hangisini yerine getirmelidir?

- A) Sofranın hazırlanmasına yardım etmek  
B) Düzenli ders çalışma alışkanlığı kazanmak  
C) Kişisel bakımını yapmak  
D) Spor yapmak

3. Çocuk haklarını güvence altına alma görevi - - - - aittir?

**Cümlede boş bırakılan yere aşağıdakilerden hangisi yazılmalıdır?**

- A) devlete  
B) ailelere  
C) derneklere  
D) okullara

4. Birleşmiş Milletler Çocuk Haklarına Dair Sözleşme esaslarına göre her insan kaç yaşına kadar çocuk sayılır?

- A) 7  
B) 16  
C) 18  
D) 21

5. Aşağıdakilerden hangisi tarihî yapıtlarımızdan biri değildir?

- A) Galata Kulesi  
B) Pamukkale  
C) Yerebatan Sarayı  
D) Nemrut harabeleri

6. Aşağıdaki halkoyunlarından hangisi Trakya yöresine aittir?

- A) Zeybek  
B) Horon  
C) Hora  
D) Bar

7. Aşağıdakilerden hangisi diğerlerinden önce gerçekleşmiştir?

- A) TBMM'nin açılması  
B) Saltanatın kaldırılması  
C) Cumhuriyetin ilan edilmesi  
D) Yeni Türk Harflerinin kabulü

8. Aşağıdaki yeniliklerden hangisi vatandaşlık kimliğinin kazanılmasıyla ilgilidir?

- A) Uluslararası rakamların kabulü  
B) Halkın seçme hakkına kavuşması  
C) Tekke ve zaviyelerin kapatılması  
D) Soyadı Kanunu'nun kabul edilmesi

9. Aşağıdakilerden hangisi delta ovasıdır?

- A) Bursa  
B) Bafra  
C) Ergene  
D) Aksaray

10. Aşırı yağışlara bağlı olarak ortaya çıkan doğal afet aşağıdakilerden hangisidir?

- A) Deprem  
B) Heyelan  
C) Sel  
D) Çığ

11. Aşağıdaki illerden hangisinde Akdeniz iklimi görülür?

- A) Kayseri  
B) Antalya  
C) Şanlıurfa  
D) Erzurum

12. "Toprağı işleyerek ekme - dikme faaliyetleriyle ürün elde edilmesine - - - - denir."

**Cümlede boş bırakılan yere, aşağıdakilerden hangisi getirilmelidir?**

- A) Hayvancılık  
B) Tarım  
C) Ulaşım  
D) Sanayi

13. Seracılık, turizm, turuncgiller ve muz denilince aklımıza gelen bölgemiz, aşağıdakilerden hangisidir?

- A) Ege  
B) Marmara  
C) Karadeniz  
D) Akdeniz

## 2. OTURUM

14. Atatürk'ün İstanbul Üniversitesini ve Yüksek Ziraat Enstitüsünü açması aşağıdakilerden hangisine önem verdiğini gösterir?

- A) Denizciliğe
- B) Ulusal egemenliğe
- C) Ticaret ve sanayiye
- D) Akılcılık ve bilimselliğe

15. Dernekler, vakıflar ve birlikler, aşağıdakilerden hangisi içinde yer alır?

- A) Özel kurumlar
- B) Resmî kurumlar
- C) Sivil toplum kuruluşları
- D) Genel Kurmay Başkanlığı

16. Babür hükümdarı Şah Cihan tarafından eşi Ercümen Banu'nun ölümü üzerine Agra şehrinde yaptırdığı mimari eser, aşağıdakilerden hangisidir?

- A) Kolezyum
- B) Tac Mahal
- C) Keops Piramidi
- D) Mostar Köprüsü

17. Ülkemizde uygulanan anayasa kaç yılında kabul edilmiştir?

- A) 1982
- B) 1961
- C) 1924
- D) 1921

18. Kara yollarında trafik düzenini sağlamak ve denetlemek, aşağıdaki bakanlıklardan hangisinin görev alanı içerisinde?

- A) İçişleri
- B) Sağlık
- C) Adalet
- D) Millî Eğitim

19. "Duman Avcıları" sloganının ait olduğu sivil toplum kuruluşu, aşağıdakilerden hangisidir?

- A) TEMA
- B) ÇEKÜL
- C) Deniztemiz Derneği
- D) Sigarayla Savaşanlar Vakfı


20. Ülkemizde eğitim ve öğretim hizmetlerinin yürütülmesinden sorumlu olan bakanlık aşağıdakilerden hangisidir?

- A) Maliye Bakanlığı
- B) Adalet Bakanlığı
- C) Dışişleri Bakanlığı
- D) Millî Eğitim Bakanlığı

(554) İNGİLİZCE – 5

1-20. sorularda boş bırakılan yere uygun gelen kelime ya da ifadeyi işaretleyiniz.

1.




Jim : What time is it?

Joe : It is - - - - .

- A) five to twelve
- B) five past twelve
- C) fifteen to twelve
- D) fifteen past twelve

2.



I always - - - - at 6.10 on weekdays.

- A) get up
- B) have lunch
- C) start classes
- D) wash my hands

3. Johnson : Excuse me, - - - - ?

Andrew : Go straight ahead and turn left.  
It's on your left.

- A) how are you
- B) how old are you
- C) how can I get to the park
- D) how can I start doing my homework

## 2. OTURUM

4. The school is - - - - the park and the library.

- A) in B) between  
C) on D) under

5. Max : What is your favourite class?

Tom : It is - - - -. I like doing experiments.

- A) history B) science  
C) English D) physical education

6. George : What - - - - are you?

Tsubasa : I am Japanese.

- A) name B) country  
C) language D) nationality

7. Molly : Can you play chess?

Danny : No, I - - - -, but I - - - - play checkers.

- A) can / can B) can / can't  
C) can't / can D) can't / can't

8. Noam : - - - -?

Lenny : I have a stomachache, I feel bad.

- A) Where are the children  
B) What is your favourite class  
C) What is the matter with you  
D) Where are you going tonight

9. Abby : I have a backache.

Toby : You - - - -.

- A) should see a doctor  
B) should go to school  
C) shouldn't drink cola  
D) shouldn't stay in bed

10. Melinda : Let's go to the cinema in the evening.

Kingston : OK. - - - -?

Melinda : Ice Age.

- A) Do you like comedies  
B) What's on at the cinema  
C) Shall we go to 'Happy Feet'  
D) What is the 'Star Wars' about

11.



I - - - - watching horror films.

- A) like B) love  
C) hate D) enjoy

12. It's my friend's birthday tomorrow. I - - - - get her a present.

- A) must B) need  
C) want D) study

13. Son : Can I have my birthday party at home?  
Dad : - - - -.

- A) I want to get a present for you  
B) I can make the birthday cake  
C) Your birthday is very soon  
D) That's a great idea

14. I like nature very much, so my favourite activity is - - - -.


- A) hiking B) bowling  
C) ice - skating D) playing football

15. Charles : Can you swim?

Frank : No, I - - - - swim but I - - - - play bowling.

- A) can / can B) can / can't  
C) can't / can D) can't / can't

16.



The cat is - - - -.

- A) feeding the birds B) climbing the tree  
C) examining the cat D) taking photos

## 2. OTURUM

17. **Son** : Can I adopt a rabbit from the animal shelter?  
**Mom** : - - - -. Your father doesn't want it.
- A) Of course  
B) Yes, you can  
C) That's a great idea  
D) I am afraid you can't

18. **Tina** : What do you do on 23<sup>rd</sup> of April?  
**Elif** : We - - - - Children's Day.
- A) celebrate                      B) carve  
C) wear                              D) play


19. **In Ramadan Feast, we - - - - our relatives.**
- A) play    B) sing    C) visit    D) decorate

20. **People - - - - fish, rice and soup in the Chinese New Year.**
- A) clean    B) put on    C) sing    D) eat

### (554) ALMANCA – 5

1-17. sorularda boş bırakılan yere uygun gelen ek, kelime ya da ifadeyi işaretleyiniz.

1. **Ali kommt - - - - Ankara.**
- A) bei    B) wann    C) aus    D) die
2. **zehn, - - - -, zwölf**
- A) neun                              B) dreizehn  
C) vierzehn                        D) elf
3. **Entschuldigung, wie komme ich - - - - Flughafen?**
- A) auf    B) zum    C) im    D) um



**In Antalya ist das Wetter - - - -.**

- A) windig                              B) regnerisch  
C) kalt                                      D) sonnig

5. **A:** Hallo, ich komme aus Erzurum. - - - - kommen Sie?  
**B:** Aus Trabzon.
- A) Woher    B) Wann    C) Was    D) Wie


6. **Februar, - - - -, April**
- A) Januar                              B) Dezember  
C) März                                D) Mai

7. **Klaus kommt aus Deutschland. Er ist ein - - - -.**
- A) Türke                                B) Deutscher  
C) Italiener                            D) Russe

8. **Ich habe Hunger. Ich gehe - - - - Restaurant.**
- A) bei    B) aus    C) ins    D) in die

9. **Hans - - - - sehr gut Türkisch.**
- A) spricht                              B) läuft  
C) tanzen                                D) schwimmst

10.



**Wie spät ist es?**

**Es ist - - - - .**

- A) Viertel vor zwölf                B) Viertel nach elf  
C) Viertel nach zwölf                D) Viertel vor elf

11. **Die Schule fängt - - - - 8:30 Uhr an.**
- A) um    B) im    C) am    D) auf

12. **Meine Finger tun weh. Ich kann nicht - - - - .**
- A) sprechen                            B) schreiben  
C) lesen                                D) hören

13. **Hallo, ich - - - - Ayşe. Wer - - - - du?**
- A) bist / bin                            B) heißt / ist  
C) bin / bist                            D) habe / sind

## 2. OTURUM

14. Mein Vater hat - - - - 7. August Geburtstag.

- A) am B) im C) um D) vom

15.



Was macht der Junge?

Er - - - - .

- A) läuft B) hört  
C) liest D) schwimmt

16. Sie hat - - - - Augen.

- A) blonde B) blaue  
C) schlanke D) lange

17. Aşağıdaki boşluklara uygun gelen "Artikelleri" işaretleyiniz.

- - - - Auto, - - - - Junge, - - - - Frau

- A) der / die / das  
B) das / die / der  
C) das / der / die  
D) der / das / die

18. Aşağıdakilerden hangisi sıfattır? (Adjektiv)

- A) Haus B) schön C) fahren D) heißen

19.



Was macht das Mädchen?

- A) essen B) schreiben  
C) hören D) lesen

20. Aşağıda verilen sözcükleri sıralayarak anlamlı bir cümle oluşturunuz.

in die / Hans / Schule / geht.

1 2 3 4

- A) 2 / 4 / 1 / 3 B) 3 / 2 / 1 / 4  
C) 4 / 3 / 1 / 2 D) 1 / 3 / 2 / 4

(554) FRANSIZCA – 5

1-12. sorularda boş bırakılan yere uygun gelen kelime ya da ifadeyi işaretleyiniz.

1. Et vous, - - - - vous appelez Orhan ?

- A) vous B) il  
C) ils D) nous

2. Alice : Selda a quel âge ?

Marc : - - - - .

- A) C'est ma cousine  
B) Elle est standartiste  
C) Elle a cinquante ans  
D) Il est marocain

3. Alain : - - - - ça va ?

Marie : Très bien, merci. Et vous ?

- A) Quelle B) Pourquoi  
C) Parce que D) Comment

4. Esra : - - - - ?

Olga : Je suis russe.

- A) Elle a quel âge  
B) Quelle est votre nationalité  
C) Où habite-t-elle  
D) Quelle est ton adresse

5. Elif - - - - français et un peu italien.

- A) va B) parle  
C) parles D) vas

6. Lara et Antoine sont français, mais ils - - - - à Sydney.

- A) habitent B) habitez  
C) habitons D) habites

## 2. OTURUM

7. **Alex** : Où est-ce que tu as mal ?

**Sarah** : J'ai mal - - - - gorge.

- A) aux                      B) au  
C) à l'                      D) à la

8. **Pierre** : Ta fille a une poupée ?

**Sophie** : Non, elle n'a pas - - - - poupée. Elle aime son ours en peluche.

- A) des    B) la    C) de    D) le

9. **Mon cousin habite - - - - Bruxelles.**

- A) au    B) en    C) aux    D) à

10. **Léa** : - - - - ?

**Max** : C'est mon nouveau professeur de chimie.

- A) Qui est-ce                      B) Comment  
C) Quel temps fait-il              D) C'est quoi

11. **Pierre** : C'est quoi ?

**Serkan** : C'est - - - - .

- A) un taille-crayon              B) un jeune musicien  
C) un garçon                      D) une belle femme

12. **Mme Lafleur est infirmière, elle travaille - - - - .**

- A) dans une ferme  
B) dans une pâtisserie  
C) dans un hôpital  
D) dans un magasin de vêtements

13. **Aşağıdakilerden hangisi "46" sayısının doğru yazılışdır ?**


- A) Cinquante-quatre              B) Soixante-six  
C) Quarante-six                      D) Quatre-vingt-dix

14. **Aşağıdaki rakamlardan hangisinin yazılış yanlış verilmiştir?**

- A) 8-huit    B) 5-cinq    C) 3-trois    D) 9-sept

15-20. soruları resimleri dikkate alarak cevaplayınız.

15.



- A) Il est trois heures vingt.  
B) Il est trois heures.  
C) Il est trois heures et quart.  
D) Il est trois heures moins vingt.

16.



- - - - à Ankara.

- A) Il neige                      B) Il y a des nuages  
C) Il y a du vent                      D) Il pleut

17.



La fille est - - - - l'arbre.

- A) sur    B) entre    C) sous    D) derrière

## 2. OTURUM

18.



--- il fait frès froid.

- A) En été                      B) Au printemps  
C) En hiver                    D) En automne

19.



- A) Elles font de la voile.  
B) Il fait du piano.  
C) Ils font de la boxe.  
D) Il fait du skate.

20.



Il est ----.

- A) ouvrier                      B) chanteur  
C) cuisinier                    D) médecin

### (555) DİN KÜL. VE AHLAK BİLGİSİ – 5

1. "... De ki: hiç bilenlerle bilmeyenler bir olur mu? Doğrusu, ancak akıl sahipleri bunları hakkıyla düşünür."  
(Zümer suresi, 9. ayet)

**Bu ayete göre aşağıdaki sonuçlardan hangisine ulaşılabilir?**

- A) İnsanın özgürlüğü sınırlıdır.  
B) Allah insanı en güzel şekilde yaratmıştır.  
C) Allah insandan aklını kullanmasını istemektedir.  
D) İnsan evrendeki mükemmel düzenin bir parçasıdır.

2. **Aşağıdaki hadislerden hangisi çalışmanın gerekliliğini ifade etmektedir?**

- A) Ezan ile kamet arasında yapılan dua geri çevrilmez.  
B) Müjdeleyin, nefret ettirmeyin; kolaylaştırın, zorlaştırmayın.  
C) Siz yerdekilere merhamet edin ki, göktekiler de size merhamet etsin.  
D) Hiç kimse el emeği ile kazandığından daha hayırlı bir lokma yememiştir.

3. **İhlas suresinin anlamında aşağıdakilerden hangisi vurgulanmaktadır?**

- A) İnsanın nasıl yaratıldığı  
B) Allah'ın varlığı ve birliği  
C) Ahiret hayatının gerçekliği  
D) Kötülüklerden nasıl korunulacağı

4. **Allah'a kulluk etmek, saygı ve bağlılık göstermek, buyruklarını yerine getirmek, onun rızasını kazanmak amacı ile niyet ederek belirli zamanlarda ve şekillerde yapılan her türlü iş ve davranışlardır.**

**Burada hakkında bilgi verilen kavram, aşağıdakilerden hangisidir?**

- A) İbadet                      B) Ahlak  
C) İnanç                      D) Tevekkül



## 2. OTURUM

5. Aşağıdaki ibadetlerden hangisi farzdır?

- A) Umre B) Zekat  
C) Teravih namazı D) Bayram namazı

6. "... Yoluna gücü yetenlerin o evi (Kâbe) haccetmesi, Allah'ın insanlar üzerinde bir hakkıdır." (Âl-i İmrân suresi, 97. ayet)

**Bu ayet ile emredilen ibadet aşağıdakilerden hangisidir?**

- A) Oruç B) Zekât C) Hac D) Namaz

7. Namaz vakitlerinde ezan okuyarak Müslümanları namaza davet eden cami görevlisi aşağıdakilerden hangisiyle isimlendirilir?

- A) Müezzîn B) İmam  
C) Müftü D) Vaiz

8. Dua ile ilgili aşağıdaki ifadelerden hangisi yanlıştır?

- A) İbadetin özüdür.  
B) Kur'an-ı Kerim'de örnekleri vardır.  
C) İnsanın, halini Allah'a arz etmesidir.  
D) Belirli bir şekli ve zamanı olan ibadetlerdendir.

9. Aşağıdaki isimlerden hangisi Hz. Peygamber'in kızlarından biri değildir?

- A) Zeynep B) Rukiye  
C) Hatice D) Ümmü Gülsüm

10. Bir baba evladına iyi bir terbiyeden daha güzel bir miras bırakamaz.

**Bu hadis Hz. Peygamber'in aşağıdakilerden hangisine verdiği önemi göstermektedir?**

- A) Akrabaları gözetip korumaya  
B) İnsanlar arasında adaletli davranmaya  
C) İşleri, bilen kişilere danışarak yapmaya  
D) Çocukları güzel bir şekilde yetiştirmeye

11. "Akrabaya, yoksula, yolcuya hakkını ver, gereksiz yere de saçıp savurma." (İsra suresi, 26. ayet)

**Bu ayet ile aşağıdaki mesajlardan hangisine ulaşamaz?**

- A) Komşuluk ilişkilerine önem verilmelidir.  
B) Yoksula yardımcı olunmalıdır.  
C) Akrabalar gözetilmelidir.  
D) İsraftan kaçınılmalıdır.

12. " - - - - merhamet et, başını okşa ve yediğinden ona yedir. Bu senin kalbini yumuşatır."

**Bu hadiste boş bırakılan yere aşağıdakilerden hangisi gelmelidir?**

- A) Yetime B) Kardeşine  
C) Yolcuya D) Fakire

13. Kur'an-ı Kerim'in indirilmesi kaç yılda tamamlanmıştır?

- A) 17 B) 23 C) 27 D) 32

14. "Üzerine gece karanlığı basınca, bir yıldız gördü. "İşte Rabbim!" dedi. Yıldız batınca da, "Ben öyle batanları sevmem" dedi. Ay'ı doğarken görünce de, "İşte Rabbim!" dedi. Ay da batınca, "Andolsun ki, Rabbim bana doğru yolu göstermezse, mutlaka ben de sapıklardan olurum" dedi. Güneşi doğarken görünce de, "İşte benim Rabbim! Bu daha büyük" dedi. O da batınca (kavmine dönüp), "Ey kavmim! Ben sizin Allah'a ortak koştuğunuz şeylerden uzağım" dedi. Ben, hakka yönelen birisi olarak yüzümü, gökleri ve yeri yaratana döndürdüm. Ben, Allah'a ortak koşanlardan değilim." (En'âm suresi, 76-79. ayetler)

**Bu ayetler aşağıdaki peygamberlerden hangisi ile ilişkilidir?**

- A) Hz. Adem B) Hz. Yusuf  
C) Hz. İbrahim D) Hz. Yahya

## 2. OTURUM

15. Kur'an-ı Kerim ile ilgili aşağıda verilen bilgilerden hangisi yanlıştır?

- A) İyiyeye ve güzele yönlendirir.
- B) İslam dininin ana kaynağıdır.
- C) Hiçbir değişikliğe uğramamıştır.
- D) Arap toplumu için gönderilmiştir.

16. Bu mübarek gecede  
Bindi nurdan atına  
Allah'ın peygamberi  
Çıktı Allah katına

**Bu dörtlükte bahsedilen kandil gecesini aşağıdakilerden hangisidir?**

- A) Mevlit
- B) Miraç
- C) Regaib
- D) Kadir gecesini

17. "Selam, rahmet ve bütün güzellikler, iyilikler Allah içindir. Ey Peygamber! Allah'ın rahmeti, bereketi ve selamını senin üzerine olsun. Selam bize ve Allah'ın iyi kullarına da olsun. Tanıklık ederim ki Allah'tan başka İlah yoktur. Yine tanıklık ederim ki Muhammed O'nun kulu ve elçisidir."

**Burada anlamı verilen dua aşağıdakilerden hangisidir?**

- A) Rabbena
- B) Salavat
- C) Tahiyat
- D) Subhaneke

18. Aşağıdakilerden hangisi İslam dininin teşvik ettiği davranışlardan biridir?

- A) İsrat
- B) Tutumluluk
- C) Cimrilik
- D) Savurganlık

19. Hz. Muhammed (sav.) kendisine ilk vahiy geldiğinde çok heyecanlanmış ve korkmuştu. İçinde bulunduğu sıkıntıyı eşine anlatmıştı. Eşini de O'na bu sıkıntılı anında yardımcı olmuş ve destek vermişti.

**Bu metin Hz. Muhammed (sav.) ve ailesinin hangi yönüne örnek oluşturmaktadır?**

- A) Sevinçlerin ve sıkıntılarının paylaşılması
- B) Akrabalık ilişkilerine önem verilmesi
- C) Misafire cömert davranılması
- D) İsratından kaçınılması

20. Aşağıdakilerden hangisi vatanımız ve vatan anlayışımız için söylenemez?

- A) Geçmişini, bugünü ve geleceğini birleştiren en önemli unsurdur.
- B) Aynı vatanın çocukları birbirini tanımalı, sevmeli ve korumalıdır.
- C) Yalnızca bir toprak parçasıdır.
- D) Atalarımızdan emanettir.

### (630) TÜRKÇE – 6

1. Aşağıdaki cümlelerin hangisinde "durumunu düzeltmek" anlamında bir deyim kullanılmıştır?

- A) Babasından haber alamayınca kendi kendini yedi durdu.
- B) Son olaylardan sonra yavaş yavaş kendini toplamıştı.
- C) Bu projede de kendini göstermiş, adını duyurmuştu.
- D) İnsan, işine kendini verdi mi başarılı olur.

2. Aşağıdaki altı çizili kelimelerden hangisi temel anlamıyla kullanılmıştır?

- A) Çekmecenin gözüne bakmayı düşündün mü?
- B) Dağların sırtlarındaki karlar daha erimemiş.
- C) Köprü'nün ayakları selden zarar görmüş.
- D) Maç sırasında boksörün burnu kırıldı.

3. (1) Meriç Nehri'nin ortasındaki Kirişçi Adası'nda gezintiye çıkmıştık. (2) Taze çimenler, kardelenler, bahar yağmurlarıyla yıkanmış toprak kokuları ve çağıldayan ırmağın huzur veren sesi etkileyiciydi. (3) Üç kişiydik. (4) Bir müddet etrafını seyredip yemek yemek için bir restorana gittik.

**Bu metinde numaralanmış cümlelerin hangisinde "beğeni" söz konusudur?**

- A) 1.
- B) 2.
- C) 3.
- D) 4.

4. Aşağıdaki cümlelerde deyimlerden hangisi "çok korkmak, çok sıkılmak" anlamına gelmektedir?

- A) Bu olaydan sonra hepimiz dersimizi aldık.
- B) Asansörde kalınca ecel terleri döktüler.
- C) Yemekler çok lezzetliydi, parmaklarımızı yedik.
- D) Sınıftaki arkadaşlarımla oyununa geldim.

## 2. OTURUM

5. Bu çileyi hiçbir suçum olmadığı hâlde öyle bir çeykiorum ki zaman zaman sinirlerimin dizginini ele almasam çıldıracağım.

**Bu cümlede altı çizili ifadeyle anlatılmak istenen aşağıdakilerden hangisidir?**

- A) Olaylar karşısında çaresiz kalmak  
B) Aşırı üzülmek, çok yıpranmak  
C) Öfkesini kontrol etmek  
D) Düşüncelerinde kararlı olmak

6. (1) Yazarın "Açlık" isimli kitabı, okuyanı ürpertecek nitelikteydi. (2) Bu kitapta, para sıkıntısı çeken bir gencin hayatı anlatılıyor. (3) Yazar, yaşadıklarını tüm samimiyetiyle dile getirmiş. (4) Kayıp gençliğini nasıl bulduğunu her satırda kalbi titreyerek anlatmış.

**Bu metinde numaralanmış cümlelerden hangisi neseldir?**

- A) 1. B) 2. C) 3. D) 4.

7. Cumartesi, sabah erkenden kalktık. Eşyalarımızı hazırladık. Bizi fıstık bahçesine götürdüler ve lezzet şöleni başladı. Fıstık bahçesinde bol bol fıstık yedik. Gaziantep'te dört yıldır yaşamama rağmen hiç bu kadar lezzetli fıstık yememiştim.

**Bu metindeki altı çizili ifade aşağıdaki hikâye unsurlarından hangisidir?**

- A) Yer B) Zaman  
C) Olay D) Ana karakter

8. Annenden öğrendiğinle yetinme  
Çocuğum, Türkçeni geliştir.  
Dilimiz öylesine güzel ki  
Durgun göllerimizce duru,  
Akar sularımızca coşkulu...  
Ne var ki çocuğum,  
Güzellik de bakım ister.

**Bu dizelerde ele alınan konu aşağıdakilerden hangisidir?**

- A) Çocuk B) Ana dilimiz  
C) Doğa D) Güzellik

9. (1) Bir alışveriş merkezine girdiniz ve derinden bir ney sesi geliyor kulağınıza. (2) Ney, tasavvuf müziğinin en önemli enstrümanıdır. (3) Sesini duyunca bilenlerin aklına hemen ney'in hikâyesi gelir. (4) Sazlıktan koparılan kamış memleketinden, sevdiklerinden uzak kalmıştır. (5) İçinde derin bir gurbet acısı vardır. (6) Kamışa üflendiğinde bu derin acı dile gelir ve ney, bu acıya dinleyenleri de ortak eder.

**Bu metinde numaralanmış cümlelerden hangisi düşüncenin akışını bozmaktadır?**

- A) 2. B) 3. C) 4. D) 5.

10. Âşık Veysel, Cumhuriyet Dönemi'nin en büyük saz şairlerindedir. Sivas'ın Sivrialan köyünde 1894'te doğdu. Yedi yaşındayken çiçek hastalığından gözlerini kaybetti. Sivrialan'a gelen halk şairlerini dinleyerek halk şiirini öğrendi. Bir dönem halk türküsü öğretmenliği de yaptı.

**Bu metnin türü aşağıdakilerden hangisidir?**

- A) Hikâye B) Otobiyografi  
C) Deneme D) Biyografi

11. (1) Neşeli bir yüz, güneşli bir hava gibidir. (2) Hem kendi hem başkası için aydınlık vericidir. (3) Ruhun ışıklanması neşe ile olur. (4) Çocukluğun saflığı en ileri yaşlarımızda bile neşe ile yeniden doğar.

**Bu metinde numaralanmış cümlelerin hangisinde benzetme vardır?**

- A) 1. B) 2. C) 3. D) 4.

12. Evrende bizi mutlu edebilecek o kadar şey var ki... Ne yazık ki bizler bunların birçoğunun farkında değiliz. Mutlu olmak istiyorsak gerçekten temiz bir ruha, dünyadaki güzellikleri görebilecek bir göze ve bir çocuk kalbine sahip olmamız gerekir.

**Bu metinde aşağıdakilerden hangisine değinilmemiştir?**

- A) İnsanların mutlu olmak için sahip olması gereken özelliklere  
B) Mutlu olmanın tek bir şeye bağlı olmadığına  
C) Çocukluğun en mutlu dönem olduğuna  
D) İnsanların, kendisini mutlu edecek unsurları fark edemediğine

## 2. OTURUM

13. Bir köylü kadın, bir buzağıyı doğar doğmaz kucağına alıp sevmiş. Sonra da bunu âdet edinmiş. Her gün buzağıyı kucağına alıp taşımış. Sonunda buna o kadar alışmış ki buzağı büyüüp koca öküz olduğu zaman, onu yine kucağında taşımış.

**Bu metinde anlatılmak isteneni aşağıdaki atasözlerinden hangisi verir?**

- A) Dost dostun ayıbını yüzüne söyler.  
B) Ağaç yaş iken eğilir.  
C) Eşeği dama çıkarın yine kendi indirir.  
D) Can çıkmayınca huy çıkmaz.

14. "Çocukluğumun geçtiği o temiz mahalleyi asla unutamam." cümlesindeki altı çizili sıfatın özdesi aşağıdakilerin hangisinde vardır?

- A) Sinemaya kaç kişi geleceklerini söylemediler.  
B) Akşam yemeklerinde dörtte bir ekme bana yetiyor.  
C) Düşünümüzde iki yüz çam fidanı dağıttık.  
D) Karşımızda duran şu şirin ev yıllardır bomboş.

15. Aşağıdaki cümlelerin hangisinde zincirleme isim tamlaması kullanılmıştır?

- A) Evlerinin yakınında çok güzel bir lokanta var.  
B) Ülkemizin her bölgesinde karpuz yetişir.  
C) Ayakkabısının topuğunun çivisi yürürken çıkmış.  
D) Niçin kendi kalemini kullanmıyorsun?

16. Aşağıdaki cümlelerde altı çizili kelimelerden hangisi yönelme hâl eki almıştır?

- A) Yemeklerini yazın terasta yerlerdi.  
B) Aniden içeriye bir kuş girdi.  
C) Tarihten ders almanız gerekir.  
D) Sen hastalanınca başında beklerdim.

17. Küçük masasının başına geçen Hasan sürekli bir şeyler yazıyordu.

**Bu cümlede aşağıdaki isim çeşitlerinden hangisinin örneği yoktur?**

- A) Cins  
B) Özel  
C) Topluluk  
D) Somut

18. "Omzunun ağrısı geçtiğinde çoktan akşam olmuştu." cümlesinde aşağıdaki ses olaylarından hangisi yoktur?

- A) Ünlü daralması  
B) Ünsüz yumuşaması  
C) Ünlü düşmesi  
D) Ünsüz sertleşmesi

19. Aşağıdakilerin hangisinde altı çizili kelimenin yazımında yanlışlık yapılmıştır?

- A) Yediği meyveleri kendi bahçesinde yetiştiriyor.  
B) Burnuna yanık kokuları geliyordu.  
C) Televizyon reklamları çocukları çok etkiliyor.  
D) Annemde güzel pastalar, börekler yapar.

20. Bu güzel ormanları nasıl koruyabiliriz ( ) Bunları düşünmek sadece çevre dostlarının mı görevi ( ) Asıl sorumlu bireyler midir ( ) yoksa toplum mu ( )

**Bu metinde yay ayrıçla gösterilen yerlere sırasıyla aşağıdaki noktalama işaretlerinden hangileri getirilmelidir?**

- A) (?) (.) (,) (?)  
B) (?) (?) (,) (?)  
C) (.) (?) (?) (.)  
D) (,) (.) (?) (.)

### (631) MATEMATİK – 6

1. 20 kg üzüm alabilen kasaların kullanıldığı bir bağ bozumunda, 50 tane boş kasa üzümle tamamen dolduruluyor.

**Dolu kasaların toplam ağırlığı 1100 kg olduğuna göre boş bir kasanın ağırlığı kaç kilogramdır?**

- A) 1  
B) 2  
C) 3  
D) 4

2. 35 sayısının tüm doğal sayı çarpanlarının kümesi aşağıdakilerden hangisidir?

- A) {5, 7}  
B) {1, 5, 7}  
C) {1, 5, 7, 35}  
D) {1, 5, 7, 15}

## 2. OTURUM

3. Aşağıdakilerden hangisi yanlıştır?

- A) Sayı doğrusunda sıfıra en yakın negatif tam sayı  $-1$ ' dir.  
 B) Sayı doğrusunda sıfıra en yakın pozitif tam sayı  $+1$ ' dir.  
 C) En küçük negatif tam sayı  $-1$ ' dir.  
 D) En küçük pozitif tam sayı  $+1$ ' dir.

4. Efe cebindeki paranın  $\frac{1}{4}$ ' ini harcayarak bir kalem ve bir silgi alıyor.

**Silgi için 2 lira, kalem için 3 lira ödeyen Efe'nin başlangıçta kaç lirası vardı?**

- A) 5      B) 10      C) 15      D) 20

5. Yandaki çarpma işleminin sonucu aşağıdakilerden hangisidir?

$$\begin{array}{r} 1,75 \\ \times 0,9 \\ \hline \end{array}$$

- A) 1,575      B) 9,675      C) 15,75      D) 157,5

6. % 40' ı kız öğrencilerden oluşan bir sınıfın mevcudu 30' dur.

**Bu sınıfta kaç erkek öğrenci vardır?**

- A) 12      B) 14      C) 16      D) 18

7. 30 yumurta bulunan bir kolideki yumurtalardan 6 tanesi kırılıyor.

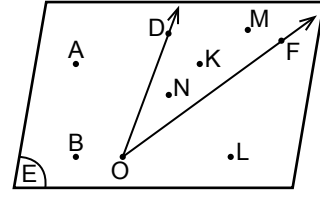
**Buna göre kolideki kırık yumurta sayısının sağlam yumurta sayısına oranı kaçtır?**

- A)  $\frac{1}{4}$       B)  $\frac{2}{4}$       C)  $\frac{3}{4}$       D)  $\frac{5}{4}$

8.  $K = \{2, 5, 12, 17\}$  kümesi için aşağıdakilerden hangisi yanlıştır?

- A)  $s(K) = 4$       B)  $15 \in K$   
 C)  $3 \notin K$       D)  $2 \in K$

9.

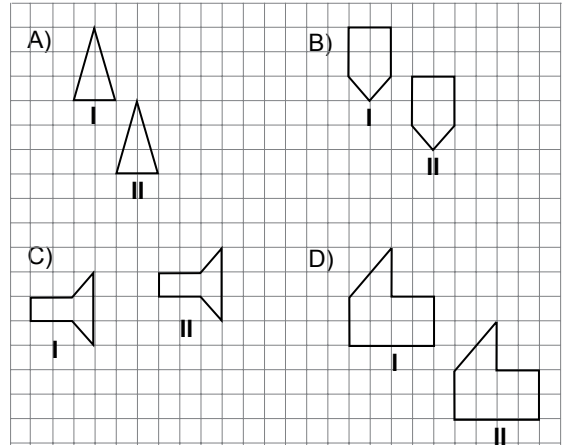


Yukarıda görülen E düzleminde DOF dar açısı ve A, B, L, K, M, N noktaları verilmiştir.

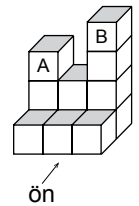
**Şekle göre DOF açısının dış bölgesindeki noktaların kümesi aşağıdakilerden hangisidir?**

- A)  $\{K, N, M\}$       B)  $\{D, O, F\}$   
 C)  $\{A, B, M\}$       D)  $\{A, B, L\}$

10. Aşağıdakilerden hangisinde I. şekil 2 birim sağa, 3 birim aşağı ötelenerek II. şekil oluşturulmuştur?



11. Yandaki yapıda B küpü alınıp, A küpünün üzerine konulursa oluşan yeni yapının önden görünümü aşağıdakilerden hangisi olur?



- A)      B)   
 C)      D)

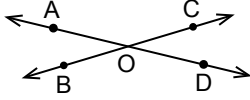
## 2. OTURUM

12. Ayrıt uzunluğu 4 m olan küp şeklindeki su deposu yarısına kadar su ile doldurulmuştur.

Buna göre depoda kaç metreküp su vardır?

- A) 16 B) 32 C) 48 D) 64

13.



Yukarıdaki şekilde AD doğrusu ile BC doğrusu O noktasında kesilmektedir.

$m(\widehat{AOB}) = 2x + 10^\circ$  ,  $m(\widehat{COD}) = 4x - 10^\circ$  olduğuna göre x kaç derecedir?

- A) 10 B) 15 C) 20 D) 25

14. İsimleri birbirinden farklı olan bir sınıftaki 10 öğrenciden her biri, isimlerini özdeş olan kartlardan birine yazarak bir kutuya atıyor.

Bu kutudan rastgele bir kart çeken öğrencinin kendi ismi yazılı kartı çekme olasılığı kaçtır?

- A)  $\frac{1}{9}$  B)  $\frac{3}{9}$  C)  $\frac{1}{10}$  D)  $\frac{9}{10}$

15. 5 kırmızı topun bulunduğu bir torbadan rastgele yapılan bir çekilişte kırmızı bir topun çıkma olasılığı kaçtır?

- A) 1 B)  $\frac{1}{2}$  C)  $\frac{1}{5}$  D)  $\frac{4}{5}$

16. Ortalama kütleleri 40 kg olan 6/A sınıfı öğrencilerinden, kütleleri 30 kg ve 50 kg olan iki öğrenci ayrılıyor.

Bu durumda sınıfın oluşan yeni ortalama kütlesi için aşağıdakilerden hangisi doğrudur?

- A) 10 kg artmıştır. B) 10 kg azalmıştır.  
C) 20 kg azalmıştır. D) Değişmemiştir.

17. Bir sayının 5 fazlasının 3 katını belirten cebirsel ifade aşağıdakilerden hangisidir?

- A)  $3 \cdot x + 5$  B)  $3 \cdot (x + 5)$   
C)  $5 \cdot x + 3$  D)  $5 \cdot (x + 3)$

18. Aşağıdakilerden hangisi doğrudur?

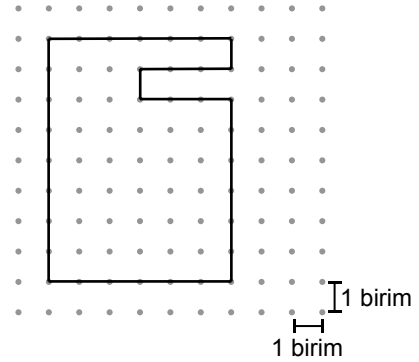
- A)  $4^1 = 1^4$  B)  $3^5 = 5^3$   
C)  $2^4 = 4^2$  D)  $5^2 = 2^5$

19. Bir pastanede günlük ortalama 150 bardak meyve suyu satılmaktadır.

Bu pastanede 200 milimetrelik bardaklar kullanıldığına göre günlük ortalama meyve suyu satışı kaç litredir?

- A) 3 B) 15 C) 20 D) 30

20.

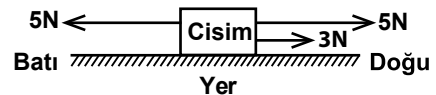


Yukarıda verilen düzlemsel şeklin çevresi kaç birimdir?

- A) 28 B) 31 C) 34 D) 36

### (632) FEN VE TEKNOLOJİ – 6

1.

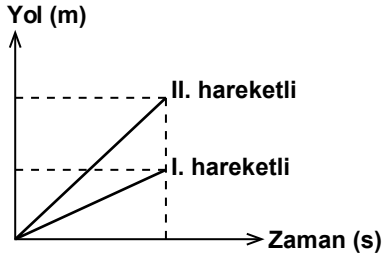


Bir cisme şekildeki gibi uygulanan üç kuvvetin yönü ve bileşkesi aşağıdakilerden hangisidir?

- A) Doğu yönünde 8N B) Doğu yönünde 3N  
C) Batı yönünde 5N D) Batı yönünde 3N

## 2. OTURUM

2. İki hareketlinin yol - zaman grafiği verilmiştir.



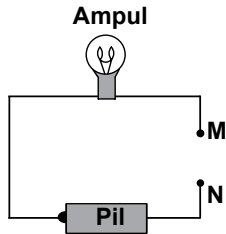
Buna göre aşağıda verilen bilgilerden hangisi yanlıştır?

- A) Aynı sürede fazla yol alan hareketlinin sürati de aynı oranda büyüktür.
- B) II. hareketlinin sürati, I. hareketliden fazladır.
- C) Hareketlilerin sürati, birim zamanda aldıkları yol miktarına bağlıdır.
- D) II. hareketlinin birim zamanda aldığı yol, I. hareketlinin birim zamanda aldığı yola eşittir.

3. Aşağıdakilerden hangisi elektriğin kullanımında güvenlik amacıyla yapılan uygulamalardan değildir?

- A) Elektrik kablolarının dış kısmının plastikle kaplanması
- B) Elektrik sigortalarının dışının porselen ya da plastik olması
- C) Elektrik tesisatındaki kablolarda bakır tel kullanılması
- D) Elektrikli araçların çalıştığı ortamların kuru olması

4. Şekilde basit bir elektrik devresi verilmiştir.



Bu devrede M ve N noktaları arasına uzunlukları aynı, kesitleri farklı olan aşağıdaki bakır çubuklardan hangisi yerleştirilirse ampul daha parlak yanar?

- A) s
- B) 2s
- C) 3s
- D) 4s

5. Aşağıda verilen aynalar ve kullanım alanlarıyla yapılan eşleştirmelerden hangisi yanlıştır?

- A) Tümsek ayna → Arabaların yan aynası
- B) Tümsek ayna → Teleskop
- C) Çukur ayna → Araba farı
- D) Düz ayna → Periskop

6. Kar yağarken çevremizde duyduğumuz ses miktarı azalır.

Bunun nedeni aşağıdakilerden hangisidir?

- A) Sesin büyük bir kısmının soğurulması
- B) Sesin katılarda daha hızlı yayılması
- C) Sesin tamamen yalıtılmış olması
- D) Sesin soğuk ortamlarda daha yavaş yayılması

7. Toprağın dış etkilerle bir yerden bir yere taşınmasına erozyon denir.

Buna göre aşağıda verilen,

- I. Sert esen rüzgârlar
- II. Arazinin eğimli olmaması
- III. Bitki örtüsünün seyrekliği

durumlarından hangileri erozyonun sebeplerindendir?

- A) I ve II.
- B) I ve III.
- C) II ve III.
- D) I, II ve III.

8. Aşağıdakilerden hangisi kumlu toprağın özelliklerinden değildir?

- A) Koyu renkli, yumuşak ve verimlidir.
- B) Su tutma özelliği çok azdır.
- C) İçinde bol miktarda hava bulunur.
- D) Özellikle pamuk üretiminde yararlanır.

9. K maddesine ait bazı bilgiler veriliyor.

- I. Saf maddedir.
- II. Kendini oluşturan elementlerin özelliklerini göstermez.
- III. Elementler belirli bir oranda birleşmiştir.

Buna göre K maddesi aşağıdakilerden hangisi olabilir?

- A) Demir
- B) Hava
- C) Oksijen
- D) Su

## 2. OTURUM

10. Aşağıdakilerden hangisi gazla dolu bir balonun içindeki gazın özelliklerinden değildir?

- A) Sıkıştırılabilir.
- B) Boşluklu yapıdadır.
- C) Tanecikleri düzenlidir.
- D) Tanecikleri hareketlidir.

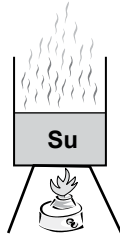
11.

|                        |                         |
|------------------------|-------------------------|
| Tuzun suda çözünmesi ① | Elmanın çürümesi ②      |
| Sütün mayalanması ③    | Etten kıyım yapılması ④ |

Yukarıda verilen numaralandırılmış olaylardan hangilerinde maddenin yapısı değişime uğramıştır?

- A) 1 ve 2
- B) 2 ve 3
- C) 3 ve 4
- D) 1 ve 4

12. Bir deneyde şekildeki gibi kaptaki su ısıtılarak buharlaştırılıyor.



Bu deneyde aşağıdakilerden hangileri gerçekleşir?

- I. Suyun yapısının bozulması
- II. Tanecikleri arasındaki uzaklığın artması
- III. Fiziksel görünümünün değişmesi

- A) Yalnız I
- B) Yalnız III
- C) I ve II.
- D) II ve III.

13. İçinde soba veya kalorifer yanan bir odanın ısınması, ısının yayılma yollarından hangisiyle olur?

- A) Işıma
- B) Konveksiyon
- C) Yansıtma
- D) İletim

14. Aşağıdakilerden hangisi binalarda ısı yalıtımı amacıyla yapılmaz?

- A) Bina yapımında delikli tuğlaların kullanılması
- B) Sıcak bölgelerdeki evlerin dış cephelerinin beyaza boyanması
- C) Kalorifer peteklerinin demirden yapılması
- D) Bina pencerelerinde çift cam kullanılması

15.



Kol, resimdeki gibi büküldüğünde ön ve arkadaki kaslar için aşağıdakilerden hangisi söylenir?

- |    | <u>Ön kas</u> | <u>Arka kas</u> |
|----|---------------|-----------------|
| A) | Kasılır       | Gevşer          |
| B) | Gevşer        | Kasılır         |
| C) | Kasılır       | Kasılır         |
| D) | Gevşer        | Gevşer          |

16. Bağışıklığı sağlayan organların hepsine bağışıklık sistemi denir.

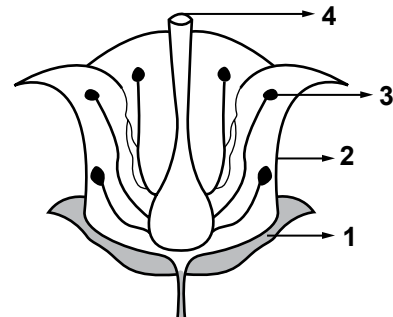
Buna göre aşağıda verilen organlardan hangisi bağışıklığı sağlayan organlardan değildir?

- A) Dalak
- B) Lenf düğümleri
- C) Bademcik
- D) Böbrekler

17. Diyafram ile ilgili verilen bilgilerden hangisi yanlıştır?

- A) Akciğerlerin alt tarafında bulunur.
- B) Kastan yapılmış bir organdır.
- C) Soluk verme sırasında düzleşir.
- D) Karın ve göğüs boşluğunu birbirinden ayırır.

18. Şekilde çiçeğin kısımları numaralandırılarak verilmiştir.



Tozlaşma olayı kaç numaralı yapılar arasında gerçekleşir?

- A) 1 ve 2
- B) 2 ve 3
- C) 3 ve 4
- D) 1 ve 4



## 2. OTURUM

19. I. Hücre → Akyuvar  
II. Organ → Böbrek  
III. Organizma → Sindirim sistemi  
**Canlılardaki yapı birimleri ile ilgili yukarıda verilen eşleştirmelerden hangileri doğrudur?**

A) Yalnız I  
B) I ve II.  
C) II ve III.  
D) I, II ve III.

20. Döllenme sonucu oluşan hücreye \_ \_ \_ I \_ \_ \_ denir.  
Bu hücrenin bölünmeler geçirmesi sonucu \_ \_ \_ II \_ \_ \_ oluşur.

**Verilen ifadelerde I ve II yerine aşağıdakilerden hangisinde verilenler yazılmalıdır?**

|    | I       | II      |
|----|---------|---------|
| A) | Zigot   | Embriyo |
| B) | Fetüs   | Bebek   |
| C) | Embriyo | Fetüs   |
| D) | Bebek   | Zigot   |

### (733) SOSYAL BİLGİLER – 7

1. • Sinop dağlık yöresi  
• Cilo Dağları  
• Mentеше dağlık yöresi  
• Tuz Gölü çevresi

**Yukarıda verilenlerin ortak özelliği nedir?**

- A) Genel nüfus sayımlarında sayılma işleminin yapılmadığı yerleşim yerleridir.  
B) Türkiye'nin koruma altına alınan kuş cennetlerinin bulunduğu bölgelerdir.  
C) Akdeniz ikliminin görüldüğü yörelerdir.  
D) Türkiye'nin en tenha yerleridir.

2. **Aşağıdakilerden hangisi iletişimi olumlu etkileyen davranışlardan biridir?**

A) Gülümsemek  
B) Suçlamak  
C) Alay etmek  
D) Emir vermek

3. **Aşağıdaki şehirlerin hangisinde iş olanakları diğerlerine göre daha az gelişmiştir?**

A) Bursa  
B) İzmit  
C) Yozgat  
D) Eskişehir

4. **Bir ülkenin;**

- tüketici nüfusu fazla,
- kalkınma hızı yavaş,
- işsizlik oranı yüksek

**ise, o ülke için aşağıdakilerden hangisi söylenebilir?**

- A) Yaşlı nüfusu fazladır.  
B) Genç nüfusludur.  
C) Kalkınmış bir ülkedir.  
D) Kırsal – kentsel nüfus oranı eşittir.

5. **Türkiye Selçuklu hükümdarlarının dış ticareti teşvik etmeleri, Avrupalı tüccarlara düşük gümrük vergisi uygulamaları ve kervanların konaklaması için şehirler arasında kervansaraylar inşa ettirmelerindeki amaç, aşağıdakilerden hangisidir?**

- A) Ticareti geliştirmek  
B) Güçlü bir donanma kurmak  
C) Türkçeyi devletin resmî dili hâline getirmek  
D) Bizans İmparatorluğu'nun hâkimiyetine son vermek

6. **Türkiye Selçuklu Devleti, aşağıdakilerden hangisiyle "kara devleti olma" özelliğinden çıkarak denizci bir devlet olmuştur?**

- A) Haçlıları mağlup etmeleriyle  
B) Miryokefalon Savaşı'nı kazanmalarıyla  
C) Büyük Selçuklu Devleti'nin yıkılmasıyla  
D) Kıyı şehirlerini ve limanları ele geçirmeleriyle

7. **Osmanlı Devleti'nde padişahın vekili olup devlet yönetiminde büyük yetkiye sahip olan Divan-ı Hümayun üyesi aşağıdakilerden hangisidir?**

A) Nişancı  
B) Defterdar  
C) Sadrazam  
D) Kazasker

8. **Osmanlı'nın öncü askerî sınıfı, aşağıdakilerden hangisidir?**

A) Azaplar  
B) Akıncılar  
C) Cebeciler  
D) Silahtarlar

## 2. OTURUM

9. Bir gazetede Osmanlı Devleti için "Huzurun tutkalıydı." ifadesi yer almaktadır.

**Gazete bu ifadeyle, aşağıdakilerden hangisini kastetmiş olabilir?**

- A) Osmanlı'nın tüm İslam dünyasını temsil ettiğini  
B) Osmanlı'nın tüm düşmanlarını egemenliği altına aldığını  
C) Osmanlı'nın din ve ırk ayırımı yapmaksızın herkese eşit davrandığını  
D) Devletin, gayrimüslimlerden aldığı vergiyi Müslüman Türklerden almadığını

10. Aşağıdaki Osmanlı tersanelerinden hangisi "Tersane-i Amire" olarak adlandırılmıştır?

- A) İstanbul Tersanesi B) Gelibolu Tersanesi  
C) Süveyş Tersanesi D) Sinop Tersanesi

11. Yavuz Sultan Selim, 1517 yılında aşağıdaki devletlerden hangisini yenerek Hicaz'da hâkimiyet sağlamıştır?

- A) Lehistanlıları B) Bizanslıları  
C) Safevileri D) Memlukleri

12. Aşağıdaki Türk – İslam bilim insanlarından hangisi Avrupa'da "Avicenne" ismiyle ün yapmıştır?

- A) Biruni B) İbni Sina  
C) Farabi D) Ali Kuşçu

13. Aşağıdakilerden hangisi Sanayi İnkılabı'nın sonuçlarından değildir?

- A) Ticaretin gerilemesi  
B) Demiryollarının gelişmesi  
C) Küçük atölyelerin kapanması  
D) İşçi sınıfının ortaya çıkması

14. Aşağıdakilerden hangisi Coğrafi Keşiflerin sonuçlarından değildir?

- A) Keşfedilen ülkelerin altın ve gümüş gibi zenginliklerinin Avrupa'ya taşınması  
B) İpek ve Baharat yollarının Türklerin ve Müslümanların eline geçmesi  
C) Ticaret yollarının Akdeniz'den Atlas Okyanusu'na kayması  
D) Hristiyanlığın yeni ülkelere yayılması

15. I. Kurultay  
II. Divanühümayun  
III. Meclis-i Mebusan  
IV. Türkiye Büyük Millet Meclisi

**Yukarıda verilen yönetim kurumlarından hangileri Osmanlı Devleti'nde görülür?**

- A) Yalnız III B) I ve II.  
C) II ve III. D) I, III ve IV.

16. 1982 Anayasasının hangi maddesinde Türkiye Cumhuriyeti Devleti'nin temel nitelikleri belirtilmiştir?

- A) 1. B) 2. C) 3. D) 7.

17. I. Dünya Savaşı'nın uzamasına (I) ve bitmesine (II) etki eden olaylar, aşağıdakilerin hangisinde birlikte verilmiştir?

- | I                         | II                     |
|---------------------------|------------------------|
| A) ABD'nin savaşa girmesi | Coğrafi Keşifler       |
| B) Sanayi İnkılabı        | Çanakkale Savaşı       |
| C) Çanakkale Savaşı       | ABD'nin savaşa girmesi |
| D) İstanbul'un İşgali     | ABD'nin savaşa girmesi |

18. Aşağıdakilerden hangisini çevre sorunu olarak sayamayız?

- A) Trafik kirliliği B) Oda kirliliği  
C) Deniz kirliliği D) Hava kirliliği

19. Aşağıda İngilizce kısaltmaları verilen Birleşmiş Milletler Teşkilatına bağlı organlardan hangisi insanlığın ortak mirasını korumaya yönelik çalışmalar yapar?

- A) UNESCO B) UNICEF  
C) IMF D) ILO

20. Aşağıdaki eserlerden hangisi diğerlerinden farklı bir miras ürünüdür?

- A) Nutuk B) Çalığışu  
C) Sefiller D) Çin Setti

## 2. OTURUM

(735) İNGİLİZCE – 7

1-20. sorularda boş bırakılan yere uygun gelen kelime ya da ifadeyi işaretleyiniz.

1. It is - - - - at the moment.  
A) snow B) snows  
C) snowed D) snowing
2. I always - - - - TV but I never - - - - to the cinema.  
A) watch / go B) drinks / go  
C) write / goes D) breaks / goes
3. - - - -, he is going to visit his grandparents.  
A) In the past B) Next week  
C) Yesterday D) Last night
4. Robin : - - - - you at home?  
Robert : No, I - - - - .  
A) Was / was B) Were / was  
C) Were / wasn't D) Was / weren't
5. I - - - - working at 9 o'clock every day but I - - - - at 10.30 yesterday.  
A) sleep / started B) start / started  
C) break / started D) cleaned / started
6. Who - - - - the light bulb?  
A) went B) slept  
C) invented D) came
7. - - - - you - - - - to sleep early when you were a child?  
A) Do / use B) Did / use  
C) Do / used D) Did / used
8. Tommy speaks English very - - - - .  
A) nice B) well  
C) careful D) beautiful

9. February is - - - - month of the year.

A) short B) shorter  
C) so short D) the shortest

10. A car isn't - - - - cheap - - - - a bicycle.

A) as / as B) same / as  
C) the / same D) more / than

11.



The cat - - - - climb the tree.

A) can B) must  
C) shouldn't D) mustn't

12. I - - - - get up early tomorrow because it's a holiday.

A) should B) have to  
C) mustn't D) don't have to

13.



Please, - - - - make noise in class.

A) aren't B) not C) don't D) doesn't

14. Merlin : Where is your brother?

Dorothy : He is - - - - the kitchen.

A) in B) at C) on D) of

## 2. OTURUM

15. ----- I was in China, I visited many different places.

- A) Where                      B) Who  
C) When                      D) So

16. Neville : ----- we drink coffee?

Daisy : No, let's not.

- A) Did      B) Must      C) Could      D) Shall

17. Mary was ----- girl at the party.

- A) the most beautiful  
B) more beautiful  
C) most beautiful  
D) beautiful

18. If you ----- harder, you ----- be more successful.

- A) study / will                      B) play / mustn't  
C) watch / would                      D) smell / wouldn't

19. Jackson used to ----- computer games when he was a child.

- A) go      B) drink      C) eat      D) play

20. You look bad, you ----- see a doctor.

- A) need                      B) should  
C) don't have to                      D) doesn't have to

3. Zwölf Monate sind ein ----- .

- A) Stunde                      B) Tag  
C) Woche                      D) Jahr

4. ----- Buch ist sehr interessant.

- A) Dieses                      B) Dieser  
C) Diese                      D) Diesen

5.



Wie spät ist es?

Es ist ----- .

- A) fünf nach vier                      B) Viertel vor fünf  
C) fünf vor fünf                      D) Viertel nach vier

6. Wir haben ----- August Ferien.

- A) am      B) im      C) um      D) zum

7. Meine Mutter arbeitet in der ----- .

- A) Kino                      B) Theater  
C) Krankenhaus                      D) Fabrik

8. ----- Montag ----- Freitag muss mein Vater arbeiten.

- A) Von / bis                      B) Um / zu  
C) Weil / aber                      D) Denn / ob

9. Wir ----- morgen ins Restaurant gehen. (istek)

- A) sollen                      B) müssen  
C) wollen                      D) dürfen

10. September, -----, November

- A) Dezember                      B) Januar  
C) März                      D) Oktober

(735) ALMANCA – 7

1-17. sorularda boş bırakılan yere uygun gelen kelime ya da ifadeyi işaretleyiniz.

1. A: ----- hast du Geburtstag?

B: ----- Montag.

- A) Wo / Um                      B) Wann / Am  
C) Wie / Im                      D) Woher / Zum

2. A: Kannst du ----- helfen?

B: Ja, ich kann ----- helfen.

- A) ihm / dich                      B) uns / du  
C) mir / dir                      D) dich / mich

## 2. OTURUM

11.



Wie ist das Wetter?

Es - - - - .

- A) ist neblig                      B) ist regnerisch  
C) ist windig                      D) ist sonnig

12. Gestern - - - - ich nicht in der Schule.

- A) war      B) bin      C) ist      D) habe

13. A: Wo ist Anitkahir?

B: - - - - Ankara.

- A) Im      B) Am      C) In      D) Um

14. A: - - - - kommt Hans?

B: - - - - Berlin.

- A) Wann / Um                      B) Woher / Aus  
C) Wie / Gut                      D) Womit / Bis

15.



Wo ist der Hund?

Er ist - - - - dem Baum.

- A) unter                      B) oben  
C) zwischen                      D) über

16. Hallo, ich - - - - Ahmet und das - - - - Hans.

- A) bin / heißt                      B) sein / sind  
C) habe / war                      D) heiÙe / ist

17. AÙağıdaki kelimelerin "Artikel"leri hangi seekte doęru verilmiřtir?

- - - - Haus, - - - - Schule, - - - - Vogel

- A) der / die / das  
B) das / die / der  
C) die / der / das  
D) dem / das / die

18. AÙağıdaki kelimelerden hangisi fiil deęildir?  
(Verb)

- A) schlafen                      B) gehen  
C) lang                      D) essen

19.



Was ist sein Beruf?

- A) Zahnarzt                      B) Lehrer  
C) Polizist                      D) Busfahrer

20. "schlafen" fiilinin gemiř hali aÙağıdakilerden hangisidir? (Präteritum)

- A) schläÙt                      B) geschlafen  
C) schläÙst                      D) schlief

(735) FRANSIZCA – 7

1-15. sorularda boř bırakılan yere uygun gelen kelime ya da ifadeyi iřaretleyiniz.

1. Hakan est romancier, - - - - écrit un nouveau roman.

- A) elle      B) il      C) tu      D) ils

2. - - - - commence le cours de maths ?

- A) Quel                      B) Parce que  
C) Combien                      D) À quelle heure

## 2. OTURUM

3. **Alain** : Tu manges du pain ?  
**Jean** : Non, je ne mange pas - - - - pain. Je fais du régime.

- A) de B) des C) la D) les

4. **Lucie fait du tennis et de la natation - - - - elle adore le sport.**

- A) comment B) pourquoi  
C) parce que (qu') D) quand

5. **J'ai soif ; je vais - - - - de l'eau fraîche.**

- A) sortir B) boire  
C) marcher D) manger

6. **L'ascenseur ne marche pas, nous devons monter chez nous - - - -.**

- A) à pied B) en bus C) à vélo D) en train

7. **Nous habitons - - - - Stuttgart - - - - Allemagne.**

- A) à / aux B) en / à  
C) en / au D) à / en

8. **Pierre** : Vous connaissez le prof d'anglais d'Alex ?

**M.Leduc** : Non, je ne - - - - connais pas.

- A) les B) la C) le D) des

9. **Philippe** : Qu'est-ce qu'elle fait dans la vie ?  
**Sophie** : - - - -.

- A) Elle est dentiste  
B) Il est à l'heure  
C) Il est de Berlin  
D) Elle est dans la cuisine

10. **Hier, Caroline est - - - - pour la Suisse.**

- A) parties B) partie  
C) partis D) parti

11. **En 2011, Berkay et Can ont fait - - - - à moto.**

- A) le libraire B) le charcutier  
C) le tour d'Italie D) le pharmacien

12. **Annie** : Marc, je n'ai plus de fromage, tu peux aller - - - - ?

**Marc** : D'accord, il faut autre chose ?

**Annie** : Oui, une bouteille de lait, s'il te plaît.

- A) à la poste B) au théâtre  
C) à la boucherie D) à l'épicerie

13. **Le frère de mon mari est - - - -.**

- A) mon beau-frère B) ma fille  
C) mon oncle D) ma belle-fille

14. **Serdar** : C'est la voiture de Jeanne ?

**Michel** : Oui, c'est - - - - voiture.

- A) ton B) son C) sa D) ses

15. **Je veux de l'huile d'olives. Ça coûte - - - - le litre ?**

- A) rien B) comme C) comment D) combien

16-20. soruları resimleri dikkate alarak cevaplayınız.


16.



Il a - - - - et il porte - - - -.

- A) un gros ventre / une casquette bleue  
B) de grandes dents / des lunettes  
C) les cheveux raids / un blouson écossais  
D) les cheveux frisés / une cravate

17.



Ils font - - - -.

- A) de la natation B) de la boxe  
C) le repassage D) le ménage

## 2. OTURUM

18.



Le matin, l'étudiant - - - - à moto pour aller à l'université.

- A) répare  
C) monte
- B) marche  
D) lave

19.



Il est - - - - .

- A) mécanicien  
C) vendeur
- B) sportif  
D) médecin

20.



Selon la météo, il y aura - - - - la semaine prochaine à Paris.

- A) du vent  
C) de la pluie
- B) du soleil  
D) de la neige

### (736) DİN KÜL. VE AHLAK BİLGİSİ – 7

1. Mezhepler ile ilgili aşağıdaki bilgilerden hangisi doğrudur?

- A) Düşünce zenginliğidir.  
B) Dinin anlaşılmasına engeldir.  
C) Dinin yaşanmasını zorlaştırır.  
D) Bilimsel gelişimi önler.

2. Aşağıdakilerden hangisi meleklerden değildir?

- A) Günah işlemezler.  
B) Nurdan yaratılmışlardır.  
C) İnsanlar tarafından görülemezler.  
D) Erkeklik ve dişilik özellikleri vardır.

3. Münker Nekir meleklerinin görevleri aşağıdakilerden hangisidir?

- A) Doğa olaylarını yönetmek  
B) Kabirde sorgu sual yapmak  
C) Peygamberlere vahiy getirmek  
D) Kıyametin kopacağını bildirmek

4. • “Kolaylaştırınız, zorlaştırmayınız, müjdeleyiniz, nefret ettirmeyiniz” (Hadis-i Şerif)  
• “Dinde zorlama yoktur. Çünkü doğruluk sapıklıktan iyice ayrılmıştır....” (Bakara suresi, 256. ayet)  
• De ki: “Hak, Rabbinizdendir. Artık dileyen iman etsin, dileyen inkâr etsin...” (Kehf suresi, 29. ayet)

Bu hadis ve ayetler dikkate alındığında İslam dini hakkında aşağıdakilerden hangisine ulaşamaz?

- A) Kolaylık dinidir.  
B) Son İlahi dindir.  
C) İnanç özgürlüğü vardır.  
D) İnsan iradesine önem verir.

## 2. OTURUM

5. “Şeytan onlara (birçok) vaadde bulunur ve onları kuruntulara sürükler. Oysa şeytan, ancak aldatmak için onlara vaadde bulunuyor.”  
(Nisa suresi, 120.ayet)

**Bu ayette şeytanın hangi özelliğine vurgu yapılmıştır?**

- A) İnkarcılığına  
B) Nankörlüğüne  
C) Aldatıcılığına  
D) Kibirliğine

6. Bir gün bedevilerden bir Arap Hz. Peygamber'in yanına gelir ve heybetinden titremeye başlar. Bunu gören Hz. Peygamber: “Sakin ol, ben bir melik (kral) değil, Mekke'de güneşte kurutulmuş et yiyen bir kadının oğluyum” diyerek şahsı sakinleştirir.

**Bu metin Hz. Peygamber'in aşağıdaki ahlaki özelliklerinden hangisi için örnek oluşturur?**

- A) Tevazu  
B) Sabır  
C) Doğruluk  
D) Adalet

7. **Aşağıdakilerden hangisi İslam dinine göre batıl bir inanç değildir?**

- A) İki bayram arasında nikâh yapmamak  
B) Ağaçlara çaput bağlayıp dilekte bulunmak  
C) Geleceği sadece Allah'ın bileceğine inanmak  
D) Türbe ve tekkelerde mum yakarak istekte bulunmak

8. Okunan ilahiler eşliğinde dil, ırk ve cinsiyet ayrımı gözetmeksizin ellerini göğe kaldırarak Hakk'ın tek olduğunu zikrederek, ayakta döne döne yapılan bir çeşit zikirdir. Nefsin, bencilliğin, menfaatçiliğin, ikiye bölünmüşlüğü ve yaşama dair tüm kötülüklerin anlamsızlığını görüp Hak'tan alıp halka vermek, paylaşmak gibi anlamlar içerir.

**Hakkında bilgi verilen kavram aşağıdakilerden hangisidir?**

- A) Cem  
B) Sema  
C) Gülbenk  
D) Semah

9. **Aşağıdakilerden hangisi Hz. Muhammed(sav.)'in insani yönüyle ilgilidir?**

- A) Vahiy alması  
B) Kur'an-ı Kerim'i açıklaması  
C) Erdemliler Topluluğu'na katılması  
D) Din konusunda insanları uyarması

10. Din kardeşinin ihtiyacını karşılayanın, Allah da ihtiyacını karşılar. Müslümandan bir sıkıntıyı giderenin, Allah da kıyamet günündeki sıkıntılarında birini giderir. Bir Müslümanın ayıbını örtenin, Allah da kıyamet gününde ayıplarını örter.

**Hadisin anlamına en uygun atasözü aşağıdakilerden hangisidir?**

- A) Kazma elin kuyusunu, kazarlar kuyunu.  
B) İyilik yap denize at, balık bilmezse Halık bilir.  
C) Açma sırrını dostuna, o da söyler dostuna.  
D) Kusursuz dost arayan dostsuz kalır.

11. “Ramazan ayı mübarek bir aydır. Allah size Ramazan orucunu farz kıldı. O ayda rahmet kapıları açılır, cehennem kapıları kapanır, şeytanlar bağlanır. O ayda bir gece vardır ki, bin aydan daha kıymetlidir. O gecenin hayrından mahrum kalan, her hayırdan mahrum kalmış sayılır.”

**Hadiste önemine vurgu yapılan gece aşağıdakilerden hangisidir?**

- A) Kadir  
B) Cuma  
C) Berat  
D) Miraç

12. **Aşağıdakilerden hangisi oruç tutmanın kişiye ve topluma kazandırdıkları arasında değerlendirilemez?**

- A) Sabırlı olmak  
B) Beden egzersizi yapmak  
C) Yoksulun halini anlamak  
D) Kötülükten korunmak

13. **Aşağıdakilerden hangisi orucu bozan durumlardan değildir?**

- A) İlaç yutmak  
B) Sigara içmek  
C) Bayılmak  
D) Kan vermek



## 2. OTURUM

14. • Oruca başlama vaktinin adıdır.  
• Tan yerinin ağarmasıyla oruç yasakları başlar.  
• Sabah namazının vaktinin başladığını bildirir.

**Bu bilgiler aşağıdaki kavramlardan hangisine aittir?**

- A) İmsak  
B) İftar  
C) Teravih  
D) Sahur

15. Allah rızasını kazanmak amacıyla, ihtiyaç sahiplerine ödünç para, mal vb. şeyler vererek iyilikte bulunma işine ne ad verilir?

- A) Fitre  
B) Zekât  
C) Karz-ı hasen  
D) Sadaka-i cariyé

16. Bana şunlar hakkında söz verin, ben de size cenneti müjdeleyeyim:

- Konuştuğunuz zaman doğruyu konuşun!
- Söz verdiğiniz zaman sözünüzü yerine getirin!
- Size emanet edileni koruyun!

**Bu hadiste vurgulanan düşünce aşağıdakilerden hangisidir?**

- A) Adalet  
B) Saygı  
C) Dürüstlük  
D) Hoşgörü

17. Aşağıdakilerden hangisi örf ve adetlerimizdeki dini motiflere örnek olamaz?

- A) Bayramlaşma  
B) Kandil gecelerini kutlama  
C) Muharrem ayında aşure yapıp dağıtma  
D) Çocuk için diş bulguru kaynatmak

18. Ben onları göremem, onlar beni görürler  
Güzel düşüncelere güç ve kuvvet verirler

**Bu beyitte verilen mesajı aşağıdaki ayet ve hadislerden hangisi anlatmaktadır?**

- A) "Gece ve gündüzde bir kısım melekler aranızda bulunurlar. Bunlar sabah namazı ile ikinci namazında toplanırlar..." (Hadis))  
B) "Hâlbuki üzerinizde muhakkak bekçiler, değerli yazıcılar vardır." (İnfitar suresi, 10-11. ayetler )  
C) "Kim içinde iyiliğe çağıran bir ses duyarsa bilsin ki o, meleğin sesidir. Hemen ona uysun ve Allah'a şükretsin..." (Hadis)  
D) "De ki: Sizin için görevlendirilen ölüm meleği canınızı alacak, sonra Rabbinize döndürüleceksiniz." (Secde suresi, 11. Ayet)

19. Allah tarafından vahiy yoluyla gönderilen, insanları kendi özgür iradeleriyle iyiye ve doğruya yöneltmeyi amaçlayan kurallar bütünüdür.

**Tanımı verilen kavram aşağıdakilerden hangisidir?**

- A) Din  
B) Mezhep  
C) Ahlak  
D) Tasavvuf

20. Aşağıdakilerden hangisi islam düşüncesinde inançla (itikadî) ilgili olarak oluşan yorum farklılıklarından biridir?

- A) Hanefilik  
B) Alevilik  
C) Caferilik  
D) Maturidilik

### (830) TÜRKÇE – 8

1. Aşağıdaki cümlelerin hangisinde "almak" kelimesi "içine sığmak" anlamında kullanılmıştır?

- A) Fotoğraf makinesi ışık almış, tüm filmler yanmış.  
B) Vakitsiz yağın kar, meyvelerin soğuk almasına sebep oldu.  
C) Benim dolabım ikimizin de eşyalarını alır.  
D) Burayı, içeride durulamayacak kadar kötü bir koku aldı.

2. I. Laf torbaya girmez.  
II. Laf lafı açar, laf da kutuyu açar.  
III. Lafla peynir gemisi yürümez.  
IV. Lafla pilav pişerse deniz kadar yağ benden.

**Numaralanmış sözlerden hangileri anlamca birbirine en yakındır?**

- A) I ve II.  
B) I ve III.  
C) II ve IV.  
D) III ve IV.

3. Erken yat, erken kalk.  
Yat yarışlarına ülkemiz de katılacak.

**Bu cümlelerde altı çizili kelimeler arasındaki anlam ilişkisi aşağıdakilerden hangisidir?**

- A) Zıt anlamlılık  
B) Eş seslilik  
C) Yan anlamlılık  
D) Eş anlamlılık

## 2. OTURUM

4. Aşağıdaki cümlelerin hangisinde altı çizili kelime grubu deyim değildir?

- A) Okulda bugün çok para harcadım.
- B) İsteddiği olmayınca suratı bir karış asılır.
- C) Bu toplantıda büyüklere de söz düşmedi.
- D) Ona kim bu adı takmıştır, bilemiyor.

5. Mutluluk eninde sonunda senin de kapını çalacak. **Bu cümledeki altı çizili kelime grubu yerine aşağıdakilerden hangisi getirilirse cümlelerin anlamı değişir?**

- A) er ya da geç
- B) mutlaka
- C) nasıl olsa
- D) sanırım

6. “İmecelerde, insanlar arasındaki birlik ve beraberlik bağları güçlenir.” **cümlesine anlam bakımından en yakın olan aşağıdakilerden hangisidir?**

- A) Çevresindeki insanların işlerine koşan bir insan kendisini mutlu ve huzurlu hisseder.
- B) İnsan hangi limana yelken açtığını bilmiyorsa hiçbir rüzgâr ona yardım edemez.
- C) Bir arada iş yapan insanların duygu ve düşünce ortaklığı artar.
- D) İletişim gücü yüksek olan insanlar her zorluğun üstesinden kolayca gelir.

7. Aşağıdaki cümlelerden hangisi öznel bir yargı içermemektedir?

- A) Çağrıldığı yere geç gittiği için işten kovulmuş olmalı.
- B) Yazar köydeki ilkel üretim biçimini ilginç ayrıntılarıyla anlatıyor.
- C) Güneşli, sakin bir sabaha uyanmak büyük bir nimetti.
- D) Temmuzda kaldırılacak harman için hazırlık yapıyorduk.

8. Aşağıdaki cümlelerin hangisinde karşılaştırma yapılmıştır?

- A) Bugün birkaç saat süren misafirlikler eskiden aylarca sürebiliyormuş.
- B) Dört gündür beni arayıp soran, evime gelen kimse yok.
- C) Yazar, romanında toplumsal bir olaya ışık tutmuş.
- D) Türkiye’de günün her saatinde çay içmeniz mümkündür.

9. “Minik karıncalar, telaşlı adımlarla yuvalarına gidiyordu.” **cümlesindeki söz sanatı aşağıdakilerden hangisidir?**

- A) Benzetme
- B) Kişileştirme
- C) Abartma
- D) Konuşturma

10. Bunaltıcı ve kasvetli havaların ağırlığından kurtulmak için spor yapmak etkili bir yöntem. Ayrıca ilkbaharın getirdiği güneşli ve temiz havaları da sporla değerlendirmek gerekir. Bunun için yapabileceğimiz en güzel şeylerden biri de bisiklet sürmektir. Hem bisikletinizin olmasına da gerek yok. Bisiklet kiralama ofislerini kullanarak zamanınızı eğlenceli bir şekilde geçirebilirsiniz.

**Bu metinde aşağıdakilerden hangisine değinilmemiştir?**

- A) Bisikleti olmayanların da bisiklet sürebilme imkânının olduğuna
- B) Güzel havaların bisiklete binilerek geçirilebileceğine
- C) Bisiklet kiralama ofislerinin gün geçtikçe çoğaldığına
- D) Bunaltıcı havaların verdiği sıkıntıdan uzaklaşmak için spor yapmanın etkili olduğuna

11. Seni bulmaktan önce aramak isterim  
Seni sevmekten önce anlamak isterim  
Seni bir yaşam boyu bitirmek değil de  
Sana hep hep yeniden başlamak isterim

**Bu şiirin türü aşağıdakilerden hangisidir?**

- A) Didaktik (Öğretici)
- B) Epik (Destansı)
- C) Lirik (Duygusal)
- D) Pastoral (Doğa)

12. Televizyona düşkün çocuklarda, sosyal beceriler zayıflamaya ve içe dönük bir kişilik gelişmeye başlar. Bu çocuklar ailesiyle, arkadaşlarıyla ve diğer insanlarla sosyal ilişki kurmada isteksiz davranır. Televizyon izleyen bir çocuk, kendisi için bir şey üretememektedir. Sadece başkaları tarafından üretilen şeyleri izlemekte veya bunlarla oynamaktadır.

**Bu metnin türü aşağıdakilerden hangisidir?**

- A) Sohbet
- B) Otobiyografi
- C) Roman
- D) Makale

## 2. OTURUM

13. Ağaç, bir ulusun yaşamında önemli bir yeri olan, bulunduğu topraklara can veren çok değerli bir varlıktır. Türkler, tarihin ilk çağlarından beri ağaca önem vermişlerdir. Ağaç sevgisi Türklerle atalarından miras kalmıştır.

**Bu metinde kullanılan düşünceyi geliştirme yolu aşağıdakilerden hangisidir?**

- A) Tanımlama B) Tanık gösterme  
C) Benzetme D) Örneklem

14. Göz alabildiğine uzanan bir düzlüğe çıkmışlardı. Ne ağaç vardı ne dere ne ev! Yalnız ara sıra kocaman kocaman hayvanlara rast geliyorlardı. Çok uzun bacaklı, çok uzun boylu, sırtları kabarık, kambur hayvanlar trene bakmıyorlardı bile. Dalgın ve küskün, arka arkaya, ağır ağır, yumuşak yumuşak, iz bırakmadan gidiyorlardı.

**Bu metnin dil ve anlatım özellikleriyle ilgili aşağıdakilerden hangisi söylenemez?**

- A) Betimleme yapılmıştır.  
B) Deyim kullanılmıştır.  
C) Kişileştirmeden faydalanılmıştır.  
D) Anlatım birinci kişi ağzından yapılmıştır.

15. Aşağıdaki cümlelerin hangisinde "-acak/ -ecek" eki diğerlerinden farklı bir görevde kullanılmıştır?

- A) Otobüs durmayacak önümüzdeki durakta.  
B) Dün akşam unutulmayacak bir maç seyrettik.  
C) Kardeşim, övünülecek bir başarı elde etti.  
D) Bahçemize gelecek misafirler için hazırlık yaptık.

16. Aşağıdaki cümlelerin hangisinde nesne yoktur?

- A) Kitaplar hiç solmayacak bitkilerdir.  
B) Rüzgâr, sabaha kadar evin önüne kar yığmış.  
C) Ben olmasam bu kap kacağı kimse bulamazdı.  
D) Yabancı dil öğrenmek için sözcük ezberliyorum.

17. Aşağıdaki cümlelerin hangisinde anlatım bozukluğu vardır?

- A) Kışın nişanlanan genç, yazın başında evlendi.  
B) Marmara'ya inanılmaz çoklukta bir balık akını olmuştu.  
C) Yaşamı boyunca hep güzelden, iyiden yana oldu.  
D) Onunla dün bir düğünde karşılaştık.

18. Aşağıdaki cümlelerin hangisinde fiilimsi vardır?

- A) Şehirli insanlar kalabalık içinde yalnız yaşıyorlar.  
B) Hırsızlar, çalıntı arabayla sanayinin içinde yakalandılar.  
C) Gönünde tomur tomur pembe karanfiller açtı.  
D) Konser bitince sanatçıyı ayakta alkışladılar.

19. Aşağıdaki cümlelerin hangisinde virgül, ara sözleri ayırmak için kullanılmıştır?

- A) Tamam, ben de sizinle tiyatroya geleyim.  
B) Akşama hep birlikte yemeğe davetliyiz, dedi.  
C) En sevdiği dizi, Mahallenin Muhtarları, artık yayımlanmıyor.  
D) Anadolu'nun çıplak, yolsuz, yıkık, yoksul bir köyündeydik.

20. Aşağıdaki cümlelerin hangisinde yazım yanlış yapılmıştır?

- A) Onu bir daha aramadım da görmedim de.  
B) Gönderdiğim mektup eline geçmiş midir?  
C) Öyle korktuki bir süre kendine gelemedi.  
D) Bu yıl tatile eylülde gitmeyi düşünüyoruz.

### (831) MATEMATİK – 8

1. Hindistan'ın nüfusu 1 250 000 000'dur.

**Bu sayının bilimsel gösterimi aşağıdakilerden hangisidir?**

- A)  $1,25 \times 10^8$  B)  $1,25 \times 10^9$   
C)  $0,125 \times 10^9$  D)  $0,125 \times 10^8$

2.  $(-4)^{-3}$  işleminin sonucu kaçtır?

- A) -64 B)  $-\frac{1}{64}$  C)  $\frac{1}{12}$  D) 12

3. Aşağıdakilerden hangisi bir rasyonel sayıdır?

- A)  $\sqrt{2}$  B)  $\sqrt{3}$  C)  $\sqrt{4}$  D)  $\sqrt{5}$

## 2. OTURUM

4. Aşağıdaki eşitliklerden hangileri doğrudur?

- I.  $2\sqrt{2} = \sqrt{8}$
- II.  $-4\sqrt{5} = -\sqrt{90}$
- III.  $5\sqrt{11} = \sqrt{55}$
- IV.  $\sqrt{9} = 3$

- A) I ve II    B) I ve IV    C) II ve III    D) III ve IV

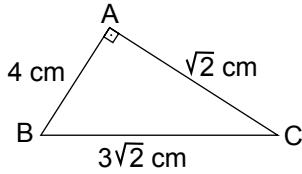
5.  $\sqrt{1,69}$  sayısı aşağıdakilerden hangisine eşittir?

- A) 0,13    B) 1,3    C) 1,6    D) 16,9

6. Aşağıdakilerin hangisindeki verilenler bir üçgenin kenarlarının uzunlukları olabilir?

- A) 11 cm, 5 cm, 5 cm
- B) 8 cm, 2 cm, 6 cm
- C) 12 cm, 6 cm, 2 cm
- D) 5 cm, 5 cm, 1 cm

7.

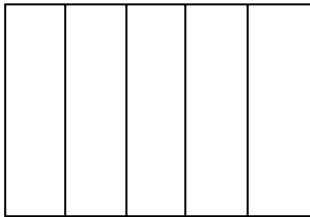


Şekildeki ABC üçgeninde  $[AB] \perp [AC]$  'tir.

$|AB| = 4$  cm,  $|AC| = \sqrt{2}$  cm ve  $|BC| = 3\sqrt{2}$  cm olduğuna göre,  $\tan \widehat{B}$  kaçtır?

- A)  $\frac{\sqrt{2}}{4}$     B)  $\frac{3\sqrt{2}}{4}$     C)  $\frac{1}{3}$     D)  $\frac{2}{3}$

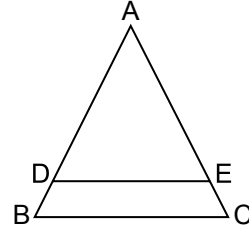
8.



Yukarıdaki şekilde yan yüzeyinin açınımları verilen dik prizmanın tabanı aşağıdakilerden hangisi olabilir?

- A)
- B)
- C)
- D)

9.



Şekilde  $[DE] \parallel [BC]$  ve  $\frac{|AD|}{|AB|} = \frac{3}{4}$  'tür.

$|DE| = 12$  cm olduğuna göre,  $|BC|$  kaç santimetredir?

- A) 9    B) 13    C) 15    D) 16

10. Yarıçap uzunluğu 4 m ve yüksekliği 5 m olan dik dairesel silindirik biçimindeki boş bir su deposu kaç metreküp su alır? ( $\pi$  yerine 3 alınız.)

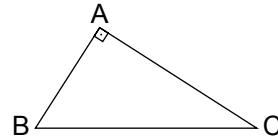
- A) 60    B) 125    C) 240    D) 275

11. Tabanı eşkenar üçgen ve taban çevresi 30 cm olan üçgen dik prizmanın yan yüz alanı  $360 \text{ cm}^2$  dir.

Buna göre prizmanın yüksekliği kaç santimetredir?

- A) 10    B) 12    C) 18    D) 36

12.



Şekildeki ABC çeşitkenar üçgeninde  $m(\widehat{A}) = 90^\circ$  dir.

Buna göre,  $\frac{\sin \widehat{B}}{\sin \widehat{C}}$  nedir?

- A)  $|AC|^2$     B)  $\frac{|AB|}{|AC|}$     C)  $\frac{|AC|}{|AB|}$     D)  $|BC|^2$

13. Mehmet 10 tane özdeş karta sıra ile 1 den 10 'a kadar sayılar yazarak bir torbaya atıyor.

Torbadan rastgele bir kart çekildiğinde bu kartta yazılı sayının 7 'den küçük, çift bir sayı olma olasılığı kaçtır?

- A)  $\frac{3}{10}$     B)  $\frac{2}{5}$     C)  $\frac{3}{5}$     D)  $\frac{7}{10}$

## 2. OTURUM

14. P (6,3) kaçtır?

- A) 20 B) 60 C) 80 D) 120

15. 2, 5, 8, 11, ...

Yukarıdaki sayı örüntüsünde 6. ve 8. adımdaki sayıların toplamı kaçtır?

- A) 30 B) 33 C) 36 D) 40

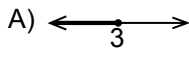
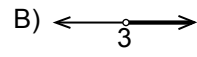
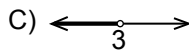
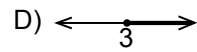
16.  $\frac{12ab^3}{6ab^2}$  ifadesinin sadeleşmiş biçimi aşağıdakilerden hangisidir?

- A) 2 B) 2a C) 2b D) 6ab

17.  $\frac{2x-5}{3} = 7$  denklemini sağlayan x değeri kaçtır?

- A) 3 B) 6 C) 10 D) 13

18.  $3x - 5 \leq 4$  eşitliğinin çözüm kümesi aşağıdakilerden hangi sayı doğrusunda koyu çizgi ile gösterilmiştir?

- A)  B)   
C)  D) 

19. Aşağıda denklemleri verilen doğrulardan hangisinin eğimi  $-1$ 'dir?

- A)  $x + y = 9$  B)  $-x + y = 4$   
C)  $-3x + y = 3$  D)  $x - 5y = 5$

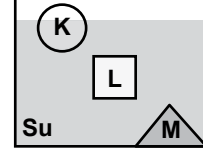
20. Köşe noktalarının koordinatları  $(2, -3)$ ,  $(1, -5)$  ve  $(0, 4)$  olan bir üçgenin x eksenine göre yansıması çiziliyor.

Aşağıdakilerden hangisi çizilen bu üçgenin köşe noktalarından biri değildir?

- A)  $(0, -4)$  B)  $(2, 3)$   
C)  $(5, -1)$  D)  $(1, 5)$

### (832) FEN VE TEKNOLOJİ – 8

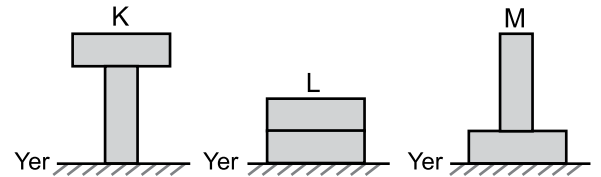
1. Şekilde K, L ve M cisimlerinin su içindeki denge konumları verilmiştir.



Buna göre cisimlere etki eden kaldırma kuvvetlerinin yönü aşağıdakilerin hangisinde doğru gösterilmiştir?

- |    | K | L | M |
|----|---|---|---|
| A) | ↑ | ↓ | ↑ |
| B) | ↑ | ↑ | ↑ |
| C) | ↓ | → | ↓ |
| D) | ↓ | ← | ↓ |

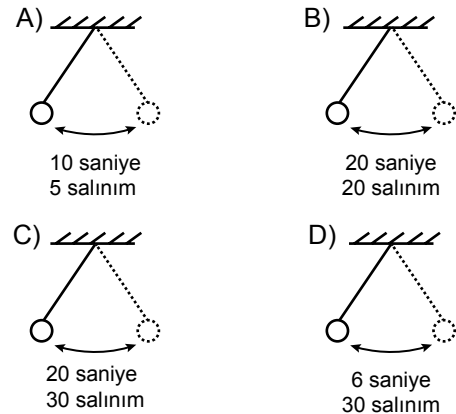
2. Özdeş tuğlalardan oluşan K, L ve M düzenekleri, yatay düzlem üzerinde şekildedeki gibi duruyor.



Buna göre yere uyguladıkları basınç değerleri arasındaki ilişki aşağıdakilerden hangisidir?

- A)  $K < L < M$  B)  $L < M < K$   
C)  $L = M < K$  D)  $M < L = K$

3. Salınım sayıları verilen sarkaçların hangisinin frekansı en küçüktür?



## 2. OTURUM

4. Aynı notanın çalındığı akordeon, keman ve flütten oluşan enstrümanların seslerinin farklılığının nedeni aşağıdakilerden hangisidir?

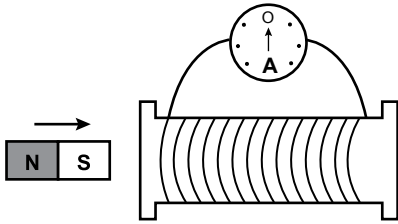
- A) Şiddet  
B) Tını  
C) Hız  
D) Frekans

5. Elektrik motorları elektrik enerjisini hareket enerjisine dönüştüren düzeneklerdir.

Buna göre aşağıdakilerin hangisinde elektrik enerjisi hareket enerjisine dönüşmez?

- A) Ventilator  
B) Saç kurutma makinesi  
C) Elektrik süpürgesi  
D) Su ısıtıcısı

6. Üzerinde tel sarılı akım makarasına çubuk mıknatıs belirli bir hızla yaklaştırılıp uzaklaştırıldığında tele bağlı şekildeki ampermetrenin ibresinin saptığı gözleniyor.



Yapılan bu düzenekte oluşan akımın şiddeti aşağıdakilerden hangisine bağlı değildir?

- A) Miknatisin oluşturduğu manyetik alanın büyüklüğüne  
B) Miknatisin yaklaşip uzaklaşma hızına  
C) Akım makarası üzerindeki telin sarım sayısına  
D) Kullanılan ampermetrenin büyüklüğüne

7. Aşağıda evrenin oluşumuyla ilgili ortaya atılan görüşlerden birinin inceleme sonuçları verilmiştir.

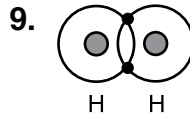
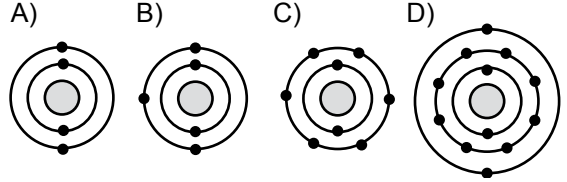
- Evrenin dörtte üçü hidrojen atomundan oluşur.
- Evrenin dörtte biri helyum atomundan oluşur.
- Bu oranlar evrenin her yönünde tespit edilir.

Bu görüş aşağıdakilerden hangisidir?

- A) Büyük Patlama  
B) Metaverse Teorisi  
C) Evrensel Tasarı  
D) Yaratılış Teorisi

8. • Elektrikli iyi iletmez.  
• Periyodik tabloda 2. periyotta bulunur.  
• Bileşiklerinde 2 elektron alarak anyon olma eğilimindedir.

özellikleri verilen elementin katman-elektron gösterilişi aşağıdakilerden hangisidir?



Şekilde verilen H<sub>2</sub> molekülüne ait bilgilerden hangisi yanlıştır?

- A) Elektronlar ortaklaşa kullanılmıştır.  
B) H<sub>2</sub> molekülü iyonik bağ ile oluşmuştur.  
C) Aynı cins ametal atomlarından oluşmuştur.  
D) Son katmanındaki elektron sayısını 2 ye tamamlayarak dublet kuralına uymuştur.

10. Sofra tuzunu oluşturan NaCl bileşiği için,

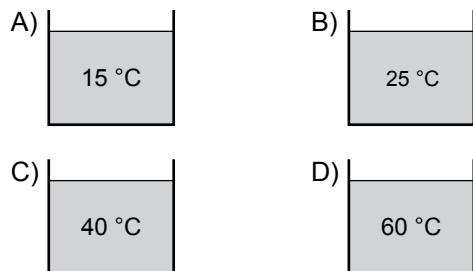
- I. İyonik bağli yapıdadır.  
II. Eşit sayıda Na<sup>+</sup> ve Cl<sup>-</sup> iyonları bulundurur.  
III. Bir elektronun ortak kullanımı sonucunda oluşur.

verilen ifadelerden hangileri doğrudur?

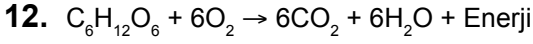
- A) Yalnız I  
B) I ve II.  
C) II ve III.  
D) I, II ve III.

11. Şekildeki kaplarda aynı miktarda farklı sıcaklıklarda su bulunmaktadır.

Sıcaklığı 40°C olan bir ortama bırakılan kaplardan hangisinde çevreye ısı aktarımı olur?



## 2. OTURUM



kimyasal tepkimesi ile ilgili verilen bilgilerden hangisi yanlıştır?

- A) Tepkime sırasında enerji kullanılır.  
B) Gözle gözlenebilmesi mümkün değildir.  
C) Yanma sonucunda karbon dioksit gazı oluşur.  
D) Yanma olayıdır.

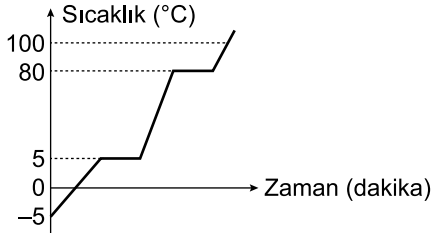
13. Tabloda K, L, M maddelerinin donma ve kaynama sıcaklıkları verilmiştir.

| Madde | Donma Sıcaklığı (°C) | Kaynama Sıcaklığı (°C) |
|-------|----------------------|------------------------|
| K     | -5                   | 60                     |
| L     | 20                   | 80                     |
| M     | 15                   | 95                     |

Tablodaki sıcaklık değerlerine göre bu maddelerin tamamının sıvı olduğu sıcaklık aşağıdakilerden hangisidir?

- A) 85 °C    B) 70 °C    C) 25 °C    D) 5 °C

14.



Saf bir maddenin sıcaklık - zaman grafiğine göre aşağıdaki ifadelerden hangisi yanlıştır?

- A) Madde başlangıçta katı hâldedir.  
B) Madde iki kez hâl değiştirmiştir.  
C) Madde 100 °C'ta gaz hâldedir.  
D) Madde 5 °C'ta tamamen sıvı hâldedir.

15. DNA eşlenmesi sırasında gen yapısında değişimler olabilir.

Bu duruma ne ad verilir?

- A) Adaptasyon    B) Modifikasyon  
C) Mutasyon    D) Klonlama

16. Mayoz bölünme, üreme ana hücrelerinde görülen bir olaydır.

Aşağıdakilerden hangisi mayoz bölünme sonucu gerçekleşen bir olay değildir?

- A) İnsanda  $n$  kromozomlu yumurta hücresinin oluşması  
B) İnsanda  $n$  kromozomlu sperm hücresinin oluşması  
C) Tür içi kromozom sayısının sabit kalması  
D) Dölllenmiş yumurtadan embriyonun oluşması

17. Bir özellik için, annesinden normal aleli, babasından hastalıkla ilgili aleli alan bireylere o özellik bakımından taşıyıcı denir.

Buna göre, hangi genotipe sahip anne-babanın doğacak çocuklarının taşıyıcı olma olasılığı en fazladır? (A: Sağlam, a: Hastalık alelidir.)

- A) AA x Aa    B) AA x aa  
C) AA x AA    D) aa x aa

18. Atmosferdeki serbest azotu bağlayarak canlılar için kullanılabilir hâle getiren canlılar aşağıdakilerden hangisidir?

- A) Azot bakterileri    B) Mantarlar  
C) Böcekler    D) Bitkiler

19. ? → Çekirge → Kurbağa → Yılan → Kartal

Yukarıda verilen besin zincirinde “?” yerine aşağıdaki canlılardan hangisi getirilmelidir?

- A) Karınca    B) Sinek  
C) Mantar    D) Yonca

20. Hücrede büyüme, hareket ve sentez gibi tüm canlılık olaylarında kullanılan enerjiye ATP denir.

Buna göre ATP'nin molekül yapısında aşağıdakilerden hangisi bulunmaz?

- A) Adenin    B) Riboz  
C) Deoksiriboz    D) Fosfat

## CEVAP KÂĞIDI VE SORU KİTAPÇIĞI İLE İLGİLİ AÇIKLAMALAR

1. Cevap kâğıdınızdaki bilgilerin doğruluğunu kontrol ediniz ve cevap kâğıdınızı mürekkepli kalemle imzalayınız.
2. Cevap kâğıdı üzerinde kodlamalarınızı siyah kurşun kalemle yapınız.
3. Değiştirmek istediğiniz bir cevabı, yumuşak silgiyle cevap kâğıdını örselemeden temizce siliniz ve yeni cevabınızı kodlayınız.
4. Soru kitapçığının sayfalarını görevlilerin uyarıları doğrultusunda kontrol ediniz, baskı hatası var ise değiştirilmesini sağlayınız.
5. Soruların çözümü için size ayrıca boş kâğıt verilmeyecektir. Soru kitapçığının içindeki boş alanları soru çözümleri için kullanabilirsiniz.
6. Her sorunun dört seçeneğinden sadece biri doğrudur. Doğru seçeneği, cevap kâğıdınızın ilgili sütununa soru numarasını dikkate alarak yuvarlağın dışına taşırmadan kodlayınız. Soru kitapçığı üzerinde yapılan cevaplandırmalar dikkate alınmayacaktır.
7. Cevaplamaya istediğiniz dersin sorusundan başlayabilirsiniz. Cevabını bilmediğiniz sorular üzerinde fazla zaman kaybetmeden diğer sorulara geçiniz. Zamanınız kalırsa bu sorulara daha sonra dönebilirsiniz.
8. Yanlış cevaplarınız dikkate alınmadan sadece doğru cevaplarınız üzerinden puanlama yapılacaktır.
9. Soruları ve sorulara verdiğiniz cevapları, yanınızda götürmek amacıyla kaydetmeyiniz; hiçbir şekilde dışarı çıkarmayınız.
10. Sınav bitiminde soru kitapçığı ve cevap kâğıdını salon görevlilerine teslim ediniz.

## SALON GÖREVLİLERİNCE SINAV BAŞLAMADAN ÖNCE ADAYLARA YAPILACAK SON UYARILAR

- Soracağınız bir şey varsa şimdi sorunuz, sınav başladıktan sonra sorularınıza cevap verilmeyecektir.
- Başlama zilini bekleyiniz.

*Hepinize başarılar dileriz.*

(Salon başkanı başlama ve bitiş saatini tahtaya yazacaktır.)

Bu kitapçığın her hakkı saklıdır. Hangi amaçla olursa olsun, kitapçığın tamamının veya bir kısmının Millî Eğitim Bakanlığı Ölçme, Değerlendirme ve Sınav Hizmetleri Genel Müdürlüğünün yazılı izni olmadan kopya edilmesi, fotoğraflarının çekilmesi, bilgisayar ortamına alınması, herhangi bir yolla çoğaltılması, yayımlanması veya başka bir amaçla kullanılması yasaktır. Bu yasağa uymayanlar, doğabilecek cezai sorumluluğu ve kitapçığın hazırlanmasındaki mali külfeti peşinen kabullenmiş sayılır.



**18 MART 2017 TARİHİNDE YAPILAN  
AÇIK ÖĞRETİM ORTAOKULU 2016-2017 ÖĞRETİM YILI 2. DÖNEM SINAVI  
2. OTURUM CEVAP ANAHTARI**

**SOSYAL BİLGİLER – 5**

1. D
2. B
3. A
4. C
5. B
6. C
7. A
8. D
9. B
10. C
11. B
12. B
13. D
14. D
15. C
16. B
17. A
18. A
19. D
20. D

**ALMANCA – 5**

1. C
2. D
3. B
4. D
5. A
6. C
7. B
8. C
9. A
10. D
11. A
12. B
13. C
14. A
15. D
16. B
17. C
18. B
19. D
20. A

**DİN KÜLTÜRÜ ve AHLAK  
BİLGİSİ – 5**

1. C
2. D
3. B
4. A
5. B
6. C
7. A
8. D
9. C
10. D
11. A
12. A
13. B
14. C
15. D
16. B
17. C
18. B
19. A
20. C

**MATEMATİK – 6**

1. B
2. C
3. C
4. D
5. A
6. D
7. A
8. B
9. D
10. A
11. A
12. B
13. A
14. C
15. A
16. D
17. B
18. C
19. D
20. C

**İNGİLİZCE – 5**

1. B
2. A
3. C
4. B
5. B
6. D
7. C
8. C
9. A
10. B
11. C
12. A
13. D
14. A
15. C
16. B
17. D
18. A
19. C
20. D

**FRANSIZCA – 5**

1. A
2. C
3. D
4. B
5. B
6. A
7. D
8. C
9. D
10. A
11. A
12. C
13. C
14. D
15. A
16. B
17. D
18. C
19. B
20. A

**TÜRKÇE – 6**

1. B
2. D
3. B
4. B
5. C
6. B
7. A
8. B
9. A
10. D
11. A
12. C
13. D
14. D
15. C
16. B
17. C
18. A
19. D
20. B

**FEN ve TEKNOLOJİ – 6**

1. B
2. D
3. C
4. D
5. B
6. A
7. B
8. A
9. D
10. C
11. B
12. D
13. B
14. C
15. A
16. D
17. C
18. C
19. B
20. A

**18 MART 2017 TARİHİNDE YAPILAN  
AÇIK ÖĞRETİM ORTAOKULU 2016-2017 ÖĞRETİM YILI 2. DÖNEM SINAVI  
2. OTURUM CEVAP ANAHTARI**

**SOSYAL BİLGİLER – 7**

1. D
2. A
3. C
4. B
5. A
6. D
7. C
8. B
9. C
10. A
11. D
12. B
13. A
14. B
15. C
16. B
17. C
18. B
19. A
20. D

**ALMANCA – 7**

1. B
2. C
3. D
4. A
5. C
6. B
7. D
8. A
9. C
10. D
11. B
12. A
13. C
14. B
15. A
16. D
17. B
18. C
19. A
20. D

**DİN KÜLTÜRÜ ve AHLAK  
BİLGİSİ – 7**

1. A
2. D
3. B
4. B
5. C
6. A
7. C
8. D
9. C
10. B
11. A
12. B
13. D
14. A
15. C
16. C
17. D
18. C
19. A
20. D

**MATEMATİK – 8**

1. B
2. B
3. C
4. B
5. B
6. D
7. A
8. C
9. D
10. C
11. B
12. C
13. A
14. D
15. D
16. C
17. D
18. A
19. A
20. C

**İNGİLİZCE – 7**

1. D
2. A
3. B
4. C
5. B
6. C
7. B
8. B
9. D
10. A
11. A
12. D
13. C
14. A
15. C
16. D
17. A
18. A
19. D
20. B

**FRANSIZCA – 7**

1. B
2. D
3. A
4. C
5. B
6. A
7. D
8. C
9. A
10. B
11. C
12. D
13. A
14. C
15. D
16. B
17. B
18. C
19. A
20. D

**TÜRKÇE – 8**

1. C
2. D
3. B
4. A
5. D
6. C
7. D
8. A
9. B
10. C
11. C
12. D
13. A
14. D
15. A
16. A
17. B
18. D
19. C
20. C

**FEN ve TEKNOLOJİ – 8**

1. B
2. C
3. A
4. B
5. D
6. D
7. A
8. C
9. B
10. B
11. D
12. A
13. C
14. D
15. C
16. D
17. B
18. A
19. D
20. C