

T.C.
MİLLÎ EĞİTİM BAKANLIĞI
ÖLÇME, DEĞERLENDİRME VE
SINAV HİZMETLERİ GENEL MÜDÜRLÜĞÜ



AÇIK ÖĞRETİM LİSESİ / MESLEKİ AÇIK ÖĞRETİM LİSESİ
2016 - 2017 ÖĞRETİM YILI
2. DÖNEM SINAVI

3.
OTURUM

19 MART 2017 Saat: 09.30

<u>DERS KODU VE ADI</u>	<u>SAYFA</u>	<u>DERS KODU VE ADI</u>	<u>SAYFA</u>	<u>DERS KODU VE ADI</u>	<u>SAYFA</u>
(113) DİN KÜL. AHL. BİL. – 3	3	(242) FRANSIZCA – 3	22	(478) MANTIK – 1	43
(114) DİN KÜL. AHL. BİL. – 4	4	(403) DİL VE ANLATIM – 3	23	(500) İNGİLİZCE – 6	44
(116) DİN KÜL. AHL. BİL. – 6	5	(405) DİL VE ANLATIM – 5	24	(500) ALMANCA – 6	45
(122) FELSEFE – 2	6	(406) DİL VE ANLATIM – 6	25	(500) FRANSIZCA – 6	46
(124) SEÇMELİ FELSEFE – 2	7	(413) TÜRK EDEBİYATI – 3	27	(503) SEÇMELİ TARİH – 3	46
(133) TARİH – 3	9	(416) TÜRK EDEBİYATI – 6	28	(504) SEÇMELİ TARİH – 4	47
(134) TARİH – 4	10	(426) FİZİK – 6	29	(505) SEÇMELİ COĞRAFYA – 3	48
(142) T.C. İNK. TAR. ATA. – 2	11	(427) FİZİK – 7	31	(506) SEÇMELİ COĞRAFYA – 4	50
(153) COĞRAFYA – 3	12	(428) FİZİK – 8	32	(533) HZ. MUHAMMED'İN HAY. – 3	51
(154) COĞRAFYA – 4	13	(433) KİMYA – 3	34	(534) HZ. MUHAMMED'İN HAY. – 4	52
(158) COĞRAFYA – 8	15	(434) KİMYA – 4	35	(542) TÜRK DİLİ VE ED. – 2	54
(163) MATEMATİK – 3	16	(435) KİMYA – 5	36	(608) DEM. VE İNSAN HAK. – 2	55
(165) MATEMATİK – 5	17	(445) BİYOLOJİ – 5	37	(615) SEÇ. DİL VE ANLA. – 5	57
(206) PSİKOLOJİ – 1	18	(448) BİYOLOJİ – 8	38	(616) SEÇ. DİL VE ANLA. – 6	58
(209) SOSYOLOJİ – 2	19	(452) ÇAĞ. TÜRK DÜN. TAR. – 2	39	(626) SEÇ. TÜRK ED. – 6	60
(242) İNGİLİZCE – 3	20	(462) EKONOMİ – 2	40	(975) GİRİŞİMCİLİK – 2	61
(242) ALMANCA – 3	21	(468) MATEMATİK – 8	41		

ADAYLARIN DİKKATİNE!

- Her ders için 20 soru bulunmaktadır. Bu oturumda **180** dakikalık cevaplama süreniz vardır. Sınav başladıktan sonra ilk **30** dakika tamamlanmadan dışarı çıkmayınız.
- Sınav sırasında çanta, cep telefonu, saat, kablosuz iletişim sağlayan cihazlar ve kulaklık, kolye, küpe, bilezik, yüzük, broş ve benzeri eşyalar ile her türlü elektronik ve/veya mekanik cihazları yanınızda bulundurmuyunuz. Bu araçları yanınızda bulundurmanız ve kopya çekmeye teşebbüs etmeniz hâlinde sınavınız geçersiz sayılacaktır.
- Başvuru şartlarını taşımadığınız hâlde sınava girmeniz, kopya çekmeniz, başka adayın sınav evrakını kullanmanız, geçerli kimlik belgenizi ve sınav giriş belgenizi ibraz edemediğiniz durumlarda sınavınız geçersiz sayılacaktır.
- Sınavın değerlendirilmesi aşamasında, bilgisayar ortamında yapılan kopya analizinde sistemin ikili ve/veya toplu kopya tespiti hâlinde sınavınız geçersiz sayılacaktır.
- Adaylar, sınav kurallarına ve salon görevlilerinin tüm uyarılarına uymak zorundadır. Kurallara ve uyarılara uymayan adayların sınavları geçersiz sayılacaktır.**
- Sınav başladıktan sonra adayların salon görevlileri ve birbirleri ile konuşmaları; kalem, silgi vb. şeyleri istemeleri yasaktır.
- Adaylar sınav süresince, sınav giriş belgesi ile geçerli kimlik belgelerinden birinin aslını (fotoğraflı nüfus cüzdanı, pasaport veya sürücü belgesi) masalarının üzerinde bulundurmamak zorundadır.
- Sınav evraklarını teslim etmeyen, soru kitapçıklarının sayfalarından bir kısmını eksik teslim edenlerin sınavları geçersiz sayılacaktır.**
- Sınav başlamadan önce kitapçığın arkasındaki açıklamaları okuyunuz.

BAŞLAYINIZ DENMEDEN SORU KİTAPÇIKLARINI AÇMAYINIZ.

(113) DİN KÜL. AHL. BİL. – 3

1. • Allah'ın isimlerinden biridir. Her şey kendisine muhtaç olduğu halde kendisi hiçbir şeye muhtaç olmayan anlamına gelir.
• Allah'ın subuti sıfatlarından biridir. Yoktan var etmek, var olmayı örneği ve benzeri olmadığı halde ortaya koymak demektir.

Bu isim ve sıfatlar aşağıdakilerden hangisidir?

- A) Samed - Tekvin
B) Vücut - Kıdem
C) Kudret - İrade
D) İlim - Kelam

2. Allah'ın her şeyi önceden bilip takdir etmesine ne denir?

- A) Kaza
B) Tevekkül
C) İlim
D) Kader

3. Aşağıdakilerden hangisi Kur'an-ı Kerim'le ilgili doğru bir bilgi değildir?

- A) Hızlı ve seri bir şekilde okunması gerekir.
B) Dünya ve ahiret mutluluğuna ulaştırır.
C) Hükümleri kıyamete kadar geçerlidir.
D) Allah ile iletişim kurma yollarından biridir.

4. Aşağıdakilerden hangisi temel inanç esaslarından biri değildir?

- A) Allah
B) Peygamberler
C) Ahiret
D) Salih ameller

5. Aşağıdakilerden hangisi "zatî sıfatları" ifade etmektedir?

- A) Meleklerle ait olan sıfatlar
B) Sadece Allah'a ait olan sıfatlar
C) Sadece insanlara ait olan sıfatlar
D) Allah'ta sınırsız diğer canlılar da sınırlı olan sıfatlar

6. Peygamberler çok zeki, akıllı ve anlayışlı kimselerdir.

Bu cümlede peygamberlerin sıfatlarından hangisine değinilmiştir?

- A) Emanet
B) Tebliğ
C) Fetanet
D) İsmet

7. • Mucize
• Resul
• Nebi

Aşağıdaki tanımlardan hangisi bu kavramlardan birine ait değildir?

- A) Kendisine kutsal kitap gönderilen peygamberlerdir.
B) Kişinin dünyada yaptığı amellerden sorgulanmasıdır.
C) Kutsal kitap verilmeyip önceki kitaplara uyan peygamberlerdir.
D) Allah'ın emri ile yalnız peygamberlerin gösterdiği olağanüstü işlerdir.

8. Aşağıdakilerden hangisi kadere inanan kişinin davranışları arasında yer almaz?

- A) Sıkıntılarının sebebini kadere yükler.
B) Yanlış tutum ve davranışlardan vazgeçer.
C) İnsanlara karşı adaletli ve merhametlidir.
D) Allah'ın emir ve yasaklarına uymaya özen gösterir.

9. Allah'a saygı ile boyun eğmek, emirlerine itaat etmek, vermiş olduğu sayısız nimetlere karşı şükran borcunu yerine getirmektir.

Tanımı verilen kavram aşağıdaki-lerden hangisidir?

- A) Dua
B) İnanç
C) İbadet
D) Nübüvvet

10. Aşağıdakilerden hangisi inanç ile ibadet arasındaki ilişki hakkında doğrudur?

- A) İnanmak için ibadet etmek şarttır.
B) Her ikisi de eşit derecede önemlidir.
C) İnanmak ile ibadet etmek aynı şeydir.
D) İbadet inancı korur ve kuvvetlendirir.

11. Namazın kılınışı ile ilgili aşağıda verilen bilgilerden hangisi yanlıştır?

- A) Secdeden sonra rükuya varılır.
B) Niyetten sonra başlama tekbiri alınır.
C) Son oturuşta Ettehiyyatü duası okunur.
D) İki rekâta toplam dört defa secde yapılır.

12. "Her kim yalan söylemeyi ve yalanla iş görmeyi bırakmazsa, Allah onun yemesini, içmesini bırakmasına değer vermez."

Bu hadiste aşağıdaki ibadetlerden hangisi hakkında bir uyarı vardır?

- A) Zekât
B) Hac
C) Oruç
D) Namaz

13. Aşağıdakilerden hangisi zekât verilecek kimseler arasında yer almaz?

- A) Yolculuk esnasında mağdur düşen yolcular
B) Bakmakla yükümlü olunan kimseler
C) Özgürlüğü elinden alınmış kimseler
D) Geliri olmayan ihtiyaç sahipleri

14. Aşağıdakilerden hangisi haccın şartlarından biri değildir?

- A) İhrama girmek
B) Kâbe'yi tavaf etmek
C) Arafat'ta vakfe yapmak
D) Sa'y yapmak

15. "Ey Muhammed! De ki: "Ben de ancak sizin gibi bir insanım. Ne var ki bana sizin ilahınız ancak bir tek ilah-tır diye vahyolunuyor. Kim Rabb'ine kavuşmayı umuyorsa yararlı bir iş yapsın ve Rabb'ine ibadette kimseyi ortak koşmasın."

(Kehf suresi, 110. ayet)

Bu ayetten Hz. Peygamber'le ilgili aşağıdakilerden hangisine ulaşamaz?

- A) Hz. Peygamber'e itaat, Allah'a itaattir.
B) İnsanlardan farkı Allah'tan vahiy almasıdır.
C) Diğer insanlarda var olan özelliklere sahiptir.
D) İnsanlara salih amel işlemelerini öğütlemiştir.

16. "O, nefsi arzusu ile konuşmaz. Size okuduğu Kur'an ancak kendisine bildirilen bir vahiydir."

(Necm suresi, 3-4 ayetler)

"De ki: "Eğer Allah dileseydi, ben size onu okumazdım. Allah da size onu bildirmezdi."

(Yunus suresi, 16. ayet)

Bu ayetler peygamberlerin ortak özelliklerinden hangisiyle ilgilidir?

- A) Tebliğ
B) Emanet
C) Fetanet
D) İsmet

17. Aşağıdaki ayetlerden hangisinde tevhit konusuna vurgu yapılmıştır?

- A) "Eğer yerde ve gökte Allah'tan başka ilâhlar olsaydı, kesinlikle ikisinin de düzeni bozulurdu..." (Enbiya suresi, 22. ayet)
 B) "De ki: 'Eğer onların iddia ettiği gibi, Allah'la beraber (başka) ilâhlar olsaydı, o zaman o ilâhlar da Arş'in sahibine ulaşmak için elbette bir yol ararlardı.'" (İsra suresi, 42. ayet)
 C) "De ki: 'O, Allah'tır, bir tektir. Allah Samed'dir. (Her şey O'na muhtaçtır; O, hiçbir şeye muhtaç değildir.)'" (İhlas suresi, 1-2. ayetler)
 D) "Yeryüzü kendine has bir sarsıntıya uğratıldığı, içindekileri dışarıya çıkarıp attığı ve insan, 'Ona ne oluyor?' dediği zaman, işte o gün, yer, kendi haberlerini anlatır." (Zilzal suresi, 1-4. ayetler)

18. Kur'an'ın doğru bilgi, doğru inanç ve doğru davranışlarla gösterdiği İslam yoluna - - - - denir.

Cümlede boş bırakılan yere aşağıdakilerden hangisinin getirilmesi uygun olur?

- A) Tevhit inancı
 B) Salih amel
 C) Sırat-ı Müstakim
 D) Temel ibadetler

19. Kur'an-ı Kerim hakkında aşağıda verilen bilgilerden hangisi yanlıştır?

- A) Kur'an anlaşılacak için indirilmiştir.
 B) 6000 ayet - 124 sureden oluşur.
 C) Tüm insanlara gönderilmiştir.
 D) Arapça olarak nazil olmuştur.

20. Hz. Muhammed (sav.)'in söz, fiil ve takrirlerine ne denir?

- A) Farz
 B) Vacip
 C) Sünnet
 D) Nafile

(114) DİN KÜL. AHL. BİL. – 4

1. • Selçuklu döneminde resmî kurum niteliği kazanmıştır.
 • En büyüğü 1067'de Nizamülmülk tarafından kurulmuştur.
 • "Ders okunan yer" anlamına gelir.

Hakkında bilgi verilen eğitim kurumu aşağıdakilerden hangisidir?

- A) Küttap
 B) Medrese
 C) Suffe
 D) Cami

2. Aşağıdakilerden hangisi tüm hak ve özgürlüklerin temelini oluşturur?

- A) İbadet etme hakkı
 B) Özel yaşamın gizliliği hakkı
 C) Seçme ve seçilme hakkı
 D) Yaşama ve sağlık hakkı

3. I. İlim ve hikmet, Müslümanın yitiğidir. Nerede bulursa onu alır.
 II. İzin almadan bir kimsenin evinin içine bakmak hiç kimseye helal değildir.
 III. Kişi, elinin emeğiyle kazandığından daha temiz bir kazanç elde etmemiştir.

Bu hadislerde konu edinilen temel hak ve hürriyetlerin doğru sıralaması aşağıdakilerden hangisidir?

- A) Ekonomik, İnanç, İbadet
 B) Düşünce, İbadet, İnanç
 C) Eğitim, Özel yaşamın gizliliği, Ekonomik
 D) Düşünce, Özel yaşamın gizliliği, Eğitim

4. Aşağıdakilerden hangisi kötü alışkanlıkların, hak ve özgürlüklerin kullanımına etkisi ile ilgili doğru bir bilgi değildir?

- A) Temel hak ve hürriyetlerden uzaklaştırır.
 B) Bazı hakların kullanımı tehlikeye girer.
 C) Kumar ekonomik haklara darbe vurur.
 D) Hürriyetlerin önündeki tehditleri ortadan kaldırır.

5. Aşağıdakilerden hangisi hukuk kurallarının temel amacıdır?

- A) İnsanlar arasında adalet ve eşitliği sağlamak
 B) İnsanları zararlı alışkanlıklardan korumak
 C) Din ve vicdan hürriyetini devam ettirmek
 D) İbadethaneleri serbestçe kullanıma açmak

6. Topluma ya da kişiye zarar vermek İslam dininde aşağıdakilerden hangisiyle ifade edilir?

- A) Kul hakkı ihlali
 B) İftira etme
 C) Gıybet etme
 D) Kamu hakkı ihlali

7. Aşağıdaki Türk-İslam âlimlerinden hangisi tıp ilmi alanındaki çalışmalarıyla tanınmıştır?

- A) Piri Reis
 B) İbni Sina
 C) İbni Rüşd
 D) Harezmi

8. Gökyüzünü izlemeye yarayan, gezegenlerin yerini tespit etmede kullanılan Usturlabı (Teleskop) icat eden İslam âlimi aşağıdakilerden hangisidir?

- A) El Biruni
 B) Farabi
 C) İbrahim el-Fezari
 D) Ömer Hayyam

9. • Taberi
 • Zemaşeri
 • Ebussuud Efendi

Bu isimler aşağıdaki bilim dallarından hangisi ile ilişkilidir?

- A) Astronomi
 B) Tefsir
 C) Hadis
 D) Matematik

10. Aşağıdakilerden hangisi Atatürk'ün İslam dini hakkındaki görüşlerinden biri değildir?

- A) Temeli sağlamdır.
 B) Akla yatkındır.
 C) Mükemmeldir.
 D) Vazgeçilebilir.

11. Aşağıdakilerden hangisi taassupla ilgili yanlış bir bilgidir?

- A) Bir düşünceye körü körüne bağlanmaktır.
 B) Farklılıklara karşı çıkmaya neden olur.
 C) Saygı ve hoşgörü ortamında gelişir.
 D) Düşmanı ilim, dostu cahilliktir.

12. Din-bilim ilişkisi hakkında aşağıdakilerden hangisi söylenemez?

- A) Din de bilim de akla önem verir.
 B) Din ve bilim birbiriyle çelişmektedir.
 C) Din de bilim de insanın mutluluğunu amaçlar.
 D) Dinin kaynağı vahiy, bilimin ise deney ve gözlemlerdir.

3. OTURUM

13. "İki nimet vardır ki, insanlardan çoğu, bunları güzel kullanmakta aldanmıştır: Sihat ve boş vakit."

Aşağıdakilerden hangisi bu hadisten çıkarılamaz?

- A) Sağlıklı kişiler vakitlerini iyi değerlendirirler.
B) Vakti kullanmak da sağlığımız kadar önemlidir.
C) Vakit ve sağlık Allah'ın verdiği nimetlerdendir.
D) Sağlık konusunda ihmalkâr davranılmamalıdır.

14. "Herkesin görüş ve anlatım özgürlüğü hakkı vardır."

İnsan hakları evrensel beyannameesindeki bu madde temel hak ve özgürlüklerden hangisine dayanak oluşturur?

- A) Yaşama ve sağlık
B) Düşünce ve ifade
C) Eğitim ve öğretim
D) İnanç ve ibadet

15. "Gökleri yedi kat üzerine yaratan odur. Rahman'ın bu yaratmasında bir düzensizlik bulamazsın. Gözünü çevir de bir bak, bir çatlak görebilir misin?"
(Mülk suresi, 3. ayet)

Bu ayete göre İslam dini bilgi kaynaklarından hangisinin kullanılmasını teşvik etmektedir?

- A) Vahiy
B) Duyular
C) Akıl
D) Rüya

16. **Aşağıdakilerden hangisi İslam medeniyetindeki eğitim ve eğitim kurumlarıyla ilgili doğru bir bilgi değildir?**

- A) Saraylarda devlet adamlarının çocuklarına müeddipler ders verirdi.
B) İslam eğitim kurumlarından en etkili olanı medreselerdir.
C) Medresenin temelleri Osmanlı döneminde atılmıştır.
D) Camiler, kütüphaneler ilim faaliyetleri için kullanılmıştır.

17. "Gerçek ancak Rabb'indedir. Artık, sakın şüpheye düşenlerden olmayasın."
(Bakara suresi, 147. ayet)

Bu ayete göre şüpheye düşülmeyecek olan bilgi kaynağı aşağıdakilerden hangisidir?

- A) Vahiy
B) Akıl
C) Duyular
D) Sezgi

18. Kul hakkının kişiyi ilgilendiren yönü olduğu gibi toplumu ilgilendiren yönü de vardır.

Aşağıdakilerden hangisi toplumu ilgilendiren kul haklarından biri değildir?

- A) Vergi vermek
B) Seçimlere katılmak
C) Askere gitmek
D) Zengin olmak

19. **Hukuk kurallarıyla ilgili aşağıdakilerden hangisi söylenemez?**

- A) Herkes için geçerlidir.
B) Sosyal hayatı düzenler.
C) Sözlü geleneklere dayanır.
D) İnsanların haklarını korur.

20. "Düşünce ve ifade özgürlüğü çerçevesinde insan; - - -"

Bu cümlelin sonuna aşağıdakilerden hangisi getirilirse yanlış olur?

- A) Görüşlerini toplu olarak açıklayabilir.
B) Düşünce ve kanaatlerini tek başına açıklayabilir.
C) Düşüncelerini savunabilir, başkalarına iletebilir.
D) Başkalarının düşünce ve ifadelerini gözardı edebilir.

(116) DİN KÜL. AHL. BİL. – 6

1. **Aşağıdaki ayet ve hadislerden hangisi konusu bakımından diğerlerinden farklıdır?**

- A) "Yakınları ile ilgisini kesen kimse cennete giremez."
(Hadis)
B) "Akrabalık haklarına riayetsizlikten sakının..."
(Nisa suresi, 1. ayet)
C) "Allah'a ve ahiret gününe inanan kişi akrabasını görüp gözetin."
(Hadis)
D) "Onlara, "Allah'ın indirdiğine uyun" denildiğinde, "Hayır, biz atalarımızdan gördüğümüze uyarız" dediler."
(Lokmân suresi, 21. ayet)

2. **Aşağıdaki bilgilerden hangisi yanlıştır?**

- A) Aile toplumun en küçük ve en önemli kurumudur.
B) İslam'da neslin devamı ve korunması için evlilik esastır.
C) Dinlerde evliliğin amacı toplumda tek düzen oluşturmaktır.
D) Hinduizm'de evlilik eşler arasında ölüme kadar süren bir anlaşmadır.

3. "Nikâh benim sünnetimdir."

Bu hadisten aşağıdakilerden hangisi çıkarılabilir?

- A) İslam evliliği teşvik eder.
B) Evlilikte ahlak güzelliği esastır.
C) Evlenen dinini tamamlamış olur.
D) Eşler birbirlerine saygılı olmalıdır.

4. "Dikkat ediniz, sizin kadınlarınız üzerinde, kadınlarınızın da sizin üzerinizde hakları vardır."

Bu hadis aşağıdaki konulardan hangisine dikkat çekmektedir?

- A) Anne baba haklarına
B) Evlilikte sevgi ve saygının önemine
C) Özel yaşamın gizliliğine
D) Eşlerin hak ve sorumluluklarına

5. Evlilik ve kan bağına dayanan; anne, baba ve çocuklardan oluşan en küçük sosyal gruptur.

Tanımlanan kavram aşağıdakilerden hangisidir?

- A) Aile
B) Akraba
C) Nesil
D) Toplum

6. **Aşağıdakilerden hangisi "ailenin ve neslin korunması" için İslam'ın aldığı önlemlerdendir?**

- A) Yalancılığın hoş karşılanmaması
B) Ana babaya iyi davranılması
C) Evlere izinsiz girilmemesi
D) Zinanın haram kılınması

7. **Ülkemizde yaşayan Müslümanlara din hizmetleri vermekle görevli olan kamu kuruluşu aşağıdakilerden hangisidir?**

- A) Din İşleri Yüksek Kurulu
B) Diyanet İşleri Başkanlığı
C) Vakıflar Genel Müdürlüğü
D) Din Öğretimi Genel Müdürlüğü

8. **Aşağıdakilerden hangisi Din İşleri Yüksek Kurulu'nun görevlerinden biri değildir?**

- A) Dini konularda araştırmalar yapmak
B) Din şurası düzenlenmesi ile ilgili çalışmaları yürütmek
C) Yurt içinde ve yurt dışında dini faaliyetleri değerlendirmek
D) Mushafların ve Kur'an metinlerinin basım ve yayımını sağlamak

3. OTURUM

9. Diyanet İşleri Başkanlığı'nın kuruluş tarihi aşağıdakilerden hangisidir?

- A) 1920 B) 1923
C) 1924 D) 1925

10. Türkiye Cumhuriyeti'nin ilk Diyanet İşleri Başkanı aşağıdakilerden hangisidir?

- A) Börekçizade Mehmet Rifat
B) Ömer Nasuhi Bilmen
C) Ahmet Hamdi Akseki
D) Şerafettin Yaltkaya

11. Aşağıdakilerden hangisi Diyanet İşleri Başkanlığı'nın görevleri arasında yer almaz?

- A) Cami ve mescitleri ibadete açmak
B) Hac ve umre hizmetlerini düzenlemek
C) Kur'an kurslarını hizmete açmak ve denetlemek
D) Din Kültürü ve Ahlak Bilgisi öğretmenlerini atamak

12. Aşağıdakilerden hangisi Diyanet İşleri Başkanlığı'nın hizmet birimlerinden biri değildir?

- A) Dini Yayınlar Genel Müdürlüğü
B) Din Öğretimi Genel Müdürlüğü
C) Din Hizmetleri Genel Müdürlüğü
D) Eğitim Hizmetleri Genel Müdürlüğü

13. Cumhuriyet döneminde Kur'an'ın ilk meal ve tefsirini yapan din âlimi aşağıdakilerden hangisidir?

- A) Kâmil Miras
B) Mehmet Akif Ersoy
C) Elmalılı Muhammed Hamdi Yazır
D) Babanzade Ahmet Naim Efendi

14. • Dini konularda toplumu bilgilendirir.
• Cami ve mescitlerde din hizmetlerini yürütür.
• Vakit, cenaze, bayram, cuma ve teravîh namazlarını kıldırır.

Hakkında bilgi verilen din görevlisi aşağıdakilerden hangisidir?

- A) Vaiz B) İmam
C) Müftü D) Müezzin

15. Cumhuriyet döneminde ilk defa Sahih-i Buhari adlı hadis kitabının tercümesi aşağıdaki âlimlerden hangileri tarafından yapılmıştır?

- A) Ahmet Naim-Kâmil Miras
B) Mehmet Akif-Hamdi Yazır
C) Rifat Börekçi-Ahmet Naim
D) Kâmil Miras-Mehmet Akif

16. Havada %78 azot, %21 oksijen, %1 oranında da diğer gazlar bulunur. Canlıların yaşayabilmesi için bu oranlar en uygun şekilde hazırlanmıştır. Farklı gazların gezegenimizde hayatın devamını sağlayacak şekilde bulunması tesadüf değil, sonsuz bir kudret sahibinin ürünüdür.

Bu metinden aşağıdakilerden hangisine ulaşamaz?

- A) Gazların oranı kendiliğinden oluşmuştur.
B) Hiçbir şey rastgele yaratılmamıştır.
C) Evrendeki düzen, bir planın eseridir.
D) Evrende denge, ölçü ve ahenk vardır.

17. İnsanın güzeli fark etmesi ve hissetmesi onun hangi yönünü en iyi şekilde ifade eder?

- A) Duygusal B) Estetik
C) Vicdani D) Mantıki

18. İslam'dan önce Arap toplumunda şiir ve edebiyat çok ileri düzeyde idi. O devrin en ünlü şairleri, Kur'an ayetleri inmeye başlayınca kendi şiirlerinin ve sözlerinin ne kadar basit ve yetersiz kaldığını anladılar.

Bu durum Kur'an'ın hangi mucizevi yönünü ortaya koymaktadır?

- A) Edebi B) Tarihi
C) Kültürel D) Evrensel

19. İlahi, mevlit ve naat gibi eserleri içeren edebiyat dalı aşağıdakilerden hangisidir?

- A) Âşık B) Divan
C) Tasavvuf D) Tanzimat

20. Özel birtakım boyalarla su üzerinde yapılan şekillerin kâğıda çıkarılmasıdır. Daha çok yazı, levha ve minyatür kenarlarının süslemesinde kullanılmıştır.

Hakkında bilgi verilen geleneksel Türk-İslam sanatı aşağıdakilerden hangisidir?

- A) Tezhip B) Hüsnühat
C) Vitray D) Ebru

(122) FELSEFE – 2

1. Aşağıdakilerden hangisi ahlak felsefesinin temel kavramları arasında yer alır?

- A) Tanrı B) Kutsal
C) Egemenlik D) Sorumluluk

2. • Ahlak yasasına uygun olarak verilmiş kararlardır.
• Ahlaki karara uygun olarak gerçekleştirilen eylemlerdir.

Tanımlanan bu kavramlar aşağıdakilerin hangisinde sırasıyla verilmiştir?

- A) Ahlaki karar – Özgürlük
B) Sorumluluk – Ahlaki eylem
C) Ahlaki karar – Ahlaki eylem
D) Ahlaki karar – Ahlak yasası

3. Aşağıdakilerden hangisi "ahlaki eylemin amacı nedir?" sorusuna verilmiş cevaplardan biri değildir?

- A) Ödev B) Fayda
C) Kötülük D) Mutluluk

4. Yaşamın amacının en yüksek hazzı ulaşmak olduğunu savunan görüş aşağıdakilerden hangisidir?

- A) Egoizm B) Hedonizm
C) Anarşizm D) Utilitarizm

5. Birey karar verirken tamamen özgürdür. İyi, kötü, değerli, değersiz arasındaki seçimi kendi özgür iradesiyle yapar.

Yukarıda özgürlük ile ilgili yaklaşımlardan hangisi açıklanmıştır?

- A) Fatalizm
B) Yazgıcılık
C) Determinizm
D) İndeterminizm

6. I. Egoizm
II. Anarşizm
III. Sezgicilik

Yukarıdaki görüşlerden hangileri evrensel ahlak yasasının varlığını reddeder?

- A) I ve II. B) I ve III.
C) II ve III. D) I, II ve III.

3. OTURUM

7. Kant'a göre, muhtaç birine insanların gözüne iyi görünmek için ya da dini bir çıkar duygusuyla yardım edersek davranışımız ahlaki olmaz.

Kant'ın bu düşüncesinden çıkarılabilecek sonuç aşağıdakilerden hangisidir?

- A) Evrensel bir ahlak yasasından söz edilemez.
B) Bir eylemin ahlaki olup olmadığı kişiden kişiye değişir.
C) Evrensel ahlak yasasının temelinde Tanrı inancı bulunur.
D) Ahlaki eylem hiçbir çıkar gözetmeden yapılan eylemdir

8. Sözcük anlamı, yasallık ve yasaya uygunluktur. Siyasal anlamda ise yapılan eylemin yasaya ya da hukuka uygun olmasıdır.

Tanımı verilen siyaset felsefesi kavramı aşağıdakilerden hangisidir?

- A) Hukuk B) Meşruiyet
C) Egemenlik D) Sivil toplum

9. Siyaset felsefesi ile ilgili aşağıda verilen bilgilerden hangisi yanlıştır?

- A) Olanı olduğu gibi inceler.
B) Kural koyucu ve çözümleyicidir.
C) Din ve devlet ilişkileri ele aldığı konulardan biridir.
D) Siyaset felsefecileri toplumsal otoritenin temelini araştırır.

10. Hobbes'e göre, insanlar doğa durumunda birbirlerine zarar verirler. Bunu engellemek ve varlıklarını sürdürebilmek için, ortak bir kararlar devleti var etmişlerdir.

Buna göre Hobbes'un aşağıdaki görüşlerden hangisini savunduğu söylenebilir?

- A) Devlet gerekli bir kurum değildir.
B) Devleti ortaya çıkaran şey geleneklerdir.
C) İnsanlar doğa durumunda barış ve güvenlik içinde yaşayabilirler.
D) İnsanlar varlıklarını sürdürebilmek için devleti oluşturmuşlardır.

11. Sosyalizme göre ideal düzeni belirleyen temel ölçüt aşağıdakilerden hangisidir?

- A) Eşitlik B) Özgürlük
C) Ütopya D) Karmaşa

12. Sofistlerin ideal düzen konusundaki temel görüşleri aşağıdakilerin hangisinde verilmiştir?

- A) İdeal düzen adaletin sağlanmasıyla kurulabilir.
B) İdeal bir toplum düzeninin kurulması mümkün değildir.
C) İdeal düzen insanlar arasında tam bir eşitliğin sağlandığı düzendir.
D) İdeal toplum düzeninin kurulması özgürlüğün sağlanmasıyla mümkündür.

13. I. Yeni Dünya
II. İdeal Devlet
III. Erdemli Toplum

Yukarıdakilerden hangileri istenilen ütopyalar arasında yer alır?

- A) I ve II. B) I ve III.
C) II ve III. D) I,II ve III.

14. Aşağıdakilerden hangisi estetiğin sorduğu temel sorulardan biridir?

- A) Yönetim ne demektir?
B) Bireyin temel hakları nelerdir?
C) Ahlaki eylemin bir amacı var mıdır?
D) Ortak bir güzellik anlayışı var mıdır?

15. Aşağıdakilerden hangisi sanatı taklit olarak gören yaklaşımın görüşleri arasında yer alır?

- A) Sanatçı açısından yaratma, her zaman biriciktir.
B) Sanat, insanı gündelik kaygılardan uzaklaştırır.
C) Sanat eseri, sanatçının doğayı taklit etmesiyle oluşur.
D) Sanat, sanatçının yetenek ve haval gücünü dışa vurmasıdır.

16. Aşağıdakilerden hangisi sanat eserinin özelliklerinden değildir?

- A) Alımlayıcısında estetik bir duygu oluşturur.
B) Sevgi, adalet gibi kavramları tanımlama amacı taşır.
C) Her sanat eserinde biçim ile içerik arasında sıkı bir ilişki vardır.
D) Her sanat eseri kendine ait özellikleri olan bir insan yaratımıdır.

17. Estetik haz, bütün insanlarda olması gereken birey üstü bir hazdır. Bu haz, güzelden dolayı duyulduğu için, bütün insanlarda bulunur.

Bu açıklama estetik yargıların hangi özelliği ile ilgilidir?

- A) Zorunlu olmasıyla
B) Sübjektif olmasıyla
C) Zaman içinde değişebilmesiyle
D) Kültürel özelliklerden etkilenmesiyle

18. • İnançın ifadesi olarak düzenli yapılan törensel eylemlerdir.
• Tanrı'ya, buyruklarına ve kutsal kitaptaki dogmalara olan inançtır.
• Tanrı tarafından seçilmiş olan ve Tanrı'nın buyruklarını insanlara ileten kişidir.

Yukarıda din felsefesinin temel kavramlarından hangisinin tanımı verilmemiştir?

- A) İman B) İbadet
C) Kutsal D) Peygamber

19. Aşağıdakilerden hangisi Tanrı'nın varlığına inanan düşünürlerin ileri sürdükleri kanıtlardan değildir?

- A) Ahlaki kanıt
B) Ontolojik kanıt
C) Kozmolojik kanıt
D) Kötülük sorunu kanıtı

20. Panteizm, Tanrı ile evreni bir ve aynı şey olarak gören düşünce biçimidir.

Aşağıdakilerden hangisi bu görüşü savunan düşünürler arasında yer alır?

- A) Spinoza B) Anselmus
C) J.Paul Sartre D) Thomas Huxley

(124) SEÇMELİ FELSEFE – 2

1. "Erdem" kavramının tanımı aşağıdakilerin hangisinde verilmiştir?

- A) Ahlak yasasına uygun olarak verilmiş karardır.
B) Ahlakın övdüğü, bireylerden beklenen davranışlardır.
C) Kişinin eylemlerinin doğuracağı sonuçları üstlenmesidir.
D) Bireyin baskı ve zorlama olmadan isteklerini gerçekleştirmesidir.

2. I. Yaptırım güçleri yoktur.
II. Toplumdan topluma değişirler.
III. Eylem alanıyla ilgili yargılardır.

Yukarıdakilerden hangileri ahlak yargılarının özellikleri arasında yer alır?

- A) I ve II. B) I ve III.
C) II ve III. D) I,II ve III.

3. Yaşamda ilk önce gelen şeyin bireyin kendi mutluluğu ve başarısı olduğunu savunan felsefi görüş aşağıdakilerden hangisidir?

- A) Hazcılık B) Egoizm
C) Anarşizm D) Utilitarizm

3. OTURUM

4. O, insanın varlığı ile öteki nesnelere varlığı arasındaki farklılığı inceleyerek işe başlar. Ona göre, insanın önceden belirlenmiş bir özü yoktur. İnsan önce var olur, sonra özünü kendisi oluşturur.

Bu düşünce aşağıdaki filozoflardan hangisine aittir?

- A) Sartre B) Platon
C) Bergson D) Farabi

5. Aşağıdakilerden hangisi Platon'un ahlak görüşünü yansıtan bir ifadedir?

- A) Evrensel ahlak yasasından söz edilemez.
B) İyi ideası, iyilik dediğimiz şeyin özünü oluşturur.
C) Yaratılmış her varlığı sevmek iyi, sevmemek kötüdür.
D) Ahlaki eylem ödev duygusundan kaynaklanan eylemdir.

6. Spinoza'ya göre insan doğanın bir parçasıdır. İnsan kendisini doğaya bırakarak doğanın düzenini anlamalı, bu şekilde güçlü, özgür ve erdemli yaşmalıdır. İnsan doğaya uyum sağlayarak olumsuz ve yıkıcı tutkularını yenebilir. Böylece ahlaki yaşamış olur.

Buna göre aşağıdakilerden hangisi Spinoza'nın görüşlerine ters düşer?

- A) İnsan tutkularının peşinden gitmelidir.
B) İnsan doğada güç ve özgürlük kazanır.
C) İnsan doğanın düzenini anlayarak erdemli yaşayabilir.
D) Ahlaki bir yaşam sürmek doğaya uyum sağlamakla mümkündür.

7. Aşağıdakilerden hangisi siyaset felsefesinin temel sorularındandır?

- A) İnsan eylemde bulunurken özgür müdür?
B) Evrensel ahlak yasası var mıdır?
C) Ortak estetik yargılar var mıdır?
D) Bürokrasiden vazgeçilebilir mi?

8. Aşağıdaki kavramlardan hangisi, bireylerin başka bireylerden ya da kurumlardan isteyebileceği, talepte bulunabileceği şeyler olarak tanımlanır?

- A) Hak B) Yasa
C) Hukuk D) Bürokrasi

9. Aşağıdakilerden hangisi sivil toplumu oluşturan öğelerden biri değildir?

- A) Hoşgörü
B) Karmaşa
C) Çoğulculuk
D) Düşünce özgürlüğü

10. Aşağıdakilerden hangisi nihilist düşünürlerin ideal düzenle ilgili görüşleri arasında yer almaz?

- A) Otoriteler insanın özgürlüğünü kısıtlar.
B) Bireysellik otorite altındayken korunamaz.
C) İdeal sistemler insanların yaratıcılığını yok eder.
D) İnsanlar üzerinde anlaşacakları ideal bir düzen oluşturabilirler.

11. I. Otoritenin kaynağı yazılı hukuk kurallarıdır.
II. Otoritenin kaynağı, o toplumdaki gelenek ve yerleşik inançlardır.

Yukarıdaki açıklamalar sırasıyla hangi otorite türlerine aittir?

- A) Demokratik - Karizmatik
B) Karizmatik - Demokratik
C) Demokratik - Geleneksel
D) Geleneksel - Karizmatik

12. I. Eşitlik
II. Adalet
III. Özgürlük

Yukarıdakilerden hangileri ideal düzeni belirleyen ölçütler arasında yer alır?

- A) I ve II. B) I ve III.
C) II ve III. D) I,II ve III.

13. Aşağıdakilerin hangisinde istenmeyen ütopyalar birlikte verilmiştir?

- A) Yeni Dünya – 1984
B) 1984 - Erdemli Toplum
C) İdeal Devlet – Güneş ülkesi
D) Erdemli Toplum – Yeni Dünya

14. Aşağıdakilerden hangisi sanatı oyun olarak kabul eden yaklaşımın temel görüşleri arasında yer alır?

- A) Gerçek sanatçı Tanrı'dır.
B) Oyun ile sanat arasında benzerlikler vardır.
C) Sanatı ortaya çıkaran, sanatçının yaratıcı gücüdür.
D) Sanat, sanatçının nesnelere taklit etmesiyle oluşur.

15. Öznenin, estetik nesne ile kurduğu ilişki sonucu, ulaştığı anlamlardan dolayı elde ettiği hoşlanma duygusudur.

Yukarıda estetiğin temel kavramlarından hangisi tanımlanmıştır?

- A) Estetik haz B) Estetik tavır
C) Estetik özne D) Estetik nesne

16. Estetik yargılarla ilgili olarak aşağıdakilerden hangisi söylenemez?

- A) Öznel yargılardır.
B) Zamanla değişebilirler.
C) Kültürden etkilenirler.
D) "Doğru" ya da "yanlış" şeklinde yapılan değerlendirmelerdir.

17. Aşağıdakilerden hangisi ortak estetik yargıların varlığını reddeden düşünürlerdendir?

- A) Kant B) Croce
C) Platon D) Hegel

18. Aşağıdakilerden hangisi din felsefesinin cevap aradığı sorular arasında yer almaz?

- A) Tanrı var mıdır?
B) Ölüm bir son mudur?
C) Meşruiyetin ölçütü nedir?
D) Tanrı için midir, yoksa aşkın midir?

19. Aşağıdakilerden hangisi din felsefesinin temel kavramlarından değildir?

- A) İnanç B) Kutsal
C) İbadet D) Hukuk

20. Tanrı'nın varlığını yine Tanrı kavramından yola çıkarak kanıtlamaya çalışmaktadır. Orta Çağ'da Anselmus, Yeni Çağ'da Descartes tarafından savunulmuştur.

Yukarıda Tanrı'nın varlığına inanan düşünürlerin ileri sürdükleri hangi kanıt açıklanmıştır?

- A) Ahlaki kanıt
B) Ereklilik kanıtı
C) Ontolojik kanıt
D) Kozmolojik kanıt

3. OTURUM

(133) TARİH – 3

1. Anadolu’da, önce Türkiye Selçuklu Devleti’ni, daha sonra da Osmanlı Devleti’ni kuran Türk boyu, aşağıdakilerden hangisidir?

- A) Oğuz B) Kuman
C) Kıpçak D) Moğol

2. Aşağıdakilerden hangisi Eflak ve Boğdan beylerine verilen unvandır?

- A) Tekfur B) Despot
C) Voyvoda D) Şövalye

3. Osmanlı Devleti’nin Fetret Devri’ne girmesine neden olan siyasi olay, aşağıdakilerden hangisidir?

- A) I. Murat’ın bir Sırp tarafından şehit edilmesi
B) Türkiye Selçuklu Devleti’nin yıkılması
C) Köseadağ Savaşı
D) Ankara Savaşı

4. İslam halifesi Yıldırım Bayezit’e, aşağıdaki hangi başarısından dolayı “Sultaniiklimirum” unvanını vermiştir?

- A) Niğbolu Savaşı’nı kazanması
B) İstanbul’u kuşatan ilk Osmanlı padişahı olması
C) Büyük ölçüde Anadolu Türk birliğini sağlaması
D) İstanbul’u fethetmek için Anadolu Hisarı’nı yaptırması

5. I. Taht kavgalarını önlemek
II. Yönetim deneyimi kazanmak
III. Ülkeyi ve halkı yakından tanımak

Verilenlerden hangileri, Osmanlı şehzadelerinin sancaklara gönderilme nedenleri arasında yoktur?

- A) Yalnız I B) Yalnız II
C) Yalnız III D) I, II ve III.

6. “Osmanlılarda esnafa, zanaatlarını uygulayabilmeleri için verilen bir tür ayrıcalıktır.” şeklinde tanımlayabileceğimiz kavram, aşağıdakilerden hangisidir?

- A) Dirlik B) Gedik
C) Çıkma D) Risale

7. I. Bizans’ın Osmanlı şehzadelerini kışkırtması
II. Hz. Muhammed’in İstanbul’u fetheden komutanı ve askerleri övmesi
III. Bölge ticaret yollarının ve kazançlarının ele geçirilmek istenmesi

İstanbul’un fethinin yukarıdaki nedenlerinin “dini”, “siyasi” ve “ekonomik” olarak sınıflandırılması, aşağıdakilerin hangisinde doğru yapılmıştır?

	Dini	Siyasi	Ekonomik
A)	I	II	III
B)	III	II	I
C)	II	I	III
D)	II	III	I

8. Amasra’daki Ceneviz egemenliğine son veren Osmanlı padişahı, aşağıdakilerden hangisidir?

- A) II. Murat B) II. Mehmet
C) II. Bayezit D) I. Süleyman

9. Osmanlı yönetici sınıfının “Seyfiye”, “İlmiye” ve “Kalemiye” adıyla bölümlere ayrılmasında esas alınan öge, aşağıdakilerden hangisidir?

- A) Dinî inanç
B) Etnik köken
C) Gelir durumları
D) Görevlerin niteliği

10. Anadolu Beylerbeyliğinin merkezi, aşağıdaki şehirlerden hangisidir?

- A) Kütahya B) Manisa
C) Kayseri D) Konya

11. Aşağıdaki gelişmelerden hangisini, “Coğrafi keşifleri hızlandırmıştır.” iddiasında öncelikli olarak kullanamayız?

- A) Coğrafya bilgisinin gelişmesini
B) Gemicilik sanatının ilerlemesini
C) Modern matbaanın kullanılmasını
D) Pusulanın daha hassas hâle getirilmesini

12. XVI. yüzyıl Avrupasında doğan ve gelişen hümanizm akımı, aşağıdakilerden hangisine karşıdır?

- A) Ticari faaliyetlere
B) Evrensel değerlere
C) Bilimsel çalışmalara
D) Skolastik düşünceye

13. Osmanlı Devleti’nin Duraklama Dönemi’nde ülkede bozulan düzeni, aşağıdaki Osmanlı padişahlarından hangisi, kuvvete başvurarak yeniden kurmaya çalışmıştır?

- A) III. Murat B) IV. Murat
C) II. Osman D) I. Süleyman

14. • Nasuh Paşa Antlaşması
• Amasya Antlaşması
• Serav Antlaşması

Verilen antlaşmaların ortak özelliği, aşağıdakilerden hangisidir?

- A) İran ile imzalanmış olmaları
B) Haçlı Seferleri’ni bitirmeleri
C) Osmanlı’nın batı sınırını belirlemeleri
D) Kuruluş Dönemi siyasi olayları olmaları

15. Aşağıdaki görevlilerden hangisi, Osmanlı toprak yönetimiyle ilişkilendirilebilir?

- A) Vakanüvis B) Sipahi
C) Serasker D) Levent

16. Aşağıdakilerden hangisi ilmiye sınıfının özelliklerinden değildir?

- A) Yargılama yaparlar.
B) Arapça bilirler.
C) Müslümandırlar.
D) Askerî eğitim alırlar.

17. Osmanlı Devleti’nin en önemli sorununun gelir – gider dengesizliği olduğunu düşünerek ilk kez bütçe çalışması yapan devlet adamı, aşağıdakilerden hangisidir?

- A) Merzifonlu Kara Mustafa Paşa
B) Köprülü Fazıl Ahmet Paşa
C) Köprülü Mehmet Paşa
D) Tarhuncu Ahmet Paşa

18. Aşağıdakilerden hangisi ilk Osmanlı – Rus antlaşmasıdır?

- A) Bucaş Antlaşması
B) Çehrin Antlaşması
C) Karlofça Antlaşması
D) Zitvatorok Antlaşması

19. “Akçe” adı verilen ilk Osmanlı parası, aşağıdaki hangi padişah döneminde basılmıştır?

- A) Osman Bey B) Orhan Bey
C) I. Bayezit D) I. Murat

3. OTURUM

20. Aşağıdaki İstanbul camilerinden hangisi Avrupalılarca "Mavi Cami" olarak adlandırılmaktadır?

- A) Dolmabahçe Camisi
- B) Süleymaniye Camisi
- C) Sultan Ahmet Camisi
- D) Mihrîşah Valide Sultan Camisi

(134) TARİH – 4

1. Avrupa karşısında Osmanlı Devleti'nin saldırı gücünün sona erdiği ve ilk toprak kaybettiği antlaşma, aşağıdakilerden hangisidir?

- A) Küçük Kaynarca Antlaşması
- B) Pasarofça Antlaşması
- C) Karlofça Antlaşması
- D) Uşi Antlaşması

2. Aşağıdakilerden hangisi 18. yüzyıl Osmanlı tarihine ait bir özellik değildir?

- A) Osmanlı'da anayasal hareketlerin başlaması
- B) İstanbul'da saray bahçeleri ve parklarının lale çiçekleriyle donatılması
- C) Osmanlı Devleti'nin Avrupa ülkelerinin açık pazarı durumuna gelmesi
- D) Avrupa'dan bilim, teknik ve askerlik alanlarında geri olunduğunun kabul edilmesi

3. Aşağıdakilerden hangisi, Küçük Kaynarca ve Yaş antlaşmalarında değinilen ortak konulardan biridir?

- A) Kutsal Emanetlerin İstanbul'a getirilmesi
- B) Fransa'ya verilecek kapitülasyonlar
- C) Boğazlar Sorunu
- D) Kırım Sorunu

4. Kanuni Dönemi'nde başlayan Osmanlı – Fransız dostluğu, 18. yüzyılın sonunda aşağıdaki gelişmelerden hangisi sonucunda bozulmuştur?

- A) Fransız İhtilali'nin çıkması
- B) Napolyon'un Mısır'ı işgal etmesi
- C) Osmanlı yöneticilerinin Ruslara yaklaşması
- D) Fransa'nın kapitülasyonların artırılmasını istemesi

5. Avusturya'nın 1791 yılında Osmanlı Devleti ile Zıstovi Antlaşması'nı imzalayıp Rusya'nın yanında girdiği savaştan çekilmesinin temel nedeni, aşağıdakilerden hangisidir?

- A) Rusya'nın güçlenmesi
- B) Fransa'nın Mehmet Ali Paşa isyanını desteklemesi
- C) Osmanlı'nın, Kırım'ın Rusya'ya ait olduğunu onaylaması
- D) Fransız İhtilali'nin kendi ülkesini etkilemesinden çekinmesi

6. Osmanlı Devleti, Fransa ile 1535 yılında imzaladığı antlaşmanın "Kapitülasyonlar, antlaşmayı imzalayan hükümdarın dönemi için geçerli olacaktır." hükmünü, hangi yıl "Kapitülasyonlar sürekli hâle getirilmiştir." şeklinde değiştirerek Fransa'ya tanıdığı kapitülasyonları sürekli yapmıştır?

- A) 1740
- B) 1774
- C) 1779
- D) 1801

7. Aşağıdakilerden hangisi Fransız İhtilali'nin yaydığı fikirler arasında yoktur?

- A) Kişi özgürlüğü
- B) Emperyalizm
- C) İnsanların eşitliği
- D) Milliyetçi düşünce

8. Aşağıdaki okullardan hangisinin adı Cumhuriyet Dönemi'nde "Deniz Harp Okulu" olarak değiştirilmiştir?

- A) Darülfünun
- B) Mektebimülkiye
- C) Mühendishaneibahrihümayun
- D) Mühendishaneiberrihümayun

9. Aşağıdaki Osmanlı padişahlarından hangisi 1720'de Lehistan'a, 1725'te de Rusya'ya mehter takımı göndermiştir?

- A) I. Mahmut
- B) III. Ahmet
- C) II. Mahmut
- D) I. Abdülmecit

10. İstanbul'daki Selimiye Kışlası'nı yaptıran Osmanlı padişahı, aşağıdakilerden hangisidir?

- A) I. Selim
- B) II. Selim
- C) III. Selim
- D) I. Süleyman

11. Osmanlı egemenliğindeki Balkan milletlerini kendi çıkarları için bağımsızlık mücadelesine kışkırtan devlet, aşağıdakilerden hangisidir?

- A) Avusturya
- B) İspanya
- C) Fransa
- D) Rusya

12. 1804 yılında Sırplar, aşağıdakilerden hangisinin önderliğinde ayaklanmışlardır?

- A) Kara Yorgi
- B) Gürcü Nebi
- C) I. Nikola
- D) Picasso

13. Rusya, aşağıdaki hangi antlaşma ile hem Karadeniz'deki güvenliğini artırmış hem de Akdeniz'e donanmasını geçirme hakkını elde etmiştir?

- A) Versay Antlaşması
- B) Belgrad Antlaşması
- C) Karlofça Antlaşması
- D) Hünkâr İskeleyi Antlaşması

14. Osmanlı Devleti'nde yaşayan gayrimüslimlere, aşağıdakilerden hangisiyle devlet memuru olma hakkı tanınmıştır?

- A) Seneditteffak
- B) Islahat Fermanı
- C) Tanzimat Fermanı
- D) İnsan ve Vatandaş Hakları Bildirisi

15. Osmanlı'nın "Meşrutiyet" yönetimine geçmesi için büyük çabalar sarf eden grup, aşağıdakilerden hangisidir?

- A) Hürriyet ve İtilafçılar
- B) Müdafaa-i Hukukçular
- C) Yeni Osmanlılar
- D) Yeniçeriler

16. Osmanlılar, aşağıdaki topluluklardan hangisini "Milletisadika" olarak adlandırmışlardır?

- A) Arnavutları
- B) Ermenileri
- C) Rumları
- D) Sırpları

17. Osmanlı Devleti'nin ekonomisi, aşağıdaki hangi olaydan olumsuz etkilendiği için ilk kez İngiltere'den dış borç alınmıştır?

- A) Kırım Savaşı
- B) 93 Harbi
- C) Şark meselesi
- D) Boğazlar sorununun ortaya çıkması

3. OTURUM

18. Mustafa Kemal'in tanınması ve Millî Mücadele'de önder olarak kabul edilmesinde, aşağıdakilerden hangisinin payı en çoktur?

- A) Hareket Ordusu ile Selanik'ten İstanbul'a gelerek 31 Mart İsyanı'nı bastırmasının
- B) Muş'u ve Bitlis'i Rus işgalinden kurtarmasının
- C) Vatan ve Hürriyet Cemiyetini kurmasının
- D) Çanakkale Savaşı'ndaki başarılarının

19. "Milletler Cemiyeti adına bir ülkenin başka bir devlet tarafından yönetilmesine - - - - yönetimi denir."

Verilen bilginin doğru olabilmesi için boş bırakılan yere, aşağıdakilerden hangisi yazılmalıdır?

- A) Ortak
- B) Manda
- C) Özerk
- D) Federal

20. I. Dünya Savaşı'nı bitiren antlaşmalar arasında, aşağıdakilerden hangisi yoktur?

- A) Atina Antlaşması
- B) Nöyyi Antlaşması
- C) Versay Antlaşması
- D) Triyanon Antlaşması

(142) T.C. İNK. TAR. ATA. – 2

1. Cumhurbaşkanı Mustafa Kemal, ilk cumhuriyet hükümetini kurma görevini, aşağıdakilerden hangisine vermiştir?

- A) İsmet Paşa'ya
- B) Fethi Okyar'a
- C) Kazım Karabekir'e
- D) Adnan Menderes'e

2. Aşağıdakilerden hangisi Cumhuriyet rejiminin bir özelliği değildir?

- A) Hükümetin meclisi kapama yetkisinin olması
- B) Egemenliğin halka ait olması
- C) Yönetenlerin yasalara bağlı kalması
- D) Mecliste bütün görüşlerin temsil edilmesi

3. Aşağıdakilerden hangisi, Terakkiperver Cumhuriyet Fırkası ile Serbest Cumhuriyet Fırkası'nın ortak özelliğidir?

- A) İktidar partisi olmaları
- B) İsyanlar sonucu kapatılmaları
- C) Her ikisinin aynı gün kurulmaları
- D) Türkiye'nin ilk muhalefet partileri olmaları

4. Aşağıdakilerden hangisi devlet yapısının laikleştirilmesi aşamalarından biri değildir?

- A) Halifelğe son verilmesi
- B) Harf inkılabının yapılması
- C) Saltanatın kaldırılması
- D) Tekke, türbe ve zaviyelerin kapatılması

5. Cumhuriyet Dönemi'nde Güzel Sanatlar Akademisi'ne dönüştürülen eğitim kurumu, aşağıdakilerden hangisidir?

- A) Darülmüvazir
- B) Musiki Muallim Mektebi
- C) Mekteb-i Sanayi-i Nefise-i Şahane
- D) Mühendishane-i Bahri-i Hümayun

6. Cumhuriyetin ilanından sonra kapatılan Şerîye ve Evkaf Vekâleti'nin yerine kurulan kuruluş, aşağıdakilerden hangisidir?

- A) Etibank
- B) Hazine Müsteşarlığı
- C) Genelkurmay Başkanlığı
- D) Diyanet İşleri Başkanlığı

7. Millî ve çağdaş eğitim politikasının uygulama aşamasında eğitimin yaygınlaştırılması amacıyla, aşağıdakilerden hangisi açılmıştır?

- A) Millet Mektepleri
- B) İstanbul Üniversitesi
- C) Türk Tarih Kurumu
- D) Güzel Sanatlar Akademisi

8. Türkiye'deki yabancı ve azınlık okullarının dinî ve siyasi amaçlı öğrenim yapmalarına, aşağıdaki kanunlardan hangisi ile son verilmiştir?

- A) Teşvik-i Sanayi Kanunu'yla
- B) Teşkilat-ı Esasiye Kanunu'yla
- C) Tevhid-i Tedrisat Kanunu'yla
- D) Takrir-i Sükûn Kanunu'yla

9. • Tevhid-i Tedrisat Kanunu'nun çıkarılması
• Millet Mekteplerinin açılması
inkılapları aşağıdaki alanlardan hangisine yöneliktir?

- A) Ekonomi
- B) Eğitim
- C) Siyasi
- D) Askeri

10. Aşağıdaki kanunlardan hangisi inkılap amacıyla yapılmamıştır?

- A) Tevhid-i Tedrisat Kanunu
- B) Takrir-i Sükûn Kanunu
- C) Soyadı Kanunu
- D) Medeni Kanun

11. 4 Ekim 1926 yılında yürürlüğe giren Türk Medeni Kanunu ile kadınlara tanınan haklar arasında hangisi yer almaz?

- A) Evlenme ve boşanma hakkı
- B) Resmi nikah hakkı
- C) Mirasta ve tanıklıkta eşit olma hakkı
- D) Seçme ve seçilme hakkı

12. "Eğitimde fikri hür, vicdanı hür nesiller ancak - - - ilkesinin uygulanması ile yetiştirilebilir."

Verilen bilgi cümlesinin doğru olabilmesi için, aşağıdakilerden hangisiyle tamamlanmalıdır?

- A) Laiklik
- B) Halkçılık
- C) Milliyetçilik
- D) Devletçilik

13. • Ülkede millî birlik ve beraberliği gerçekleştiren,
• Kurtuluş Savaşı'nın zaferle sonuçlanmasını sağlayan,
• Türk milletine millî bilinç ve millî gurur aşılayan,
• Türk Tarih Kurumu ve Türk Dil Kurumunun kurulmasını sağlayarak millî kültürümüzün gelişmesine hizmet eden

Atatürk ilkesi, aşağıdakilerden hangisidir?

- A) Cumhuriyetçilik
- B) Milliyetçilik
- C) Devletçilik
- D) Laiklik

14. Türkiye Cumhuriyeti Devleti'nin Osmanlı Dönemi'nde yabancıların kapitülasyonlardan yararlanarak kurdukları ticaret işletmelerini satın alarak işletmeye başlaması, Atatürk'ün hangi ilkesine göre hareket edildiğinin bir kanıtıdır?

- A) Laiklik
- B) Halkçılık
- C) Devletçilik
- D) Cumhuriyetçilik

15. Türkiye'nin aşağıdaki komşularından hangisiyle olan sınırı, diğerlerine göre daha sonra belirlenmiştir?

- A) Bulgaristan
- B) Yunanistan
- C) Gürcistan
- D) Irak

16. Aşağıdaki devletlerden hangisi Balkan Antantı'na üye değildir?

- A) Arnavutluk
- B) Yugoslavya
- C) Yunanistan
- D) Romanya

3. OTURUM

(153) COĞRAFYA – 3

17. Türkiye, aşağıdaki devletlerden hangisiyle "Yabancı Okullar Sorunu" yaşamıştır?

- A) Rusya B) Fransa
C) İngiltere D) Yunanistan

18. II. Dünya Savaşı sırasında, İngiltere Başbakanı Winston Churchill ile daha savaşa girmemiş olan ABD Başkanı Franklin Roosevelt'in Atlas Okyanusu'nda bir İngiliz savaş gemisinde beş gün süren görüşmeleri neticesinde 14 Ağustos 1941'de yayımladıkları ortak bildiri, aşağıdakilerden hangisidir?

- A) Acheson Planı
B) Porter Doktrini
C) Atlantik Bildirisi
D) Litvinov Protokolü


19. Birleşmiş Milletler Teşkilatı'nın aşağıdaki organlarından hangisi, Milletler Cemiyetindeki manda rejimi yerine oluşturulmuştur?

- A) Vesayet Konseyi
B) Güvenlik Konseyi
C) Uluslararası Adalet Divanı
D) Ekonomik ve Sosyal Konsey

20. Türkiye'de "Kuzey Atlantik Paketi" olarak bilinen uluslararası kuruluşun İngilizce kısaltması, aşağıdakilerden hangisidir?

- A) OECD B) NATO
C) UNICEF D) UNESCO

1.



Görselde verilen yüzey şeklinin oluştuğu yerde hangi kayaç türü yaygındır?

- A) Kalker B) Tüf
C) Granit D) Kumtaşı

2. • Yeryüzüne çıkan lavların katılaşması ile oluşur.

- Genellikle koyu renklidir.
- İnce tanelidir.

Yukarıda bazı özellikleri verilen kayaç grubu aşağıdakilerden hangisidir?

- A) Metamorfik kayaçlar
B) Dış püskürük kayaçlar
C) Organik tortul kayaçlar
D) Kimyasal tortul kayaçlar

3. Kalkerin mermere dönüşmesinde etkili olan faktörler aşağıdakilerden hangileridir?

- A) Aşınma ve erime
B) Erime ve soğuma
C) Sıcaklık ve basınç
D) Aşınma ve tortulanma

4. Yer kabuğunun derinlerine doğru inildikçe sıcaklık her 33 metrede yaklaşık 1 °C artar.

Buna göre yerin 165 metre derinlerinde hava sıcaklığı yüzeye göre kaç °C fazla olması beklenir?

- A) 3 B) 5 C) 7 D) 10

5. Aşağıdakilerden hangisi ülkemize yakın levhalardan biridir?

- A) Afrika Levhası
B) Pasifik Levhası
C) Filipinler Levhası
D) Avustralya Levhası

6. Aşağıdakilerden hangisi sıcak su kaynaklarının yaygın olduğu ülkelerden biri değildir?

- A) Türkiye B) İzlanda
C) Endonezya D) İsveç

7. • Aral Gölü
• Hazar Gölü
• Lut Gölü

Yukarıda verilen göller oluşumuna göre hangi grupta yer alır?

- A) Buzul gölleri
B) Karstik göller
C) Volkanik göller
D) Tektonik göller

8. Aşağıdaki akarsulardan hangisi düzenli rejime sahiptir?

- A) Ganj B) İndus
C) Fırat D) Amazon

9. Sıcak ve nemli iklim bölgelerinde görülen kimyasal ayrışmaya aşağıdakilerin hangisinde rastlanmaz?

- A) Savan ikliminde
B) Muson ikliminde
C) Tundra ikliminde
D) Ekvatorial iklimde

10. • Sert karasal iklimin nemli alanlarında yaygındır.

- İğne yapraklı ağaçlardan oluşur.
- Görüldükleri yerlerde yıllık yağış miktarı 500 mm civarındadır.

Yukarıda bazı özellikleri verilen ormanlar aşağıdakilerden hangisidir?

- A) Tayga Ormanları
B) Muson Ormanları
C) Ekvatorial Yağmur Ormanları
D) Orta Kuşağın Karışık Ormanları

11. Bir araştırmacı incelediği arazide defne, kocayemiş, keçiboynuzu, zakkum gibi bitkilere rastlamışsa orada hangi bitki örtüsü yaygındır?

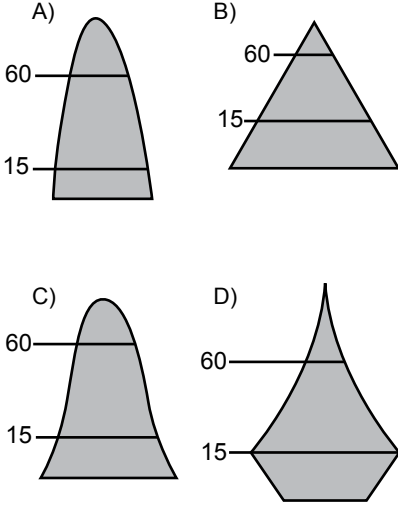
- A) Maki B) Bozkır
C) Çayır D) Savan

12. Nüfus artış hızı en yüksek olan kıta hangisidir?

- A) Avrupa B) Asya
C) Afrika D) Okyanusya

3. OTURUM

13. Aşağıdaki nüfus piramitlerinden hangisi doğum ve ölüm oranının yüksek olduğu bir ülkeye aittir?



14. Aşağıdaki ülkelerin hangisinde bağımlı nüfus fazladır?

- A) ABD B) Norveç
C) Nijerya D) Çek Cumhuriyeti

15. Kırgızistan'da 1994 yılında 270.000 kişinin yer değiştirdiği nüfus hareketi hangi göç türü ile ilişkilidir?

- A) İşçi göçü
B) Beyin göçü
C) Mübadele göçü
D) Doğal afet göçü

16. Aşağıdakilerden hangisi göç alan yerlerde meydana gelen olumlu bir gelişmedir?

- A) Gecekondu mahalleleri artar.
B) Kültürel kaynaşmaya neden olur.
C) Orman alanları yerleşime açılır.
D) Fabrikalar yerleşim alanları içinde kalır.

17. İnsanlar yaşamlarını kolaylaştırmak için aşağıdakilerden hangisini günümüze daha yakın zamanda kullanmaya başlamıştır?

- A) Telgraf B) Buharlı araç
C) Elektrik D) Patlamalı motor

18. I. Domates üreten çiftçi
II. Salça fabrikasında çalışan işçi
III. Salça satan esnaf

Yukarıda sözü edilen çalışanların dâhil olduğu faaliyet grubu hangisinde doğru verilmiştir?

- | | I | II | III |
|----|----------|-----------|-----------|
| A) | Birincil | İkincil | Üçüncül |
| B) | İkincil | Üçüncül | Birincil |
| C) | Üçüncül | Dördüncül | Beşincil |
| D) | İkincil | Üçüncül | Dördüncül |

19.



Görseldeki birikim şekli aşağıdakilerden hangisidir?

- A) Sütun B) Traverten
C) Sarkıt D) Dikit

20. Türkiye'de yaz aylarında güneydoğudan sokularak sıcak ve kuru etki yapan basınç merkezi hangisidir?

- A) Basra alçak basıncı
B) Azor yüksek basıncı
C) Sibiryâ yüksek basıncı
D) İzlanda alçak basıncı

(154) COĞRAFYA – 4

1. Aşağıdakilerden hangisi ülkemizdeki endemik bitkilerdendir?

- A) Kayın B) İspir Meşesi
C) Fıstık Çamı D) Ladin

2. Çernezyom topraklar aşağıdaki yerlerden hangisinde yaygın olarak görülür?

- A) Bafra Ovası
B) Konya Ovası
C) Haymana Platosu
D) Erzurum-Kars Platosu

3. I. Tomruk
II. Reçine
III. İhlamur
IV. Telefon direği

Yukarıdakilerden hangileri asıl orman ürünlerindedir?

- A) I ve II B) I ve III
C) I ve IV D) III ve IV

4. • Dünya'da en geniş yayılış alanı Türkiye'dedir.
• İşığı seven, hızlı büyüyen bir çam türüdür.
• Akdeniz ve Ege Bölgeleri'nde geniş alanlar kaplar.

Yukarıda belirtilen özellikler hangi çam türüne aittir?

- A) Kızılcım B) Sarıçam
C) Karaçam D) Fıstık Çamı

5. Aşağıdaki akarsularımızın hangisinde rafting sporu yapılır?

- A) Çoruh B) Bakırçay
C) Sakarya D) Susurluk

6. Aşağıdakilerden hangisi daha çok turistik amaçla kullanılan limanımızdır?

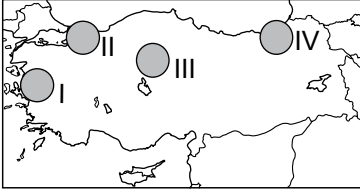
- A) İzmir Limanı
B) Mersin Limanı
C) Antalya Limanı
D) İskenderun Limanı

7. Aşağıdakilerden hangisi Türkiye'de nüfus ve yerleşmenin dağılımını etkileyen doğal faktörlerden biridir?

- A) Ulaşım B) Yeryüzü şekilleri
C) Ekonomi D) Göçler

3. OTURUM

8.



Haritada numaralandırılan yerlerin hangisinde dağınık yerleşme yaygındır?

- A) I B) II C) III D) IV

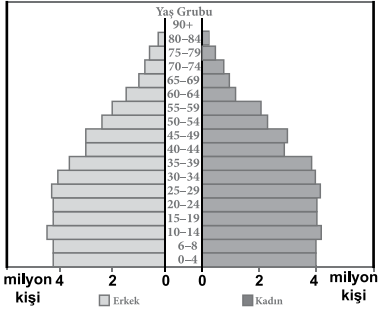
9. Birkaç mahallenin birleşmesi ile oluşan ve özellikle Batı Karadeniz'de yaygın olan kır yerleşmesi hangisidir?

- A) Divan B) Kom
C) Mezra D) Oba

10. Aşağıdakilerden hangisi kavşak noktaları ve işlek yollar üzerinde bulunan ulaşım şehirlerinden biridir?

- A) Sinop B) Kırklareli
C) Hakkâri D) Eskişehir

11.



Türkiye'nin nüfus piramidi incelendiğinde aşağıdaki yargılardan hangisine ulaşılamaz?

- A) Yaşlı nüfus oranı azdır.
B) Genç nüfus oranı fazladır.
C) Nüfus artış hızı yükselmektedir.
D) Gelişmekte olan ülke piramitlerine benzemektedir.

12. Ekonomik imkânların yetersizliğinden dolayı göç veren yerlerde kadın nüfus fazladır.

Aşağıdaki şehirlerden hangisi bu duruma bir örnektir?

- A) Kastamonu B) Gaziantep
C) Kocaeli D) Eskişehir

13. Aşağıdakilerden hangisi nüfus artışının olumlu sonuçlarından biridir?

- A) İç göç artar.
B) Bağımlı nüfus artar.
C) Konut açığı ortaya çıkar.
D) Üretim ve vergi gelirleri artar.

14. Aşağıdakilerden hangisi göçü önlemek için alınabilecek önlemlerden biri değildir?

- A) Sağlık hizmetlerinin geliştirilmesi
B) Tarlaların mera alanına dönüştürülmesi
C) Tarıma dayalı sanayi kollarının kırsal alana kaydırılması
D) Besi ve ahır hayvancılığının geliştirilmesi

15. Coğrafi keşifler sürecinde Hindistan'a ilk ulaşan denizci kimdir?

- A) Colomb
B) Macellan
C) Vasco de Gama
D) Barthelemy Diaz

16. Basra Körfezi'ni Umman Denizi'ne bağlayan ve petrol sevkiyatında büyük öneme sahip olan boğaz aşağıdakilerden hangisidir?

- A) Bering Boğazı
B) Hürmüz Boğazı
C) Cebelitarık Boğazı
D) Babülmendep Boğazı

17. Dünyanın en eski ulaşım sistemi hangisidir?

- A) Kara Yolu B) Demir Yolu
C) Deniz Yolu D) Hava Yolu

18. Aşağıdakilerden hangisi yapay su yoludur?

- A) Süveyş Kanalı
B) Çanakkale Boğazı
C) Malakka Boğazı
D) Macellan Boğazı

19. Aşağıdakilerden hangisi heyelanın etkilerinden korunmak için alınacak tedbirlerden biri değildir?

- A) Ağaçlandırma yapmak
B) Yamaç dengesini korumak
C) Riskli alanları yerleşime açmak
D) Eğimin azaldığı yerde istinat (korunma) duvarı yapmak

20. Aşağıdakilerden hangisi sel ve taşkınların sık görüldüğü yerlerden biridir?

- A) Orta Asya
B) Muson Asya'sı
C) Kuzey Afrika
D) Avustralya'nın iç kesimleri

(158) COĞRAFYA – 8

1. Aşağıdakilerden hangisi 1985 yılından sonra Türkiye’de nüfus artış hızını yavaşlatan sebeplerden biri değildir?

- A) Kentleşmenin artması
B) Bebek ölümlerinin azalması
C) Eğitim düzeyinin yükselmesi
D) Kadınların çalışma hayatına katılması

2. Aşağıdakilerden hangisi 1923-1963 yılları arasında uygulanan nüfusu artırıcı politikanın dayanak noktalarından biri değildir?

- A) Hızlı nüfus artışı ile ülkedeki iş bölümünün sağlanması
B) Fazla nüfusun ülke için siyasi ve askeri güç olarak görülmesi
C) Ölüm oranlarının yüksekliğinden dolayı nüfustaki azalmanın doğumlarla önlenmeye çalışılması
D) Aile planlaması ile anne-çocuk sağlığı hizmetlerinin birlikte yürütülmesi

3. Türkiye’de ilk nüfus sayımı kaç yılında yapılmıştır?

- A) 1923 B) 1927
C) 1935 D) 1965

4. Aşağıdakilerden hangisi ülkemizde uygulanmakta olan projelerden biridir?

- A) GAP B) KOP
C) ZBKP D) DAP

5. Aşağıdakilerden hangisi Türkiye’de taş kömürü işletmelerinin varlığını sürdürebilmesi için planlanan projelerden biridir?

- A) KOP B) YHGP
C) ZBKP D) DAP

6. Aşağıdakilerden hangisi sosyoekonomik açıdan az gelişmiş olan Doğu Karadeniz’i kalkındırmayı planlayan DOKAP kapsamındaki illerden biridir?

- A) Samsun B) Gümüşhane
C) Zonguldak D) Amasya

7. Aşağıdakilerden hangisi jeopolitikte etkili olan, değişen unsurlardan biridir?

- A) İklim
B) Politik değerler
C) Coğrafi Konum
D) Jeolojik özellikler

8. Aşağıdakilerden hangisi Türkiye’nin üye olduğu küresel veya bölgesel örgütlerden biri değildir?

- A) AB B) NATO
C) İKO D) KEİ

9. Aşağıdakilerden hangisi Türkiye’nin jeopolitik önemini artıran unsurlardan değildir?

- A) Uluslararası enerji koridorunda yer alması
B) İstanbul ve Çanakkale Boğazı’na sahip olması
C) Zengin petrol kaynakları olan ülkelere komşu olması
D) Akdeniz ve Karadeniz’de dağların denize paralel uzanması

10. Aşağıdakilerden hangisi Türkiye’yi dolaylı olarak ilgilendiren sorunlardan biridir?

- A) Kıbrıs sorunu
B) Batı Trakya sorunu
C) Kafkasya’daki sorunlar
D) Ege’deki kıta sahanlığı sorunu

11. I. Doktor başına düşen hasta sayısı azdır.
II. Enerji tüketimi azdır.
III. Değeri yüksek ürünler ithal ederler.
IV. Doğal nüfus artışı düşüktür.

Yukarıda verilenlerden hangileri gelişmiş ülkelere ait özelliklerdendir?

- A) I ve II. B) II ve III.
C) I ve III. D) I ve IV.

12. Aşağıdakilerden hangisi İnsani Gelişmişlik Endeksi sıralamasında üst sıralarda yer alır?

- A) Türkiye B) Pakistan
C) Norveç D) Mali

13. Aşağıdakilerden hangisi doğal kaynakları sayesinde gelişmiş ülkelerden biridir?

- A) Arjantin
B) Kolombiya
C) Türkmenistan
D) Güney Afrika Cumhuriyeti

14. Aşağıdakilerden hangisi Hazar Bölgesi petrol ve doğalgaz taşımacılığı için yapılması planlanan projelerdendir?

- A) Aytrau – Şamara Boru Hattı
B) Bakü – Tiflis – Ceyhan Boru Hattı
C) Tengiz – Novorossiysk Petrol Boru Hattı
D) Bakü – Tiflis – Erzurum – Ankara Doğalgaz Boru Hattı

15. Aşağıdakilerden hangisi uluslararası sıcak çatışmaya neden olan doğal unsurlardan biridir?

- A) Sınır sorunu
B) Bağımsızlık isteği
C) Su kaynaklarının paylaşımı
D) Önemli ulaşım yollarının kontrolü

16. Türkiye’de erozyon ve çölleşme tehlikesine karşı mücadele için kurulmuş örgüt hangisidir?

- A) TEMA Vakfı
B) ÇEKÜL Vakfı
C) DHK Derneği
D) Türkiye Çevre Vakfı

17. Japonya’da 169 ülkenin katılımı ile imzalanan iklim değişikliği riskleri ve alınacak önlemler konulu sözleşme hangisidir?

- A) Kyoto Sözleşmesi
B) CITES Sözleşmesi
C) RAMSAR Sözleşmesi
D) Barcelona Sözleşmesi

18. Aşağıdakilerden hangisi doğal mirasların korunması için yapılabilecek faaliyetlerden biri değildir?

- A) Çevre bilinci yerleştirilmesi
B) Turistik tesis sayısının artırılması
C) Avcılığın kontrol altına alınması
D) Doğal ortamın kirlenmesinin önlenmesi

19. Doğal mirasları hangi kuruluş belirler?

- A) UNESCO B) UNICEF
C) ICU D) WWF

20. Aşağıdakilerden hangisi sınırlı doğal kaynaklardan değildir?

- A) Kömür B) Bor
C) Petrol D) Rüzgâr

(163) MATEMATİK – 3

1. $\frac{5!}{0! + 1! + 2! + 3!}$ işleminin sonucu kaçtır?

- A) 1 B) 10 C) 12 D) 20

2. $P(n, 2) = 90$ olduğuna göre n kaçtır?

- A) 5 B) 10 C) 18 D) 45

3. 3 farklı roman ve 4 farklı şiir kitabı arasından 1 roman ve 2 şiir kitabı kaç farklı şekilde seçilebilir?

- A) 7 B) 12 C) 16 D) 18

4. Aynı özellikteki 4 mavi, 2 sarı kart arasından aynı anda rastgele seçilen 2 kartın da mavi olma olasılığı kaçtır?

- A) $\frac{2}{5}$ B) $\frac{1}{2}$ C) $\frac{2}{3}$ D) $\frac{3}{4}$

5. $f, g: \mathbb{R} \rightarrow \mathbb{R}$, $f(x) = 4x + 1$ ve $g(x) = 3x^2$ olduğuna göre $(2f - g)(2)$ kaçtır?

- A) 5 B) 6 C) 7 D) 8

6. $f, g: \mathbb{R} \rightarrow \mathbb{R}$, $(f \circ g)(x) = 12x + 8$ ve $g(x) = x + 1$ olduğuna göre $f(8)$ kaçtır?

- A) 74 B) 80 C) 92 D) 98

7. $f: \mathbb{R} \rightarrow \mathbb{R}$, $f(x) = 5x - 1$ olduğuna göre $f^{-1}(x)$ 'in kuralı aşağıdakilerden hangisidir?

- A) $\frac{x+1}{5}$ B) $x - 5$
C) $\frac{x-1}{5}$ D) $x + 5$

8. $3x + 6y - 1 = 0$ denklemi ile verilen doğruya dik olan doğrunun eğimi nedir?

- A) $\frac{1}{6}$ B) $\frac{1}{2}$ C) 2 D) 6

9. $ax + 7y + 4 = 0$ ve $2x + by + 1 = 0$ denklemleri ile verilen doğrular çakışık olduğuna göre $a \cdot b$ kaçtır?

- A) 7 B) 10 C) 11 D) 14

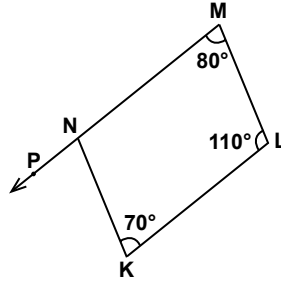
10. $K(-3, 5)$ noktasından geçen ve eğimi -2 olan doğrunun denklemini aşağıdakilerden hangisidir?

- A) $2x + y + 1 = 0$
B) $2x - 2y + 1 = 0$
C) $x + 2y - 1 = 0$
D) $-x + 2y + 1 = 0$

11. Analitik düzlemde $D(2, -2)$ ve $E(4, -4)$ noktaları arasındaki uzaklık kaç birimdir?

- A) 2 B) $2\sqrt{2}$
C) $4\sqrt{3}$ D) 4

12.

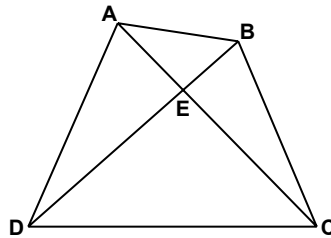


Şekilde P, N, M noktaları doğrusal, $m(\widehat{NML}) = 80^\circ$, $m(\widehat{MLK}) = 110^\circ$ ve $m(\widehat{LKN}) = 70^\circ$ dir.

Buna göre $m(\widehat{PNK})$ kaç derecedir?

- A) 80 B) 70 C) 60 D) 50

13.

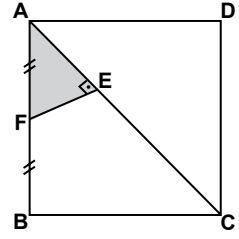


Şekildeki ABCD dörtgeninde $A(\widehat{AED}) = 12 \text{ cm}^2$, $A(\widehat{BEC}) = 8 \text{ cm}^2$ ve $A(\widehat{AEB}) = 6 \text{ cm}^2$ dir.

Buna göre $A(\widehat{EDC})$ kaç santimetrekaredir?

- A) 4 B) 9 C) 16 D) 18

14.

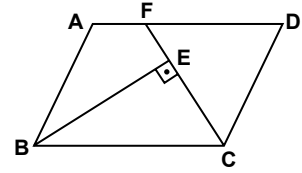


Şekildeki ABCD karesinde $[AC]$ köşegen, $|AF| = |FB|$, $[AC] \perp [FE]$ ve $A(\widehat{AEF}) = 10 \text{ cm}^2$ dir.

Buna göre $A(ABCD)$ kaç santimetrekaredir?

- A) 100 B) 120 C) 140 D) 160

15.



Şekildeki ABCD paralelkenarında F noktası $[AD]$ üzerinde, $[BE] \perp [FC]$, $|BE| = 5 \text{ cm}$ ve $|FC| = 6 \text{ cm}$ dir.

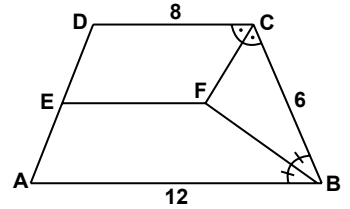
Buna göre $A(ABCD)$ kaç santimetrekaredir?

- A) 40 B) 30 C) 20 D) 10

16. Bir kenarının uzunluğu 10 cm olan bir eşkenar dörtgenin içindeki bir noktadan kenarlara çizilen dikmelerin uzunluklarının toplamı 18 cm olduğuna göre eşkenar dörtgenin alanı kaç santimetrekaredir?

- A) 90 B) 120 C) 150 D) 180

17.



Şekildeki ABCD yamuğunda

$[DC] \parallel [EF] \parallel [AB]$,

$m(\widehat{DCF}) = m(\widehat{FCB})$,

$m(\widehat{CBF}) = m(\widehat{FBA})$,

$|AB| = 12 \text{ cm}$, $|DC| = 8 \text{ cm}$

ve $|CB| = 6 \text{ cm}$ dir.

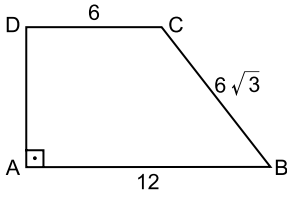
Buna göre $|EF|$ kaç santimetredir?

- A) 4 B) 5 C) 6 D) 7

3. OTURUM

(165) MATEMATİK – 5

18.

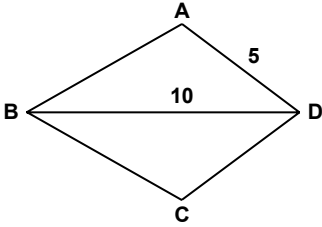


Şekildeki ABCD dik yamuğun-
da $[DC] \parallel [AB], [DA] \perp [AB],$
 $|AB| = 12 \text{ cm}, |BC| = 6\sqrt{3} \text{ cm}$ ve
 $|CD| = 6 \text{ cm}$ ' dir.

Buna göre $|DA|$ kaç santimetre-
dir?

- A) $6\sqrt{2}$ B) 9
C) 12 D) $12\sqrt{2}$

19.



Şekildeki ABCD deltoidinde
 $|AB| = |BC|,$
 $|AD| = 5 \text{ cm}, |DB| = 10 \text{ cm}$ ve
 $A(ABCD) = 30 \text{ cm}^2$ dir.

Buna göre $|BC|$ kaç santimetre-
dir?

- A) $2\sqrt{5}$ B) $3\sqrt{5}$
C) $4\sqrt{5}$ D) $5\sqrt{5}$

20. Düzgün bir çokgenin bir iç açısının
ölçüsü bir dış açısının ölçüsünün
4 katıdır.

Buna göre düzgün çokgen kaç
kenarlıdır?

- A) 12 B) 11 C) 10 D) 9

1. $f(n) = \frac{5n-4}{3n+2}$ dizisinin m. terimi
 $\frac{13}{10}$ olduğuna göre m kaçtır?

- A) 4 B) 5 C) 6 D) 7

2. İlk terimi -4 ve 13. terimi 32 olan
aritmetik dizinin ortak farkı kaçtır?

- A) 2 B) 3 C) 4 D) 5

3. Bir geometrik dizinin 10. teriminin
7. terimine oranı $\frac{1}{8}$ olduğuna
göre 15. teriminin 19. terimine ora-
nı kaçtır?

- A) 16 B) 4 C) $\frac{1}{4}$ D) $\frac{1}{16}$

4. Ardışık üç terimi $a + b, 2a - b, a \cdot b$
olan bir dizi hem aritmetik hem geo-
metrik dizidir.

$b \neq 0$ olduğuna göre a kaçtır?

- A) 2 B) 3 C) 4 D) 5

5. Dört basamaklı 574A sayısı 4 ile
bölünebildiğine göre A'nın alabileceği
değerlerin çarpımı kaçtır?

- A) 0 B) 16 C) 24 D) 32

6. Dört basamaklı 7M3K sayısının 15 ile
bölümünden kalan 3 olduğuna göre
M'nin alabileceği değerlerin toplamı
kaçtır?

- A) 30 B) 31 C) 32 D) 33

7. Üç basamaklı 61A sayısı 6 ile tam
bölünebildiğine göre A aşağıdaki-
lerden hangisi olabilir?

- A) 6 B) 7 C) 8 D) 9

8. Beş basamaklı M1 82N sayısı 45 ile
bölünebilen bir çift sayı olduğuna
göre M kaçtır?

- A) 7 B) 6 C) 5 D) 4

9. $2^3 \cdot 3^4 \cdot 5^2$ ve $2^2 \cdot 3^3 \cdot 5^4$ sayılarının
EKOK'unun EBOB'una oranı kaçtır?

- A) 120 B) 150 C) 180 D) 210

10. $a - 1$ ve $b + 4$ sayıları aralarında
asal sayılardır.

$6a - 4b = 22$ olduğuna göre $a + b$
kaçtır?

- A) 5 B) 4 C) 3 D) 2

11. Ayrıtlarının uzunlukları 2 cm, 3 cm
ve 4 cm olan dikdörtgenler prizmaları
kullanılarak küp oluşturulacaktır.

Buna göre kullanılacak dikdört-
genler prizması sayısı en az kaç
olabilir?

- A) 72 B) 144 C) 424 D) 546

12. Ali 48 günde bir, Veli 36 günde bir
nöbet tutmaktadır.

Ali ve Veli ilk nöbetlerini birlikte
tuttuktan en az kaç gün sonra tek-
rar birlikte nöbet tutarlar?

- A) 54 B) 96 C) 108 D) 144

13. Şeker oranı % 25 olan 16 litre şeker-
li suya 4 litre saf su ilave edildiğinde
oluşan karışımın şeker oranı yüzde
kaç olur?

- A) 24 B) 22 C) 20 D) 18

14. Bir paltonun % 40 zamlı satış
fiyatı 560 lira olduğuna göre zam
yapılmadan önceki satış fiyatı kaç
liradır?

- A) 480 B) 400 C) 360 D) 320

15. 80 gramlık bir karışımın % 20 'si ile
60 gramlık bir karışımın % 25 'inin
oluşturduğu karışım kaç gramdır?

- A) 29 B) 30 C) 31 D) 32

16. Yıllık % 30 basit faizle bankaya ya-
tırılan 4300 lira 4 yıl sonunda faiziyle
birlikte kaç lira olur ?

- A) 9460 B) 9320 C) 9280 D) 9140

17. Yaş üzüm kurutulduğunda kütesinin
%60 'ını kaybetmektedir.


Buna göre 320 kg yaş üzüm ku-
rutulduğunda kaç kilogram kuru
üzüm elde edilir?

- A) 192 B) 164 C) 136 D) 128

3. OTURUM

18. Bir miktar para 12 ve 16 yaşlarındaki kardeşler arasında yaşlarıyla doğru orantılı olacak şekilde paylaşılıyor. **Büyük kardeş 60 lira aldığına göre küçük kardeş kaç lira almıştır?**

A) 42 B) 45 C) 48 D) 54

19. 

Hızı saatte 50 km olan hareketli A noktasından, hızı saatte 70 km olan hareketli B noktasından birbirlerine doğru aynı anda hareket ettiklerinde 4 saat sonra karşılaşıyorlar.

Buna göre |AB| kaç kilometredir?

A) 480 B) 460
C) 440 D) 420

20. Aynı iş gücüne sahip iki işçi bir işi birlikte 15 günde bitirebilmektedirler. **İşçilerden biri çalışma hızını yarıya indirip, diğeri çalışma hızını iki katına çıkardığında birlikte aynı işi kaç günde bitirebilirler?**

A) 11 B) 12 C) 13 D) 14

(206) PSİKOLOJİ – 1

1. **Aşağıdakilerin hangisinde doğrudan gözlenemeyen davranışlar birlikte verilmiştir?**

A) Konuşmak – Koşmak
B) Koşmak – Rüya görmek
C) Konuşmak – Hayal kurmak
D) Rüya görmek – Hayal kurmak

2. **Aşağıdakilerden hangisi psikolojinin temel amaçlarından değildir?**

A) Ruhun varlığını kanıtlamak
B) Toplumsal ilişkileri incelemek
C) İnsan davranışlarını inceleyerek genel yasalara varmak
D) İnsanların yaşadığı yerlerin coğrafi özelliklerini araştırmak

3. Bilincin ne olduğunu incelenmesinde karşı çıkararak, bilincinin amacının ve işlevinin bilinmesinin amaç olduğunu, ayrıca insanın çevreye uyumu ve öğrenme gibi davranışlarının da incelenmesi gerektiğini savunur.

Bu görüşler hangi psikoloji ekolüne aittir?

A) İşlevsellik B) Yapısalcılık
C) Psikodinamik D) Davranışçılık

4. **Aşağıdaki psikoloji alt dallarından hangisi insanın anatomik yapısı, sinir sistemi, salgı bezleri gibi etkenlerin davranışla ilişkisini açıklamaya çalışır?**

A) Sosyal Psikoloji
B) Fizyolojik Psikoloji
C) Yetişkinlik Psikolojisi
D) Karşılaştırmalı Psikoloji

5. İnsan davranışlarını açıklamanın kolay olmadığı durumlarda kullanılan bu yöntemde, bireyin geçmiş yaşantıları incelenerek, ailesi, arkadaşları gibi kimselerden birey hakkında bilgiler toplanır. Psikolog elde ettiği bu bilgileri nesnel olarak kaydeder.

Bu araştırma yöntemi aşağıdakilerden hangisidir?

A) Test
B) Anket
C) Deney
D) Vaka (Olay incelemesi)

6. **Deney yöntemiyle ilgili aşağıda verilen bilgilerden hangisi yanlıştır?**

A) Koşullar önceden hazırlanır.
B) En az iki denek grubu kullanılır.
C) Denek gruplarının özellikleri birbirinden farklı olmalıdır.
D) Bir değişkenin etkilerini gözlemlemek için başvurulur.

7. I. Rüyalarda ortaya çıkabilirler.
II. Davranışlarımızı ve kişiliğimizi etkilerler.
III. Kişi istediği zaman bu düşünceleri bilinç alanına getirebilir.

Freud'a göre, bilinçaltı düzeyindeki duygu ve düşüncelerimizle ilgili yukarıda verilen bilgilerden hangileri doğrudur?

A) I ve II. B) II ve III.
C) I ve III. D) I, II ve III.

8. **Aşağıdakilerden hangisi yetersiz uyarıya maruz kalan bireylerde görülmez?**

A) Ruhsal çöküntü
B) Yüksek motivasyon
C) Algılama bozuklukları
D) Davranışlarda düzensizlik

9. **Aşağıdaki davranışlardan hangisi fizyolojik bir güdüden kaynaklanır?**

A) Uyumak
B) Başarılı olmak
C) Statü kazanmaya çalışmak
D) Toplumda kabul görmek için çaba harcamak

10. **Duyumları yorumlama ve onları anlamlı hâle getirme süreci aşağıdaki kavramlardan hangisiyle ifade edilir?**

A) Tepki B) Dürtü
C) Uyarım D) Algılama

11. Gece sarı sokak lambasının yerdeki karın üzerine yansımısıyla, kar sarı renkte görünür. Ama biz karın beyaz olduğunu biliriz.

Bu durum algıyla ilgili kavramlardan hangisine örnektir?

A) Algı dayanağı
B) Algıda bütünlük
C) Algıda değişmezlik
D) Algıda organizasyon

12. **Bize yakın olan eşyanın uzakta olanı kapatması görsel derinlik algısına neden olan hangi çevresel etmenle ilgilidir?**

A) Binişim
B) Işık ve gölge
C) Orantılı büyüklük
D) Çizgisel perspektif

13. **Aşağıdakilerden hangisi halüsinasyonun (sann) özelliklerinden değildir?**

A) Sanrılar zihnin icadı olan imgelerdir.
B) Ateşli hastalıklar sanrılara neden olabilir.
C) Var olan bir nesnenin yanlış algılanmasıdır.
D) Çevrede uyarıcı olmaksızın meydana gelir.

14. Öğrenme; tekrar ya da yaşantı sonucu davranışta meydana gelen devamlı bir değişiktir.

Bu tanıma göre aşağıdakilerden hangisi öğrenilmiş davranış değildir?

A) Hapşırma
B) Yemek yapmak
C) Bir müzik aleti çalmak
D) Bir fizik problemini çözmek

15. İnsanın çevresine uyma çabasının sonucu olarak ortaya çıkan, çevresindeki insanları gözlemleyerek edindiği davranışlar model alma yoluyla öğrenilmiştir.

Bu bilgiye göre aşağıdaki davranışlardan hangisi model alma yoluyla öğrenmeye örnektir?

A) Bir köpeğin sahibini tanıması
B) Bir sekreterin hızlı ve hatasız klavye kullanması
C) Bir çocuğun babası gibi konuşması
D) Bir anlaşmanın maddelerinin sıralanması

3. OTURUM

(209) SOSYOLOJİ – 2

16. Aşağıdakilerden hangisi öğrenme-
yi olumlu etkileyen faktörlerden
değildir?

- A) Öğrenilen konuların tekrar edilmesi
- B) Öğrenilecek materyalin anlamsız olması
- C) Öğrenilecek konunun ihtiyaca uygun olması
- D) Konunun bütünüyle öğrenilmesi

17. Aşağıdakilerden hangisi belleğin
çagırma işlemine örnektir?

- A) Hoşlanmadığımız şeyleri bilinçaltına atmak
- B) Bir telefon numarasını deftere yazana kadar tekrarlamak
- C) Yeni öğrendiğimiz benzer iki kavramı eşleştirerek aklımızda tutmak
- D) Önceden öğrendiğimiz konularla ilgili soru sorulduğunda cevap verebilmek

18. Aşağıdakilerden hangisi amnezinin
(hafıza kaybı) nedenlerinden biri
değildir?

- A) Sarsıntı
- B) Öğrenme
- C) Yüksek ateş
- D) Beyin zedelenmesi

19. I. Orijinal fikirlere sahip olma.
II. Kararlarında bağımsız olma.
III. Alışılmış yöntemlerin dışına çıkma.

Yukarıdakilerden hangileri yaratıcı
kişilerin temel özelliklerindedir?

- A) I ve II.
- B) I ve III.
- C) II ve III.
- D) I, II ve III.

20. Uyku ile ilgili aşağıda verilen bilgi-
lerden hangisi yanlıştır?

- A) Uyku sırasında daha önce öğrenilenler depolanır.
- B) Uyku sırasında organizmanın genel aktivitesinde hızlanma görülür.
- C) Uyku sırasında beyin bazı uyarılara karşı duyarlıdır.
- D) Uyku sinir sisteminin dinlenmeye geçmesini sağlar.

1. Kültür ile ilgili aşağıdakilerden
hangisi söylenemez?

- A) Ne kadar toplum varsa, o kadar kültür vardır.
- B) Kültür sürekli bir değişim ve gelişim içindedir.
- C) Toplumların kültürel değerleri birbirinin aynısıdır.
- D) Kültür geçmişi geleceğe bağlayan bir köprü gibidir.

2. Aşağıdakilerin hangisi manevi kül-
tür öğeleri arasında yer alır?

- A) Dil
- B) Konut
- C) Kıyafetler
- D) Otomobiller

3. Kültürün maddi unsurlarının hızla
değişmesine rağmen, manevi unsur-
ların yavaş değişmesi sonucunda
ortaya çıkan dengesizlik durumudur.

Yukarıda kültürle ilgili kavramlar-
dan hangisi tanımlanmıştır?

- A) Alt kültür
- B) Kültürleşme
- C) Kültürel çatışma
- D) Kültürel gecikme

4. Toplumsal grupların uzmanlaşmasıyla
oluşan, üyelerinin resmi statüleri
sahip olduğu, önceden belirlenmiş
amaçları gerçekleştirmek için etkinlik
gösteren bürokratik yapılanmalardır.

Yukarıda hangi kavram açıklan-
mıştır?

- A) Örgüt
- B) Toplumsal rol
- C) Toplumsal yapı
- D) Toplumsal statü

5. I. Toplumsal kurumlar birbirleriyle
ilişki içine girmezler.
II. Toplumsal kurumlar bir bütün ola-
rak toplumsal sistemi oluştururlar.
III. Her kurumdan beklenen kural,
değer ve davranış örüntüleri fark-
lıdır.

Toplumsal kurumlarla ilgili yuka-
rıda verilen bilgilerden hangileri
doğrudur?

- A) I ve II.
- B) I ve III.
- C) II ve III.
- D) I, II ve III.

6. Aşağıdakilerden hangisi ailenin
ekonomik işlevleri arasında yer alır?

- A) Neslin devamını sağlama
- B) Üyelerinin duygusal ihtiyaçlarını karşılama
- C) Çocuğa içinde yaşadığı toplumun kültürünü öğretme
- D) Üyelerinin beslenme ve barınma gibi ihtiyaçlarını giderme

7. Günümüzde yaygın olarak görülen,
eşlerin anne ve babasından ayrı bir
evde oturması aşağıdaki aile türle-
rinden hangisini ortaya çıkarmıştır?

- A) Geniş aile
- B) Çekirdek aile
- C) Ataerkil aile
- D) Anaerkil aile

8. Erkek ya da kadının birden fazla
eşle evlenmesi aşağıdaki hangi
kavramla ifade edilir?

- A) Neolokal
- B) Poligami
- C) Endogami
- D) Egzogami

9. Aşağıdakilerden hangisi dinin top-
lumsal işlevlerinden değildir?

- A) İnananları korkularından uzaklaştırması
- B) Toplumsal düzeni sağlamaya çalışması
- C) İnananlar arasında dayanışmayı artırması
- D) Toplumsal bütünleşmeye katkı sağlaması

10. Totem adını alan bitki ya da hayvanın
bir resmi ya da heykeline tapınmadır.

Yukarıda hangi dini inanış şeklin-
den söz edilmiştir?

- A) Natürizm
- B) Fetişizm
- C) Politeizm
- D) Monoteizm

11. Elde edilmesi emek ve maliyet gerekti-
ren mallara "ekonomik mal" denir.

Buna göre aşağıdakilerden hangi-
si ekonomik mal değildir?

- A) Güneş
- B) Petrol
- C) Kömür
- D) Çimento

12. I. İhtiyaç duyulan mal ve hizmetleri
elde etmek için gerçekleştirilen
etkinliklerdir.

II. Mal ve hizmetlerin insan ihtiyaçlarını
karşılama amacıyla kullanılmasıdır.

Tanımlanan bu kavramlar aşağıdaki-
lerin hangisinde sırasıyla verilmiştir?

- A) Üretim - Emek
- B) Emek- Bölüşüm
- C) Üretim -Tüketim
- D) Tüketim - Bölüşüm

3. OTURUM

13. Aşağıdakilerden hangisi kapitalist ekonomik sistemin özelliklerinden biri değildir?

- A) Üretilen malların miktarını devlet belirler.
- B) Üretimde temel amaç kar elde etmektir.
- C) Üretim araçlarının mülkiyeti bireylerin elindedir.
- D) Mallar satın alma gücüne sahip olanlar için üretilir.

14. Aşağıdakilerden hangisi siyasetin alt kurumları arasında yer almaz?

- A) Meclis
- B) Sermaye
- C) Hükümet
- D) Sivil toplum kuruluşları

15. Egemenliğin kaynağını Tanrı'dan alan ve yönetimin dinsel kurallara göre düzenlendiği yönetim şeklidir.

Tanımı verilen bu kavram aşağıdakilerden hangisidir?

- A) Monarşi
- B) Oligarşi
- C) Teokrazi
- D) Aristokrasi

16. Dikey yapıli partiler, farklı toplumsal grup ya da sınıftan insanı içine alan partilerdir.

Buna göre aşağıdakilerden hangisi dikey yapıli partilere örnektir?

- A) İşçi partileri
- B) Çiftçi partileri
- C) İşveren partiler
- D) Sosyal demokrat partiler

17. Aşağıdakilerden hangisi toplumsal değişme ile ilgili yanlış bir bilgidir?

- A) Değişim süreklilik arz eder.
- B) Değişme doğal bir olgu ve zorunluluktur.
- C) Değişmenin hızı her toplumda aynıdır.
- D) Değişme planlı olabileceği gibi baskıyla da olabilir.

18. Aşağıdakilerden hangisi baskı yolu ile gerçekleşen toplumsal değişimin özellikleri arasında yer alır?

- A) Demokratik yollarla gerçekleştirilen değişimlerdir.
- B) Evrensel hukuk normları çerçevesinde gerçekleştirilir.
- C) Toplumun bütün kesimlerinin onayı alınarak gerçekleştirilir.
- D) Toplumun kendi iç dinamikleri tarafından uygulanabileceği gibi dış etkiler tarafından da uygulanabilir.

19. I. Fiziki çevre
II. Bilim ve teknoloji
III. Kitle iletişim araçları

Yukarıdakilerin hangileri toplumsal değişmeyi etkileyen faktörlerdendir?

- A) Yalnız I
- B) Yalnız II
- C) II ve III.
- D) I, II ve III.

20. Toplumsal gelişmenin göstergelerinden biri orta tabakanın genişlemesidir.

Bu bilgiye göre aşağıdakilerden hangisi orta tabakanın genişlemesine katkı sağlamaz?

- A) Eğitimde fırsat eşitliğinin sağlanması
- B) Adil vergi politikalarının uygulanması
- C) Kişi başına düşen milli gelirin azalması
- D) Kaliteli sağlık hizmetlerinin sunulması

(242) İNGİLİZCE – 3

1 - 20. sorularda boş bırakılan yere uygun gelen kelime ya da ifadeyi işaretleyiniz.

1.



My father is a ---- at Manchester City Hospital.

- A) teacher
- B) patient
- C) doctor
- D) driver

2. My brother is a fan of Beşiktaş. He ---- misses the matches of his team.

- A) usually
- B) always
- C) never
- D) often

3. She never goes to school late. She is a ---- student.

- A) punctual
- B) difficult
- C) lonely
- D) tidy

4. Adam : ---- don't you eat junk food?

Mary : Because it is dangerous for our health.

- A) Who
- B) Why
- C) When
- D) Whose

5. Nick : ---- does the train leave?
Jim : At 10 a.m.

- A) Where
- B) How
- C) What
- D) What time

6. Toby : ---- kind of films do you like?

Nicole : Horror films.

- A) Who
- B) Where
- C) What
- D) Whose

7. I like reading very much. I ---- read before I sleep.

- A) seldom
- B) always
- C) rarely
- D) never

8. Jennifer : ---- you usually stay at home at weekends?

Amanda : No, I ----.

- A) Don't / do
- B) Do / don't
- C) Do / doesn't
- D) Does / don't

9. My mother ---- to work at 8 every morning.

- A) go
- B) to go
- C) goes
- D) going

10. This is ---- new bicycle. My father bought it yesterday.

- A) my
- B) I
- C) me
- D) mine

11. Alex : ---- does your uncle live?
Robert : In Germany.

- A) What time
- B) How old
- C) Where
- D) Which

12. She is ---- breakfast at the moment.

- A) has
- B) had
- C) have
- D) having

3. OTURUM

13. They ---- to India every summer.

- A) travel B) travels
C) to travel D) are travelling

14. We are going to have an oral exam ----.

- A) yesterday
B) sometimes
C) tomorrow
D) last week

15. I don't want to move to another city, ---- I love this city very much.

- A) or B) for C) nor D) but

16. Burak wasn't in the office ---- I left a message for him.

- A) because B) nor
C) or D) so

17. Don't make ----. The baby is sleeping.

- A) noise B) sense
C) feeling D) extreme

18. I am ---- a letter to my friend, Mehmet.

- A) speaking B) writing
C) driving D) living

19. Ali doesn't drink ---- water.

- A) many B) much
C) an D) a

20. My brothers like ---- jobs very much.

- A) theirs B) them
C) they D) their

(242) ALMANCA – 3

1-17. sorularda boş bırakılan yere uygun gelen ek, kelime ya da ifadeyi işaretleyiniz.

1. A: ---- fährst du am Samstag?
B: Zu meiner Großmutter.

- A) Womit B) Zu wem
C) Warum D) Wo

2. Der klein- ---- Junge mit der Brille heißt Heinz.

- A) -e B) -en C) -es D) -er

3. Frau Yılmaz putzt ---- Teppich.

- A) der B) dem C) den D) die

4.



Was ist ihr Beruf?
Sie ist ----.

- A) Lehrerin B) Frisöse
C) Polizistin D) Putzfrau

5. A: Woher kommst du Gülay?
B: Ich komme ---- dem Theater.
A: Wohin gehst du?
B: Ich gehe ---- Hause.

- A) in / zu B) aus / nach
C) im / zur D) von / ins

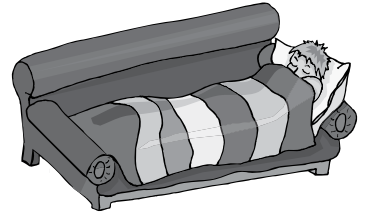
6. Mit einem Schlüssel ---- man die Tür.

- A) öffnet B) öffnest
C) offen D) geöffnet

7. Die Familie Krause haben ein groß- ----, bunt- ---- Haus.

- A) -er / -e B) -es / -es
C) -en / -en D) -e / -e

8.



Michael schläft ---- Sofa.

- A) in der B) zu der
C) unter dem D) auf dem

9. Meine Mutter sagt, ---- ich zu wenig esse.

- A) denn B) weil
C) dass D) darum

10. gehen, ----, gegangen (Präteritum)

- A) ging B) gehen
C) gehst D) gehe

11. Mutter: Ali, hast du ---- Zähne geputzt?
Ali : Ja, Mutter. Ich habe ---- Zähne geputzt.

- A) ich / dich B) deine / meine
C) dich / mich D) dein / mein

12. Die Schüler ---- ihre Hausaufgabe in der Schule.

- A) gehen B) laufen
C) machen D) schlafen

13. Die Katze schläft ---- dem Bett.

- A) beim B) um
C) im D) unter

14. A: ---- Mustafa morgen mit uns ins Kino gehen?
B: Ja.

- A) Wird B) Wirst
C) Werde D) Werden

15.



Wie ist das Wetter?

Es - - - - .

- A) ist windig und warm
B) regnet und es ist windig
C) ist sonnig und warm
D) ist kalt und es schneit

16. A: Wo ist deine Jacke?

B: Sie hängt - - - - der Wand.

- A) auf B) in
C) im D) an

17. Aşağıdaki sözcüklerin önüne gelmesi gereken "Artikel" hangisidir?

- - - - Flugzeug, - - - - Mensch,
- - - - Arbeit

- A) das / der / die B) das / die / der
C) die / der / das D) der / die / das

18. Hangi seçenekte sıfatların zıt anlamlısı doğru verilmiştir?

- A) kalt x kälter
B) schnell x sauber
C) teuer x billig
D) laut x langsam

19. "kochen" sözcüğünün Türkçe karşılığı hangi seçenekte verilmiştir?

- A) yemek yemek B) pişirmek
C) ütü yapmak D) aşçı

20. Aşağıdakilerden hangisi "Sport-" kelimesini tamamlamaktadır?

- A) -kaufen B) -lesen
C) -schuhe D) -heft

(242) FRANSIZCA – 3

1-15. sorularda boş bırakılan yere uygun gelen kelime ya da ifadeyi işaretleyiniz.

1. - - - - avons deux chiens et un perroquet.

- A) Nous B) Vous
C) Elle D) Ils

2. Êtes- - - - montés sur la tour Galata ?

- A) ils B) nous
C) elle D) vous

3. J'ai une amie française - - - - me raconte souvent des histoires.

- A) que B) où
C) qui D) dont

4. Mon frère est né en 1977 - - - - il n'y avait pas de télé-couleurs.

- A) qui B) où
C) dont D) donc

5. Voilà une adresse Internet - - - - j'ai trouvée dans une revue spécialisée.

- A) dont B) qui
C) que D) où

6. - - - - il pleut, mon père met toujours des bottes.

- A) Quand B) Quelle
C) Pourquoi D) Combien

7. Metin s'est promené dans les rues de Samsun - - - - un mois.

- A) aux B) dans
C) au D) il y a

8. Il aime faire du - - - - dans les Alpes.

- A) musique B) ski
C) marche D) natation

9. - - - - mon frère ira à la campagne pour observer les oiseaux.

- A) Le mois dernier
B) Demain matin
C) Hier soir
D) Pendant

10. La ville - - - - tu parles est au sud de la France.

- A) que B) qui
C) où D) dont

11. Les jeunes boivent du thé - - - - le match de basket à la télé.

- A) écouter B) en buvant
C) en regardant D) regarder

12. Le professeur - - - - à l'hôtel porte une cravate en soie.

- A) venant B) en jouant
C) parler D) écoute

13. Le week-end, je lis un roman en - - - - du café au lait.

- A) voyageant B) sachant
C) dansant D) buvant

14. Elles ne vont pas - - - - la bibliothèque - - - - vélo.

- A) au / aux B) à / à
C) en / en D) en / à

15. Pour acheter des livres, je vais à - - - - .

- A) la librairie
B) la pharmacie
C) la boucherie
D) la charcuterie

16. "Mon oncle et son fils aîné sont partis en vacances." cümlesinde altı çizili sözcüklerin yerine aşağıdaki şahıs zamirlerinden hangisi konulabilir?

- A) Nous B) Vous
C) Ils D) Elles

17-18. sorularda verilen cümlelerin Türkçe karşılığını işaretleyiniz.

17. Il a appris le français en étudiant deux ans à Paris.

- A) Paris'te iki yıl okuyarak Fransızca'yı öğrendi.
B) Paris'te hem çalıştım hem de okudum.
C) Paris'te bir yılda Fransızca'yı şöyle böyle öğrendi.
D) İki yıl çalıştığı Paris'te Fransızca'yı öğrenemedi.

3. OTURUM

18. **Mon fils boit du lait en regardant le dessin animé.**

- A) Kızım odasında film izlerken uyumuş.
B) Oğlum yatmadan önce mutlaka süt içer.
C) Oğlum çizgi film izlerken süt içer.
D) Kızım çizgi film izlerken sütünü döktü.

19-20. sorularda verilen cümlelerin Fransızca karşılığını işaretleyiniz.

19. **Bahçede ağlayan çocuk yeğenimdir.**

- A) La fille dansant dans la rue est ma nièce.
B) Le garçon pleurant dans le jardin est mon neveu.
C) Le garçon jouant au foot est mon neveu.
D) Le garçon brun faisant du vélo est mon fils.

20. **Yitirdiği kitabını sokakta buldu.**

- A) On m'a volé mon livre dans la rue.
B) Il a vu son amie en rentrant de la banque.
C) Elle a perdu son livre en rentrant de la banque.
D) Il a retrouvé son livre dans la rue.

(403) DİL VE ANLATIM – 3

1. ---, iletilen bilginin hem gönderici hem de alıcı tarafından anlaşıldığı ortamda bilginin bir göndericiden bir alıcıya aktarılma sürecidir.

Bu cümlede boş bırakılan yere aşağıdakilerden hangisi getirilmelidir?

- A) Bağlam B) Kod
C) İletişim D) Dönüt

2. Önce domatesleri ve biberleri doğrayınız. Kısık ateşte bunları pişirdikten sonra istediğiniz adette yumurta kırarak servise hazırlayınız.

Bu parçada dil hangi işleviyle kullanılmıştır?

- A) Kanalı kontrol
B) Sanatsal
C) Heyecana bağlı
D) Alıcıyı harekete geçirme

3. **Aşağıdakilerden hangisi iletişimin öğelerinden değildir?**

- A) İşaret B) Gönderici
C) Alıcı D) İleti

4. **Aşağıdakilerden hangisi sunumda görsel malzeme kullanımının amaçlarından değildir?**

- A) Dinleyicinin verilen bilgiyi daha iyi algılamasını sağlamak
B) Bilginin ezberlenmesini kolaylaştırmak
C) Kavramları anlatırken zaman kazanmak
D) Fikirleri sağlamlaştırmak

5. I. Sunum yapılacak yerin fiziki ve teknolojik imkânlarını kontrol etmek
II. Dinleyicilerin soru sormasına imkân vermek
III. Ses tonu, jest ve mimiklere dikkat etmek
IV. Sunum hazırlarken farklı kaynaklardan yararlanmak

Numaralanmış özelliklerden hangileri sunumdan önce yapılması gerekenleri belirtmektedir?

- A) I ve II. B) I ve IV.
C) II ve III. D) III ve IV.

6. • Tartışma aynı zamanda zıtlama demektir.
• Tartışma sözlü anlatım türlerinden biridir.
• Tartışma yoluyla düşünce, gözlem, kanı ve inançların etkilenmesi amaçlanır.

Bu cümleler doğru-yanlış bakımından değerlendirildiğinde sıralama aşağıdakilerden hangisi olur?

- A) D – D – Y B) Y – Y – D
C) Y – D – D D) D – Y – Y

7. **Aşağıdakilerden hangisi tartışmaların sağlıklı bir şekilde yürütülmesi için yapılması gerekenlerden değildir?**

- A) Tartışılacak konu önceden belirlenmelidir.
B) Tartışmayı yönetecek bir başkan belirlenmelidir.
C) Taraflar birbirini sabır ve hoşgörüyle dinlemelidir.
D) Konuşmalar uzun ve sanatlı cümlelerle süslenmelidir.

8. **Panel, düzenleniş itibarıyla aşağıdakilerden hangisiyle benzerlik gösterir?**

- A) Açık oturum B) Münazara
C) Konferans D) Sempozyum

9. Bir şeyin hatırlanması için yazılan kısa yazılardır. Okunanı veya dinleneni olduğu gibi kâğıt üzerine aktarma değildir. Yararlı bulunan temel noktalar ayrılmalıdır.

Bu parçada hakkında kısaca bilgi verilen kavram aşağıdakilerden hangisidir?

- A) Not almak
B) Ezber yapmak
C) Sunum hazırlamak
D) Ön söz oluşturmak

10. Bugün de sonbahardan süzülüp doğdu akşam
Dağların yere indi koyu, serin gölgesi
Uludağ etekleri al ipekten bu akşam
Düştü yeşil ovaya kubbelerin gölgesi

Bu dördüğe hâkim olan tema aşağıdakilerden hangisidir?

- A) Yalnızlık B) Aşk
C) Doğa sevgisi D) Özlem

11. **Aşağıdaki konulardan hangisi diğerlerinden daha fazla sınırlandırılmıştır?**

- A) Dünya edebiyatında roman
B) Servetifunun edebiyatında roman
C) Türk edebiyatında roman
D) Halit Ziya Uşaklıgil'in romanı

12. Zehra sağ yandaki sırt çantasını kucığına aldı, ön gözünü karıştırdı. Bankın ucuna kayıp çantayı aralarına yerleştirdi. Oturduğu yerde parmak uçlarının üzerinde yükselmişti. İçinden teker teker diş fırçasını, macunu, rimeli, göz kalemini, cüzdanı, çorabını, tarağı, cep telefonunu çıkarıp eteğinde oluşan minik çukura koyduktan sonra çıkardı anahtarları.

Bu parçanın anlatım biçimi aşağıdakilerden hangisidir?

- A) Açıklama B) Öyküleme
C) Tartışma D) Betimleme

13. Sevimsiz formalara, bitmek bilmeyen ders saatlerine, çekilmez kurallarına rağmen okul yılları yaşamımızda hasretle andığımız bir dönemdir. Anılar, aradan geçen yıllardan süzülürdüğünde geriye yüzümüzde hoş bir gülümseme kalır. Dostluklar, arkadaşlara yapılan şakalar, ihlal edilen okul kuralları, öğretmenlere isyan, kırılan dersler...

Bu parçada asıl üzerinde durulan aşağıdakilerden hangisidir?

- A) Anıları yazıya dökmenin faydaları
B) Okul kurallarına uymanın önemi
C) Ders saatlerinin sıkıcılığı
D) Okul yıllarının unutulamayan güzellikleri

3. OTURUM

14. (I) Önce kemeçler durdu, sonra horon tepenler. (II) Güvertedeki askerler birbirlerine baktı. (III) Sessizlik, Teğmen Azmi Efendi'nin "Top başına!" emriyle sona erdi. (IV) Ne yapacağımızı bilemez bir hâlde, heyecanla top başlarına koştuk.

Bu parçada numaralanmış cümlelerden hangisi kanıtlanabilirlik bakımından diğerlerinden farklıdır?

- A) I. B) II. C) III. D) IV.

15. **Aşağıdaki cümlelerin hangisinde dolaylı anlatım kullanılmıştır?**

- A) Paris uzun yıllar moda ve kültürün başkentliğini yapmıştır.
B) Mehmet Akif, edebiyatın toplumsal fayda için yapılması gerektiğini belirtirdi.
C) Son yazısında, "Sanat sadece sanat için yapılır." demişti.
D) Buraya kadar gelmekle kendini affettiremezsin, diye sitem etti çocuk.

16. **Aşağıdakilerin hangisinde birinci kişili anlatım kullanılmıştır?**

- A) Bir gün, kentın ilk yerleşim alanının bulunduğu semtten geçerken görmüştü bu camiyi. Cami küçüktü. Ancak kırk elli kişiyi barındırabilirdi.
B) Adam bisiklet pedalını indirdi. Bisikletin gidonunda damalı bir pazar çantası, çantada üç ekme vardı.
C) Akşama doğru köy yolunun ağzından aldı beni payton. Paytoncu Mustafa Amca'nın bir şey demesine fırsat vermeden bir sıçrayışta çıkıp yanına oturdum.
D) Kulaklarına inanmadı çocuk. Kocaman açılmış gözlerle bakıyor, kımıldamıyordu. Gerçekten kendisi ile konuşan bir kar tanesi.

17. Öykülerin hepsi yazarın üslubu, ince ince işlenmiş güzel cümleleri ve sarkmayan iyi kurgusuyla insanda okuma isteğini kamçılıyor.

Bu cümlede söz konusu öykülerin hangi özelliği üzerinde durulmuştur?

- A) Akıcılık B) Duruluk
C) Özlülük D) Açıklık

18. **Aşağıdakilerden hangisi alışılmış bağdaştırmaya örnek olamaz?**

- A) Kızamık bakışlı çocuk
B) Sevda bulutunun yağmuru
C) Kalp diyarının hırsızı
D) Kış güneşinin ışığı

19. I. İnandırma, aydınlatma, kendi görüşünü kabul ettirme amaç edilir.
II. Dil daha çok sanatsal işlevde kullanılır.
III. Kelime ve kelime grupları daha çok mecaz anlamda kullanılır.
IV. Kavramları tanımlama ve açıklama önemlidir.

Numaralanmış özelliklerden hangileri kanıtlayıcı anlatım için söylenemez?

- A) I ve II. B) I ve IV.
C) II ve III. D) III ve IV.

20. Ülkemiz gelecek haftadan itibaren Sibiryâ üzerinden gelen çok soğuk ve kar yağışlı bir havanın etkisine girecek. Ülkemizin iç ve doğu kesimlerinde kar, sahil bölgelerinde şiddetli yağmur görülecek.

Bu parça aşağıdakilerden hangisine örnektir?

- A) Gelecekte söz eden anlatıma
B) Düşsel anlatıma
C) Öyküleyici anlatıma
D) Mizahi anlatıma

(405) DİL VE ANLATIM – 5

1. Hacivat - (Gelir) Aman, Karagöz, niçin bu kadar hiddet ediyorsun? Bendeniz mahzâ konuşmaya geldim. Karagöz - Masa tokuşmaya mı geldin? Hacivat - Canım öyle değil, biraz hasbihal etmeye geldim. Karagöz - Beni sana bakkal diye kim anlattı?

Bu parça aşağıdakilerden hangisine örnek olarak gösterilir?

- A) Gazete çevresinde gelişen öğretici metne
B) Coşku ve heyecana bağlı edebî metne
C) Göstermeye bağlı edebî metne
D) Kişisel hayatı anlatan öğretici metne

2. **Aşağıdakilerden hangisi coşku ve heyecanı dile getiren metinlerin özelliklerinden biri değildir?**

- A) Kelimeler daha çok yan ve mecaz anlamda kullanılır.
B) Bu metinlerde asıl amaç düşünürmek ve öğretmektir.
C) Duyguların ifade edilmesi önemlidir.
D) Dil, heyecana bağlı işlevde kullanılır.

3. I. Hikâye
II. Makale
III. Orta oyunu
IV. Biyografi

Numaralanmış edebî türlerden hangileri öğretici metindir?

- A) I ve III. B) I ve IV.
C) II ve III. D) II ve IV.

4. Oğlum,
Buralara bahar geldi. İlk güzden beri geleceğim diye gözümüzü yolda bıraktın. Güzden ayva, nar sakladım. Belki Kurban Bayramı'nda gelir diye; ayvalar narlar askıda oldu. Zehir olsun dilimize sürdüysek.

Bu parça aşağıdakilerden hangisine örnektir?

- A) İş mektubuna
B) Açık mektuba
C) Resmî mektuba
D) Özel mektuba

5. **Aşağıdakilerin hangisinde mektupla ilgili yanlış bir bilgi vardır?**

- A) Çizgisiz beyaz kâğıda elle yazılma zorunluluğu vardır.
B) Kâğıdın sağ üst köşesine yer ve tarih yazılır.
C) Karalama yapılmamalı ve yazım kurallarına uyulmalıdır.
D) Selam ve saygı sözlerine son bölümde yer verilmelidir.

6. Yaşamın her anı özeldir. Bu özel anları insan yazıya geçirerek ölüm-süzleştirebilir. Saatler hatta dakikalar bile yazılacak özel şeyler barındırır. Geleceğe güzel bir şeyler bırakmak isteyenler bu türle özel anlarını, günlerini kayıt altına alırlar.

Bu parçada yazarın bahsettiği edebî tür aşağıdakilerden hangisidir?

- A) Günlük B) Gezi yazısı
C) Biyografi D) Fıkra

7. 1958 yılıydı. Orta bir, yani ilköğretim sistemine göre altıncı sınıf öğrencisiydim. Beşinci sınıfta da birlikte okuduğum, şimdi 60 yaşında kocaman bir adam olan en yakın arkadaşım Erdoğan'la birlikte her sabah erkenden otobüse binip Mersin'den Tarsus'taki okulumuza giderdik. Üç dört tane eski püskü otobüs vardı Mersin-Tarsus arasında gidip gelen. 45 dakikayla bir saat arasında sürerdi yolculuğumuz.

Bu parça aşağıdaki türlerin hangisinden alınmıştır?

- A) Mektuptan B) Günlükten
C) Anıdan D) Biyografiden

3. OTURUM

8. • Bu tür yazılara eski edebiyatta tercümeihâl denirdi.
• Biyografinin ilk büyük yazarı Fransız sanatçı Baudlaire'dir.
• Şairlerin hayatları hakkında bilgi veren şura tezkireleri de bu türe örnektir.
"Biyografi" ile ilgili verilen bu cümleler doğru-yanlış olarak değerlendirildiğinde sıralama aşağıdakilerden hangisi olur?
- A) Y – Y – D B) D – D – Y
C) Y – D – D D) D – Y – D

9. İş başvurularında, başvuru yerlere bırakılan kişisel tanıtım formları (CV), - - - - ile benzerlik gösterir.
Bu cümlede boş bırakılan yere aşağıdakilerden hangisi getirilmelidir?

- A) günlük B) otobiyografi
C) anı D) mektup

10. Hasankeyf'e doğru ilerlerken Raman Dağları'nın, petrol kuyularının arasından geçtim ve dağlarda mağaralar görünmeye başladı. Sağımda o büyük, muhteşem, yemyeşil vadisiyle Dicle akıyor; solumuzda asırlar öncesinden günümüze kadar varlığını sürdürmüş mağaralar tebessüm ediyor. Hasankeyf, yaklaştıkça insanı kendine daha da çekiyor ve efsanevi bir güzelliğe bürünüyor.

Bu parça aşağıdakilerden hangisine örnektir?

- A) Gezi yazısına B) Günlüğe
C) Mektuba D) Fıkraya

11. I. Bir kimse ile konuşur gibi yazılır.
II. Anlatım ciddi ve bilimsel bir havayla oluşturulur.
III. Yazar, düşüncelerini ortaya koymada serbesttir.
IV. Oldukça sanatlı ve süslü bir dil kullanılır.

Numaralanmış özelliklerden hangileri "sohbet" türü için söylenemez?

- A) I ve II. B) I ve III.
C) II ve III. D) II ve IV.

12. Aşağıdakilerden hangisi haber yazılarının özelliği olamaz?

- A) İlgî çekici B) Yanıltıcı
C) Tarafsız D) Çarpıcı

13. Aşağıdaki türlerden hangisinin gelişimi gazeteyle başlamıştır?

- A) Gezi yazısı B) Fıkra
C) Günlük D) Mektup

14. Aşağıdakilerden hangisi denemenin edebiyatımızdaki en önemli temsilcilerinden biridir?

- A) Nurullah Ataç
B) Mehmet Akif Ersoy
C) Tevfik Fikret
D) Halide Edip Adıvar

15. Ana dilimiz Türkçe; yeryüzünün en eski ve en geniş coğrafya parçasında konuşulan gelişmiş, zengin bir kültür, bilim ve sanat dilidir. Türkçe en eski ve en köklü dillerdendir. Çünkü bugünkü dillerin çoğu ortada yokken hatta bugünkü bazı dillerin ataları sayılan diller bile ortada yokken Türkçe vardı.

Bu parça aşağıdaki türlerin hangisine örnektir?

- A) Otobiyografiye
B) Makaleye
C) Eleştiriye
D) Anıya

16. Bir düşünceyi, dönemi, sanatçıyı veya sanat eserini inceleyip olumlu ve olumsuz yönlerini değerlendirmek için yazılan yazılardır.

Bu cümlede tanımı yapılan tür aşağıdakilerden hangisidir?

- A) Fıkra B) Makale
C) Eleştiri D) Deneme

17. Aşağıdaki eserlerden hangisi sohbet türünde kaleme alınmıştır?

- A) Mor Salkımlı Ev
B) Geçmişin Kuşları
C) Eşref Saati
D) Çalikuşu

18. Televizyonun olmadığı yıllarda - - - -, insanları başka diyarlar ve kültürlerle tanıştıran insanların oralar hakkındaki meraklarını gideriyordu. İnsanlar bu eserleri okuyarak farklı coğrafyalar ve yaşamlar hakkında bilgi sahibi oluyordu.

Bu parçada boş bırakılan yere aşağıdakilerden hangisi getirilmelidir?

- A) mektuplar B) günlükler
C) biyografiler D) gezi yazıları

19. Edebiyat Fakültesinde on bir ay kadar süren inzibat memurluğu yaptım. İzmir'in geri alınması üzerine Muallim Mektebi edebiyat öğretmenliğine atandım. Bir yıl bitince İstanbul'a geldim; Kuleli Askerî Lisesi edebiyat, İstanbul Erkek Lisesi felsefe öğretmeniyim oldum.

Bu parça aşağıdaki türlerin hangisinden alınmıştır?

- A) Otobiyografiden
B) Biyografiden
C) Günlükten
D) Mektuptan

20. Aşağıdakilerden hangisi hem bir edebî tür hem de iletişim aracıdır?

- A) Günlük B) Biyografi
C) Gezi yazısı D) Mektup

(406) DİL VE ANLATIM – 6

1. Aşağıdakilerden hangisi sözlü anlatım türlerinden biri değildir?

- A) Deneme B) Röportaj
C) Mülakat D) Söylev

2. Üniversite öğrencisi Ayçin bitirme tezi için Topkapı Sarayı Müdürü'yle bir görüşme yapmayı planlamaktadır.

Ayçin'in gerçekleştireceği görüşmenin türü aşağıdakilerden hangisi olur?

- A) Fıkra B) Söylev
C) Mülakat D) Sohbet

3. Osmanlı'dan günümüze ayakkabının tarihî gelişimi ile ilgili 3 günlük bir yazı dizisi hazırlayan bir gazeteci bunu yayımladığında ortaya bir - - - - çıkmış olacaktır.

Bu cümlede boş bırakılan yere aşağıdakilerden hangisi getirilmelidir?

- A) mülakat B) röportaj
C) eleştiri D) gezi yazısı

4. Toplum peşinden sürükleyen lider karakterli insanların aşağıdaki türlerin hangisinde de başarılı olması beklenir?

- A) Mülakat B) Röportaj
C) Eleştiri D) Söylev

3. OTURUM

5. Aşağıdaki cümlelerin hangisinde "ki"nin yazımıyla ilgili bir yanlışlık yapılmıştır?

- A) Evvel ki akşam komşulara oturmaya gitmiştik.
B) Önceki soruyu tam anlayamadığını söylüyordu.
C) Hâlbuki hepimizin ona sonsuz güveni vardı.
D) Duyduk ki Ali Bey tayin isteyip Ankara'ya gidecekti.

6. Arkadaşlar!

Bazı adamlar vardır ki en durgun şekiller içinde inanılmaz bir mücadele kuvveti taşırlar; onları yürürken seyrediniz, ağır ağır giderler ve sessiz basarlar. Onların otururları, konuşmaları en yumuşak tavırlar içindedir. Hâlbuki karşınızdaki sessiz adam korkunç bir mücadele cihazıdır.

Bu parça aşağıdakilerin hangisine örnektir?

- A) Röportaja B) Mülakata
C) Söyleve D) Fıkraya

7. Parlatır: Bir de şunu öğrenmek isterim Cengiz Bey. Dünya edebiyatına bakışınız nasıl? Özellikle roman sanatı açısından...

Aytmatov: Şüphesiz, romancılık büyük bir seviyeye geldi. Roman dalında adı geçmeyen milletlerin klasikleri oluşmaya başladı artık.

Parlatır: Dünyadaki değişimlerin romana yansıdığını düşünüyor musunuz?
Aytmatov: Elbette, elbette.

Bu parça aşağıdaki türlerin hangisinden alınmıştır?

- A) Söylevden B) Mülakattan
C) Sohbetten D) Eleştiriden

8. Mustafa Kemal Atatürk'ün İzmir İktisat Kongresi'nde yaptığı konuşma aşağıdakilerden hangisine örnektir?

- A) Dinsel söyleve
B) Hukuksal söyleve
C) Askerî söyleve
D) Ekonomik söyleve

9. • Mümkün olduğunca ayrıntıya girilmelidir.
• Mülakat yapılacak kişiden randevu alınmalıdır.
• Alınan cevaplar gerektiğinde değiştirilip yazıya geçirilmelidir.

"Mülakat"la ilgili verilen bu cümleler doğru-yanlış olarak değerlendirildiğinde sıralama aşağıdakilerden hangisi olur?

- A) Y – Y – D B) D – D – Y
C) D – Y – Y D) Y – D – Y

10. Yaşar Kemal'in her yönüyle ele alınıp tanıtıldığı bir yazı dizisi aşağıdakilerden hangisine örnek olacaktır?

- A) Bir yeri konu alan röportaja
B) İnsanı konu alan röportaja
C) Eşyayı konu alan röportaja
D) Söyleve

11. Aşağıdaki atasözlerinin hangisinin sonuna üç nokta (...) getirilir?

- A) Kır atın yanında duran ya huyundan ya suyundan
B) Duvarı nem yıkar, insanı gam
C) Alma mazlumun ahını, çıkar aheste aheste
D) Sakla samanı, gelir zamanı

12. I. Söyleve konuyla alakasız bir hikâyeye başlayıp dikkati toplamalıdır.
II. Ele aldığı konuya bütün yönleriyle hâkim olmalıdır.
III. Konuşmayı sonuna kadar aynı ses tonuyla sürdürmelidir.
IV. Konuşmasını jest ve mimikleriyle desteklemelidir.

Numaralanmış özelliklerden hangilerini iyi bir söylevcinin yapması beklenmez?

- A) I ve III. B) I ve IV.
C) II ve III. D) II ve IV.

13. Aşağıdakilerden hangisi röportaj türünün önemli isimlerindedir?

- A) Oğuz Atay
B) Yaşar Kemal
C) Yahya Kemal Beyatlı
D) Orhan Veli Kanık

14. Aşağıdaki cümlelerin hangisinde bağlaç olan "de, da"nın bitişik yazılmasından kaynaklanan bir yazım yanlışlığı yapılmıştır?

- A) Kardeşim bizimle gelmedi, evde kaldı.
B) Şairin kelimelerinde bir büyü var sanki.
C) Buranın havasında bana hiç yaramıyor.
D) Kasada 20 kilo balık varmış.

15. Söylev türünün ilk örnekleri - - - - Dönemi'nde görülür.

Bu cümlede boş bırakılan yere aşağıdakilerden hangisi getirilmelidir?

- A) Eski Yunan ve Roma
B) Mısır Medeniyeti
C) Çin Medeniyeti
D) Sümer Medeniyeti

16. Aşağıdakilerden hangisi tanınmış mülakat yazarlarından biri değildir?

- A) Ruşen Eşref Ünaydın
B) Yavuz Bülent Bakiler
C) Hikmet Feridun Es
D) Sermat Sami Uysal

17. Söylevi gerçekleştiren kişiye ne ad verilir?

- A) Eleştirmen B) Yazar
C) Sanatçı D) Hatip

18. • Cumhuriyet Dönemi'nin en önemli söylevcilerinden biri Atatürk'tür.
• Nutuk ve söylev aynı anlamda kullanılan sözcüklerdir.
• Söylevde dil sanatsal işlevde kullanılır.

Bu cümleler doğru-yanlış olarak değerlendirildiğinde sıralama aşağıdakilerden hangisi olur?

- A) D – Y – Y B) Y – D – D
C) Y – Y – D D) D – D – Y

19. I. Kurum ve kuruluş kısaltmalarının arasında
II. Saat ile dakika arasında
III. Soru anlamı taşıyan cümlelerin sonunda
IV. Sayılardan sonra sıra bildirmek için

Yukarıda numaralanmış yerlerin hangilerinde nokta (.) kullanılmaz?

- A) I ve II. B) I ve III.
C) II ve IV. D) III ve IV.

20. Bir gazeteci Erzurum'u çeşitli yönleriyle araştırıp araştırmasını fotoğraf- larla da zenginleştirerek yazı dizisi hâlinde gazetede yayımlayacaktır.

Bu gazetecinin araştırmasında kullandığı tür aşağıdakilerden hangisi olur?

- A) Deneme B) Fıkra
C) Röportaj D) Eleştiri

(413) TÜRK EDEBİYATI – 3

1. Göktürk Kitabeleri'nin yazarı aşağıdakilerden hangisidir?

- A) Yollug Tigin
B) Kül Tigin
C) Kaşgarlı Mahmut
D) Aprunçur Tigin

2. Yirmisekiz Mehmet Çelebi gittiği Fransa'da sarayları, kaleleri, operayı, hayvanat ve botanik bahçelerini, ayna fabrikasını ve matbaayı inceler. Bir yıl sonra ülkesine dönen Mehmet Çelebi, izlenimlerini yazdığı eserini padişah ve sadrazama sunar.

Yirmisekiz Mehmet Çelebi'nin yazdığı eserin türü aşağıdakilerden hangisidir?

- A) Sefaretname B) Tezkire
C) Mesnevi D) Lügat

3. Edebiyat tarihi hem bilimdir hem de sanatla ilgilidir. Bilimdir çünkü edebiyat ve tarih belgelerini toplayıp değerlendiren onlardan özgün bir sentez meydana getirir. Sanatla ilgilidir çünkü - - - -

Bu parçanın son cümlesi düşünce akışına göre aşağıdakilerden hangisiyle tamamlanmalıdır?

- A) araştırmaya dayalıdır.
B) edebiyat metinleri üzerinde çalışır.
C) bilim ve sanat ayrılmaz bir bütündür.
D) yeni bilgilerin ortaya çıkmasını sağlar.

4. Aşağıdakilerden hangisi Türk edebiyatının dönemlere ayrılmasında kullanılan ölçütlerden biri değildir?

- A) Kültürel farklılaşma
B) Dil coğrafyası
C) Din anlayışı
D) Alfabe değişikliği

5. İslamiyet'ten önce çeşitli Türk boyalarında - - - - , - - - - , - - - - adı verilen şairler özellikle çeşitli törenlerde şiirler söylerdi.

Aşağıdakilerden hangisi bu cümlede boş bırakılan yerlere getirilemez?

- A) şaman B) bakı
C) kopuz D) kam

6. I. Tanzimat Edebiyatı
II. Millî Edebiyat
III. Fecriati Edebiyatı

Numaralanmış edebiyat dönemlerinin gerçekleşme sırası aşağıdakilerden hangisidir?

- A) I – II – III B) I – III – II
C) III – I – II D) III – II – I

7. İslamiyet'ten önce Türk şiirinde - - - - , - - - - , - - - - gibi konular ele alınmıştır.

Bu cümlede boş bırakılan yerlere aşağıdakilerden hangisi getirilemez?

- A) kahramanlık B) tabiat
C) savaş D) karamsarlık

8. Birçok sanat eserine esin kaynağı olan Gılgamış Destanı, - - - - 'nin Tanrılar ve İnsanlar adlı oyununun konusunu oluşturmuştur.

Bu cümlede boş bırakılan yere aşağıdakilerden hangisi getirilmelidir?

- A) Orhan Asena
B) Nevit Kodallı
C) Ağâh Sırrı
D) Yahya Kemal Beyatlı

9. Çağdaş Türk edebiyatının önde gelen adlarından Melih Cevdet Anday "Kolları Bağlı Odysseus"u yazarken çeşitli ozanlardan ve kitaplardan yararlanır. Homeros'un birtakım deyimlerini ve benzetmelerini severek kullandığının altını çizer.

Bu parçadan aşağıdakilerden hangisine ulaşılr?

- A) Kolları Bağlı Odysseus'un başarılı bir eser olduğuna
B) Melih Cevdet Anday'ın destan geleneğine bağlı olduğuna
C) Sanatçıların birbirlerinden etkilenibildiklerine
D) Yazmak için araştırma yapmak gerektiğine

10. Aşağıdaki eser - sanatçı eşleştirmelerinden hangisi yanlıştır?

- A) Çakır'ın Destanı – Fazıl Hüsnü Dağlarca
B) Kurtuluş Savaşı Destanı – Nazım Hikmet
C) Seyran Destanı – Gülten Akın
D) Bozkurtların Destanı – Cahit Külebi

11. Aşağıdakilerin hangisinde İslamiyet öncesi sözlü edebiyat ürünleri bir arada verilmiştir?

- A) koşma – sagu – gazel – sav
B) koşuk – destan – sav – sagu
C) sagu – mesnevi – koşuk – türkü
D) destan – ninni – masal – hikâye

12. Kar buz tümü eridi
Dağların suları akıştı
Mavi bulut yükseldi
Kayık gibi sallandı

Günümüz Türkçesiyle verilen bu koşuk, konusuna göre aşağıdaki şiir türlerinden hangisine örnektir?

- A) Pastoral B) Epik
C) Didaktik D) Satirik

13. Alp Er Tunga öldi mü
İssiz ajun kaldı mu
Ödlek öçin aldı mı
Emdi yürek yırtıldı

Bu dördlüğün ilk üç dizesinde soru sorma yoluna gidilmesinin asıl amacı aşağıdakilerden hangisidir?

- A) Bilmediğine cevap arama
B) Yeni kağanın kim olacağını merak etme
C) Şaşkınlık ve üzüntüyü dile getirme
D) Ölümün kaçınılmaz olduğunu belirtme

14. Aşağıdakilerin hangisi sav türünün özelliklerinden değildir?

- A) Anonim olması
B) Bilgi ve deneyimlerin yansıtılması
C) Özlü sözler olması
D) Tamamının gerçek anlamlı olması

15. Aşağıdakilerden hangisi "sav" kelimesinin Divanü Lügati't Türk'teki anlamlarından biri değildir?

- A) Kıssa B) Salık
C) Darb-ı mesel D) Tezkire

16. Aşağıdakilerden hangisi Göktürk destanlarından dandır?

- A) Yaratılış B) Bozkurt
C) Türeyiş D) Oğuz Kağan

17. Uyurlar zamanında oluşmuş destanda inanış, vatan anlayışı ve devlet idaresi yönünden ilgi çekici önemli çizgiler vardır. Destanda vatandan bir parça toprak vermeye kalkmanın zamanla bütün yurdu yok edebilecek bir başlangıç olabileceği vurgulanmaktadır.

Bu parçada sözü edilen destan aşağıdakilerden hangisidir?

- A) Manas B) Köroğlu
C) Göç D) Ergenekon

3. OTURUM

18. Aşağıdakilerden hangisi Türk destanlarında kullanılan motiflerden değildir?

- A) Işık B) Maden
C) Ağaç D) Ejderha

19. Türk destanlarından hayal ve masal öğeleri çıkarıldığında geriye, ait olduğu dönemin - - - - kalır.

Bu cümlede boş bırakılan yere aşağıdakilerden hangisi getirilmemiştir en uygundur?

- A) tarihi B) coğrafyası
C) ekonomisi D) bilimi

20. **Orhun Yazıtları ile ilgili olarak aşağıdakilerden hangisi söylenemez?**

- A) Türklerin ilk yazılı eseri olduğu
B) Göktürkler Dönemi'ne ait olduğu
C) Sözlü ürünlerin yazıya geçirildiği ilk eser olduğu
D) Türkçenin gelişimini takip etmek açısından önemli bir eser olduğu

(416) TÜRK EDEBİYATI – 6

1. Mehmet Emin Yurdakul'un şiirlerinde dil ve ölçüyle başlayan - - - - , Ziya Gökalp ve Ömer Seyfettin gibi yazarlarla geliştirilmiştir.

Bu cümlede boş bırakılan yere aşağıdakilerden hangisi getirilmelidir?

- A) Cumhuriyet Dönemi Türk Edebiyatı
B) Millî Edebiyat
C) Servetifünun
D) Fecriati

2. Güzel dil Türkçe bize,
Başka dil gece bize,
İstanbul konuşması
En saf, en ince bize

Bu dörtlüğün şekil ve içerik bakımından incelendiğinde aşağıdaki dönemlerin hangisinde yazıldığı söylenir?

- A) Divan edebiyatı
B) Fecriati edebiyatı
C) Servetifünun edebiyatı
D) Millî Edebiyat

3. "Edebiyatıcedide" olarak da bilinen edebî dönem aşağıdakilerden hangisidir?

- A) Servetifünun edebiyatı
B) Divan edebiyatı
C) Fecriati edebiyatı
D) Millî Edebiyat

4. Aşağıdaki sanatçılardan hangisi fikirleriyle Servetifünun edebiyatının oluşmasını sağlamıştır?

- A) Namık Kemal
B) İbrahim Şinasi
C) Recaizade Mahmut Ekrem
D) Muallim Naci

5. Destinde ey semâ-yı şitâ tûde tûdedir
Berg-i semen, cenâh-ı kebûter,
sehâb-ı ter
Dök ey semâ-revân-ı tabiat
gunûdedir
Hâk-i siyâhın üstüne sâfi şükûfeler

Bu dizeler için aşağıdakilerin hangisi söylenemez?

- A) Servetifünun Dönemi zihniyetini yansıtmaktadır.
B) Kafiye ve redife yer verilmiştir.
C) Oldukça sanatlı ve ağır bir dil kullanılmıştır.
D) Toplumsal fayda amacı güdülmektedir.

6. • Servet-i Fünun dergisi "Şiirimiz" adlı makalenin yayımlanmasıyla kapatılmıştır.

• Edebiyatımızdaki ilk bildiri Millî Edebiyat Dönemi'nde yayımlanmıştır.

• Fecriati sanatçıları "Sanat, şahsi ve muhteremdir." anlayışını savunmuştur.

Bu cümleler doğru-yanlış bakımından değerlendirildiğinde sıralama aşağıdakilerden hangisi olur?

- A) Y – D – Y B) Y – Y – D
C) D – D – Y D) D – Y – Y

7. "Adalar, Kamer ve Zühre şairi" olarak şöhret kazandı. Şiirlerinde Ahmet Haşim etkisi görülür. Az da olsa Âti ve Servet-i Fünun dergilerinde tiyatro eleştirileri de yazmıştır.

Bu parçada hakkında bilgi verilen sanatçı aşağıdakilerden hangisidir?

- A) Tahsin Nahit
B) Şahabettin Süleyman
C) Mehmet Rauf
D) Faik Ali

8. Edebiyatımızda mensur şiirin ilk başarılı örneklerini - - - - vermiştir.

Bu cümlede boş bırakılan yere aşağıdakilerin hangisi getirilmelidir?

- A) Yakup Kadri Karaosmanoğlu
B) İbrahim Şinasi
C) Recaizade Mahmut Ekrem
D) Halit Ziya Uşaklıgil

9. Aşağıdaki romanlardan hangisi Yakup Kadri Karaosmanoğlu'na ait değildir?

- A) Nur Baba
B) Sinekli Bakkal
C) Kıralk Konak
D) Sodom ve Gomore

10. I. Tüm şiirlerini "Eğil Dağlar" adlı eserinde toplamıştır.
II. "Toplum için sanat" anlayışını benimsemiştir.
III. Manzum hikâyelerinde insanların yaşamını gerçekçi bir şekilde anlatmıştır.
IV. Romanlarıyla Tanzimat'tan Cumhuriyet'e kadar olan dönemi işlemiştir.

Numaralanmış cümlelerin hangilerinde "Mehmet Akif Ersoy" ile ilgili bilgi yanlıştır?

- A) I ve II. B) I ve IV.
C) II ve III. D) III ve IV.

11. 19. yüzyılın ikinci yarısında romantizm tepki olarak doğmuştur. Deneysel bilimlerin gelişmesiyle ortaya çıkan bu akım insanın bütün oluş çizgilerini nedenleriyle görmek, göstermek isteyen; olanı olduğu gibi anlatmayı amaçlayan bir akımdır.

Bu parçada hakkında bilgi verilen edebî akım aşağıdakilerden hangisidir?

- A) Klasisizm B) Natüralizm
C) Realizm D) Sembolizm

12. Aşağıdakilerden hangisi Millî Edebiyat Dönemi'nde Türkçülük akımına hizmet eden dergilerden biri değildir?

- A) Türk Derneği
B) Türk Yurdu
C) Genç Kalemler
D) Aydede

13. Aşağıdaki sanatçılardan hangisi edebiyat tarihi alanındaki çalışmalarlarıyla tanınmıştır?

- A) Ahmet Haşim
B) Fuat Köprülü
C) Ömer Seyfettin
D) Mehmet Akif Ersoy

3. OTURUM

14. I. Türkçülük akımını düzenleyip bir sisteme bağladı.
II. Ulusal ölçümümüzün aruz olduğunu savundu.
III. Şiirlerinde sanat ve estetiği ön plana çıkardı.
IV. Konuşma ve yazı dilinin bir olması gerektiğini söyledi.

Numaralanmış özelliklerden hangileri Ziya Gökalp için söylenemez?

- A) I ve II. B) I ve IV.
C) II ve III. D) III ve IV.

15. Aşağıdakilerden hangisi Millî Edebiyat Dönemi genel özelliklerinden **değildir**?

- A) Aruz ölçüsü kullanılmıştır.
B) Halkın sorunları dile getirilmiştir.
C) Dilde sadeleşme esas alınmıştır.
D) Halk edebiyatı nazım biçimleri tercih edilmiştir.

16. Aşağıdaki sanatçı - eser eşleştirmelerinden hangisi **yanlıştır**?

- A) Halide Edip Adıvar – Dudaktan Kalbe
B) Reşat Nuri Güntekin – Çalıkuşu
C) Yahya Kemal Beyatlı – Aziz İstanbul
D) Faruk Nafiz Çamlıbel – Şarkın Sultanları

17. Öz şiir anlayışının Türk edebiyatındaki en önemli temsilcileri - - - - ve - - - -.

Bu cümlede boş bırakılan yerlere aşağıdakilerden hangileri getirilmelidir?

- A) Ziya Gökalp – Nazım Hikmet'tir
B) Ahmet Haşim – Yahya Kemal Beyatlı'dır
C) Mehmet Akif Ersoy – Mehmet Emin Yurdakul'dur
D) Cenap Şahabettin – Tevfik Fikret'tir

18. • Dönemin siyasal baskısı nedeniyle tiyatro türü pek gelişmemiştir.
• Divan edebiyatı nazım biçimleri bırakılıp Fransız edebiyatından alınan sone, terza rima gibi nazım biçimleri kullanılmıştır.
• "Kulağa göre kafiye" anlayışı benimsenmiştir.

Bu özellikler aşağıdaki edebî dönemlerin hangisine aittir?

- A) Millî Edebiyat
B) Cumhuriyet Dönemi Türk Edebiyatı
C) Tanzimat Edebiyatı
D) Servetifünun Edebiyatı

19. Süreyya Bey'le Suad Hanım beş yıldan beri evlidir. Bakırköy'deki evlerinde sakin bir yaşam sürerler. Ancak Süreyya her yaz "bu taş ocakları" diye nitelendirdiği evden sıkılır. Suad da kocası Süreyya'nın mutlu olması için Boğaziçi'nde küçük bir ev kiralar ve buraya taşınırlar. Her ikisi de çok mutludur. Süreyya'nın yakın arkadaşı Necip de sık sık gelip yanlarında kalmaktadır.

Bu parçada kısa özeti verilen roman aşağıdakilerden hangisidir?

- A) Kiralık Konak
B) Aşk-ı Memnu
C) Eylül
D) Mai ve Siyah

20. Aşağıdakilerden hangisi nazım nesre yaklaştırılmasında başarılı olmuş sanatçılardan biridir?

- A) Yahya Kemal Beyatlı
B) Necip Fazıl Kısakürek
C) Mehmet Emin Yurdakul
D) Tevfik Fikret

(426) FİZİK – 6

1. Şekildeki gibi sabit tutulan M ve N noktasal yükler arası uzaklık 1 m'dir.

$$q_M = 1.10^{-6}C \quad q_N = 1.10^{-3}C$$

Buna göre yükler arasındaki elektriksel kuvvet kaç N'dur?

$$(k = 9.10^9 \text{ Nm}^2 / \text{C}^2)$$

- A) 3 B) 4 C) 9 D) 12

2. Elektrik alan çizgileri ile ilgili;

- I. Çizgiler pozitif yükten dışa doğru-
dur.
II. Çizgiler negatif yükün merkezine
doğrudur.
III. Elektrik alan çizgileri hiçbir zaman
birbirlerini kesmez.

yargılarından hangileri doğrudur?

- A) I ve II. B) II ve III.
C) I ve III. D) I, II ve III.

3. Aralarında belirli bir uzaklık olan iki noktasal yükün birbirlerine uyguladığı elektriksel kuvvet ile ilgili;

- I. Yük miktarlarının çarpımı ile doğru orantılıdır.
II. Aralarındaki uzaklık ile doğru orantılıdır.
III. Ortamın elektrik geçirgenliği ile ters orantılıdır.

yargılarından hangileri doğrudur?

- A) Yalnız I B) II ve III.
C) I ve II. D) I, II ve III.

4. $q_K = 4.10^{-6}$ $q_L = -2.10^{-6}$

Noktasal K ve L yüklerinin O noktasında oluşturdukları bileşke elektrik alan şiddeti kaç N / C dur?

$$(k = 9.10^9 \text{ Nm}^2 / \text{C}^2)$$

- A) 3.10^3 B) 7.10^3
C) 11.10^3 D) 14.10^3

5. +1C'luk deneme yükünü sonsuzdan elektrik alan içerisindeki bir noktaya getirmek için elektriksel kuvvetlere karşı yapılan iş, aşağıdakilerden hangisi ile tanımlanır?

- A) Mekanik enerji
B) Elektriksel potansiyel
C) Manyetizma
D) Şığa

6. $q = 15.10^{-6}$ $0,5 \text{ m}$

Yükü 15.10^{-6} C olan kürenin 0.5 m uzaklığındaki A noktasının potansiyeli kaç volt'tur?

$$(k = 9.10^9 \text{ Nm}^2 / \text{C}^2)$$

- A) 14.10^4 B) 27.10^4
C) 45.10^4 D) 52.10^4

7. Yükü 2.10^{-4} C olan şekildeki küre, potansiyeli 120 V olan K noktasından 220 V olan L noktasına getirilmek isteniyor.

$$K \quad q = 2.10^{-4}C \quad L$$

$$V_K = 120 \text{ V} \quad V_L = 220 \text{ V}$$

Buna göre yapılan iş kaç joule'dür?

- A) 2.10^{-2} B) 4.10^{-2}
C) 6.10^{-2} D) 8.10^{-2}

3. OTURUM

8. Sığaçlar:

- I. Silindirik
- II. Küresel
- III. Düzlem

geometrik yapılarından hangileri ile ifade edilir?

- A) Yalnız I
- B) II ve III.
- C) I ve II.
- D) I, II ve III.

9. Sığaçlar, aralarında bir yalıtkan bulunan karşılıklı iki iletken levhadan oluşur.

Buna göre levhalar arası yalıtkan koymanın amacı:

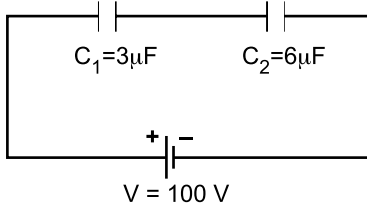
- I. Sığacın sığasını arttırmak
 - II. Sığacın en büyük çalışma gerilimini arttırmak
 - III. Levhalar arası destek sağlamaktır.
- ifadelerinden hangileri doğrudur?

- A) Yalnız I
- B) II ve III.
- C) I ve III.
- D) I, II ve III.

10. Sığaları $4 \mu\text{F}$, $6 \mu\text{F}$, $12 \mu\text{F}$ olan üç sığaç seri bağlandığında eş değer sığa kaç μF olur?

- A) 1
- B) 2
- C) 4
- D) 22

11.



Sığaları verilen şekildeki sığaçlardan C_1 sığasının potansiyel farkı kaç volt'tur?

($1 \mu\text{F} = 10^{-6}\text{F}$)

- A) $\frac{100}{3}$
- B) $\frac{200}{3}$
- C) $\frac{400}{3}$
- D) $\frac{500}{3}$

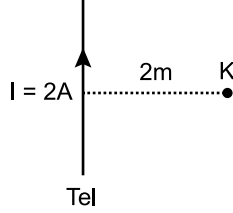
12. Günlük yaşamımızda kullanılan bazı aletler aşağıda verilmiştir.

- I. Bilgisayar
- II. Televizyon
- III. Cep telefonu

Bu aletlerden hangilerinde kondansatör vardır?

- A) Yalnız I
- B) II ve III.
- C) I ve II.
- D) I, II ve III.

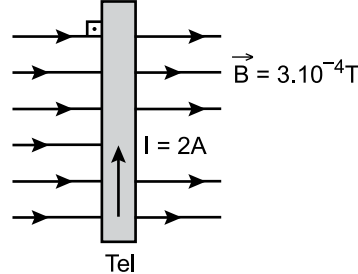
13. Şekildeki tel parçasının üzerinden 2 A büyüklüğünde akım geçmektedir.



Buna göre 2 m uzaklıktaki K noktasında oluşan manyetik alan şiddeti kaç Wb / m^2 dir? ($K = 10^{-7} \text{ N} / \text{A}^2$)

- A) $2 \cdot 10^{-7}$
- B) $3 \cdot 10^{-7}$
- C) $5 \cdot 10^{-7}$
- D) $7 \cdot 10^{-7}$

14. Üzerinden 2 A akım geçen 5 cm uzunluğundaki tel $3 \cdot 10^{-4}$ Tesla şiddetindeki manyetik alanın içine şekildeki gibi dik yerleştiriliyor.



Buna göre manyetik alan içindeki tele etki eden kuvvet kaç N'dur?

- A) 10^{-5}
- B) $2 \cdot 10^{-5}$
- C) $3 \cdot 10^{-5}$
- D) $6 \cdot 10^{-5}$

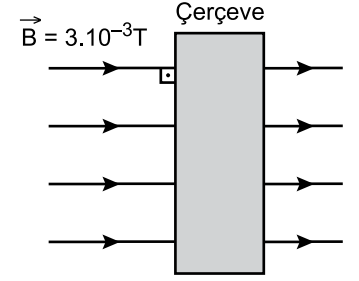
15. Manyetik alana (B) dik olarak θ hızıyla giren q yüküne etki eden kuvvet (F) aşağıdaki hangi bağıntıya eşittir?

- A) $F = \frac{q \cdot \dot{\theta}}{B}$
- B) $F = q \cdot \dot{\theta} \cdot B$
- C) $F = \frac{1}{2} \cdot \frac{q \dot{\theta}}{B}$
- D) $F = 2q \cdot \dot{\theta} \cdot B$

16. Mekanik enerjiyi elektrik enerjisine dönüştüren araç aşağıdakilerden hangisidir?

- A) Elektrik motoru
- B) Termometre
- C) Dinamo
- D) Mıknatıs

17. Manyetik alan şiddeti $3 \cdot 10^{-3} \text{ T}$ olan düzgün bir manyetik alan içine, yüzey alanı $4 \cdot 10^{-2} \text{ m}^2$ olan çerçeve şekildeki gibi manyetik alan çizgilerine dik olacak şekilde konulmuştur.



Buna göre çerçevede meydana gelen manyetik akı kaç Wb olur?

- A) $12 \cdot 10^{-5}$
- B) $18 \cdot 10^{-5}$
- C) $24 \cdot 10^{-5}$
- D) $28 \cdot 10^{-5}$

18. Günlük yaşamımızda kullandığımız bazı ev aletleri aşağıda verilmiştir.

- I. Ütü
- II. Elektrikli su ısıtıcıları
- III. Çamaşır makinesi

Bunlardan hangileri alternatif akımla çalışır?

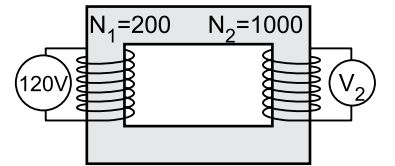
- A) I ve II.
- B) II ve III.
- C) I ve III.
- D) I, II ve III.

19. I. Cep telefonu şarj cihazında II. Şarjlı süpürgelerde III. Dinamometrelerde

Yukarıdakilerin hangilerinde düşürücü tip transformatörler kullanılır?

- A) I ve II.
- B) II ve III.
- C) I ve III.
- D) I, II ve III.

20. Sarımları üzerinde yazılı ideal transformatörler şekildeki gibidir.



Transformatörlerden birincil sarımlara 120 V potansiyel fark uygulandığına göre ikincil sarımlardan elde edilen potansiyel fark kaç V'tur?

- A) 120
- B) 300
- C) 600
- D) 800

3. OTURUM

(427) FİZİK – 7

1. Katı bir cismin sabit süratle bir eksen etrafında çembersel yörüngede yaptığı dönme hareketine düzgün çembersel hareket denir.

Buna göre;

- I. Bilgisayarda bulunan CD sürücülerinin hareketi
- II. Düzgün doğrusal hareket yapan YHT trenin hareketi
- III. Çamaşır makinesinin kazanının hareketi

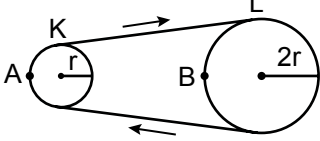
verilenlerden hangileri düzgün çembersel harekete örnek olabilir?

- A) Yalnız I B) I ve III.
C) II ve III. D) I, II ve III.

2. Dakikada 1200 devir yapan vantilatör pervanesinin frekansı ve periyodu aşağıdakilerden hangisidir?

	Frekans (s^{-1})	Periyot (s)
A)	1200	1/1200
B)	60	1/60
C)	20	1/20
D)	2	1/2

3. r ve $2r$ yarıçaplı K ve L kasnakları şekildeki gibi ok yönünde düzgün çembersel hareket yapıyor.



Buna göre;

- I. A ve B noktalarının açısal hız büyüklükleri eşittir.
- II. A ve B noktalarının çizgisel hız büyüklükleri eşittir.
- III. A ve B noktalarının frekans büyüklükleri eşittir.

yargılarından hangileri doğrudur?

- A) Yalnız I B) Yalnız II
C) I ve II. D) I, II ve III.

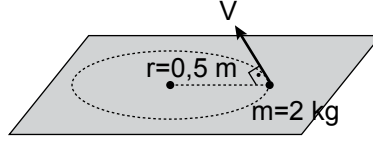
4. Eylemsizlik momenti ile ilgili:

- I. Cismin dönme hareketindeki değişikliğe gösterdiği direncin ölçüsüdür.
- II. Parçacıkların kütlesine ve parçacığın dönme eksenine uzaklığına bağlıdır.
- III. Birimi $kg \cdot m^2$ dir.

yargılardan hangileri doğrudur?

- A) Yalnız I B) II ve III.
C) I ve III. D) I, II ve III.

5. Kütlesi 2 kg olan bir cisim sürtünmesiz yatay düzlemde 2 rad/s 'lik açısal hızla düzgün dairesel hareket yapmaktadır.



Yatay Düzlem

Buna göre cisme uygulanan merkezci kuvvet kaç newton'dur?

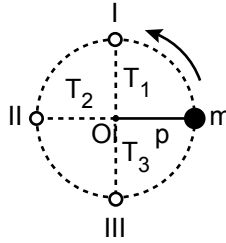
- A) 4 B) 3 C) 2 D) 1

6. Sürtünmesiz yatay düzlemde yarıçapı 0,5 m olan çember etrafında sabit süratle bir cisim dönmektedir.

Cisim saniyede 5 tur attığına göre cismin merkezci ivmesi kaç m/s^2 dir? ($\pi = 3$ alınacak)

- A) 450 B) 900
C) 1800 D) 3600

7. Sürtünmesiz düşey düzlemde m kütleli bir cisim ipe bağlı olarak sabit süratle O merkezli çembersel yörüngede dönüyor.



Buna göre;

Cisim I., II. ve III. konumlardan geçerken ipteki gerilmeler sırasıyla T_1 , T_2 ve T_3 olduğuna göre aralarındaki ilişki nasıldır?

- A) $T_1 = T_2 = T_3$ B) $T_3 > T_2 > T_1$
C) $T_2 > T_3 > T_1$ D) $T_1 > T_2 > T_3$

8. Bir gezegenin (g) çekim ivmesini bulmak için;

- I. (G) Genel çekim sabiti
 - II. (M) Gezegenin kütlesi
 - III. (r) Gezegenin yarıçapı
- fiziksel büyüklüklerden hangilerinin bilinmesi gereklidir?**

- A) Yalnız I B) Yalnız II
C) I ve II. D) I, II ve III.

9. Johannes Kepler (Yohannes Kepler) gezegenlerin hareketini;

- I. Yörüngeler Kanunu
- II. Alanlar Kanunu
- III. Periyotlar Kanunu

verilen kanunlardan hangileri ile açıklamıştır?

- A) Yalnız I B) I ve II.
C) II ve III. D) I, II ve III.

10. Basit harmonik hareket ile ilgili;

- I. Bir denge noktasına göre periyodik olarak yapılan gidip gelme hareketine titreşim hareketi denir.
- II. Cismin, denge noktasından uzaklaştığı en büyük mesafeye genlik denir.
- III. Cismin, herhangi bir andaki denge noktasına olan uzaklığına periyot denir.

yukarıda verilen tanımlardan hangileri doğrudur?

- A) Yalnız I B) I ve II.
C) II ve III. D) I, II ve III.

11. Ağırlığı önemsenmeyen 200 gramlık bir cisim 0,4 m uzunluğundaki ipin ucuna bağlanarak basit sarkaç yapılıyor. Cisim denge konumunda bir miktar çekilip bırakıldığında basit harmonik hareket yapıyor.

Buna göre cismin periyodu kaç saniye olur?

($\pi = 3$ ve $g = 10 \text{ m/s}^2$ alınacak ve sürtünmeler önemsenmeyecektir.)

- A) 1,2 B) 1 C) 0,6 D) 0,5

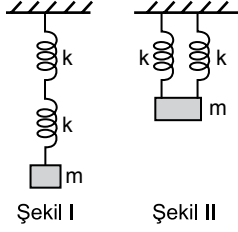
12. Kütlesi 2 kilogram olan bir cisim yay sabiti 200 N/m olan yayın ucuna bağlanıyor. Yay bir miktar çekilip bırakıldığında yay bağlı cisim basit harmonik hareket yapıyor.

Buna göre cismin periyodu kaç saniyedir? ($\pi = 3$ alınacak ve sürtünmeler önemsenmeyecektir.)

- A) 0,2 B) 0,3 C) 0,6 D) 1

3. OTURUM

13. Şekil I deki gibi özdeş yaylarla kurulan seri yay düzeneği, Şekil II deki gibi paralel bağlanarak her iki şekilde de basit harmonik hareket yaptırılıyor.



Şekil I

Şekil II

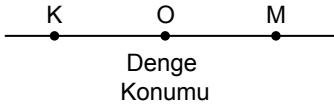
Buna göre;

- Paralel yaylardaki eş değer (k_{es}) yay sabiti seriye göre daha büyüktür.
- Paralel yaylardaki sistemin periyodu (T) seriye göre daha küçüktür.
- Seri yaylardaki sistemin frekansı (f) paralele göre daha büyüktür.

yargılarından hangileri doğrudur?

- A) Yalnız I B) Yalnız II
C) I ve II. D) I, II ve III.

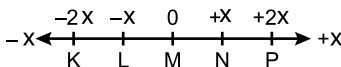
14. Şekildeki gibi K ve M noktaları arasında basit harmonik hareket yapan bir cismin periyodu 10 saniyedir.



Buna göre; K noktasından harekete başlayan cisim 25. saniyede hangi nokta bulunur?

- A) M noktasında
B) O noktasında
C) K noktasında
D) OM arasındaki bir noktada

15. Şekilde +2x ile -2x noktaları arasında basit harmonik hareket eden bir cisim için denge noktası O noktasıdır.



Buna göre basit harmonik hareket yapan cisim için;

- K ve P noktalarında ivme maksimumdur.
- M noktasından geçerken hızın büyüklüğü en fazladır.
- K ve P noktalarında hızın büyüklüğü sıfırdır.

yargılarından hangileri doğrudur?

- A) Yalnız I B) Yalnız II
C) I ve II. D) I, II ve III.

16. Düzgün çembersel hareket yapan bir cismin çap üzerindeki iz düşümüne basit harmonik hareket denir.

Buna göre;

- Maksimum hız $V = \frac{2\pi r}{T}$ bağıntısı ile hesaplanır.
- Denge konumundan x kadar uzaklıktaki bir ara noktanın hızı $V = \omega\sqrt{r^2 - x^2}$ bağıntısı ile hesaplanır.
- Geri çağırıcı kuvvet $F = m \frac{V^2}{r}$ bağıntısı ile hesaplanır.

basit harmonik hareket için verilen bağıntılardan hangileri doğrudur?

- A) Yalnız I B) I ve II.
C) II ve III. D) I, II ve III.

17. Su dalgaları doğrusal ve dairesel olarak ikiye ayrılır.

Buna göre;

- Doğrusal su dalgalarının dalga boyu mertebesindeki bir yarıktan geçerken çemberselleşmesine kırınım denir.
- İki veya daha fazla dalğanın üst üste binerek yeni bir dalga şeklinde sonuç vermesine girişim denir.
- Girişim deseni üzerindeki noktaların kaynaklara olan uzaklık farkına dalga katları denir.

su dalgalarının hareketi ile ilgili verilen tanımlardan hangileri doğrudur?

- A) Yalnız I B) I ve II.
C) II ve III. D) I, II ve III.

18. Işığın çeşitli fiziksel olaylardaki davranışı aşağıdaki tabloda verilmiştir.

	Fiziksel olay	Işığın davranışı
I.	Girişim	Dalga
II.	Kırınım	Dalga
III.	Fotoelektrik	Tanecik

Bu eşleştirmelerden hangileri doğrudur?

- A) Yalnız I B) Yalnız II
C) I ve II. D) I, II ve III.

19. Işık ile yapılan tek yarıktaki kırınım deneyine göre;

- Tek renkli ışıkla yapıldığında aydınlık ve karanlık saçak oluşur.
- Kırınım olayı Huygens ilkesi ile açıklanır.
- Tek yarıktaki girişim deseninde merkezi aydınlık saçak, karanlık saçaktan daha küçüktür.

yargılarından hangileri doğrudur?

- A) Yalnız I B) Yalnız II
C) I ve II. D) I, II ve III.

20. Işık ile yapılan çift yarıktaki girişim deneyine göre,

- Kaynakların uyumlu (koharent) olması gerekir.
- Kaynakların tek renkli ışığa sahip olması gerekir.
- Kaynakların farklı bir dalga boyuna sahip olması gerekir.

girişim deseni oluşması için yukarıdaki şartlardan hangileri olmalıdır?

- A) Yalnız I B) Yalnız II
C) I ve II. D) I, II ve III.

(428) FİZİK – 8

1. Atom ile ilgili bazı teoriler aşağıda verilmiştir.

- Democritus bütün maddelerin aynı taneciklerden meydana geldiğini
- Aristo bütün maddeler hava, su, toprak ve ateş gibi elementlerin birleşiminden meydana geldiğini
- John Dalton bir element, kimyasal bakımdan birbirinin aynı olan atomlar içerdiğini

Bu teorilerden hangileri atomun tarihsel gelişim sürecinde yer almıştır?

- A) Yalnız I B) Yalnız II
C) I ve II. D) I, II ve III.

2. Dalton atom modelinin ortaya koyduğu varsayımlara göre;

- Element, atom adı verilen küçük bölünemeyen taneciklerden oluşmuştur.
- Bir elementin tüm atomlarının kütlesi ve diğer özellikleri aynıdır.
- Bir element ile diğer bir elementin tüm atomlarının özellikleri aynıdır.

verilen ifadelerden hangileri doğrudur?

- A) Yalnız I B) Yalnız II
C) I ve II. D) I, II ve III.

3. Modern Atom fiziğine göre;

- Bir kuark ile anti kuarkın birleşimi ile baryonlar oluşur.
- Atomlar, elektron, foton, ısı ve çarpışma ile uyarılır.
- Bozonlar ve mezonlar fermiyonları oluşturur.

verilen ifadelerden hangileri doğrudur?

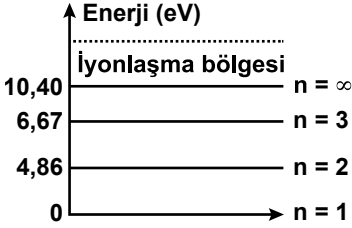
- A) Yalnız I B) Yalnız II
C) I ve II. D) I, II ve III.

3. OTURUM

4. Evrenin % 90'lık kısmını kaplayan, bilinen hiçbir fiziksel tanıma uymayan ve tamamen görünmez olan bu maddeye ne ad verilir?

A) Saydam madde
B) Karanlık madde
C) Birleşik madde
D) Manyetik madde

5. Civa atomunun enerji seviyeleri (n) şekildeki gibidir.



Temel halde bulunan civa atomu 7eV enerjili elektronlarla bombardıman edilirse elektron

I. 0,33 eV
II. 2,14 eV
III. 7,00 eV

enerjilerden hangileri ile yoluna devam eder?

A) Yalnız I B) Yalnız II
C) I ve II. D) I, II ve III.

6. Modern fizikte parçacıklar arasındaki etkileşimler genelde alan parçacığı veya değiş tokuş parçacığı denilen büyüküklerin etkileşimi ile ifade edilir.

Buna göre;

I. Kütle çekim kuvveti → Graviton
II. Elektromanyetik kuvvet → Foton
III. Güçlü kuvvet → Bozon

verilen temel kuvvetler ile bu kuvvetlere aracılık eden parçacıklar arasındaki eşleştirme aşağıdaki gibi hangilerinde doğru verilmiştir?

A) Yalnız I B) Yalnız II
C) I ve II. D) I, II ve III.

7. Civa atomunun enerji seviyeleri aşağıda verilmiştir.

n = 1 için 0 (eV)
n = 2 için 4,86 (eV)
n = 3 için 6,67 (eV)
n = 4 için 8,84 (eV)
n = ∞ için 10,40 (eV)

Buna göre; temel halde bulunan civa atomu aşağıda verilen enerjili fotonlardan hangisi ile uyarılabilir?

A) 4,86 eV B) 6,86 eV
C) 8,82 eV D) 10,00 eV

8. Nötron bombardımanı ile kararlı hale gelen büyük kütleli atom çekirdekleri, parçalanarak daha küçük atom çekirdeklerine dönüşmesi olayına ne ad verilir?

A) Filyon B) Füzyon
C) Big Bang D) X - ışını

9. Compton olayında foton ve elektron esnek olarak çarpışır.

Buna göre;

I. Gelen fotonun enerjisi, çarpışmadan sonra saçılan foton ve elektronun enerjileri toplamına eşittir.
II. Gelen fotonun momentumu, çarpışmadan sonra saçılan fotonun ve elektronun momentumlarının vektörel toplamına eşittir.
III. Gelen fotonun hızı ile, çarpışmadan sonra saçılan fotonun hızı birbirine eşit değildir.

yargılarından hangileri doğrudur?

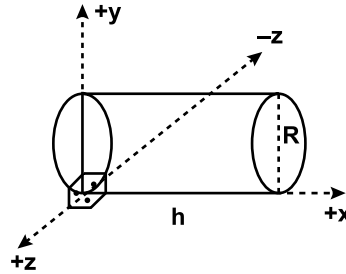
A) Yalnız I B) Yalnız II
C) I ve II. D) I, II ve III.

10. Newton mekaniği, atom ve atom altı parçacıkların davranışlarını açıklamakta yetersiz kalınca yeni bir fizik dalı ortaya çıkmıştır.

Bu fizik dalına ne ad verilir?

A) Kuantum fiziği
B) Katı hâl fiziği
C) Nükleer fizik
D) Klasik fizik

11. Şekildeki gibi silindirik olan uzay aracı +x eksenini boyunca ışık hızına yakın hızda hareket ettiği varsayılıyor.



Buna göre uzay aracı içindeki gözlemcinin ölçtüğü aşağıdaki niceliklerden hangisi değişmez?

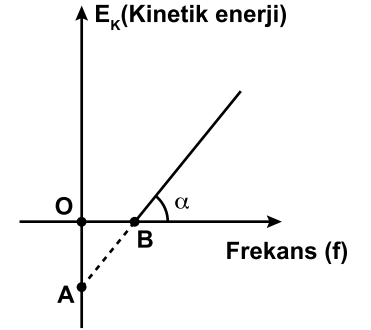
A) Kütle (m) B) Yükseklik (h)
C) Çapı (R) D) Zaman (t)

12. Bir fotoselde katot metalinde elektronun bağlanma enerjisi 3,5 eV'tur.

Katot metaline düşürülen ışığın fotonun enerjisi 6 eV olduğuna göre kopan elektronların kinetik enerjisi kaç eV'tur?

A) 1,5 B) 2,5 C) 3,5 D) 6

13. Bir fotoelektrik olayda, gelen fotonun frekansı ile fotoelektronların maksimum kinetik enerji grafiği şekildeki gibidir.



Buna göre;

I. A noktası elektronun metale bağlanma enerjisi (E_b) verir.
II. B noktası elektronun metale bağlanma eşik frekansını (f_0) verir.
III. $\tan \alpha$, grafiğin eğimi Plank sabitini (h) verir.

yargılarından hangileri doğrudur?

A) Yalnız I B) Yalnız II
C) I ve II. D) I, II ve III.

14. Louis de Broglie fotonlar hem de parçacık özelliklerine sahip oldukları için, maddenin her türlü şeklinin her iki özelliğe de sahip olduğunu ortaya koydu.

Buna göre;

I. Fotonun enerjisi $E = hc / \lambda$ bağıntısı ile bulunur.
II. Fotonun momentumu $P = h / \lambda$ bağıntısı ile bulunur.
III. Maddesel ortamda hareket eden parçacığın dalga boyu $\lambda = h / m$ bağıntısı ile bulunur.

verilen bağıntılardan hangileri doğrudur?

A) Yalnız I B) Yalnız II
C) I ve II. D) I, II ve III.

3. OTURUM

15. Wien Yerdeğiştirme Yasası'na göre, ışımaya yapan cisimlerin yaydıkları ışığın dalga boyu ile cismin sıcaklığı arasında $\lambda_{\max} \cdot T = \text{Wien sabiti}$ eşitliği vardır.

Güneş'in yüzeyinden yayılan ışımaya maksimum dalga boyu 0,5 m olduğuna göre Güneş yüzey sıcaklığı yaklaşık kaç Kelvin (K) dir?
(Wien sabitini $3000 \text{ m} \cdot \text{K}$ alınız.)

- A) 6000 B) 3000 C) 1000 D) 100

16. Uyarılmış atom veya moleküllerin yarı kararlı duruma geçmelerinin bir fotonla uyarılmaları sonucunda taban durumuna geçerken yaydıkları, elektromanyetik spektrumun görünür, kızılötesi veya mor ötesi bölgesindeki tek frekanslı ışımaya ne ad verilir?

- A) lazer B) ışın
C) iletken D) foton

17. Herhangi bir iletkenin elektrik direncinin belirli bir sıcaklık değerinin altında yok olmasına süper iletkenlik denir.

Buna göre;

- I. Maglev hızlı tren
II. Magnetik rezonans (MR) görüntüleme cihazı
III. Açık hava basıncı ölçen civalı barometre cihazı

verilen teknolojik uygulama alanlarının hangilerinde süper iletkenler kullanılmaktadır?

- A) Yalnız I B) I ve II.
C) II ve III. D) I, II ve III.

18. Maddenin iyonlaşmış durumdaki gaz hâline plazma denir.

Buna göre;

- I. Televizyonlarda
II. Floresan lambalarda
III. Suyun saflaştırılmasında

verilen uygulama alanlarının hangilerinde plazma teknolojisini kullanılmaktadır?

- A) Yalnız I B) Yalnız II
C) I ve II. D) I, II ve III.

19. X- ışınları yüksek enerjili elektronların yavaşlatılması ve atom iç yörüngelerindeki elektron geçişleri ile meydana gelir.

Buna göre;

- I. X- ışınları, tıpta teşhis ve tedavi aracı olarak kullanılır.
II. X- ışınları, nesnelere içeriği hakkında bilgi veren gümrük cihazlarında kullanılır.
III. X- ışınları elektrik ve manyetik alanda saptıkları için elektron mikroskoplarında kullanılmaz.

X- ışınlarının teknolojik uygulama alanları ile ilgili ifadelerden hangileri doğrudur?

- A) Yalnız I B) I ve II.
C) II ve III. D) I, II ve III.

20. Maddeler elektrik enerjisine gösterdikleri tepkiye bağlı olarak iletken, yalıtkan ve yarı iletken olarak sınıflandırılır. Yarı iletkenler, P ve N tipi olarak adlandırılır.

Buna göre aşağıdaki teknolojik aletlerden hangisinde yarı iletken malzemeler kullanılmamıştır?

- A) Cep telefonu
B) Tablet ve bilgisayar
C) Güneş pilleri
D) Torçelli barometresi

(433) KİMYA – 3

1. • Limon suyu
• Sirke
• Sabun

Yukarıda verilen maddelerin asit ya da baz oluşlarına göre sınıflandırılması hangisinde doğru verilmiştir?

Asit	Baz
A) Limon suyu	Sirke, sabun
B) Limon suyu, sirke	Sabun
C) Sabun, sirke	Limon suyu
D) Sabun, limon suyu	Sirke

2. Aşağıda verilen maddelerin hangisinin sulu çözeltisi asit özelliğindedir?

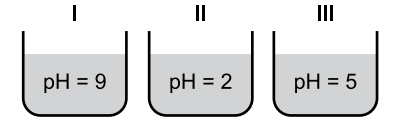
- A) NaOH B) NH_3
C) HNO_3 D) KOH

3. I. Genellikle tatları acıdır.
II. Sulu çözeltilerinde H^+ iyonu oluştururlar.
III. Kırmızı turnusol kağıdının rengini maviye çevirirler.

Yukarıda verilen özelliklerden hangileri bazlara aittir?

- A) Yalnız I B) Yalnız II
C) I ve III. D) II ve III.

4. Aşağıda oda koşullarında hazırlanan çözeltilere ait pH değerleri verilmiştir.



Bu çözeltilerden hangileri asidik özellik gösterir?

- A) Yalnız II B) Yalnız III
C) I ve II. D) II ve III.

5. Aşağıdakilerden hangisinin sulu çözeltisine Fe (demir) metali atıldığında, H_2 (hidrojen) gazı açığa çıkar?

- A) HCl B) KOH
C) NH_3 D) NaOH

6. • H_2SO_4
• Ca(OH)_2
• HNO_3
• NH_3

Yukarıda verilen maddelerin 25°C 'ta hazırlanan sulu çözeltilerine kırmızı turnusol kağıdı daldırılıyor.

Bu çözeltilerden kaç tanesi, turnusol kağıdının rengini maviye dönüştürür?

- A) 1 B) 2 C) 3 D) 4

7. Halk arasında "Sud kostik" olarak bilinen madde aşağıdakilerden hangisidir?

- A) Sodyum hidroksit
B) Hidroklorik asit
C) Sülfürik asit
D) Amonyak

3. OTURUM

8. Aşağıda verilen özelliklerden hangisi asitler ve bazlar için ortak bir özelliktir?

- A) Elde kayganlık hissi uyandırır.
B) Sulu çözeltilerinde H^+ iyonu oluştururlar.
C) Turnusol kağıdının rengini kırmızıya çevirirler.
D) Sulu çözeltilerinde iyonlaşır ve elektriği iletirler.

9. $HCl + NaOH \rightarrow NaCl + H_2O$

Yukarıda verilen nötralleşme tepkimesinde, altı çizilmiş maddelerin sınıflandırılması hangisinde doğru verilmiştir?

<u>HCl</u>	<u>NaOH</u>	<u>NaCl</u>
A) Baz	Asit	Tuz
B) Tuz	Baz	Asit
C) Asit	Baz	Tuz
D) Asit	Tuz	Baz

10. Halk arasında "alçı taşı" olarak bilinen kalsiyum sülfat tuzunun formülü aşağıdakilerden hangisidir?

- A) $CaSO_4$ B) K_2SO_4
C) $NaHCO_3$ D) $Ca(NO_3)_2$

11. I. Tuzlu su
II. Ayran
III. Mayonez
IV. Kolonya

Verilen karışımların doğru sınıflandırılması aşağıdakilerden hangisidir?

<u>Homojen</u>	<u>Heterojen</u>
A) I, II	III, IV
B) I, II, IV	III
C) III	I, II, IV
D) I, IV	II, III

12. Aşağıdakilerden hangisi hem çözücü (dağıtan) ortamın sıvı, hem de çözünen (dağılan) ortamın sıvı olduğu çözeltilere örnektir?

- A) Kolonya (alkollü su)
B) Maden suyu
C) Deniz suyu
D) Şekerli su

13. "Tuz - su" karışımı, aşağıdaki karışım türlerinden hangisine ait bir örnektir?

- A) Süspansiyon B) Çözelti
C) Emülsiyon D) Aerosol

14. Aşağıda bazı maddelere ait molekül polarlık / apolarlık özellikleri verilmiştir.

- Etanol \rightarrow Polar
- Sıvı yağ \rightarrow Apolar
- Benzen \rightarrow Apolar
- Karbon tetraklorür \rightarrow Apolar

Buna göre belirtilen maddelerden kaç tanesi saf suda çözünmez?

- A) 1 B) 2 C) 3 D) 4

15. 80 gram su ve 20 gram şeker kullanılarak hazırlanan çözeltide şekerin kütlece yüzde derişimi kaçtır?

- A) 20 B) 15 C) 10 D) 5

16. 50 mL amonyak (NH_3) içeren 200 mL amonyak - su çözeltilisindeki amonyağın hacimce yüzdesi kaçtır?

- A) 10 B) 15 C) 20 D) 25

17. Aynı şartlarda hazırlanmış aşağıda verilen sulu çözeltilerden hangisinin kaynama noktası en düşüktür?

- A) Kütlece % 5'lik tuz çözeltisi
B) Kütlece % 15'lik tuz çözeltisi
C) Kütlece % 20'lik tuz çözeltisi
D) Kütlece % 30'luk tuz çözeltisi

18. "Etanol-su" gibi homojen sıvı-sıvı karışımlarını ayırmak için aşağıda verilen ayırma yöntemlerinden hangisi kullanılır?

- A) Süzme
B) Yüzdürme
C) Ayırma hunisi
D) Ayrımsal damıtma

19. Aşağıdaki karışımlardan hangisi tanecik boyutu farkından yararlanılarak bileşenlerine ayrılabilir?

- A) Tuz - su
B) Kum - su
C) Metil alkol - su
D) Zeytinyağı - su

20. Aşağıdakilerden hangisi yoğunluk farkından yararlanılarak geliştirilen ayırma yöntemlerindedir?

- A) Süzme B) Diyaliz
C) Damıtma D) Yüzdürme

(434) KİMYA – 4

1. Kömürde kütlece yüzde bileşimi en fazla olan element aşağıdakilerden hangisidir?

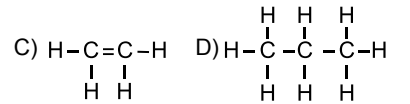
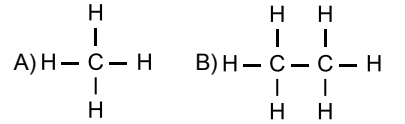
- A) Azot (N) B) Karbon (C)
C) Kükürt (S) D) Hidrojen (H)

2. I. Fosil bir yakıttır.
II. Temiz enerji kaynağıdır.
III. Ayrımsal damıtma işlemleriyle bileşenlerine ayrılır.

Yukarıda petrol için verilen bilgilerden hangileri doğrudur?

- A) I ve II . B) I ve III.
C) II ve III. D) I, II ve III.

3. Aşağıda verilen hidrokarbonlardan hangisi "alkanlar" sınıfında yer almaz?



4. En az iki karbon atomu arasında üçlü bağ ($-C \equiv C-$) içeren, genel formülü C_nH_{2n-2} şeklinde olan hidrokarbon sınıfı aşağıdakilerden hangisidir?

- A) Alken B) Anilin
C) Alkan D) Alkin

5. Aşağıdakilerden hangisi temiz enerji kaynaklarından değildir?

- A) Doğal gaz B) Jeotermal
C) Biyogaz D) Güneş

3. OTURUM

6. Enerji veren besin grupları, organizmanın ihtiyaç durumunda hangi sırayla kullanılır?

	1	2	3
A) Karbonhidratlar	Proteinler	Yağlar	
B) Yağlar	Karbonhidratlar	Proteinler	
C) Karbonhidratlar	Yağlar	Proteinler	
D) Proteinler	Yağlar	Karbonhidratlar	

7. Kullanımı sağlık açısından zararlı olan "glikoz şurubu" hangi besin maddesinden elde edilir?

- A) Buğday nişastası
B) Mısır nişastası
C) Süt şekeri
D) Patates

8. Aşağıda verilenlerden hangisi karbohidrat çeşidi değildir?

- A) Nişasta B) Laktoz
C) Glikoz D) Alanin

9. "İnsanlar ve hayvanlar glikozu depo etmek için glikojene çevirirler"

Vücudumuzda glikojen aşağıda verilen organlardan hangisinde depo edilir?

- A) Böbrek B) Karaciğer
C) Akciğer D) Safra kesesi

10. "Proteinler - - - - adı verilen bileşiklerin oluşturduğu polimer yapılarıdır."

Yukarıdaki cümlede boş bırakılan (- - - -) yere aşağıdakilerden hangisi yazılmalıdır?

- A) Karboksilik asit B) Amino asit
C) Nitrik asit D) Yağ asidi

11. İçerisinde fazla miktarda kalsiyum ve magnezyum katyonları bulunan sulara ne ad verilir?

- A) Sert su B) Deniz suyu
C) Yumuşak su D) Çeşme suyu

12. Aşağıdakilerden hangisi su arıtım aşamalarından değildir?

- A) Damıtma
B) Koagülasyon
C) Dinlendirme
D) Kireç(sertlik) giderme

13. I. Koruyucular
II. Tatlandırıcılar
III. Emülsiyonlaştırıcılar

Yukarıda verilenlerden hangileri gıda katkı maddelerindendir?

- A) Yalnız I B) I ve II.
C) II ve III. D) I, II ve III.

14. "Plastikten yapılmış bir ürünün ambalajında geri dönüşüm sembolünün içinde 3 yazmaktadır."

Buna göre bu sayıya karşılık gelen polimer aşağıdakilerden hangisidir?

- A) PE B) PS C) PVC D) PET

15. Aşağıdakilerden hangisi kozmetik ürün değildir?

- A) Şampuan B) Merhem
C) Parfüm D) Saç boyası

16. Kurşun kalemın sertliği hangi harf ile sembolize edilir?

- A) H B) E C) K D) B

17. I. Kireç
II. Cam
III. Seramik

Yukarıda verilenlerden hangileri yapı malzemesi olarak kullanılır?

- A) Yalnız I B) I ve II.
C) II ve III. D) I, II ve III.

18. Camın yapısında yer alan ana madde aşağıdakilerden hangisidir?

- A) Na₂SO₄ (Sodyum sülfat)
B) Na₂CO₃ (Soda)
C) SiO₂ (Kum)
D) CaO (Kireç)

19. Yağlı boyalarda çözücü olarak kullanılan madde aşağıdakilerden hangisidir?

- A) Pigment B) Katalizör
C) Bağlayıcı D) Tiner

20. Aşağıdakilerden hangisi havayı kirleten gazlardan değildir?

- A) Karbon monoksit (CO)
B) Kükürt dioksit (SO₂)
C) Azot dioksit (NO₂)
D) Su buharı (H₂O)

(435) KİMYA – 5

1. "Hidrojen atomunda yer alan elektron üst enerji seviyelerinden n = 2 yörüngesine inerse görünür bölgede ışık yayınlar. Bu ışıma serisine - - - - denir."

Yukarıdaki cümlede boş bırakılan (- - - -) yere aşağıdakilerden hangisi yazılmalıdır?

- A) Lyman serisi
B) Balmer serisi
C) Brackett serisi
D) Paschen serisi

2. Aşağıda verilen orbitallerden hangisinin enerjisi daha fazladır?

- A) 3p B) 4f C) 5s D) 6s

3. I. $_{10}\text{Ne}$ II. $_{12}\text{Mg}^{2+}$ III. $_{19}\text{K}^+$

Yukarıda verilen atom ve iyonlardan hangilerinin elektron dizilimleri aynıdır?

- A) I ve II. B) I ve III.
C) II ve III. D) I, II ve III.

4. $_{9}\text{F}$ elementi ile ilgili aşağıda verilen bilgilerden hangisi yanlıştır?

- A) Halojendir.
B) p bloğu elementidir.
C) Bir tane dolu orbitali vardır.
D) Yedi tane değerlik elektronu vardır.

5. Aşağıdaki iyonlardan hangisinin yarıçapı en küçüktür?

- A) $_{7}\text{N}^{3-}$ B) $_{8}\text{O}^{2-}$
C) $_{11}\text{Na}^+$ D) $_{13}\text{Al}^{3+}$

6. Aşağıda periyodik sistemde bulunan bazı grupların özel adları verilmiştir.

Buna göre verilenlerden hangisi yanlıştır?

Grup numarası	Özel adı
A) 1A	Alkali metaller
B) 2A	Toprak metalleri
C) 7A	Halojenler
D) 8A	Asal gazlar (soygazlar)

3. OTURUM

Element	1.İ.E	2.İ.E	3.İ.E	4.İ.E
X	577,9	1820	2750	11600

Yukarıda X elementinin ilk dört iyonlaşma enerjisi (İ.E) kJ/mol olarak verilmiştir.

Buna göre X elementinin grup numarası aşağıdakilerden hangisidir?

- A) 1A B) 2A C) 3A D) 4A

8. Bakır (II) oksit bileşiği aşağıdakilerden hangisidir?

- A) CuO B) Cu₂O
C) Cu₂O₂ D) CuO₂

9. 0,2 mol SO₃ bileşiği kaç gramdır?
(S: 32 g/mol, O: 16 g/mol)

- A) 16 B) 48 C) 64 D) 80

10. Bir bileşiğin en basit formülü CH₂O olarak biliniyor.

Kütle spektrometresi yöntemi ile bileşiğin mol kütlesi 180 gram olarak ölçüldüğüne göre bileşiğin molekül formülü aşağıdakilerden hangisidir? (C: 12 g/mol, H: 1 g/mol, O: 16 g/mol)

- A) C₂H₆O B) C₃H₈O
C) C₃H₆O₃ D) C₆H₁₂O₆

11. H₃PO₄+Ba(OH)₂→Ba₃(PO₄)₂+H₂O
Tepkimesi en küçük tamsayılarla denkleştirildiğinde ürünlerdeki maddelerin katsayıları toplamı kaç olur?

- A) 3 B) 5 C) 7 D) 9

12. Aşağıdaki tepkimelerden hangisi asit-baz tepkimesidir?

- A) C_(k)+O_{2(g)}→CO_{2(g)}
B) HBr_(suda)+KOH_(suda)→KBr_(suda)+H₂O_(s)
C) Fe₂O_{3(k)}+3CO_(g)→2Fe_(k)+3CO_{2(g)}
D) 6HCl_(suda)+2Al_(k)→2AlCl_{3(suda)}+3H_{2(g)}

13. 228 mm Hg'lık basınç kaç atm basınca eşittir?

- A) 30 B) 3 C) 0,3 D) 0,03

14. Aşağıdaki ifadelerden hangisi doğrudur?

- A) Uluslararası birim sistemine (SI) göre basınç birimi Newton'dur.
B) 0°C sıcaklık ve 1 atm basınç koşulları normal koşullardır.
C) Normal koşullarda 1 mol gaz 11,2 L hacim kaplar.
D) 273,15 °C mutlak sıfır olarak tanımlanmıştır.

15. Kapalı bir kapta sabit basınç ve sıcaklıkta 0,5 mol CH₄ gazı 2 L hacim kaplamaktadır.

Aynı koşullarda 10 L hacim kaplayan CH₄ gazı kaç mol'dür?

- A) 0,1 B) 1 C) 1,5 D) 2,5

16. 0°C'ta 2 litrelik bir kapta bulunan 0,2 mol NH₃ gazının basıncı kaç atm olur?

- A) 22,4 B) 11,2 C) 2,24 D) 1,12

17. Normal koşullarda 0,3 mol CO₂ gazı kaç litre hacim kaplar?

- A) 11,2 B) 6,72 C) 5,6 D) 4,48

18. Aynı koşullarda X gazının yayılma hızı, Y gazının yayılma hızının 2 katıdır.

X gazının mol kütlesi 16 g/mol olduğuna göre Y gazının mol kütlesi aşağıdakilerden hangisidir?

- A) 4 B) 8 C) 32 D) 64

19. Aşağıda verilenlerden hangisi bir gaz karışımı değildir?

- A) Metan gazı
B) Doğal gaz
C) Dünya atmosferi
D) LPG(Sıvılaştırılmış petrol gazı)

20. Sabit hacimli bir kapta, 1 mol H₂ gazı ile 3 mol He gazının yaptığı toplam basınç 2 atm'dir.

Buna göre He gazının kısmi basıncı kaç atm'dir?

- A) 0,5 B) 1,2 C) 1,5 D) 3,2

(445) BİYOLOJİ – 5

1. Işık enerjisinden yararlanarak yapılan ATP sentezi aşağıdakilerden hangisidir?

- A) Fotofosforilasyon
B) Oksidatif fosforilasyon
C) Kemosentetik fosforilasyon
D) Substrat düzeyinde fosforilasyon

**2. I. Su
II. Işık
III. Stoma sayısı
IV. Enzim miktarı
V. Karbondioksit miktarı**

Yukarıdakilerden hangileri fotosentez hızını etkileyen çevresel faktörlerdendir?

- A) I, II ve III. B) II, III ve V.
C) I, II ve V. D) I, II, IV ve V.

3. Kemosentezin gerçekleşebilmesi için aşağıdakilerin hangisine ihtiyaç yoktur?

- A) Işık
B) ATP
C) Karbondioksit
D) Elektron kaynağı

4. Işık enerjisinin kullanılarak kimyasal enerjiye dönüştürüldüğü kloroplast bölümü hangisidir?

- A) Dış zar B) Stroma
C) Ara lamel D) Tilakoit zar

5. Aşağıdakilerden hangisi oksijenli solunum sonucu ortaya çıkan bir ürün değildir?

- A) Su B) Enerji
C) Laktik asit D) Karbondioksit

6. Fotosentezin ışıktan bağımsız reaksiyonları için aşağıdakilerden hangisi gerekli değildir?

- A) CO₂ B) ATP
C) NADPH₂ D) O₂

**7. I. İki katlı zar yapısına sahiptir.
II. Kıvrımlı iç zar krista adını alır.
III. İç zarın içinde kalan sıvı kısım matrikstr.**

Yukarıdakilerden hangileri mitokondri için doğrudur?

- A) Yalnız I B) I ve II.
C) I ve III. D) I, II ve III.

3. OTURUM

8. Mitokondri matriksinde aşağıdakilerden hangisi bulunmaz?

- A) DNA B) Klorofil
C) Enzim D) Ribozom

9. Sinir hücrelerinde (nöron) hücre gövdesinden çıkan ve dallanma yapmayan kısım hangisidir?

- A) Akson
B) Dendrit
C) Miyelin kılıf
D) Schwann hücreleri

10. İmpuls iletimi sırasında Na⁺ kapılarının açılması ile başlayan evre aşağıdakilerden hangisidir?

- A) Sinaptik iletim
B) Polarizasyon
C) Depolarizasyon
D) Repolarizasyon

11. I. Akson çapı
II. Sinaps sayısı
III. Ranvier boğumu sayısı

Verilenlerden hangilerinin artması impuls hızını artırır?

- A) Yalnız I B) I ve II.
C) I ve III. D) I, II ve III.

12. I. En iç kısımdaki beyin zarıdır.
II. Beyni zedelenmelere karşı korur.
III. Kan damarları ile beynin besin ve oksijen ihtiyacını karşılar.

Verilenlerden hangileri beyindeki ince zarın özelliği ve görevlerindedir?

- A) Yalnız I B) I ve II.
C) I ve III. D) I, II ve III.

13. Aşağıdaki hormonlardan hangisi insanda kan şekerinin düşmesini sağlar?

- A) Glukagon B) İnsülin
C) Gastrin D) Sekretin

14. Aşağıdakilerden hangisi parasempatik sinirlerin etkisiyle meydana gelen bir değişimdir?

- A) Tükürük salgısının artması
B) Kalp atışlarının hızlanması
C) İdrar kesesinin genişlemesi
D) Mide hareket ve salgısının azalması

15. Aşağıdakilerden hangisi polio virüsünün yol açtığı bulaşıcı bir sinir sistemi rahatsızlığıdır?

- A) Kuduz B) Siyatik
C) Epilepsi D) Çocuk felci

16. Aşağıdakilerden hangisi insan vücudunun baş kısmında bulunan hormonal bir bezdir?

- A) Hipofiz
B) Pankreas
C) Eşeyssel bezler
D) Böbreküstü bezi

17. Aşağıdakilerden hangisi böbreküstü bezlerinden salgılanan bir hormon değildir?

- A) Kortizol B) Glukagon
C) Adrenalin D) Aldosteron

18. Melatonin hormonunun salgılandığı bez aşağıdakilerden hangisidir?

- A) Hipofiz B) Timüs
C) Tiroid D) Epifiz

19. Aşağıdaki duylardan hangisi talamusa uğramadan uç beyine iletilir?

- A) Tat B) İşitme
C) Koku D) Dokunma

20. Aşağıdakilerden hangisi dengenin sağlanması ile ilgili kulakta bulunan bir yapı değildir?

- A) Kesecik
B) Salyangoz
C) Tulumcuk
D) Yarım daire kanalları

(448) BİYOLOJİ – 8

1. Bir canlının beslenmek, korunmak, saklanmak, üremek ve diğer canlılarla ilişkisi için gösterdiği faaliyetlerin tümü aşağıdakilerden hangisi ile isimlendirilir?

- A) Habitat B) Parazitlik
C) Ekolojik niş D) Komünite

2. Canlılardan birinin yarar gördüğü diğerinin yarar ya da zarar görmediği birliktelik çeşidi aşağıdakilerden hangisidir?

- A) Parazitlik
B) Mütualizm
C) Av-avcı ilişkisi
D) Kommensalizm

3. Belirli bir bölgede uzun bir zaman içinde türlerin aşamalı olarak birbirlerinin yerlerini alması aşağıdakilerden hangisidir?

- A) Ekolojik niş B) Süksesyon
C) Rekabet D) Mikroklima

4. S tipi popülasyon gelişme grafiği dikkate alındığında, doğum - ölüm ve iç - dış göç oranlarının birbirine eşit olduğu evre aşağıdakilerden hangisinde belirtilmiştir?

- A) Kuruluş evresi
B) Negatif artış evresi
C) Denge evresi
D) Logaritmik artış evresi

5. Bireylerin birbirine eşit uzaklıkta ve homojen şekilde dağılımları aşağıdaki dağılım şekillerinden hangisi ile ifade edilir?

- A) Kümeli B) Düzenli
C) Rastgele D) Karışık

6. Büyüyen bir popülasyonun yaş dağılımı ile ilgili aşağıdakilerden hangisi doğrudur?

- A) Tüm dönem nüfusları birbirine eşittir.
B) Üreme sonrası dönem nüfusu en fazladır.
C) Üreme öncesi dönem nüfusu en fazladır.
D) Üreme dönemi ve üreme sonrası dönem nüfusu birbirine eşittir.

7. Aşağıdakilerden hangisi popülasyon yoğunluğunu etkileyen faktörlerden biri değildir?

- A) Mutasyonlar
B) Ölüm oranı
C) Doğum oranı
D) İç ve dış göçler

8. I. Doğal seçim olmalıdır.
II. Rastgele çiftleşme olmalıdır.
III. İçeriye ve dışarıya göç olmamalıdır.

Yukarıda verilenlerden hangileri Hardy-Weinberg kuralına göre popülasyonun dengede kalması için gereklidir?

- A) Yalnız I B) I ve II.
C) I ve III. D) II ve III.

3. OTURUM

9. Aynı ekosistemde yaşayan biri diğerinin besini olan iki canlının arasındaki ilişki aşağıdakilerden hangisidir?

- A) Parazitlik
- B) Av-avcı ilişkisi
- C) Kommensalizm
- D) Süksesyon

10. 10000 kişilik bir insan popülasyonunda 1600 kişi sarı saçlı ise, Hardy-Weinberg kuralına göre bu popülasyonda heterozigot bireylerin frekansı kaçtır? (Siyah saç sarı saçta göre baskındır.)

- A) 0,84 B) 0,16 C) 0,64 D) 0,48

11. Hayatın başlangıcı ile ilgili abiyoenez hipotezi hangi bilim insanının görüşüdür?

- A) Aristo B) Miller
- C) Pasteur D) Haldane

12. Heterotrof hipotezindeki kimyasal evrimde ilkel atmosfer gazlarından oluşan ilk madde aşağıdakilerden hangisidir?

- A) Proteinler
- B) Aminoasitler
- C) Nükleoproteinler
- D) Koaservatlar (Ön hücre)

13. Hayatın ortaya çıkışı ile ilgili canlıların kendiliğinden değil, önceki atalarından oluştuğunu savunan görüş aşağıdakilerden hangisidir?

- A) Biyogenez B) Abiyogenez
- C) Heterotrof D) Panspermia

14. • Sürüngenler devri olarak bilinen jeolojik zamandır.
• Ayrılan kıtalar nedeniyle canlı çeşitliliği artmıştır.
• İlk kozalaklı bitkilerin kurak bölgelerde ortaya çıktığı zamandır.

Yukarıda bazı özellikleri verilen jeolojik zaman dilimi aşağıdakilerden hangisidir?

- A) Senozoik
- B) Paleozoik
- C) Mezozoik
- D) Kambriyen öncesi

15. Aşağıdakilerden hangisi yaratılış inancına göre doğru bir ifadedir?

- A) Canlılık başka gezegenlerden spor ve tohumlarla gelmiştir.
- B) Tür çeşit sayısı sabit olup, türler farklı zamanlarda ortaya çıkarılmıştır.
- C) Canlılar kendi besinini kendi üreten ototrof canlılardan değişerek ortaya çıkmıştır.
- D) Canlılar cansız maddeleri çok uzun süren kimyasal evrim sonucu meydana gelmiştir.

16. Aşağıdakilerden hangisi Hardy-Weinberg kuralına göre popülasyonun dengesini bozacak yönde etki eder?

- A) Mutasyonların olması
- B) Doğal seçilimin olmaması
- C) Çiftleşmenin rastgele olması
- D) Popülasyonun kalabalık olması

17. I. Arkeyan
II. Hadeyan
III. Proterozoik

Verilen kambriyen öncesi zaman dilimlerinin kronolojik sırası aşağıdakilerden hangisinde doğru yapılmıştır?

- A) I – II – III B) II – I – III
- C) I – III – II D) III – II – I

18. Vücutta kullanılan organların gelişeceğini, kullanılmayan organların köreleceği hatta kaybolacağı fikrini ortaya atan bilim insanı aşağıdakilerden hangisidir?

- A) Aristo B) Darwin
- C) Malthus D) Lamarck

19. Bireylerde çevre şartlarının etkisiyle meydana gelen kalıtsal olmayan değişiklikler aşağıdakilerden hangisi ile ifade edilir?

- A) Varyasyon B) Mutasyon
- C) Modifikasyon D) Adaptasyon

20. I. Brokoli bitkisi
II. İngiliz atları
III. Evcil köpek çeşitleri

Yukarıda verilen canlı örneklerinden hangileri yapay seçilim uygulamaları sonucunda ortaya çıkmıştır?

- A) Yalnız I B) I ve II.
- C) I ve III. D) I, II ve III.

(452) ÇAĞ.TÜRK DÜN.TAR. – 2

1. Yumuşama Dönemi'nin mimarlarından sayılan ABD Başkanı, aşağıdakilerden hangisidir?

- A) Ronald Wilson Reagan
- B) John Fitzgerald Kennedy
- C) William Jefferson Clinton
- D) Franklin Delano Roosevelt

2. ABD ile SSCB arasında imzalanan hangi antlaşmayla uzun menzilli nükleer silahların sınırlandırılması kararlaştırılmıştır?

- A) Locarno Antlaşması
- B) SALT II
- C) Taşkent Deklarasyonu
- D) Helsinki Nihai Senedi

3. Küba Adası, aşağıdaki su kütlelerinden hangisiyle çevrilidir?

- A) Hint Okyanusu
- B) Büyük Okyanus
- C) Atlas Okyanusu
- D) Kuzey Kutup Denizi

4. Vietnam Savaşı'nın nasıl başladığıyla ilgili bilgi, aşağıdakilerden hangisinde doğru verilmiştir?

- A) Vietnamlıların, Fransız sömürge-sinden kurtulmak için ayaklanmaları
- B) Komünist Kuzey Vietnam'ın, ülkenin bölünmüşlüğü ortadan kaldırmak için Güney Vietnam yönetimini değiştirmek istemesi
- C) Güney Vietnam'ın, Kuzey Vietnam şehirlerine hava harekâtı düzenlemesi
- D) Japonların ülkeyi işgal etmeye çalışması

5. Tarihe "Domuzlar Körfezi Çıkarması" olarak geçen harekâtı, aşağıdaki hangi olayla ilişkilendirebiliriz?

- A) Arap – İsrail Savaşları'yla
- B) Kıbrıs Barış Harekâtı'yla
- C) Keşmir Sorunu'yla
- D) Küba Buhranı'yla

3. OTURUM

6. Aşağıdaki hangi savaş sonrasında petrolün İsrail'e karşı siyasi bir silah olarak kullanılmasını sağlamak için OAPEC (Organization of Arap Petroleum Exporting Countries – Petrol İhraç Eden Arap Ülkeleri Teşkilatı) kurulmuştur?

- A) Altı Gün Savaşı
- B) Yom Kippur Savaşı
- C) 1948 Arap-İsrail Savaşı
- D) 1956 Mısır-İsrail Savaşı

7. 22 – 25 Eylül 1969 yılında Fas'ın başkenti Rabat'ta yapılan ve Türkiye'yi, dönemin Dışişleri Bakanı İhsan Sabri Çağlayangil'in temsil ettiği toplantı, aşağıdakilerden hangisidir?

- A) İslam Zirvesi
- B) Bağdat Paketi
- C) OAPEC
- D) OPEC

8. 16 Ağustos 1960'ta kurulan bağımsız Kıbrıs Cumhuriyeti'nin Cumhurbaşkanlığı yardımcılığına getirilen Türk lideri, aşağıdakilerden hangisidir?

- A) Bülent Ecevit
- B) Rauf Denktaş
- C) Hasan Polatkan
- D) Dr. Fazıl Küçük

9. Aşağıdaki kısaltmalardan hangisi, Kıbrıs'ın Yunanistan'a bağlanması ideali anlamında kullanılır?

- A) ENOSİS
- B) ASALA
- C) EOKA
- D) FIBA

10. Türkiye Cumhuriyeti Devleti'nin bugün kullandığı anayasası, hangi tarihte yapılan halk oylaması ile kabul edilmiştir?

- A) 15 Ekim 1961
- B) 12 Eylül 1980
- C) 7 Kasım 1982
- D) 31 Ekim 1989

11. Türkiye'de 1960'lardan itibaren kırsaldan göç eden insanların var olan değerleri ile şehir kültürünün kaynaşmasının sonucunda ortaya çıkan yeni anlayış, aşağıdaki kavramlardan hangisiyle isimlendirilmiştir?

- A) Rock and Roll
- B) Aranjman
- C) Pop
- D) Arabesk

12. Afganistan'daki Taliban yönetiminin Kasım 2001'de yönetimden uzaklaştırılması sonrasında yeni hükümet, aşağıdakilerden hangisi tarafından kurulmuştur?

- A) Yaser Arafat
- B) Hamid Karzai
- C) Aliye İzzetbegoviç
- D) Bahtiyar Vahapzade

13. 1996 Ocak ayında, aşağıdaki hangi iki ülke arasında Ege Denizi'nde Kardak Krizi yaşanmıştır?

- A) Türkiye ile Yunanistan
- B) Türkiye ile Bulgaristan
- C) Yunanistan ile Bulgaristan
- D) KKTC ile Güney Kıbrıs Rum Yönetimi

14. • Tiflis

- Erivan
- Bakü
- Tahran

Yukarıda verilen başkent listesinde, hangi devletin başkenti yoktur?

- A) Azerbaycan
- B) Ermenistan
- C) Özbekistan
- D) Gürcistan

15. Bosna Savaşı'nı sona erdiren antlaşmanın adı, aşağıdakilerden hangisidir?

- A) Dayton Antlaşması
- B) Tlatelelco Antlaşması
- C) Amsterdam Antlaşması
- D) Saint Germain Antlaşması

16. Murat ve Karasu ırmaklarının birleşmesinden oluşan akarsuyumuz, aşağıdakilerden hangisidir?

- A) Kızılırmak
- B) Sakarya
- C) Dicle
- D) Fırat

17. Türkiye'de ilk renkli televizyon yayını hangi yıl başlamıştır?

- A) 1960
- B) 1984
- C) 2000
- D) 2005

18. Aşağıdakilerden hangisi 17 Ağustos depremi sonrasında ortaya çıkan sorunlardan biri değildir?

- A) İş gücü kaybı
- B) Can ve mal kaybı
- C) Psikolojik sorunlar
- D) İklim dengesinin bozulması

19. Aşağıdakilerden hangisi küresel sorunlar arasında sayılamaz?

- A) Açlık
- B) Terör
- C) Aile içi şiddet
- D) Küresel ısınma

20. Aşağıdaki hastalıklardan hangisinin insanlara bulaşmasında dişi anofel sivrisineklerinin rolü vardır?

- A) Sıtma
- B) Verem
- C) Hepatit
- D) Veba

(462) EKONOMİ – 2

1. "Yeterli bir kârın sağlanması" açıklaması, öncelikli olarak hangi başlık altında yer almalıdır?

- A) Girişimin İşlevleri
- B) Girişimin Amaçları
- C) Girişimin Sosyal Rolü
- D) Girişimin Ekonomik Rolü

2. Kuruluşun, mevcut alacakları toplamı ile borçları arasındaki farkın, sermaye türü olarak ifade edilişi aşağıdakilerden hangisidir?

- A) Ekonomik anlamda sermaye
- B) Hukuksal anlamda sermaye
- C) Mali yönden sermaye
- D) Muhasebe tekniği yönünden sermaye

3. Bir işletmenin ihtiyaç duyduğu ham madde için kullanacağı sermaye türü aşağıdakilerden hangisidir?

- A) Sınai sermaye
- B) Zirai sermaye
- C) Ticari sermaye
- D) Değişmeyen sermaye

4. Aşağıda verilenlerden hangisi girişimcinin özelliklerinden biri değildir?

- A) Kâr amacı güder.
- B) Üretime katılan sermaye için ücret öder.
- C) Mal ve hizmet üretir.
- D) Akılcı bir şekilde üretim faktörlerini sağlar.

3. OTURUM

5. Aşağıdakilerden hangisi verimliliğe etki eden genel etkenler içerisinde yer almaz?

- A) İşletmelerin kuruluş yeri
- B) İşletmenin organizasyonu
- C) İş yerinin durumu ve işe gidip gelme
- D) İşletmedeki teknolojinin yenileştirilmesi

6. I. Sermaye belirli sayıda hisselerle ayrılmıştır.
II. Şirketin sorumluluğu sınırsızdır.
III. Sermayenin göstergesi obligasyondur.
IV. Ortaklar sınırlı sorumludurlar.

Anonim şirketler ile ilgili yukarıda verilenlerden doğru olanlar, hangisinde birlikte verilmiştir?

- A) I ve II
- B) II ve III
- C) I ve IV
- D) III ve IV

7. Aşağıdakilerden hangisi İktisadi Devlet Kuruluşlarından birisi değildir?

- A) ÇAY-KUR
- B) T.C. Ziraat Bankası
- C) Et ve Balık Kurumu
- D) Devlet Malzeme Ofisi

8. Aşağıdakilerden hangisi müessese değildir?

- A) Van Deri ve Kundura Sanayii
- B) Ergani Bakır İşletmeleri
- C) Garp Linyitleri İşletmesi
- D) Et ve Balık Kurumu

9. Aşağıdakilerden hangisi millî gelirin fonksiyonel dağılımı arasında yer almaz?

- A) Faiz
- B) Ücret
- C) Rant
- D) Servet

10. Aşağıdakilerden hangisi millî gelirin ifade ediliş şekillerinden biri değildir?

- A) Döviz üzerinden milli gelirin ifadesi
- B) Yurt içi gelir olarak milli gelirin ifadesi
- C) Millî gelirin sabit fiyatlarla ifade edilmesi
- D) Millî gelirin cari piyasa fiyatlarıyla ifadesi

11. Gelir ile servet karşılaştırıldığında aşağıdakilerden hangisi gelirin bir özelliğidir?

- A) Statikliği
- B) Dinamikliği
- C) Belirli bir andaki durumu
- D) Tasarruf edilen değerlerin bütünlüğü

12. Bir ülkede gelir dağılımının lorenz eğrileriyle adil ve adil olmayan dağılım şeklinde belirlenmesi, gelir dağılımının hangi yönden incelendiğini göstermektedir?

- A) Meslekler
- B) Sektörler
- C) Sosyal kesimler
- D) Nüfus dilimleri

13. Aşağıdakilerden hangisi millî gelir hesaplama yöntemlerinden biri değildir?

- A) Harcama sistemi
- B) Üretim sistemi
- C) Gelir sistemi
- D) Vergi sistemi

14. Belirli bir yılın fiyatları üzerinden hesaplanan millî gelire ne denir?

- A) Gayrisafi millî hasıla
- B) Reel millî gelir
- C) Yurt içi hasıla
- D) Safi millî gelir

15. Üretim faaliyeti sonucunda girişimcinin payı olan gelir aşağıdakilerden hangisidir?

- A) Kâr
- B) Faiz
- C) Ücret
- D) Rant

16. Millî gelirin üretim faktörlerinin, üretimden aldıkları paylara göre dağılımına ne denir?

- A) Kişisel dağılım
- B) Sektörel dağılım
- C) Bölgesel dağılım
- D) Fonksiyonel dağılım

17. Fiyatlar genel seviyesinin yükselmesine ne denir?

- A) Arz
- B) Deflasyon
- C) Enflasyon
- D) Talep

18. Malların insanlar arasında el değiştirmesine aracılık eden ve herkeşçe kabul edilen ortak bir ölçme birimi işlevi gören ödeme aracına ne denir?

- A) Gümüş
- B) Para
- C) Döviz
- D) Kredi

19. Aşağıdakilerden hangisi çevre kirliliğine neden olan etkenlerdendir?

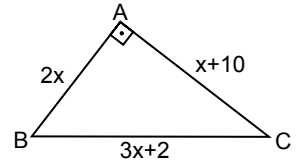
- A) Çevre eğitiminin yaygınlaştırılması
- B) Altyapı işlerinin yapılması
- C) Yeşil alanların artması
- D) Nüfusun aşırı artması

20. Aşağıdakilerden hangisi ekonomi politikasının başlıca hedeflerindedir?

- A) Dış ödemeler dengesini sağlamak
- B) Tarım sektörünü desteklemek
- C) İhracatı desteklemek
- D) Üretimi yönlendirmek

(468) MATEMATİK – 8

1.

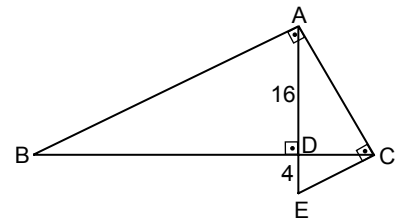


Şekildeki ABC üçgeninde $m(\hat{A}) = 90^\circ$, $|AB| = 2x$ cm, $|AC| = (x + 10)$ cm ve $|BC| = (3x + 2)$ cm'dir.

Buna göre x kaçtır?

- A) 3
- B) 4
- C) 5
- D) 6

2.



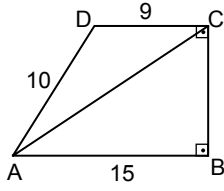
Şekilde $[AE] \perp [BC]$, $[BA] \perp [AC]$, $[AC] \perp [CE]$, $|AD| = 16$ cm ve $|DE| = 4$ cm'dir.

Buna göre $|BD|$ kaç santimetredir?

- A) 24
- B) 32
- C) 36
- D) 40

3. OTURUM

3.

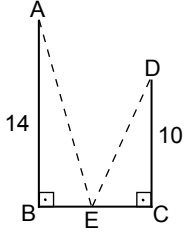


Şekilde $[DC] \perp [CB]$, $[CB] \perp [BA]$,
 $|DC| = 9$ cm, $|AD| = 10$ cm ve
 $|AB| = 15$ cm'dir.

Buna göre $|AC|$ kaç santimetredir?

- A) 17 B) 16 C) 15 D) 14

4.

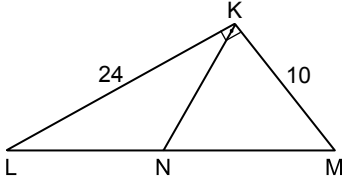


Şekilde $[AB] \perp [BC]$, $[BC] \perp [DC]$,
 $|AB| = 14$ cm, $|DC| = 10$ cm ve
 $|BC| = 7$ cm'dir.

$E \in [BC]$ olduğuna göre
 $|AE| + |ED|$ en az kaç santimetredir?

- A) 30 B) 27 C) 25 D) 20

5.

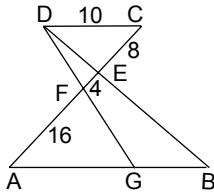


Şekildeki KLM üçgeninde
 $[LK] \perp [KM]$, $|LN| = |NM|$ ve
 $|KL| = 24$ cm, $|KM| = 10$ cm'dir.

Buna göre $|KN|$ kaç santimetredir?

- A) 10 B) 12 C) 13 D) 15

6.

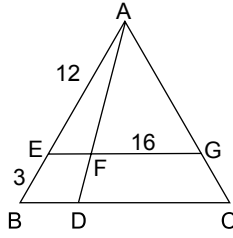


Şekilde $[DC] \parallel [AB]$, $G \in [AB]$,
 $|DC| = 10$ cm, $|CE| = 8$ cm,
 $|EF| = 4$ cm ve $|FA| = 16$ cm'dir.

Buna göre $|GB|$ kaç santimetredir?

- A) 11 B) $\frac{35}{3}$ C) 12 D) $\frac{38}{3}$

7.

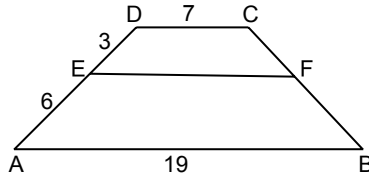


Şekildeki ABC üçgeninde
 $[EG] \parallel [BC]$ ve $|AE| = 12$ cm,
 $|EB| = 3$ cm, $|FG| = 16$ cm'dir.

Buna göre $|DC|$ kaç santimetredir?

- A) 28 B) 24 C) 20 D) 18

8.

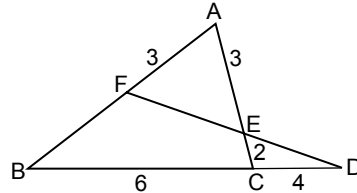


Şekilde $[DC] \parallel [EF] \parallel [AB]$ ve
 $|AB| = 19$ cm, $|CD| = 7$ cm,
 $|DE| = 3$ cm, $|EA| = 6$ cm'dir.

Buna göre $|EF|$ kaç santimetredir?

- A) 11 B) 13 C) 15 D) 17

9.

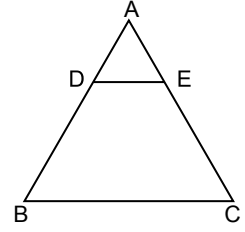


Şekildeki ABC ve FBD üçgenlerinde
 $|AF| = |AE| = 3$ cm, $|BC| = 6$ cm,
 $|CE| = 2$ cm ve $|CD| = 4$ cm'dir.

Buna göre $|BF|$ kaç santimetredir?

- A) 4 B) $\frac{9}{2}$ C) 5 D) $\frac{11}{2}$

10.



Şekildeki ABC üçgeninde
 $[DE] \parallel [BC]$, $A(BCED) = 63$ cm² ve
 $3|AD| = 2|DB|$ 'tir.

Buna göre $A(\widehat{ADE})$ kaç santimetrekaredir?

- A) 12 B) 13 C) 14 D) 15

11. $\alpha = 40^\circ 15'$ ve $\theta = 10^\circ 40'$ dir.

Buna göre $\alpha - \theta$ aşağıdakilerden hangisidir?

- A) $29^\circ 25'$ B) $29^\circ 35'$
 C) $30^\circ 25'$ D) $30^\circ 35'$

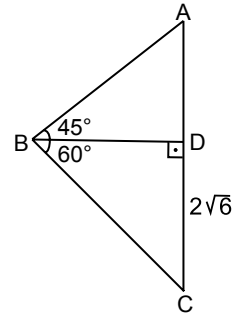
12. -1320° lik açının esas ölçüsü kaç derecedir?

- A) 120 B) 160 C) 200 D) 220

13. $\cot 840^\circ + \cos 690^\circ$ işleminin sonucu kaçtır?

- A) $\frac{-5\sqrt{3}}{6}$ B) $\frac{-\sqrt{3}}{6}$
 C) $\frac{\sqrt{3}}{6}$ D) $\frac{5\sqrt{3}}{6}$

14.



Şekildeki ABC üçgeninde
 $[BD] \perp [AC]$, $m(\widehat{ABD}) = 45^\circ$,
 $m(\widehat{DBC}) = 60^\circ$ ve
 $|DC| = 2\sqrt{6}$ cm'dir.

Buna göre $|AB|$ kaç santimetredir?

- A) 6 B) $4\sqrt{2}$
 C) $2\sqrt{5}$ D) 4

(478) MANTIK – 1

15. $\alpha + \theta = 45^\circ$ olduğuna göre $\cos(5\alpha + 4\theta) + \cos(7\alpha + 6\theta)$ ifadesinin eşiti aşağıdakilerden hangisidir?

- A) $\sin \alpha - \cos \alpha$ B) $\sin \alpha + \cos \alpha$
C) $\cos \alpha - \sin \alpha$ D) 0

16. $\sin 285^\circ$, $\cos 312^\circ$, $\tan 190^\circ$ ve $\cot 128^\circ$ değerlerinin işaretleri sırasıyla aşağıdakilerden hangisidir?

- A) +, -, -, + B) +, -, +, +
C) -, +, -, - D) -, +, +, -

17. $\sin \alpha + \cos \alpha = \frac{\sqrt{5}}{4}$ olduğuna göre $\sin \alpha \cdot \cos \alpha$ kaçtır?

- A) $-\frac{3}{8}$ B) $-\frac{11}{32}$
C) $\frac{3}{8}$ D) $\frac{11}{32}$

18. $f(x)$ fonksiyonunun periyodu 24 olduğuna göre $f\left(\frac{2x-4}{3}\right)$ fonksiyonunun periyodu kaçtır?

- A) 36 B) 18 C) -18 D) -36

19. $\sin x = \frac{5m-3}{4}$ olduğuna göre m 'nin bulunduğu en geniş aralık aşağıdakilerden hangisidir?

- A) $\left[-\frac{2}{5}, \frac{6}{5}\right]$ B) $\left[\frac{3}{5}, \frac{6}{5}\right]$
C) $\left[-\frac{1}{5}, \frac{7}{5}\right]$ D) $\left[\frac{3}{5}, \frac{7}{5}\right]$

20. $f(x) = \cos\left(\frac{5x}{6}\right) - \tan\left(\frac{x}{4}\right) + \sin\left(\frac{x}{3}\right)$ olduğuna göre $f(\pi)$ kaçtır?

- A) $1 + \sqrt{3}$ B) 1
C) $1 - \sqrt{3}$ D) -1

1. Doğru düşünmenin ilke ve kurallarını inceleyen bilim aşağıdakilerden hangisidir?

- A) Matematik B) Psikoloji
C) Mantık D) Kimya

2. Birbirleriyle ilişkili olan yargılardan bir sonuç çıkarma işlemi aşağıdaki kavramlardan hangisiyle ifade edilir?

- A) Akıl yürütme B) Bilgi doğrusu
C) Gerçeklik D) Kavram

3. Aşağıdaki önermelerden hangisi mantığın özdeşlik ilkesine örnek oluşturur?

- A) Cemre hem çalışkan, hem de tembeldir.
B) Hava ya aydınlıktır, ya da karanlıktır.
C) Tüm insanlar ölümlüdür.
D) Öğrenci öğrencidir.

4. Aşağıdakilerden hangisi Aristoteles'ten etkilenmiş olan İslam mantıkçılarından?

- A) F. Bacon B) İbn-i Sina
C) W. Leibniz D) R. Descartes

5. Aşağıdakilerden hangisi olumsuz kavrama örnektir?

- A) Güzel B) Gayretli
C) Yürüyen D) Görgüsüz

6. Varlık → Canlı → İnsan → Ayşe Yukarıdaki sıralamada içlemi en fazla olan kavram hangisidir?

- A) Varlık B) Canlı
C) Ayşe D) İnsan

7. Kavramlardan hiçbiri diğerinin bireylerini içermiyorsa, aralarında ayrıklık ilişkisi vardır.

Buna göre aşağıda verilen kavram çiftlerinin hangisinde ayrıklık ilişkisi vardır?

- A) Köpek – havlayan
B) Mühendis – kadın
C) İnsan – akıllı
D) Kedi – kuş

8. Aşağıdakilerden hangisi beş tümel içinde yer almaz?

- A) Önerme B) Ayrım
C) Cins D) Tür

9. Aşağıdakilerden hangisi bir şeyin ne olduğunu belirtme, bir kavramın anlamını aydınlatma, açıklama ve belirleme işlemini ifade eder?

- A) Kıyas B) Tanım
C) İlinti D) Ayrım

10. Aşağıdakilerden hangisi insanın özgülüğüdür?

- A) Üremek B) Uyumak
C) Okumak D) Yürümek

11. Karşı olum karesinde "E" harfiyle gösterilen önerme türü aşağıdakilerden hangisidir?

- A) Tümel olumsuz
B) Tümel olumlu
C) Tikel olumsuz
D) Tikel olumlu

12. Aşağıdakilerden hangisi olumsuz önermedir?

- A) Çam bir ağaçtır.
B) İnsanlar kardeşlerdir.
C) Bilim akla dayanır.
D) Gökhan çalışkan değildir.

13. Aşağıdakilerden hangisi bileşik önermedir?

- A) Hava yağmurlu ise rutubet fazladır.
B) Papatya bitkidir.
C) Serpil çalışkandır.
D) Tebeşir beyazdır.

14. "Bazı insanlar hastadır." önermesi nicelik ve nitelik yönünden nasıl bir önermedir?

- A) Tümel olumsuz
B) Tikel olumsuz
C) Tümel olumlu
D) Tikel olumlu

15. "Bütün kediler dört ayaklıdır." önermesinin düz döndürmesi aşağıdakilerden hangisidir?

- A) Bütün kediler dört ayaklı değildir.
B) Bazı dört ayaklılar kedir.
C) Hiçbir dört ayaklı kedi değildir.
D) Bazı dört ayaklılar kedi değildir.

3. OTURUM

(500) İNGİLİZCE – 6

1 - 20. sorularda boş bırakılan yere uygun gelen kelime ya da ifadeyi işaretleyiniz.

16. • Bütün insanlar ölümlüdür.
• Bazı insanlar ölümlü değildir.
Karşı olum karesine göre, bu iki önerme arasındaki ilişki türü aşağıdakilerden hangisidir?
- A) Üst karşıtlık B) Alt karşıtlık
C) Çelişiklik D) Altıklık
17. "Verilen en az iki önermeden zihnin zorunlu olarak bir sonuç çıkarması işlemi" **şeklinde tanımlanan kavram aşağıdakilerden hangisidir?**
- A) Düz döndürme B) Tüme varım
C) Özdeşlik D) Kıyas
18. I. Bütün insanlar değerlidir.
II. Şermin insandır.
III. O hâlde, Şermin değerlidir.
Verilen kıyastaki numaralandırılmış olan önermelerden hangileri öncül durumunda değildir?
- A) Yalnız III B) Yalnız II
C) Yalnız I D) I ve II.
19. Öğrenci çalışır ise üniversiteyi kazanır.
Öğrenci çalışmamıştır.
O hâlde, ...
Bu kıyastan zorunlu olarak çıkarılabilecek sonuç önermesi aşağıdakilerden hangisidir?
- A) Öğrenci çalışmıştır.
B) Öğrenci üniversiteyi kazanmıştır.
C) Öğrenci üniversiteyi kazanamamıştır.
D) Öğrenci çalışmaya vakit bulamamıştır.
20. **Aşağıdakilerden hangisi basit kıyas çeşitleri arasında yer alır?**
- A) Karma kıyas B) Kesin kıyas
C) Sorit (Yığın) D) Zincirleme kıyas

1. **I used to - - - - horror films when I was young.**

- A) watch B) smell
C) drive D) drink

2. **Thomas : - - - -?**

Hank : Sure, you can.

- A) Can you lend me some money
B) Did I help him with the dishes
C) Can I use your mobile phone
D) Will you open the door

3. **Max : Could you help me with my homework?**

Josh : - - - -.

- A) You can do my homework
B) I can finish my project
C) I am sorry but I can't
D) You can help me

4. **Barney : - - - -?**

Marshall : Go straight and turn left; it's on your left.

- A) Would you like to join the team
B) How can I go to the post office
C) Do you know how to study
D) Can I solve the problem

5. **Patrick : Could you clean the blackboard, please?**

Harris : - - - -.

- A) Sure, I can answer them
B) You can explain it again
C) You can join our party
D) Of course, I can do it

6. **Linda is a lazy student, she - - - - studies.**

- A) never B) always
C) usually D) generally

7. **Jackson hasn't - - - - to the cinema so far.**

- A) written B) broken
C) gone D) done

8. **I love coffee very much. I - - - - drink some.**

- A) seldom B) always
C) rarely D) never

9. **Tracey visits her grandparents - - - -.**

- A) last week B) yesterday
C) in the past D) on weekdays

10. **Arnold will be here - - - -.**

- A) two minutes ago
B) in a minute
C) yesterday
D) last week

11. **If I - - - - you, I - - - - there.**

- A) was / sleep
B) were / speak
C) was / wouldn't do
D) were / wouldn't go

12. **We will - - - - dinner if you - - - -.**

- A) have / stay B) play / read
C) come / write D) break / watch

13. **If you had - - - - harder, you would have - - - - the class.**

- A) gone / played
B) done / written
C) studied / passed
D) broken / understood

14. **I would - - - - that car if I - - - - rich.**

- A) speak / was B) buy / were
C) do / were D) go / was

15. **If the weather - - - - nice, we would - - - - on a picnic.**

- A) was / do B) was / eat
C) were / go D) were / play

16. **- - - - my best friend visits me, I feel happy.**

- A) When B) While
C) So D) Although

17. **You should brush your teeth - - - - you go to bed.**

- A) as soon as B) before
C) than D) at

3. OTURUM

18. I left the party - - - - they had come.

- A) so B) then
C) while D) after

19. I don't know - - - - Cameron lives.

- A) while B) who
C) than D) where

20. I have a friend - - - - can speak three languages.

- A) why B) who
C) what D) which

(500) ALMANCA – 6

1-17. sorularda boş bırakılan yere uygun gelen ek, kelime ya da ifadeyi işaretleyiniz.

1. **A:** - - - - reparierst du das Fahrrad?
B: Mit dem Schraubenzieher.

- A) Womit B) Woher
C) Wohin D) Wozu

2. **Ali geht jeden Abend um 10 Uhr - - - - Bett.**

- A) im B) nach
C) ins D) zur

3. **Die Schüler - - - - nicht im Bus.**

- A) ist B) bin
C) seid D) sind

4. **Ich bin krank, aber ich will - - - - zur Schule gehen.**

- A) trotzdem B) denn
C) obwohl D) weil

5. **Die Ärztin, - - - - mich operiert hat, ist neu im Krankenhaus.**

- A) der B) die
C) das D) dem

6.



Die Bücher sind - - - - Regal.

- A) auf dem B) neben dem
C) in dem D) unter dem

7. - - - - **ich viele Hausaufgaben habe, werde ich nicht ins Kino gehen.**

- A) Denn B) Obwohl
C) Trotz D) Weil

8. **A:** Alle sagen, ihr - - - - aus Spanien.
B: Nein, wir sind aus Italien.

- A) wäret B) warst
C) waren D) war

9. **Das neu- - - - - Hotel hat 5 Stern- - - - - .**

- A) -es / -en B) -e / -e
C) -en / -e D) -e / -es

10. **Unsere Klasse - - - - in Mathe besser als die 12-B.**

- A) sind B) seid
C) ist D) hat

11.



Die Flaschen sind - - - - der Plastiktüte.

- A) auf B) neben
C) unter D) in

12. - - - - **du mir bei meinen Hausaufgaben helfen?**

- A) Hast B) Kannst
C) Bist D) Ist

13. **Sibel ist krank. - - - - sie doch kein Eis gegessen.**

- A) Wäre B) Sei
C) Hätte D) Ist

14. **Mustafa lebt - - - - Konya.**

- A) in B) im
C) beim D) zu

15. **Die Frau mit - - - - langen Haaren ist eine Schauspielerin.**

- A) der B) den
C) dem D) das

16. **A:** Mehmet, kann ich heute - - - - dir kommen?
B: Ja, natürlich.

- A) zu B) bis
C) morgen D) bin

17. **A:** Wer - - - - du?
B: Ich - - - - Klaus.

- A) bin / bist B) ist / bist
C) seit / sind D) bist / bin

18.



Was ist das?

- A) Ofen B) Teekanne
C) Teller D) Topf

19. **Aşağıdakilerden hangisinin Türkçe karşılığı yanlış verilmiştir?**

- A) die Hose x pantolon
B) der Strumpf x çorap
C) das Hemd x gömlek
D) die Jacke x çanta

20. **Düzgün bir cümle oluşturunuz.**

sechzehn - ist - alt - Esra - Jahre
1 2 3 4 5

- A) 1 / 2 / 3 / 4 / 5
B) 3 / 5 / 2 / 1 / 4
C) 4 / 2 / 1 / 5 / 3
D) 2 / 1 / 4 / 3 / 5

3. OTURUM

(500) FRANSIZCA – 6

1-20. sorularda boş bırakılan yere uygun gelen kelime ya da ifadeyi işaretleyiniz.

1. Le frère de mon père est mon - - - - .

- A) neveu B) grand-père
C) oncle D) tante

2. - - - - bois deux litres d'eau.

- A) Il B) Je
C) Ils D) Elle

3. J'ai des enfants - - - - aiment beaucoup le tennis.

- A) qui B) que
C) ce qui D) ce que

4. Décembre, janvier, février sont trois mois - - - - il neige beaucoup.

- A) que B) qui
C) quoi D) où

5. J'ai acheté un CD - - - - j'écoute souvent.

- A) où B) que
C) qui D) ce que

6. - - - - il fait beau, mon grand-père va à la pêche.

- A) Pourquoi B) Comment
C) Combien D) Quand

7. Je - - - - restée en France pendant une année.

- A) sommes B) ont
C) suis D) avez

8. Nous irons - - - - ensemble pour faire du ski.

- A) à la mer B) à la montagne
C) au cinéma D) à la poste

9. - - - - Mme Dumont est sortie de la banque à 17 heures.

- A) Lundi dernier
B) Mercredi prochain
C) Demain matin
D) Le mois prochain

10. J'ai vu un film - - - - on parle beaucoup.

- A) qui B) où
C) que D) dont

11. Brigitte écoute de la musique en - - - - du jus d'orange.

- A) lisez B) mange
C) buvant D) lisons

12. A : Tu es encore célibataire ?

B : Non, je suis - - - - depuis trois mois.

- A) français B) marié
C) journaliste D) vieille

13. En venant, - - - - du fromage.

- A) a acheté B) achète
C) acheté D) as acheté

14. S'il fait beau demain, j'irai - - - - à la mer.

- A) faire de la planche à voile
B) faire des randonnées
C) faire des achats
D) camper en pleine nature

15. Si tu es - - - - , alors tu ne manges pas de viande.

- A) généreuse B) végétarien
C) nerveuse D) timide

16. Ayşegül est fatiguée - - - - a beaucoup travaillé.

- A) parce qu'il
B) combien
C) parce qu'elle
D) comment

17. Ils - - - - dansé toute la nuit.

- A) sommes B) sont
C) allons D) ont

18. - - - - Angleterre, on roule - - - - gauche.

- A) Aux / à B) À / en
C) Au / aux D) En / à

19. Les passagers - - - - accueillis par les hôtesses.

- A) sont B) est
C) as D) ont

20. Ne mange pas avec - - - - .

- A) la rue B) une forêt
C) les doigts D) les fleurs

(503) SEÇMELİ TARİH – 3

1. Aşağıdaki beyliklerden hangisi, Osmanlı Devleti'nin kuruluş dönemi'ndeki kara sınır komşularından biri değildir?

- A) Germiyanogulları
B) Karesioğulları
C) Candarogulları
D) Dulkadiroğulları

2. Anadolu'daki Bizans valisi ve beylerine verilen unvan, aşağıdakilerden hangisidir?

- A) Voyvoda B) Tekfur
C) Şövalye D) Şad

3. Osmanlı Beyliği'nin kurulduğu dönemde Anadolu ve Balkanlar için aşağıdakilerden hangisi söylenemez?

- A) Türkiye Selçuklu Devleti yıkılmıştır.
B) Anadolu'nun büyük bir bölümü İlhanlıların kontrolü altındadır.
C) Doğu Karadeniz Bölgesi'nde Trabzon İmparatorluğu bulunmaktadır.
D) Balkanlarda Sırp ve Bulgar krallıkları ile Bosna, Hersek ve Arnavutluk gibi küçük devletler vardır.

4. Anadolu Türk birliğinin kurulması için Osmanlılar Dönemi'nde yapılan ilk adım, aşağıdakilerden hangisidir?

- A) Trabzon İmparatorluğu'nun hâkimiyetine son verilmesi
B) Çimpe Kalesi'nin ele geçirilmesi
C) Karesi Beyliği'nin alınması
D) İstanbul'un fethi

5. Fetret Devri'ne son veren padişah, aşağıdakilerden hangisidir?

- A) I. Murat B) II. Murat
C) I. Mehmet D) II. Mehmet

6. Aşağıdaki savaşlardan hangisi, Sultan I. Murat Hüdavendigâr Dönemi siyasi olaylarından değildir?

- A) Varna B) Çirmen
C) I. Kosova D) Sırpsındığı

3. OTURUM

7. Yıldırım Bayezit Dönemi'nin siyasi olaylarından olan Niğbolu ve Ankara savaşlarının Osmanlı açısından ortak olumsuz sonucu, aşağıdakilerden hangisidir?

- A) Viyana'nın kuşatılmaması
B) İstanbul'un fethinin gecikmesi
C) Denizcilik faaliyetlerinin başlamaması
D) Kutsal Emanetler'in Mısır'dan getirilememesi

8. Fatih Sultan Mehmet, Lehistan üzerine yapılacak seferlerde önemli bir üs elde etmek için, aşağıdaki yerlerden hangisinin fethinin gerekli olduğunu düşünmüştü?

- A) Trabzon B) Amasra
C) Kırım D) Mora

9. "Osmanlı toprak yapısı içinde gelirleri padişah kızlarına, annelerine ve eşlerine ayrılan topraklara - - - - denirdi."

Boş bırakılan yere aşağıdakilerden hangisi getirilmelidir?

- A) Ocaklık B) Yurtluk
C) Mukataa D) Paşmaklık

10. Osmanlı Devleti'nde tek bir ticaret maddesinin toptan satışının ya da dağıtımının yapıldığı kapalı pazar yerlerine ne ad verilir?

- A) Kapan B) Cebelü
C) İmaret D) Bedesten

11. Osmanlı Devleti'nde kanunlar ilk defa hangi padişah döneminde "Kanunname-i Âli Osman" adıyla yazılı hâle getirilerek düzenlenmiştir?

- A) Yavuz Sultan Selim
B) Murat Hüdavendigâr
C) Fatih Sultan Mehmet
D) Kanuni Sultan Süleyman

12. Aşağıdaki bilgilerden hangisi Takiyüddin Mehmet ile ilgili değildir?

- A) III. Murat Devri astronomi ve matematik bilginidir.
B) İstanbul'daki ilk gözlem evinin kurucusudur.
C) Ay ve Güneş tutulmaları ile ilgili gözlemler yapmıştır.
D) En tanınmış yapıtı "Mirat'ül Memalik" adlı eseridir.

13. I. Turnadağ Savaşı
II. Ridaniye Savaşı
III. Mercidabık Savaşı
IV. Çaldıran Savaşı

Verilen savaşların oluş sırası, aşağıdakilerin hangisinde doğru verilmiştir?

- A) IV - III - II - I B) IV - I - III - II
C) I - II - III - IV D) I - IV - III - II

14. Rönesans'ın İtalya'da başlamasında, İtalya'nın aşağıdaki özelliklerinden hangisi etkili olmamıştır?

- A) Siyasi B) Coğrafi
C) Askerî D) Ekonomik

15. Devlet bu eyaletlerde;

- Tımar sistemini uygulamaz,
- vergileri iltizam usulü ile yıllık toplardı.

Aşağıdaki eyaletlerden hangisi, bu açıklamalara verilebilecek uygun bir örnek değildir?

- A) Budin B) Mısır
C) Tunus D) Cezayir

16. Aşağıdakilerden hangisi, Osmanlı Devleti'nin Duraklama Dönemi'ne girmesine yol açan dış nedenlerden biridir?

- A) Tımar sisteminin bozulması
B) Coğrafi keşifler sonucunda yeni ticaret yollarının keşfi
C) Pozitif bilimlerin medreselerin eğitim programlarından çıkarılması
D) Şehzadelerin Sancak Bey'i olarak sancaklara gönderilme geleneğinin kaldırılması

17. Osmanlı bürokrasisini oluşturan sınıf, aşağıdakilerden hangisidir?

- A) Reaya B) İlimiye
C) Seyfiye D) Kalemiye

18. Aşağıdakilerden hangisi 17. yüzyılda Osmanlı - İran arasında imzalanan antlaşmalardan biri değildir?

- A) Nasuh Paşa B) Serav
C) Zitvatorok D) Kasrışirin

19. Topkapı Sarayı'ndaki Bağdat Köşkü'nü yaptıran Osmanlı padişahı aşağıdakilerden hangisidir?

- A) III. Murat B) IV. Murat
C) III. Selim D) IV. Mehmet

20. Avrupalılar, aşağıdaki hangi olay sonrasında Türkleri Avrupa'dan atmak için papanın önderliğinde "Kutsal İttifak" birliğini kurmuşlardır?

- A) II. Viyana Bozgunu
B) Genç Osman'ın şehit edilmesi
C) Türklerin Kıbrıs Adası'nı ele geçirmesi
D) İstanbul'un fethi

(504) SEÇMELİ TARİH - 4

1. Rusya, aşağıdaki antlaşmalardan hangisiyle ilk kez Karadeniz'de kıyısı olan bir devlet konumuna gelmiştir?

- A) Karlofça Antlaşması
B) Belgrad Antlaşması
C) İstanbul Antlaşması
D) Prut Antlaşması

2. Aşağıdakilerden hangisi, Küçük Kaynarca Antlaşması'nın şartlarından biri değildir?

- A) Kırım hanları sadece dinî bakımdan Osmanlı halifesine bağlı olacak
B) Kabartay arazisi ile Azak Kalesi ve çevresi Ruslara verilecek
C) Rusya, Balkanlarda istediği yerde konsolosluk açabilecek
D) Bosna Hersek'e özerklik verilecek

3. Osmanlı Devleti'ne kaybettiği toprakları geri alma umutlarını, aşağıdaki antlaşmalardan hangisi sona erdirmiştir?

- A) Pasarofça B) Karlofça
C) Prut D) Yaş

4. Amerika Kıtası'nın keşfinden sonra Kuzey Amerika'nın Atlas Okyanusu kıyılarına yerleşerek buralarda sömürgeler meydana getiren devlet, aşağıdakilerden hangisidir?

- A) İtalya B) İspanya
C) Portekiz D) İngiltere

5. Aşağıdaki devletlerden hangisi, Osmanlı toprağı olan Mısır'ı 1798 yılında ele geçirerek İngiliz sömürgelerine giden yolu kontrol altına almak istemiştir?

- A) İspanya B) Fransa
C) İtalya D) Prusya

3. OTURUM

6. Osmanlı Devleti Kızıldeniz ile Akdeniz'i birleştiren Süveyş kanalının açılmasıyla daha çok hangi alanda yeniden canlanmayı amaçlamıştır?

- A) Askeri B) Hukuk
C) Ticaret D) Tarım

7. Dinyester ve Tuna nehirleri arasında Rusya ve Avusturya'ya bağımlı kurulması düşünülen yeni devletin adı, aşağıdakilerden hangisidir?

- A) Dakya B) Grek
C) Hitit D) Besarabya

8. 1776 tarihli İnsan Hakları Bildirisi nerede ilan edilmiştir?

- A) Fransa'da B) Almanya'da
C) İngiltere'de D) Amerika'da

9. Fransız İhtilali öncesinde Fransa'da yaşanan ekonomik bunalımdan en çok etkilenenler, aşağıdakilerden hangisidir?

- A) Asiller B) Köylüler
C) Papazlar D) Krallar

10. Osmanlı Devleti 18. yüzyılda daha çok askeri alanda ıslahat yapmıştır. Aşağıdakilerden hangisi bu durumun temel nedenidir?

- A) Ekonominin güçlü olması
B) Avrupa'nın Osmanlı'nın iç işlerine karışması
C) Savaşlarda yenilgiler alınması
D) Bilim ve teknolojiye ilenilmesi

11. Kavalalı Mehmet Ali Paşa'nın çıkardığı Mısır İsyanı'nda, aşağıdaki devletlerden hangisi Mehmet Ali Paşa'ya karşı Osmanlı Devleti yanlısı bir politika izlemiştir?

- A) Rusya B) İsveç
C) Avusturya D) Yunanistan

12. Osmanlı padişahlarından II. Osman ile II. Mahmut, merkezî otoritelerini güçlendirmek adına yapmaya çalıştıkları ortak icraat, aşağıdakilerden hangisidir?

- A) Maliyeyi düzeltme
B) Kapitülasyonları kaldırma
C) Kanunuesasi'yi hazırlatma
D) Yeniçeri Ocağı'nı kapatma

13. Ordunun fes ihtiyacını karşılamak için Feshane, aşağıdaki hangi Osmanlı padişahı döneminde kurulmuştur?

- A) III. Selim B) II. Mahmut
C) IV. Murat D) II. Abdülhamit

14. "Rusların yardımıyla Rumlar ilk isyanı 1820'de - - - - başlatmışlardır." Verilen cümlelerin doğru olabilmesi için boş bırakılan yere, aşağıdakilerden hangisi yazılmalıdır?

- A) İstanbul'da B) Atina'da
C) Mora'da D) Eflâk'ta

15. Osmanlı Devleti'ndeki gayrimüslimlere, aşağıdakilerden hangisiyle kendi okul ve hastanelerini açma izni verilmiştir?

- A) Senediittifakla
B) Kanunuesasi'yle
C) Islahat Fermanı'yla
D) Tanzimat Fermanı'yla

16. 19. yüzyılda meydana gelen aşağıdaki olaylardan hangisi, Osmanlı Devleti'nin zararına gelişen bir olay olmamıştır?

- A) Meşrutiyet yönetimine geçilmesi
B) Duyunuumumiye İdaresinin kurulması
C) Berlin Antlaşması'yla Sırlara bağımsızlık verilmesi
D) Osmanlı Devleti'nin İngiltere ve Fransa'dan borç para alması

17. Aşağıdakilerden hangisi, Avrupa devletlerinin azınlıkları koruma bahanesiyle Osmanlı'nın iç işlerine karışmasını önlemek amacıyla yapılmıştır?

- A) Duyun-u Umumiye İdaresi'nin kurulması
B) Tanzimat Fermanı'nın ilanı
C) Saltanatın kaldırılması
D) Senediittifak

18. II. Abdülhamit Dönemi'nde Osmanlı Devleti'nin resmî politikası hâline gelen fikir akımı, aşağıdakilerden hangisidir?

- A) Batıcılık B) Turancılık
C) İslamcılık D) Osmanlıcılık

19. Sultan II. Mahmut, askerî bandoyu kurdurtmak için aşağıdakilerden hangisini İtalya'dan getirmiştir?

- A) Francisco Goya
B) Güllü Agop
C) Masaccio
D) Donizetti

20. Aşağıdakilerden hangisi, Osmanlı Devleti'nin I. Dünya Savaşı'nda müttefiklerine yardım amacıyla asker gönderdiği cephelerden biri değildir?

- A) Yemen B) Galiçya
C) Romanya D) Makedonya

(505) SEÇMELİ COĞRAFYA – 3

1. Birbiri üzerinde köşeleri yuvarlaklaşmış bloklardan meydana gelen tor topografyası hangi kayaç türünden oluşur?

- A) Gabro B) Bazalt
C) Granit D) Mermer

2. Polye, mağara, obruk gibi yer şekillerinin oluştuğu arazilerde yaygın olan kayaç türü aşağıdakilerden hangisidir?

- A) Başkalaşım kayaçları
B) Dış püskürük kayaçlar
C) Organik tortul kayaçlar
D) Kimyasal tortul kayaçlar

3. Tortul ve püskürük kayaçların yüksek sıcaklık ve basınç altında kalarak başka kayaçlara dönüşmesi ile metamorfik (başkalaşım) kayaçlar oluşur.

Aşağıdakilerden hangisinde kayacın başkalaşmış hali yanlış verilmiştir?

- A) Kireç taşı → Mermer
B) Kömür → Elmas
C) Kum taşı → Şist
D) Granit → Gnays

4. İki kıtasal levhanın birbirine yaklaştığı yerde aşağıdaki olaylardan hangisi gözlemlenir?

- A) Sıradağlar oluşur.
B) Volkanizma görülür.
C) Deprem ihtimali azalır.
D) Okyanus hendekleri oluşur.

3. OTURUM

5. Aşağıdakilerden hangisi fay hatları ile paralellik göstermez?

- A) Bitki kuşakları
- B) Volkanik kuşaklar
- C) Deprem kuşakları
- D) Sıcak su kaynakları

6. Anıl : "Gölün bulunduğu arazi yapısı"
Elif : "Gölün gideğenin (göl ayağı) bulunması"
Eren : "Gölün büyüklüğü ve derinliği"
Burcu : "Beslenme kaynakları"

Bir gölün sularının tatlı olmasının nedenini açıklayan öğrencilerden hangisinin verdiği cevap doğrudur?

- A) Anıl B) Elif C) Eren D) Burcu

7. • Toprağın organik madde (humus) bakımından zengin katıdır.
• Bitkiler bu katta bulunur.

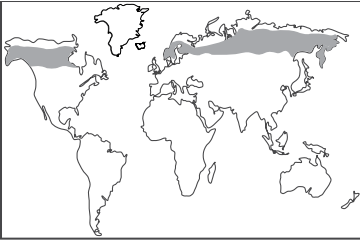
Yukarıda açıklanan toprak katmanı aşağıdakilerden hangisidir?

- A) A Horizonu B) B Horizonu
- C) C Horizonu D) D Horizonu

8. Akdeniz iklim bölgesinde kalker üzerinde oluşan, bünyesinde demir oksit oranı fazla olan kırmızı renkli topraklar aşağıdakilerden hangisidir?

- A) Laterit B) Podzol
- C) Çernezyom D) Terra-Rossa

9.



Haritada taranarak gösterilen alanlarda yaygın olan bitki örtüsü aşağıdakilerden hangisidir?

- A) Maki
- B) Tayga ormanları
- C) Muson ormanları
- D) Yağmur ormanları

10. "Gelişmiş ülkelerde nüfus artış hızı düşüktür."

Aşağıdakilerden hangisi bu durumun nedenlerinden biri değildir?

- A) Refah seviyesinin yüksek olması
- B) Kadınların çalışma hayatına girmesi
- C) Sanayi ürünleri ihracatının yüksek olması
- D) Ekonomik kalkınmanın gerçekleşmesi

11. Aşağıdakilerden hangisi nüfus yoğunluğunun az olduğu yerlerdendir?

- A) Batı Avrupa
- B) Nil Havzası
- C) Orta Asya
- D) Güneydoğu Asya

12. Bir ülkenin nüfus piramidi aşağıdakilerden hangisi hakkında fikir veremez?

- A) Kadın nüfus oranı
- B) Yaygın meslek grupları
- C) Ortalama yaşam süresi
- D) Nüfusun yaş gruplarına dağılımı

13. Aşağıdakilerden hangisi göçe neden olan ekonomik etkenlerden biridir?

- A) Ülke sınırlarının değişmesi
- B) İş imkânlarının sınırlı olması
- C) Sağlık hizmetlerinin kısıtlı olması
- D) Eğitim koşullarının yetersiz olması

14. Lozan Barış Antlaşması ile Yunanistan'daki Türkler ile Türkiye'deki Rumların yer değiştirmesi hangi göç türüne dâhildir?

- A) İşçi göçü
- B) Beyin göçü
- C) Kavimler göçü
- D) Mübadele göçü

15. I. Çin
II. Kanada
III. Güney Afrika Cumhuriyeti
IV. Avustralya

Yukarıdaki ülkelerden hangileri beyin göçü veren ülkeler arasında yer alır?

- A) Yalnız I B) Yalnız II
- C) I ve II D) III ve IV.

16. Aşağıdaki mesleklerden hangisi ikincil ekonomik faaliyet grubuna girer?

- A) Buğday üreten çiftçi
- B) Un fabrikasında çalışan işçi
- C) Marketlere ekmeğe dağıtan aracın sürücüsü
- D) Üretilen ekmeğin sağlığa uygunluğunu test eden gıda mühendisi

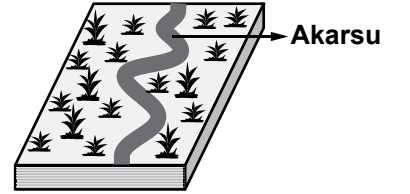
17. Aşağıdakilerden hangisi gelişmemiş ülkelere ait bir özelliktir?

- A) Milli gelirleri düşüktür.
- B) Ürün değerleri yüksektir.
- C) Nüfus artış hızı düşüktür.
- D) Sanayi ürünleri ihraç eder.

18. Aşağıdakilerden hangisi Türkiye'nin özel konumunun sonuçlarındandır?

- A) İklim çeşitliliği fazladır.
- B) Kışın cephesel yağışlar fazladır.
- C) Dört mevsim belirgin olarak yaşanır.
- D) Güneş ışınlarını hiçbir zaman dik açıyla almaz.

19.



Akarsuların eğiminin azaldığı yerde oluşan görseldeki yer şeklinin adı nedir?

- A) Tombolo B) Dev kazanı
- C) Falez D) Menderes

20. Aşağıdakilerden hangisi ülkemizde etkili olan yerel rüzgârlardan biri değildir?

- A) Poyraz B) Karayel
- C) Mistral D) Lodos

3. OTURUM

(506) SEÇMELİ COĞRAFYA – 4

1. • Organik madde bakımından zengindir.
• Yıkanmanın fazla olduğu yerlerde asitli ve kireçsizdir.
• Ülkemizde Kuzey Anadolu Dağları'nın denize bakan yamaçlarında yaygındır.
• Çay , kivi yetiştirmek için oldukça elverişlidir.

Yukarıda bazı özellikleri verilen toprak türü hangisidir?

- A) Vertisol
B) Çernezyom
C) Terra-Rossa
D) Kahverengi Orman Toprağı

2. **Aşağıdakilerden hangisi hammaddesi toprak olan sanayi ürünü değildir?**

- A) Porselen
B) Çömlek
C) Fayans
D) Sunta

3. Makiler, Marmara kıyılarında 300-400 m, Ege kıyılarında 500-600 m, Akdeniz kıyılarında 700-800 m yükseltiye kadar çıkabilmektedir.

Maki üst sınırının bölgelere göre değişiklik göstermesinin sebebi nedir?

- A) Enlem
B) Bakı
C) Deniz etkisi
D) Toprak tipi

4. **Aşağıdaki akarsulardan hangisi GAP'ta faydalanılanlardan biridir?**

- A) Kızılırmak
B) Meriç
C) Fırat
D) Bakırçay

5. **Aşağıdaki akarsulardan hangisi kaynağını başka ülkeden alıp, ülkemizin topraklarından denize dökülür?**

- A) Kura
B) Asi
C) Dicle
D) Aras

6. **Aşağıdaki su kaynaklarından hangisine ülkemizde rastlanmaz?**

- A) Gayzer
B) Fay
C) Artezyen
D) Yamaç

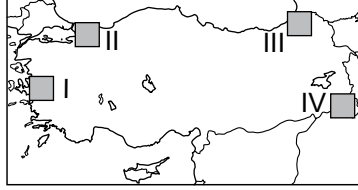
7. **Aşağıdakilerden hangisi geçici kır yerleşmesidir?**

- A) Çiftlik
B) Kom
C) Divan
D) Mahalle

8. **Aşağıdakilerden hangisi hinterlandı dar olan bir limanımızdır?**

- A) Mersin
B) İzmit
C) İzmir
D) Sinop

9.



Yukarıdaki haritada numaralandırılarak verilen yerlerin hangileri sanayi şehirlerini gösterir?

- A) I ve II.
B) I ve III.
C) II ve III.
D) III ve IV.

10. **Aşağıda verilen şehir - fonksiyon eşleştirmelerinden hangisi yanlıştır?**

- A) Mersin – Ticaret şehri
B) Manisa – Sanayi şehri
C) Nevşehir – Turizm şehri
D) Zonguldak – Ulaşım şehri

11. **Türkiye'de kentsel nüfus miktarı, kırsal nüfus miktarını ilk defa aşağıdaki dönemlerin hangisinde geçmiştir?**

- A) 1930 - 1940
B) 1950 - 1960
C) 1980 - 1990
D) 2000 - 2010

12. **Nüfus yoğunluğu en az olan ilimiz aşağıdakilerden hangisidir?**

- A) Konya
B) Tunceli
C) Yalova
D) Bursa

13. **Göç alan yerlerde erkek nüfus kadın nüfustan fazladır.**

Aşağıdaki şehirlerin hangisinde bu durum gözlenir?

- A) Kocaeli
B) Sinop
C) Kastamonu
D) Kırşehir

14. **Genetik mühendisliğinden mezun olan birinin, çalışmalarını daha iyi yürütebileceğini düşündüğü başka bir ülkeye yerleşmesi ile ortaya çıkan göç türü aşağıdakilerden hangisidir?**

- A) İşçi göçü
B) Beyin göçü
C) Mevsimlik göç
D) Mübadele göçü

15. **Aşağıdakilerden hangisi günümüze daha yakın bir zaman diliminde gerçekleşmiştir?**

- A) Matbaanın icadı
B) Fotoğraf makinesinin icadı
C) Radyo istasyonu kurulması
D) İlk sinema filminin yapılması

16. **Hindistan'dan Japonya'ya giden bir gemi aşağıdaki boğazlardan hangisini kullanır?**

- A) Bering Boğazı
B) Hürmüz Boğazı
C) Malakka Boğazı
D) Cebelitarık Boğazı

17. **Dünya'da hava yolu ulaşımının en yaygın ve en gelişmiş olduğu ülke hangisidir?**

- A) ABD
B) Japonya
C) İngiltere
D) Fransa

18. **Tarihi İpek Yolu aşağıdaki ülkelerin hangisinden geçmez?**

- A) Türkiye
B) Hindistan
C) Çin
D) İran

19. **Aşağıdaki doğal afetlerden hangisi meteorolojik kökenli değildir?**

- A) Sel
B) Kasırga
C) Tsunami
D) Yıldırım düşmesi

20. **Aşağıdakilerden hangisi deprem sırasında alınacak önlemlerden biridir?**

- A) Gaz ve su vanaları kapatılmalıdır.
B) Telefon acil durumlar için kullanılmalıdır.
C) Çevrede ihtiyacı olanlara yardım edilmelidir.
D) Balkon, asansör ve merdivenden uzak durulmalıdır.

(533) HZ. MUHAMMED'İN HAY. – 3**1. Aşağıdakilerden hangisi İslamiyet öncesi Mekke'deki kabile anlayışıyla ilgili söylenemez?**

- A) Kabiledeki bir kişinin işlediği suç mensup olduğu kabiledaki herkes işlemiş sayılırdı.
 B) Bir kabile mensubu haksız da olsa kendi kabilesini savunurdu.
 C) Kabileler sosyal yapının temelini oluşturmaktaydı.
 D) Bireyler mensubu olacağı kabileyi kendisi seçerdi.

2. On dört asır evvel, yine böyle bir geceydi, Kumdan, ayın on dördü bir öksüz çıkıverdi.

- Lakin o ne hüsrandı ki hissetmedi gözler,
 Kaç bin senedir hâlbuki bekleşmedelerdi!

Bu dörtlükte Mehmet Akif aşağıdakilerden hangisinden bahsetmektedir?

- A) Öksüz ve yetimlerin önemi
 B) Hz. Peygamber'in doğumu
 C) Müslümanların karşılaştığı zorluklar
 D) Kur'an'ın tüm zamanlara hitap etmesi

3. Aşağıdakilerden hangisi Hz. Peygamber'in toplumsal huzur ve başarıya verdiği önem ile ilgili değildir?

- A) Ticaret ile uğraşması
 B) Hıfıfı-I-Fudul'a katılması
 C) Medine Sözleşmesi'ni yapması
 D) Hudeybiye Antlaşması'nı imzalaması

4. Aşağıdakilerden hangisi ilk Müslümanlardan biri değildir?

- A) Hz. Hatice
 B) Hz. Ali
 C) Hz. Ömer
 D) Hz. Ebu Bekir

5. İslam dini bir müminin aşağıdaki sıfatlardan hangisine sahip olmasını tavsiye eder?

- A) Cimrilik
 B) Doğruluk
 C) Kibir
 D) Haset

6. Aşağıdakilerden hangisi hicretin Müslümanların hayatında meydana getirdiği önemli sonuçlardan biri değildir?

- A) Medine Devri başlamıştır.
 B) İslam hızlı yayılma evresine girmiştir.
 C) Müslümanlar Mekkelilerin baskısından kurtulmuştur.
 D) Yahudilerin hepsinin Müslüman olmasıyla güç kazanmışlardır.

7. • Allah yolunda hicret edenlere denir. • Peygamberimizin Medine'deki mescididir.

- Hz. Peygamber Medine'de farklı inanç gruplarının bir arada huzur ve düzen içinde yaşamasını sağlamak amacıyla hazırlamıştır.

Bu bilgilerde aşağıdakilerden hangisinin tanımı verilmemiştir?

- A) Hudeybiye Antlaşması
 B) Medine vesikası
 C) Mescid-i Nebi
 D) Muhacir

8. Yok mu, ey yolcu, bu yoldan dönmek; Yeniden Refref'e binmek yok mu? Göğe çıktın yine... Lakin bu sefer, Ya Muhammed, yere inmek yok mu?**Bu dörtlükte aşağıdakilerden hangisi vurgulanmaktadır?**

- A) Peygamberimizin doğumu
 B) Peygamberimizin vefatı
 C) Medine'ye hicreti
 D) Taif yolculuğu

9. "Allah bana ondan daha hayırlısını vermedi. Halk bana inanmazken o inandı. Herkes bana yalancı derken o doğru söylediğimi kabul etti. Kimse bana bir şey vermezken o beni maliyle destekledi ve Cenab-ı Hak ondan bana çocuklar ihsan etti." (Hadis)**Hiz. Peygamber'in bu sözlerinde övdüğü hanımı aşağıdakilerden hangisidir?**

- A) Hz. Aişe
 B) Hz. Safiye
 C) Hz. Zeynep
 D) Hz. Hatice

10. Her fırsatta Allah'a kendisine sağlık bahsetmesi için dua eden bir kimsenin aşağıdakilerden hangisini yapması bu isteğiyle çelişir?

- A) Organik gıda tüketmesi
 B) Düzenli yürüyüşler yapması
 C) Sigarayla alışkanlık haline getirmesi
 D) Mevsimin gerektirdiği şekilde giyinmesi

11. Bazı ibadetleri yapabilmek için belli oranda sağlıklı olmak gerekir. Sağlığı yerinde olmayan insanlar dinimizin onlara sağladığı kolaylıklar ile hareket ederler.**Bu kolaylıklar aşağıdaki ibadetlerden hangisini kapsamaz?**

- A) Namaz kılmak
 B) Zekat vermek
 C) Oruç tutmak
 D) Hacca gitmek

12. Halk içinde muteber bir nesne yok devlet gibi Olmaya devlet cihanda bir nefes sıhhat gibi**Bu dizede aşağıdakilerden hangisinin önemi vurgulanmaktadır?**

- A) Sağlığın
 B) Devletin
 C) Halkın
 D) İtibar görmenin

13. Aşağıdakilerden hangisi Hz. Peygamber'in sağlık ile ilgili tavsiyelerinden biri değildir?

- A) Kan vermek
 B) Spor yapmak
 C) Beyaz giymek
 D) Dişleri temizlemek

14. "İhtiyarlık gelmeden önce gençliğin, hastalık gelemeden evvel sağlığın, fakirlik gelmeden önce zenginliğin, meşguliyet gelmeden önce boş vaktin ve ölüm gelmeden önce de hayatın kıymetini biliniz"**Verilen hadiste aşağıdakilerden hangisinin öneminden bahsedilmemiştir?**

- A) Gençliğin
 B) Sağlığın
 C) Boş vaktin
 D) Özgürlüğün

15. Hastalanan bir kimsenin aşağıdakilerden hangisini öncelikle yapması gerekir?

- A) Hastalığa sabrederek sevap kazanmaya karar vermesi
 B) Hastalıktan kurtulmak için dua etmesi
 C) Tedavi için doktora gitmesi
 D) Moralini yüksek tutması

3. OTURUM

16. Bir yerde veba ve benzeri, herhangi bir bulaşıcı hastalık olduğunu işittiğiniz zaman, o yere girmeyiniz. Bulduğunuz yerde böyle bulaşıcı bir hastalık varsa oradan da çıkmayınız.

Hz. Muhammed (sav.) bu sözüyle aşağıdakilerden hangisinin önemi vurgulamıştır?

- A) Kadere razı olmanın
- B) Karantina uygulamasının
- C) Vebanın bulaşıcı olduğunun
- D) Hastalıklara sabretmek gerektiğinin

17. Aşağıdakilerden hangisi inançta denge ile ilişkilendirilemez?

- A) Kişinin hem bedensel hem de ruhsal ihtiyaçlarını karşılaması
- B) İnsanın duygusal yoğunluklarını kontrol edebilmesi
- C) Bireyin takat yatacağı kadar ibadet etmesi
- D) Allah ile beraber başka tanrılara inanması

18. Beni överken Hristiyanların İsa'yı övdükleri gibi aşırılığa gitmeyin. Onlar İsa'yı Allah'ın oğlu konumuna yükselttiler. Ben Allah'ın bir kulumum. Bu yüzden bana Allah'ın kulu ve elçisi deyin.

Bu hadis aşağıdakilerden hangisi ile ilgilidir?

- A) İnançta denge
- B) İbadette denge
- C) Davranışlarda denge
- D) Duygularda denge

19. Din kolaylıktır. Hiç kimse dini zorlaştırmaya kalkmasın, ona mağlup olur. O halde doğru yolu takip edin ve orta yolu elden bırakmayın. Müjdeleyin, imrendirin ve kolaylaştırın.

Aşağıdaki hadislerden hangisi verilen hadisle anlamca aynı doğrultudadır?

- A) Amellerin en güzeli, az da olsa devamlı olanıdır.
- B) Sizden biriniz bir iş yaptığı zaman onu en güzel şekilde yapsın.
- C) Kolaylaştırınız güçleştirmeyiniz, müjdeleyiniz nefret ettirmeyiniz.
- D) Dostunu severken ölçülü sev çünkü günün birinde düşmanın olabilir. Düşmanına da ölçülü bir şekilde buğzet, o da günün birinde dostun olabilir.

20. "Allah'ın sana verdiği Ahiret yurdunu gözet, dünyadan da nasibini unutma..."

(Kasas suresi, 77. ayet)

Bu ayetten aşağıdakilerden hangisine ulaşılamaz?

- A) Dünya ve ahiret dengede tutulmalıdır.
- B) Rızıklardan ahiret için sarf edilmez.
- C) Ahiret ancak dünyada iken kazanılır.
- D) Dünya hayatından tamamen uzaklaşılmalıdır.

(534) HZ. MUHAMMED'İN HAY. – 4

1. Aşağıdakilerden hangisi İslam dininin ibadet özgürlüğüne verdiği öneme örnek oluşturmaz?

- A) Bir Yahudi cenazesi geçerken Hz. Peygamber'in ayağa kalkması
- B) Hz. Peygamber'in Necranlı Hristiyanların mescitte ibadet etmelerine izin vermesi
- C) II. Mehmet'in İstanbul'u fethedince farklı din mensuplarını dinlerinde serbest bırakması
- D) Kudüs'ü fetheden Hz. Ömer'in orada yaşayan Hristiyan ve Yahudilerin ibadet özgürlüğünü teminat altına alması

2. I. İnanç ve ibadet özgürlüğü
II. Düşünce ve ifade özgürlüğü
III. Ekonomik Özgürlük

İslam dinine göre her insanın doğuştan sahip olduğu temel hak ve özgürlükler hangi seçenekte verilmiştir?

- A) Yalnız I
- B) I ve II.
- C) II ve III.
- D) I, II ve III.

3. Aşağıdakilerden hangisi düşünce ve ifade özgürlüğü için söylenemez?

- A) Kişinin doğuştan elde ettiği hak ve özgürlüklerden biridir.
- B) İstişare yapmak düşünce özgürlüğüne verilen önemi gösterir.
- C) Düşüncelerin her ortamda ve istenilen şekilde ifade edilmesidir.
- D) Toplumsal hayatı kolaylaştırır, çeşitli alanlarda gelişmeye katkı sağlar.

4. İslam dinine göre aşağıdaki yargılardan hangisi yanlıştır?

- A) Hak ve özgürlüklerin kullanımı, haramlar işlenmediği ve başkalarının özgürlüklerine zarar vermediği müddetçe serbesttir.
- B) Kamu düzenini bozacak ve insanların temel haklarına zarar verecek türden davranışları açıkça işlemek ve teşvik etmek özgürlük olarak değerlendirilemez.
- C) Hakaret etmek, küçümsemek, azarlamak aşağılamak da ifade özgürlüğünün bir sonucudur.
- D) Konuşma hürriyeti adı altında haramların reklamını yapmak, insanları teşvik etmek doğru kabul edilmez.

5. Aşağıdakilerden hangisi özgürlük kapsamında değerlendirilebilir?

- A) Müziğin sesini başka evlerin de duyabileceği kadar açmak
- B) Kişinin katılmadığı bir düşünceyi eleştirmesi
- C) Trafikte araç hızını istediği kadar artırmak
- D) Bireyin dilediği yerde sigara içmesi

6. Hz. Peygamber hicretten sonra Medine pazarını kurdu. Böylece Medine ekonomisini Yahudilerin tekelinden kurtardı. Serbest piyasa şartlarının oluşmasını sağladı. İktisadi hayatta uyulması gereken bazı kurallar koydu. Bu konuda kontrol ve düzenleme işini kendisi üstlendi.

Hz. Peygamber bununla aşağıdakilerden hangisini amaçlamış olamaz?

- A) Ekonomik özgürlükleri korumayı
- B) Yahudilere ticaret öğretmeyi
- C) İktisadi hayatı geliştirmeyi
- D) Adaleti sağlamayı

7. İmanın hür iradeye dayalı olması aşağıdakilerden hangisi ile daha çok ilişkilidir?

- A) İnanç ve ibadet özgürlüğü
- B) Düşünce ve ifade özgürlüğü
- C) Mülk edinme özgürlüğü
- D) Seyahat özgürlüğü

3. OTURUM

8. Aşağıdakilerden hangisi konusu itibarıyla diğerlerinden farklıdır?

- A) "...Sen öğüt ver çünkü sen ancak öğüt vericisin. Onların üzerine zorlayıcı değilsin."
(Gâşiye suresi, 21-22. ayetler)
- B) "Eğer inanmayıp yüz çevirirlerse bilsinler ki biz seni onların üzerine bekçi olarak göndermedik. Sana düşen sadece tebliğdir."
(Şura suresi, 48. ayet)
- C) "De ki hakikat Rabbinizdendir. Artık dileyen inansın, dileyen inkâr etsin."
(Kehf suresi, 29. ayet)
- D) "Sözünü dinleyip de onun en güzeline uyanlar var ya işte onlar Allah'ın hidayete erdirdiği kimselerdir. İşte onlar akıl sahiplerinin ta kendileridir."
(Zümer suresi, 18. ayet)

9. • Hz. Hatice -Ticaret
• Hz. Rufeyde, Hz. Ümmü Atiyye - Sağlık
• Abdullah bin Mesud'un eşi Hz. Zeynep -El sanatları

Hanım sahabeler ve çalıştıkları alanlar incelendiğinde aşağıdakilerden hangisine ulaşılabilir?

- A) Kadınlar ancak eşlerinin izin verdiği ölçüde çalışabilir.
B) İslam'da kadın sosyal hayatın içindedir.
C) Kadınlar bazı alanlarda çalışmalıdır.
D) Kadınlar erkeklerin destekçisidir.

10. Bir defasında Hz. Muhammed (sav.) Hz. Ali'ye şöyle dedi: "Sana iki kişi muhakeme olmak için geldiğinde hiçbir zaman ikisini de dinlemeden karar verme. Çünkü doğruyu bulmak her ikisini de dinlediğinde mümkündür."

Bu metinde Müslüman bir yöneticinin görev ve sorumluluklarından hangisi dile getirilmektedir?

- A) Adaletli olmak
B) İstişare etmek
C) Liyakate önem vermek
D) Eğitim-öğretimi sağlamak

11. I. Kadın ile istişare edilir fakat söyledikleri ile karar alınmaz.
II. Kadınlara hoşgörülü ve anlayışlı davranmak tavsiye edilmiştir.
III. Kadınların namazlarını camide cemaatle kılması yasaklanmıştır.
IV. Temel hak ve özgürlüklerde kadın ve erkek eşittir.

Numaralanmış cümlelerden hangisi İslam dinine göre doğrudur?

- A) I ve IV. B) I ve III.
C) II ve IV. D) II ve III.

12. "Ey insanlar! Doğrusu biz sizi bir erkekle bir dişiden yarattık. Ve birbirinizle tanışmanız için sizi kavimlere ve kabilelere ayırdık. Allah katında en değerli olanınız, Allah'a karşı gelmekten en çok sakınanınızdır..."
(Hucurât suresi, 13. ayet)

Bu ayetten aşağıdakilerden hangisi çıkarılamaz?

- A) Kullukta insanların eşit olduğu
B) İnsanın sosyal bir varlık olduğu
C) İnsanın yaratılanların en şerefli olduğu
D) Allah katında üstünlüğün takvaya bağlı olduğu

13. "Bir Müslümanın izinsiz olarak bir başkasının evinin içini gözetlemesi helal değildir. Böyle yapan, günah işlemiş olur."

Bu hadiste aşağıdakilerden hangisi vurgulanmıştır?

- A) Seyahat etme özgürlüğü
B) Özel yaşamın gizliliği hakkı
C) İnanç ve ibadet etme hakkı
D) Düşünce ve ifade özgürlüğü

14. Veda Haccı için Mekke'ye giden Hz. Peygamber'in kafilesinde kadınlar da vardı. Develerin yürüyüş düzenini sağlayan Enceşe adında bir genç, coşkuyla şiir okuyor, ezgiler söylüyordu. Bu durum develerin hızlanmasına, üzerindeki kadınların rahatsız olmasına neden oluyordu. Hz. Peygamber müdahale ederek : "Enceşe! Sakin ol. Kristalleri dikkatli taşı!" dedi.

Bu metinde Hz. Muhammed (sav.)'in hangi özelliği öne çıkmaktadır?

- A) Hayvanlara merhametli davranma
B) Kadınlara değer verme
C) Emanete sahip çıkma
D) Şiire önem verme

15. Hz. Muhammed (sav.);
- Kendisine ilk vahiy geldiğinde heyecanını ilk olarak Hz. Hatice ile paylaştı.
 - Çeşitli hususlarda eşlerine danışıp birlikte karar aldı.
 - Cahiliye Araplarının aksine kızlarını sevgi ve şefkatle bağrına bastı.
 - İnananları, "Sizin en hayırlınız eşlerine karşı en iyi davrananızdır." sözünü eşlerine karşı iyi davranmaya çağırdı.

Hz. Peygamber'in bu uygulamaları genel olarak aşağıdakilerden hangisinin göstergesidir?

- A) Kadınların erkeklere göre zayıf olduğunun
B) İslam'ın kadını erkekten üstün tuttuğunun
C) İslam'da kadın erkek eşitliğinin
D) İslam'ın kadına verdiği değerin

16. "O müminler öyle kimselerdir ki eğer kendilerine yeryüzünde bir iktidar versek namazı dosdoğru kılarlar, zekâtı verirler, marufu (iyi ve güzel olan şeyleri) emrederler, münkerden (kötü ve çirkin olan şeylerden) vazgeçirmeye çalışırlar..."
(Hac suresi, 41. ayet)

Bu ayette yöneticide bulunması gereken hangi özelliğe değinilmiştir?

- A) Liyakate önem verme
B) İyiliğe teşvik etme
C) İbadete özen gösterme
D) Kötülüğü engelleme

17. Aşağıdakilerden hangisi Hz. Peygamber'in yönetim ilkelerinden biri değildir?

- A) İstişare etme
B) Adaleti sağlama
C) Din birliğini sağlama
D) Ehliyet ve liyakate öncelik verme

18. Kenar-ı Dicle'de bir kurt aşırtsa bir koyunu,
Gelir de adl-i ilahî sorar Ömer'den onu.

Bu dizede yöneticilerin hangi vasfı vurgulanmaktadır?

- A) Sabırlı olmak
B) Merhametli olmak
C) Halka karşı tevazu göstermek
D) Sorumluluklarının bilincinde olmak

3. OTURUM

19. • Din ve devlet işlerine kimseyi karıştırmazdı.
• Hem peygamber hem de toplumun yöneticisiydi.
• Her zaman halkın işlerine öncelik verirdi.
• İnsanlara karşı tutamayacağı sözü vermezdi.

Hz. Muhammed (sav.) ile ilgili verilen bu bilgilerden kaç tanesi doğrudur?

- A) 1 B) 2 C) 3 D) 4

20. “İnkâr edenler de birbirlerinin yardımcılarıdır. Eğer siz de (birbirinizle) öyle olmadıkça yeryüzünde fitne ve büyük bir karışıklık baş gösterecektir.”

(Enfal suresi, 73. ayet)

Bu ayette aşağıdakilerden hangisi vurgulanmaktadır?

- A) Birlik ve beraberlik içinde olunması
B) İnanmayanlardan uzak durulması
C) Yöneticilerin adil olması
D) Zulme karşı durulması

(542) TÜRK DİLİ VE ED. – 2

1. **Tiyatro ile ilgili aşağıdakilerden hangisi yanlıştır?**

- A) Günümüzde sahnede canlandırılmak üzere yazılan eserler “tiyatro”, “oyun” ve “piyes” olarak adlandırılmaktadır.
B) Dramatik eserler olayların gelişimine göre “perde” ve “sahne”lere ayrılır.
C) Dramatik eserlerin merkezinde bir olay ve bu olaya katılan kişiler bulunur.
D) Eski Latin edebiyatından doğan tiyatro “oyun oynanan yer” anlamında kullanılmaktadır.

2. I. Tirat : Sessiz hareketlerle oynanan oyun.
II. Replik : Kişilerin birbirine söyledikleri sözler.
III. Suför : Oyuncuların el-kol hareketleri.
IV. Kulis : Oyuncuların sahne hazırlıkları yaptıkları yer.

Numaralanmış tiyatro terimlerinden hangileri yanlış açıklanmıştır?

- A) I ve II. B) I ve III.
C) II ve IV. D) III ve IV.

3. **Aşağıdakilerden hangisi Ahmet Kutsi Tecer’e ait bir tiyatro değildir?**

- A) Koçyiğit Koroğlu
B) Nalınlar
C) Satılık Ev
D) Yazılan Bozulmaz

4. Teknolojinin gelişmesiyle birlikte mektubun yerini - - - - almıştır.

Bu cümlede boş bırakılan yere aşağıdakilerden hangisi getirilmelidir?

- A) e-posta
B) görüntülü konuşma
C) kısa mesaj
D) blog

5. Son dönemde birçok roman ve hikâye film olarak uyarlanmaktadır.

Bu cümleden yola çıkılarak edebiyatın aşağıdakilerin hangisiyle ilişkisi olduğu söylenir?

- A) Tiyatro B) Mimari
C) Bale D) Sinema

6. Bir varmış bir yokmuş... Evvel zaman içinde, kalbur saman içinde... Develer tellallık eder eski hamam içinde... Hamamın tası yok. Külhancının baltası yok. Vakti zamanında çok iyiliksever bir padişah varmış. Fakirlere ramazanlarda yiyecek, bayramlarda giyecek dağıtırmış.

Bu metin aşağıdaki türlerin hangisinden alınmıştır?

- A) Fabldan B) Romandan
C) Masaldan D) Hikâyeden

7. Masalın bu bölümü genellikle bitiş tekerlemesiyle son bulur. Bu bölümde hem masal kişilerine hem de dinleyicilere yönelik iyi temennilerde bulunulur.

Bu metinde masalın bölümlerinden hangisi hakkında bilgi verilmiştir?

- A) Dügüm B) Döşeme
C) Çözüm D) Dilek

8. Fransız edebiyatının tanınmış fabl yazarıdır. Sade bir dille yazdığı fabllarında hayvanları kişileştirerek onların şahıslarında bazı insan karakterlerini eleştirmiştir. Fabllarında ahlak dersi vermeyi amaçlayan sanatçının pek çok eseri Orhan Veli Kanık ve Tevfik Fikret tarafından Türkçeye çevrilmiştir.

Bu parçada hakkında bilgi verilen sanatçı aşağıdakilerden hangisidir?

- A) La Fontaine B) Victor Hugo
C) Stendhal D) Balzac

9. • Sadece şiir şeklinde yazılır.
• Zaman ve yer genellikle belirsizdir.
• Sonunda her zaman bir ahlak dersi verilir.

“Fabl”la ilgili verilen bu cümleler doğru-yanlış bakımından değerlendirilirse sıralama aşağıdakilerden hangisi olur?

- A) D – D – Y B) Y – D – D
C) Y – Y – D D) D – Y – D

10. Dinleyicinin yalnızca konuşmacıya ve konuya odaklanması, konuşmacı ile bir etkileşime girmemesi - - - - olarak adlandırılır.

Bu cümlede boş bırakılan yere aşağıdakilerin hangisi getirilmelidir?

- A) eleştirel dinleme
B) katılımlı dinleme
C) katılımsız dinleme
D) yaratıcı dinleme

11. **Aşağıdakilerden hangisi etkili bir dinleme sırasında yapılması gerekenlerden biri değildir?**

- A) Konuşmacıyı iyi dinlemek için doğru bir konum seçilmelidir.
B) Aktif bir katılım için sık sık konuşmacının sözü kesilerek sorular sorulmalıdır.
C) Dinlenenlerle ilgili kısa kısa notlar alınmalıdır.
D) Konuşma öncesinde konuşmacıyla ilgili genel bir bilgi edinilmelidir.

3. OTURUM

(608) DEM. VE İNSAN HAK. – 2

12. İki katır yürüyormuş yan yana,
Biri yulaf yüklüymüş biri para
Köylülerden tuz vergisi toplamışlar,
Koca heybe dolusu mangır
Para yüklü katırda bir çalım, bir çalım
Başı havalarda

Bu dizeler aşağıdaki edebî türlerin hangisine örnektir?

- A) Fabla
B) Masala
C) Halk hikâyesine
D) Mesneviye

13. Kişiden kişiye olmakla birlikte bir gazete veya dergide yayımlanmak üzere yazılmış olan mektuplardır. "Millî Edebiyat Meselesi ve Cenap Bey'le Münakaşalarım, "İrfan Paşa'ya Mektup", "Okuruma Mektuplar" bu türün en önemli örnekleri arasında yer alır.

Bu parçada hakkında bilgi verilen tür aşağıdakilerin hangisidir?

- A) Edebî mektup
B) Manzum mektup
C) Kişiden kişiye yazılan mektup
D) Açık mektup

14. - - - - , görüntülerin veya çizilmiş desenlerin ışıkla bir perdeye düşürülerek hareketli görüntüler elde edilmesi temeline dayanan sanat dalıdır.

Bu cümlede boş bırakılan yere aşağıdakilerden hangisi getirilmelidir?

- A) Sinema
B) Opera
C) Operet
D) Tiyatro

15. "Günlük" kelimesi eski edebiyatımızda aşağıdakilerden hangisiyle karşılanırdı?

- A) Sefaretname
B) Tezkire
C) Siyer
D) Ruzname

16. Aşağıdaki eserlerden hangisi Nurullah Ataç'a aittir?

- A) Mavi ve Kara
B) Günlerin Getirdiği
C) Düşün Payı
D) Kültür ve Dil

17. Günümüzde sanal âlemden sıkça karşılaşılan "blog"lar aşağıdaki türlerin hangisiyle benzerlik göstermektedir?

- A) Makale
B) Biyografi
C) Günlük
D) Gezi yazısı

18. Aşağıdakilerden hangisi panelin düzenlenme aşamalarından biri değildir?

- A) Konuşmacıların belirlenmesi
B) Paneli yönetecek başkanın belirlenmesi
C) Başkanın panel konusunu ve konunun önemini belirtmesi
D) Başkanın konuşmacılar hakkındaki düşüncelerini açıklaması

19. "Kısa film"le ilgili aşağıdakilerin hangisinde bilgi yanlış yapılmıştır?

- A) Genellikle 30 ila 60 dakika uzunluğunda yoğun anlatıma sahip bir türdür.
B) Amaç kısa bir sürede bir görsel eseri en iyi biçimde perdeye yansıtmaktır.
C) Ses ve görüntü kalitesi sahne çekimlerinden sonra kontrol edilmelidir.
D) Filmi çekenin yaratıcılığı, teknik bilgisi ve yeteneği filmin başarısında rol oynar.

20. Aşağıdakilerden hangisi edebiyatımızdaki önemli masal derleyicilerinden biridir?

- A) Pertev Naili Boratav
B) Mehmet Akif Ersoy
C) Tevfik Fikret
D) Namık Kemal

1. • Bir hukuk düzeni tarafından düzenlenen geniş bir serbestlik alanıdır.
• Belli bir hukuk düzeni içerisinde, hukuk kurallarının kişilere belli yönde davranmaya izin vermesi, belli şeyleri istemeye yetkili kılmasıdır.

Tanımlanan bu kavramlar aşağıdakilerin hangisinde sırasıyla verilmiştir?

- A) Hak-ödev
B) Özgürlük-hak
C) Eşitlik-özgürlük
D) Özgürlük-eşitlik

2. I. Hümanizm düşüncesi
II. Doğal haklar anlayışı
III. Kuvvetler ayrılığı prensibi

İnsan hakları düşüncesinin gelişmesinde yukarıdakilerden hangileri etkili olmuştur?

- A) I ve II.
B) I ve III.
C) II ve III.
D) I, II ve III.

3. Aşağıdakilerden hangisi siyasi haklar arasında yer alır?

- A) Kamu hizmetlerine girme hakkı
B) Kişi dokunulmazlığı hakkı
C) Sendika kurma hakkı
D) Dinlenme hakkı

4. I. Ülke
II. Eşitlik
III. Egemenlik

Yukarıdakilerden hangileri devletin varlığı için zorunlu olan öğelerdendir?

- A) Yalnız I
B) I ve II.
C) I ve III.
D) II ve III.

5. Adalet; şerefli yaşamak, herkese payına düşeni vermek ve kimseye zarar vermemektir.

Bu adalet tanımı aşağıdaki düşünürlerden hangisine aittir?

- A) Kant
B) Grotius
C) Hobbes
D) Aristoteles

6. Aşağıdakilerden hangisi demokrasinin ilke ve kurumlarından değildir?

- A) Siyasi partiler
B) Seçimler ve temsil
C) Çoğulculuk ve katılım
D) Özgürlüklerin sınırsızlığı

3. OTURUM

7. Ülkemizde kanunların Anayasa'ya uygunluğunu denetleyen yüksek yargı organı aşağıdakilerden hangisidir?

- A) Sayıştay
- B) Danıştay
- C) Yargıtay
- D) Anayasa Mahkemesi

8. Seçimlerle ilgili aşağıda verilen uygulamalardan hangisi demokratik toplum düzeninin kurulmasını zorlaştırır?

- A) Gizli oy
- B) Genel oy
- C) Kısıtlı oy
- D) Açık sayım döküm

9. I. Tevhid-i Tedrisat Kanunu'nun çıkarılması.
II. Kadınlara seçme ve seçilme hakkının verilmesi.
III. Mevcut Anayasa'ya "Türkiye Devleti'nin yönetim biçimi cumhuriyettir." ibaresinin eklenmesi.

Yukarıdakilerden hangileri 1924 Anayasası döneminde gerçekleşmiştir?

- A) Yalnız I
- B) Yalnız II
- C) I ve III.
- D) II ve III.

10. Üyelerinin düşünce ve menfaatlerini gerçekleştirmek için, iktidarı kısmen ya da tamamen elde etmek amacıyla siyasi hayata katılan teşkilatlanmış bir gruptur.

Yukarıda hangi kavramın tanımı verilmiştir?

- A) Siyasi parti
- B) Çoğulculuk
- C) Sivil toplum
- D) Seçim sistemi

11. Ülkemizde ilk çok partili seçim hangi yıl yapılmıştır?

- A) 1938
- B) 1942
- C) 1946
- D) 1960

12. Aşağıdakilerden hangisi demokrasiyi yaşam tarzı haline getirmiş bireylerden beklenen davranışlardan değildir?

- A) Düşüncelerini söylemekten kaçınmak
- B) Sivil toplum örgütleri içinde yer almak
- C) Farklı düşüncelere hoşgörülle yaklaşmak
- D) Haklarını koruma bilincine sahip olmak

13. İnsan Hakları Evrensel Bildirgesi aşağıdaki uluslararası kuruluşların hangisi tarafından kabul edilmiştir?

- A) Avrupa Birliği
- B) Avrupa Konseyi
- C) Birleşmiş Milletler Örgütü
- D) Avrupa Güvenlik ve İşbirliği Teşkilatı

14. Aşağıdakilerden hangisi uluslararası sivil toplum kuruluşlarının faaliyet gösterdiği alanlardan biri değildir?

- A) Az gelişmişliğin desteklenmesi
- B) Gelir adaletsizliğinin önlenmesi
- C) İnsan hakları ihlallerinin önlenmesi
- D) İşkence ve soykırımla mücadele edilmesi

15. Aşağıdakilerden hangisi Birleşmiş Milletler Örgütü bünyesinde yer almaz?

- A) İşkenceye Karşı Komite
- B) Avrupa İnsan Hakları Mahkemesi
- C) Irk Ayrımcılığının Kaldırılması Komitesi
- D) Kadınlara Karşı Ayrımcılığın Kaldırılması Komitesi

16. Dünyanın bazı ülkelerinde insanlar açlıktan ölmekte ya da yetersiz beslenme sonucu sağlıklarını kaybederek, en temel insan hakkı olan yaşama ve sağlık hakkından mahrum kalmaktadır. Bazı ülkelerde yaşayan insanlar ise şişmanlıktan şikâyet etmektedir.

Yukarıda insan haklarının korunması konusunda demokrasilerde karşılaşılan hangi sorundan söz edilmiştir?

- A) Savaşlar
- B) Uluslararası terör
- C) Hızlı toplumsal değişme
- D) Bölgearası kalkınmışlık farkları

17. Kelime anlamı "yeniden doğuş" olan kavram aşağıdakilerden hangisidir?

- A) Teokrasi
- B) Kamuoyu
- C) Rönesans
- D) Çağdaşlaşma

18. Kant'a göre aydınlanma, insanın kendi aklını kullanmaya başlamasıdır.

Aşağıdaki davranışlardan hangisi bu tanıma ters düşer?

- A) İnsanların akıllarını otoritelerin etkisinden kurtarmaları
- B) Toplumun kabul ettiği doğruların hiç düşünmeden benimsenmesi
- C) İnsanların dogmalara değil, kendi akıllarına güvenmeleri
- D) İnsanların toplumda hazır buldukları yerleşik inançları sorgulamaları

19. Cumhuriyetin ilk yıllarında ekonomik kalkınmanın gerçekleştirilmesi amacıyla aşağıdaki ilkelerden hangisi benimsenmiştir?

- A) Laiklik
- B) Halkçılık
- C) Devletçilik
- D) Milliyetçilik

20. Aşağıdaki Atatürk İnkılaplarından hangisi doğrudan siyasal alanda yapılmıştır?

- A) Harf İnkılabı
- B) Saltanatın kaldırılması
- C) Medeni Kanun'un kabulü
- D) Soyadı Kanunu'nun kabul edilmesi

3. OTURUM

(615) SEÇ. DİL VE ANLA. – 5

1. Edebiyatımızın en önemli ve ünlü seyahatnamesi Evliya Çelebi'nin - - - - adlı eseridir. Ayrıca - - - - tarafından yazılan Paris Sefaretnamesi de bu türün özelliklerini taşıyan bir eserdir.

Bu parçada boş bırakılan yerlere sırasıyla aşağıdakilerden hangileri getirilmelidir?

- A) Mirat'ül Memalik – Koçi Bey
B) Keşf'üz Zünun – Sehi Bey
C) Seyahatname – Yirmisekiz Çelebi Mehmet
D) Frankfurt Seyahatnamesi – Latifi

2. • İlk resmî gazete Takvim-i Vakayi'dir.
• İlk yarı resmî gazete Ceride-i Havadis'tir.
• İlk özel gazete Tasvir-i Efkâr'dır.

Bu cümleler doğru - yanlış olarak değerlendirildiğine sıralama aşağıdakilerden hangisi olur?

- A) D – Y – Y
B) D – D – Y
C) Y – Y – D
D) Y – D – Y

3. Aşağıdaki eserlerden hangisi biyografi türünde değildir?

- A) Tek Adam B) Dertli Dolap
C) İkinci Adam D) Kırk Yıl

4. 30 Ocak, Ankara
Saat 13.30: Varlık'tan mektup geldi. Yaşar Nabi Dünya Şiir Antolojisi'ni yazacağını söylüyor.
Saat 15.00: Pikaba W. B. Yeats'ın bir plağını koydum. Sevgili ihtiyar ses!
Saat 16.00: Sıkıldım. Fethi Naci'nin Ortadirek üzerine bir yazısı...

Bu parça aşağıdaki türlerin hangisinden alınmıştır?

- A) Anıdan B) Günlükten
C) Mektuptan D) Otobiyografiden

5. • Amacı bilgi vermek, bir toplumu ilgilendiren bir düşünceyi geniş halk kitlelerine yaymaktır.
• Öne sürülen düşünce; araştırma ve belgelere dayandırılarak kanıtlanmaya çalışılır.
• Genellikle gazete ve dergilerde yayımlanan yazılardır.

Bu özellikler aşağıdaki türlerin hangisine aittir?

- A) Makaleye B) Fıkraya
C) Sohbeta D) Eleştiriye

6. Kimsenin zevkine karışılmaz; kedileri illa herkes sevsin, demeyeceğim ama ben kedi sevmeyenlerle anlaşamam. "Kiminle anlaşsın ki!" diyenler oluyor bazen bana. O da yalan değil. Bu yaşa geldim, büyüğü ile de küçüğü ile de çekişmeyi bir türlü bırakmadım.

Bu parça aşağıdaki türlerin hangisine örnektir?

- A) Denemeye B) Makaleye
C) Eleştiriye D) Anıya

7.

	Kavramlar	Açıklamalar
I	Sürmanşet	Şişirme haber.
II	Tekzip	Yalanlama.
III	Asparagas	Gazetelerin birinci sayfasındaki logonun üzerinde kullanılan başlık.
IV	Muhabir	Basın ve yayın organlarına haber toplayan kimse.

Bu tabloda numaralanmış hangi kavramların yeri değiştirilirse tablodaki yanlışlık giderilmiş olur?

- A) I ve II. B) I ve III.
C) II ve IV. D) III ve IV.

8. Aşağıdakilerden hangisi olay çevresinde oluşan edebî metinlerdendir?

- A) Sohbet B) Eleştiri
C) Haber yazısı D) Masal

9. Ankara Üniversitesi Dil ve Tarih-Coğrafya Fakültesi Dekanlığına
ANKARA

Fakültenizin Türk Dili ve Edebiyatı Bölümü son sınıfında okuyan 103620 numaralı öğrencisiyim. Tarafıma öğrenci belgesi verilmesini istiyorum. Gereğini arz ederim.

Adres:

03.06.2014
İmza
Adı-Soyadı

Bu parça aşağıdakilerden hangisine örnektir?

- A) Resmî mektuba
B) Edebî mektuba
C) İş mektubuna
D) Özel mektuba

10. I. Yaşanmış olayları konu aldığı için tarihe ışık tutar.
II. Sanatlı ve ağır bir dille yazılır.
III. Olaylarda abartmaya ve düşsel öğelere yer verilir.
IV. Yazılanların ispatlanma zorunluluğu yoktur.

"Anı" ile ilgili numaralanmış özelliklerden hangilerinde bilgi yanlış yapılmıştır?

- A) I ve II. B) I ve IV.
C) II ve III. D) III ve IV.

11. Türk edebiyatında günlük - - - - sonra ortaya çıkmıştır.

Bu cümlede boş bırakılan yere aşağıdakilerden hangisi getirilmelidir?

- A) Tanzimat'tan
B) II. Meşrutiyet'ten
C) Millî Edebiyat'tan
D) Cumhuriyet'ten

12. Reşat Nuri, 26 Kasım 1889'da İstanbul Üsküdar'da doğmuştur. Babası askerî doktorlardan Nuri Bey'dir. Annesi, eski Erzurum Valisi Yaver Paşa'nın kızı Lütfiye Hanım'dır. Asker çocuğu olduğu için Reşat Nuri'nin çocukluk ve talebelik yılları, daha çok, Anadolu vilayetlerinde geçmiştir. Bu arada da en çok Çanakkale ve İzmir'de bulunmuştur.

Bu parçanın türü aşağıdakilerin hangisidir?

- A) Otobiyografi B) Anı
C) Günlük D) Biyografi

3. OTURUM

13. Sanatçının söz konusu kitabında çatı, temel bir hikâye etrafında örülen başka hikâyelerle oluşturulmuş. Öykülerin konusu sanatçının muhteşem üslubuyla birleşince ortaya harika bir eser çıkmış. İnsan ruhunun el ve göz değmemiş yerlerindeki karanlıklar, hiçbir gerçeklik kaygısı taşımadan ama gayet gerçekçi bir temelde gözler önüne serilmiş.

Bu parça aşağıdaki türlerin hangisinden alınmıştır?

- A) Denemeden
B) Eleştiriden
C) Gezi yazısından
D) Haber yazısından

14. Öğretici metinlerle ilgili aşağıdakilerin hangisi yanlıştır?

- A) Kurmaca değil, gerçeklik ön plandadır.
B) Bilgi vermek, okuyucuyu aydınlatmak için yazılır.
C) Dil açık ve anlaşılır bir biçimde düzenlenir.
D) Her okuyanın farklı bir anlam çıkardığı metinlerdir.

15. • Bir kimse ile konuşur gibi samimi bir üslupla yazılır.
• Herkesi ilgilendiren, hayatın içinden konuları işler.
• Düşüncenin kanıtlanması söz konusu değildir.

Bu özellikler aşağıdaki türlerin hangisi için söylenebilir?

- A) Eleştiri B) Makale
C) Sohbet D) Günlük

16. • Birinci tekil şahıs kullanılır.
• Doğumdan yazıldığı ana kadar olan yaşam konu edinilir.
• Öznel bir anlayışla kaleme alınır.

Bu özellikler aşağıdaki türlerin hangisine aittir?

- A) Biyografiye
B) Gezi yazısına
C) Eleştiriye
D) Otobiyografiye

17. MAHSUR KALDIĞI DAĞDA DONMAMAK İÇİN SABAHA KADAR KOŞTU
Kaybolduktan 12 saat sonra bulunan genç kız termal battaniyeye sarılarak ambulansla Uludağ Üniversitesi Tıp Fakültesi Hastanesine kaldırıldı.

Bu parça aşağıdaki türlerin hangisinden alınmıştır?

- A) Haber yazısından
B) Makaleden
C) Denemeden
D) Sohbetten

18. Aşağıdaki sanatçılardan hangisi edebiyatımızda fıkra türündeki yazılarıyla tanınmıştır?

- A) Orhan Veli Kanık
B) Yakup Kadri Karaosmanoğlu
C) Ahmet Rasim
D) Hüseyin Rahmi Gürpınar

19. Aşağıdakilerden hangisi deneme türünün amacı olamaz?

- A) Düşündürmek
B) Güldürmek
C) İnandırmak
D) Kanıtlamak

20. Edebiyatımızdaki ilk eleştiri eseri aşağıdakilerden hangisidir?

- A) Tahrir-i Harabat
B) Harabat
C) Takdir-i Elhan
D) Rümuz'ul Edeb

(616) SEÇ. DİL VE ANLA. – 6

1. – “Kedimin Adı Çamur” sizin ilk çocuk kitabınız. Çocuklar için kitap yazmaya nasıl karar verdiniz?
– Yola çıkışım, çocuk kitabı yazmak değildi aslında. Çamur’un ölümü hepimizi derinden etkiledi.
– Kedilerin kişilikleri roman kahramanı olmaya çok elverişli değil mi?
– Evet! Her insan gibi kedi de bir roman kahramanı olabilir!

Bu parça aşağıdakilerin hangisine örnektir?

- A) Eleştiriye B) Denemeye
C) Makaleye D) Mülakata

2. Okula gittiğimizde beklenmedik bir sürprizle karşılaştık.

Bu cümledeki anlatım bozukluğunun nedeni aşağıdakilerden hangisidir?

- A) Gereksiz sözcük kullanımı
B) Yanlış anlamda sözcük kullanımı
C) Sözcüğün yanlış yerde kullanılması
D) Çatı uyumsuzluğu

3. • Röportajlar ses kaydı, görüntü ve resimle desteklenebilir.
• Röportaj tek bir yazı olarak yayımlanmak zorundadır.
• Röportajlarda öğretici, açıklayıcı, betimleyici anlatımdan yararlanılabilir.

Bu cümleler doğru-yanlış bakımından değerlendirildiğinde sıralama aşağıdakilerden hangisi olur?

- A) Y – D – Y B) D – Y – Y
C) Y – D – D D) D – Y – D

4. Röportajın ortaya çıkışı ve gelişimi aşağıdakilerin hangisinin yaygınlaşmasıyla olmuştur?

- A) İnternet B) Gazete
C) Televizyon D) Radyo

5. - - - -; araştırma, inceleme ve soruşturmaya dayanan bazı gerçeklerin ortaya çıkmasına yardımcı olan bir türdür. - - - - ise soru ve cevaplardan oluşur.

Bu parçada boş bırakılan yerlere sırasıyla aşağıdakilerden hangisi getirilmelidir?

- A) Sohbet – Fıkra
B) Söylev – Biyografi
C) Röportaj – Mülakat
D) Deneme – Otobiyografi

3. OTURUM

6. Aşağıdaki sözcüklerden hangisine ünlü ile başlayan bir ek getirildiğinde sözcükte ünlü düşmesi olur?

- A) Kesim B) Bakım
C) Cisim D) Yazım

7. Kardeşlerim, evlatlarım! Ruhü göklerde olan ecdadımız, minarelerimizden yedi yüz yılın şanlı Osmanlı tarihinin bugünkü faciasını seyrediyor. Bu tarihî, muazzam meydana zafer alayları yapan kahraman ecdadımızın ruhları karşısında dünyanın bir başından bir başına at süren o, namağlup erlerin gazapları karşısında başımı kaldırıyor ve özgürlük için haykırıyorum: "İleri!"

Bu parça aşağıdakilerden hangisine örnektir?

- A) Askerî söyleve
B) İktisadi söyleve
C) Akademik söyleve
D) Hukuksal söyleve

8. Ünlü kişilerin çeşitli yönlerini tanıtmak veya toplumu ilgilendiren önemli bir konuyu aydınlatmak için, ünlü kişilerle, uzmanlarla yapılan görüşmeleri sorulu-cevaplı olarak aktaran yazılardır.

Bu parçada tanımı yapılan tür aşağıdakilerden hangisidir?

- A) Söylev B) Deneme
C) Röportaj D) Mülakat

9. Aşağıdakilerden hangisi Latin Edebiyatı'nın önemli söylevcilerinden biridir?

- A) Demosthenes (Demostenes)
B) Cicero (Çiçero)
C) Bossuet (Bosse)
D) Mirabeau (Mirabu)

10. I. Söylevde önemli olan kelimelerin anlamıdır, vurgu ve tonlama değildir.
II. Söylevcinin inandırma kabiliyeti gelişmiş olmalıdır.
III. Söylevci konuşmasında jest ve mimikleri kullanmaktan sakınmalıdır.
IV. Söylevde cümleler kısa ve akıcı olmalıdır.

Numaralanmış cümlelerin hangilerinde bilgi yanlışlığı yapılmıştır?

- A) I ve II. B) I ve III.
C) II ve IV. D) III ve IV.

11. Aşağıdaki cümlelerin hangisinde yazım yanlışlığı yapılmıştır?

- A) Koskocaman adamlardık ama yüreğimiz çoktu.
B) Bakıp da imrenmemek ne mümkün şu güzel manzaraya?
C) Ağlasam sesimi duymazsınız mısralarımda?
D) Buranın doğası ilçeninki gibi güzel değil.

12. Türkiye Büyük Millet Meclisinin kısıltmasının yazımı aşağıdakilerden hangisinde doğru verilmiştir?

- A) T.B.M.M. B) TBMM.
C) T.B.M.M D) TBMM

13. Aşağıdaki sanatçı - eser eşleştirmelerinden hangisi yanlıştır?

- A) Fikret Otyam – Bugün de Diyorlar ki
B) Mustafa Baydar – Edebiyatçılarımız Ne Diyorlar
C) Yaşar Kemal – Bu Diyar Baştan Başa
D) Nurullah Berk – Ustalarla Konuşmalar

14. Biyografi, ünlü kişilerinin yaşamlarının anlatıldığı bir türdür.

Buna göre aşağıdakilerden hangisi biyografi türüyle benzerlik gösterir?

- A) Gezi yazısı
B) İnsanı konu alan röportaj
C) Söylev
D) Mülakat

15. Aşağıdakilerden hangisi edebiyatımızın tanınmış mülakat yazarlarından biridir?

- A) Namık Kemal
B) Mehmet Rauf
C) Mustafa Baysal
D) Ömer Seyfettin

16. Arapça bir kelime olan - - - -; buluşmak, görüşmek demektir.

Bu cümlede boş bırakılan yere aşağıdakilerden hangisi getirilmelidir?

- A) makale B) mülakat
C) fıkra D) tenkit

17. Kel ölür, sırma saçlı olur () kör ölür, badem gözlü olur.

Bu atasözünde yay ayrıla gösterilen yere aşağıdaki noktalama işaretlerinden hangisi getirilmelidir?

- A) Nokta (.)
B) Virgül (,)
C) İki nokta (:)
D) Noktalı virgül (;)

18. Aşağıdakilerin hangisi söylevcinin, verdiği söylevle ulaşmak istediği amaçlardan biri olamaz?

- A) Topluluğu coşturma
B) Topluluğa baskı kurma
C) Toplulukla duygu paylaşımında bulunma
D) Topluluğu yönlendirme

19. Aşağıdakilerden hangisi söylev yazarlarından biri değildir?

- A) Rıza Tevfik Bölükbaşı
B) Osman Yüksel Serdengeçti
C) Refik Halit Karay
D) Süleyman Nazif

20. Ülkemizde toplanma ve söz hürriyetinin sağlandığı - - - - sonra söylev türü görülmeye başlanmıştır.

Bu cümlede boş bırakılan yere aşağıdakilerden hangisi getirilmelidir?

- A) II. Meşrutiyet'ten
B) Tanzimat'tan
C) Lale Devri'nden
D) Cumhuriyet'ten

(626) SEÇ. TÜRK ED. – 6

1. I. Çocuklar için ve heceyle yazdığı "Haluk'un Defteri" adlı kitabını sade bir dille yazdı.
II. Türkçeyi aruza ustalıklı uyguladı.
III. Batı edebiyatlarında görülen sone, terza rima gibi nazım şekillerini kullandı.
IV. Romanlarında realizmin etkisi görülür.

Numaralanmış cümlelerin hangilerinde "Tevfik Fikret" ile ilgili bilgi yanlış yapılmıştır?

- A) I ve II. B) I ve IV.
C) II ve III. D) III ve IV.

2. Avrupa Mektupları, - - - - gezi hatıralarını topladığı bir kitaptır. Bu kitapta yazarın çeşitli Avrupa ülkelerine ait duyguları, düşünceleri yer almaktadır.

Bu parçada boş bırakılan yere aşağıdakilerden hangisi getirilmelidir?

- A) Ahmet Haşim'in
B) Reşat Nuri Güntekin'in
C) Halit Ziya Uşaklıgil'in
D) Cenap Şahabettin'in

3. Servetifünun Dönemi içerisinde şair olarak sanatçının edebî görüşlerini ifade eden eleştiri yazıları bu dönemde önemli bir yer tutar. "Şiirimiz" adıyla Servet-i Fünun dergisinde yayımladığı uzun makalesinde topluluğun sanat anlayışını ve eleştirilerini dile getirmiştir.

Bu parçada hakkında kısa bilgi verilen sanatçı aşağıdakilerden hangisidir?

- A) Süleyman Nazif
B) Hüseyin Cahit Yalçın
C) Ali Ekrem Bolayır
D) Tevfik Fikret

4. • Romanlarında ağır bir dil kullanmıştır.
• Olayları, gerçekten uzak bir bakış açısıyla işlemiştir.
• Roman ve hikâyeden başka bir türde eser vermemiştir.

"Halit Ziya" ile ilgili verilen bu cümleler doğru-yanlış bakımından değerlendirildiğinde sıralama aşağıdakilerin hangisi olur?

- A) Y – D – D B) D – Y – Y
C) D – D – Y D) Y – D – Y

5. Sözcüklerle resim yapma amacıyla olan sanatçı, Fransız parnasyenlerinden etkilenmiştir. Şair tıpkı onlar gibi şiirinde bir tabloyu anlatır. Okuyucunun gözünün önünde bir manzara, bir resim gibi canlanır. "Elhân-ı Şîta"da bu isteğinin başarılı bir örneğini verir.

Bu parçada hakkında bilgi verilen sanatçı aşağıdakilerden hangisidir?

- A) Cenap Şahabettin
B) Tevfik Fikret
C) Mehmet Emin Yurdakul
D) Mehmet Akif Ersoy

6. • 19. yüzyılın ikinci yarısından sonra parnasizme tepki olarak doğdu.
• Bu akımda doğa değil, onun insan ruhunda bıraktığı izlenimler anlatılır.
• Anlamda kapallığı sağlamak için mecaz ve çağrışımlardan yararlanır.

Bazı özellikleri verilen edebî akım aşağıdakilerden hangisidir?

- A) Realizm B) Kübizm
C) Fütürizm D) Sembolizm

7. Firdevs Hanım biraz doğrudu: Adnan Bey'in zihnine bu düşüncüyü koymak için pek çok sebep buldum fakat onu çıkarmak için bir sebep görmüyorum. Bihter cevap vermeden evvel acı bir tebessümle baktı, sonra gözleri annesinin gözlerinde: Pekâlâ, siz bilirsiniz ki bu evlilik mümkün değil, dedi

Bu parça aşağıdaki romanların hangisinden alınmıştır?

- A) Eylül'den
B) Mai ve Siyah'tan
C) Çalıkuşu'ndan
D) Aşk-ı Memnu'dan

8. **Aşağıdakilerin hangisi Fecriati Topluluğu'nun edebiyatta gerçekleştirmek istediklerinden biri değildir?**

- A) Dilin, edebiyatın ve diğer bilimlerin ilerlemesine katkı sağlamak
B) Konuşma diliyle yazı dili arasında farkı ortadan kaldırmak
C) Topluluk üyelerinin eserlerinden oluşan bir kütüphane kurmak
D) Toplantılar düzenleyerek halkı edebiyat ve sanat konularında bilgilendirmek

9. Türklüğün vicdanı bir;
Dini bir, vatani bir;
Fakat hepsi ayrıdır
Olmazsa isanı bir

Bu dördüklük şekil ve içerik açısından incelendiğinde dizelerin aşağıdaki sanatçıların hangisine ait olduğu söylenir?

- A) Ziya Gökalp
B) Tevfik Fikret
C) Cenap Şahabettin
D) Ali Ekrem Bolayır

10. - - - -; Osmanlı Devleti içinde yaşayan halk arasında dil, din, ırk ayrımı olmaksızın herkesin eşit haklara sahip olmasını savunan akımdır.

Bu cümlede boş bırakılan yere aşağıdakilerden hangisi getirilmelidir?

- A) Türkçülük B) İslamcılık
C) Osmanlıcılık D) Batıcılık

11. **Aşağıdaki eserlerden hangisi Fuat Köprülü'ye aittir?**

- A) Türkleşmek, İslamlaşmak, Muasırlaşmak
B) Kaşığı
C) Türk Edebiyatında İlk Mutasavvıflar
D) Millî Savaş Hikâyeleri

12. Yakup Kadri Karaosmanoğlu'nun ilk romanı - - - - kuşaklar arasındaki çatışma işlenmiştir. Eserde Batılılaşmayı yanlış anlayanların sorumsuz davranışları eleştirilmektedir.

Bu parçada boş bırakılan yere aşağıdakilerden hangisi getirilmelidir?

- A) Nur Baba'da
B) Hüküm Gecesi'nde
C) Yaban'da
D) Kıralk Konak'ta

13. **Aşağıdaki sanatçılardan hangisinin roman türünde eseri yoktur?**

- A) Reşat Nuri Güntekin
B) Tevfik Fikret
C) Halide Edip Adıvar
D) Mehmet Rauf

3. OTURUM

14. I. Dilde sadeleşme anlayışı savunulmuş ve uygulanmıştır.
II. Divan edebiyatı nazım biçimleri tercih edilmiştir.
III. Ulusal ölçümüz olan hece kullanılmıştır.
IV. Romanlarda mekân İstanbul'la sınırlı kalmıştır.

Numaralanmış özelliklerin hangisi Millî Edebiyat Dönemi için söylenemez?

- A) I ve III. B) I ve IV.
C) II ve III. D) II ve IV.

15. **Aşağıdakilerin hangisinde klasik olay hikâyesiyle ilgili bilgi yanlış vardır?**

- A) Seçilmiş olay ve kişiler üzerine kurulur.
B) Hikâyelerde merak unsuruna yer verilmez.
C) Yazar, rastlantılardan kaçınır.
D) Edebiyatımızda Ömer Seyfettin bu türün temsilcisidir.

16. **Aşağıdakilerden hangisi Millî Edebiyat Dönemi sanatçılarından biri değildir?**

- A) Halide Edip Adıvar
B) Ömer Seyfettin
C) Mehmet Emin Yurdakul
D) Halit Ziya Uşaklıgil

17. • Hikâyelerinin konularını günlük yaşam, çocukluk anıları ve tarihten almıştır.
• Hikâyelerinde hep olaya önem verdi.
• Öykülerini oldukça sanatlı ve gösterişli bir dille kaleme aldı.

“Ömer Seyfettin” ile ilgili bu cümleler doğru-yanlış bakımından değerlendirildiğinde sıralama aşağıdakilerin hangisi olur?

- A) D – D – Y B) D – Y – D
C) Y – D – D D) Y – D – Y

18. **Aşağıdaki eserlerden hangisi Mehmet Emin Yurdakul'a aittir?**

- A) Türkçülüğün Esasları
B) Türk Sazı
C) Yeni Turan
D) Primo Türk Çocuğu

19. **Sanat anlayışını “Hayır, hayal ile yoktur benim alışverişim/ İnan her ne demişsem görüp de söylemişim” dizeleriyle dile getiren sanatçı aşağıdakilerin hangisidir?**

- A) Yahya Kemal Beyatlı
B) Ahmet Haşım
C) Mehmet Akif Ersoy
D) Cenap Şahabettin

20. **Ahmet Haşım aşağıdaki edebî türlerin hangisinde eser vermemiştir?**

- A) Roman B) Şiir
C) Fıkra D) Gezi yazısı

(975) GİRİŞİMCİLİK – 2

1. Kâr amacıyla mal ve hizmet üretmek ya da pazarlamak için üretim faktörlerini bir araya getiren ekonomik birime - - - - denir.

Verilen cümlede boş bırakılan yere, aşağıdakilerden hangisi yazılmalıdır?

- A) işletme B) tüccar
C) pazarlama D) finansman

2. **Aşağıdakilerden hangisi fizibilite etüdünün yapılış amaçlarından?**

- A) Araştırma giderlerini artırmak
B) İşletmenin hangi büyüklükte ve nerede kurulacağını belirlemek
C) Prototip üretimi yapacak tesisi kurmak
D) Müşterilerden gelen şikayetleri dinlemek

3. **Aşağıdakilerden hangisi bir yatırım projesinin gelişim süreçlerinden biri değildir?**

- A) Fabrikanın kurulması
B) Proje fikrinin doğuşu
C) Ön fizibilite etüdü
D) Fizibilite etüdü

4. **Aşağıdakilerden hangisi, fizibilite etüdünün araştırma aşamalarından?**

- A) İş planı
B) Pazar stratejisi
C) Araştırma-Geliştirme
D) Örgütsel araştırmalar

5. **Özel bir girişimcinin yapacağı yatırıma temel oluşturacak ön projelerin değerlendirilmesinde ana ölçüt, aşağıdakilerden hangisidir?**

- A) İstihdam
B) Üretimin temel süreçleri
C) Projenin yöre için önemi
D) Girişimin sağlayacağı kâr

3. OTURUM

6. Aşağıdakilerden hangisi, iyi bir iş planının girişimciye sağlayacağı yararlarından biri değildir?

- A) Yatırım kararı almış girişimciye rehberlik eder.
- B) İşletmenin pazara yakınlığını sağlar.
- C) Girişimcilerin ve çalışanların dikkatini amaca yöneltir.
- D) İşletmenin pozisyonunu gösterir.

7. Aşağıdaki bilgilerden hangisi bir iş planının "Girişimcinin Kişisel Bilgileri" bölümünde yer alır?

- A) Medeni Hâli
- B) Ürün / Hizmet Satış Planı
- C) İş Yeri Ruhsat Bilgileri
- D) Gelir / Gider / Kaynak Analizleri

8. Mal ya da hizmetleri bireysel gereksinimleri için alanlara "son tüketici" denir.

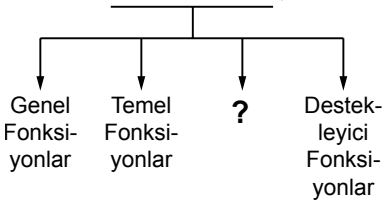
Bu tanıma göre, aşağıdakilerden hangisi son tüketicidir?

- A) Normal insanlar
- B) Fabrikatörler
- C) Girişimciler
- D) Robotlar

9. Aşağıdakilerden hangisi, girişimcilerin iş fikri geliştirme konusunda kullanabilecekleri başlıca yöntemlerden değildir?

- A) Rüyada görme
- B) Yeni bir iş fikri geliştirme
- C) Başkalarının iş fikirlerini model alma
- D) Başkalarından yeni iş fikirleri satın alma

10. İşletmenin Temel Fonksiyonları



Verilen şemada boş bırakılan yere, aşağıdakilerden hangisi getirilmelidir?

- A) Kolaylaştırıcı Fonksiyonlar
- B) Sanatsal Fonksiyonlar
- C) Sanal Fonksiyonlar
- D) Dinî Fonksiyonlar

11. Bir kişinin araba satın alması aşağıdakilerden hangisine örnek teşkil eder?

- A) Arz
- B) Talep
- C) İstek
- D) Piyasa

12. Verilen açıklamalardan hangisi işletmenin özel amaçlarından birisidir?

- A) Kâr sağlamak
- B) Toplumla hizmet etmek
- C) İşletmenin yaşamını devam ettirmek
- D) Tüketicide iyi izlenim bırakmak

13. Aşağıdaki açıklamalardan hangisi, işletme yönetiminde başarılı bir yöneticinin "Harekete Geçiricilik" niteliğini göstermektedir?

- A) Kişileri tanıma
- B) Kişisel güveni ifade etme
- C) Tutarlı davranışlar gösterme
- D) Görüşlerini rahatça ifade edebilme

14. Aşağıdakilerden hangisi karar vermenin özelliklerine uygun bir açıklama değildir?

- A) Karar süreci rasyonelliğe dayanır.
- B) Karar verme süreci geleceğe yöneliktir.
- C) Karar verme bir planın yapılmasıdır.
- D) Karar verme sorun çözme sürecidir.

15. Aşağıdakilerden hangisi kamu iktisadi kuruluşlarından birisidir?

- A) Türkiye Kömür İşletmeleri
- B) Devlet Malzeme Ofisi
- C) Toprak Mahsulleri Ofisi
- D) Posta ve Telgraf Teşkilatı Genel Müdürlüğü

16. "Hizmet işletmesi reklamı" hangi reklam çeşidi kapsamında ifade edilmiştir?

- A) Reklam içeriği açısından
- B) Hedef kitle açısından
- C) Amaçlar açısından
- D) Yapanlar açısından

17. İnternet girişimciliğinde paranın yerini aşağıdakilerden hangisi almıştır?

- A) Çek
- B) Senet
- C) Kredi kartları
- D) Hazine bonoları

18. Giyim mağazaları hangi tür işletmelere örnektir?

- A) Ticaret işletmeleri
- B) Sanayi işletmeleri
- C) Finans işletmeleri
- D) Kiralama işletmeleri

19. Satışın temel ilkelerine aykırı bir açıklama hangi seçenekte verilmiştir?

- A) Pazar şartları bilinmelidir.
- B) Satış için tüm çabalar sarf edilmelidir.
- C) Satış, satıcıya göre düzenlenmelidir.
- D) Pazarlama elemanlarına uygun şartlar yaratılmalıdır.

20. "Sermaye Paylara Bölünmüş Komandit Şirketler", özel işletmelere göre aşağıda yapılan sınıflamalardan hangisinin kapsamına girmektedir?

- A) Ortaklıklar
- B) Kooperatifler
- C) Tek Kişi İşletmeleri
- D) Dernek ve Vakıfların İktisadi İşletmeleri

**TEST BİTTİ.
CEVAPLARINIZI KONTROL EDİNİZ.**

CEVAP KÂĞIDI VE SORU KİTAPÇIĞI İLE İLGİLİ AÇIKLAMALAR

1. Cevap kâğıdınızdaki bilgilerin doğruluğunu kontrol ediniz ve cevap kâğıdınızı mürekkepli kalemle imzalayınız.
2. Cevap kâğıdı üzerinde kodlamalarınızı siyah kurşun kalemle yapınız.
3. Değiştirmek istediğiniz bir cevabı, yumuşak silgiyle cevap kâğıdını örselemeden temizce siliniz ve yeni cevabınızı kodlayınız.
4. Soru kitapçığının sayfalarını görevlilerin uyarıları doğrultusunda kontrol ediniz, baskı hatası var ise değiştirilmesini sağlayınız.
5. Soruların çözümü için size ayrıca boş kâğıt verilmeyecektir. Soru kitapçığının içindeki boş alanları soru çözümleri için kullanabilirsiniz.
6. Her sorunun dört seçeneğinden sadece biri doğrudur. Doğru seçeneği, cevap kâğıdınızın ilgili sütununa soru numarasını dikkate alarak yuvarlağın dışına taşırmadan kodlayınız. Soru kitapçığı üzerinde yapılan cevaplandırmalar dikkate alınmayacaktır.
7. Cevaplamaya istediğiniz dersin sorusundan başlayabilirsiniz. Cevabını bilmediğiniz sorular üzerinde fazla zaman kaybetmeden diğer sorulara geçiniz. Zamanınız kalırsa bu sorulara daha sonra dönebilirsiniz.
8. Yanlış cevaplarınız dikkate alınmadan sadece doğru cevaplarınız üzerinden puanlama yapılacaktır.
9. Soruları ve sorulara verdiğiniz cevapları, yanınızda götürmek amacıyla kaydetmeyiniz; hiçbir şekilde dışarı çıkarmayınız.
10. Sınav bitiminde soru kitapçığı ve cevap kâğıdını salon görevlilerine teslim ediniz.

SALON GÖREVLİLERİNCE SINAV BAŞLAMADAN ÖNCE ADAYLARA YAPILACAK SON UYARILAR

- Soracağınız bir şey varsa şimdi sorunuz, sınav başladıktan sonra sorularınıza cevap verilmeyecektir.
- Başlama zilini bekleyiniz.

Hepinize başarılar dileriz.

(Salon başkanı başlama ve bitiş saatini tahtaya yazacaktır.)

Bu kitapçığın her hakkı saklıdır. Hangi amaçla olursa olsun, kitapçığın tamamının veya bir kısmının Millî Eğitim Bakanlığı Ölçme, Değerlendirme ve Sınav Hizmetleri Genel Müdürlüğünün yazılı izni olmadan kopya edilmesi, fotoğraflarının çekilmesi, bilgisayar ortamına alınması, herhangi bir yolla çoğaltılması, yayımlanması veya başka bir amaçla kullanılması yasaktır. Bu yasağa uymayanlar, doğabilecek cezai sorumluluğu ve kitapçığın hazırlanmasındaki mali külfeti peşinen kabullenmiş sayılır.

19 MART 2017 TARİHİNDE YAPILAN AÇIKÖĞRETİM LİSESİ / MESLEKİ AÇIKÖĞRETİM LİSESİ
2016-2017 ÖĞRETİM YILI 2. DÖNEM SINAVI 3. OTURUM T KİTAPÇIĞI CEVAP ANAHTARI

(113) DİN KÜL. AHL. BİL. – 3

1. A
2. D
3. A
4. D
5. B
6. C
7. B
8. A
9. C
10. D
11. A
12. C
13. B
14. D
15. A
16. A
17. D
18. C
19. B
20. C

(116) DİN KÜL. AHL. BİL. – 6

1. D
2. C
3. A
4. D
5. A
6. D
7. B
8. D
9. C
10. A
11. D
12. B
13. C
14. B
15. A
16. A
17. B
18. A
19. C
20. D

(124) SEÇMELİ FELSEFE – 2

1. B
2. C
3. B
4. A
5. B
6. A
7. D
8. A
9. B
10. D
11. C
12. D
13. A
14. B
15. A
16. D
17. B
18. C
19. D
20. C

(134) TARİH– 4

1. C
2. A
3. D
4. B
5. D
6. A
7. B
8. C
9. B
10. C
11. D
12. A
13. D
14. B
15. C
16. B
17. A
18. D
19. B
20. A

(114) DİN KÜL. AHL. BİL. – 4

1. B
2. D
3. C
4. D
5. A
6. A
7. B
8. C
9. B
10. D
11. C
12. B
13. A
14. B
15. B
16. C
17. A
18. D
19. C
20. D

(122) FELSEFE – 2

1. D
2. C
3. C
4. B
5. D
6. A
7. D
8. B
9. A
10. D
11. A
12. B
13. C
14. D
15. C
16. B
17. A
18. C
19. D
20. A

(133) TARİH – 3

1. A
2. C
3. D
4. A
5. A
6. B
7. C
8. B
9. D
10. A
11. C
12. D
13. B
14. A
15. B
16. D
17. D
18. B
19. A
20. C

(142) T.C. İNK. TAR. ATA. – 2

1. A
2. A
3. D
4. B
5. C
6. D
7. A
8. C
9. B
10. B
11. D
12. A
13. B
14. C
15. D
16. A
17. B
18. C
19. A
20. B

19 MART 2017 TARİHİNDE YAPILAN AÇIKÖĞRETİM LİSESİ / MESLEKİ AÇIKÖĞRETİM LİSESİ
2016-2017 ÖĞRETİM YILI 2. DÖNEM SINAVI 3. OTURUM T KİTAPÇIĞI CEVAP ANAHTARI

(153) COĞRAFYA – 3

1. B
2. B
3. C
4. B
5. A
6. D
7. D
8. D
9. C
10. A
11. A
12. C
13. B
14. C
15. D
16. B
17. C
18. A
19. B
20. A

(158) COĞRAFYA – 8

1. B
2. D
3. B
4. A
5. C
6. B
7. B
8. A
9. D
10. C
11. D
12. C
13. D
14. D
15. C
16. A
17. A
18. B
19. A
20. D

(165) MATEMATİK – 5

1. C
2. B
3. A
4. B
5. A
6. D
7. C
8. A
9. B
10. D
11. A
12. D
13. C
14. B
15. C
16. A
17. D
18. B
19. A
20. B

(209) SOSYOLOJİ – 2

1. C
2. A
3. D
4. A
5. C
6. D
7. B
8. B
9. A
10. B
11. A
12. C
13. A
14. B
15. C
16. D
17. C
18. D
19. D
20. C

(154) COĞRAFYA – 4

1. B
2. D
3. C
4. A
5. A
6. C
7. B
8. D
9. A
10. D
11. C
12. A
13. D
14. B
15. C
16. B
17. A
18. A
19. C
20. B

(163) MATEMATİK – 3

1. C
2. B
3. D
4. A
5. B
6. C
7. A
8. C
9. D
10. A
11. B
12. A
13. C
14. D
15. B
16. A
17. D
18. A
19. B
20. C

(206) PSİKOLOJİ – 1

1. D
2. C
3. A
4. B
5. D
6. C
7. A
8. B
9. A
10. D
11. C
12. A
13. C
14. A
15. C
16. B
17. D
18. B
19. D
20. B

(242) İNGİLİZCE – 3

1. C
2. C
3. A
4. B
5. D
6. C
7. B
8. B
9. C
10. A
11. C
12. D
13. A
14. C
15. B
16. D
17. A
18. B
19. B
20. D

19 MART 2017 TARİHİNDE YAPILAN AÇIKÖĞRETİM LİSESİ / MESLEKİ AÇIKÖĞRETİM LİSESİ
2016-2017 ÖĞRETİM YILI 2. DÖNEM SINAVI 3. OTURUM T KİTAPÇIĞI CEVAP ANAHTARI

(242) ALMANCA – 3

1. B
2. A
3. C
4. D
5. B
6. A
7. B
8. D
9. C
10. A
11. B
12. C
13. D
14. A
15. D
16. D
17. A
18. C
19. B
20. C

(403) DİL VE ANLATIM – 3

1. C
2. D
3. A
4. B
5. B
6. C
7. D
8. A
9. A
10. C
11. D
12. B
13. D
14. D
15. B
16. C
17. A
18. D
19. C
20. A

(406) DİL VE ANLATIM – 6

1. A
2. C
3. B
4. D
5. A
6. C
7. B
8. D
9. D
10. B
11. A
12. A
13. B
14. C
15. A
16. B
17. D
18. D
19. B
20. C

(416) TÜRK EDEBİYATI – 6

1. B
2. D
3. A
4. C
5. D
6. B
7. A
8. D
9. B
10. B
11. C
12. D
13. B
14. C
15. A
16. A
17. B
18. D
19. C
20. D

(242) FRANZIZCA – 3

1. A
2. D
3. C
4. B
5. C
6. A
7. D
8. B
9. B
10. D
11. C
12. A
13. D
14. B
15. A
16. C
17. A
18. C
19. B
20. D

(405) DİL VE ANLATIM – 5

1. C
2. B
3. D
4. D
5. A
6. A
7. C
8. D
9. B
10. A
11. D
12. B
13. B
14. A
15. B
16. C
17. C
18. D
19. A
20. D

(413) TÜRK EDEBİYATI – 3

1. A
2. A
3. B
4. D
5. C
6. B
7. D
8. A
9. C
10. D
11. B
12. A
13. C
14. D
15. D
16. B
17. C
18. D
19. A
20. C

(426) FİZİK – 6

1. C
2. D
3. A
4. C
5. B
6. B
7. A
8. D
9. D
10. B
11. B
12. D
13. A
14. C
15. B
16. C
17. A
18. D
19. A
20. C

19 MART 2017 TARİHİNDE YAPILAN AÇIKÖĞRETİM LİSESİ / MESLEKİ AÇIKÖĞRETİM LİSESİ
2016-2017 ÖĞRETİM YILI 2. DÖNEM SINAVI 3. OTURUM T KİTAPÇIĞI CEVAP ANAHTARI

(427) FİZİK – 7

1. B
2. C
3. B
4. D
5. A
6. A
7. B
8. D
9. D
10. B
11. A
12. C
13. C
14. A
15. D
16. D
17. B
18. D
19. C
20. C

(433) KİMYA – 3

1. B
2. C
3. C
4. D
5. A
6. B
7. A
8. D
9. C
10. A
11. D
12. A
13. B
14. C
15. A
16. D
17. A
18. D
19. B
20. D

(435) KİMYA – 5

1. B
2. B
3. A
4. C
5. D
6. B
7. C
8. A
9. A
10. D
11. C
12. B
13. C
14. B
15. D
16. C
17. B
18. D
19. A
20. C

(448) BİYOLOJİ – 8

1. C
2. D
3. B
4. C
5. B
6. C
7. A
8. D
9. B
10. D
11. A
12. B
13. A
14. C
15. B
16. A
17. B
18. D
19. C
20. D

(428) FİZİK – 8

1. D
2. C
3. B
4. B
5. D
6. C
7. A
8. A
9. C
10. A
11. C
12. B
13. D
14. C
15. A
16. A
17. B
18. D
19. B
20. D

(434) KİMYA – 4

1. B
2. B
3. C
4. D
5. A
6. C
7. B
8. D
9. B
10. B
11. A
12. A
13. D
14. C
15. B
16. A
17. D
18. C
19. D
20. D

(445) BİYOLOJİ – 5

1. A
2. C
3. A
4. D
5. C
6. D
7. D
8. B
9. A
10. C
11. A
12. C
13. B
14. A
15. D
16. A
17. B
18. D
19. C
20. B

(452) ÇAĞ. TÜRK DÜN. TAR. – 2

1. B
2. B
3. C
4. B
5. D
6. A
7. A
8. D
9. A
10. C
11. D
12. B
13. A
14. C
15. A
16. D
17. B
18. D
19. C
20. A

19 MART 2017 TARİHİNDE YAPILAN AÇIKÖĞRETİM LİSESİ / MESLEKİ AÇIKÖĞRETİM LİSESİ
2016-2017 ÖĞRETİM YILI 2. DÖNEM SINAVI 3. OTURUM T KİTAPÇIĞI CEVAP ANAHTARI

(462) EKONOMİ – 2

1. B
2. D
3. A
4. B
5. C
6. C
7. A
8. D
9. D
10. B
11. B
12. D
13. D
14. B
15. A
16. D
17. C
18. B
19. D
20. A

(478) MANTIK – 1

1. C
2. A
3. D
4. B
5. D
6. C
7. D
8. A
9. B
10. C
11. A
12. D
13. A
14. D
15. B
16. C
17. D
18. A
19. C
20. B

(500) ALMANCA – 6

1. A
2. C
3. D
4. A
5. B
6. C
7. D
8. A
9. B
10. C
11. D
12. B
13. C
14. A
15. B
16. A
17. D
18. B
19. D
20. C

(503) SEÇMELİ TARİH – 3

1. D
2. B
3. A
4. C
5. C
6. A
7. B
8. C
9. D
10. A
11. C
12. D
13. B
14. C
15. A
16. B
17. D
18. C
19. B
20. A

(468) MATEMATİK – 8

1. D
2. B
3. A
4. C
5. C
6. B
7. C
8. A
9. C
10. A
11. B
12. A
13. C
14. D
15. A
16. D
17. B
18. A
19. C
20. D

(500) İNGİLİZCE – 6

1. A
2. C
3. C
4. B
5. D
6. A
7. C
8. B
9. D
10. B
11. D
12. A
13. C
14. B
15. C
16. A
17. B
18. D
19. D
20. B

(500) FRANSIZCA – 6

1. C
2. B
3. A
4. D
5. B
6. D
7. C
8. B
9. A
10. D
11. C
12. B
13. B
14. A
15. B
16. C
17. D
18. D
19. A
20. C

(504) SEÇMELİ TARİH – 4

1. C
2. D
3. A
4. D
5. B
6. C
7. A
8. D
9. B
10. C
11. A
12. D
13. B
14. D
15. C
16. A
17. B
18. C
19. D
20. A

19 MART 2017 TARİHİNDE YAPILAN AÇIKÖĞRETİM LİSESİ / MESLEKİ AÇIKÖĞRETİM LİSESİ
2016-2017 ÖĞRETİM YILI 2. DÖNEM SINAVI 3. OTURUM T KİTAPÇIĞI CEVAP ANAHTARI

(505) SEÇMELİ COĞRAFYA – 3

1. C
2. D
3. C
4. A
5. A
6. B
7. A
8. D
9. B
10. C
11. C
12. B
13. B
14. D
15. A
16. B
17. A
18. A
19. D
20. C

(533) HZ. MUHAMMED'İN HAY. – 3

1. D
2. B
3. A
4. C
5. B
6. D
7. A
8. B
9. D
10. C
11. B
12. A
13. C
14. D
15. C
16. B
17. D
18. A
19. C
20. D

(608) DEM. VE İNSAN HAKLARI – 2

1. B
2. D
3. A
4. C
5. A
6. D
7. D
8. C
9. B
10. A
11. C
12. A
13. C
14. A
15. B
16. D
17. C
18. B
19. C
20. B

(615) SEÇ. DİL ANLA. – 5

1. C
2. B
3. D
4. B
5. A
6. A
7. B
8. D
9. A
10. C
11. A
12. D
13. B
14. D
15. C
16. D
17. A
18. C
19. D
20. A

(506) SEÇMELİ COĞRAFYA – 4

1. D
2. D
3. A
4. C
5. B
6. A
7. B
8. D
9. A
10. D
11. C
12. B
13. A
14. B
15. C
16. C
17. A
18. B
19. C
20. D

(534) HZ. MUHAMMED'İN HAY. – 4

1. A
2. D
3. C
4. C
5. B
6. B
7. A
8. D
9. B
10. A
11. C
12. C
13. B
14. B
15. D
16. A
17. C
18. D
19. C
20. A

(542) TÜRK DİLİ VE ED. – 2

1. D
2. B
3. B
4. A
5. D
6. C
7. D
8. A
9. B
10. C
11. B
12. A
13. D
14. A
15. D
16. B
17. C
18. D
19. A
20. A

(616) SEÇ. DİL ANLA. – 6

1. D
2. A
3. D
4. B
5. C
6. C
7. A
8. D
9. B
10. B
11. C
12. D
13. A
14. B
15. C
16. B
17. D
18. B
19. C
20. A

19 MART 2017 TARİHİNDE YAPILAN AÇIKÖĞRETİM LİSESİ / MESLEKİ AÇIKÖĞRETİM LİSESİ
2016-2017 ÖĞRETİM YILI 2. DÖNEM SINAVI 3. OTURUM T KİTAPÇIĞI CEVAP ANAHTARI

(626) SEÇMELİ TÜRK EDEB. – 6

1. B
2. D
3. C
4. B
5. A
6. D
7. D
8. B
9. A
10. C
11. C
12. D
13. B
14. D
15. B
16. D
17. A
18. B
19. C
20. A

(975) GİRİŞİMCİLİK – 2

1. A
2. B
3. A
4. D
5. D
6. B
7. A
8. A
9. A
10. A
11. B
12. D
13. B
14. C
15. D
16. D
17. C
18. A
19. C
20. A