



**AÇIK ÖĞRETİM ORTAOKULU  
2016 - 2017 ÖĞRETİM YILI  
1. DÖNEM SINAVI**

**T**

**8 OCAK 2017 Saat: 10.00**

**1.**  
**OTURUM**

<u>DERSLER</u>	<u>SAYFA</u>	<u>DERSLER</u>	<u>SAYFA</u>
(501) TÜRKÇE – 5	2	(701) TÜRKÇE – 7	17
(502) MATEMATİK – 5	4	(702) MATEMATİK – 7	19
(503) FEN BİLİMLERİ – 5	6	(703) FEN VE TEKNOLOJİ – 7	21
(604) SOSYAL BİLGİLER – 6	8	(806) T.C. İNK. TAR. VE ATATÜRK. – 8	23
(607) İNGİLİZCE – 6	10	(807) İNGİLİZCE – 8	25
(607) ALMANCA – 6	12	(807) ALMANCA – 8	26
(607) FRANSIZCA – 6	13	(807) FRANSIZCA – 8	28
(608) DİN KÜL. VE AHLAK BİLGİSİ – 6	15	(808) DİN KÜL. VE AHLAK BİLGİSİ – 8	29

**ADAYLARIN DİKKATİNE!**

- Her ders için 20 soru bulunmaktadır. Bu oturumda **150** dakikalık cevaplama süreniz vardır. Sınav başladıktan sonra ilk **30** dakika tamamlanmadan dışarı çıkmayınız.
- Sınav sırasında çanta, cep telefonu, saat, kablosuz iletişim sağlayan cihazlar ve kulaklık, kolye, küpe, bilezik, yüzük, broş ve benzeri eşyalar ile her türlü elektronik ve/veya mekanik cihazları yanınızda bulundurmuyunuz. Bu araçları yanınızda bulundurmanız ve kopya çekmeye teşebbüs etmeniz hâlinde sınavınız geçersiz sayılacaktır.
- Başvuru şartlarını taşımadığınız hâlde sınava girmeniz, kopya çekmeniz, başka adayın sınav evrakını kullanmanız, geçerli kimlik belgenizi ve sınav giriş belgenizi ibraz edemediğiniz durumlarda sınavınız geçersiz sayılacaktır.
- Sınavın değerlendirilmesi aşamasında, bilgisayar ortamında yapılan kopya analizinde sistemin ikili ve/veya toplu kopya tespiti hâlinde sınavınız geçersiz sayılacaktır.
- Adaylar, sınav kurallarına ve salon görevlilerinin tüm uyarılarına uymak zorundadır. Kurallara ve uyarılara uymayan adayların sınavları geçersiz sayılacaktır.**
- Sınav başladıktan sonra adayların salon görevlileri ve birbirleri ile konuşmaları; kalem, silgi vb. şeyleri istemeleri yasaktır.
- Adaylar sınav süresince, sınav giriş belgesi ile geçerli kimlik belgelerinden birinin aslını (fotoğraflı nüfus cüzdanı, pasaport veya sürücü belgesi) masalarının üzerinde bulundurmamak zorundadır.
- Sınav evraklarını teslim etmeyen, soru kitapçıklarının sayfalarından bir kısmını eksik teslim edenlerin sınavları geçersiz sayılacaktır.**
- Sınav başlamadan önce kitapçığın arkasındaki açıklamaları okuyunuz.

**BAŞLAYINIZ DENMEDEN SORU KİTAPÇIKLARINI AÇMAYINIZ.**

# 1. OTURUM

(501) TÜRKÇE – 5

1. Aşağıdaki altı çizili kelimelerden hangisi gerçek anlamıyla kullanılmıştır?

- A) Kendisinden önce dönen dolapları ciddiye almamıştı.
- B) Yüzündeki karlar eriyince beyaz bir yüz meydana çıkmıştı.
- C) Kendi dünyaları içinde ne tatlı ne özlü konuşurlardı.
- D) Bu manzaranın güzelliği herkesi çarpmıştı.

2. İstanbul'un soğuk sonbaharlarından biri daha yaşanmaktaydı ama o evde mevsim, yazdı.

1 2  
3

Mehmet Tahir Efendi ve Emine Şerife Hanım'ın evi yine bayram yerine dönmüştü. Çünkü öyle bir misafir geliyordu ki o eve...

4

Bu metinde numaralanmış kelimelerden hangisinin eş anlamlısı yoktur?

- A) 1. B) 2. C) 3. D) 4.

3. Gençler stadın her yerini doldurmuştu.

Bu cümlede aşağıdaki sorulardan hangisinin cevabı vardır?

- A) Nerede? B) Niçin?  
C) Kim? D) Ne?

4. Çantasındaki - - - - boya kalemini çok sevdiği arkadaşına verdi.

Bu cümlede boş bırakılan yere aşağıdakilerden hangisi getirilemez?

- A) güzel B) süslü C) mavi D) çeşitli

5. Aşağıdaki cümlelerin hangisinde abartılı bir ifade vardır?

- A) Sabah kalkınca ne yapması gerektiğini hatırlamamıştı.
- B) Gazete alabilmek için uzun bir kuyruğa girmesi gerekiyordu.
- C) Süper starın konserine tüm dünya katıldı.
- D) Cüzdanını düşürdüğünü anlayınca hemen polise haber verdi.

6. Dün abaküsle hesap yapıyorduk; bugün hesap makinelerimiz var. Önceleri, yumurtanın beyazını çatalla çırpardık; bugün elektrikli mutfak robotumuz var. Önceleri buğdayı orakla biçerdik, bugün biçerdöver var. Bunlar olmasaydı dakikalar, saatler süren işler daha kısa sürede bitirilemezdi. Harcadığımız emek daha fazla olurdu.

Bu metne en uygun başlık aşağıdakilerden hangisidir?

- A) İcatların Ortaya Çıkışı
- B) Makinelerin İnsan Hayatındaki Yeri
- C) Makine İcat Etmenin Zorlukları
- D) Teknolojinin Tarihçesi

7. Aşağıdaki cümlelerin hangisinde deyim kullanılmıştır?

- A) Annem çağırdığında oyunun can alacak noktasına gelmiştik.
- B) Cezvedeki süt çoktan taşmış, ocağın her tarafına yayılmıştı.
- C) Üçüncü kez aynı şeyi söylemişti ama bu sefer sesi çok cılız çıkmıştı.
- D) Kale burçlarında zafer davulları vurulmaya başlandı.

8. Hemen şimdi bin lira kazanabilirdim ama birkaç gün daha beklesem bu kazancım ikiye katlanacaktı. Yalnız, beklediğimde şu an kazanacağım parayı kazanamama ihtimalim de vardı Babam bana, şimdi elime geçen fırsatı kaçırmamam gerektiğini söyleyerek " - - - - " öğüdünü verdi.

Bu metinde boş bırakılan yere düşüncenin akışına göre aşağıdaki atasözlerinden hangisi getirilmelidir?

- A) Bir avuç altının olacağına bir avuç toprağın olsun.
- B) Bugünkü tavuk yarınki kazdan iyidir.
- C) Bulanık su, balıkçının yarı kazancıdır.
- D) Ekmeğin büyüğü, hamurun çoğundan olur.

# 1. OTURUM

## 9. Aşağıdakilerden hangisi nesnel bir yargıdır?

- A) Bence bu bölgenin tarihi araştırılmaya değer.
- B) Titanic, bana göre hâlâ büyüleyici.
- C) Benim düşünceme göre buralar mutlaka mera olmalı.
- D) Bu mağaradaki boğa resmi 1870'lerin sonlarında keşfedildi.

## 10. Böyle bir numarayı dünyadaki hiçbir sihirbaz gerçekleştiremez - - - - ben kolaylıkla yapabiliyorum.

**Bu cümlede boş bırakılan yere aşağıdakilerden hangisi getirilmelidir?**

- A) bundan dolayı
- B) ama
- C) çünkü
- D) hatta

## 11. Aşağıdaki cümlelerin hangisinde amaç-sonuç ilişkisi vardır?

- A) Ilık bir rüzgâr esiyordu şehrin üzerinde.
- B) Babasını görünce yüzüne bir gülümseme yayıldı.
- C) Sabah erkenden ekme alayım diye evden çıktı.
- D) Kış geldi mi buraların ayazından durulmaz.

## 12. Güneş batmak üzereydi. Aynalı Kahve'de sıcak, kırmızı, dumanlı birer bardak çay içip orayı konuştuk. Biz konuşurken mahallenin sevimli köpeği sürekli etrafımızda dörnyordu.

**Bu metindeki altı çizili söz grubu hikâyenin hangi ögesini bildirmektedir?**

- A) Yer
- B) Zaman
- C) Olay
- D) Karakter

## 13. Aşağıdaki cümlelerin hangisinde karşılaştırma yapılmıştır?

- A) Tavşan, kaplumbağayı geçtiğini sanınca durup dinlenmeye başladı.
- B) Çekirgeler ürünlerimize, fareye oranla daha çok zarar vermekte.
- C) Serçe ile kanarya sesleri birbirine karışmıştı.
- D) Kedi, papağını görür görmez ağaca tırmandı.

## 14. Aşağıdaki cümlelerin hangisinde eylemin durumunu belirten bir sözcük kullanılmıştır?

- A) Biz gelene kadar sorgu başlamıştı.
- B) Bugün kendimi hiç iyi hissetmiyorum.
- C) Arabanın biri, bizimkinin önüne park etti.
- D) Kamerayı amcama verdim bugün.

- ## 15.
- 1. sıkıldım
  - 2. sürecinden
  - 3. yorucu
  - 4. bu
  - 5. karar

**Yukarıdaki numaralanmış kelimelerle anlamlı ve kurallı bir cümle oluşturmak için sıralama nasıl olmalıdır?**

- A) 1-3-5-4-2
- B) 1-3-4-5-2
- C) 4-5-2-3-1
- D) 4-3-5-2-1

## 16. Arkeolojinin tarihini farklı açılardan ele alabiliriz.

1 2 3 4

**Bu cümlede numaralanmış kelimelerden hangisi bir varlığı nitelemiştir?**

- A) 1.
- B) 2.
- C) 3.
- D) 4.

## 17. Aşağıdakilerin hangisinde altı çizili kelime aldığı ekten dolayı yeni bir anlam kazanmıştır?

- A) Bebek, ellerini havaya kaldırdı.
- B) Bir kaşık şekeri çayına koyup karıştırdı.
- C) Spor salonunda alkış kıyamet koptu.
- D) Salonu ansızın bir sessizlik kapladı.

## 18. Aşağıdaki altı çizili kelimelerden hangisi "biten bir eylem"i ifade eder?

- A) Kapalı kutuları merak ederim.
- B) Çocuğu doktora ben götürdüm.
- C) Beyimiz sokaklarda geziyor!
- D) Evin içinde serbest olacağım.

## 19. Aşağıdaki cümlelerin hangisinde yazım yanlışı yapılmıştır?

- A) Bir şiir işçisi olarakda belli bir üne sahipti.
- B) Şu karşıdan gelen senin teyzen mi?
- C) Toprakta nem yok ki verimli olsun.
- D) Tekmeleyerek mücevher kutusunu düşürdü.

## 20. Öyle bir yerdeyim ki ( )

**Bu cümlede yay ayrıçla gösterilen yere aşağıdaki noktalama işaretlerinden hangisi getirilmelidir?**

- A) (.)
- B) (?)
- C) (...)
- D) (:)

# 1. OTURUM

## (502) MATEMATİK – 5

1. 40414978 sayısının binler bölüğündeki sayı hangisidir?

- A) 414 B) 404 C) 149 D) 40

2.  $305 \times 170$  işleminin sonucu kaçtır?

- A) 5255 B) 5950 C) 51850 D) 58510

3. Bir resim sergisini 1. gün 472 kişi, 2. gün 182 kişi ve 3. gün ise 1. günden 167 daha az kişi gezmiştir.





Buna göre üç günde bu resim sergisini toplam kaç kişi gezmiştir?

- A) 669 B) 721 C) 821 D) 959

4. Aşağıdakilerden hangisinde verilen ondalık kesirler küçükten büyüğe doğru sıralanmıştır?

- A)  $1,039 < 1,3 < 3,14$  B)  $1,039 < 3,14 < 1,3$   
C)  $1,3 < 1,039 < 3,14$  D)  $1,3 < 3,14 < 1,039$

5. Aşağıdaki dikdörtgenlerden hangisinin çevresi 36 santimetredir?

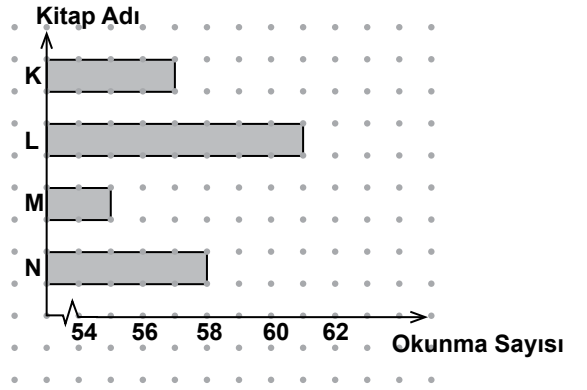
- A)  B)   
C)  D) 

6. 4 metrelik bir telin  $1\frac{1}{4}$  metresi kesildiğinde geriye kaç metre tel kalır?

- A)  $2\frac{1}{4}$  B)  $2\frac{3}{4}$  C)  $3\frac{1}{4}$  D)  $3\frac{3}{4}$

7.

Grafik: Kütüphanede 1 Ayda En Çok Okunan Dört Kitabın Okunma Sayıları



Yukarıdaki grafikte okul kütüphanesinde 1 ayda en çok okunan dört kitabın okunma sayıları verilmiştir.

Grafiğe göre en çok okunan iki kitabın okunma sayılarının toplamı kaçtır?

- A) 114 B) 115 C) 118 D) 119

8. Bir çiftçi tarlasından hasat ettiği 3845 kg pirinci en çok 55 kilogram pirinç alabilen çuvalara dolduracaktır.

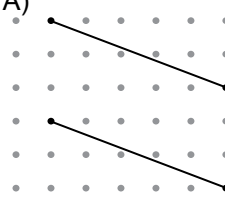
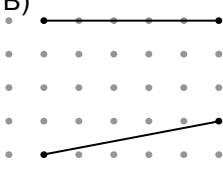
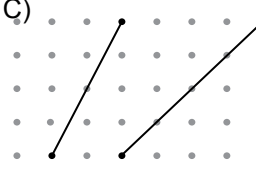
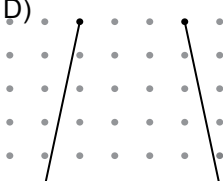
Bunun için bu çiftçinin en az kaç çuvala ihtiyacı vardır?

- A) 65 B) 67 C) 70 D) 71

9.  $3\frac{2}{7}$  tam sayılı kesri aşağıdakilerden hangisine eşittir?

- A)  $\frac{2}{21}$  B)  $\frac{6}{21}$  C)  $\frac{13}{7}$  D)  $\frac{23}{7}$

10. Aşağıdakilerden hangisindeki doğru parçaları birbirine paraleldir?

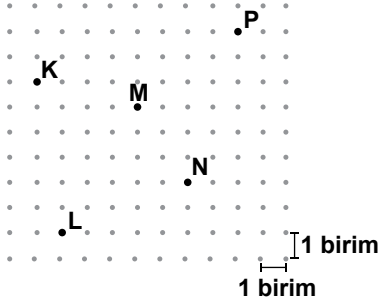
- A)  B)   
C)  D) 

# 1. OTURUM

11. Aşağıdakilerden hangisindeki kesirler küçükten büyüğe doğru sıralanmıştır?

- A)  $\frac{1}{9} < \frac{1}{7} < \frac{1}{21} < \frac{1}{15}$   
B)  $\frac{1}{7} < \frac{1}{9} < \frac{1}{15} < \frac{1}{21}$   
C)  $\frac{1}{21} < \frac{1}{15} < \frac{1}{9} < \frac{1}{7}$   
D)  $\frac{1}{15} < \frac{1}{21} < \frac{1}{9} < \frac{1}{7}$

12.



M noktasının konumu için aşağıdaki ifadelerden hangisi doğrudur?

- A) K noktasının 2 birim aşağısının 4 birim sağındadır.  
B) N noktasının 3 birim solunun 2 birim aşağısındadır.  
C) P noktasının 3 birim aşağısının 4 birim solundadır.  
D) L noktasının 4 birim yukarısının 4 birim solundadır.

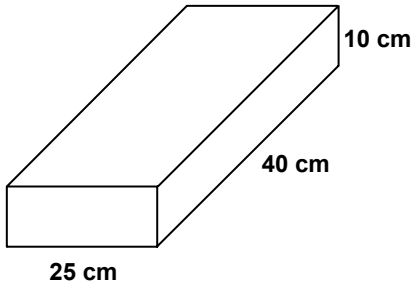
13. 275 dakika kaç saat kaç dakikadır?

- A) 3 sa 05 dk      B) 4 sa 35 dk  
C) 5 sa 25 dk      D) 9 sa 05 dk

14.  $\frac{9}{15}$  kesrinin yüzde sembolü ile gösterilişi aşağıdakilerden hangisidir?

- A) %15      B) %24      C) %60      D) %75

15.



Şekilde ayrıtlarının uzunlukları verilen kutunun yüzey alanı kaç santimetrekaredir?

- A) 3300      B) 1650      C) 1250      D) 650

16. Bir dik üçgenin dar açılarından birinin ölçüsü  $74^\circ$  dir.

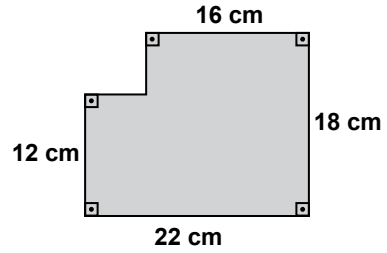
Bu dik üçgenin diğer dar açısının ölçüsü kaç derecedir?

- A) 16      B) 26      C) 54      D) 74

17.  $10,47 + 0,3$  işleminin sonucu aşağıdakilerden hangisidir?

- A) 13,47      B) 10,77      C) 10,5      D) 10,473

18.



Yukarıdaki şeklin alanı kaç santimetrekaredir?

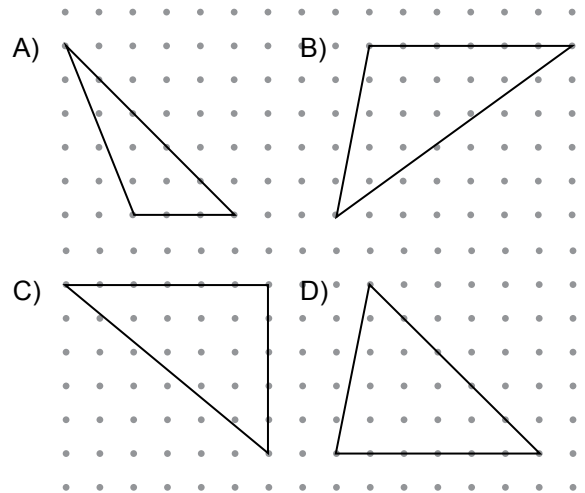
- A) 288      B) 300      C) 352      D) 360

19. Ahmet 125 lirasının %20'si ile kitap satın aldı.

Buna göre Ahmet'in satın aldığı kitap kaç liradır?

- A) 12,5      B) 20      C) 25      D) 37,5

20. Aşağıdakilerden hangisi dar açılı üçgendir?



# 1. OTURUM

## (503) FEN BİLİMLERİ – 5

1. Ahmet, penceresi kapalı odasında otururken sokaktan geçen kamyonun çıkardığı sesi işitiyor.

**Bu olayda ses sırasıyla hangi ortamlardan yayılarak kulağa ulaşır?**

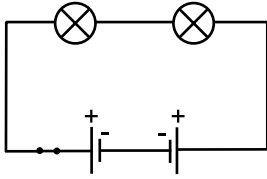
- A) Gaz → Katı → Gaz  
B) Katı → Gaz → Gaz  
C) Katı → Gaz → Katı  
D) Gaz → Katı → Katı

2. I. Kaynak gözlüğü  
II. Mercek  
III. Dürbün

**Yukarıdaki araçlardan hangilerinde yarı saydam madde kullanılmıştır?**

- A) Yalnız I  
B) I ve II.  
C) II ve III.  
D) I, II ve III.

3.



**Özdeş piller ve lambaların bulunduğu şekildeki devrede lambaların ışık vermemesinin nedeni aşağıdakilerden hangisidir?**

- A) Pillerin ters bağlanması  
B) Anahtarın açık bırakılması  
C) İki ampulün kullanılması  
D) İki pil kullanılması

4. Basit bir elektrik devresinde kullanılan pilin görevi ile ilgili olarak aşağıdakilerden hangisi söylenebilir?

- A) Elektrik enerjisini ışık enerjisine çevirmek  
B) Elektrik akımını oluşturmak  
C) Elektrik akımının geçmesini engellemek  
D) Elektrik akımının geçişini kontrol etmek

5. Öğrenciler ışıkla ilgili bilgi vermiştir.

İşık bir enerji türüdür.



Damla

İşık doğrusal yolla yayılır.



Arda

İşık ışınları her yönde yayılır.

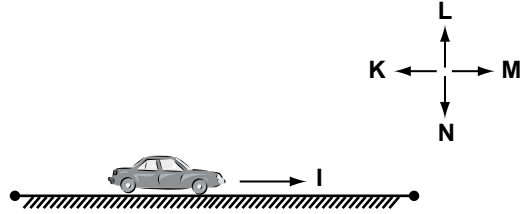


Cemre

**Bu öğrencilerden hangileri doğru bilgi vermiştir?**

- A) Yalnız Damla  
B) Damla ve Arda  
C) Arda ve Cemre  
D) Damla, Arda ve Cemre

6. Bir otomobil sürtünmeli yatay düzlemde şekildeki gibi I yönünde hareket etmektedir.



**Bu otomobile etki eden sürtünme kuvvetinin yönü hangi tarafa doğru olur?**

- A) K  
B) L  
C) M  
D) N

7. Bir dinamometreye 20 N'luk cisim asıldığında dinamometredeki yayın 8 cm uzadığı görülüyor.

**Buna göre aynı dinamometreye 30 N'luk cisim asıldığında yaydaki uzama kaç cm olur?**

- A) 10  
B) 12  
C) 15  
D) 20

# 1. OTURUM

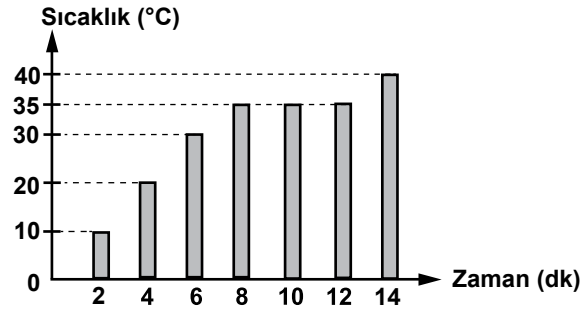
8. Aşağıdaki olaylardan hangisi heyelanın oluşumunda etkili değildir?

- A) Dağ ve tepelerin altının yol yapımı nedeniyle kazılması
- B) Erozyon sonucu arazinin eğiminin artması
- C) Eğimi az arazilerde tarım faaliyetlerinin yapılması
- D) Maden ocaklarının açılması faaliyetlerinde yapılan patlamalar

9. Yerin derinliklerinden gelen kaplıca suları aşağıdaki alanlardan hangisinde kullanılamaz?

- A) Isıtma sistemlerinde
- B) Elektrik enerjisi üretiminde
- C) Çeşitli hastalıkların tedavisinde
- D) Bütün tarım arazilerinin sulanmasında

10. Aşağıda saf sıvı bir maddenin ısıtılmasına ait sıcaklık-zaman grafiği verilmiştir.



Grafiğe göre bu maddenin kaynama sıcaklığı kaç °C'dir?

- A) 20
- B) 30
- C) 35
- D) 40

11. Elektrik telleri, kış aylarında hava sıcaklığının düşmesiyle gergin hâle gelir.

Maddedeki ısı değişimiyle oluşan bu durum aşağıdakilerden hangisine örnek olarak verilir?

- A) Büzüşme
- B) Genleşme
- C) Donma
- D) Kırışılma

12. Güvelerle mücadele etmek için yünlü giysilerin arasına konulan naftalin kısa bir süre sonra etrafa koku yayarak kaybolur.

Bu durum aşağıdaki olaylardan hangisine örnek verilebilir?

- A) Buharlaşma
- B) Erime
- C) Yoğuşma
- D) Süblimleşme

13. Aşağıdaki tabloda buharlaşma ve kaynama olayları ile ilgili bilgiler numaralandırılarak verilmiştir.

	Buharlaşma		Kaynama
I.	Maddenin her yerinde gerçekleşir.	V.	Maddenin sadece yüzeyinde gerçekleşir.
II.	Her sıcaklıkta olur.	VI.	Belli bir sıcaklıkta olur.
III.	Sıcaklık arttıkça hızı artar.	VII.	Bu olay süresince saf maddenin sıcaklığı sabittir.
IV.	Gerçekleşirken dışarıdan ısı alır.	VIII.	Sıvı maddede gerçekleşir.

Kaç numaralı bilgiler birbiriyle yer değiştirirse tablo doğru olur?

- A) I ve V.
- B) II ve VI.
- C) III ve VII.
- D) IV ve VIII.

14. Dengeli beslenmede insanların besin miktarlarını ayarlarken;

- I. Yaş
- II. Boy ve kütle
- III. Yaptıkları iş
- IV. Hastalık durumu

özelliklerinden dikkate alınanlar aşağıdakilerin hangisinde birlikte verilmiştir?

- A) I ve II.
- B) II ve III.
- C) I, III ve IV.
- D) I, II, III ve IV.

15.

Yeşil bitkiler, bitkisel yağlar, süt, karaciğer ve yumurtada bulunur. Kanamalarda kanın pıhtılaşmasını sağlar.



Gönül öğretmen

Gönül öğretmenin özelliklerini anlattığı vitamin çeşidi aşağıdakilerden hangisidir?

- A) E
- B) B
- C) K
- D) D

## 1. OTURUM

16. I. Besinleri sindirim salgılarının etkisiyle küçük yapı birimlerine ayırır.  
II. Besinlerin emilerek kana geçmesini sağlar.  
III. Besin posaları içindeki suyu emer.

**Yukarıda verilenlerden hangileri ince bağırsağın görevlerindendir?**

- A) Yalnız I  
B) I ve II.  
C) II ve III.  
D) I, II ve III.

17. Böbrekler, kanı süzerek zararlı maddelerden arındırarak idrarı oluşturur.

**Oluşan idrarın izlediği yol aşağıdakilerin hangisinde verilmiştir?**

- A) Üreter - İdrar kesesi - Üretra  
B) Üreter - Üretra - İdrar kesesi  
C) Üretra - İdrar kesesi - Üreter  
D) Üretra - Üreter - İdrar kesesi

18. Öğrenciler, yetişkin bir insanda diş çeşitleri ile ilgili bazı bilgileri aşağıdaki karta yazmıştır.

- Toplam on altı tanedir.
- Yüzeyleri geniş, girintili ve çıkıntılıdır.
- Besinleri ufalayıp öğütme işi yapar.

**Verilen bu bilgiler aşağıdaki diş gruplarından hangisine aittir?**

- A) Kesici dişler  
B) Köpek dişleri  
C) Azı dişleri  
D) Yirmi yaş dişleri

19. • Çiçeği ve tohumu yoktur.

- Besin ve oksijen üretir.
- Nemli bölgelerde dere kenarında yaşar.





**Verilen özellikler aşağıdaki bitkilerden hangisine ait olabilir?**

- A) Buğday  
B) Nilüfer  
C) Mısır  
D) Kara yosunu

20. Aşağıdaki kartta bir canlıya ait bilgiler verilmiştir.

<ul style="list-style-type: none"><li>• Yumurtayla çoğalır.</li><li>• Sadece suda yaşar.</li><li>• Sadece solungaç solunumu yapar.</li></ul>	?
--	---

**Buna göre “?” yerine hangi canlının resmi yapıştırılmalıdır?**

- A)  Balina  
B)  Alabalık  
C)  Kurbağa  
D)  Yunus

### (604) SOSYAL BİLGİLER – 6

1. Aşağıdakilerden hangisi, Atatürk'ün sosyal bilimlerin gelişmesine yönelik çalışmalarından biridir?

- A) İş Bankasını kurması  
B) Türk Dil Kurumunu açması  
C) Soyadı Kanunu'nu çıkarması  
D) İzmir İktisat Kongresi'ni toplaması

2. Aşağıdakilerden hangisi bir olgu cümlesi değildir?

- A) Yalova'nın Çınarcık ilçesinde 4,8 büyüklüğünde deprem meydana geldi.  
B) Uzmanlar, yaşanan bu depremin Marmara Denizi'ndeki gerginliğin habercisi olduğunu belirttiler.  
C) Depremler daha çok dolunaylı gecelerde meydana gelir.  
D) Çınarcık'ta 150 ev tamamen yıkıldı.



# 1. OTURUM

3. I. Ankara'nın barajlarında sular azaldı.  
II. Etüt çalışması yapıldıktan sonra maddi kaynak bulunup hemen Ankara'ya su getirilmesiyle ilgili çalışmalara başlanmalı.  
III. 2007 yılında küresel ısınma sonucu yağışlar az oldu ve kuraklık yaşandı. Ankara'nın su sorununun çözüm yolu Ankara'ya Kızılırmak'tan su getirmek.

Yukarıda "Ankara'nın Su İhtiyacı" ile ilgili bir araştırmanın evreleri numaralandırılarak verilmiştir.

**Bu numaralandırılmış bilgilerin, "Sorun", "Hipotez" ve "Değerlendirme" basamaklarıyla ilişkilendirilmeleri, aşağıdakilerin hangisinde doğru yapılmıştır?**

	SORUN	HİPOTEZ	DEĞERLENDİRME
A)	I	II	III
B)	III	II	I
C)	II	I	III
D)	I	III	II

4. Dünyamız 24 saatte 360 meridyenlik dönüş yapar.  
**Buna göre dünyamız 1 saatte kaç meridyenlik dönüş yapar?**

A) 6 B) 15 C) 90 D) 111

5. Avustralya ve çevresindeki ada ülkelerini kapsayan kıtanın adı, aşağıdakilerden hangisidir?

A) Afrika B) Okyanusya  
C) Antarktika D) Güney Amerika

6. Türkiye kaç yarımadadan oluşmaktadır?

A) 5 B) 4 C) 3 D) 2

7. Türkiye fiziki haritasından faydalanarak aşağıdakilerden hangisi ile ilgili bir bilgi edinemeyiz?

A) Türkiye'ye kıyısı olan denizlerin derinliği  
B) Dağların uzanış yönleri  
C) İllerin yüzölçümleri  
D) Yer şekilleri

8. • Nem ve yağış fazladır.  
• Yıllık ve günlük sıcaklık farkı azdır.  
• Kar yağışı çok azdır.

**Yukarıda hangi iklim tipinin özelliklerinden bir-kaçı verilmiştir?**

A) Çöl iklimi B) Tundra iklimi  
C) Karasal iklimler D) Denizsel iklimler

9. İlk Çağ'da;

- Urartular sulama kanalları inşa etmişler,
- Hititler, Yazılıkaya ve İvriz kabartmalarını yapmışlar,
- İyonyalılar da matematik, tıp ve tarih bilimlerinde ileri gitmişlerdir.

**Yukarıda hangi alanla ilgili bir gelişmeye örnek verilmemiştir?**

A) Din B) Bilim C) Tarım D) Sanat

10. • İlk Çağ Anadolu uygarlıklarından biridir.  
• Bu uygarlık Anadolu'da kurulmuş ilk merkezî devlettir.  
• Kendi tanrılarının yanı sıra çevre medeniyetlerin tanrılarına da inanmışlardır. Bu yüzden bu uygarlığın hâkim olduğu topraklara "Bin Tanrı İli" adı verilmiştir.  
• Tarihte bilinen ilk yazılı antlaşmayı imzalamışlardır.

**Hakkında kısa bilgi verilerek tanıtılmaya çalışılan uygarlık, aşağıdakilerden hangisidir?**

A) Frig B) Hitit C) Lidya D) Urartu

11. Aşağıdakilerden hangisi Kavimler Göçü'nün sonuçlarından biri değildir?

A) Feodalitenin doğması  
B) Türklerin İslamiyet'i kabul etmesi  
C) Roma İmparatorluğu'nun ikiye ayrılması  
D) İlk Çağ'ın sona erip, Orta Çağ'ın başlaması

12. • Moğolların Türkleşmesinde etkili oldular.  
• Mani ve Buda dinlerini benimsediler.  
• İlk şehirleri kurdular.  
• Matbaayı kullandılar.

**Haklarında bazı özellikler verilen Türk devleti, aşağıdakilerden hangisidir?**

A) Avrupa Hun B) Asya Hun  
C) Kök Türk D) Uygur

# 1. OTURUM

13. Orta Asya Türk devletlerinin kısa sürede yıkılmasının en önemli nedeni, aşağıdakilerden hangisidir?

- A) Çin entrikaları B) Moğol istilası  
C) Eski Türk dini D) Türk veraset sistemi

14. “Medinelilerle Mekkeliler arasında 627 yılında yapılan bu savaş, Müslümanların son savunma savaşıdır.”

Yukarıda hangi savaştan söz edilmektedir?

- A) Uhud B) Bedir C) Hendek D) Kadiks

15. Karahanlı Devleti'nin kurulmasına katkıda bulunan Türk boyu, aşağıdakilerden hangisidir?

- A) Karluklar B) Kırgızlar  
C) Kıpçaklar D) Kimekler

16. Türk – İslam devletlerinde;

- I. Türbe  
II. Kurgan  
III. Kümbet

gibi mimari eserlerden hangileri mezar yapısı olarak kullanılmıştır?

- A) Yalnız II B) Yalnız III  
C) I ve II. D) I ve III.

17. Memurların yıl içerisinde kazanmış olduğu paradan ödedikleri vergi, aşağıdakilerden hangisidir?

- A) Emlak vergisi  
B) Gelir vergisi  
C) Alım satım vergisi  
D) Katma değer vergisi

18. Türkiye'nin en çok satın aldığı ürünlerin başında, aşağıdakilerden hangisi gelir?

- A) Petrol B) Kâğıt  
C) Kömür D) Seramik

19. Aşağıdakilerden hangisi dünyada modern anlamda ilk demokrasi hareketi sayılmaktadır?

- A) Veda Hutbesi  
B) Hammurabi Kanunları  
C) Magna Carta Libertatum  
D) İnsan Hakları Evrensel Bildirgesi

20. Aşağıdakilerden hangisi “Aslan ölürken postunu, insan ölürken ismini bırakır.” atasözüne örnek olarak gösterilemez?

- A) İstanbul'u, Osmanlı padişahı II. Mehmet fethetmiştir.  
B) İlk Çağ'da insanlar toplayıcılıktan üretime geçmiştir.  
C) Kutadgu Bilig adlı eserin yazarı Yusuf Has Hacip'tir.  
D) İstanbul'da ilk açılan sosyal bilimler lisesine Profesör Doktor Mümtaz Turhan'ın adı verilmiştir.

(607) İNGİLİZCE – 6

1-20. sorularda boş bırakılan yere uygun gelen kelime ya da ifadeyi işaretleyiniz.

1. A: What - - - - are you?  
B: I am German.

- A) country B) nationality  
C) city D) number

2. - - - - names are Jack and Jill.

- A) His B) Her C) Their D) Its

3. Is - - - - a chair?

- A) this B) they C) these D) those

4. A: What is this?  
B: - - - -.

- A) They are cars B) Those are cars  
C) These are cars D) It is a car

# 1. OTURUM

5. David - - - - a new watch.

- A) have                      B) don't have  
C) haven't got              D) has got

6. A: Whose umbrella is it?

B: It is - - - -.

- A) an umbrella              B) Mike's umbrella  
C) Mike's umbrellas        D) Mike's umbrella's

7. A: Can you ride a motorcycle?

B: No, I can't, but - - - -.

- A) I can ride a bicycle  
B) I can't ride a bicycle  
C) I am riding a bicycle  
D) I don't ride a bicycle

8. My brother is tall. He can - - - - basketball.

- A) speak    B) drive    C) play    D) draw

9. A: Where is Erzurum?

B: Erzurum is in the - - - - of Turkey.

- A) west    B) east    C) north    D) south

10. A: Excuse me, - - - - ?

B: It is quarter to eleven.

- A) how are you              B) how old are you  
C) what is its name        D) what is the time

11. Today is Tuesday and tomorrow is - - - -

- A) Friday                      B) Monday  
C) Saturday                    D) Wednesday

12. "- - - - your brother go to the cinema at the weekends?"

- A) Do    B) Does    C) Is    D) Has

13. My father - - - - listens to folk music but he - - - - listens to pop music.

- A) always / never              B) always / always  
C) never / never                D) never / now

14. Ten - - - - fifteen equals twenty-five.

- A) multiplied by                B) divided by  
C) minus                        D) plus

15. - - - - students are there in the classroom?

- A) Who                        B) How  
C) How many                  D) How much

16. My brother and I - - - - basketball next weekend.

- A) are going to play            B) is playing  
C) played                      D) play

17. You - - - - speak loudly in the library.

- A) mustn't                      B) must  
C) shall                        D) can

18. A: - - - - ?

B: She is cleaning the house.

- A) What is your mother going to do  
B) What does your mother do  
C) What is your mother to do  
D) What is your mother doing

19. The children - - - - in the school garden at the moment.

- A) play                        B) plays  
C) are playing                D) are going to play

20. A: Do your parents like chicken?

B: - - - - chicken.

- A) No, you don't like            B) No, they don't like  
C) No, she doesn't like        D) No, he doesn't like

# 1. OTURUM

(607) ALMANCA – 6

1-19. sorularda boş bırakılan yere uygun gelen kelime ya da ifadeyi işaretleyiniz.

1. A: Hallo Mehmet! - - - - heißt sie?

B: - - - - heißt Monika.

- A) Wer / Er                      B) Wie / Sie  
C) Wo / Es                      D) Was / Du

2. A: - - - - gehst du zur Schule?


B: Um 8.00 Uhr.

- A) Wohin    B) Wie            C) Wo            D) Wann

3. Februar, - - - -, April

- A) Januar    B) Mai            C) März            D) Juni

4.



A: Wie spät ist es?

B: Es ist - - - -.

- A) halb drei                      B) drei Uhr  
C) halb zwei                      D) zwei Uhr

5. A: - - - -.

B: Ich lese ein Buch.


- A) Wohin gehst du?            B) Was machst du?  
C) Wie heißt du?                D) Woher kommst du?

6. A: - - - -.


B: Er ist zu Hause.

- A) Wohin geht er?            B) Wie heißt er?  
C) Wo ist sie?                    D) Wo ist er?

7.



Das ist eine - - - -.



Das sind - - - -.

- A) Teller / Teller                B) Löffel / Löffel  
C) Tasse / Tassen                D) Tisch / Tische

8. Ich kann Auto - - - -.

- A) fahren    B) fahre            C) fährt            D) fährst

9. neunzehn, - - - -, einundzwanzig

- A) achtzehn                      B) zwanzig  
C) zweiundzwanzig            D) zwölf

10.



A: Ist das ein - - - -?

B: Ja.

- A) Tisch    B) Fenster    C) Bett            D) Schrank

11. A: - - - - ?

B: Aus Deutschland.

- A) Woher kommt Helga  
B) Wie alt ist Helga  
C) Wo wohnt Helga  
D) Was macht Helga

12. A: Was - - - - ihr?

B: Tee.

- A) trinke    B) trinkst            C) trinkt            D) trinken

13. A: Was - - - - du abends im Fernsehen?

B: Ich - - - - die Nachrichten.

- A) schaut / schaut            B) schauen / schaue  
C) schaue / schaut            D) schaut / schaue

14. A: - - - - Peter in der Schule?

B: - - - -, er ist nicht in der Schule.

- A) Ist / Nein                      B) Ist / Ja  
C) Sind / Nein                    D) Sind / Ja

15. Wann - - - - wir - - - - Izmir?

- A) fährt / zu                      B) fahren / nach  
C) fährst / nach                D) fahren / zu

# 1. OTURUM

16. **A:** - - - - du ein Brief?  
**B:** Ja, ich - - - - ein Brief.
- A) Lesen / lese                      B) Schreiben / schreibst  
C) Schreibst / schreibe          D) Liest / lesen

17. **A:** - - - - ?  
**B:** Siebzehn.
- A) Woher kommt Hakan  
B) Was macht Hakan  
C) Wer ist Hakan  
D) Wie alt ist Hakan

18. **A:** - - - - ?  
**B:** In Istanbul.
- A) Wo leben deine Eltern  
B) Wie heißen deine Eltern  
C) Wer sind deine Eltern  
D) Was machen deine Eltern

19. **A:** Lernst du Deutsch?  
**B:** Nein, ich - - - - Englisch.
- A) lernt    B) lernst    C) lerne    D) lernen

20. Aşağıdakilerden hangisi sıfattır? (Adjektiv)
- A) spielen                      B) grün  
C) trinken                      D) sprechen

(607) FRANSIZCA – 6

1-12. sorularda boş bırakılan yere uygun gelen kelime ya da ifadeyi işaretleyiniz.

1. **Nous sommes** - - - -.
- A) allemand                      B) français  
C) belge                              D) chinoise

2. **Alice** : - - - - ont tes frères?  
**Pierre** : Ils ont huit et dix ans.
- A) Quel âge                      B) Pourquoi  
C) Quelle                              D) Comment

3. **Paul** : - - - - allez-vous?  
**Selda** : Très bien, merci. Et vous?
- A) Parce que                      B) Quel  
C) Pourquoi                              D) Comment

4. **Filiz** : Lucie est mariée?  
**Bernard** : Non, elle est - - - -.
- A) jeune                              B) blonde  
C) célibataire                      D) dentiste

5. - - - - est la Statue de la Liberté?
- A) Quand                              B) Ou  
C) Combien                              D) Où

6. **Dans les bijouteries, on vend** - - - -.
- A) des légumes et des fruits  
B) des colliers et des boucles d'oreilles  
C) des boissons et des gâteaux  
D) des bottes et des chaussures

7. **Annie** : Pinar et Ayşe aiment le théâtre?  
**Meral** : Non, elles - - - - le théâtre.
- A) n'aiment pas                      B) ont aimé  
C) ne pas aimer                      D) aimer

8. **Corinne** : - - - - est-ce que tu ne déjeunes pas avec moi?  
**Albert** : Parce que j'ai un rendez-vous à 13 heures.
- A) Comment                              B) Où  
C) Pourquoi                              D) Quelle

9. **Marc** : Tu prends du thé après le dîner?  
**Anne** : Non, je ne prends jamais - - - - thé après le dîner.
- A) de                              B) du                              C) les                              D) des

10. **Sibel travaille** - - - - New York - - - - États-Unis.
- A) aux / à                              B) en / aux  
C) à/ aux                              D) à / en

# 1. OTURUM

11. Semih : Qui est-ce?

Alain : C'est ---- chinois.

- A) une veste                      B) un serveur  
C) une cravate                    D) une jupe

12. Je vais acheter une bouteille d'eau ----.

- A) à la boulangerie              B) à la pharmacie  
C) à la boucherie                D) à l'épicerie

13. Aşağıdakilerden hangisi "86" sayısının doğru yazılışdır?

- A) Quatre-vingt-dix              B) Soixante-seize  
C) Quatre-vingt-six              D) Quarante-sept

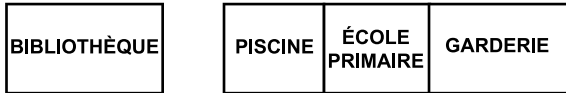
14. Aslı : ----?

Léa : Non merci, je viens de boire du jus d'orange.

- A) Un café                        B) Un serveur  
C) Un parc                        D) Un cinéma

15-20. soruları resimleri dikkate alarak cevaplayınız.

15.



L'école primaire est ----.

- A) devant le théâtre  
B) à côté de la boucherie  
C) en face de la bibliothèque  
D) entre la piscine et la garderie

16. La boucherie est ----.

- A) en face du théâtre  
B) à côté de la poissonnerie  
C) derrière la piscine  
D) entre le théâtre et la bibliothèque

17.



- A) Il est minuit.  
B) Il est onze heures.  
C) Il est onze heures et quart.  
D) Il est onze heures et demie.

18.



Elle est ---- et elle porte ----.

- A) jeune/ une jupe              B) gentil / une cravate  
C) belle / un pantalon        D) laide / un chapeau

19.



Il est ----.

- A) journaliste                    B) ingénieur  
C) pharmacien                    D) boucher

20.



Il fait ----.

- A) des courses                    B) ses devoirs  
C) la cuisine                      D) de la gymnastique

# 1. OTURUM

## (608) DİN KÜL. VE AHLAK BİLGİSİ – 6

1. “Ey Muhammed! Şimdi sen, sana emrolunanı açıkça ortaya koy ve Allah’a ortak koşanlara aldırış etme.”  
(Hicr suresi, 94. ayet)

**Bu ayetten aşağıdaki sonuçlardan hangisi çıkarılamaz?**

- A) Hz. Peygamber tebliğ etmekle görevlidir.  
B) İslam’a davet açıktan yapılmaya başlanmıştır.  
C) Müşrikler Hz. Peygamber’e karşı çıkmışlardır.  
D) Hz. Peygamber’e ilk inananlar kendi yakınlarıdır.

2. Aşağıdakilerden hangisi Hz. Muhammed (sav.)’in “Akabe Görüşmeleri” ile ilgili yanlış bir bilgidir?

- A) İlk görüşmeye katılanların sayısı on ikidir.  
B) İkinci görüşmeye yetmiş beş kişi katılmıştır.  
C) İslam’ı öğretmek için Medine’de Hz. Osman görevlendirilmiştir.  
D) Gelenler Hz. Muhammed(sav.)’i koruyacaklarına dair söz vermişlerdir.

3. Hz. Muhammed (sav.) Medine’de kendisiyle görüşmeye gelen heyetlerle genellikle mescitte “heyet sütunu” olarak adlandırılan direğin önünde görüşmüştür.

**Bu görüşmeler aşağıdaki mescitlerin hangisinde yapılmıştır?**

- A) Kâbe B) Mescid’i Nebevi  
C) Mescid’i Kibleteyn D) Kûba Mescidi

4. Aşağıdakilerden hangisi Kuran’da ismi geçen peygamberlerden biri değildir?

- A) Hz. Hızır B) Hz. Musa  
C) Hz. Lut D) Hz. İdris

5. İslam dininde aşağıdakilerden hangisi “Eşrefi mahlûkat” yani “yaratılmışların en üstünü” olarak adlandırılmıştır?

- A) Melek B) İnsan C) Cin D) Hayvan

6. Aşağıdaki ayetlerin hangisinde Hz. Muhammed (sav.)’in peygamber olduğu vurgulanmamıştır?

- A) “Muhammed, sizin erkeklerinizden hiçbirinin babası değildir. Fakat o, Allah’ın resûlü ve nebîlerin sonuncusudur. Allah, her şeyi hakkıyla bilendir.”  
(Ahzâp suresi, 40. ayet)  
B) “De ki: “Ben de ancak sizin gibi bir insanım. (Ne var ki) bana, ‘Sizin ilâh’ınız ancak bir tek ilâhtır” diye vahyolunuyor...”  
(Kehf suresi, 110. ayet)  
C) “Andolsun, Allah’ın Resûlünde sizin için; Allah’a ve ahiret gününe kavuşmayı uman, Allah’ı çok zikreden kimseler için güzel bir örnek vardır.”  
(Ahzâp suresi, 21. ayet)  
D) “O, kalemle yazmayı öğretendir, insana bilmediğini öğretendir.”  
(Alak suresi, 4-5. ayetler)

7. İslam kültüründe “dinin direği ve müminin miracı” olarak nitelenen ibadet aşağıdakilerden hangisidir?

- A) Namaz B) Zekat C) Oruç D) Hac

8. Kur’an-ı Kerim’de Hz. İsa (as.)’nın dilinden şöyle buyrulur: “...Şüphesiz ben Allah’ın kuluyum. Bana kitabı (İncil’i) verdi ve beni bir peygamber yaptı. Nerede olursam olayım beni kutlu ve erdemli kıldı ve bana yaşadığım sürece namazı ve zekâtı emretti.”  
(Meryem suresi, 30-31. ayetler)

**Aşağıdakilerden hangisi bu ayetlerden çıkarılamaz?**

- A) Hz. İsa’ya da namaz farz kılınmıştır.  
B) Hz. İsa’ya indirilen kitabın adı İncil’dir.  
C) Hz. İsa’ya çok az kişi iman etmiştir.  
D) Hz. İsa Allah’ın peygamberidir.

9. “Ey iman edenler! Namaza kalkacağınız zaman yüzlerinizi, dirseklere kadar ellerinizi ve başlarınızı mesh edip her iki topuğa kadar da ayaklarınızı yıkayın...”  
(Maide suresi, 6. ayet)

**Bu ayete göre aşağıdakilerden hangisi abdestin farzlarından biridir?**

- A) Yüzü yıkamak B) Ağıza su vermek  
C) Burna su vermek D) Boynu mesh etmek

# 1. OTURUM

10. Namaz kılmaya başlamadan önce namaza hazırlık şartlarından hangisi en son yapılır?

- A) Vakit B) Niyet  
C) Setri avret D) İstikbali kible

11. Ali : Sela okunur.  
Ayşe : Cami içinde de ezan okunur.  
Recep : Hutbe okunur

Bu öğrencilerin vermiş olduğu bilgiler aşağıdaki namazlardan hangisi ile ilgilidir?

- A) Bayram namazı B) Cenaze namazı  
C) Cuma namazı D) Öğle namazı

12. • Yesrip  
• Muhacir  
• Ensar

Bu kavramlar aşağıdakilerden hangisi ile ilişkilendirilemez?

- A) Mekke B) Taif C) Medine D) Hicret

13. Aşağıdakilerden hangisi Hz. Muhammed (sav.)'in Akabe'de Medineli Müslümanlardan almış olduğu sözler arasında yer almaz?

- A) Çocukları öldürmeyecekler.  
B) Allah'a hiçbir şeyi ortak koşmayacaklar.  
C) Kendisine itaatsizlik etmeyecekler.  
D) Yahudileri Medine'den çıkarmayacaklar.

14.

	Tarih	Olay
I.	632	-
II.	571	-
III.	610	?
IV.	622	-

Tabloda Hz. Muhammed (sav.) ile ilgili tarihler numaralandırılmıştır. Bu tarihlere ait olaylar ise aşağıdaki seçeneklerde karışık halde verilmiştir.

Buna göre III. maddeye aşağıdakilerden hangisi getirilmelidir?

- A) İlk vahyin gelmesi  
B) Medine'ye hicret etmesi  
C) Hz. Muhammed (sav.)'in vefatı  
D) Hz. Muhammed (sav.)'in doğması

15. Hz. Muhammed (sav.) Mekke'yi fethedince üç yere sığınanların emniyette olacağını bildirmiştir.

Aşağıdakilerden hangisi bu yerlerden biri değildir?

- A) Kendi evleri B) Haremi şerif  
C) Nur Dağı D) Ebu Süfyan'ın evi

16. Aşağıdaki davranışlardan hangisi iftira olarak değerlendirilir?

- A) Bir başkasına karşı kendisini üstün görmek  
B) Birinin arkasından kötü huylarını söylemek  
C) Bir kimsenin arkasından kaş göz işareti yapmak  
D) Birisinin arkasından onun yapmadığı şeyleri söylemek

17. Teravihlerde cemaatin makamı olarak peygamberimiz için getirdiği salavat aşağıdakilerin hangisi tarafından bestelenmiştir?

- A) Dede Efendi B) İtri  
C) Fuzuli D) Karacaoğlan

18. "İnsanlardan kendileri bir şeyi ölçerek aldığı zaman tam alan; ama onlara bir şeyi ölçüp tartarak verdiklerinde eksik tutan kimselerin vay haline!" (Mutaffin suresi, 1-3. ayetler)

Bu ayet aşağıdaki davranışlardan hangisine karşı insanları uarmaktadır?

- A) Gıybet B) Kibir C) Haset D) Hile

19. "Esnafın pîri" olarak tanınan Türk- İslam büyüğü aşağıdakilerden hangisidir?

- A) Ahi Evran B) Yunus Emre  
C) Mevlana D) Hacı Bektaş Veli

20. Kur'ân-ı Kerim'de anlatılan kıssalarda çoğunlukla zaman, yer ve bazen de kişi isimleri verilmemiştir.

Bu durumun sebebi aşağıdakilerden hangisidir?

- A) Bilinmeyen bu durumların insanlar tarafından araştırılmasının istenmesi  
B) Anlatılan olayların gerçekte yaşanmamış olması  
C) Sınırlamalara bağlı kalmadan ilkeler çıkarılabilmesi  
D) Detaylı olduğunda insanların anlayamayacak olması



# 1. OTURUM

(701) TÜRKÇE – 7

1. Aşağıdaki cümlelerin hangisinde “tutmak” sözcüğü, karşısında verilen anlama uygun kullanılmamıştır?

	Anlam	Cümle
A)	Yanında bulundurmak, alıkoymak	Siz gelinceye kadar çocuğu ben tutarım.
B)	Gereğini yapmak, yerine getirmek	Verdiği sözü tutmuş, vaktinde gelmişti.
C)	Benimsemek, beğenmek	Sanatçının son şarkısı çok tuttu.
D)	Asılmak, kuvvetlice sarılmak	Biraz toz olsa mendilini burnuna tutar.

2. Dilimizde ayak kelimesiyle kurulmuş birçok deyim vardır: Bir düşünceyi, bir davranışı sonuna kadar sürdürmek için ayak diremek; birini aldatmak,

1

kandırmak amacıyla dalavere çevirme anlamında ayak yapmak; bir yere hiç uğramamak anlamında

2

ayakları geri geri gitmek; güçlükleri yenerek ileri-

3

sinden korkmayacak bir duruma girmek anlamında ayağı düze basmak deyimlerini kullanınız.

4

Bu metinde numaralanmış deyimlerden hangisinin açıklaması yanlış verilmiştir?

A) 1. B) 2. C) 3. D) 4.

3. Aşağıdaki cümlelerin hangisinde amaç-sonuç ilişkisi yoktur?

- A) Kaptanın kim olduğunu anlamak için ona birçok soru sordu.  
B) Elini öptü, seyahate çıkmak için izin istedi.  
C) Düğün hazırlıklarını tamamlamak için Yemen'e gideceğim.  
D) Kervancıyı lafa tuttuğu için kervan gecikti.

4. “Başladığın bir işte her zaman güçlüklerle karşılaşacağını varsay ki sonunda hayal kırıklığına uğramayasın, iyi sonuçlar aldığında sevinesin.” anlamına gelen atasözü aşağıdakilerden hangisidir?

- A) İşini kış tut da yaz çıkarsa bahtına.  
B) İşine hor bakan boynuna torba takar.  
C) İş bilen, kılıç kuşananın.  
D) İş olacağına varır.

5. 1. Çocuk, tavşanın hâline üzülüp onu kapandan kurtarıp yoluna devam etti.  
2. Çalılığın içine girince bir avcının kurduğu kapanı kısılmış bir tavşan gördü.  
3. Çocuk, güneş batarken eve dönmek üzere yola koyuldu.  
4. Ormanın kıyısındaki sık çalılığın içinden bir ses duydu.

Numaralanmış cümlelerle olayların akışına göre bir metin oluşturulduğunda sıralama aşağıdakilerden hangisi olur?

- A) 1-2-3-4 B) 1-2-4-3  
C) 3-4-2-1 D) 3-2-4-1

6. Eğdi başını bir sarı papatya gibi, sustu bir süre. Sonra bir şey diyecek gibi oldu, diyemedi. Yüreğindeki acı konuşmasına engel oluyordu.

Bu metinde aşağıdaki düşünceyi geliştirme yollarından hangisi kullanılmıştır?

- A) Benzetme B) Tanımlama  
C) Kanıtlama D) Karşılaştırma

7. Okurken veya metne dayalı konuşmalarımızda noktalama işaretlerinde gerektiği kadar durup solumlanmaya - - - - denir.

Bu cümlede boş bırakılan yere aşağıdakilerden hangisi getirilmelidir?

- A) tonlama B) duraklama  
C) vurgu D) aliterasyon

8. Güzel düşün, iyi hisset, yanılma, aldanma; Ne varsa doğrudur; doğruluk şaşar sanma.

Bu dizelerdeki altı çizili kelimelerin türü sırasıyla aşağıdakilerin hangisinde verilmiştir?

- A) İsim – Sıfat B) Zarf – Fiil  
C) Sıfat – Zamir D) Zamir – Fiil

9. Aşağıdakilerin hangisinde altı çizili fiil, yapısı bakımından basittir?

- A) Çarpım tablosunu sonunda kavradık.  
B) Oturduğu yerden doğruldu.  
C) Yüzü soğuktan morarmıştı.  
D) Aşağı kapı bir anda tıkırdadı.

# 1. OTURUM

10. Aşağıdaki cümlelerden hangisinin yüklemi ek fiil almıştır?

- A) Ömer bir şey söylemesi gerektiğini anladı.
- B) Sait Bey, kız kardeşinin şakasından alınmış gibi yaptı.
- C) Resimde denizci elbisesi giymiş bir çocuk vardı.
- D) Atiye Hanım, buluşmanın heyecanı ile mırıldandı.

11. Aşağıdaki cümlelerden hangisinin yüklemi bileşik zamanlı fiil değildir?

- A) Köşede bir tramvay, yolcularını boşaltıyordu.
- B) Bavullarını aldıktan sonra gümrüğe doğru yürüdü.
- C) Üçüncü resim bir fotoğraf stüdyosunda çekilmiş olmalıydı.
- D) Çocuğu iş çıkışı okuldan alacaktı.

12. Aşağıdakilerden hangisi olay yazısıdır?

- A) Deneme
- B) Mektup
- C) Tiyatro
- D) Sohbet

13. Halkı eğitme ve aydınlatma konusunda tiyatronun önemli bir araç olduğuna inanıyordum. Tiyatronun halk üzerindeki etkisini Avrupa'da bulunduğum sırada iyice anlamıştım. Tiyatroyla ilgilenmeye başladım. "Vatan yahut Silistre" adlı oyunu yazdım. Bu oyun tiyatrodan oynadığı gün halk çok heyecanlandı, gösteriler yapıldı. Bu yüzden 1873 yılında Kıbrıs'ta Magosa'ya sürüldüm.

Bu metnin türü aşağıdakilerden hangisidir?

- A) Deneme
- B) Biyografi
- C) Otobiyografi
- D) Söyleşi

14. Türk edebiyatında noktalama işaretlerini ilk kullanan sanatçı aşağıdakilerden hangisidir?

- A) Gazali
- B) Şinasi
- C) Tevfik Fikret
- D) Halit Ziya Uşaklıgil

15. Aşağıdakilerden hangisi karşılıklı konuşma çeşitlerinden biri değildir?

- A) Özür dileme konuşması
- B) Görevlilerle konuşma
- C) Telefonla konuşma
- D) Sunuş konuşması

16. Aşağıdakilerin hangisinde eylem farklı bir kiple çekimlenmiştir?

- A) Duvarlardaki çatlakları bir an önce onarmalı.
- B) Her gün bahçesindeki çiçeklerle ilgileniyor.
- C) Tatilde hep bilgisayar oyunu oynamış.
- D) Yazdığı şiirleri bir dergiye gönderecek.

17. Aşağıdakilerden hangisi konuşma öncesi dikkat edilecek özelliklerden biri değildir?

- A) Kendine güven
- B) Tedbirli ve dikkatli olma
- C) Fiziki denetim
- D) Değerlendirme yapma

18. Aşağıdaki cümlelerin hangisinde durum zarfı kullanılmamıştır?

- A) Bize yaşanmış bir olay anlattı.
- B) O kadar güzel konuşuyordu ki...
- C) Araba yanımdan hızla geçti.
- D) Bu havalar beni fena çarptı.

19. Aşağıdaki cümlelerin hangisinde yazım yanlışı yapılmıştır?

- A) Öğrencilerden birkaçı stajdaydı.
- B) Birtakım fincan almıştım.
- C) Birçoğu toplantıya gelmemişti.
- D) "Hiçbir" belirsizlik bildiren bir sözcüktür.

20. ( ) Bu harika ( ) ( ) diye haykırdı Kübra ( )

Bu cümlede yay ayrıçla gösterilen yerlere sırasıyla aşağıdaki noktalama işaretlerinden hangileri getirilmelidir?

- A) (-) (: ) (-) (...)
- B) (") (!) (") (.)
- C) (-) (!) (-) (.)
- D) (") (:) (") (...)

# 1. OTURUM

## (702) MATEMATİK – 7

1.  $\frac{4}{5} \cdot \frac{5}{3} - \frac{1}{3} + \frac{3}{7} : \frac{2}{7}$  işleminin sonucu kaçtır?

- A) 1      B)  $\frac{5}{2}$       C)  $\frac{87}{30}$       D)  $\frac{21}{5}$

2. Aşağıdaki noktalardan hangisi, denklemi  $y = 2x - 3$  olan doğru üzerinde değildir?

- A)  $(-1, -5)$       B)  $(0, -3)$   
C)  $(2, 1)$       D)  $(-3, 6)$

3. Bir sayı örüntüsünün kuralı  $2n - 1$ 'dir.

**Bu örüntünün 27. ve 40. sayıları arasındaki fark kaçtır?**

- A) 13      B) 25      C) 26      D) 79

4. Ahmet'in 3 farklı ceket, 5 farklı pantolonu, 4 farklı gömleği vardır.

**Ahmet 1 ceket, 1 pantolon ve 1 gömleği birlikte kaç farklı biçimde giyebilir?**

- A) 12      B) 19      C) 47      D) 60

5. Aşağıdakilerden hangisi yanlıştır?

- A)  $(-2)^3 = 8$       B)  $3^4 = 81$   
C)  $-4^2 = -16$       D)  $(-1)^5 = -1$

6. Bir bankaya yıllık %5 faizle yatırılan 74 000 lira 2 yıl sonunda kaç lira faiz getirir?

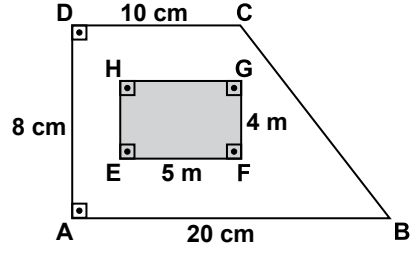
- A) 2400      B) 3700      C) 6500      D) 7400

7. Bir satıcı 700 liralık bir ürünün fiyatında %15 indirim, 300 liralık bir ürünün fiyatında %25 zam yapıyor.

**Bu iki ürünün her birinden birer tane sattığında, satıcının kâr-zarar durumu aşağıdakilerden hangisi olur?**

- A) 30 lira zarar      B) 100 lira zarar  
C) 30 lira kâr      D) 100 lira kâr

8.



**Şekildeki ABCD dik yamuğunun alanı, EFGH dikdörtgeninin alanının kaç katıdır?**

- A) 6      B) 5      C) 4      D) 3

9. Aynı nitelikte 15 top 1'den 15'e kadar sayılarla numaralandırılarak bir torbaya atılıyor.

**Bu torbadan rastgele bir top çekildiğinde üzerinde yazan sayının iki basamaklı olma olasılığı nedir?**

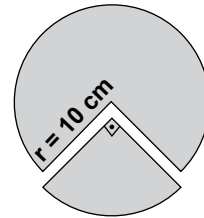
- A)  $\frac{2}{3}$       B)  $\frac{2}{5}$       C)  $\frac{3}{10}$       D)  $\frac{5}{11}$

10. Bir okulda A, B ve C şehirlerine düzenlenen aynı tarihteki üç ayrı geziye okulun tüm öğrencileri katılıyor. Öğrencilerin  $\frac{2}{5}$ 'si A şehrine,  $\frac{1}{3}$ 'i B şehrine gidiyor.

**Geri kalan 148 öğrenci C şehrine gittiğine göre bu okulda kaç öğrenci vardır?**

- A) 330      B) 440      C) 555      D) 645

11.



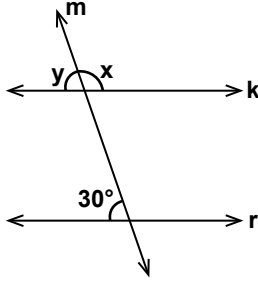
Yarıçapının uzunluğu  $r = 10$  cm olan daire şeklindeki bir kartondan  $90^\circ$  lik merkez açılıya sahip bir dilim şeklindeki gibi kesilerek çıkarılıyor.

**Bu dilimin çevresinin uzunluğu kaç santimetredir? ( $\pi$ 'yi 3 alınız.)**

- A) 25      B) 35      C) 40      D) 50

# 1. OTURUM

12.



Şekilde m doğrusu, k ve r doğrularını kesmektedir.

$k \parallel r$  olduğuna göre  $x - y$  kaç derecedir?

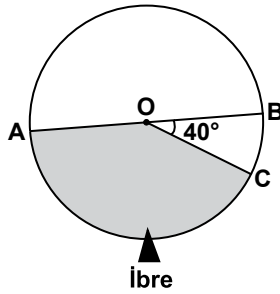
- A) 60      B) 90      C) 120      D) 130

13. Eşit miktarda su akıtan 8 musluk aynı anda açıldığında boş bir havuz 10 saatte dolmaktadır.

**Bu musluklardan 5'i aynı anda açıldığında bu boş havuz kaç saatte dolar?**

- A) 4      B) 8      C) 12      D) 16

14.



Şekildeki O merkezli dairede  $[AB]$  çap ve  $s(\widehat{BOC}) = 40^\circ$  dir.

**Bu daire kendi merkezi etrafında döndürüldüğünde, ibrenin boyalı bölgeyi gösterme olasılığı nedir?**

- A)  $\frac{1}{4}$       B)  $\frac{1}{3}$       C)  $\frac{7}{18}$       D)  $\frac{8}{9}$

15. Silindirik şeklindeki bir ilaç kutusunun taban yarıçapının uzunluğu 2 cm ve yüksekliği 6 cm'dir.

**Bu kutunun hacmi kaç santimetreküptür? ( $\pi$ 'yi 3 alınız.)**

- A) 216      B) 72      C) 36      D) 12

16.



Şekildeki dikdörtgenler birbirine benzerdir.

**Küçük dikdörtgenin kısa kenarının uzunluğu 4 cm olduğuna göre bu iki dikdörtgenin benzerlik oranı kaçtır?**

- A)  $\frac{2}{7}$       B)  $\frac{3}{7}$       C)  $\frac{2}{3}$       D)  $\frac{3}{4}$

17. Aşağıdaki dörtgenlerden hangisinin karşılıklı açıları eş değildir?

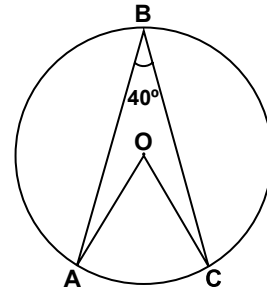
- A) Dikdörtgen      B) Yamuk  
C) Eşkenar dörtgen      D) Paralelkenar

18. O merkezli bir çemberin yarıçapının uzunluğu 3,5 cm'dir.

**K, N, P ve T noktaları için  $|OK| = 2,8$  cm,  $|ON| = 4$  cm,  $|OP| = 4,5$  cm ve  $|OT| = 3,5$  cm olduğuna göre aşağıdaki noktalardan hangisi bu çemberin iç bölgesindedir?**

- A) K      B) P      C) N      D) T

19.



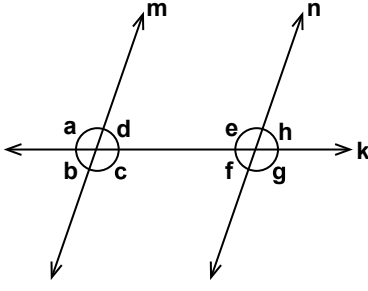
Yukarıdaki O merkezli çemberde A, B ve C noktaları çember üzerindedir.

**$s(\widehat{ABC}) = 40^\circ$  ise  $\angle AOC$  açısının ölçüsü kaç derecedir?**

- A) 20      B) 40      C) 80      D) 140

## 1. OTURUM

20.



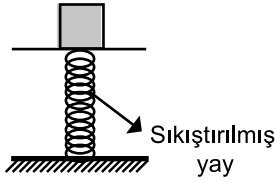
Yukarıdaki şekilde  $m \parallel n$  ve  $a > 90^\circ$  dir.

Buna göre aşağıda verilen açılardan hangi ikisi bütündür?

- A) g ve c B) h ve b C) d ve f D) b ve e

### (703) FEN VE TEKNOLOJİ – 7

1.



Üzerine ağırlık konularak sıkıştırılmış bir yayda hangi enerji depolanmış olur?

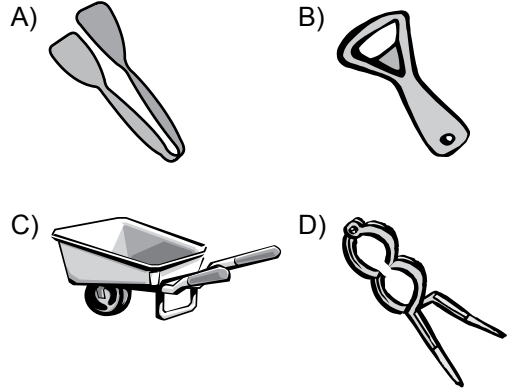
- A) Çekim potansiyel enerjisi  
B) Esneklik potansiyel enerjisi  
C) Kinetik enerji  
D) Kimyasal enerji

2. I. Newton  
II. Newton  $\times$  metre  
III. Joule

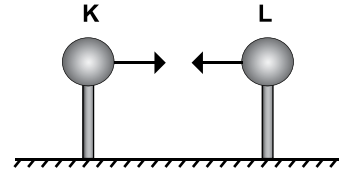
Yukarıda verilenlerden hangileri iş birimi olarak kullanılır?

- A) Yalnız I B) Yalnız III  
C) I ve II. D) II ve III.

3. Aşağıdaki kaldıraç örneklerinden hangisinde kuvvet kazancı yoktur?



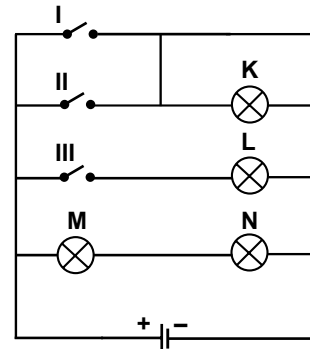
4. Şekildeki elektrik yüklü K ve L küreleri birbirine çekme kuvveti uyguluyor.



Buna göre kürelerin yükleri aşağıdakilerden hangisi olabilir?

	K	L
A)	+	+
B)	+	-
C)	-	-
D)	nötr	nötr

5. Şekilde bir elektrik devresi verilmiştir.



Bu elektrik devresinde bütün anahtarlar açıkken hangi lambalar yanar?

- A) Yalnız K B) M ve N  
C) L ve N D) K, M ve N

# 1. OTURUM

6. Aşağıdaki olaylardan hangisinde ışığın kırılması etkili değildir?

- A) Havadan suya bakan bir kişinin su içindeki cismi olduğundan daha yakında görmesinde
- B) Cam bardakta suya batırılmış kalemin kırılmış gibi görünmesinde
- C) Yağmurlu bir günde gökkuşağı oluşumunda
- D) Düz aynaya bakan bir kişinin aynada görüntüsünü görmesinde

7. Aşağıdaki ışık türlerinden hangisi gözümüzle görebildiğimiz ışıktır?

- A) Beyaz ışık
- B) X ışını
- C) Mor ötesi
- D) Gama ışını

8. Dünya'ya en yakın yıldız aşağıdakilerden hangisidir?

- A) Küçük ayı
- B) Büyük ayı
- C) Kutup yıldızı
- D) Güneş

9. Aşağıda Güneş sistemine ait bazı gezegenler verilmiştir.

- I. Merkür
- II. Jüpiter
- III. Venüs
- IV. Neptün

Bu gezegenlerden hangileri dış gezegendir?

- A) Yalnız III
- B) I ve II.
- C) II ve IV.
- D) I, II ve IV.

10. • Klor atomunun elektron dizilimi 2, 8, 7 şeklindedir.  
• Klor -1 yüklü iyonunun elektron dizilimi 2, 8, 8 şeklindedir.

Buna göre aşağıda verilen bilgilerden hangisi yanlıştır?

- A) Klor iyonunun son yörüngesinde 7 elektron bulunur.
- B) Klor atomu -1 yüklü iyon haline geçmiştir.
- C) Klor anyonu  $Cl^-$  şeklinde ifade edilir.
- D) Klor atomunun 17 elektronu bulunur.

11. • Kristal görünümlü yapıdadır.  
• İyonik bağ sonucu oluşur.  
• Sofra tuzu olarak da adlandırılır.

Bazı özellikleri verilen bileşik hangisidir?

- A)  $NH_3$
- B)  $NaCl$
- C)  $CO_2$
- D)  $C_6H_{12}O_6$

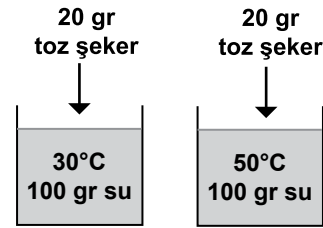
12. Aşağıda verilenlerden hangisi çözelti örneği değildir?

- A) Lehim
- B) Gazoz
- C) Su - kum karışımı
- D) Şeker - su karışımı

13. Aşağıdakilerden hangisi çok atomlu iyondur?

- A)  $Ca^{2+}$
- B)  $Li^+$
- C)  $S^{2-}$
- D)  $OH^-$

14. Şekilde verilen I ve II nolu kaplara toz şeker atılıp karıştırılarak çözünme hızı gözlemleniyor.



Bu deneyde çözünme hızının aşağıdakilerden hangisine bağlı olduğu araştırılmaktadır?

- A) Çözücü miktarına
- B) Çözünen miktarına
- C) Çözücünün sıcaklığına
- D) Çözünen parçacıkların temas yüzeyine

15. Aşağıda verilen davranışların hangisi doğuştan kazanılan refleks değildir?

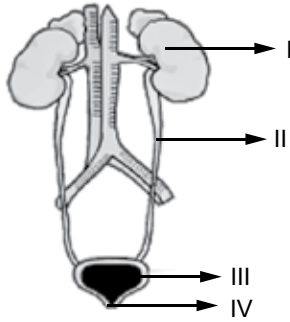
- A) Hapşırma
- B) Yutkunma
- C) Dans etme
- D) Yanan parmağın hızla geri çekilmesi

## 1. OTURUM

16. Karaciğer, -- I -- adı verilen salgı üretir. Yağların sindirimi için gerekli olan bu salgı -- II -- gönderilir. Yukarıdaki ifadelerde I ve II yerine hangi seçenekte verilenler yazılmalıdır?

	I	II
A)	Safra	Kalın bağırsağa
B)	Safra	İnce bağırsağa
C)	Mide öz suyu	Mideye
D)	Pankreas öz suyu	Kalın bağırsağa

17. Şekilde boşaltımda görevli yapı ve organlar numaralandırılarak gösterilmiştir.



- Kanı zararlı atıklardan arındırma
- Üreyi süzerek idrarı oluşturma

Buna göre verilen görevler kaç numaralı kısımda gerçekleşir?

- A) I      B) II      C) III      D) IV

18. Aşağıda verilenlerden hangisi gözde görmeyi sağlayan yapılardan değildir?

- A) Mercek      B) Duyu almaçları  
C) Sinirler      D) Göz kapakları

19. • Geviş getiren hayvanlar için elverişli yaşam alanıdır.  
• Büyük açık alanlardır.  
• Antartika hariç her kıtada bulunur.

Yukarıda verilen özellikler hangi ekosisteme aittir?

- A) Çöl      B) Tundra      C) Göl      D) Çayır

20. Bir ekosistemde besin zincirini oluşturan canlı gruplarının doğru sıralanışı aşağıdakilerden hangisidir?

- A) Ayrıştırıcı → Otobur → Etobur → Üretici  
B) Üretici → Otobur → Etobur → Ayrıştırıcı  
C) Otobur → Ayrıştırıcı → Etobur  
D) Üretici → Etobur → Otobur → Ayrıştırıcı

(806) T.C. İNK. TAR. VE ATATÜRK. – 8

1. "Mustafa Kemal'in baba tarafından soyu, Anadolu'nun da Türkleşmesinde rol oynayan ---- Yörüklerine dayanır."

Verilen cümlelerin doğru olabilmesi için boş bırakılan yere, aşağıdakilerden hangisi yazılmalıdır?

- A) Kocacık      B) Konyarlar  
C) Çavuldur      D) Dodurga

2. Mustafa Kemal, kamuoyunda tanınmasını sağlayan en önemli askerî başarılarını, aşağıdaki cephelerden hangisinde kazanmıştır?

- A) Suriye      B) Kafkas  
C) Trablusgarp      D) Çanakkale

3. Meşrutiyet yönetimine karşı 13 Nisan 1909 tarihinde İstanbul'da çıkan ayaklanmayı, aşağıdaki ordulardan hangisi bastırmıştır?

- A) Yeniçeri Ordusu  
B) Hareket Ordusu  
C) Yıldırım Ordusu  
D) Kuvayin-zibatiye Ordusu

4. İtilaf Devletleri, Mondros Ateşkes Antlaşması'nın aşağıdaki maddelerinden hangisiyle bir bölgede yapılan işgalin, diğer bölgeler tarafından öğrenilmesinin engellenmesini amaçlamışlardır?

- A) Toros tünelleri İtilaf Devletleri tarafından işgal edilecektir.  
B) Osmanlı hükûmeti, İttifak Devletleri'yle olan bütün ilişkilerini kesecektir.  
C) Hükûmet yazışmaları dışında telsiz, telgraf ve kabloları İtilaf Devletleri memurları tarafından denetlenecektir.  
D) İtilaf Devletleri, emniyetlerini tehdit edecek bir durumun ortaya çıkması durumunda herhangi bir stratejik noktayı işgal hakkına sahiptir.

# 1. OTURUM

5. Osmanlı Devleti'nin I. Dünya Savaşı'na girmesinde önemli bir rol oynayan "Breslav" ve "Goben" savaş gemileri, aşağıdaki İttifak Devletleri'nden hangisine aitti?

- A) Avusturya - Macaristan
- B) Bulgaristan
- C) İtalya
- D) Almanya

6. Amasya Genelgesi'nin;

- Vatanın bütünlüğü, milletin bağımsızlığı tehlike dedir.
- Merkezî Hükûmet, üzerine aldığı sorumluluğun gereklerini yerine getirememektedir.

maddeleriyle, Kurtuluş Savaşı'nın neyi kamuya ilan edilmek istenmiştir?

- A) Gereğesi
- B) Aşamaları
- C) Yöntemi
- D) Sonucu

7. • Mustafa Kemal'e başyaverlik yapmış bir devlet adamıdır.  
• Mustafa Kemal ile Samsun yolculuğuna seçilenler arasındadır.  
• Meclis-i Mebusanda ve I. TBMM'de Bolu milletvekilliği görevlerinde bulunmuştur.  
• Yozgat Ayaklanması'nı bastırmasından dolayı kendisine İstiklal Madalyası verilmiştir.  
• Mustafa Kemal ile ilgili hatıralarını, "Ebedi Şef Kurtarıcı Atatürk'ün Zengin Tarihinden Birkaç Yaprak" adlı kitabında toplamıştır.

Hakkında bilgi verilen devlet adamımız, aşağıdakilerden hangisidir?

- A) Kazım Karabekir
- B) Cevat Abbas Gürer
- C) Osman Zeki Üngör
- D) Yusuf Kemal Tengirşenk

8. Erzurum Kongresi'nde "Kuvayımilliye'yi etkin ve millî iradeyi hâkim kılmak esastır." kararının alınması, aşağıdakilerden hangisinin benimsendiğine kanıt olabilir?

- A) Barışçılığın
- B) Çağdaşlığın
- C) Millî egemenliğin
- D) Akılcılık ve bilimselliğin

9. Aşağıdaki illerimizden hangisinin halkı, kendi imkânlarıyla düşman işgalinden kurtulmuştur?

- A) Şanlıurfa
- B) Eskişehir
- C) Kütahya
- D) İzmir

10. Kurtuluş Savaşı'nın askerî boyutu, aşağıdakilerden hangisiyle kapanmıştır?

- A) Sevr Antlaşması'yla
- B) Lozan Antlaşması'yla
- C) Mondros Ateşkes Antlaşması'yla
- D) Mudanya Ateşkes Antlaşması'yla

11. Lozan Antlaşması'nda Suriye - Türkiye sınırının belirlenmesinde, aşağıdaki antlaşmalardan hangisi esas alınmıştır?

- A) 1913 tarihli İstanbul Antlaşması
- B) 1921 tarihli Ankara Antlaşması
- C) 1921 tarihli Moskova Antlaşması
- D) 1963 tarihli Ankara Antlaşması

12. Toplumsal alanda yapılan inkılaplarla günlük hayatı kolaylaştırmak amaçlanmıştır.

Buna göre aşağıdaki inkılaplardan hangisi bu kapsamda değerlendirilemez?

- A) Medreselerin kapatılması
- B) Soyadı Kanunu'nun kabul edilmesi
- C) Saat ve takvimde değişiklik yapılması
- D) Hafta tatilinin "Cuma" gününden "Pazar" gününe alınması

13. Türkiye'de hangi yıl Birinci Beş Yıllık Sanayi Planı uygulamaya konulmuştur?

- A) 1923
- B) 1927
- C) 1931
- D) 1934

14. Kurtuluş Savaşı devam ederken 15 Temmuz 1921'de Ankara'da Maarif Kongresi toplanmıştır.

Bu durum, aşağıdakilerden hangisine önem verildiğini göstermektedir?

- A) Orduya
- B) Sağlığa
- C) Eğitime
- D) Ekonomiye



# 1. OTURUM

15. Bazı partili üyelerin Şeyh Said İsyanı'na katılması gerekçesiyle kapatılan siyasi parti, aşağıdakilerden hangisidir?

- A) Cumhuriyet Halk Partisi
- B) Serbest Cumhuriyet Fırkası
- C) Terakkiperver Cumhuriyet Fırkası
- D) Millî Kalkınma Partisi

16. I. Saltanatın kaldırılması  
II. Soyadı Kanunu'nun kabulü  
III. Türk Tarih Kurumunun açılması

Verilen inkılapların ilgili oldukları ilkelerle eşleştirilmesi, aşağıdakilerden hangisinde doğru olarak verilmiştir?

	I	II	III
A)	Cumhuriyetçilik	Devletçilik	İnkılapçılık
B)	Halkçılık	Laiklik	Milliyetçilik
C)	Milliyetçilik	Cumhuriyetçilik	Halkçılık
D)	Cumhuriyetçilik	Halkçılık	Milliyetçilik

17. Atatürk'ün milliyetçilik anlayışı ırk, mezhep ve sınıf ayrılıklarına karşıdır.

Buna göre milliyetçilik ilkesiyle ilgili olarak;

- I. Kültürel birliği desteklemiştir.
- II. Millî birlik ve beraberliği güçlendirmiştir.
- III. Sosyal dayanışmayı artırmıştır.

yargılarından hangileri savunulabilir?

- A) Yalnız I
- B) Yalnız II
- C) Yalnız III.
- D) I, II ve III.

18. Türkiye'nin ilk renkli Türk filmi, aşağıdakilerden hangisidir?

- A) Bal
- B) Halıcı Kız
- C) Bir Teselli Ver
- D) Dokunmayın Şabanıma

19. Türkiye'de hangi yıl 81 il ve 850 ilçede "İnsan Hakları İl ve İlçe Kurulları" kurulmuştur?

- A) 2015
- B) 2010
- C) 2005
- D) 2000

20. Türkiye'nin Kore Savaşı'na asker göndererek ABD öncülüğündeki uluslararası güce destek vermesi, Türkiye'ye aşağıdaki hangi avantajı sağlamıştır?

- A) NATO'ya kabul edilme
- B) Truman yardımından yararlanma
- C) Orta Doğu petrollerinden pay alma
- D) Avrupa Birliğine başvuruda bulunma

(807) İNGİLİZCE – 8

1-20. sorularda boş bırakılan yere uygun gelen kelime ya da ifadeyi işaretleyiniz.

1. İstanbul is - - - - city I have ever been to.

- A) big
- B) bigger
- C) biggest
- D) the biggest

2. The students haven't finished the exam - - - -.

- A) yet
- B) just
- C) ever
- D) never

3. Michael - - - - in the street when he - - - - an old friend.

- A) walked / see
- B) walking / see
- C) was walking / saw
- D) was walking / seeing

4. A : - - - - ?

B : It is leather.

- A) How did you buy your shoes
- B) What is your purse made of
- C) What size are your shoes
- D) How much is your purse

5. A: What do we need for the cake?

B: Buy - - - - sugar, there isn't any left.

- A) any
- B) some
- C) many
- D) a few

6. I - - - - able to drive to work, because my car was broken.

- A) haven't been
- B) weren't
- C) wasn't
- D) won't be

# 1. OTURUM

7. When you - - - - five - - - - fifteen, you get ten.

- A) multiply / by                      B) divide / by  
C) subtract / from                    D) add / to

8. You - - - - eat if you - - - - in a library.

- A) mustn't / are                      B) can't / will be  
C) can / wasn't                        D) must / wasn't

9. If you don't want to be a bad student, you - - - -.

- A) shouldn't pass your exams  
B) shouldn't do your homework  
C) should be late for the school  
D) should listen to your teacher

10. You - - - - see a doctor. You look - - - -.

- A) shouldn't / bad                    B) should / terrible  
C) shouldn't / awful                 D) should / wonderful

11. A : My brother likes playing video games.  
B : - - - - my brother.

- A) Neither does                      B) Neither do  
C) So does                              D) So do

12. A doctor - - - -.

- A) is a person who treats people  
B) treats people who is a person  
C) is a person who people treats  
D) person who treats people

13. My father likes people - - - -.

- A) which is boring  
B) which are boring  
C) who is hardworking  
D) who are hardworking

14. Where - - - - these flowers - - - -?

- A) can / sold                          B) are / sell  
C) are / sold                          D) can / sell

15. Turkish - - - - by millions of people around the world.

- A) is spoken                          B) spoken  
C) speaks                              D) speak

16. The sofa is - - - - dirty - - - -. Don't sit on it.

- A) enough / not to sit                B) too / to sit  
C) not / not to sit                    D) very / sit

17. I don't have enough money to buy that car. I need - - - -.

- A) a few    B) a little    C) many    D) more

18. The weather is - - - - cold to go out. Let's stay at home.

- A) much    B) many    C) too    D) enough

19. I - - - - my homework yet, I can't go out.

- A) haven't finished                  B) have finished  
C) has finished                        D) hasn't finished

20. My mother - - - - the dishes as my father - - - - the newspaper.

- A) washed / read  
B) was washing / read  
C) was washing / was reading  
D) was washed / was reading

(807) ALMANCA – 8

1-18. sorularda boş bırakılan yere uygun gelen kelime ya da ifadeyi işaretleyiniz.

1. A: Warum hast du - - - - gestern nicht angerufen?

B: Ich habe es vergessen.

- A) dich    B) mich    C) mir    D) dir

2. A: - - - - du heute krank?

B: Ja, ich - - - - krank.

- A) Bist / bin                            B) Ist / bist  
C) Sind / bist                            D) Bin / bist

3. März, - - - -, Mai

- A) Januar    B) Juni    C) April    D) Februar

# 1. OTURUM

4.



**A: Wie spät ist es?**

**B: Es ist - - - - .**

- A) halb fünf                      B) siebzehn Uhr  
C) achtzehn Uhr                D) halb sechs

5. - - - - neues Auto ist sehr schnell.

- A) Uns                                B) Unser  
C) Unsere                            D) Unseres

6. Die bunt- - - - - Blumen. (Plural)

- A) -en    B) -es    C) -e    D) -er

7. **A: - - - - ihr schon gegessen?**

**B: Ja, - - - - haben.**

- A) Hast / ich                      B) Habt / du  
C) Habt / wir                      D) Haben / ihr

8. **Ali - - - - gestern ein Motorrad - - - - .**

- A) ist / gefahren                B) hast / kaufen  
C) ist / fahren                    D) hat / gekauft

9. **sechzehn, - - - -, achtzehn**

- A) siebzehn                      B) fünfzehn  
C) neunzehn                      D) vierzehn

10. **A: Gehört das Kleid - - - - ?**

**B: Ja, es gehört - - - - .**

- A) mich / dich                    B) dein / mein  
C) er / sie                         D) dir / mir

11. **A: - - - - ?**

**B: 18.**

- A) Woher kommt Sabine  
B) Wie alt ist Sabine  
C) Wo wohnt Sabine  
D) Was macht Sabine

12. **A: Was - - - - ihr?**

**B: Kaffee.**

- A) trinke    B) trinkst    C) trinkt    D) trinken

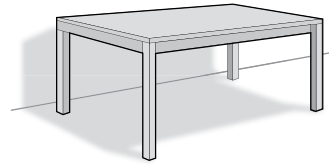
13. **Das Essen - - - - sehr gut.**

- A) kosten                            B) schmeckt  
C) trinkt                              D) kochen

14. - - - - neuer Lehrer heißt Herr Schmidt.

- A) Unser    B) Seiner    C) Deinen    D) Wir

15.



**Das Bild ist - - - - dem Tisch.**

- A) unter                              B) neben  
C) zwischen                        D) über

16. **A: Hallo Paul, - - - - lebst - - - - ?**

**B: In Berlin.**

- A) warum / ich                    B) wie / er  
C) wo / du                         D) was / sie

17. **Die Jacke - - - - Frau ist rot.**

- A) der    B) die    C) das    D) den

18. **A: Wem hast du die Tasche gegeben?**

**B: Ich habe sie - - - - Mann gegeben.**

- A) der    B) das    C) dem    D) die

19.



**Was macht sie?**

- A) lesen    B) schlafen    C) essen    D) laufen

# 1. OTURUM

20. Aşağıdakilerden hangisinin karşıtı doğru seçenekte verilmiştir?

- A) dick - warm                      B) lang - dunkel  
C) kurz - hell                         D) sauber - schmutzig

## (807) FRANSIZCA – 8

1-15. sorularda boş bırakılan yere uygun gelen kelime ya da ifadeyi işaretleyiniz.

1. - - - - sommes allés au mariage de Derya et Hakan à Izmir.

- A) Vous    B) Tu            C) Ils            D) Nous

2. Alp et Barış, - - - - des informations à l'office de tourisme.

- A) a demandé                      B) ont demandé  
C) ai demandé                      D) avons demandé

3. Burak et Nurgül tournent un film dramatique - - - - Rome - - - - Italie.

- A) à / au                              B) à / en  
C) au / aux                          D) en / au

4. Pour acheter du jambon et du saucisson, je vais chez - - - -.

- A) le médecin                      B) le pharmacien  
C) le charcutier                    D) le boulanger

5. Les villages sont - - - - que les villes.

- A) moins calme                    B) aussi rapide  
C) plus calmes                      D) plus rapide

6. Pour l'anniversaire de Paul, Carole a fait trois gâteaux et trois salades.

Alors, elle a fait - - - - de gâteaux que de salades.

- A) tant    B) autant    C) plus    D) moins

7. Comme boisson, - - - - de l'eau minérale.

- A) déjeunez                         B) mangez  
C) dînez                              D) buvez

8. La tomate coûte un euro - - - -.

- A) le litre                              B) le kilo  
C) le mètre carré                    D) le mètre

9. Marc : C'est - - - - le kiosque à journaux?

Paul : Il est à côté de la pharmacie.

- A) où                                    B) combien  
C) quand                              D) ou

10. Pour voir les monuments historiques à Paris, les touristes - - - - le bus à double étages.

- A) visitent                            B) devient  
C) voient                              D) prennent

11. Le jeune homme - - - - tu as vu donne des cours de piano.

- A) où    B) dont    C) que    D) qui

12. Cet écrivain - - - - parle au journaliste écrit des romans en anglais.

- A) pourquoi                         B) où  
C) qui                                 D) que

13. M. Brault a trente ans, c'est - - - -.

- A) un jeune homme  
B) un vieux monsieur  
C) une vieille dame  
D) une femme blonde

14. Si tu mets beaucoup de gel coiffant, tu - - - - tes cheveux.

- A) perdras                            B) perdrons  
C) êtes perdus                      D) perdrez

15. Pierre : - - - - tu as fait à Bolu?

Murat : J'ai rendu visite à mes amis.

- A) Quand                            B) Combien  
C) Comment                        D) Qu'est-ce que

# 1. OTURUM

16-20. soruları resimleri dikkate alarak cevaplayınız.

16.



Le dimanche soir, elle fait souvent - - - - devant la télé.

- A) du repassage B) de l'athlétisme  
C) de la boxe D) du vélo

17.



Hakan ne peut pas dormir parce qu'il a - - - - .

- A) mal au ventre B) mal aux dents  
C) la jambe cassée D) mal aux yeux

18.



Quand elle est malheureuse, elle - - - - .

- A) se promène B) s'habille  
C) se couche D) se coiffe

19.



Il - - - - son manteau en courant.

- A) met B) cherches  
C) pleure D) danse

20.



Il a mal - - - - .

- A) à la gorge B) aux yeux  
C) au dos D) au ventre

## (808) DİN KÜL. VE AHLAK BİLGİSİ – 8

1. Aşağıdaki ayetlerden hangisi toplumsal bir yasa işaret etmektedir?

- A) "Öyle bir fitneden sakının ki aranızda yalnız haksızlık edenlere erişmekle kalmaz (hepinize erişir)..."  
(Enfâl suresi, 25. ayet)
- B) "Hamd, gökleri ve yeri yaratan, karanlıkları ve aydınlığı (nuru) var eden Allah'adır..."  
(En'âm suresi, 1. ayet)
- C) "Oku kitabını, bu gün sana karşı, iyi hesâb görücü olarak kendi nefsin yeter".  
(İsra suresi, 14. ayet)
- D) "O, yeri sizin için döşek, göğü de bina yapan, gökten su indirip onunla size rızık olarak çeşitli ürünler çıkarandır. Öyleyse siz de bile bile Allah'a ortaklar koşmayın."  
(Bakara suresi, 22. Ayet)

2. "...Kim Allah'a karşı gelmekten sakınırsa, Allah ona bir çıkış yolu açar. Onu beklemediği yerden rızıklandırır. Kim Allah'a güvenirse, O kendisine yeter. Şüphesiz Allah, emrini yerine getirendir. Allah, her şeye bir ölçü koymuştur."  
(Talak suresi, 2-3. ayet)

Bu ayet aşağıdakilerden hangisi için örnek oluşturur?

- A) Biyolojik yasalar B) Fiziksel yasalar  
C) Ecel ve ömür D) Tevekkül

# 1. OTURUM

3. Aşağıdaki hadislerden hangisi İslam'ın paylaşmaya verdiği önemi göstermektedir?

- A) Komşusu aç iken tok yatan bizden değildir.
- B) Kardeşini güler yüz ile karşılayan da bir iyiliktir.
- C) İlim müminin yitik malıdır. Onu nerede bulursa alsın.
- D) Sizden birinizin sırtına bir bağ odun yüklenip satması dilenmesinden daha hayırlıdır.

4. Vatani görevlerini yaparken şehit olan kimselerin ailelerine ve gazilere yardım amacı ile kurulmuş olan yardımlaşma kurumu aşağıdakilerden hangisidir?

- A) Kızılay
- B) Mehmetçik Vakfı
- C) Milli Eğitim Vakfı
- D) Sosyal Yardımlaşma ve Dayanışma Vakfı

5. Aşağıdakilerden hangisi hac ve umrede yapılan ibadetlerdendir?

- A) Kurban kesme
- B) Şeytan taşlama
- C) Tavaf
- D) Vakfe

6. Adak kurbanında kurban sahibi ve bazı yakınları kurban etinden yiyemez.

**Buna göre adak kurbanı kesen birinin, aşağıdakilerden hangisine kurban etinden vermesi uygundur?**

- A) Eşine
- B) Annesine
- C) Torununa
- D) Komşusuna

7. Hz. Muhammed (sav.), Kabe'nin onarımı sırasında Hacer'ül Esvet taşının yerleştirilmesinde anlaşmazlık çıkınca hakem olarak seçilmişti. Bu karardan herkes memnun olmuştu.

**Bu durum Hz. Muhammed (sav.)'in hangi yönünü göstermektedir?**

- A) Merhametini
- B) Güvenilirliğini
- C) Bilgiye önem vermesini
- D) İşlerini danışarak yaptığını

8. Aşağıdaki hadislerden hangisi zamanı iyi kullanma konusunda insanları teşvik etmektedir?

- A) İnsanların çoğu iki nimetin kıymetini bilmekte aldanmıştır. Bunlar sıhhat ve boş vakittir.
- B) Yumuşak ve hoşgörülü ol. Çünkü yumuşak ve hoşgörülü olmak bulunduğu yeri süsler.
- C) Merhamet edene Allah da merhamet eder. Siz yerdekilere merhamet edin ki göktekiler de size merhamet etsin.
- D) Mü'min, insanların canları ve malları konusunda kendisine güvendiği kimsedir.

9. Hz. Muhammed (sav.) Hicret sırasında Sevr Mağarası'nın içinde Hz. Ebu Bekir ile beraber iken müşrikler mağaranın ağzına gelince bütün cesareti ile Hz. Ebu Bekir'e "Korkma Allah bizimle beraberdir." demiştir.

**Bu durum Hz. Muhammed (sav.)'in hangi yönünü göstermektedir?**

- A) Adaletini
- B) Cesaretini
- C) Merhametini
- D) İstişareye önem vermesini

10. İslam'dan önce Arap toplumunda haksızlık yaygındı. Hatta Mekke'ye gelen yabancıların mallarına hiçbir gerekçe gösterilmeden el koyuluyordu. Bu haksızlıkları gidermek için - - - - oluşturuldu. Hz. Muhammed (sav.) de bu kuruluşun üyelerinden biriydi.

**Bu paragrafta boş bırakılan yere aşağıdakilerden hangisi gelmelidir?**

- A) Hılfu'l-Fudul
- B) Dar'ul- Erkam
- C) Ashab-ı Suffa
- D) Ravza-i Mutahhara

11. Akı olmayanın dini de yoktur.

**Bu hadisle aşağıdaki sonuçlardan hangisine ulaşılabilir?**

- A) Allah katında geçerli tek din İslam'dır.
- B) Kur'an-ı Kerim doğru bilgiye önem verir.
- C) İnsan diğer canlılardan daha üstün yaratılmıştır.
- D) İslam'da akıl, dini sorumluluğun ön şartı olarak kabul edilmiştir.

# 1. OTURUM

12. Aşağıdakilerden hangisi bilgi edinme yollarından biri değildir?

- A) Duyular B) Hisler  
C) Akıl D) Vahiy

13. "Babacığım, işte bu vaktiyle gördüğüm rüyanın gerçekleşmesidir. Rabbim onu gerçekleştirdi. Şeytan benimle kardeşlerimin arasını bozmuştu. Beni hapisten çıkararak, sizi çölden getiren Rabbim, bana pek çok iyiliklerde bulundu. Doğrusu Rabbim dilediğine lütufkârdır. O, şüphesiz bilendir, hakîmdir."

Bu ayet aşağıdaki peygamberlerden hangisinin hayat hikâyesi ile ilişkilidir?

- A) Hz. Davut B) Hz. Yahya  
C) Hz. Yusuf D) Hz. Musa

14. Aşağıdakilerden hangisi kumar oynamanın doğrudan sonuçları arasında yer almaz?

- A) Ruh sağlığını bozar.  
B) Aileleri perişan eder.  
C) Tembelliği ve hileyi teşvik eder.  
D) Akciğer kanserine neden olur.

15. Aşağıdakilerden hangisi kul hakkı ihlali kapsamında değildir?

- A) Rüşvet alıp vermek B) Yalan söylemek  
C) Alışveriş yapmak D) Alay etmek

16. Aşağıdakilerden hangisi ilahi dinlerden biridir?

- A) Hinduizm B) Hristiyanlık  
C) Mecusilik D) Budizm

17. Aşağıdakilerden hangisi Hinduizm'e ait bir bilgi değildir?

- A) Bilinen bir kurucusu yoktur.  
B) Toplumunu sınıflara ayıran Kast Sistemi vardır.  
C) En temel ibadet, Ganj Nehri'nde yıkanmaktır.  
D) "On Emir" temel inanç esaslarını oluşturur.

18. Hristiyanlıkta baba, oğul ve kutsal ruh olmak üzere tanrı inancını üçlü bir temele dayanmasını ifade eden kavram aşağıdakilerden hangisidir?

- A) Günah çıkarma B) Vaftiz  
C) Teslis D) Mesih

19. Tevrat, Yehova, Ağlama Duvarı, haham gibi kavramlar aşağıdaki dinlerden hangisi ile ilişkilidir?

- A) Yahudilik B) Hristiyanlık  
C) İslamiyet D) Budizm

20. Aşağıdakilerden hangisi İslam dini için söylenemez?

- A) Tüm insanlık için gönderilen son ilahi dindir.  
B) Peygamberi Hz. Muhammed (sav.)'tir.  
C) İlk ayetleri Medine'de inmiştir.  
D) Tevhit inancına dayanır.

TEST BİTTİ.  
CEVAPLARINIZI KONTROL EDİNİZ.

## CEVAP KÂĞIDI VE SORU KİTAPÇIĞI İLE İLGİLİ AÇIKLAMALAR

1. Cevap kâğıdınızdaki bilgilerin doğruluğunu kontrol ediniz ve cevap kâğıdınızı mürekkepli kalemle imzalayınız.
2. Cevap kâğıdı üzerinde kodlamalarınızı siyah kurşun kalemle yapınız.
3. Değiştirmek istediğiniz bir cevabı, yumuşak silgiyle cevap kâğıdını örselemeden temizce siliniz ve yeni cevabınızı kodlayınız.
4. Soru kitapçığının sayfalarını görevlilerin uyarıları doğrultusunda kontrol ediniz, baskı hatası var ise değiştirilmesini sağlayınız.
5. Soruların çözümü için size ayrıca boş kâğıt verilmeyecektir. Soru kitapçığının içindeki boş alanları soru çözümleri için kullanabilirsiniz.
6. Her sorunun dört seçeneğinden sadece biri doğrudur. Doğru seçeneği, cevap kâğıdınızın ilgili sütununa soru numarasını dikkate alarak yuvarlağın dışına taşırmadan kodlayınız. Soru kitapçığı üzerinde yapılan cevaplandırmalar dikkate alınmayacaktır.
7. Cevaplamaya istediğiniz dersin sorusundan başlayabilirsiniz. Cevabını bilmediğiniz sorular üzerinde fazla zaman kaybetmeden diğer sorulara geçiniz. Zamanınız kalırsa bu sorulara daha sonra dönebilirsiniz.
8. Yanlış cevaplarınız dikkate alınmadan sadece doğru cevaplarınız üzerinden puanlama yapılacaktır.
9. Soruları ve sorulara verdiğiniz cevapları, yanınızda götürmek amacıyla kaydetmeyiniz; hiçbir şekilde dışarı çıkarmayınız.
10. Sınav bitiminde soru kitapçığı ve cevap kâğıdını salon görevlilerine teslim ediniz.

## SALON GÖREVLİLERİNCE SINAV BAŞLAMADAN ÖNCE ADAYLARA YAPILACAK SON UYARILAR

- Soracağınız bir şey varsa şimdi sorunuz, sınav başladıktan sonra sorularınıza cevap verilmeyecektir.
- Başlama zilini bekleyiniz.

*Hepinize başarılar dileriz.*

(Salon başkanı başlama ve bitiş saatini tahtaya yazacaktır.)

Bu kitapçığın her hakkı saklıdır. Hangi amaçla olursa olsun, kitapçığın tamamının veya bir kısmının Millî Eğitim Bakanlığı Ölçme, Değerlendirme ve Sınav Hizmetleri Genel Müdürlüğünün yazılı izni olmadan kopya edilmesi, fotoğraflarının çekilmesi, bilgisayar ortamına alınması, herhangi bir yolla çoğaltılması, yayımlanması veya başka bir amaçla kullanılması yasaktır. Bu yasağa uymayanlar, doğabilecek cezai sorumluluğu ve kitapçığın hazırlanmasındaki mali külfeti peşinen kabullenmiş sayılır.



**8 OCAK 2017 TARİHİNDE YAPILAN  
AÇIK ÖĞRETİM ORTAOKULU 2016-2017 ÖĞRETİM YILI 1. DÖNEM SINAVI  
1. OTURUM CEVAP ANAHTARI**

**TÜRKÇE – 7**

1. D
2. C
3. D
4. A
5. C
6. A
7. B
8. B
9. A
10. C
11. B
12. C
13. C
14. B
15. D
16. A
17. D
18. A
19. B
20. B

**FEN ve TEKNOLOJİ – 7**

1. B
2. D
3. A
4. B
5. B
6. D
7. A
8. D
9. C
10. A
11. B
12. C
13. D
14. C
15. C
16. B
17. A
18. D
19. D
20. B

**İNGİLİZCE – 8**

1. D
2. A
3. C
4. B
5. B
6. C
7. C
8. A
9. D
10. B
11. C
12. A
13. D
14. C
15. A
16. B
17. D
18. C
19. A
20. C

**FRANSIZCA – 8**

1. D
2. B
3. B
4. C
5. C
6. B
7. D
8. B
9. A
10. D
11. C
12. C
13. A
14. A
15. D
16. A
17. B
18. D
19. A
20. C

**MATEMATİK – 7**

1. B
2. D
3. C
4. D
5. A
6. D
7. A
8. A
9. B
10. C
11. B
12. C
13. D
14. C
15. B
16. C
17. B
18. A
19. C
20. D

**TC İNK. TAR. VE ATA. – 8**

1. A
2. D
3. B
4. C
5. D
6. A
7. B
8. C
9. A
10. D
11. B
12. A
13. D
14. C
15. C
16. D
17. D
18. B
19. D
20. A

**ALMANCA – 8**

1. B
2. A
3. C
4. D
5. B
6. A
7. C
8. D
9. A
10. D
11. B
12. C
13. B
14. A
15. D
16. C
17. A
18. C
19. B
20. D

**DİN KÜLTÜRÜ ve AHLAK  
BİLGİSİ – 8**

1. A
2. D
3. A
4. B
5. C
6. D
7. B
8. A
9. B
10. A
11. D
12. B
13. C
14. D
15. C
16. B
17. D
18. C
19. A
20. C

**8 OCAK 2017 TARİHİNDE YAPILAN  
AÇIK ÖĞRETİM ORTAOKULU 2016-2017 ÖĞRETİM YILI 1. DÖNEM SINAVI  
1. OTURUM CEVAP ANAHTARI**

**TÜRKÇE – 5**

1. B
2. A
3. C
4. D
5. C
6. B
7. A
8. B
9. D
10. B
11. C
12. A
13. B
14. B
15. D
16. C
17. D
18. B
19. A
20. C

**FEN BİLİMLERİ – 5**

1. A
2. A
3. A
4. B
5. D
6. A
7. B
8. C
9. D
10. C
11. A
12. D
13. A
14. D
15. C
16. B
17. A
18. C
19. D
20. B

**İNGİLİZCE – 6**

1. B
2. C
3. A
4. D
5. D
6. B
7. A
8. C
9. B
10. D
11. D
12. B
13. A
14. D
15. C
16. A
17. A
18. D
19. C
20. B

**FRANSIZCA – 6**

1. B
2. A
3. D
4. C
5. D
6. B
7. A
8. C
9. A
10. C
11. B
12. D
13. C
14. A
15. D
16. B
17. A
18. D
19. B
20. C

**MATEMATİK – 5**

1. A
2. C
3. D
4. A
5. B
6. B
7. D
8. C
9. D
10. A
11. C
12. C
13. B
14. C
15. A
16. A
17. B
18. D
19. C
20. D

**SOSYAL BİLGİLER – 6**

1. B
2. C
3. D
4. B
5. B
6. D
7. C
8. D
9. A
10. B
11. B
12. D
13. D
14. C
15. A
16. D
17. B
18. A
19. C
20. B

**ALMANCA – 6**

1. B
2. D
3. C
4. A
5. B
6. D
7. C
8. A
9. B
10. D
11. A
12. C
13. D
14. A
15. B
16. C
17. D
18. A
19. C
20. B

**DİN KÜLTÜRÜ ve AHLAK  
BİLGİSİ – 6**

1. D
2. C
3. B
4. A
5. B
6. D
7. A
8. C
9. A
10. B
11. C
12. B
13. D
14. A
15. C
16. D
17. B
18. D
19. A
20. C