

**3.**  
**SINIF**



**B**  
**KİTAPÇIK TÜRÜ**

**T.C.**  
**MİLLÎ EĞİTİM BAKANLIĞI**  
**ÖLÇME, DEĞERLENDİRME VE SINAV HİZMETLERİ**  
**GENEL MÜDÜRLÜĞÜ**

**VEHBİ KOÇ VAKFI, KOÇ ÖZEL İLKOKULU VE ORTAOKULU SEVİYE TESPİT SINAVI**  
**(2. Sınıftan 3. Sınıfa Geçenler)**  
**15 MAYIS 2016 Saat: 10.00**

Adayın Adı ve Soyadı : .....

Aday Numarası (T.C. No) : .....

DERS ADI	SORU SAYISI	TOPLAM SORU SAYISI	SINAV SÜRESİ (DAKİKA)
TÜRKÇE	20	60	80
MATEMATİK	20		
HAYAT BİLGİSİ	20		

## ÖĞRENCİLERİN DİKKATİNE!

1. Sınıf öğrenci yoklama listesinde belirtilen sınıfta ve sıra numarasında oturunuz.
2. Cevap kâğıdındaki kimlik bilgilerinin doğruluğunu kontrol ediniz.
3. Kitapçık türünü cevap kâğıdındaki ilgili alana kodlayınız.
4. Cevap kâğıdı üzerindeki kodlamaları kurşun kalemle yapınız.

**SINAV BAŞLAMADAN ÖNCE KİTAPÇIĞIN ARKA KAPAĞINDAKİ UYARILARI MUTLAKA OKUYUNUZ.**



1. a-k-a-y-b-r

Bu harflerin her birinin bir kere kullanılması şartıyla aşağıdaki sözcüklerden hangisi oluşturulamaz?

A) Kara

B) Yara

C) Baraka

D) Bayrak

2. "Yorucu, yorgan, yorgun" sözcüklerinin sözlükteki sıralaması aşağıdakilerin hangisinde verilmiştir?

A) Yorgun-yorucu-yorgan

B) Yorucu-yorgan-yorgun

C) Yorgan-yorucu-yorgun

D) Yorgan-yorgun-yorucu

3. O, hep bildiğini yapar, biz de onu kendi hâline bıraktık.

Altı çizili sözün bu cümleye kattığı anlam aşağıdakilerin hangisinde vardır?

A) Siz onun işine karışmayın, nasıl biliyorsa öyle yapsın.

B) Yeni çırak, yaptığı işe özen göstermiyordu.

C) Çevresindeki insanları hiç umursamazdı.

D) Doktor, hastalarıyla yakından ilgileniyordu.

4. "Kısa" sözcüğü, aşağıdakilerin hangisinde farklı bir anlamda kullanılmıştır?

- A) Koyunlar, kısa çitlerin üzerinden zorlanmadan atlıyor.
- B) Kısa saçlarını tel tokalarla güzelce tutturmuştu.
- C) Vali, bu konuda oldukça kısa konuştu.
- D) Bu soğukta kısa kollu gömlek giymiş.

5. İş yerinde sağlam saat kalmadı, zamanı öğrenemiyoruz.

Bu cümledeki altı çizili sözcüğün anlamca karşıtı aşağıdakilerden hangisidir?

- A) Kötü
- B) Bozuk
- C) Sağlıklı
- D) Dayanıklı

6. Kardeşlerimle - - - - dedemin çiftliğindeki atlara biniyoruz.

Bu cümlede boş bırakılan yere aşağıdaki sözcüklerden hangisi getirilirse cümle diğerlerinden farklı bir anlam kazanır?

- A) bazen
- B) hep
- C) arada sırada
- D) zaman zaman

7. 1. insanları mutlu ediyorsa  
2. mutlu olursunuz  
3. yaptığınız iş  
4. siz de

Numaralanmış sözcük gruplarıyla kurallı ve anlamlı bir cümle oluşturduğunda sıralama aşağıdakilerden hangisi olur?

- A) 3-1-4-2  
B) 3-2-4-1  
C) 4-1-3-2  
D) 4-2-3-1

8. (1) Bir çocukluk arkadaşım vardı, ismi Ayşegül'dü. (2) Annesi benim annemle yaşitti. (3) "Ayşegül'ün Serüvenleri" hikâye serisinden çok etkilen-diği için kızına bu adı vermişti. (4) Bu olay da kitapların hayatımızı nasıl etkilediğini kanıtlıyor bize.

Bu parçada numaralanmış cümlelerin hangisinde neden-sonuç ilgisi vardır?

- A) 1.                      B) 2.                      C) 3.                      D) 4.

9. Bizim kusurlarımızı yüzümüze söylemeyen kişi dostumuz olamaz.

Bu cümleyle anlatılmak istenen aşağıdakilerden hangisidir?

- A) Kusuru bulunan kişilerle dostluk kurulmamalıdır.  
B) İnsan, kendi dostundan kötü söz duymayı istemez.  
C) Dostlarımız, hata yaptığımızda bizi uyarmalıdır.  
D) Dostlar, her zaman birbirleriyle iyi geçinmelidir.

10. Bitecek bu kavga elbet  
Silinsin gözlerinden hüzün  
Sen aydınlık günleri düşün  
Unut acılarını terk et

**Bu dördünlüğün ana duygusu aşağıdakilerden hangisidir?**

- A) Sevgi                      B) Ayrılık                      C) Cesaret                      D) Umut

11. Biz, arkadaşlarla bazen evimizin yakınındaki parka gideriz. Parkta gür yapraklı, yemyeşil ağaçlar vardır. Parkın ortasındaki gölcükte kırmızılı mavili balıklar, bembeyaz kuğular, küçük ve sevimli ördekler dolaşır. Gölün kenarında üzerine mis kokulu hanımelleri dolanmış, tahtadan çardaklar bulunuyor.

**Bu parçada aşağıdaki sorulardan hangisine cevap alınamaz?**

- A) Nasıl                      B) Nerede                      C) Ne zaman                      D) Kim

12. Ali, arkadaşlarıyla top oynarken yaşlı bir teyzeyi fark etti. Kadın, elindeki poşetleri taşımakta zorlanıyordu. Ali, hemen yaşlı teyzenin yanına koştu. Elindeki poşetlerden birini aldı. Evine kadar onu götürdü, sonra arkadaşlarının yanına döndü. Onun yaptıklarını gören Mehmet Bey, Ali'nin yanına gitti. "Aferin yavrum, bu çok güzel ve gurur duyulacak bir davranış!" dedi.

**Bu parçada Mehmet Bey'in Ali'ye vermek istediği mesaj aşağıdakilerden hangisidir?**

- A) Spor yapan çocuklar sağlıklı olur.  
B) Zor durumda olanlara yardım etmek gerekir.  
C) Yaşlılara, her zaman saygı gösterilmelidir.  
D) Oyunlar insan ilişkilerini geliştirir.

13. Delikanlılar oyunlarına dalmışlardı. Bir ihtiyarın başına toplanmış çocuklar bir şey dinliyorlardı. Akşam olmak üzereydi. Birden çocuğun biri ağlamaya başladı. Susmak bilmiyordu.

**Bu metindeki altı çizili ifade hikâyenin aşağıdaki unsurlarından hangisidir?**

A) Yer

B) Kişi

C) Zaman

D) Olay

14. Dünyanın en uzun ömürlü insanların yaşadığı farklı coğrafyalarda araştırmalar yapılmış. Aralarında çok fazla benzerlik olduğu saptanmış. Mesela, gidecekleri yere genellikle yürüyerek ve bisikletle gidiyorlar. Hemen hemen hepsinin uğraştığı bir bahçesi veya hayvanı var. Stresten uzak bir hayat yaşıyorlar. Torunlarıyla ve çocuklarıyla yakından ilgileniyorlar.

**Bu parçadan "uzun ömürlü insanlarla" ilgili aşağıdakilerden hangisine ulaşamaz?**

A) Sağlıklı bir şekilde beslenmektedirler.


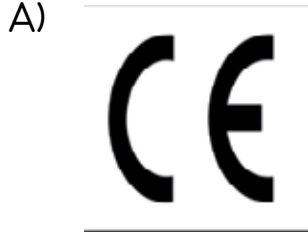
B) Doğayla ilgilenirler.

C) Fiziksel olarak hareketli bir yaşamları vardır.

D) Aile ilişkileri kuvvetlidir.

15. - Geri dönüşüme uygundur.  
- İnsan, çevre sağlığı ve güvenliği açısından uygundur.  
- Elektrik tehlikesi var.

Aşağıdaki sembollerden hangisi bu açıklamalardan birine ait değildir?



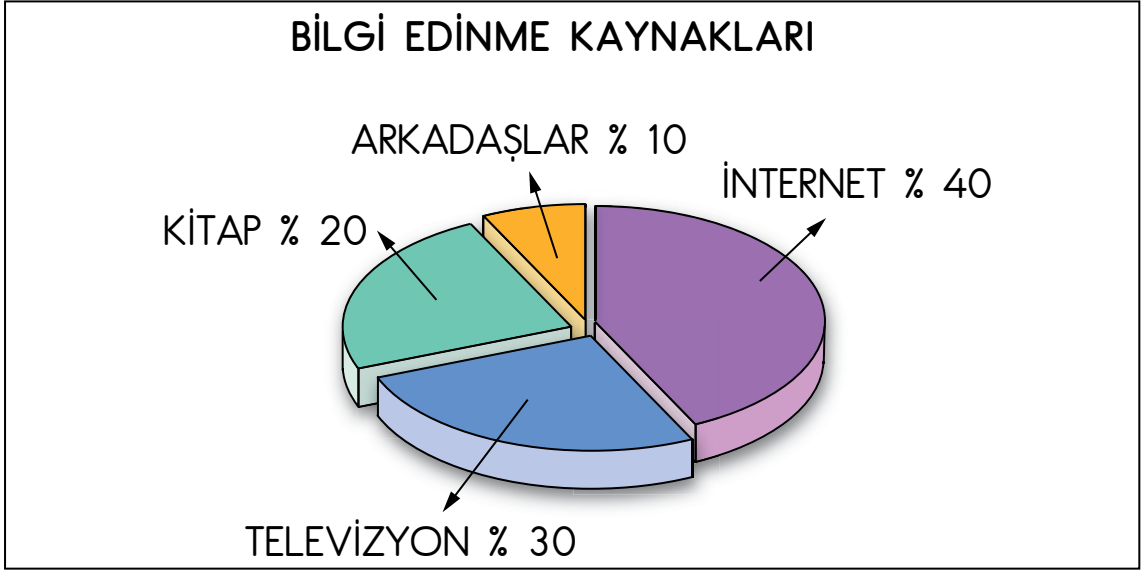
16. Ekim ayında üzümler toplanır. Pekmez, pestil, cevizli sucuk ve kesme gibi kış tatlıları yapılır. Küplere doldurulur. Kış gelmeden önce büyük kazanlarda kavurmalar pişirilir. Kışın tüketmek üzere bulgur, yarma, dövme, nişasta, tarhana, un hazırlanır. Sebzeler kurutulur. İplere dizili biberler, pencerelerde haftalarca güneşe karşı konur. Turşu ve reçeller yapılır.

Bu parçaya verilecek en uygun başlık aşağıdakilerden hangisidir?

- A) Kış Mevsiminin Zorlukları  
B) Kış Hazırlıkları  
C) Yiyecek Çeşitleri  
D) Sağlıklı Beslenme



17.



Yukarıdaki tabloda gençlerin bilgi edinirken hangi kaynaklardan yararlandıkları gösterilmiştir.

**Bu tabloya göre bilgi edinmeyle ilgili aşağıdaki yargıların hangisi doğrudur?**

- A) Önceki yıllara göre kitaplardan daha az yararlanılmıştır.
- B) En çok teknolojik aletler kullanılmıştır.
- C) Arkadaşların payı diğerlerinden fazladır.
- D) Televizyon, internetten daha etkilidir.

18. Kartallar soyundan bir kuş olan "delice" daha çok şahine, doğana, atmacaya benzer. Yuvalarını ağaçlıklarda, bir de üzeri kiremitle örtülü evlerin çatı aralarında yapar. Böcekleri, çekirgeleri, tırtılları yer. Deliceler, on beş yirmi yıl öncesine kadar oldukça çoktu. Şimdi bir tekini bile bulmakta zorlanırsınız.

**Bu parçada delicelerle ilgili aşağıdakilerden hangisine değnilmemiştir?**

- A) Nerede yaşadıklarına
- B) Neyle beslendiklerine
- C) Soylarının tükenmekte olduğuna
- D) Avlanma biçimlerine

19. Aşağıdakilerin hangisinde noktalama yanlışı yapılmıştır?

- A) Bana neden bağırdığını hiç anlamadım ki?
- B) Bulutlar, kuşlar, güneş dans ediyordu gökyüzünde.
- C) Bir gün İshak Paşa Sarayı'nı gezmek istiyorum.
- D) Arkadaşlar birbirine her zaman güvenir.

20. Aşağıdaki cümlelerin hangisinde yazım yanlışı vardır?

- A) Benim okulum Fatih Mahallesi'nde.
- B) Cumhuriyet Bayramı tüm yurttta coşkuyla kutlandı.
- C) Yeni bir çocuk filmi Cuma günü gösterime giriyor.
- D) Dün çarşıda sınıf arkadaşım Orhan ile karşılaştık.

TÜRKÇE TESTİ BİTTİ.  
MATEMATİK TESTİNE GEÇİNİZ.

1. 34 sayısının onlar basamağındaki rakamın basamak değeri ile 59 sayısının birler basamağındaki rakamın basamak değerinin toplamı kaçtır?

A) 80                      B) 54                      C) 39                      D) 12

2. Arda'nın bir karışı 12 santimetredir. Arda'nın dolabının genişliği 3 karışından 5 santimetre fazladır.

Arda'nın dolabının genişliği kaç santimetredir?

A) 29                      B) 31                      C) 36                      D) 41

3.  $\star + 19 = 78$

$11 + \square = \star$  olduğuna göre  $\square$  yerine hangi sayı yazılmalıdır?

A) 88                      B) 70                      C) 48                      D) 30

4.  $\square - 42 = 17$

$\square + 20 = \triangle$  olduğuna göre  $\triangle$  yerine hangi sayı yazılmalıdır?

A) 5

B) 39

C) 45

D) 79

5. Bir mağazada bardaklar deste, tabaklar düzine olarak paketlenmiştir. Umut, eşit sayıda tabak ve bardak alacaktır.

5 düzine tabak alan Umut, kaç deste bardak almalıdır?

A) 5

B) 6

C) 7

D) 8

6. Mehmet 4'ten başlayarak ileriye doğru beşer beşer sayıyor. Onuncu sayıyı söyledikten sonra ikişer ikişer saymaya devam ediyor.

Buna göre Mehmet'in on sekizinci sayıda söylediği sayı kaçtır?

A) 56

B) 65

C) 75

D) 86

7. Ayşe'nin 15 tane şekeri vardır.

Üç arkadaşına ikişer şeker verdikten sonra kaç şekeri kalır?

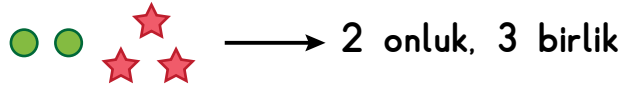
A) 9

B) 10

C) 12

D) 13

8.



Yukarıdaki şekil 2 onluk, 3 birlik göstermektedir. Buna göre aşağıdakilerden hangisi 54 sayısını gösterir?



9. Bir çıkarma işleminde eksilen 67 ve fark 29 olduğuna göre çıkan kaçtır?


A) 38

B) 42

C) 96

D) 97

10.



Sabah 11.30'dan akşam 8.30'a kadar geçen sürede akrep kaç tane sayı üzerinden geçer?

A) 10

B) 9

C) 8

D) 7

11. Üçgen prizmanın yüzlerinden biri aşağıdakilerden hangisi olamaz?

A) Üçgensel bölge

B) Dikdörtgensel bölge

C) Karesel bölge

D) Daire

12.  $3 + 3 + 3 + 3 + 3$

Yukarıdaki işlemin çarpma işlemi şeklinde gösterimi aşağıdakilerden hangisidir?

A)  $3 \times 3$ B)  $3 \times 8$ C)  $5 \times 3$ D)  $5 \times 5$

13.



Yukarıdaki paralar Ali'nin kumbarasından çıkan tüm paralardır.  
Buna göre Ali'nin kumbarasından kaç lira çıkmıştır?

A) 40

B) 45

C) 46

D) 48

14. Bir kırtasiyecinin elinde 70 tane kalem vardır. Kırtasiyeci bu kalemleri beşerli ve altışarlı paketler halinde satmaktadır.

Altışarlı 10 paket olduğuna göre beşerli paketlerde toplam kaç kalem vardır?

A) 10

B) 20

C) 54

D) 60

15. Onur 46 ile 39'u yanlış toplayarak 95 bulmuştur.

Buna göre yanlış sonuç doğru sonuçtan kaç fazladır?

A) 20

B) 15

C) 10


D) 5

16. Aşağıdakilerden hangisinin köşesi vardır?

A)




B)



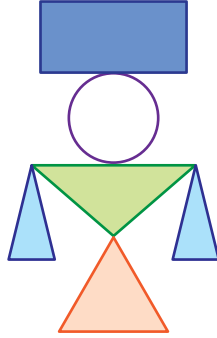
C)



D)



17.



Resimde aşağıdakilerden hangisine örnek yoktur?

A) Üçgen

B) Çember

C) Dikdörtgen

D) Kare

18. Ali'nin 17 tane sayma çubuğu vardır. Bu çubukları kullanarak iki tane küp oluşturacaktır. Her bir ayrıt için bir tane sayma çubuğu kullanacaktır.

Ali'nin kaç tane daha sayma çubuğuna ihtiyacı vardır?

A) 7

B) 5

C) 3

D) 1

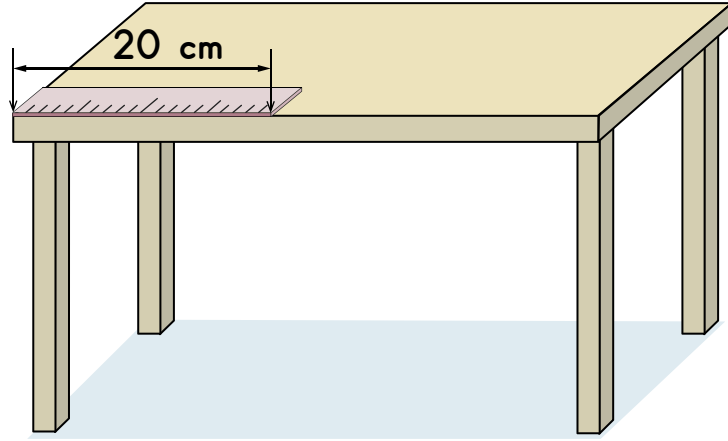


19. Ali Bey market alışverişi yaparken üçü aynı, biri farklı olacak şekilde 4 paket yumurta almıştır. Farklı paketlerdeki yumurta sayıları 6 veya 10'dur.

Buna göre Ali Bey en çok kaç yumurta almıştır?

- A) 28                      B) 32                      C) 36                      D) 38

20.



Verilen şekilde masanın üstündeki cetvelin uzunluğu 20 santimetredir.

Buna göre masanın cetvelle ölçülen kenarı kaç santimetre olabilir?

- A) 30                      B) 45                      C) 65                      D) 80

MATEMATİK TESTİ BİTTİ.  
HAYAT BİLGİSİ TESTİNE GEÇİNİZ.

1. Millî bayramlarımız, toplumdaki millî birlik ve beraberlik duygularını canlı tutan özel günlerdir.

Buna göre millî bayramlarımız hangi özelliği ile toplumdaki millî birlik ve beraberlik duygularını canlı tutar?

- A) Dinî  
B) Tarihî  
C) Ekonomik  
D) Demokratik

2.

Atalarım gökten yere  
İndirmişler ay yıldızı.  
Bir buluta sarmışlar ki  
Rengi şafaktan kırmızı.

Hasan Âli Yücel

Şair, yukarıdaki dördlüğünde neyi anlatmaktadır?

- A) Dinimizi  
B) Tarihimizi  
C) Bayrağımızı  
D) İstiklal Marşımızı

3.

CUMHURİYETTEN ÖNCE

(I) Uzun Mehmet oğlu Ömer

(II) 5 Ramazan 1437

(III) 3 okka buğday

(IV) 4 arşın kumaş

CUMHURİYETTEN SONRA

Ömer Uzun

6 Haziran 2016

3 kilo 849 gram buğday

2 metre 72 santimetre kumaş



Yukarıda, cumhuriyetten önce ülkemizde kullanılan unvan, takvim ve bazı ölçüklerin, cumhuriyetten sonra yapılan yeniliklerle hangi değişikliğe uğradığı gösterilmiştir.

Buna göre verilenlerden kaç numaralı bilgi, ağırlık ölçülerinde değişiklik olduğunu göstermektedir?

A) I.

B) II.

C) III.

D) IV.

4. Atatürk, Kurtuluş Savaşı'nda milletin önünde yer almış ve yol gösterici olmuştur.

Yukarıdaki bilgide Atatürk'ün hangi özelliğine vurgu yapılmıştır?

A) Liderliğine

B) Tutumluluğuna

C) Adaletli oluşuna

D) Yardımseverliğine

5. Okullardaki kuralların bir an için olmadığını düşünün.

O zaman okullarda nasıl bir ortam oluşurdu?

A) Şenlik

B) Kargaşa

C) Hoşgörü

D) Bayram

6. Atatürk ile ilgili aşağıdaki bilgilerden hangisi doğrudur?

- A) İstanbul'da doğmuştur.
- B) Ankara'da Anıtkabir'de ölmüştür.
- C) Öğrenim hayatına Selanik şehrinde başlamıştır.
- D) Harp Okulundan kurmay yüzbaşı olarak mezun olmuştur.

7. Birleşmiş Milletler Örgütüne üye bütün ülkelerce Ekim ayının ilk pazartesi günü kutlanan özel gün, aşağıdakilerden hangisidir?

- A) Gaziler Günü
- B) Öğretmenler Günü
- C) Dünya Çocuk Günü
- D) Hayvanları Koruma Günü

8. Aşağıdaki ifadelerin hangisinde iletişim aracından doğru ve yerinde yararlanılmıştır?

- A) Radyo ve televizyonu yüksek sesle dinlemeliyiz.
- B) Mektuplarımızı çevremizdeki insanlara okumalıyız.
- C) Telefonda istediğimiz kadar uzun konuşmalıyız.
- D) Dergilerimizi arkadaşlarımızla paylaşmalıyız.

9. Aşağıda ilkokul öğrencileri tarafından hazırlanan afişlerden hangisi orman yangınlarını önlemeyi amaçlayan bilgilendirici bir afiş değildir?

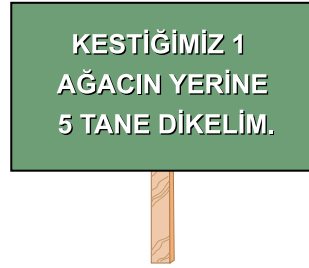
A)



B)



C)



D)



10. Aşağıdakilerden hangisi bilim ve teknolojiye bağlı olarak diğerlerinden sonra ortaya çıkan mesleklerden biridir?

A) Terzilik

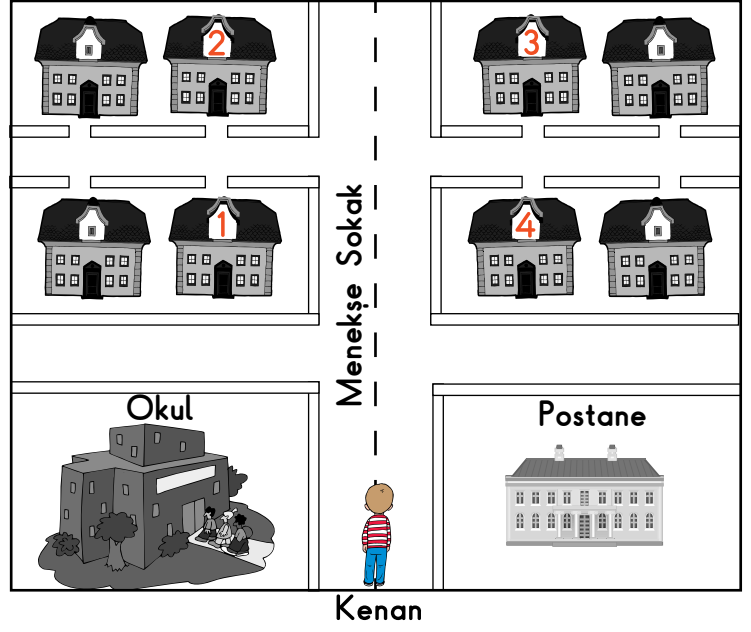
B) Pilotluk

C) Polislik

D) Bakırcılık

11.

Menekşe sokaktan düz ilerle postaneden sonra ikinci sokaktan sağa dön, solda gördüğün ilk bina bizim evimizdir.



Hasan'ın Kenan'a yaptığı tarife göre evi krokide kaç numaralı binadır?

A) 1

B) 2

C) 3

D) 4


12. Semih okula gitmek için önce otobüse bindi, iskeleye kadar gitti. Buradan vapura binerek karşıya geçti. Sirkeçiden trene binerek okuluna vardı.

Semih yolculuğu boyunca hangi ulaşım yolundan yararlanmamıştır?

A) Hava yolu  
C) Kara yolu

B) Demir yolu  
D) Deniz yolu

13.



Murat

Kış mevsiminde kısa kollu gömlek giydiğim için hasta oldum.

Verilen bilgiye göre; Murat'ın hasta olmasının nedeni nedir?

- A) Mevsime uygun giyinmemesi
- B) Giyeceklerinin vücuduna uymaması
- C) Giyeceklerinin temizliğine dikkat etmemesi
- D) Kışın koyu renkli yazın açık renkli giyecek giymesi

14. Dilek okula giderken fırından gelen kokuyu hissetti. Fırına doğru gidip simit istedi.

Fırıncı: Kaç tane istiyorsun?

Dilek : Şu iyi kızarmış olanlardan bir tane istiyorum. Teşekkürler.

Dilek, sıcak simit biraz soğuyunca yedi ve çok beğendi.

Dilek bu olayda hangi duyu organlarını kullanmıştır?

- A) Önce göz, en son deriyi
- B) Bütün duyu organlarını
- C) Yalnızca burun ve dili
- D) Yalnızca burun ve kulağı

15. Aşağıda Cansu'nun aile bireyleri hakkında bazı bilgiler verilmiştir.

- Annesi, ev çok sıcak olduğunda kullandıkları ısıtıcının sıcaklığını düşürür.
- Babası, su musluğu kapalı durumdayken damlattığında hemen tamir eder.
- Cansu gereksiz yere yanan ışıkları söndürür.

**Buna göre Cansu ve ailesi hakkında ne söylenebilir?**

- A) Tutumlu olmaya dikkat etmezler.
- B) Temel ihtiyaçlarına öncelik vermezler.
- C) Evdeki kaynakları tasarruflu kullanırlar.
- D) Elektrik ve ısıtıcıyı gereksiz yere kullanırlar.

16. Aşağıda bir mesleğe ait bazı özellikler verilmiştir.

Mesleğin Adı : .....  
Yaptığı iş : Adaleti sağlamak  
Araç- gereç : Kanun kitapları

**Buna göre özellikleri verilen meslek hangisidir?**

- A) Hakimlik
- B) Makine mühendisliği
- C) Veteriner hekimliği
- D) Öğretmenlik





17. Pınar çocukluk fotoğraflarına bakarak yorumlar yapıyor.


Pınar'ın yaptığı aşağıdaki yorumlardan hangisi büyüme ve gelişme ile ilgili değildir?


- A)  zamanda giydiğim ayakkabılarım şimdi ayağıma olmaz.
- B)  gün giydiğim kazak şimdi bana çok küçük gelir.
- C)  dönemde boyum ne kadar da kısalmış.
- D)  zaman da top oynuyormuşum.

18. Aşağıdaki öğrencilerden hangisi, belirttiği kişisel bakım uygulaması sırasında başkalarına ihtiyaç duymaz?

A)   
Duygu Uzayan saçlarımı kestiririm.

B)   
İrem Ayakkabı bağcıklarını bağlarım.

C)   
Uğur Gömleğimin düğmelerini iliklerken babamdan yardım alırım.

D)   
Mehmet Kirlenen okul kıyafetlerimi annemden yıkamasını isterim.

19. Ahmet 4 günlük akşam yemeğinde yediklerinin listesini aşağıdaki tabloda göstermiştir.

1. Gün	2. Gün	3. Gün	4. Gün
<ul style="list-style-type: none"><li>• Etlı fasulye</li><li>• Pilav</li><li>• Ayran</li></ul>	<ul style="list-style-type: none"><li>• Sebze orbası</li><li>• Balık</li><li>• Salata</li></ul>	<ul style="list-style-type: none"><li>• Patates cipsi</li><li>• Baklava</li><li>• Gazoz</li></ul>	<ul style="list-style-type: none"><li>• Tavuk</li><li>• Makarna</li><li>• Elma</li></ul>

Buna göre Ahmet hangi akşam yemeğinde dengeli beslenmemiştir?

- A) 1. Akşam      B) 2. Akşam      C) 3. Akşam      D) 4. Akşam
20. Bir öğrenci "Vücudumuz Neden Değerlidir?," ünitesini öğrendiği sırada aşağıdaki şiiri yazmıştır.

Var mı daha değerlisi,  
Üzerinde kollarım, bacaklarım,  
Canım gövdemde birleşmiş,  
Uç kısmında başım,  
Tamamı birleşince bir insanım.

Öğrenci vücuduyla ilgili neyi anlatmak istemiştir?

- A) Gövdede bulunan iç organları  
B) Vücut sağlığına dikkat ettiğini  
C) Kol ve bacakların şeklini  
D) Vücudun bölümlerini

TEST BİTTİ.

CEVAPLARINIZI KONTROL EDİNİZ.



## **SINAV BAŞLAMADAN AŞAĞIDAKİ UYARILARI MUTLAKA OKUYUNUZ!**

1. Öğrenciler, sınav kurallarına ve salon görevlilerinin tüm uyarılarına uymak zorundadırlar.
2. Cevap kâğıdındaki kimlik bilgilerinin doğruluğunu kontrol ediniz. Bilgiler size ait değilse veya cevap kâğıdı kullanılmayacak durumdaysa sınav görevlilerine bildiriniz.
3. Sınav başladıktan sonra öğrencilerin salon görevlileri ve birbirleri ile konuşmaları, kalem, silgi vb. şeyleri istemeleri yasaktır.
4. Değiştirmek istediğiniz bir cevabı, yumuşak silgiyle cevap kâğıdını yıpratmadan temizce siliniz ve yeni cevabınızı kodlayınız.
5. Cevap kâğıdınızı silinmeyen bir kalemle imzalayınız.
6. Cevaplarınızı, cevap kâğıdındaki ilgili soru numarasını dikkate alarak yuvarlağın dışına taşırmadan kodlayınız.
7. Soru kitapçığının sayfalarını kontrol ediniz, baskı hatası var ise değiştirilmesini sağlayınız.
8. Soru kitapçığı üzerinde yapılp cevap kâğıdına işaretlenmeyen cevaplar değerlendirmeye alınmayacaktır.
9. Soru kitapçığının içindeki boş alanları çözümlerinizi için kullanabilirsiniz.
10. Cevaplamaya istediğiniz sorudan başlayabilirsiniz.
11. Cevabını bilmediğiniz sorular üzerinde fazla zaman kaybetmeden diğer sorulara geçiniz. Zamanınız kalırsa bu sorulara daha sonra dönebilirsiniz.
12. Sınav puanınızın hesaplanmasında 3 yanlış 1 doğru cevabınızı götürcektir. Alt testler bu şekilde hesaplanarak net puanlarının toplamı toplam net puanınızı verecektir.
13. Sınav bitiminde, soru kitapçığı ve cevap kâğıdını salon görevlilerine teslim ediniz.
14. Sınav sırasında sözlük, hesap makinesi, saat fonksiyonu dışında özellikleri bulunan saat veya çağrı cihazı, cep telefonu, telsiz, radyo ve bilgisayar özelliği bulunan elektronik cihazları yanınızda bulundurmanız hâlinde sınavınız geçersiz sayılacaktır.
15. Cevap kâğıdınızı sınav süresince hiçbir öğrencinin göremeyeceği şekilde önünüzde bulundurunuz.
16. Sınavınızın değerlendirilmesi aşamasında, toplu kopya tespiti veya başka adayın sınav evrakını kullanmanız durumunda sınavınız geçersiz sayılacaktır.
17. Soruları ve sorulara verdiğiniz cevapları kaydetmeyiniz, hiçbir şekilde dışarı çıkarmayınız.
18. İlk 15 dakika dışarı çıkılmayacaktır.
19. Sınav evraklarını teslim etmeyenlerin sınavı geçersiz sayılacaktır.

### **SINAV GÖREVLİLERİNCE SINAV BAŞLAMADAN ÖNCE ÖĞRENCİLERE YAPILACAK SON UYARI!**

- Soracağınız bir şey var mı? Varsa, şimdi sorunuz.
- Sınav başladıktan sonra sorularınıza cevap verilmeyecektir.
- Başlama zilini bekleyiniz.

**Hepinize başarılar dileriz.**

**(Sınav görevlisi başlama ve bitiş saatini tahtaya yazacaktır.)**

**Bu kitapçığın her hakkı saklıdır. Hangi amaçla olursa olsun, kitapçığın tamamının veya bir kısmının Millî Eğitim Bakanlığı Ölçme, Değerlendirme ve Sınav Hizmetleri Genel Müdürlüğünün yazılı izni olmadan kopya edilmesi, fotoğraflarının çekilmesi, bilgisayar ortamına alınması, herhangi bir yolla çoğaltılması, yayımlanması veya başka bir amaçla kullanılması yasaktır. Bu yasağa uymayanlar, doğabilecek cezai sorumluluğu ve kitapçığın hazırlanmasındaki mali külfeti peşinen kabullenmiş sayılır.**

**15 MAYIS 2016 TARİHİNDE YAPILAN VEHBİ KOÇ VAKFI  
ÖZEL İLKOKULU VE ORTAOKULU SEVİYE TESPİT SINAVI  
3. SINIFLAR “B” KİTAPÇIĞI CEVAP ANAHTARI**

<b>TÜRKÇE</b>	<b>MATEMATİK</b>	<b>HAYAT BİLGİSİ</b>
1. C	1. C	1. B
2. D	2. D	2. C
3. A	3. C	3. C
4. C	4. D	4. A
5. B	5. B	5. B
6. B	6. B	6. C
7. A	7. A	7. C
8. C	8. D	8. D
9. C	9. A	9. C
10. D	10. B	10. B
11. A	11. D	11. C
12. B	12. C	12. A
13. C	13. B	13. A
14. A	14. A	14. B
15. D	15. C	15. C
16. B	16. D	16. A
17. B	17. D	17. D
18. D	18. A	18. B
19. A	19. C	19. C
20. C	20. B	20. D