

# O-1



# T

T.C.  
MİLLÎ EĞİTİM BAKANLIĞI  
ÖLÇME, DEĞERLENDİRME VE SINAV HİZMETLERİ  
GENEL MÜDÜRLÜĞÜ

AÇIK ÖĞRETİM ORTAOKULU  
2014-2015 ÖĞRETİM YILI 3. DÖNEM SINAVI  
1. OTURUM: 28 HAZİRAN 2015 Saat: 10.00

<u>DERSLER</u>	<u>SAYFA</u>	<u>DERSLER</u>	<u>SAYFA</u>
(501) TÜRKÇE – 5 .....	2	(701) TÜRKÇE – 7 .....	18
(502) MATEMATİK – 5 .....	4	(702) MATEMATİK – 7 .....	20
(503) FEN VE TEKNOLOJİ – 5 .....	6	(703) FEN VE TEKNOLOJİ – 7 .....	22
(604) SOSYAL BİLGİLER – 6 .....	10	(806) TC İNK. TAR. VE ATATÜRK. – 8 .....	24
(607) İNGİLİZCE – 6 .....	11	(807) İNGİLİZCE – 8 .....	26
(607) ALMANCA – 6 .....	13	(807) ALMANCA – 8 .....	27
(607) FRANSIZCA – 6 .....	14	(807) FRANSIZCA – 8 .....	28
(608) DİN KÜL. VE AHLAK BİLGİSİ – 6 .....	16	(808) DİN KÜL. VE AHLAK BİLGİSİ – 8 .....	30

#### ADAYLARIN DİKKATİNE!

- Her ders için **20** soru bulunmaktadır. Bu oturumda **150** dakikalık cevaplama süreniz vardır. Sınav başladıktan sonra ilk **30** dakika dolmadan dışarı çıkmayınız.
- Sınav sırasında sözlük, hesap cetveli veya makinesi, çağrı cihazı, cep telefonu, telsiz, radyo gibi elektronik iletişim araçlarını yanınızda bulundurmuyunuz. Bu araçları kullanmanız ve kopya çekmeye teşebbüs etmeniz hâlinde sınavınız geçersiz sayılacaktır.
- Başvuru şartlarını taşımadığınız hâlde sınava girmeniz, kopya çekmeniz, başka adayın sınav evrakını kullanmanız, geçerli kimlik belgenizi ve sınav giriş belgenizi ibraz edemediğiniz durumlarda sınavınız geçersiz sayılacaktır.
- Sınavın değerlendirilmesi aşamasında, bilgisayar ortamında yapılan kopya analizinde ikili veya toplu kopya tespiti hâlinde sınavınız geçersiz sayılacaktır.

#### CEVAP KÂĞIDI VE SORU KİTAPÇIĞI İLE İLGİLİ AÇIKLAMALAR

- Cevap kâğıdınızdaki bilgilerin doğruluğunu kontrol ediniz ve cevap kâğıdınızı mürekkepli kalemle imzalayınız.
- Cevap kâğıdı üzerinde kodlamalarınızı kurşun kalemle yapınız.
- Değiştirmek istediğiniz bir cevabı, yumuşak silgiyle cevap kâğıdını örselemeden temizce siliniz ve yeni cevabınızı kodlayınız.
- Soru kitapçığının sayfalarını kontrol ediniz, baskı hatası var ise değiştirilmesini sağlayınız.
- Soruların çözümü için size ayrıca boş kâğıt verilmeyecektir. Soru kitapçığının içindeki boş alanları soru çözümleri için kullanabilirsiniz.
- Her sorunun dört seçeneğinden sadece biri doğrudur. Doğru seçeneği, cevap kâğıdınızın ilgili sütununa soru numarasını dikkate alarak yuvarlağın dışına taşırmadan kodlayınız. **Soru kitapçığı üzerinde yapılan cevaplandırmalar dikkate alınmayacaktır.**
- Cevaplamaya istediğiniz dersin sorusundan başlayabilirsiniz. Cevabını bilmediğiniz sorular üzerinde fazla zaman kaybetmeden diğer sorulara geçiniz. Zamanınız kalırsa bu sorulara daha sonra dönebilirsiniz.
- Yanlış cevaplarınız dikkate alınmadan sadece doğru cevaplarınız üzerinden puanlama yapılacaktır.
- Soruları ve sorulara verdiğiniz cevapları, yanınızda götürmek amacıyla kaydetmeyiniz; hiçbir şekilde dışarı çıkarmayınız.
- Sınav bitiminde, soru kitapçığı ve cevap kâğıdını salon görevlilerine teslim ediniz.**

**BAŞLAYINIZ DENİLMEYEN SORU KİTAPÇIĞINI AÇMAYINIZ.**

# 1. OTURUM

(501) TÜRKÇE – 5

1. Aşağıdaki kelimeler alfabetik sıraya göre dizildiğinde hangisi sonda yer alır?

- A) Düğme B) Dürbün  
C) Dümen D) Düdük

2. “ Sıçramak” kelimesi aşağıdakilerin hangisinde “Uyumuş olacak ki yataktan sıçrayarak uyandı.” cümlesindeki anlamıyla kullanılmıştır?

- A) Alevin korları üzerime sıçırıyordu.  
B) Karpuzun fiyatı yaz ortasında birden sıçradı.  
C) Dışarıdaki patlama sesiyle yerinden sıçradı.  
D) Çocuk keyifle taştan taşta sıçırıyordu.

3. Kalem böyle çalınmıştır yazıma  
Yazım kışa uymaz kışım yazıma

Bu dizelerdeki altı çizili kelimeler arasındaki anlam ilişkisi aşağıdakilerden hangisidir?

- A) Karşit anlamlılık B) Eş anlamlılık  
C) Yan anlamlılık D) Eş seslilik

4. Aşağıdaki altı çizili kelimelerden hangisi mecaz anlamıyla kullanılmıştır?

- A) Kızcağız hastalıktan iki günde süzülmüş.  
B) Gözlüğünü takıp masaya eğildi.  
C) Bu yemek çok tuzlu olmuş.  
D) Evin sahibi cılız ve sessiz bir adamdı.

5. “Tuz” kelimesine aşağıdaki eklerden hangisi getirilirse “yapılışında tuz kullanılan, tuzu çok olan” anlamı taşır?

- A) -luk B) -cu C) -suz D) -lu

6. “Sabır güzel, faydalı ---- zor bir şeydir.” cümlesinde boş bırakılan yere aşağıdakilerden hangisi getirilmelidir?

- A) için B) bu sebeple  
C) fakat D) veya

7. 1. anlattıkları  
2. çekmişti  
3. ihtiyar  
4. ilgimi  
5. teyzenin

Yukarıda numaralanmış kelimelerle anlamlı ve kurallı bir cümle oluşturmak için sıralama nasıl olmalıdır?

- A) 1-3-2-4-5 B) 2-4-1-5-3  
C) 3-4-5-1-2 D) 3-5-1-4-2

8. “ O sabah, anaokulunun bahçesinde Kübra Hanım vardı.” cümlesinde aşağıdakilerden hangisinin cevabı yoktur?

- A) Niçin? B) Ne zaman  
C) Nerede? D) Kim?

9. Aşağıdaki cümlelerin hangisinde deyim vardır?

- A) Bahçedeki armutların olgunları yere döküldü.  
B) Sınıflara girilmeden önce yoklama yapıldı.  
C) Van Gölü kıyıları doğunun cennetiydi.  
D) Burnunun direği sızlaya sızlaya evini özlemektedir.

# 1. OTURUM

10. Aşağıdaki cümlelerin hangisinde sebep-sonuç ilişkisi vardır?

- A) İnsanların güneşe olduğu kadar sevgiye de ihtiyaçları vardır.
- B) Uçağı kaçırdığı için memleketine otobüsle seyahat etti.
- C) İçimizdeki en büyük güzellik sevgidir.
- D) Boyu uzun olmasına rağmen dolaptaki bardağa uzanamamıştı.

11. Aşağıdakilerden hangisi hayal ürünü değildir?

- A) Anka kuşu ormanların, denizlerin sihrini taşıyordu.
- B) Çocuğun gözlerinde masmavi dumanlar tütüyordu.
- C) Karalar kuşanmış Karadeniz "Akmam!" diyor.
- D) Mayıs ayının sıcaklığıyla meyveler olgunlaşmaya başladı.

12. Burhan, dersin sonlarına doğru çantasını hazırlamıştı. Öğretmenden sonra sınıftan çıkan ilk kişi oldu. Koşmaya başladı.

**Bu parçadaki altı çizili sözcükler, hikâyenin hangi ögesini bildirmektedir?**

- A) Yer
- B) Olay
- C) Zaman
- D) Karakter

13. Aşağıdakilerden hangisi nesnel bir yargıdır?

- A) Benim düşünceme göre karalar çok ısınacak.
- B) Bu akşam güneş 19.30'da batacak.
- C) Bana göre kış uzun sürecek.
- D) Bence gece yağmur yağacak.

14. Aşağıdaki cümlelerin hangisinde karşılaştırma yapılmıştır?

- A) Şimdi her şey eskisinden de güzel.
- B) Dükkânın içi ve dışı yağlıboya ile boyandı.
- C) Gazetenin ilk sayfasını dolduran resimlere göz attım.
- D) Yere, havaya ve suya cemreler düşmüştü.

15. "Dostumuzun bizi hırpalaması gücümüze gitmez. Çünkü bunun iyi niyetle ve iyiliğimiz için yapıldığını biliriz." anlamına gelen atasözü aşağıdakilerden hangisidir?

- A) Dost kara günde belli olur.
- B) Dostluk başka, alışveriş başka.
- C) Dostun attığı taş baş yarmaz.
- D) Dost başa bakar, düşman ayağa.

16. Aşağıdakilerin hangisinde altı çizili sözcük aldığı ekten dolayı yeni bir anlam kazanmıştır?

- A) Senin kadar inatçı birini görmedim.
- B) Bizi çok zorlu bir yürüyüş bekliyor.
- C) Ablam bana tam bir annelik yaptı.
- D) Hakkımı sonuna kadar arayacağım.

17. Aşağıdaki altı çizili kelimelerden hangisi "devam eden bir eylemi" ifade eder?

- A) Kahvaltı bile yapmadan çıkıp gitti.
- B) Bahçedeki çiçekleri suluyor.
- C) Bir ağaçta gül de biter diken de.
- D) Tasını tarağını toplayıp buralardan gidecek.

18. "Uzun boylu olmak için her gün süt içeriyorum." cümlesinde boyun durumunu belirten kelime aşağıdakilerden hangisidir?

- A) uzun
- B) boylu
- C) gün
- D) süt

# 1. OTURUM

19. Aşağıdaki cümlelerin hangisinde “da/de” nin yazımıyla ilgili bir yanlışlık yapılmıştır?

- A) Bazen bakışlada çok şey anlatılır.
- B) Pikniğe o da bizimle gelecek.
- C) Ne yazık ki kalemiğim evde kaldı.
- D) Oğluyla beraber gelini de geldi.

20. Aşağıdaki cümlelerin hangisinin sonuna “soru işareti (?)” getirilmelidir?

- A) Her taraf ışıklarla aydınlanıyor
- B) Buraya kadar neden geldiniz
- C) Bence aşağı doğru gidelim
- D) Arkadaşlarıyla niçin gitmediğini anlamadım

## (502) MATEMATİK – 5

1. 1,6,11,16,21,26,...

Yukarıdaki örüntü, bir önceki terime aynı sayı eklenerek elde edilmiştir. Bu örüntünün 10. terimi kaçtır?

- A) 45
- B) 46
- C) 51
- D) 54

2. Rakamları farklı beş basamaklı en büyük doğal sayı ile rakamları farklı dört basamaklı en küçük doğal sayının toplamı kaçtır?

- A) 97 765
- B) 99 788
- C) 99 888
- D) 99 999

3. Bir otobüsteki 16 yolcudan 5 tanesi bayandır. Otobüs sıradaki durakta durduğunda 4 yolcu daha otobüse binmiş hiç yolcu inmemiştir. Son durumda otobüsteki erkeklerin sayısı, bayanların sayısının üç katı olduğuna göre sonradan otobüse binen 4 yolcudan kaç erkeklerdir?

- A) 0
- B) 1
- C) 2
- D) 4

4. Aşağıdakilerden hangisi diğerlerinden büyüktür?

- A)  $13^2$
- B)  $7^3$
- C)  $12^2$
- D)  $8^3$

5. Aşağıdakilerden hangisi  $3\frac{3}{4}$  kesrinin bileşik kesir olarak gösterilişidir?

- A)  $\frac{15}{4}$
- B)  $\frac{13}{4}$
- C)  $\frac{9}{4}$
- D)  $\frac{6}{4}$

6. Aşağıdakilerden hangisi  $\frac{4}{12}$  kesrine denk değildir?

- A)  $\frac{2}{3}$
- B)  $\frac{3}{9}$
- C)  $\frac{8}{24}$
- D)  $\frac{12}{36}$

7. Bir ekmeğin tamamını yiyen Kâmil,  $\frac{1}{6}$ 'ini yiyen Kemal'den ne kadar fazla ekmeği yemiştir?

- A)  $\frac{2}{6}$
- B)  $\frac{3}{6}$
- C)  $\frac{4}{6}$
- D)  $\frac{5}{6}$

8. Aşağıdakilerden hangisi yanlıştır?

- A)  $\frac{2}{1000} = 0,02$
- B)  $\frac{4}{25} = 0,16$
- C)  $\frac{2}{5} = 0,4$
- D)  $\frac{17}{50} = 0,34$

9. Birler basamağında 0, ondabirler basamağında 9, binde birler basamağında 1 olan ondalık gösterim aşağıdakilerden hangisidir?

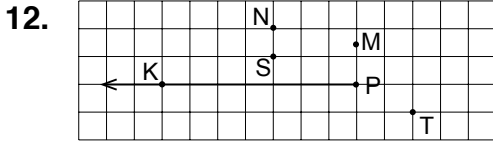
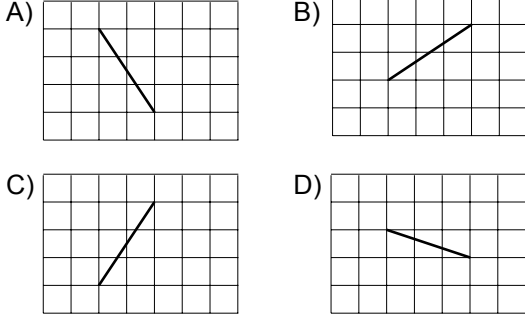
- A) 350,291
- B) 469,601
- C) 570,921
- D) 681,950

# 1. OTURUM

10. Kerem'in babası, maaşının %22'sini ev kirasına vermektedir. Babası 1750 lira maaş aldığına göre ev kirası kaç liradır?

- A) 197 B) 350 C) 385 D) 395

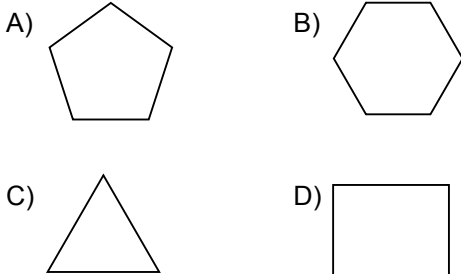
11. Aşağıdaki doğru parçalarından hangisinin uzunluğu diğerlerinden farklıdır?



Verilen şekildeki [PK aşağıdaki hangi ışının çizilmesi ile geniş açı oluşturur?

- A) [PT B) [PS C) [PM D) [PN

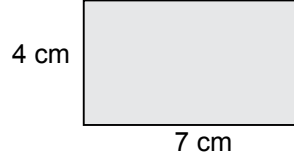
13. Aşağıdaki çokgenlerde hangisinin köşegen sayısı diğerlerinden fazladır?



14. Aşağıdaki şekillerden hangisinde ardışık iki açının ölçüleri toplamı 180 dereceden farklı olabilir?

- A) Eşkenar dörtgen B) Paralelkenar  
C) Dikdörtgen D) Yamuk

15.



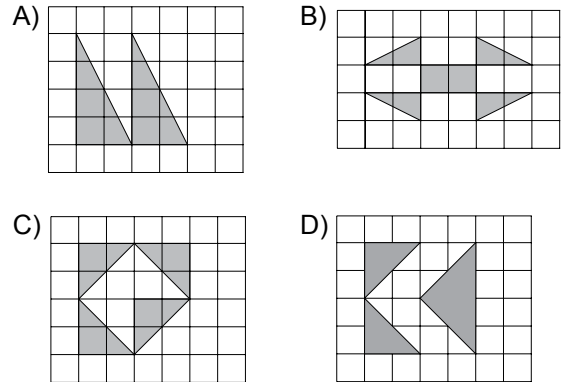
Verilen dikdörtgen şeklindeki levhanın dört köşesinden bir kenar uzunluğu 1,5 cm olan kare şeklinde parçalar kesilip atılıyor. Kalan parçanın çevresi kaç santimetredir?

- A) 16 B) 19 C) 22 D) 28

16. Günlerden Salı ve saat 17.45 olduğuna göre 37 saat 26 dakika sonra hangi gün ve hangi saat olur?

- A) Çarşamba 17.11  
B) Çarşamba 23.11  
C) Perşembe 07.11  
D) Perşembe 17.11

17. Kareli zeminde verilen aşağıdaki boyalı bölgelerden hangisinin alanı diğerlerinden küçüktür?



18. Aşağıdakilerden hangisi yanlıştır?

- A) Beşgen piramidin 6 yüzü vardır.  
B) Kare piramidin 4 yüzü vardır.  
C) Üçgen prizmanın 5 yüzü vardır.  
D) Dikdörtgenler prizmasının 6 yüzü vardır.

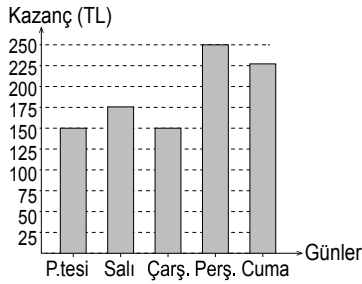
# 1. OTURUM

19. Tablo: Günlere Göre Ayakkabı Satışından Elde Edilen Kazanç Miktarı

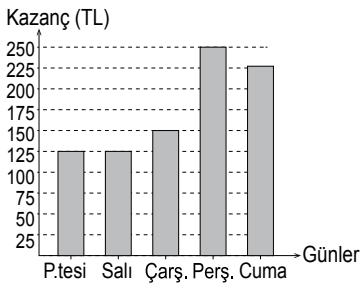
Günler	P.tesi	Salı	Çarş.	Perş.	Cuma
Toplam Kazanç (TL)	150	125	150	250	225

Yukarıdaki tabloda bir ayakkabıcının sattığı ayakkabılardan günlere göre elde ettiği toplam kazanç miktarı verilmiştir. Tabloya uygun sütun grafiği aşağıdakilerden hangisidir?

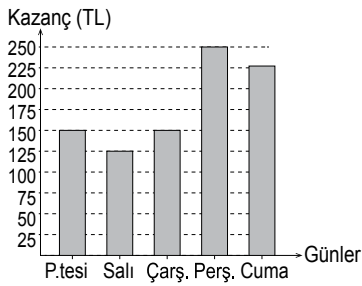
- A) Grafik: Günlere Göre Ayakkabı Satışından Elde Edilen Kazanç Miktarı



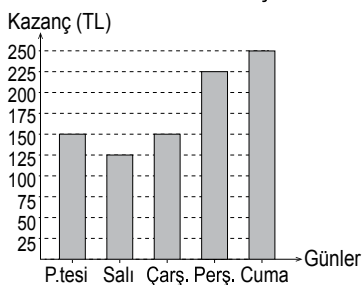
- B) Grafik: Günlere Göre Ayakkabı Satışından Elde Edilen Kazanç Miktarı



- C) Grafik: Günlere Göre Ayakkabı Satışından Elde Edilen Kazanç Miktarı



- D) Grafik: Günlere Göre Ayakkabı Satışından Elde Edilen Kazanç Miktarı



20. Tablo: Öğrencilerin Kalem Sayıları

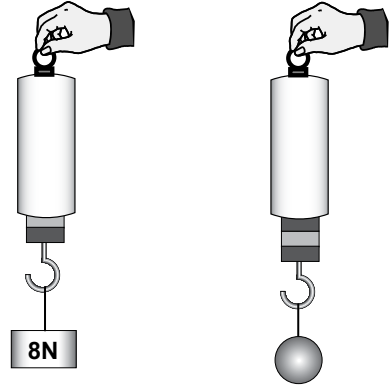
Kalem sayısı	Öğrenci sayısı
1	//
2	### ## /
3	### //
4	////
5	/

Yukarıda bir sınıftaki öğrencilerin sahip oldukları kalem sayılarına ait sıklık tablosu verilmiştir. Tabloya göre sınıfta en az 3 kaleme sahip olan kaç öğrenci vardır?

- A) 5 B) 7 C) 12 D) 13

## (503) FEN VE TEKNOLOJİ – 5

1. Birbiri ile her bakımdan aynı olan dinamometrelerle farklı cisimler takılmış ve uygulanan kuvvetlerin büyüklüğü şekildeki gibi ölçülmüştür.



I. Dinamometre

II. Dinamometre

Buna göre, II. dinamometrede okunan değer kaç N'dur?

- A) 9 B) 12 C) 16 D) 24

2. Tabloda bazı maddeler numaralanarak verilmiştir.

I. Sisli hava	II. Şeffaf poşet
III. Buzlu cam	IV. Beton duvar

Bu maddelerden hangileri ışığı geçirme durumlarına göre yarı saydam maddedir?

- A) I. ve II. B) I. ve III.  
C) II. ve IV. D) III. ve IV.

# 1. OTURUM

3. Bir cisim, ışık kaynağı ile perde arasında olup her ikisine de eşit uzaklıkta ve aynı doğrultudadır. Öğrencilerin bu durumda tam gölgeyi etkileyen etmenlerle ilgili yorumları aşağıdaki gibidir.

Cisim ışık kaynağından uzaklaşınca gölge boyu küçülür.



Ayşe

Cisim perdeye yaklaşıncaya gölge boyu büyür.



Burak

Işık kaynağı cisme yaklaşıncaya gölge boyu küçülür.



Cemil

Perde cisimden uzaklaşıncaya gölge boyu küçülür.




Derya


Buna göre hangi öğrencinin yorumu doğrudur?

- A) Ayşe  
B) Burak  
C) Cemil  
D) Derya

4. Emre suya dayanıklı çalar saatin sesini önce I. ortamda sonra II. ortamda dinliyor.



Ağız kapalı kavanozun içinde I. ortam



Su dolu kabın içinde II. ortam

Emre'nin bu ortamlarda duyduğu seslerin birbirinden farklı olmasının nedeni aşağıdakilerden hangisidir?

- A) Farklı cisimlerle üretilen seslerin farklı olması  
B) Çalar saatin sesinin yapay ses olması  
C) Suyun, sesin yayılmasını engellemesi  
D) Aynı sesin farklı ortamlarda farklı duyulması

5. Tabloda sayıları verilen, birbiri ile her bakımdan aynı lamba ve pil kullanılarak numaralandırılmış elektrik devreleri kuruluyor.

Devre numarası	Lamba sayısı	Pil sayısı
I	1	1
II	2	1
III	1	2

Buna göre, devrelerdeki lamba parlaklıklarının çoktan aza doğru sıralaması aşağıdakilerden hangisidir?

- A) I - II - III  
B) II - I - III  
C) III - I - II  
D) III - II - I

6. Şekilde basit bir elektrik devresi verilmiştir.



Bu elektrik devresinin sembollerle gösterimi aşağıdakilerden hangisidir?

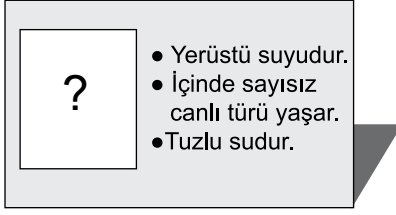
- A) B) C) D)

7. Madenlerle ilgili aşağıda verilen bilgilerden hangisi yanlıştır?

- A) Ülkemiz madenler açısından zengindir.  
B) Teknolojinin birçok alanında kullanılır.  
C) Ekonomik değeri olan kayaçlardır.  
D) Cam ve tahta örnek verilebilir.

# 1. OTURUM

8. Elif, bir su kaynağının özelliklerini şekildeki gibi karta yazmıştır.



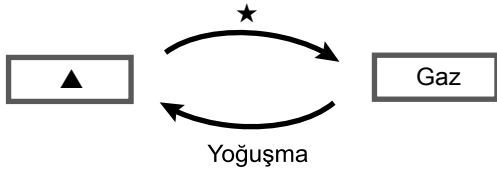
Buna göre kart üzerinde “?” ile gösterilen yere aşağıdakilerden hangisinin resmi yapılandırılmıştır?

- A) Okyanus B) Akarsu  
C) Soğuk su kaynağı D) Kaplıca

9. Havaya salınan bazı zararlı gazlar aşağıdaki durumlardan hangisine doğrudan neden olur?

- A) Balık ölümlerine  
B) Dünya'nın ısınmasına  
C) Tarım alanlarının yok olmasına  
D) Tifo ve kolera gibi salgın hastalıklara

10. Şekilde iki hâl değişimi olayı verilmiştir.



Buna göre ▲ ve ★ ile gösterilen yerlere aşağıdakilerin hangisinde verilenler yazılmalıdır?

- |    |      |             |
|----|------|-------------|
|    | ▲    | ★           |
| A) | Katı | Donma       |
| B) | Sıvı | Erime       |
| C) | Katı | Buharlaşıma |
| D) | Sıvı | Buharlaşıma |

11. Sabit ısı veren bir kaynak ile sürekli ısıtılan saf bir sıvıya ait sıcaklık-zaman değerleri tabloda verilmiştir.

Sıcaklık (°C)	10	22	34	46	56	56	56	64
Zaman (dk)	0	2	4	6	8	10	12	14

Tabloya göre, bu sıvının kaynama sıcaklığı kaç °C'tur?

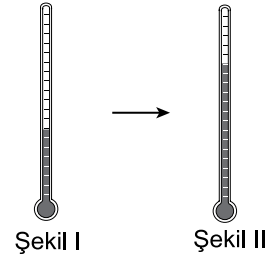
- A) 10 B) 46 C) 56 D) 64

12. Fatma Hanım, bebeği için hazırlayıp biberona koyduğu mamanın çok sıcak olduğunu fark ediyor. Bu nedenle biberonu, soğuk su dolu kabın içinde bir süre bekletiyor ve mamayı bebeğine kolaylıkla içiriyor.

Bu sonuca göre, aşağıdakilerden hangisi doğrudur?

- A) Mamanın sıcaklığı artmıştır.  
B) Mama, soğuk suyu ısıtmıştır.  
C) Soğuk suyun ısısı azalmıştır.  
D) Soğuk sudan mamaya ısı akmıştır.

13. Termometrenin cam haznesindeki sıvı seviyesi şekil I'deki gibidir. Bu termometre daha sıcak bir ortama konulduğunda sıvı seviyesinin şekil II'deki gibi olduğu gözlenmiştir.



Buna göre, şekil II'deki termometrenin cam haznesindeki sıvıda gözlenen olay aşağıdakilerden hangisidir?

- A) Genleşme B) Erime  
C) Büzülme D) Yoğuşma



# 1. OTURUM

14. Ahmet'in sabah kahvaltısında yediği besinlerin listesi aşağıdaki gibidir.

- Beyaz peynir
- Zeytin
- Kayısı reçeli
- Süt
- Ekmek

Buna göre Ahmet'in kahvaltısında hangi tür besin içerikleri vardır?

- A) Yalnız karbonhidrat vardır.  
B) Yalnız protein vardır.  
C) Hepsi de çoğunlukla yağ ve proteinden oluşmaktadır.  
D) Karbonhidrat, protein, yağ ve vitamin vardır.

15. ● vücudumuzda yaşamsal faaliyetler sonucunda oluşan karbondioksit ve suyun dışarı atılmasında görevlidir.

▲ terleme yoluyla fazla tuz ve suyun vücut dışına atılmasında görevlidir.

Yukarıdaki ifadelerde ● ve ▲ yerine aşağıdaki-lerin hangisinde verilen organlar yazılmalıdır?

- |    | ●       | ▲       |
|----|---------|---------|
| A) | Deri    | Akciğer |
| B) | Böbrek  | Deri    |
| C) | Akciğer | Deri    |
| D) | Böbrek  | Akciğer |

16. Sağlıklı ağız ve diş yapısına sahip olan Ali bütün bir armutu ısırıktan sonra, kopardığı parçayı iyice çiğneyip yutuyor.

Bu faaliyette Ali armutu ısırığında öncelikle hangi dişlerini kullanmıştır?

- A) Büyük azı dişlerini  
B) Küçük azı dişlerini  
C) Kesici dişlerini  
D) Köpek dişlerini

17. Tabloda canlılar numaralandırılarak verilmiştir.

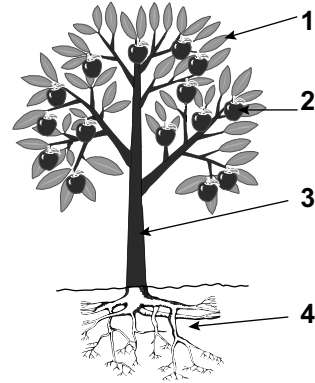
1 İnek	2 Tavuk	3 Yılan
4 Kedi	5 Serçe	6 Timsah

- Omurgalı olma
- Yavrularını sütle besleme
- Doğurarak çoğalma

Yukarıda verilen özelliklerin tamamı hangi numarayla gösterilen canlılarda görülür?

- A) 1 ve 4  
B) 2 ve 5  
C) 3 ve 6  
D) 5 ve 6

- 18.



Şekilde verilen elma ağacında besin üretiminin gerçekleştiği kısım kaç numara ile gösterilmiştir?

- A) 1  
B) 2  
C) 3  
D) 4

19. Aşağıdakilerden hangisi mantarların ortak özelliklerindedir?

- A) Toprağa tutunarak yaşama  
B) İnsan, hayvan ve bitkilerde hastalıklara neden olma  
C) Gözle görülemeyecek kadar küçük olma  
D) Besinini dışarıdan alma

20. Sindirimde görevli bazı yapı ve organlar numaralandırılarak verilmiştir.

1 Yutak	2 İnce bağırsak
3 Mide	4 Yemek borusu

Bu organların sindirim sisteminde bulunış sırası aşağıdakilerin hangisinde verilmiştir?

- A) 4 - 1 - 2 - 3  
B) 3 - 4 - 1 - 2  
C) 1 - 4 - 3 - 2  
D) 1 - 2 - 4 - 3

# 1. OTURUM

## (604) SOSYAL BİLGİLER – 6

### 1. Aşağıdaki cümlelerden hangisi olgu ifadesidir?

- A) Bence Türkiye'nin en güzel şehri İzmir'dir.
- B) Millî değerlerine en bağlı topluluk Türklerdir.
- C) İnsanların en duygusal olduğu zamanları veda anlarıdır.
- D) Karadeniz Bölgesi Türkiye'nin en fazla yağış alan bölgesidir.

### 2. Bilimsel araştırmanın üçüncü basamağı, aşağıdakilerden hangisidir?

- A) Araştırma konusu ile ilgili verilerin toplanması
- B) Toplanan verilerin değerlendirilmesi
- C) Araştırma konusunun belirlenmesi
- D) Metnin düzenlenmesi

### 3. "Paralelleri dik kesen, kutup noktalarında birleşen çizgilere ..... denir."

Verilen tanımın tamamlanabilmesi için cümledeki boşluğa, aşağıdakilerden hangisi yazılmalıdır?

- A) Ekvator
- B) Meridyen
- C) Ölçek
- D) Geoit

### 4. Dağlar, aşağıdaki harita çeşitlerinden hangisinde gösterilir?

- A) Özel haritalar
- B) İdari haritalar
- C) Fiziki haritalar
- D) Siyasi haritalar

### 5. Aşağıdaki iklim tiplerinden hangisi yurdumuzda görülmez?

- A) Karasal iklim
- B) Muson iklimi
- C) Akdeniz iklimi
- D) Karadeniz iklimi

### 6. Kavimler Göçü ile başlayıp, İstanbul'un fethiyle sona eren çağ, aşağıdakilerden hangisidir?

- A) İlk Çağ
- B) Yeni Çağ
- C) Orta Çağ
- D) Yakın Çağ

### 7. Efes'ten başlayıp Mezopotamya'daki Ninova'ya kadar uzanan ünlü tarihî ticaret yolu, aşağıdakilerden hangisidir?

- A) Kral Yolu
- B) Kürk Yolu
- C) İpek Yolu
- D) Baharat Yolu

### 8. Mimaride "Ziggurat" adı verilen yapılarla ön plana çıkmış olan medeniyet, aşağıdakilerden hangisidir?

- A) Babiller
- B) Asurlular
- C) Urartular
- D) Sümerler

### 9. Orta Asya'da kurulan ve tarihî bilinen ilk Türk devleti, aşağıdakilerden hangisidir?

- A) Avrupa Hun Devleti
- B) Büyük Hun Devleti
- C) Kök Türk Devleti
- D) Uygur Devleti

### 10. Avrupa Hun Devleti'nin dış politikasının esasları, hangi Hun hükümdarı döneminde belirlenmiştir?

- A) Balamir
- B) Attila
- C) Uldız
- D) Rua

### 11. Kök Türkler, bağımsız devlet olmadan önce, aşağıdaki devletlerden hangisine bağlı olarak varlıklarını sürdürmüşlerdir?

- A) Avarlara
- B) Uygurlara
- C) Kırgızlara
- D) Yüçilere

### 12. Aşağıdakilerden hangisi, Kök Türk Devleti'ne son veren Türk topluluklarından biri değildir?

- A) Karluklar
- B) Uygurlar
- C) Basmiller
- D) Kırgızlara

### 13. Aşağıdakilerden hangisi dönemde halifelik, babadan oğula geçen saltanat hâline gelmiştir?

- A) Hz. Ömer
- B) Hz. Osman
- C) Hz. Muaviye
- D) Hz. Ebu Bekir

# 1. OTURUM

14. Aşağıdakilerden hangisi, Hz. Muhammed Dönemi'nde yapılan savaşlardan biri değildir?

- A) Bedir B) Talas  
C) Uhut D) Hendek

15. "Siyasetname" adlı eser, aşağıdakilerden hangisine aittir?

- A) Nizamülmülk B) Kaşgarlı Mahmut  
C) Gazneli Mahmut D) Yusuf Has Hacip

16. Aşağıdaki illerimizin hangisinde bor yatakları bulunmaz?

- A) Eskişehir B) Artvin  
C) Kütahya D) Balıkesir

17. Aşağıdaki yerlerden hangisinde nüfus kalabalıktır?

- A) Engelibeli araziler  
B) Çöller ve kutuplar  
C) Ulaşım olanaklarının zor olduğu bölgeler  
D) Önemli maden ve sanayi alanlarının bulunduğu iller

18. Sadece belirli bir grubun bir ülkeyi yönetmesiyle ortaya çıkan yönetim biçimi, aşağıdakilerden hangisidir?

- A) Monarşi B) Teokrasi  
C) Oligarşi D) Demokrasi

19. Dünyanın ilk Türk kadın savaş pilotu, aşağıdakilerden hangisidir?

- A) Sabiha Gökçen B) Müfide İlhan  
C) Lale Aytaman D) Süreyya Ağaoğlu

20. Aşağıdakilerden hangisi sosyal bilimlerden biri değildir?

- A) Sosyoloji B) Biyoloji  
C) Psikoloji D) Coğrafya

(607) İNGİLİZCE – 6

1 - 20. sorularda boş bırakılan yere uygun gelen kelime ya da ifadeyi işaretleyiniz.

1. She is - - - - actress.

- A) a B) an C) any D) the

2. Are you good - - - - baseball?

- A) in B) of C) at D) over

3. - - - - children are from Spain.

- A) These B) That C) They D) This

4. I am Kemal and he is - - - - son.

- A) mine B) its C) me D) my

5. There is a - - - - of jam on the table.

- A) glass B) loaf C) jar D) bar


6. How - - - - pencils are there in the pencil case?

- A) any B) many C) much D) some

7. I am going to visit my grandparents - - - - .

- A) next week B) every day  
C) right now D) at the moment

8.



She is a - - - - .

- A) pilot B) nurse  
C) doctor D) teacher

## 1. OTURUM

9.



The vase is - - - - the table.

- A) in                                      B) on  
C) under                                  D) next to


10.



You - - - - smoke here.

- A) may                                      B) must  
C) have to                                  D) mustn't

11.



A: What time is it?

B: - - - - .

- A) It's thirty to three  
B) It's half past three  
C) It's three o'clock  
D) It's three forty

12.



A: What is the weather like?

B: It is - - - - .

- A) snowy    B) windy    C) rainy    D) sunny

13. A: Do you like swimming?

B: Yes, I - - - - .

- A) do                                      B) does  
C) don't                                  D) doesn't

14. A: Can you ride a bike?

B: No, - - - - .

- A) he can                                  B) I can't  
C) you can                                D) she can't

15.



A: - - - - ?

B: Yes, it is.

- A) Is this a car  
B) Is that a watch  
C) Is this an umbrella  
D) Is that a school bag

16. A: How much is a bottle of water?

B: - - - - .

- A) It is ₺1  
B) It is Friday  
C) It is ten o'clock  
D) It is on the desk

17. A: - - - - ?

B: Hande.

- A) How old is she  
B) Who has got a car  
C) Has she got a pen  
D) Where are you from

18. A: What are you doing?

B: - - - - .

- A) I am watching TV  
B) I can drive a car  
C) I always get up early  
D) I am going to buy a TV

# 1. OTURUM

19. A: - - - - ?

B: I am Italian.

- A) What is your job
- B) What is your name
- C) Where are you from
- D) What is your nationality

20. A: - - - - ?

B: It is in the center of Turkey.

- A) What are you doing
- B) Is she from Adana
- C) Where do you like
- D) Where is Ankara

## (607) ALMANCA – 6

1 - 15. sorularda boş bırakılan yere uygun gelen kelime ya da ifadeyi işaretleyiniz.

1. A: - - - - das Herr Müller?

B: Nein, das ist Herr Klein.

- A) Ist
- B) Bist
- C) Sind
- D) Heißt

2. A: - - - - Monika?

B: Danke, es geht mir gut.

- A) Wer bist du
- B) Wie alt bist du
- C) Was bist du
- D) Wie geht es dir

3. A: Was - - - - sein Beruf?

B: Er ist Polizist.

- A) bin
- B) habt
- C) sind
- D) ist

4.



Das ist ein Haus.

Das ist - - - - Haus - - - - Mert.

- A) das / von
- B) die / von
- C) der / von
- D) sein / von

5. A: Was - - - - die Stifte?

B: 10 Lira.

- A) kostet
- B) nehmen
- C) kosten
- D) nehmt

6. Sonntag, - - - -, Dienstag

- A) Samstag
- B) Montag
- C) Mittwoch
- D) Donnerstag

7. Ali : Hallo Claudia, - - - - ?

Claudia : Es ist zehn Uhr.

- A) wie spät ist es
- B) was ist das
- C) wie heißt du
- D) woher kommst du

8. A: Ist das ein Kleid?

B: Nein, das ist - - - - Kleid.

- A) ein
- B) kein
- C) eine
- D) keine



9. A: Wie alt ist Esra?

B: - - - - ist neun Jahre alt.

- A) Er
- B) Sie
- C) Es
- D) Ihr

10. A: Wer - - - - du?

B: Ich - - - - Mehmet.

- A) ist / bist
- B) bist / bist
- C) bist / bin
- D) bin / bist

11. A: Wo - - - - du hin?

B: Ich - - - - ins Theater.

- A) gehen / geht
- B) ging / geht
- C) geht / gehst
- D) gehst / gehe

12. Sie - - - - Lehrerin.

- A) ist
- B) bin
- C) bist
- D) sein

# 1. OTURUM

13. Sie ist - - - - .

- A) lange B) schlank  
C) kurze D) grüne

14. Ist das - - - - Auto - - - - deinem Vater?

- A) das / von B) von / das  
C) der / von D) die / von

15. Am Montag - - - - er den ganzen Tag ---.

- A) fern / sieht B) sehe / fern  
C) sieht / fern D) sehen / fern

16. Aşağıdakilerden hangisi sıfattır? (Adjektiv)

- A) laufen B) lang  
C) essen D) trinken

17.



Was macht das Mädchen?

- A) singen B) schlafen  
C) trinken D) laufen

18. Aşağıdakilerden bir grupta yapıldığında hangisi uymaz.

Deutschland – Türkei – Berlin – England

1 2 3 4

- A) 1 B) 2 C) 3 D) 4

19. Aşağıda verilen sözcüklerle anlamlı bir cümle oluşturunuz.

fahre – nach – Ich – am Montag – Istanbul

1 2 3 4 5

- A) 3 – 2 – 5 – 1 – 4 B) 3 – 5 – 1 – 4 – 2  
C) 3 – 1 – 5 – 2 – 4 D) 3 – 1 – 4 – 2 – 5

20. “vierunddreißig” in sayı şekli aşağıdakilerden hangisidir?

- A) 14 B) 43 C) 34 D) 24

(607) FRANSIZCA – 6

1 - 15. sorularda boş bırakılan yere uygun gelen kelime ya da ifadeyi işaretleyiniz.

1. - - - - est japonais.

- A) Elle B) Il C) Je D) Tu

2. A: Il a quel âge?

B: - - - - .

- A) Elle habite à İzmir B) Elle parle italien  
C) Il est dentiste D) Il a treize ans

3. A: - - - - ?

B: Je suis allemand.

- A) Quelle est ta nationalité  
B) Où habites-tu?  
C) Tu as quel âge  
D) Quelle est ton adresse

4. A : - - - - vas-tu?

B : Très bien, merci.

- A) Pourquoi B) Quelle  
C) Comment D) Parce que

5. Marco est italien, mais il - - - - à Berlin.

- A) sommes B) avez  
C) habite D) habites

6. Je - - - - français et un peu anglais.

- A) parles B) parler C) parlé D) parle

# 1. OTURUM

7. Mon frère travaille - - - - Montréal - - - - Canada.

- A) en / à B) à / au C) en / au D) à / aux

8. Dans les pharmacies, on vend - - - - .

- A) des médicaments B) de la viande  
C) des gâteaux D) des fruits

9. - - - - est la pyramide de Kheops ?

- A) Quand B) Où  
C) Ou D) Combien

10. A: Tu es fiancée ?  
B: Oui, je suis - - - - .

- A) célibataire B) un vieil homme  
C) belle D) fiancée

11. A: Elle aime le chocolat chaud ?  
B: Non, elle - - - - le chocolat chaud.

- A) n'aime pas B) aimer  
C) ne pas aimer D) a aimé

12. A: - - - - vous appelez-vous ?  
B: Je m'appelle Bernard.

- A) Où B) Pourquoi  
C) Comment D) Quel

13. A: Pourquoi est-ce que tu manges au restaurant?  
B: - - - - j'ai très faim.

- A) Comment B) Quelle  
C) Parce que D) Combien

14. A: Tu connais Selim et son frère?  
B: Oui, je - - - - connais.

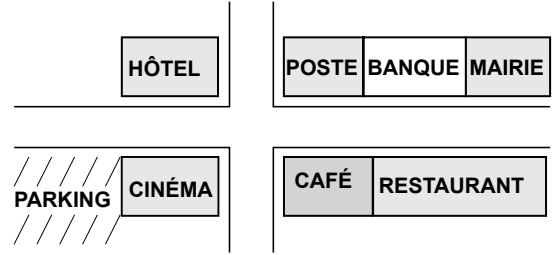
- A) la B) le C) lui D) les

15. A: Julie mange du gâteau ?  
B: Non, elle ne mange jamais - - - - gâteau.

- A) de B) la C) le D) des

16 - 20. soruları resimleri dikkate alarak cevaplayınız.

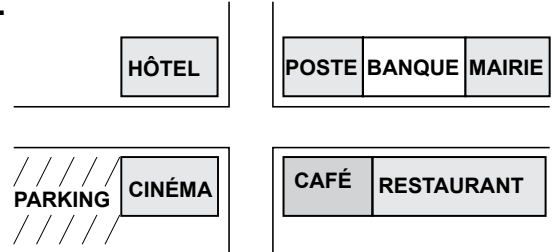
16.



Le parking est - - - - .

- A) devant la mairie B) à côté du cinéma  
C) en face du café D) derrière l'hôpital


17.



- - - - est entre la poste et la mairie.

- A) Le café B) Le parking  
C) Le cinéma D) La banque

18.



- A) Il est cinq heures et demie  
B) Il est sept heures  
C) Il est sept heures cinq  
D) Il est cinq heures et quart

19.



Il est - - - - .

- A) médecin B) dentiste  
C) ingénieur D) architecte

# 1. OTURUM

20.



Elle est - - - - et elle a les cheveux - - - - .

- A) sérieuse / longs et raides
- B) souriante / longs et frisés
- C) blond / longs et noirs
- A) pessimiste / courts et ondulés

## (608) DİN KÜL. VE AHLAK BİLGİSİ – 6

1. Peygamberler günden korunmuş kimselerdir. Ancak peygamberler de insan olmalarının gereği bazı ufak hatalar yapabilirler.  
**Peygamberlerin ufak hatalarına ne isim verilir?**  
A) Zenb B) Zelle C) İsmet D) Günah
2. Kendilerine kitap verilen peygamberlere ne isim verilir?  
A) Nebi B) Âlim C) Resul D) Evliya
3. Hz. İsa (as.)'ya aşağıdaki kitaplardan hangisi gönderilmiştir?  
A) İncil B) Suhuf C) Zebur D) Tevrat
4. "Senden önce gönderdiğimiz her peygambere: 'Benden başka ilah yoktur, bana kulluk edin.' diye vahyetmişizdir." (Enbiyâ suresi, 25. ayet)  
**Bu ayetten aşağıdaki sonuçlardan hangisi çıkarılamaz?**  
A) Tevhid, evrensel bir gerçekliktir.  
B) Peygamberler, insanları Allah'ın birliğine çağır-  
mışlardır.  
C) Peygamberler toplumun dini yapısını devam  
ettirmişlerdir.  
D) Hz. Muhammed (sav.)'den önce de peygam-  
berler gönderilmiştir.

5. "Savaşta müminler arasında bulunup da onlara namaz kıldırmanın zaman, onlardan bir kısmı seninle birlikte namaza dursunlar ve silahlarını da yanları-  
na alsınlar. Onlar secde ettikten sonra geri çekilip  
düşmana karşı dursunlar ve yerlerine henüz nama-  
za durmamış olan diğer topluluk gelsin. Onlar da  
tedbirli şekilde ve silahlarını yanlarına alarak seninle  
beraber namaz kılsınlar." (Nisâ suresi, 102. ayet)

**Bu ayetten çıkarılacak sonuç aşağıdakilerden hangisidir?**

- A) Namaz, savaşta da yerine getirilmesi gereken bir ibadettir.
- B) Savaşta Müslümanların bir kısmı namaz kıl-  
mamalıdır.
- C) Savaşta namazların bir kısmı kazaya bırakıl-  
malıdır.
- D) Namaz, savaş süresince terk edilmelidir.

6. Aşağıdakilerden hangisi namaza başlama tekbiridir?

- A) Kelime-i Tevhid B) Tekbir-i Kebir
- C) Teşrik tekbiri D) İftitah tekbiri

7. Aşağıdaki namazlardan hangisi farzdır?

- A) Teravih namazı B) Bayram namazı
- C) Cuma namazı D) Vitir namazı

8. Namaz kılariken farzlardan birisini yapmayan kişi hakkında aşağıdakilerden hangisi doğrudur?

- A) Namazı sehiv secdesi ile tamamlar.
- B) Namazı ve abdesti bozulur.
- C) Sadece namazı bozulur
- D) Sadece abdesti bozulur.

9. "Namaz, insanı hayâsızlıktan ve kötülükten alıko-  
yar..." (Ankebût suresi, 45. ayet)

**Bu ayeti kendisine ilke edinen bir Müslümandan aşağıdaki davranışlardan hangisi beklenmez?**

- A) Komşularıyla iyi geçinmesi
- B) Görevlerini yerine getirmesi
- C) İhtiyaç sahiplerine yardım etmesi
- D) Arkadaşlarının arkasından konuşması



# 1. OTURUM

10. Medine'nin Hicretten önceki adı aşağıdakilerden hangisidir?

- A) Habeşistan B) Yesrib  
C) Sakif D) Taif

11. Mescid-i Nebevi'nin (Peygamber Mescidi) yanında inşa edilen, İslam'ın ilk eğitim-öğretim merkezi aşağıdakilerden hangisidir?

- A) Suffa B) Dar'ul-Ulum  
C) Dar'ul-Erkam D) Medrese-i Yusufiye

12. Medine'de toplumsal barışı sağlamak için Hz. Peygamber (sav.) ile Medineli Yahudiler arasında yapılan antlaşma aşağıdakilerden hangisidir?

- A) Hudeybiye Antlaşması  
B) Kardeşlik Antlaşması  
C) Medine Sözleşmesi  
D) Akabe Biatları

13. Müşriklerle Müslümanlar arasında yapılan ikinci savaş aşağıdakilerden hangisidir?

- A) Hendek B) Tebük  
C) Bedir D) Uhud

14. Hz. Muhammed (sav.), Bedir savaşında esir alınan müşriklerden okuma-yazma bilenleri on Müslümana okuma-yazma öğretmeleri karşılığında serbest bırakmıştır.

**Bu durum Peygamberimizin aşağıdakilerden hangisine önem verdiğini göstermektedir?**

- A) Yardımlaşmaya B) Özgürlüğe  
C) Eşitliğe D) İlme

15. "Peygamber ve müminler Rab'lerinden indirilene iman ettiler. Hepsi Allah'a, meleklerle, kitaplara, peygamberlere inandılar..." (Bakara suresi, 285. ayet)

**Bu ayet Kur'an-ı Kerim'in hangi konusuna işaret etmektedir?**

- A) İnanç B) Ahlâk C) Kıssa D) İbadet

16. Kur'an-ı Kerim'de kıssası anlatılan ve sabır örneği olarak bilinen peygamber aşağıdakilerden hangisidir?

- A) Hz. Elyasa B) Hz. Davut  
C) Hz. Eyüp D) Hz. Şit

17. Haset ile ilgili olarak aşağıdakilerden hangisi söylenemez?

- A) İnsanlar arasında kin ve düşmanlık meydana getirir.  
B) Kıskançlık, çekememezlik gibi anlama gelir.  
C) Diğer insanlarda olan nimetlerden rahatsız olmaktır.  
D) Toplumda oluşan huzursuzlukları giderir.

18. "Bir kimseye günah olarak Müslüman kardeşini küçük görmesi yeterlidir."

**Bu hadiste belirtilen kötü davranış aşağıdakilerden hangisidir?**

- A) İftira atmak B) Alay etmek  
C) Gıybet yapmak D) Zanda bulunmak

19. Aşağıdakilerden hangisi İslam ahlâkıyla bağdaşan bir davranıştır?

- A) Anne ve babasına hürmet etmek  
B) Komşusunun özel hayatını araştırmak  
C) Kendisini başkalarından üstün görmek  
D) Arkadaşı hakkında olumsuz konuşmak

20. • Asıl adı Numan b. Sabit'tir.

- Lakabı İmam-ı Azam'dır.
- Fıkhu'l-Ekber isimli eseri vardır.

**Hakkında bilgi verilen âlim aşağıdakilerden hangisidir?**

- A) Maturidi B) Ebu Hanife  
C) Ahmet Yesevi D) Hacı Bektaş Veli

# 1. OTURUM

(701) TÜRKÇE – 7

1. Fatih ilk önce boş bardağı eline aldı.

Aşağıda verilen kelimelerden hangisi bu cümledeki kelimelerden birinin zıt anlamlısı değildir?

A) Dolu B) Uzak C) Son D) Sonra

2. “Yakmak” kelimesi aşağıdakilerin hangisinde mecaz anlamda kullanılmıştır?

A) Bugün güneş yakıyor.  
B) Eteği ütülerken yaktı.  
C) Fırtına ekinleri yakmıştı.  
D) Konuşurken dikkatli ol, beni yakma.

3. Herkes buluş yapabilir, problem çözmeyi seven herkes. Buluşlar tarihine geçen Edison da büyük olasılıkla problem çözmeyi seviyordu. Bir de çalışmayı... Ona göre çok çalışmak zekâdan daha önemliydi.

Bu parçada aşağıdaki düşünceyi geliştirme yollarından hangisine başvurulmuştur?

A) Tanımlama B) Benzetme  
C) Tanık gösterme D) Örneklendirme

4. Bilmem ki nasıl anlatsam;  
Nasıl, nasıl, size derdimi!  
Bir dert ki yürekler acısı  
Bir dert ki düşman başına.  
Gönül yarası desem...  
Değil!  
Ekmek parası desem...  
Değil!  
Bir dert ki...  
Dayanılır şey değil.

Bu şiirin ana duygusu aşağıdakilerden hangisidir?

A) Pişmanlık B) Özlem  
C) Çaresizlik D) Merak

5. Aşağıdakilerden hangisi iyi bir dinleyici olmak için yararlanılması gereken dinleme yöntem ve tekniklerinden biri değildir?

A) İstekli dinleme B) Amaçlı dinleme  
C) Seçici dinleme D) Katılımsız dinleme

6. Amacı, “metnin yapısını, dilini; metinde yer alan şahıs ve varlık kadrosunun özelliklerinin anlaşılmasını sağlamak” olan okuma yöntemi aşağıdakilerden hangisidir?

A) Not alarak okuma  
B) Okuma tiyatrosu  
C) Soru sorarak okuma  
D) Söz korusu

7. Muhtelif toplantılarda yapılan konuşmaları, söylenen sözleri herhangi bir olayın şekil ve sonuçlarını bildiren imzalı yazılara ---- denir.

Bu cümlede boş bırakılan yere aşağıdakilerden hangisi getirilmelidir?

A) tutanak B) rapor  
C) mektup D) söyleşi

8. Amacı, “dinleyicileri konuşma sürecine katarak konunun anlaşılmasını kolaylaştırmak ve konuya farklı bakış açıları getirmek” olan konuşma çeşidi aşağıdakilerden hangisidir?

A) İkna ederek konuşma  
B) Eleştirel konuşma  
C) Katılımlı konuşma  
D) Serbest konuşma

9. Aşağıdakilerden hangisi tartışmalı konuşma çeşitlerinden biri değildir?

A) Panelde yapılan konuşma  
B) Sempozyumda yapılan konuşma  
C) Konferansta yapılan konuşma  
D) Açık oturumda yapılan konuşma

# 1. OTURUM

10. Aşağıdakilerden hangisi öğretici metinlerden biri değildir?

- A) Makale B) Roman  
C) Eleştiri D) Röportaj

11. Bir kelimenin ses hece uzunluğu, kalınlık ve vurgu yönünden söylenme biçimine verilen ad aşağıdakilerden hangisidir?

- A) Telaffuz B) Duraklama  
C) Tonlama D) Vurgu

12. Aşağıdakilerden hangisi dinlemede güçlük yaratan nedenlerden biri değildir?

- A) Konuya ilgi duymak  
B) Duyuma özürlü olmak  
C) Konuşanın sesini duymamak  
D) Oturduğu yerde rahat edememek

13. Aşağıdaki sorulardan hangisinin cevabı zarf olmaz?

- A) Üniversiteyi ne zaman bitirdiniz?  
B) Ne zamandan beri sinemaya gitmiyorsun?  
C) Nasıl bir araç almayı düşünüyorsun?  
D) Konferansta bu konuyu ne kadar konuştunuz?

14. Aşağıdaki cümlelerin hangisinde çekimli fiil yoktur?

- A) Kaç kere bu koltukta uzanıp dinlendim.  
B) Sen roman okumayı seviyorsun.  
C) Heyecan senin için iyi değil.  
D) Program çerçevesinde çadır kentler kuruldu.

15. “Koş-” filinin “istek kipi 1. çoğul kişiye” göre çekimi aşağıdakilerden hangisidir?

- A) Koşayım B) Koşalım  
C) Koşsam D) Koşsak

16. Aşağıdaki fiillerden hangisi “oluş” bildirmektedir?

- A) Çocuk ağacı baltayla kesti.  
B) Binanın planlarını o çizdi.  
C) Yemekten önce biraz uzandım.  
D) Bahçemizdeki ağaçlar yeşerdi.

17. Aşağıdaki yüklemelerden hangisi süreklilik anlamı taşımaktadır?

- A) Terli terli su içtiğinden hastalandı.  
B) Yaşanılanlara ağızım açık bakakaldım.  
C) Aldığı masalı bir solukta okuyuverdi.  
D) Tiyatroda öyle sıkıldım ki çıkayazdım.

18. Arkadaşın kötüsü çalışanlardan rahatsız olur. Başarılı olmayı küçümser, alaya alır. Seni kendine benzetmek ve kendi düştüğü çukura sürüklemek için başvuracak çare arar. “Gençliğini yaşa kardeşim, baksana çalışanların başı göğe mi eriyor?” gibi sözlerle sizin manevi enerjinizi kırar ve ruhsal bir gevşeklik yaratır.

**Bu parçadan aşağıdaki yargılardan hangisi çıkarılamaz?**

- A) Kişi arkadaş seçerken çok dikkatli olmalıdır.  
B) Kötü arkadaş insanı olumsuz etkiler.  
C) İnsanlar hiç çalışmadan da başarılı olabilir.  
D) Tembel biriyle arkadaşlık yapmak insanı tembelleştirir.

19. Aşağıdaki cümlelerin hangisinde zaman kayması vardır?

- A) Teyzem bu haberi alınca çok sevinir.  
B) Bana sepetleri, sandığı indirmeye yardım etti.  
C) Otobüs bir yol kavşağına yaklaşıyor.  
D) Üstüne başına çekidüzen vermeyi unutma.

20. Uzakta geniş ( ) güzel ( ) yemyeşil bir arazi ( ) Çiftliklerin çitleri ve uzaktan çiftlik evleri görünüyor ( )

**Bu parçada boş bırakılan yerlere sırasıyla aşağıdaki noktalama işaretlerinden hangileri getirilmelidir?**

- A) ( , ) ( , ) ( ... ) ( . ) B) ( , ) ( ! ) ( . ) ( . )  
C) ( ; ) ( , ) ( ! ) ( ! ) D) ( ; ) ( , ) ( . ) ( ? )

# 1. OTURUM

## (702) MATEMATİK – 7

1.  $3! - 4! : 6$  işleminin sonucu kaçtır?

- A) -6 B) -3 C) 2 D) 4

2. Aşağıdakilerden hangisi sayı doğrusunda  $\frac{7}{4}$  ile  $\frac{29}{8}$  rasyonel sayıları arasındadır?

- A) 1 B)  $\frac{9}{2}$  C)  $\frac{15}{4}$  D)  $\frac{39}{16}$

3. Depodaki 1000 litrelik suyun önce  $\frac{1}{4}$ 'i sonra kalan suyun  $\frac{3}{5}$ 'ü kullanılıyor. Depoda kaç litre su kalmıştır?

- A) 250 B) 300 C) 450 D) 750

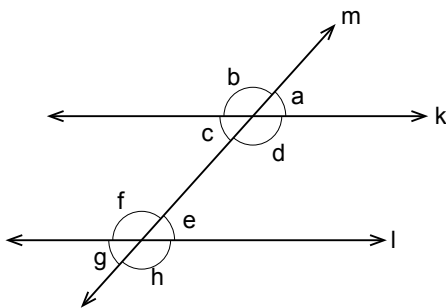
4. Aynı iş gücüne sahip 5 işçi bir işi 12 saatte yapmaktadır. Bu işçilerden 3'ü aynı işi kaç saatte yapabilir?

- A) 16 B) 20 C) 24 D) 28

5. KDV'siz fiyatı 150 lira olan bir ürüne %8 KDV uygulanacaktır. Bu ürünün KDV dahil satış fiyatı kaç lira olur?

- A) 150 B) 158 C) 162 D) 170

6.



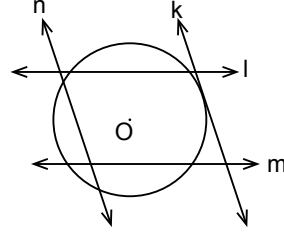
Yukarıdaki şekilde  $k \parallel l$  ve  $a < 90^\circ$  dir. Buna göre aşağıdaki açılardan hangisinin ölçüsü diğerlerinden farklıdır?

- A) c B) e C) g D) h

7. Bir iç açısının ölçüsü  $120^\circ$  olan düzgün çokgenin iç açılarının ölçüleri toplamı kaç derecedir?

- A) 720 B) 540 C) 360 D) 240

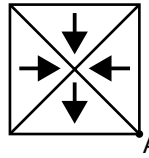
8.



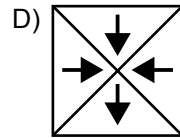
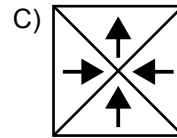
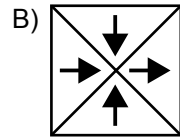
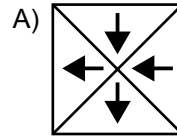
Şekildeki doğrulardan hangisi O merkezli çembere teğettir?

- A) k B) l C) m D) n

9.



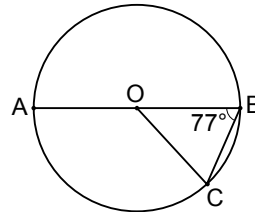
Aşağıdakilerden hangisi yandaki şeklin A noktası etrafında  $180^\circ$  döndürülmesiyle elde edilir?



10.  $\left(\frac{13}{22} - \frac{5}{11}\right) + 1$  işleminin sonucu kaçtır?

- A)  $\frac{9}{11}$  B)  $\frac{19}{11}$  C)  $\frac{4}{22}$  D)  $\frac{25}{22}$

11.



Yukarıdaki O merkezli çemberde  $[AB]$  çaptır.  $s(\widehat{OBC}) = 77^\circ$  olduğuna göre  $s(\widehat{BOC})$  kaç derecedir?

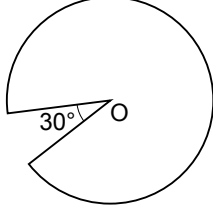
- A) 26 B) 34 C) 54 D) 103

# 1. OTURUM

12. Kenar uzunlukları doğal sayı ve çevresinin uzunluğu 14 cm olan dikdörtgenin alanı en fazla kaç santimetrekaredir?

- A) 6 B) 10 C) 12 D) 14

13.



Yukarıda yarıçapının uzunluğu 6 cm olan O merkezli dairesel bir kartondan merkez açısı  $30^\circ$  olan bir dilim şeklindeki gibi kesilerek çıkarılmıştır. Kalan kartonun çevresi kaç santimetredir? ( $\pi$ 'yi 3 alınız.)

- A) 24 B) 33 C) 36 D) 45

14. Yarıçapı 5 cm ve yüksekliği 6 cm olan dik dairesel silindirin yanal yüzeyinin alanı kaç santimetrekaredir? ( $\pi$ 'yi 3 alınız.)

- A) 120 B) 180 C) 255 D) 330

15. Yarıçapının uzunluğu 4 cm, yüksekliği 10 cm olan dik dairesel silindir şeklindeki bir bardağın hacmi kaç santimetreküptür? ( $\pi$ 'yi 3 alınız.)

- A) 240 B) 360 C) 480 D) 600

16. 12 kişilik bir grupta 1 başkan ve 1 başkan yardımcısı kaç farklı şekilde seçilebilir?

- A) 12 B) 33 C) 120 D) 132

17. 1'den 10'a kadar tüm doğal sayılar birer birer 10 eş karta yazılarak bir kutuya atılıyor. Kutudan rastgele çekilen bir kartın üzerinde çift veya 3'ün katı bir sayı olma olasılığı nedir?

- A)  $\frac{3}{10}$  B)  $\frac{5}{10}$  C)  $\frac{7}{10}$  D)  $\frac{9}{10}$

18. Tablo: Günlere Göre Okunan Sayfa Sayısı

Günler	Pazartesi	Salı	Çarşamba	Perşembe	Cuma	Cumartesi	Pazar
Sayfa Sayıları	11	12	17	13	11	15	10

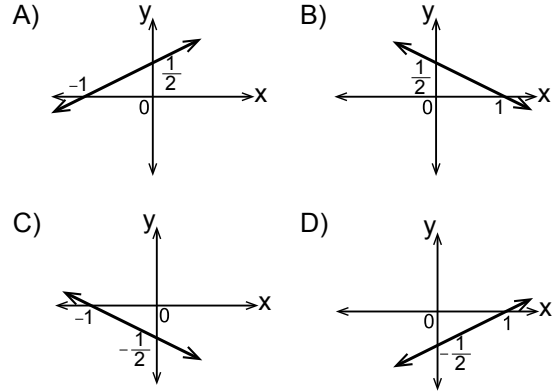
Yukarıdaki tabloda günlere göre bir kitaptan okunan sayfa sayıları verilmiştir. Buna göre tablodaki verilerin tepe değeri kaçtır?

- A) 10 B) 11 C) 15 D) 17

19.  $(3x + 7) \cdot 2x$  cebirsel ifadesi aşağıdakilerden hangisine eşittir?

- A)  $6x^2 + 14x$  B)  $6x^2 + 14$   
C)  $6 + 14x$  D)  $6x + 14x^2$

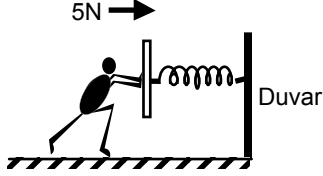
20.  $2y = x + 1$  denkleminin grafiği aşağıdakilerden hangisidir?



# 1. OTURUM

## (703) FEN VE TEKNOLOJİ – 7

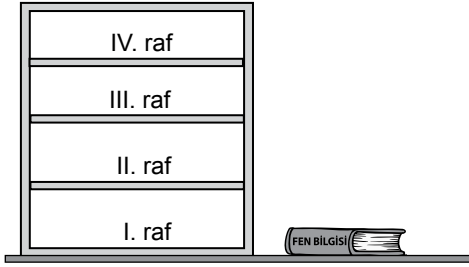
1. Ali, sürtünmenin önemsenmediği bir yerde duvara sabitlenmiş şekildeki yaya ok ile gösterilen yönde 5N'luk kuvvet uyguluyor.



Buna göre, yayın Ali'ye uyguladığı kuvvetin büyüklüğü ve yönü aşağıdakilerin hangisinde doğru verilmiştir?

	Kuvvetin büyüklüğü	Kuvvetin yönü
A)	4N	←
B)	5N	←
C)	4N	→
D)	5N	→

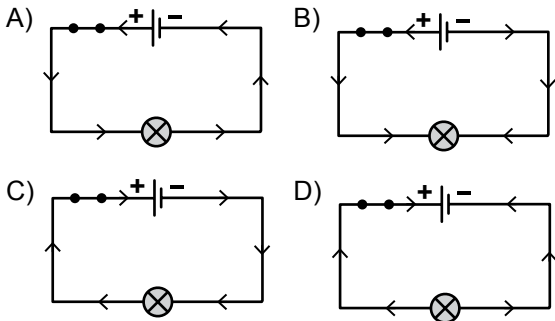
- 2.



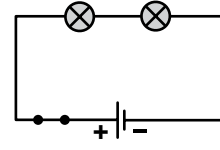
Şekildeki Fen Bilgisi kitabı, kitaplığın kaçınca rafına konulursa çekim potansiyel enerjisi en büyük olur?

- A) I. B) II. C) III. D) IV.

3. Akımın yönü aşağıdaki elektrik devrelerinden hangisinde doğru gösterilmiştir?



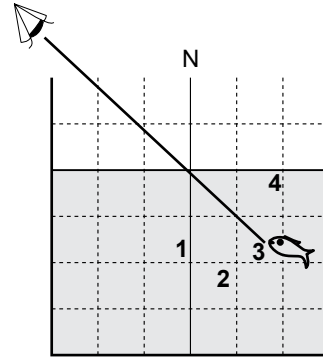
4. Pil, bağlantı kablosu, anahtar ve özdeş ampuller kullanılarak şekildeki elektrik devresi kuruluyor.



Bu devre ile ilgili aşağıdakilerden hangisi doğrudur?

- A) Ampullerden biri arızalanırsa diğeri ışık vermeye devam eder.  
B) Ampul sayısı artırılırsa ilk duruma göre ampul parlaklığı değişmez.  
C) Ampullerin hepsinden aynı akım geçer.  
D) Ampuller paralel bağlıdır.

5. Havadan suya bakan bir kişi, sudaki balığın yerini şekildeki gibi görmüştür.



Buna göre, balığın gerçek yeri numaralandırılmış bölgelerden hangisi olabilir?

- A) 1 B) 2 C) 3 D) 4

6. I. İnce kenarlı mercek görevi görmeleri  
II. Kalın kenarlı mercek görevi görmeleri  
III. Işığı bir noktada toplamaları  
IV. Işığı dağıtarak kırmaları

Ormanlık alanlara bırakılan cam atıkların, güneşli havalarda yangın riski oluşturmalarının sebebi yukarıdakilerden hangileridir?

- A) I ve III B) II ve IV  
C) I ve IV D) II ve III

# 1. OTURUM

7. Aşağıda verilen gök cisimlerinden hangisi yıldızdır?

- A) Satürn B) Andromeda  
C) Güneş D) Meteor

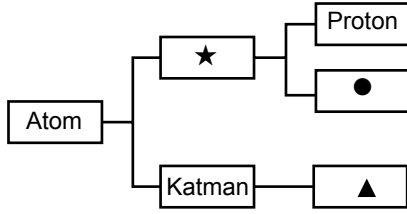
8. Bazı gök cisimleri ile ilgili bilgiler verilmiştir.

- Dünya dışındaki evren parçasına .....I..... denir.
- Dünya .....II..... gök adasının içerisinde yer alır.

Buna göre, I ve II ile gösterilen yerlere aşağıdakilerin hangisinde verilenler yazılmalıdır?

	I	II
A)	Uzay	Sombrero
B)	Uzay	Samanyolu
C)	Güneş sistemi	Samanyolu
D)	Güneş sistemi	Sombrero

9. Atomun yapısı şema ile gösterilmiştir.



Şemaya göre ★, ● ve ▲ ile verilen kısımlara aşağıdakilerden hangisi yazılmalıdır?

	★	●	▲
A)	Elektron	Nötron	Çekirdek
B)	Nötron	Çekirdek	Elektron
C)	Çekirdek	Elektron	Nötron
D)	Çekirdek	Nötron	Elektron

10. Son katmanında 8 elektron bulunduran bir atom ile ilgili aşağıdakilerden hangisi doğrudur?

- A) Kararlı yapıdadır.  
B) Elektron almaya yatkındır.  
C) İyon hâli katyondur.  
D) Negatif yüklü iyonudur.

11.  $N^{2-}$  ile aşağıda verilen taneciklerden hangisi arasında kovalent bağ oluşur?

- A)  $Mg^{2+}$  B)  $K^+$   
C)  $O^{2-}$  D) Ar

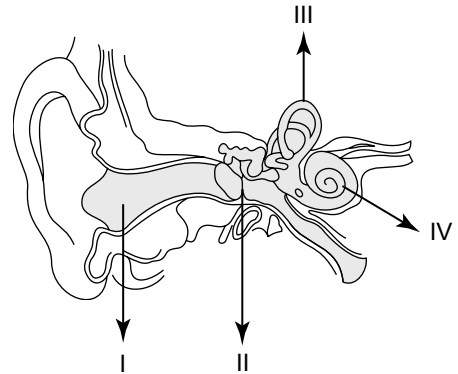
12. Formülü  $SO_2$  olan bir madde ile ilgili aşağıdakilerden hangisi doğrudur?

- A) Karışımdır.  
B) Adı kükürtdioksittir.  
C) Formülündeki atom sayısı ikidir.  
D) Yapısında üç çeşit element bulunur.

13. Özdeş kaplarda bulunan aşağıdaki tuzlu su çözeltilerinden hangisi en seyreltiktir?

A)	3g tuz 100mL su	B)	4g tuz 100mL su
C)	2g tuz 50mL su	D)	1g tuz 50mL su

14.



Şekilde verilen kulak resminde kaç numaralı kısım vücut dengesinin sağlanmasında etkilidir?

- A) I. B) II. C) III. D) IV.

15. Sindirim sisteminin sağlığını korumak için yapılan aşağıdaki uygulamalardan hangisi doğrudur?

- A) Lokmaları küçük alıp yavaş çiğnemek  
B) Yemek sırasında bol su içmek  
C) Et ve süt ürünlerini çiğ tüketmek  
D) Salatayı çiğ olarak yemekten sonra tüketmek

# 1. OTURUM

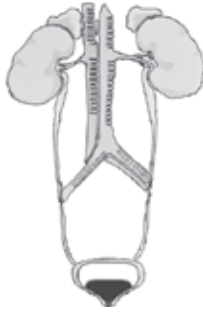
16. Tabloda şekillerle gösterilmiş olan bazı sindirim organlarının görevleri verilmiştir.

Görevli organ	Kimyasal sindirim	Besin emilimi
●	Var	Yok
▲	Yok	Yok
■	Var	Var
★	Yok	Var

Buna göre hangi şekil ince bağırsağı gösterir?

- A) ● B) ▲ C) ■ D) ★

17.



Şekilde vücudumuzdaki bazı yapı ve organlar verilmiştir. Aşağıdaki olaylardan hangisi bu yapı ve organlar tarafından gerçekleştirilmez?

- A) Kandaki karbondioksitin oksijenle yer değiştirmesi  
B) Kandaki zararlı maddelerin süzülmesi  
C) Sıvı atıkların vücut dışına atılması  
D) İdrarın oluşturulması

18. Ahmet hafta sonu, içinde göl bulunan bir ormandaki yaşam alanında gözlemler yapmıştır.

Ahmet'in aşağıdaki ifadelerinden hangisi bu yaşam alanındaki bir popülasyona örnektir?

- A) Göldeki balık türleri  
B) Ormandaki tüm hayvanlar  
C) Göl çevresindeki tüm bitki türleri  
D) Ormandaki geyikler

19. Aşağıdakilerden hangisi ülkemizdeki biyolojik zenginliğin korunması için yapılan uygulamalardan değildir?

- A) Canlı türlerinin kendi habitatlarında koruma altına alınması  
B) Erozyonu önlemek için gerekli önlemlerin alınması  
C) Av yasaklarına uyulup uyulmadığının denetlenmesi  
D) Her bölgede aynı türlerin yetiştirilmeye çalışılması

20. Aşağıdakilerden hangisi hava kirliliğinin önlenmesinde etkili değildir?

- A) Linyit kömürü yerine jeotermal enerji kullanılması  
B) Özel otomobiller yerine toplu taşıma ile ulaşımın yaygınlaştırılması  
C) Konut ve iş yeri ısınmasında tamamen fosil yakıt kullanılması  
D) Bütün motorlu taşıt egzozlarına filtre takılması

(806) TC İNK. TAR. VE ATATÜRK. – 8

1. Vatan ve Hürriyet Cemiyeti, aşağıdakilerden hangisi tarafından kurulmuştur?

- A) Fethi Okyar  
B) Kâzım Karabekir  
C) Ali Fuat Cebesoy  
D) Mustafa Kemal Atatürk

2. Aşağıdakilerden hangisi, Mustafa Kemal'in düşünce hayatının oluşmasında etkili olan şehirlerden biri değildir?

- A) Konya B) Sofya C) Selanik D) İstanbul

3. I. Dünya Savaşı sonunda İtilaf Devletleri ile Bulgaristan arasında imzalanan antlaşma, aşağıdakilerden hangisidir?

- A) Versay B) Nöyyi  
C) Triyanon D) Sen Cermen

4. Aşağıdakilerden hangisi, azınlıkların kurdukları cemiyetlerden biri değildir?

- A) İngiliz Muhipler Cemiyeti  
B) Mavri Mira Cemiyeti  
C) Pontus Cemiyeti  
D) Hınçak Cemiyeti

5. Kurtuluş Savaşı'nın programı, aşağıdakilerden hangisiyle ortaya konulmuştur?

- A) Havza Genelgesi B) Sivas Kongresi  
C) Amasya Genelgesi D) Erzurum Kongresi



# 1. OTURUM

6. Aşağıdakilerden hangisi, “Elviye-i Selase” denilen şehirlerden biri değildir?

- A) Ardahan B) Erzurum  
C) Batum D) Kars

7. Kurtuluş Savaşı'nın Doğu Cephesi'nde, aşağıdakilerden hangisine karşı mücadele edilmiştir?

- A) Ermeniler B) Fransızlar  
C) İngilizler D) Yunanlılar

8. Aşağıdakilerden hangisi, Sakarya Zaferi'nin siyasi sonuçlarından biridir?

- A) Moskova Antlaşması  
B) Londra Konferansı  
C) Gümrü Antlaşması  
D) Kars Antlaşması

9. Mondros Ateşkes Antlaşması'ndan sonra, Anadolu'yu işgal eden aşağıdaki devletlerden hangisine karşı cephe açılmamıştır?

- A) Fransızlar B) İtalyanlar  
C) Ermeniler D) Yunanlılar

10. Lozan Antlaşması ile Karaağaç'ı Türkiye'ye savaş tazminatı olarak veren devlet, aşağıdakilerden hangisidir?

- A) Yunanistan B) İngiltere  
C) İtalya D) Fransa

11. “Misak-ı İktisadi” diye bilinen “Ekonomi Andı”, aşağıdakilerin hangisinde kabul edilmiştir?

- A) Sivas Kongresi'nde  
B) Havza Genelgesi'nde  
C) Erzurum Kongresi'nde  
D) Türkiye İktisat Kongresi'nde

12. Ülkemizde faaliyet gösteren tüm eğitim kurumları, aşağıdaki kanunlardan hangisiyle Millî Eğitim Bakanlığına bağlanmıştır?

- A) Medeni Kanun  
B) Soyadı Kanunu  
C) Kabotaj Kanunu  
D) Tevhid-i Tedrisat Kanunu

13. Serbest Cumhuriyet Fırkası, aşağıdakilerden hangisi tarafından kurulmuştur?

- A) Kâzım Karabekir B) Ali Fethi Okyar  
C) Rauf Orbay D) İsmet İnönü

14. Aşağıdaki kanunlardan hangisinin çıkmasında Şeyh Said İsyanı etkili olmuştur?

- A) Soyadı Kanunu  
B) Kabotaj Kanunu  
C) Takrir-i Sükûn Kanunu  
D) Tevhid-i Tedrisat Kanunu

15. Atatürk'ün ekonomi alanındaki görüşlerini içeren ilke, aşağıdakilerden hangisidir?

- A) Cumhuriyetçilik B) Milliyetçilik  
C) Halkçılık D) Devletçilik

16. Aşağıdaki inkıaplardan hangisiyle, millî kültürün korunması ve geliştirilmesi amaçlanmıştır?

- A) Soyadı Kanunu'nun çıkarılmasıyla  
B) Hıfzıssıhha Dairesinin açılmasıyla  
C) Türk Tarih Kurumunun kurulmasıyla  
D) Türk Medeni Kanunu'nun kabul edilmesiyle

17. Türkiye ile Yunanistan arasında gerçekleşen mübadele, aşağıdaki konulardan hangisiyle ilgilidir?

- A) Azınlıklar B) Boğazlar  
C) Borçlar D) Sınırlar

18. Aşağıdakilerden hangisi Sadabat Paketi'nin imzalayan devletlerden biri değildir?

- A) Afganistan B) Pakistan  
C) İran D) Irak

19. Türkiye'de gösterime giren ilk renkli Türk filmi, aşağıdakilerden hangisidir?

- A) “Susuz Yaz” B) “Halıcı Kız”  
C) “Vurun Kahpeye” D) “Yaprak Dökümü”

# 1. OTURUM

20. Aşağıdaki tarihlerden hangisinde ülkemizde, demokrasiyi kesintiye uğratan askerî müdahale olmamıştır?

- A) 27 Mayıs 1960      B) 12 Mart 1971  
C) 12 Eylül 1980      D) 15 Ekim 1990

## (807) İNGİLİZCE – 8

1 - 20. sorularda boş bırakılan yere uygun gelen kelime ya da ifadeyi işaretleyiniz.

1. I haven't seen him - - - - last week.

- A) as      B) for      C) then      D) since

2. Alp hasn't had breakfast - - - - .

- A) yet      B) just  
C) ever      D) already

3. - - - - I were rich, I wouldn't work.

- A) To      B) If      C) At      D) Up

4. How - - - - money do you have?

- A) any      B) some      C) much      D) many

5. I need a - - - - of bread.

- A) loaf      B) bar      C) jar      D) can

6. He will buy - - - - a motorbike or a car with the money.

- A) too      B) many      C) either      D) neither

7. The car - - - - he drives is very old.

- A) who      B) when      C) where      D) which

8. Aydın is too - - - - to climb that mountain.

- A) old      B) dirty  
C) cheap      D) expensive

9. Akın always does his homework regularly. He is a - - - - student.

- A) lazy      B) slow  
C) beautiful      D) hardworking

10. Istanbul is the - - - - city in Turkey.

- A) crowded      B) crowded than  
C) most crowded      D) more crowded

11. We can't go there on foot - - - - it is a long way from here.

- A) yet      B) why  
C) never      D) because

12. I - - - - go to theatre than stay at home.

- A) would rather      B) prefer  
C) should      D) need

13. Would you mind - - - - us alone for a few minutes?

- A) left      B) leaving  
C) to leave      D) is leaving

14. Ayça doesn't - - - - ill.

- A) feel      B) taste      C) smell      D) touch

15. They - - - - their grandparents yesterday.

- A) visit      B) visited      C) visiting      D) to visit

16. If I win the race, I - - - - a gold medal.

- A) got      B) will get  
C) am getting      D) would get

17. The kidnappers - - - - by the police two days ago.

- A) catch      B) is catching  
C) are caught      D) were caught

18. Ayşe married a handsome man - - - - .

- A) tomorrow      B) next week  
C) last month      D) at the moment

# 1. OTURUM

19. My brother was sleeping while - - - - .

- A) she will be at work
- B) we were watching a movie
- C) they are cleaning the room
- D) I have finished the project

20. A: I need to lose weight.

B: - - - - .

- A) You should do sports
- B) We're supposed to come
- C) He'd better not speak
- D) I prefer money to love

## (807) ALMANCA – 8

1 - 19. sorularda boş bırakılan yere uygun gelen ek, kelime ya da ifadeyi işaretleyiniz.

1. In Istanbul leben viele reich- - - - Menschen.

- A) -e
- B) -en
- C) -t
- D) --

2. kalt, - - - -, am kältesten

- A) kalte
- B) kälter
- C) kalten
- D) kälteste

3. Markus und Susanne - - - - einen Salat.

- A) trinke
- B) esse
- C) trinken
- D) essen

4. Die Schüler freuen - - - - auf die Ferien.

- A) ich
- B) dich
- C) sich
- D) sie

5. - - - - machst du am Sonntag?

- A) Was
- B) Wer
- C) Wie
- D) Wann

6. Merve ist - - - - als Sibel.

- A) dünn
- B) dünner
- C) groß
- D) klein

7. A: Wem gehört die Tasche?

B: Die Tasche gehört - - - - Frau.

- A) dem
- B) den
- C) die
- D) der

8. Unser Bus - - - - nach Samsun.

- A) fahre
- B) fahren
- C) fährt
- D) gefahren

9. - - - - ich Zahnschmerzen habe, gehe ich zum Zahnarzt.

- A) Wie
- B) Wenn
- C) Was
- D) Wer

10. Der Zug - - - - nach Adana. (Präteritum)

- A) fahren
- B) fuhr
- C) gefahren
- D) fährt

11. Ahmet putzt - - - - Schuhe.

- A) dein
- B) mein
- C) sein
- D) seine

12. Die alt- - - - Männer. (Plural)

- A) -en
- B) -e
- C) -es
- D) -er

13. Der Arzt hört den Herz - - - - Krank- - - - an.

- A) der / -e
- B) die / -e
- C) des / -en
- D) den / -en

14. Das Haus, - - - - wir gekauft haben, ist am Meer.

- A) der
- B) dem
- C) die
- D) das

15. Wir - - - - euch kennen lernen.

- A) möchten
- B) will
- C) kann
- D) wollte

16. - - - - Buch ist interessant.

- A) Dies
- B) Diese
- C) Dieses
- D) Diesen

# 1. OTURUM

17. A: Wie gefällt - - - - das Hotel?  
B: Sehr schön.

- A) du                                      B) dich  
C) mich                                     D) Ihnen

18. Ich bin so - - - - wie Hasan.

- A) groß                                     B) größer  
C) größte                                   D) am größten

19. - - - - isst du zum Frühstück?

- A) Wer      B) Was      C) Wem      D) Wie

20. Aşağıdakilerden hangisi fiildir? (Verb)

- A) leise                                     B) laut  
C) sprechen                                D) kurz

## (807) FRANSIZCA – 8

1 - 15. sorularda boş bırakılan yere uygun gelen kelime ya da ifadeyi işaretleyiniz.

1. - - - - est arrivé tard à cause de la neige.

- A) Je      B) Tu      C) Elles      D) Il

2. Mon frère - - - - un voyage en Europe en 2014.

- A) a fait                                     B) est fait  
C) es fait                                     D) vas faire

3. Elle habite - - - - Tokyo - - - - Japon depuis deux ans.

- A) en / au                                    B) à / au  
C) à / en                                      D) au / aux

4. Pour acheter des pommes de terre je vais chez - - - - .

- A) le crémier  
B) le boucher  
C) le marchand de légumes  
D) le boulanger

5. Mon père a 48 ans ; ma mère a 50 ans.

Mon père est - - - - que ma mère

- A) plus âgé                                 B) moins âgé  
C) aussi âgé                                D) aussi jeune

6. Pierre a acheté cinq chemises et trois cravates.

Alors, il a acheté - - - - de chemises que de cravates

- A) plus      B) tant      C) moins      D) autant

7. Comme boisson, - - - - un café au lait.

- A) dînez                                     B) mangez  
C) buvez                                      D) déjeunez

8. L'eau minérale coûte un euro - - - - .

- A) le kilo                                     B) le mètre carré  
C) le mètre                                   D) le litre

9. A: C'est - - - - le commissariat ?

B: Il est à côté de la banque.

- A) quand                                    B) où  
C) ou                                         D) combien

10. Pour aller aux États-Unis, ils - - - - en avion.

- A) visitent                                   B) voient  
C) devient                                   D) voyagent

11. Voilà le roman - - - - j'ai lu la semaine dernière.

- A) qui      B) dont      C) que      D) où

12. J'aime les petites voitures économiques - - - - roulent vite.

- A) où                                         B) que  
C) pourquoi                                D) qui

## 1. OTURUM

13. M.Toprak a 86 ans, c'est - - - - .

- A) une vieille dame      B) une jeune femme  
C) une fille blonde      D) un vieux monsieur

14. Si vous faites du sport, vous - - - - jeune.


- A) resterez      B) sommes resté  
C) restera      D) resterons

15. Je (J') - - - - sortir quand tu es rentré.

- A) est allée      B) allais  
C) es allé      D) va aller

16-20. soruları resimleri dikkate alarak cevaplayınız.

16.



Elle fait - - - - .

- A) du cheval      B) de l'alpinisme  
C) du cinéma      D) de la peinture

17.



Pierre ne peut pas porter sa valise parce qu'il a - - - - .

- A) mal au ventre      B) mal au dos  
C) le bras cassé      D) le nez cassé

18.



Quand il neige, ils - - - - dans le parc.

- A) se lavent      B) se couchent  
C) se peignent      D) se promènent

19.



Il - - - - son manteau en courant.

- A) met      B) danse  
C) pleure      D) cherche

20.



Elle a mal - - - - .

- A) au dos      B) aux pieds  
C) aux dents      D) au ventre

# 1. OTURUM

## (808) DİN KÜL. VE AHLAK BİLGİSİ – 8

1. “O (Allah), insanı alaktan (embriyodan) yarattı.”  
(Alak suresi, 2. ayet)

**Bu ayette hangi evrensel yasadan bahsedilmektedir?**

- A) Fiziksel B) Biyolojik  
C) Kimyasal D) Toplumsal

2. Canlıların ihtiyaç duyduğu ve yararlandığı, Allah tarafından sağlanan her türlü nimet anlamına gelen kavram aşağıdakilerden hangisidir?

- A) Rızık B) İrade  
C) Kader D) Tevekkül

3. Zekât ile ilgili olarak aşağıdakilerden hangisi yanlıştır?

- A) Her türlü maldan 1/40 oranında verilir.  
B) Artma, bereket, arınma anlamlarına gelir.  
C) Kişi, bakmakla yükümlü olduğu kişilere zekât veremez.  
D) Zekât vermek için gerekli olan mal miktarına “nisap” denir.

4. Sadaka-i Cariye ile ilgili olarak aşağıdakilerden hangisi yanlıştır?

- A) Sevabı sürekli ve öldükten sonra da devam eder.  
B) Yol, cami, okul, hastane yaptırmak Sadaka-i Cariye'dir.  
C) Yapılacak eserin tek bir kişi tarafından oluşturulması gerekir.  
D) İslam kültüründe vakıf ve benzeri kurumların ortaya çıkmasında etken olmuştur.

5. Kâbe'nin etrafında yedi defa dönmeye tavaf denir.

**Bu dönüşlerden her birine ne ad verilir?**

- A) Sa'y B) Şavt C) Vakfe D) Mikat

6. Peygamber Efendimizin kabri aşağıdaki şehirlerden hangisinde yer alır?

- A) Taif B) Mekke C) Medine D) Kudüs

7. Kurban edilecek hayvan ve bu hayvanın doldurması gereken yaş eşleştirmelerinden hangisi yanlıştır?

- A) Koyun-1 yaş B) Keçi-1 yaş  
C) Sığır-2 yaş D) Deve-3 yaş

8. Aşağıdaki kurban türlerinden hangisinin etinden kurban sahibi yiyebilir?

- A) Şükür B) Adak C) Akika D) Bayram

9. Hz. Muhammed (sav.)'in Medine'de Mescid-i Nebevi'nin yanında 'Suffe' denilen bir yer yaptırması O'nun hangi yönüyle ilgilidir?

- A) Bilgiye önem vermesi  
B) Güvenilir bir insan olması  
C) Hoşgörülü ve affedici olması  
D) Doğayı ve hayvanları sevmesi

10. Aşağıdakilerden hangisi Hz. Muhammed (sav.)'in çalışmayı sevmesine bir örnektir?

- A) Mekke'yi fethettikten sonra, kendisine eziyet etmiş olan Mekkelileri affetmesi  
B) Hayvanlara eziyet edilmemesi konusunda insanlara tavsiyelerde bulunması  
C) Hendek Savaşı'nda kazılacak yerleri belirleyip kazma işine yardım etmesi  
D) Hicret etmeden önce kendisinde bulunan emanetleri sahiplerine ulaştırması için Hz. Ali'ye teslim etmesi

11. Aşağıdakilerden hangisi İslam öncesi Arap toplumunda haksızlık ve adaletsizliğin giderilmesi için yapılmış bir çalışmadır?

- A) Hılful-Fudul  
B) Akabe Biatları  
C) Medine Sözleşmesi  
D) Hudeybiye Antlaşması

# 1. OTURUM

12. Allah (cc.)'ın varlığı, birliği, peygamberlerin gönderiliş amaçları, kutsal kitaplar, sorumlu olduğumuz ibadetler, inanç esasları, ahlaki ilkeler ve öldükten sonraki yaşamla ilgili bilgiler; bilgi edinme yollarından hangisi ile sağlanmaktadır?

- A) Akıl  
B) Vahiy  
C) Duyular  
D) Âlimler

13. "Onlara 'Allah'ın dinine uyun" denildiği zaman onlar: 'Hayır! Biz atalarımızı üzerinde bulduğumuz yola uyarız!' derler. Ya ataları bir şey anlamamış, doğruyu da bulamamış idiyseleler." (Bakara suresi, 170. ayet)

**Bu ayette eleştirilen tutum aşağıdakilerden hangisidir?**

- A) Allah'a inandığı halde, inancının gereklerini yerine getirmemek  
B) Peygamberimize iftirada bulunmak  
C) Geçmişlerimize saygı göstermek  
D) Körü körüne ataları taklit etmek

14. Aşağıda verilen bilgilerden hangisi Hz. Yusuf (as.)'a ait değildir?

- A) Kardeşleri tarafından kuyuya atılmıştır.  
B) Hz. Yakub (as.)'un on iki oğlundan biridir.  
C) Mısır'da Maliye Bakanlığı'na getirilmiştir.  
D) İsrailoğullarını Firavun'un zulmünden kurtarmıştır.

15. "Ey iman edenler! Kimin bende bir alacağı varsa gelsin alsın; kimin sırtına vurdu isem işte sırtım, gelsin vursun."

**Peygamberimiz bu hadisi ile aşağıdakilerden hangisinin önemine işaret etmiştir?**

- A) İnsana değer vermenin  
B) Namaz kılmanın  
C) Kul hakkının  
D) İman etmenin

16. • Sinsice ve ağır ağır insan bedenine zarar vermektedir.  
• Dünya Sağlık Örgütü istatistiklerine göre dünyada ölüme yol açan nedenler arasında ilk sıradadır.  
• Karbon monoksit gibi içinde vücuda zarar veren pek çok madde bulunmaktadır.

**Hakkında bilgi verilen zararlı madde aşağıdakilerden hangisidir?**

- A) İçki  
B) Sigara  
C) Kumar  
D) Uyuşturucu

17. Aşağıdakilerden hangisi kötü alışkanlıkların başlama sebepleri arasında yer almaz?

- A) Sosyal faaliyetler ve seyahat etme  
B) Aile içindeki geçimsizlik ve sevgi yoksunluğu  
C) Kötü arkadaş çevresi ve kendini kabul ettirme duygusu  
D) Gazete, dergi, TV gibi araçlarla kötü alışkanlığa özendirici yayınlar yapılması

18. I-İnekler kutsal kabul edilir.  
II-Buda tarafından kurulmuştur.  
III-Tek Tanrı inancı vardır.  
IV-Kutsal kitapları Vedalardır.

**Yukarıdaki bilgilerden hangileri Hinduizm'e aittir?**

- A) I-II  
B) I-III  
C) II-III  
D) I-IV

19. Aşağıdaki kavramlardan hangisi Yahudilik'e ait değildir?

- A) On Emir  
B) Haham  
C) Havari  
D) Yehova

20. İslam dini ile ilgili verilen bilgilerden hangisi yanlıştır?

- A) Peygamber olarak yalnızca Hz. Muhammed kabul edilir.  
B) Temiz ve uygun olan her yerde ibadet yapılabilir.  
C) Tüm insanlık için gönderilen son dindir.  
D) Tevhit inancına dayanır.

**TEST BİTTİ.  
CEVAPLARINIZI KONTROL EDİNİZ.**

### SINAV SÜRESİNCE UYULACAK KURALLAR

- 1. Adaylar, sınav kurallarına ve salon görevlilerinin tüm uyarılarına uymak zorundadırlar. Kurallara ve uyarılara uymayan adayların sınavları geçersiz sayılacaktır.**
- 2. Sınav başladıktan sonra adayların salon görevlileri ve birbirleri ile konuşmaları, kalem, silgi vb. şeyleri istemeleri yasaktır.**
- 3. Adaylar sınav süresince, sınav giriş belgesi ile birlikte kimlik belgelerinden birini (nüfus cüzdanı, pasaport veya sürücü belgesi) masalarının üzerinde bulundurmamak zorundadırlar.**
- 4. Sınav evraklarını teslim etmeyen, soru kitapçıklarının sayfalarından bir kısmını eksik teslim edenlerin sınavları geçersiz sayılacaktır.**

### SALON GÖREVLİLERİNCE SINAV BAŞLAMADAN ÖNCE ADAYLARA YAPILACAK SON UYARI

- Soracağınız bir şey var mı? Varsa, şimdi sorunuz.
- Sınav başladıktan sonra sorularınıza cevap verilmeyecektir.
- Başlama zilini bekleyiniz.
- Hepinize başarılar dileriz.

**(Salon başkanı başlama ve bitiş saatini tahtaya yazacaktır.)**

**Bu kitapçığın her hakkı saklıdır. Hangi amaçla olursa olsun, kitapçığın tamamının veya bir kısmının Millî Eğitim Bakanlığı Ölçme, Değerlendirme ve Sınav Hizmetleri Genel Müdürlüğünün yazılı izni olmadan kopya edilmesi, fotoğraflarının çekilmesi, bilgisayar ortamına alınması, herhangi bir yolla çoğaltılması, yayımlanması veya başka bir amaçla kullanılması yasaktır. Bu yasağa uymayanlar, doğabilecek cezai sorumluluğu ve kitapçığın hazırlanmasındaki mali külfeti peşinen kabullenmiş sayılır.**



**28 HAZİRAN 2015 TARİHİNDE YAPILAN  
AÇIK ÖĞRETİM ORTAOKULU 2014-2015 ÖĞRETİM YILI 3. DÖNEM SINAVI  
1. OTURUM CEVAP ANAHTARI**

**TÜRKÇE – 7**

1. B
2. D
3. D
4. C
5. D
6. B
7. A
8. C
9. C
10. B
11. A
12. A
13. C
14. C
15. B
16. D
17. B
18. C
19. A
20. A

**FEN ve TEKNOLOJİ – 7**

1. B
2. D
3. A
4. C
5. B
6. A
7. C
8. B
9. D
10. A
11. C
12. B
13. D
14. C
15. A
16. C
17. A
18. D
19. D
20. C

**İNGİLİZCE – 8**

1. D
2. A
3. B
4. C
5. A
6. C
7. D
8. A
9. D
10. C
11. D
12. A
13. B
14. A
15. B
16. B
17. D
18. C
19. B
20. A

**FRANSIZCA – 8**

1. D
2. A
3. B
4. C
5. B
6. A
7. C
8. D
9. B
10. D
11. C
12. D
13. D
14. A
15. B
16. A
17. C
18. D
19. A
20. C

**MATEMATİK – 7**

1. C
2. D
3. B
4. B
5. C
6. D
7. A
8. A
9. C
10. D
11. A
12. C
13. D
14. B
15. C
16. D
17. C
18. B
19. A
20. A

**TC İNK. TAR. VE ATA. – 8**

1. D
2. A
3. B
4. A
5. C
6. B
7. A
8. D
9. B
10. A
11. D
12. D
13. B
14. C
15. D
16. C
17. A
18. B
19. B
20. D

**ALMANCA – 8**

1. A
2. B
3. D
4. C
5. A
6. B
7. D
8. C
9. B
10. B
11. D
12. A
13. C
14. D
15. A
16. C
17. D
18. A
19. B
20. C

**DİN KÜLTÜRÜ ve AHLAK  
BİLGİSİ – 8**

1. B
2. A
3. A
4. C
5. B
6. C
7. D
8. B
9. A
10. C
11. A
12. B
13. D
14. D
15. C
16. B
17. A
18. D
19. C
20. A

**28 HAZİRAN 2015 TARİHİNDE YAPILAN**  
**AÇIK ÖĞRETİM ORTAOKULU 2014-2015 ÖĞRETİM YILI 3. DÖNEM SINAVI**  
**1. OTURUM CEVAP ANAHTARI**

**TÜRKÇE – 5**

1. B
2. C
3. D
4. A
5. D
6. C
7. D
8. A
9. D
10. B
11. D
12. C
13. B
14. A
15. C
16. D
17. B
18. A
19. A
20. B

**FEN ve TEKNOLOJİ – 5**

1. B
2. B
3. A
4. D
5. C
6. B
7. D
8. A
9. B
10. D
11. C
12. B
13. A
14. D
15. C
16. C
17. A
18. A
19. D
20. C

**İNGİLİZCE – 6**

1. B
2. C
3. A
4. D
5. C
6. B
7. A
8. D
9. B
10. D
11. B
12. C
13. A
14. B
15. C
16. A
17. B
18. A
19. D
20. D

**FRANSIZCA – 6**

1. B
2. D
3. A
4. C
5. C
6. D
7. B
8. A
9. B
10. D
11. A
12. C
13. C
14. D
15. A
16. B
17. D
18. D
19. A
20. B

**MATEMATİK – 5**

1. B
2. B
3. D
4. D
5. A
6. A
7. D
8. A
9. C
10. C
11. D
12. A
13. B
14. D
15. C
16. C
17. B
18. B
19. C
20. C

**SOSYAL BİLGİLER – 6**

1. D
2. A
3. B
4. C
5. B
6. C
7. A
8. D
9. B
10. C
11. A
12. D
13. C
14. B
15. A
16. B
17. D
18. C
19. A
20. B

**ALMANCA – 6**

1. A
2. D
3. D
4. A
5. C
6. B
7. A
8. B
9. B
10. C
11. D
12. A
13. B
14. A
15. C
16. B
17. D
18. C
19. D
20. C

**DİN KÜLTÜRÜ ve AHLAK  
BİLGİSİ – 6**

1. B
2. C
3. A
4. C
5. A
6. D
7. C
8. C
9. D
10. B
11. A
12. C
13. D
14. D
15. A
16. C
17. D
18. B
19. A
20. B