

**4.**  
**SINIF**



**B**  
**KİTAPÇIK TÜRÜ**

**T.C.**  
**MİLLÎ EĞİTİM BAKANLIĞI**  
**ÖLÇME, DEĞERLENDİRME VE SINAV HİZMETLERİ**  
**GENEL MÜDÜRLÜĞÜ**

**VEHBİ KOÇ VAKFI, KOÇ ÖZEL İLKOKULU VE ORTAOKULU SEVİYE TESPİT SINAVI**  
**(3. Sınıftan 4. Sınıfa Geçenler)**  
**31 MAYIS 2015 Saat: 10.00**

Adayın Adı ve Soyadı : .....

Aday Numarası (T.C. No) : .....

DERS ADI	SORU SAYISI	TOPLAM SORU SAYISI	SINAV SÜRESİ (DAKİKA)
TÜRKÇE	20	80	100
MATEMATİK	20		
FEN BİLİMLERİ	20		
HAYAT BİLGİSİ	20		

**ÖĞRENCİLERİN DİKKATİNE!**

1. Sınıf öğrenci yoklama listesinde belirtilen sınıfta ve sıra numarasında oturunuz.
2. Cevap kâğıdındaki kimlik bilgilerinin doğruluğunu kontrol ediniz.
3. Kitapçık türünü cevap kâğıdındaki ilgili alana kodlayınız.
4. Cevap kâğıdı üzerindeki kodlamaları kurşun kalemle yapınız.

**SINAV BAŞLAMADAN ÖNCE KİTAPÇIĞIN ARKA KAPAĞINDAKİ UYARILARI MUTLAKA OKUYUNUZ.**



1. Günümüzde bazı ülkelerde alışveriş poşeti kullanılmıyor.

Bu cümlede aşağıdaki sorulardan hangisinin yanıtı yoktur?

A) Ne?

B) Ne zaman?

C) Nerede?

D) Nasıl?

2. Seninle basketbol oynamaya gelmek isterdim ama - - - .

Bu cümle aşağıdakilerden hangisiyle devam ettirilemez?

A) bu beni çok mutlu eder

B) yarın sınavım var; çalışmam lazım

C) işe gitmek zorundayım

D) aynı saatte futbol maçımız var

3. Aşağıdaki cümlelerin hangisinde karşılaştırma yapılmıştır?

A) Çocukların neşesine diyecek yoktu.

B) Sel, ekinlere doludan daha fazla zarar verir.

C) Meral ile Perihan bu olaya çok kızmıştı.

D) Memleketine aylar yıllar sonra dönebilmişti.

4. “Kırmak” sözcüğü, aşağıdakilerin hangisinde “dileğini kabul etmeyerek veya birini beklenmeyen bir davranış karşısında bırakarak gücendirmek” anlamında kullanılmıştır?

- A) Evi satamayacağını anlayınca fiyatı kırdı.
- B) Söylediği bir kelimeyle arkadaşını kırdı.
- C) Ayağı takılınca taşıdığı bardakları kırdı.
- D) Bu seneki soğuk, hayvanları kırdı.

5. Aşağıdakilerin hangisinde sözcükler sözlük sırasına göre verilmiştir?

- A) Giyinme, giyimli, giydirmek
- B) Giydirmek, giyinme, giyimli
- C) Giyinme, giydirmek, giyimli
- D) Giydirmek, giyimli, giyinme

6. Aşağıdaki cümlelerin hangisinde “yel” sözcüğünün eş anlamlısı vardır?

- A) Hiç dinmeyen tipi yüzünden elektrikler gitmişti.
- B) Havalarda artık iyice ısınıyordu.
- C) Rüzgâr balkondaki çamaşırlarımızı uçurmuştu.
- D) Evden çıkınca birden yağmur başladı.

7. Aşağıdakilerin hangisinde zıt anlamlı sözcükler bir arada kullanılmamıştır?

- A) Senin gibi olabilmek için sürekli çalıştım.
- B) Az bir emekle çok büyük işler yaptık.
- C) Annem eve girdi, biraz sonra da ben çıktım.
- D) Soğuk içecekler sıcak yaz günlerinde insanı rahatlatıyor.

8. Bin kişinin yaptığı pasta ha... Aman Allah'im... Bir apartman kadar bir şey olmalı bu. Pastayı yiyeceğimiz günü iple çekiyoruz.

Bu parçadaki altı çizili sözün anlamı aşağıdakilerden hangisidir?

- A) Bir kimseyi çekiştirmek
- B) O zamanın gelmesini sabırsızlıkla beklemek
- C) Bir iş yapmakla görevlendirmek
- D) İşin tamamlanması için katkıda bulunmak

9. 1. kapıyı  
2. bir  
3. vardır  
4. her  
5. anahtar  
6. açan

Numaralanmış sözcüklerle anlamlı ve kurallı bir cümle oluşturmak için sözcükler nasıl sıralanmalıdır?

- A) 1 - 2 - 5 - 3 - 4 - 6
- B) 2 - 1 - 4 - 5 - 3 - 6
- C) 4 - 1 - 6 - 2 - 5 - 3
- D) 5 - 2 - 1 - 6 - 4 - 3

10. Onun karnı akşam çok ağrımış.

Bu cümledeki sözcüklerden hangisi bir ismin yerine kullanılmıştır?

- A) Onun  
B) Karnı  
C) Akşam  
D) Çok

11. Yarın bozuk bisikletimi tamirciye götüreceğim.

Bu cümledeki sözcüklerden hangisi bir ismi nitelemektedir?

- A) Yarın  
B) Bozuk  
C) Bisikletimi  
D) Tamirciye

12. Aşağıdaki cümlelerden hangisinin sonuna "soru işareti (?)" konmalıdır?

- A) Başarıya ulaşmak neden bu kadar zor  
B) Onun nerede olduğunu kimse bilmiyordu  
C) Çalışmayı nasıl sürdüreceğimize karar veremedik  
D) Benimle gelip gelmeyeceğinden emin değildi

13. Aşağıdaki cümlelerin hangisinde büyük harflerin kullanımıyla ilgili bir yazım yanlışı vardır?

- A) Gezilmesi gereken yerlerin başında İstanbul gelir.  
B) Evin minik kedisi Boncuk, gün boyu ortalıkta görünmemiştir.  
C) Doğum gününe Elif de gelecekti.  
D) Okullar genellikle Eylülün ikinci haftası açılır.

14. Aşağıdakilerden hangisi duygusal öge içermektedir?

- A) Mağaranın tepesinden damla damla su sızıyordu.
- B) Bayramın ilk günü büyüklerini ziyaret edecekti.
- C) Bizim evin penceresi bahçeye bakardı.
- D) Yaşlı kadının bu hâli beni çok üzmüştü.

15. Aşağıdakilerin hangisinde hayal ögelerine yer verilmemiştir?

- A) Bir gün gelir geçer bu geceler  
Tırtıllar tırmanır yapraklara
- B) Yıldızlar çamlara değer de geçer  
Gün buradan başını eğer de geçer
- C) Bir güneş içimde, yola çıkarım  
Bütün parklar, bütün sokaklar benim
- D) Rüzgârım eser, başım havalarda;  
Yolculuk kuşum nerde, ben orda

16. Aşağıdaki cümlelerin hangisinde abartma vardır?

- A) Fenerin ışığı ormanın içindeki yolu aydınlatıyordu.
- B) Piknik yaparken, meleyen kuzu sürüsünü gördüm.
- C) Yine bir bahar sabahı yollara düşmüştü.
- D) Kartal, jet hızıyla avının üzerine atıldı.

17. Çiçek açmış ağaçlara bak ne güzel;  
Gel bizim olsun serçelerin neşesi!  
Gel seninle kırlara açılalım gel!  
Neler vadetmiyor akarsuyun sesi!

**Bu dizelere hâkim olan duygu aşağıdakilerden hangisidir?**

- A) Özlem  
B) Yaşama sevinci  
C) Özgürlük  
D) Memleket sevgisi

18. 1. Fakat babam televizyonu evimize sokmadı.  
2. Kısa zamanda evlerin baş köşesine oturdu.  
3. Böylece babam mahallenin en tutucusu ilan edildi.  
4. Doksanlı yıllarda muhabbet, saçlarından tutulduğu gibi sokağa atıldı.  
5. Onun yerine oturma odalarına televizyon buyur edildi.

**Numaralanmış cümlelerle anlamlı bir metin oluşturulduğunda sıralama aşağıdakilerden hangisi olur?**

- A) 1 - 4 - 5 - 2 - 3  
B) 2 - 1 - 3 - 5 - 4  
C) 4 - 5 - 2 - 1 - 3  
D) 5 - 1 - 2 - 3 - 4

19. Kargalar çoğu kimse tarafından uğursuz sayılsa da incelenmeye değer ilginç hayvanlardır. Bir keresinde apartmanımızın çatısında uçma denemesi yapan bir yavru karga yere düşmüştü. Birçok karga, başına üşüşüp onu yuvasına kaldırmaya çalışmıştı. Çin'de yaşayan bir karga türünün de kendi yavrularından önce kör kargaları doyurduğunu biliyorum. Ayrıca kargalar kendilerine yapılan kötülüğü asla unutmazlar. İlk fırsatta bunun acısını çıkarmaya çalışırlar. Bu yüzden de dikkat etmek gerekir.

**Bu parçadan kargalarla ilgili aşağıdakilerden hangisine ulaşamaz?**

- A) Birbirlerine bağlıdır.  
B) Kincidir.  
C) Sayıları azalmaktadır.  
D) İnsanlar tarafından pek sevilmemektedir.



20. Elektrik enerjisini tasarruflu kullanarak doğanın korunmasına katkıda bulunulabilir. Enerji tasarrufu sağlamanın en temel yollarından biri, aydınlatmada enerji tasarrufu sağlayan ampuller kullanmaktır. Enerji tasarruflu ampullerin ömürleri diğerlerine oranla sekiz kat daha uzundur. Üstelik az enerjiyle daha çok ışık verir.

**Bu metnin konusu aşağıdakilerden hangisidir?**

- A) İnsanların doğaya verdiği zararlar
- B) Enerji tasarrufu sağlayan ampuller
- C) Ampullerin ömürleri
- D) Elektrik enerjisinin kullanım alanları

**TÜRKÇE TESTİ BİTTİ.  
MATEMATİK TESTİNE GEÇİNİZ.**

1. Bir hayvan barınağında 4 tane anne köpek ve her birinin 3 tane yavrusu vardır. Buna göre, bu hayvanların ayak sayıları toplamı kaçtır?

A) 16                      B) 32                      C) 48                      D) 64

2. Herhangi bir doğal sayının 3 katının 5 fazlası 3'e bölündüğünde kalan kaçtır?

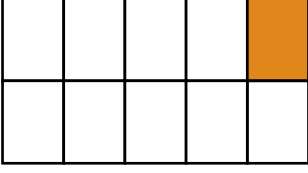
A) 0                      B) 1                      C) 2                      D) 3

3.  $\frac{\triangle}{12} > \frac{9}{12} > \frac{\square}{12}$

Yukarıdaki sıralamada  $\triangle$  ve  $\square$  birer doğal sayı olduğuna göre,  $\triangle + \square$  en az kaçtır?

A) 11                      B) 10                      C) 9                      D) 8

4.



Yukarıdaki şekilde kaç kare daha boyanırsa boyalı bölge  $\frac{6}{10}$  kesrini ifade eder?

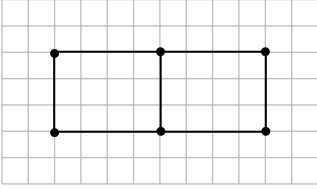
A) 4

B) 5

C) 6

D) 7

5.



Yukarıdaki şekilde kaç tane doğru parçası vardır?

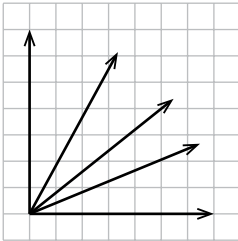
A) 5

B) 7

C) 9

D) 11

6.



Yukarıdaki şekilde kaç tane dar açı vardır?


A) 4

B) 6

C) 7

D) 9

7.



Verilen beş noktanın herhangi üçü köşe olacak şekilde en çok kaç üçgen çizilebilir?

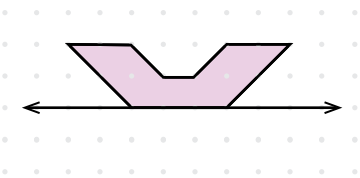
A) 6

B) 7

C) 8

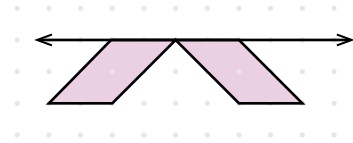
D) 9

8.

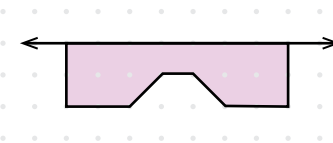


Yukarıdaki şeklin verilen doğruya göre simetriği aşağıdakilerden hangisidir?

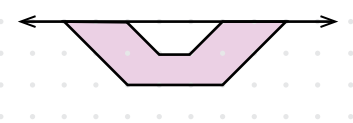
A)



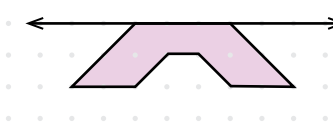
B)



C)



D)



9. Necati Usta, 1 metre 60 santimetre uzunluğundaki çerçeve tahtasından 92 cm uzunluğunda bir parçayı kesiyor. Kalan parçanın tamamını kullanarak kare şeklinde bir çerçeve yapıyor. Yaptığı çerçevenin bir kenar uzunluğu kaç santimetredir?

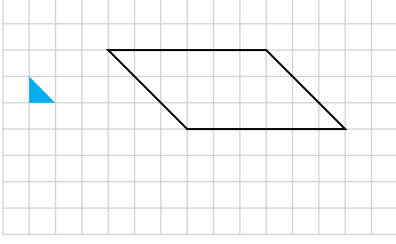
A) 16

B) 17

C) 23

D) 40

10.



Verilen şekil, yanındaki karton parçaları ile kaplanacaktır. Bunun için kaç parça gerekir?

A) 15

B) 21

C) 36

D) 40

11. Aşağıdakilerden hangisinde 2 rakamının basamak değerleri toplamı 220'dir?

A) 202

B) 422

C) 234

D) 227

12. 9'dan başlayarak ileriye doğru yedişer yedişer sayılırken aşağıdaki sayılardan hangisi söylenmez?

A) 79

B) 81

C) 86

D) 93

13.

$$\begin{array}{r} A2B \\ + C9 \\ \hline 903 \end{array}$$

Yukarıdaki toplama işlemine göre,  $A+B+C$  kaçtır?

- A) 19                      B) 18                      C) 17                      D) 16

14.



Resimdeki Ali ve Sevgi aklından birer sayı tutmuştur. Bu sayıların toplamı kaçtır?

- A) 109                      B) 110                      C) 111                      D) 112

15. Bir çıkarma işleminde eksilen sayı 100 artırılıp, çıkan sayı 35 azaltılıyor. Bu durumda elde edilecek fark için aşağıdakilerden hangisi doğru olur?

- A) 65 azalır.                      B) 65 artar.                      C) 135 azalır.                      D) 135 artar.

16. Bir çarpma işleminde çarpanlardan biri 100'dür. Çarpımın son dört basamağındaki rakamlar 0 olduğuna göre, diğer çarpan aşağıdakilerden hangisi olabilir?
- A) 450                      B) 379                      C) 200                      D) 25
17. Bir okulda dersler 40 dakika, teneffüsler 15 dakikadır. Dersler 08.40'ta başladığına göre 5 ders sonunda öğrencilerin okuldan çıkış saati kaçtır?
- A) 13.15                      B) 13.00                      C) 12.55                      D) 12.40
18. Gonca doğum gününde arkadaşlarıyla dondurma yiyecektir. Kûlahlara 125'er gram dondurma koyacaktır. Doğum gününe 20 arkadaşı geleceğine göre, her biri 1 kilogram olan dondurmalarından en az kaç kutu satın almalıdır?
- A) 2                              B) 3                              C) 4                              D) 5

19. Zeytinyağının litresini 21 liradan alıp yarım litresini 15 liradan satan bir satıcı, bir günde 99 lira kazanıyor. Buna göre, satıcı o gün kaç litre zeytinyağı satmıştır?

A) 11

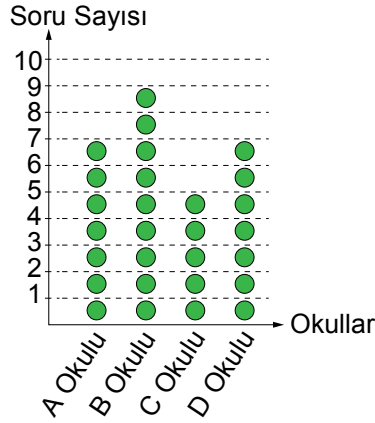
B) 18

C) 24

D) 36

20.

**Grafik:** Bilgi Yarışmasında Okulların Doğru Cevapladığı Soru Sayıları



Not: Her ● 4 puanı göstermektedir.

Yukarıdaki grafik, dört okul arasında yapılan bilgi yarışmasında okulların doğru cevapladığı soru sayısını göstermektedir. Grafiğe göre, aşağıdakilerden hangisi yanlıştır?

A) Yarışmada B okulu 36 puanla birinci olmuştur.

B) A okulu ile D okulu aynı puanı almıştır.


C) C ve D okullarının aldığı puanların toplamı B okulunun puanına eşittir.

D) C okulu 3 soru daha doğru cevaplasaydı ikinci olurdu.

MATEMATİK TESTİ BİTTİ.  
FEN BİLİMLERİ TESTİNE GEÇİNİZ.



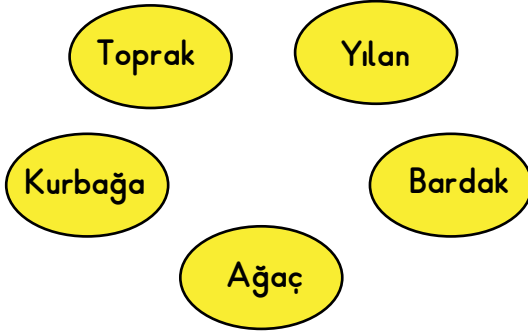
1.



Resimde verilen canlıların ortak özelliği aşağıdakilerden hangisidir?

- A) Yer değiştirerek hareket etme
- B) Hazır besinle beslenme
- C) Sürekli büyüüp gelişme
- D) Solunum yapma

2.



Ayşe yanda verilen varlıkları iki gruba ayırmak istiyor. Bu gruplar aşağıdakilerin hangisinde verilenler olabilir?

- A) Bitkiler ve hayvanlar
- B) Canlı varlıklar ve cansız varlıklar
- C) Canlılar ve yaşam alanları
- D) Hareket eden ve edemeyen canlı varlıklar

3. Aşağıdakilerden hangisi doğal yaşama zarar veren davranışlardan değildir?

- A) Doğa gezilerinde orada yaşayan canlılara sürekli yiyecek vermek
- B) Atıkları akarsulara atarak çevreden uzaklaştırmak
- C) Doğal alanlarda piknik yaparken yakılan ateşi iyice söndürmek
- D) Sayıları fazla olan canlıları avlayarak azaltmak

4. Bir öğrenci, birbirinin aynı fasulye tohumlarının birazını cam bir bardakta bulunan nemli pamuk arasına koyuyor. Kalan tohumları da diğer bardaktaki kuru pamuk arasına koyuyor. Bir süre sonra yalnızca nemli pamuk arasındaki fasulyelerden bitkiler gelişiyor.

**Bu gözlemden aşağıdakilerin hangisine ulaşılır?**

- A) Nemli ortamdaki bitki tohumları çimlenir.
- B) Pamuk, bitki gelişimini engeller.
- C) Bitki her ortamda büyüüp gelişir.
- D) Bitki hava alan ortamda daha iyi gelişir.

5. Aşağıda bazı besinler numaralanarak verilmiştir.



1 Bal



2 Bisküvi



3 Süt



4 Peynir



5 Renkli şekerler



6 Asitli gazoz

**Dengeli beslenen bir insanın bu besinlerden hangilerini kahvaltıda tüketmesi beklenir?**

- A) 1 ve 5
- B) 2 ve 6
- C) 1, 3 ve 4
- D) 4, 5 ve 6

6. • Güneş ışınlarının zararlı etkilerinden korunmalıyız.  
• Düzenli banyo yaparak vücut üzerindeki mikropları temizlemeliyiz.  
• Başkalarının kullandığı tarağı kullanmamalıyız.

Yukarıda verilenler hangi duyu organımızın sağlığı için öncelikle gereklidir?

- A) Göz  
B) Kulak  
C) Deri  
D) Burun

7. "Fatih, ailesiyle akşam yemeği yerken elektrikler kesildi. Karanlıkta elini yavaşça bardağa uzattı. Eline değen bardağı tutup ağızına götürdü. İçtiği su değildi. Meyve suyu dolu bardağı almıştı."

Fatih bu olayda sırasıyla hangi duyularını kullanmıştır?

- A) İşitme, dokunma  
B) Dokunma, tatma  
C) Görme, tatma, dokunma  
D) Koklama, görme, tatma

8. Görme olayı için ışık gereklidir.

Aşağıdakilerden hangisi bu duruma açıklayıcı bir örnek değildir?

- A) Sürücülerin karanlıkta araba kullanırken farları açması  
B) Karanlıkta bahçedeki çiçeklerin renklerinin ayırt edilememesi  
C) Akşamları ders çalışırken lamba yakılması  
D) Güneşe çıplak gözle bakılamaması

9. Aşağıdaki varlıklardan hangisinin hareketi, sallanma hareketine örnek gösterilebilir?

- A) Rüzgarın etkisiyle hareket eden ağaç yaprağı
- B) Hareket etmekte olan arabanın tekerleği
- C) Otobüse yetişmek için koşan adam
- D) Çimlerin üzerinde yuvarlanan top

10. Öğrenciler aşağıda bazı örnekler vermişlerdir.

<div data-bbox="256 819 504 909" style="border: 1px solid black; border-radius: 10px; padding: 5px; width: fit-content; margin: 0 auto;">Kalecinin topu yakalaması</div> <div data-bbox="272 920 352 1025" style="text-align: center;"></div> <div data-bbox="263 1025 352 1070" style="text-align: center;">Ayça</div>	<div data-bbox="523 819 839 909" style="border: 1px solid black; border-radius: 10px; padding: 5px; width: fit-content; margin: 0 auto;">Yere düşen yumurtanın kırılması</div> <div data-bbox="544 920 624 1025" style="text-align: center;"></div> <div data-bbox="550 1025 639 1070" style="text-align: center;">Melih</div>	<div data-bbox="858 819 1070 909" style="border: 1px solid black; border-radius: 10px; padding: 5px; width: fit-content; margin: 0 auto;">Sıranın öne çekilmesi</div> <div data-bbox="847 920 927 1025" style="text-align: center;"></div> <div data-bbox="847 1025 936 1070" style="text-align: center;">Selim</div>	<div data-bbox="1090 819 1414 909" style="border: 1px solid black; border-radius: 10px; padding: 5px; width: fit-content; margin: 0 auto;">Duvara atılan topun geri gelmesi</div> <div data-bbox="1118 920 1214 1025" style="text-align: center;"></div> <div data-bbox="1134 1025 1208 1070" style="text-align: center;">Eda</div>
---	--	---	---

Bu öğrencilerden hangisi kuvvetin cisimler üzerindeki yön değiştirme etkisine örnek vermiştir?

- A) Ayça
- B) Melih
- C) Selim
- D) Eda


11. Bazı elektrikli araç-gereçler, yaygın olarak kullanıldıkları elektrik enerjisi kaynakları ile aşağıda eşleştirilmiştir.

Elektrikli Araç Gereç	Elektrik Kaynağı
I. Mikser	→ Şehir elektriği
II. Araba radyosu	→ Akü
III. Tablet bilgisayar	→ Pil
IV. Televizyon kumandası	→ Pil

Buna göre kaç numaralı eşleştirme yanlış yapılmıştır?

- A) I
- B) II
- C) III
- D) IV

12. Günlük hayatta kullandığımız bazı araç gereçler verilmiştir.



Çamaşır makinesi



Ütü



Lamba

Aşağıdakilerden hangisi bu araç gereçlerin ortak özelliğidir?

- A) İşlerin daha uzun zamanda yapılmasını sağlama
- B) Aydınlatma amaçlı kullanılma
- C) Isıtma amaçlı kullanılma
- D) Elektrikle çalışma

13. Öğrenciler, atık pilleri biriktirdikten sonra aşağıdakilerden hangisini yapmalıdırlar?

- A) Atık pilleri açıp içeri incelemeliler.
- B) Diğer çöplerden ayrı bir kutuya atmalılar.
- C) Okulun bahçesindeki toprağa gömmeliler.
- D) Kağıt ve cam atıklarla birlikte çöp kutusuna atmalılar.

14. Resimde banyoda saç kurutma makinesi ile saçını kurutan bir kişi vardır.




Elektrik çarpmasına yol açabilecek durumlardan hangisi bu resimde görülmektedir?

- A) Prize elektrik fişini takarken metal kısımlarına dokunulduğu
  - B) Bir prize birden fazla fiş takıldığı
  - C) Islak yerlerde elektrikli araç kullanıldığı
  - D) Elektrikli aletleri kapatmadan fişinin çıkarıldığı
15. Ayşe'nin yanında oturan kardeşi oyuncak davuluna kuvvetli şekilde sürekli vuruyor. Ayşe, bu gürültüden rahatsız olduğu için kulağını elleriyle kapatıp odasına gidiyor. Odasında davul sesini duyduğu hâlde rahatsız olmadığı için kulaklarını kapatmaya ihtiyaç duymuyor.

Bunun sebebi aşağıdakilerden hangisidir?

- A) Ses kaynağından çıkan sesin şiddetinin sürekli artması
- B) Ses kaynağından uzaklaştıkça sesin şiddetinin azalması
- C) Ses kaynağına sürekli vurulması
- D) Sesin her yöne yayılması

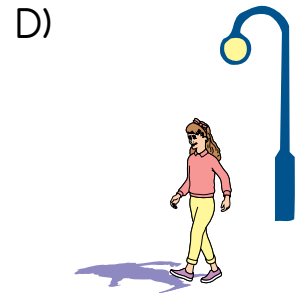

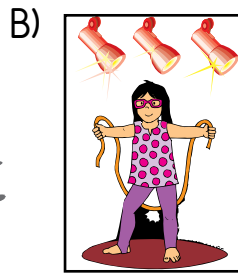

16. Gözlerini bir bezle kapatan Ali, kendisine eşit uzaklıkta bulunan arkadaşlarının çıkardıkları sesleri sırasıyla dinler.



Ali ve arkadaşlarının yaptıkları bu etkinliğin amacı aşağıdakilerden hangisidir?

- A) Ses kaynağının yeri hakkında çıkarımda bulunmak
- B) Yapay ses kaynaklarını gruplandırmak
- C) Doğal ve yapay seslerin yerini birbirinden ayırmak
- D) Şiddetli seslerin yayılmasını engellemek

17. Aşağıda verilen çocuklardan hangisi doğal ışık kaynağından faydalanmaktadır?



18. Temizlikte deterjanları kullanırken alınması gereken güvenlik tedbiri aşağıdakilerden hangisi olamaz?

- A) Eldiven kullanmak
- B) Tadına bakmamak
- C) Deterjanı koklamamak
- D) Deterjanları karıştırarak kullanmak

19. Can, maddeleri sınıflandırıp şekildeki gibi kartlara yazmıştır.

•Kalem •Tebeşir	•Süt •Kolonya	•Doğal gaz •Hava
--------------------	------------------	---------------------

Buna göre Can, maddeleri hangi özelliklerine göre sınıflandırmıştır?

- A) Hâllerine
- B) Tatlarına
- C) Renklerine
- D) Kokulu olmalarına

20. Selin, bir maddenin bazı temel özelliklerini şekildeki gibi karta yazmıştır.

?	• Serttir. • Kırılgandır. • Kokusuzdur. • Pürüzsüzdür.
---	---

Bu kartta "?," ile gösterilen yere aşağıdaki maddelerden hangisinin resmini yapıştırmalıdır?

- A) Elma
- B) Ayna
- C) Toprak
- D) Ağaç gövdesi

FEN BİLİMLERİ TESTİ BİTTİ.  
HAYAT BİLGİSİ TESTİNE GEÇİNİZ.



1. Sınıf öğretmeni, resim dersinde öğrencilerden çevre sorunları ile ilgili bir resim yapmalarını ister. Ders sonunda Selma'nın resmini beğenir, seçer ve okul panosunda sergiler.

Bu anlatımda Selma'nın, "Çocuk Hakları Sözleşmesi"nde yer alan aşağıdaki haklardan hangisini kullandığını söyleyebiliriz?

- A) Sağlık hizmetleri alma hakkı
- B) Düşünce ve duygularını ifade etme hakkı
- C) Eğitim hakkı
- D) Yaşama hakkı

2. Okul içinde ve dışında başarılı olmanın ilk koşulu, aşağıdakilerden hangisidir?

- A) Çok ders çalışmak
- B) Düzenli spor yapmak
- C) Sürekli kitap okumak
- D) Zamanı planlı kullanmak

3. Aşağıdakilerden hangisi toplumsal paylaşımlarımızdan biri değildir?

- A) Düğün hazırlıkları
- B) Bayram kutlamaları
- C) Cenaze merasimleri
- D) Başarılı olunan sınavlar

## 4. Bilinçli Tüketici

...

Ücuz diye hiç aldanma  
Her reklama inanma!  
Varsa - - - - damgası,  
Kolaydır kaliteyi anlaması.

...

Verilen dörtlükte boş bırakılan yere aşağıdaki kısaltmalardan hangisi yazılmalıdır?

- A) TRT  
C) PTT

- B) TSE  
D) MEB

## 5. Trafikte ışıklı işaret cihazı yayalara "YEŞİL" yandığında, karayolundaki araçlara aşağıdaki ışıklardan hangisi yanar?

- A) Kırmızı  
C) Yeşil

- B) Sarı  
D) Kırmızı ışık yanar-söner

## 6. "Kadın ve erkek toplumsal hayatta eşit haklara sahip oldu."

Bu durum, aşağıdaki kanunlardan hangisiyle sağlanmıştır?

- A) Soyadı Kanunu  
C) Kabotaj Kanunu

- B) Medeni Kanun  
D) Tevhid-i Tedrisat Kanunu

7. Mustafa Kemal'in, aşağıdaki şehirlerden hangisine gitmesiyle Kurtuluş Savaşı'nın başladığı kabul edilir?

- A) Erzurum  
C) Samsun

- B) Ankara  
D) Sivas

8. Atatürk'ün, aşağıdaki alanlardan hangisinde yaptığı yenilikle halk, fes yerine şapka giymeye başlamıştır?

- A) Eğitimde  
C) Kadın haklarında

- B) Kılık, kıyafette  
D) Ölçü ve takvimde

9. "Kurtuluş Savaşı'nı Atatürk'ün önderliğinde hep birlikte kazandık."

Verilen cümlede Atatürk'ün hangi kişisel özelliğine vurgu yapılmıştır?

- A) Liderliğine  
C) Sanatseverliğine

- B) İnkılapçılığına  
D) İleri görüşlülüğüne

10. Atatürk'e, "Başöğretmenlik" unvanının verildiği 1928 yılının 24 Kasım günü için ülkemizde hangi kutlama etkinliği yapılır?

- A) Dünya Tiyatrolar Günü  
C) Öğretmenler Günü

- B) Cumhuriyet Bayramı  
D) Atatürk Haftası

11. Aşağıdakilerden hangisi Atatürk'ün düşünce özgürlüğü anlayışına uymaz?
- A) Herkes inandığı fikri savunabilmeli
  - B) Kişiler istediği siyasi düşünceye sahip olabilmeli
  - C) İnsanlar, inandığı dinin ibadetlerini yapabilmeli
  - D) Gazetecilerin düşünceleri herkesçe kabul edilmeli
12. Soyadı Kanunu'nun çıkarılmasından sonra günlük hayatımızda aşağıdakilerden hangisi daha rahat yapılır hâle gelmiştir?
- A) Vergi ödemek
  - B) Selam göndermek
  - C) Seyahat etmek
  - D) Ticaret yapmak
13. Aşağıdakilerden hangisinde mevsimler doğru sıralanmıştır?
- A) İlkbahar - Sonbahar - Yaz - Kış
  - B) İlkbahar - Yaz - Kış - Sonbahar
  - C) İlkbahar - Yaz - Sonbahar - Kış
  - D) Kış - Yaz - İlkbahar - Sonbahar
14. Aşağıdakilerden hangisi ilk yardım çantasında kesin bulunmalıdır?
- A) Toplu iğne
  - B) Ataç
  - C) Sargı bezi
  - D) Kalem

15. "Babam havanın sisli olması sebebiyle önündeki araca hafifçe çarptı."

Bu trafik kazasının sebebi aşağıdakilerden hangisidir?

- A) Dikkatsiz araç sürmek
- B) Trafik kurallarına uymamak
- C) Hava durumunun olumsuz etkisi
- D) Yolların düzenli olmaması

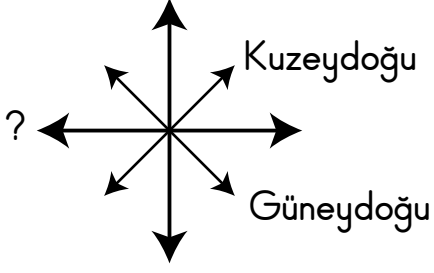
16. Aşağıdakilerden hangisi sel sırasında yapmamız gerekenler arasında değildir?

- A) Binada isek üst katlara çıkmalıyız.
- B) Arabadaysak sel sularının gittiği yöne gitmeliyiz.
- C) Çök, kapan, tutun tekniğini uygulamalıyız.
- D) Arabada isek arabamızı terk edip yüksek bir yere çıkmalıyız.

17. Aşağıdakilerden hangisi canlı varlıklardandır?

- A) Toprak
- B) Hava
- C) Mantar
- D) Kaya

18.



Yukarıdaki şekle göre soru işareti olan yere hangi yön gelmelidir?

- A) Batı  
C) Kuzey

- B) Güney  
D) Doğu

19. Sınıfımızın krokisinde aşağıdakilerden hangisi bulunmaz?

- A) Öğretmen masası  
C) Çöp kutusu

- B) Yazı tahtası  
D) Bayrak direği

20. Ormanlar aşağıdaki doğal afetlerden hangisinin oluşumunu engellemez?

- A) Deprem  
C) Heyelan

- B) Sel  
D) Çığ

TEST BİTTİ.  
CEVAPLARINIZI KONTROL EDİNİZ.



## **SINAV BAŞLAMADAN AŞAĞIDAKİ UYARILARI MUTLAKA OKUYUNUZ!**

1. Öğrenciler, sınav kurallarına ve salon görevlilerinin tüm uyarılarına uymak zorundadırlar.
2. Cevap kâğıdındaki kimlik bilgilerinin doğruluğunu kontrol ediniz. Bilgiler size ait değilse veya cevap kâğıdı kullanılmayacak durumdaysa sınav görevlilerine bildiriniz.
3. Sınav başladıktan sonra öğrencilerin salon görevlileri ve birbirleri ile konuşmaları, kalem, silgi vb. şeyleri istemeleri yasaktır.
4. Değiştirmek istediğiniz bir cevabı, yumuşak silgiyle cevap kâğıdını yıpratmadan temizce siliniz ve yeni cevabınızı kodlayınız.
5. Cevap kâğıdınızı silinmeyen bir kalemle imzalayınız.
6. Cevaplarınızı, cevap kâğıdındaki ilgili soru numarasını dikkate alarak yuvarlağın dışına taşırmadan kodlayınız.
7. Soru kitapçığının sayfalarını kontrol ediniz, baskı hatası var ise değiştirilmesini sağlayınız.
8. Soru kitapçığı üzerinde yapılp cevap kâğıdına işaretlenmeyen cevaplar değerlendirmeye alınmayacaktır.
9. Soru kitapçığının içindeki boş alanları çözümlerinizi için kullanabilirsiniz.
10. Cevaplamaya istediğiniz sorudan başlayabilirsiniz.
11. Cevabını bilmediğiniz sorular üzerinde fazla zaman kaybetmeden diğer sorulara geçiniz. Zamanınız kalırsa bu sorulara daha sonra dönebilirsiniz.
12. Sınav puanınızın hesaplanmasında sadece doğru cevaplarınız dikkate alınacaktır.
13. Sınav bitiminde, soru kitapçığı ve cevap kâğıdını salon görevlilerine teslim ediniz.
14. Sınav sırasında sözlük, hesap makinesi, saat fonksiyonu dışında özellikleri bulunan saat veya çağrı cihazı, cep telefonu, telsiz, radyo ve bilgisayar özelliği bulunan elektronik cihazları yanınızda bulundurmanız hâlinde sınavınız geçersiz sayılacaktır.
15. Cevap kâğıdınızı sınav süresince hiçbir öğrencinin göremeyeceği şekilde önünüzde bulundurunuz.
16. Sınavınızın değerlendirilmesi aşamasında, toplu kopya tespiti veya başka adayın sınav evrakını kullanmanız durumunda sınavınız geçersiz sayılacaktır.
17. Soruları ve sorulara verdiğiniz cevapları kaydetmeyiniz, hiçbir şekilde dışarı çıkarmayınız.
18. İlk 15 dakika dışarı çıkılmayacaktır.
19. Sınav evraklarını teslim etmeyenlerin sınavı geçersiz sayılacaktır.

### **SINAV GÖREVLİLERİNCE SINAV BAŞLAMADAN ÖNCE ÖĞRENCİLERE YAPILACAK SON UYARI!**

- Soracağınız bir şey var mı? Varsa, şimdi sorunuz.
- Sınav başladıktan sonra sorularınıza cevap verilmeyecektir.
- Başlama zilini bekleyiniz.

**Hepinize başarılar dileriz.**

**(Sınav görevlisi başlama ve bitiş saatini tahtaya yazacaktır.)**

**Bu kitapçığın her hakkı saklıdır. Hangi amaçla olursa olsun, kitapçığın tamamının veya bir kısmının Millî Eğitim Bakanlığı Ölçme, Değerlendirme ve Sınav Hizmetleri Genel Müdürlüğünün yazılı izni olmadan kopya edilmesi, fotoğraflarının çekilmesi, bilgisayar ortamına alınması, herhangi bir yolla çoğaltılması, yayımlanması veya başka bir amaçla kullanılması yasaktır. Bu yasağa uymayanlar, doğabilecek cezai sorumluluğu ve kitapçığın hazırlanmasındaki mali külfeti peşinen kabullenmiş sayılır.**



**31 MAYIS 2015 TARİHİNDE YAPILAN VEHBİ KOÇ VAKFI  
ÖZEL İLKOKULU VE ORTAOKULU SEVİYE TESPİT SINAVI  
4. SINIFLAR "B" KİTAPÇIĞI CEVAP ANAHTARI**

<b>TÜRKÇE</b>	<b>MATEMATİK</b>	<b>FEN BİLİMLERİ</b>	<b>HAYAT BİLGİSİ</b>
1. D	1. D	1. D	1. B
2. A	2. C	2. B	2. D
3. B	3. B	3. C	3. D
4. B	4. B	4. A	4. B
5. D	5. C	5. C	5. A
6. C	6. D	6. C	6. B
7. A	7. A	7. B	7. C
8. B	8. D	8. D	8. B
9. C	9. B	9. A	9. A
10. A	10. C	10. D	10. C
11. B	11. D	11. C	11. D
12. A	12. B	12. D	12. A
13. D	13. A	13. B	13. C
14. D	14. A	14. C	14. C
15. A	15. D	15. B	15. C
16. D	16. C	16. A	16. C
17. B	17. B	17. C	17. C
18. C	18. B	18. D	18. A
19. C	19. A	19. A	19. D
20. B	20. C	20. B	20. A