

3.
SINIF



B
KİTAPÇIK TÜRÜ

T.C.
MİLLÎ EĞİTİM BAKANLIĞI
ÖLÇME, DEĞERLENDİRME VE SINAV HİZMETLERİ
GENEL MÜDÜRLÜĞÜ

VEHBİ KOÇ VAKFI, KOÇ ÖZEL İLKOKULU VE ORTAOKULU SEVİYE TESPİT SINAVI
(2. Sınıftan 3. Sınıfa Geçenler)
31 MAYIS 2015 Saat: 10.00

Adayın Adı ve Soyadı :

Aday Numarası (T.C. No) :

DERS ADI	SORU SAYISI	TOPLAM SORU SAYISI	SINAV SÜRESİ (DAKİKA)
TÜRKÇE	20	60	80
MATEMATİK	20		
HAYAT BİLGİSİ	20		

ÖĞRENCİLERİN DİKKATİNE!

1. Sınıf öğrenci yoklama listesinde belirtilen sınıfta ve sıra numarasında oturunuz.
2. Cevap kâğıdındaki kimlik bilgilerinin doğruluğunu kontrol ediniz.
3. Kitapçık türünü cevap kâğıdındaki ilgili alana kodlayınız.
4. Cevap kâğıdı üzerindeki kodlamaları kurşun kalemle yapınız.

SINAV BAŞLAMADAN ÖNCE KİTAPÇIĞIN ARKA KAPAĞINDAKİ UYARILARI MUTLAKA OKUYUNUZ.

1. 1. Bir iz bıraktı
2. Yanaklarından süzülüp
3. Günlüğün sayfasına düşünce
4. Gözlerinden akan yaş

Numaralanmış sözcük gruplarıyla kurallı ve anlamlı bir cümle oluşturulduğunda sıralama aşağıdakilerden hangisi olur?

- A) 2 - 4 - 3 - 1
C) 4 - 2 - 3 - 1

- B) 2 - 3 - 1 - 4
D) 4 - 3 - 1 - 2

2. Bu trafik işaretinin anlamı aşağıdakilerden hangisidir?



- A) Park etmek yasaktır.
C) Sağa dönmek yasaktır.

- B) Taşıt giremez.
D) Çıkamaz yol

3. Hepsi güzeldi kar, tipi, fırtına
Günlerin geçişi ardi ardına
Hasretiz bir kanat şakırtısına
Mavi gökte kuşlar yine uçar mı?

Bu dördlüğün ana duygusu aşağıdakilerden hangisidir?

- A) Yalnızlık
C) Karamsarlık

- B) Özlem
D) Özgürlük

4. Aşağıdaki sözcüklerden hangisi sözlükte diğerlerinden sonra yer alır?

- A) Kanal
C) Kanat

- B) Kanarya
D) Kanama

5. "Kara" sözcüğü, aşağıdakilerin hangisinde farklı bir anlamda kullanılmıştır?

- A) Denizciler ancak yirmi gün sonra karaya ayak basmıştı.
B) Kömürün karasını eline yüzüne iyice bulaştırmıştı.
C) Motorlu kara taşıtları dünyamızı gittikçe kirletiyor.
D) Bazı hayvanlar hem suda hem karada yaşayabiliyor.

6. Yorgun çocuklar bir köşeye geçip oturdu.

Bu cümledeki altı çizili sözcüğün karşıtı aşağıdakilerden hangisidir?

- A) Sağlıklı
C) Kuvvetli

- B) Bitkin
D) Dinç

7. Yaşadığı o kadar zorluğa rağmen pes etmedi.

Aşağıdakilerden hangisi altı çizili sözün bu cümleye kattığı anlamı karşılıamaz?

A) direndi
C) dayandı

B) mücadele etti
D) başarılı oldu

8. Ördek yavrusu güneş batmak üzereyken üzgün bir şekilde, topallaya topallaya gölün kıyısına yürüdü.

Bu cümlede aşağıdaki sorulardan hangisinin yanıtı yoktur?





A) Niçin?
C) Nereye?

B) Ne zaman?
D) Nasıl?

9. Aşağıdaki cümlelerin hangisinde sebep sonuç ilişkisi vardır?

A) Toprakla uğraşmayı sevdiğim için doğa kulübüne girdim.
B) Ağaçların çiçekleri baharın hemen başında dökülmüştü.
C) Kendi yaptığım resimleri kimseye göstermek istemiyorum.
D) Akvaryumdaki rengârenk balıkları hayran hayran seyretti.

10.

AYLIK YOLCU SAYISI			
500 Bin	250 Bin	100 Bin	200 Bin
			

Bu tabloya göre aşağıda verilen bilgilerden hangisi yanlıştır?

- A) İnsanlar en az deniz ulaşımını kullanmıştır.
- B) Ulaşımda en büyük payı kara taşımacılığı almıştır.
- C) Raylı sistemler hava ulaşımından daha çok tercih edilmiştir.
- D) Hava taşıtları kara taşıtlarından göre daha az tercih edilmiştir.

11. Aşağıdaki cümlelerin hangisinde altı çizili ifadelerin yazımında yanlışlık yoktur?

- A) Çocuklar 23 Nisan Perşembe günü yola çıkacak.
- B) Biz, Ramazan bayramında İstanbul'a gideceğiz.
- C) Ceyhun, Saatçi sokakta bir pizzacı açmış.
- D) Ebrar ve arkadaşları bir karagöz oyunu sergiledi.

12. Aşağıdaki cümlelerin hangisinde bir noktalama yanlışı vardır?

- A) Okul'un bahçesinde bahar şenliği düzenlemiştik.
- B) Kuşlar göç yolunu hiç şaşırılmaz mı acaba?
- C) Göller, ırmaklar, yer altı suları tükenmek üzere.
- D) Zarfta, Saygın Apartmanı 11/3 yazıyordu.

13. Şapkalı mantarlar, karanlık ve nemli ortamları sever. Yalnızca belirli bir sıcaklıkta gelişebilir. Üstelik toprakta yeterli besin ve su yoksa gelişemez. Besinlerini ölmüş bitki ve hayvanları parçalayarak elde eder. Kendi besinlerini üretmediklerinden şapkalı mantarlar bitki değildir.

Bu metinde şapkalı mantarlarla ilgili aşağıdakilerden hangisine yer verilmemiştir?

- A) Yüksek sıcaklıkta geliştiklerine
- B) Besinlerini nasıl elde ettiklerine
- C) Bitki sayılmama sebeplerine
- D) Sevdikleri ortamlara

14. Nurdan, beşinci kattaki evlerinin balkonundan bazı akşamlar gökyüzündeki yıldızları seyrediyor.

Bu cümleye göre Nurdan için aşağıdakilerden hangisi kesinlikle doğrudur?

- A) Bir apartmanda yaşamaktadır.
- B) Gök bilimci olmak istemektedir.
- C) Çok geç vakitte yatmaktadır.
- D) Evlerinin tek balkonu vardır.

15.



Numaralandırılmış görsellerin, oluş sırasına göre sıralanışı aşağıdakilerden hangisidir?

- A) 1 - 5 - 2 - 3 - 4
C) 4 - 2 - 5 - 1 - 3

- B) 2 - 1 - 5 - 4 - 3
D) 4 - 2 - 5 - 3 - 1

16. Geçen gün su borusu patladığı için sular kesilmişti. Alaaddin Bey kendi icat ettiği ses dinleme aletiyle borulardaki patlağı bulabileceğini söyledi. Mahalleli:

- Ses dinleme aleti mi? O da ne, diye bağırdı. Alaaddin Bey:
— Onu en son on yıl önce kullanmıştım. Hatırlarsınız; bir ucu kulağa, diğer ucu toprağa dayanan bakır bir borudur.

Bu parçada aşağıdaki hikâye öğelerinden hangisi yoktur?

- A) Yer
C) Zaman
B) Kişi
D) Olay

17. En yakın arkadaşım Hakan ile birlikte oltalarımızı alıp balık tutmaya gitmiştik. Ormanın içinden geçtik. Sararmış ve kurumuş yaprakların üzerine bastıkça ahenkli bir ses çıkıyordu. Öğle vakti olmasına rağmen akşamı andıran bir karanlık vardı.

Bu parçadan aşağıdaki bilgilerin hangisine ulaşamaz?

- A) Mevsimlerden sonbahardır.
- B) Civarda akarsu veya göl vardır.
- C) Arazi yapısı engebelidir.
- D) Hava kapalıdır.

18. Alışveriş yaparken alacağımız kıyafeti dener; rengini, tarzını, fiyatını dikkate alırız. Peki yapıldığı madde önemli değil mi? Kimileri özellikle pamuk veya yünden yapılmış olmasına dikkat eder. Son zamanlarda bilim adamları da kıyafet üretiminde petrole bağımlılığını azaltacak maddeler üzerinde çalışıyor. Örneğin mısır ve bambudan yapılmış giysiler çoktan raflarda yerini almış bile.

Bu parçanın konusu aşağıdakilerden hangisidir?

- A) Bilim adamlarının sorumlulukları
- B) Kıyafetlerin yapıldığı malzemeler
- C) Alışverişte fiyatın önemi
- D) Petrolün insan sağlığına zararları

19. Çoğu insan çok parası olsun ister. Çok parası olduğunda çok mutlu olacağını zanneder. Ama dişi ağrısa gözü dünyayı görmez. Bir süreliğine bile olsa bir yeri sakat kalsa elindeki para bunun acısını gidermeye yetmez. Kısacası, para hiçbir hastalığı iyileştirmez.

Bu parçanın ana düşüncesi aşağıdakilerden hangisidir?

- A) İnsan, hastalanmamak için kendisine dikkat etmelidir.
B) Mutluluğun sırrı insanın zengin olmasındadır.
C) Çok para kazanmak isteyen insan sağlıklı olmalıdır.
D) Sağlık, paradan daha değerlidir.

20. Bir karga, bir koyunu pençesiyle kaçırarak kartalı görmüş. Aynı şeyi kendisinin de yapabileceğini düşünerek otlaktaki bir koyunu gözüne kestirmiş. Sonra da koyuna saldırmış. Saldırmış saldırmasına ama onca ağırlığı kaldırmaması mümkün olmamış. Bu da yetmiyormuş gibi pençeleri koyunun yünlerine dolanmış. Ne yaptıysa kurtulamamış. Çoban gelip kargayı yakalamış ve evine götürüp bir kafese kapatmış.

Bu metinde asıl anlatılmak istenen aşağıdakilerden hangisidir?

- A) İşlerini planlamadan yapanlar başarısız olur.
B) Başkalarını kandırmaya çalışanlar aynı tuzağa kendileri düşer.
C) Boyundan büyük işlere kalkışanlar zarar görür.
D) Elindekilerle yetinmeyi bilmeyenler hiçbir zaman mutlu olamaz.

**TÜRKÇE TESTİ BİTTİ.
MATEMATİK TESTİNE GEÇİNİZ.**

1. $23 + 55 - \square = \triangle$
 $48 - \triangle = 27$ olduğuna göre, \square yerine hangi sayı yazılmalıdır?

A) 87 B) 77 C) 67 D) 57

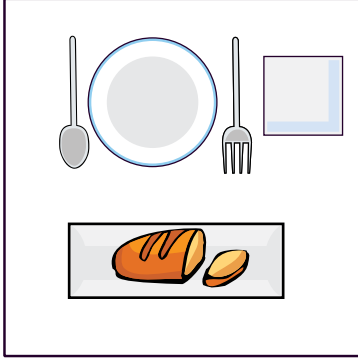
2.

<div style="background-color: yellow; border: 1px solid black; padding: 5px; display: inline-block;">$4 + 4 + 4 + 4$</div>	<div style="background-color: lightblue; border: 1px solid black; padding: 5px; display: inline-block;">8×3</div>
Sarı kart	Mavi kart
<div style="background-color: pink; border: 1px solid black; padding: 5px; display: inline-block;">4×4</div>	<div style="background-color: lightgreen; border: 1px solid black; padding: 5px; display: inline-block;">$6 + 6 + 6$</div>
Pembe kart	Yeşil kart

Hangi renk kartlardaki işlemlerin sonucu birbirine eşittir?

- A) Sarı ve pembe B) Mavi ve sarı
C) Yeşil ve pembe D) Mavi ve yeşil

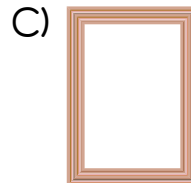

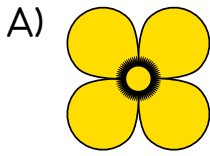
3.




Resimde aşağıdakilerden hangisine örnek yoktur?

- A) Karesel bölge
- B) Üçgensel bölge
- C) Dikdörtgensel bölge
- D) Daire

4. Aşağıdaki resimlerden hangisi iki eş parçaya ayrılmaz?



5.



Çocukların ellerindeki kartlarda yazılı olan sayılar bir örüntü oluşturmaktadır. Elindeki kartı ters çevirmiş olan çocuğun kartında yazan sayı kaçtır?

- A) 23
- B) 24
- C) 25
- D) 26

6. Sevim Hanım evinin iki odasına ve salonuna tül yaptırmak istiyor. İki odanın perde ölçüleri aynıdır. Salon için 15 metre, bir oda için 11 metre tül gerekiyor. Sevim Hanım en az kaç metre tül almalıdır?

A) 26

B) 33

C) 35

D) 37

7. Ayşe'nin annesi, pazardan 6 düzine çay bardağı alıyor. Eve gelirken bardaklardan 2 tanesi kırılıyor. Kaç deste bardak kalmıştır?

A) 5

B) 6

C) 7

D) 8

8. Emre 11'den başlayarak ileriye doğru dörder dörder, Erdem ise 35'ten başlayarak geriye doğru dörder dörder sayıyorlar. Aynı sırada hangi sayıyı söylerler?

A) 19

B) 23

C) 27

D) 31

9. Bir bilet kuyruğunda 14 kişi vardır. Kuyrukta Ömer'den önce 3 kişi, Enes'ten sonra 2 kişi olduğuna göre, Ömer ile Enes arasında kaç kişi vardır?

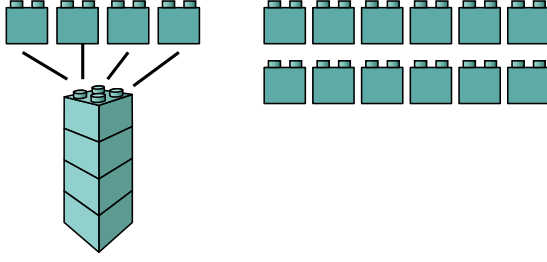
A) 7

B) 8

C) 9

D) 10

10.



Elif, 4 lego parçasından bir kule yapıyor. Kalan parçalar ile kaç kule daha yapabilir?

A) 1

B) 2

C) 3

D) 4

11.

Fiyat Listesi	
Kalemtraş	3 lira
Silgi	1 lira
Defter	6 lira
Kalem	8 lira
Boya kalem	9 lira
Yapıştırıcı	4 lira

Duygu'nun 10 lira parası vardır. Duygu fiyat listesine göre aşağıdaki hangi iki malzemeyi alamaz?

A) Kalemtraş, defter

B) Silgi, kalem

C) Kalem, yapıştırıcı

D) Defter, yapıştırıcı

12.



Burçin 4 kilogram elma ve 2 kilogram muz alıyor. Parasını ödeyip 3 lira para üstü alıyor. Burçin manava kaç lira vermiştir?

A) 20

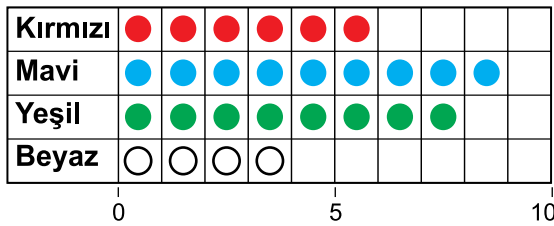
B) 25

C) 30

D) 40

13.

Grafik: Sevilen Renkler



Ela arkadaşlarına hangi rengi sevdiğini sordu. Elde ettiği verilerle yukarıdaki nesne grafiğini oluşturdu. Buna göre, aşağıdakilerden hangisi yanlıştır?

A) Yeşil sevenlerin sayısı, mavi sevenlerin sayısından 1 eksiktir.

B) Kırmızı sevenlerin sayısı, beyaz sevenlerin sayısından fazladır.

C) Kırmızı sevenlerin sayısı, yeşil sevenlerin sayısından azdır.

D) Mavi sevenlerin sayısı, beyaz sevenlerin sayısından 4 fazladır.

14. Bir gruptaki 26 kişiye en çok hangi çiçeği sevdikleri sorulmuştur. Gülü sevenler karanfili sevenlerden fazla, papatya sevenler de lale sevenlerden fazladır. Bu verilere uygun tablo aşağıdakilerden hangisidir?

A) Tablo: En Çok Sevilen Çiçekler

Çiçekler	Kişi Sayısı
Gül	10
Papatya	4
Karanfil	6
Lale	6

B)

Tablo: En Çok Sevilen Çiçekler

Çiçekler	Kişi Sayısı
Gül	8
Papatya	6
Karanfil	9
Lale	3

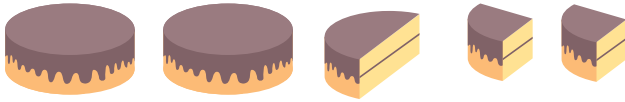
C) Tablo: En Çok Sevilen Çiçekler

Çiçekler	Kişi Sayısı
Gül	9
Papatya	5
Karanfil	7
Lale	5

D) Tablo: En Çok Sevilen Çiçekler

Çiçekler	Kişi Sayısı
Gül	9
Papatya	7
Karanfil	8
Lale	2

15.



2 bütün, 1 yarım, 2 çeyrek pastanın tamamı kaç çeyrek pasta eder?

A) 7

B) 8

C) 12

D) 13

16. Sena 16 Nisan Perşembe günü doktora gidiyor. Doktor 4 Mayıs tarihinde kontrol için gelmesini istiyor. Sena hangi gün kontrole gidecektir?

- A) Pazartesi B) Salı C) Çarşamba D) Perşembe

17. $18 + 21 + 13 = \star$


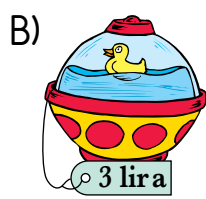
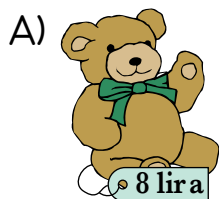
$\star + \square = 81$ olduğuna göre, \square yerine hangi sayı yazılmalıdır?

- A) 19 B) 29 C) 38 D) 48

18.



Yukarıdaki paraların tamamıyla aşağıda fiyatları verilen hediyelerden hangisi alınabilir?



19. Bir çiçekçide 76 tane gül vardır. Çiçekçi, güllerden dörderli ve beşerli buketler yapıyor. Toplam 17 tane buket yaptığına göre, beşerli buket sayısı kaçtır?

A) 12

B) 11

C) 8

D) 6

20. Bir şişe meyve suyu 3 bardağı tamamen, 1 bardağı da yarım doldurmaktadır. 4 şişe meyve suyu kaç bardağı tamamen doldurur?

A) 12

B) 13

C) 14

D) 15

MATEMATİK TESTİ BİTTİ.
HAYAT BİLGİSİ TESTİNE GEÇİNİZ.

1. Aşağıdakilerden hangisi arkadaşlarımızla ilişkilerimizi olumsuz etkileyen davranışlardan biri değildir?

- A) Alınganlık
C) Bencillik

- B) Uyumluluk
D) Mızıkçılık

2. ▲ Seyahat edebilme
● Seçme ve seçilme
■ Öğrenim görme

Cumhuriyet sonrası elde edilen yukarıdaki hak ve hürriyetlerden hangileri doğrudan demokrasi ile ilgilidir?

- A) Yalnız ▲
C) Yalnız ■

- B) Yalnız ●
D) ▲, ● ve ■

3. Aşağıdakilerden hangisi kulüp çalışmalarının yararlarından biri değildir?

- A) Birlikte çalışma alışkanlığı kazandırır.
B) Paylaşımı öğretir.
C) Takım çalışması yapma becerisini geliştirir.
D) Arkadaşlık ilişkilerinin gelişmesini engeller.

4. Aşağıdakilerden hangisi, bilinçli tüketicinin davranışlarından biri değildir?
- A) Haklarını bilir ve sahip çıkar.
B) Alışverişte ihtiyaçlarına öncelik verir.
C) Alacağı malın pahalı olmasına dikkat eder.
D) Kaynakları, araç ve gereçleri özenli kullanır.
5. Mustafa Kemal öğrenim hayatına aşağıdaki hangi okulda başlamıştır?
- A) İstanbul Harp Akademisi
B) Selanik Askerî Rüştiyesi
C) Şemsi Efendi Okulu
D) Mahalle Mektebi
6. Millî bayramlarımızda, aşağıdakilerden hangisini yapmayız?
- A) Sınıfımızı ve okulumuzu süsleriz.
B) Kutlama törenlerinde şiirler okuruz.
C) Komşularımızı ziyaret eder, ellerini öperiz.
D) Yöresel kıyafetler giyer, halk oyunları oynarız.
7. 23 Nisan 2015 günü, aşağıdakilerden hangisinin 95. yıl dönümünü kutladık?
- A) Cumhuriyetin ilanının
B) Atatürk'ün doğumunun
C) Atatürk'ün Samsun'a çıkışının
D) Büyük Millet Meclisinin açılışının

8. Aşağıdakilerden hangisinde "hazır ol" vaziyetinde durulur?

- A) Aşı olurken
B) Tiyatro oynarken
C) İstiklal Marşı okunurken
D) Öğretmenimizi dinlerken

9. Aşağıdaki yerleşim birimlerinden hangisi daha büyüktür?

- A) İlçe
B) İl
C) Köy
D) Kasaba

10. Dünya'daki ısı ve ışığın kaynağı aşağıdakilerden hangisidir?

- A) Güneş
B) Ay
C) Yıldız
D) Bulut

11. Havaların ısındığını, ağaçların çiçek açtığını ve leyleklerin geldiğini söyleyen Ayşe hangi mevsimden bahsetmiştir?

- A) Yaz
B) Sonbahar
C) Kış
D) İlkbahar

12.



Görselde aşağıdaki doğal afetlerden hangisi gösterilmiştir?

- A) Deprem
C) Fırtına

- B) Sel
D) Kuraklık


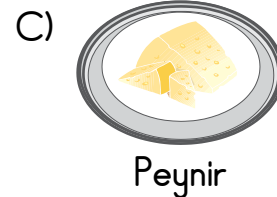
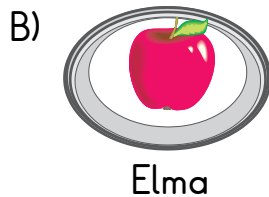
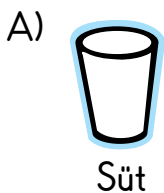
13. Orman doğal çevredir. İçinde balıkların bulunduğu bir havuz, çeşitli ağaçlar, kuşlar ve böceklerin olduğu bir park ise yapay çevredir.

Bu park neden yapay çevre olarak adlandırılır?

- A) Çeşitli ağaçları olduğu için
B) İçinde insanlar gezebildiği için
C) Çeşitli hayvanlar bulunduğu için
D) İnsanlar tarafından oluşturulduğu için

14. Aşağıda bazı besinler verilmiştir.

Bunlardan hangisi bulunduğu kabın şeklini alır?



15.

Mesleğin adı :
Yaptığı iş : Sağlıkla ilgili
Araç ve gereç :
Kıyafeti: Beyaz önlük

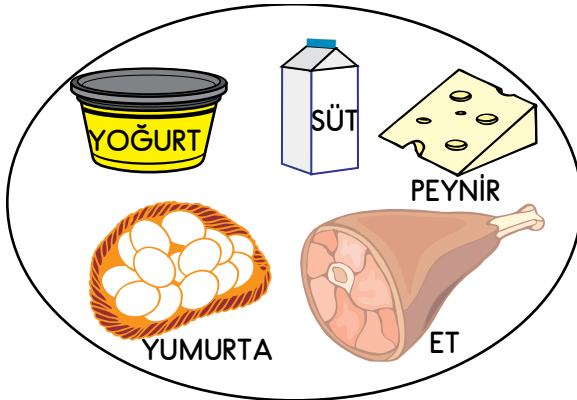
Yukarıdaki kartta bir meslekle ilgili bazı bilgiler verilmiştir.

Bu meslek aşağıdakilerden hangisi olamaz?

A) Doktor
C) Eczacı

B) İtfaiyeci
D) Veteriner hekim

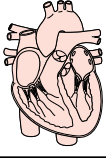
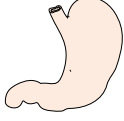

16.



Şekilde bazı besinler verilmiştir. Bunlarla ilgili olarak aşağıdakilerden hangisi yanlıştır?

A) Hayvanlardan elde edilir.
B) Büyümemize yardım eder.
C) Yaralarımızın iyileşmesinde etkili olur.
D) Dengeli beslenme için yalnızca bunlar tüketilir.

17. Mehmet şemada verilen organlar ve görevleri aşağıdaki gibi yazmıştır.

		
Görevi: Kanın temizlenmesinde görevlidir.	Görevi: Besinleri biraz parçalayıp karıştırır.	Görevi: Kanın vücutta dolaşmasını sağlar.

Mehmet'in bu çalışması için aşağıdakilerden hangisi söylenir?

- A) Bütün organların görevini doğru yazmıştır.
- B) Kalp ve akciğerin görevini doğru, midenin görevini yanlış yazmıştır.
- C) Kalp ve akciğer şekillerinin birbiriyle yeri değiştirilirse görevleri doğru olur.
- D) Mide ve kalp şekillerinin birbiriyle yeri değiştirilirse görevleri doğru olur.

- 18.
- Ayşe, sabah okula giderken saçlarını annesi tarar.
 - Ayşe, yemekten sonra dişlerini fırçalar.
 - Ayşe, okul kıyafetlerini giydikten sonra aynaya bakar.

Bu bilgilere göre Ayşe'nin kişisel bakımları ile ilgili aşağıdakilerden hangisi doğrudur?

- A) Her zaman annesi yardım eder.
- B) Hepsinde araç-gereç kullanılır.
- C) Hepsinde su ve sabun kullanılır.
- D) Hepsini okulda gerçekleştirir.

19.




Yukarıdaki görsele bakılarak aşağıdaki sorulardan hangisine cevap verilemez?

- A) İşitme ve görmede görevli organlar vücudumuzun neresinde yer alır?
- B) Hareket etmede görevli organlar hangileridir?
- C) Gövdemizde hangi iç organlar yer alır?
- D) Vücudun bölümleri hangileridir?

20. Yasemin arkadaşına kedisinin bazı özelliklerini anlatıyor.

Kedimin kılları sarı ve yumuşak,
acıncı miyavlıyor.



Yasemin bu gözleminde hangi duyu organlarından yararlanmıştı?

- A) Göz, deri, kulak
- B) Göz, dil, deri
- C) Deri, dil, kulak
- D) Deri, kulak, burun

TEST BİTTİ.

CEVAPLARINIZI KONTROL EDİNİZ.

SINAV BAŞLAMADAN AŞAĞIDAKİ UYARILARI MUTLAKA OKUYUNUZ!

1. Öğrenciler, sınav kurallarına ve salon görevlilerinin tüm uyarılarına uymak zorundadırlar.
2. Cevap kâğıdındaki kimlik bilgilerinin doğruluğunu kontrol ediniz. Bilgiler size ait değilse veya cevap kâğıdı kullanılmayacak durumdaysa sınav görevlilerine bildirin.
3. Sınav başladıktan sonra öğrencilerin salon görevlileri ve birbirleri ile konuşmaları, kalem, silgi vb. şeyleri istemeleri yasaktır.
4. Değiştirmek istediğiniz bir cevabı, yumuşak silgiyle cevap kâğıdını yıpratmadan temizce siliniz ve yeni cevabınızı kodlayınız.
5. Cevap kâğıdınızı silinmeyen bir kalemle imzalayınız.
6. Cevaplarınızı, cevap kâğıdındaki ilgili soru numarasını dikkate alarak yuvarlağın dışına taşırmadan kodlayınız.
7. Soru kitapçığının sayfalarını kontrol ediniz, baskı hatası var ise değiştirilmesini sağlayınız.
8. Soru kitapçığı üzerinde yapıp cevap kâğıdına işaretlenmeyen cevaplar değerlendirmeye alınmayacaktır.
9. Soru kitapçığının içindeki boş alanları çözümlerinizi için kullanabilirsiniz.
10. Cevaplamaya istediğiniz sorudan başlayabilirsiniz.
11. Cevabını bilmediğiniz sorular üzerinde fazla zaman kaybetmeden diğer sorulara geçiniz. Zamanınız kalırsa bu sorulara daha sonra dönebilirsiniz.
12. Sınav puanınızın hesaplanmasında 3 yanlış 1 doğru cevabınızı götürcektir. Alt testler bu şekilde hesaplanarak net puanlarının toplamı toplam net puanınızı verecektir.
13. Sınav bitiminde, soru kitapçığı ve cevap kâğıdını salon görevlilerine teslim ediniz.
14. Sınav sırasında sözlük, hesap makinesi, saat fonksiyonu dışında özellikleri bulunan saat veya çağrı cihazı, cep telefonu, telsiz, radyo ve bilgisayar özelliği bulunan elektronik cihazları yanınızda bulundurmanız hâlinde sınavınız geçersiz sayılacaktır.
15. Cevap kâğıdınızı sınav süresince hiçbir öğrencinin göremeyeceği şekilde önünüzde bulundurunuz.
16. Sınavınızın değerlendirilmesi aşamasında, toplu kopya tespiti veya başka adayın sınav evrakını kullanmanız durumunda sınavınız geçersiz sayılacaktır.
17. Soruları ve sorulara verdiğiniz cevapları kaydetmeyiniz, hiçbir şekilde dışarı çıkarmayınız.
18. İlk 15 dakika dışarı çıkılmayacaktır.
19. Sınav evraklarını teslim etmeyenlerin sınavı geçersiz sayılacaktır.

SINAV GÖREVLİLERİNCE SINAV BAŞLAMADAN ÖNCE ÖĞRENCİLERE YAPILACAK SON UYARI!

- Soracağınız bir şey var mı? Varsa, şimdi sorunuz.
- Sınav başladıktan sonra sorularınıza cevap verilmeyecektir.
- Başlama zilini bekleyiniz.

Hepinize başarılar dileriz.

(Sınav görevlisi başlama ve bitiş saatini tahtaya yazacaktır.)

Bu kitapçığın her hakkı saklıdır. Hangi amaçla olursa olsun, kitapçığın tamamının veya bir kısmının Millî Eğitim Bakanlığı Ölçme, Değerlendirme ve Sınav Hizmetleri Genel Müdürlüğünün yazılı izni olmadan kopya edilmesi, fotoğraflarının çekilmesi, bilgisayar ortamına alınması, herhangi bir yolla çoğaltılması, yayımlanması veya başka bir amaçla kullanılması yasaktır. Bu yasağa uymayanlar, doğabilecek cezai sorumluluğu ve kitapçığın hazırlanmasındaki mali külfeti peşinen kabullenmiş sayılır.

**31 MAYIS 2015 TARİHİNDE YAPILAN VEHBİ KOÇ VAKFI
ÖZEL İLKOKULU VE ORTAOKULU SEVİYE TESPİT SINAVI
3. SINIFLAR "B" KİTAPÇIĞI CEVAP ANAHTARI**

TÜRKÇE	MATEMATİK	HAYAT BİLGİSİ
1. C	1. D	1. B
2. B	2. A	2. B
3. B	3. B	3. D
4. C	4. D	4. C
5. B	5. B	5. D
6. D	6. D	6. C
7. D	7. C	7. D
8. A	8. B	8. C
9. A	9. A	9. B
10. C	10. C	10. A
11. A	11. C	11. D
12. A	12. B	12. A
13. A	13. D	13. D
14. A	14. D	14. A
15. C	15. C	15. B
16. A	16. A	16. D
17. C	17. B	17. C
18. B	18. A	18. B
19. D	19. C	19. C
20. C	20. C	20. A