

KİTAPÇIK TÜRÜ

B



T.C.
MİLLÎ EĞİTİM BAKANLIĞI
ÖLÇME, DEĞERLENDİRME VE SINAV HİZMETLERİ
GENEL MÜDÜRLÜĞÜ

**3. GRUP
DESTEK
PERSONELİ**

**TARIM VE KIRSAL KALKINMAYI DESTEKLEME KURUMUNUN
DESTEK PERSONELİ SEÇME SINAVI
03/05/2015**

Adı ve Soyadı :

T.C. Kimlik No :

ALAN ADI	SORU SAYISI	SINAV SÜRESİ (DAKİKA)
Atama Yapılacak Görevin Niteliği	100	120

ADAYLARIN DİKKATİNE!

1. Sınav saat **10.00**'da başlayacaktır. Sınav başladıktan sonra ilk **30** dakika dolmadan dışarı çıkmayınız.
2. Sınav sırasında sözlük, hesap cetveli veya makinesi, çağrı cihazı, cep telefonu, telsiz, radyo gibi elektronik iletişim araçlarını yanınızda bulundurmuyunuz. Bu araçları kullanmanız ve kopya çekmeye teşebbüs etmeniz hâlinde sınavınız geçersiz sayılacaktır.
3. Başvuru şartlarını taşımadığınız hâlde sınava girmeniz, kopya çekmeniz, başka adayın sınav evrakını kullanmanız, geçerli kimlik belgenizi ve sınav giriş belgenizi ibraz edemediğiniz durumlarda sınavınız geçersiz sayılacaktır.
4. Sınavın değerlendirilmesi aşamasında, toplu kopya tespiti hâlinde sınavınız geçersiz sayılacaktır.

CEVAP KÂĞIDI VE SORU KİTAPÇIĞI İLE İLGİLİ AÇIKLAMALAR

1. Cevap kâğıdınızdaki bilgilerin doğruluğunu kontrol ediniz ve cevap kâğıdınızı mürekkepli kalemle imzalayınız.
2. Kitapçık türünüzü cevap kâğıdınızdaki ilgili alana kodlayınız. Değerlendirme işlemleri cevap kâğıdındaki kodlamalara göre yapıldığından, eksik ya da hatalı kodlamalarda sorumluluk size ait olacaktır.
3. Cevap kâğıdı üzerinde kodlamalarınızı kurşun kalemle yapınız.
4. Değiştirmek istediğiniz bir cevabı, yumuşak silgiyle cevap kâğıdını örselemeden temizce siliniz ve yeni cevabınızı kodlayınız.
5. Soru kitapçığının sayfalarını kontrol ediniz, baskı hatası var ise değiştirilmesini sağlayınız.
6. Soru kitapçığının ön yüzündeki ilgili yerlere ad, soyad ve T.C. kimlik numaranızı yazınız.
7. Her sorunun beş seçeneğinden sadece biri doğrudur. Doğru seçeneği, cevap kâğıdınızın ilgili sütununa, soru numarasını dikkate alarak, yuvarlağın dışına taşırılmadan kodlayınız. **Soru kitapçığı üzerinde yapılan cevaplandırmalar dikkate alınmayacaktır.**
8. Yanlış cevaplarınız dikkate alınmadan sadece doğru cevaplarınız üzerinden puanlama yapılacaktır.
9. Soruları ve sorulara verdiğiniz cevapları, yanınızda götürmek amacıyla kaydetmeyiniz; hiçbir şekilde dışarı çıkarmayınız.
10. **Sınav bitiminde, soru kitapçığı ve cevap kâğıdını salon görevlilerine teslim ediniz.**

BAŞLAYINIZ DENİLMEYEN SORU KİTAPÇIĞINI AÇMAYINIZ.

1. Tarım ve Kırsal Kalkınmayı Destekleme Kurumunun Akreditasyonu ve Akreditasyon Kriterlerinin Uygulanmasına İlişkin Usul ve Esaslar Hakkında Yönetmelik'e göre akreditasyon kriterleri ile ilgili olarak aşağıdakilerden hangisi "eşgüdüm görevinin" amacıdır?

- A) Programın uygulanmasının etkililiğini ve kalitesini izlemek
- B) AB fonlarından yapılan yardımın kalitesini, etkililiğini ve tutarlılığını ve Programın stratejisini ve uygulanmasını iyileştirmek
- C) Programın uygulanma kalitesini izlemek için gereken belgeleri sağlayarak, IPARD İzleme Komitesi'nin çalışmasını yönlendirmek ve izlemek
- D) Programın uygulamasının ve projelerin ve tedbirlerin her birinin ilerleyişinin, uygun bilgi ve iletişim sistemleri kullanılarak, tedbirin etkili ve verimli biçimde uygulanmasını sağlamaya yardım edecek şekilde raporlanmasını sağlamak
- E) Sözleşme yükümlülükleri ve bu yükümlülüklerle uyulmaması hâlinde olası yaptırımlar ile başvuru çağrılarının yayınlanması hakkındaki bilgileri içeren uygunluk hüküm ve koşullarının tanıtımını yapmak ve gerektiğinde iş başlatma onayını vermek

2. I. Program uygulaması çerçevesinde uygun veri ve raporların hızlı bir şekilde hazırlanması için uygun bir yönetim bilgi sistemi kurulur.
II. Her düzeydeki personelin hesap verebilirliğini yerine getirmesi için yeterli düzenli bilgiyi almasını sağlayan, iç kontrolün etkinliği ve etkililiği hakkında uygun düzeyde düzenli rapor hazırlama prosedürü hazırlanır.
III. Yönetim ve kontrol sistemlerini oluşturan yapılar ile yetkili ve birimlerin oluşturulmasından önce bunlar arasında uygun veri ve raporların değişimine ilişkin düzenlemeler konusunda anlaşma sağlanır.

Tarım ve Kırsal Kalkınmayı Destekleme Kurumunun Akreditasyonu ve Akreditasyon Kriterlerinin Uygulanmasına İlişkin Usul ve Esaslar Hakkında Yönetmelik'e göre "raporlama" ile ilgili olarak yukarıdaki hususlardan hangisi/ hangileri doğrudur?

- A) I, II ve III
- B) II ve III
- C) I ve II
- D) Yalnız II
- E) Yalnız I

3. Tarım ve Kırsal Kalkınmayı Destekleme Kurumu Disiplin Amirleri Yönetmeliği'ne göre İç Denetim Koordinatörlüğündeki "İç Denetçi"nin disiplin amiri aşağıdakilerden hangisidir?

- A) Başkan
- B) Koordinatör
- C) İ. Hukuk Müşaviri
- D) Genel Koordinatör
- E) İç Denetim Koordinatörü

4. Tarım ve Kırsal Kalkınmayı Destekleme Kurumu İl Koordinatörlüklerinin Çalışma Usul ve Esasları Hakkında Yönetmelik'e göre aşağıdakilerden hangisi Proje Başvuru Yönetimi Biriminin görevlerindedir?

- A) Sözleşme ve ödeme öncesi ile uygulama sonrası yerinde kontrolleri yapmak
- B) Yönetim ile iç ve dış denetim birimleri tarafından istenen düzenli ve ara raporları hazırlamak
- C) Yerinde kontrol planı ve kontrol listesi hazırlamak ve bunlara uygun olarak yerinde kontrolleri yapmak
- D) Başvuru dosyaları üzerinde yapılan işlemlerin ve dosyaların takibi ile arşivlenmesine ilişkin sistem kurmak
- E) Ödeme talep paketinde yer alan dokümanların ve içeriklerinin eksiksiz olup olmadığını kontrol etmek

5. Tarım ve Kırsal Kalkınmayı Destekleme Kurumu Kuruluş ve Görevleri Hakkında Kanun'a göre aşağıdakilerden hangisi il koordinatörlüklerinin görevlerinden değildir?

- A) Uygulamada koordinasyonu sağlayıcı, iş birliğini geliştirici tedbirler ve karşılaşılan sorunların çözümü konusunda Kuruma görüş sunmak
- B) İl düzeyinde duyuru ve tanıtımları yapmak, faydalanıcılara yönelik tanıtım, bilgilendirme, eğitim ve yönlendirme faaliyetlerini yürütmek
- C) Başvuruları almak, proje ve faaliyetlerin başvuru şartlarına göre ön incelemelerini yapmak, uygun başvuruları Kuruma intikal ettirmek
- D) Ön değerlendirme sonucunda uygun bulunmayan başvurulara gerekçeli cevap hazırlayarak Kuruma iletme
- E) Proje ve faaliyetlerin yerinde kontrolü ve izleme faaliyetlerini yürütmek

6. Tarım ve Kırsal Kalkınmayı Destekleme Kurumu Kuruluş ve Görevleri Hakkında Kanun'a göre Kurum personelinin statüsü, hakları ve atanmaları ile ilgili olarak aşağıdakilerden hangisi yanlıştır?

- A) Genel Koordinatör, Birinci Hukuk Müşaviri, Koordinatör, il koordinatörleri, uzman, mütercim, denetçi ve avukatlar Başkanın teklifi üzerine Bakan onayıyla atanır.
- B) Merkez teşkilatında; Başkan pozisyonunda istihdam edileceklerin Kamu Personeli Yabancı Dil Bilgisi Seviye Tespit Sınavında asgari (B) düzeyinde puan almış olması gerekir.
- C) Kamu kurum ve kuruluşlarından Kurumda istihdam edilen kamu görevlileri, görevleri sona erdiğinde kurumlarında mükteseplerine uygun bir göreve atanırlar.
- D) Sekreterlik, arşiv, idari, mali ve personelle ilgili işlemleri yürütecek olan destek personelinin sayısı, toplam personel sayısının yüzde yirmisini geçemez.
- E) Kurumun merkez teşkilatında istihdam edilecek personel sayısı yüz seksen kişiden fazla olamaz.

7. Proje Değerlendirme ve Seçim Komisyonunun Çalışma Usul ve Esasları Hakkında Yönetmelik'e göre Komisyonun çalışma usul ve esasları ile ilgili olarak aşağıdakilerden hangisi yanlıştır?

- A) Komisyon, Başkanın daveti üzerine üye tam sayısının yarısından bir fazlası ile her ay en az bir defa toplanır.
- B) Komisyon toplantılarına, Başkanın yokluğunda, Başkanın görevlendireceği bir genel koordinatör başkanlık eder.
- C) Komisyon kararını, karar metninin içinde muhalif üyelerin isimleri de olacak şekilde, toplantı tarihinden itibaren yedi iş günü içinde açıklar.
- D) Komisyon, uygun başvuru listesindeki projeleri puanlama sırasına göre inceler ve desteklenecek projelere karar verir.
- E) Komisyon, uygun başvuru listesinde yer alan projelerden, desteklenmesine karar verilen proje sayısının en fazla yarısı kadar yedek proje belirler.

8. Proje Değerlendirme ve Seçim Komisyonunun Çalışma Usul ve Esasları Hakkında Yönetmelik'e göre Proje Seçim kriterleri ile ilgili olarak aşağıda verilenlerden hangisi yanlıştır?

- A) İş planının değerlendirilmesi aşamasında; destekleme kapsamında yer alan her bir tedbir ve alt tedbir için ayrı ayrı belirlenmiş kriterlere uygun olarak başvuru sahibi tarafından hazırlanan iş planı değerlendirilir.
- B) Programda belirlenen kriterlere göre yapılan değerlendirme sonucunda oluşan puanlar temel alınarak sıralama yapılır.
- C) Toplam puanların eşit olması durumunda, iş planı değerlendirmesine göre fazla puan alan proje sıralamada önde yer alır.
- D) İş planından alınan puanların da eşit olması durumunda, eksiksiz olarak daha erken tarihte teslim edilmiş olan proje, sıralamada daha önde yer alır.
- E) Desteklemeye ayrılmış olan bütçe, desteklenecek proje sayısı için yeterli olmazsa ek bütçe çıkarılır.

9. Tarım ve Kırsal Kalkınmayı Destekleme Kurumu Personel Yönetmeliği'ne göre "sözleşmenin feshi ve sona ermesi" ile ilgili olarak aşağıdakilerden hangisi yanlıştır?

- A) İşe alınma şartlarından herhangi birini taşımadığının sonradan anlaşılması
- B) Kanun, yönetmelik ve sözleşme hükümlerine aykırı davranışlarda bulunmak
- C) Performans değerlendirmelerinde birbirini izleyen iki yıl elli dokuz veya aşağıda puan almak
- D) İzinsiz veya kabul edilebilir bir mazereti olmaksızın kesintisiz on gün veya bir yıl içerisinde toplam on beş gün göreve gelmemek
- E) Görev ya da görev yerinin değişmesi hâlinde belirlenen süre içinde mücbir sebep olmaksızın yeni görevine başlamamak

10. Tarım ve Kırsal Kalkınmayı Destekleme Kurumu Personel Yönetmeliği'ne göre "istihdam usulleri" kapsamında aşağıdakilerden hangisi yarışma sınavı ve gerekli KPSS belgesi ile istihdam edilebilir?

- A) Danışman B) Koordinatör
C) Mütercim D) İ. Hukuk Müşaviri
E) İl Koordinatörü

11. Aşağıdakilerden hangisi I. Dünya Savaşı'nın tarafsız devletlerinden biri değildir?

- A) İsviçre B) İspanya
C) Portekiz D) Hollanda
E) Danimarka

12. I. Dünya Savaşı sırasında "Kutsal Cihat" ilan eden Osmanlı padişahı, aşağıdakilerden hangisidir?

- A) Abdülaziz B) Abdülmecit
C) II. Abdülhamit D) V. Mehmet Reşat
E) VI. Mehmet Vahdettin

13. İstanbul, Trakya, Trabzon, Marmara kıyıları ve İzmir gibi yörelerde düzeni bozmak amacıyla Yunanistan'dan getirdikleri Rum militanlarını göçmen gibi göstererek Anadolu'ya yerleştiren ve gizli adı "Kordos" olan zararlı cemiyet, aşağıdakilerden hangisidir?

- A) Rum Göçmenleri Merkez Komisyonu
B) Etnik-i Eteryay Cemiyeti
C) Mavri Mira Cemiyeti
D) Pontus Rum Cemiyeti
E) Makabi Cemiyeti

14. Millî Mücadele Dönemi'nde İstanbul Hükûmetine, Anadolu hareketi tarafından ilk defa aşağıdakilerden hangisiyle tepki gösterilerek karşı çıkmıştır?

- A) Sivas Kongresi'yle
B) Havza Genelgesi'yle
C) Erzurum Kongresi'yle
D) Amasya Genelgesi'yle
E) TBMM'nin açılmasıyla

15. TBMM Hükûmetinin yaptığı atamaları, genelgesi ve yasaları yayımlayarak devlet yönetiminin aldığı kararların halk tarafından öğrenilmesini sağlamak amacıyla 7 Şubat 1921 tarihinde ilk sayısı yayımlanan resmî gazete, aşağıdakilerden hangisidir?

- A) Tercüman-ı Ahval B) Ceride-i Resmîye
C) Ceride-i Havadis D) Takvim-i Vakayî
E) İrade-i Milliye

16. Aşağıdakilerden hangisi, I. İnönü Muharebesi ile II. İnönü Muharebesi tarihleri arasında gerçekleşmemiştir?

- A) Türk - Afgan Dostluk Antlaşması'nın imzalanması
B) Teşkilat-ı Esasiye Kanunu'nun çıkarılması
C) Londra Konferansı'nın toplanması
D) İstiklal Marşı'nın kabul edilmesi
E) Ankara'nın başkent yapılması

17. Millî Mücadele Dönemi'nde TBMM'yi tanıyan ilk İtilaf Devleti, aşağıdakilerden hangisidir?

- A) Fransa B) İtalya
C) İngiltere D) Yunanistan
E) Japonya

18. Aşağıdaki antlaşmalardan hangisi, Millî Mücadele Dönemi'ndeki Türk - Yunan çarpışmalarını sona erdirmiştir?

- A) Kars Antlaşması
B) Gümrü Antlaşması
C) Ankara Antlaşması
D) Mudanya Ateşkes Antlaşması
E) Mondros Ateşkes Antlaşması

19. Aşağıdaki hangi olay sonucunda "Takrir-i Sükûn Kanunu" çıkarılmıştır?

- A) Menemen Olayı
B) 31 Mart Vakası
C) Şeyh Said İsyanı
D) Anzavur Ayaklanması
E) Mustafa Kemal Atatürk'e suikast düzenleme girişimi

20. Cumhuriyetin ilanı öncesinde yaşanan kabine bunalımı üzerine başbakanlık görevinden ayrılmak zorunda kalan Yeni Türk Devleti'nin son başbakanı, aşağıdakilerden hangisidir?

- A) İsmet İnönü B) Adnan Adıvar
C) Adnan Menderes D) Kâzım Karabekir
E) Ali Fethi Okyar

21. Türkiye, aşağıdaki sorunlardan hangisini Milletler Cemiyetine götürmemiştir?

- A) Yabancı Okullar B) Nüfus Mübadelesi
C) Boğazlar D) Musul
E) Hatay

22. "Devleti yönetenler gücünü halktan almalıdır." yargısı, aşağıdaki hangi Atatürk ilkesiyle doğrudan ilişkilidir?

- A) Laiklik B) Cumhuriyetçilik
C) Devletçilik D) İnkılapçılık
E) Milliyetçilik

23. Aşağıdakilerden hangisi 1921 Anayasası'nın temel özelliklerinden değildir?

- A) Güçler birliği ilkesi kabul edilmiştir.
B) Temel hak ve özgürlüklere yer vermemiştir.
C) Egemenliğin kayıtsız şartsız millete ait olduğu belirtilmiştir.
D) Yasama ve yürütme gücünün TBMM'ye ait olduğu açıklanmıştır.
E) Devletin yönetim şeklinin Cumhuriyet olduğu vurgulanmıştır.

24. Karma Hükümet Sistemi (Meclis Hükümeti Sistemi - Parlamenter Sistem) aşağıdaki anayasaların hangisinde benimsenmiştir?

- A) 1876 B) 1921
C) 1924 D) 1961
E) 1982

25. Aşağıdakilerden hangisi 1961 Anayasa'sının özelliklerinden değildir?

- A) Parlamenter Sisteme tam anlamıyla geçilmiştir.
B) Sosyal devlet kavramına ilk kez yer verilmiştir.
C) Sosyal hak ve ödevler olarak yeni bir hak alanı oluşturulmuştur.
D) Yargı bağımsızlığı tüm güvenceleri ile birlikte gerçekleştirilmiştir.
E) Olağanüstü hâl ve sıkıyönetim ile ilgili kanun hükmünde karamameler ilk kez hukukumuzda girmiştir.

26. 1961 ve 1982 anayasalarının hazırlık aşamalarının karşılaştırılması ile ilgili olarak aşağıda verilen bilgilerden hangisi yanlıştır?

- A) Her iki anayasada da başlangıç kısmı yer almaktadır.
B) Her iki anayasa da ordu müdahalesi ile oluşturulmuştur.
C) Her iki anayasada da halk oylaması yöntemine başvurulmuştur.
D) Her iki anayasada da ayrıntıya yer verilmemiştir ve çerçeve anayasadır.
E) Her iki anayasayı da hazırlayan meclisler genel oya dayanan bir seçimle oluşturulmamıştır.

27. Aşağıdakilerden hangisi 1982 Anayasası'nın özelliklerinden değildir?

- A) Cumhurbaşkanı ve Bakanlar Kurulundan oluşan yürütme organı güçlendirilmiştir.
B) Anayasada otorite - hürriyet dengesi bakımından hürriyetin tercih edildiği bir anlayış hâkim kılınmıştır.
C) Anayasa değişikliklerinin cumhurbaşkanı tarafından halkoyuna sunulabilmesi imkânı getirilmiştir.
D) Cumhurbaşkanıya anayasa değişikliğine ilişkin kanunları yeniden görüşülmek üzere meclise geri gönderme yetkisi verilmiştir.
E) Siyasal organların işleyişini hızlandıran düzenleme anlayışı ve rasyonelleştirilmiş parlamenter sistem oluşturulmuştur.

28. Aşağıda verilenlerden hangisi yaptırım bakımından diğerlerinden farklıdır?

- A) Hukuk kuralları B) Ahlak kuralları
C) Görgü kuralları D) Din kuralları
E) Örf ve adet kuralları

29. Kişileri, devlete ve topluma karşı koruyan hak ve özgürlüklere koruyucu haklar denir.

Aşağıdakilerden hangisi koruyucu haklardandır?

- A) Konut hakkı
B) Sendika kurma hakkı
C) Haberleşme özgürlüğü
D) Eğitim ve öğrenim hakkı
E) Çalışma ve sözleşme özgürlüğü

30. Aşağıdakilerden hangisi bir milletvekilinin milletvekilliğinin düşme sebepleri arasında değildir?

- A) Cumhurbaşkanı seçilmesiyle
B) Özürsüz ve izinsiz 15 gün içinde 5 birleşime katılmaması hâlinde
C) Kesin hüküm giymede mahkeme kararının meclise bildirilmesiyle
D) İstifasıyla meclis genel kuruluna katılanların salt çoğunluğu ile
E) Milletvekilliği ile bağdaşmayan işlerde meclis genel kurulu tarafından gizli oy ve basit çoğunlukla

31. Kırmızı ışıkta beklerken ilkokul çağında bir çocuğun aracınıza yanaşıp size bir şeyler satmak istediğini gördünüz. Bu durumu yetkililere bildirmek için aşağıdaki numaralardan hangisini aramak gerekir?

- A) Alo 147 B) Alo 148
C) Alo 154 D) Alo 174
E) Alo 183

32. Aşağıdakilerden hangisi insan hakları ile ilgili olarak yanlış verilmiştir?

- A) İnsan haklarının hukukun güvencesi altına alınması, onun korunmasını kolaylaştırır.
B) Demokrasinin şartlarından birisi insan haklarının yasalarla güvenceye alınmasıdır.
C) İnsan haklarından gönüllü olarak da olsa vazgeçilemez başkasına devredilemez.
D) İnsan hakkının varlığı onun hukuksal güvence altına alınmasına bağlıdır.
E) İnsan haklarına sahip olmanın tek şartı insan olmaktır.

33. Türk devletleri diğer isimleriyle aşağıda eşleştirilmiştir. Bu eşleştirmelerden hangisi yanlıştır?

- A) Oğuzlar = Uzlar
B) Avarlar = Kimekler
C) II. Kök Türk = Kutluk
D) Kıpçaklar = Kumanlar
E) Asya Hun = Büyük Hun

34. Kendi adına para bastıran Bağa Tarkan, aşağıdaki hangi Türk devletinin hükümdarıdır?

- A) Türgişler B) Karluklar
C) Hazarlar D) Peçenekler
E) Avrupa Hunları

35. Aşağıdaki hangi yüzyıllar arası tarihte "Hazar Barış Çağı" olarak isimlendirilmiştir?

- A) 3. - 5. yy B) 5. - 6. yy
C) 7. - 9. yy D) 10. - 11. yy
E) 11. - 13. yy

36. Aşağıdaki divanlardan hangisi Büyük Selçuklu Devleti'nde bulunmaz?

- A) Arz Divanı B) Tuğra Divanı
C) İshraf Divanı D) İkinci Divanı
E) İstifa Divanı

37. Aşağıdaki savaşlardan hangisi iki Türk – İslam devleti arasında olmuştur?

- A) Talas
B) Katvan
C) Pasinler
D) Miryokefalon
E) Dandanakan

38. Aşağıdakilerden hangisi, Türk – İslam devletlerindeki askerî sınıflardan biri değildir?

- A) Neftçiler
B) Nakkaplar
C) Muhtesipler
D) Mancınıkçılar
E) Lağımçılar

39. Aşağıdakilerden hangisinde, Anadolu Türk siyasi birliğini bozan savaşlar birlikte verilmiştir?

- A) Pasinler – Ankara
B) Katvan – Köseadağ
C) Ankara – Köseadağ
D) Yassı Çimen – Malazgirt
E) Malazgirt – Miryokefalon

40. Türkiye Selçuklu sultanlarının “Keyhüsrev”, “Keykavus”, “Keykubat” gibi isimler kullanmaları, onların, aşağıdaki hangi kültürden etkilendiklerinin bir göstergesidir?

- A) Fars
B) Hint
C) Arap
D) Moğol
E) Bizans

41. Aşağıdakilerden hangisi, Türkiye Selçuklularında vezir ve divan üyelerini işledikleri suçlardan dolayı yargılama ve tutuklama yetkisine sahiptir?

- A) Ahi Baba
B) Emir-i Dad
C) Pervaneci
D) Melikü's Sevahil
E) Emirü'l Ümera

42. Hüsnühat yazı çeşitleri başlıca altı çeşit olup bunlara “Aklâm-ı Sitte” (Altı Kalem) adı verilmiştir.

Aşağıdakilerden hangisi Aklâm-ı Sitte'den değildir?

- A) Nesih
B) Sülüs
C) Tevkî'i
D) Reyhâni
E) Divâni

43. Osmanlı tarihinde 1718 - 1730 yılları arasında “Lale Devri” denir. Bu dönemin padişahı, aşağıdakilerden hangisidir?

- A) III. Murat
B) III. Ahmet
C) III. Osman
D) III. Selim
E) III. Mehmet

44. Aşağıdakilerden hangisiyle âyanların gücü ve varlığı, Osmanlı padişahı tarafından resmen tanınmıştır?

- A) Sened-i İttifak'la
B) Navarin Olayı'yla
C) Islahat Fermanı'yla
D) Teşkilat-ı Esasiye'yle
E) Tanzimat Fermanı'yla

45. Osmanlı Devleti'ndeki ilk dinî ve sosyal nitelikli isyan, aşağıdakilerden hangisidir?

- A) Alemdar Olayı
B) Şeyh Sait İsyanı
C) Patrona Halil İsyanı
D) Şeyh Bedrettin İsyanı
E) Çelebi Mustafa Ayaklanması

46. Türkiye'nin 2014 yılı büyüme hızı yüzde kaç olarak gerçekleşmiştir?

- A) 1.2
B) 1.7
C) 2.9
D) 3.6
E) 4.1

47. Kızıldeniz'i Aden Körfezi 'ne bağlayan boğazın adı aşağıdakilerden hangisidir?

- A) Babü'l Mendep B) Cebeli Tarık
C) Malakka D) Hürmüz
E) Dover

48. Aşağıdaki devletlerden hangisinin Hazar Denizi'ne kıyısı yoktur?

- A) Azerbaycan B) Kazakistan
C) Türkmenistan D) İran
E) Özbekistan

49. Türkiye aşağıdaki ürünlerden hangilerinde dünya birincisidir?

- A) Nohut, Buğday ve Karpuz
B) Soğan, Limon ve Badem
C) Buğday, Elma ve Çay
D) Fındık, Kayısı ve İncir
E) Pamuk, Arpa ve Fındık

50. "Yurtiçi ve yurtdışı piyasalar için mal ve hizmet satımı faaliyetinde bulunan firmaların mal ve hizmet satışından doğmuş ya da doğacak kısa süreli ticari alacak hakkını devretmesi karşılığında likit fon elde etmesi işlemidir."

Yukarıdaki ifade aşağıdakilerden hangisinin açıklamasıdır?

- A) Forward B) Factoring
C) Forfaiting D) Future
E) Finansal Kiralama

51. Çiçek ve Çocuk Temalı Botanik EXPO Fuarı 2016 yılında hangi ilimizde düzenlenecektir?

- A) Adana B) İzmir
C) Antalya D) İstanbul
E) Kocaeli

52. Türkiye'de kümes hayvancılığının en çok geliştiği bölge aşağıdakilerden hangisidir?

- A) Akdeniz Bölgesi B) Ege Bölgesi
C) İç Anadolu Bölgesi D) Karadeniz Bölgesi
E) Marmara Bölgesi

53. Türkiye'de bulunan aşağıdaki hidroelektrik santrallerden hangisinin toplam kurulu gücü en fazladır?

- A) Keban Barajı B) Karakaya Barajı
C) Oymapınar Barajı D) Atatürk Barajı
E) Deriner Barajı

54. Avrupa İnsan Hakları Mahkemesi (AİHM) ile ilgili olarak aşağıda verilen bilgilerden hangisi yanlıştır?

- A) AİHM, Avrupa Birliğine bağlı olarak kurulmuş bir mahkemedir.
B) Mahkemenin merkezi, Fransa'nın Strazburg şehrinde bulunmaktadır.
C) Bir kişinin AİHM'ye başvurabilmesi için öncelikle kendi ülkesinde hakkını araması ve hukuکی tüm aşamaların bitirilmesi gerekmektedir.
D) Kişiler, iç hukukta nihai karar alındıktan sonra 6 ay içinde yazılı olarak AİHM'ye başvurabilir.
E) Mahkeme, Avrupa İnsan Hakları Sözleşmesi ve ek protokolleriyle güvence altına alınmış olan temel hakların çiğnenmesi durumunda bireylerin ve devletlerin, başvurabileceği bir yargı mercidir.

55. "Teneke Trampet, Kedi ve Fare" gibi eserleri olan, 1999 yılında Nobel Edebiyat Ödülü'nü kazanan ve 13 Nisan 2015'te hayatını kaybeden yazar aşağıdakilerden hangisidir?

- A) Gabriel Garcia Marquez
B) Jack London
C) Ren'e Guilloit
D) Amin Maalouf
E) Günter Grass

56. Aşağıdaki dizelerin hangisinde diğerlerinden farklı bir isim tamlaması kullanılmıştır?

- A) Bir ölümsüzlükler, zaferler kenti
Bugün yenilgilerle, yasla dolu
- B) Göç oldu bir acıdan öbür acıya
Oysa sağrısı kurumamıştı atımızın
- C) Alnında akşamın ince kederi
Sessizliğin sırrı dudaklarında
- D) Artık o silinen bir hatıradır
O ıssız bahçenin uzaklarında
- E) Gün doğmak üzere eşya kabarıyor
Yeryüzünün çatısı ağarıyor

57. Aşağıdakilerin hangisinde soru anlamı bir zarfla sağlanmıştır?

- A) Bunları size kim söyledi?
- B) Buraya geldiğimi bilmiyor mu?
- C) Sana nasıl bir kitap alayım?
- D) Ne dönüp duruyorsunuz burada?
- E) Nerede buluşacaksınız bugün?

58. Aşağıdaki cümlelerin hangisinde eylem haber kipiyle çekimlenmiştir?

- A) Hemen işinin başına gitsin.
- B) İleride daha iyi bir iş yapabilirsin.
- C) Yaptıklarımızı bir daha gözden geçirelim.
- D) Sen de bize yardımcı olmalısın.
- E) Keşke herkes birbirine yardımcı olsa...

59. Aşağıdaki cümlelerden hangisinin yüklemi çatı bakımından diğerlerinden farklıdır?

- A) Yaptığı kâğıttan gemiyi havuza saldı.
- B) Kendine güzel bir elbise aldı.
- C) İki gün boyunca burada kaldı.
- D) Bütün soruları hemen bildi.
- E) Attığı mesajı biraz sonra sildi.

60. Aşağıdaki cümlelerin hangisinde virgül (,) diğerlerinden farklı bir görevde kullanılmıştır?

- A) Kaygı, heyecan bazen faydalıyken bazen de zararlıdır.
- B) Ankara, ülkemizin başkenti, çok güzel bir şehirdir.
- C) Kuşlar, böcekler, çiçekler baharın gelişiyle canlandılar.
- D) Zamir, sıfat, zarf isim soylu kelimelerdir.
- E) Sedir, ceviz gibi ağaçlar mobilya sektöründe kullanılır.

61. (I) İlk gördüğümüz insan, köyün muhtarı... (II) Abalı, sarıklı bir ihtiyar... (III) Bizi görünce durdu, dikkatli dikkatli bakmaya başladı. (IV) Arabacı birkaç kelimeyle benim kim olduğumu anlattı. (V) Muhtar beni fazla süslü bulmuş olacak ki tuhaf tuhaf baktı bana.

Bu parçada numaralanmış cümlelerin hangisinde bağlaç vardır?

- A) I.
- B) II.
- C) III.
- D) IV.
- E) V.

62. (I) Güneş kocaman bir ateş dağı gibi çöktü. (II) Vadiyi kaplayan gelingüvey otları, kuşekmekleri, çobançantaları, koyungözleri tamamen kurumuşlardı. (III) Bir deri bir kemik yılanlar, emecanlar, zavallı yeşilistan böcekleri sinecek bir gölge, girecek bir delik arıyorlar. (IV) Kanları buhar olup uçmuş serçe kuşları ateşler içinde yanan toprağa düşüyor. (V) Ayakta duracak hâlleri kalmıyor, lokma lokma ölüyorlar.

Bu parçada numaralanmış cümlelerin hangisinde fiilimsi yoktur?

- A) I.
- B) II.
- C) III.
- D) IV.
- E) V.

63. (I) Bugün Hıdırellez... (II) Köşe başında her zaman kötürüm bir dilenci oturur. (III) O da eğlenceden geri kalmak istemedi. (IV) Azametli bir eda ile bir hamalın sırtına binerek kafileye karıştı. (V) Benim en çok hoşuma giden köpekler oldu.

Bu parçadaki numaralanmış cümlelerle ilgili aşağıdakilerden hangisi söylenemez?

- A) V. cümlede belirtili isim tamlamasına yer verilmiştir.
B) IV. cümlede edat öbeği sıfat olarak kullanılmıştır.
C) III. cümlede bağlaç kullanılmıştır.
D) II. cümlede bir isim birden çok sıfat almıştır.
E) I. cümlede zaman zarfı vardır.

64. Sıkıntılarını karşılıklı aynalar gibi birbirlerine baka baka çoğaltıyorlardı.

Bu cümleyle ilgili aşağıdakilerden hangisi söylenemez?

- A) "Sıkıntılarını" kelimesi hem iyelik hem de hâl eki almıştır.
B) "gibi" kelimesi edat görevindedir.
C) "baka baka" ikilemesi zarftır.
D) Yüklem geniş zamanın hikâyesi şeklinde çekimlenmiştir.
E) "karşılıklı" kelimesi sıfattır.

65. Kapı, Ramiz efendinin bıraktığı boşluk üzerine kapandı. Kâmil, titreyen elini ağzına götürüp yavaşça karyolaya oturdu.

Bu parçadaki altı çizili kelimelerin hangisinde yazım yanlışı yapılmıştır?

- A) I. B) II.
C) III. D) IV.
E) V.

66. Aşağıdakilerin hangisinde kısaltmaların yazımıyla ilgili bir yanlılık yapılmıştır?

- A) TRT'nin hazırladığı program çok beğenildi.
B) THY'nin çalışmaları tüm dünya tarafından takdir ediliyor.
C) TDK'nun sözlük çalışmaları devam ediyor.
D) ASELSAN'ın yeni ürettiği cihazlar işimizi kolaylaştırıyor.
E) AŞTİ'ye günde bine yakın araç giriyor.

67. Aşağıdaki dizelerin hangisinde hâl (durum) eki alan sözcük yoktur?

- A) Bürür bir soğuk gölge etrafı hep
B) Bedenimde buzdan bir el yürüyor
C) Bu ayrılık bana yaman geldi pek
D) Yalnız mısın o karanlık yuvada
E) Ruhum hasta, kırık kolum kanadım

68. (I) İyiden iyiye zaman yaklaşıyor. (II) Bahçenin kalabalıklaştığı, görülme de çakılların çıkırtısından anlaşılıyor. (III) Celse açılacağı zaman salona giriyorum. (IV) Arkadan ileriye gidinceye kadar yüzlerce el sıkıyorum. (V) Sonunda zor da olsa salondaki yerimi alıyorum.

Bu parçada numaralanmış cümlelerin hangisinde edat vardır?

- A) I. B) II.
C) III. D) IV.
E) V.

69. Saldırgan davranışlar, ister açık bir biçimde isterse örtük bir biçimde olsun, iletişimde savunmayı doğurur. Konuşan kişi saldırgan davranışının farkında olmayabilir - - - - onun farkında olmayışı sonucu pek değiştirmez. - - - - dinleyen, davranışlarını onun farkında oluş - - - - olmayışına göre değil, kendi iç dünyası çerçevesinde değerlendirir.

Bu parçada boş bırakılan yerlere sırasıyla aşağıdakilerden hangisi getirilmelidir?

- A) halbuki / yine de / yahut
B) ama / mademki / hatta
C) eğer / fakat / veya
D) mademki / o yüzden / ve
E) ancak / çünkü / ya da

70. Aşağıdaki cümlelerin hangisinde anlatım bozukluğu vardır?

- A) Kahvenin yanındaki geniş, aşınmış taş basamaklardan yukarıya çıktılar.
 B) Mehtap her şeyi yumuşatıyor, güzelleştiriyordu.
 C) Herkes burada toplanacaktı, anlaşılın sözünü tutmamış.
 D) Ankara baş döndürücü bir hızla geliyordu.
 E) Elimde evirip çevirdiğim ilanı belki yirminci defa okudum.

71. Öykülerimde dili önemseydiğim kadar anlattıklarımın içtenliğini de önemsiyorum.

Bu cümlede aşağıdaki ses olaylarından hangisi yoktur?

- A) Ünsüz sertleşmesi B) Ünlü düşmesi
 C) Ulama D) Ünlü daralması
 E) Ünsüz yumuşaması

72. I. Zamanla nasıl değişiyor insan;
 II. Hangi resmime baksam ben değilim.
 III. Nerde o günler, o şevk, o heyecan
 IV. Bu güler yüzlü adam ben değilim;
 V. Yalandır, kaygısız olduğum, yalan.

Yukarıda numaralanmış dizelerin hangisinde ünsüz yumuşaması vardır?

- A) I. B) II.
 C) III. D) IV.
 E) V.

73. Mehmet Fuat'ın edebî hayatının anılması gereken bazı hususları şunlardır () Tiyatro eleştirisi yazması () amatör tiyatrocular için pek çok oyun çevirmesi () tiyatro tarihi derleyip yayımlaması ()

Bu parçada yay ayraç () ile gösterilen yerlere sırasıyla aşağıdaki noktalama işaretlerinden hangisi getirilmelidir?

- A) (:), (,), (,) (...)
 B) (;), (,), (;) (!)
 C) (,) (,) (,) (.)
 D) (:), (;), (,) (.)
 E) (;), (,), (,) (...)

74. Meslek yaşamında tereddüde ve kararsızlığa düştüğün zamanlarda fikir almak için onu bulmalısın.

Bu cümledeki anlatım bozukluğunun sebebi aşağıdakilerden hangisidir?

- A) Deyimin yanlış kullanılması
 B) Gereksiz sözcük kullanılması
 C) Özne yüklem uyumsuzluğu
 D) Tamlayan eki eksikliği
 E) Çatı uyumsuzluğu

75. Dizgin toplayınca yerler yırtılır

I II

Kuyruk kaldırıncsa sağrı örtülür

III

Kır atın elinden can mı kurtulur

IV

Göğsü bidil bidil benli kıratın

V

Bu dizelerde numaralanmış sözcüklerden hangisi yapıca diğerlerinden farklıdır?

- A) I. B) II.
 C) III. D) IV.
 E) V.

76. Türk romanı üzerine yapılan sistematik, kuramsal temelleri olan bu dört kitaplık çalışmayı iki yılda tamamladım.

Bu cümlenin öge dizilişi aşağıdakilerin hangisinde doğru verilmiştir?

- A) Özne / Yüklem
 B) Özne / Nesne / Yüklem
 C) Nesne / Zarf tümleci / Yüklem
 D) Nesne / Dolaylı tümleç / Özne / Yüklem
 E) Özne / Zarf tümleci / Nesne / Zarf tümleci / Yüklem

77. Aşağıdaki cümlelerden hangisi özne ve yüklemden oluşmuştur?

- A) Yapraklarında gizlediği sayısız özelliğiyle şifa dağıtan yeşil çay birçok insanın vazgeçilmez içeceği.
- B) Otobüs yolculuklarının, çalışma saatlerinin molarlarında içtiğimiz bir bardak çay dinlendirir bizi.
- C) Akşamları ailece içtiğimiz çay bütünlüğümüze anlam katar.
- D) Çay sohbetleri bireylerin sosyalleşmesini sağlar.
- E) Çay hem kişiye hem de topluma fayda sağlar.

78. Aşağıdaki cümlelerin hangisi öznesi ortak olan sıralı bir cümledir?

- A) Doğadaki hatta evrendeki her varlık sürekli bir değişim içindedir.
- B) Tabiat uzun bir kışın ardından tekrar uyandı, ortalık bin bir çiçekle süslendi.
- C) Doğa, insanları doyurur ancak insanlar sırf rahatları için doğaya zulmeder.
- D) Yıllara meydan okuyan çınar ağaçları birçok canlıya yuva olur, kol kanat gerer.
- E) Hepimiz çevremizde olup bitenleri, canlıların özelliklerini, uzayın derinliklerinde neler olduğunu öğrenmek isteriz.

79. Aşağıdakilerin hangisinde soru sıfatı yoktur?

- A) Bugünkü yemeğe kaç kişi katılacak?
- B) Bu birimde işler neden bu kadar yoğun?
- C) Hangi kadrolara ihtiyaç duyuyorsunuz?
- D) Nasıl bir şirket kurmayı düşünüyorsunuz?
- E) Bu kurumda kaçınıcı yılınızı çalışıyorsunuz?

80. Hidrojenin helyuma dönüşmesi gibi ısı gerektiren tepkimelere termonükleer tepkime denir. (I) Bu tepkimeler, Güneş'in çok sıcak olan çekirdeğinde kendiliğinden gerçekleşir. (II) Güneş'i bu haliyle, kendi kendine oluşmuş dev bir nükleer reaktöre benzetebilirsiniz. (III) Termonükleer tepkimeler sayesinde, çok büyük enerjiler ortaya çıkar. (IV) Ancak tepkimeyi başlatmak için gereken tepkimeden sonra ortaya çıkan sıcaklıklar çok yüksek olduğundan henüz dünyada bu enerjiden yararlanılmıyor. (V) Bu, son dönemde bilim insanlarını en çok meşgul eden meselelerden biri durumunda.

Bu parçada numaralanmış cümlelerin hangisinde kendinden önceki cümlelerin yerini tutan bir sözcük kullanılmıştır?

- A) I.
- B) II.
- C) III.
- D) IV.
- E) V.

81. $\frac{(1 - \frac{1}{3}) \cdot (1 + \frac{1}{6})}{(2 + \frac{1}{3}) \cdot (1 + \frac{1}{3})}$ işleminin sonucu kaçtır?

- A) $\frac{1}{14}$
- B) $\frac{1}{4}$
- C) $\frac{7}{20}$
- D) $\frac{1}{2}$
- E) $\frac{7}{9}$

82. Aşağıdakilerden hangisi tek sayıdır?

- A) $3^3 + 1$
- B) $3^4 - 1$
- C) $6^3 + 4^3$
- D) $2^7 + 2^0$
- E) $3^5 + 5^3$

DESTEK PERSONELİ

B

83. Rakamları birbirinden farklı üç basamaklı en küçük çift doğal sayı aşağıdakilerden hangisi ile kalansız bölünemez?

- A) 2
C) 4
E) 17
- B) 3
D) 6

84. ABC, BCA ve CAB üç basamaklı sayılardır.

$$\begin{array}{r} ABC \\ BCA \\ + CAB \\ \hline 1554 \end{array}$$

olduğuna göre, ABC sayısının en büyük değeri kaçtır?

- A) 941
C) 951
E) 961
- B) 950
D) 960

85. 40 soruluk bir sınavda 32 soruya doğru cevap veren bir öğrenci soruların yüzde kaçını doğru cevaplamıştır?

- A) 60
C) 80
E) 96
- B) 64
D) 84

86. $4^x + 4^x + 4^x = 192$ olduğuna göre, x kaçtır?

- A) 3
C) 5
E) 7
- B) 4
D) 6

87. Karesi 0,0016 olan sayının karekökü kaçtır?

- A) 0,004
C) 0,04
E) 0,4
- B) 0,02
D) 0,2

88. $3a = 2b = 6c = d$ olduğuna göre, $\frac{a+c}{b+d}$ aşağıdakilerden hangisidir?

- A) $\frac{1}{6}$
C) $\frac{1}{2}$
E) $\frac{5}{7}$
- B) $\frac{1}{3}$
D) $\frac{3}{5}$

89. A, B, C birbirinden farklı birer doğal sayıdır. $A \cdot B = 18$ ve $B \cdot C = 24$ olduğuna göre,

I. A sayısının en küçük değeri 3'tür.
II. B sayısının en büyük değeri 9'dur.
III. B sayısının en küçük değeri 1'dir.
IV. C sayısının en büyük değeri 8'dir.
ifadelerinden hangileri doğrudur?

- A) I ve III
C) II ve III
E) I ve IV
- B) I ve II
D) II ve IV

90. $a = 46 \cdot 45!$ olduğuna göre, $46! + 47!$ toplamının a cinsinden değeri aşağıdakilerden hangisidir?

- A) $a + 47$
C) $45 + 46a$
E) $48a$
- B) $a + 48$
D) $47a$

91. $\left. \begin{array}{l} x + z = 7 \\ y + z = 4 \\ x + y = 5 \end{array} \right\}$ denklem sistemi veriliyor.

Buna göre, $2x - y + z$ kaçtır?

- A) 8
C) 10
E) 16
- B) 9
D) 12

92. 8 erkek, 12 kız öğrencinin katıldığı bir sınavda tüm öğrencilerin puan ortalaması 86'dır. Erkek öğrencilerin puan ortalaması 80 olduğuna göre, kız öğrencilerin puan ortalaması kaçtır?

- A) 98
C) 94
E) 90
B) 96
D) 92

93. $\begin{array}{r} abc8 \overline{)24} \\ \underline{mn} \end{array}$ Yandaki bölme işleminde $abc8$ dört basamaklı bir doğal sayı ve mn kalandır. Buna göre, mn iki basamaklı doğal sayısı kaç farklı değer alır?

- A) 5
C) 7
E) 9
B) 6
D) 8

94. Bir torbada 1'den 10'a kadar numaralandırılmış aynı özelliğe sahip 10 top vardır. Torbadan rastgele çekilen bir topun üzerinde yazan sayının asal sayı olma olasılığı nedir?

- A) $\frac{3}{10}$
C) $\frac{1}{2}$
E) $\frac{4}{5}$
B) $\frac{2}{5}$
D) $\frac{3}{4}$

95. 1'den n'ye kadar olan ardışık sayıların toplamı A, 2'den 2n'ye kadar olan ardışık çift sayıların toplamı B'dir.

$A + B = 165$ olduğuna göre, B kaçtır?

- A) 30
C) 75
E) 110
B) 55
D) 90

96. $A = \{1, 2, 3, 4, 5, 6, 7, 8\}$ kümesinin elemanlarının tamamı verilen tabloya aşağıdaki şartlarda yerleştirilecektir:

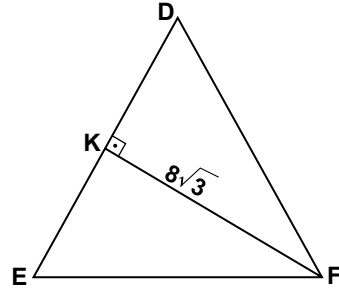
Satır \ Sütun	I	II	III	IV
I				
II				

- Her sayı birer kez kullanılacaktır.
- Sütunların her birindeki sayıların toplamı birbirine eşit olacaktır.
- Satırların her birindeki sayıların toplamı birbirine eşit olacaktır.

Buna göre, 8'in bulunduğu satırda hangi sayı olabilir?

- A) 1
C) 4
E) 7
B) 2
D) 6

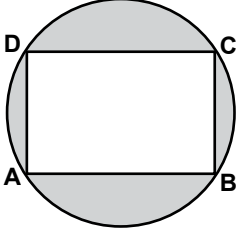
97.



Şekildeki DEF eşkenar üçgeninde K noktası $[DE]$ 'nin üzerinde ve $[FK] \perp [DE]$ 'tir. $|FK| = 8\sqrt{3}$ cm olduğuna göre, DEF üçgeninin çevresi kaç santimetredir?

- A) 16
C) $24\sqrt{3}$
E) $48\sqrt{3}$
B) 24
D) 48

98.



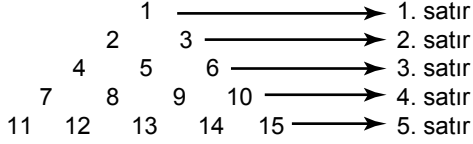
Şekildeki ABCD dikdörtgeninin köşeleri çember üzerindedir. $|AB| = 8\text{ cm}$ ve $|BC| = 6\text{ cm}$ olduğuna göre, boyalı bölgenin alanı kaç santimetrekaredir?

- A) $25\pi - 48$ B) 25π
 C) $100\pi - 24$ D) $36\pi - 48$
 E) 64π

99. $10 - 11 + 12 - 13 + 14 - 15 + \dots + 40 - 41$ işleminin sonucu kaçtır?

- A) -14 B) -16
 C) -18 D) -20
 E) -21

100.



Sayma sayılar kümesinin elemanları yukarıdaki gibi sırasıyla satır numarası kadar sıralanmıştır. Bu sıralama devam ettirildiğinde, 16. satırda sol baştan 8. sayı kaç olur?

- A) 125 B) 126
 C) 127 D) 128
 E) 129

TEST BİTTİ.
 CEVAPLARINIZI KONTROL EDİNİZ.

SINAV SÜRESİNCE UYULACAK KURALLAR

- 1. Adaylar, sınav kurallarına ve salon görevlilerinin tüm uyarılarına uymak zorundadırlar. Kurallara ve uyarılara uymayan adayların sınavları geçersiz sayılacaktır.**
2. Sınav başladıktan sonra adayların salon görevlileri ve birbirleri ile konuşmaları, kalem, silgi vb. şeyleri istemeleri yasaktır.
3. Adaylar sınav süresince, sınav giriş belgesi ile birlikte kimlik belgelerinden birini (nüfus cüzdanı, pasaport veya sürücü belgesini) masalarının üzerinde bulundurmamak zorundadırlar.
- 4. Sınav evraklarını teslim etmeyen, soru kitapçıklarının sayfalarından bir kısmını eksik teslim edenlerin sınavları geçersiz sayılacaktır.**

SALON GÖREVLİLERİNCE SINAV BAŞLAMADAN ÖNCE ADAYLARA YAPILACAK SON UYARI

- Soracağınız bir şey var mı? Varsa, şimdi sorunuz.
- Sınav başladıktan sonra sorularınıza cevap verilmeyecektir.
- Başlama zilini bekleyiniz.
- Hepinize başarılar dileriz.

(Salon başkanı başlama ve bitiş saatini tahtaya yazacaktır.)

Bu kitapçığın her hakkı saklıdır. Hangi amaçla olursa olsun, kitapçığın tamamının veya bir kısmının Millî Eğitim Bakanlığı Ölçme, Değerlendirme ve Sınav Hizmetleri Genel Müdürlüğünün yazılı izni olmadan kopya edilmesi, fotoğraflarının çekilmesi, bilgisayar ortamına alınması, herhangi bir yolla çoğaltılması, yayımlanması veya başka bir amaçla kullanılması yasaktır. Bu yasağa uymayanlar, doğabilecek cezai sorumluluğu ve kitapçığın hazırlanmasındaki mali külfeti peşinen kabullenmiş sayılır.

**03 MAYIS 2015 TARİHİNDE YAPILAN
TARIM VE KIRSAL KALKINMAYI KURUMUNUN DESTEK PERSONELİ SEÇME SINAVI**

B KİTAPÇIĞI CEVAP ANAHTARI

1. C
2. A
3. E
4. D
5. A
6. B
7. C
8. E
9. D
10. C
11. C
12. D
13. A
14. D
15. B
16. E
17. A
18. D
19. C
20. E
21. A
22. B
23. E
24. C
25. E

26. D
27. B
28. A
29. C
30. B
31. E
32. D
33. B
34. A
35. C
36. D
37. E
38. C
39. C
40. A
41. B
42. E
43. B
44. A
45. D
46. C
47. A
48. E
49. D
50. B

51. C
52. E
53. D
54. A
55. E
56. A
57. D
58. B
59. C
60. B
61. E
62. A
63. B
64. D
65. A
66. C
67. E
68. D
69. E
70. C
71. B
72. E
73. A
74. B
75. D

76. C
77. A
78. D
79. B
80. E
81. B
82. D
83. C
84. A
85. C
86. A
87. D
88. B
89. A
90. E
91. C
92. E
93. C
94. B
95. E
96. B
97. D
98. A
99. B
100. D