

## Türkiye'de Hayvancılık

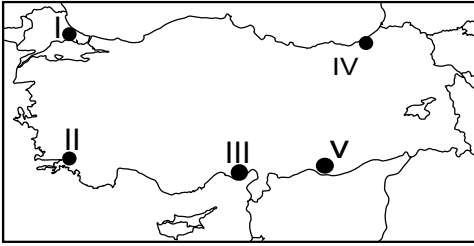
1. Ülkemizde yapılan hayvancılık faaliyetleri ile ilgili olarak;

- I. Erzurum - Kars platosunda büyükbaş hayvancılık faaliyetleri yapılmaktadır.
- II. Ülkemizin iç kesimlerinde küçükbaş hayvancılık faaliyetleri yapılmaktadır.
- III. Kümes hayvancılığı tüketim alanlarına yakın yerlerde yoğunlaşmıştır.

verilen bilgilerden hangileri doğrudur?

- A) Yalnız I      B) Yalnız II      C) I ve II  
D) I ve III      E) I, II ve III

2. Ülkemizde doğal bitki örtüsünün çeşitlilik göstermesi arıcılık faaliyetlerini olumlu etkilemiştir.



Harita üzerinde numaralandırılarak verilen yerlerin hangi ikisinde bal üretimi diğerlerine göre daha fazladır?

- A) I ve II      B) I ve III      C) II ve IV  
D) II ve V      E) III ve V

3. Aşağıda verilen yerlerden hangisinde kıl keçisinin diğerlerine göre daha fazla yetiştirildiği söylenir?

- A) Konya  
B) Mersin  
C) Yozgat  
D) Bursa  
E) Ankara

4. Aşağıdakilerden hangisi hayvancılık faaliyetlerini geliştirmek için yapılacak çalışmalardan biri değildir?

- A) Mera alanlarının ıslah edilmesi  
B) Hayvan soylarının iyileştirilmesi  
C) Uluslararası pazarlama imkanlarının geliştirilmesi  
D) Orman alanlarının mera alanlarına dönüştürülmesi  
E) Hammaddesi hayvansal ürünlere dayalı sanayi tesislerinin kurulması

5. Bir yerin bitki örtüsü özellikleri burada yetiştirilen hayvan türleri üzerinde etkili olmaktadır.

**Buna göre aşağıdaki hayvan türlerinden hangisi maki bitki örtüsünün yaygın olduğu yerlerde daha fazla yetiştirilmektedir?**

- A) Koyun      B) Manda      C) Kıl keçisi  
D) Sığır      E) Hindi

6. Türkiye'de balıkçılık faaliyetleri için elverişli şartlar bulunmasına rağmen balıkçılık yeterince gelişme göstermemiştir.

**Bu durumun nedenleri arasında;**

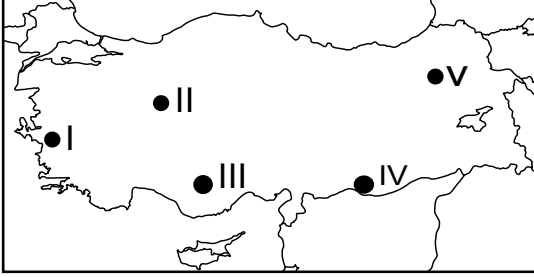
- I. Balıkçı teknelerinin teknik donanım bakımından yetersiz olması,
- II. Denizlerimizin balık çeşitliliği için elverişli şartlara sahip olmaması,
- III. Balık işleyen tesislerin yeterli donanıma sahip olması

**verilenlerden hangileri gösterilebilir?**

- A) Yalnız I      B) Yalnız II      C) Yalnız III  
D) I ve II      E) I ve III

## Türkiye'de Hayvancılık

7. Yaz yağışlarının etkili olduğu meralarda büyükbaş hayvancılık faaliyetleri yapılmaktadır.



Buna göre harita üzerinde numaralandırılarak verilen yerlerin hangisinde büyükbaş hayvancılık faaliyetlerinin diğerlerine göre daha fazla olması beklenir?

- A) I B) II C) III D) IV E) V

8. Türkiye'de aşağıda verilen hayvancılık faaliyetlerinden hangisinin dağılışı üzerinde doğal şartların etkisi diğerlerine göre daha azdır?

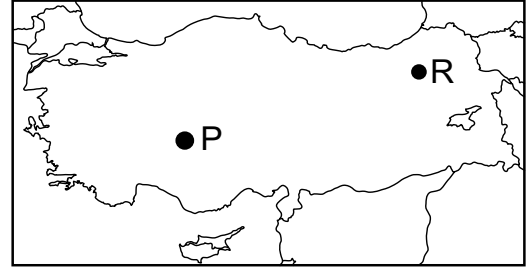
- A) Kıl keçisi yetiştiriciliği  
B) Kümes hayvancılığı  
C) Koyun yetiştiriciliği  
D) İpek böcekçiliği  
E) Arıcılık

9. Gidegeni olan göller tatlı su balıkçılığına elverişlidir.

Buna göre aşağıda verilen göllerden hangisinin tatlı su balıkçılığına elverişli olduğu söylenemez?

- A) Beyşehir Gölü  
B) Sapanca Gölü  
C) Eğirdir Gölü  
D) Ulubat Gölü  
E) Tuz Gölü

- 10.



Harita üzerinde gösterilen P ve R alanlarındaki hayvancılık faaliyetlerinin farklılık göstermesinin temel nedeni nedir?

- A) Sosyo kültürel yapılarının farklı olması  
B) Nüfus miktarının farklı olması  
C) Bitki örtülerinin farklı olması  
D) Yağış rejimlerinin düzensiz olması  
E) Tarımsal üretim miktarının farklı olması

11. • Yükseltinin fazla olması  
• Yaz yağışlarının fazla olması  
• Engebeli arazi yapısı

Ülkemizin bazı yörelerinde yukarıda verilen nedenlerden dolayı hayvancılık faaliyetleri tarımsal faaliyetlerin önüne geçmiştir.

Aşağıdakilerden hangisi bu yörelere örnek olarak gösterilir?

- A) Kıyı Ege  
B) Ergene Havzası  
C) Şanlıurfa ve çevresi  
D) Kars ve çevresi  
E) İstanbul ve çevresi