

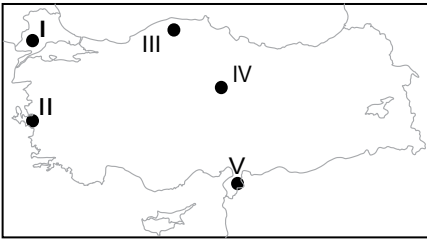
Türkiye'de Tarım I

1. Tarım faaliyetlerinde makine kullanımını sınırlandıran faktörlerden birisi yer şekilleri özellikleridir.

Yer şekilleri özellikleri düşünüldüğünde aşağıda verilen yerlerin hangisinde tarımsal faaliyetlerde makine kullanımı diğerlerine göre daha güçtür?

- A) Şanlıurfa ve çevresi
B) Bursa ve çevresi
C) Adana ve çevresi
D) Konya ve çevresi
E) Rize ve çevresi

2.



Haritada numaralandırılarak verilen yerlerin hangisinde tahıl üretimi diğerlerine göre daha fazladır?

- A) I B) II C) III D) IV E) V

3. Toprakların tarımsal verimliliği üzerinde etkili olan faktörlerden birisi de toprakların kireç oranıdır. Kireç toprağın verimliliğini azaltan bir etmendir.

Aşağıda verilen yerlerin hangisinde bu durum diğerlerine göre daha fazla etkili olmaktadır?

- A) İnegöl Ovası
B) Acıpayam Ovası
C) Amasya Ovası
D) Gediz Ovası
E) Bafra Ovası

4. Tarımsal üretim üzerinde etkili olan faktörlerden birisi de iklim özellikleridir.

Yalnızca bu bilgiye bakılarak Türkiye'nin tarımsal üretimi hakkında aşağıdakilerden hangisi kesin olarak söylenir?

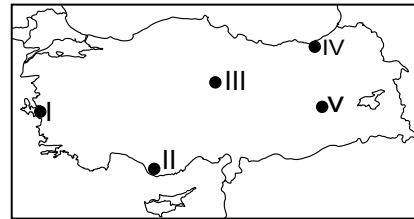
- A) Tarımsal ürün çeşitliliği fazladır.
B) Tarımsal üretimde doğal şartlar etkili olmaktadır.
C) Tarımsal üretimin azalması ihracatın azalmasına neden olmuştur.
D) Ege kıyılarında tarımsal üretim Akdeniz kıyılarına göre daha fazladır.
E) Tarımsal üretimde azalmanın görüldüğü yıllarda tüketim artmaktadır.

5. Türkiye'de tarım arazilerinde sulama sorununun giderilmesi için farklı projeler gerçekleştirilmektedir.

Türkiye'de sulama sorununun giderilmesi sonucunda aşağıdakilerden hangisinde artış gözlenmez?

- A) Tarım ürünü çeşitliliği
B) Birim alandan alınan verim
C) Tahıl tarımının yapıldığı alanlar
D) Sebze ve meyve üretim miktarı
E) Tarım ürünlerinden elde edilen gelir

6.



Harita üzerinde numaralandırılarak verilen yerler ile ilgili olarak aşağıdakilerden hangisi söylenemez?

- A) I numaralı yerde zeytin tarımı yaygındır.
B) II numaralı yerde muz tarımı yaygındır.
C) III numaralı yerde tahıl tarımı yapılmaktadır.
D) IV numaralı yerde yaz kuraklığı isteyen ürünler yetişebilir.
E) V numaralı yerde düşük sıcaklığa dayanabilen ürünler yetişebilir.

Türkiye'de Tarım I

7. Aşağıda verilen tarım ürünleri ve yoğun olarak yetiştirildikleri yer eşleştirmelerinden hangisi yanlıştır?

- A) Tekirdağ - Ayçiçeği
B) Giresun - Fındık
C) Isparta - Muz
D) Aydın - İncir
E) Rize -Çay

8. Ülkemizde yağış miktarının fazla olduğu ve her mevsimin yağışlı olduğu bir yerde;

- I. Fındık
II. Buğday
III. Kivi
IV. Pamuk

numaralandırılarak verilen tarım ürünlerinden hangilerinin yetiştirilmesi daha güçtür?

- A) I ve II
B) II ve III
C) I ve IV
D) II ve IV
E) III ve IV

9. Aşağıdaki ovaların hangisinde güneşli gün sayısı diğerlerine göre daha azdır?

- A) Çukurova
B) Ankara Ovası
C) Konya Ovası
D) Erzurum Ovası
E) Bursa Ovası

10. Kış sıcaklık ortalamasının 0°C'nin altına inmediği yerlerde örtü altı yetiştiriciliği de denilen seracılık faaliyetleri yaygındır.

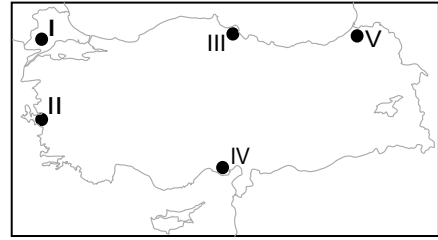
Örtü altı yetiştiriciliği yöntemi hakkında;

- I. Doğal koşulların üretim üzerindeki olumsuz etkisi beşeri faaliyetlerle azaltılmıştır.
II. Tarımsal üretim miktarındaki yıllık dalgalanmalar artış gösterir.
III. Don olayının yaşandığı yerler bu yöntem için uygun değildir.

verilenlerden hangileri söylenir?

- A) Yalnız I
B) Yalnız II
C) Yalnız III
D) I ve II
E) I ve III

11.



Harita üzerinde numaralandırılarak verilen yerlerin hangisinde tarımsal faaliyetlerde makine kullanımı diğerlerine göre daha zordur?

- A) I
B) II
C) III
D) IV
E) V

12. Aşağıda verilen tarım ürünlerinden hangisi devlet kontrolünde yetiştirilmektedir?

- A) Pamuk
B) Mısır
C) Ayçiçeği
D) Haşhaş
E) Zeytin